

2007年中央、国家机关公务员录用考试

《行政职业能力测验》真题答案解析

答案速查

1—5	CDDBB	6—10	CDBBD	11—15	DCBBA	16—20	DDDDB
21—25	DADBA	26—30	DBDDB	31—35	CADCB	36—40	DABCD
41—45	CDCDA	46—50	CCBCD	51—55	DABCA	56—60	BAAAD
61—65	BADAA	66—70	BABBD	71—75	CACCA	76—80	ABCCD
81—85	BDDCA	86—90	BBCBB	91—95	ACCBD	96—100	DDCBB
101—105	DBAAB	106—110	ADCDD	111—115	ACCDB	116—120	AACBD
121—125	BCABD	126—130	BDBAC	131—135	BACCD	136—140	ACBDB

第一部分 言语理解与表达

(共 40 题，参考时限 30 分钟)

每道题包含一段话或一个句子，后面是一个不完整的陈述，要求你从四个选项中选出一个来完成陈述。注意：答案可能是完成对所给文字主要意思的提要，也可能是满足陈述中其他方面的要求，你的选择应与所提要求最相符合。

1. 法国语言学家梅耶说：“有什么样的文化，就有什么样的语言。”所以，语言的工具性本身就有文化性。如果只重视听、说、读、写的训练或语音、词汇和语法规则的传授，以为这样就能理解英语和用英语进行交际，往往会因为不了解语言的文化背景，而频频出现语词歧义、语用失误等令人尴尬的现象。

这段文字主要说明：

- A. 语言兼具工具性和文化性
B. 语言教学中文化教学的特点
C. 语言教学中文化教学应受到重视
D. 交际中出现各种语用错误的原因

【答案】C。解析：

本题属于推断文意型。

阅读可知，题干是对策型结构。对策型结构强调的是对策而不是问题。题干先用梅耶的一句话引出“语言与文化的关系”这个话题，然后用一个假设句提出了问题：“如果只重视听、说、读、写的训练或语言、词汇和语法规则的传授（隐含：忽视语言的文化性）……，（那么）往往会因为不了解语言的文化背景，而频频出现语词歧义、语用失误等令人尴尬的现象”。意思是说：要想避免语言教学中的这种“令人尴尬的现象”，就必须避免“忽视语言的文化性”。换言之就是：应该重视语言的文化性。

所以，正确选项是 C。

2. 在今天的商业世界中，供过于求是普遍现象。为了说服顾客购买自己的产品，大规模竞争就在同类商品的生产企业之间展开了，他们得经常设法向消费者提醒自己产品的名字和优等的质量，这就需要靠广告。

对这段文字概括最恰当的是：

- A. 广告是商业世界的必然产物
B. 各商家之间用广告开展竞争

C. 广告就是要说服顾客买东西

D. 广告是经济活动中供过于求的产物

【答案】D。解析：

本题属于概括主旨型。

阅读可知，题干的逻辑思路是：商业世界“供过于求”是普遍现象——为了说服顾客购买自己的产品——这就需要广告。由此可知，广告是经济活动中供过于求的产物。

所以，正确选项是D。

3. 空间探索自开始以来一直受到指责，但我们已经成功地通过卫星进行远程通信、预报天气、开采石油。空间探索项目还会有助于我们发现新能源和新化学元素，而那些化学元素也许会帮助我们治愈现在的不治之症。

这段文字主要告诉我们，空间探索：

A. 利弊并存

B. 可治绝症

C. 很有争议

D. 意义重大

【答案】D。解析：

本题属于概括主旨型。

阅读可知，题干是转折型结构，转折型结构强调的是转折后面的内容。题干说：但我们已经成功地通过卫星进行远程通信、预报天气、开采石油，还会有助于发现新能源和新化学元素，也许还会帮助我们治愈现在的不治之症。这些所说的都是空间探索对我们的好处，也就是说空间探索对我们“意义重大”。

所以，正确选项是D。

4. 行为科学研究显示，工作中的人际关系通常不那么复杂，也宽松些，可能是由于这种人际关系更有规律，更易于预料，因此也更容易协调，因为人们知道他们每天都要共同努力，相互协作，才能完成一定的工作。

这段文字主要是在强调：

A. 普通的人际关系缺乏规律

B. 工作人员之间的关系比较简单

C. 共同的目标使工作人员很团结

D. 维系良好的人际关系要靠共同努力

【答案】B。解析：

本题属于概括主旨型。

阅读可知，题干是证明型结构，证明型结构强调的是论点而不是论据。作者首先提出论点“工作中的人际关系通常不那么复杂”，后面的内容则都是用来说明这个观点的。

所以，正确选项是B。

5. 政府每出台一项经济政策，都会改变某些利益集团的收益预期。出于自利，这些利益集团总会试图通过各种行为选择，来抵消政策对他们造成的损失。此时如果政府果真因此而改变原有的政策，其结果不仅使政府出台的政策失效，更严重的是使政府的经济调控能力因丧失公信力而不断下降。

这段文字主要论述了：

A. 政府制定经济政策遇到的阻力

B. 政府要对其制定的政策持续贯彻

C. 制定经济政策时必须考虑到的因素

D. 政府对宏观经济的调控能力

【答案】B。解析：

本题属于推断文意型。

阅读可知，题干的逻辑思路是：政府的政策总会影响利益集团——利益集团总会抵消政策效力——政府如果因此而改变政策会得不偿失。（隐含：如果政府不想得不偿失，就要对其制定的政策持续贯彻）。

所以，正确选项是B。

6. 在新一轮没有硝烟的经济战场上，经济增长将主要依靠科技进步。而解剖中国科技创新结构，可以看出，在中国并不缺乏研究型大学、国家实验室，最缺乏的是企业参与的研究基地以及研究型企业。企业资助、共建、独资创立的科研机构，像美国的贝尔实验室，就是这种研究基地。

这段文字的主旨是：

- A. 要充分发挥企业在科技创新中的重要作用
- B. 中国不缺乏研究型大学，缺乏的是研究型企业
- C. 加强企业参与的研究基地建设是中国经济腾飞的必经之路
- D. 企业资助、共建、独资创立的科研机构是提高企业效益的关键

【答案】C。解析：

本题属于概括主旨型。

阅读可知，题干的逻辑思路是：经济增长主要依靠科技进步→中国科技最缺乏企业参与的研究基地以及研究型企业。既然“经济增长主要依靠科技进步”，而“中国科技却最缺乏企业参与的研究基地以及研究型企业”，理所当然，要发展中国的经济，就必须加强对最缺乏的“企业参与的研究基地以及研究型企业”的建设。由此可知，这段文字的主旨是“加强企业参与的研究基地建设是中国经济腾飞的必经之路”。

所以，正确选项是 C。

本题的 A 项容易误选。所谓概括主旨，就是把题干的观点客观地概括出来。显然，A 项所说的“要充分发挥企业在科技创新中的重要作用”，并不是题干客观上已经说的话，而是题干想要说的话。如果把本题的问题句改成“这段话意在说明什么”，那么，正确选项就是 A 了。

7. 某公司的经验充分显示出，成功的行销运作除了有赖专门的行销部门外，还需要有优异的产品、精密的市场调研，更少不了专业的业务部门、公关部门、擅长分析的财务部门以及物流后勤等部门的全力配合与支持。如果行销部门独强而其他部门弱，或是行销部门与其他部门不合，或是公司内部无法有效地整合，都会让行销运作无法顺利有效进行，难以发挥应有的强大威力。

这段文字主要强调的是：

- A. 该公司各个部门的有效整合是其成功的关键
- B. 注重团队合作是该公司取得成功的宝贵经验
- C. 成功的行销运作可给企业带来巨大经济效益
- D. 行销部门只有与相关部门紧密配合才能更好地发挥作用

【答案】D。解析：

本题属于概括主旨型。

阅读可知，题干是承接型结构，承接型结构强调的通常是最后一环。题干说：成功的行销运作除了……，还需要……，更少不了……。由此可知，题干旨在强调“成功的行销运作更少不了专业的业务部门、公关部门、擅长分析的财务部门以及物流后勤等部门的全力配合与支持”，也就是 D 项所说的“行销部门只有与相关部门紧密配合才能更好地发挥作用”。

所以，正确答案是 D。

8. 中国很早就有鲛(jiāo)人的传说。魏晋时代，有关鲛人的记述渐多渐细，在曹植、左思、张华的诗文中都提到过鲛人。传说中的鲛人过着神秘的生活。干宝《搜神记》载：“南海之外，有鲛人，水居，如鱼，不废织绩。其眼，泣，则能出珠。”虽然不断有学者做出鲛人为海洋动物或人鱼之类的考证，我个人还是认为他们是在海洋中生活的人类，其生活习性对大陆人而言很陌生，为他们增添了神秘色彩。

作者接下来最有可能主要介绍的是：

- A. 关于鲛人的考证 B. 鲛人的神秘传说 C. 有关鲛人的诗文 D. 鲛人的真正居处

【答案】B。解析：

本题属于文意衔接型。

要求考生推测作者接下来最有可能主要介绍的内容是什么。阅读可知，题干是转折型结构，转折型结构强调的是转折后面的内容。题干首先说了一些关于鲛人的传说，以及其他学者作出的考证，最后话锋一转提出自己的观点：“我个人还是认为他们是在海洋中生活的人类，其生活习性对大陆人而言很陌生，为他们增添了神秘色彩”。顺着作者强调的这个“神秘色彩”朝下说，接下来最有可能主要介绍的应该是论证“神秘色彩”的内容，即B项“鲛人的神秘传说”。

所以，正确选项是B。

9. 信息时代，信息的存在形式与以往的信息形态不同，它是以声、光、电、磁、代码等形态存在的。这使它具有“易转移性”，即容易被修改、窃取或非法传播和使用，加之信息技术应用日益广泛，信息技术产品所带来的各种社会效应也是人们始料未及的。在信息社会，人与人之间的直接交往大大减少，取而代之的是间接的、非面对面的、非直接接触的新式交往。这种交往形式多样，信息相关人的行为难以用传统的伦理准则去约束。

作为一篇文章的引言，这段文字后面将要谈论的内容最可能是：

- A. 信息存在形式的更新 B. 信息社会与信息伦理
C. 人际交往形式的多样化 D. 信息技术产品与生活方式

【答案】B。解析：

本题属于文意衔接型。

要求考生推测题干接着最可能将要谈论的内容。阅读可知，题干的内容主要是通过列举事实，向人们提出了一个问题：在信息时代，信息相关人的行为难以用传统的伦理准则去约束，怎么办？按照写文章通常的“提出问题，解决问题”的思路和习惯，接下来最可能讨论的应该是“解决问题的方法”，即如何建立不同于传统伦理准则的信息伦理准则。只有B项的“信息社会与信息伦理”与这个意思接近。

所以，正确选项是B。

10. 虽然世界因发明而辉煌，但发明家个体仍常常寂寞地在逆境中奋斗。市场只认同具有直接消费价值的产品，很少有人会为发明家的理想“埋单”。世界上有职业的教师和科学家，因为人们认识到教育和科学对人类的重要性，教师和科学家可以衣食无忧地培育学生，探究宇宙；然而，世界上没有“发明家”这种职业，也没有人付给发明家薪水。

这段文字主要想表达的是：

- A. 世界的发展进步离不开发明 B. 发明家比科学家的处境艰难
C. 发明通常不具有直接消费价值 D. 社会应对发明家提供更多保障

【答案】D。解析：

本题属于推断文意型。

阅读可知，题干是转折型结构，转折型结构强调的是转折后面的内容。“虽然世界因发明而辉煌……然而，世界上没有“发明家”这种职业，也没有人付给发明家薪水”（隐含：世界需要发明家，但是却为发明家做得太少，发明家的处境太艰难，因此，社会应当为发明家提供更多保障）。

所以，正确选项是D。

11. 为什么有些领导者不愿意承担管理过程中的“教练”角色？为什么很多领导者不愿意花时间去教别人？一方面是因为辅导员工要花去大量的时间，而领导者的时间本来就是最宝贵的资源。另一个原因则在于对下属的辅导是否能够收到预期的效果，是一件很难说清的事情，因为有很多知识和方法是“只可意会，不可言传”的。而从更深的层次来说，“教练”角色要求领导者兼具心理学家和教育

专家的素质，这也是一般人难以具备的。

最适合做本段文字标题的是：

- A. 效率低下，领导之过？
B. 团队意识亟待增强
C. 员工培训，岂容忽视？
D. 做领导易，做“教练”难

【答案】D。解析：

本题属于概括主旨型。

阅读可知，题干说明了“领导不愿意当教练”的三个原因，三个原因概括起来就是一句话：当教练难。

所以，正确选项是D。

12. 在一天八小时的工作时间里，真正有效的工作时间平均约六个小时左右。如果一个人工作不太用心，则很可能一天的有效工作时间只有四小时；但如果另一个人特别努力，绝大部分心思都投注在工作上，即使下班时间，脑子里还在不断思考工作上的事情，产生新的创意，思索问题的解决方案等，同样一天下来，可能可以累积相当于十二个小时的工作经验。长期如此，则两个人同样工作十年之后，前者可能只累积相当于六七年的工作经验，但后者却已经拥有相当于二十年的工作经验。

这段文字主要强调的是：

- A. 习惯
B. 方法
C. 态度
D. 经验

【答案】C。解析：

本题属于概括主旨型。

阅读可知，题干是一个总分结构，总分结构强调的是“总”而不是“分”。前面先分说一个人如何如何，另一个人如何如何，后面再总起来把两个人进行比较，即重在说明两种人的区别：工作态度不同。

所以，正确选项是C。

13. 英国科学家指出，在南极上空，大气层中的散逸层顶在过去40年中下降了大约8公里。在欧洲上空，也得出了类似的观察结论。科学家认为，由于温室效应，大气层可能会继续收缩。在21世纪，预计二氧化碳浓度会增加数倍，这会使太空边界缩小20公里，使散逸层以上区域热电离层的密度继续变小，正在收缩的大气层至少对卫星会有不可预料的影响。

这段文字的主要意思是：

- A. 太空边界缩小的幅度会逐渐加大
B. 温室效应会使大气层继续收缩
C. 大气层中的散逸层顶会不断下降
D. 正在收缩的大气层对卫星的影响不可预料

【答案】B。解析：

本题属于概括主旨型。

阅读可知，题干是证明型结构，证明型结构强调的是论点而不是论据。“科学家认为，由于温室效应，大气层可能会继续收缩。”这是题干的论点，其他内容，都是证明这个论点的论据。

所以，正确选项是B。

14. 即使社会努力提供了机会均等的制度，人们还是会在初次分配中形成收入差距，由于在市场经济中资本也要取得报酬，拥有资本的人还可以通过拥有资本来获取报酬，就更加拉大了初次分配中的收入差距，所以当采用市场经济体制后，为了缩小收入分配差距，就必须通过由国家主导的再分配过程来缩小初次分配中所形成的差距；否则，就会由于收入分配差距过大，形成社会阶层的过度分化和冲突，导致生产过剩的矛盾。

这段文字主要谈论的是：

- A. 收入均衡难以实现
B. 再分配过程必不可少
C. 分配差距源于制度
D. 收入分配体制必须改革

【答案】B。解析：

本题属于概括主旨型。

阅读可知，题干属于因果型结构。因果型结构强调的是结果而不是原因。梳理题干的因果关系可以看出：（因为）初次分配形成收入差距，资本更加拉大了初次分配中的收入差距，所以，为了缩小收入差距，必须通过再分配过程。也就是B项所说的：再分配过程必不可少。

所以，正确选项是B。

15. 调查显示，新闻记者的职业和网络关系密切，但只占上网人数的1.8%；与大量青少年学生网民（占总数的19.3%）相比，教师和党政企事业单位的领导干部上网太少（分别占网民总数的5%和3.4%）；与月收入500元以下和500~1000元的人群（分别占总数的21%和29%）相比，收入较高的人们的上网比例并没有很大提高；从事商贸活动的人员上网人数只占总数的5.8%。

与这段文字文意相符的是：

- A. 职业与上网没有直接关系
B. 网络成为现代人获取信息的主要来源
C. 电子商务没有在中国获得真正的发展
D. 收入越高，上网人数的比例越高

【答案】A。解析：

本题属于推断文意型。

阅读可知，题干罗列了许多数据，如果我们把关注点放在数据上，解题就有些困难了。一定要抓住其中的带有强烈色彩倾向的词语。从“只占”、“太少”等词语上我们可以体会出，作者本来以为上网人数比例应该很高的“新闻记者”、“教师和党政企事业单位的领导干部”等职业，事实上比例却不高（隐含：职业与上网并没有直接关系）。

所以，正确选项是A。

16. 电子产品容易受到突然断电的损害。断电可能是短暂的，才十分之一秒，但对于电子产品却可能是破坏性的。为了防止这种情况发生，不间断电源被广泛应用于计算机系统、通讯系统以及其他电子设备。不间断电源把交流电转变成直流电，再对蓄电池充电。这样，在停电时，蓄电池即可以弥补断电的间歇。

这段文字主要谈论的是：

- A. 断电对电子产品的损害
B. 如何用蓄电池防止断电损害
C. 防止断电损害电子产品的办法
D. 不间断电源的工作原理及功能

【答案】D。解析：

本题属于概括主旨型。

阅读可知，题干属于引言型结构。引言型结构的重点在后面。题干先从断电损害说起，然后引出不间断电源如何如何，最后说“不间断电源”如何工作。由此可知这段文字主要谈论的是“不间断电源的工作原理及功能”。

所以，正确选项是D。

17. 城市竞争力的高低，从本质上讲，不仅仅取决于硬环境的好坏——基础设施水平的高低、经济实力的强弱、产业结构的优劣、自然环境是否友好等，还取决于软环境的优劣。这个软环境是由社会秩序、公共道德、文化氛围、教育水准、精神文明等诸多人文元素组成的。而这一切主要取决于市民的整体素质。

这段文字意在说明：

- A. 人文元素组成了城市竞争力的软环境
B. 软环境取决于市民的整体素质的高低
C. 城市竞争力由硬环境和软环境共同决定
D. 提高市民整体素质有助于提高城市竞争力

【答案】D。解析：

本题属于推断文意型。

阅读可知，题干属于承接型结构，承接型结构强调的通常是最后一环。题干说：城市竞争力的高低……不仅仅取决于……还取决于……而这一切主要取决于……。由此可知，这段文字意在说明：提高市民整体素质有助于提高城市竞争力。

所以，正确选项是 D。

18. 许多国家的首脑在就职前并不具有丰富的外交经验，但这并没有妨碍他们做出成功的外交决策。一个人，只要有高度的政治敏感性、准确的信息分析能力和果断的勇气，就能很快地学会如何做出成功的外交决策。对于一个缺少以上三种素养的外交决策者来说，丰富的外交经验并没有什么价值。这段文字意在说明：

- A. 外交经验无助于做出正确的外交决策
B. 外交经验来自于经年累月的外交实践
C. 成功的外交决策因人而效果有所不同
D. 外交决策者的素质比外交经验更重要

【答案】D。解析：

本题属于推断文意型。

阅读可知，题干是证明型结构，证明型结构强调的是论点而不是论据。题干最后得出结论：对于一个缺少以上三种素养的外交决策者来说，丰富的外交经验并没有什么价值（隐含：外交决策者的素质比外交经验更重要）。

所以，正确选项是 D。

19. 以制度安排和政策导向方式表现出来的集体行为，不过是诸多个人意愿与个人选择的综合表现。除非我们每一个人都关心环境，并采取具体的行动，否则，任何政府都不会有动力（或压力）推行环保政策。即使政府制定了完善的环保法规，但如果每个公民都不主动遵守，那么，再好的环保法规也达不到应有的效果。

这段文字主要支持的一个观点是：

- A. 政府有责任提高全民的环保意识
B. 完善的环保法规是环保政策成败的关键
C. 政府制定的环保法规应该体现公民个人意愿
D. 每个公民都应当提高自己的环保意识

【答案】D。解析：

本题属于推断文意型。

阅读可知，题干在最后用一个转折句表达了观点：即使政府制定了完善的环保法规，但如果每个公民都不主动遵守，那么，再好的环保法规也达不到应有的效果（隐含：每个公民都应当提高自己的环保意识）。

所以，正确选项是 D。

20. 科学家发现大脑灰质内部的海马体能充当记忆储存箱的功能，但是这个储存区域的分辨能力并不强，对相同的大脑区域的刺激，可以让它产生真实的和虚假的记忆。为了把真实记忆从虚假记忆中分离出来，研究人员提出了通过背景回忆来加强记忆的方法。如果某些事情没有真正发生过，就很难通过这种方法加强人脑对它的记忆。

这段文字主要讲述的是：

- A. 真实记忆和虚假记忆的关系
B. 分辨真实记忆和虚假记忆的方法
C. 大脑灰质内部海马体的作用
D. 虚假记忆是如何产生的

【答案】B。解析：

本题属于概括主旨型。

阅读可知，题干是对策型结构，对策型结构强调的不是问题而是对策。题干首先提出问题，然后给出了解决问题的对策：为了把真实记忆从虚假记忆中分离出来，研究人员提出了通过背景回忆来加强记

忆的方法。由此可知，这段文字主要讲述的是：分辨真实记忆和虚假记忆的方法。

所以，正确选项是 B。

21. 忠实与通顺，作为翻译的标准，应该是统一的整体，不能把两者割裂开来。与原意的文字，不管多么通顺，都称不上是翻译；同样，译文词不达意也起不到翻译的作用。

填入空格中最恰当的一项是：

- A. 不谋而合 B. 截然相反 C. 如出一辙 D. 大相径庭

【答案】D。解析：

阅读可知，填入空格的词语必须呼应后面的“称不上是翻译”。A项的“不谋而合”、C项的“如出一辙”都是说翻译的优点，不应该被否定，因而可以直接排除。

B、D两项的“截然相反”和“大相径庭”在意思上都对，选哪一个更合适呢？这就需要辨析词义。“截然相反”指完全不同，“大相径庭”则指大部分不符合（但并非全部不符）。“称不上翻译”的肯定不仅仅指“截然相反”的情况，那些少部分符合原意、大部分不符合原意的翻译当然也不行。因此，“截然相反”说得太绝对，程度太重，范围太小，相比之下，选择“大相径庭”更为恰当。由此排除 B 项。

所以，正确选项是 D。

22. 新古典经济学以市场为导向的主张在西方环境政策的形成中起到了重要作用，但其研究方法也受到广泛的_____。有人认为，完全市场化的环境政策其结果会适得其反，由人类活动引起的环境损害将有增无减。

填入空格中最恰当的一项是：

- A. 批评 B. 怀疑 C. 关注 D. 批判

【答案】A。解析：

阅读可知，填入空格的词语必须与后面的“有人认为……”的观点是一致的，而“有人认为……”的观点与前面“新古典经济学”的主张是相反的，由此可以排除 C 项。

A、B、D 三项似乎都有道理，需要进行进一步辨析。B 项仅仅是怀疑，程度太轻，与后面的“适得其反”有距离，排除；D 项的“批判”含有“对错误思想加以否定的意思”，程度太重，排除。因而填入空格中最恰当的一项只能是 A 项的“批评”。

所以，正确选项是 A。

23. 人们一般都认为艺术家是“神经质”的，他们的行为像 16 个月大的婴儿，这种观点是的。事实上，“发疯”的艺术家是很_____的。我所遇到的许多艺术家都是极具组织头脑，非常成熟的个体。

填入空格中最恰当的一项是：

- A. 正确 普遍 B. 片面 稀少 C. 偏颇 稀缺 D. 错误 少见

【答案】D。解析：

阅读可知，作者并不同意“艺术家是神经质”这个观点，因此，第一个空格里不可能填“正确”，由此可以首先排除 A 项。

填入第二个空格中的词是用来形容“发疯艺术家”的数量很少的，在“稀少”、“稀缺”和“少见”这三个词语中，用“稀少”、“稀缺”来形容数量少显得很奇怪，远不如用“少见”显得自然。由此排除 B、C 两项。

所以，正确选项是 D。

24. _____今天的人类居住在一个空间探索和虚拟现实的完全现代化的世界里，但他们的活动和石器时代的狩猎者的活动基于_____的智力本质，例如，在受到威胁时进行对抗的本能，以及交

换信息和分享秘密的动力。

填入空格中最恰当的一项是：

- A. 其实 不同 B. 尽管 同样 C. 虽然 不同 D. 尽管 类似

【答案】B。解析：

阅读题干，根据最后的举例“例如，在受到威胁时进行对抗的本能，以及交换信息和分享秘密的动力”可知，作者认为“今天的人类与石器时代的狩猎者的活动”在智力本质上应该是相同的。因此，第二个空格中应该填B项的“同样”。运用“突点排除法”，A、C、D三项可以直接排除。

所以，正确选项是B。

25. 当体育界、工业界和其他领域中的一些领导者将他们的成功归因于一种高度的_____意识时，一个社会还是应该更好地为那些即将成为领导者的年轻人灌输一种_____的意识。填入空格中最恰当的一项是：

- A. 竞争 合作 B. 大局 协作 C. 协作 分工 D. 危机 团队

【答案】A。解析：

阅读可知，填入第一个空格的词语必须呼应前面的“体育界……的成功”。按照一般的社会常识，可以断定体育界的成功必然归因于A项的“竞争”意识。根据“突点排除法”，B、C、D三项可以直接排除。

所以，正确选项是A。

26. 虽然很多员工觉得很难控制工作中的压力，但是至少当他们回到家时是_____的。然而，随着工作本质的改变，家也不再是曾经的避难所了。填入空格中最恰当的一项是：

- A. 愉快 B. 清闲 C. 悠闲 D. 轻松

【答案】D。解析：

阅读题干，从转折词“虽然……但是……”可以断定，填入空格中的词应该是“压力”的反义词。分析4个备选项，只有D项的“轻松”与“压力”词义相反，（“愉快”的反义词是“忧伤”，“清闲”的反义词是“忙碌”，“悠闲”的反义词是“繁忙”），根据“突点排除法”，A、B、C三项可以直接排除。

所以，正确选项是D。

27. 据说泰山是古代名匠鲁班的弟子，天资聪颖，心灵手巧，干活总是_____，但往往耽误了鲁班的事，于是惹恼了鲁班，被撵出了“班门”。填入空格中最恰当的一项是：

- A. 巧夺天工 B. 别出心裁 C. 尽善尽美 D. 任劳任怨

【答案】B。解析：

阅读可知，题干讲了一个故事：鲁班有一个心灵手巧的弟子名叫泰山，因为“干活总是（ ）”，被鲁班撵出了“班门”。既然被鲁班赶出了师门，肯定不是因为泰山的优点，而是因为他干活上有什么缺点。由此可以推断，填入空格的词一定是表示缺点的。

对比4个选项，“巧夺天工”、“尽善尽美”、“任劳任怨”都是褒义词，都只表示优点，不可能表示缺点，可以直接排除；只有B项的“别出心裁”是中性词，既可以表示优点，也可以表示缺点。想象一下，一个别出心裁的人出错的机会可能很多，估计泰山就是因为这个原因被鲁班撵走的。

所以，正确选项是B。

28. 节约其实就是这样的_____行为，表现在我们的日常生活中，它就是空调开多少度之类的细枝末节的问题，就是买大排量还是小排量轿车之类的问题，就是是否选择一次性卫生筷之类的问题。

填入空格中最恰当的一项是：

- A. 简单 B. 琐碎 C. 日常 D. 普通

【答案】D。解析：

阅读可知，填入空格的词语必须呼应后面的“空调开多少度”、“买大排量还是小排量轿车”、“是否选择一次性卫生筷”，其中“买大排量还是小排量轿车”对于我们普通人来说，显然不能说是简单的行为，更不能说是琐碎、日常的行为。由此排除A、B、C三项。

所以，正确选项是D。

29. 在一个如此欧洲化的地方，欧盟宪法理所当然成为了当地的一个焦点话题，令人感到_____的是，这里不是赞成的声音最响亮的地方，而是反对者的天下。

填入空格中最恰当的一项是：

- A. 遗憾 B. 扫兴 C. 惊奇 D. 意外

【答案】D。解析：

阅读可知，题干中的关联词“不是……而是……”表达了强烈的转折意味。由此可知，填入空格的词语必须与前面的“理所当然”词义相反。D项的“意外”最符合语境的要求，根据“突点排除法”，可以排除A、B、C三项。

所以，正确选项是D。

30. 《拾穗者》本来描写的是农村夏收劳动的一个极其_____的场面，可是它在当时所产生的艺术效果却远不是画家所能_____的。

填入空格中最恰当的一项是：

- A. 热闹 设想 B. 平凡 意料 C. 火热 控制 D. 忙碌 想象

【答案】B。解析：

阅读可知，题干中的关联词“本来……可是……”表达了强烈的转折意味，所要表达的是平凡的事情产生了不平凡的艺术效果。因此，填入第一个空格的词语应该是与强烈的“艺术效果”相反的词。对比4个备选项，B项的“平凡”最符合语境的要求。根据“突点排除法”，排除A、C、D三项。

所以，正确选项是B。

31. 去世100年后，挪威最伟大的文学家_____是易卜生。他给挪威民族带来的荣誉，比别的任何挪威人都要多。然而，这个人生前从不_____自己是挪威人——他是他自己的祖国和上帝。

填入空格中最恰当的一项是：

- A. 已经 知道 B. 始终 认为 C. 依然 承认 D. 公认 希望

【答案】C。解析：

阅读可知，填入第二个空格的词语必须呼应后面的“他是他自己的祖国和上帝”，虽然易卜生是挪威人，但是他自己并不承认，由此可以排除A、D两项。

对比“始终”和“依然”两项，“始终”表示从来不变，“依然”表示在一定的时间内保持不变，结合前面的“去世100年后”可知，填入第一个空格的词语应该是指在一一定的时间内保持不变。由此排除B项。

所以，正确选项是C。

32. 美元贬值可以有效提高美国企业的国际竞争力，同时打击其他国家对美的出口能力。而促使美元贬值的有效手段就是推高市场的原油价格，使人们对经济前景持_____态度，_____美元下跌。

填入空格中最恰当的一项是：

- A. 悲观 带动 B. 观望 遏制 C. 怀疑 阻止 D. 乐观 导致

【答案】A。解析：

阅读可知，填入第一个空格的词语必须呼应后面的“美元下跌”。人们对经济前景持怎样的态度才能促使美元下跌呢？按照一般的经济常识，当然是“悲观”态度了。根据“突点排除法”，排除B、C、D三项。

所以，正确选项是A。

33. 钧瓷以其古朴的_____，精湛的_____，复杂的配釉，湖光山色、云霞雾霭、人兽花鸟虫鱼等变化无穷的图形色彩和奇妙韵味，被列为中国宋代“五大名瓷”之首。

填入空格中最恰当的一项是：

- A. 造型 技术 B. 外形 工艺 C. 外形 技术 D. 造型 工艺

【答案】D。解析：

根据“习惯搭配”法解答这道题比较简单。按照习惯，“古朴”与“造型”搭配最佳，“精湛”与“工艺”搭配最佳。所以，正确选项是D。

34. 我在繁忙的工作之余，时常拿起相机，游走于城市的大街小巷，去探寻城市中那些_____的古迹和古迹后面那些有韵味的老故事。

填入空格中最恰当的一项是：

- A. 闻名遐迩 B. 门庭冷落 C. 鲜为人知 D. 人迹罕至

【答案】C。解析：

阅读题干，请特别注意“探寻”这个词，所谓探寻，是指寻找尚不为人们所熟知的东西。四个选项中，只有C项的“鲜为人知”最符合此意。

所以，正确选项是C。

35. 由于疏于_____，院里的房屋大多十分陈旧，与旁边修建得簇新的正乙祠戏楼相比要得多，不过在院中我们依稀还可以看到正乙祠当年的身影。

填入空格中最恰当的一项是：

- A. 修饰 寒酸 B. 修葺 逊色 C. 管理 破败 D. 维护 杂乱

【答案】B。解析：

根据“习惯搭配”法解答这道题比较简单。按照习惯，“修葺”与“房屋”搭配最佳。

所以，正确选项是B。

36. 发展与壮大文化产业，既要盯着市场做文章，_____文化生产部门的自我生存能力，最大限度地让文化产品增值；又不能唯市场是从，一味_____市场的低层次需求，让那些格调不高的文化产品大行其道。

填入空格中最恰当的一项是：

- A. 扩大 限制 B. 维护 满足 C. 提高 降低 D. 增强 迎合

【答案】D。解析：

阅读可知，填入第二个空格的词语必须呼应后面的“格调不高”，因而要填入一个贬义词。四个选项中，只有D项的“迎合”有明显的贬义。

所以，正确选项是D。

37. 人在知觉过程中，不是_____地把知觉对象的特点登记下来，而是以过去的知识经验为依据，力求对知觉对象做出某种解释，使它具有一定的意义。

填入空格中最恰当的一项是：

- A. 被动 B. 主观 C. 积极 D. 简单

【答案】A. 解析：

阅读题干，从转折连词“不是……而是……”可以推知，填入空格的词语必定与后面的内容意义相反。“以过去的知识经验为依据，力求对知觉对象做出某种解释”，按照哲学的话说，这个解释的过程是一个“能动”的过程。4个选项中只有“被动”与“能动”词义相反。由此排除B、C、D三项。

所以，正确选项是A。

38. 心理学家发现，手势和话语在交流时具有同样的丰富性，手和嘴_____表达着说话人的意思。人们听故事时，如果在听到声音的同时能够看见讲故事人的手势，他们对故事理解的准确度要比听到声音时增加10%。

填入空格中最恰当的一项是：

- A. 分别 单纯 B. 共同 单纯 C. 独立 单独 D. 一致 单独

【答案】B. 解析：

阅读可知，“手势和话语在交流时具有同样的丰富性”，因此，手和嘴同时表达说话人的意思。A项的“分别”和C项的“独立”与文意明显不符，由此可以排除。

再比较B、D两项。“共同”是“一起做”的意思，“一致”是“互相符合”的意思。“手和嘴同时表达说话人的意思”，这是手和嘴一起做一件事情，B项的“共同”最符合文意，由此排除D项。

所以，正确答案是B。

39. 白话文、英文、德文并不一定代表_____，文言文也不一定代表_____。在文言文的世界里，我们可以发现太多批判的精神，太多超越现代的观念，太多先进的思想。

填入空格中最恰当的一项是：

- A. 开放 守旧 B. 现代 传统 C. 现代 落后 D. 高雅 庸俗

【答案】C. 解析：

从题干后半的表述中我们可以知道，文言文有“太多超越现代的观念，太多先进的思想”，也就是说，文言文是“现代”、“先进”的。理解了这一点，就可以确定填入第二个空格的必定是“先进”的反义词，即C项的“落后”。根据“突点排除法”，A、B、D三项可以直接排除。

所以，正确选项是C。

40. 法制要真正产生作用，还有赖于权力体系内外均衡力量格局的培育：当具体法规的执行人面对足以_____他的力量时，他必须担心任何微小的违规与失误；而当客观上不存在足以制衡他的力量时，设计再精密的法规也可能被他任意_____、歪曲，甚至视若无物。

填入空格中最恰当的一项是：

- A. 约束 理解 B. 约束 解释 C. 监督 理解 D. 监督 解释

【答案】D. 解析：

阅读可知，填入第一个空格的词语必须呼应后面的“制衡”。所谓制衡，是不同权力之间的彼此制约和监督，而不是一种权力对另一种权力的控制或约束。因此排除A、B两项。

再来看第二个空格。C项的“理解”仅是自我的主观心理活动，事实上，法规的执行人对法律的歪曲决不仅仅是自我的主观心理活动，必定是涉及他人的行动。因此，填入第二个空格的词语只能是D项的“解释”。

所以，正确选项是D。

第二部分 数量关系

(共 20 题, 参考时限 20 分钟)

一、数字推理。给你一个数列, 但其中缺少一项, 要求你仔细观察数列的排列规律, 然后从四个供选择的选项中选择你认为最合理的一项, 来填补空缺项, 使之符合原数列的排列规律。

41. 2, 12, 36, 80, ()

A. 100

B. 125

C. 150

D. 175

【答案】C。解析:

(基本算法)

本题的数列规律是:

第一项: $1 \times 1 \times 2 = 2$

第二项: $2 \times 2 \times 3 = 12$

第三项: $3 \times 3 \times 4 = 36$

第四项: $4 \times 4 \times 5 = 80$

按照这个规律, 填入括号内的数应该是 $5 \times 5 \times 6$, 即 C 项: 150。

所以, 正确选项是 C。

(估算法)

通过观察可以发现, 数列的每一项都是偶数, 因此, 估计缺项也是偶数, 这样, 答案就可能在 A、C 之间。同时, 又因为几个数字的增加幅度较大, 所以, 估计答案为 C 项: 150。

虽然这只是一中估算, 但是它是基于对数列变化特征的整体把握, 所以答案也有较高的可靠程度。

42. 1, 3, 4, 1, 9, ()

A. 5

B. 11

C. 14

D. 64

【答案】D。解析:

(基本算法)

本题目的数列规律是: 从左到右相邻三项的中项减左项, 得到的差再平方等于右项。即:

$$(3-1)^2=4$$

$$(4-3)^2=1$$

$$(1-4)^2=9$$

按照这个规律, 填入括号内的数应该是 $(9-1)^2$, 即 D 项: 64。

所以, 正确选项是 D。

(估算法)

通过观察可以发现, 题干的后面三个数: 4, 1, 9 都是完全平方数, 所以, 估计填入()内的数也应该是完全平方数。只有 D 项的 64 符合条件。

所以, 估计答案为 D。

43. 0, 9, 26, 65, 124, ()

A. 165

B. 193

C. 217

D. 239

【答案】C。解析:

本题目的数列规律是: 自然数的立方数列加减 1。即:

第一项: $1^3-1=0$

第二项: $2^3+1=9$

第三项: $3^3-1=26$

第四项: $4^3+1=65$

第五项： $5^3-1=124$

按照这个规律，填入括号内的数应该是 6^3+1 ，即 C 项：217。

所以，正确选项是 C。

44. 0, 4, 16, 40, 80, ()

A. 160

B. 128

C. 136

D. 140

【答案】D。解析：

(算法一)

本题的数字规律是：从左到右相邻两项的后项减前项，可以得到一个新数列 4, 12, 24, 40。即：

$$4-0=4$$

$$16-4=12$$

$$40-16=24$$

$$80-40=40$$

这个新的数列，从左到右，再把相邻两项的后项减前项，可以得到一个公差为 4 的等差数列 8, 12,

16。即：

$$12-4=8$$

$$24-12=12$$

$$40-24=16$$

还原数列为：

0, 4, 16, 40, 80, (140)

4, 12, 24, 40, (60)

8, 12, 16, (20)

按照这个规律，填入括号内的数应该是 $80+60$ ，即 D 项：140。

所以，正确选项是 D。

(算法二)

本题的数字规律是：

$$0=0^2, 4=2^2, 16=4^2+0, 40=6^2+4, 80=8^2+16$$

按照这个规律，填入括号内的数应该是 10^2+40 ，即 D 项：140。

所以，正确选项是 D。

45. 0, 2, 10, 30, ()

A. 68

B. 74

C. 60

D. 70

【答案】A。解析：

本题的数字规律是：

第一项： $0^3+0=0$ ，第二项： $1^3+1=2$ ，第三项： $2^3+2=10$ ，第四项： $3^3+3=30$

按照这个规律，填入括号内的数应该是 4^3+4 ，即 A 项：68。

所以，正确选项是 A。

二、数学运算。在这部分试题中，每道试题呈现一段表述数字关系的文字。要求你迅速、准确地计算出答案。你可以在草稿纸上运算。

46. 某高校 2006 年度毕业学生 7650 名，比上年度增长 2%，其中本科毕业生比上年度减少 2%，而研究生毕业数量比上年度增加 10%，那么，这所高校今年毕业的本科生有：

A. 3920 人

B. 4410 人

C. 4900 人

D. 5490 人

【答案】C。解析：

(基本算法)

假设去年的研究生毕业人数为 x ，本科生毕业人数为 y ，那么，今年的研究生毕业人数为 $1.1x$ ，本科生毕业人数为 $0.98y$ 。则：

$$1.1x + 0.98y = 7650$$

$$(x + y)(1 + 2\%) = 7650$$

解方程组可得： $x=2500$ ， $y=5000$

则今年的本科生毕业人数为： $y=0.98 \times 5000=4900$ 。

所以，正确选项是 C。

(估算法)

设去年的研究生毕业人数为 x ，本科生毕业人数为 y ，则今年的研究生毕业人数为 $1.1x$ ，本科生毕业人数为 $0.98y$ 。

运用“整除法”，考虑到每个人都是不能分割的个体，因此，今年本科生的毕业人数一定能够被 98 整除。同理，今年研究生的毕业人数也一定能够被 11 整除。

观察四个备选项，4900 最明显能被 98 整除。 $7650-4900=2750$ ，而 2750 也能够被 11 整除。所以估计选项是 C。

47. 现有边长 1 米的一个木质正方体，已知将其放入水里，将有 0.6 米浸入水中。如果将其分割成边长 0.25 米的小正方体，并将所有的小正方体都放入水中，直接和水接触的表面积总量为：

A. 3.4 平方米

B. 9.6 平方米

C. 13.6 平方米

D. 16 平方米

【答案】C。解析：

(基本算法)

大正方体被分割成边长 0.25 米的小正方体，可得小正方体 $4 \times 4 \times 4=64$ 个。

根据物理常识，分割后的小立方体也有 $3/5$ 浸在水中，所以，每个小正方体和水接触的表面积是：

$$0.25 \times 0.25 + 0.25 \times 0.25 \times 0.6 \times 4$$

64 个小立方体和水接触的表面积是：

$$(0.25 \times 0.25 + 0.25 \times 0.25 \times 0.6 \times 4) \times 64 = 13.6$$

所以，正确选项是 C。

(估算法)

大立方体和水接触的表面积是： $1 \times 1 + 1 \times 1 \times 0.6 \times 4 = 3.4$

既然小正方体的边长是大正方体的 $1/4$ ，估计其与水接触的表面积之和应该为大正方体的 4 倍，可得 $3.4 \times 4 = 13.6$ 。

所以，估计选项是 C。

48. 把 144 张卡片平均分成若干盒，每盒在 10 张到 40 张之间，则共有 () 种不同的分法。

A. 4

B. 5

C. 6

D. 7

【答案】B。解析：

这个问题比较简单，直接考查“整除法”，就是要求考生找出在 10 到 40 之间能够整除 144 的全部约数。运用代入法验算可知，有 12, 16, 18, 24, 36，一共 5 个。

所以，正确选项是 B。

49. 从一副完整的扑克牌中，至少抽出 () 张牌，才能保证至少 6 张牌的花色相同。

A. 21

B. 22

C. 23

D. 24

【答案】C。解析：

根据抽屉原理，四种花色的扑克各抽 5 张，再加上大鬼和小鬼，一共有 22 张扑克。这个时候，如果再任意抽取一张扑克，就能保证至少有 6 张牌的花色相同。

所以，正确选项是 C。

50. 小明和小强参加同一次考试，如果小明答对的题目占题目总数的 $\frac{3}{4}$ ，小强答对了 27 道题，他们两人都答对的题目占题目总数的 $\frac{2}{3}$ ，那么两人都没有答对的题目共有（ ）。

A. 3 道

B. 4 道

C. 5 道

D. 6 道

【答案】D。解析：

根据整除法，因为小明答对的题目占题目总数的 $\frac{3}{4}$ ，所以题目总数一定是 4 的倍数；又因为小明和小强两人都答对的题目占题目总数 $\frac{2}{3}$ ，所以题目的总数也一定是 3 的倍数。由此可以确定，题目的总数一定是 12 的倍数。

小强答对了 27 题，这个数字必然等于或者超过题目总数的 $\frac{2}{3}$ 。因此可以确定题目的总数为 36 题（12 的倍数）。

现在可以确定小明答对的题目是： $36 \times \frac{3}{4} = 27$ 题

两人共同做对了 $36 \times \frac{2}{3} = 24$ 题。由此可知，小明单独答对了 $27 - 24 = 3$ 题，小强也单独答对了 $27 - 24 = 3$ 题。这样，两人就一共答对了 $24 + 3 + 3 = 30$ 题。

则两人都没有答对的题目有 $36 - 30 = 6$ 题。

所以，正确选项是 D。

51. 学校举办一次中国象棋比赛，有 10 名同学参加，比赛采用单循环赛制，每名同学都要与其他 9 名同学比赛一局。比赛规则：每局棋胜者得 2 分，负者得 0 分，平局两人各得 1 分。比赛结束后，10 名同学的得分各不相同，已知：

(1) 比赛第一名与第二名都是一局都没有输过；

(2) 前两名的得分总和比第三名多 20 分；

(3) 第四名的得分与最后四名的得分的和相等。

那么，排名第五名的同学的得分是（ ）。

A. 8 分

B. 9 分

C. 10 分

D. 11 分

【答案】D。解析：

首先，需要计算出所有选手的积分总和：在单循环赛中，每个选手都要与别的选手赛一局，因此一共需要比赛 $1 + 2 + 3 + 4 + \dots + 9 = 45$ 局。每一局无论是一赢一输还是两人和棋，所产生的分数都是 2 分，所以所有选手的积分总和为 90 分。

第一名的得分应该是 17 分。他一共比赛了 9 局，一局也没有输。如果他全部胜利了，则应该得 18 分，可是这样就意味着在第一名与第二名的比赛当中第二名输了，不符合题意（比赛第一名与第二名都是一局都没有输过）。所以，第一名选手只有八局取得了胜利，他在与第二名的那一局比赛中打成了平局。因此得 17 分。

由于第二名也没有输，所以他只能胜利 7 局，平两局，得 16 分。

根据题意，前两名的得分总和比第三名多 20 分，所以，第三名得 13 分。

如果这样，那么第四名最多得 12 分。第四名有没有可能得 11 分或者更少呢？假设第四名得了 11 分，题干条件又说第四名的得分与最后四名的得分之和相等，那么这就意味着第五名和第六名的分数之和是： $90 - 17 - 16 - 13 - 11 - 11 = 22$ 。因为第五名和第六名的分数不可能平均，所以只能是第五名得 12 分，第六名得 10 分。这就与第四名得 11 分相矛盾。因此，第四名不可能得 11 分或者更少，只能是 12 分。第四名的得分与最后四名的得分总和相等，所以，最后四名的得分总和也是 12 分。

根据以上判断，第五名与第六名的得数之和是： $90-17-16-13-12-12=20$ 。因为分数不能平均，而第五名又必须比第四名的得分少，所以，只能是第五名得 11 分，第六名得 9 分。

所以，正确选项是 D。

（因为本题的条件太多，运算过程复杂，可能需要大量的时间，所以在实际的考试中可以考虑直接放弃。有时，善于放弃也是一种灵活性的表现。）

52. 某班男生比女生人数多 80%。一次考试后，全班平均成绩为 75 分，而女生的平均分比男生的平均分高 20%，则此班女生的平均分是（ ）。

- A. 84 分 B. 85 分 C. 86 分 D. 87 分

【答案】A. 解析：

（基本算法）

设女生为 x ，那么男生为 $1.8x$ ；设男生的平均成绩为 y ，那么女生的平均成绩为 $1.2y$ 。根据题意可列方程为：

$$x \times 1.2y + 1.8x \times y = (x + 1.8x) \times 75$$

$$3y = 2.8 \times 75$$

$$y = 70$$

$$1.2y = 84$$

所以，正确选项是 A。

（估算法）

假设男生的平均成绩为 x ，那么女生的平均成绩为 $1.2x$ 。运用“整除法”可知，女生的平均成绩一定是 12 的倍数。观察四个备选项，A 项的 84 特别明显地符合这个条件。

所以，估计选项是 A。

53. A、B 两站之间有一条铁路，甲、乙两列火车分别停在 A 站和 B 站。甲火车 4 分钟走的路程等于乙火车 5 分钟走的路程。乙火车上午 8 时整从 B 站开往 A 站，开出一段时间后，甲火车从 A 站出发开往 B 站，上午 9 时整两列火车相遇，相遇地点离 A、B 两站的距离比是 15：16。那么，甲火车在（ ）从 A 站出发开往 B 站。

- A. 8 时 12 分 B. 8 时 15 分 C. 8 时 24 分 D. 8 时 30 分

【答案】B. 解析：

根据题干所给条件，假设甲火车每分钟行驶 5，乙火车每分钟行驶 4。

两车相遇时，乙火车行驶的路程为： $4 \times 60 = 240$ 。

根据两车的相遇地点离 A、B 两站的距离比是 15：16，可知甲火车行驶的路程为： $(240 \div 16) \times 15$ 。

甲行驶这段路程所用的时间为： $((240 \div 16) \times 15) \div 5 = 45$ 分钟。

根据题意，上午 9 时整两列火车相遇，由此可知，甲火车是在 8 点 15 分从 A 站出发的。

所以，正确选项是 B。

54. 32 名学生需要到河对岸去野营，只有一条船，每次最多载 4 人（其中需 1 人划船），往返一次需 5 分钟。如果 9 时整开始渡河，9 时 17 分时，至少有（ ）人还在等待渡河。

- A. 16 B. 17 C. 19 D. 22

【答案】C. 解析：

请特别注意“其中需 1 人划船”和“9 时 17 分”这两个条件。根据题干所给条件，推知情况如下：

5分钟时：第一次1人划船送3名学生到对岸，并且1人划船回到原地，（实际送到对岸3人）；
10分钟时：第二次1人划船送3名学生到对岸，并且1人划船回到原地（实际送到对岸3人）；
15分钟时：第三次1人划船送3名学生到对岸，并且1人划船回到原地（实际送到对岸3人）；
17分钟时：第四次1人划船送3名学生正在渡往对岸（隐含：船上有4个人）；
此时，等待渡河的还有 $32 - (3+3+3+4) = 19$ 人。

所以，正确选项是 C。

55. 一名外国游客到北京旅游。他要么上午出去游玩，下午在旅馆休息；要么上午休息，下午出去游玩；而下雨天他只能一天都呆在屋里。期间，不下雨的天数是12天，他上午呆在旅馆的天数为8天，下午呆在旅馆的天数为12天，他在北京共呆了（ ）。

A. 16天 B. 20天 C. 22天 D. 24天

【答案】A. 解析：

（算法一）

根据题干所给条件，外国游客在宾馆的次数共有： $8+12=20$ 次。扣去不下雨的12天里在宾馆的12次（每天一次），则剩下的8次是下雨天。

每两次留在宾馆的时间为一天，则有4天是下雨天。

12 天（不下雨）+ 4 天（下雨）= 16 天。

所以，正确选项是 A。

（算法二）

12 天不下雨，外国游客出去了12次。如果这12次不出去，上午或者下午都呆在宾馆里，那么一共有： $8+12+12=32$ 次。每两次等于一天，则 $32 \div 2 = 16$ 天。

所以，正确选项是 A。

56. 甲、乙两个容器均有50厘米深，底面积之比为5:4，甲容器水深9厘米，乙容器水深5厘米。再往两个容器里各注入同样多的水，直到水深相等，这时两容器的水深是（ ）。

A. 20厘米 B. 25厘米 C. 30厘米 D. 35厘米

【答案】B. 解析：

根据体积公式，以及注入水的等量关系可以求解。

设容器的底面积分别为5和4，两个容器被注入同样多的水后相同的水深是x。则：

甲容器中注入的水为： $(x-9) \times 5$

乙容器中注入的水为： $(x-5) \times 4$

已知往两个容器中注入的水的体积相等，则：

$$(x-9) \times 5 = (x-5) \times 4$$

解方程可得： $x=25$ 。

所以，正确选项是 B。

57. 一篇文章，现有甲乙丙三人，如果由甲乙两人合作翻译，需要10小时完成，如果由乙丙两人合作翻译，需要12小时完成。现在先由甲丙两人合作翻译4小时，剩下的再由乙单独去翻译，需要12小时才能完成，则，这篇文章如果全部由乙单独翻译，要（ ）小时能够完成。

A. 15 B. 18 C. 20 D. 25

【答案】A. 解析：

（算法一）

设甲、乙、丙单独完成分别需要a、b、c小时，则：

$$(1) \frac{1}{a} + \frac{1}{b} = \frac{1}{10}$$

$$(2) \frac{1}{b} + \frac{1}{c} = \frac{1}{12}$$

$$(3) \left(\frac{1}{c} + \frac{1}{a}\right) \times 4 + \frac{12}{b} = 1$$

由(3)可得:

$$(4) \frac{1}{a} + \frac{1}{c} = \frac{1}{4} - \frac{3}{b}$$

由(1)+(2)可得:

$$(5) \frac{1}{a} + \frac{1}{c} + \frac{2}{b} = \frac{1}{10} + \frac{1}{12}$$

把(4)代入(5),消去 $\frac{1}{a} + \frac{1}{c}$ 可得: $b=15$ 。

所以,正确选项是 A。

(算法二)

设甲、乙、丙每小时的工作量分别为: x 、 y 、 z 。根据题意可以列方程组为:

$$(1) x+y = \frac{1}{10}$$

$$(2) y+z = \frac{1}{12}$$

$$(3) (x+z) \times 4 + y \times 12 = 1$$

(注意: 我们想求的是 y , 即乙的每小时工作量, 虽然我们需要引入 x 、 z 两个变量, 但是“设而不求”。所以, 解题过程中要尽量消去 x 、 z 。)

把(1)(2)相加得(4):

$$x+z = \frac{1}{10} + \frac{1}{12} - 2y = \frac{22}{120} - 2y$$

把(4)代入(3)可得:

$$\left(\frac{22}{120} - 2y\right) \times 4 + y \times 12 = 1$$

$$\frac{22}{30} + 4y = 1$$

$$4y = \frac{8}{30}$$

$$y = \frac{1}{15}$$

据此可知, 这篇文章如果全部由乙单独翻译, 要 15 小时能够完成。

所以, 正确选项是 A。

58. 共有 20 个玩具交给小王手工制作完成。规定: 制作的玩具每合格一个得 5 元, 不合格一个扣 2 元, 未完成的不得扣。最后小王共收到 56 元, 那么他制作的玩具中, 不合格的共有 () 个。

A. 2 B. 3 C. 5 D. 7

【答案】A。解析:

根据题干所给条件，制作一个合格玩具收入 5 元，如果小王制作的玩具都是合格产品，那么，他的收入数目就一定是在 5 的倍数，比如 50，55，60，65，等。

已知小王的收入是 56 元，所以，肯定是因为玩具不合格而被扣掉了 4 元、14 元或者 24 元，等。

已知每一个玩具不合格扣 2 元，所以，正确选项只能在 A、D 之中。

已知共有 20 个玩具，如果有 7 个不合格，就算其他的 13 个都是合格产品，小王的收入也只能有 $65-14=51$ 元。因此，排除选项 D。

所以，正确选项是 A。

59. 一个车队有三辆汽车，担负着五家工厂的运输任务，这五家工厂分别需要 7、9、4、10、6 名装卸工，共计 36 名；如果安排一部分装卸工跟车装卸，则不需要那么多装卸工，而只需要在装卸任务较多的工厂再安排一些装卸工就能完成装卸任务。那么在这种情况下，总共至少需要（ ）名装卸工才能保证各厂的装卸需求？

A. 26

B. 27

C. 28

D. 29

【答案】A。解析：

解答本题需要根据统筹原则，充分考虑装卸工和汽车的情况，选择一种最优方案。

在本题中，“三辆汽车”是最关键的条件。如果让 10 名，9 名和 7 名装卸工分别跟着 3 辆汽车，可以保证所有工厂的装卸需求。因此总共至少需要工人： $10+9+7=26$ 人。

所以，正确选项是 A。

60. 有一食品店某天购进了 6 箱食品，分别装着饼干和面包，重量分别为 8、9、16、20、22、27 公斤。该店当天只卖出一箱面包，在剩下的 5 箱中饼干的重量是面包的两倍，则当天食品店购进了（ ）公斤面包。

A. 44

B. 45

C. 50

D. 52

【答案】D。解析：

根据题干所给条件，六箱食品共重： $8+9+16+20+22+27=102$ 公斤。

卖掉一箱面包后，剩余的 5 箱中饼干的重量是面包的 2 倍，则说明五箱的重量之和必定是 3 的倍数（可以分成 3 份）。

6 箱食品中卖掉的是哪一箱呢？只能是 9 公斤或者 27 公斤的，否则就不是 3 的倍数了。

如果卖掉的是 9 公斤的，还剩下 93 公斤，那么按 1:2 的比例应该是面包 31 公斤，饼干 62 公斤。可是，剩下的这几个数字无论如何组合不成 31，不可能是这种情况。

如果卖掉的是 27 公斤的，还剩下 75 公斤，那么按 1:2 的比例应该是面包 25 公斤，饼干 50 公斤。显然可以组合出来： $9+16=25$ ， $8+20+22=50$ 。

由此可知，面包有两箱，分别是卖掉的 27 公斤的一箱和剩下的 25 公斤的一箱，总重量为 $27+25=52$ 公斤。

所以，正确选项是 D。


第三部分 判断推理

(共 35 题，参考时限 40 分钟)

一、图形推理。请按每道题的答题要求作答。

请从所给的四个选择项中，选择最适合的一个填在问号处，使之呈现一定的规律性。

61.




【答案】B。解析：

这是一道“九宫格”型图形推理题。

黑色小方块围绕小九宫格的四周顺时针旋转，同时，四周的小九宫格围绕着中间的那个小九宫格顺时针旋转。按照这个规律，只有B项符合要求。

所以，正确选项是B。

62.



【答案】A。解析：

这是一道“九宫格”型图形推理题。如果从行的角度去观察，很难发现其中的规律。可以从列的角度，观察每个图形中出头的线条的个数。

第一列，从下往上看，三个图形中出头的线条数分别是1，3，5。


第二列，从上往下看，三个图形中出头的线条数分别是7，9，11。

第三列，从下往上看，三个图形中出头的线条数分别是（13），15，17。

只有A项图形中出头的线条数是13条。

所以，正确选项是A。

63.



【答案】D。解析：


这是一道“九宫格”型图形推理题。如果从行的角度去观察，很难发现其中的规律。可以从列的角度，观察每个图形中线段的条数。

第一列，上面第一个图形中的线段条数等于下面两个图形中的线段条数之和（圆形中没有线段）。
第二列，上面第一个图形中的线段条数等于下面两个图形中的线段条数之和。

由此可知，第三列，上面第一个图形中的线段条数也应该等于下面两个图形中的线段条数之和。 $8=3+5$ ，只有D项符合要求。

所以，正确选项是D。

64.



【答案】A。解析：

这是一道“九宫格”型图形推理题。

在第一行的三个图形中，封闭空间的数量分别是3、2、3，其总和为 $3+2+3=8$ 。

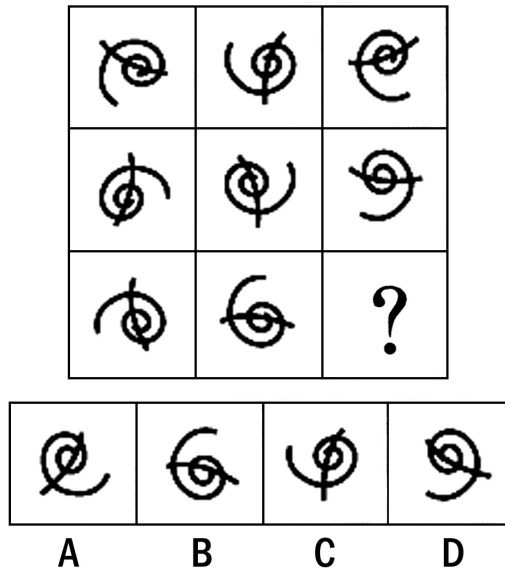
在第二行的三个图形中，封闭空间的数量分别是1、3、4，其总和为 $1+3+4=8$ 。

按照这个规律，第三行的三个图形中的封闭空间数量之和也应该是8。已知第一个图形中有3个封闭空间，第二个图形中有4个封闭空间，则第三个图形中的封闭空间应该是 $8-3-4=1$ 。

只有A项图形中的封闭空间是1。

所以，正确选项是 A。

65.



【答案】A。解析：

这是一道“九宫格”型图形推理题。本题中所有小旋转图形的形状都是一样的，所以，考查的肯定是图形的旋转。

第一行，旋转曲线从外往里，分别呈顺时针方向旋转，逆时针方向旋转，顺时针方向旋转。第二行，旋转曲线从外往里，分别呈逆时针方向旋转，顺时针方向旋转，逆时针方向旋转。第三行，已知的两个小图形，旋转曲线从外往里，分别呈顺时针方向旋转，逆时针方向旋转，按照规律，第三个小图形的旋转曲线应该是从外往里呈顺时针方向旋转。

只有 A 项的旋转曲线是从外往里呈顺时针方向旋转的。

所以，正确选项是 A。

二、定义判断。每道题先给出一个概念的定义，然后分别列出四种情况，要求你严格依据定义，从中选出一个最符合或最不符合该定义的答案。注意：假设这个定义是正确的，不容置疑的。

66. “E-mail 营销是指在用户事先许可的前提下，通过电子邮件的方式向目标用户传递有价值信息的一种网络营销手段”。E-mail 营销有三个基本要素：基于用户许可、通过电子邮件传递信息、信息对用户是有价值的。三个要素缺少一个，都不能称之为有效的 E-mail 营销。

根据上述定义，下列属于有效的 E-mail 营销的一项是：

- A. 小王 2002 年成为某品牌产品的会员，该产品给他定期用电子邮件发送电子刊物，入会期满一年后，小王决定退会，但他在网上进行退会操作没有成功，该产品还继续发来信息
- B. 小李在某门户网站注册了免费邮箱，注册时注明愿意接收有关医疗保健和体育比赛方面的信息。使用邮箱后，该网站经常向他的邮箱发送包括医疗保健以及商品折扣方面的信息
- C. 小赵曾经给某厂商留下地址，希望对方免费邮寄相关资料，后来他收到一封电子邮件，没有发件人姓名、地址、身份，标题是“产品目录”。他恐怕该邮件有病毒，没有打开就将其删除了
- D. 小高收到一封邮件，标题为：“免费赠卡，直接消费”，打开后，发现收件人一栏只有一个地址，但却不是自己的邮箱地址，他感到大惑不解

【答案】B。解析：

本题是“属于型”。要求从四个备选项中找出属于“有效的 E-mail 营销”的一个选项。

分析定义可知，要归类于“有效的 E-mail 营销”，必须符合以下条件：（1）基于用户许可，（2）通过电子邮件传递信息，（3）信息对用户是有价值的。

A 项，小王已经决定退会（隐含：该产品继续发来的信息对用户是没有价值的），因此不是有效的 E-mail 营销，排除。

B 项，小李愿意接收有关医疗保健的信息（隐含：基于用户许可），该网站向他的邮箱发送（隐含：通过电子邮件传递信息）包括医疗保健以及商品折扣方面的信息（隐含：信息对用户是有价值的），符合“有效的 E-mail 营销”的定义条件。

C 项，小赵恐怕邮件有病毒，没有打开就将其删除了（隐含：信息对用户是没有价值的），因此不是有效的 E-mail 营销，排除。

D 项，小高收到一封邮件，不是自己的邮箱地址（隐含：该信息不是基于用户许可），因此不是有效的 E-mail 营销，排除。

综合以上分析，只有 B 项是有效的 E-mail 营销。

所以，正确选项是 B。

67. 可更新资源是指能够通过自然力以某一增长率保持或增加蕴藏量的自然资源，如太阳能、大气、水等，当代人消费的数量不会使后代人消费的数量减少；又如森林、各种野生动植物等，不人为破坏基本上保持稳定。

根据上述定义，下列说法正确的是：

- A. 风吹绿了草原，草原是可更新资源
- B. 煤由太阳能转化而形成，因此是可更新资源
- C. 很多金属机械报废后可以回收，因此是可更新资源
- D. 地球上的淡水资源已经非常稀少，属于不可更新资源

【答案】A。解析：

本题是“属于型”与“不属于型”的组合型。要求确认四个备选项中归类正确的一项。

分析定义可知，要归类于“可更新资源”，必须符合以下条件：（1）通过自然力，（2）以某一增长率保持或增加蕴藏量，（3）自然资源。特别注意，本题题干中列举了不少“可更新资源”的例子，可以与备选项对照。

A 项，根据题干的举例，野生动植物是可更新资源。草原是野生植物资源，所以草原是可更新资源。由此可知 A 项的说法正确。

B 项说：煤由太阳能转化而形成。这是非常荒谬的。所以，B 项的说法不正确。

C 项，虽然报废的金属机械可以回收，但“金属机械”不是自然资源，因而不是可更新资源。由此可知 C 项的说法不正确。

D 项说：淡水属于不可更新资源。根据题干的举例，水是可更新资源。由此可知 D 项的说法不正确。

综合以上分析，只有 A 项的说法是正确的。

所以，正确选项是 A。

68. 定性思维是指根据事物的性质和属性来认识事物，确定和判断事物的思维方法。

根据上述定义，下列属于定性思维的是：

- A. 2005 年某省信息产业完成增加值 110 亿元，保持了较快的增长速度
- B. 由于循环经济带来了生态环境的改善，每年冬季近 2 万只白天鹅飞临某市
- C. 某镇做大做强织袜业，在许多大城市中一双袜子卖到 100 元的高价，说明其质量优良、品牌过硬
- D. 某市“十五”期间生产总值、财政收入、城镇居民人均可支配收入年均递增 25%以上，进出口贸易总额、海关“两税”收入年递增 35%以上，经济呈现出持续、健康、快速发展的良好势头

【答案】B。解析：

本题是“属于型”。要求找出属于“定性思维”的一项。定义的关键信息是：（1）根据事物的性质和属性，（2）认识、确定和判断事物。

A项根据“完成增加值110亿元”来判断“较快的增长速度”（隐含：是根据事物的数量，而不是根据事物的性质来判断事物），因而不属于定性思维，排除。

B项根据“循环经济带来了生态环境的改善”来判断事物（隐含：是根据事物的性质来判断事物），因而属于定性思维。

C项根据“一双袜子卖到100元的高价”来判断“质量优良、品牌过硬”（隐含：是根据事物的数量，而不是根据事物的性质来判断事物），因而不属于定性思维，排除。

D项根据“生产总值、财政收入、城镇居民人均可支配收入年均递增25%以上，进出口贸易总额、海关“两税”收入年递增35%以上”来判断“经济呈现出持续、健康、快速发展的良好势头”（隐含：是根据事物的数量，而不是根据事物的性质来判断事物），因而不属于定性思维，排除。

所以，正确选项是B。

69. 社会从众倾向是指当群体规范被成员接受以后就会成为控制和影响群体成员的手段，使成员在知觉、判断、信念和行为上表现出与群体中多数人相一致的现象。

根据上述定义，下列情况中没有社会从众倾向的是：

A. 小李因工作进度慢而被同事们责难，他只好利用业余时间加班赶上

B. 学生小李认为张老师对自己的期望值太高了，但一想老师就是老师，他表面上还是接受了

C. 春节长假前，小王准备假期旅游，但看到同事们都打算回家团聚也决定先回家团聚

D. 刘先生在旅游时看到有几个游客自觉地收集垃圾保护环境，心里很赞赏，但自己却不好意思做

【答案】B。解析：

本题是“不属于型”。要求从四个备选项中找出“没有社会从众倾向”的一个选项。

分析定义可知，要归类于“社会从众倾向”，必须符合以下条件：（1）群体规范被成员接受，（2）成员与群体中多数人相一致。

A项，小李接受了同事的责难，利用业余时间加班赶上，属于社会从众倾向。

B项，张老师对小李的期望不属于群体规范，因此，小李接受张老师期望值不属于社会从众倾向。

C项，小王受同事们影响决定先回家团聚，属于社会从众倾向。

D项，容易误选。刘先生对几个游客自觉收集垃圾的行为心里赞赏（隐含：大多数游客是未收集垃圾的，刘先生像大多数游客一样没有收集垃圾，是从大多数游客的“众”），所以，刘先生的行为属于社会从众倾向。

综合以上分析，只有B项不属于社会从众倾向。

所以，正确选项是B。

70. 实绩原则就是以下属的实绩为依据，给予适当方式的激励。

根据上述定义，下列情况遵循实绩原则的是：

A. 因为小赵是实验室里学历最高、能力最强的人员，所以他得到了高额奖金

B. 酒店员工小刘喜爱自己的工作，每天都情绪饱满、笑容可掬，受到经理的表扬

C. 推销员李小姐工作认真负责、兢兢业业，虽然销售额一般，但客户访问量远高于其他同事，因而被提拔

D. 某连锁洗衣店虽然收费较高，但因质量一流、服务周到，取得了同行中的最好利润，受到总公司的奖励

【答案】D。解析：

本题是“属于型”。要求从四个备选项中找出属于“遵循实绩原则”的一个选项。

分析定义可知，要归类于“实绩原则”，必须符合以下条件：（1）以下属的实绩为依据，（2）给予

适当方式的激励。

A 项，小赵因为学历最高、能力强而得到奖励，不是以下属的实绩为依据进行激励，没有遵循实绩原则。

B 项，小刘因为情绪饱满受到表扬，不是以下属的实绩为依据进行激励，没有遵循实绩原则。

C 项，李小姐销售额一般却被提拔，也不是以下属的实绩为依据进行激励，没有遵循实绩原则。

D 项，洗衣店因为“取得了同行中的最好利润”而受到总公司的奖励，符合实绩原则的两个定义条件，遵循了实绩原则。

综合以上分析，只有 D 项遵循实绩原则。

所以，正确选项是 D。

71. 危机管理策划是指为防止爆发危机或者危机发生后为减少、消除危机带来的风险与损失，通过策划手段使人更有效地掌握事物和社会舆论的一些办法与措施的综合过程。

根据上述定义，下列不属于危机管理策划的一项是：

A. 听到海啸警报后，海边的游客飞快地向高处撤离

B. 李平参加考试时，特意带了两支铅笔以备万一

C. 面对突如其来的地震，小张被震倒在地，所幸躲过一劫

D. 某企业因负债累累，无力清偿到期债务，向法院提出破产申请

【答案】C。解析：

本题是“不属于型”。要求从四个备选项中找出不属于“危机管理策划”的一个选项。

分析定义可知，要归类于“危机管理策划”，必须符合以下条件：（1）防止爆发危机或者危机发生后为减少、消除危机带来的风险与损失，（2）通过策划手段，（3）有效地掌握事物和社会舆论的办法与措施。

A 项的“海啸警报”，B 项的“李平带两支铅笔以备万一”，D 项的“某企业因负债提出破产申请”，都是为了减少或消除危机风险与损失的策划手段，因而都属于危机管理策划。

C 项的小张“被震倒在地而躲过一劫”，这是一个偶然事件，没有通过策划手段，因而不属于危机管理策划。

综合以上分析，只有 C 项不属于危机管理策划。

所以，正确选项是 C。

72. 企业信息化是指企业利用现代信息技术，通过深化开发和广泛利用信息资源，不断提高生产、经营、管理、决策效率和水平的过程。

根据上述定义，下列不属于企业信息化的是：

A. 学校建立计算机网络平台使校内信息资源得到充分利用

B. 将全部企业业务乃至全部企业管理实现信息化的计算机集成制造系统

C. 将离散型和流程型生产的质量、设施、控制、数据和通信等结合起来，实现广泛的管理信息集成

D. 制定原材料零部件采购加工计划，以保证能在规定的时间、地点得到需要的物料数量，并引进计算机进行辅助管理

【答案】A。解析：

本题是“不属于型”。要求从四个备选项中找出不属于“企业信息化”的一个选项。

分析定义可知，要归类于“企业信息化”，必须符合以下条件：（1）企业，（2）利用现代信息技术，通过深化开发和广泛利用信息资源，（3）不断提高生产、经营、管理、决策效率和水平。

很明显，A 项的主体是学校，学校不是企业，不属于企业信息化。B、C、D 项都符合企业信息化的条件，属于企业信息化。

所以，正确选项是 A。

73. 印象管理是指一个人通过一定的方式影响别人形成的对自己的印象的过程，它是自我调节的一个重要方面，也包括了与他人的社会互动，是自我认知观点的核心。人类的一种基本动机是，不论个体在组织内部还是组织外部，都渴望被别人积极看待，避免被别人消极看待，试图使别人积极看待自己的努力叫获得性印象管理；而尽可能弱化自己的不足或避免使别人消极地看待自己的防御性措施是保护性印象管理。

下列属于保护性印象管理的是：

- A. 林处长平易近人，总是以身作则，最近单位为灾区募捐，他捐的钱物最多
- B. 小张新来单位，对老员工孟某的意见总是虚心接受，并常常表示自己很佩服他
- C. 小李工作后朋友很少，但他对同事说，他在大学读书时，学习和体育非常好，朋友也很多
- D. 公司领导分配给小王一项任务，小王很久没有完成。领导催促他时，他说：“这段时间我很忙，我会尽力完成。”

【答案】C。解析：

本题是“属于型”。要求从四个备选项中找出属于“保护性印象管理”的一个选项。

题干中给出了两个并列的定义：获得性印象管理、保护性印象管理。这种情况可以称为双定义。因为两个定义容易混淆，所以需要仔细辨析。

分析定义可知，归类于“获得性印象管理”的条件是：试图使别人积极看待自己。归类于“保护性印象管理”的条件是：弱化自己的不足，避免别人消极地看待自己。

A项，林处长捐款多，试图使别人积极看待自己，属于获得性印象管理。

B项，小张虚心接受老员工的意见，试图使别人积极看待自己，属于获得性印象管理。

C项，小李朋友少，这是他的不足，他对同事说自己在大学读书朋友很多，试图弱化自己的不足，避免别人消极地看待自己，属于保护性印象管理。

D项，从内容看，小王没有进行印象管理。

综合以上分析，只有C项属于保护性印象管理。

所以，正确选项是C。

74. 借口就是承认活动本身是错的，但是当事人否认他应当承担责任。辩解则是承认应当对活动承担责任，但是当事人否认这项活动是错的。面对失败的事件时，人们使用借口以尽可能地减轻自己应当承担的责任；而人们使用辩解的目的是试图重新界定有争议的行动，使之看起来不至于太差。

根据上述定义，下列属于辩解的是：

- A. 小李失去了一笔业务，给公司造成了一定损失。他说，这是由于他腿伤发作迟到了半个小时造成的
- B. 某部门工作出现失误，其负责人说：“他们做决定时根本就没有征求我的意见，我对此一无所知。”
- C. 某国消费者对在包装中加入一氧化碳使肉类看起来红润新鲜的做法表示质疑，但该国食品管理局称这种做法“总体上”是安全的
- D. 某公司产品出现质量问题，声明说这是由于他们使用了其他公司生产的不合格部件造成的

【答案】C。解析：

本题是“属于型”。要求从四个备选项中找出属于“辩解”的一个选项。

题干中给出了两个并列的定义：借口、辩解。因为这两个定义容易混淆，所以需要仔细辨析。

分析定义可知，归类于“借口”的条件是：承认活动本身是错的，但是当事人否认应当承担责任。

归类于“辩解”的条件是：承认应当对活动承担责任，但是当事人否认活动是错的。

A、B、D三项都承认活动本身是错的，且当事人都在为减轻或免除自己应承担的责任寻找借口。由此可知A、B、D三项都属于借口，排除。

C项，食品药品监督管理局称这种做法“总体上”是安全的（隐含：否认活动是错的）。所以，属于辩解。

综合以上分析，只有C项属于辩解。

所以，正确选项是C。

75. 行政征用是指行政机关为了公共利益和公共目的，依法强制获得公民、法人财产的使用权或所有权、并给予其合理补偿的一种行政法律制度。

根据上述定义，下列不属于行政征用的是：

A. 两年前镇建的一个经济开发园区用了杨军家的承包地，杨军经多次努力拿到了合理的补偿

B. 某公安机关在破案时，由于情况紧急，使用了王某的摩托车，后来支付给王某一些费用

C. 一项国家重点工程项目需占用某市农民的土地，当地政府给予被征用土地的农民各种补偿费用与安置费，并对多余的劳动力进行了安置

D. 某地发生洪灾，为了抗洪，政府从几个建筑公司调集了沙子，给予他们一定的补偿

【答案】A。解析：

本题是“不属于型”。要求从四个备选项中找出不属于“行政征用”的一个选项。

分析定义可知，要归类于“行政征用”，必须符合以下条件：（1）行政机关，（2）为了公共利益和公共目的，（3）依法强制获得公民、法人财产的使用权或所有权，（4）给予其合理补偿。

很明显，A项的经济开发园区不是行政机关，其用地行为不属于行政征用。

所以，正确选项是A。

三、类比推理。先给出一组或多组相关的词，要求你在备选答案中找出一组与之在逻辑关系上最为贴近、相似或匹配的词。

76. 太空：卫星

A. 铁轨：火车

B. 公路：自行车

C. 机场：直升飞机

D. 城市：公共汽车

【答案】A。解析：

题干表述的关系是：卫星只能在太空中运行。A项的关系与此相同：火车只能在铁轨上运行。

所以，正确选项是A。

77. 阳光：紫外线

A. 电脑：辐射

B. 海水：氯化钠

C. 混合物：单质

D. 微波炉：微波

【答案】B。解析：

题干表述的关系是：阳光中含有紫外线。B项的关系与此相同：海水含有氯化钠。

所以，正确选项是B。

78. 正方形：边长

A. 矩形：对角线

B. 菱形：高

C. 圆形：半径

D. 三角形：底边

【答案】C。解析：

题干表述的关系是：正方形的大小由边长确定。C项的关系与此相同：圆的大小由半径确定。

所以，正确选项是C。

79. 盐：咸

A. 花：香

B. 丝：棉

C. 光：亮

D. 墨：臭

【答案】C。解析：

题干表述的关系是：盐是咸的。C项的关系与此相同：光是亮的。

所以，正确选项是 C。

80. 七夕：织女

- A. 除夕：晚会 B. 清明：先烈 C. 重阳：茱萸 D. 端午：屈原

【答案】D。解析：

题干表述的关系是：七夕因织女而设。D 项的关系与此相同：端午因屈原而设。

所以，正确选项是 D。

81. 时钟：手表

- A. 电脑：鼠标 B. 火车：飞机 C. 电视机：遥控器 D. 录音机：收音机

【答案】B。解析：

题干表述的关系是：时钟和手表都是钟表。B 项的关系与此相同：火车和飞机都是交通工具。

所以，正确选项是 B。

82. 窗帘：隐私

- A. 文件：机密 B. 日记：心情 C. 消防栓：火警 D. 防护栏：安全

【答案】D。解析：

题干表述的关系是：窗帘可以保护隐私。D 项的关系与此相同：防护栏可以保护安全。

所以，正确选项是 D。

83. 家父：父亲

- A. 老妪：老伴 B. 鼻祖：祖宗 C. 作者：笔者 D. 鄙人：自己

【答案】D。解析：

题干表述的关系是：“家父”是对别人称呼自己父亲的谦辞。D 项的关系与此相同：“鄙人”是对别人称呼自己的谦辞。

所以，正确选项是 D。

84. 消毒：手术

- A. 动员：开会 B. 生产：销售 C. 启动：驾驶 D. 彩排：演出

【答案】C。解析：

题干表述的关系是：手术前必须消毒。C 项的关系与此相同：驾驶前必须启动。

所以，正确选项是 C。

85. 枪：子弹

- A. 汽车：汽油 B. 门：窗户 C. 桌子：椅子 D. 表带：手表

【答案】A。解析：

题干表述的关系是：枪有子弹才能射击。A 项的关系与此相同：汽车有汽油才能行驶。

所以，正确选项是 A。

四、逻辑判断。每题给出一段陈述，这段陈述被假设是正确的，不容置疑的。要求你根据这段陈述，选择一个答案。注意，正确的答案应与所给的陈述相符合，不需要任何附加说明即可以从陈述中直接推出。

86. 许多上了年纪的老北京都对小时候在庙会上看到的各种绝活念念不忘。如今，这些绝活有了更为正式的称呼——民间艺术。然而，随着社会现代化进程加快，中国民俗文化面临前所未有的生存危机，

城市环境不断变化，人们的兴趣及爱好快速分流和转移，加上民间艺术人才逐渐流失，这一切都使民间艺术发展面临困境。

从这段文字可以推出：

- A. 市场化是民间艺术的出路
- B. 民俗文化需要抢救性保护
- C. 城市建设应突出文化特色
- D. 应提高民间艺术人才的社会地位

【答案】B。解析：

本题属于推断文意型。要求找出“可以推出”的一个选项。

题干说“民俗文化面临生存危机”，“民间艺术发展面临困境”。既然民俗文化面临困境，我们应该怎么办呢？很自然地可以推出B项“民俗文化需要抢救性保护”。

所以，正确选项是B。

87. 盛世兴收藏。随着物质生活的改善，人们的精神需求更加丰富，神州大地兴起了收藏热。然而，由于过多地掺入了功利色彩，热得多少有些浮躁，热得缺少点文化的灵魂。最近，北京举办了几次“鉴宝”活动，请专家为民间收藏者鉴别藏品。挟“宝”而来者甚众，真正淘到真品的，寥寥无几；一些人耗资数万、数十万，却看走了眼，得到的只是赝品。

从这段文字可以推出：

- A. 收藏需要具备专业知识
- B. 收藏需要加以正确引导
- C. 收藏市场亟需一批专业“鉴宝”人才
- D. “鉴宝”活动有利于净化收藏市场

【答案】B。解析：

本题属于推断文意型。要求找出“可以推出”的一个选项。

题干说：收藏热存在许多不正常的现象，“掺入了功利色彩，热得多少有些浮躁，热得缺少点文化的灵魂”。面对收藏热出现的这么多不正常现象，应该怎么办呢？很显然应该是B项所说的“收藏需要加以正确引导”。

所以，正确选项是B。

88. 公司有人建议，只要员工都在承诺书上签字承诺不迟到，公司就取消上下班打卡制度，如果有人迟到，那么所有员工的当月奖金均被扣除。公司采纳了建议，结果还是有员工迟到，但员工小刘仍拿到了当月奖金。

从这段文字可以推出：

- A. 小刘从未迟到过
- B. 其他员工没有拿到奖金
- C. 公司有人没在承诺书上签字
- D. 迟到的人不是该公司的正式员工

【答案】C。解析：

本题属于逻辑推理型。

题干的逻辑思路可以整理为一个充分条件假言推理的“否定后件式”：

只要员工都在承诺书上签字承诺不迟到，公司就取消上下班打卡制度；

结果还是有员工迟到（隐含：公司没有取消上下班打卡制度。由此可以否定充分条件假言前提的后件）；

所以，员工并没有都在承诺书上签字承诺不迟到。（否定充分条件假言前提的前件）

根据性质命题的对当关系，从“员工并没有都在承诺书上签字承诺不迟到”可以推出C项：有些员工没有在承诺书上签字。

所以，正确选项是C。

89. 研究发现，人类利用婴儿和成人之间形态上的典型差异作为重要行为线索。幼年的特征可以唤起成年人的慈爱和养育之心。许多动物的外形和行为具有人类婴儿的特征，人们被这样的动物所吸引，

把它们培养成宠物。

这一结论最适宜用来解释的现象是：

- A. 某些对童年时代过分留恋的人会在穿衣打扮方面表现出明显幼稚化的倾向
- B. 子女长大成人离开家庭后，老人们喜欢养宠物，寄托抚爱之情，打发寂寞时光
- C. 长期以来，迪斯尼的艺术家赋予温良可爱的卡通形象米老鼠越来越年轻化的外形
- D. 在生活方面被过度照顾的孩子，心理成长会受到一定影响，往往表现得比较脆弱

【答案】B。解析：

本题属于解释型。注意，本题不是用选项来解释题干，而是用题干的结论来解释选项。阅读可知，题干的结论是：幼年的特征可以唤起成年人的慈爱和养育之心。

B项说“子女长大成人离开家庭后，老人们喜欢养宠物”。为什么在子女长大成人离开家庭后，老人们喜欢养宠物呢？用题干的结论能很好地解释这个现象，那就是因为“幼年的特征可以唤起成年人的慈爱和养育之心”，老人们通过饲养宠物，以寄托自己的抚爱之情。

所以，正确选项是B。

90. 在许多鸟群中，首先发现捕食者的鸟会发出警戒的叫声，于是鸟群散开。有一种理论认为，发出叫声的鸟通过将注意力吸引到自己身上而拯救了同伴，即为了鸟群的利益而自我牺牲。

最能直接削弱上述结论的一项是：

- A. 许多鸟群栖息时，会有一些鸟轮流担任警戒，危险来临时发出叫声，以此增加群体的生存机会
- B. 喊叫的鸟想找到更为安全的位置，但是不敢擅自打破原有的队形，否则捕食者会发现脱离队形的单个鸟
- C. 危险来临时，喊叫的鸟和同伴相比可能处于更安全的位置，它发出喊叫是为了提醒它的伴侣
- D. 鸟群之间存在亲缘关系，同胞之间有相同的基因，喊叫的鸟虽然有可能牺牲自己，但却可以挽救更多的同胞，从而延续自己的基因

【答案】B。解析：

本题属于削弱型。

题干的结论是：发出叫声的鸟为了鸟群的利益而自我牺牲。考生需要做的就是找出最能削弱这个结论的一个选项。怎样才能削弱这个结论呢？只要指出“发出叫声的鸟并不是为了鸟群的利益而自我牺牲”就可以了。

B选项说“喊叫的鸟想找到更为安全的位置”（隐含：鸟鸣叫并不是为了保护鸟群利益而自我牺牲），这就直接削弱了题干的结论。

所以，正确选项是B。

91. 读者上网阅读各类网络小说已成为阅读新时尚，“点击率小说”在网络小说的基础上脱颖而出，成为一种新的出版模式。网络上的作品因为高点击率走红出版，网络写手可以获得版税。网站因为人气赚取高点击率；出版社因为高点击率和人气判断市场，赢得市场销售业绩。为了获得更高的点击率，有的专业写手甚至根据出版商的需要来写书。

根据这段文字，无法推出的是：

- A. 网络阅读将逐步取代传统的阅读模式
- B. 点击率小说受到网站和出版商的大力欢迎
- C. 网络写手必须满足读者需求，作品才会有较高的点击率
- D. 点击率小说使网络写手、网站与出版社建立起“三赢”的出版模式

【答案】A。解析：

本题属于语义推理型。要求找出“无法推出”的一个选项。

阅读可知，题干只是说“读者上网阅读各类小说已成为阅读新时尚”，但是并没有把网络阅读与传

统的阅读模式进行比较。因此我们可以知道，选项 A 所说的“网络阅读将逐步取代传统的阅读模式”无法从这段文字中推出。

所以，正确选项是 A。

92. 一本仅用十几万字写出中国上下五千年文明史的普及读物《中国读本》，继在我国创下累计发行 1000 余万册的骄人成绩后，又开始走出中国，走向世界。

根据这段文字，可以推出的是：

- A. 历史图书应该走普及化、大众化道路
B. 越来越多的外国人对中国历史感兴趣
C. 《中国读本》可能授权国外出版商出版
D. 越是大众的、越是民族的，越容易走向世界

【答案】C。解析：

本题属于语义推理型。要求找出“可以推出”的一个选项。

阅读可知，题干讨论的对象是《中国读本》，符合次要求的选项只有 C 项。

所以，正确选项是 C。

93. 水上滑板风驰电掣，五彩缤纷，受到广泛欢迎。它能把一只小船驶向任何地方，年轻人对此颇为青睐。这一项目的日益普及产生了水上滑板的管理问题。在这个问题上，我们不能不倾向于对之进行严格管制的观点。

根据这段文字，可以推出的是：

- A. 水上滑板的普及带来了管理难题
B. 年轻人是水上滑板管理的主要对象
C. 水上滑板如何管理目前尚无定论
D. 严格管制将进一步推动水上滑板的普及

【答案】C。解析：

本题属于语义推理型。要求找出“可以推出”的一个选项。

题干说“在这个问题上，我们不能不倾向于对之进行严格管制的观点”，从这句话我们可以推知，既然作者倾向于“严格管制”的观点，那么就肯定还有其他的不同观点，也就是 C 项所说的“水上滑板如何管理目前尚无定论”。

所以，正确选项是 C。

94. 信任离不开互相尊重，信任是保持长期人际关系的基础。但是某些私人关系的维持，例如友谊，还需要有共同的爱好。长期的友谊离不开互相尊重和共同爱好的支持。

根据这段文字，可以知道：

- A. 在长期的人际关系中，互相尊重意味着信任
B. 仅由信任和互相尊重支撑的友谊不会持续太久
C. 建立在共同爱好基础上的友谊会比其他关系更持久
D. 由互相尊重和共同爱好支撑的私人关系总会持续很久

【答案】B。解析：

本题属于语义推理型。要求找出“可以知道”的一个选项。

题干说“长期的友谊离不开互相尊重和共同爱好的支持”，从这句话我们可以知道，互相尊重和共同爱好是维持长期友谊不可缺少的两个条件，缺少任何一个条件友谊都不可能长久。B 项说“仅由信任和互相尊重（隐含：缺少共同爱好）支撑的友谊不会持续太久”，这与题干文意完全相符。

所以，正确选项是 B。

95. 2004 年，在全球范围内，笔记本电脑的销售量为 4900 万台，几乎是 2000 年销售量的 2 倍，在市场上的占有率从 20.3% 上升至 28.5%，与此同时，成本从每台 2126 美元下降至 1116 美元。分析人士预测，到 2008 年，笔记本电脑的销售量将会超过台式电脑的销售量。

最能支持上述论断的一项是：

- A. 新型的台式电脑即将问世
- B. 中国已成为笔记本电脑的消费大国
- C. 市场对笔记本电脑的需求仍将持续上升
- D. 价格已成为影响笔记本电脑销售的重要因素

【答案】D。解析：

本题属于搭桥型。

题干陈述的论断是：到 2008 年，全球范围内笔记本电脑的销售量将会超过台式电脑的销售量。论据是：笔记本电脑的成本从每台 2126 美元下降至 1116 美元。仅仅因为“笔记本电脑价格下降”，就能推测出“笔记本电脑的销售量将会超过台式电脑的销售量”这个结论吗？从现有的理由看，二者之间是缺乏必然联系的。考生的任务就是在它们之间“搭桥”。

要在二者之间搭桥，关键是在“笔记本电脑价格下降”与“笔记本电脑销量上升”之间建立联系。根据“加入否定法”可知，D 项是题干推出结论不可缺少的“桥”。否则，如果“价格并不是影响笔记本电脑销售的重要因素”，那么，根据题干前提就不可能得出结论了。由此可知，如果 D 项为真，最能支持上述推测。

所以，正确选项是 D。

第四部分 常识判断

(共 25 题，参考时限 10 分钟)

根据题目要求，在四个选项中选出一个正确答案。

96. 民族区域自治制度、特别行政区制度是我国宪法制度中具有自身特色的两项制度。

下列对这两项制度的表述不正确的是：

- A. 民族自治地方包括自治区、自治州、自治县
- B. 自治区可以制定自治条例、单行条例，报全国人大常委会批准后生效
- C. 特别行政区行政长官在当地通过选举或协商产生，由中央人民政府任命
- D. 特别行政区的高度自治权包括立法权、行政管理权、独立的司法权和终审权、独立的外交权

【答案】D。解析：

本题属于法理人情型。要求找出对“民族区域自治制度和特别行政区制度”这两项制度“表述不正确”的一个选项。

D 项说：特别行政区的高度自治权包括“独立的外交权”。不需要专业的法律知识，凭一般的社会常识我们就可以确定 D 项是错误的。特别行政区只是我国的地方行政区域，怎么可能享有独立的外交权呢？

所以，正确选项是 D。

相关法律《香港特别行政区基本法》第 13 条规定：中央人民政府负责管理与香港特别行政区有关的外交事务。中华人民共和国外交部在香港设立机构处理外交事务。中央人民政府授权香港特别行政区依照本法自行处理有关的对外事务。

97. 小李是某市工商局副局长，因工作需要派到某国有企业担任一定职务，在该国有企业工作时间为一年，工作期间，其人事行政关系仍在原单位，这种公务员交流的形式称为：

- A. 调任
- B. 转任
- C. 轮岗
- D. 挂职锻炼

【答案】D。解析：

本题属于法理人情型。

不需要专业的法律知识，凭一般的社会常识我们就可以确定，小李作为某市工商局副局长去国有企业担任一定职务，其人事行政关系仍在原单位的情况属于 D 项的“挂职锻炼”。

所以，正确选项是 D。

相关法律《公务员法》第 66 条规定：根据培养锻炼公务员的需要，可以选派公务员到下级机关或者上级机关、其他地区机关以及国有企业事业单位挂职锻炼。公务员在挂职锻炼期间，不改变与原机关的人事关系。

98. 我国宪法规定了公民的基本权利和义务，公民在法律面前一律平等，下列关于我们公民基本权利的表述，不正确的是：

- A. 国家培养和选拔妇女干部，实行男女同工同酬
- B. 年满 18 周岁，未被剥夺政治权利的中国公民均享有选举权和被选举权
- C. 社会、经济、文化教育方面的权利不包括公民年老、疾病、丧失劳动能力时的物质帮助权
- D. 国家保护华侨的正当权益，保护归侨和侨眷的合法权益

【答案】C。解析：

本题属于法理人情型。要求考生确定 4 个备选项中对我国公民基本权力表述“不正确”的一项。

对于公民的基本权利，虽然我国宪法有明确规定，但是本题涉及的条款很多，如果完全依赖适用相关的法律规定，一项一项地去排除，首先可能是法条不熟，其次可能要耗费太多时间。

其实不需要专业的法律知识，凭一般的社会常识我们就可以快速确定 C 项不正确。为什么呢？C 项说：社会、经济、文化教育方面的权利不包括公民年老、疾病、丧失劳动能力时的物质帮助权。这是多么荒谬啊！如果你不能直接作出判断，应该是太不敏感了。

所以，正确选项是 C。

相关法律《中华人民共和国宪法》第 45 条规定：“中华人民共和国公民在年老、疾病或者丧失劳动能力的情况下，有从国家和社会获得物质帮助的权利。”

99. 某市政府所属 A 行政机关作出行政处罚决定后被撤销，其职能由市政府所属 B 行政机关继续行使，受到行政处罚的公民不服，准备提起行政复议，此时他应以（ ）为行政复议被申请人。

- A. A 机关
- B. B 机关
- C. 市政府
- D. 省政府

【答案】B。解析：

《行政诉讼法》第 25 条规定：行政机关被撤销的，继续行使其职权的行政机关是被告。参照此规定，公民应该以继续行使其职能的 B 行政机关作为行政复议被申请人。

所以，正确选项是 B。

100. 下列规范性文件中不得设定行政许可的是：

- A. 法律
- B. 县级政府的决定
- C. 行政法规
- D. 地方性法规

【答案】B。解析：

本题属于法律规定型。要求考生找出 4 个备选项中“不得设定行政许可”的一项。

对于这个问题，《行政许可法》第 14 条、第 15 条规定：设定行政许可只能采用法律、行政法规和地方性法规的形式，其他规范性文件一律不得设定行政许可。根据这个规定，B 项“县级政府的决定”不得设定行政许可。

所以，正确选项是 B。

101. 孙某委托吴某为代理人购买一批货物，吴某的下列行为中，违反法律法规的是：

- A. 吴某生重病，停止了购买货物事宜，并通知了孙某
- B. 及时将购买货物过程中的情况报告给孙某
- C. 经孙某同意，另行委托林某，办理购买事宜

D. 与陆某恶意串通，以明显不合理的高价格购入货物

【答案】D。解析：

本题属于法理人情型。要求根据案情找出吴某的行为中违反法律法规的一项。

无需专业的法律知识，凭借一般的社会常识我们就可以确定D项是违反法律规定的。吴某作为孙某的委托代理人，却与陆某恶意串通，以明显不合理的高价格购入货物。这种行为的违法性是显而易见的。所以，正确选项是D。

相关法律《中华人民共和国民法通则》第 66 条规定：“代理人和第三人串通，损害被代理人的利益的，由代理人和第三人负连带责任。”

102. 我国刑法规定的完全刑事责任年龄是：

A. 14 周岁

B. 16 周岁

C. 18 周岁

D. 20 周岁

【答案】B。解析：

本题属于法律规定型。

对于刑事责任年龄问题，《刑法》有如下规定：（1）不满 14 周岁的人，一律不负刑事责任。此即绝对无刑事责任时期或完全无刑事责任时期。（2）已满 14 周岁不满 16 周岁的人，犯故意杀人、故意伤害致人重伤或者死亡、强奸、抢劫、贩卖毒品、放火、爆炸、投放危险物质罪的，应当负刑事责任。此即相对负刑事责任时期。（3）已满 16 周岁的人犯罪，应当负刑事责任。此即完全负刑事责任时期。（4）已满 14 周岁不满 18 周岁的人犯罪，应当从轻或者减轻处罚。此即减轻刑事责任时期。

由此可见，我国刑法规定的完全刑事责任年龄是 16 周岁。

所以，正确选项是 B。

103. 下列关于肖像权的表述中，不正确的是：

A. 法人也有肖像权

B. 公民的肖像权受到侵犯时，有权请求精神损害赔偿

C. 使用公民的肖像，应当按照合同约定的用途和规定进行

D. 公民享有肖像权，未经本人同意，不得以营利为目的使用公民的肖像

【答案】A。解析：

本题属于法理人情型。要求考生找出 4 个备选项中关于肖像权的表述“不正确”的一项。

无需专业的法律知识，凭借一般的生活常识我们就可以确定A项的表述是不正确的。或许我们不清楚肖像权的准确定义，但是起码应该知道肖像权与人的相貌形象有关吧。A项所说的“法人”并不是人，而是一种组织，不可能有相貌形象，当然也就不可能有肖像权。

所以，正确选项是A。

相关法律《中华人民共和国民法通则》第 36 条规定：法人是具有民事权利能力和民事行为能力，依法独立享有民事权利和承担民事义务的组织。

104. 按照我国有关规定，遗产继承的第一顺序继承人为：

A. 配偶子女父母

B. 兄弟配偶子女

C. 子女父母兄弟

D. 父母兄弟配偶

【答案】A。解析：

本题属于法理人情型。要求考生确定“遗产继承的第一顺序继承人”是哪些人。

无需专业的法律知识，按照生活常识也应该能够快速做出判定。比较 4 个选项，其中 B、C、D 三项中有的缺少父母，有的缺少配偶，有的缺少子女，却都包含了一个“兄弟”继承人。一般地说，与兄弟的关系不如与父母、配偶、子女密切，由此可以排除 BCD 三项。

所以，正确选项是 A。

相关法律《中华人民共和国继承法》第 10 条规定，遗产继承的第一顺序是：配偶、子女、父母。

105. 赵某与黄某 2003 年 1 月结婚，2005 年 10 月协议离婚，但在财产分配上发生争议，下列不属于夫妻共同财产的是：

- A. 2004 年 8 月黄某出版一部小说所获得的稿费 1 万元
- B. 2005 年 3 月赵某因车祸受伤所得到的医疗费用赔偿 2 万元
- C. 2003 年 6 月赵某父母赠与赵某、黄某一幢房屋，价值 25 万元
- D. 2004 年 12 月，赵某与黄某共同购置的一套高档家具，价值 4 万元

【答案】B。解析：

《婚姻法》第 18 条规定：一方因身体受到伤害获得的医疗费、残疾人生活补助费等费用，为夫妻一方的财产。分析 4 个备选项可以看出，选项 B 所说“赵某因车祸受伤所得到的医疗费用赔偿 2 万元”符合《婚姻法》第 18 条之规定，属于夫妻一方的财产，不属于夫妻共同财产。

所以，正确选项是 B。

106. 下列关于有限责任公司的监事会的表达，不正确的是：

- A. 公司的董事长、总经理可以兼任监事
- B. 监事会应当包括股东代表和适当比例的职工代表
- C. 监事须忠实履行服务，维护公司利益，不得利用职权牟取私利
- D. 股东人数较少或规模较小的有限责任公司可设一至二名监事，不设监事会

【答案】A。解析：

本题属于法理人情型。考查对“有限责任公司监事会”的表述，要求考生找出“不正确”的一个选项。

即使考生不熟悉相关的法律规定，也能根据生活常识迅速作出判断。什么是“监事会”？顾名思义，应该是有限责任公司的监督机构，其职责当然包括对董事长、总经理的监督。如果董事长、总经理可以兼任监事，岂不是自己监督自己了吗？由此可知，公司的董事长、总经理不能兼任监事，因此，A 选项的表述是不正确的。确定了 A 选项的表述不正确，其他三个选项也就不再用逐一判断了。

所以，正确选项是 A。

相关法律《公司法》第 52 条规定：董事、高级管理人员不得兼任监事。

107. 关于股份和股票的以下表述，不正确的是：

- A. 股票可以流通并可以设置质押
- B. 股票是证明股东权利的有价证券
- C. 股票是股份的存在形式，股份是股票的价值内容
- D. 股票的形式、记载事项可以由发行股票的公司自行决定

【答案】D。解析：

本题属于法理人情型。要求考生确定 4 个备选项中对股票和股份表述“不正确”的一项。

即使考生不熟悉股份和股票的概念，也应该能够根据生活常识迅速判定 D 项的表述是不正确的。可以想象，如果像 D 项所说的那样，“股票的形式、记载事项可以由发行股票的公司自行决定”，那恐怕就要经济大乱了。确定了 D 项的表述不正确，其他三个选项也就不再用逐一判断了。

所以，正确选项是 D。

相关法律《公司法》第 129 条规定：股票采用纸面形式或者国务院证券监督管理机构规定的其他形式。股票应当载明下列主要事项：（一）公司名称；（二）公司成立日期；（三）股票种类、票面金额

及代表的股份数；（四）股票的编号。

108. 如果两个以上行政机关共同作出一具体行政行为，当事人对该具体行政行为如何提起行政诉讼？

- A. 必须以作出具体行政行为的行政机关的共同上级行政机关为被告
- B. 可以以共同作出具体行政行为的任何一个行政机关为被告
- C. 必须以共同作出具体行政行为的行政机关为共同被告
- D. 可以以作出具体行政行为的行政机关的共同上级行政机关为被告

【答案】C。解析：

《行政诉讼法》第 25 条有明确规定：两个以上行政机关作出同一具体行政行为的，共同作出具体行政行为的行政机关是共同被告。

所以，正确选项是 C。

109. 根据我国《商标法》的有关规定，不可以作为商标申请注册的是：

- A. 数字
- B. 三维标志
- C. 颜色组合
- D. 音乐

【答案】D。解析：

本题属于法理人情型。考查《商标法》有关商标注册的规定，要求考生找出“不可以作为商标申请注册”的一个选项。

即使考生不熟悉有关的法律规定，也应该能够根据生活常识迅速作出判断。回忆一下，我们曾经见过各种各样的商标，有文字的，有图形的，也有文字与图形组合的，但是却从来没有见过音乐商标。由此可以确认 D 项“音乐不能作为商标申请注册”。

所以，正确选项是 D。

110. 下列关于诉讼程序的选项中，可以适用简易程序审理的是：

- A. 发回重审的案件
- B. 共同诉讼中，原告一方有 50 人
- C. 甲起诉乙，要求乙返还借款 3000 元，但起诉时乙下落不明
- D. 甲起诉乙合同违约，当事人双方对争议的事实陈述基本一致，无原则分歧

【答案】D。解析：

本题要求考生确定 4 个备选项中可以适用简易程序审理的一个案件。

关于简易程序，《民事诉讼法》第 142 条规定：“基层人民法院和它派出的法庭审理事实清楚、权利义务关系明确、争议不大的简单的民事案件，适用本章规定。”即适用简易程序。《最高人民法院关于适用简易程序审理民事案件的若干规定》列举了五类不适用简易程序的案件：起诉时被告下落不明的；发回重审的；共同诉讼中一方或双方当事人人数众多的；法律规定应当适用特别程序、审判监督程序、督促程序、公示催告程序和企业法人破产还债程序的；人民法院认为不宜适用简易程序进行审理的。

根据以上规定分析 4 个选项，只有 D 项案件可以适用简易程序审理。

所以，正确选项是 D。

111. 甲和乙因合同纠纷诉至法院，诉讼过程中发现下列情形，不应回避的是：

- A. 证人刘某，是乙的妻子
- B. 审判员王某，是甲的哥哥
- C. 合议庭审判员于某与该案的审理结果有利害关系
- D. 合议庭组成人员中的陪审员周某，是甲的弟弟

【答案】A。解析：

本题属于法理人情型。要求考生根据案情确定“不应回避”的一项。

即使我们不熟悉有关的法律规定,也应该能够根据生活常识迅速判断A项中的证人刘某不需要回避。为什么呢?B、C、D都是针对审判人员说的,他们作为审判人员,有的是当事人的亲属,有的与案件审理结果有利害关系,如果不回避,势必会影响审判的公平、公正,因此,他们都必须回避。

所以,正确选项是A。

相关法律《民事诉讼法》第45条规定:审判人员有下列情形之一的,必须回避,当事人有权用口头或者书面方式申请他们回避:(一)是本案当事人或者当事人、诉讼代理人的近亲属;(二)与本案有利害关系;(三)与本案当事人有其他关系,可能影响对案件公正审理的。前款规定,适用于书记员、翻译人员、鉴定人、勘验人。

112. 某人因犯罪被判处剥夺政治权利一年,在此期间,他依法可以行使下列哪些权利或实施哪些行为?

- A. 选举权和被选举权 B. 担任国家机关的公务员
C. 担任某公办大学的普通教师 D. 言论、集会、出版、结社、游行、示威自由的权利

【答案】C。解析:

本题要求确认某人在被剥夺政治权力期间尚能行使的权利或实施的行为。

对于剥夺政治权利,《中华人民共和国刑法》第54条有明确规定,剥夺政治权利是剥夺下列权利:(一)选举权和被选举权;(二)言论、出版、集会、结社、游行、示威自由的权利;(三)担任国家机关职务的权利;(四)担任国有公司、企业、事业单位和人民团体领导职务的权利。

根据以上规定,只有C项是某人尚能实施的行为。

所以,正确选项是C。

错题分析:

根据《中华人民共和国教师法》第14条规定:受到剥夺政治权利或者故意犯罪受到有期徒刑以上刑事处罚的,不能取得教师资格;已经取得教师资格的,丧失教师资格。

如果按照这项规定,某人因犯罪被判处剥夺政治权利一年,那么他也不能担任某公办大学的普通教师,则C项也不正确。从而导致本题没有正确的选项,成为一道错题。

可能命题人仅仅考虑了《刑法》的规定,而忽视了《教师法》的规定,从而导致试题出现了瑕疵。

113. 下列人员中,可暂予监外执行的是:

- A. 马某被判拘役,其声称女儿正在读小学,需要其接送
B. 周某被判无期徒刑,在狱中多次自杀未遂,致使生活不能自理
C. 刘某被判有期徒刑3年,服刑过程中患有严重疾病需要保外就医
D. 韩某被判处有期徒刑5年,其声称丈夫在外地工作,老母病重,儿子年幼,需要其照顾

【答案】C。解析:

本题属于法律规定型。考查的是“暂予监外执行”的适用条件。

对于这个问题,《刑事诉讼法》第214条规定,对于被判处有期徒刑或者拘役的罪犯,有下列情形之一的,可以暂予监外执行:(一)有严重疾病需要保外就医的;(二)怀孕或者正在哺乳自己婴儿的妇女。对于适用保外就医可能有社会危险性的罪犯,或者自伤自残的罪犯,不得保外就医。

根据以上规定,选项C中的刘某符合法定条件,可以暂予监外执行。

所以,正确选项是C。

114. 在对外贸易过程中,不是保护国内产业的合法手段的一项是:

- A. 反倾销措施 B. 反补贴措施 C. 保障措施 D. 拒绝进口

【答案】D。解析:

本题属于法理人情型。要求考生找出“不是保护国内产业的合法手段”的一个选项。

即使我们不熟悉有关的法律规定，也应该能够根据生活常识迅速作出判断。可以想象，在经济全球化的今天，如果采用“拒绝进口”这种闭关锁国式的手段来保护国内产业，不仅非常愚蠢，起不到保护作用，而且也明显违法。由此可知，D项的“拒绝进口”不可能是保护国内产业的合法手段。

所以，正确选项是D。

115. 我国《保守国家秘密法》将国家秘密的密级分为：

- A. 二级 B. 三级 C. 四级 D. 五级

【答案】B。解析：

《保守国家秘密法》第9条规定：国家秘密的密级分为“绝密”、“机密”、“秘密”三级。所以，正确选项是B。

116. 某大学在学校内进行道路维修，施工中没有设置道路整修警示标志，致过路学生受伤。对此，由（ ）承担责任。

- A. 该学校 B. 受害人自己
C. 该学校和受害人 D. 该学校的上级主管部门

【答案】A。解析：

《民法通则》第125条规定：在公共场所、道旁或者通道上挖坑、修缮安装地下设施等，没有设置明显标志和采取安全措施造成他人损害的，施工人应当承担民事责任。在本案中学校是施工人，由于学校的过失导致过路学生受伤，按照规定应该由学校承担责任。

所以，正确选项是A。

117. 在我国，下列所得中，可以免纳个人所得税的是：

- A. 保险赔款 B. 利息、股息、红利所得
C. 偶然所得 D. 财产转让所得

【答案】A。解析：

本题要求考生找出“可以免纳个人所得税”的一项。

对这个问题，根据《个人所得税法》第4条规定，下列各项个人所得可以免纳个人所得税：（一）省级人民政府、国务院部委和中国人民解放军军以上单位，以及外国组织、国际组织颁发的科学、教育、技术、文化、卫生、体育、环境保护等方面的奖金；（二）国债和国家发行的金融债券利息；（三）按照国家统一规定发给的补贴、津贴；（四）福利费、抚恤金、救济金；（五）保险赔款；（六）军人的转业费、复员费；（七）按照国家统一规定发给干部、职工的安家费、退职费、退休工资、离休工资、离休生活补助费；（八）依照我国有关法律规定应予免税的各国驻华使馆、领事馆的外交代表、领事官员和其他人员的所得；（九）中国政府参加的国际公约、签订的协议中规定免税的所得；（十）经国务院财政部门批准免税的所得。

根据本条第5款之规定，A项的“保险赔款”可以免纳个人所得税。

所以，正确选项是A。

118. 根据我国相关法律的规定，（ ）的行政处罚只能由法律加以设定。

- A. 责令停产停业 B. 吊销企业营业执照
C. 限制人身自由 D. 没收非法财产

【答案】C。解析：

《行政处罚法》第九明确规定：限制人身自由的行政处罚，只能由法律设定。所以，正确选项是C。

119. 按照我国有关仲裁的法律规定, 属于双方当事人之间仲裁得以进行的必要条件是:

- A. 双方争议必须是经济纠纷
- B. 双方当事人都同意进行仲裁
- C. 由人民法院决定仲裁
- D. 当事人一方到仲裁庭立案

【答案】B。解析:

本题要求考生找出“属于双方当事人之间仲裁得以进行的必要条件”的一项。

《仲裁法》第4条规定: 当事人采用仲裁方式解决纠纷, 应当双方自愿, 达成仲裁协议。没有仲裁协议, 一方申请仲裁的, 仲裁委员会不予受理。根据法律规定可知, B项的“双方当事人同意进行仲裁”是仲裁得以进行的必要条件。

所以, 正确选项是B。

120. 下列财产中, 不能用于抵押的是:

- A. 抵押人所有的机器
- B. 抵押人依法有权处分的交通运输工具
- C. 抵押人依法有权处分的国有土地使用权
- D. 抵押人所有的房屋, 但因没有及时归还银行贷款被暂时查封

【答案】D。解析:

本题要求考生根据法律规定选择“不能用于抵押”的一项。

《担保法》第37条规定: 下列财产不得抵押: (一) 土地所有权; (二) 耕地、宅基地、自留地、自留山等集体所有的土地使用权, 但本法第三十四条第(五)项、第三十六条第三款规定的除外; (三) 学校、幼儿园、医院等以公益为目的的事业单位、社会团体的教育设施、医疗卫生设施和其他社会公益设施; (四) 所有权、使用权不明或者有争议的财产; (五) 依法被查封、扣押、监管的财产; (六) 依法不得抵押的其他财产。

根据本条第5款之规定, 选项D是依法被查封的财产, 不得用于抵押。

所以, 正确选项是D。

第五部分 资料分析

(共20题, 参考时限20分钟)

所给出的图、表或文字均有问题要你回答。你应根据资料提供的信息进行分析、比较、计算和判断处理。

(一) 根据以下资料, 回答121~125题。

2006年5月份北京市消费品市场较为活跃, 实现社会消费品零售额272.2亿元, 创今年历史第二高。据统计, 1~5月份全市累计实现社会消费品零售额1312.7亿元, 比去年同期增长12.5%。

汽车销售继续支撑北京消费品市场的繁荣。5月份, 全市机动车类销售量为5.4万辆, 同比增长23.9%。据对限额以上批发零售贸易企业统计, 汽车类商品当月实现零售额32.3亿元, 占限额以上批发零售贸易企业零售额比重的20.3%。

据对限额以上批发零售贸易企业统计, 5月份, 家具类、建筑及装潢材料类销售延续了4月份的高幅增长, 持续旺销, 零售额同比增长了50%。其中, 家具类商品零售额同比增长27.3%, 建筑及装潢材料类商品零售额同比增长60.8%。同时由于季节变换和节日商家促销的共同作用, 家电销售大幅增长, 限额以上批发零售贸易企业家用电器和音像器材类商品零售额同比增长13.6%。

121. 北京市2006年5月份限额以上批发零售贸易企业社会消费品零售额占社会消费品零售总额的百分比约为:

- A. 50.5%
- B. 58.5%
- C. 66.5%
- D. 74.5%

【答案】B。解析:

第一步, 明确问题。求“北京市2006年5月份限额以上批发零售贸易企业社会消费品零售额与2006

年5月份社会消费品零售总额的比”。

第二步，数据定位。2006年5月份限额以上批发零售贸易企业社会消费品零售额为：（5月份汽车类商品当月实现零售额）32.3亿元 \div 20.3% \approx 160；2006年5月份社会消费品零售总额为：272.2亿元。

第三步，估算。160 \div 272 \approx 60%，与B项的数据最为接近。

所以，正确选项是B。

122. 若保持同比增长不变，预计北京市2007年前5个月平均每月的社会消费品零售额：

- A. 将接近255亿元 B. 将接近280亿元 C. 将接近300亿元 D. 将突破300亿元

【答案】C。解析：

第一步，明确问题。先求北京市2006年1~5月份社会消费品零售额的平均值，再按同比增长不变，求北京市2007年前5个月平均每月的社会消费品零售额。

第二步，数据定位。北京市2006年1~5月份社会消费品零售额的平均值为：1312.5亿元 \div 5 \approx 260亿元；2006年1~5月份社会消费品零售额比去年同期增长12.5%，若保持同比增长不变，则北京市2007年前5个月平均每月的社会消费品零售额为：260亿元 \times （1+12.5%）。

第三步，估算。

260亿元 \times （1+12.5%）肯定超过290亿元，将接近300亿元。

所以，正确选项是C。

123. 2006年5月份，限额以上批发零售贸易企业中，家具类商品零售额占家具类和建筑及装潢材料类商品零售额的比例是：

- A. 27.4% B. 29.9% C. 32.2% D. 34.6%

【答案】A。解析：

第一步，明确问题。求“2006年5月份，限额以上批发零售贸易企业中，家具类商品零售额占家具类和建筑及装潢材料类商品零售额的比例”。

第二步，定位数据。文字资料第三段的前半部分。

第三步，估算。

要想求2006年5月份限额以上批发零售贸易企业中，“家具类商品零售额”占“家具类和建筑及装潢材料类商品零售额”的比例，必须先求出在2006年5月份家具类商品的零售额，以及家具类和建筑、装潢材料类商品的零售额。

根据文字资料所给数据，运用十字相乘法，可先求得2006年4月份“家具类商品零售额”与“建筑及装潢材料类商品零售额”的比例。

家具类： 27.3% 10.8%（对角线上大数减小数）

50%

建筑及装潢材料类： 60.8% 22.7%（对角线上大数减小数）

则2006年4月份“家具类”与“建筑及装潢材料类”的比例为10.8%：22.7%，约等于1：2。

据此可知，2006年5月份：

“家具类”商品零售额为：1+27.3%

“家具类和建筑及装潢材料类”商品零售额为：1 \times （1+27.3%）+2 \times （1+60.8%）

家具类商品零售额占家具类和建筑及装潢材料类商品零售额的比例为：

$(1+27.3\%)/[1\times(1+27.3\%)+2\times(1+60.8\%)]$

$\approx 1.27/(1.27+3.2)$

$\approx 1.27/4.5$

$\approx 28\%$

与A项的数据最为接近。

所以，正确选项是 A。

（对于普通的考生来说，面对这样的题目，在考场上即使花费几倍于规定时限的时间恐怕也难以完成如此复杂的运算，而且很容易带来巨大的心理压力。所以，建议选择放弃，凭直觉选一个答案即可。有时候，选择放弃也是一种灵活性的表现。）

124. 下列说法正确的是：

- I. 2006 年 1~5 月份北京市每月平均社会消费品零售额比去年同期增长 12.5%
 - II. 2006 年 5 月份家具类、建筑及装潢材料类、家电类限额以上批发零售贸易企业零售额的增长率相比较，建筑及装潢材料类增长最快
 - III. 2005 年，北京市机动车类销售量约为 4.36 万辆
- A. 仅 I B. 仅 II C. I 和 II D. I、II 和 III

【答案】B。解析：

第一步，明确问题。求“说法正确”的一项。

第二步，数据定位。本题涉及数据较多，请仔细提取。

第三步，估算：

I：文字资料第一段结尾说：2006 年 1~5 月份北京市累计实现社会消费品零售额 1312.7 亿元，比去年同期增长 12.5%，但是并不意味着说“2006 年 1~5 月份北京市每月平均社会消费品零售额比去年同期增长 12.5%”。因此 I 错误。

II：从文字资料第三段中可以直接找答案。建筑及装潢材料类商品零售额同比增长 60.8%，增长最快。因此 II 正确。

III：资料中没有涉及 2006 年全年北京市机动车的销量情况，不能确定 2005 年北京市机动车类销售量。因此 III 错误。

只有 II 的说法是正确的。

所以，正确选项是 B。

125. 下列说法肯定正确的是：

- A. 2006 年前 5 个月中，5 月份的社会消费品零售额最高
- B. 2006 年 5 月，几类商品的零售额都比前 4 个月高
- C. 2006 年 5 月，限额以上批发零售贸易企业零售额比前 4 个月都高
- D. 至少存在一类商品，其 2006 年前 5 个月的零售额同比增长不高于 12.5%

【答案】D。解析：

第一步，明确问题。求四个选项中肯定正确的说法。

第二步，数据定位。本题涉及的数据较多，请小心提取。

第三步，估算。

A 项说“2006 年前 5 个月中，5 月份的社会消费品零售额最高”，而文字资料第一段第一句说：2006 年 5 月份的社会消费品零售额创今年历史第二高，与资料矛盾。所以 A 项不正确。

同理，B 项也不正确。如果像 B 项所说“2006 年 5 月份几类商品的零售额都比前 4 个月高”，那么就会必然导致结果“2006 年前 5 个月中，5 月份的社会消费品零售额最高”，而这与文字资料相矛盾。

C 项，文字资料第三段说：据对限额以上批发零售贸易企业统计，5 月份，家具类、建筑及装潢材料类销售延续了 4 月份的高幅增长，持续旺销，零售额同比增长了 50%。但是不能从资料中必然得出“2006 年 5 月，限额以上批发零售贸易企业零售额比前 4 个月都高”。所以，C 项不能肯定为正确；

D 项，文字资料第一段第二句说：1~5 月份全市累计实现社会消费品零售额 1312.7 亿元，比去年同期增长 12.5%。如果 2006 年前 5 个月每类商品的零售额同比增长都高于 12.5%，那么其社会消费品零

售额同比增长必将大于 12.5%，这与资料相矛盾。因此可以肯定，至少存在一类商品，其 2006 年前 5 个月的零售额同比增长不高于 12.5%。

所以，正确选项是 D。

(二) 根据以下资料，回答 126~130 题。

某一年份引黄各省(区、市)地表水分行业利用情况统计表(单位: 亿立方米)

省 份	项 目	农田 灌溉	林牧 渔畜	工 业	城镇 公共	居民 生活	生态 环境	合 计
青 海	取水量	12.45	1.87	0.2	/	0.43	/	14.95
	耗水量	8.63	1.58	0.13	/	0.28	/	10.62
四 川	取水量	0.09	0.1	0.05	0.01	0.04	/	0.29
	耗水量	0.09	0.1	0.03	0.01	0.03	/	0.26
甘 肃	取水量	21.16	2.1	10.56	0.96	2.91	0.12	37.81
	耗水量	17.11	1.79	7.34	0.81	2.17	0.11	29.33
宁 夏	取水量	57.95	9.59	0.96	/	0.16	0.32	68.98
	耗水量	28.67	8.08	0.46	/	0.14	0.32	37.67
内 蒙 古	取水量	57.58	5.01	3.65	0.23	0.44	0.1	67.01
	耗水量	49.03	3.61	2.98	0.23	0.44	0.1	56.39
陕 西	取水量	16.68	2.45	2.87	0.62	1.88	0.42	24.92
	耗水量	14.69	2.11	1.89	0.56	1.24	0.42	20.91
山 西	取水量	8.09	0.57	1.91	0.29	0.77	0.04	11.67
	耗水量	7.44	0.52	1.3	0.26	0.51	0.04	10.07
河 南	取水量	20.48	0.82	4.03	0.4	1.63	0.51	27.87
	耗水量	19.66	0.7	3.39	0.38	1.48	0.46	26.07
山 东	取水量	40.64	0.44	4.81	1.11	2.47	0.97	50.44
	耗水量	40.17	0.39	4.59	1.1	2.36	0.96	49.57
河 北 天 津	取水量	/	/	2.14	0.4	1.3	4.24	8.08
	耗水量	/	/	2.14	0.4	1.3	4.24	8.08
合 计	取水量	235.12	22.95	31.18	4.02	12.03	6.72	312.02
	耗水量	185.49	18.88	24.25	3.75	9.95	6.65	248.97

说明: 地表水取水量是指直接从黄河干、支流引(提)的水量; 地表水耗水量是指地表水取水量扣除其回归到黄河干、支流河道的水量后的水量。

126. 下列行业中, 每单位取水量中耗水量最少的是:

- A. 林牧渔畜 B. 工业 C. 居民生活 D. 生态环境

【答案】B。解析:

第一步, 明确问题。求“每单位取水量中耗水量最少的”一项。

第二步, 数据定位。统计表最下面两行的数据。

第三步，估算。

A 项，林牧渔畜： $18.88/22.95 \approx 19/23 \approx 80\%$ 。

B 项，工业： $24.25/31.18 \approx 24/31 < 80\%$ 。

C 项，居民生活： $9.95/12.03 \approx 10/12 \approx 80\%$

D 项，生态环境： $6.65/6.72 \approx 7/7 \approx 100\%$

只有 B 项小于 80%，耗水量最少。

所以，正确选项是 B。

127. 下列省份中，每单位耗水量所需取水量最少的是：

A. 青海

B. 宁夏

C. 河南

D. 山东

【答案】D。解析：

第一步，明确问题。求“每单位耗水量所需取水量最少的”一项。

第二步，数据定位。统计表最右边一列中的数据。

第三步，估算。

A 项，青海 $14.95/10.62$ ；B 项，宁夏 $68.98/37.67$

C 项，河南 $27.87/26.07$ ；D 项，山东 $50.44/49.57$

观察数据，很明显 A、B 两项太大，可以排除。C、D 两项中，显然 D 项山东每单位耗水量所需取水量最少。

所以，正确选项是 D。

128. 内蒙古的地表水取水量与耗水量分别占全河地表水取水量与耗水量的比重约是：

A. 19.1%与 26.3%

B. 21.5%与 22.6%

C. 19.1%与 22.6%

D. 21.5%与 26.3%

【答案】B。解析：

第一步，明确问题。求“内蒙古的地表水取水量与耗水量分别占全河地表水取水量与耗水量的比重”。

第二步，数据定位。统计表最右边一列中的数据。

第三步，估算。

内蒙古的取水量占全河取水量的比重为： $67.01/312.02 \approx 67/312 \approx 22\%$

内蒙古的耗水量占全河耗水量的比重为： $56.39/248.97 \approx 56/250 \approx 22\%$

所得数据最接近 B 项。

所以，正确选项是 B。

129. 引黄各省（区、市）中地表水取水量最大的三个省份的取水量之和与最小的三个省份的取水量之和，占全河地表水取水量的比重分别约是：

A. 59.7%与 6.4%

B. 59.7%与 2.7%

C. 61.7%与 6.4%

D. 61.7%与 2.7%

【答案】A。解析：

第一步，明确问题。求“地表水取水量最大的三个省份的取水量之和与最小的三个省份的取水量之和，占全河地表水取水量的比重”。

第二步，数据定位。统计表最右边一列中的数据。地表水取水量最小的三个省份是：四川、河北天津、山西。

第三步，估算。

地表水取水量最大的三个省份是：宁夏、内蒙和山东，其取水量之和与全河地表水取水量的比为：

$(68.98+67.01+50.44)/312.02 \approx 186/312 < 60\%$

地表水取水量最小的三个省份是：四川、河北天津、山西，其取水量之和与全河地表水取水量的比

为:

$$(0.29+8.08+11.67) / 312.02 \approx 20/312 > 6\%$$

所得数据最接近 A 项。

所以, 正确选项是 A。

130. 下列说法正确的是:

- A. 宁夏农田灌溉地表水耗水量高于其他省份
- B. 引黄各省(区、市)地表水取水量均高于地表水耗水量
- C. 陕西省居民生活地表水耗水量占该省总耗水量的比重高于山东省
- D. 地表水取水量最多的省份, 其取水量占全河地表水取水量的比例不到 20%

【答案】C。解析:

第一步, 明确问题。判定四个选项中“说法正确”的一项。

第二步, 数据定位。统计表最右边一列中的数据。

第三步, 估算。

A 项, 宁夏农田灌溉地表水耗水量低于内蒙古和山东, 所以 A 项说法不正确, 排除;

B 项, 引黄各省(区、市)中“河北、天津”的地表水取水量等于地表水耗水量, 所以 B 项说法不正确, 排除;

C 项, 陕西省居民生活地表水耗水量占该省总耗水量的比重为: $(1.24 \div 20.91) \times 100\% \approx 6\%$, 山东省为 $(2.36 \div 49.57) \times 100\% \approx 5\%$, 因此, C 项说法正确。

根据 C 项正确, 可以直接排除 D 项。

所以, 正确选项是 C。

(三) 根据以下资料, 回答 131~135 题。

2005 年全国专利审查与专利代理业务研讨会宣布, 预计在“十一五”期间, 我国专利申请总量将达 346 万件, 其中发明专利申请总量将达到 140 万件, 实用新型专利申请总量将达到 89 万件, 外观设计专利申请总量将达到 117 万件。

据介绍, 我国专利审批总体能力在“十五”期间大幅提高, 审查周期大幅缩短。发明专利人均待审量由“十五”初期(2001 年)的 154 件下降到“十五”末期(2005 年)的 85 件, 平均结案周期从“十五”初期的 53 个月缩短至“十五”末期的 24 个月。

改革开放以来, 我国专利申请量和授予量增长速度迅猛。1985 年 4 月 1 日至 2005 年 8 月 31 日, 我国受理的三类专利申请总量达到 258.5 万件, 其中前 100 万件历时 15 年整, 而第二个 100 万件历时仅 4 年零 2 个月; 至 2005 年 8 月 31 日, 三种专利的授予总量达到 140.38 万件。其中, 2004 年共受理专利申请 35.38 万件, 同比增长 14.7%; 2004 年共授予专利 19.02 万件, 同比增长 4.4%。我国的实用新型专利、外观设计专利和商标的年申请量已经跃居世界第一, 其中 90% 以上为国内申请。

131. 与 2003 年相比, 2004 年我国专利的授予比例(授予比例=专利申请授予量/专利申请受理量):

- A. 提高了 5.3 个百分点
- B. 降低了 5.3 个百分点
- C. 提高了 9.5 个百分点
- D. 降低了 9.5 个百分点

【答案】B。解析:

第一步, 明确问题。求“与 2003 年相比, 2004 年我国专利的授予比例提高或者降低的百分点”。

第二步, 数据定位。文字资料第三段的后半。

第三步, 估算。

$$2003 \text{ 年专利申请受理量为: } 35.38 / (1+14.7\%) \approx 35/1.2 \approx 30$$

$$2003 \text{ 年专利申请授予量: } 19.02 / (1+4.4\%) \approx 18$$

$$2003 \text{ 年我国专利的授予比例为: } 18/30 \approx 60\%。$$

2004 年我国专利的授予比例为： $19.02/35.38 \approx 54\%$

2003 年我国专利的授予比例，减去 2004 年我国专利的授予比例，可得：

$60\% - 54\% = 6\%$ ，也就是降低了 6%，与 B 项的数据最为接近。

所以，正确选项是 B。

132. 1985 年 4 月 1 日至 2005 年 8 月 31 日，我国受理的专利申请中，最后约 58.5 万件专利的受理历时：

A. 15 个月

B. 14 个月

C. 10 个月

D. 8 个月

【答案】A. 解析：

第一步，明确问题。求“1985 年 4 月 1 日至 2005 年 8 月 31 日我国受理的专利申请中，最后约 58.5 万件专利的受理历时几个月”。

第二步，数据定位。文字资料第三段的前半。

第三步，估算。

根据文字资料第三段的前半，“1985 年 4 月 1 日至 2005 年 8 月 31 日，我国受理的三类专利申请总量达到 258.5 万件，其中前 100 万件历时 15 年整，而第二个 100 万件历时仅 4 年零 2 个月”，由此可知

从 1985 年 4 月 1 日到 2005 年 8 月 31 日，共 20 年零 5 个月，其中前 200 万件专利的受理历时 19 年零 2 个月，则最后 58.5 万件专利的受理历时 1 年零 3 个月，即 15 个月。

所以，正确选项是 A。

133. 与 1985 年 4 月 1 日至 2000 年 4 月 1 日间专利申请平均受理时间相比，2000 年 4 月 1 日至 2004 年 6 月 1 日间专利申请的平均受理时间下降了：

A. 64%

B. 68%

C. 72%

D. 82%

【答案】C. 解析：

第一步，明确问题。求“2000 年 4 月 1 日至 2004 年 6 月 1 日间专利申请的平均受理时间，比 1985 年 4 月 1 日至 2000 年 4 月 1 日间专利申请平均受理时间下降了多少”。

第二步，数据定位。文字资料第三段的前半。

第三步，估算。

$[(15 \times 12) - (4 \times 12 + 2)] / (15 \times 12) \approx 72\%$

所以，正确选项是 C。

134. 下列说法正确的有：

① 预计“十一五”期间，外观设计专利申请总量将占到专利申请总量的 $1/3$ 强

② “十五”末期平均结案周期不到“十五”初期的一半

③ 1985 年 4 月 1 日至 2005 年 8 月 31 日间，我国专利的授予比例超过了 50%

④ 1985 年 4 月 1 日至 2005 年 8 月 31 日间，我国受理的专利申请中，第二个 100 万件所用时间不到总时间的 20%

A. 1 项

B. 2 项

C. 3 项

D. 4 项

【答案】C. 解析：

第一步，明确问题。求四个选项中正确的说法有几项。

第二步，数据定位。本题涉及数据较多，请注意阅读理解、小心提取。

第三步，估算。

① 项，根据文字资料的第一段，预计“十一五”期间，外观设计专利申请总量占专利申请总量的比重为： $117/346 > 1/3$ ，因此，① 的说法是正确的。

② 项，文字资料第二段最后提：平均结案周期从“十五”初期的 53 个月缩短至“十五”末期的 24 个月。因此，② 的说法是正确的。

③项, 根据文字资料的第三段, 1985年4月1日到2005年8月31日间, 我国专利的授予比例为: $140.38 \div 258.5 > 50\%$, 因此, ③的说法是正确的。

④项, 根据文字资料的第三段, 第二个100万件所用时间占总时间的比重为: $(4 \times 12 + 2) / (20 \times 12 + 5) > 20\%$, 因此, ④的说法是不正确的。

综合以上分析, 正确的说法有3项。

所以, 正确选项是C。

135. 下列说法正确的是:

- A. 我国的专利审批总体能力已居世界前列
- B. 目前我国的各项专利年申请量均已跃居世界第一
- C. “十五”末期, 我国的专利在提交申请后两年内都可完成审查
- D. 若同比增长不变, 2005年全年我国的专利申请量将超过40万件

【答案】D. 解析:

第一步, 明确问题。判定四个选项中“说法正确”的一项。

第二步, 数据定位。本题主要是阅读理解。

第三步, 估算。

A项, 资料未提及, 所以A项说法不正确, 排除;

B项, 资料第三段最后说“外观设计专利和商标的年申请量已经跃居世界第一”, 而不是说各项专利年申请量均已跃居世界第一。所以B项说法不正确, 排除。

C项, 资料第二段的最后说“平均结案周期从“十五”初期的53个月缩短至“十五”末期的24个月”, 而不是说“十五”末期, 我国的专利在提交申请后两年内都可完成审查。所以C项说法不正确, 排除;

D项, 根据A、B、C项错误, 可以判定D项是正确的。也可以计算为:

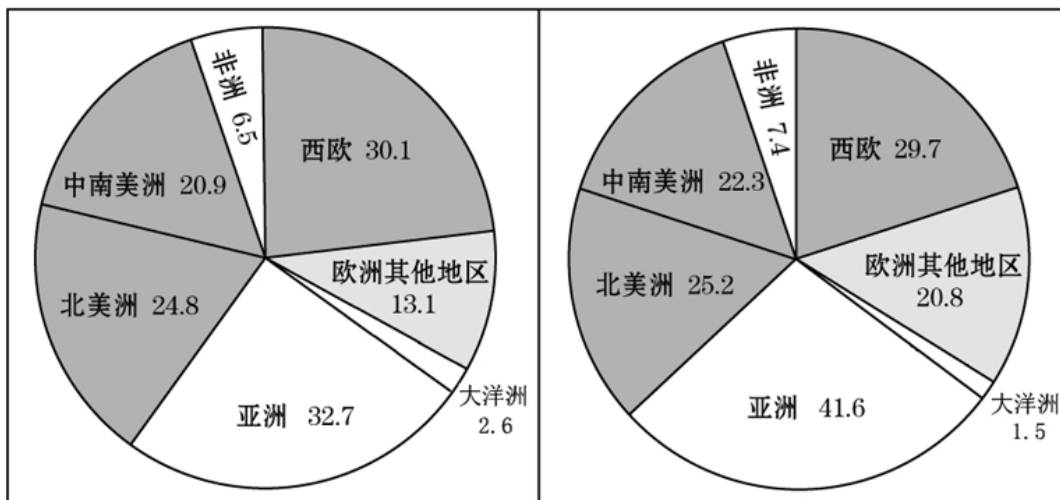
资料第三段后半说“2004年共受理专利申请35.38万件, 同比增长14.7%”。若同比增长不变, 则2005年我国的专利申请量为: $35.38 \times (1 + 14.7\%) > 40$ 。

所以, 正确选项是D。

(四) 根据以下资料, 回答136~140题。

1998年世界啤酒消费量

2004年世界啤酒消费量 单位:十亿升



136. 从1998年到2004年, 美洲地区啤酒消费量占世界啤酒消费总量的比重:

- A. 下降了3个百分点
- B. 下降了2个百分点

C. 下降了 1 个百分点

D. 上升了 1 个百分点

【答案】A。解析：

第一步，明确问题。求“从 1998 年到 2004 年，美洲地区啤酒消费量占世界啤酒消费总量的比重”的变化情况。

第二步，数据定位。美洲地区啤酒消费量=北美洲啤酒消费量+中南美洲啤酒消费量；世界啤酒消费总量=各大洲及地区啤酒消费总量之和。

第三步，估算。

1998 年， $(20.9+24.8) / (20.9+24.8+32.7+2.6+13.1+30.1+6.5) = 45.7/130.7 \approx 35\%$

2004 年， $(22.3+25.2) / (22.3+25.2+41.6+1.5+20.8+29.7+7.4) = 47.5/148.5 \approx 32\%$

$35\% - 32\% = 3\%$

所以，正确选项是 A。

137. 1998 年至 2004 年啤酒消费量增长最快的两个地区，其啤酒消费量 2004 年占世界啤酒消费量的比重约是：

A. 20.8%

B. 35.0%

C. 42.0%

D. 62.4%

【答案】C。解析：

第一步，明确问题。求“1998 年至 2004 年啤酒消费量增长最快的两个地区，其啤酒消费量 2004 年占世界啤酒消费量的比重”。

第二步，数据定位。1998 年至 2004 年啤酒消费量增长最快的两个地区分别是：亚洲、欧洲其他地区。“世界啤酒消费量”在前面一题中已经算出为 148.5。

第三步，估算。

$(41.6+20.8) / 148.5 = 62.4/148.5 \approx 40\%$ 。与 C 项的数据最为接近。

所以，正确选项是 C。

138. 与亚洲相比，整个欧洲的啤酒消费量：

A. 绝对量多于亚洲，2004 年相对于 1998 年的增长快于亚洲

B. 绝对量多于亚洲，2004 年相对于 1998 年的增长慢于亚洲

C. 绝对量少于亚洲，2004 年相对于 1998 年的增长快于亚洲

D. 绝对量少于亚洲，2004 年相对于 1998 年的增长慢于亚洲

【答案】B。解析：

第一步，明确问题。确定四个选项中“说法正确”的一项。

第二步，数据定位。亚洲、欧洲（西欧+欧洲其他地区）的啤酒消费量。

第三步，估算。

观察统计图中的数据，很明显可以确定：欧洲的啤酒消费绝对数量多于亚洲。因此，排除 C、D 两项。

亚洲的增长速度为： $(41.6-32.7) / 32.7 = 8.9/32.7$

欧洲的增长速度为： $[(20.8+29.7) - (13.1+30.1)] / (13.1+30.1) = 7.3/43.2$

不需要计算，观察数据即可以确定，亚洲的增长速度大于欧洲的增长速度。

所以，正确选项是 B。

139. 关于啤酒消费量，下列说法错误的是：

A. 六年来世界啤酒消费总量的增长超过了 10%

B. 北美洲和西欧啤酒消费量的差距在六年间缩小了

C. 亚洲的啤酒消费量始终占到了世界啤酒消费总量的四分之一强

D. 无论是啤酒消费绝对量还是占世界啤酒消费总量的比重，北美都有所增长

【答案】D。解析：

第一步，明确问题。确定四个选项中“说法错误”的一项。

第二步，数据定位。本题涉及数据众多，有些数据是前面的题目中已经计算出的数据，比如“世界啤酒消费总量”，请小心提取。

第三步，估算。

虽然北美洲的啤酒消费绝对数量增多，但相对数量却是减少的。

1998年： $24.8/130.7 \approx 25/131 \approx 19\%$

2004年： $25.2/148.5 \approx 25/149 \approx 17\%$

由此可知，D项的说法是错误的。

所以，正确选项是D。

140. 若中国1998年的啤酒消费量为205亿升，2004年的啤酒消费量为291亿升，则下列说法一定正确的是：

A. 中国的啤酒消费量增长率亚洲最高

B. 中国的啤酒消费增长占到亚洲啤酒消费增长的90%以上

C. 除中国外，任一亚洲国家，其六年来的啤酒消费量增长不可能超过3亿升

D. 中国六年间的啤酒消费增长量比2004年非洲和大洋洲的啤酒消费量的总和还要多

【答案】B。解析：

第一步，明确问题。求“如果中国1998年的啤酒消费量为205亿升，2004年的啤酒消费量为291亿升，则下列说法哪项是一定正确的”。

第二步，数据定位。本题涉及数据众多，请小心提取。

第三步，估算。

A项，资料中未提及，排除。

B项， $(29.1-20.5)/(41.6-32.7) = 8.6/8.9 > 90\%$ ，所以B项的说法一定正确。

根据B项是正确的，则C、D两项可以直接排除。

所以，正确选项是B。

全部测验到此结束！

请扫描QQ二维码，备注“公务员考生”加QQ好友，获取曹长远老师精解历年公务员考试申论、行测、面试真题完整解析资料。

精品资料，尽在掌握！



扫描二维码，加QQ好友