

2010年中央、国家机关公务员录用考试

《行政职业能力测验》真题答案解析

答案速查

1—5	ACACA	6—10	DDBDB	11—15	CADBA	16—20	BBCAD
21—25	AABCC	26—30	DCCDC	31—35	CBACD	36—40	ADABA
41—45	CDBAB	46—50	CADAC	51—55	CBDDB	56—60	ADDBC
61—65	BABBC	66—70	DBDBC	71—75	ACCAD	76—80	DAABB
81—85	DDCBA	86—90	DABDD	91—95	BCBCA	96—100	ABBDA
101—105	BCAAC	106—110	BCCBB	111—115	BACDB	116—120	BBCAC
121—125	DDCBD	126—130	CCBAA	131—135	DABDD	136—140	ACDAB

第一部分 言语理解与表达

(共 40 题, 参考时限 35 分钟)

本部分包括表达与理解两方面的内容。请根据题目要求, 在四个选项中选出一个最恰当的答案。

1. “诗是不可译的, 中国古典诗歌更是不可译的。”爱好古典诗歌的中国人包括不少作家、学者、翻译家常常如是说, 语气中带着七分_____三分_____。然而, 话说回来, 如果没有翻译, 中国古典诗歌如何走出国门、走向世界呢?
依次填入划横线部分最恰当的一项是:
A. 自豪 遗憾 B. 无奈 悲伤 C. 感伤 埋怨 D. 骄傲 惭愧

【答案】A。解析:

阅读可知, “语气中带着七分_____三分_____”, 所谓七分、三分, 有明显的转折意味, 因而填入两个空格中的词语必须是词义相反的, B、C 两项明显不符, 可以直接排除。

A、D 两项相比较, “自豪”和“骄傲”是近义词, 很难区别, 问题最终着落在“遗憾”与“惭愧”的区分上。遗憾: 因未能称心如愿而感到惋惜; 惭愧: 因有缺点或错误而感到羞愧。“中国古典诗歌不可译”, 这绝不能说是一个让我们感到羞愧的错误, 只是让人感到有些遗憾而已。由此可以排除 D 项。

所以, 正确选项是 A。

2. 茶艺与茶道精神是中国茶文化的核心。“艺”是指制茶、煮茶、品茶等艺茶之术, “道”是指艺茶过程中所_____的精神。有道而无艺, 那是_____的理论; 有艺而无道, 艺则无精、无神。
依次填入划横线部分最恰当的一项是:
A. 传达 虚浮 B. 包涵 虚无 C. 贯穿 空洞 D. 体现 枯燥

【答案】C。解析:

阅读可知, 题干论述了“茶艺”与“茶道”之间的关系。所谓“艺”是指制茶、煮茶、品茶等, 属于实践环节; 所谓“道”是指艺茶过程中的精神, 属于理论。

关于实践与理论的关系, 斯大林有一句名言: “离开革命实践的理论是空洞的理论, 而不以革命理论为指南的实践是盲目的实践”。有道而无艺, 那就是离开了实践的理论, 只能是“空洞”的理论。这已经成为一种固定搭配了。

根据“突点排除法”，可以直接排除 A、B、D 三项。

所以，正确选项是 C。

3. 从 20 世纪 90 年代“人类基因工程”计划启动之日起，美国、日本和欧洲等展开了一场激烈的基因专利争夺战。因为谁拥有专利，就意味着谁就能在国际上获得_____基因产业的“王牌”，谁就能拥有今后基因开发的庞大市场。为此，美国等少数发达国家大量地将阶段性研究成果申请了专利。

依次填入划横线部分最恰当的一项是：

- A. 垄断 抢先 B. 操纵 独立 C. 控制 自发 D. 专营 及时

【答案】A. 解析：

阅读可知，美国、日本、和欧洲等展开了一场激烈的基因专利争夺战。各国为什么要争夺基因专利呢？当然是为了排挤竞争者，垄断或独占市场，获得高额利润。所谓专利的“专”，也就是独占或垄断的意思。由此可知，只有在第一个空格中填入 A 项中的“垄断”，才能形成最佳的语境呼应。

根据“突点排除法”，可以直接排除 B、C、D 三项。

所以，正确选项是 A。

4. 明代工艺品的名字大都先强调年号，然后再强调东西本身。但景泰蓝不是在景泰年间出现，而是在元代就出现了。到了景泰年间，皇家的重视使它_____，因此有了今天这样一个通俗易懂且带有文学色彩的名字——景泰蓝。

填入划横线部分最恰当的一项是：

- A. 名声大噪 B. 享誉中外 C. 声名鹊起 D. 如日中天

【答案】C. 解析：

阅读可知，景泰蓝在元代就出现了，但那时并不出名，一直到了明代景泰年间，由于受到皇家的重视，才使得它突然出名了。因此，填入空格中的词语必须有“突然出名”的意思。只有 C 项的“声名鹊起”形容知名度迅速提高，与题干可以形成最佳的语境呼应。

名声大噪：指名声很大、四处传扬。如日中天：比喻事物发展到十分兴盛的阶段。享誉中外：指名声很好而且中外知名。都没有“突然出名”的意思，与题干文意不符，排除。

所以，正确选项是 C。

5. 五四运动后，许多追求真理、追求进步的人们开始用新的眼光看中国、看世界，从对各种社会思潮、政治主张和政治力量的_____中认真思考，逐步看到西方的种种社会_____，开始怀疑资产阶级共和国的救国方案。

依次填入划横线部分最恰当的一项是：

- A. 鉴别 弊端 B. 甄别 矛盾 C. 识别 通病 D. 辨别 现象

【答案】A. 解析：

阅读可知，填入第二个空格中的词必须与后面的“怀疑”相呼应。人们为什么“开始怀疑资产阶级共和国的救国方案”呢？当然是因为看到了它们的毛病和弊端。“矛盾”、“现象”“通病”是所有社会都具有的，不足以引起人们的怀疑。排除。

由此可知，只有在第二个空格中填入 A 项中的“弊端”，才能形成最佳的语境呼应。

所以，正确选项是 A。

6. 世界主要经济发达国家和地区目前已就发展低碳经济达成共识：以经济发展模式由“高碳”向“低碳”转型为_____，通过市场机制下的经济手段推动低碳经济的发展，以减缓人类活动对气候的破坏并逐步达到一种互相_____的良性发展状态。

依次填入划横线部分最恰当的一项是：

- A. 目标 协调 B. 手段 促进 C. 标志 制约 D. 契机 适应

【答案】D。解析：

阅读可知，“经济发展模式由‘高碳’向‘低碳’转型”，这是推动低碳经济的发展的一个机会。所谓“契机”正是机会的意思。由此可知，在第一个空格中填入D项中的“契机”，可以形成最佳的语境呼应。

根据“突点排除法”，可以直接排除A、B、C三项。

所以，正确选项是D。

7. 与先辈不同，这一新生代的中国研究人员不愿意_____接受古籍中的描写。在希冀精确追溯中国历史的尝试中，他们所_____的是实物、数据以及更为“西式”的方法。

依次填入划横线部分最恰当的一项是：

- A. 直接 擅长 B. 无端 强调 C. 被动 依靠 D. 全盘 倚重

【答案】D。解析：

阅读可知，新生代的中国研究人员与先辈有所不同，具体表现为他们在接受古籍的同时，也接受“西式”的方法。就是说，新生代是有选择地而不再是一股脑地（全盘）接受古籍中的描写。由此可知，在第一个空格中填入D项中的“全盘”，可以形成最佳的语境呼应。

根据“突点排除法”，可以直接排除A、B、C三项。

所以，正确选项是D。

8. 研究发现，睡眠存在障碍与很多疾病有着难以_____的联系。有时候通过改善睡眠状态，可连带对另一种疾病的治疗起到_____的功效。

依次填入划横线部分最恰当的一项是：

- A. 区分 釜底抽薪 B. 割裂 一石二鸟
C. 确认 投石问路 D. 分割 正本清源

【答案】B。解析：

阅读可知，有时候通过改善睡眠状态，可连带治疗另一种疾病。做一件事情却得到两种好处，就像是扔一颗石子却打到了两只鸟。这正是“一石二鸟”的意思。由此可知，在第二个空格中填入B项中的“一石二鸟”，可以形成最佳的语境呼应。

根据“突点排除法”，可以直接排除A、C、D三项。

所以，正确选项是B。

9. 胡蜂在本能的作用下_____地营造自己的生活、生育中心，它的巢是_____的房子。蔡伦如果在改进造纸术之前目睹过胡蜂的建筑过程而受到启发，无疑便是世界上最早的仿生学家了。

依次填入划横线部分最恰当的一项是：

- A. 独具匠心 名不虚传 B. 自然而然 货真价实
C. 兢兢业业 巧夺天工 D. 无师自通 名副其实

【答案】D。解析：

阅读可知，胡蜂是在本能的作用下建造自己的房子的（隐含：没有老师教，是无师自通的）。由此可知，在第一个空格中填入D项中的“无师自通”，可以形成最佳的语境呼应。

根据“突点排除法”，可以直接排除A、B、C三项。

所以，正确选项是D。

10. 在现实生活中，做人的学问往往比做事的学问更具有实用价值、更重要也更难掌握。做事仅靠技术

就能_____，做人则是一门弹性极强的艺术，求的是无法量化和_____的分寸感。做事学一次即有毕业的可能，做人却要活到老学到老，要一辈子下功夫。

依次填入划横线部分最恰当的一项是：

- A. 独当一面 学习
B. 臻于佳境 复制
C. 如鱼得水 把握
D. 游刃有余 控制

【答案】B。解析：

阅读可知，“做人则是一门弹性极强的艺术”，所谓“弹性极强”（隐含：灵活性极强，没有固定的模式，不能简单复制）。由此可知，在第二个空格中填入B项中的“复制”，可以形成最佳的语境呼应。

根据“突点排除法”，可以直接排除A、C、D三项。

所以，正确选项是B。

11. 古训“失之毫厘，谬以千里”与“蝴蝶效应”_____，两者都告诫要特别注意初始条件，对微小差别应该保持高度的灵敏度和警觉性。事物发展结果往往对初始条件具有极为敏感的依赖性，初始条件的极其细微的改变，都会在系统后期出现_____，从而引起结果的极大差异。

依次填入划横线部分最恰当的一项是：

- A. 殊途同归 问题
B. 大同小异 变异
C. 异曲同工 偏差
D. 不谋而合 歪曲

【答案】C。解析：

阅读题干，从“两者都告诫”可以看出，“失之毫厘，谬以千里”与“蝴蝶效应”的说法虽然不同，但是意思却是完全相同的。两句不同的话意思完全相同，这正是“异曲同工”的意思。由此可知，在第一个空格中填入C项中的“异曲同工”，可以形成最佳的语境呼应。

不谋而合：事先没有商量过，意见或行动却完全一致。殊途同归：通过不同的途径，到达同一个目的地。大同小异：大体相同，略有差异。都没有“两句不同的话意思完全相同”的意思，与题干文意不符，排除。

所以，正确选项是C。

12. 对大多数人来说，岗位是个人历练成长的基石。除了极少数的人能_____创建自己的事业，大多数人都必须走一条相同的路：在岗位上磨炼，依托_____奠定未来事业的基础。

依次填入划横线部分最恰当的一项是：

- A. 直接 组织
B. 主动 团队
C. 独立 同事
D. 一手 集体

【答案】A。解析：

阅读可知，题干具有明显的转折意味，填入第一个空格的词语必须与后面的内容意义相反。除了极少数的人，大多数人都必须依托他人才能实现未来的事业（隐含：必须通过“间接”的途径）。与大多数人的“间接”实现事业相反，极少数人应当是“直接”创建自己的事业。由此可知，在第一个空格中填入A项中的“直接”，可以形成最佳的语境呼应。

根据“突点排除法”，可以直接排除B、C、D三项。

所以，正确选项是A。

13. 既然编全集，希望完整地_____某一文人学者的形象，正反两方面的资料便都应该保留下来。可说实话，古往今来，经得起这么折腾的人物不是很多，你很认真地为其辑佚、整理，不放过任何_____，好不容易弄出全集来，不只没加分，还减分。

依次填入划横线部分最恰当的一项是：

- A. 描绘 蛛丝马迹
B. 还原 一鳞半爪
C. 展现 闲言细语
D. 呈现 只言片语

【答案】D。解析：

阅读可知，既然编全集，当然要力求资料全面，即使是个别词句或片断的话也不能放过。个别词句或片断的话，这正是“只言片语”的意思。由此可知，在第二个空格中填入D项中的“只言片语”，可以形成最佳的语境呼应。

“蛛丝马迹”和“闲言细语”都是贬义词，可以直接排除。一鳞半爪：比喻事物残缺不全，与题干文意不符，排除。

所以，正确选项是D。

14. “器大者声必闳，志高者意必远。”新闻作品要想成为历史的“宏音”，时代的“响箭”，新闻记者就必须胸怀全局、_____，深入_____新闻的理性力量，使新闻语言具有一种理性美。

依次填入划横线部分最恰当的一项是：

- A. 高瞻远瞩 分析
B. 高屋建瓴 发掘
C. 见微知著 彰显
D. 由表及里 剖析

【答案】B。解析：

阅读可知，只有新闻记者志存高远，才能让新闻作品历史的“宏音”，时代的“响箭”。也就是说，新闻作品的“理性力量”不是表面的，而是深刻的，只有通过深入“挖掘”，才能把新闻中深藏的道理揭示出来。由此可知，在第二个空格中填入B项中的“发掘”，可以形成最佳的语境呼应。

根据“突点排除法”，可以直接排除A、C、D三项。

所以，正确选项是B。

15. 媒介的诞生是为了推动人类社会的发展，而人们使用媒介的独特性也是为了不断提升和完善自己的生活，这两者本来都有良好的_____。然而，科学技术与人类意识发展上的失衡，导致媒介在被过度使用的过程中有时会脱离人的_____。

依次填入划横线部分最恰当的一项是：

- A. 出发点 掌控
B. 适应性 规划
C. 侧重点 控制
D. 目的性 约束

【答案】A。解析：

阅读可知，“媒介的诞生是为了推动人类社会的发展，而人们使用媒介的独特性也是为了不断提升和完善自己的生活”，因此，其目的或者“出发点”是很好的。由此可知，在第一个空格中填入A项中的“出发点”，可以形成最佳的语境呼应。

本题的D项容易误选。如果把D项中的“目的性”改成“目的”，那么本题的正确选项就应该是D了。

所以，正确选项是A。

16. 在确立以夏、商、周为核心的中国上古史基本框架的基础上，“夏商周断代工程”将历谱推定、文献梳理、考古与碳十四测定等课题研究成果加以整合，提出了夏商周年表。尽管这个年表还有不够之处，但它的提出毕竟标志着中国的上古史已不是_____的传说，而是可信的历史了。

依次填入划横线部分最恰当的一项是：

- A. 细致 子虚乌有
B. 精准 虚无缥缈
C. 合理 扑朔迷离
D. 精确 空穴来风

【答案】B。解析：

阅读可知，题干讨论的是“中国上古史的传说”。尽管中国上古史是真实存在的，但是由于年代久远，看不见又摸不着，因此有些不好把握。看不见，摸不着但又实际存在的东西，这正是“虚无缥缈”

的意思。由此可知，在第二个空格中填入 B 项中的“虚无飘渺”，可以形成最佳的语境呼应。

子虚乌有：指不存在或不真实的事情。空穴来风：指毫无根据的消息和传说。A、D 两项都意在强调“事物不真实”，与题干文意不符，排除。

本题的 C 项容易误选。扑朔迷离：指事情错综复杂，不容易看清真相。中国上古史不容易把握，不是由于“事情错综复杂”，而是因为“看不见又摸不着”的虚无。由此排除 C 项。

所以，正确选项是 B。

17. 成本过高是可再生能源发展的最大_____。就电力而言，风电是最接近商业化的可再生能源，但成本仍然比火力发电高；太阳能发电成本就更高了，是火电的数倍。因而降低成本是可再生能源化发展的关键。

依次填入划横线部分最恰当的一项是：

- A. 瓶颈 现代 B. 障碍 规模 C. 问题 市场 D. 阻碍 产业

【答案】B。解析：

阅读可知，风电和太阳能发电是现在已经有的技术，但是由于成本过高，得不到“大规模”的发展，因而降低成本是可再生能源“规模”化发展的关键。由此可知，在第二个空格中填入 B 项中的“规模”，可以形成最佳的语境呼应。

根据“突点排除法”，可以直接排除 A、C、D 三项。

所以，正确选项是 B。

18. 面对不断出现的消费和产业成长热点，企业的注意力应首先放在寻求高成长产业的“先进入”上，以_____供不应求阶段的高额利润。而当进入者不断增加，竞争加剧后，企业则应将重点放在低成本为_____的价格竞争上，以保住和扩大市场份额。

依次填入划横线部分最恰当的一项是：

- A. 缺口 垄断 特征 B. 前景 瓜分 手段
C. 机遇 谋取 基础 D. 许可 获取 支撑

【答案】C。解析：

像这种三个空格的词语辨析题，特别适合采用“突点排除法”。

阅读可知，“面对不断出现的消费和产业成长热点，企业的注意力应首先放在寻求高成长产业的‘先进入’”。所谓“先进入”，就是抓住机会、机遇，比其他企业抢先进入高成长产业，从而谋取高额利润。因此，对一个企业来说，寻求并抓住“先进入”的机遇是十分关键的。由此可知，在第一个空格中填入 C 项中的“机遇”，可以形成最佳的语境呼应。

根据“突点排除法”，可以直接排除 A、B、D 三项。

所以，正确选项是 C。

19. 颜真卿“守其正，全其节”的气节备受后世_____，人见其书，往往_____他的人品。欧阳修称“其字画刚劲独立，不袭前迹，挺然奇伟，有似其为人”，即使对其楷书有些_____的米芾，也感到颜体具有一种“昂然不可犯之色”。

依次填入划横线部分最恰当的一项是：

- A. 推崇 联想 微词 B. 仰慕 追怀 保留
C. 称颂 认同 不满 D. 赞誉 映照 非议

【答案】A。解析：

像这种三个空格的词语辨析题，特别适合采用“突点排除法”。

阅读可知，题干讨论了“书品”与“人品”的关系。人们常说“字如其人”，意思就是“书品”与“人品”是密不可分的，因此，见其书，往往会联想他的人品。由此可知，在第二个空格中填入 A 项中

的“联想”，可以形成最佳的语境呼应。

根据“突点排除法”，可以直接排除 B、C、D 三项。

所以，正确选项是 A。

20. 回到故乡时，发现故乡的传统生活方式正在消亡。村里的人们曾经拥有一个_____而完整的精神世界，但是外面的世界改变了这一切。这个村正在_____而又急速地转型，只是生活在其中的人_____。

依次填入划横线部分最恰当的一项是：

- A. 美好 不着痕迹 似信非信
B. 淳朴 潜移默化 默然无知
C. 单一 默不作声 懵懵懂懂
D. 封闭 悄无声息 浑然不觉

【答案】D。解析：

像这种三个空格的词语辨析题，特别适合采用“突点排除法”。

阅读可知，相对于“外面的世界”来说，故乡的传统生活与外界是隔绝的，意在强调它原来的一种“封闭”的状态。由此可知，在第一个空格中填入 D 项中的“封闭”，可以形成最佳的语境呼应。

根据“突点排除法”，可以直接排除 A、B、C 三项。

所以，正确选项是 D。

21. 法国著名寓言作家拉封丹有一则寓言：北风和南风比试，看谁能把一个行路人的大衣吹掉。北风呼呼猛刮，行路人紧紧裹住大衣，北风无奈于他。南风徐徐吹动，温暖和煦，行路人解开衣扣，脱衣而行，南风获胜。

这个寓言意在告诉人们：

- A. 方法得当柔可克刚
B. 实践是检验真理的唯一标准
C. 具体问题具体分析
D. 工欲善其事，必先利其器

【答案】A。解析：

本题属于推断文意型。所谓推断文意，就是要揭示出题干中隐含的意思。

阅读可知，题干讲了一则北风和南风比赛，看谁能把行路人的大衣吹掉的寓言。结果是：北风使尽力气也未能让人们把衣服解开，而南风却用温暖轻易地让人们脱衣而行（隐含：不同的方法会导致了不同结果，只要方法得当，柔也可以克刚）。

所以，正确选项是 A。

22. 呈现大自然多样性的热带森林是许多动植物的最后栖息地，它们的存在对人类来说极其重要。面对热带森林被严重破坏的状况，人们很容易忘记，这是温带地区大部分森林已经遭遇过的：在已开发地区，大量原始森林消失了；在开发区，尤其在严重降雨区，一旦那些山坡的植被遭到破坏，就会引起诸如洪水和泥土坍塌等问题。多数植物种类分布广泛，能够承受局部砍伐并幸存下来，但有些种类分布范围很狭窄，过量砍伐会使之永远消失。

根据这段文字，可以看出作者的意图是：

- A. 呼吁重视与加强对温带森林的保护
B. 说明温带森林实际上更易遭到破坏
C. 分析乱砍滥伐森林的严重后果
D. 强调森林对人类生存的重要性

【答案】A。解析：

本题属于推断文意型。所谓推断文意，就是要揭示出题干中隐含的意思。

阅读可知，题干属于转折结构，转折结构强调的是转折后面的内容。题干首先论述了“热带森林被严重破坏”，然后话锋一转，指出：**人们很容易忘记**，这是温带地区大部分森林已经遭遇过的。意在强调：我们应重视与加强对温带森林的保护。

所以，正确选项是 A。

23. 有人说，凡是知识都是科学的，凡是科学都是无颜色的，并且在追求知识时，应当保持没有颜色的态度。假使这种说法不随意扩大，我也认同。但我们要知道，只要是一个活生生的人，便必然有颜色。对无颜色的知识的追求，必定潜伏着一种有颜色的力量，在后面或底层加以推动。这一推动力量不仅决定一个人追求知识的方向与成果，也决定一个人对知识是否真诚。

这段文字中“有颜色的力量”指的是：

- A. 研究态度 B. 价值取向 C. 道德水准 D. 兴趣爱好

【答案】B。解析：

本题属于词意分析题。

要分析“有颜色的力量”的所指，必须具体分析它的前后语境关联。

阅读可知，题干说“对无颜色的知识的追求，必定潜伏着一种有颜色的力量……这一推动力量不仅决定一个人追求知识的方向与成果，也决定一个人对知识是否真诚。”所谓“追求知识的方向”，不是“研究态度”、“道德水准”、“兴趣爱好”所能决定的，必然与一个人的“价值取向”有关。

所以，正确选项是B。

24. 中国古代的科学著作大多是经验型的总结，而不是理论型的探讨，所记各项发明都是为了解决国家与社会生活中的实际问题，而不是试图在某一研究领域获得重大突破。从研究方法上来说，中国科技重视综合性的整体研究，重视从总体上把握事物，而不是把研究对象从错综复杂的联系中分离出来，独立研究它们的实体和属性，细致探讨它们的奥秘。这使得中国古代的科学技术没有向更高层次发展。

这段文字重在说明：

- A. 中国古代的科学研究关注的重点及其历史背景
B. 解决实际问题是推动中国古代科技发展的动力
C. 中国古代的科技水平没有长足进步的根本原因
D. 研究方法的缺陷使中国古代科技长期停滞不前

【答案】C。解析：

本题属于概括主旨型。

阅读可知，题干属于证明型结构，首先用大部分篇幅分析了中国古代科技存在的种种问题，最后一句话得出结论：“这使得中国古代的科学技术没有向更高层次发展”，其中的“这”指的就是前面所说的各种问题，它们正是“中国古代的科技水平没有长足进步的根本原因”。

所以，正确选项是C。

25. 古希腊古罗马是西方文明的摇篮，西方哲学、美学及各种艺术形式始于此，西方的音乐文化也由此开始。这个时期出现过最早基于口头传唱的希腊长诗，如《伊利亚特》和《奥德赛》；数学家毕达哥拉斯揭示了音乐与数学之间的关系；著名的三大悲剧家埃斯库罗斯、欧里庇得斯、索福克勒斯既是戏剧家也是音乐家，在他们的戏剧中，音乐发挥了奇妙的作用。

从这段文字可以看出，古希腊古罗马时期音乐文化的特点是：

- A. 含义比现在更为狭窄 B. 内容主要涉及数学和戏剧
C. 与其他艺术及科学联系密切 D. 与艺术和哲学有严格的区分

【答案】C。解析：

本题属于概括主旨型。

阅读可知，题干属于并列型结构。概括这种并列型结构的材料，要求考生不要忽略并列在一起的每一个部分。具体说，题干罗列了音乐与诗歌、音乐与数学、音乐与戏剧之间的关系，把它们概括起来就是：音乐与其他艺术及科学联系密切。

所以，正确选项是 C。

26. 传统的动物资源保护措施主要是划定保护区或建立保种基地。这些措施能很好地保护物种的多样性，但也存在一些缺点：保护区面积大，偷猎现象屡禁不止；建立良种基地保护地方品种投资大，时间长，容易出现近亲繁殖、物种衰退等现象。试管、克隆、冷冻保存等生物技术新成果的问世，为动物遗传资源的保护和利用开辟了新途径，建造“动物诺亚方舟”不再是天方夜谭。

这段文字主要介绍了：

- A. 保护动物物种多样性所取得的突破性进展
- B. 传统资源保护措施所遇到的困难和取得的进步
- C. 动物资源保护促成了生物技术新成果的诞生
- D. 生物技术的进步为动物资源保护开辟了新天地

【答案】D。解析：

本题属于概括主旨型。

阅读可知，题干属于转折型结构，转折型结构强调的是转折后面的内容。题干首先罗列了“传统的动物资源保护措施”存在的种种问题，话锋一转，指出“生物技术新成果的问世，为动物遗传资源的保护和利用开辟了新途径”。因此，这段文字的主旨是：生物技术的进步为动物资源保护开辟了新天地。

所以，正确选项是 D。

27. 今天，随着科学技术的迅速发展，人们的物质与精神文化需求日益增长，小范围、低水平的科普活动已远不适应时代的发展。“理解科学”这个大“科普”，便成为迫切需要全社会关注的重大课题。随着科学技术的纵深发展，科学技术逐渐形成了自己的概念和逻辑体系，也渐渐远离了大众的视线与常识。人们很难凭借以往的知识结构和经验，来准确理解科学及其所引起的各种变化，很难判断其社会价值与意义，这就使得一些科学技术成为横亘在人类发展道路上的知识壁垒。

这段文字意在说明：

- A. 提高科普工作水平所面临的种种困难
- B. 现代科学技术有成为知识壁垒的可能
- C. 在新形势下提升科普工作水平的必要性
- D. 公民的科学素养与飞速发展的科学存在差距

【答案】C。解析：

本题属于推断文意型。所谓推断文意，就是要揭示出题干中隐含的意思。

阅读可知，题干属于因果型结构，因果型结构强调的是结果而不是原因。先说原因“随着……”，接着指出结果“小范围、低水平的科普活动已远不适应时代的发展。‘理解科学’这个大‘科普’，便成为迫切需要全社会关注的重大课题”（隐含：在新形势下提升科普工作水平的必要性）。

所以，正确选项是 C。

28. 一只小型广告灯箱一年可以杀死约 35 万只昆虫。亮如白昼的夜晚还会严重影响昆虫特别是成虫的生命周期。昆虫是自然界食物链中的一个重要环节，很多小型动物、鸟类和蝙蝠以昆虫为主要食物，许多植物靠昆虫授粉，如果昆虫的种类和数量发生变化，必将严重影响生态环境。过度的照明对能源浪费和环境污染的压力更是不言而喻。

这段文字意在强调：

- A. 昆虫在自然界中的重要作用
- B. 光照对动植物生长的主要影响
- C. 光污染对自然生态平衡的干扰
- D. 自然界各物种之间的关联密切

【答案】C。解析：

本题属于推断文意型。所谓推断文意，就是要揭示出题干中隐含的意思。

阅读可知，题干属于并列型结构。理解这种并列型结构的材料，要求考生不要忽略并列在一起的每一个部分。具体说，题干讲了两点，先说过度照明对动物和植物的不良影响，再说过度照明对能源浪费和环境污染的压力。概括起来就是“过度照明给环境造成了恶劣影响”（隐含：光污染对自然生态平衡的干扰）。

所以，正确选项是 C。

29. 几千年前，在非洲湿热的原始森林里，土著居民围着火堆，跟随各种复杂节奏自由而热烈地边舞边唱。这种歌声，也许在某些“文明人”眼里算不上音乐。然而，这样的声音却是最原始的，是在恶劣环境里顽强的本能所发出的生命之音。如果说布鲁斯音乐是很多音乐的根源，那么，上面所说的便是这个根源的根源。

这段文字是一篇文章的引言，文章接下来最应该讲述的是：

- A. 土著音乐产生的历史背景
- B. 自然环境与音乐风格的关系
- C. 人类本能在原始音乐中的表现
- D. 布鲁斯音乐与土著音乐的源流关系

【答案】D。解析：

本题属于文意衔接型。要求考生推测“文章接下来最应该讲述的”是什么。

阅读可知，题干为了论证土著音乐是“生命之音”，指出布鲁斯音乐是很多音乐的根源，而土著音乐则是布鲁斯音乐的根源。由于表述得非常概略，读者能从中获得的信息比较模糊。为了让读者更清楚地了解土著音乐对布鲁斯音乐的影响及其二者之间的源流关系，文章接下来最有可能介绍是 D 项：布鲁斯音乐与土著音乐的源流关系。

所以，正确选项是 D。

30. 有人说，经济领域与道德领域的规则不一样，经济领域强调的是“经济人”角色，以取得更大、更多利润为做事原则；而道德领域则要求奉献、利他、互助等。其实，经济领域固然有供求信号、等价交换、产权明晰、利润最大化等规则，但既然它是人们的社会活动，道德原则也会每时每刻渗透其中，两者难以清晰地割裂开来。

这段文字意在表明：

- A. 社会性是经济领域和道德领域的共同属性
- B. 在社会活动中需要兼顾经济原则与道德原则
- C. 市场经济中伦理道德的作用是必然存在的
- D. 社会活动中各领域的价值观念在互相渗透

【答案】C。解析：

本题属于推断文意型。所谓推断文意，就是要揭示出题干中隐含的意思。

阅读可知，题干属于转折型结构，转折型结构强调的是转折后面的内容。很显然，作者不同意有些人的“经济领域与道德领域的规则不一样”的观点，指出“经济领域固然有供求信号、等价交换、产权明晰、利润最大化等规则，但既然它是人们的社会活动，道德原则也会每时每刻渗透其中，两者难以清晰地割裂开来”。所谓“经济领域……两者难以割裂开来”，意思就是提醒人们：在市场经济中伦理道德的作用也是必然存在的。

本题的 B 项容易误选。题干中作者与有些人争论的焦点在于“在经济领域是否存在道德原则”，B 选项把“经济领域”扩大成了“社会活动”，排除。

所以，正确选项是 C。

31. 改革开放以来，我国经济总体上保持了高速增长态势，但劳动就业的增长却远低于经济增长的速度。目前，尽管我国服务业吸纳劳动就业的比重在不断上升，甚至已经成为吸纳就业的主力军，并且基本消化了包括从农业和制造业中转移出来的劳动力存量在内的所有新增劳动力，但与发达国家相比，

它对劳动就业的贡献率还是太低。我们务必利用产业结构调整和增长模式转变的机会，发掘服务业对发展经济和扩大就业的巨大潜力。

这段文字主要说明了：

- A. 产业结构调整是我国服务业快速发展的重要契机
- B. 服务业是保障我国就业快速增长的重要推动因素
- C. 我国服务业对劳动就业的吸纳能力有待进一步拓展
- D. 就业与经济增长不一致的主要原因在于服务业发展滞后

【答案】C。解析：

本题属于概括主旨型。

阅读可知，题干属于转折型结构，转折型结构强调的是转折后面的内容。题干说：“目前，尽管我国服务业吸纳劳动就业的比重在不断上升，……但与发达国家相比，它对劳动就业的贡献率还是太低”，概括起来其主旨是：我国服务业对劳动就业的吸纳能力有待进一步拓展。

所以，正确选项是 C。

32. 与硬实力相比，软实力偏重的是一种影响力、一种精神性。一个城市的软实力是外界对这座城市吸引力、感染力的直觉反应和头脑印记，是市民对这座城市的认同与依恋，是城市管理者智慧与情怀的折射。软实力与硬实力结合，构成了一个城市的整体实力，而两者的相加并非一个常数，软实力直接影响着硬实力效能的发挥。软实力像一条软绳子，硬实力像一堆硬干柴，绳子虽软，却可以把硬干柴紧紧捆绑在一起，形成铸造一座美好城市的巨大能量。

这段文字意在说明：

- A. 城市整体实力的概念及其构成
- B. 城市软实力的内涵及其重要性
- C. 城市软实力和硬实力各有侧重
- D. 城市软实力和硬实力相得益彰

【答案】B。解析：

本题属于推断文意型。所谓推断文意，就是要揭示出题干中隐含的意思。

阅读可知，题干属于并列型结构。理解这种并列型结构的材料，要求考生不要忽略并列在一起的每一个部分。具体说，题干先给出了“软实力”的定义（隐含：软实力的内涵），然后再说“软实力直接影响着硬实力效能的发挥”（隐含：软实力的重要作用）。由此可知，这段文字意在说明：城市软实力的内涵及其重要性。

所以，正确选项是 B。

33. ①单纯罗列史料，构不成历史
②只有在史料引导下发挥想象力，才能把历史人物和事件的丰富内涵表现出来
③历史研究不仅需要发掘史料，而且需要史学家通过史料发挥合理想象
④所谓合理想象，就是要尽可能避免不实之虚构
⑤这是一种悖论，又难以拒绝
⑥但是，只要想象就难以避免不实虚构出现

将以上 6 个句子重新排列，语序正确的是：

- A. ③①②④⑥⑤
- B. ④⑤⑥③②①
- C. ①③④⑥⑤②
- D. ⑤③②①④⑥

【答案】A。解析：

本题属于语句排序题。作答语句排序题关键是要把握句子之间的逻辑关系。

阅读可知，题干句子讨论了“罗列史料”和“合理想象”两个方面的内容。③是唯一涉及这两个方面的句子，按照文章的一般结构，这句话要么是开头的引导句，要么是结尾的总结句。对比 4 个选项，只有 A 项符合要求，它把③作为开头的引导句。

根据“突点排除法”，可以直接排除 B、C、D 三项。
所以，正确选项是 A。

34. ①在丹麦、瑞士等北欧国家发现和出土的大量石斧、石制矛头、箭头和其他石制工具以及用树干造出的独木舟便是遗证
②陆地上的积冰融化后，很快就出现了苔藓、地衣和细草，这些冻土原始植物引来了驯鹿等动物
③又常年受着从西面和西南面刮来的大西洋暖湿气流的影响，很适合生物的生长
④动物又吸引居住在中欧的猎人在夏天来到北欧狩猎
⑤北欧虽说处于高纬度地区，但这一带正是北大西洋暖流流经的地方
⑥这大约发生在公元前 8 000 年到公元前 6 000 年的中石器时代
将以上 6 个句子重新排列，语序正确的是：
A. ⑥⑤③②④①
B. ⑤②③④①⑥
C. ⑤③②④⑥①
D. ⑥②④①⑤③

【答案】C。解析：

本题属于语句排序题。作答语句排序题关键是要把握句子之间的逻辑关系。

阅读可知，句子⑥中有一个代词“这”，必须放在其指代的对象后面，如果放在第一句，就会导致指代不明的问题。因此，句子⑥不能放在第一句，排除 A、D 两项。

B、C 两项之间的明显不同在于②和③的顺序。阅读可知，句子③省略了主语，由于③和⑤一样都是讨论气候，因此，③应该与⑤有共同主语，紧挨在⑤的后面。由此排除 B 项。

所以，正确选项是 C。

35. 避讳是为了表示对封建君主和尊者的敬畏，必须避免直接说出他们的名字而采用别的方式加以表示。它是封建宗法制度的产物，又是家天下和尊祖敬宗的体现。他起源于西周，完备与秦汉，盛行于唐宋，到清代的雍正、乾隆年间发展到极致。避讳作为封建社会特有的禁忌制度目前已经消亡了，但是，不许犯忌和害怕犯忌的双向心理并没有消除，避讳已演变为某些趋吉避凶的习俗，在现实生活中的影响依然存在。
根据这段文字，以下说法正确的是：
A. 避讳由统治者运用国家权力强令实行
B. 封建社会的发展使得避讳越来越严格
C. 趋吉避凶的心理使人们进行各种避讳
D. 在当今现实生活中仍然存在避讳现象

【答案】D。解析：

本题属于推断文意型。所谓推断文意，就是要揭示出题干中隐含的意思。

阅读可知，“避讳已演变为某些趋吉避凶的习俗，在现实生活中的影响依然存在”（隐含：在当今现实生活中仍然存在避讳现象）。由此可知，说法正确的是 D 项。

所以，正确选项是 D。

36. 炮制技术被认为是中医药的核心技术，也是中医独有的传统技能，掌握它就等于掌握了中医药市场。国外企业通常通过在我国开办饮片加工厂、聘国内炮制专家“偷学”炮制技术，目前这样的外资企业达到几十家。这是因为，一些地方政府对国家在特殊领域的规定并不了解，无从管起；还有一些地方政府虽明知这些规定，但为了经济指标，对此不管不顾。调查表明，国内实际饮片厂数量比国家药监局公布的多几百家。
这段文字意在表明：
A. 国家应加强对炮制技术保密工作的管理
B. 政府应加强对设立中药饮片厂的资格审查
C. 我国中医药行业的发展受到外资企业的威胁

D. 地方政府应加强对中医药行业相关规定的了解

【答案】A。解析：

本题属于推断文意型。所谓推断文意，就是要揭示出题干中隐含的意思。

阅读可知，“国外企业通常通过在我国开办饮片加工厂、聘国内炮制专家“偷学”炮制技术，目前这样的外资企业达到几十家”，“一些地方政府虽明知这些规定，但为了经济指标，对此不管不顾。”对于我国传统中医技术流失的现状，字里行间透露出作者的极大担忧。由此可见，通过这段文字作者意在呼吁：为了遏制传统中医技术的进一步流失，国家应加强对炮制技术保密工作的管理。

所以，正确选项是 A。

37. 在安科莱，以畜牧为生的希马人和以农业为生的伊鲁人共同居住；在亚利桑那，纳瓦霍人以前靠狩猎和采集为生，现在主要以畜牧为生，他们与经营农业的霍皮人为邻；澳洲东南沿海地带以前住着以渔猎和劫掠粮食为生的土著居民，现在却住着从事农业、畜牧业及工业的欧洲人。

作者列举这些事实意在说明：

- A. 环境迫使人们接受某生活方式
B. 人们对自然环境有很强的适应能力
C. 不同文化的族群完全有可能和谐相处
D. 地理环境并非人类生产方式的决定因素

【答案】D。解析：

本题属于推断文意型。所谓推断文意，就是要揭示出题干中隐含的意思。

阅读可知，题干属于并列型结构，并列列举了三个事例。理解这种并列型结构的材料，要求考生不要忽略并列在一起的每一个部分。

在安科莱，以畜牧为生的希马人和以农业为生的伊鲁人共同居住。（隐含：在同样的环境里，人们可以采用不同的生活方式）在亚利桑那，纳瓦霍人以前靠狩猎和采集为生，现在主要以畜牧为生，他们与经营农业的霍皮人为邻。（隐含：在同样的环境里，人们可以采用不同的生活方式）澳洲东南沿海地带以前住着以渔猎和劫掠粮食为生的土著居民，现在却住着从事农业、畜牧业及工业的欧洲人。（隐含：在同样的环境里，人们可以采用不同的生活方式）。由此可知，在同样的环境里，人们可以采用不同的生活方式，地理环境并非人类生产方式的决定因素。

所以，正确选项是 D。

38. 哲学曾经是一种生活方式。所谓苏格拉底的哲学，不只是他和别人对话的方法，以及他在对话中提出的种种理论，更是他不立文字、浪迹街头、四处与人闲聊的生活方式。哲学从一开始就不是一种书面的研究，而是一种过日子的办法。只不过我们后来都忘了这点，把它变成远离日常的艰深游戏。即便是很多人眼中刻板的康德，也不忘区分“学院意义的哲学”和“入世意义的哲学”，并且以后者为尊。

这段文字意在说明：

- A. 哲学源于生活，应服务于民众
B. 如今的哲学发展偏离了它的本质
C. 康德和苏格拉底的哲学观念一脉相承
D. 当代人们对哲学的诠释方式发生了改变

【答案】A。解析：

本题属于推断文意型。所谓推断文意，就是要揭示出题干中隐含的意思。

阅读可知，题干属于转折型结构，转折型结构强调的是转折后面的内容。题干说：哲学从一开始就不是一种书面的研究，而是一种过日子的办法。（隐含：哲学源于生活）只不过我们后来都忘了这点，把它变成远离日常的艰深游戏。（隐含：我们把哲学远离了民众）。

对于“哲学远离了民众”的现状，作者流露出了明显的反对态度。意在说明：既然哲学源于生活，就应该让它回归生活，服务民众。

所以，正确选项是 A。

39. 世界记忆工程是世界遗产项目的延续。世界遗产项目是联合国教科文组织于 1972 年发起的，比世界记忆工程早 20 年，它关注的是自然和人工环境中具有突出意义和普遍价值的文化和自然遗产，如具有历史、美学、考古、科学或人类学研究价值的建筑物或遗址。而世界记忆工程关注的则是文献遗产，具体讲就是手稿、图书馆和档案馆保存的任何介质的珍贵文件，以及口述历史的记录等。根据这段文字，世界遗产项目与世界记忆工程的区别主要体现在：

- A. 遗产与文献
B. 实物与记录
C. 文化与档
D. 实物与遗迹

【答案】B。解析：

本题属于推断文意型。所谓推断文意，就是要揭示出题干中隐含的意思。

阅读可知，“世界遗产项目……关注的是自然和人工环境中具有突出意义和普遍价值的文化和自然遗产，如具有历史、美学、考古、科学或人类学研究价值的建筑物或遗址。”（隐含：关注具体实物）；“世界记忆工程关注的则是文献遗产，具体讲就是手稿、图书馆和档案馆保存的任何介质的珍贵文件，以及口述历史的记录等。”（隐含：关注文献记录）

由此可知，世界遗产项目与世界记忆工程的区别主要体现在 B 项：实物与记录。

所以，正确选项是 B。

40. 中国古代礼制要求服装尽力遮掩身体的各种凹凸，在裁制冕服时可以忽略人体各个部位的三维数据，不需要进行细致的测量。冕服章纹要有效地体现等级区别，图案就必须清晰可辨、鲜明突出。这使中国古代服饰中与服饰图案相关的绘、染、织、绣等工艺技术相当发达，也使中国古代服装的裁制向着有利于突出图案的方向发展。与西方重视身体三维数据、要求服装紧身合体的立体剪裁法不同，中国古代无论是冕服对人所占空间的扩大，还是图案对冕服平面风格的要求，都指向了中国传统服装宽大适体的平面剪裁法。

这段文字意在说明：

- A. 礼制的要求使中国传统服装采用了平面剪裁法
B. 中国古代服装的剪裁方法推动了印染技术的发展
C. 中西方剪裁方法的分化以冕服的产生与发展为特征
D. 礼制对官员服装的规定制约了中国古代服饰艺术的发展

【答案】A。解析：

本题属于推断文意型。所谓推断文意，就是要揭示出题干中隐含的意思。

阅读可知，题干的逻辑思路是：中国古代礼制要求服装尽力遮掩身体的各种凹凸→冕服章纹要有效地体现等级区别（隐含：礼制的要求），图案就必须清晰可辨、鲜明突出→无论是冕服对人所占空间的扩大，还是图案对冕服平面风格的要求，都指向了中国传统服装宽大适体的平面剪裁法。由此可知，这段文字意在说明：礼制是中国平面剪裁法的根源，正是礼制的要求使中国传统服装采用了平面剪裁法。

所以，正确选项是 A。

第二部分 数量关系

（共 15 题，参考时限 15 分钟）

一、数字推理。每道题给你一个数列，但其中缺少一项，要求你仔细观察数列的排列规律，然后从四个供选择的选项中选择你认为最合理的一项，来填补空缺项，使之符合原数列的排列规律。

41. 1, 6, 20, 56, 144, ()

- A. 256
B. 312
C. 352
D. 384

【答案】C。解析：

本题的数字规律是：从左到右相邻三项，第二项减第一项得到的差再乘以 4，可以得到第三项。即：

1, 6, 20, 56, 144, (?)

5, 14, 36, 88, 相邻三项的第二项减第一项得到的差再乘以4等于第三项

按照这个规律, $? = 88 \times 4 = 352$ 。

所以, 正确选项是 C。

42. 3, 2, 11, 14, (), 34

A. 18 B. 21 C. 24 D. 27

【答案】D. 解析:

本题的数字规律是: 从左到右数列各项依次为自然数列的平方加减 2, 其中奇数项加 2, 偶数项减 2。即:

$1^2 + 2 = 3, 2^2 - 2 = 2, 3^2 + 2 = 11, 4^2 - 2 = 14, 5^2 + 2 = (?), 6^2 - 2 = 34$ 。

按照这个规律, $? = 27$ 。

所以, 正确选项是 D。

43. 1, 2, 6, 15, 40, 104, ()

A. 329 B. 273 C. 225 D. 185

【答案】B. 解析:

本题的数字规律是: 从左到右相邻两项, 后项减前项的差可以得到一个二级数列。这个二级数列的每一项都可以表述为一个平方数, 其从左到右相邻三项, 前两项的底数之和等于第三项的底数。即:

1, 2, 6, 15, 40, 104, (?)

1, 4, 9, 25, 64, (169) 相邻两项的后项减前项的差

$1^2, 2^2, 3^2, 5^2, 8^2, (13^2)$ 前两项的底数之和等于第三项的底数

按照这个规律, $? = 169 + 104 = 273$ 。

所以, 正确选项是 B。

44. 2, 3, 7, 16, 65, 321, ()

A. 4 546 B. 4 548 C. 4 542 D. 4 544

【答案】A. 解析:

本题的数字规律是: 从左到右相邻三项, 第一项的平方加上第二项等于第三项。即:

$2^2 + 3 = 7, 3^2 + 7 = 16, 7^2 + 16 = 65, 16^2 + 65 = 321, 65^2 + 321 = (?)$ 。

按照这个规律, $? = 4546$ 。

所以, 正确选项是 A。

45. $1, \frac{1}{2}, \frac{6}{11}, \frac{17}{29}, \frac{23}{38}, ()$

A. $\frac{117}{191}$ B. $\frac{122}{199}$ C. $\frac{28}{45}$ D. $\frac{31}{47}$

【答案】B. 解析:

解答这类分数数列题时, 如果把其中的整数项统一变形为分数, 将对发现其中的数字规律有很大帮助。

把本题中的第一项“1”变形为“ $\frac{1}{1}$ ”，“ $\frac{1}{2}$ ”变形为“ $\frac{2}{4}$ ”，“ $\frac{23}{38}$ ”变形为“ $\frac{46}{76}$ ”，则原数列可以整理为：

$$\frac{1}{1}, \frac{2}{4}, \frac{6}{11}, \frac{17}{29}, \frac{46}{76}, (\quad).$$

观察可见，从左到右相邻两项，前项的分子分母之和等于后项的分子，前项的分母加上后项的分子再加1等于后项的分母。

按照这个规律，可以推知下一项的分子应该是： $46+76=122$ ，分母应该是： $76+122+1=199$ 。因此填入括号内的应该是B项： $\frac{122}{199}$ 。

所以，正确选项是B。

二、数学运算。每道试题呈现一段表述数字关系的文字，要求你迅速、准确地计算出答案。

46. 某单位订阅了30份学习材料发放给3个部门，每个部门至少发放9份材料。问一共有多少种不同的发放方法？

- A. 7 B. 9 C. 10 D. 12

【答案】C。解析：

根据“每个部门至少发放9份材料”可知，只有剩下的3份学习材料的不同发放情况影响发放方法。第一种情况是把3份材料给每个部门发一份，即(10、10、10)，那么有1种方法。

第二种情况是把3份材料都给一个部门，那么共有3种方法，即：

(12、9、9)，(9、12、9)，(9、9、12)

第三种情况是把3份材料中的2份给一个部门，把1份给一个部门，其中一个部门不给，那么共有6种方法，即：

(11、10、9)，(11、9、10)

(10、11、9)，(10、9、11)

(9、10、11)，(9、10、11)

把这三种情况加起来，共有10种分法。

所以，正确选项是C。

47. 某高校对一些学生进行问卷调查。在接受调查的学生中，准备参加注册会计师考试的有63人，准备参加英语六级考试的有89人，准备参加计算机考试的有47人，三种考试都准备参加的有24人，准备选择两种考试都参加的有46人，不参加其中任何一种考试的有15人。问接受调查的学生共有多少人？

- A. 120 B. 144 C. 177 D. 192

【答案】A。解析：

根据题意，可以把题干条件图示为：

让我们来分析一下图示，并确定不同区域的数据：

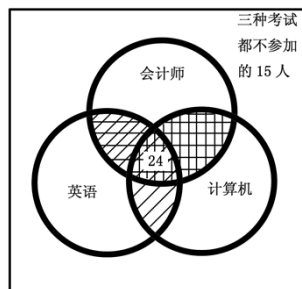
圆圈中的三重阴影部分，是三种考试都准备参加的，有24人；

圆圈中的两重阴影部分，是准备参加两种考试的，有46人；

圆圈中的无阴影部分，是准备参加一种考试的；

圆圈外面的部分，是不参加其中任何一种考试的，有15人。

由此可知，接受调查的学生 = (准备参加注册会计师考试的 + 准备参加英语六级考试的 + 准备参加计算机考试的) - (三种考试都准备参加的 × 2) - 准备参加一种考试的 + 不参加其中任何一种考试的。即：



接受调查的学生 = $(63+89+47) - 24 \times 2 - 46 + 15 = 105 + 15 = 120$ (人)

所以, 正确选项是 A。

48. 某地劳动部门租用甲、乙两个教室开展农村实用人才培训。两教室均有 5 排座位, 甲教室每排可坐 10 人, 乙教室每排可坐 9 人。两教室当月共举办该培训 27 次, 每次培训均座无虚席, 当月培训 1 290 人次。问甲教室当月共举办了多少次这项培训?

- A. 8 B. 10 C. 12 D. 15

【答案】D。解析:

根据题意可知, 甲教室每次培训可以坐 50 人, 乙教室每次培训可以坐 45 人。

假设当月的 27 次培训都在甲教室举办, 那么当月培训的人数为: $27 \times 50 = 1\ 350$ 人, 这比实际培训的 1 290 人多了 60 人。

为什么会多出 60 人呢? 因为把所有的乙教室都当成甲教室了。每个甲教室多算了 5 人, 所以在乙教室培训的次数为: $60 \div 5 = 12$ 次。

则在甲教室培训的次数为: $27 - 12 = 15$ 次。

所以, 正确选项是 D。

49. 某城市居民用水价格为: 每户每月不超过 5 吨的部分按 4 元/吨收取, 超过 5 吨不超过 10 吨的部分按 6 元/吨收取, 超过 10 吨的部分按 8 元/吨收取。某户居民两个月共交水费 108 元, 则该户居民这两个月用水总量最多为多少吨?

- A. 21 B. 24 C. 17.25 D. 21.33

【答案】A。解析:

根据题意, 要使该户居民这两个月的用水总量最多, 则必须在低价位的用水数量尽量多。

两个月内 4 元/吨的水费支出为: $5 \times 4 \times 2 = 40$ 元。

两个月内 6 元/吨的水费支出为: $5 \times 6 \times 2 = 60$ 元。

$108 - (40 + 60) = 8$ 元

还剩下的这 8 元用来支出 8 元/吨的水费, 可以用 1 吨水。

则该户居民这两个月的用水总量最多为: $2 \times (5 + 5) + 1 = 21$ 吨。

所以, 正确选项是 A。

50. 一公司销售部有 4 名区域销售经理, 每人负责的区域数相同, 每个区域都正好有两名销售经理负责, 而任意两名销售经理负责的区域只有 1 个相同。问这 4 名销售经理总共负责多少个区域的业务?

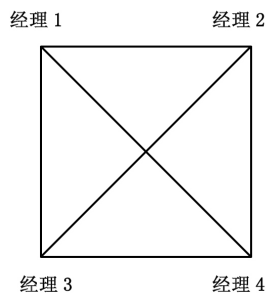
- A. 12 B. 8 C. 6 D. 4

【答案】C。解析:

四个经理相当于一个正方形的四个顶点, 他们负责的区域相当于正方形的四条边和两条对角线。每条线上都正好有两名销售经理, 而任意两名销售经理之间都有一条共同的线。

则 4 名销售经理总共负责的区域有: $4 + 2 = 6$ 个

所以, 正确选项是 C。



51. 一商品的进价比上月低了 5%, 但超市仍按上月售价销售, 其利润率提高了 6 个百分点, 则超市上月销售该商品的利润率为:

- A. 12% B. 13% C. 14% D. 15%

【答案】C。解析:

设上月该商品的进价为 100 元, 销售该商品的利润率为 x , 根据题意, 两个月的销售收入相等, 则

可得算式:

$$100x = (100-5) \times (x+6)$$

解得: $x=1.14$, 也就是说, 该超市上月销售该商品的利润率为 14%。

所以, 正确选项是 C。

52. 一位长寿老人出生于 19 世纪 90 年代, 有一年他发现自己年龄的平方刚好等于当年的年份。问这位老人出生于哪一年?

A. 1894 年 B. 1892 年 C. 1898 年 D. 1896 年

【答案】B。解析:

根据题意, “有一年他发现自己年龄的平方刚好等于当年的年份”, 这个“有一年”必定在该老人的出生年份 1892 年之后。我们知道, 40 的平方等于 1600, 根据数字敏感可以估算, 44 的平方是 1936。
 $1936-44=1892$, 与 B 项的年份恰好吻合。

所以, 正确选项是 B。

53. 科考队员在冰面上钻孔获取样本, 测量不同孔心之间的距离, 获得的部分数据分别为 1 米、3 米、6 米、12 米、24 米、48 米。问科考队员至少钻了多少个孔?

A. 4 B. 5 C. 6 D. 7

【答案】D。解析:

此题具有较大的迷惑性, 许多考生很容易从 6 个距离数据 (任意两孔之间存在一个距离) 出发, 误选为钻了 4 个孔。

但仔细分析数据可以发现, 没有任何两个距离之间能够形成三角形 (即不满足两边之和大于第三边), 也不能形成四边形、五边形、六边形, 因此所有的孔只能在一条直线上。

在一条直线上, 存在 6 个距离, 至少要钻 7 个孔。

所以, 正确选项是 D。

54. 某旅游部门规划一条从甲景点到乙景点的旅游线路, 经测试, 旅游船从甲到乙顺水匀速行驶需 3 小时; 从乙返回甲逆水匀速行驶需 4 小时。假设水流速度恒定, 甲乙之间的距离为 y 公里, 旅游船在静水中匀速行驶 y 公里需要 x 小时, 则 x 满足的方程为:

A. $\frac{1}{4-x} = \frac{1}{x} + \frac{1}{3}$ B. $\frac{1}{3+x} = \frac{1}{4} + \frac{1}{x}$ C. $\frac{1}{3} - \frac{1}{x} = \frac{1}{4} + \frac{1}{x}$ D. $\frac{1}{3} - \frac{1}{x} = \frac{1}{x}$

$\frac{1}{4}$

【答案】D。解析:

这是一道典型的流水问题。旅游船从甲到乙顺水匀速行驶需 3 小时, 设旅游船的顺水航行速度为 $\frac{1}{3}$,

则顺水航行速度为 $\frac{1}{4}$, 静水航行速度为 $\frac{1}{x}$ 。根据流水问题的速度关系可得:

水速 = 顺水航速 - 静水航速 = 静水航速 - 逆水航速, 即: $\frac{1}{3} - \frac{1}{x} = \frac{1}{x} - \frac{1}{4}$ 。

所以, 正确选项是 D。

55. 某机关 20 人参加百分制的普法考试, 及格线为 60 分, 20 人的平均成绩为 88 分, 及格率为 95%。所有人得分均为整数, 且彼此得分不同。问成绩排名第十的人最低考了多少分?

A. 88 B. 89 C. 90 D. 91

【答案】B。解析：

根据题意，要使成绩排名第十的人的得分尽可能地低，则必须让其他 19 个人的得分在满足条件的前提下尽可能地高。

根据及格率为 95%可知，有一人不及格，这个不及格的人必须得最高分 59 分。

以平均成绩 88 分为基准分，前九名的最高得分必须依次是 100、99、98、97、96、95、94、93、92 分，一共比平均分多出 $(12+11+10+9+8+7+6+5+4) = 72$ 分。则第十至十九名必须相应地少 72 分，才能保持平衡。

去掉不及格的人少的分数 $(88-59) = 29$ 分，则第十至十九名还必须少 $(72-29) = 43$ 分。把这 43 分依次分配给第十至十九名，则有： $0+1+2+3+4+5+6+7+8+9 = 45$ 分。仅比 43 分多了 2 分，与要求的结果非常接近，（根据数字敏感可以估算，以 88 为基准，向上浮动 1 取 89，向下浮动 1 取消 87，可以把多出的 2 分平衡掉），则第十至十九名的最高得分依次是 89、88、86、85、84、83、82、81、80、79 分。

也就是说，第十名最低考了 89 分。

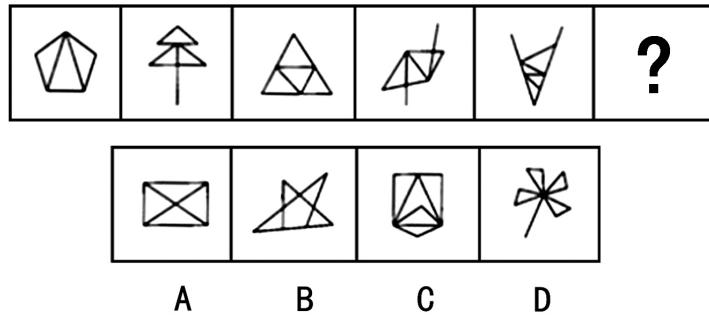
所以，正确选项是 B。

第三部分 判断推理

（共 35 题，参考时限 35 分钟）

一、图形推理。请按每道题的答题要求作答。

56. 从所给的四个选项中，选择最合适的一个填入问号处，使之呈现一定的规律性：

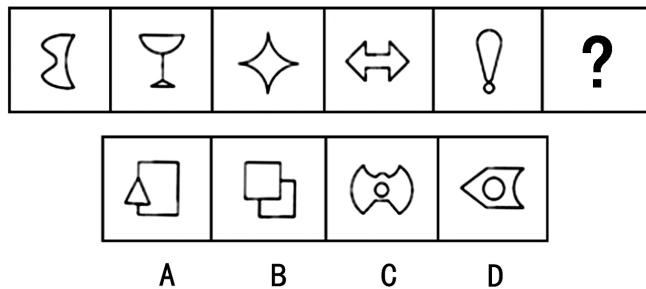


【答案】A。解析：

本题考查的是图形中构图元素的数量多少。观察题干的 5 个图形可以发现，其中包含的三角形的个数分别为：3，4，5，6，7。按照这个规律，填入问号处的图形必须包含有 8 个三角形。只有 A 项符合要求。

所以，正确选项是 A。

57. 从所给的四个选项中，选择最合适的一个填入问号处，使之呈现一定的规律性：



【答案】D。解析：

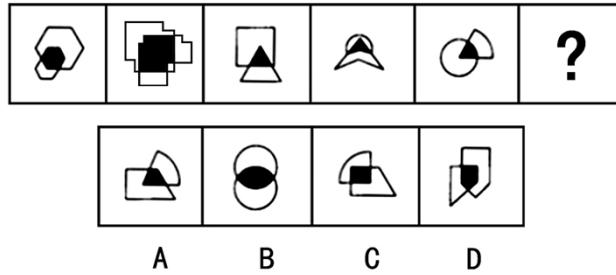
本题考查的是大对称图形，题干的左边三个图与右边三个图形成大对称图形。即：

上下对称 左右对称 上下左右对称 | 上下左右对称 左右对称 ?

按照这个规律，填入问号处的图形应该像最左边的那个图形一样是上下对称图形。只有 D 项符合要求。

所以，正确选项是 D。

58. 从所给的四个选项中，选择最合适的一个填入问号处，使之呈现一定的规律性：

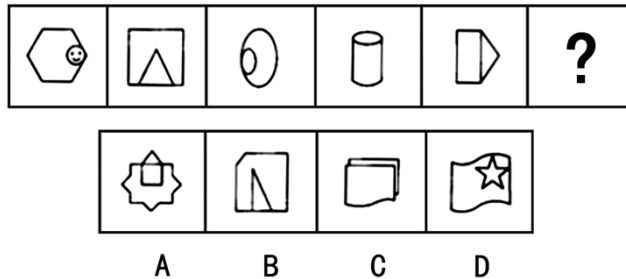


【答案】D. 解析：

观察题干的 5 个图形可以发现，每个图中的黑色图形的形状与其外围的白色图形的形状相似。按照这个规律，只有 D 项符合要求。

所以，正确选项是 D。

59. 从所给的四个选项中，选择最合适的一个填入问号处，使之呈现一定的规律性：

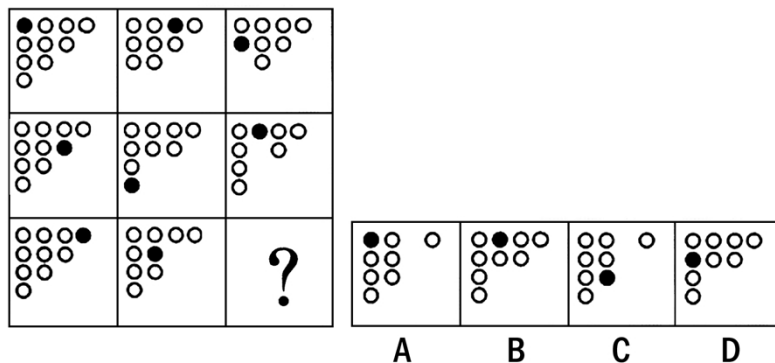


【答案】B. 解析：

观察题干的 5 个图形可以发现，每个图内的小图形的位置依次顺时针旋转 90 度。按照这个规律，只有 B 项符合要求。

所以，正确选项是 B。

60. 从所给的四个选项中，选择最合适的一个填入问号处，使之呈现一定的规律性：



【答案】C。解析：

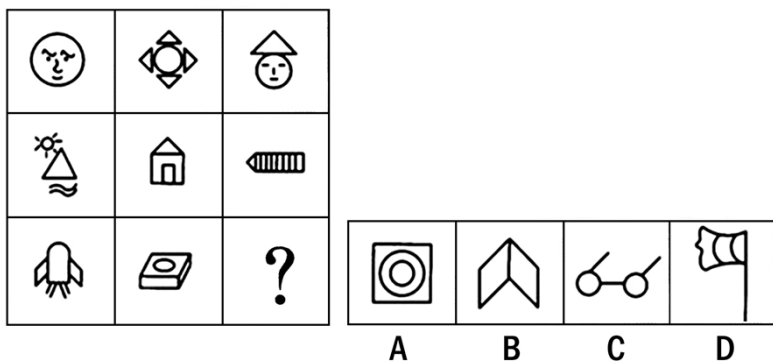
本题考查的是构图元素的增减和移动。其中：

- (1) 每一行三个图形中的某一列的白色圆圈，从左到右每次减少一个。由此可以排除 B、D 两项。
- (2) 每一行三个图形中的黑色圆点，从左到右每次移动两个白色圆圈的位置（到头折返）。由此可以排除 A 项。

按照这个规律，只有 C 项符合要求。

所以，正确选项是 C。

61. 从所给的四个选项中，选择最合适的一个填入问号处，使之呈现一定的规律性：



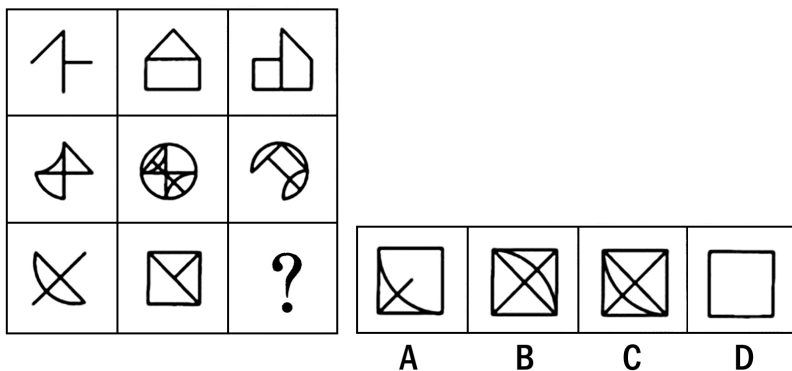
【答案】B。解析：

本题考查的是构图元素的求同。观察题干可见，第一行的三个图中都含有圆形，第二行的三个图中都含有三角形，第三行的前个图中都含有平行四边形（非正方形）。

按照这个规律，填入问号处的图形应该含有平行四边形（非正方形）。只有 B 项符合要求。

所以，正确选项是 B。

62. 从所给的四个选项中，选择最合适的一个填入问号处，使之呈现一定的规律性：



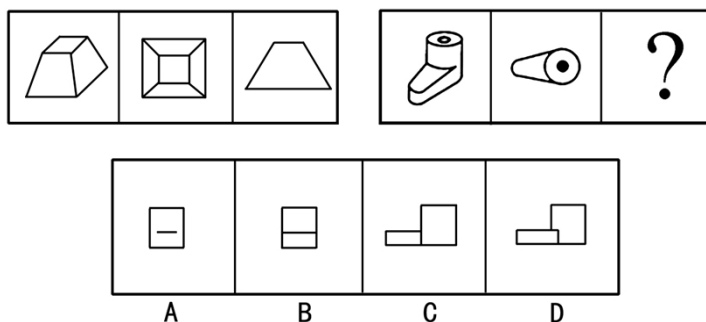
【答案】A。解析：

本题考查的是图形叠加“去同存异”。观察题干可见，每一行的前两个图形叠加“去同存异”，可以得到第三个图形。

按照这个规律，只有 A 项符合要求。

所以，正确选项是 A。

63. 从所给的四个选项中，选择最合适的一个填入问号处，使之呈现一定的规律性：

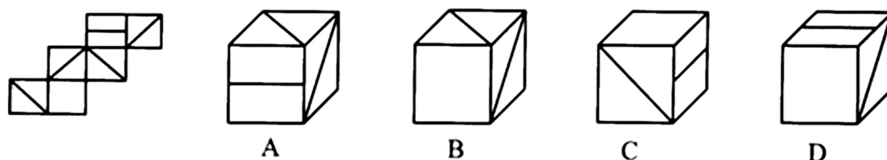


【答案】B。解析：

本题考查的是立体图形的多角度视图。观察第一套图形可见，它们分别是从小斜侧方、正上方、正前方观察同一个立体得到的图形。按照这个规律，填入问号处的图形应该是从正前方观察得到的图形。只有B项符合要求。

所以，正确选项是B。

64. 左边给定的是纸盒的外表面，下面哪一项能由它折叠而成？

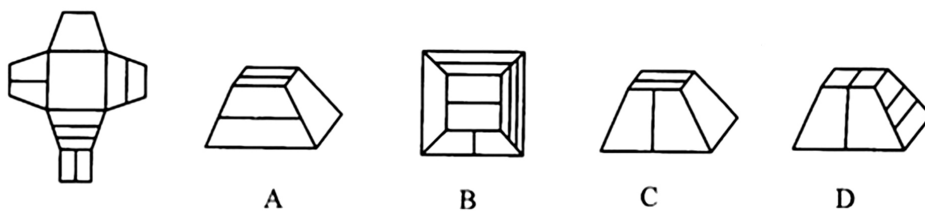


【答案】B。解析：

本题属于“立体折叠型”。观察左边的纸板图形可知，首先，折叠成立方体之后，带横线的面与白色的面必然是相对的，不可能相邻，由此排除C、D两项；其次，A项图形的顶面中的斜线应该是从左下角到右上角，由此排除A项。

所以，正确选项是B。

65. 左边给定的是纸盒的外表面，下面哪一项能由它折叠而成？



【答案】C。解析：

本题属于“立体折叠型”。观察左边的纸板图形可知，A项图形的右侧面上应该有两条横线，由此排除A项；B项图形的右侧面上不应该有两条横线，由此排除B项；D项图形的顶面中的直线不可能与正面中的直线连成一条线，由此排除D项。

所以，正确选项是C。

二、定义判断。每道题先给出定义，然后列出四种情况，要求你严格依据定义，从中选出一个最符合或最不符合该定义的答案。注意：假设这个定义是正确的，不容置疑的。

66. 差别比例税率是指一种税设两个或两个以上的税率，不同纳税人按不同比例计算应纳税额的税率。累进税率是指随着征税对象的数额由低到高逐级累进，所适用的税率也随之逐级提高的税率。

下列各项中所提到的税率，属于差别比例税率的是：

- A. 对于某企业来说，需缴纳 25%的企业所得税，还需缴纳 5%的营业税
- B. 我国自 2009 年 1 月 1 日起实施成品油税费改革，将成品油价内征收的汽油消费税单位税额每升提高 0.8 元，即由每升 0.2 元提高到 1 元
- C. 我国个人所得税中对工资薪金所得适用的税率随工资薪金所得增多而逐渐增多，从 5%到 45%共分为九档
- D. 2009 年 1 月 20 日至 12 月 31 日，我国对 1.6 升及以下排量的乘用车按 5%征收车辆购置税，对 1.6 升以上排量乘用车按 10%征收车辆购置税

【答案】D。解析：

本题是“属于型”。要求从四个备选项中找出属于“差别比例税率”的一项。

定义的关键信息是：（1）一种税，（2）设两个或两个以上的税率，（3）不同纳税人，（4）按不同比例计算应纳税额的税率。

A 项中的“企业所得税”和“营业税”（隐含：是两种不同的税，而不是“一种税”），不符合定义条件（1），排除。

B 项中的“汽油消费税”和 C 项中的“个人所得税”（隐含：针对的是相同的纳税人，而不是“不同纳税人”），不符合定义条件（3），排除。

D 项中的“车辆购置税”是一种税，针对 1.6 升及以下和 1.6 升以上排量的乘用车征收不同比例的税（隐含：对一种税设两个税率），完全符合“差别比例税率”的定义要求。

所以，正确选项是 D。

67. 美国社会学家默顿将社会功能划分为显功能和潜功能两个层次。显功能是有助于系统的调整和适应的客观后果，这种适应和调整是系统中的参与者所期望达到或能预料、认识到的。潜功能是没有被预料也没有被认识的客观后果。

下列选项不包含对潜功能描述的一项是：

- A. 电视剧《渴望》播放期间，万人空巷，社会治安明显好转
- B. 来自偏远山区的小刘为了摆脱贫困，让父母过上好日子，从小刻苦学习，做事认真，没几年功夫就成为一家大型企业的负责人，也使自己成为家乡父老教育孩子的榜样
- C. 张某根据自己的家庭收入状况，贷款 30 万买了一套房子，由于利率上升，自己的生活变得捉襟见肘
- D. 为抵御外族入侵，秦始皇修筑了长城，客观上促进了我国民间建筑工艺的发展

【答案】B。解析：

本题是“不属于型”。要求从四个备选项中找出不包含对“潜功能”描述的一项。

定义的关键信息是：（1）没有被预料也没有被认识的，（2）客观后果。

B 项中的小刘“为了摆脱贫困，让父母过上好日子，从小刻苦学习，做事认真，……成为一家大型企业的负责人”（隐含：这个结果是小刘有目的追求的，因而是被预料并且被认识的），不符合定义条件（1），不包含对潜功能描述。

所以，正确选项是 B。

68. 角色模糊是指个人所体验到的工作角色定位的不确定性，包括工作职责的不确定、工作目标的不确定等，因此常造成工作流程上的混乱和工作效率的低下。

根据上述定义，下列属于角色模糊的是：

- A. 小陈刚当上小学老师，想跟学生做朋友，尽管她现在跟学生的关系很亲密，可她发现学生们不怕她，不听话，甚至作业也不交
- B. 小张刚参加工作，满怀热情，一心想在工作岗位上充分发挥自己的专业特长，但却不得不经常做

些与其专业无关的工作，他因此觉得心理落差很大

- C. 张大夫身兼数职，是某医院骨科主任，同时又担任该医院的副院长、该地区医学委员等，工作繁忙使他日渐憔悴
- D. 苏丽刚升任客服部的副总监，有些事务她不知道是否该自己处理，如果处理了是否会超出目前的权限，也不知道去问谁，对于这些事务她通常就不处理

【答案】D。解析：

本题是“属于型”。要求从四个备选项中找出属于“角色模糊”的一项。

定义的关键信息是：（1）个人所体验到的，（2）工作角色定位（工作职责、工作目标）的不确定性，（3）常造成工作流程上的混乱和工作效率的低下。

A项中的小陈“想跟学生做朋友”，角色定位很清楚，只是效果不好而已，不符合定义条件（2），排除。

B项中的小张“一心想在工作岗位上充分发挥自己的专业特长”，角色定位很清楚，只是因为不愿意做与专业无关的工作，觉得有些心理落差而已，不符合定义条件（2），排除。

C项中的张大夫“身兼数职”，角色定位很清楚，只是因为工作繁忙有些憔悴而已，不符合定义条件（2），排除。

只有D项中的苏丽“刚升任客服部的副总监，有些事务她不知道是否该自己处理，如果处理了是否会超出目前的权限，也不知道去问谁”（隐含：不能确定自己的工作职责），属于“角色模糊”。

所以，正确选项是D。

69. 宜家效应是指劳动会增加人们对劳动成果的感情，当人们自己动手制作东西时，他们都会觉得自己的创作特别有价值。

根据上述定义，下列最能体现宜家效应的是：

- A. 某公司为方便人们制作蛋糕，推出方便蛋糕粉，使蛋糕的制作非常简单
- B. 让人们亲手做折纸，然后连同他人做的折纸放在一起竞价，结果大家都愿意为自己做的折纸出更高的价钱
- C. 学校鼓励学生自己动手制作各种教具，不仅锻炼了学生的动手能力，还节约了教学成本
- D. 某家具生产商生产的家具需要顾客买回家后，按照产品说明书来完成家具的拼装组合工作

【答案】B。解析：

本题是“属于型”。要求从四个备选项中找出最能体现“宜家效应”的一项。

定义的关键信息是：（1）劳动会增加人们对劳动成果的感情，（2）当人们自己动手制作东西时，他们都会觉得自己的创作特别有价值。

A、C、D三项都没有“觉得自己的创作特别有价值”的意思表示，明显不符合定义条件（2），排除。

B项中的“人们亲手做折纸”（隐含：自己动手制作东西），“大家都愿意为自己做的折纸出更高的价钱”（隐含：觉得自己的创作特别有价值），完全符合定义条件。

所以，正确选项是B。

70. 生态入侵是指人们有意识或无意识地把某种生物带入适宜其栖息和繁衍的地区，使得该生物种群不断扩大，分布区不断稳定地扩展，从而危害当地的生产和生活，改变当地生态环境的过程。

根据上述定义，下列属于生态入侵的是：

- A. 某地发生大面积放射性核素泄漏，使某种植物发生变异，其繁殖力超强，逐渐取代了该地域内的其他植物
- B. 某实验室由于管理不当将试验用的致病性结核菌株散播了出去，造成结核病在周围居民中流行
- C. 产于南美洲的风眼莲花朵艳丽，曾经作为观赏植物被我国引进，致使云南滇池因为风眼莲的疯狂蔓延而鱼虾绝迹

D. 美国科学家将从我国引进的野生大豆与当地品种杂交，培育出抗大豆萎黄病的优良品种，该品种现已彻底取代了美国传统大豆

【答案】C。解析：

本题是“属于型”。要求从四个备选项中找出属于“生态入侵”的一项。

定义的关键信息是：（1）人们有意识或无意识，（2）把某种生物带入适宜其栖息和繁衍的地区，（3）使得该生物种群不断扩大，分布区不断稳定地扩展，（4）危害当地的生产和生活，改变当地生态环境。

A 项中的某种植物是因为放射性核素泄漏而发生变异的（隐含：不是人们带入的），不符合定义条件（2），排除。

B 项中的“试验用结核菌株”（隐含：不是人们带入的），不符合定义条件（2），排除。

D 项中的“美国科学家将从我国引进的野生大豆与当地品种杂交，培育出优良品种”（隐含：没有危害当地的生产和生活），不符合定义条件（4），排除。

只有 C 项中凤眼莲是被我国从南美洲引进的，并且给云南滇池造成了严重危害，完全符合定义条件，属于“生态入侵”。

所以，正确选项是 C。

71. 证实性偏见是指过于关注支持自己决策的信息。当我们在主观上认为某种观点正确的时候，往往倾向于寻找那些能够支持这一观点的信息，而忽略掉那些可能推翻这一观点的信息。

根据上述定义，下列属于证实性偏见的是：

A. 自从小王产生辞职的念头以后，总觉得经理处处刁难他，甚至看不起他，就连经理和他开个玩笑，都认为是对他的嘲笑

B. 小林今年未考上重点大学，他明知是因为自己实力不够，但他总是对同学说：“要不是考试前患了感冒，我肯定考得更好。”

C. 小张总觉得室友最近的表现很反常，好像出什么事了，第二天公安局的人找小张询问情况，证实了他的猜测，室友被牵扯进了一起盗窃案

D. 小张前天夜里梦见自己的钱包被偷，昨天钱包真的被偷了；昨晚他又梦见自己被车撞，结果今天一整天没敢出门

【答案】A。解析：

本题是“属于型”。要求从四个备选项中找出属于“证实性偏见”的一项。

定义的关键信息是：（1）在主观上认为某种观点正确的时候，（2）倾向于寻找那些能够支持这一观点的信息，（3）忽略掉那些可能推翻这一观点的信息。

A 项中的小王“总觉得经理处处刁难他，甚至看不起他”（隐含：小王主观上认为正确的观点），“经理和他开个玩笑，都认为是对他的嘲笑”（隐含：小王为自己的观点寻找的支持信息），完全符合定义条件，属于“证实性偏见”。

B 项中的小林明知是因为自己实力不够，却对同学说：“要不是考试前患了感冒，我肯定考得更好。”（隐含：他明知自己的观点是不对的，只是好面子这样说而已），不符合定义条件（1），排除。

C 项中的小张对“室友表现反常”的猜测（隐含：他不认为自己的观点一定是正确的），不符合定义条件（1），排除。

D 项中的小张既没有在主观上认为正确的观点，也没有寻找支持的信息，不符合定义条件，排除。

所以，正确选项是 A。

72. 存疑时有利于被告原则是指在刑事诉讼中遇到事实无法查清或查清事实所需成本过高的情况，依照有利于被告的原则判决。

根据上述定义，下列表现符合该原则的是：

- A. 检察机关认为被告人犯罪情节显著轻微，决定免于起诉
- B. 法院在认定被告人犯有数罪或一罪之间存在疑问时，发回公安机关补充侦查
- C. 因缺少直接证据证实被告人有罪，法院对被告人做出无罪判决
- D. 无法确信某犯罪行为是否超过追诉时效时，应当追诉

【答案】C。解析：

本题是“属于型”。要求从四个备选项中找出符合“有利于被告的原则”的一项。

定义的关键信息是：（1）在刑事诉讼中，（2）遇到事实无法查清或查清事实所需成本过高的情况，（3）依照有利于被告的原则判决。

A项中的“检察机关认为被告人犯罪情节显著轻微，决定免于起诉”（隐含：不是因为事实无法查清），不符合定义条件（2），排除。

B、D两项中没有涉及“判决”，不符合定义条件（3），排除。

只有C项中的“缺少直接证据证实被告人有罪”（隐含：事实无法查清），“法院对被告人做出无罪判决”（隐含：依照有利于被告的原则判决），完全符合定义条件。

所以，正确选项是C。

73. 同类群体影响力是指人们对他人（尤其是类似群体）的行为总会做出某种反应；类似程度越高，影响力就越大。比如对某种良好行为规范大力宣传，往往会成为所谓的“磁心”，吸引人们仿效。

下列做法中不会带来同类群体影响力的是：

- A. 老师在墙报上贴小红花，表扬那些完成作业好、守纪律的小学生
- B. 酒店在房间内放置标语，提醒客人大多数客人都不是每天要更换手巾
- C. 某森林公园设置告示牌，告知偷盗林木者将受到高出林木价钱10倍的罚款
- D. 某地节水办告知那些用水量高的用户，他们的用水量明显高出了周围的邻居

【答案】C。解析：

本题是“不属于型”。要求从四个备选项中找出不会带来“同类群体影响力”的一项。

定义的关键信息是：（1）人们对他人（尤其是类似群体）的行为总会做出某种反应，（2）类似程度越高，影响力就越大。

A项中老师表扬那些完成作业好、守纪律的小学生（隐含：将在同类群体“小学生”中带来同类群体影响力），排除。

B项中酒店提醒客人大多数客人都不是每天要更换手巾（隐含：将在同类群体“客人”中带来同类群体影响力），排除。

D项中节水办告知用水量高的用户，他们的用水量明显高出了周围的邻居（隐含：将在同类群体“邻居”中带来同类群体影响力），排除。

C项中的森林公园设置告示牌，告知偷盗林木者将受到高出林木价钱10倍的罚款（隐含：被告知的对象是游客，而游客和偷盗林木者并不是类似群体），因而不会带来同类群体影响力。

所以，正确选项是C。

74. 蓄积器官是毒物在体内的蓄积部位，毒物在蓄积器官内的浓度高于其他器官，但对蓄积器官不一定显示毒作用。这种毒作用也可以通过某种病理生理机制，由另一个器官表现出来，这种器官叫作效应器官。

根据上述定义，下列判断正确的是：

- A. 沉积于网状内皮系统的放射性核素对肝、脾损伤较重，引起中毒肝炎，所以网状内皮系统是蓄积器官
- B. 大气污染中的二氧化硫经人体的上呼吸道和气管吸入人体，并直接刺激上呼吸道和气管，所以上呼吸道和气管是蓄积器官

- C. 大气污染物中的铅经肺吸收后可转移并积存于人的骨骼中，损害骨骼造血系统，所以铅的蓄积器官是肺
- D. 有机磷酸酯农药作用于神经系统，会造成神经突触处乙酰胆碱蓄积，使人产生流涎、瞳孔缩小等症状，所以神经系统是有机磷酸酯的效应器官

【答案】A。解析：

本题是“属于型”。要求从四个备选项中找出根据定义“判断正确”的一项。

题干给出了两个定义：（1）蓄积器官：是毒物在体内的蓄积部位，毒物在蓄积器官内的浓度高于其他器官，但对蓄积器官不一定显示毒作用。（2）效应器官：是通过某种病理生理机制表现毒作用的器官。

A项中“沉积于网状内皮系统的放射性核素”（隐含：是毒物在体内的蓄积部位），“对肝、脾损伤较重，引起中毒肝炎”（隐含：其毒作用并没有显示于网状内皮系统，而是通过其他器官显示出来）。因此，“网状内皮系统是蓄积器官”的说法是正确的。

B项中的二氧化硫并没有在人体中蓄积，而是直接刺激上呼吸道和气管，因此“上呼吸道和气管是蓄积器官”的说法是错误的，排除。

C项中的铅虽然是通过肺吸收并转移的，但是积存部位和损害部位都是骨骼，因此，“铅的蓄积器官是肺”的说法是错误的，排除。

D项中有机磷酸酯的农药作用于神经系统，并且在神经突触处蓄积，很显然神经系统是有机磷酸酯的蓄积器官。因此，“神经系统是有机磷酸酯的效应器官”的说法是错误的，排除。

所以，正确选项是A。

75. 偶然防卫是指在客观上被害人正在或即将对被告人或他人的人身进行不法侵害，但被告人主观上没有认识到这一点，出于非法侵害的目的而对被害人使用了武力，客观上起到了人身防卫的效果。根据上述定义，下列行为不属于偶然防卫的一项是：

- A. 甲正准备枪杀乙时，丙在后面对甲先开了一枪，将其打死。而丙在开枪时并不知道甲正准备杀乙，纯粹是出于报复泄愤的目的杀甲，结果是保护了乙的生命
- B. 甲与乙积怨很深，某日发生冲突后，甲回家拿了手枪打算去杀乙，两人在路上正好碰上，甲先开枪杀死了乙，但开枪时不知乙的右手抓住口袋中的手枪正准备对其射击
- C. 甲身穿警服带着电警棍，冒充警察去“抓赌”，甲抓住乙搜身时，乙将甲打伤后逃离，甲未能得手
- D. 甲与乙醉酒后发生激烈冲突，两人相互厮打至马路上，正当甲要捡起路边砖头击打乙时，围观人群中有人喊“警察来啦”，甲受惊吓不慎跌落路边河沟溺水身亡，乙安全无事

【答案】D。解析：

本题是“不属于型”。要求从四个备选项中找出不属于“偶然防卫”的一项。

定义的关键信息是：（1）在客观上被害人正在或即将对被告人或他人的人身进行不法侵害，但被告人主观上没有认识到这一点，出于非法侵害的目的而对被害人使用了武力，（2）客观上起到了人身防卫的效果。

A项中的被害人是甲，被告人是丙，丙在枪杀甲时并不知道甲正准备枪杀乙，而是出于非法侵害的目的。因此属于偶然防卫，排除。

B项中的被害人是乙，被告人是甲，甲在枪杀乙时并不知道乙也正在准备杀他，而是出于非法侵害的目的。因此属于偶然防卫，排除。

C项中的被害人是被打伤的甲，被告人是乙，乙在打伤甲时并不知道甲是冒充的警察，而是出于非法侵害的目的。因此属于偶然防卫，排除。

D项中的被害人是甲，但甲的溺水死亡是因为自己不慎落水，与乙没有因果关系，也就是说，乙并没有对甲进行非法侵害，不是被告人。因此，D项不属于偶然防卫。

所以，正确选项是 D。

三、类比推理。每题先给出一组相关的词，要求你在备选答案中找出一组与之在逻辑关系上最为贴近、相似或匹配的词。

76. 身份证：身份

A. 毕业证：学位

B. 房产证：房屋

C. 结婚证：配偶

D. 执业证：资格

【答案】D。解析：

题干词组的逻辑关系可以表述为：身份证是身份的象征。D 项的逻辑关系与此相同：职业证是资格的象征。

选项 A，毕业证是学历的象征，而不是学位的象征；选项 B，房产证是房屋所有权的象征，而不是房屋的象征；选项 C，结婚证是婚姻关系的象征，而不是配偶的象征。都与题干关系不符，排除。

所以，正确选项是 D。

77. 茶壶：紫砂：雕刻

A. 房门：木材：油漆

B. 夹克：布料：制作

C. 电线：金属：生产

D. 马路：柏油：铺设

【答案】A。解析：

题干词组的逻辑关系可以表述为：在紫砂的茶壶上可以进行雕刻装饰。A 项的逻辑关系与此相同：在木材的房门上可以进行油漆装饰。

B 项中的“制作”、C 项中的“生产”、D 项中“铺设”都不像“雕刻”那样是一种装饰的手段，不符合要求，排除。

所以，正确选项是 A。

78. 骨骼对于（ ） 相当于 （ ） 对于房屋

A. 人体 梁柱

B. 上肢 窗户

C. 关节 钢筋

D. 肌肉 电梯

【答案】A。解析：

分析题干中的“骨骼”和“房屋”两个词语可知，“骨骼”相当于“房屋”的结构支撑。因此，估计填入空格的词与题干之间可能是“……是……结构支撑”的关系。

代入选项词组可见，A 项构成的逻辑关系是相同的：骨骼是人体的结构支撑，梁柱是房屋的结构支撑。

所以，正确选项是 A。

79. （ ） 对于大脑 相当于 资料对于 （ ）

A. 智力 书籍

B. 记忆 硬盘

C. 细胞 图书馆

D. 学习 阅读

【答案】B。解析：

分析题干中的“大脑”和“资料”两个词语可知，大脑可以储存资料，“大脑”相当于储存空间，“资料”相当于存储在空间里的东西。因此，估计填入空格的词与题干之间可能是“……储存……”的关系。

代入选项词组可见，B 项构成的逻辑关系是相同的：大脑储存记忆，硬盘储存资料。

所以，正确选项是 B。

80. () 对于建筑 相当于 计划对于 ()

- A. 设计 成果
B. 图纸 工作
C. 材料 战略
D. 施工 目标

【答案】B。解析：

分析题干中的“建筑”和“计划”两个词语可知，建筑工作需要计划。因此，估计填入空格的词与题干之间可能是“……需要……计划”的关系。

代入选项词组可见，B项构成的逻辑关系是相同的：建筑需要图纸，工作需要计划。

所以，正确选项是B。

四、逻辑判断。每题给出一段陈述，这段陈述被假设是正确的，不容置疑的。要求你根据这段陈述，选择一个答案。注意：正确的答案应与所给的陈述相符合，不需要任何附加说明即可从陈述中直接推出。

81. 海洋中珊瑚的美丽颜色来自于其体内与之共存的藻类生物，其中虫黄藻是最重要的一类单细胞海藻。二者各取所需，相互提供食物。全球气候变暖造成的海水升温导致虫黄藻等藻类大量死亡，进而造成珊瑚本身死亡，引发珊瑚礁白化现象。然而研究发现，珊瑚能通过选择耐热的其他藻类生物等途径，来应对气候变暖带来的挑战。

以下哪项如果为真，将削弱这一研究发现？

- A. 一些虫黄藻能够比耐热的其他藻类耐受更高的海水温度
B. 有些藻类耐热性的形成需要一个长期的过程
C. 有些虫黄藻逐渐适应了海水温度的升高并存活下来
D. 在有些已白化的珊瑚礁中也发现了死去的耐热藻类生物

【答案】D。解析：

本题属于削弱型。

题干陈述的结论是：珊瑚能够应对气候变暖带来的挑战。据以得出这个结论的前提是：珊瑚能通过选择耐热的其他藻类生物等途径来避免死亡。

题目要求考生做的，就是从四个备选项中找出一个“唱反调”的选项来对题干陈述的论证进行反驳，从而使其不能成立。怎样才能使题干的论证不能成立呢？只要指出“耐热的其他藻类生物也不能维持珊瑚的生存”就可以了。

D项说“在有些已白化的珊瑚礁中也发现了死去的耐热藻类生物”（隐含：耐热的藻类生物也会死亡，珊瑚不可能靠耐热藻类生存）。如果D项为真，那么，珊瑚就不可能应对气候变暖带来的挑战，这就推翻了题干的论证。

所以，正确选项是D。

82. 有医学研究显示，吃维生素和矿物质补充剂对人体没有显著帮助，有时甚至会对人体造成伤害。一些医生给出劝告，不要再吃维生素和矿物质补充剂了，而应该通过均衡的饮食来补充人体所需的维生素和矿物质。

以下哪项如果为真，最能削弱上述研究结果？

- A. 一项对3万名妇女进行的7年追踪调查发现，服用维生素D加上钙补充剂并没有给她们的身体造成伤害
B. 一项对1万名男性展开的8年追踪调查显示，不服用维生素和矿物质补充剂并没有增加他们患病的风险
C. 一项对1万名发达地区和欠发达地区老年人的对照调查显示，他们的健康状况差异不显著
D. 一项对2万名儿童展开的3年追踪调查显示，不服用维生素和矿物质补充剂的儿童，营养缺乏的发生率较高

【答案】D。解析：

本题属于削弱型。

题干陈述的结论是：不要吃维生素和矿物质补充剂。据以得出这个结论的前提是：吃维生素和矿物质补充剂对人体没有显著帮助，有时甚至会对人体造成伤害。

题目要求考生做的，就是从四个备选项中找出一个“唱反调”的选项来对题干陈述的论证进行反驳，从而使其不能成立。怎样才能使题干的论证不能成立呢？只要指出“不吃维生素和矿物质补充剂不行”就可以了。

D项说“不服用维生素和矿物质补充剂的儿童，营养缺乏的发生率较高”（隐含：不吃维生素和矿物质补充剂不行）。如果D项为真，那么就推翻了题干论证的结论。

所以，正确选项是D。

83. 甲乙丙丁四人的车分别为白色、银色、蓝色和红色。在问到他们各自车的颜色时，甲说：“乙的车不是白色。”乙说：“丙的车是红色的。”丙说：“丁的车不是蓝色的。”丁说：“甲、乙、丙三人中有一个人的车是红色的，而且只有这个人说的是实话。”

如果丁说的是实话，那么以下说法正确的是：

- A. 甲的车是白色的，乙的车是银色的
- C. 丙的车是白色的，丁的车是蓝色的

- B. 乙的车是蓝色的，丙的车是红色的
- D. 丁的车是银色的，甲的车是红色的

【答案】C。解析：

本题属于逻辑推理型。

丁说：“甲、乙、丙三人中有一个人的车是红色的，而且只有这个人说的是实话。”四个选项中只有乙说的话里面涉及到了“红色”，可以首先从乙的话切入进行分析。

假设乙说的话“丙的车是红色的”是真的，则丙的车子是红色的。既然丙的车子是红色的，根据题意，车是红色的那个人说真话，则丙说的话也必定是真的。如此，则乙和丙说的话都是真的。然而乙和丙说的话不可能都是真的，因此，假设乙说的话是真的不能成立。那么，乙说的话必定是假的。

既然乙说的话是假的，根据“甲、乙、丙三人中有一个人的车是红色的，而且只有这个人说的是实话。”那么可知乙的车不是红色的。

既然乙说的话“丙的车是红色的”是假的，那么可以推知：丙车不是红色的。只有车是红色的那个人说真话，因此，丙说的话也是假的。

由丙说的话“丁的车不是蓝色的”为假，可以推知：丁的车是蓝色的。

只有C项符合要求。

所以，正确选项是C。

84. 在一次考古发掘中，考古人员在一座唐代古墓中发现多片先秦时期的夔文（音 kui，一种变体的龙文）陶片。对此，专家解释说，由于雨水冲刷等原因，这些先秦时期的陶片后来被冲至唐代的墓穴中。

以下哪项如果为真，最能质疑上述专家的观点？

- A. 在这座唐代古墓中还发现多件西汉时期的文物
- B. 这座唐代古墓保存完好，没有漏水、毁塌迹象
- C. 并非只有先秦时期才使用夔文，唐代文人以书写夔文为能事
- D. 唐代的墓葬风俗是将墓主生前喜爱的物品随同墓主一同下葬

【答案】B。解析：

本题属于削弱型。

题干陈述的结论是：由于等原因，唐代墓穴中的先秦陶片是被雨水冲刷来的。

题目要求考生做的，就是从四个备选项中找出一个“唱反调”的选项来对题干陈述的论证进行反驳，从而使其不能成立。怎样才能使题干的论证不能成立呢？只要指出“唐代墓穴中的先秦陶片不是被雨水

冲刷来的”就可以了。

B项说“这座唐代古墓保存完好，没有漏水、毁塌迹象”（隐含：先秦陶片不可能被雨水冲刷进这座唐代古墓里）。如果B项为真，那么就推翻了题干论证的结论。

所以，正确选项是B。

85. 以下是一则广告：

本网络文学培训班有着其他同类培训班所没有的特点，除了传授高超的写作技巧、帮助学员打开认识世界的多维视角和宏观视野、丰富学员的文化知识和艺术涵养外，还负责向毕业班学员提供切实有效的就业咨询。去年进行咨询的毕业班学员，100%都找到了工作。为了在网络文学创作事业上开创一片天地，欢迎加入我们的行列。

为了确定该广告的可信任，以下相关问题必须询问清楚的是：

I 去年共举办了多少期这类培训班，共有多少学员毕业？

II 去年有多少毕业班学员进行了就业咨询？

III 对于找到工作的学员，就业咨询究竟起到了什么作用？

IV 咨询者找到的是否都是网络文学创作工作？

A. I、II、III 和 IV

B. I、II 和 III

C. II、III 和 IV

D. III 和 IV

【答案】A。解析：

本题属于推断文意型。

要确定该广告的可信任，必须对它传达的信息进行梳理。为了吸引学员，广告主要是围绕“毕业班学员”这个关键词展开的，试图说明他们去年的培训效果很好，除了培训，还负责向毕业班学员提供切实有效的就业咨询，并且100%的毕业班学员都找到了工作。

面对广告我们不禁要问：

I 去年共举办了多少期这类培训班，共有多少学员毕业？（隐含：如果只有很少几期，并且只有很少学员，那么广告就不可信了）

II 去年有多少毕业班学员进行了就业咨询？（隐含：如果只向很少学员提供了就业咨询，那么广告就不可信了）

III 对于找到工作的学员，就业咨询究竟起到了什么作用？（隐含：如果提供的就业咨询没有什么作用，那么广告就不可信了）

IV 咨询者找到的是否都是网络文学创作工作？（隐含：如果咨询者找到的工作并不是网络文学创作方面的工作，那么广告就不可信了）

由此可见，为了确定该广告的可信任，I、II、III、IV 都是必须询问清楚的问题。

所以，正确选项是A。

86. 在由发展中国家向经济发达国家前进的过程中，大量资本支持是必不可少的条件，而高储蓄率是获得大量资本的必要条件。就目前来说，中国正处于经济起飞时期，因此，储蓄率高是当前经济发展中的一种正常而合理的现象。

由此可以推出：

A. 有了大量的资本支持，就可以实现由发展中国家向发达国家的跨越

B. 有了高储蓄率，就可以获得大量的资本支持

C. 如果没有获得大量的资本支持，说明储蓄率不高

D. 如果没有高储蓄率，就不能实现向发达国家的转变

【答案】D。解析：

本题属于逻辑推理型。

阅读可知，题干中包含着一个必要条件假言连锁推理的“否定前件式”，整理为：

只有高储蓄率，才能获得大量资本；
只有获得大量资本，才能实现由发展中国家向发达国家的转变；
因此，如果没有高储蓄率，就不能实现由发展中国家向发达国家的转变
所以，正确选项是 D。

87. 当代知名的动漫设计大师，绝大部分还没从动漫设计学校毕业就已经离开学校，开始自己的动漫设计生涯。因此，有人认为动漫设计的专业学习对学生们今后的职业发展并没能提供有力的帮助。以下哪项如果为真，能够最有力地反驳上述推论？
- A. 动漫设计大师都承认，他们学习了动漫设计学校的基础课程
 - B. 知名动漫公司在招聘设计师时，很看重应聘人员的毕业院校
 - C. 调查显示，动漫设计学校毕业生的平均年收入要显著高于同类院校其他专业的毕业生
 - D. 在动漫设计行业中职业发展比较好的从业者，基本都毕业于动漫设计学校

【答案】A。解析：

本题属于削弱型。

题干陈述的结论是：动漫设计的专业学习对学生们今后的职业发展并没能提供有力的帮助。据以得出这个结论的前提是：当代知名的动漫设计大师，绝大部分还没从动漫设计学校毕业就已经离开学校，开始自己的动漫设计生涯。

题目要求考生做的，就是从四个备选项中找出一个“唱反调”的选项来对题干陈述的论证进行反驳，从而使其不能成立。怎样才能使题干的论证不能成立呢？只要指出“动漫设计的专业学习对学生们今后的职业发展能够提供有力的帮助”就可以了。

A 项说“动漫设计大师都承认，他们学习了动漫设计学校的基础课程”（隐含：虽然绝大部分动漫大师还没从动漫设计学校毕业就已经离开学校，但是他们都承认学习了动漫设计学校的基础课程，这充分说明他们职业发展离不开专业学习的帮助）。如果 D 项为真，那么就推翻了题干论证的结论。

本题的 D 项容易误选。D 项说“在动漫设计行业中职业发展比较好的从业者，基本都毕业于动漫设计学校”，但是，毕业于动漫设计学校并不等于就说学习了动漫设计的专业课程，不能直接据此判定专业学习与动漫设计职业发展之间的关系。因此，在削弱的程度上比 A 项较轻，排除。

所以，正确选项是 A。

88. 以往，境内企业进出口只能以美元或第三方货币结算，在合同签约至合同执行完毕期间汇率的变化会使企业的实际盈收出现波动。现在银行推出了人民币结算业务，由于人民币是境内企业的本币，合同计价和企业运营的主要货币相一致，境内企业在合同签订前能够切实了解交易的成本和收入，从而防范了汇率风险。因此，使用跨境贸易人民币结算业务的企业必定会增多。以下哪项为真，最能作为上述论证的前提条件？
- A. 有了跨境贸易人民币结算业务，开展对外贸易的企业数量会越来越多
 - B. 在与国内企业发展贸易时，由于人民币币值保持稳定，境外企业愿意使用人民币作为结算货币
 - C. 有了跨境贸易人民币结算业务，国内企业可以更方便地将跨境贸易开展到世界各地
 - D. 由于国内巨大的市场空间，越来越多的境外企业愿意与国内企业开展贸易往来

【答案】B。解析：

本题属于搭桥型。

题干陈述的结论是：使用跨境贸易人民币结算业务的企业必定会增多。据以得出这个结论的前提是境内企业在合同签订前能够切实了解交易的成本和收入，从而防范了汇率风险。

难道仅仅是因为“境内企业在合同签订前能够切实了解交易的成本和收入，从而防范了汇率风险”，就能够得出“使用跨境贸易人民币结算业务的企业必定会增多”这样的结论吗？从题干现有的理由看，前提与结论之间是缺乏必然联系的。考生的任务就是在它们之间“搭桥”。

根据“加入否定法”可知，选项B是题干推出结论不可缺少的“桥”。否则，如果境外企业不愿意使用人民币作为结算货币，那么，单凭境内企业的一厢情愿是不能实现“跨境贸易人民币结算业务”的。如果那样，题干的论证也就不可能成立了。

所以，正确选项是B。

89. 某国人口总量自2005年起开始下降，预计到2100年，该国人口总数将只有现在的一半。为此该国政府出台了一系列鼓励生育的政策。但到目前为止该国妇女平均只生育1.3个孩子，远低于维持人口正常更新的水平（2.07个）。因此有人认为该国政府实施的这些鼓励生育的政策没有达到预期效果。

以下哪项如果为真，最能反驳上述论断？

- A. 该国政府实施的这些鼓励生育的政策是一项长期国策，短时间内看不出效果
- B. 如果该国政府没有出台鼓励生育政策，该国儿童人口总数会比现在低很多
- C. 如果该国政府出台更加有效的鼓励生育政策，就可以提高人口数量
- D. 近年来该国人口总数呈缓慢上升的趋势

【答案】B。解析：

本题属于削弱型。

题干陈述的结论是：该国政府实施的这些鼓励生育的政策没有达到预期效果。据以得出这个结论的前提是：该国政府出台了一系列鼓励生育的政策。但到目前为止该国妇女平均只生育1.3个孩子，远低于维持人口正常更新的水平（2.07个）。

题目要求考生做的，就是从四个备选项中找出一个“唱反调”的选项来对题干陈述的论证进行反驳，从而使其不能成立。怎样才能使题干的论证不能成立呢？只要指出“该国政府实施的这些鼓励生育的政策达到了预期效果”就可以了。

B项说“如果该国政府没有出台鼓励生育政策，该国儿童人口总数会比现在低很多”（隐含：该国政府出台的鼓励生育政策产生了一些积极效果，否则，该国儿童人口总数会比现在低很多）。如果A项为真，那么就推翻了题干论证的结论。

本题的D项容易误选。D项说“近年来该国人口总数呈缓慢上升的趋势”，但是，该国人口总数呈缓慢上升并不一定是由于政府出台鼓励生育政策的效果，也可能是“移民”“死亡率下降”等其他原因，排除。

所以，正确选项是B。

90. 甲国生产了一种型号为SU-34的新型战斗机，乙国在是否要引进这种战斗机的问题上，出现了两种不同的声音。支持者认为SU-34较以往引进的SU-30有更加强大的对地攻击作战能力。

以下哪项如果为真，最能削弱支持者的声音？

- A. 目前市场上有比SU-34性能更好的其他型号战斗机
- B. SU-30足以满足对地攻击的需要，目前乙国需要提升的是对空攻击作战能力
- C. 目前还没有实际数据显示究竟是SU-34还是SU-30有更强大的对地攻击作战能力
- D. 甲乙两国目前在双边贸易中存在诸多摩擦，引进SU-34会有很多实际困难

【答案】C。解析：

本题属于削弱型。

题干陈述的结论是：支持者认为要引进SU-34。据以得出这个结论的前提是：SU-34较以往引进的SU-30有更加强大的对地攻击作战能力。

题目要求考生做的，就是从四个备选项中找出一个“唱反调”的选项来对题干陈述的论证进行反驳，从而使其不能成立。怎样才能使题干的论证不能成立呢？只要指出“SU-34并不比SU-30有更加强大的对地攻击作战能力”就可以了。

C项说“目前还没有实际数据显示究竟是SU-34还是SU-30有更强大的对地攻击作战能力”（隐含：SU-34并不确定比SU-30有更强大）。如果D项为真，那么就推翻了题干论证的结论。

本题的B项容易误选。首先，“SU-30足以满足对地攻击的需要”的说法（隐含：承认了支持者的论据，承认SU-34比SU-30更强大，只不过觉得SU-30已经足够了，不再需要购买更强大的了）。所谓“SU-30已经足够了”的说法很傻很天真，面对更强大的SU-34，奢谈什么“足够了”简直就是痴人说梦。其次，“目前乙国需要提升的是对空攻击作战能力”（隐含：目前乙国军费紧张，购买SU-34与提升对空攻击作战能力二者不可兼得）。所谓“乙国军费紧张，二者不可兼得”之类的说法，是许多考生容易犯的脱离题设而任意附加说明的错误，背离了公务员考试逻辑判断的测查理念。因此B项是错误的，排除。

所以，正确选项是C。

第四部分 资料分析

（共25题，参考时限25分钟）

所给出的图、表、文字或综合性资料均有若干个问题要你回答。你应根据资料提供的信息进行分析、比较、计算和判断处理。

一、根据以下资料，回答91~95题。

中国汽车工业协会发布的2009年4月份中国汽车产销数据显示，在其他国家汽车销售进一步疲软的情况下，国内乘用车销量却持续上升，当月销量已达83.1万辆，比3月份增长7.59%，同比增长37.37%。

乘用车细分为基本型乘用车（轿车）、多功能车（MPV）、运动型多用途车（SUV）和交叉型乘用车。其中，轿车销量比3月份增长8.3%，同比增长33.04%；MPV销量比3月份下降3.54%，同比下降4.05%；SUV销量比3月份增长19.27%，同比增长22.55%；交叉型乘用车销量比3月份增长3.62%，同比增长70.66%。轿车、MPV、SUV和交叉型乘用车销量占4月份乘用车总销量的比重分别为71%、2%、6%和21%。

91. 与上年同期相比，2009年4月份乘用车销量约增长了多少万辆？

- A. 13.2 B. 22.6 C. 31.1 D. 40.4

【答案】B。解析：

第一步，明确问题。求“与上年同期相比，2009年4月份乘用车销量约增长了多少万辆”。

第二步，数据定位。中国汽车工业协会发布的2009年4月份中国汽车产销数据显示，……当月销量已达83.1万辆，……同比增长37.37%。

第三步，估算。

2008年4月份乘用车销量为： $83.1 \div (1 + 37.37\%) \approx 60$ 万辆。

与上年同期相比，2009年4月份乘用车销量约增长为： $83.1 - 60 = 23.1$ 万辆。与B项的数据最为接近。

所以，正确选项是B。

92. 2009年3月份轿车销量约为多少万辆？

- A. 64 B. 59 C. 54 D. 50

【答案】C。解析：

第一步，明确问题。求“2009年3月份轿车销量约为多少万辆”。

第二步，数据定位。中国汽车工业协会发布的2009年4月份中国汽车产销数据显示，当月销量已达83.1万辆，……其中，轿车销量比3月份增长8.3%，……轿车销量占4月份乘用车总销量的比重分别为71%……。

第三步，估算。

2009年4月份轿车销量为： $83.1 \times 71\% \approx 59$ 万辆。

则2009年3月份轿车销量约为： $59 \div (1 + 8.3\%) \approx 54$ 万辆。

所以，正确选项是 C。

93. 2008 年 4 月，SUV 销量比 MPV 销量约：

- A. 少 2.3 万辆 B. 多 2.3 万辆 C. 少 3.4 万辆 D. 多 3.4 万辆

【答案】B. 解析：

第一步，明确问题。求“2008 年 4 月，SUV 销量比 MPV 销量”的多少情况。

第二步，数据定位。中国汽车工业协会发布的 2009 年 4 月份中国汽车产销数据显示，当月销量已达 83.1 万辆，……MPV 销量比 3 月份下降 3.54%，同比下降 4.05%；SUV 销量比 3 月份增长 19.27%，同比增长 22.55%；……、MPV、SUV 销量占 4 月份乘用车总销量的比重分别为 2%、6%。

第三步，估算。

2008 年 4 月，SUV 销量约为： $(83.1 \times 6\%) (1 + 22.55\%) \approx 4$ 万辆。

2008 年 4 月，MPV 销量约为： $(83.1 \times 2\%) (1 - 4.05\%) \approx 1.7$ 万辆。

则 2008 年 4 月，SUV 销量比 MPV 销量多： $4 - 1.7 = 2.3$ 万辆。

所以，正确选项是 B。

94. 关于 2009 年 3 月份各种车型销量在总销量中所占比重的描述，以下正确的是：

- A. 交叉型乘用车低于 21% B. SUV 超过 6%
C. MPV 超过 2% D. 轿车超过 71%

【答案】C. 解析：

第一步，明确问题。求关于 2009 年 3 月份各种车型销量在总销量中所占比重的描述“正确”的一项。

第二步，数据定位。本题涉及的数据较多，请小心提取。

第三步，估算。

2009 年 4 月份交叉型乘用车销量占乘用车总销量的比重为 21%。4 月份，国内乘用车总销量比 3 月份增长 7.59%，而交叉型乘用车的销量比 3 月份仅增长 3.62%。据此可以推知，2009 年 3 月份交叉型乘用车在总销量中所占的比重应该高于 21%。因此 A 项的说法是错误的，排除。

2009 年 4 月份轿车销量占乘用车总销量的比重为 6%。4 月份，国内乘用车总销量比 3 月份增长 7.59%，而 SUV 的销量比 3 月份仅却增长高达 19.2%。据此可以推知，2009 年 3 月份 SUV 在总销量中所占的比重应该低于 6%。因此 B 项的说法是错误的，排除。

2009 年 4 月份 MPV 销量占乘用车总销量的比重为 2%。4 月份，国内乘用车总销量比 3 月份增长 7.59%，而 SUV 的销量比 3 月份仅却下降 3.54%。据此可以推知，2009 年 3 月份 MPV 在总销量中所占的比重应该超过 2%。因此 C 项的说法是正确的。

2009 年 4 月份 SUV 销量占乘用车总销量的比重为 71%。4 月份，国内乘用车总销量比 3 月份增长 7.59%，而轿车的销量比 3 月份却增长 8.3%。据此可以推知，2009 年 3 月份轿车在总销量中所占的比重应该低于 71%。因此 D 项的说法是错误的，排除。

所以，正确选项是 C。

95. 关于 2009 年 4 月乘用车销量的描述不正确的是：

- A. 轿车销量比上年同期增加了 20 万辆以上
B. SUV 以外车型销量占乘用车总销量比重比上月有所下降
C. MPV 车型当时不受市场追捧
D. 同比增长率最高的是交叉型乘用车

【答案】A. 解析：

第一步，明确问题。求关于 2009 年 4 月乘用车销量的描述“不正确”的一项。

第二步，数据定位。本题涉及的数据较多，请小心提取。

第三步，估算。

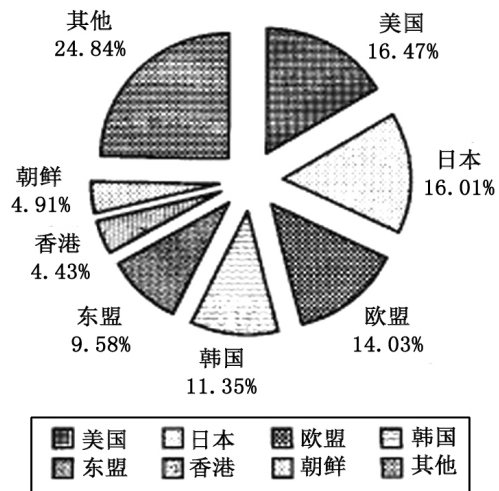
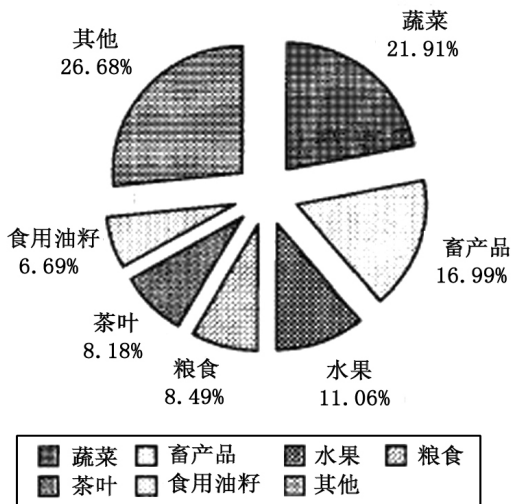
2009年4月轿车的销售量约为： $83.1 \times 71\% \approx 59$ 万辆。

2008年4月轿车的销售量约为： $59 \div (1 + 33.04) \approx 44$ 万辆

$59 - 44 = 15$ 。很显然，2009年4月的轿车销量比上年同期的增加量少于20万辆。因此，A项的说法是错误的。

所以，正确选项是A。

二、根据以下资料，回答96~100题。



2008年某省出口农产品结构图

2008年某省农产品出口市场分布情况图

2008年，某省农产品进出口贸易总额为7.15亿美元，比上年增长25.2%。其中，出口额为5.02亿美元，增长22.1%；进口额为2.13亿美元，增长33.2%。农产品进出口贸易额占全省对外贸易总额的4.5%。出口额居前5位的产品为蔬菜、畜产品、水果、粮食和茶叶，而绿茶出口额占茶叶出口额的四分之三。全省农产品对东欧、非洲、拉美等国家和地区的市场进一步开拓，出口额比上一年进一步增长。其中，对美国的出口额增长16.0%；对日本的出口额增长7.3%；对韩国的出口额增长59.8%；对东盟的出口额增长58.6%。

96. 2008年，该省的对外贸易总额约为多少亿美元？

- A. 158.89 B. 134.66 C. 91.78 D. 79.25

【答案】A。解析：

第一步，明确问题。求“2008年，该省的对外贸易总额约为多少亿美元”。

第二步，数据定位。2008年，某省农产品进出口贸易总额为7.15亿美元，……农产品进出口贸易额占全省对外贸易总额的4.5%。

第三步，估算。

2008年该省对外贸易总额约为： $7.15 \div 4.5\% \approx 160$ 亿美元。与A项的数据最为接近。

所以，正确选项是A。

97. 2008年，该省的绿茶出口额约为多少万美元？

- A. 4 387 B. 3 080 C. 2 255 D. 1 307

【答案】B。解析：

第一步，明确问题。求“2008年，该省的绿茶出口额约为多少万美元”。

第二步，数据定位。根据文字资料，2008年该省出口额为5.02亿美元，其中，绿茶出口额占茶叶出口额的四分之三。根据统计图资料，茶叶占出口额的8.18%，

第三步，估算。

2008年该省绿茶出口额约为 $5.02 \times 8.18\% \times 0.75 = 0.3$ 亿美元=3000万美元。与B项的数据最为接近。

所以，正确选项是B。

98. 2008年，该省农产品外贸顺差比上年增长了：

A. 5%

B. 15%

C. 25%

D. 35%

【答案】B。解析：

第一步，明确问题。求“2008年，该省农产品外贸顺差比上年增长了百分之几”。

第二步，数据定位。2008年，……出口额为5.02亿美元，增长22.1%；进口额为2.13亿美元，增长33.2%。

第三步，估算。

2008年该省的农产品外贸顺差为： $5.02 - 2.13 = 2.89$ 亿美元。

2007年该省的农产品外贸顺差为： $\frac{5.02}{1+22.1\%} - \frac{2.13}{1+33.2\%} \approx 2.5$ 亿美元。

2008年该省的农产品外贸顺差比上年增长为： $2.89 \div 2.5 - 1 \approx 15\%$ 。

所以，正确选项是B。

99. 与2007年相比，2008年该省出口韩国的农产品总额约增加了多少万美元？

A. 5100

B. 4500

C. 3200

D. 2100

【答案】D。解析：

第一步，明确问题。求“与2007年相比，2008年该省出口韩国的农产品总额约增加了多少万美元”。

第二步，数据定位。根据文字资料，2008年，某省农产品……出口额为5.02亿美元，……对韩国的出口额增长59.8%。根据统计图资料，2008年出口韩国的农产品总额占该省农产品总额的11.35%。

第三步，估算。

2008年该省出口韩国的农产品总额为： $5.02 \times 11.35\% \approx 0.6$ 亿美元。

2007年该省出口韩国的农产品总额为： $\frac{5.02 \times 11.35\%}{1+59.8\%} \approx 0.4$ 亿美元。

与2007年相比，2008年该省出口韩国的农产品总额约增加为：

$0.6 - 0.4 = 0.2$ 亿美元=2000万美元。

所以，正确选项是D。

100. 能够从上述资料中推出的是：

A. 2008年，该省蔬菜的出口额超过1亿美元

B. 2008年，该省出口日本的农产品总额接近8000万美元

C. 2008年，该省的粮食出口额比上年有所增长

D. 2007年，该省对东亚及东南亚地区的农产品出口占总出口额的一半以上

【答案】A。解析：

第一步，明确问题。求“能够从上述资料中推出的”一项。

第二步，数据定位。根据文字资料，2008年该省出口额为5.02亿美元。根据统计图资料，2008年该省蔬菜的出口额占该省出口额的21.91%。

第三步，估算。

5. $02 \times 21.91\% > 1$ 亿美元。因此，“2008 年该省蔬菜的出口额超过 1 亿美元”的说法可以从上述资料中推出。

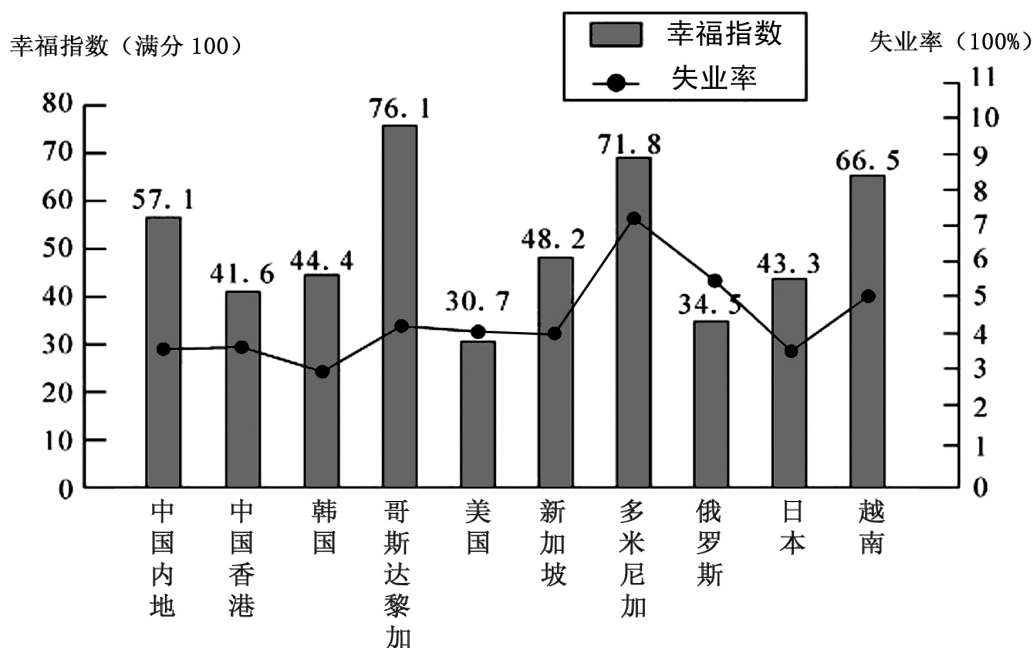
所以，正确选项是 A。

三、根据以上资料，回答 101~105 题。

2007 年部分国家（地区）国民生产总值

国家（地区）	人均国民生产总值（美元）	国民生产总值（亿美元）
中国内地	2 360	32 801
中国香港	31 610	2 067
韩国	19 600	9 698
哥斯达黎加	5 560	252
美国	46 040	138 112
新加坡	32 470	1 613
多米尼加	3 550	367
俄罗斯	7 560	12 910
日本	37 670	43 767
越南	790	712

2007 年部分国家（地区）幸福指数与失业率



101. 2007 年，下列国家（地区）中人口最少的是：

- A. 中国香港 B. 哥斯达黎加 C. 新加坡 D. 多米尼加

【答案】B。解析：

第一步，明确问题。求“2007 年，下列国家（地区）中人口最少的”一项。

第二步，数据定位。根据统计表中“国民生产总值”与“人均国民生产总值”的比值来求取人口数。

第三步，估算。

2007 年中国香港的人口为： $\frac{2067}{31610} \approx 0.065$ 亿。 2007 年哥斯达黎加的人口为： $\frac{252}{5560} \approx 0.045$ 亿。

2007 年新加坡的人口为： $\frac{1613}{32470} \approx 0.050$ 亿。 2007 年多米尼加的人口为： $\frac{367}{3550} \approx 0.1$ 亿。

很明显，哥斯达黎加的人口最少。
所以，正确选项是 B。

102. 资料中失业率最高与最低的国家（地区），其幸福指数相差：

- A. 22.1 B. 28.5 C. 27.4 D. 31.4

【答案】C。解析：

第一步，明确问题。求“资料中失业率最高与最低的国家（地区），其幸福指数相差多少”。

第二步，数据定位。根据统计图，失业率最高的国家是多米尼加，其幸福指数为 71.8；失业率最低的国家是韩国，其幸福指数为 44.4。

第三步，估算。

两国的幸福指数相差为： $71.8 - 44.4 = 27.4$ 。

所以，正确选项是 C。

103. 资料中人均国民生产总值和幸福指数均排名前五的国家（地区）有几个？

- A. 1 B. 2 C. 3 D. 4

【答案】A。解析：

第一步，明确问题。求“资料中人均国民生产总值和幸福指数均排名前五的国家（地区）有几个”。

第二步，数据定位。根据统计表可知，人均国民生产总值排名前五位的国家（地区）有：美国、日本、新加坡、中国香港和韩国；根据统计图可知，幸福指数排名前五位的国家（地区）有：哥斯达黎加、多米尼加、越南、中国内地和新加坡。

第三步，估算。

对比可知，人均国民生产总值和幸福指数均排名前五的国家（地区）只有新加坡。

所以，正确选项是 A。

104. 能够从上述资料中推出的是：

- A. 资料中只有一个亚洲国家（地区）的失业率高于美国
B. 美国的失业人口少于俄罗斯
C. 人均国民生产总值排名第二的国家（地区），幸福指数排名第八
D. 资料中人均国民生产总值越高的国家失业率越低

【答案】A。解析：

第一步，明确问题。求“能够从上述资料中推出的”一项。

第二步，数据定位。

第三步，估算。

观察统计图可知，亚洲国家中只有越南的失业率高于美国，因此 A 项的说法是正确。

所以，正确选项是 A。

105. 下列说法与资料相符的有几个？

- (1) 国民生产总值小于 1 000 亿美元的国家（地区），幸福指数均高于其他国家（地区）
(2) 人口过亿的国家（地区）失业率越低，幸福指数越高
(3) 比中国内地失业率低的国家（地区），幸福指数均低于中国内地
(4) 人均国民生产总值超过 2 万美元的国家（地区），幸福指数均低于其他国家地区

- A. 0 B. 1 C. 2 D. 3

【答案】C。解析：

第一步，明确问题。求“下列说法与资料相符的有几个”。

第二步，数据定位。本题涉及数据较多，请小心提取。

第三步，估算。

国民生产总值小于1 000亿美元的国家有三个：哥斯达黎加、多米尼加和越南，其幸福指数排名在前三位，高于其他国家（地区），因此第（1）个说法是正确的。

人口过亿的国家（地区），以日本和中国内地为例，日本的失业率低于中国内地，其幸福指数也低于中国内地。因此第（2）个说法是错误的。

比中国内地失业率低的国家（地区）有两个：韩国和日本，其幸福指数均低于中国内地，因此第（3）个说法是正确的。

人均国民生产总值超过2万美元的国家（地区）有四个：中国香港、美国、新加坡和日本，其中新加坡的幸福指数却高于韩国和俄罗斯，因此第（4）个说法是错误的。

综上可知，与资料相符的说法有2个。

所以，正确选项是C。

四、根据以下资料，回答106~110题。

2009年5月全国邮电业务基本情况

	单位	5月		比去年同期增长(%)	
		累计(1~5月)	当月	累计	当月
邮电业务总量	亿元	10 722.8	4 274.2	11.4	11.6
邮政业务总量	亿元	630.1	133.0	12.7	16.4
电信业务总量	亿元	10 092.7	2 141.2	11.3	11.4
函件总数	万件	311 389.3	62 864.3	1.7	2.8
包裹	万件	2 912.7	625.0	-15.8	-5.3
快递	万件	67 468.0	14 829.1	18.1	21.9
汇票	万笔	10 825.3	2 487.6	3.4	3.0
订销报纸累计数	万份	668 388.1	137 278.6	-0.1	-1.5
订销杂志累计数	万份	42 900.2	8 916.3	-0.5	-4.3
邮政储蓄期末余额	亿元	~	22 788.8	~	20.5
固定传统长途电话通话时长	亿分钟	352.1	72.4	-4.6	-0.8
移动电话通话时长合计(含本地)	亿分钟	13 770.2	2 961.3	17.6	16.4
移动电话长途通话时长	亿分钟	895.2	200.6	28.4	24.0
IP电话通话时长	亿分钟	500.0	103.9	-16.8	-20.3
移动短信业务量	亿条	3 195.4	643.2	11.2	10.4

106. 2009年1~5月，邮电系统平均每月订销报纸、杂志约多少亿份？

- A. 13.7 B. 14.2 C. 14.6 D. 17.8

【答案】B。解析：

第一步，明确问题。求“2009年1~5月，邮电系统平均每月订销报纸、杂志约多少亿份”。

第二步，数据定位。“累计（1~5月）”列中的“订销报纸累计数”、“订销杂志累计数”两行的数据。

第三步，估算。

2009年1~5月邮电系统共订销报纸、杂志为：

$668\ 388.1 + 42\ 900.2 = 711\ 288.3$ 万份 ≈ 71 亿份。

平均每月订销报纸、杂志约为： $71 \div 5 \approx 14.2$ 亿份。

所以，正确选项是 B。

107. 按 2009 年 5 月业务同比增长率从高到低排列，以下正确的是：

- A. 函件—包裹—快递
B. 汇票—包裹—快递
C. 快递—汇票—函件
D. 函件—汇票—包裹

【答案】C。解析：

第一步，明确问题。求“按 2009 年 5 月业务同比增长率从高到低排列正确”的一项。

第二步，数据定位。比去年同期增长（%）之“累计”列的数据。

第三步，估算。

2009 年 5 月，函件业务同比增长率为 2.8%，包裹业务同比增长率为 -5.3%，快递业务同比增长率为 21.9%，汇票业务同比增长率为 3.0%。

按从高到低排列，正确的顺序应该是：快递—汇票—函件。

所以，正确选项是 C。

108. 2008 年 1~5 月，移动电话长途通话时长约是固定传统长途电话通话时长的多少倍？

- A. 3.4
B. 2.5
C. 1.9
D. 0.5

【答案】C。解析：

第一步，明确问题。求“2008 年 1~5 月，移动电话长途通话时长约是固定传统长途电话通话时长的多少倍”。

第二步，数据定位。“固定传统长途电话通话时长”和“移动电话长途通话时长”两行的数据。

第三步，估算。

2008 年 1~5 月，移动电话长途通话时长约为： $895.2 \div (1+28.4) \approx 700$ 亿分钟。

2008 年 1~5 月，固定传统长途电话通话时长约为： $352.1 \div (1-4.6) \approx 370$ 亿分钟。

则 2008 年 1~5 月，移动电话长途通话时长约是固定传统长途电话通话时长的倍数为：

$700 \div 370 \approx 1.9$ 倍。

所以，正确选项是 C。

109. 假如平均每条移动短信的业务费用为 0.1 元，则 2009 年 5 月移动短信业务总量占当月电信业务总量的比重约为：

- A. 2.8%
B. 3.0%
C. 3.2%
D. 6.4%

【答案】B。解析：

第一步，明确问题。求“假如平均每条移动短信的业务费用为 0.1 元，则 2009 年 5 月移动短信业务总量占当月电信业务总量的比重”。

第二步，数据定位。“移动短信业务总量”、“电信业务总量”两行的数据。

第三步，估算。

2009 年 5 月移动短信业务总量为： $643.2 \times 0.1 = 64.32$ 亿元。

2009 年 5 月电信业务总量为：2141.2 亿元。

则 2009 年 5 月移动短信业务总量占当月电信业务总量的比重为：

$64.3 \div 2141.2 \approx 3\%$

所以，正确选项是 B。

110. 能够从上述资料中推出的是：

- A. 2009 年 5 月，各项电信业务与去年同期相比均有所增长

- B. 2009年5月, 各项邮政业务营业状况均好于1~4月平均水平
 C. 2009年5月, 移动电话长途通话占移动电话通话总时长的10%以上
 D. 2009年1~5月, 电信业务同比增长率高于邮政业务

【答案】B. 解析:

第一步, 明确问题。求“能够从上述资料中推出”的一项。

第二步, 数据定位。本题涉及数据较多, 请小心提取。

第三步, 估算。

2009年5月, 电信业务中的“固定传统长途电话通话时长”是负增长, 并不是各项电信业务与去年同期相比均有所增长, 因此A项的说法是错误的, 排除。

从统计表中“5月”之“累计(1~5月)”、“当月”两列的数据看, 2009年5月“当月”的各项邮政业务量所占“累计(1~5月)”业务量的比重, 均超过20%。也就是说, 2009年5月各项邮政业务营业状况均好于1~4月平均水平。因此, B项的说法是正确的。

所以, 正确选项是B。

五、根据以下资料, 回答111~115题。

新中国成立后, 经过60年特别是改革开放以来的建设, 我国公共卫生体系初步建立, 卫生服务能力明显增强。2008年全国共有卫生机构27.8万个, 比1949年增加约75倍; 卫生技术人员为503万人, 比1949年增加9.0倍; 医院和卫生院床位数为374.8万张, 比1949年增加45.9倍; 每千人口医院、卫生院床位数为2.8张, 远高于1949年0.15张的水平。

1949~2008年公共卫生体系发展状况统计表

年份	卫生机构数(个)	床位数(万张)	卫生技术人员数(万人)
1949	3 670	8	51
1957	122 954	30	104
1962	217 985	69	141
1965	224 266	77	153
1978	169 732	185	246
1985	200 866	223	341
1990	208 732	259	390
2000	324 771	291	449
2005	298 997	314	446
2008	278 337	375	503

111. 1949~2008年, 我国卫生机构平均每年约增加:

- A. 4 736个 B. 4 655个 C. 4 578个 D. 4 397个

【答案】B. 解析:

第一步, 明确问题。求“1949~2008年, 我国卫生机构平均每年约增加多少个”。

第二步, 数据定位。“卫生机构数(个)”一列的数据。

第三步, 估算。

1949年我国有卫生机构3670个, 2008年增加为278 337个, 在1949~2008(共59年)间我国卫生机构共增加: $278\ 337 - 3\ 670 = 274\ 667$ 个。

则我国卫生机构平均每年约增加为: $274\ 667 \div 59 \approx 4\ 655$ 个。

所以, 正确选项是B。

112. 建国以来, 我国医院和卫生院床位数年平均增长率最高的时期为:

A. 1957~1962年 B. 1962~1965年 C. 1965~1978年 D. 1978~1985年

【答案】A。解析：

第一步，明确问题。求“建国以来，我国医院和卫生院床位数年平均增长率最高的时期”。

第二步，数据定位。本题涉及数据较多，请小心提取。

第三步，估算。

$$1957\sim 1962\text{年床位数年平均增长率为: } \frac{69-30}{30\times 5} \approx 26\%$$

$$1962\sim 1965\text{年床位数年平均增长率为: } \frac{77-69}{69\times 3} \approx 4\%$$

$$1965\sim 1978\text{年床位数年平均增长率为: } \frac{185-77}{77\times 13} \approx 11\%$$

$$1978\sim 1985\text{年床位数年平均增长率为: } \frac{223-185}{185\times 7} \approx 3\%$$

比较可知，1957~1962年是我国医院和卫生院床位数年平均增长率最高的时期。

所以，正确选项是A。

113. 与1978年相比，2008年平均每个卫生机构的卫生技术人员数约增加了：

A. 5% B. 15% C. 25% D. 35%

【答案】C。解析：

第一步，明确问题。求“与1978年相比，2008年平均每个卫生机构的卫生技术人员数约增加多少”。

第二步，数据定位。本题涉及数据较多，请小心提取。

第三步，估算。

1978年平均每个卫生机构的卫生技术人员约为： $246\times 10\ 000\div 169\ 732\approx 14.5$ 人。

2008年平均每个卫生机构的卫生技术人员约为： $503\times 10\ 000\div 278337\approx 18.1$ 人。

则2008年平均每个卫生机构的卫生技术人员比1978年增加了：

$$(18.1-14.5)\div 14.5\approx 25\%$$

所以，正确选项是C。

114. 2008年，每万人口拥有的卫生机构数量约是1949年的多少倍？

A. 3 B. 8 C. 15 D. 30

【答案】D。解析：

第一步，明确问题。求“2008年，每万人口拥有的卫生机构数量约是1949年的多少倍”。

第二步，数据定位。每千人口医院、卫生院床位数为2.8张，远高于1949年0.15张的水平。

第三步，估算。

2008年人口为： $375\text{万张}\div 2.8\text{张/千人}\approx 14$ 亿。

2008年每万人口拥有的卫生机构数量为： $278\ 337\div 14\approx 20\ 000$

1949年人口为： $8\text{万张}\div 0.15\text{张/千人}\approx 5.3$ 亿

1949年每万人口拥有的卫生机构数量为： $3670\div 5.3\approx 700$

则2008年每万人口拥有的卫生机构数量约是1949年的倍数为： $20\ 000\div 700\approx 30$ 倍。

所以，正确选项是D。

115. 能够从上述资料中推出的是：

A. 1957年，我国卫生技术人员总数首次超过百万

B. 1949年，我国每千人口拥有的卫生技术人员数不足1人

- C. 2005~2008年, 医院和卫生院床位数年均增长率超过10%
- D. 20世纪80年代后期, 我国卫生机构的数量呈现负增长态势

【答案】B。解析:

第一步, 明确问题。求“能够从上述资料中推出的”一项。

第二步, 数据定位。本题涉及数据较多, 请小心提取。

第三步, 估算。

虽然1957年我国卫生技术人员总数超过百万, 达到104万, 但是资料中并没有分别给出1950~1956年每年的卫生技术人员的具体人数, 因此并不能推出“1957年我国卫生技术人员总数首次超过百万”(也可能1956、1955年已经超过了百万)。A项的说法是错误的, 排除。

1949年我国每千人口拥有卫生院床位数为0.15张, 而当年有卫生院床位数8万张, 医疗卫生技术人员51万人, 那么1949年我国每千人口拥有卫生技术人员数为:

$$(51 \div 8) \times 0.15 \approx 0.96 \text{ 人。}$$

也就是说, 1949年我国每千人口拥有的卫生技术人员数不足1人。因此, B项的说法是正确的。所以, 正确选项是B。

第五部分 常识判断

(共25题, 参考时限10分钟)

根据题目的要求, 在四个选项中选出一个最恰当的答案。

116. 关于新中国成立60周年取得的成就, 下列说法不正确的是:

- A. 截止2008年底, 我国已成为世界第三大经济体
- B. 截止2008年底, 我国进出口贸易总额已跃居世界第一
- C. 2008年我国国民平均受教育年限已提高到8.7年, 相当于初中文化程度
- D. 我国人均期望寿命由新中国成立前的不足40岁上升到70多岁

【答案】B。解析:

国家统计局2008年10月27日公布报告显示, 我国进出口贸易总额居世界位次由1978年的第29位跃升到第3位, 仅次于美国与德国。由此可知B项的说法是错误的。

所以, 正确选项是B。

117. 改革开放以来, 我国主要区域政策经历了不同的阶段: ①以经济特区为中心的沿海地区优先发展阶段; ②以缩小区域差距为导向的西部大开发阶段; ③以浦东开发为龙头的沿江沿边地区重点发展阶段; ④以区域协调发展为导向的共同发展阶段。

这四个阶段按时间顺序排列应为:

- A. ①②③④
- B. ①③②④
- C. ②③①④
- D. ②①③④

【答案】B。解析:

1979年, 邓小平提出创建经济特区。1990年, 李鹏代表党中央、国务院宣布同意加快浦东开发的决定。2000年, 中共中央实施西部大开发战略。2002年, 中共“十六大”提出了促进区域协调发展的方针。由此可知, 这四个阶段按时间顺序排列应为: ①③②④。

所以, 正确选项是B。

118. 关于我国重大工程与建设项目, 下列说法不正确的是:

- A. 三峡工程是目前世界上建筑规模最大的水利工程
- B. “嫦娥一号”是中国自主研发的首个月球探测卫星
- C. 2008年建成通车的杭州湾跨海大桥是目前世界上最长的桥梁
- D. 2006年全线通车的青藏铁路是目前世界上海拔最高的铁路

【答案】B。解析：

位于美国路易西安纳州的庞恰特雷恩湖桥，全长 38.4 公里，被认为是目前世界上最长的桥而收录在吉尼斯世界记录。杭州湾跨海大桥全长 36 公里，只是目前世界上最长的跨海大桥。由此可知 C 项的说法是错误的。

所以，正确选项是 B。

119. 下列关于国际组织的表述不正确的是：

- A. 蒙古国是上海合作组织的成员国之一
- B. 国际货币基金组织是联合国的专门机构
- C. 博鳌亚洲论坛是第一个总部设在中国的国际会议组织
- D. 石油输出国组织通过实行石油生产配额制维护石油生产国利益

【答案】A。解析：

上海合作组织的成员国包括中国、哈萨克斯坦、吉尔吉斯斯坦、俄罗斯、塔吉克斯坦和乌兹别克斯坦。观察员国家包括蒙古、伊朗、巴基斯坦和印度；对话伙伴国家包括白俄罗斯和斯里兰卡。由此可知，蒙古国不是上海合作组织的成员国，只是上海合作组织的观察员，A 项的说法是错误的。

所以，正确选项是 A。

120. 在经济衰退时期，有利于扩大内需的政策措施是：

- A. 提高税率
- B. 提高存款准备金率
- C. 降低税率
- D. 缩减财政支出

【答案】C。解析：

在经济衰退时期，通过降低税率减轻居民和企业的税赋负担，可以刺激人们的消费欲望，从而起到扩大内需的作用。A、B、D 三项往往在出现通货膨胀的情况下施用。

所以，正确选项是 C。

121. 衡量一个国家经济总量的指标不包括：

- A. 国内生产总值
- B. 国民总收入
- C. 外汇储备
- D. 货币总量

【答案】D。解析：

货币本身并不具有价值。货币的职能是流通手段、价值尺度、支付手段以及间或有储藏手段。因此，货币仅仅是经济的一个表现形式，而货币总量也只是经济总量的表现形式，不是衡量一个国家经济总量的指标。

所以，正确选项是 D。

122. 下列关于中国近现代史上的事件表述不正确的是：

- A. 北洋水师是 19 世纪末中国建立的第一支近代海军舰队
- B. 第五次反“围剿”失败后，中国工农红军开始长征
- C. 中国人民解放军第二炮兵组建于 20 世纪 60 年代中期
- D. 日军在东北发动的“七七事变”标志着全面侵华战争的开始

【答案】D。解析：

“七七事变”又称“卢沟桥事变”。1937 年 7 月 7 日驻华日军在距北平（今北京）十余公里的卢沟桥悍然“卢沟桥事变”，不是在东北发动的。由此可知，D 项的说法是错误的。

所以，正确选项是 D。

123. 关于我国的湖泊，下列叙述正确的是：

- A. 海拔最低的湖在四川
B. 海拔最高的湖在新疆
C. 最大的淡水湖在江西
D. 最大的咸水湖在西藏

【答案】C。解析：

位于新疆吐鲁番盆地的艾丁湖，是我国海拔最低的湖；位于西藏的纳木错湖，是我国海拔最高的湖；位于青海的青海湖，是我国最大的咸水湖；位于江西的鄱阳湖，是我国最大的淡水湖。由此可知，只有C项的说法是正确的。

所以，正确选项是C。

124. 一艘油轮自科威特港驶往大连，其最短航线为：

- A. 波斯湾→红海→马六甲海峡→南海→黄海→东海
B. 波斯湾→阿拉伯海→马六甲海峡→南海→东海→黄海
C. 红海→阿拉伯海→孟加拉湾→南海→东海→黄海
D. 红海→孟加拉湾→马六甲海峡→南海→黄海→东海

【答案】B。解析：

科威特港在波斯湾，大连在黄海海滨。油轮自科威特港驶往大连，其最短航线只能是B项。所以，正确选项是B。

125. 下列对哲学家及其思想的认定不正确的是：

- A. 老子早于庄子，庄子早于韩非子
B. 亚里士多德师从柏拉图，柏拉图师从苏格拉底
C. 毛泽东的实践观同于列宁，列宁的实践观同于马克思
D. 尼采的非理性主义源于叔本华，叔本华的非理性主义源于培根

【答案】D。解析：

培根是科学方法观的倡导者，在评价培根的方法论时，马克思曾说：“科学是实验的科学，科学的方法就在于用理性的方法去整理感性材料，归纳、分析、比较、观察和实验是理性方法和重要条件。”由此可知，培根不是非理性主义者，D项的说法是错误的。

本题的C项容易误选，虽然马克思、列宁、毛泽东的实践观其表述并不完全相同，但是其本质都是辩证唯物主义的，因此C项的说法是正确的，排除。

所以，正确选项是D。

126. “四书五经”中的“四书”指的是：

- A. 《诗经》《孟子》《孝经》《尔雅》
B. 《周易》《尚书》《礼记》《春秋》
C. 《大学》《中庸》《论语》《孟子》
D. 《尚书》《周易》《论语》《孝经》

【答案】C。解析：

“四书五经”是中国儒家经典的书籍。四书指的是《论语》《孟子》《大学》和《中庸》；五经指的是《诗经》《尚书》《礼记》《周易》和《春秋》。

所以，正确选项是C。

127. 下列有关现代科技的说法中，正确的是：

- A. 高温超导体是指其超导临界温度在摄氏零度以上
B. 纳米材料是指结构单元的尺度达到纳米级而原有性能保持不变的材料
C. 杂交水稻是通过基因重组改变水稻的基因来提高产量的
D. 转基因食品是指转移动物的基因并加以改变、制造出具备新特征的食品

【答案】C。解析：

高温超导体是相对于普通超导体的称谓。一般说，物体的温度越低，越易出现超导现象，但温度越低，制作超导体的技术要求就越高，因此只有在超过一定温度以后的温区超导，才有实用意义，离零度的温度越高就越有应用价值。所谓的高温超导体并不是指其超导临界温度在摄氏零度以上，只是比普通超导所需的超低温高一些，不过仍然需要零下几百多摄氏度。因此 A 项的说法是错误的。

纳米材料结构单元的尺度达到纳米级，其原有性能不是保持不变，而是往往发生很大变化，例如熔点、磁性、光学、导热、导电特性等，往往不同于该物质在整体状态时所表现的性质。因此 B 项的说法是错误的。

转基因食品所转移的并不只是动物的基因，而是通过基因工程手段将一种或几种外源性基因转移至某种生物体（动、植物和微生物等），这样的生物体作为食品或以其为原料加工生产的食品就叫做转基因食品。因此 D 项的说法是错误的。

所以，正确选项是 C。

128. 下列有关能源的表述正确的是：

- A. 目前核电站对核能的利用方式分为核聚变和核裂变两种
- B. 氢气是一种可实现二氧化碳零排放的能源
- C. 太阳能电池的工作原理是光化学转换
- D. 可燃冰是一种稀缺的能源资源

【答案】B。解析：

核电站对核能的利用方式只有核裂变一种，是利用核反应堆中核裂变所释放出的热能进行发电的方式，因此 A 项的说法是错误的。

太阳能电池的工作原理包括光电效应和光化学转换两种，因此 C 项的说法是错误的。

可燃冰在地球上储量非常巨大，并不稀缺，因此 D 项的说法是错误的。

氢气燃烧只生成水，因此是一种可实现二氧化碳零排放的能源。

所以，正确选项是 B。

129. 下列对人物及其贡献的表述，错误的一项是：

- A. 凯恩斯撰写了《国富论》，使经济学成为一门独立学科
- B. 孟德尔发现遗传学定律，为遗传因子理论奠定了框架基础
- C. 冯·诺依曼开创了现代计算机理论，其体系结构沿用至今
- D. 法拉第发现电磁感应定律，并据此发明了早期的发电机

【答案】A。解析：

《国富论》不是凯恩斯撰写的，而是亚当·斯密的著作，因此 A 项的说法是错误的。

所以，正确选项是 A。

130. 下列关于武器装备的说法不正确的是：

- A. 核潜艇装备的主要是核武器
- B. “歼十”战斗机是国产飞机
- C. 弩是中国最早发明的
- D. AK-47 是前苏联研制的一种自动步枪

【答案】A。解析：

所谓核潜艇的“核”，是指以核反应堆为动力来源，并不一定装备核武器。因此 A 项的说法是错误的。

所以，正确选项是 A。

131. 我国社会主义民族关系的基本特征是：平等、团结、互助、（ ）。

- A. 合作 B. 繁荣 C. 友爱 D. 和谐

【答案】D。解析：

2005年5月27日，胡锦涛《在中央民族工作会议暨国务院第四次全国民族团结进步表彰大会上的讲话》指出：“今天，我国各民族平等、团结、互助、和谐的社会主义民族关系不断巩固。”

所以，正确选项是D。

132. 如果父亲和孩子都是A型血，那么孩子母亲的血型有几种可能？

- A. 四种 B. 三种 C. 二种 D. 一种

【答案】A。解析：

如果父亲和孩子都是A型血，那么孩子母亲的血型有A、B、AB、O四种可能。

所以，正确选项是A。

133. 关于宇宙的起源，最具代表性、影响最大的理论是：

- A. 黑洞理论 B. 大爆炸理论 C. 暗物质学说 D. 能力守恒定律

【答案】B。解析：

关于宇宙的起源，最具代表性、影响最大的理论是大爆炸理论。根据大爆炸理论，宇宙是在大约140亿年前由一个密度极大且温度极高的状态演变而来的。现代宇宙物理学的几乎所有研究都与宇宙大爆炸理论有关，或者是它的延伸，或者是进一步解释。

所以，正确选项是B。

134. 下列关于医学知识的说法不正确的是：

- A. 肝脏的主要功能之一是分解排除血液中的毒素 B. 放疗中要使用放射线进行照射
C. 砒霜在中药里可以入药 D. 针灸中的“灸”是指用针扎刺人体穴位

【答案】D。解析：

所谓针灸中的“针”，才是指用针扎刺人体穴位，而“灸”指的是把燃烧着的艾绒按一定穴位熏灼皮肤，利用热的刺激来治疗疾病。因此D项的说法是错误的。

所以，正确选项是D。

135. 下列有关生活常识的叙述正确的是：

- A. 空调工作的时候有水流出而冰箱没有，由此可判断常见的家用空调和电冰箱的制冷原理不同
B. 鸡蛋带壳在微波炉中加热比较好，这样受热更快更均匀
C. 液晶电视机的成像原理与等离子电视机的成像原理相同
D. 使用无磷洗衣粉是因为磷易造成环境水体富营养化，破坏水质

【答案】D。解析：

含磷洗衣粉中含有大量的磷酸盐，磷酸盐是一种高效助洗剂，同时也是藻类的助长剂，水中的磷含量升高，水质趋向富营养化，会导致各种藻类、水草大量疯长，水体缺氧会使鱼类死亡，水质严重恶化，许多地方的水甚至根本不能饮用。更为严重的是，由与磷含量增加，导致红色浮游生物爆发性繁殖而引发的近海海水出现的“赤潮”。

使用无磷洗衣粉就是为了减少磷造成的环境水体富营养化，破坏水质。因此D项的说法是正确的。

所以，正确选项是D。

136. 下列关于我国上下级部门之间的关系说法正确的是：

- A. 上下级人民政府之间是领导与被领导的关系
B. 上下级人民政府部门之间是业务指导与被指导的关系

- C. 上下级人民代表大会之间是领导与被领导的关系
D. 上下级人民法院之间是领导与被领导的关系，上下级人民检察院之间是监督与被监督的关系

【答案】A。解析：

我国上下级政府部门之间是领导与被领导的关系。因此 B 项的说法是错误的，排除。

我国上下级人民代表大会之间是监督与被监督的关系。因此 C 项的说法是错误的，排除。

我国上下级法院之间是监督与被监督的关系，而上下级检察院之间是领导与被领导的关系。因此 D 项的说法是错误的，排除。

所以，正确选项是 A。

137. 下列关于国家行政机关的说法正确的是：

- A. 各级国家行政机关都有权实施行政处罚
B. 行政诉讼实行举证责任倒置原则，因此，行政机关承担全部举证责任
C. 国家行政机关公务员被判处刑罚的，给予开除处分
D. 国务院的法定会议形式为国务院常务会议、国务院全体会议、国务院办公会议

【答案】C。解析：

根据《行政处罚法》的规定，只有享有法定权限或经过法律、法规授权的行政机关才可以实施行政处罚。因此 A 项的说法是错误的，排除。

行政诉讼中的举证责任倒置原则是指在通常情况下由行政机关承担举证责任，但并不意味着行政机关需要承担全部举证责任。因此 B 项的说法是错误的，排除。

国务院的法定会议形式只包括国务院常务会议和国务院全体会议，不包括国务院办公会议。因此 D 项的说法是错误的，排除。

所以，正确选项是 C。

138. 下列做法符合《政府信息公开条例》的是：

- A. 甲县规定，乡、镇的政府信息统一由县政府负责公开
B. 乙省不允许本省内各级行政机关提供政府信息时收取任何费用
C. 丙区规定行政机关应当编制、公布政府信息公开指南或政府信息公开目录并及时更新
D. 丁市政府在图书馆设置政府信息查阅场所并配备相应的设备，为公民、法人或者其他组织获取政府信息提供便利

【答案】D。解析：

根据《政府信息公开条例》，各乡、镇的政府信息并不是统一由县政府负责公开。因此 A 项中甲县的规定是错误的，排除。

行政机关在进行信息公开时可以适当收取成本费用。因此 B 项乙省的规定是错误的，排除。

C 项中“或”的说法是错误的。不是“或”，而是行政机关的政府信息公开指南“和”政府信息都应当编制、公布公开目录并及时更新。排除。

所以，正确选项是 D。

139. 根据《食品安全法》，下列说法正确的是：

- A. 对食品生产、食品流通实施监督的部门分别为质量监督部门、工商行政管理部门
B. 食品安全监督管理部门在进行抽样检验时，不需购买样品
C. 名人在虚假广告中向消费者推荐食品，使消费者的合法权益受到损害的，应由食品生产经营者和销售者承担连带责任
D. 食品安全监督管理部门可以对食品实施免检

【答案】A。解析：

根据《食品安全法》，食品安全监督管理部门在进行抽样检验时，需要购买样品，但不收取检验费和其他费用。因此 B 项的说法是错误的，排除。

名人在虚假广告中推荐食品造成损害的，名人也要承担连带责任。因此 C 项的说法是错误的，排除。食品安全监督管理部门不得对任何食品实施免检。因此 D 项的说法是错误的，排除。

所以，正确选项是 A。

140. 下列说法正确的是：

- A. 肖某明知自己的自行车车闸不好使，却自以为技术过硬而飞速行驶，当行至一交叉路口时，将一幼儿当场撞死。肖某的行为属于间接故意犯罪
- B. 某单位犯行贿罪，应依法对单位判处罚金，并对直接负责的主管人员和其他直接责任人员判刑
- C. 吴某被取保候审，在此期间吴某不得行使选举权
- D. 某公司承诺向灾区捐款，该公司可以在交付捐款前撤销承诺

【答案】B。解析：

肖某“自以为技术过硬而飞速行驶”，属于过于自信的过失，不属于间接故意。因此 A 项的说法是错误的，排除。

《刑法》第 393 条规定：单位为谋取不正当利益而行贿，或者违反国家规定，给予国家工作人员以回扣、手续费，情节严重的，对单位判处罚金，并对其直接负责的主管人员和其他直接责任人员，处五年以下有期徒刑或者拘役。因此，B 项的说法是正确的。

《选举法》第 3 条规定：依照法律被剥夺政治权利的人没有选举权和被选举权。取保候审只是一种刑事强制措施，吴某被取保候审，尚未确定是否有罪，更没有被剥夺政治权利，在此期间吴某依然可以行使选举权。因此 C 项的说法是错误的，排除。

《合同法》第 186 条规定：赠与人在赠与财产的权利转移之前可以撤销赠与。具有救灾、扶贫等社会公益、道德义务性质的赠与合同或者经过公证的赠与合同，不适用前款规定。可见，对公益、慈善性事业的捐款、捐赠承诺不能撤销。因此 D 项的说法是错误的，排除。

所以，正确选项是 B。

全部测验到此结束！

请扫描QQ二维码，备注“公务员考生”加QQ
好友，获取曹长远老师精解历年公务员考试申论、
行测、面试真题完整解析资料。

精品资料，尽在掌握！



扫描二维码，加QQ好友