

2010 年北京市公务员录用考试

《行政职业能力测验》真题答案解析

说明

这项测验共有五个部分，135 道题，总时限为 120 分钟，满分 100 分。各部分不分别计时，但都给出了参考时限，供你参考以分配时间。

请在机读答题卡上严格按照要求填写好自己的姓名、报考部门，涂写准考证号。

特别提醒你注意，涂写答案时一定要认准题号。严禁折叠答题卡！

第一部分 常识判断

(共 35 题，参考时限 20 分钟)

一、单项选择题：共 25 题。请根据题目要求，在下列选项中选出最恰当的 1 项。

1. 为了进一步深化学习实践科学发展观活动，2009 年 2 月 13 日河北省委、省政府决定在全省各级干部中开展“干部作风建设年”活动。省委书记张云川强调：加强干部队伍作风建设，其目的是：
- A. 推动科学发展、促进社会和谐、实现富民强省
 - B. 在“两个转变”、“一个完善”上真正见到实效
 - C. 抓好“五项活动”，建立完善“五项制度”
 - D. 使全省干部队伍作风明显改进

【答案】A。解析：

加强干部队伍作风建设的目的是：推动科学发展、促进社会和谐、实现富民强省。所以，正确选项是 A。

2. 2009 年中共中央办公厅、国务院办公厅印发的《关于实行党政领导干部问责的暂行规定》中所规定的对党政领导干部问责的方式不包括：
- A. 公开道歉
 - B. 引咎辞职
 - C. 责令辞职
 - D. 免职

【答案】A。解析：

2009 年中共中央办公厅、国务院办公厅印发的《关于实行党政领导干部问责的暂行规定》指出，对党政领导干部实行问责的方式分为：责令公开道歉、停职检查、引咎辞职、责令辞职、免职。

所以，正确选项是 A。

3. 世界上最早种植棉花的国家是：
- A. 中国
 - B. 美国
 - C. 印度
 - D. 埃及

【答案】C。解析：

棉花的原产地是印度。在棉花传入我国之前，我国只有可供充填枕褥的木棉，没有可以织布的棉花。宋以前，我国只有带丝旁的“绵”字，没有带木旁的“棉”字。

所以，正确选项是 C。

4. 村民自治是中国共产党领导亿万农民发展中国特色社会主义民主政治的伟大创举。扩大农村基层民主，实行村民自治，大大激发了广大农民当家做主的积极性、创造性和责任感，掀开了中国农村民主政治建设的新篇章。下列关于村民自治的表述错误的一项是：
- A. 乡政府与村民委员会不是领导与被领导的关系
 - B. 村民委员会成员由村民选举产生，每届任期三年，可连选连任
 - C. 村民委员会成员不脱离生产，根据情况，乡政府给予适当财政补贴
 - D. 村民会议是村的“权力机关”，村委会要执行或办理村民会议通过的决定，向村民会议负责并报告工作

【答案】D。解析：

村民会议不是“权力机关”，D项表述有误。

所以，正确选项是 D。

5. 专利权的客体是指能够取得专利法保护的发明创造，我国专利法规定专利权的客体包括：
- A. 发明专利权、实用新型专利权和科学发展专利权
 - B. 发明专利权、科学发现专利权和疾病治疗专利权
 - C. 外观设计专利权、实用新型专利权和疾病治疗专利权
 - D. 发明专利权、外观设计专利权和实用新型专利权

【答案】D。解析：

《专利法》第 2 条规定：“本法所称的发明创造是指发明、实用新型和外观设计。”

所以，正确选项是 D。

6. 复杂劳动被当作简单劳动的倍加，是因为：
- A. 从事简单劳动不需要专门的学习和训练
 - B. 从事复杂劳动需要专门的学习和训练
 - C. 决定商品价值量的社会必要劳动时间是以简单劳动为尺度
 - D. 脑力劳动和体力劳动有差别

【答案】C。解析：

商品的价值量是由社会必要劳动时间决定的，生产某种商品所用的社会必要劳动时间越多，其价值量就越大，反之则越小。正因为复杂劳动耗费的时间是简单劳动耗费时间的倍加，所以复杂劳动被当作简单劳动的倍加。

所以，正确选项是 C。

7. 古代“六艺”是指“礼、乐、射、御、书、数”，其中的“御”是指：
- A. 骑马
 - B. 杂技
 - C. 驾车
 - D. 防御

【答案】C。解析：

中国古代的教育思想，不但阐述了教育的目的，而且阐述了教育的内容。孔子将“礼、乐、射、御、书、数”合称“六艺”。礼，主要指德育，古人认为不学“礼”无以立，不学礼就没有做人的根本。乐包括音乐、舞蹈、诗歌等内容；射，射箭；御，驾车；两者合起来就是体育和劳动。书，是指识字教育；数，数学。用现在的话讲，大体上就是要德、智、体、美、劳全面发展。

所以，正确选项是 C。

8. 国际金融危机对实体经济的影响日趋加深，经济增长方式转型需要全面提速。实体经济领域暴露的突出问题集中反映了经济增长方式转型的严重滞后，以投资驱动为主的增长方式已经到了难以为继、非改不可的地步，我国通过出口化解国内生产相对过剩危机的空间明显缩小。我国现阶段改革发展的基本目标和主要任务是：
- A. 扩大国内需求，特别是消费需求，保持经济平稳较快增长
 - B. 扩大投资需求，特别是住房投资，保持经济更好更快增长
 - C. 扩大国外需求，特别是技术需求，保持经济平稳较快增长
 - D. 扩大消费需求，特别是服务需求，保持经济更好更快增长

【答案】A。解析：

我国通过出口化解国内生产相对过剩危机的空间明显缩小。由此可见，扩大国内需求，特别是消费需求，保持经济平稳较快增长，已成为我国现阶段改革发展的基本目标和主要任务。

所以，正确选项是 A。

9. 我国社会主义道德建设核心是为人民服务，我国《公民道德建设实施纲要》中的 20 字基本道德规范，除了“爱国守法，明礼诚信、团结友善、勤俭自强”还有：
- A. 助人为乐
 - B. 爱岗敬业
 - C. 敬业奉献
 - D. 尊老爱幼

【答案】C。解析：

我国《公民道德建设实施纲要》中的 20 字基本道德规范是爱国守法、明礼诚信、团结友善、勤俭自强、敬业奉献。

所以，正确选项是 C。

10. 地方各级人民代表大会经过（ ）以上代表提议，可以临时召集本级人大会议。
- A. 1/2
 - B. 1/3
 - C. 1/4
 - D. 1/5

【答案】D。解析：

《地方各级人民代表大会和地方各级人民政府组织法》第 11 条规定：地方各级人民代表大会会议每年至少举行一次。经过五分之一以上代表提议，可以临时召集本级人民代表大会会议。

所以，正确选项是 D。

11. 因紧急避险造成损失的，如果险情是由于人的原因引起的，则：
- A. 由引起险情发生的人承担民事责任
 - B. 由紧急避险人承担民事责任
 - C. 由紧急避险人和引起险情发生的人共同承担民事责任
 - D. 由受损失的人自己承担民事责任

【答案】A。解析：

《民法通则》第 129 条规定：“因紧急避险造成损害的，由引起险情发生的人承担民事责任。如果危险是由自然原因引起的，紧急避险人不承担民事责任或者承担适当的民事责任。因紧急避险采取措施

不当或者超过必要的限度，造成不应有的损害的，紧急避险人应当承担适当的民事责任。”

所以，正确选项是 A。

12. 以下各项列举了我国常见气象灾害与其发生地区的对应关系，其中正确的一项是：

- A. 洪涝—西北地区
- B. 洪涝—东北地区
- C. 春旱—华南地区
- D. 伏旱—华北地区

【答案】B。解析：

因为降水少，我国西北地区不存在洪涝灾害，A 错。东北地区处于季风区，降水集中，B 正确。华北地区会出现春旱，而不是华南地区，C 错。长江中下游地区会出现伏旱，而不是华北地区，D 错。

所以，正确选项是 B。

13. 空气中粒径小于 10 微米的颗粒物能通过呼吸进入人体肺部，特别是小于 2.5 微米的细粒子还会被吸收到人体血液和淋巴中。我国空气质量报告中的“可吸入颗粒物”是指：

- A. 粒径小于 2.5 微米的颗粒物
- B. 粒径小于 10 微米的颗粒物
- C. 粒径小于 5 微米的颗粒物
- D. 粒径小于 2.5 微米的颗粒物

【答案】B。解析：

直径小于 10 微米的颗粒物用 PM10 来表示；粒径小于 2.5 微米的颗粒物用 PM2.5 来表示。这些细小的颗粒能够通过呼吸进入人体的呼吸道和肺部。因此，直径小于 10 微米的颗粒物通常又称为可吸入颗粒物。

所以，正确选项是 B。

14. 通货膨胀一般是指因货币供给大于货币实际需求而引起的一段时间内物价持续普遍上涨的现象。通货膨胀的实质是：

- A. 社会总需求大于社会总供给
- B. 物价很快地上涨，使货币失去价值
- C. 货币供给量大于需求量
- D. 社会总需求小于社会总供给

【答案】C。解析：

通货膨胀的实质是货币的发行增长超过产品的增长。

所以，正确选项是 C。

15. “稳步推进扩权强县改革试点，鼓励有条件的省份率先减少行政层次，依法探索省直接管理县（市）的体制”是在下列哪个文件中提出的？

- A. 《中共中央国务院关于地方政府机构改革的意见》（中发〔1999〕2 号）
- B. 《关于深化行政管理体制改革的意见》（中发〔2008〕5 号）
- C. 《国务院关于编制 2009 年中央预算和地方预算的通知》（中发〔2008〕5 号）
- D. 《中共中央国务院关于 2009 年促进农业稳定发展农民持续增收的若干意见》（中发〔2009〕1 号）

【答案】D。解析：

《中共中央、国务院关于 2009 年促进农业稳定发展、农民持续增收的若干意见》中提出：“稳步推进扩权强县改革试点，鼓励有条件的省份率先减少行政层次，依法探索省直接管理县（市）的体制。”

所以，正确选项是 D。

16. 根据我国《劳动合同法》的规定，下列关于劳动合同的表述错误的一项是：

- A. 用人单位自用工之日起满一年不与劳动者订立书面劳动合同的，视为用人单位与劳动者已订立无固定期限劳动合同
- B. 劳动合同期限三个月以上不满一年的，试用期不得超过一个月
- C. 三年以上固定期限和无固定期限的劳动合同，试用期不得超过六个月
- D. 用人单位发生合并或者分立等情况，劳动合同由原用人单位解除

【答案】D。解析：

《劳动合同法》规定，用人单位发生合并或者分立等情况，原劳动合同继续有效，劳动合同由承继其权利义务的用人单位继续履行。

所以，正确选项是 D。

17. 当你乘坐火车时，车站工作人员都要在乘客持有的车票上剪一小口，剪口的意思是：

- A. 强制保险
- B. 统计乘车人数
- C. 防止重复使用
- D. 防止乘客逃票

【答案】A。解析：

我们通常会认为，火车票剪口只是单纯为了检票的目的。其实这只是一个方面，最重要的目的是表明铁路部门对旅客的意外伤害开始实行强制保险。就是说旅客在买火车票时，就已经向铁路部门投了保，车票里包含着旅客的保险金。强制保险的时间是从旅客剪票后开始到缴票出站时为止。如果因意外事故发生人身伤亡，由铁路部门负责向旅客支付医疗保险金。

所以，正确选项是 A。

18. 1980 年 9 月，中共中央发布《关于进一步加强和完善农业生产责任制的几个问题》，我国农村绝大部分地区都建立和稳定了家庭联产承包责任制。1998 年 4 月，新修订的《土地管理法》首次以法律的形式明确农村土地承包 30 年不变。2008 年 10 月十七届三中全会通过的《中共中央关于推进农村改革发展若干重大问题的决定》对土地承包关系是如何规定的？

- A. 现有土地承包关系要保持稳定并长久不变
- B. 将农村土地的承包期从现在的 30 年延长到 70 年
- C. 允许农民以转包、出租、股份合作等形式流转土地
- D. 培育农民新型合作组织，发展农业龙头企业

【答案】A。解析：

《中共中央关于推进农村改革发展若干重大问题的决定》在大力推进改革创新、加强农村制度建设谈到：“赋予农民更加充分而有保障的土地承包经营权，现有土地承包关系要保持稳定并长久不变。”

所以，正确选项是 A。

19. 甲因犯盗窃罪被公安机关逮捕，在审查期间，甲又主动交代出曾实施抢劫犯罪。甲交代抢劫案件的行为属于：

- A. 自首
- B. 坦白
- C. 立功
- D. 悔改表现

【答案】A。解析：

自首分为一般自首和特别自首两种。特别自首是指被采取强制措施的犯罪嫌疑人、被告人和正在服刑的罪犯，如实供述司法机关还未掌握的本人其他罪行的行为。本题中，甲抢劫的行为是公安机关尚未掌握的，因此单就抢劫案件来说，属于特别自首。

所以，正确选项是 A。

20. 一般情况下，男人比女人长得要高一些，这是因为：

- A. 雄性激素对骨骼生长有促进作用
- B. 雄性激素对抵制骨骼生长的作用较小
- C. 男性能较好地利用食物中的蛋白质来使骨骼生长
- D. 男孩从小就比女孩运动量大，因而长大后长得高

【答案】A。解析：

人体的高矮取决于骨骼的发育，人到了青春期以后，骨骼的生长速度不断减慢，最后停止增长。但是雄性激素能刺激机体生长，使新陈代谢增强，促进骨骼生长，因此相对来说，男性比女性要高。

所以，正确选项是 A。

21. 2008 年 10 月 23 日，新华社授权发布《全国土地利用总体规划纲要（2006—2020）》，对全国耕地保有量提出了约束性目标，温家宝在 2009 年政府工作报告中强调，一定要守住全国耕地这条红线。这条红线是指：

- A. 不少于 17 亿亩
- B. 不少于 18 亿亩
- C. 不少于 19 亿亩
- D. 不少于 20 亿亩

【答案】B。解析：

早在 2007 年 3 月 5 日，温家宝总理在作《政府工作报告》时就提出“一定要守住全国耕地不少于 18 亿亩这条红线”。2009 年 3 月 5 日，温家宝总理在《政府工作报告》中强调：“坚持和落实最严格的耕地保护制度和最严格的节约用地制度，严守 18 亿亩耕地红线不动摇。”

所以，正确选项是 B。

22. 国家工作人员在国内公务活动或者对外交往中接受礼物，依照国家规定应当交公而不交公且数额较大的，应以（ ）定罪处罚。

- A. 受贿罪
- B. 贪污罪
- C. 职务侵占罪
- D. 徇私枉法罪

【答案】B。解析：

《刑法》第 394 条规定：“国家工作人员在国内公务活动或者对外交往中接受礼物，依照国家规定应当交公而不交公，数额较大的，以贪污罪论处。”

所以，正确选项是 B。

23. 某工商行政管理局执法人员在查处一商贩强买强卖违法行为时，被该商贩持刀扎伤，执法人员为查明违法行凶事实，将该商贩带回工商局关押数日。

下列对执法人员做法的评述哪项是正确的？

- A. 工商局应向法院提起行政诉讼

- B. 部委规章明文授权，工商局有权拘押该商販
- C. 工商行政管理机关是国家的执法机关，有权对违法行凶人采取拘押措施，构成犯罪的才移交法院
- D. 工商局应及时将该商販交公安机关处理

【答案】D。解析：

A 错误，故意伤害行为涉嫌刑事案件，不能提起行政诉讼。工商局无权拘押该商販，应及时将该商販交公安机关处理，故 B、C 错，D 项正确。

所以，正确选项是 D。

24. “勿以恶小而为之，勿以善小而不为”这句名言出自：

- A. 《三国志》
- B. 《论语》
- C. 《中庸》
- D. 《道德经》

【答案】A。解析：

“勿以恶小而为之，勿以善小而不为。”这是刘备给其子刘禅的遗诏中的话，劝勉他要进德修业，有所作为。出自陈寿的《三国志》。

所以，正确选项是 A。

25. 被称为“国际会议之都”的城市是：

- A. 纽约
- B. 日内瓦
- C. 伦敦
- D. 北京

【答案】B。解析：

瑞士的日内瓦是国际名城，西临汝拉山，南倚阿尔卑斯山最高峰——勃朗峰，全城为湖山环绕，冬无严寒，夏少酷暑，一年四季风光不同，山明水秀宛如图卷，充满了诗情画意，享有“游览者的圣地”之誉。因为每年在日内瓦召开的国际会议最多，所以被称作“国际会议之都”。

所以，正确选项是 B。

二、多项选择题：共 10 题。在下列选项中至少有 2 项是符合题意的，请找出恰当的选项，多选或少选均不得分，但也不倒扣分。

26. 中美关系在 2009 年基本保持了平稳发展，2010 年以来，美国对台军售，贸易保护、美韩军演一波未平一波又起，中美关系陷入了低迷。中美关系时而平稳发展时而低迷体现了：

- A. 国家间共同利益是国家合作的基础
- B. 国家间利益的对立是引起国家冲突的根源
- C. 国家根本利益的变化导致了国家间关系的变化
- D. 国际社会需要协调好国家关系以促进国际关系健康发展

【答案】ABC。解析：

27. 经过改革开放 30 年的长足发展，我国城市化的进程明显加快，城市化的标准是：

- A. 劳动力从第一产业向第二、三产业转移
- B. 城市人口在总人口中比重上升
- C. 城市用地规模大
- D. 建设费用占国家总支出比重增加

【答案】ABC。解析：

28. 下列关于“转变经济发展方式”的说法正确的是：

- A. 需要推动产业结构优化升级
- B. 要坚持走中国特色新型工业化道路
- C. 要坚持扩大内需
- D. 国民经济增长必须把速度放在首要位置

【答案】ABC。解析：

29. 在新的历史时期，加强党的建设具有特殊重要性。这是因为，党现在：

- A. 面临执政的考验
- B. 面临改革开放的考验
- C. 面临发展市场经济的考验
- D. 面临和平演变的考验

【答案】ABC。解析：

30. 下列行为构成盗窃罪的有：

- A. 王某在市场盗窃他人信用卡后，随即用该卡在商场购买了价值 6 千元的手表
- B. 李某在商场试衣间试穿大衣是否合适时，趁售货员不注意将价值 6 千元的大衣穿走
- C. 张某在商店购买首饰时，趁售货员不注意，将自己准备好的假首饰与商店的真首饰调换
- D. 郑某潜入他人家中将他人价值 2 万元的海洛因拿走

【答案】ABCD。解析：

31. 我国《刑法》中所说的剥夺政治权利是指剥夺下列权利中的哪些权利？

- A. 选举权和被选举权
- B. 言论、出版、集会、结社、游行、示威自由的权利
- C. 担任国家机关职务的权利
- D. 担任公司、企业法定代表人的权利

【答案】ABC。解析：

依据我国《刑法》第五十四条规定：“剥夺政治权利是剥夺下列权利：（一）选举权和被选举权；（二）言论、出版、集会、结社、游行、示威自由的权利；（三）担任国家机关职务的权利；（四）担任国有公司、企业、事业单位和人民团体领导职务的权利。”

32. 追溯中国结的渊源应从远古年代的结绳记事开始。东汉郑玄在《周易注》中道：“结绳为记，事大，大结其绳，事小，小结其绳。”“结”与“吉”谐音，在漫长的演变过程中，小小绳结被人们赋予了各种情感愿望，“同心结”、“平安结”、“团圆结”，一个个美丽中国结蕴含着人们对美好生活的向往。对上述材料中文化现象的正确解读有

- A. 文化是人类社会实践的产物
- B. 追求真善美是中华民族精神的核心
- C. 从绳结之中可以透视人们的精神世界和精神生活
- D. 结绳使人类文明得以传承，标志人类进入文明时

【答案】AC。解析：

结绳记事是文字发明前，人们所使用的一种记事方法。文化作为一种群体意识是社会实践的产物。“平安结”“同心结”等作为一种表征的物象，蕴含着丰富的文化历史因子，是漫长的社会发展实践的

产物。从这种绳结之中可以窥见人们的丰富的精神生活和内心世界。B、D 两个选项衍生过度。追求真善美是中华民族精神的核心，过于空泛而且表义不准。结绳可以使人类文明得以传承，标志人类文明进入文明时代，夸大了结绳的作用。

33. 通常政府机关公文中的“报告”，主要用于

- A. 汇报工作
- B. 请示批示
- C. 反映情况
- D. 答复询问

【答案】ACD。解析：

《国家行政机关公文处理办法》第二章第九条关于“行政机关的公文种类”中规定：报告适用于向上级机关汇报工作，反映情况，答复上级机关的询问。请示适用于向上级机关请求指示、批准。

34. 在现代化生产中，由于应用了新的科学技术，使劳动资料内容变得十分丰富。下列各项属于劳动资料内容的有：

- A. 能源动力系统
- B. 自动控制系统
- C. 信息传递系统
- D. 仓储包装设备

【答案】ABCD。解析：

劳动资料：人们用来影响或改变劳动对象的一切物质资料。包括生产工具、生产用的建筑物、土地、道路等。自动控制（automatic control）是指在没有人直接参与的情况下，利用外加的设备或装置，使机器、设备或生产过程的某个工作状态或参数自动地按照预定的规律运行。因此，能源动力系统、自动控制系统是在生产过程中作用于客观对象，信息传递系统是在传递过程中作用于客观对象，仓储包装设备是产品制成前的最后一道工序，是在存储、包装产品的过程中作用于劳动对象的。因此，能源动力系统、自动控制系统、信息传递系统、仓储包装装备都属于劳动资料。

35. 朱熹《观书有感》：“昨夜江边春水生，蒙冲巨舰一毛轻。向来枉费推移力，此日中流自在行。”此诗蕴含的哲理是：

- A. 主观能动性的发挥受客观因素的制约
- B. 事物是变化的
- C. 抓住主要矛盾，次要矛盾就迎刃而解了
- D. 要正确发挥主观能动性必须按客观规律办事

【答案】AD。解析：

朱熹这首诗是讲江水涨高后，大战船可以自由自在地航行在河流中。蒙冲巨舰，需要大江大海，才能轻快自在地航行。如果离开了这样的必要条件，违反了它们在水上航行的规律，硬是要用人力去“推移”，即使发挥了人们的冲天干劲，也还是白费气力。实际上蕴含的道理是人的主观能动性受客观规律制约，必须遵循客观规律，故选 AD。

第二部分 言语理解与表达

（共 35 题，参考时限 35 分钟）

所给出的一段文字均有 5 个问题要你回答。你应根据资料提供的信息进行分析，从四个备选答案中选出一个最符合题意的答案。

一、阅读以下文字，完成 36-40 题

2010年7月20日我市将进入主汛期，随时可能发生大范围暴雨和局地极端降雨天气，安全迎汛工作进入关键时期，为贯彻落实全国城市防洪视频会议精神，确保城市运行安全和人民生命安全，现就主汛期有关工作布置如下：

一、加强预报、预警和监测

气象部门要进一步提高气象预报、预警的质量，要实时跟踪天气变化，做到预报准、预警早，对于灾害性天气过程做到不漏报、不错报，提前预警，让全社会了解天气情况。

二、①……

各区县政府、各防汛指挥部主要领导要亲自对城乡结合部、危旧房屋、地下设施、在建工地、积滞水点、地铁站等薄弱部位和已知隐患进行再检查，切实落实各防护措施，同时严格实行“雨前、雨中、雨后”三查制度，发现问题，立即解决，确保安全。各指挥部要根据各地区、各行业、各单位特点和薄弱环节，开展针对性的演练，演练要力争贴近实际，避免走过场。同时，要抓住每一次降雨时期，开展应对城市极端暴雨天气的实战演练，检验指挥系统、应急预案、避险措施、对接机制和通讯保障，提高应急处置能力。

三、加强值守，第一时间快速应急响应

主汛期内，各防汛指挥部主要负责同志要坚守岗位，值班电话要24小时畅通，接到各类防汛信息后要及时处置。出现险情，主要领导要亲赴现场指挥，组织抢险。在接到市指挥部汛情预警时，各区县以及交通、建设、房屋、水务、国土、轨道、安监、人防等部门要按照《北京市防汛应急预案》的要求，第一时间启动各自应急响应工作，及时组织街道、乡镇等基层组织，开展抢险、抢修、救灾和群众避险转移，确保不出人为责任事故。

四、严格信息报告制度，及时准确传递汛情

各区县、各防汛指挥部要严格把握汛情、灾情报送时限。发生灾情时，主要领导要（甲）到达现场，（乙）“边抢险、边救灾、边报告”的原则，第一时间将初步情况上报市指挥部；在救灾过程中，采取续报方式，将现场实际情况（丙）上报市指挥部。因降雨造成人员伤亡的事件，要立即报告。每次降雨结束后，各责任单位要将降雨应对小结及时报市指挥部。

五、加强宣传，提高群众避险自救意识

安全迎汛的主体是广大市民。各区县、各防汛指挥部要结合天气预报、实时降雨，做好群众防雨、避险等方面的宣传，特别是城镇危险平房区、易积水院落、泥石流易发区、水库下游及险村险户等危及群众安全的重点部位，不放过每一次雨情，加大宣传力度，提高群众的安全防范意识和避险自救能力。市指挥部将不定期召开迎汛工作通报会，各单位要明确新闻发言人，制定防汛应急事件发布方案，提高宣传效力。

36. 根据文意，上述公文的标题表达正确的是：

- A. 关于切实加强主汛期安全迎汛工作的通知
- B. 关于切实加强主汛期安全防汛工作的通知
- C. 关于切实加强主汛期安全迎汛工作的通告
- D. 关于抓紧落实2010年迎汛防汛工作的通告

【答案】A。解析：

标题应体现出短文的主要内容，此题一应概括短文全部内容，二考查通知与通告区别。

短文重点强调主汛期应怎样安全迎汛，故排除B、D两项。通知应用范围要比通告广，且通告具有某些法律效力。

所以，正确选项是A。

37. 根据第5自然段的内容，在①处应填入的小标题是：

- A. 实施各种避险措施
- B. 开展防汛实战演练

- C. 严格险情隐患排查
- D. 加强防汛检查和演练

【答案】D。解析：

第二部分主要讲“检查”和“演练”，只有选项D包括这两个方面。所以，正确选项是D。

38. 文中有关工作布置内容共分5个部分，各个部分之间层次关系正确的是：

- A. 一、二、三之间是递进关系，四、五之间是并列关系
- B. 一与二之间是递进关系，三、四、五之间是并列关系
- C. 一、二、三、四之间是递进关系，四与五之间是并列关系
- D. 一与二之间是并列关系，三、四、五之间是递进关系

【答案】D。解析：

短文中一、二、两条针对的是汛期前的预防工作，两项应同时进行，故为并列关系；三、四、五三条为主汛期内的的工作，首先应快速反应，然后准确报告、及时传递信息，之后提高群众的避险自救意识，故为递进关系。

所以，正确选项是D。

39. 根据上下文语意，第9自然段划线部分中甲、乙、丙处依次应填入的词语最恰当的一项是：

- A. 立即、本着、及时
- B. 即刻、坚持、马上
- C. 及时、遵照、不断
- D. 迅即、依据、迅速

【答案】A。解析：

由“报送时限”可知，应选“及时”。所以，正确选项是A。

40. 依据原文提供的信息，下列推断不正确的是：

- A. 预报、预警和监测到位，才能将危害降到最低程度
- B. 只有各级领导干部的亲历亲为，才能确保不出人为责任事故
- C. 抓住时机，提高应急处置能力，需要各干部的高度责任心
- D. 宣传要抓住重点，才能提高防范意识和能力

【答案】B。解析：

通知强调各部门之间的相互配合才能确保不出人为责任事故，而不仅仅是各级领导干部的亲力亲为。所以，正确选项是B。

二、阅读以下文字，完成41-45题。

一切种类的文学艺术的源泉究竟是从何而来的呢？作为观念形态的文艺作品，都是一定的社会生活在人类头脑中的反映的产物，革命的文艺，则是人民生活在革命作家头脑中的反映的产物。人民生活中本来存在着文学艺术原料的矿藏，这是自然形态的东西，是粗糙的东西，但也是最生动、最丰富、最基本的东西，在这点上说，它们使一切文学艺术相形见绌。它们是一切文学艺术的取之不尽、用之不竭的唯一的源泉。有人说，书本上的文艺作品，古代的和外国的文艺作品，不也是源吗？实际上，过去的文艺作品不是源而是流，是古人和外国人根据他们彼时彼地所得到的人民生活中的文学艺术原料创造出来的东西，我们必须继承一切优秀的文学艺术遗产，批判地吸收其中一切有益的东西，作为我们从此时此地的人民生活中的文学艺术原料创造作品时候的借鉴。有这个借鉴和没有这个借鉴是不同的，这里有文

野之分，粗细之分，高低之分。所以我们决不可以变成替代自己的创造，这是决不能替代的。文学艺术中对于古人和外国人的毫无批判的硬搬和模仿，乃是最没有出息的最害人的文学教条主义和艺术教条主义。中国的革命的文学家、艺术家，有出息的文学家、艺术家，必须到群众中去，必须长期地无条件地全心全意地到工农兵群众中去，到火热的斗争中去，到唯一的最广大最丰富的源泉中去，观察、体验、研究、分析一切人、一切阶级、一切群众，一切生动的生活形式和斗争形式，一切文学和艺术的原始材料，然后才有可能进入创作过程。否则你的劳动就没用对象，你就只能做鲁迅在他的遗嘱里所谆谆嘱咐他的儿子万不可能做的那种空头文学家，或空头艺术家。

人类的社会生活虽是文学艺术的惟一源泉，虽是较之后者有不可比拟的生动丰富的内容，但是（ ）。这是为什么呢？因为虽然两者都是美，但是文艺作品中反映出来的生活却可以而且应该比普通的实际生活更高、更强烈、更有集中性、更典型、更理想，因此就更带着普遍性。革命的文艺，应当根据实际生活创造出各种各样的人物来，帮助群众推动历史的前进。例如一方面是人们受饿、受冻、受压迫，一方面是人剥削人、人压迫人，这个事实到处存在着，人们也看得平淡。文艺就把这种日常的现象集中起来，把其中的矛盾和斗争典型化，构成文学作品或艺术作品，就能使人民群众惊醒起来，感奋起来，推动人民群众走向团结和斗争，改造自己的环境。如果没有这样的文艺，那么这个任务就不能完成，或者不能有力而迅速地完成。（毛泽东《在延安文艺座谈会上的讲话》）

41. 对第一段开头画线部分，理解正确的是：

- ①艺术作品描绘的生活画面就是客观存在的生活原貌
- ②艺术作品反映的社会生活是经过作家头脑加工的
- ③艺术作品融进了作家对一定的社会生活的认识和态度
- ④艺术作品是生活在一定社会中的作家思想的反映

- A. ①②
- B. ③④
- C. ①④
- D. ②③

【答案】B。解析：

第一段开头部分强调的是：一定的社会生活和人脑中反映出的产物两方面。四个备选句子中，①过分强调一定的社会生活，忽略人脑中反映出的产物这一方面；②过分强调经过作家头脑加工，而忽略一定的社会生活这个基础。

所以，正确选项是 B。

42. 文章论述“源”与“流”的关系主要是为了让文艺工作者明确：

- A. 文艺来源于人民生活，要真实反映人民生活
- B. 继承、借鉴与原创之间关系密切
- C. 只有为人民群众服务的文艺，才是革命的文艺
- D. 艺术创作所服务的对象是工农兵群众

【答案】A。解析：

作者举“源”和“流”为例，通过阐述批判的借鉴文学艺术中的有益的东西，来使艺术工作者明晰，应从人民生活中寻找素材进行艺术创作。

所以，正确选项是 A。

43. 下列选项中，对本文提出的“批判地继承”一切优秀的文学艺术遗产理解错误的一项是：

- A. 对古人和外国人的文学艺术遗产不能毫无批判的硬搬和模仿，否则就是没有出息的、最害人的文学教条主义和艺术教条主义。
- B. 继承一切优秀的文学艺术遗产，批判地吸收其中一切有益的东西

- C. 批判地继承古代文学艺术遗产，这里有文野之分，粗细之分，高低之分，快慢之分
D. 我们决不可能拒绝继承和借鉴古人和外国人的文化艺术，哪怕是封建阶级和资产阶级的东西

【答案】C。解析：

由“我们必须继承一切优秀的文学艺术遗产，批判地吸收其中一切有益的东西”与“有这个借鉴和没有这个借鉴是不同的”可知，C项错误。

所以，正确选项是C。

44. 填入第二段括号处，最恰当的是：

- A. 人民还是不满足于前者而要求后者
B. 艺术作品对人类社会的反映更深刻
C. 文学艺术不是对现实生活的严搬照抄
D. 艺术作品应承担推动历史进程的使命

【答案】A。解析：

根据划线处后文两者之间的比较可知，人民不满足于普通的实际生活，而对于文学作品要求更高。所以，正确选项是A。

45. 对最后一段的举例的主要目的，分析不恰当的一项是：

- A. 证明革命的文字，应当根据实际生活创造出各种各样的任务来，帮助群众推动历史的前进
B. 证明文艺作品中反映出来的生活可以而且应该比普通的实际生活更有集中性，更带有普遍性
C. 证明文艺作品要源于生活，但要高于生活，应创造出各种典型形象来
D. 证明文艺作品应把日常现象中的矛盾和斗争典型化，从而达到推动历史前进的目的

【答案】C。解析：

作者举例的目的是，将生活中存在的事实典型化，使其更具普遍性，以此来使群众觉醒，帮助历史前进。选项C强调的是塑造出典型形象，错误。

所以，正确选项是C。

三、阅读以下文字，完成46~50题。

“蚁族”这一新生名词迅速成为社会上流行的语词，因为他隐喻了社会的变革发展中正在形成的重大问题，即教育在个人的社会地位获得过程中所具有的效用与价值的问题。

在现代社会中，平等开放与普适化的教育是社会个体成员获取社会地位与资源，获得向上的社会流动的基本途径，青年学生通过接受教育，积累知识、技能、经验与才干等人力资本，使自己在职业变迁、居住迁移、身份地位的改变等社会流动的过程中具有较强的竞争力，由此而形成的社会将是一个更为开放的平等社会。然而现如今“蚁族”的出现和蔓延，或明或暗地表述了另一种事实与逻辑，它反映了在当今社会流动与地位获得的过程中，教育所铺架的向上流动的梯桥出现了明显的短路与断线。

在现代社会中，相对于金钱财富、权势身份以及关系网络，教育更有助于开放平等的社会流动与地位获得，也是社会中间阶层得以形成壮大的重要条件。但是教育的这些效用的实现是有条件的，相比而言，钱财、权势和关系的向上流动效用，依赖于社会中人们相互之间的需求与交换，靠的是在这样的需求与交换基础上所形成的市场。**【①】**存在着交换的可能，形成了这样的市场，他们**【②】**可能推动向上的流动与地位资源的获得，**【③】**这样的市场缺少合理的规则和公正的秩序。

但教育效用的实现则不仅需要体现教育价值和人力资本的市场，更需要有维护与保障市场公正的规则与机制。这些规则与机制包括公正开放的市场竞争规则、公平合理的收入分配机制以及完善健全的福利保障制度，缺少了这些，教育所积累的人力资本，将难以实现其应有的竞争力，教育所产生的收入回报也将难以得到稳定的增加和提高，最终教育的向上流动和地位获得的功能效用将难免大打折扣。那么，在不断的社会流动与阶层重构的过程中，教育所拥有的促进社会平等、培育社会中间阶层和构建社

会理想与价值的功效和作用无疑将黯然失色，以知识技能见长的新兴阶层也终将难以成为支撑起社会中间阶层的稳定和坚实的社会力量，对此需要保持足够的警惕与清醒的认识，在改进教育体制与促进经济发展的同时，切实地完善和健全相关各方面的市场与社会的规则和机制。

46. “蚁族”一词所用修辞方法与下面哪个词语相同？

- A. 白领
- B. 蜗居
- C. 宅男
- D. 房奴

【答案】B。解析：

“蚁族”是将大学毕业生低收入聚居群体比喻成有如蚂蚁般的“弱小强者”，而“蜗居”是将狭小的住所比喻成蜗牛的壳。二者都运用了比喻的修辞方法，

所以，正确选项是 B。

47. 文中第三自然段，划线句子中【 】处，应依次填入的词语是：

- A. 只有 才 何况
- B. 即使 也 况且
- C. 如果 就 尽管
- D. 只要 就 哪怕

【答案】D。解析：

根据该句后文的转折内容，即教育需要维护与保障市场公正的规则与机制可知，前文“钱财、权势和关系”所依靠的市场即使缺少合理公正的机制也能推动向上的流动并获得地位资源，故前面应选择充分条件关联词。

所以，正确选项是 D。

48. 根据上文，蚁族的出现最可能带来的社会问题是：

- A. 社会上人们之间需求与交换的市场缺少合理规则
- B. 社会流动与阶层重构难以进行
- C. 教育所拥有的促进社会平等的作用减弱
- D. 以知识技能见长的新兴阶层难以支撑起社会

【答案】C。解析：

通读文章可知，“平等开放与普适化教育是社会个体成员获得社会地位与资源，获得向上的社会流动的基本途径。”由此形成的社会是开放和平等的。但是“蚁族”的出现，反映出“教育所铺架的向上流动的梯桥出现了明显的算路和断线。”由此可知，“蚁族”的出现，使得教育本身的促进社会平等的作用正受到质疑。

所以，正确选项是 C。

49. 不属于“教育所铺架的向上流动的梯桥出现了明显的短路和断线”这句话所表达的信息的是：

- A. 很多人要实现在社会流动中具有较强竞争力的目标，必须通过受教育来实施
- B. 教育的平等开放与普及面临着巨大的挑战，出现了断层
- C. 蚁族的出现使得由教育改变社会命运的常规道路出现许多不确定性
- D. 教育的向上流动和地位获得的功能效用将大打折扣

【答案】A。解析：

结合上下文可知，此句话所要表达的观点是，“平等开放和普适化的教育”是“形成开放平等社会”的前提，但是“蚁族”的出现，使得受过教育的社会个体在向上流动的过程中受到了阻碍，由此人们对

以往的“教育改变命运”的认识产生了怀疑，教育的功效也备受质疑。故 B、C、D 三项是此句话表达出的信息。

所以，正确选项是 A。

50. 文章第四自然段中出现的“对此”，其中的“此”指代的内容是：

- A. 教育缺少公正开放的市场竞争规则
- B. 教育拥有的促进社会平等的功效
- C. 改进教育体制和促进经济发展
- D. 教育的价值和新兴知识阶层的作用未得到实现

【答案】D。解析：

由“以知识技能见长的新兴阶层也终将难以成为支撑起社会中间阶层的稳定和坚实的社会力量”这句话可知，“对此”的“此”指代的是 D 项。

所以，正确选项是 D。

四、阅读下列文字，完成 51-55 题。

大国崛起不是民族性口号和单一的愿望，文化创新和可持续性输出是它的重要软实力地基。

法国思想家布尔迪厄将整个社会资本分成三个资本域：经济资本、文化资本和象征资本。就“经济资本”而言，如今，中国在落入低谷后已经走上了复苏之路，这种复苏使得中国的身份变得空前复杂。关键问题不在于我们的科技经济、军事崛起，而在于我们的文化身份不清。这就说明中国的“文化资本”还不丰厚，需积极进行文化资本与象征资本的积累和创新，通过经济崛起与文化创新共同提升中国新世纪大国地位。

在以西方文化为主导的格局下，包括中国在内的整个东方文化丧失了自己的声音，只能沦为西方现代性的边缘或附庸，中国在古今中西四个维度之间【①】，人们一方面在忘记中国自身的传统，一方面对西方这一他者总是【②】。向西方学习并没有获得西方文化的内在特性，反而往往通过西方抹去了中国的传统文化。

没有文化的凝聚力，文化身份【③】就将出现问题。在经济起飞之后，全盘西化之中还有什么能够代表东方文化？如果我们没意识到本土文化的重要性，那么崛起速度越快，文化则越弱。

文化要去“化”，国家冲突要去“解”，当代思想战略要去“行”。然而，在大众媒体的炒作中，今天满地的“文化侏儒”和消费享乐主义者，却少有能够担当“天下”的大气象者。这意味着，中国文化在新一轮文化竞争中很有可能处在不利的地位，事实上，文化殖民、语言殖民、精神生态失衡是当代最大的文化病症，这种病症造成了国人的文化自卑主义和文化失败主义情结。这一局面必须加以改观，否则文化软实力就落不到实处。

中国文化正在成为国际上受尊重的文化实体，并由东方向西方传播而成为人类新的文化感受方式，我们必须思考人类的未来是否可以将东西方文化中精神相通的要害整合起来，在相互理解的基础上，消除文化误读，发现差异性文化之间的心灵相似性，拿出巨大的心智和勇气着手解决人类共同面临的精神生态失衡问题，让人类走向新世纪绿色生态的自然和社会。

守正创新是新世纪中国崛起的文化战略。新世纪中国文化不仅是中国的，也应该“走出去”而成为人类的和世界的。

51. 在文中的三处【】内，填入词语最恰当的是：

- A. ①徘徊 ②雾里看花 ③辨别
- B. ①摆动 ②琢磨不透 ③认同
- C. ①迷失 ②敬而远之 ③确立
- D. ①纠结 ②若即若离 ③传承

【答案】B。解析：

由于“向西方学习并没有获得西方文化的内在特性，反而往往通过西方抹去了中国的传统文化”，可知中国对于西方文化的认识并不深入，故第二空应在 A、B 两项中选择。“文化的凝聚力”是针对于自身的文化归属愿望，因此第三空应选择“认同”。

所以，正确选项是 B。

52. 文中第五自然段下划线的词，必须删除的是：

- A. 然而
- B. 却
- C. 事实上
- D. 最大

【答案】B。解析：

“然而”用在句首表示后面整句话都与前文表意转折，这时句中再用一个转折词“却”则多余，应删去。所以，正确选项是 B。

53. 下面举例的社会现象中，哪项不属于当代社会出现的文化病症？

- A. 青少年中出现哈韩、哈日风潮
- B. 很多人以中英夹杂的语言表达为荣
- C. 好莱坞大片以锐不可当之势席卷中国
- D. 网上出现“火星文”等网民自造文字

【答案】D。解析：

文章第五段强调，文化病症造成了国人的文化自卑主义和文化失败主义情结，这可能会导致中国在中国文化竞争中处于不利地位。既然有竞争，必然主体是两种文化，A、B、C 三项都提到了中西方文化，只有 D 项是中国文化本身的现象，不存在竞争，故为正确选项。

所以，正确选项是 D。

54. 下面对文章内容的表达，完全符合文意的一项是：

- A. 文化创新是提升中国新世纪大国地位的关键
- B. 中国崛起的速度凸显了文化的软弱
- C. 缺少心怀天下的“雄才”使得中国在新一轮文化竞争中处在不利的地位
- D. 解决人类出现的精神生态失衡问题，必须着力寻找不同文化的精神共通性

【答案】D。解析：

根据第二段“通过经济崛起与文化创新共同提升中国新世纪大国地位”可知 A 项不符合文意。第四段中“如果我们没意识到本土文化的重要性，那么崛起速度越快，文化则越弱”是一个假设复句，存在可能但不一定是现实，故 B 项错误。

第五段提到“中国文化在新一轮文化竞争中有可能处在不利的地位”，而 C 项过于绝对，排除。

根据第六段可知，D 项完全符合文意。

所以，正确选项是 D。

55. 总观全文，哪项不属于“守正创新是新世纪中国崛起的文化战略”的内容？

- A. 增加中国的文化凝聚力
- B. 着力消减国人的“文化自卑主义和文化失败主义情结”
- C. 通过经济的崛起，发挥文化影响力
- D. 结合东西方文化的共通处，使人类精神生态失衡问题得到解决

【答案】C。解析：

C项“经济的崛起”与文化的“守正创新”并无直接关联，因此不属于“守正创新是新世纪中国崛起的文化战略”的内容。

所以，正确选项是C。

五、阅读以下文字，完成56-60题。

美国科学家最新提出，质子的半径比以前所认为的要小4%，如果这个结论获得证实，那么不是解释光和物质相互作用的量子电动力学理论本身有问题，就是许多基于现有质子大小计算所使用的里德伯常量(原子物理学中的基本常量之一，为一经验常数)是【①】的，不管是何种情况，都意味着我们需要重写基础物理理论。

质子是带正电荷的基本粒子，它同中子和电子一起，组成了宇宙的基本元件——原子。过去，粒子物理学一直使用由一个质子和一个电子组成的氢原子作为基准来测量质子的大小。一个有32名科学家参与的国际研究团队表示，他们的最新实验将精确度提高了10多倍。结果表明，质子半径要比以前认为的小4%。或许，用来计算质子大小的里德伯常量将失去价值，如果出现这种情况，其他基础的计算也都要重新【②】。

在实验中，科学家使用 μ 介子取代氢原子中的电子， μ 介子是一种带负电、质量为电子207倍的基本粒子，由于其质量比电子大许多，所带的负电可以屏蔽原子核的正电。所以，它能够同原子核更接近，发生的作用力更大，科学家也就更能够精确地探测质子的结构。

另外， μ 介子以不同的能量状态存在，能量状态会影响其围绕质子旋转的方式。同时，质子的大小也会影响这些能量的状态，也会影响让 μ 介子从一种能量状态跃迁到另一种能量状态所需的能量。

为了测量质子的大小，研究人员精确地让一束激光束对准包含了 μ 介子的氢原子，刺激 μ 介子从一种能量状态跃迁到另一种能量状态。最终，研究人员精确地找到了他们正在寻找的跃迁，也测算出质子的大小。

足球的魅力无论如何都不可能在于误判，只有科学的魅力才能真正体现于一次又一次的“误判”中。科学史上的每一个废墟，都【③】着一座更加辉煌的大厦拔地而起。量子电动力学是量子场论中一个最成熟的分支，而里德伯常量更被认为是世界上最重要的常量之一。这两样东西无论谁出了毛病，都足以改变现代物理学的乾坤。难怪在弗劳尔斯看来，质子半径这4%的“缩水”如被证实，其意义甚至会让大型量子对撞机相形见绌。

56. 在文中的三处【 】内，依次填入词语最恰当的是：

- A. ①无效 ②制定 ③隐含
- B. ①缺失 ②改写 ③标志
- C. ①荒谬 ②研究 ③意味
- D. ①错误 ②修订 ③预示

【答案】D。解析：

通过阅读文段可知，①处意在阐述里德伯常量的正确度值得考虑，故“无效”和“错误”符合文意。②处，若“里德伯常量失去价值”，应在原有“其他基础计算”基础上进行修改，“修订”较“制定”贴合文意。③处作者意在总结科学的魅力，此处用“预示”可与后文“更加辉煌的大厦拔地而起”相呼应。

所以，正确选项是D。

57. 关于“ μ 介子”的表述，错误的一项是：

- A. 它是带负电的基本粒子
- B. 它会围绕质子旋转
- C. 它具有非常大的质量
- D. 它能够同原子核更接近

【答案】C。解析：

文中说其质量比电子大，单独说它质量大是不可以的。
所以，正确选项是 C。

58. 对文中划线句子的意思理解得最准确的一项是：

- A. 误判使得足球的观赏性大打折扣
- B. 出现错误使得科学研究更具有意义
- C. 科学的魅力在于不断地否定并超越自身
- D. 足球与科学有着不同的欣赏角度和评判标准

【答案】C。解析：

此处用足球误判来比喻科学中的每一次错误，来说明只有在不断否定前人、超越前人的过程中才能体现出科学的魅力。

所以，正确选项是 C。

59. 下列选项中，对文章内容的理解准确的一项是：

- A. 最新研究发现，质子要比以前科学界认为的小 4%
- B. 接近原子核，能清楚地探测到质子的结构
- C. 氢原子在激光的刺激下，可以改变能量状态
- D. 里德伯常量是世界上最重要的物理常量

【答案】B。解析：

根据“质子的半径比以前所认为的要小 4%”可知 A 项错误；根据“包含可知 C 项错误。根据“（原子物理学中的基本物理常量之一）”可知 D 项错误。

所以，正确选项是 B。

60. 如果关于质子的新研究获得证实，则一定会产生哪项影响？

- A. 重新研修量子电动力学
- B. 否定里德伯常量
- C. 重写基础物理理论
- D. 改变大型强子对撞机的研究方法

【答案】C。解析：

根据文段首段末句“不管是何种情况，都意为着我们需要重写基础物理理论”可知。

所以，正确选项是 C。

六、阅读以下文字，完成 61-65 题。

全世界尚未开采的煤层有几亿吨。目前看来，要利用藏在煤层中的大部分煤，似乎还很遥远。但是，地下煤气化技术有可能会改变这一现状。

该技术是在无法用常规方法开采，更无法在深层煤缝中点火的情况下通过钻孔向里面泵入空气或氧气和水蒸气，使煤层燃烧几年。燃烧所产生的高温和压力使煤氧化，分解成二氧化碳和可燃烧气体（主要是甲烷和氢气）的混合物。这些混合物可以在地层表面收集起来放进天然气涡轮机燃烧发电。

煤的气化技术早已出现，现在开采的方法是把煤放在高压容器里加热，使它变成像天然气那样的气体。如果在地下进行这种气化，工程师们认为成本可以降低一半。这一技术可以把煤的成本低的特性和天然气利用率高的特性结合在一起。

研究人员还认为该技术不污染环境，燃烧产生的灰和煤渣留在了地下。而且由于混合体都得经过一根管子出来，所以像二氧化碳这样不需要的成分可以用很低的代价分离出来，并且也许还可以注回到地下燃烧后留下的洞穴中。

当然，这一方法也存在一些技术的困难。如果不能很好地控制地下的情况和在煤缝上钻的许多洞，地火就可能窜出来，或者冒出地面的混合气体的数量和质量都可能会有很大的差别。

该技术最直接的危险是，它可能会污染地下水资源。目前进行的试验性燃烧已经产生致癌物——苯和酚，在洛基山的一个试验场需要花 500 万美元清除这些致癌物质。即使这些有毒化学物质不扩散，它们也会毒化煤缝里面的水。

国际能源机构认为，全世界已知的“能回收”的煤的储藏量大约是 1 万亿吨。但是，地下煤气化很可能把“可回收”的煤的储藏量增加到大约 6 万亿吨。把它们全部燃烧完全会使从化石燃料中排入大气层的二氧化碳总量增加到目前的 20 倍，对气候的影响竟比科学家预计的最糟糕的情况还要糟糕。

61. 关于“地下煤气化技术”，下列说法不正确的是：

- A. 在深层煤缝点火，通过钻孔向里面泵入空气或氧气和水蒸气，使煤层燃烧起来
- B. 利用燃烧所产生的高温和压力使煤氧化，分解成二氧化碳和可燃烧气体的混合物
- C. 这些不需要分离的混合物可以在地层表面收集起来放进天然气涡轮机燃烧发电
- D. 将燃烧产生的灰和煤渣留在了地下，而后经过一根管子将混合物排出来，必要时有些气体也许可以注回地下洞穴中

【答案】A。解析：

根据文段第二段首句“该技术是在无法用常规方法开采，更无法在深层煤缝重点火的情况下……是煤层燃烧几年”可判断，A 项错误。B、C、D 三项均可在文中找到对应内容。

所以，正确选项是 A。

62. 下列各项中，不属于“地下煤气化”的优点的一项是：

- A. 可以把煤的成本低的特性和天然气利用率高的特性结合在一起
- B. 燃烧产生的灰和煤渣都留在了地下，从而减少了环境污染
- C. 使无法用常规方法开采的深层煤层得到了有效利用
- D. 可以对冒出地面的混合气体的数量和质量进行有效控制

【答案】D。解析：

根据第三段末句“这技术可以把煤的成本低的特性和天然气利用率高的特性结合在一起”可知 A 项正确。根据第四段首句“该技术不污染环境，燃烧产生的灰和煤渣留在了地下”可知 B 项正确。根据文章首段可知，C 项正确。

所以，正确选项是 D。

63. 工程师认为利用地下煤气化技术可以降低一半成本，最可能是因为：

- A. 不需要昂贵设备和工人挖掘煤矿，可以利用地下岩层作为气化的容器
- B. 运用地下煤气化技术，可以有效开采煤层中的大部分煤
- C. 地下煤气化可以避免瓦斯爆炸、渗水塌方等灾难性事故发生
- D. 地下煤气化过程中产生的气体混合物可以收集起来燃烧发电

【答案】A。解析：

文章提到“现在开采的方法是把煤放在高压容器里加热”，如果在地下进行这种气化，则可降低成本。由此可知，降低成本的原因是不需要将煤运到地面上来而直接将地下岩石作为加热容器。

所以，正确选项是 A。

64. 最后一段意在说明：

- A. 地下煤气化技术可能会增加环境的污染程度
- B. 地下煤气化技术可以使煤炭资源得到充分的利用
- C. 目前科学家对地球环境污染程度的预计过于乐观

D. 目前的环境污染主要源于化石燃料产生的二氧化碳

【答案】A。解析：

文章末段意在说明地下煤气化在增加“可回收”煤储藏量的同时也加重了环境污染。所以，正确选项是A。

65. 采用“地下煤气化”技术所开采的可燃气体和天然气的相似之处是：

- A. 成本较低
- B. 利用率高
- C. 操作安全
- D. 清洁无污染

【答案】B。解析：

根据文中“这种技术可以把美德成本低和天然气利用率高的特性结合在一起”可知，“地下煤气化”技术开采的可燃气体和天然气的相似之处为利用率高。

所以，正确选项是B。

七、阅读以下文字，完成 66-70 题。

最新一项研究显示，如今已成为亚洲人饮食主要组成部分的美味糯米，是使中国古代一种砂浆性能超强的主要因素。研究人员还发现，这种砂浆仍然是现存修复古代建筑的最好材料。①

砂浆是一种用于填充砖块、石块和其他建筑材料之间缝隙的糊状物。② 中国科学家研究发现，距今大约 1500 年前，古代中国的建筑工人通过将糯米汤与标准砂浆混合，发明了超强度的“糯米砂浆”。③

糯米砂浆或许是世界上第一种使用有机和无机原料制成的复合砂浆。④ 糯米砂浆比纯石灰砂浆强度更大，更具耐水性，建筑学家还认为它是历史上最伟大的技术创新之一。建筑工人利用糯米砂浆去修建墓穴、宝塔、城墙，其中一些建筑存在至今。有些古建筑物非常坚固，【 】现代推土机都难以推倒，还能承受强度很大的地震。

最新研究发现了一种名为支链淀粉的“秘密原料”，似乎是赋予糯米砂浆传奇性强度的主要原因。支链淀粉是发现于稻米和其他含淀粉食物中的一种多糖物或复杂的碳水化合物。

分析研究表明，古代砌筑砂浆是一种特殊的有机与无机合成材料。无机成分是碳酸钙，有机成分则是支链淀粉。支链淀粉来自于添加至砂浆中的糯米汤。此外，砂浆中的支链淀粉起到了抑制剂的作用：一方面控制硫酸钙晶体的增长，另一方面生成紧密的微观结构，而后者应该是令这种有机与无机砂浆强度如此之大的原因。

为确定糯米能否有助于建筑物修复，研究人员准备了掺入糯米数量不同的石灰砂浆，对比传统石灰砂浆测试了它们的性能。科学家说：“对这两种砂浆的测试结果表明，掺入糯米汤的石灰砂浆的物理特性更稳定，机械强度更大，兼容性更强，这些特点令其成为修复古代石造建筑的合适材料。”这一研究成果刊登在最新一期的《美国化学学会杂志》上。

66. “标准的砂浆成分是熟石灰，即经过煅烧或加热至高温，然后放入水中的石灰岩。”这句话适合填补在文中：

- A. ①处
- B. ②处
- C. ③处
- D. ④处

【答案】C。解析：

第二段首先阐述了什么是“糯米砂浆”，所以后面应该接续介绍“标准砂浆”。所以，正确选项是C。

67. 下面有关“糯米砂浆”的表述，与原文不符合的一项是：

- A. 是由糯米汤与标准砂浆混合后制成的，具有超强度
- B. 在糯米砂浆中，糯米汤比例与砂浆强度成正比
- C. 在强度与耐水性方面均超过纯石灰砂浆
- D. 用其修建的一些古建筑，存在至今，十分坚固

【答案】B。解析：

文段中并未提及 B 项所述内容“糯米汤比例与砂浆强度成正比”。所以，正确选项是 B。

68. 根据原文意思，古代砌筑砂浆强度极大的原因是：

- A. 这种砂浆是由有机和无机合成的材料，成分复杂
- B. 硫酸钙晶体增长被控制可以加强稳定性
- C. 砂浆中的糯米汤可以起到抑制剂的作用
- D. 支链淀粉能够生成紧密的微观结构

【答案】D。解析：

由“另一方面生成紧密的微观结构，而后者应该是令这种有机与无机砂浆强度如此之大的原因”可知，应选 D 项。

所以，正确选项是 D。

69. 根据本文提供的信息，下列理解准确的一项是：

- A. 支链淀粉是一种复杂的碳水化合物
- B. 将石灰岩放入水中，可以形成熟石灰
- C. 与石灰砂浆相比，糯米砂浆对不同石料的适应性更强
- D. 掺入糯米汤的石灰砂浆因具有较强性能而成为修复建筑的合适材料

【答案】C。解析：

由“对这两种砂浆的测试结果表明，掺入糯米汤的石灰砂浆的物理特性更稳定，机械强度更大，兼容性更强”可知，C 项正确。

所以，正确选项是 C。

70. 文中【 】处，应填入的词语是：

- A. 甚至
- B. 或许
- C. 即使
- D. 不仅

【答案】A。解析：

分析第三自然段可知，最后一句话与前一句话是递进关系，表示意义的更近一步，故选“甚至”。所以，正确选项是 A。

第三部分 数量关系

（共 15 题，参考时限 15 分钟）

一、数字推理：共 5 题。每题给你一个数列，但其中缺少一项，要求你仔细观察数列的排列综合判断，然后从四个供选择的选项中选出最恰当的意向，来填补空缺项。

71. 9, 20, 42, 86, (), 350

- A. 172

- B. 174
- C. 180
- D. 182

【答案】B。解析：

原数列做差后得到公比为 2 的等比数列。
所以，正确选项是 B。

72. 16, 8, 24, 12, 36, 28, ()
- A. 16
 - B. 42
 - C. 64
 - D. 72

【答案】C。解析：

原数列具有如下关系： $16 \div 2 = 8$ ， $8 \times 3 = 24$ ， $24 \div 2 = 12$ ， $12 \times 3 = 36$ ， $36 \div 2 = 18$ ， $(?) = 18 \times 3 = 54$ 。
所以，正确选项是 C。

73. 2, 2, 4, 8, 32, 256, ()
- A. 2048
 - B. 4096
 - C. 6942
 - D. 8192

【答案】D。解析：

原数列前两项的乘积等于下一项，故未知项为 $32 \times 256 = 8192$ 。
所以，正确选项是 D。

74. -1, -1, -4, -6, -15, ()
- A. -18
 - B. -20
 - C. -25
 - D. -27

【答案】D。解析：

原数列具有如下关系： $-4 = (-1) \times 2 + (-1) - 1$ ， $-6 = (-1) \times 2 + (-4) - 0$ ， $-15 = (-4) \times 2 + (-6) - 1$ ， $(?) = (-6) \times 2 + (-15) - 0 = -27$ 。
所以，正确选项是 D。

75. 1, 26, 9, 124, (), 342
- A. 57
 - B. 66
 - C. 79
 - D. 123

【答案】B。解析：

原数列可化为： 0^3+1 ， 3^3-1 ， 2^3+1 ， 5^3-1 ， (4^3+1) ， 7^3-1 ，底数数列做和后得到公差为 2 的等差数列。所以，正确选项是 B。

二、数学运算，共 10 题，每题呈现一道算术式，或表述数量关系的一段文字，要求你迅速、准确计算或论证出答案。你可以在题本上运算，遇到难题，你可以跳过不做，等你有时间在返回来做。

76. 某单位组织职工参加团体操表演，表演的前半段队形为中间一组 5 人，其他人按 8 人一组在外圈，后半段队形变为中间一组 8 人，其他人按 5 人一组围在外圈。该单位职工人数 150 人，则最多可有多少人参加？

- A. 149
- B. 148
- C. 138
- D. 133

【答案】D。解析：

根据“表演的前半段队形为中间一组 5 人，其他人按 8 人一组围在外圈”可知，参加的职工人数加 3 是 8 的倍数，排除 B、C 两项；根据“后半段队形变为中间一组 8 人，其他人按 5 人一组围在外圈”可知，参加的总人数减 3 是 5 的倍数，排除 A 项。

所以，正确选项是 D。

77. 六个球与三个小球共重 48 克，六个小球与三个大球共重 42 克，则大球重多少克？

- A. 4
- B. 5
- C. 6
- D. 7

【答案】C。解析：

依据题意，设每个大球、小球分别重 x 克， y 克，则 $6x+3y=48$ ， $3x+6y=42$ ，解得 $x=6$ 。

所以，正确选项是 C。

78. 某单位组织员工进行拓展训练，沿公路从甲地步行至乙地，再由乙地立即原路返回甲地。如果员工每天行进的路程比前一天增加 1 千米，则去时用 4 天走完的路程。返回时用了 3 天，问甲地到乙地总共多远？

- A. 42 千米
- B. 43 千米
- C. 44 千米
- D. 45 千米

【答案】A。解析：

依据题意，设第一天走的路程为 x 千米，则第二天到第七天所走的路程分别为 $(x+1)$ 千米、 $(x+2)$ 千米、 $(x+3)$ 千米、 $(x+4)$ 千米、 $(x+5)$ 千米、 $(x+6)$ 千米，故 $4x+6=3x+15$ ，解得 $x=9$ ，故甲地到乙地的路程是 $4 \times 9+6=42$ 千米。

所以，正确选项是 A。

79. 甲乙两人从 5 项健身项目中各选 2 项，则甲乙所选的健身项目中至少有 1 项不相同的选法共有：

- A. 36 种
- B. 81 种
- C. 90 种
- D. 100 种

【答案】C。解析：

甲、乙两人从 5 项健身项目中各选 2 项，共有 $C(5, 2) \times C(5, 2) = 100$ 种不同的选法，其中两人

所选健身项目完全相同时有 $C(5, 2) = 10$ 种不同的选法。故甲、乙所选的健身项目中至少有 1 项不相同的选法共有 $100 - 10 = 90$ 种。

所以，正确选项是 C。

80. 某单位计划在一间长 15 米、宽 8 米的会议室中间铺一块地毯，地毯面积占会议室面积的一半，若四周铺地毯的留空宽度相同，则地毯的宽度为：

- A. 3 米
- B. 4 米
- C. 5 米
- D. 6 米

【答案】C。解析：

设地毯的长为 x 米，宽为 y 米，则 $15 - x = 8 - y$ ， $xy = 15 \times 8 \div 2$ ，解得 $x = 12$ ， $y = 5$ 。

所以，正确选项是 C。

81. 将大米 300 袋、面粉 210 袋和食用盐 163 袋按户分给某受灾村庄村民，每户分得的各种物资均为整数袋，余下的大米、面粉和食用盐的袋数之比为 1:3:2，则该村有多少户村民？

- A. 7
- B. 9
- C. 13
- D. 23

【答案】D。解析：

根据“余下的大米、面粉和食用盐的袋数之比是 1:3:2”可知，余下的大米袋数+食用盐袋数=面粉袋数，故分发的大米袋数+食用盐袋数-面粉袋数=300+163-210=253。由于分发的大米、食用盐和面粉的袋数均为该村居民户数的整数倍，故 253 能被该村居民户数整除，分析选项，只有 D 符合。

所以，正确选项是 D。

82. 某市 2009 年末汽车保有量为 50 万辆，预计此后每年报废上一年末汽车保有量的 5%，并且每年新增的汽车数量相等，如果要求该市保有量不超过 200 万辆，那么每年新增汽车数量不应超过多少万辆？

- A. 2.5
- B. 5
- C. 7.5
- D. 10

【答案】D。解析：

根据题意可知，到 200 万辆的时候，新增的不能大于报废的，即每年新增不应超过 $200 \times 5\% = 10$ 万辆。所以，正确选项是 D。

83. 某工程班被派去抢修灾区路面，工程完成 $1/3$ 时，一半人员被调去救援被困群众，剩下一半人员继续工作 4 小时后，两个新兵班被调去支援抢修，每个新兵班的效率是工程班的 35%，最终比原计划提前 3 小时完工，请问原定计划几小时完工？

- A. 48
- B. 42
- C. 54
- D. 60

【答案】A。解析：

之所以提前完成，是因为某段时间的工作效率大于原计划，并且多出的这部分工作量能弥补工作效率较低和提前完成的那部分时间的工作量。

设原工程班工作效率为 2。抽调后工作效率为 1，工作了 4 小时。两个新兵班的工作效率为 $(2 \times 0.35) \times 2 = 1.4$ 。意即，最后一个阶段的工作效率为 2.4。

设最后一个阶段用时 x 小时，那么有： $(2.4 - 2)x = 2 \times 3 + 1 \times 4$ ，解得： $x = 25$ 。其中 2×3 为提前的 3 个小时以工作效率 2 完成的工作量， 1×4 为抽调一半人后与原计划相比减少的工作量。用多出的工作量弥补这两部分就能保证工程完工。

$25 + 4 + 3 = 32$ （小时），这是原计划 $2/3$ 的工作时间，则原计划为 48 小时。

所以，正确选项是 A。

84. 某公司为客户出售货物，收取 3% 的服务费；代客户购置设备，收取 2% 的服务费，某客户委托该公司出售自产的某种物品并代为购置新设备，已知公司共收取该客户服务费 200 元，客户收支恰好平衡，则自产的物品售价是多少？

- A. 3880
- B. 4080
- C. 3920
- D. 7960

【答案】B。解析：

设自产物品售价为 x 元，购置的设备为 y 元，则有 $x = y + 200$ ， $2\%y + 3\%x = 200$ ，解得 $x = 4080$ 。

所以，正确选项是 B。

85. 某公司招聘甲、乙两种职位的人员共是 90 人，甲、乙两种职位的人员每月的工资分别为 1500 元和 2500 元，若甲职位的工资总支出是乙职位的 40%，则乙职位的招聘人数比甲职位多

- A. 24 人
- B. 20 人
- C. 18 人
- D. 15 人

【答案】C。解析：

设甲、乙职位分别招聘 x 人、 y 人，则 $1500x = 2500y \times 40\%$ ，解得 $x : y = 2 : 3$ ，故甲职位招聘了 36 人，乙职位招聘了 54 人，故乙职位招聘人数比甲职位多 18 人。

所以，正确选项是 C。

第四部分 判断推理

（共 30 题，参考时限 30 分钟）

本部分包括三种类型的题目：

一、图形推理：共 5 题。从四个选项中选出最恰当的一项填在问号处，使之呈现一定的规律性。


86. 从所给的四个选项中，选择最合适的一个填入问号处，使之呈现一定的规律性。



【答案】B。解析：

题干汉字中，各汉字笔画数分别为 13、11、9，故待选汉字应包含 7 画。
 所以正确答案为 B。

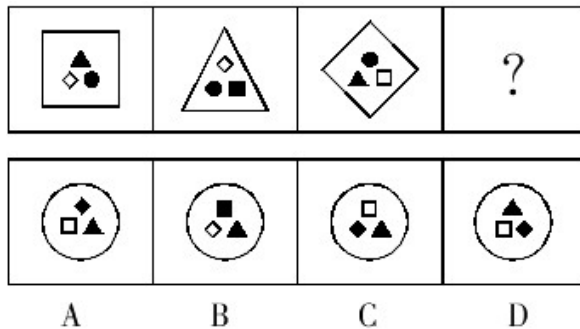
87. 从所给的四个选项中，选择最合适的一个填入问号处，使之呈现一定的规律性。



【答案】D. 解析：

题干各图中，每个图形分别由 1、2、3 画组成，故待选图形一个包含 4 笔。
 所以，正确选项是 D。

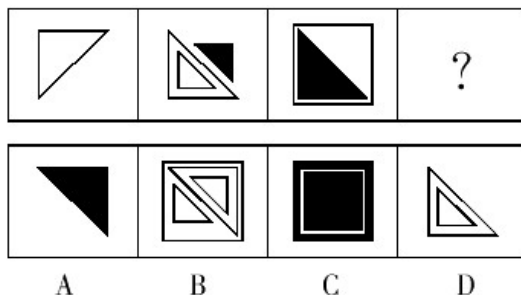
88. 从所给的四个选项中，选择最合适的一个填入问号处，使之呈现一定的规律性。



【答案】D. 解析：

题干各图由圆形、菱形、四边形及三角形组成，位于前一幅图内部顶端的元素，为下一图外部图形且各元素沿着逆时针方向旋转。所以，正确选项是 D。

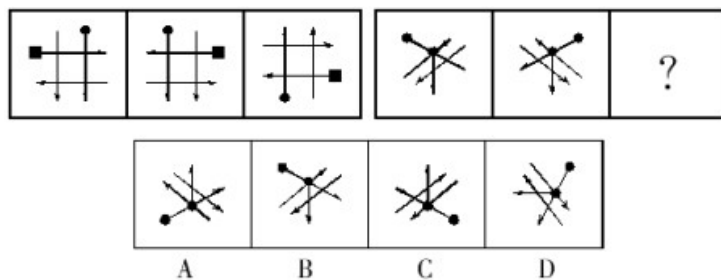
89. 从所给的四个选项中，选择最合适的一个填入问号处，使之呈现一定的规律性。



【答案】B. 解析：

题干图形中，各图直角数量分别为 1、3、5，故待选图形应包含 7 个直角。
 所以，正确选项是 B。

90. 从所给的四个选项中，选择最合适的一个填入问号处，使之呈现一定的规律性。



【答案】C。解析：

第一组图形中，图一向右翻转得到图二，图二向上翻转得到图三；第二组图形也应遵循此规律。所以，正确选项是C。

二、演绎推理：共 15 题。每道题给出一段陈述，这段陈述被假设是正确的，不容置疑的。要求你根据这段陈述，选择一个答案。正确的答案应根据所给的陈述选出，不需要附加陈述之外的任何信息。

91. 一把钥匙能打开天下所有的锁，这样的万能钥匙是不可能存在的。

则下列结论中，最符合上述论断的是：

- A. 任何钥匙都必然有它打不开的锁
- B. 至少有一把钥匙必然打不开天下所有的锁
- C. 至少有一把钥匙可能打不开天下所有的锁
- D. 任何钥匙都可能没有它打不开的锁

【答案】A。解析：

题干可以理解为：不可能存在能打开天下所有锁的钥匙。“不可能”等值于“必然不”，因此题干相当于“必然不存在有的钥匙能打开天下所有锁”，等值于“必然所有的钥匙都有它打不开的锁”，即 A 项正确。

所以，正确选项是 A。

92. 太平洋某个岛上只有两个民族：高山族和苗族。他们每年都过同一个节日——端午节。但是，这一天，岛上所有高山族的人都只吃鸡蛋，岛上所有苗族的人都只吃粽子，还知道喀那尔什这一天吃了粽子。

根据上述信息，下面哪一个选项是正确的？

- A. 喀那尔什是该岛上的苗族人
- B. 喀那尔什是该岛上的高山族人
- C. 喀那尔什不是该岛上的苗族人
- D. 喀那尔什不是该岛上的高山族人

【答案】D。解析：

由端午节这一天“岛上所有高山族的人都只吃鸡蛋”和“喀那尔什这一天吃了粽子”可推出，喀那尔什不是该岛上的高山族人。

所以，正确选项是 D。

93. 王平是凤凰公司的经理，李强的所有朋友都在凤凰公司工作。胡斌是李强的朋友。凤凰公司中有些职工来自湖南，凤凰公司所有的职工都是大学生。

据此，我们可以知道：

- A. 李强有一些学历不高的朋友
- B. 胡斌是大学生
- C. 胡斌来自湖南

D. 王平与李强是朋友

【答案】B。解析：

由“李强的所有朋友都在凤凰公司工作”和“胡斌是李强的朋友”，可推出“胡斌在凤凰公司工作”。再由“凤凰公司所有的职工都是大学生”可推出“胡斌是大学生”，故B项正确；其余各项都无法从题干信息中推出，因此都是不确定的。

所以，正确选项是B。

94. 情感是人类对世界的艺术掌握的重要特征，艺术审美是以情感规范艺术对象，以情感感染和启示艺术鉴赏者，所以()。

- A. 一切艺术都与情感有关
- B. 人类的生活实际是艺术的源泉
- C. 艺术都是以高尚的人类情感为对象
- D. 人类对世界的艺术掌握即是情感的掌握

【答案】D。解析：

人类对世界艺术掌握的重要特征是情感，而艺术审美是以情感规范艺术对象，以情感感染和启示艺术鉴赏者，说明情感是贯穿于艺术之中的。所以人类对世界的艺术掌握即是情感的掌握。

所以，正确选项是D。

95. 尽管全国大多数酒店的服务质量都不错，但还是有些酒店存在服务质量问题，这些服务质量问题可能只在低星级酒店存在。据此，有4个推论：

- (1)并非所有的酒店都存在服务质量问题。
- (2)有些低星级酒店可能存在服务质量问题。
- (3)北京香格里拉饭店是一家五星级酒店，因此该酒店必然不存在服务质量问题。
- (4)江苏的星级酒店数量位居全国前列，因此江苏的大多数酒店服务质量都不错。

以上推论中，正确的有：

- A. 1个
- B. 2个
- C. 3个
- D. 4个

【答案】B。解析：

(1)等值于“有些酒店不存在服务质量问题”，由题干第一句可以推出；(2)由题干第二句可以推出；(3)和(4)都不能由题干推出。

所以，正确选项是B。

96. 某国家领导人要在连续6天(分别编号为第一天，第二天，……，第六天)内视察6座工厂F、G、H、J、Q和R，每天只视察一座工厂，每座工厂只被视察一次。视察时间的安排必须符合下列条件：

- (1)视察F在第一天或第六天。
- (2)视察J的日子比视察Q的日子早。
- (3)视察Q恰在视察R的前一天。
- (4)如果视察G在第三天，则视察Q在第五天。

下面哪一个选项是符合要求的按顺序排列的从第一天至第六天视察的工厂的名单？

- A. F、Q、R、H、J、G
- B. G、H、J、Q、R、F
- C. G、J、Q、H、R、F

D. G、J、Q、R、F、H

【答案】B。解析：

可采用排除法。根据条件（1），D项错误；根据条件（2），A项错误；根据条件（3），C项错误。所以，正确选项是B。

97. 某部门举行羽毛球比赛，小赵、小钱、小孙、小李四人进入了男双决赛，已知：（1）小赵比小钱年轻（2）小李比他的两个对手年龄都大；（3）小赵比他的搭档年龄大。

由此不可以推出：

- A. 小李的年龄最大
- B. 小孙的年龄最小
- C. 小李的年龄比小赵大
- D. 小孙和小赵是搭档，小钱和小李是搭档

【答案】A。解析：

由（1）（3）可知，小钱>小赵>小赵的搭档，又由（2）可知，小李不可能是小赵的搭档，所以小赵的搭档是小孙，小李比小赵和小孙年龄大，则小孙年龄最小，B、C、D三项都正确；由题干无法知道小李和小钱谁的年龄最大，故不能推出的是A项。

所以，正确选项是A。

98. 期望效用理论认为，人做某件事情的动机强度是该事件成功的概率与成功后获得的收益的乘积，而且从理性角度分析，当动机强度一致时，人们从事该事件的概率是一样的。但是有实验研究表明，在收益的情景中，面对两个选项：A. 100%获得250元，B. 有25%的可能性获得1000元，75%的可能性获得0元，则有80%的人会选择A。在损失的情景中，面对另外两个选项：C. 100%损失750元，D. 有75%的可能性损失1000元，有25%的可能性损失0元，则有80%的人会选择D。一般认为，选择成功概率小的行为是冒险行为，而选择成功概率大的行为是保守行为。

根据以上信息推断：

- A. 可以从理性的角度用期望理论来解释该现象
- B. 在收益和损失这两种情景中，人们的冒险行为是一样的
- C. 在收益情景中，人们更倾向于冒险
- D. 在损失情景中，人们更倾向于冒险

【答案】D。解析：

由题干可知，从理性的角度用期望理论解释不了该现象，A项错误；由题干“选择成功概率小的行为是冒险行为，而选择成功概率大的行为是保守行为”可知，在收益情景中，人们更倾向于保守；在损失情景中，人们更倾向于冒险，所以B、C两项错误，D正确。

所以，正确选项是D。

99. 某地发生一起凶杀案。经分析凶手有两个人。侦察员拘留了甲、乙、丙、丁、戊五个犯罪嫌疑人，并掌握如下情况：

- （1）如果乙不是凶手，那么甲也不是凶手；
- （2）乙只有和丙在一起，才会参与作案；
- （3）如果丁是凶手，戊一定是帮凶；
- （4）甲和丁中至少有一个人是凶手；
- （5）丙没有参与这起凶杀案。

问：谁是杀人凶手？

- A. 甲和乙是凶手

- B. 丙和丁是凶手
- C. 乙和戊是凶手
- D. 丁和戊是凶手

【答案】D。解析：

由（5）可知丙不是凶手；再由（2）得，乙不是凶手；由（1）肯定前件就能肯定后件，可得甲也不是凶手；再由（4）可得，丁是凶手；进而由（3）得，戊也是凶手。

所以，正确选项是D。

100. 某国家乒乓球队有队员80名。男女队员各占一半，其中有50名队员业余喜欢唱卡拉OK，有60名队员业余喜欢玩电子游戏。

根据以上陈述，以下哪项有可能是对的？

- A. 30名男队员业余喜欢唱卡拉OK但不喜欢玩电子游戏
- B. 30名男队员业余喜欢玩电子游戏但不喜欢唱卡拉OK
- C. 40名女队员业余喜欢玩电子游戏但不喜欢唱卡拉OK
- D. 40名女队员业余喜欢唱卡拉OK但不喜欢玩电子游戏

【答案】B。解析：

依题意可知，不喜欢唱卡拉OK的不能超过30人，不喜欢玩电子游戏的不能超过20人，据此可排除A、C、D项。

所以，正确选项是B。

101. 许多报纸有两种版面——免费的网络版和花钱订阅的印刷版。报纸上网使得印刷版的读者迅速流失，而网络版的广告收入有限，报纸经济收益大幅下挫。如果不上网，报纸的影响力会大大下降。如果对网络版收费，很多读者可能会流转到其他网站。要让读者心甘情愿地掏腰包，报纸必须提供优质的、独家的内容。

如果以上陈述为真，以下哪项陈述一定为真？

- A. 如果对网络版报纸收费，则一部分读者会重新订阅印刷版
- B. 只有提供优质的、独家的内容，报纸才会有良好的经济收益
- C. 只要报纸具有优质的、独家的内容，即使不上网，也能造成巨大的影响力
- D. 随着越来越多的人通过网络接受信息，印刷版的报纸将逐渐退出历史舞台

【答案】B。解析：

整理题干条件为：

- （1）报纸不上网→影响力会大大下降；
- （2）对网络版收费→很多读者可能会流转到其他网站；
- （3）让读者心甘情愿地掏腰包→报纸提供优质的、独家的内容。

由（2）得，对网络版报纸收费，则很多读者可能会流转到其他网站，一部分读者是否会重新订阅印刷版不得而知，A项错误；

由（3）得，只有提供优质的、独家的内容，读者才心甘情愿地掏腰包，即报纸才会有良好的经济收益，B项正确。

C项与（1）矛盾；

D项的“印刷版的报纸将逐渐退出历史舞台”，题干没有提及。

所以，正确选项是B。

102. 如果面粉价格继续上涨，佳食面包店的面包成本必将大幅度增加。在这种情况下，佳食面包店将会考虑以扩大饮料的经营来弥补面包销售利润的下降。但是，佳食面包店只有保证面包销售利润不下

降，才可避免整体收益明显减少。

以下哪项陈述可以从上文得出？

- A. 如果佳食面包店的整体收益减少，它购买面粉的成本将继续增加
- B. 如果佳食面包店的整体收益减少，要么扩大饮料的经营，要么减少面包的销售
- C. 如果面粉的价格继续上涨，佳食面包店的整体收益将明显减少
- D. 即使佳食面包店的整体收益不减少，购买面粉的成本也不会降低

【答案】B。解析：

“不到长城非好汉”相当于“只有到长城，才是好汉”，即“如果是好汉，那就到过长城”，或说“所有的好汉都到过长城”，换位推理后可得“有的到长城的是好汉”。

所以，正确选项是 B。

103. 即使在古代，规模生产谷物的农场，也只有依靠大规模的农产品市场才能生存，而这种大规模的农产品市场意味着有相当人口的城市存在。因为中国历史上只有一家一户的小农经济，从来没有出现过农场这种规模生产的农业模式，因此，现在考古所发现的中国古代城市，很可能不是人口密集的城市，而只是为举行某种仪式的人群临时聚集地。

以下哪项，最为恰当地指出了上述论证的漏洞？

- A. 论证中对某个关键概念的界定前后不一致
- B. 在同一个论证中，对一个带有歧义的断定做出了不同的解释
- C. 把某种情况的不存在，作为证明此种情况的必要条件也不存在的根据
- D. 把某种情况在现实中不存在，作为证明此类情况不可能发生的根据

【答案】B。解析：

题干为充分条件假言命题，否定后件则否定前件，后件为联言命题，只要有一个联言支为假，则该联言命题为假。

所以，正确选项是 B。

104. 康宁地产集团公司规定，其下属的所有连锁分店，销售的商品房年成交量在 200 套以上的，员工可获得年终奖。年终统计结果表明，该集团公司下属的 20 个分店中，有 15 个商品房年成交量在 200 套以上，其余分店商品房年成交量不足 180 套。该公司又规定，只有商品房年成交量超过 180 套的，员工才能获得康宁奖。

如果以上陈述均为真，则以下哪项也一定为真？

- I. 该年度得年终奖的员工，也一定得康宁奖。
 - II. 该年度得康宁奖的员工，也一定得年终奖。
 - III. 该年度康宁地产集团公司的大多数员工都得了年终奖。
- A. 只有 I
 - B. 只有 II
 - C. I 和 III
 - D. II 和 III

【答案】C。解析：

A 项不符合要求，因为由（1）可知，不穿粉色上衣，则穿红色上衣，再由（2）可知，穿了红色上衣，则不穿紫色裙子，故排除 A；

B 项不符合要求，因为由（1）可知，不穿红色上衣，则穿粉色上衣，再由（4）可知，穿了粉色上衣，则不穿黄色鞋子（两者“不能都穿”），故排除 B；

C 项符合要求；D 项不符合要求，因为（3）是必要条件假言命题，否定前件则否定后件，故不穿紫色裙子，也不能穿黄色鞋子。

所以，正确选项是 C。

105. 有四位朋友，分别是 B(Bill)、O(Olando)、S(Steven)、W(William)，他们就各自的年龄分别说了以下的话：

B：我的年龄在四位当中要么最大要么最小。

O：我比 W 的年纪大。

S：我只比其中一个人的年龄小。

W：我比 B 要年轻。

请问，这四位按照年龄从小到大分别是谁？

A. BWOS

B. WOSB

C. OWSB

D. WSOB

【答案】B。解析：

题干表明，康宁集团有两条规定：（1）年成交量 200 套以上，就获得年终奖；（2）只有年成交量超过 180 套，才能获得康宁奖。题干又指出，该集团下属 20 个分店，有 15 个年成交量 200 套以上，其余的不足 180 套。据此分析各备选项真假。

I 不一定为真，因为“年成交量超过 180 套”只是“得康宁奖”的必要条件，肯定前件不能肯定后件；

II 为真，得“康宁奖”的必定“年成交量超过 180 套”，而依题意可知，“年成交量超过 180 套”的必定也超过 200 套（15 个年成交量 200 套以上，其余的不足 180 套），“年成交量 200 套以上”的“得年终奖”，因此“得康宁奖”的必定“得年终奖”；

III 不一定为真，因为无法判断“15 个年成交量 200 套以上”的分店的员工是否占该集团员工的大多数。

所以，正确选项是 B。

三、定义判断：共 10 题。根据定义，从四个备选的事物或行为中选出一个最为符合或最不符合该定义的典型事物或行为。注意：在这项测验中，本定义被假设为正确的、不容置疑的。

106. 无因管理，是指在没有法定或约定义务的前提下，为他人管理事务的行为。

下面属于无因管理的是：

A. 某售货员将别人遗忘在柜台上的雨伞保管起来，后来发现是丈夫买的伞

B. 某人抢救落水儿童

C. 甲的邻居久出未归，其房屋因暴雨而成危房，甲雇人为其修缮

D. 甲基于合同代乙保管货物

【答案】C。解析：

A 项中顾客落下的物品，商店有义务保管并归还；B 项不是为他人管理事务；D 项甲保管乙的货物是有合同规定的义务。

所以，正确选项是 C。

107. 博弈思维，是指由于我们的目标取决于自己和他人的策略选择，因此要理性分析各种可能的备选策略及其组合下的各种可能后果，以及实现这些后果的可能性，从而使我们的收益最大化的一种思维方式。

根据以上定义，下列反映博弈思维的一项是：

A. 知己知彼，百战不殆

- B. 塞翁失马，焉知非福
- C. 种瓜得瓜，种豆得豆
- D. 人有多大胆，地有多大产

【答案】A。解析：

博弈思维强调的是分析自己和他人的策略选择，以及这些策略的各种可能的后果。B项是从辩证思维的角度看问题；C、D项只有一种后果，没有分析各种策略的后果。

所以，正确选项是A。

108. 专项整治，是指政府出于整治某种突出市场行为，某个行业或者社会问题的需要，由主管部门或多个部门，集中人力、设备、资源，在较短的时间内从重、从快地进行声势浩大的行政检查，执法处罚行动。

根据以上定义，下列不属于专项整治的是：

- A. 北京交管局在奥运测试赛期间对特定路段进行交通管制
- B. 公安部门联合相关单位进行为期三个月的扫黄打非行动
- C. 煤矿安全管理部门对生产能力10万吨以下的煤矿进行为期一个月的安全排查
- D. 国家工商总局在3·15期间开展打假专项行动

【答案】A。解析：

A项对特定路段进行交通管制，不是因为某些市场行为、某个行业或者社会需要而开展的行政检查、执法处罚行动。

所以，正确选项是A。

109. 次级群体，是指其成员为了某种特定的目标集合在一起，通过明确的规章制度结成正规关系的社会群体。

下列属于次级群体的是：

- A. 军队中的老乡群
- B. 同一班飞机上的旅客
- C. 九三学社
- D. 某家庭

【答案】C。解析：

A、D项没有“明确的规章制度”；B项没有“某种特定的目标”。

所以，正确选项是C。

110. 定型思考又叫团体定型思维，是指讨论决策时，团体成员的思路被纳入某种轨道或框架的现象，定型思考会限制团体成员的思路，使讨论不能充分展开。

下列不属于定型思考的是：

- A. 某团体在一次决策过程中，为了尽快作出决策，出现了多数人对少数有不同意见的人施加压力的现象
- B. 甲公司领导在作出一项决策时，总是首先广泛收集各类信息，并且积极鼓励团体成员提出自己的想法
- C. 某些人自以为自己一贯正确，对不同意见总采取排斥的态度，使得持不同意见的其他同事不愿表达自己的意见
- D. 在某公司的一次会议讨论中，由于领导者首先表态，其他成员慑于其权威而保持沉默

【答案】B。解析：

定性思考强调的团体成员的思路被纳入某种固定的框架。B项中公司领导总是广泛收集意见，并鼓

励团队成员提出自己的想法，说明团队的思路没有被固定。

所以，正确选项是 B。

111. 循环经济，是在生产、流通和消费等过程中进行的，减量化、再利用、资源化活动的总称。其中资源化是指直接将废物作为原料进行利用或者对废物进行再生利用。以下各项中，不属于资源化的是
- A. 把生活废水引到预定的净化系统中，采用物理的、化学的或生物的方法进行处理，使其达到可以重新利用的标准
 - B. 某养殖场将废水引入沼气池沉淀后，用作池塘养鱼的用水
 - C. 将小区的雨水收集起来，用作道路冲洗、绿化用水
 - D. 造纸厂利用新技术对废水进行处理后再利用

【答案】C。解析：

A、B、D 项都是把废水直接作为原料或者处理后再利用，属于循环经济。C 项“雨水”是自然界的资源，不是“废物”，对其利用不属于再生利用。

所以，正确选项是 C。

112. 主文化，是指在一定族群中共同奉行并占主导地位或统治地位的文化。

以下各项中，属于主文化的是：

- A. 中国的茶文化
- B. 我国封建社会的儒家文化
- C. 某企业的组织文化
- D. 对西方产生了深远影响的摇滚乐文化

【答案】B。解析：

主文化强调的是“主导地位或统治地位”。A 项中国茶文化虽然盛行，但没有达到主导、统治地位；C 项企业组织文化只是企业文化中的一部分；D 项摇滚文化虽然对西方有深远影响，但没有主导或统治西方文化。

所以，正确选项是 B。

113. 再社会化，它是使个人改变以前的知识结构、价值标准和行为模式，建立新的、符合社会要求和新的形势需要的知识结构、价值和行为模式的过程。

以下各项中，属于再社会化的是：

- A. 小张博士毕业后，发现自己十多年来在学校里的做人方式并不适合机关工作，开始尝试新的待人接物方式
- B. 老刘 40 多岁时，因工厂不景气下了岗，开始尝试新工作，开了一家小卖店
- C. 小贾天生智障，小时候家里条件有限，没有接受过相应的教育，在妇联帮助下，她从 18 岁开始接受补偿教育，现在生活基本可自理了
- D. 小李在大学二年级时，由哲学系转入心理学系

【答案】A。解析：

B 项只是职业的转变，没有价值标准、行为模式的改变；

C 项是学习条件变化而改变学习的过程，不是为了适应社会发展而改变；

D 项是学习专业的改变，不是为适应社会要求而改变价值标准和行为模式。

所以，正确选项是 A。

114. 行政受益权，是指国家为了保证行政主体有效行使行政职权而向它提供的各种物质保障条件。

下列选项中，属于行政受益权的是：

- A. 林业局获得拨款用于购买办公电脑

- B. 民政局接受红十字会的救灾捐款
- C. 教育局拨款给某中学用以购买教学用具
- D. 地税局向企业征收营业税

【答案】A。解析：

B 项提供物资保障的是“红十字会”不是国家；C 项保障的学校的教学工作，不是行政主体的行政工作；D 项是征税，不是提供物质保障。

所以，正确选项是 A。

115. 浅阅读，是指一种不需要思考而采取跳跃式阅读的阅读方法，它所追求的是短暂的视觉快感和心理的愉悦。下列选项中，属于浅阅读的是：

- A. 为了完成硕士论文，王博到图书馆查阅期刊
- B. 为了编制合理的出行计划，刘宇阅读了大量的旅游攻略
- C. 余南是救迷，世界杯期间他每天干的第一件事就是阅读报纸上的体育新闻
- D. 路亚每天研究网上的足彩信息

【答案】C。解析：

浅阅读强调的是短暂的视觉快感和心理愉悦感，不求深入理解。A、B 项是为了某种目的而进行阅读，需要深入的理解，仔细阅读；D 项通过“研究”看出，路亚不是为了短暂的视觉快感和心理愉悦感，而是为了研究信息的规律。

所以，正确选项是 C。

第五部分 资料分析

（共 15 题，参考时限 15 分钟）

针对下列图、表或文字回答问题。你应根据资料提供的信息进行分析、比较、计算、处理。你可以在题本上运算。

一、根据下列统计资料回答问题。

部分国家国际旅游收入及入境旅游人数统计表

位次	国际旅游收入(亿美元)				入境旅游人数(万人次)			
	1995 年		2007 年		1995 年		2007 年	
	国家和地区	收入	国家和地区	收入	国家和地区	人数	国家和地区	人数
	世界总计	4861	世界总计	10284	世界总计	53597	世界总计	91147
1	美国	937	美国	1448	法国	6003	法国	8194
2	法国	313	西班牙	651	美国	4349	西班牙	5897
3	意大利	304	法国	636	西班牙	3492	美国	5599
4	英国	276	英国	471	意大利	3105	中国	5472
5	西班牙	274	德国	469	英国	2172	意大利	4365
6	德国	241	意大利	461	墨西哥	2024	英国	3087
7	奥地利	145	中国	411	中国	2003	德国	2442
8	澳大利亚	119	澳大利亚	291	波兰	1922	乌克兰	2312
9	瑞士	114	奥地利	213	奥地利	1717	俄罗斯联邦	2291
10	荷兰	106	土耳其	206	加拿大	1693	土耳其	2225
14	中国	87						

116. 与 1995 年相比，2007 年我国旅游收入占世界国际旅游收入总额的比重约：

- A. 上升 2.2 个百分点

- B. 下降 2.2 个百分点
- C. 上升 4.2 个百分点
- D. 下降 4.2 个百分点

【答案】A。解析：

2007 年我国国际旅游收入占世界国际旅游收入总额的： $411/10284 \approx 4\%$ ，1995 年为： $87/4861 \approx 2\%$ ，前者比后者上升了： $(4\% - 2\%) \times 100 = 2$ 个百分点。

所以，正确选项是 A。

117. 在 1995 年和 2007 年入境旅游人数均居世界前十位的国家中，2007 年入境旅游人数与 1995 年相比增长速度最快的是：

- A. 西班牙
- B. 中国
- C. 意大利
- D. 英国

【答案】B。解析：

2007 年西班牙入境旅游人数比 1995 年增长： $5897/3492 - 1 < 1$ ，中国为： $5472/2003 - 1 > 1$ ，意大利为： $4365/3105 - 1 < 1$ ，英国 1995 年不在前十位，排除，显然增长最快的是中国。

所以，正确选项是 B。

118. 1995-2007 年，美国国际旅游收入平均每年增加：

- A. 42.6 亿美元
- B. 30.5 亿美元
- C. 50.6 亿美元
- D. 47 亿美元

【答案】A。解析：

1995~2007 年美国国际旅游收入平均每年增加 $(1448 - 937) / 12 \approx 42.6$ 亿元。

所以，正确选项是 A。

119. 表中所列国家中，2007 年国际旅游收入和入境旅游人数比 1995 年排名均有所上升的至少有：

- A. 2 个
- B. 3 个
- C. 4 个
- D. 5 个

【答案】C。解析：

2007 年国际旅游收入比 1995 年排名有所上升的国家有西班牙、德国、中国、土耳其；入境旅游人数有所上升的有西班牙、中国、德国、乌克兰、俄罗斯联邦和土耳其。故均有所上升的是西班牙、中国、德国和土耳其。

所以，正确选项是 C。

120. 以下说法中，与资料相符的是：

- A. 2007 年，国际旅游收入和入境旅游人数均居世界前十位的国家有 8 个
- B. 2007 年，世界各国入境旅游人数相比 1995 年增幅达到 80%
- C. 表中 1995-2007 年国际旅游收入增幅高于世界平均水平的国家有 2 个
- D. 2007 年法国入境旅游人数比英国多 2.7 倍

【答案】A。解析：

A 项，2007 年国际旅游收入和入境旅游人数均居前十位的有西班牙、美国、法国、中国、意大利、英国、德国、土耳其，共八个，正确；

B 项，2007 年世界各国入境旅游人数比 1995 年增长 $91147/53597-1 < 40000/53597 < 80\%$ ，错误，排除；

C 项，材料中没有给出土耳其 1995 年国际旅游收入，故无法计算高于世界平均水平的国家的数量；

D 项，2007 年法国入境旅游人数比英国多 $-1 < 2$ 倍，错误，排除。

所以，正确选项是 A。

二、根据下列统计资料回答问题。

截至 2010 年 5 月底，北京市朝阳区规模以上文化创意产业单位共有 1777 家，总资产达到 1534.6 亿元，同比增长 19.6%；1-5 月累计实现收入 521.6 亿元，同比增长 20.4%；从业人员平均人数为 16.4 万人，同比增长 0.8%；单位数量，资产总计，收入合计，从业人员平均数在全市规模以上文化创意产业中的比重分别达到 23.6%，19.9%，23.9%和 20.3%。

2010 年 1-5 月朝阳区规模以上文化创意产业主要指标分行业分组数据

产业类别	单位数 (个)	资产 (亿元)	同比(%)	收入 (亿元)	同比 (%)	从业人员 平均人数 (人)	同比(%)
文化艺术	68	43.7	8.6	7.6	11.8	6223	-1.5
新闻出版	193	134	11.6	27.0	7.6	17203	-2.1
广播、电视、电影	47	69.2	45.1	13.3	43.4	3351	-4.6
软件、网络及 计算机服务	299	262.1	-0.4	103.5	11.7	11946	2.0
广告会展	538	233.0	20.4	115.5	33.0	21626	2.0
艺术品交易	38	29.5	24.1	13.8	32.3	2818	6.4
设计服务	106	27.4	32.3	9.5	19.8	14152	4.6
旅游、休闲娱乐	263	194.4	8.9	68.7	23.6	17992	-1.2
其他辅助服务	225	540.5	37.0	162.9	17.3	38419	0.4

121. 2010 年 1~5 月北京市规模以上文化创意产业累计实现收入约为多少亿元？

- A. 521.6
- B. 2182.4
- C. 2569.5
- D. 7711.6

【答案】B。解析：

2010 年 1~5 月北京市规模以上文化创意产业累计实现收入为：

$521.6/23.9\% \approx 521.6/25\% \approx 2084$ 亿元。

所以，正确选项是 B。

122. 2009 年 1~5 月朝阳区规模以上文化创意产业中，收入位居第二的产业是（ ）。

- A. 其他辅助服务业
- B. 广播、电视、电影业
- C. 广告会展业
- D. 软件、网络及计算机服务

【答案】D。解析：

2009 年 1 ~ 5 北京市朝阳区规模以上文化创意产业中，其他辅助服务业收入为 $162.9 / (1 + 17.3\%) > 160 / 1.2 > 130$ 亿元；

广播、电视、电影业为 $13.3 / (1 + 43.4\%) < 13.3$ 亿元；

广告会展业为 $115.5 / (1 + 33.0\%) < (120 \times 3) / 4 < 90$ 亿元；

软件、网络及计算机服务为 $90 < 103.5 \cdot (1 + 11.7\%) < 103.5$ 亿元。

故位列第二位的是软件、网络及计算机服务。

所以，正确选项是 D。

123. 2010 年 1 ~ 5 月朝阳区广告会展从业人员平均人数在全市文化创意产业从业人员平均人数所占的比重约为 ()。

- A. 13.2%
- B. 7.5%
- C. 5.2%
- D. 2.7%

【答案】D。解析：

2010 年 1 ~ 5 月朝阳区广告会展从业人员平均人数占全市文化创意产业从业人员平均人数的 $21626 \div (16400 / 20.3\%) < (2.2 / 16.4) \times 20.3\% < 3\%$ 。

所以，正确选项是 D。

124. 表中 2010 年 1 ~ 5 月，朝阳区从业人员人均创收水平最高的行业是 ()。

- A. 广播、电视、电影业
- B. 广告会展
- C. 艺术品交易
- D. 旅游、休闲娱乐

【答案】B。解析：

2010 年朝阳区广播、电视、电影从业人员人均创收水平为 $13.3 / 3351 < 0.004$ ，广告会展为 $115.5 / 21626 > 0.005$ ，艺术品交易为 $13.8 / 2818 < 0.005$ ，旅游、休闲娱乐为 $68.7 / 17992 < 0.004$ ，显然最高的是广告会展。

所以，正确选项是 B。

125. 下列说法中，正确的一项是 ()。

- A. 2010 年 1 ~ 5 月朝阳区旅游、休闲娱乐业单位数仅次于广告会展业
- B. 2010 年 1 ~ 5 月朝阳区有 5 个产业的从业人员平均人数比上年同期有所下降
- C. 与上年同期相比，2010 年 1 ~ 5 月朝阳区广播、电视、电影业的资产增长速度最快
- D. 与上年同期相比，2010 年 1 ~ 5 月朝阳区艺术品交易业从业人员平均人数增长量最大

【答案】C。解析：

A 项，2010 年 1 ~ 5 月朝阳区旅游、休闲娱乐业单位数为 263 个，仅次于软件、网络及计算机服务，错误；

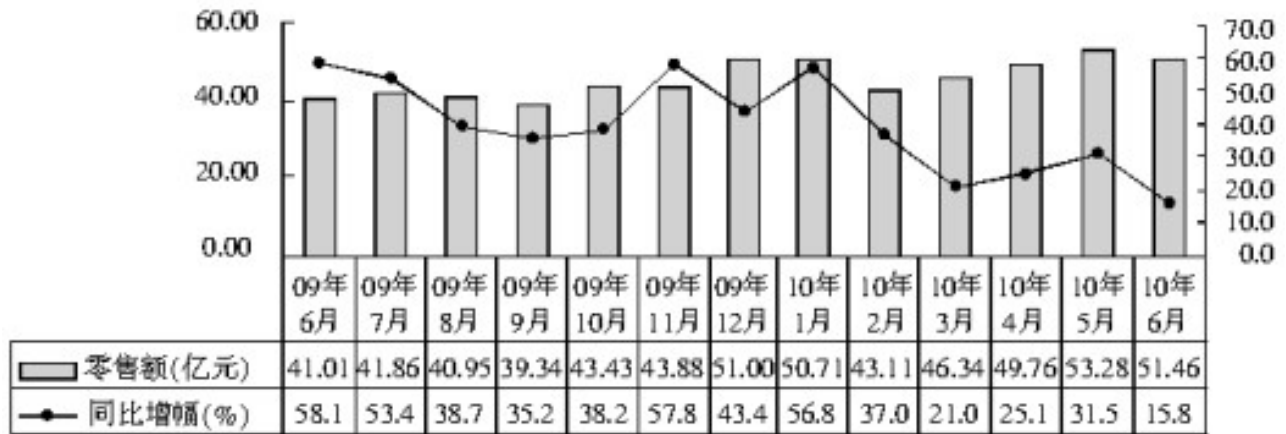
B 项，根据表格最后一列可知，2010 年 1 ~ 5 月朝阳区有二个产业的从业人员平均人数同比增速小于 0，即比上年同期有所下降，错误；

C 项，根据表格第四列可知，2010 年 1 ~ 5 月朝阳区广播、电视、电影业的资产增速最快，正确；所以，正确选项是 C。

三、根据下列材料回答问题。

某省汽车及石油类零售额保持较快增长。随着 2009 年以来汽车购置税减免政策的实施，汽车消费快速增长，在 2009 年增长 42% 的基础上，2010 年依然保持了较快增长速度。限额以上批发零售企业 2010 年 1-6 月实现汽车类零售额 294.7 亿元，同比增长 29.9%，比社会消费品零售总额增速高 11.4 个百分点。同时汽车消费快速增长带动了石油等消费品的快速增长，2010 年 1-6 月石油及制品类零售额 222.3 亿元，增长 43.4%，汽车及石油类零售额的增长拉动限额以上批发和零售业零售额增长 19.8 个百分点，拉动社会消费品零售总额增长 5.1 个百分点。

近一年限额以上批发零售业汽车零售情况



126. 与上年同期相比，2010 年 6 月汽车零售额同比增幅：

- A. 回落 42.3 个百分点
- B. 加快 42.3 个百分点
- C. 回落 42.3%
- D. 加快 42.3%

【答案】A。解析：

2010 年 6 月汽车零售同比增幅比上年同期回落： $58.1\% - 15.8\% = 42.3$ 个百分点。所以，正确选项是 A。

127. 2009 年 6 月至 2010 年 6 月，平均每月的零售额约为：

- A. 51.01 亿元
- B. 49.7 亿元
- C. 45.9 亿元
- D. 39.4 亿元

【答案】C。解析：

2009 年 6 月至 2010 年 6 月，平均每月的汽车零售额为：

$(41.01 + 41.86 + 40.95 + 39.34 + 43.43 + 43.88 + 51.00 + 50.71 + 43.11 + 46.34 + 49.76 + 53.28 + 51.46) \div 13 = 596.13 \div 13 \approx 45.9$ (亿元)。

所以，正确选项是 C。

128. 2009 年 6 月至 2010 年 6 月，汽车零售额环比增幅最大的月份，其零售额约比上月增加：

- A. 7.1 亿元
- B. 7.6 亿元
- C. 13.9 亿元
- D. 15.4 亿元

【答案】A。解析：

2009年6月至2010年6月汽车零售额环比增幅最大的月份是2009年12月，其零售额比上月增加51.00-43.88≈7.1亿元。
所以，正确选项是A。

129. 2009年1~6月限额以上批发和零售业零售额约为：

- A. 682.4亿元
- B. 381.9亿元
- C. 135.1亿元
- D. 1145.8亿元

【答案】A。解析：

2010年1~6月汽车及石油类零售额同比增加：

$(294.7 / (1 + 29.9\%) \times 29.9\% + 222.3 / (1 + 43.4\%)) \times 43.4\% \approx 67.8 + 67.3 = 135.1$ 亿元。

故2009年1~6月限额以上批发和零售业零售额为 $(135.1 \times 100) / 19.8 \approx 682.4$ 亿元。

所以，正确选项是A。

130. 下列说法中，正确的一项是：

- A. 2010年2~6月，该省汽车零售额逐月上升
- B. 2009年上半年该省汽车零售额高于下半年
- C. 2010年上半年该省社会消费品零售总额同比增长18.5%
- D. 2010年上半年该省汽车销售额超过300亿元

【答案】C。解析：

A项，2010年6月该省汽车零售额低于5月份，并非逐月上升，错误；

B项，2009年下半年该省汽车零售额为 $41.86 + 40.95 + 39.34 + 43.43 + 43.88 + 51.00 > 40 \times 6 = 240$ 亿元，上半年为 $294.7 / (1 + 29.9\%) < 300 / 1.25 = 240$ 亿元，显然上半年低于下半年，错误；

C项，2010年上半年该省社会消费品零售总额同比增长 $(29.9 - 11.4) \% = 18.5\%$ ，正确；

D项，2010年上半年该省汽车零售额为294.7亿元，未超过300亿元，错误。

所以，正确选项是C

全部测验到此结束！

请扫描QQ二维码，备注“公务员考生”加QQ好友，获取曹长远老师精解历年公务员考试申论、行测、面试真题完整解析资料。

精品资料，尽在掌握！



扫描二维码，加QQ好友