

图 1 三类企业管理制度和体系的完善程度

23. 从图 1 可以读出，在被调查的私营企业中，企业管理制度和体系至少达到“完善”程度的占：
A. 22% B. 32% C. 38% D. 100%
24. 根据图示资料可以得出结论，在管理制度和体系上，三者之中：
A. 各私营企业之间的差异最大 B. 各上市公司之间的管理水平分布比较均衡
C. 私营企业比上市公司更完善 D. 总体而言，外商独资企业已经比较完善

(三) 根据图 2 回答第 25 题。

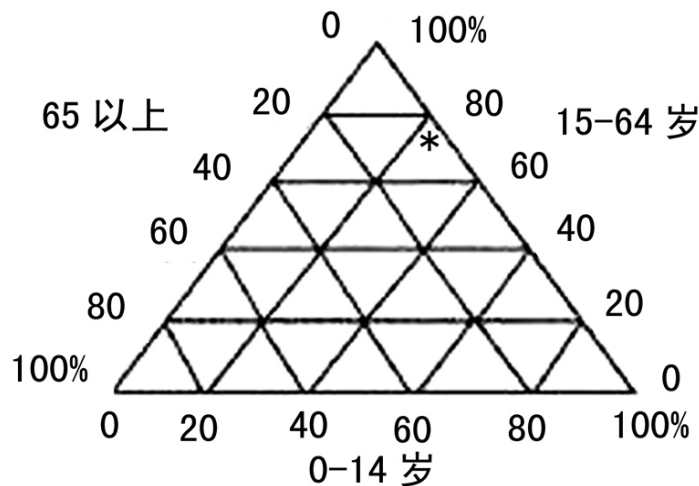


图 2 人口年龄构成的比重

25. 据我国第五次人口普查，全国共有 12.95 亿人，图 2 中“*”表示人口年龄构成状况，其中 0~14 岁人口的比重约是：
A. 47% B. 23% C. 13% D. 77%

(四) 根据图 3 回答 26~28 题。

图 3 是 2003 年 4 月 24 日至 5 月 11 日北京、全国每日新增 SARS 确诊病人和疑似病人的人数变化曲线。

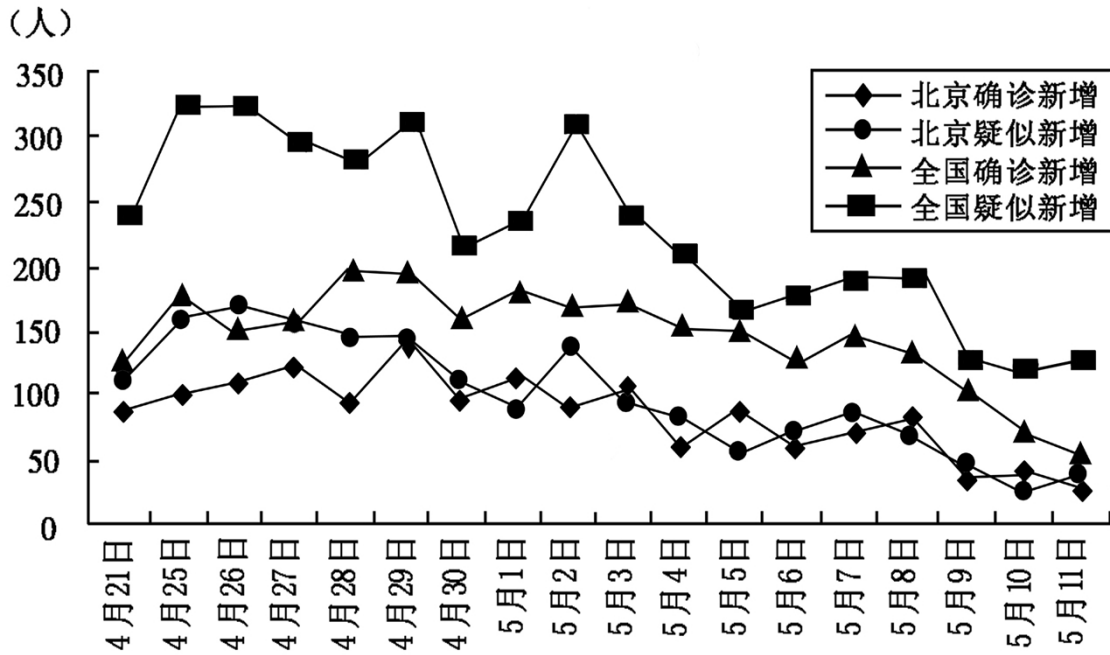


图 3 北京、全国每日新增 SARS 确诊病人和疑似病人的人数变化

26. 从图中可以看出，这段时间里，北京日增 SARS 病人最多的一天是在：
 A. 4 月 26 日 B. 4 月 27 日 C. 4 月 29 日 D. 4 月 28 日和 4 月 29 日
27. 从图中判断，以下错误的是：
 A. 同一天时间里，北京新增确诊病人比全国少 B. 日新增疑似病人人数的下降趋势北京比全国快
 C. 5 月初全国日新增疑似病人人数出现了反弹 D. 5 月上旬全国日新增确诊病人人数呈下降趋势
28. 日新增确诊病人人数与日新增疑似病人人数之间：
 A. 两者之间的相关程度，全国超过北京 B. 北京，两者之间呈部分负相关
 C. 两者之间呈正相关 D. 日新增疑似病人人数大于日新增确诊病人人数

(五) 根据图 4 回答 29~30 题。

如图 4，某航空公司托运行李的费用与托运行李重量的关系为线型函数。

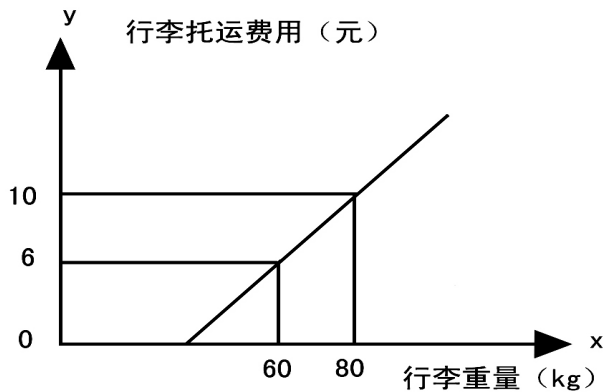


图 4 托运费用与行李重量的关系

- C. 还让每节车厢推选一至两人当乘客代表 D. 还在每节车厢推选出一至两名乘客代表
42. 阅读下面一段文字，完成文后的题目。
- “世界屋脊”上的()，以其特殊的魅力，吸引着越来越多的游客，千里风雪的青藏公路，正在成为一条令人神往的旅游热线。
- 下列①~⑦是从文中括号内摘出的词语，在文中，它们最恰当的排列顺序是：
- ①晶莹的湖泊 ②大漠 ③奔腾的江河 ④雪岭
⑤数不清的珍禽异兽 ⑥草原 ⑦冰峰
- A. ②⑦⑥④①⑤③ B. ①③⑤⑥②④⑦ C. ⑦④②⑥③①⑤ D. ③①⑦②⑤③⑥
43. 跟下面这段文字的衔接最恰当的一项是：
- 持重是人的美德，它使人稳健、理智、思维严密，但过分就显得刻板冷漠；热忱也是美德，它可以冲淡持重的凝滞因素，使人敏税、机智、保持一种活力，但过分则轻佻、浮夸。一个青年人：
- A. 要处理好二者的关系，就必须二美兼顾，互为补充
B. 因为处理好了二者的关系，所以就二美兼顾，互为补充
C. 只要处理好二者的关系，就二美兼顾，互为补充
D. 如果要处理好二者的关系，就一定要二美兼得，相得益彰
44. 下列各句中，没有语病的一句是：
- A. 我已是高三学生了，明年的七月我将会度过一生中的又一重大选择——高考
B. 在被沙漠乌黑的宁夏回族自治区，人们正在实施利用黄河水使沙漠变绿的计划
C. 各位选手都把“银河之星大擂台”当作自己锻炼胆量和展示才华的机会
D. 新发行的 20 元人民币纸币，主要是为了调整现有的币制，使之趋于合理
45. 下列各句中，没有语病，句义明确的一句是：
- A. 日前，天津市两学生玩“蹦极”摔裂颅骨，事故发生的原因和设备的质量问题正在调查中
B. 县交通管理局决定，6 月 1 日起凭准运证上路，更换农用车辆准运证自 5 月 8 日起开始办理
C. 从古到今，艳艳红梅倾倒了多少诗人啊，咏梅诗成为我国诗歌的传统题材，象征了中华民族坚强乐观、不屈不挠的品格
D. 作者着力刻画了两位主要人物，这两位主要人物的一言一行、一举一动都体现了作者对两类不同女性的深刻理解和深切同情
46. 下列各句在表达上没有语病的一句是：
- A. 这个文化站已成为教育和帮助后进青年，挽救和培养失足青年的场所，多次受上级领导的表彰
B. 电子工业能否迅速发展，并广泛渗透到各行各业中去，关键在于要加速训练并造就一批专门技术人才
C. 你知道每斤蜂蜜中包含蜜蜂的多少劳动吗？根据科学家统计，蜜蜂每酿造 1 斤蜜，大约要采集 50 万朵的花粉
D. 先生侃侃而谈，他的音容笑貌没什么变化，但眼角的皱纹似乎暗示着这些年的艰辛和不快
47. 下列各句中，没有语病的一句是：
- A. 美国阿拉斯加州的一名工程师，因从 1993 年以来为 2700 户人家安装了转换器，受到了 270 万美元的罚款
B. 这个烟幕黑得出奇，好像是一些大喷泉突然喷出时形成的大扇面
C. 一个人能否有作为，取决于他是否受到良好教育，是否有理想抱负，是否刻苦努力，还要看机遇与环境怎样
D. 我们必须拿出自己的正版计算机游戏软件，否则，拿不出新软件，就难于抵制不健康的盗版软件
48. 下列各句中，没有语病的一句是：
- A. 网络教育能够突破时空的限制，使得学生能从遍布全球的信息库存中以最快的速度、最便宜的价格、最容易被方法进行交互式学习，获得教学信息
B. 近几十年来，人们不断探索癌症的发病原因，如今许多专家认为：癌症大约 90%以上是由环境因素引起的
C. 特别是关于那些可能阻碍中国从传统社会向现代化社会转型的历史因素及其新的表现形式，更要引起足够

的警惕

D. 农业部最近几年检查,我国农药的合格率为75%,也就是说,进入生产领域的农药有25%是假冒伪劣产品

49. 下面没有歧义的一项是:

A. 研究方法十分重要

B. 遗产纠纷事已告知赵大虎

C. 小李叫他的哥哥

D. 从第一回枪击至此,总共不到15秒钟,人质中竟无一人受伤——这原本是可能发生的事

50. 下列各组中两句表达的意思不相同的一组是:

A. ①非经批准不能动用流动资金。②动用流动资金,非得经过批准不行

B. ①除非你去请他才会来。②除非你去请,他是不会来的

C. ①这样的事,我何尝愿意做?②这样的事,我何尝不愿意做

D. ①他缺乏工作经验,难免会出现一些差错。②他缺乏工作经验,难免不出现一些差错

三、阅读理解(51~60题)。下面给出一些语段和短文材料,要求考生通过仔细阅读分析,找出与所给语段或材料内容最相符合的选项。

51. DNA是由4种单核苷酸按特定顺序组成的,一个单核苷酸相当于一个密码,3个相邻的密码组成一个密码子,十几个至上千个密码子有序地连接起来,就形成一个遗传功能单位,人们称之为结构基因。

最准确理解上面一段话意思的是:

A. 4个按特定顺序组成的单核苷酸就是DNA

B. 结构基因是由十几个至上千个密码子有序地连接起来形成的

C. 密码子是由3个单核苷酸组成的

D. 单核苷酸就是遗传功能单位,它由十几个至上千个密码子组成

52. 牛的可贵之处,即在活着的时候,就不知疲倦地供人役使,死后则把全身献给社会。牛对于人类社会真是“鞠躬尽瘁,死而后已”。

这段话支持了这样一种观点:

A. 牛是不知疲倦的动物

B. 牛是农民的宝贝

C. 牛是社会的财富

D. 牛是奉献精神的象征

53. 海洋中波浪冲击海岸时激起大量的浪花,冲击力可以摧毁坚固的建筑物,其中蕴藏着极大的能量。每秒钟在1平方公里海面上产生的能量可以达到20万千瓦之多,据科学家估计,全球波浪能的储量可以达到25亿千瓦。现在,沿海各国都十分重视利用这种能源作为发电动力。

最能准确复述这段话的意思的是:

A. 海浪中蕴藏有巨大的能源

B. 波浪能是世界上最便宜的能源

C. 世界上尚有25亿千瓦的波浪能等待发现

D. 沿海各国利用海浪能源可以发电25亿千瓦

54. 有些群众生活困难,虽有发展潜力,但现在难以靠自己改变目前的处境,需要扶一把。有人认为,资源和就业的配置要通过市场解决,政府不好包办。但市场不可能自动实现社会收入的公平与协调,也不可能顾及全社会的扶贫救弱。假如困难群体陷于无助,贫富差距过大,无疑会影响社会的协调发展。

这段话支持了这样一个观点,即:

A. 应该为困难群众谋利益

B. 困难群众单靠自身努力常常难以脱困

C. 市场本身不会自动协调社会收入

D. 贫富差距过大势必影响社会协调发展

55. 搞一丁点通货膨胀就像怀一点儿孕,很快就会使肚子胀起来,大大超过一丁点的界限。这句话主要表达了这样一个观点,即:

A. 通货膨胀绝对不能搞 B. 通货膨胀一旦搞起来就收不住

C. 通货膨胀很容易搞 D. 通货膨胀的发展速度会大大超过人们的预计

56. 战争的历史与人类历史一样久远,不同的社会生产力水平规定了战争的动力和内容,也规定了战争的形式与规模。当20世纪初社会生产力和资本的规模已遍布全球,资本主义列强已结成覆盖全球的利益关系

网时，他们之间的竞争与争夺就必然会影响到全球，而为争夺霸权所引起的战争，也极易最终发展为世界大战。

这段话主要支持了这样一个论点，即：

- A. 战争的规模与形式取决于不同的社会生产力水平
 - B. 战争的起源与社会生产力水平密切相关
 - C. 世界大战是 20 世纪社会生产力和资本的规模遍布全球的产物
 - D. 战争的历史同步于人类社会发展的历史
57. 美国律师太多，诉讼案件太多。一个事故发生后，律师首先关心的不是谁的责任，而是谁有钱。不仅老百姓爱打官司，连政府机构也可以为区区几美元的官司争讼几年。物极必反，过度的法律诉讼已使美国社会元气大伤。

最准确复述这段话的主要意思的是：

- A. 美国律师太多，他们打官司只关心谁有钱
 - B. 美国人爱打官司，所以律师多，诉讼案件多
 - C. 太多的律师和太多的官司已使美国元气大伤
 - D. 美国律师首先关心钱，但老百姓和政府仍然喜欢打官司
58. 实现自由贸易就像上天堂，每个人都想去，但都不想去得太早。

这句话主要表达了这样一种观点，即：

- A. 实现自由贸易其实是弊大于利
 - B. 实现自由贸易既是机遇又有挑战
 - C. 自由贸易也充满挑战，应该有充分准备
 - D. 真正的自由贸易是不存在的，只是一种理想境界
59. 新写实小说和新历史小说专注现实和历史的平民心态和世俗生活，以平民化甚至平庸化的社会坐标、艺术坐标、消解历史和现实生活中的主流精神和理想价值，使艺术的人文精神和作家的人文操守在瓦解中实现着某种转型。

这段话主要支持了这样一个论点，即：

- A. 专注平民心态和世俗生活是新写实小说和新历史小说的特征
 - B. 专注平民心态和世俗生活使得历史和现实生活中的主流精神和理想价值消解
 - C. 专注平民心态和世俗生活使艺术的人文精神和作家的人文操守在瓦解中转型
 - D. 在新写实小说和新历史小说中，中国传统的人文精神在悄然消失
60. 人是世界的创造者和主宰者，而人类社会每一次重大变革，都无不根植于人类思维范式的革命性突破。只有在精神世界上对自然界和人类社会非凡的理解，才能造就在物质世界实践的巨人。

对这段话准确的复述是：

- A. 是人创造并掌握了人类世界
- B. 人的思维模式的变化与发展决定了人类社会的变化与发展
- C. 人类思维范式变化对于人创造并主宰世界具有决定意义
- D. 人在物质世界的实践依赖于人在精神世界对自然界和人类社会的理解

第三部分 逻辑推理能力

(共 40 题，参考时限 40 分钟)

本部分包括三种类型的题目：

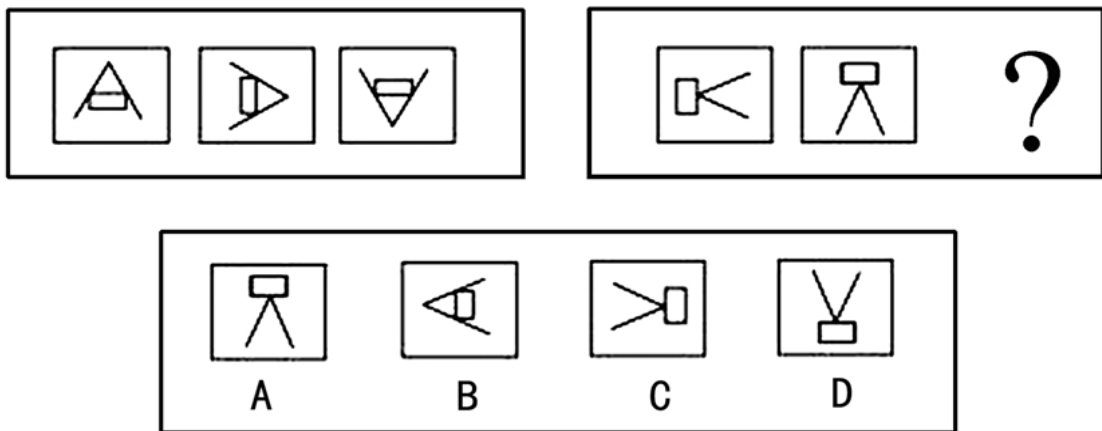
一、顺序推理 (61~70 题)。每题给出五个事件，每个事件是以简短语句表述的，接着给出表示事件的四种假定发生顺序的数字序列，请你选择其中最合乎逻辑的一种排列顺序。

61. ①在报上刊登广告 ②寒潮即将来临 ③组织到一批御寒物品
④顾客盈门 ⑤派人四处采购
A. ②④③①⑤ B. ⑤③①②④ C. ②⑤③①④ D. ①⑤③②④
62. ①发现水手得脚气病 ②加大吃粗粮的比例 ③调查相关人员膳食

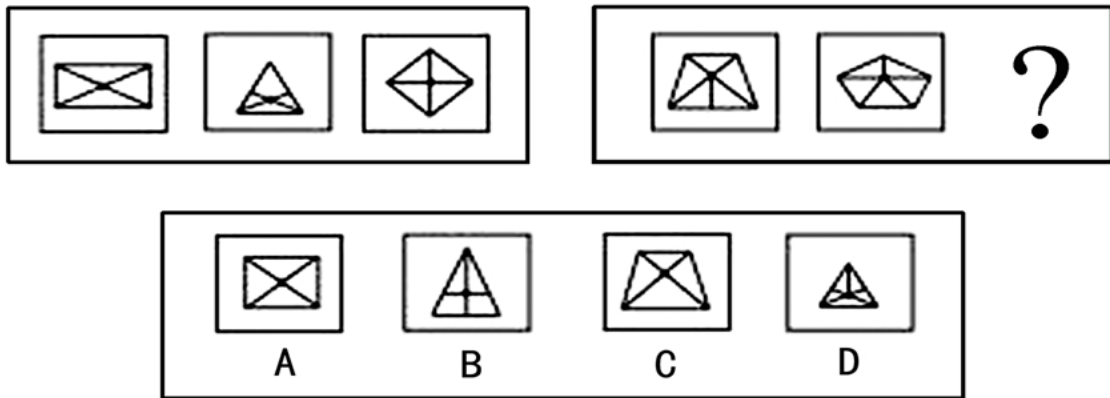
- ④终于找到原因 ⑤脚气病得到控制
A. ①③④②⑤ B. ①③②④⑤ C. ③④①②⑤ D. ①②⑤③④
63. ①向警方报案 ②网上聊天 ③电话约会
④上当受骗 ⑤情投意合
A. ②④①③⑤ B. ②⑤③④① C. ④①②⑤③ D. ③⑤②④①
64. ①几成秃山 ②山体滑坡 ③大雨连日
④乱采矿石 ⑤滥伐林木
A. ⑤①④③② B. ⑤①③②④ C. ⑤④①③② D. ⑤④③②①
65. ①观察车辆流动情况 ②划出非机动车道 ③改为单向通行
④路口堵车严重 ⑤交通状况好转
A. ①④⑤③② B. ④①③②⑤ C. ③②⑤①④ D. ④②③⑤①
66. ①年终考评，业绩不佳 ②受到新领导的鼓励 ③调动工作
④受到表彰 ⑤工作成绩出色
A. ①②③④⑤ B. ①③⑤②④ C. ①③②④⑤ D. ①③②⑤④
67. ①倒数计时 ②腾空而起 ③准备就绪
④点火发射 ⑤进入轨道
A. ③①④②⑤ B. ①④②③⑤ C. ④①②⑤③ D. ③①②④⑤
68. ①现场考察 ②通过鉴定 ③争取项目
④模拟实验 ⑤查阅资料
A. ⑤③①④② B. ③⑤①④② C. ③①⑤④② D. ③⑤④①②
69. ①兔子和乌龟接受祝贺 ②兔子在跑道坡下睡觉 ③乌龟驮着兔子爬坡
④兔子驮着乌龟冲下坡 ⑤乌龟推动兔子
A. ①③④②⑤ B. ②⑤③④① C. ③④②⑤① D. ④③①②⑤
70. ①红队5号主罚点球 ②广播：“黄队1比0领先” ③观众狂呼喊好
④守门员把球开过中场 ⑤有人跃起头球攻门
A. ⑤④①③② B. ①④⑤③② C. ①③⑤④② D. ②⑤③①④

二、图形推理（71~80题）。请仔细观察给出的题干图形，找出其中变化规律，从备选项中选出满足变化规律的正确答案。

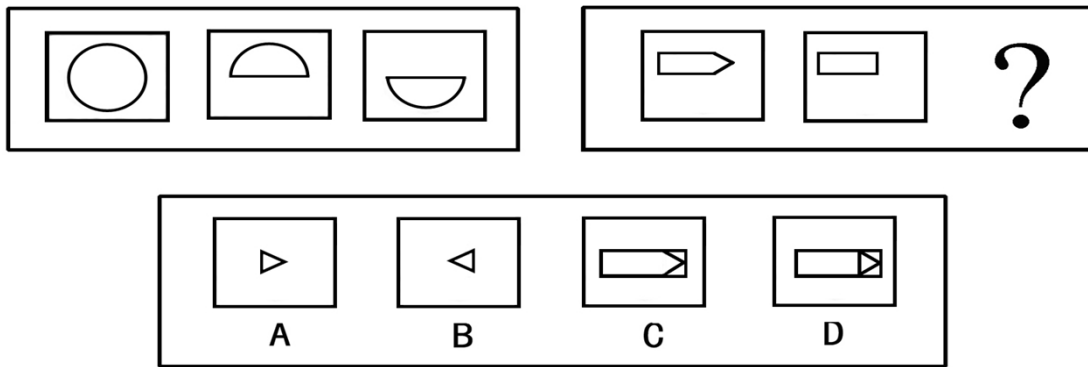
71. 请仔细观察给出的题干图形，找出其中变化规律，从备选项中选出满足变化规律的正确答案。



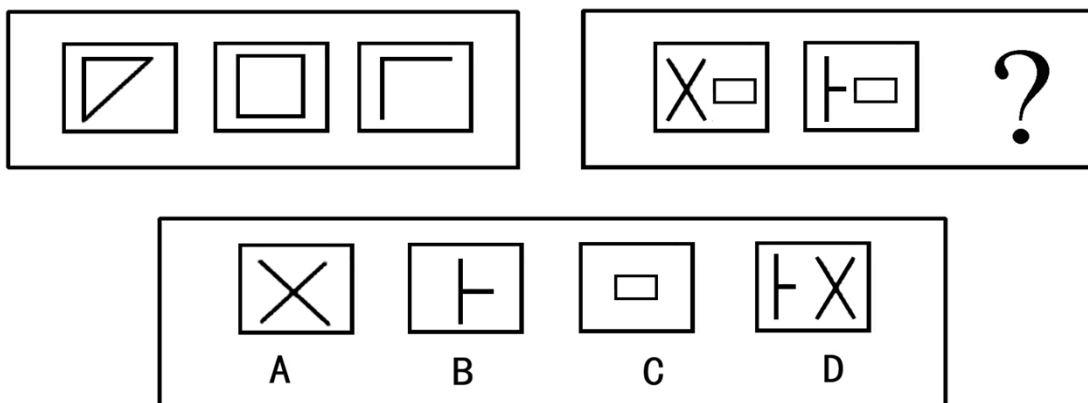
72. 请仔细观察给出的题干图形，找出其中变化规律，从备选项中选出满足变化规律的正确答案。



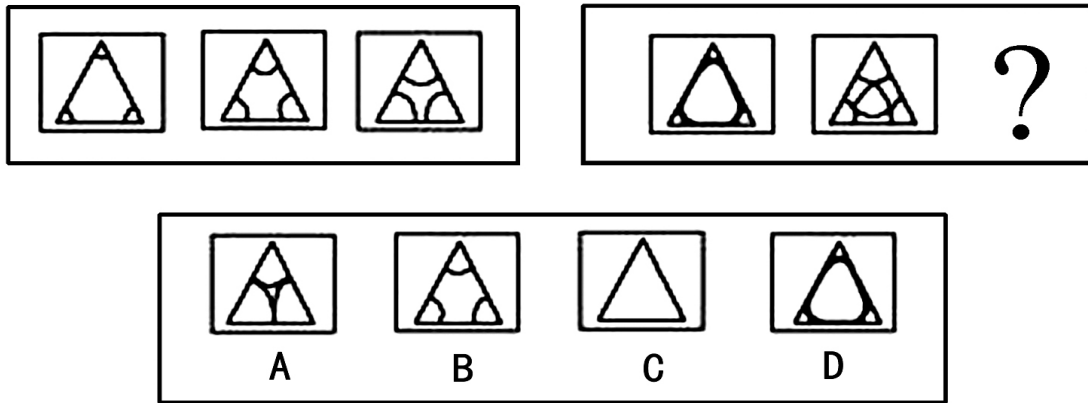
73. 请仔细观察给出的题干图形，找出其中变化规律，从备选项中选出满足变化规律的正确答案。



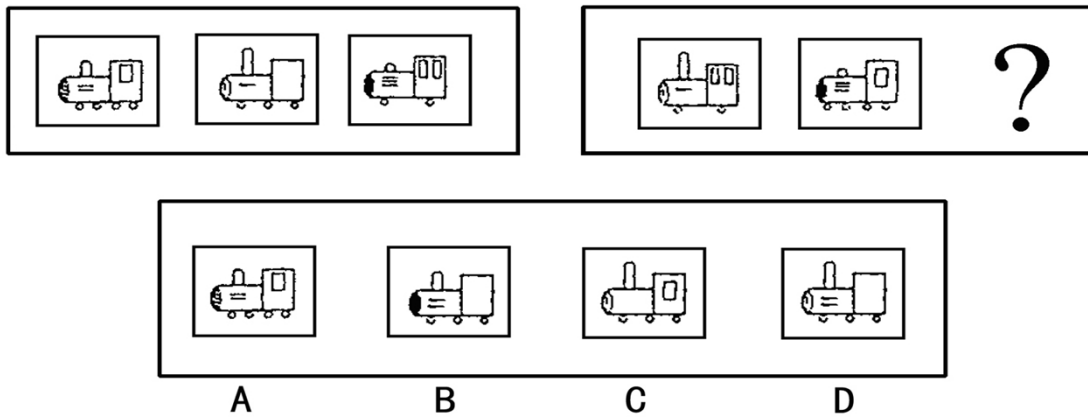
74. 请仔细观察给出的题干图形，找出其中变化规律，从备选项中选出满足变化规律的正确答案。



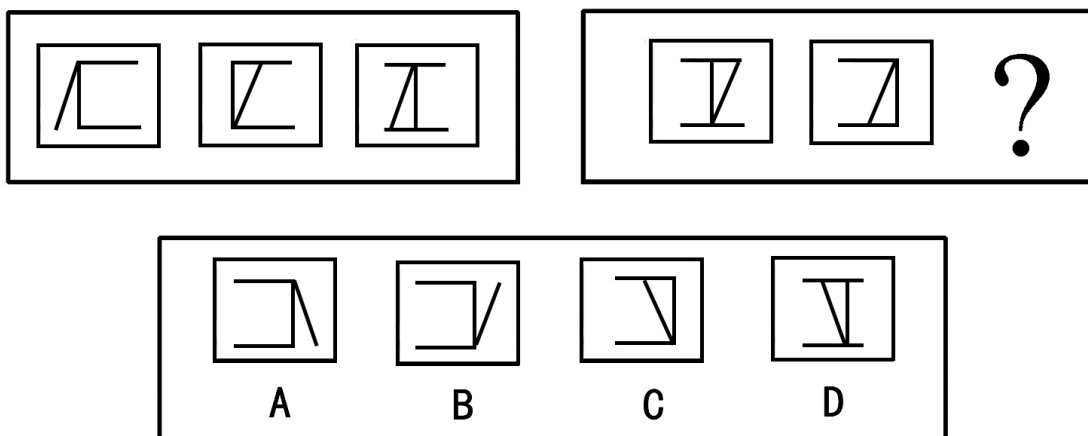
75. 请仔细观察给出的题干图形，找出其中变化规律，从备选项中选出满足变化规律的正确答案。



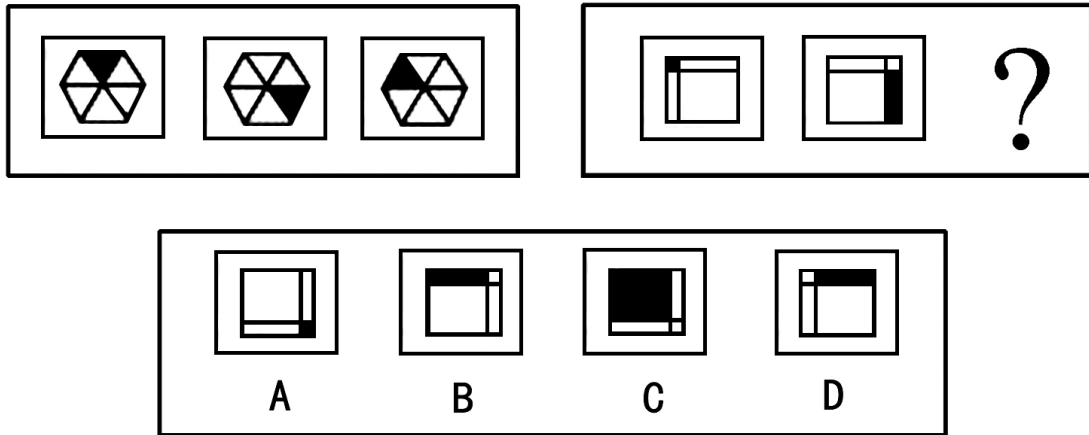
76. 请仔细观察给出的题干图形，找出其中变化规律，从备选项中选出满足变化规律的正确答案。



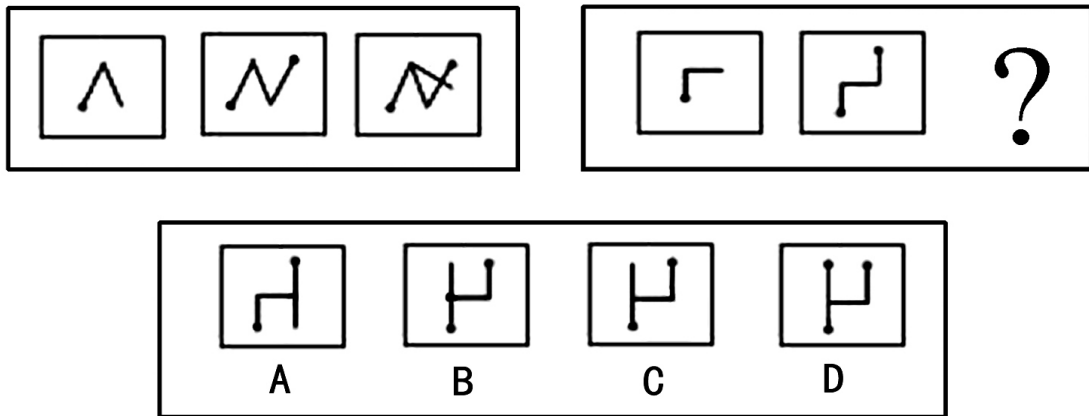
77. 请仔细观察给出的题干图形，找出其中变化规律，从备选项中选出满足变化规律的正确答案。



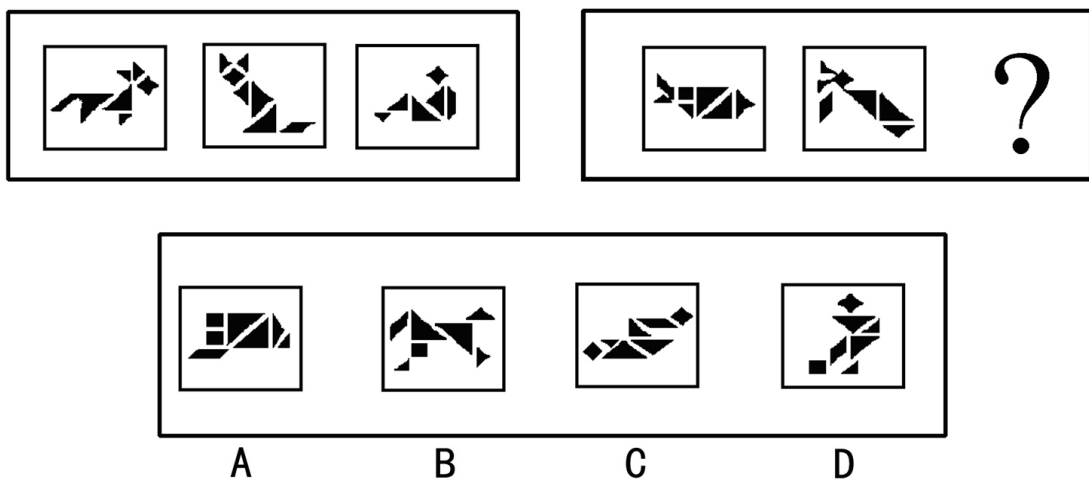
78. 请仔细观察给出的题干图形，找出其中变化规律，从备选项中选出满足变化规律的正确答案。



79. 请仔细观察给出的题干图形，找出其中变化规律，从备选项中选出满足变化规律的正确答案。



80. 请仔细观察给出的题干图形，找出其中变化规律，从备选项中选出满足变化规律的正确答案。



三、分析推理（81~100题）。每题中给出一段陈述，这段陈述被假设是正确的，不容置疑的。要求应试者

根据这段陈述，选择一个正确答案。

81. “只有认识错误，才能改正错误。”
以下诸项都准确表达了上述断定的含义，除了：
A. 除非认识错误，否则不能改正错误
B. 如果不认识错误，那么不能改正错误
C. 如果改正错误，那么已经认识错误
D. 只要认识错误，就能改正错误
82. 某学术会议举行分组会议。甲组有 8 人出席，组长问大家原来各自是否认识。结果是全组中仅有 1 人认识小组中的 3 人，有 3 人认识小组中的 2 人，有 4 人认识小组中的 1 人。
如以上统计属实，则最能得出的结论是：
A. 分组会议组长认识小组中人数最多，其他的人相互认识的较少
B. 此类会议是第一次举行，大家都是新面孔
C. 有些成员所说的认识可能仅仅是在电视或报告会上见过而言
D. 虽然组内成员原来的熟人不多，但是原来认识的却是至交
83. 一国丧失过量表土，需进口更多的粮食，这就增加了其他国家土壤的压力；一国大气污染，导致邻国受到酸雨的危害；二氧化碳过度排放，造成全球变暖，海平面上升，几乎可以危及所有的国家和地区。
下述各项最能概括上文的主要观点的是：
A. 环境污染已影响到国与国之间的关系，可能引起国际争端
B. 经济的快速发展必然会导致环境污染的加剧，先污染、后治理是一条规律
C. 在治理污染方面，发达国家愿意承担更多的责任与义务
D. 环境污染问题已经成为区域性、国际性问题，解决环境污染问题是人类面临的共同任务
84. 某餐馆中，所有的菜或属于川菜系或属于粤菜系，张先生点的菜中有川菜，因此，张先生点的菜中没有粤菜。
再加上下列哪项才能使上述论证成立？
A. 餐馆规定，点粤菜就不能点川菜，反之亦然
B. 餐馆规定，如果点了川菜，可以不点粤菜，但点了粤菜，一定也要点川菜
C. 张先生是四川人，只喜欢川菜
D. 张先生是广东人，他喜欢粤菜
85. 有四个外表看起来没有分别的小球，它们的重量可能有所不同。取一个天平，将甲、乙归为一组，丙、丁归为另一组，分别放在天平两边，天平是基本平衡的。将乙、丁对调一下，甲、乙一边明显要比乙、丙一边重得多。可奇怪的是，我们在天平一边放上甲、丙，而另一边则放上乙，还没有来得及放上丁时，天平就压向了乙一边。
请你判断，甲球与丁球哪个更重？
A. 丁球比甲球重
B. 丁球比甲球轻
C. 甲球与丁球同样重
D. 无法确定甲球与丁球的轻重
86. 全国运动会举行女子 5000 米比赛，辽宁、山东、河北各派了三名运动员参加。比赛前，四名体育爱好者在一起预测比赛结果。甲说：“辽宁队训练就是有一套，这次的前三名非他们莫属。”乙说：“今年与去年可不同了，金银铜牌辽宁队顶多拿一个。”丙说：“据我估计，山东队或者河北队会拿牌的。”丁说：“第一名如果不是辽宁队的，就该是山东队的了。”比赛结束后，发现以上四人只有一人言中。
以下哪项最可能是该项比赛的结果？
A. 第一名辽宁队，第二名辽宁队，第三名辽宁队
B. 第一名辽宁队，第二名河北队，第四名山东队
C. 第一名山东队，第二名辽宁队，第三名河北队
D. 第一名河北队，第二名辽宁队，第三名辽宁队
87. 某保险公司近来的一项研究表明：那些在舒适工作环境里工作的人比在不舒适工作环境里工作的人的生产效率要高 25%。这表明，日益改善的工作环境可以提高工人的生产率。
以下哪个假设是对以上因果联系最严重的挑战？
A. 平均来说，生产率低的员工每天在工作场所的时间比生产效率高的员工要少
B. 舒适的环境比不舒适的环境更能激励员工努力工作

- C. 舒适的工作环境通常是对生产率高的员工的酬劳
D. 在拥挤、不舒适的环境中，同事的压力妨碍员工的工作
88. 美国黑人患高血压的比美国白人高两倍。把西方化的非洲黑人和非洲白人相比，情况也是如此。研究者们假设，西方化的黑人之所以会患高血压，是两个原因相互作用的结果，一是西方食品含盐量高；二是黑人遗传基因中对于环境的适应机制。
- 以下哪项如果是真的，最能支持研究者的假设？
- A. 当代西方化非洲黑人冈比亚人后裔的血压通常不高，因为冈比亚人历史上一直不缺盐
B. 非洲某些地区的不同寻常高盐摄入是危害居民健康的严重问题
C. 考虑到保健，大多数非洲白人也注意控制盐的摄入量
D. 缺盐与不缺盐对于人的新陈代谢过程没发现有什么实质性的不同影响
89. 某土著人为提高后代的战斗力，对新生婴儿进行身体素质测试。他们把初生的婴儿放在恶劣的自然环境中检验其生命力的强弱。抛弃那些病弱的、经不起考验的婴儿，留下那些健壮的婴儿。这一方法并没有使当地的土著人强盛，反而衰落了。
- 以下哪项最适合作为当地土著人选拔人才最终失败的原因？
- A. 新生婴儿身体素质是好的，未必长大成人后一定是战斗力更强的
B. 生理素质只是人全面素质的一部分，国家的安全需要人的综合素质的提高
C. 人才是选拔出来的，但人数太少也难逃失败的厄运
D. 孩子的父母对此残酷的选拔方式不满，因而不愿保卫自己的城邦
90. “发明蒸汽机的那个瓦特不是美国人。”
- 下列除哪项外，其他均可以从上述断定中析出？
- A. 瓦特不是美国人
B. 有些发明家是美国人
C. 发明蒸汽机的是发明家
D. 瓦特是发明家
91. 理工学院的王老师在接受校刊记者采访时说：“近年来理科大学生对时事政治学习的兴趣普遍比以前浓了。因为我上课的班级中大学生对于各类时事政治讲座几乎一次也不拉，这在几年前几乎是不可想象的。”
- 王老师的结论基于以下哪项假设？
- A. 这几年国内外一系列事件的发生极大地吸引了理科大学生
B. 近年来入学的大学生的政治意识普遍比以前的学生强
C. 对时事政治讲座的态度是衡量大学生对时事政治学习是否有兴趣的重要标志
D. 在时事政治学习方面不能按文科大学生的标准来要求理科大学生
92. 妻子：听说，吃鱼可以使人头脑聪明。
- 丈夫：这怎么可能呢？鲁迅先生因刺多费时，素不喜食鱼，而喜欢食鱼头的聂卫平，如果仅仅是一日三餐大吃鱼头，也绝无棋盘上的聪明。
- 丈夫的反驳实际上是质疑下列哪项断定？
- A. 如果不吃鱼，那么不会头脑聪明
B. 并非只有吃鱼才聪明
C. 如果谁吃鱼，那么他就能聪明
D. 只有吃鱼或光吃鱼，人才会聪明
93. 某地分别在两个工厂试行甲、乙两种生产管理方法。他们的试行工作是这样进行的：在一个领导班子文化程度高的大厂试行甲法，在另一个领导班子文化程度低的小厂试行乙法，结果是甲法的经济效益好，而乙法的经济效益不好。因此得出结论：甲法是取得较好经济效益的原因。
- 以下各项都能削弱上述结论，除了：
- A. 甲、乙两厂的情况不同，不能作为试验两种管理方法的实验基地
B. 甲厂领导班子文化程度高，有利于对管理方法的理解和贯彻
C. 乙厂领导班子文化程度低，不利于对管理方法的理解和贯彻
D. 甲法与乙法比较，实际上乙法更好，可惜实行此法的小厂基础太差
94. 某届“纪录片金镜头奖”评选结束后，甲厂的《黄河》获得最佳纪录片奖，乙厂的《武夷山》获得最佳摄影

奖，丙厂的《南海》获得最佳音乐奖。新闻学院请三家厂长到校介绍经验。在休息室里，甲厂的导演说：“真有趣得很，我们三个人的姓分别是片名的第一个字。”“但是，我们每个人的姓同自己所拍片子的第一个字又不一样。”这时，一个姓武的导演补充说：“真是这样！”甲厂导演表示赞同。

如果上述的陈述都是真的，那么下列哪项是正确的？

- A. 甲厂导演姓南，乙厂导演姓武，丙厂导演姓黄 B. 甲厂导演姓黄，乙厂导演姓武，丙厂导演姓南
C. 甲厂导演姓南，乙厂导演姓黄，丙厂导演姓武 D. 甲厂导演姓武，乙厂导演姓黄，丙厂导演姓南

95. 某教研室共有包括主任在内的7名教师。有关这7名职员，以下三个断定中只有一个是真的：

- I. 并非该教研室没有人是上海人。
II. 该教研室成员不都是上海人。
III. 该教研室主任不是上海人。

以下哪项为真？

- A. 7名老师都是上海人 B. 7名教师都不是上海人
C. 只有一人不是上海人 D. 只有一人是上海人

96. 四位要好的同学约好，如果甲、乙都选择到公司工作，则丁选择去机关工作，只有甲选择去公司工作，丙才选择去公司工作。最后的结果是，乙和丁都进了公司，而且四人都履行了共同的约定，而可以肯定：

- A. 只有丙没选择去公司工作 B. 甲和丙都没有选择去公司工作
C. 四个人都选择了去公司工作 D. 只有甲没选择去公司工作

97. 在农业生产中，只要不超过合适的限度，肥料施得多，农作物的产量就上升；肥料施得少，农作物的产量就下降，由此可知，施肥量对农作物的产量有着密切的关系。

以下哪项使用的逻辑方法与题干最为类似？

- A. 敲锣有声，吹箫有声，说话有声。这些发声现象都伴有物体上空气的振动，因而可以断定物体上空气的振动是发声的原因
B. 用锯锯物，锯会发热；用锉锉物，锉也会发热；在石头上磨刀，刀会发热；用枪射击时，枪膛也会发热。可见，摩擦生热
C. 在有空气的玻璃罩内通电击铃，随着抽出空气的量的变化，铃声越来越小，若把空气全部抽出，则完全听不到铃声。可见，空气多少是发出声音大小的原因，空气有无是能否听到铃声的原因
D. 棉花是植物纤维，疏松多孔，能保温；积雪是由水冻结而成的，有40%至50%的空隙，也是疏松多孔的，能保温。可见，疏松多孔是能保温的原因

98. 一位研究者发现具有低水平免疫系统的人在心理健康测试中的得分比具有高免疫系统的人分数低。这位研究者的结论是：免疫系统不仅能防御身体疾病，也能防御精神疾病。

其实，这一因果联系是不成立的，以下哪项是对其最严重的质疑？

- A. 该研究者的理论研究和所进行的实验在时间上不相一致
B. 人的免疫系统与心理健康关系密切
C. 一些具有高免疫系统的人，在心理测试中，与具有普通免疫系统的人得分不同
D. 一般来说，强烈的压力首先引起精神疾病，然后降低免疫系统的活动水平

99. 有人认为近几年来大量农村人口涌入城市打工，造成了城市社会秩序的混乱，治安状况下降。可以说，允许农村人口流入城市有害而无益，因此应清遣城市的农村人口，并限制其进城打工。

以下哪项若为真，则最能驳斥上述观点？

- A. 大量农村人口的涌入，使城市道路拥挤不堪
B. 农村人口流入城市对农村和城市双方都有利；既可弥补城市劳力的不足，又可加速我国农村经济的发展和农村人口素质的提高
C. 事实上许多大的恶性案件的主犯都是进城打工的人
D. 流动人口太多造成城市卫生每况愈下

100. 要建立市场经济体制，就应建立相应的法律法规来规范市场竞争，从本质上说，市场经济是一种法制经济。

因此，在一个法制不健全的国家是不可能建立市场经济体制的。

以下哪项如果为真，则最能削弱上述结论？

- A. 市场经济与法制经济不是一个概念
- B. 健全的法规体系可以有效地保障竞争的平等
- C. 完备的法规体系对发展市场经济非同小可
- D. 法律法规体系的完善依赖于市场经济体制的完善

第四部分 公共基础知识与能力

(共 40 题，参考时限 20 分钟)

本部分为不定项选择题。每小题的 4 个选项中，至少有 1 项符合题意，请将正确选项全部选出。多选、少选或错选，该题不得分。

一、基本知识题 (101~120 题)。

101. 哲学的基本问题，即思维与存在的关系问题应包括，物质与意识：
- A. 谁具永恒性，谁具可变性
 - B. 谁是第一性，谁是第二性
 - C. 是否具有同一性
 - D. 是否具有相似性
102. 根据辩证唯物主义运动观，下列说法正确的是：
- A. 运动是物质的运动
 - B. 物质是运动的物质
 - C. 思维运动的主体是思维
 - D. 静止是一种特殊的运动状态
103. 党的十六大报告指出，我们党始终保持先进性和增强创造力的决定因素是：
- A. 坚持“三个代表”重要思想
 - B. 坚持党的思想路线
 - C. 坚持解放思想、实事求是
 - D. 坚持与时俱进
104. 《中共中央关于完善社会主义市场经济体制若干问题决定》指出，完善社会主义市场经济体制的主要任务有：
- A. 完善公有制为主体、多种所有制经济共同发展的基本经济制度
 - B. 完善宏观调控体系、行政管理体制和经济法律制度
 - C. 形成促进区域经济协调发展的机制
 - D. 发挥市场在资源配置中的基础性作用
105. 建设政治文明是一个内容广泛的系统工程，涉及：
- A. 政治思想和政治制度
 - B. 政治体制和行政体制
 - C. 民主管理和民主监督
 - D. 行政管理和法制建设
106. 2002 年 12 月，胡锦涛在西柏坡学习考察时要求大家牢记党的七届二中全会所提出的：
- A. 务必使同志们继续保持谦虚、谨慎、不骄、不躁的作风
 - B. 务必使同志们继续保持实事求是的作风
 - C. 务必使同志们继续保持艰苦奋斗的作风
 - D. 务必使同志们继续保持批评和自我批评的作风
107. 2003 年 10 月 20 日至 21 日，国家主席胡锦涛出席了在曼谷举行的亚太经合组织第 11 次领导人非正式会议。胡锦涛主席此次与会所取得的积极成果主要有：
- A. 进一步展现了中国改革开放成就
 - B. 提出亚太政治合作的重要主张
 - C. 坚持亚太经合组织的正确发展方向
 - D. 积极开展首脑外交，促进了中国与有关国家的双边关系
108. 中共中央宣传部组织编写了《“三个代表”重要思想学习纲要》中指出，推进党的建设的伟大工程的重点是：
- A. 加强党的执政能力建设
 - B. 不断提高科学判断形势的能力和驾驭市场经济的能力
 - C. 应对复杂局面的能力和依法执政的能力
 - D. 总揽全局的能力

109. 在下列各类市场中，属于生产要素市场的有：
A. 消费品市场 B. 劳动力市场 C. 资本市场 D. 信息市场
110. 我国刑法的基本原则是：
A. 罪刑法定原则 B. 法律面前人人平等原则 C. 罪刑相当原则 D. 罪刑合理原则
111. 我国政府系统内部的专门监督是指：
A. 法纪检察 B. 行政监察 C. 信访监督 D. 审计监督
112. 在社会主义市场经济条件下，新的行政价值观包括：
A. 民主法制观、公平效率观、物质利益观、平等竞争观
B. 民主法制观、公平效率观、效率优先观、平等竞争观
C. 依法治国观、廉洁清廉观、效率优先观、平等竞争观
D. 依法行政观、公平效率观、效率优先观、民主法制观
113. 属于国家公务员高素质的内涵的有：
A. 高水平的知识运用 B. 健康的身体 C. 高境界的道德品质 D. 学习创新能力
114. 下列选项中，不具备被辞退的条件是：
A. 在年度考核中被确定为不称职的两年
B. 不胜任本职工作又不接受其他安排的
C. 旷工一年累计超过二十天的
D. 因单位调整需要缩减编制员额的，本人拒绝合理安排
115. 基因位于染色体上，并在染色体上呈：
A. 弧性排列 B. 线性排列 C. 螺旋性排列 D. 无规则排列
116. 下列属于中国古代“唐宋八大家”的是：
A. 李白 B. 韩愈 C. 柳宗元 D. 杜甫
117. 虽然纳米科技问世的时间不长，但是它给我们带来的冲击却是明显的。下列关于纳米科技叙述正确的是：
A. 纳米是一种度量单位，1 纳米等于 10 的负九次方米，即一亿分之一米
B. 所谓纳米材料是指由纳米颗粒构成的固体材料，其中纳米颗粒的尺寸最多不超过 100 纳米，一般的情况下不超过 10 个纳米
C. 所谓纳米科学，是人们研究纳米尺度，即 100 纳米至 0.1 纳米这个微观范围内的物质所具有的特异现象和功能的科学
D. 纳米技术是指在纳米科学的基础上制造新材料、研究新工艺的方法和手段
118. 适用于对重要事项或者重大行动作出安排的公文种类是：
A. 指示 B. 议案 C. 决定 D. 命令
119. 2003 年 8 月 27 日在十届全国人大常委会第四次会议上获得通过的《中华人民共和国行政许可法》将于：
A. 2004 年 7 月 1 日起正式实施 B. 2004 年 8 月 1 日起正式实施
C. 2004 年 9 月 1 日起正式实施 D. 2004 年 10 月 1 日起正式实施
120. 地球上已经有好几批人光顾过月球，我国在成功实现载入航天后也提出了登月计划。下列关于月球和登月表述正确的有：
A. 1969 年美国宇航员乘“阿波罗”飞船首次登上月球 B. 我国提出的登月计划是“嫦娥”计划
C. 月球上的一天时间比地球上的一天时间要短 D. 月球上的昼夜温差远远超过地球上的昼夜温差

二、综合分析题（121~140 题）。

（一）阅读下面的材料，回答 121~124 题。

某市 A 区公民李某在 B 区开办了一家公司，因违法经营，B 区工商局作出了责令停产停业并处 2 万元罚款的行政处罚决定。李某不服，向市工商局申请复议。市工商局作出了维持停产停业、变更罚款为 1 万元的复议决定。李某仍不服，向人民法院提起行政诉讼，并要求行政赔偿。

121. 李某向人民法院提起行政诉讼, 应将 () 作为被告。
A. 市工商局 B. A 区工商局 C. B 区工商局 D. A 和 C
122. 对此案享有管辖权的法院是:
A. A 区法院 B. B 区法院 C. 市工商局所在地法院 D. A 和 C
123. B 区工商局作出的行政处罚属于:
A. 财产罚 B. 人身罚 C. 自由罚 D. 能力罚
124. 责令停产停业应该适用的行政处罚程序是:
A. 复杂程序 B. 简易程序 C. 当场程序 D. 听证程序

(二) 阅读下面的材料, 回答第 125~128 题。

中共中央宣传部组织编写的《“三个代表”重要思想学习纲要》中指出: 代表中国先进生产力的发展要求, 代表中国先进文化的前进方向, 代表中国最广大人民的根本利益, 是统一的整体, 相互联系、相互促进。发展先进生产力, 是发展先进文化, 实现最广大人民根本利益的基础条件。人民群众是先进生产力和先进文化的创造主体, 也是实现自身利益的根本力量。不断发展先进生产力和先进文化, 归根到底都是为了满足人民群众日益增长的物质文化生活需要, 不断实现最广大人民的根本利益。

125. 马克思主义唯物史观认为, 生产力是推动社会前进的:
A. 最活跃的力量 B. 最革命的力量 C. 最发展的力量 D. 最创造性的力量
126. “代表中国先进生产力的发展要求” 是基于:
A. 生产力的总和决定着社会状况的原理
B. 生产力和生产关系的矛盾运动构成社会基本矛盾的原理
C. 生产力是社会发展的最终目标原理
D. 生产力和生产关系的辩证关系原理
127. 代表中国先进文化的前进方向, 是对马克思主义关于:
A. “社会意识决定社会存在” 这一原理的阐发 B. 物质生活和精神生活辩证关系这一原理的阐发
C. 群众路线和群众观点的阐发 D. 社会意识能动作用原理的阐发
128. 人民群众是:
A. 先进生产力的创造者 B. 推动历史前进的动力
C. 先进生产力和先进文化成果的享有者 D. 先进文化的创造者

(三) 阅读下面的材料, 回答第 129~132 题。

党的十六届三中全会通过的《中共中央关于完善社会主义市场经济体制若干问题的决定》中阐述深化经济体制改革的指导思想和原则时指出: 坚持社会主义市场经济的改革方向, 注重制度建设和体制创新。坚持尊重群众的首创精神, 充分发挥中央和地方两个积极性。坚持正确处理改革发展稳定的关系, 有重点、有步骤地推进改革。坚持统筹兼顾, 协调好改革进程中的各种利益关系。坚持以人为本, 树立全面、协调、可持续的发展观, 促进经济社会和人的全面发展。

129. “注重制度建设和体制创新”, 说明了:
A. 形式对内容的决定作用 B. 系统结构对功能的作用
C. 量变与质变的辩证关系 D. 发展中矛盾的主要方面的体现
130. “正确处理改革发展稳定的关系, 有重点有步骤地推进改革” 显示:
A. 改革在三者关系中始终是最重要的 B. 三者内在是有辩证关系的
C. 现实中三者之间是完全对立的 D. 现实中三者之间是完全统一的
131. “坚持统筹兼顾” 说明:
A. 本质上这是主观的原理 B. 这是客观发展规律的反映和要求
C. 客观上各种利益关系完全是冲突的 D. 统筹兼顾就是实现各种利益的完全一致

132. 文中提及的“发展观”说明了:

- A. GDP 是最重要的发展目标
B. 发展观本身在发展
C. 经济体制改革以发展生产力为最重要目的
D. 人的全面发展是需要客观基础的

(四) 阅读下面的材料, 作答第 133~136 题。

《“三个代表”重要思想学习纲要》中指出: 发展社会主义民主政治, 建设社会主义政治文明, 是社会主义现代化建设的重要目标。必须在坚持四项基本原则的前提下, 继续积极稳妥地推进政治体制改革, 扩大社会主义民主, 健全社会主义法制, 建设社会主义法治国家, 巩固和发展民主团结、生动活泼、安定和谐的政治局面。

133. 发展社会主义民主政治, ()。

- A. 就是要健全民主制度, 丰富民主形式
B. 扩大公民广泛的政治参与
C. 保证人民依法实行民主选举、民主决策、民主管理和民主监督
D. 享有广泛的权力和自由

134. 建设社会主义政治文明, ()。

- A. 最根本的就是要坚持党的领导、人民当家作主和依法治国的有机统一
B. 党的领导是人民当家作主和依法治国的基本方略
C. 人民当家作主是社会主义民主政治的本质要求
D. 依法治国是党领导人民治理国家的根本保证

135. 推进政治体制改革, ()。

- A. 要有利于体现依法治国的本质要求
B. 要有利于增强党和国家的活力
C. 要着重加强制度建设
D. 实现社会主义民主政治的科学化、规范化和程序化

136. 行政管理体制和机构改革 ()。

- A. 是政治体制改革的客观需要
B. 是推动我国上层建筑更好地适应经济基础的一项重要的制度建设和创新
C. 是进一步转变政府职能和改进管理方式的关键
D. 也是完善社会主义市场经济体制的重要内容

(五) 阅读下面的材料, 回答第 137~140 题。

关于市工商管理局整顿网吧的决定

市政府、各区、县人民政府:

某市网吧纵火案造成了重大人员的伤亡, 这在该市的历史上尚属首次。为了吸取血的沉痛的经验和教训, 我们认为应对各区县的网吧进行大范围的地毯式的一次大检查、大清理、大整顿、大搜索。市工商管理局要求各县迅速动员起来, 开展一场伟大而严肃地、声势浩大的检查活动。对各管辖网吧进行 24 小时监管, 发现火灾隐患、上网者进入暴力色情网站者, 青少年进入网吧者, 无证经营者, 追究网主的责任(详情见附件)。我们相信, 这次活动将会受到广大人民群众拍手称快, 奔走相告。因此, 恭请各区县领导带头检查, 力争使我市不发生类似悲剧! 切切!

特此通知

××市工商管理局

2003 年 3 月 9 日

附件: 《关于清理整顿网吧的具体内容细则》

抄送: 市各委办局、各区县工商管理局、各区县公安局

137. 此公文标题存在的问题是:

- A. 事由不清
B. 文种错用
C. 标题结构错误
D. 用词不妥

138. 主送单位应为:

- A. 市政府
B. 区、县政府
C. 区、县工商管理局
D. 网吧经营者

139. 此公文的不规范处有：

- A. 抄送单位错误 B. 附件位置不对 C. 日期写法错误 D. 文种前后矛盾

140. 此公文语言不规范的表现是：

- A. 枝蔓丛生 B. 文学语言 C. 语气有误 D. 语法错误

全部测验到此结束！

请扫描QQ二维码，备注“公务员考生”加QQ
好友，获取曹长远老师精解历年公务员考试申论、
行测、面试真题完整解析资料。

精品资料，尽在掌握！

