

2007年4月8日山东省公务员考试

《行政职业能力测验》真题

说明

这项测验共有五个部分，140道题，总时限为120分钟。各部分不分别计时，但都给出了参考时限，供答题时参考以分配时间。

请将姓名与准考证号用黑色字迹的笔填写在指定位置，并用2B铅笔在准考证号对应的数字上填涂。将题本上的条形码揭下，贴在答题卡的指定位置。没有贴条形码的答题卡将按作废处理，成绩记为0分。

严禁折叠答题卡！

第一部分 言语理解与表达

(共40题，参考时限30分钟)

每题包含一段文字或一个句子，后面是一个不完整的陈述，要求你从四个选项中选出一个来完成陈述。注意：你的选择应与所提要求最相符合。

1. 在马克思的《资本论》中，一共提到680多个人物，其中只有一个是中国人，叫王茂荫（1798～1865），安徽人，1832年考中进士步入仕途。他的货币观点及钞币发行方案最为引人注目，著有《王侍郎奏议》传世。马克思《资本论》第一卷第一篇第三章在谈到货币或商品流通，论述“强制流通的国家纸币”问题时，以第八十三条大段注释的方式专门提到了中国理财官王茂荫“主张暗将官票宝钞改为可兑现的钞票”的观点。

最适合做本段文字标题的是：

- A. 中国的王茂荫与马克思的《资本论》
- B. 《资本论》中唯一提到的中国人
- C. 中国清代的理财官王茂荫
- D. 中国封建社会货币理论的最高成就者

2. 《人民日报》6篇组合型“荣辱观”评论员文章的题目依次是：“一项重大而紧迫的战略任务”，“一个古老而崭新的时代话题”，“一个泾渭分明的是非界线”，“一项面向来来的希望工程”，“一项需要带头履行的领导责任”，“一面引领社会风尚的旗帜”。这一组标题采用了排比修辞后，语势强烈，感情浓烈，呈现出一个相对完整的论说体系。这展示了系列化新闻言论写作的理性综合之美。

这段文字主要表达的是：

- A. 群题上的排比美
- B. 视角上的新颖美
- C. 内容上的涵盖美
- D. 逻辑上的结构美

3. 一个国王远行前交给3个仆人各一锭银子，吩咐道：你们去做生意，等我回来时见我。国王回来时，一仆人说：我做生意赚了10锭，国王便奖励他10座城邑。另一人用主人给的银子赚了5锭，国王奖励他5座城邑。第三人的银子一直没拿出来用，仍然还是一锭，国王便命令把他的一锭银子赏给第一个仆人，并说：凡是少的，就连他所有的也要夺过来。凡是多的，还要给他，叫他多多益善。这就是“马太效应”。

这段文字意在说明：

- A. 对企业经营发展而言，要想在某一个领域保持优势，就必须在此领域迅速做大

B. 当你成为某个领域的领头羊时，即便投资回报率相同，你也能更轻易地获得比弱小的同行更大的收益

C. 如果没有实力迅速在某个领域做大，就要不停地寻找新的发展领域，才能保证获得好的回报

D. 当今社会中存在的一个普遍现象，即赢家通吃

4. 阅读文摘，是时尚，是潮流，是文雅，是涵养。《读者文摘》追求一种心灵的宁静，与小资、小知搭边结缘；读《新华文摘》当然是追求上乘的文化品位，与学者、文化画上连线。人们喜爱《新华文摘》，既在于它的高贵，养在深闺，大家风范；又在于它的普通化，任人阅读，总有可取。既在于它的包容，大度宽容，处平常心；又在于它的挑剔，精心选择，食不厌细。

这段文字主要谈论的是：

A. 《读者文摘》与《新华文摘》的相同之处与不同之点

B. 《新华文摘》真正受到了广大读者朋友的欢迎

C. 广大读者对《新华文摘》的一往情深

D. 比喻等修辞手法的运用，营造了浓烈的感情氛围

5. 法国的乔利·贝朗 13 岁时干小杂工。一次在熨衣服时，不小心将油灯打翻，煤油洒到衣服上，雇主要他赔偿，但孩子没钱，只好答应白打一年工。此后，孩子把那件弄脏的衣服挂在床头作为警示。一天，他突然发现那件衣服被煤油浸过的地方不但没有脏，而且原有的污渍也清除了。这个发现令他眼前一亮。他通过无数次试验，终于研究出一种干洗剂。一年后，他开了家干洗店，生意越做越大，最后终于成为世界干洗大王。

这段文字意在说明：

A. 当一个人打翻了命运灯盏，眼前一片漆黑时，千万别捻灭了心灵的灯盏

D. 小聪明使人忙乱，大智慧让人安宁

C. 心中有一盏明灯，脚底才有行动

D. 乔利·贝朗如何发明了干洗剂

6. 在公共场合演讲，有的人长篇大论，滔滔不绝；有的人则把自己的意思浓缩成一句话，而这句话犹如一粒沉甸甸的石子，在听众平静的心湖里激起层层波浪，让人称道与回味。1936 年 10 月 19 日，在上海各界人士公祭鲁迅先生的大会上，我国著名新闻记者、政治家、社会活动家邹韬奋先生发表了仅 33 个字的演讲：“今天天色不早，我愿用一句话纪念先生：许多人是不战而屈，鲁迅先生是战而不屈”。

这段文字主要讲述的是：

A. 简短的演讲，如邹韬奋的一句话演讲含义深刻，有着强烈的表达效果

B. 一句“战而不屈”准确地勾勒出鲁迅先生的战斗风骨

C. 一个“战”字包含着人们对鲁迅先生多少敬仰和赞誉之情

D. 许多无耻的文人不仅“不战”，还要奴颜婢膝；而先生却是横眉冷对，铁骨铮铮

7. 中央电视台举办的“年度感动中国十大人物评选活动”的颁奖辞中有这样一句话：“这个风一样的年轻人，他不断超越，永不言败，代表着一个正在加速的民族。他身披国旗，一跃站在世界面前。”

这段文字中“风一样的年轻人”是一个极致的比喻，它主要用于说明：

A. 颁奖辞有不同于其他文体的语言特色

B. 刘翔身披国旗一跃的神韵恰到好处地表了出来

C. 用最小的语言体积，可以容纳最多的语言精华

D. 跨栏王子不仅是纪录，也是记忆，一种挥之不去的强烈记忆

8. 在外打工的张先生，没找到雇主，买了张返程票还剩1元钱。他买了支彩笔和4个包烟的纸箱子，把纸箱子裁成24张纸牌，在车站的出口举着“出租接站牌（2元）”牌子。结果不少人租用了他的接站牌。很快他挣了40元钱。1个月后，他用镀锌板做成的40只可调式“迎宾牌”，每天能挣200元。3个月后，他租了房子，有了帮手。后来又用出租“迎宾牌”挣来的3万元，开了家鲜花店，承揽了鲜花批发业务。就这样，他在1年里将1元钱变成了100万元。

这段文字主要告诉我们：

- A. 创富是一门科学，也是一门艺术
- B. 机会总是偏爱那些有头脑、有智慧的人
- C. 谁的脑子转得快、灵活，运用得快，“黄金”就会垂青谁
- D. 只要你善于运用知识、智慧，苦干实干，小钱就会变大钱

9. 孔子特别强调做事的分寸，“过”和“不及”都是要尽力避免的。孔子提倡仁爱，但他并不认为应当以丧失原则的仁爱之心宽宥所有人的过失。有人问他：“以德报怨，何如？”孔子的回答是：“以直报怨，以德报德。”

与这段文字文意不相符的是：

- A. 以一种恶意，一种怨恨去面对另外的不道德，这个世界将是恶性循环，无止无休
- B. 你献出恩德和慈悲，用仁厚去面对已经有负于你的人和事，这才是人生应有的态度
- C. 用你的公正、率直、耿介和磊落，坦然面对一切
- D. 要把有限的情感，有限的才华，留在最应该使用的地方

10. 美国国际投资顾问公司总裁廖荣典有个百分比定律，假如会见10名顾客，只在第10名顾客处获得200元订单，那么怎样看待前9次的失败与被拒绝呢？他说：“你之所以获得200元订单，是因为你会见了10名顾客才产生的结果，并不是第10名顾客才让你得到200元，而应看成每个顾客都让你做了 $200 \div 10 = 20$ 元的生意。因此，每次被拒绝的收入是20元。当你被拒绝时，想到这个顾客拒绝了我，等于我赚了20元，也应面带微笑，敬个礼，当作收入了20元。”

这段文字强调的是：

- A. 失败是成功的一部分
- B. 当你在前进的道路上摔倒了，你应该微笑着站起来
- C. 在人生之路上，并非最后的成功才是成功
- D. 当你懂得正确去看待失败时，每一次失败便都有了价值

11. 以大投入、大制作、高调造势、高票房回报为标志的“大片”，近几年在中国影坛上出尽风头。岁末年初开始的《满城尽带黄金甲》全线飘红，以3.5亿元的票房创下了中国电影史上的票房新高。包括这部片在内的5部影片，占去了2006年中国电影全部26.2亿元票房收入的1/5还多。但舆论和观众大多给予批评和表示不满。深究起来，“大片”自身在选材、制作和市场开发方面的诸多误区当是最直接的诱因。从《英雄》、《无极》、《十面埋伏》、《夜宴》到《满城尽带黄金甲》，国产包括与港台合拍大片几乎是清一色地选择了古装加武打、阴谋加爱情之类型，出现形式奢华和内容空洞的强大反差。这段文字意在说明：

- A. “大片”何时不再自我陶醉
- B. 大投入、大制作影片创下我国电影票房新高
- C. 国产大片形式与内容存在严重脱节
- D. 大片在虚假的市场兴起的喧嚣中，潜藏着深深的文化危机

12. 美国柯达公司在制造感光材料时，需要有人在暗室工作。但视力正常的人一进入暗室，犹如司

机驾驶着失控的车辆一样不知所措。针对这种情况，有一位经理突发奇想，建议说：“盲人习惯于黑暗中生活，如果让盲人来于这种工作，定能提高工作效率。”于是柯达公司决策层下令：将暗室的工作人员全部换成盲人。在暗室里工作，盲人远胜过常人，提高了劳动效率。柯达公司巧用盲人这一行动，不仅给公司增加了利润，这件事也为公司树立起良好的形象。很多高素质的大学生、研究生和专业人才，都争先恐后地到柯达公司效力。

这段文字意在说明：

- A. 柯达公司善于用人，将短处变为长处
- B. 柯达公司经营有方，一石二鸟
- C. 柯达公司如何塑造企业形象
- D. 盲人有时远胜于常人

13. 一位智者说过：“你必须宽容三次。你必须原谅你自己，因为你不可能完美无缺；你必须原谅你的敌人，因为你的愤怒之火只会影响自己和家人；在寻找快乐的路途中，最难做到的或许是你必须原谅你的朋友，因为越是亲密的朋友，越能于无意中深深中伤你。”我们常常是对别人太严厉了。每个人都在企图证明：我是对的，而你错了。能装下别人或自己的缺点，才能装下整个世界的风雨。我们宽容了别人，同样是自我的赐福。

这段文字主要是论述：

- A. 宽容是一种美德
- B. 宽容是一种博大
- C. 宽容是人一生中的福气
- D. 宽容是自我的赐福

14. 过去我们一直强调农村的公共事业由农民、农村集体组织自己办，国家的公共服务没有向农村倾斜。因此，城乡之间公共事业发展的差距非常大，突出的问题，一是基础设施缺乏，二是教育、文化、卫生等社会事业发展明显滞后。近几年来，国家在农村实施“六小”工程，2004年投入280多亿元，其中包括一部分道路建设资金，农村基础设施的面貌确实有了一定程度的改善。国家在农村教育和卫生方面的投入在不断增加，但是差距还是非常大。

这段文字主要是强调：

- A. 农村公共事业发展差距大
- B. “六小”工程改善了农村基础设施
- C. 国家投入重点应放在农村社会事业发展上
- D. 农村公共事业仍需要国家加大投入

15. 流行语是社会生活的直接反映，折射出时代的色彩。就像“电”派生出一批带“电”词语一样，“网”的出现必然也会派生出一批带“网”的词语，使“网络”从新词变为基本词。与网络相关的词语在汉语词语系统中会逐渐确立自己的位置。采用表意方法的新词更容易为人们接受，如“PC机——个人电脑”，“妹儿——电子邮件”等。对新词语如果过分严格地限制、挑剔，就会限制它的活力，不利于构建和谐的语言生活。

最适合做这段文字标题的是：

- A. 新语言现象令人关注
- B. 语言现象错综复杂，语言观念渐趋多元
- C. 流行词语漫议
- D. 对语言生活中的新现象要采取宽容的态度

16. 对联“二人土上坐，一月日边明”，从表面上看非常平淡，但从形体上分析，上联由“人、人、土”三字并成了“坐”字，下联由“日、月”二字并成了“明”字，这就构成了饶有趣味的汉字修辞。

这段文字主要是：

- A. 从汉字的独特形体特点来理解汉字修辞
- B. 从汉字的独特形体特点来理解表音汉字
- C. 从汉字的独特形体特点来理解汉字语义
- D. 从汉字的独特形体特点来理解汉语逻辑

17. 李肇星在钓鱼台国宾馆欢迎参加朝核问题北京六方会谈的代表时说：钓鱼台曾是中国清朝一位年轻皇帝送给他老师的礼物，是一个充满善意和可能给这里的人带来好运气的地方。这座花园目睹过许多重大外交事件。在这里，通过对话，冰山可以消融，敌意可以化解，信任可以培育。钓鱼台历史的最好启迪就是：和平最可贵，通过对话争取和维持和平最可贵。中国古诗曰：“任凭风浪起，稳坐钓鱼台”。希望并相信各位同事将以自己的远见、智慧、耐心、勇气和对和平事业的诚意寻求共赢。这篇祝酒辞的艺术特色是：

- A. 意蕴隽永，文采斐然
- B. 用充溢中华民族传统文化精髓的话语，娓娓道来，胸襟豁达又不失深沉
- C. 语气平易、亲切，联想巧妙，引喻贴切
- D. “稳坐”一语双关，既是对会谈进行状况的期望也是对会谈结果的良好祝愿

18. 网上“恶搞”，是对“搞”的对象不加限制。和谐理念要求社会成员诚信友爱，“恶搞”则全然不顾别人的感受，“恶搞”说这是“幽默”，却不把自己作为“恶搞”的对象；和谐理念要求以理性方式表达自己的利益祈求，“恶搞”却不考虑采取的手段是否合理合法；创新在于创造新的事物，而“恶搞”热中把矛头指向著名人物和经典作品，恰恰说明了其创新能力的不足。“恶搞”不断冲击着社会的道德底线、法律底线和主流意识，导致文化虚无主义的产生，需要引起高度警惕。

最适合做本段文字标题的是：

- A. 越来越多的网民对“恶搞”的消极影响有了清醒的认识
- B. 网上“恶搞”有悖和谐理念
- C. 牢固树立社会主义荣辱观，自觉抵制网上“恶搞”之风
- D. “恶搞”颠覆主流意识，混淆是非荣辱

19. 最近一项调查显示，47%的中国人说他们只将月末剩余的部分现金投入储蓄。几乎有1/3的人说他们根本不存钱。中国家庭储蓄率未来会逐步降低，原因是人口因素（独生子女之前一代人的老龄化）、富裕程度的提高以及金融行业的改善（例如推出更多的保险产品）。城市家庭的储蓄率目前已经低于全国平均水平。

这段文字主要表明：

- A. “精打细算”消费观念在淡化
- B. 中国人“打碎”了储蓄罐
- C. 精打细算和推后消费的模式正在过时
- D. 人们的理财观念、模式发生变化

20. 一篇“美国宇航局的科学家准备用太空技术为莫奈的名画《睡莲》去除煤烟”的报道，同是记者王艳红的报道，但各家标题不一，如《科技日报》的标题为“试一试太空技术修复名画”，而《北京日报》的标题则为“用太空技术给名画美容”。

这段文字说明，后一标题比前一标题：

- A. 更生动、准确、吸引人
- B. 显得客观多了，更会吸引读者
- C. 更忠实于原文的文风
- D. 更容易体现文章的思想内涵

21. 近一段时期，很多网上论坛都在讨论关于“熊猫烧香”病毒的话题。两个月的时间里，全球感染上这种病毒的电脑已经有几百万台。病毒发作时，电脑中所有的图标都变成了熊猫，熊猫们手持三柱香，合十作揖。用户被迫格式化，电脑中的数据全丢了。一些国外的杀毒软件在关键时候突然失灵，也是病毒泛滥的原因之一。

对这段文字概括最恰当的是：

- A. “熊猫烧香”“烧”掉了几百万台电脑
- B. 谁在制毒传毒
- C. “熊猫烧香”何以成为公众话题
- D. 专业技术问题演变为社会话题

22. 去年下半年，由中国逻辑学会等单位组织的全国报刊逻辑语言应用病例有奖征集活动，对4种中央级报纸和24种省级报纸进行检查。经专家认定，平均每种报纸有错5.8处。这些错误有概念不清、判断失当、推理错误等，如说“国庆节”是“祖国的生日”，以为“三甲”就是“前三名”，将“没有根据的传言”称作“空穴来风”，以及“近500多人、减少了两倍、一直以来”之类的可笑说法层出不穷。

这段文字主要说明：

- A. 作者、编辑等人员的语文修养亟待提高
- B. 必须高度重视语文与逻辑应用问题
- C. 报刊语文与逻辑应用中泥沙俱下，鱼龙混杂，来不及消化、整理、规范
- D. 在语文与逻辑应用中要消灭由粗心造成的“硬伤”，减少常识性错误

23. 央视《全球资讯榜》栏目有段广告：每天，我们只给你介绍三位全球热门人物；只报道最受关注的全球要闻事件；只评选出全球五大上榜公司；只发布全球最新的财经新闻；只介绍最具有想象力的前沿科技；——《全球资讯榜》，中央电视台经济频道，每天中午12:00，知讯者生存。

对这段文字中“知讯者生存”的理解最准确的是：

- A. 它的创意源于“只有偏执狂才能生存”，而“偏执狂”已不是“丧失理智的代名词”
- B. 原话中的“偏执狂”是指敢想敢干、敢打敢拼、敢爱敢恨、敢于创新的人
- C. 初听感到耸人听闻，细品觉得鞭辟入里、精致妥当
- D. 整个节目的品味升至一个境界：提供的是资讯，关注的是生存

24. 英国卖给埃及的游轮，开始并不受欢迎，法国人建的游轮卖得倒是更好些。原来法国游轮“空场”的地方多，而英国游轮房间却比法国造得大很多。英国人通过分析得出结论：在心理上，人们对外部宽窄的计较，要远远大于对房间内宽窄的需要。于是，英国人收缩了游轮上房间的面积，而把其他地方加宽。结果，英国人的游轮成了畅销货。

对这段文字理解不准确的是：

- A. 生活中人们磨合、容纳、理解、修正的核心是那个需要不断设计的宽窄尺度
- B. 宽与窄，涉及生活的方方面面，这是一种尺度、一种道理，也是一种奥秘和科学
- C. 人们都以宽广、宽阔的天地来比喻前程，希望自己的明天皆是宽广的、光明的，在现实生活中也是一样
- D. 宽窄的适度，才是我们真正需要的

25. 现行内资企业和外资企业所得税税率为 33%。对一些外资企业实行 24%、15% 的优惠税率，对内资微利企业实行 27%、18% 的税率等。将《企业所得税法（草案）》的税率确定为 25%，是考虑对内资企业要减轻税负，同时要将财政减收控制在可以承受的范围内，还要考虑国际上尤其是周边国家（地区）的税率水平。全世界 159 个实行企业所得税的国家（地区）平均税率为 28.6%，我国周边 18 个国家（地区）的平均税率为 26.7%。新税率在国际上是适中偏低的水平，有利于提高企业竞争力和吸引外商投资。

这段文字主要讲述的是：

- A. 税率新举措：从内外有别到一视同仁
- B. 企业新起点：同台竞争，公平竞争
- C. 25% 的税率，在国际上是适中偏低的水平
- D. 调整税率有利于提高企业竞争力

26. 钥匙是开锁的，锁就是问题。能把锁打开的钥匙才是有用的钥匙，能解决问题的管理才是有效的管理。锁有种种，钥匙也有种种，试图用一把钥匙打开万把锁，只能是理想，不是现实。钥匙的原理虽然是通用的，但是否真的有效、管用，却全在于“运用之妙，存乎一心”。锁有分工，分工不是分家，授权不是失权。授权要有“遥控器。遥控要择其要者，抓住主要矛盾和矛盾的主导方面，一头控“头”，即管住思想行为；一头控“脚”，即管住资源资金。这就是钥匙：管用不拘小，操作不图繁。对这段文字概括最恰当的是：

- A. 管理应是钥匙，钥匙应该管用
- B. 管理应是钥匙，钥匙应该简洁
- C. 在开锁的过程中不断检验钥匙的务实可用性
- D. 认识事物规律，把握时代脉搏，带动“钥匙”发展

27. 获得银牌和获得铜牌哪一个更让人高兴？绝大多数人都会断定，银牌获得者会比铜牌获得者更快乐些，因为他获得了更高的荣誉。但事实并不如此。铜牌获得者，虽然只是站在了第三名的位置上，但他们比银牌获得者要快乐很多。奥运选手们这样解释他们获得奖牌的感受：第三名会因为赢得了一枚奖牌而激动得颤抖；另一方面，第二名则会因为没能成为第一名而自我感觉像个失败者。得到了什么不重要，重要的是如何去感受。

这段文字意在说明：

- A. 奥运竞赛得到什么并不重要
- B. 奥运竞赛结果的残酷性
- C. 运动员心理调整尤其重要
- D. 重要的是如何去感受

28. 现有知识产权制度对生物技术等高新技术成果的专利、商业秘密的保护，促进了发明创造；现有知识产权制度对计算机软件、文学作品（包括文字及视听作品等）的版权保护，促进了工业与文化领域的智力创作。但在保护今天的各种智力创作与创造之“流”时，人们在相当长的时间里却忽视了对它们“源”的知识产权的保护。而传统知识，尤其是民间文学的表达成果，正是这个“源”的重要组成部分。

这段文字主要强调的是：

- A. 知识产权制度非常重要
- B. 现有知识产权制度存在缺陷
- C. 保护传统知识和民间文学非常重要
- D. 现有知识产权制度能促进发明创造和智力创作

29. 温家宝在接受《泰晤士报》访谈时，一口气背诵了六句名言：一是左宗棠的“身无半亩，心忧天下；读破万卷，身交古人。”二是张载的“为天地立心，为生民立命，为往圣继绝学，为万世开太平。”三是屈原的“长太息以掩涕兮，哀民生之多艰。”四是郑板桥的“衙斋卧听萧萧竹，疑是民间疾苦声。”五是康德的“有两种东西，我对他们的思考越是深沉和持久，他们在我心灵中唤起的惊奇和敬畏就会日新月异，不断增长，这就是我头上的星空与心中的道德定律。”六是艾青的“为什么我的眼里常含着泪水？因为我对这土地爱得深沉。”这段文字主要体现出：

- A. 政治家以民生为本的情怀
- B. 政治家丰富的文学修养
- C. 政治家超群的记忆能力
- D. 政治家对优秀传统文化的敬仰

30. 汉族前身基本上是炎帝、黄帝所遗两大族构成，是称“华夏”（也有人认为“华夏”即生活在中原的民族，“夏，大也。有礼仪谓之大；有文章谓之华”）。华夏是汉族的前身。汉族的观念产生于“五胡十六国”，固定下来更晚，因此书中常用“华夏以代汉族”。“中国”这个词最早出自周代的“何尊”（20世纪60年代出土于宝鸡）的“余其宅兹中国”。对这段文字最后一句中“中国”的理解准确的是：

- A. 华夏民族生活的中心——中原一带
- B. 华夏民族的居住地
- C. 现今中国的大部分地区
- D. 现今中国大陆

31. 孙子，齐国乐安（今山东惠民）人，他的《孙子兵法》是世界上公认的最古老的军事理论著作。“善战”是他军事思想的核心。他说：“善战者知胜也，无智名，无勇功。”因为在他看来，真正的善战者所打得胜仗，决不是那种杀人一千、自损八百的浴血苦战、拼死激战，而是“胜于易胜”——打的是好打易打之敌，“胜己败者”——打的是已经处于失败地位之敌。

这段文字所讲的孙子善战思想的核心是：

- A. 以小的代价赢得大的胜利
- B. “不战而屈人之兵”
- C. 朴素的军事辩证法思想
- D. 除了“全胜”之外，就是“破胜”

32. 加拿大来华演员大山，有一次在北京郊外开车超过规定时速，被交警拦住。大山问“一小时行驶多少公里才罚款？”交警说：“时速达到80公里就得罚款。”大山说：“我开车才半个小时。还没超过50公里呢。”交警一愣。大山又辩解开了：“这样吧，在剩下的半小时里，我只跑29公里，你们不妨跟着我，如果超过了一米，我不但认罚，还请你们吃涮羊肉！”交警一听，哭笑不得，一时竟不知如何与他理论了。

对这段话中大山的辩解，理解准确的是：

- A. 交警讲的“时速”是以小时为时间单位的，大山却认为是一个小时行驶的路程
- B. 他前半时跑50公里，后半时跑29公里，不应受罚
- C. 他犯了“偷换概念”的逻辑错误
- D. 他是逻辑曲用，不乏黑色幽默

33. 无知不等于没学问，无知跟没有学问是两个概念。北宋皇帝宋徽宗是被金兵俘虏的，押到东北，坐井观天，死在那里。你说他没有学问，可不对，宋徽宗有学问，字写得好，词写得好，画画也非常好，

他是个大才子。可是宋徽宗是无知的，就谈一件小事。宋徽宗是属狗的，他当了皇帝以后就下令全国不准吃狗肉。中国人从古就吃狗肉，现在不准吃狗肉，民间怨声载道。这段文字主要告诉我们：

- A. 权力加无知是世界上最可怕的事情
- B. 社会管理要有“制衡”机制
- C. 任何领导的功过都具有不对称性
- D. 领导者要适时地调整和改变策略

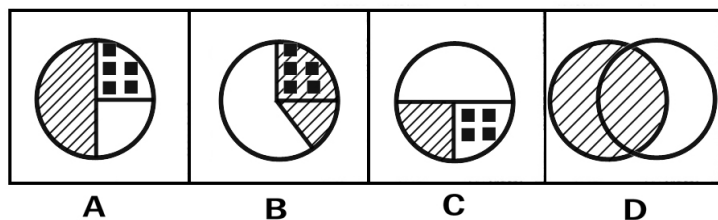
34. 大学生志愿服务西部的首批志愿者刘勇，在日记里写下这样一句话：“有一种工作，没有经历过就不知道其中的艰辛；有一种艰辛，没有体会过就不知道其中的快乐；有一种快乐，没有拥有过就不知道其中的纯粹。”

这段话主要表达了：

- A. 喜欢是快乐的基础
- B. 快乐工作法的真谛
- C. 快乐源于自己在工作中的真诚投入
- D. 无论从事什么工作，艰苦、困难、苦恼都是客观存在的

35. 青藏铁路穿过的真正冻土区约有 400 千米。在这 400 千米中，属于较不稳定、不稳定的冻土区不会超过 190 千米，其中极不稳定的冻土区在 100 千米之内。

对于这段文字所说明的内容，用“斜纹”表示较不稳定和不稳定的冻土区，用“■”表示极不稳定的冻土区，余下的用“□”表示。下列图示中基本符合原文意思的一项是：



36. 中国虽然有大量廉价劳动力，但很多没有受过专业教育和训练。国际名牌产品对品质要求极其严格，很多产品都是手工制作。中国一些有能力生产高质量产品的企业为了快速获取利润，选择为外国企业生产贴牌产品而不是开发和经营自己的品牌，使中国丧失了在国际市场获得竞争的机会。

中国国际名牌稀有的重要原因是：

- A. 劳动力的素质制约了中国企业生产国际名牌的能力，从而不得不生产贴牌产品，形成了恶性循环
- B. 中国企业为了追求眼前利益而放弃自主开发和经营，选择能快速获利的贴牌产品生产
- C. 中国一些企业有能力生产高质量产品，但由于受到劳动力的制约不得不选择放弃
- D. 受劳动力素质制约，中国大部分企业无能力生产高质量产品，而一些有能力的企业又选择了贴牌生产

37. ①如果在一间没有窗户、壁纸及家具都是红色的房间度过 2 个小时，就会感觉像过了 4 个小时；而在全是蓝色的房间则会感到仅过了 1 个小时。②所以人的体温也会因室内的颜色的变化而变化。③如果从红色的房间移到蓝色的房间，人的体温就会下降。④因此，色彩学家建议室内装修以使用米黄色为佳。

这段话中，有问题的一句是：

- A. ①
- B. ②

- C. ③
- D. ④

38. 下面是某省近三年高考语文试卷中文言文阅读所占比重统计表：

年份	2004 年	2005 年	2006 年
平均比重	35%	32%	30%
最低比重	22%	16%	23%
最高比重	44%	40%	42%

下列结论不能从表格中得出的一项是：

- A. 高考试卷中文言文最高比重与最低比重并不固定
- B. 高考试卷中文言文的平均比重逐年减少
- C. 最高比重与最低比重相差非常大
- D. 现代文阅读的平均比重将逐渐加大

39. 一个人去俄罗斯旅游，他在逛街的时候发现两个很奇怪的人：一个人在前面挖坑，一个人在后面用铲子把挖出来的泥土填进去。这个人觉得很奇怪，就去问他们在干什么。他们回答说，他们在种树。这个人觉得更奇怪了。这两个人解释说，负责放树苗的那个人生病了，没有来。这段话给我们的启示是

- A 工作时不用理会别人的看法
- B. 工作中应该有责任心
- C. 工作中应该讲方式方法
- D. 工作没有结果等于没做

40. 心理学家做过一次试验：把大学生分成两组，分别听取同一个女大学生的答辩。在其中一组发言时，女大学生打扮得很漂亮。在另外一组则把妆卸掉，没有什么特色。试验结果是：发言内容相同，但在第一组时发言更能说服人，得分也更高。从这个试验我们可以得出：

- A. 人的面容的俏丽或丑陋与自身的能力和素质没有关系
- B. 人的面容的俏丽或丑陋与自身的能力和素质有一定的关系
- C. 人的容貌对人的成功有很大的影响
- D. 人的容貌对他人的判断力有较大影响

第二部分 数量关系

(共 20 题，参考时限 20 分钟)

一、数字推理。每题给出一个数列，但其中缺少一项，要求你仔细观察数列的排列规律，从四个选项中选择最合适的一项来填补空缺项，使之符合原数列的排列规律。

41. 44, 52, 59, 73, 83, 94, ()

- A. 107
- B. 101
- C. 105
- D. 113

42. 1.5, 4.5, 13.5, 16.5, ()

- A. 21.5
- B. 34.5

C. 49.5

D. 47.5

43. 16, 21, $16\frac{7}{8}$, $20\frac{1}{4}$, $17\frac{3}{4}$, $19\frac{1}{2}$, ()

A. $16\frac{5}{7}$

D. $15\frac{3}{5}$

C. $21\frac{3}{8}$

D. $18\frac{5}{8}$

44. $1/4$, $2/7$, $2/5$, $8/13$, 1, ()

A. $9/16$

B. 3

C. $32/19$

D. $28/17$

45. -1, 0, 4, 22, ()

A. 118

B. 120

C. 112

D. 124

二、数学运算。每道试题呈现一段表述数字关系的文字，要求你迅速、准确地计算出答案。

46. 取甲种硫酸 300 克和乙种硫酸 250 克，再加水 200 克，可混合成浓度为 50% 的硫酸；而取甲种硫酸 200 克和乙种硫酸 150 克，再加上纯硫酸 200 克，可混合成浓度 80% 的硫酸。那么，甲、乙两种硫酸的浓度各是多少？

A. 75%，60%

B. 68%，63%

C. 71%，73%

D. 59%，65%

47. 某制衣厂接受一批服装订货任务，按计划天数进行生产，如果每天平均生产 20 套服装，就比订货任务少生产 100 套；如果每天生产 23 套服装，就可超过订货任务 20 套。那么，这批服装的订货任务是多少套？

A. 760

B. 1120

C. 900

D. 850

48. 某广场有一块面积为 160 平方米的路面，用白色、紫色、黑色三种大理石铺成，每块大理石的面积是 0.4 平方米，其中白色大理石 150 块，紫色大理石 50 块，其余的是黑色大理石。某人在上面行走，

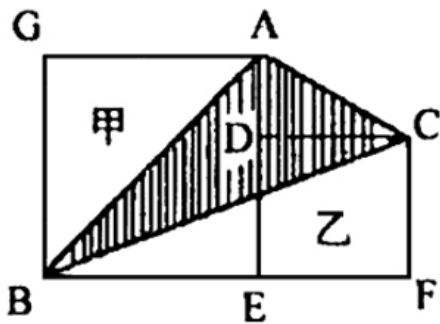
他停留在黑色大理石上的概率是多少？

- A. 1/4
- B. 2/5
- C. 1/3
- D. 1/16

49. 某学校操场的一条环形跑道长 400 米，甲练习长跑，平均每分钟跑 250 米；乙练习自行车，平均每分钟行 550 米，那么两人同时同地同向而行，经过 x 分钟第一次相遇，若两人同时同地反向而行，经过 y 分钟第一次相遇，则下列说法正确的是：

- A. $x - y = 1$
- B. $y - x = 5/6$
- C. $y - x = 1$
- D. $x - y = 5/6$

50. 下图中的甲和乙都是正方形， $BE = 6$ 厘米， $EF = 4$ 厘米。那么，阴影部分 ABC 的面积是多少平方厘米？



- A. 20
- B. 24
- C. 21
- D. 18

51. 卫育路小学图书馆一个书架分上、下两层，一共有 245 本书。上层每天借出 15 本，下层每天借出 10 本，3 天后，上、下两层剩下图书的本数一样多。那么，上、下两层原来各有图书多少本？

- A. 108, 137
- B. 130, 115
- C. 134, 111
- D. 122, 123

52. 甲、乙、丙、丁四人共做零件 325 个。如果甲多做 10 个，乙少做 5 个，丙做的个数乘以 2，丁做的个数除以 3，那么，四个人做的零件数恰好相等。问：丁做了多少个？

- A. 180
- B. 158
- C. 175
- D. 164

53.某供销社采购员小张买回一批酒精，放在甲、乙两个桶里，两个桶都未装满。如果把甲桶酒精倒入乙桶，乙桶装满后，甲桶还剩 10 升；如果把乙桶酒精全部倒入甲桶，甲桶还能再盛 20 升。已知甲桶容量是乙桶的 2.5 倍，那么，小张一共买回多少升酒精？

- A.28
- B.41
- C.30
- D.45

54.东、西两镇相距 240 千米，一辆客车上午 8 时从东镇开往西镇，一辆货车上午 9 时从西镇开往东镇，到中午 12 时，两车恰好在两镇间的中点相遇。如果两车都从上午 8 时由两地相向开出，速度不变，到上午 10 时，两车还相距多少千米？

- A.80
- B.110
- C.90
- D.100

55.甲、乙两人沿着匀速上升的自动扶梯从底部向顶部行走，甲每分钟走扶梯的级数是乙的 2 倍，当甲走了 36 级到达顶部，而乙则走了 24 级到顶部。那么，自动扶梯有多少级露在外面？

- A.68
- B.56
- C.72
- D.85

56.从 1, 3, 9, 27, 81, 243 这六个数中，每次取出若干个数（每次取数，每个数只能取一次）求和，可以得到一个新数，一共有 63 个数。如果把它们从小到大依次排列起来是：1, 3, 4, 9, 10, 12, …。那么，第 60 个数是：

- A.220
- B.380
- C.360
- D.410

57.某品牌的电冰箱，甲商场比乙商场的进价多 10%，如果甲商场按 30%的利润定价，乙商场按 40%的利润定价，则甲商场的定价比乙商场多 45 元，那么，乙商场进价是多少元？

- A.2 100
- B.1 800
- C.1 500
- D.2 600

58.一袋糖里装有奶糖和水果糖，其中奶糖的颗数占总颗数的 $\frac{3}{5}$ 。现在又装进 10 颗水果糖，这时奶糖的颗数占总颗数的 $\frac{4}{7}$ 。那么，这袋糖里有多少颗奶糖？

- A.100
- B.112
- C.120

D.122

59.李森在一次村委会选举中，需 $\frac{2}{3}$ 的选票才能当选，当统计完 $\frac{3}{5}$ 的选票时，他得到的选票数已达到当选票数的 $\frac{3}{4}$ ，它还需要得到剩下选票的几分之几才能当选？

- A. $\frac{7}{10}$
- B. $\frac{8}{11}$
- C. $\frac{5}{12}$
- D. $\frac{3}{10}$

60.A、B 两数恰含有质因数 3 和 5，它们的最大公约数是 75，已知 A 数有 12 个约数，B 数有 10 个约数。那么，A、B 两数的和等于：


- A. 2 500
- B. 3 115
- C. 2 225
- D. 2 550

第三部分 判断推理

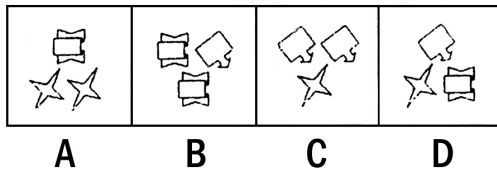
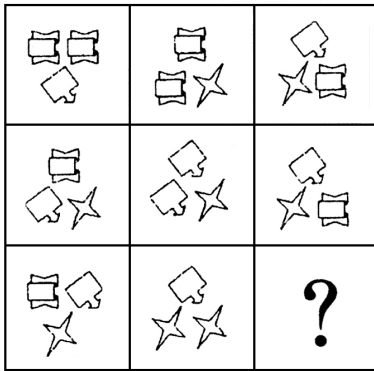
(共 35 题，参考时限 40 分钟)

一、图形推理。请从所给的四个选择项中，选择最适合的一个填在问号处，使之呈现一定的规律性。

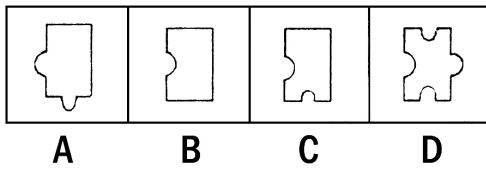

61. 请从所给的选项中，选择最适合的一个填入问号处，使之呈现一定的规律性。



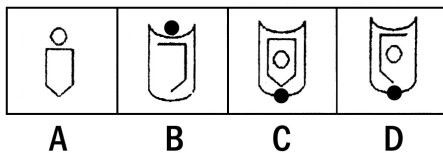
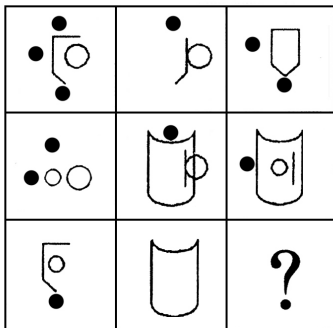
62. 请从所给的选项中，选择最适合的一个填入问号处，使之呈现一定的规律性。




63. 请从所给的选项中，选择最适合的一个填入问号处，使之呈现一定的规律性。




64. 请从所给的选项中，选择最适合的一个填入问号处，使之呈现一定的规律性。




65. 请从所给的选项中，选择最适合的一个填入问号处，使之呈现一定的规律性。




66. 请从所给的选项中，选择最适合的一个填入问号处，使之呈现一定的规律性。




67. 请从所给的选项中，选择最适合的一个填入问号处，使之呈现一定的规律性。




68. 请从所给的选项中，选择最适合的一个填入问号处，使之呈现一定的规律性。



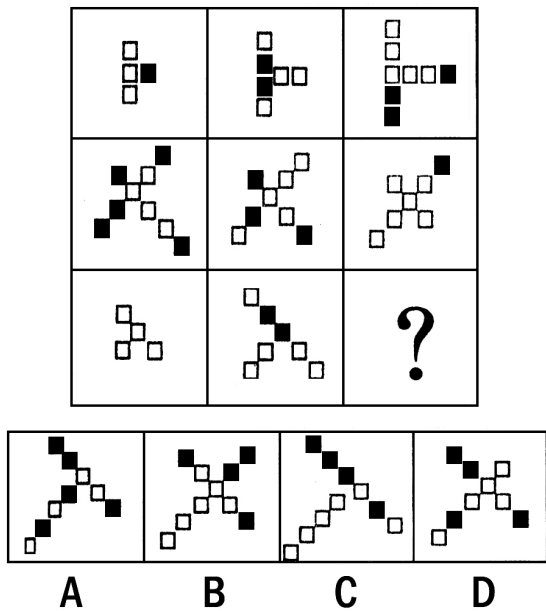
69. 请从所给的选项中，选择最适合的一个填入问号处，使之呈现一定的规律性。




70. 请从所给的选项中，选择最适合的一个填入问号处，使之呈现一定的规律性。



71. 请从所给的选项中，选择最适合的一个填入问号处，使之呈现一定的规律性。



72. 请从所给的选项中，选择最适合的一个填入问号处，使之呈现一定的规律性。



二、定义判断。包括两种类型：

(一) 单定义判断：先给出一个概念的定义，然后分别列出 4 种情况，要求你严格依据定义，从中选出一个最符合或最不符合该定义的答案。注意：假设这个定义是正确的，不容置疑的。

73. 强迫障碍，是以反复出现强迫观念为基本特征的一类神经症性障碍。强迫观念是以刻板形式反复进入患者意识领域的思想、表象或意向。这些思想、表象或意向对患者来说，是没有现实意义的、不必要的或多余的，患者意识到这些都是他自己的思想，很想摆脱，但又无能为力，因而感到十分苦恼。

根据定义，以下可能属于“强迫障碍”的是：

- A. 张奶奶老是一个劲的叨念着：我儿子就要回来了
- B. 老李锁上门后又打开进去检查一遍再锁门……如此循环三次才放心离开

- C.虽然已经打了三次电话了，赵某还是不放心，于是再一次拨通电话
- D.明明已经确定带了那本书，小黄在路上还是忍不住检查好几回

74.职权是由组织领导者的地位决定的一种具有强制性的法定权力。它有明确的范围，权力因职位不同而变化。

根据上述定义，下列属于职权的是：

- A.如果 A 对 B 拥有权力，那么 A 就能影响 B 的一些行为，这种影响与职位无关
- B.A 对 D 具有强制性的决定权力，这种权力同 A 和 D 的个人因素无关
- C.A 的影响权力 B 一定会接受
- D.既包括 A 的法定权力，也包括 A 的非法定权力

75.服从是个体按照社会要求、团体规范或别人的意志而作出的行为，这种行为是来自外界的影响而被迫发生的。

根据以上定义，下列属于服从的是：

- A.一位司机在马路上驾驶汽车时，由于有警察的监督，能听指挥，按规定速度行驶，一旦处于无人管辖的郊外，就超速行驶
- B.一位职工口头上表示拥护单位的决定，但在实际上背道而驰
- C.一人迫于社会压力或困难压力下表现出来的从众行为
- D.在一个犯罪团伙中，有的成员是误上贼船，并不是死心塌地愿意去干坏事，只是被迫而为的

76.有限自然资源的开发利用、公共资源配置以及直接关系公共利益的特定行业的市场准入等可以设定行政许可。这些事项，行政机关应当通过招标、拍卖等公平竞争的方式作出决定。法律、行政法规另有规定的，依照其规定。以这条规定为依据，社会中存在的大量有限公共资源，其利用与配置可设定行政许可。这一领域的许可就是特许。

根据上述定义，下列属于行政特许的是：

- A.采取了市场化的拍卖与竞标方式进行的出租车牌照的拍卖
- B.城市户外广告设施的拍卖
- C.需要得到行政当局同意的驾驶许可、营业许可
- D.烟草专卖许可、麻醉药品的生产许可

77.反证法是先用确定与原论题相矛盾的论题的虚假，根据排中律由假推真，从而间接确定论题真实性的证明方法。根据上述定义，下列不属于反证法的是：

- A.风水先生贯说空，指南指北指西东，倘若真有龙虎地，何不当年葬乃翁
- B.某甲有非法收入罪，如果没罪，那他就能说出自己所有收入的来源，而他说不出这些收入来源
- C.古村还是有用的，如果没有用，就不会存到现在了
- D.规划不能随心所欲，因为依法通过的规划本身就具有法的效力

78.行政合理性原则是指行政决定的内容要客观、适度，具有合理性，即合理地行使行政自由裁量权。根据上述定义，下列行为符合这一原则的是：

- A.某工商所因个体工商户李某曾犯故意伤害罪判处有期徒刑三年刚出狱，所以没收其未经有关部门检验而违法销售蛋糕所得的 300 元，又处以罚款 1 500 元
- B.某省大型国有企业因生产的某种产品有些瑕疵，致使消费者无法正常使用，该企业在召回 瑕疵产品后，依然被省工商局吊销了营业执照
- C.某林业主管部门因木材市场紧俏，价格上涨，遂决定一次性采伐本林场 2/5 的林木，给林场带来

了较高的经济效益

D.某市行政复议机关，对王某因不服行政处罚而提起的行政复议进行审查后，认为被复议机关的处罚决定虽然合法，但因王某初犯且情节轻微，将罚款1万元改为罚款5000元

(二) 多定义判断：先给出多个概念的定义，然后列出多个典型例证。要求你从中选出最符合定义的典型例证。注意：假设这多个定义是正确的，不容置疑的；某一典型例证至多只与某一定义对应。

79.定义：（1）感觉是人们的感官对多种不同能量的觉察，并转换成神经冲动。

（2）知识就是对客体的如实区别或联系。

（3）推理是运用一定的法则从已有知识得出新知识的思维活动。

典型例证：

（1）竹竿浸入水中被水折成两段，出水后竹竿又恢复原状。

（2）竹竿在水中并未被折断，而是由于光线的折射使人产生了错觉。

（3）竹竿浸入水中被水折成两段，这是客观不同的缘故。

最符合定义的典型例证有几项？

A.0个

D.1个

C.2个

D.3个

80.定义：（1）请求谅解是立足于对方，请求对方宽恕的道歉表达方式。

（2）承担错误是承认自己的不对与过错，将责任归到自己身上，以减少对方的不满心理。

（3）责罚是以自我惩罚的方式承担责任与抵偿自己的罪过。

典型例证：

（1）不好意思，让你一个人受冷落了。（郑振环《天边有一簇圣火》）

（2）董炎：呀，路路，还在生我的气？今天都怪我不好。（老舍《结婚一年间》）

（3）我对不起妈妈！我不是人。（电视剧《非常时代》）

最符合定义的典型例证有几项？

A.0个

B.1个

C.2个

D.3个

81.定义：（1）压力是个体面对具有威胁性刺激情境时，伴有躯体机能以及心理活动改变的一种身心紧张状态。

（2）挫折是指个体在通向目标中遇到难以克服的困难或干扰，使目标不能达到，需要无法满足时，所产生的不愉快情绪反应。

（3）心理异常是指行为与人格偏离正常的心理状态。

典型例证：

（1）谈话结巴、刻板动作、过度进食、攻击行为。

（2）农民丰收在望，但一场突如其来的洪涝灾害冲走了庄稼，也冲垮了他的愿望。

（3）一个人常常感到不安、惶恐、压抑、恐惧，但有明显的、客观原因。

最符合定义的典型例证有几项？

A.0个

B.1个

- C.2 个
- D.3 个

82.定义：（1）哲理妙语即演讲者要善于透视社会，解析人生，把自己独特的思想感悟，提炼和升华为富有哲理性的精妙语言。

（2）情感妙语即演讲者运用精妙的语言，把内心真挚而热烈的情感表达出来。

（3）幽默妙语即在演讲过程中，利用幽默的语言让听众对演讲产生兴趣。

典型例证：

（1）幼稚是会生长、会成熟的，只不要衰老、腐败，就好。（鲁迅）

（2）充满真情实感，充满感情对待你身边所有的人。对你好的人你来不及报答，那就报答其他所有的人。（黄永玉）

（3）我没有什么可以奉献，有的只是热血、辛劳、眼泪和汗水。（邱吉尔）

最符合定义的典型例证有几项？

- A.0 个
- B.1 个
- C.2 个
- D.3 个

83.定义：（1）全概率命题是其真实性的概率为 100%的命题。

（2）大概率命题是其真实性概率较高，通常在 50%以上的命题。

（3）辩证命题是若联言命题的两个支命题都是条件命题，那么这两个联言支的后设彼此之间具有矛盾或反对关系。

典型例证

（1）人要吃东西才能长期生存。

（2）如果被害者的财物完整无缺，则凶手作案的动机就不是图财害命。

（3）他既是一个高个子，又是一个矮个子。

最符合定义的典型例证有几项？

- A.0 个
- B.1 个
- C.2 个
- D.3 个

84.定义：（1）“同语反复”是指定义项直接包含了被定义项所出现的定义错误。

（2）“循环定义”是指定义项间接包含了被定义项所出现的定义错误。

（3）“含混定义”指用模糊概念充当定义项所出现的定义错误。

典型例证：

（1）潜规则就是暗规则，暗规则就是潜规则。

（2）时间就是金钱。

（3）麻醉是麻醉剂所起的作用。

最符合定义的典型例证有几项？

- A.0 个
- B.1 个
- C.2 个
- D.3 个

三、逻辑判断。每题给出一段陈述，这段陈述被假设是正确的，不容置疑的。要求根据这段陈述，选择一个答案。注意，正确答案应与所给的陈述相符合，不需要任何附加说明即可以从陈述中直接推出。

85.老张、老王、老李、老赵四人的职业分别是司机、教授、医生、工人。已知：（1）老张比教授个子高；（2）老李比老王个子矮；（3）工人比司机个子高；（4）医生比教授个子矮；（5）工人不是老赵就是老李。

根据以上信息可以推知：

- A.四个人的职业都可以确定
- B.四个人的职业只能确定三个
- C.四个人的职业只能确定两个
- D.四个人的职业只能确定一个

86.日本的柔道列入东京奥运会，韩国的跆拳道也进入汉城奥运会，然而，中国武术却进不了北京奥运会。中国武术以前向世界推广的大都是武术套路，尽管后来的武术比赛中又派生出一个散打项目，但它并不代表武术比赛的主流。多年来，中国武术界频频出国表演，有的纯属商业性表演，不少当地报纸称武术为“杂技艺术”，有的武术选手拍摄过不少电影和电视剧，这使更多的外国观众误以为武术是一种表演的艺术。

从这段文字推不出：

- A.散打项目在比赛中占的比重越大，武术进入奥运会就越难
- B.武术运动员到国外纯商业性演出越多，武术进入奥运会就越难
- C.武术选手拍电视剧越多，武术进入奥运会就越难
- D.多举办国际武术邀请赛，才会为武术进入奥运会消除障碍

87.人民币票面上所标示的货币单位无一例外是“圆”字，但从法理角度看，《中国人民银行法》规定人民币的单位为元，人民币辅币单位为角、分。这明白清楚地从法律角度对人民币单位作了规定，即元为人民币合法的货币单位。圆有表达货币单位的意思，那是指在历史上。《中国人民银行法》颁行后，元便是合法的人民币货币单位，而圆则不再是作为人民币货币单位的规范汉字。

从这段文字可以推出：

- A.“圆”与“元”可以通用
- B.以我们日常生活经验及思维习惯，此“圆”即“元”之意
- C.“圆”并不是人民币的货币单位，人民币纸币上所印之“圆”很可能是一个原则性的错误
- D.在法制社会里不能想象同时存在着两种不同的货币单位

88.假如甲拥有一块世代相传的土地，市场价格 10 万元，但如果甲的主观评价高于市场价格，假定 15 万元，按财产规则，甲预期可得 15 万元；但若土地被征用，他便只能得到市场价格的补偿。若被征用的土地用于公共目的，则这一差额便转化为公共福利；如果被征用的土地用于商业开发，则这一差额便落入开发商私人的腰包。从这段文字可以推出：

- A.合理补偿能够阻止政府以另一种形式滥用职权
- B.合理补偿能够预防和约束政府过度使用征用权
- C.政府将一个人的财产进行征用后再转让给其他人或单位，不属于“公权私用”
- D.按市场价格对失地农民进行补偿，开发商们也能谋取两种规则之间的价值差额

89.我们可以把人生比作几何图形中的一个圆。在一个已经画好的圆上，你要找到起点在哪，终点在哪，固然是很困难的，但你要找出其半径有多长，则是比较容易的。圆有半径，人生也有半径。生命的

宽度、厚度及重度，就是由你的人生半径决定的。人生半径越大，你生命的空间也就越大。

从这段文字可以推出：

- A. 度量生命，首先应该度量你的人生半径，包括你的所思所想、所苦所行、所作所为
- B. 生命虽然是个充满变数的圣物，但它也是可以度量的
- C. 不是有生命就有价值，也不是活得越久就越有价值
- D. 生活中年少者的价值远胜于年长者的并不少见

90. 管理理论中的木桶定律是讲一只水桶能装多少水，完全取决于它最短的那块木板。这就是说，任何一个组织都可能面临一个共同问题，即构成组织的各个部分往往是优劣不齐的。而劣势部分往往决定整个组织的水平。木桶定律和酒与污水定律不同，后者讨论的是组织中的破坏力量。

从这段文字推不出：

- A. 木桶定律讲的最短的木板是组织中有用的一个部分
- B. 污水定律讲的最短的木板是组织中有用的一个部分
- C. 污水定律讲的最短的木板的有用性比其他部分差一些
- D. 强弱只是相对的，无法消除，问题在于你能否容忍

91. 在当前的网络原创文学中，玄幻小说占据着主流的地位。截止到 2005 年 3 月，在其排行榜排名前 200 位的原创小说中，玄幻小说就占了 69 席，其他依次是网游小说 31 席，都市小说 29 席，仙侠小说 22 席，军事小说 13 席，武侠小说 13 席。如果考虑到当前所谓的仙侠、魔法、灵异小说都是玄幻小说的分支，而网游、武侠、都市、科幻、军事、历史等类型小说也多受到玄幻笔法的影响，在这排名中真正玄幻类作品占据的席位其实不会少于 150 席。

从这段文字推不出：

- A. 玄幻小说已成为中国最为流行的大众文学形式
- B. 玄幻小说崛起已取代武侠小说
- C. 虚拟时空的传奇：网络玄幻小说
- D. 中国文学已经进入玄幻文学时代

92. 爬行动物不是两栖动物，两栖动物都是卵生的，所以凡是卵生的动物都不是爬行动物。

以下选项与题面推理形式相同的是：

- A. 商品都是有使用价值的，貂皮大衣是有使用价值的，所以貂皮大衣是商品
- B. 考试不及格就会补考，补考的学生不能参加三好学生评选，所有不能参加三好学生评选的人都曾经考试不及格
- C. 广东人不是香港人，香港人说粤语，因此所有说粤语的人都不是香港人
- D. 过度溺爱孩子会导致孩子经常哭闹，经常哭闹都有肠胃问题，所以孩子的肠胃问题可能是由于家长溺爱造成的

93. 因为近几年来气候变化，原来春夏多在秦岭深山生活的花杜鹃逐渐迁移到东北大兴安岭，就在花杜鹃在大兴安岭大量繁殖的时候，柳莺的数量却在大量减少。由于花杜鹃的食物和柳莺完全不同，所以柳莺的大量减少与花杜鹃的大量增加无关。

以下哪个如果正确最能削弱上述结论：

- A. 各种森林害虫都是花杜鹃的美食，而柳莺的唯一食物是松毛虫
- B. 花杜鹃没有搭巢本能，为了繁殖后代花杜鹃只能把蛋产在柳莺巢中
- C. 柳莺和花杜鹃都以森林害虫为食，但是花杜鹃不吃柳莺的主要食物松毛虫
- D. 花杜鹃幼鸟只能在柳莺的巢中孵育，花杜鹃会杀死同巢的小柳莺

94.皮肤中胶原蛋白的含量决定皮肤是否光滑细腻,决定人的皮肤是否年轻。相同年龄的男性和女性皮肤中含有相同量的胶原蛋白,而且女性更善于保养,并能从日常保养中提高皮肤胶原蛋白含量,尽管如此,女性却比男性更容易衰老。

以下选项能解释上述矛盾的是:

- A.男性皮肤内胶原蛋白是网状结构的,而女性是丝状结构的
- B.女性维持光滑细腻的皮肤、年轻美貌的容颜需要大量胶原蛋白
- C.只有蹄筋类食物富含胶原蛋白,但是很难被人体消化吸收
- D.男性的胶原蛋白几乎不消耗,而女性代谢需要消耗大量胶原蛋白

95.远古时期,中国龙是吉祥兽,西方龙是忠诚守卫。早在4000年前,西方神话故事中就出现了被称为“Dragon”的怪兽,而这种怪兽就是西方的“龙”。距今7000多年前的新石器时代,中国人就开始了原始龙的图腾崇拜。中世纪,中国龙成为皇帝象征,欧洲龙堕落为魔鬼化身。近现代,中国龙一度印上国旗,西方龙成贬义词汇。清政府在与西方打交道时,把龙绘制在旗子上,作为国旗。清政府倒台后,龙依然是华夏先人的化身,是中华民族的文化象征。

从这段文字可以推出:

- A.应当废除龙作为中国国家形象标志
- B.龙可以作为中国国家形象标志
- C.西方的“Dragon”与中国的“龙”绝不可以画等号
- D.华夏子孙应当弘扬龙文化

第四部分 常识判断

(共25题,参考时限10分钟)

请根据题目要求,在四个选项中选出一个正确答案。

96.在中英《南京条约》及其附件中,最能反映英国发动侵略战争目的的规定是:

- A.割让香港岛
- B.开放五个通商口岸
- C.赔款的规定
- D.英国享受最惠国待遇

97.某环卫所积极推行城市垃圾分类回收管理,他们在A社区放置了一些有分类标识的垃圾回收箱,结果却发现仍然有许多居民并没有将生活垃圾分类放置。造成这种现象的原因最不可能的是:

- A.居民每天产生的生活垃圾数量多
- B.居民不清楚生活垃圾分类的标准
- C.居民的环境保护意识不强,不愿承担相关费用
- D.居民嫌麻烦,没有养成垃圾分类的良好习惯

98.公民与国家之间的关系,反映在法律上就是宪法规定的:

- A.守法和执法的关系
- B.公民的选举权和被选举权
- C.公民在法律面前一律平等
- D.公民的基本权利和义务

99.甲、乙二人均系木材厂的工人。某日为某房主搬运木材，午休时，甲说不知这木材是否能燃烧，乙说我去试试，说完乙便用打火机去点，结果引燃了旁边的油桶，将房主的房子烧毁。乙的行为属于：

- A.疏忽大意的过失
- B.间接故意
- C.意外事件
- D.过于自信的过失

100.针对商品价格违法事件频繁发生的状况，国家发展与改革委员会决定在全国统一开通价格举报电话“12358”。全国开通价格举报电话，政府运用的宏观调控手段是：

- A.经济手段
- B.舆论手段
- C.行政手段
- D.法律手段

101.我国太阳能丰富的地区是：

- A.纬度低、太阳高度角大的海南岛
- D.降水少、晴天多、气温高的吐鲁番盆地
- C.海拔高、空气相对稀薄的青藏高原
- D.纬度高、太阳高度角小的东北地区

102.根据《公务员法》规定，下列关于公务员受处分的法律后果理解不正确的是：

- A.受警告处分的，在受处分期间不得晋升工资档次
- B.受过记过处分的，在受处分期间不得晋升职务、级别
- C.受降级处分的，在受处分期间不仅不能晋升职务和级别，也不能晋升工资档次
- D.受开除处分的，不得再次被录用为公务员

103.关于空气污染指数的分级标准，下列说法错误的是：

- ①一级 $API < 50$ ②二级 $50 \leq API \leq 100$
- ③三级 $101 \leq API \leq 200$ ④四级 $201 \leq API \leq 300$
- ⑤五级 $API > 400$

- A.①③
- B.①③④
- C.②
- D.⑤

104.在我国，下列选项中按规定个人所得不应免纳个人所得税的是：

- A.某劳模家属享受工厂每月的体恤金 300 元
- B.李某家的房子在火灾中受损，保险公司赔付了 2 万元保险金
- C.某公司的职员取得了设计大奖，组委会颁给了他 3 万元奖金
- D.单位退休工人的工资

105.某些食品包装袋内有一小包物质用来吸收氧气和水分，以防止食品腐败，常称“双吸剂”。下列物质属于“双吸剂”的是：

- A.铁粉

- B.碳粉
- C.氯化钙
- D.生石灰

106.“蓝蓝的天空，飘着那白云；白云的下面，跑着那羊群……”这段歌词中赞美的蓝天，其蓝色的形成是由于：

- A.大气对太阳辐射的吸收作用
- B.大气对太阳辐射的反射作用
- C.大气对太阳辐射的散射作用
- D.大气对地面辐射的吸收作用

107.《公务员法》规定，公务员的职务应当对应相应的级别。对此，下列理解正确的是：

- A.同一职务上的公务员其级别相同
- B.公务员职务与级别的对应关系可以根据机关职能确定
- C.公务员在不晋升职务的情况下可以晋升级别
- D.公务员的级别根据其工作实绩确定

108.被称为奥林匹克运动三驾马车的三大组织体系是：

- ①国际奥委会 ②国际单项体育联合会 ③国家奥委会
- ④国际足联⑤国际反兴奋剂委员会 ⑥国际田联
- A.①③④
- B.①③⑤
- C.①②③
- D.①②⑤

109.在北京天安门广场，每天升国旗的时刻与日出同。下列节日中，国旗升起时刻最早的是：

- A.“五一”国际劳动节
- B.“六一”国际儿童节
- C.“八一”建军节
- D.“十一”国庆节

110.下列关于世界语言的叙述中正确的是：

- A.西班牙语和葡萄牙语都是联合国的工作语言
- B.英语是世界上使用人数最多的语言
- C.阿拉伯语在亚洲西部和非洲北部的许多国家中通用
- D.汉语是世界上使用范围最广的语言

111.2008年北京奥运会吉祥物“福娃”——贝贝、晶晶、欢欢、迎迎、妮妮的主体颜色分别为蓝、黑、红、黄、绿，与奥林匹克五环一致，象征五大洲的团结，象征全世界的运动员以公正、坦率的比赛和友好的精神在奥林匹克运动会上友好相见，欢聚一堂，以促进奥林匹克运动的发展。

下列大洲排序与上述福娃顺序一致的是：

- A.亚洲、大洋洲、非洲、欧洲、美洲
- B.亚洲、非洲、欧洲、美洲、大洋洲
- C.欧洲、非洲、美洲、亚洲、大洋洲

D.欧洲、亚洲、美洲、非洲、大洋洲

112.制约和监督权力的关键是:

- A.限制政府权力, 规范政府行为
- B.建立健全制约和监督机制
- C.发扬民主, 健全法制
- D.规范政府权力运作, 打造阳光政府

113. 2007年3月两会火热进行中, 两会是指:

- A.全国政协十届五次会议和全国人大十届五次会议
- B.政协十届四次会议和全国人大十届四次会议
- C.全国政协十届五次会议和全国人大十届四次会议
- D.全国政协十届四次会议和全国人大十届五次会议

114.甲装修公司欠乙建材商场货款5万元, 乙商场需付甲公司装修费2万元。现甲公司欠款已到期, 乙商场欠费已过诉讼时效, 甲公司欲以装修费充抵货款。对此, 下列说法正确的是:

- A.甲公司有权主张抵销
- B.甲公司主张抵销, 须经乙商场同意
- C.双债务性质不同, 不得抵销
- D.乙商场债务已过诉讼时效, 不得抵销

115.下列对世界人口有关问题的预测不准确的是:

- A.人口老龄化趋势将继续发展, 一些国家将成为超高龄国家
- B.白种人在世界总人口的比重逐渐减少
- C.中国仍将是世界上人口最多的国家
- D.发达国家将出现城市“空洞化”趋势

116.甲于2006年6月与乙合谋共同诈骗张某30000元, 甲、乙平分各得15000元。在审查本案期间, 甲主动交代曾在2003年3月间诈骗王某4000元的犯罪事实。在处罚甲诈骗罪时其犯罪金额应为:

- A.30000元
- B.34000元
- C.19000元
- D.15000元

117.李某户籍所在地是甲市E区, 工作单位所在地是甲市D区。2006年3月李某在乙市出差时因涉嫌嫖娼被乙市C区公安分局传唤, 后被该公安分局以嫖娼为由处以罚款500元。在被处罚以前, 李某被留置乙市B区两天。经复议李某对罚款和留置措施提起行政诉讼。

下列对本案有管辖权的法院是:

- ①甲市E区人民法院②甲市D区人民法院
 - ③乙市C区人民法院④乙市B区人民法院
- A.②
 - B.①③④
 - C.①②④
 - D.①②③④

118.在我国古代农业生产发展过程中, 从一定程度上直接破坏了生态平衡的是:

- A. 圩田
- B. 井田
- C. 更名田
- D. 屯田

119. 某县人民政府以发展县域经济为由，在土地利用总体规划以外，批准征用农用地 15 公顷，其中包括基本农田 5 公顷，供该县经济投资开发总公司建设来料加工园区。

下列对该批准行为的表述中错误的是：

- ① 县政府无权批准征用基本农田，也无权批准该宗农用地转为建设用地
- ② 县政府无权批准征用基本农田，但有权批准该宗农用地除去基本农田以外的部分转为建设用地
- ③ 县政府可以先将该基本农田转为一般农用地，然后批准该宗农用地转为建设用地
- ④ 县政府可以先修改土地利用总体规划，然后在该规划范围内批准该宗农用地除去基本农田以外的部分转为建设用地

- A. ①③④
- B. ①
- C. ①②③
- D. ②③④

120. 根据《京都议定书》的规定，到 2010 年，所有发达国家排放的二氧化碳等 6 种气体的数量，要比 1990 年减少 5.2%。俄罗斯既是世界能源生产大国，也是能源消费大国，但是，目前俄罗斯无排减义务，这最可能的原因是：

- A. 俄罗斯工业衰退，能源消费量减小，已退出发达国家行列
- B. 俄罗斯未加入《京都议定书》缔约国
- C. 俄罗斯的国土面积广大
- D. 俄罗斯有广袤的森林区，温室气体的净排放量较小

第五部分 资料分析

(共 20 题，参考时限 20 分钟)

所给出的图、表或一段文字均有 5 个问题要你回答。你应根据资料所提供的信息进行分析、比较、计算和判断处理。

一、根据所给文字资料回答 121~125 题。

2006 年 2 月份，居民消费价格总水平比 2005 年 2 月上涨 2.7%，其中城市上涨 2.5%，农村上涨 3.2%；食品价格上涨 6.0%，非食品价格上涨 1.0%；消费品价格上涨 3.0%，服务项目价格上涨 1.8%。居民消费价格总水平 2006 年 2 月份比 1 月份上涨 1.0%。1~2 月份累计，居民消费价格总水平比 2005 年同期上涨 2.4%。

从八大类别看，2006 年 2 月份同 2005 年 2 月份相比的情况是：

食品类价格同比上涨 6.0%。其中，粮食价格上涨 6.8%，油脂价格上涨 17.4%，肉禽及其制品价格上涨 15.4%，鲜蛋价格上涨 30.0%，水产品价格上涨 3.4%，鲜菜价格下降 10.4%，鲜果价格上涨 7.8%，调味品价格上涨 3.9%。

烟酒及用品类价格同比上涨 1.8%。其中，烟草价格上涨 1.1%，酒类价格上涨 3.2%。

衣着类价格同比上涨 0.2%，其中服装价格上涨 0.5%。

家庭设备用品及维修服务价格同比上涨 2.2%。其中，耐用消费品价格上涨 2.2%，家庭服务及加工维修服务价格上涨 7.1%。

医疗保健及个人用品类价格同比上涨 1.4%。其中，西药价格下降 1.6%，中药材及中成药价格上涨

2.5%，医疗保健服务价格上涨 2.5%。

交通和通信类价格同比下降 0.4%。其中，交通工具价格下降 1.7%，车用燃料及零配件价格上涨 10.0%，车辆使用及维修价格上涨 3.0%，城市间交通费价格上涨 1.0%，市区交通费价格上涨 3.2%；通信工具价格下降 18.4%。

娱乐教育文化用品及服务类价格同比下降 0.8%。其中，学杂托幼费价格下降 1.0%，教材参考书下降 0.9%，文娱费价格上涨 3.0%，旅游价格上涨 6.5%，文娱用品价格下降 0.5%。

居住类价格同比上涨 3.7%。其中，水、电及燃料价格上涨 1.6%，建房及装修材料价格上涨 5.7%，租房价格上涨 4.4%。

121.下列选项中，价格同比上涨比率最高的是：

- A.消费品价格
- B.食品价格
- C.服务项目价格
- D.非食品价格

122.下列选项中，价格同比有所下降的是：

- A.烟酒及用品类价格
- B.居住类价格
- C.交通和通信类价格
- D.医疗保健及个人用品类价格

123.根据上述资料，下列说法能够推出的是：

- I.2006 年 4 月份，蛋类的价格将有所回调
 - II.城市间交通费价格上涨了一元
 - III.学杂托幼费价格下降，是由于国家对教育收费进行了控制
 - IV.中药材及中成药价格与医疗保健服务价格上涨趋势相同
- A.I、II
 - B.I、IV
 - C.IV
 - D.I、II、III、IV

124.下列选项中，同比价格涨幅相差最大的是：

- A.家庭服务及加工维修服务价格与耐用消费品价格
- B.车用燃料及零配件价格与城市间交通费价格
- C.水、电及燃料价格与建房及装修材料价格
- D.鲜果价格与调味品价格

125.根据以上材料，下列叙述正确的是：

- I.同比上涨最高的是鲜蛋价格； II.各类药品的价格与 2005 年同比都有所上涨；
 - III.纺织品价格同比上涨 3.1%； IV.目前的交通费达到了 2 元/次；
- A.I
 - B.I、IV
 - C.II、III
 - D.全部正确

二、根据下表提供的信息回答 126~130 题。

表 1: 某省职工平均工资及差异情况 单位: 元

年份	1995	1996	1997	1998	1999	2000	2001	2002	2003
全省平均	8 250	9 127	9 698	10 233	11 309	12 799	14 620	16 769	18 979
最高工资行业	11 422	12 854	13 779	15 447	17 659	20 113	24 397	29 601	42 077
最低工资行业	4 956	5 424	5 615	5 441	5 561	6 019	6 674	7 151	8 340
高低极差	6 466	7 430	8 164	10 006	12 098	14 094	17 723	22 450	33 737

表 2: “九五”时期以来某省各行各业职工平均工资增长情况 单位: 元、%

行业	1995 年	1996 年	差额	增幅	年均递增
农、林、牧、渔业	4 956	8 340	3 384	68.28	6.7
采掘业	6 502	11 530	5 028	77.33	7.4
制造业	7 913	15 096	7 183	90.77	8.4
电力、煤气及水的生产和供应业	10 905	27 558	16 653	152.71	12.3
建筑业	8 110	13 961	5 851	72.15	7.0
地质勘察业、水利管理业	7 700	10 907	3 207	41.65	4.4
交通运输、仓储及邮电通讯业	10 755	27 665	16 910	157.23	12.5
批发和零售贸易、餐饮业	6 815	11 800	4 985	73.15	7.1
金融、保险业	10 941	3 2396	21 455	196.10	14.5
房地产业	11 422	20 897	9 475	82.95	7.8
社会服务业	9 942	18 124	8 182	82.30	7.8
卫生、体育和社会福利业	8 864	24 869	16 005	180.56	13.8
教育、文化艺术和广播电影电视业	8 510	20 766	12 256	144.02	11.8
科学研究和综合技术服务业	10 385	35 232	24 847	239.26	16.5
国家机关、政党机关和社会团体	8 586	25 307	16 721	194.75	14.5

126.根据表 1, 下列表述不正确的是:

- A.高低工资行业之间职工工资的差额曲线, 与最高工资行业的曲线几乎同步上升
- B.1995~1997 年, 由于社会平均工资相对较低, 差额曲线上升速度相对较慢
- C.1998 年开始, 高工资行业平均工资大幅上升
- D.低工资行业职工平均工资逐年上升, 但上升缓慢

127.根据表 2, 1995~2003 年间, 工资增幅最大的行业是:

- A.科学研究和综合技术服务业
- B.国家机关、政党机关和社会团体
- C.卫生、体育和社会福利业
- D.电力、煤气及水的生产和供应业

128.根据表 2, 下列职工年平均工资和增长速度最高的行业是:

- A.农、林、牧、渔业
- B.采掘业
- C.卫生、体育和社会福利业
- D.地质勘察业、水利管理业

129.根据表 1、2，下列推断不正确的是：

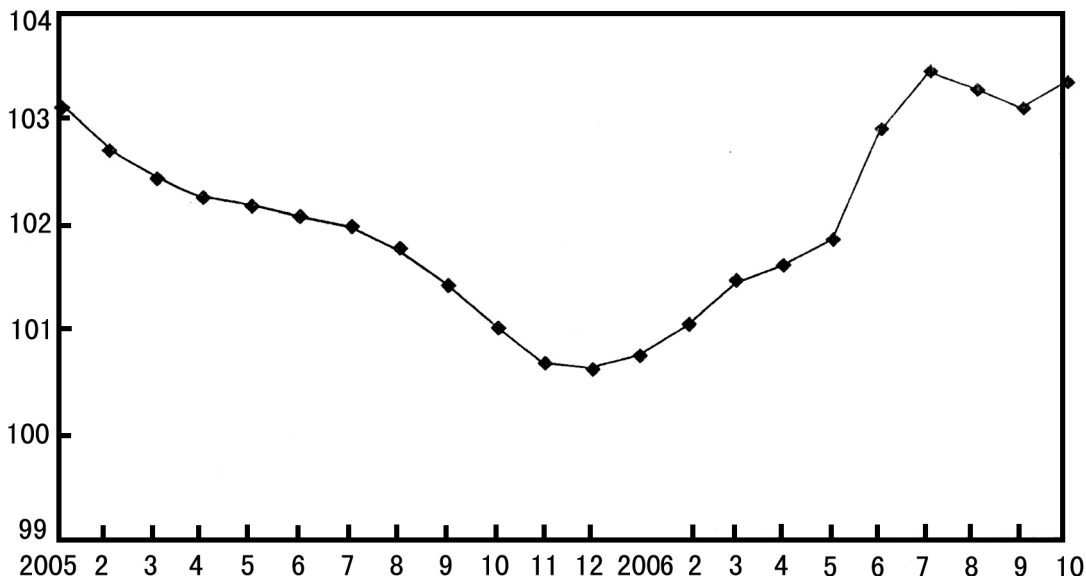
- A.行业之间工资差距逐年扩大
- B.全省各行业职工工资水平的差异总体上随着经济的发展而逐渐缩小
- C.各行业职工工资增长速度呈现高者更高的趋势
- D.较高、较低工资行业的分布变化不大，前者基本集中在技术含量高的新兴行业或垄断行业，后者则一直是传统的劳动密集型行业

130.2003 年职工年平均工资增长最快的行业与 1995 年相比，平均工资增长了多少倍？

- A.1.32 倍
- D.2.07 倍
- C. 2.40 倍
- D.3.42 倍

三、根据下面的信息回答 131~135 题。

2006 年 10 月份，“国房景气指数”为 103.40，比 9 月份上升 0.26 点，比 2005 年 10 月份上升 2.38 点。



全国房地产开发景气指数趋势图

——房地产开发投资分类指数为 101.68，比 9 月份下降 0.04 点，比 2005 年 10 月份上升 0.82 点。2006 年 1—10 月，全国完成房地产开发投资 14 611 亿元，同比增长 24.1%。完成商品住宅投资 10 268 亿元，同比增长 28.4%。其中，经济适用房投资 468 亿元，增长 9.8%。

——资金来源分类指数为 103.42，比 9 月份下降 0.13 点，比 2005 年 10 月份上升 3.38 点。2006 年 1—10 月，全国房地产开发企业到位资金 20 302 亿元，同比增长 29.2%。其中，国内贷款 4 312 亿元，增长 46.4%；企业自筹资金 6 753 亿元，增长 22.7%；利用外资 288 亿元，增长 39.2%。

——土地开发面积分类指数为 101.60，比 9 月份上升 0.73 点，比 2005 年 10 月份上升 6.15 点。2006 年 1—10 月份，全国房地产开发企业完成开发土地面积 18 391 万平方米，同比增长 38.6%。

——房屋施工面积分类指数为 103.39，比 9 月份下降 0.12 点，比 2005 年 10 月份下降 0.08 点。2006 年 1—10 月份，全国房地产开发企业累计完成房屋施工面积 16.98 亿平方米，同比增长 18.8%。其中，住宅施工面积 13.26 亿平方米，增长 19.6%；办公楼施工面积 6 525 万平方米，增长 13.0%；商业营业用房施工面积 2.07 亿平方米，增长 13.6%。

——商品房空置面积分类指数为 103.29，比 9 月份上升 1.35 点，比 2005 年 10 月份上升 3.04 点。截止到 2006 年 10 月底，全国商品房空置面积为 12 241 万平方米，同比增长 9.3%。其中，空置商品住宅 6 680 万平方米，增长 7.7%。

131. 下列选项中分类指数最高的是：

- A. 房地产开发投资分类指数
- B. 资金来源分类指数
- C. 土地开发面积分类指数
- D. 房屋施工面积分类指数

132. 2006 年 1~10 月份，商品住宅投资占房地产开发投资的比率约为：

- A. 80.3%
- B. 74.2%
- C. 68.9%
- D. 70.3%

133. 根据以上资料，下列说法正确的是：

- I. 2006 年 9 月份，经济适用房投资增长最快；
 - II. 商品房空置面积增加是因为大批开发商将房子预留而不销售；
 - III. 2006 年 1 到 8 月，房地产开发景气呈上升趋势；
- A. I
 - B. I、II
 - C. III
 - D. 都不正确

134. 2005 年 1~10 月份，国内贷款占房地产开发企业到位资金的比率约为：

- A. 20.0%
- B. 13.3%
- C. 19.8%
- D. 18.5%

135. 下列选项中，增长比率最高的是：

- A. 住宅施工面积
- B. 房地产开发企业到位资金
- C. 经济适用房投资
- D. 全国房地产开发企业完成开发土地面积

四、根据所给文字资料回答 136~140 题。

2006 年 1~3 季度全省服务业发展的主要特点：

(一) 服务业整体运行态势良好

服务业继续保持高水平稳定运行。2006 年 1~3 季度，服务业增加值完成 2 173.74 亿元，增长 9.4%，增速比上半年高 1.4 个百分点。服务业增加值占全省 GDP 的 37.2%，重点行业发展良好，其中：交通运输仓储和邮政业增长 11.5%，批发和零售业增长 9.6%，金融业增长 8.1%，房地产业增长 9.3%，其他服务业增长 9.2%。

(二) 服务业固定资产投资增势迅猛，投资结构进一步优化

投资增长对服务业的拉动作用明显。2006年1~3季度,全省城镇服务业固定资产投资完成16205亿元,比2005年同期增长36.1%,占全省城镇固定资产投资总额的52.9%。通信设备和计算机服务业固定资产投资比2005年同期增长77.6%,文化和体育业固定资产投资比2005年同期增长2.5倍,交通运输和邮电通信业固定资产投资比2005年同期增长74.2%,科学研究和技术推广服务业固定资产投资比2005年同期增长1.1倍,卫生、社会保障和福利业比2005年同期增长34.1%,住宿、餐饮业固定资产投资比2005年同期增长95.2%,全省房地产开发投资完成734.7亿元,比2005年同期增长32.3%,占城镇固定资产投资的20%。服务业主要行业投资增长不仅改善了基础设施条件,增强了供给保障能力,改善了消费的环境,还带动相关服务产品消费规模扩张,拉动了整体经济增长。

(三) 服务业继续发挥对全省财政收入和安置就业的支撑作用

服务业对税收和就业的支撑作用进一步增强。2006年1~3季度,服务业地方税收完成223.9亿元,占地方税收的60.6%,同比增加41.7亿元,增长22.9%,高于地方税收平均增幅5.6个百分点。服务业税收中贡献较大的房地产业同比增长35.8%,增加19亿元;金融业同比增长24.1%,增加5.3亿元。服务业对营业税增长贡献尤其突出。受房地产业、建筑业、金融业营业税快速增长等因素的影响,全省营业税同比增加30.5亿元,占全省税收收入总增加额的47.5%,比2005年同期提高27.5个百分点,拉动全省税收收入增长8.1个百分点,比上年同期提高3.4个百分点。2006年1~3季度,全省实现实名制就业111.8万人,服务业就业人数达到68万人,占就业总人数的60.8%,其中在社区就业28.1万人,占就业总数的25.1%。

136.服务业主要行业投资增长的好处不包括:

- A.增强了供给保障能力
- B.改善了基础设施条件
- C.改善了消费的环境
- D.带动相关服务产品消费规模缩减

137.根据以上资料,下列选项正确的是:

- I.2006年1~3季度,交通运输仓储和邮政业发展态势良好
 - II.2006年1~3季度,服务业地方税收占全省地方税收的一半以上
 - III.全省从事服务行业的人员占全省从业人员总数的60%以上
- A.I
 - B.I、II
 - C.III
 - D.都不正确

138.下列选项中,增长最快的是:

- A.通信设备和计算机服务业固定资产投资
- B.服务业地方税收
- C.全省房地产开发投资完成
- D.卫生、社会保障和福利业

139.2005年同期全省城镇服务业固定资产投资完成多少亿元?

- A.1305.5
- B.1190.7
- C.1082.3
- D.1298.7

140. 下列说法不正确的是:

- A. 重点行业增长值最高的是交通运输仓储和邮政业
- B. 全省营业税比 2005 年同期增长 27.5%
- C. 住宿、餐饮业固定资产投资比 2005 年同期增长 90%以上
- D. 社区就业持续创高增长率

全部测验到此结束!

请扫描QQ二维码，备注“公务员考生”加QQ
好友，获取曹长远老师精解历年公务员考试申论、
行测、面试真题完整解析资料。

精品资料，尽在掌握!

