

2015年5月30日山东省公务员考试

## 《行政职业能力测验》真题答案解析

### 说明

一、此项测验分为五个部分，共120题，总时限120分钟，各部分不单独计时，但都给出参考时限，供答题时合理分配时间。

二、此项测验科目代码为“1”。请按照要求在答题卡上填写好自己的姓名，涂写好准考证号、科目代码。

三、必须在答题卡上答题：在题本上答题，一律无效。

严禁折叠答题卡！

## 第一部分 言语理解与表达

(共30题，参考时限30分钟)

本部分包括表达与理解两方面的内容。请根据题目要求，在四个选项中选出一个最恰当的答案。

1. 东汉许慎《说文解字》说：“仓颉之初作书，盖依类象形。”如果\_\_\_\_\_“圣人造书”的神秘观念不论，这种认为书法源于象形的说法是有一定依据的，它指出书法是从现实生活中\_\_\_\_\_形体的。但如果认为“象形”就是书法的审美本质，那就失于\_\_\_\_\_了。书法是无形与有形，不象形与象形的统一，抽象与具象的统一。

填入划横线最恰当的一项是：

- A. 除却 模仿 形象  
B. 摒弃 取得 单一  
C. 除去 创造 简单  
D. 撇开 获得 片面

**【答案】D。解析：**

阅读可知，填入第三个空格的词语必须与后面的“书法是无形与有形，不象形与象形的统一，抽象与具象的统一”相呼应。意在强调：必须全面地看到书法无形与有形、不象形与象形、抽象与具象等各个方面，否则，就是“片面”的。根据突点排除法，直接排除ABD三项。

所以，正确选项是D。

2. 目前，全球面临的危机大体上分为两类：一类是由市场自己产生因而也能被市场\_\_\_\_\_的危机，比如当下的金融危机。另一类是受外在条件的\_\_\_\_\_，市场不能解决的危机，比如土地、空气、矿产资源、石油、天然气等等，不是随着价格提高就能增加产品供给量、增强资源约束力所导致的危机。这样的危机是真正值得我们长期关注的。

填入划横线最恰当的一项是：

- A. 扩大 限制  
B. 消融 干扰  
C. 消解 约束  
D. 加剧 影响

**【答案】C。解析：**

阅读可知，填入第一个空格的词语应该与后面的“市场不能解决的危机”相反，是市场能解决的危机。C项中的“消解”正是这个意思。

所以，正确选项是C。

3. 科学进步的过程从某种意义上说，就是试错的过程。虽然有时会因科技欠发达而付出惨痛的代价，但若就此止步不前，无异于\_\_\_\_\_。

填入划横线最恰当的一项是：

- A. 讳疾忌医  
B. 舍本逐末  
C. 一叶障目  
D. 因噎废食

**【答案】D。解析：**

阅读可知，填入空格的词语必须与前面的“虽然有时会因科技欠发达而付出惨痛的代价，但若就此止步不前”相呼应，不能因科技欠发达而付出惨痛的代价就止步不前，就是不能“因噎废食”的意思。所以。正确选项是D。

4. 传统是历史大潮冲击下的砥柱，但是它不应该是阻挡潮流的东西，而应有\_\_\_\_\_潮流走向的作用。传统在经受历史大潮淘洗的同时，也更新着自己。但是这种更新不是使自身\_\_\_\_\_，而是使其精髓愈益凝练，随着历史进展而持续地焕发活力。

填入划横线最恰当的一项是：

- A. 制约 妥协                  B. 扭转 改变                  C. 引导 消亡                  D. 规范 迷失

**【答案】D。解析：**

阅读可知，填入第一个空格的词语必须与前面的“不应该是阻挡潮流的东西”相呼应，A项中的“制约”、B项中的“扭转”都有阻挡的意思，与题干语意不符，排除。

填入第二个空格的词语必须与前面的“更新自己”相呼应，C项中的“消亡”明显程度过重，排除。所以，正确选项是D。

5. 互联网时代，热点事件层出不穷。“新闻”盖“旧闻”也符合传播规律。“热点”可以变“冷”，但涉事单位的问责处理机制要继续运转并发挥作用。如何运转需按照法律法规和制度运行，而不是根据公众关注度的高低、媒体参与热情的变化而“\_\_\_\_\_”。

填入划横线最恰当的一项是：

- A. 随机应变                  B. 急不择途                  C. 顾此失彼                  D. 八面玲珑

**【答案】A。解析：**

阅读可知，填入空格的词语必须与前面的“不是根据公众关注度的高低、媒体参与热情的变化”相呼应，不是根据公众关注度的高低、媒体参与热情的变化，就是不能“随机应变”的意思。

所以。正确选项是A。

6. 生命，是一树花开，或热烈或寂寞。生命中，总有一些令人唏嘘的空白，有些人让你牵绊，却不是相守；有些东西让你\_\_\_\_\_，却不能拥有；有些错过让你留恋，却终生遗憾。总想寻一处幽林，安养生活浅写岁月；总想借一些日子，\_\_\_\_\_向日葵的温暖，栽种阳光的花瓣。春花秋月，夏萤冬雪，怀一心宁淡，安然度日。经年流转，透过指尖的温度，\_\_\_\_\_岁月静好，这一路走来，你会发现，生活于我们，温暖，一直是一种\_\_\_\_\_；于生活的海洋中冲浪，云帆尽头，轻回眸，处处是别有洞天。

填入划横线最恰当的一项是：

- A. 羡慕 播种 期许 牵引                  B. 向往 播撒 期许 指引  
C. 心动 播种 期待 指引                  D. 爱慕 播撒 期待 牵引

**【答案】A。解析：**

阅读可知，填入第一个空格的词语必须与前面的“东西”相呼应，D项中的“爱慕”一般用来指人，搭配不当，排除。

填入第四个空格的词语必须与前面的“温暖”相呼应，B、C两项中的“指引”是指示、引导的意思，一般用来说某人或某种思想对人们的指示、引导，与“温暖”搭配不当，排除。

所以，正确选项是A。

7. 免费与管理并不冲突，反而可以\_\_\_\_\_。把管理等同于收费，甚至把收费当成管理的目标，免费了就\_\_\_\_\_地“不收费不担责”，疏于管理，甚至无人过问，这不仅有违公共管理的价值追求，而

且难以将免费的实惠落到实处。

填入划横线最恰当的一项是：

- A. 取长补短 顺理成章  
B. 相得益彰 堂而皇之  
C. 求同存异 理直气壮  
D. 合二为一 冠冕堂皇

**【答案】B。解析：**

阅读可知，填入第一个空格的词语必须与前面的“免费与管理并不冲突”相呼应，有二者相互配合、促进的意思，C、D两项明显不符，排除。

填入第二个空格的词语必须与后面的“这不仅有违公共管理的价值追求，而且难以将免费的实惠落到实处”相呼应，有明显的贬义色彩。对比“顺理成章”和“堂而皇之”，只有“堂而皇之”有贬义，因此排除A项。

所以，正确选项是B。

8. 对于中国人来说，院落不仅是一个物理的空间，而且是家的核心。有院落的地方，就有我们最真实淳朴的情感与记忆。巷、道、瓦、檐、廊等这些\_\_\_\_\_，形成了传统院落独具特色的形式美感和空间氛围。中国人几千年来形成的特有的生活方式、人文情怀，决定了我们对自己栖身的建筑有着自己独特的文明特征识别，而院落就可以将这一特征表达得\_\_\_\_\_。

填入划横线最恰当的一项是：

- A. 设计 一览无余  
B. 结构 尽善尽美  
C. 元素 淋漓尽致  
D. 标志 出神入化

**【答案】C。解析：**

阅读可知，填入第二个空格的词语必须与前面的“表达”相呼应，“表达”与“淋漓尽致”属于固定搭配。根据突点排除法，直接排除ABD三项。

所以，正确选项是C。

9. 人类历史进程充分表明，权力最终能否被关进“笼子”，绝非取决于少数人的主观意志而是取决于对权力\_\_\_\_\_力量的大小。

- A. 制衡  
B. 对抗  
C. 约束  
D. 规范

**【答案】A。解析：**

阅读可知，填入第空格的词语应该与前面的“权力最终能否被关进‘笼子’”相呼应，有制约、约束之意。由此可以排除B、D两项。

对比A、C两项，“制衡”强调用法律制度约束从而达到平衡，与“权利”是固定搭配；“约束”有束缚、限制之意，使用的范围更广。相比而言，“制衡”在本题中搭配更佳。排除C项。

所以，正确选项是A。

10. 没有无用的知识，只有还没派上用场的知识。人们往往觉得既然用不上，何必为那些\_\_\_\_\_的东西浪费时间。可他们\_\_\_\_\_了知识之间的相互联系。知识是关于世间万物的信息，获得一种知识相当于多了一个看世界的角度，从这个角度看过去，一些原有的认识会发生改变，从而又\_\_\_\_\_出新的问题和灵感。

填入划横线最恰当的一项是：

- A. 细枝末节 忽略 激发  
B. 繁文缛节 掩盖 萌生  
C. 零零星星 忘记 诞生  
D. 杂乱无章 淡化 进发

**【答案】A。解析：**

阅读可知，填入第一个空格的词语必须与前面的“知识”相呼应，B项的“繁文缛节”指多余的的规定或礼仪，D项的“杂乱无章”指文章或东西杂乱无条理，与题干语意明显不符，排除。

对比 AC 两项，第二个词语不好区分。看第三个词语。

填入第三个空格的词语必须与后面的“新的问题和灵感”相呼应，“诞生”指人或动物出生，与语境搭配不符，因此排除 C 项。

所以，正确选项是 A。

11. 对微生物进行科学研究，需要超出常规的研究思路与工具。说到工具，很多人肯定会首先想到显微镜。但显微镜只适合观察，如果要进行生化分析的话，琼脂的作用更加重要。如果你去过微生物实验室，你会发现大家最常用的实验工具就是培养皿，里面铺着一层富含营养的琼脂。每一个细菌都能在琼脂表面单独长在一个肉眼可见的菌群。每个菌群里含有成千上万个完全一样的细菌，这在生物学术语里叫做一个“克隆”。因为琼脂是半固态的，细菌的位置被固定住了，无法在菌群之间自由往来，这就等于将一个细菌克隆并扩增到足够大的量，却没有遭受其他细菌的污染，只有这样，科学家们才能对其进行生化分析。

这段文字主要说明：

- A. 在微生物研究中显微镜的作用有限  
B. 琼脂在生化分析中发挥着重要作用  
C. “克隆”技术使生化分析更具操作性  
D. 在实验室里科学家是如何进行生化分析的

**【答案】B。解析：**

本题属于“概括主旨型”。

阅读可知，题干的内容关键词是“琼脂”，主要描述了琼脂在生化分析中发挥着重要作用：如果要进行生化分析的话，琼脂的作用更加重要……大家最常用的实验工具就是培养皿，里面铺着一层富含营养的琼脂……因为琼脂是半固态的……只有这样，科学家们才能对其进行生化分析。

ACD 三项中都没有关键词“琼脂”，可以直接排除。

所以，正确选项是 B。

12. 如今，图书信息浩如烟海。表面上看，读者具有无限的自由度，可以在茫茫书海中自由选择。但事实上，他们无形中成了大众媒介的俘虏。大众媒介具有强大的议程设置功能，他们通过图书广告、阅读排行榜、书评人推介、对图书进行定向推送，最后呈现在读者眼前的，往往只是一个狭窄的阅读菜单。在新媒体环境下，这种定向推送就更为稀松平常了。新媒体在某种程度上，就是一个巨型的图书搜索引擎，大家都在利用新媒体这张网捕捞图书，结果收获的多是同质化的东西。即是说，新媒体环境下的阅读很容易沦为“格式化”的阅读：不仅所选择的阅读内容被格式化，甚至连阅读方式、阅读趣味也会被“格式化”。而且这种“格式化”阅读带有很大的隐蔽性，不易被发现。

这段文字意在说明：

- A. 大众媒介和新媒体对阅读产生强烈影响  
B. 格式化阅读容易使读者形成思维定势  
C. 图书市场应为读者提供多元的阅读选择  
D. 读者应理性看待媒体推送的阅读菜单

**【答案】D。解析：**

本题属于“推断文意型”。

阅读可知，题干属于转折结构，转折结构强调的是转折后面的内容。题干说：“但事实上，他们无形中成了大众媒介的俘虏……大众媒介……对图书进行定向推送，最后呈现在读者眼前的，往往只是一个狭窄的阅读菜单……新媒体环境下的阅读很容易沦为“格式化”的阅读……”

透过字里行间可以看出，题干作者对“媒体推送的阅读菜单”有明显的贬义，意在提醒读者：应理性看待媒体推送的阅读菜单。

所以，正确选项是 D。

13. 何谓魔幻现实主义？简单地说就是给现实披上一层光怪陆离的魔幻外衣，但又不损害现实的本相。这是 20 世纪拉美最重要的小说流派，发轫于 30 年代，早期主要表现为对美洲印第安人和黑人神话

传说的发掘，40年代后演化为对拉美社会现实的深刻反思，通过各种神话原型的显现以展示拉美文化的混杂和社会的畸形。而魔幻现实主义之所以能在拉美生根开花，与这块大陆独特的文明和社会现实密不可分。

这段文字接下来最可能介绍的是：

- A. 拉美作家如何在作品中体现对民族命运和现实生活的向往
- B. 反映拉美社会现实的魔幻现实主义代表作家和作品
- C. 拉美文学随着魔幻现实主义的兴盛而呈繁荣局面
- D. 拉美文明和社会特点对魔幻现实主义的影响

**【答案】D。解析：**

本题属于“推断文意型”。要求考生根据题干资料，推测“这段文字接下来最可能介绍的”是什么。

阅读可知，作者首先介绍了魔幻现实主义在拉美的发轫和演化，题干最后说：“而魔幻现实主义之所以能在拉美生根开花，与这块大陆独特的文明和社会现实密不可分”本着承上启下的原则，接下来最可能介绍的应该是：进一步阐明拉美文明和社会特点与魔幻现实主义的关系。

所以，正确选项是D。

14. 处于高度工业化和城市化进程中的中国社会，正面临着能源紧张、交通堵塞、环境污染等许多治理难题，化解这些难题都将需要一个长期的、艰难的过程。相对而言，食品药品领域的治理将更容易事半功倍。与西方发达国家相比，中国社会现在主要的食药安全风险是人为欺诈掺假造成的风险和来自环境的风险。政府可以通过综合运用行政监管、司法诉讼、经济奖惩、标准建设等多种手段进行治理。

这段文字意在说明：

- A. 食药安全治理可能在中短期内取得成效
- B. 政府对食药安全的治理能力须全面提升
- C. 食药安全治理是个长期复杂的系统工程
- D. 应将食药纳入安全治理的综合体系之中

**【答案】A。解析：**

本题属于“推断文意型”。

阅读可知，题干属于转折结构，转折结构强调的是转折后面的内容。题干说：“……化解这些难题都将需要一个长期的、艰难的过程。相对而言，食品药品领域的治理将更容易事半功倍。”意在强调：与化解能源紧张、交通堵塞、环境污染等许多治理难题相比，食药安全治理可能在中短期内取得成效。

所以，正确选项是A。

15. 在利益多元、信息网络高度发达的今天，政府的施政离不开公众参与。闭门造车、我行我素，很容易跟公众产生分歧，并不得不面对来自社会舆论、维稳考量甚至上级机关的压力。公众还往往因为对决策缺乏预知和了解而对政府产生不信任感，影响政府公信力。从这个意义上，引入公众参与是政府在施政过程中的必要选择。

这段文字意在说明：

- A. 如何维护公众的知情权
- B. 公众参与政府施政的必要性
- C. 如何保证政府执政的有效性
- D. 政府决策过程透明化的重要性

**【答案】B。解析：**

本题属于“推断文意型”。

阅读可知，题干属于证明结构，证明结构强调的论点而不是论据。题干首先罗列了一些论据，最后用“从这个意义上”这个典型的论点逻辑关键词引出论点：引入公众参与是政府在施政过程中的必要选择。

所以，正确选项是B。

16. 长期耐心细致的普法教育活动，确实有助于增强人们对于法律的信心，但与此同时，我们也要看到，纸面上的法律并不能自动保障人们的权利，仅仅通过法制宣传与教育，并不能全面深入地促进人们对于法律的信仰。纸面上的法律条文到底意味着什么，还要依赖法律机构的运作者来表达。换言之，以法官为核心的法律人团队，才是法律最根本的载体；法律人的职业活动，才是活生生的法律；法律人的一言一行，一举一动，无不昭示着法律的真实面目。因此，如果要让社会公众知道法律是什么，与其举行一百场法律讲座，发放一千份宣传资料，还不如严格按照法律精神，进行一次诉讼活动，一次公正的诉讼，尽管亲见亲历者人数有限，但是通过口耳相传，就会形成一种普遍的社会舆论：法律人值得信赖，法律值得信仰。

这段文字意在强调：

- A. 普法活动的宣传教育效果逊色于法庭诉讼
- B. 法律的精神实质需要公众亲身体会才能感受到
- C. 法律条文的意义依赖于法律机构的运作者表达
- D. 法律人的职业活动有助于公众建立法律信仰

**【答案】D。解析：**

本题属于“推断文意型”。

阅读可知，题干的内容关键词是“法律信仰”，在逻辑上属于证明结构，证明结构强调的论点而不是论据。题干首先指出普法教育活动并不能深入地促进人们对于法律的信仰，接着以“换言之”指出：以法官为核心的法律人团队，才是法律最根本的载体，法律人……，法律人……。最后给出论点：……一次诉讼活动，一次公正的诉讼，尽管亲见亲历者人数有限，但是通过口耳相传，就会形成一种普遍的社会舆论：法律人值得信赖，法律值得信仰。

由此可知，题干意在强调：法律人的职业活动对公众建立法律信仰的重要作用。因此D项正确。

本题的C项容易误选。错选C项的原因在于丢失了“对于法律的信仰”这个关键词。

所以，正确选项是D。

17. 我国的经济发展用30年走完了发达国家200年的历程，大气污染也因此有了积聚特征，被学界称为“复合型污染”。“复合型污染”就像是人得了综合症，临床症状有许多，细颗粒物(PM2.5)就是症状的综合反映之一。各种病因之间也有千丝万缕的联系——大气中有多种污染物，污染物之间还可以互相转换。这种情况下，如果不摸清所有的病症，盲目地治疗一个症状就可能加重另一个症状。

这段文字意在：

- A. 说明我国大气污染的特点和治理方向
- B. 介绍我国环境污染的历史背景和表现
- C. 说明控制细颗粒物的重要性和合理手段
- D. 介绍大气污染物对环境的综合性影响

**【答案】A。解析：**

本题属于“推断文意型”。

阅读可知，题干的内容关键词是“大气污染”，在逻辑上属于并列结构，理解并列结构不能忽视并列的各个方面内容。题干首先罗列了我国大气污染的特点，最后指出必须摸清所有的病症，不能盲目地治疗。意在说明：我国大气污染的特点和治理方向。

所以，正确选项是A。

18. 人类自从脱离了茹毛饮血的蛮荒时代，科技便伴随着我们一直向前。然而，现代科技已强大到令普通人望而生畏的地步。于是，\_\_\_\_\_。当前，随着人民群众生活的日益丰富多彩，科技的触角已伸入到生活的方方面面，理解科学变得日益重要。小到每日开门七件事，大到参与社会公共事务决策，今天人们科学素养的高低，不仅关乎个体的生活质量，也关乎到国家民族的发展大业。

填入划横线部分最恰当的一句是：

- A. 人们对科技与社会发展的关系产生一些误解      B. 了解普通人对科技发展的态度变得十分必要  
C. 如何使科技造福于百姓生活备受关注      D. 拉近公众与科学的距离就成为一项社会课题

**【答案】D。解析：**

本题属于“推断文意型”。

阅读可知，填入划横线部分的句子必须与前面的“现代科技已强大到令普通人望而生畏的地步”相呼应。所谓“令普通人望而生畏”，意在强调科技与公众之间的距离已经太大。由此可知，在划横线部分填入D项的“拉近公众与科学的距离”，可以形成最佳的语境呼应。根据突点排除法，可以直接排除A、B、C三项。

所以，正确选项是D。

19. 一个民族作为稳定的共同体而存在，维系它的核心是内在的价值认同。文学“虚无”历史，以相对主义的态度从文化源头和根脉处进行拆解，剔除了彰显历史趋向、代表文明进步的文化价值。历史人物和历史事件所体现的政治价值、伦理价值、审美价值，是经过历史积淀和检验所形成的结论，这些结论构成了具有稳定性的价值坐标。一旦这座价值坐标被铲除夷平，也就没有了野蛮与文明、落后与进步的分野，没有了是非之辩、善恶之分、美丑之心，这只能导致文化价值进一步碎片化，造成种种精神乱象，影响民族文化认知的深度和广度。

根据这段文字，下列特征符合文学“虚无”历史现象的是：

- A. 学说体系支离破碎      B. 事件阐释生搬硬套  
C. 历史评论去价值化      D. 文化认知浅显庸俗

**【答案】C。解析：**

本题属于“推断文意型”。

阅读可知，题干说：文学“虚无”历史，……剔除了彰显历史趋向、代表文明进步的文化价值。因此，文学“虚无”历史，就是指剔除……文化价值，也就是指C项：历史评论去价值化。

ABD三项都缺少“价值”这个关键词，可以直接排除。

所以，正确选项是C。

20. 智慧以一定的知识为前提，在人的思考和实践中体现出来，但它本身是不稳定的、非规范性的，表现为某种洞幽烛微、触类旁通、融会贯通、举重若轻的能力。知识可以让人按照已有的方式思考和行动，智慧则使人立足已知探索未知，善于发现问题、提出问题、分析问题、进而自主地、创造性解决问题。而哲学思想是人类智慧的结晶。理解已有的哲学、感悟其中闪耀的智慧之光，有助于启迪，催化我们本已有根的智慧。

这段文字的关键词可概括为：

- A. 智慧 能力 问题      B. 智慧 知识 哲学  
C. 知识 思考 实践      D. 知识 哲学 创造

**【答案】B。解析：**

本题属于“概括主旨型”。

阅读可知，题干首先说“智慧……”，然后说“知识……”，最后说“哲学……”。

所以，正确选项是B。

21. 法律的权威源自人民的内心拥护和真诚信仰。有了好的法律，没有严格执行，就会形成“破窗效应”，损害法律尊严，动摇法律根基。但是，在强调法制时，不少人却有意无意的将“民”排除在外，津津乐道所谓“法治不是治民，而是治官”。的确，我们谈依法治国，依法执政和依法行政，主要是针对行使权力者而言的，要求切实抓住领导干部这个“关键少数”。然而，无论治国、执政还是行政，都需要公民的配合。公民既需要作为相对人服从相关权力行使的结果，又需要根据法定

规定，通过各种途径和形式，参与到“管理国家事务、管理经济和文化事业、管理社会事务”中来，所以，一方面要强调党员干部尤其是领导干部起好模范带头作用，另一方面要坚持走法治群众路线，扎实培育公民守法意识。要让人们确实体会到并铭记在心，公民不履行法定的义务，和行政主体不履行法定职责一样，都是对公共利益和他人合法权益的侵犯；违法或者不当的私人行为应当依法制裁和纠正。

这段文字意在说明：

- A. 在遵守既有法律的基础上建立健全政府依法决策机制
- B. 法律实施的实效性依赖于公民参与
- C. 法律是全体人民总体意思表示的一致
- D. 违法或者不当行使权力应当受到制裁和纠正

**【答案】B。解析：**

本题属于“推断文意型”。

阅读可知，题干的内容关键词是“法律”和“公民”，在逻辑上属于转折结构，转折结构强调后面的内容。题干说：但是，在强调法制时，不少人却有意无意的将“民”排除在外……然而，无论治国、执政还是行政，都需要公民的配合。意在强调：法律实施的实效性依赖于公民参与。

ACD 三项都缺少“公民”这个关键词，可以直接排除。

所以，正确选项是 B。

22. 库兹涅茨的倒 U 曲线理论认为：“在经济增长的初期阶段，尽管人们的收入都不减少，但社会收入分配却变得不平等；随着经济的继续增长，收入分配不平等的程度逐渐减轻；经济增长达到更高水平以后，收入分配又变得平等。”这种理论假说在一定程度上符合西方发达国家经济增长的历史实际，但他又指出，重复发达国家以往的模式，以为收入不平等促进了经济增长，欠发达国家强化当前的收入不平等就是必要的，这是一种“危险的类比”。在西方经济发展实践中，解决公平问题不是搞自然而然的过渡，而是通过政府和社会的积极干预，消除工业化和城市化带来的不利影响，提高广大人民群众收入在国家不断增长的收入中所占的比例，对高收入者形成法律和政治压力，从而使得社会收入分配转向公正。

下列说法与这段文字最相符的一项是

- A. 经济总量增长不会自发地促进社会收入公平分配
- B. 国家通过宏观调控可以有效监督和保证社会公平
- C. 发达国家的收入分配模式是遵循效率优先原则的
- D. 倒 U 曲线理论不适于欠发达国家的经济增长模式

**【答案】B。解析：**

本题属于“概括主旨型”。

阅读可知，题干属于问题对策结构，强调的是对策而不是问题。

题干首先提出问题：这种理论假说在一定程度上符合西方发达国家经济增长的历史实际，但……以为收入不平等促进了经济增长，欠发达国家强化当前的收入不平等就是必要的，这是一种“危险的类比”。然后给出解决问题的对策：……而是通过政府和社会的积极干预，……从而使得社会收入分配转向公正。也就是对应 B 项：国家通过宏观调控可以有效监督和保证社会公平。

所以，正确选项是 B。

23. 周代独特的文明组织方式从文化上看是不区分宗教与道德，不严格区分礼俗与法律，而是以一种包容性很大的礼，达到一种弥散性的文化目标。从政治管理到日常生活，并不被认为是不同质的社会领域，周人并不认为这些领域应遵循不同的法则，而是认为都可以由礼来整合规范，在此意义上，

\_\_\_\_\_。



填入划横线部分最恰当的一句是：

- A. 我们甚至不必深究周代的政治制度了  
B. 研究礼的形式和各种仪制就尤为重要  
C. 礼可以说是一种政教德法合一的体系  
D. 可以说华夏文明从一开始就很重礼法

**【答案】C。解析：**

本题属于“推断文意型”。

阅读可知，填入划横线部分的句子必须与前面的题干内容相呼应。题干说：周代……不区分宗教与道德，不严格区分礼俗与法律，……不认为这些领域应遵循不同的法则，而是认为都可以由礼来整合。由此可知，在划横线部分填入C项的“礼可以说是一种政教德法合一的体系”，可以形成最佳的语境呼应。根据突点排除法，可以直接排除A、B、D三项。

所以，正确选项是C。

24. ①关于世家与学术文化之间的关系，陈寅恪曾有精到论述  
②近代亦有“五大文化世家”，如广东新会荣氏，江南钱氏等  
③这世代相袭的文化家族，如繁星般遍布中华大地  
④早期的文化世家有魏晋时期的王、谢家族，史称“王谢风流”  
⑤历史上国人的治学十分看重“家学渊源”  
⑥形成一张中国文化发展的版图

将以上6个句子重新排列，语序正确的是：

- A. ①⑤②⑥④③      B. ⑤②③①④⑥      C. ⑤①④②③⑥      D. ①④②⑤⑥③

**【答案】C。解析：**

本题属于“推断文意型”。要求根据语句之间的逻辑关系进行排序。

对比四个选项的排列顺序可以发现，其中A、D两项以①为首句，B、C两项以⑤为首句。因此，首句必在①⑤之中。句①描述“世家与学术文化之间的关系”，句⑤描述历史上国人的治学十分看重“家学渊源”，相比较说，句⑤引出“家学”的话题，具有引导性，适合作为首句，而句①则直接说“世家与学术文化”，显得过于突兀，不能作为首句。由此可以排除A、D两项。

比较B、C两项，区别在于“⑤②”和“⑤①”的不同组合。阅读可知，句②说：近代亦有“五大文化世家”，如广东新会荣氏，江南钱氏等。其中的“近代亦有”无所依托，因此，⑤的后面不可能紧接着是②。由此排除B项。

所以，正确选项是C。

25. ①初始条件中一个微小的变化，都会对结果造成巨大影响  
②弹球初始位置细微的差别以及每次你在拉动弹簧时的力量差异  
③弹球游戏就是利用了混沌性  
④如果某个系统具有混沌性，那么该系统就该对初始条件具有敏感的依赖性  
⑤都会成为改变弹球在桌面弹跳方向的重要原因  
⑥你射出的每一个球都会沿着不同路径前进

将以上6个句子重新排列，语序正确的是：

- A. ①③⑥②④⑤      B. ②⑥⑤④①③      C. ③⑤②④⑥①      D. ④①③⑥②⑤

**【答案】D。解析：**

本题属于“推断文意型”。要求根据语句之间的逻辑关系进行排序。

对比四个选项可以发现，首句各不相同。因此，只要确定了首句，就可以确定正确选项。

阅读可知，句子①④都是讨论“初始条件”，句子②③都是讨论“弹珠”，相比较说，句子①④更具有宏观的引导性，因此，首句必须是①④中的一句。由此可以排除BC两项。

对比A、D两项。①讨论的是“初始条件中一个微小的变化对结果”的影响，应该是对初始条件话

题展开的讨论，不可能是首句。由此可以排除 A 项。

所以，正确选项是 D。

26. ①早期人们在地球上通过光学望远镜观察火星，看到火星上阴影的变化，误以为火星上有河流和植物，甚至还有“火星人”的存在  
②长久以来，很多人一直在幻想这个类地行星可以成为地球人移民外星的第一个目的地  
③人类最初产生对火星的兴趣几乎全都是出于误解  
④火星的两极和中纬度地区有冰盖，地表拥有丰富的氧，硅，金属和组成岩石的何种元素  
⑤即使后来证明这些猜想全都是误会，人类仍然对这个近邻怀有浓厚的兴趣  
⑥人类希望在未来，火星可以为地球提供各种矿产

将以上 6 个句子重新排列，语序正确的是：

- A. ①②③④⑥⑤      B. ③①⑤④⑥②      C. ①⑤③④②⑥      D. ③⑤②①⑥④

**【答案】B。解析：**

本题属于“推断文意型”。要求根据语句之间的逻辑关系进行排序。

对比四个选项的排列顺序可以发现，其中 A、C 两项以①为首句，B、D 两项以③为首句。因此，首句必在①③之中。句①描述人们对火星的观察，句③描述人类对火星的误解，句①描述人类对火星的一些具体误解，相比较说，句③更具有引导性，适合作为首句，而句①则像是对句③话题的展开，不适合作为首句。由此可以排除 A、C 两项。

比较 B、D 两项，区别在于“③①”和“③⑤”的不同组合。阅读可知，句⑤说：即使后来证明这些猜想全都是误会。其中的“这些猜想”无所指代，因此，⑤不可能紧接在③的后面。由此排除 D 项。所以，正确选项是 B。

27. 由于蚕丝特有的化学特性使绣品难以在四川潮湿的气候下长期保存，所以在四川地区考古发现的绣品极少，无法以考古的方法来追溯蜀绣的起源。但是，蜀绣仍以其他形式留下了吉光片羽。1986 年，在成都三星堆遗址上出土了一件距今约 4800 年的青铜立人像，该铜人身穿龙纹礼衣，礼衣上有复杂的龙纹、兽纹、变体云纹雷纹。以当时的纺织工艺水平，这些装饰花纹不可能是纺织机织出来的。由于其纹样的表现手法和 1974 年在陕西宝鸡出土的西周刺绣残痕一致，所以最有可能是用锁绣法绣制的，这一推断将蜀绣的历史上溯到了与中原夏朝文明同时代的古蜀三星堆文明。

下列说法与原文相符的是：

- A. 锁绣法起源于蜀绣      B. 早期的蜀绣大多用于礼衣的制作  
C. 青铜立人很可能身穿的是刺绣礼衣      D. 难以通过出土绣品的制作工艺推断其年代

**【答案】C。解析：**

本题属于“细节对比题”。

A 项中的“锁绣法起源于蜀绣”在题干中没有提及。因此 A 项说法与原文不符，排除。

B 项中的“早期的蜀绣大多用于礼衣的制作”在题干中也没有提及。因此 B 项说法与原文不符，排除。

C 项，题干说：“青铜立人像，该铜人身穿龙纹礼衣，礼衣上有复杂的龙纹、兽纹、变体云纹雷纹……这些装饰花纹……和 1974 年在陕西宝鸡出土的西周刺绣残痕一致”（隐含：青铜立人很可能身穿的是刺绣礼衣）。因此，C 项说法与原文相符。

D 项，题干说：“这一推断将蜀绣的历史上溯到了与中原夏朝文明同时代的古蜀三星堆文明”（隐含：可以通过出土绣品的制作工艺推断其年代）。因此 D 项说法与原文不符，排除。

所以，正确选项是 C。

28. 如今通过量子力学和广义相对论的描述，人类对于自然界的理解已经远远超越了 100 年前对于宇宙

的机械化的理解。从基本粒子的行为到宇宙的形态，从微观到宏观，现代物理学的这两大支柱，几乎可以解释人们现在所观察到的一切自然现象。\_\_\_\_\_，物理学的这两大支柱各自主宰了微观和宏观领域，却彼此难以相容，因此造成了物理学历史上最大的裂缝。尽管无数一流的物理学家试图解决这个难题，但经过了 80 多年的努力，时至今日，人们对于这个困境还是一筹莫展，不知如何是好。

填入划横线部分最恰当的一句是：

- A. 但是事实远没有看上去的那么美  
B. 人们在深入研究后意外发现  
C. 理想和现实的冲突往往令人啼笑皆非  
D. 与其他自然科学的科研经历相似

**【答案】A。解析：**

本题属于“推断文意型”。

阅读可知，填入划横线部分的句子必须与空格前后的内容相呼应。题干说：几乎可以解释人们现在所观察到的一切自然现象。\_\_\_\_\_，物理学的这两大支柱各自主宰了微观和宏观领域，却彼此难以相容，……。由其中强烈的转折意味可以推知，在划横线部分填入的句子必须具有引导转折，表述“现代物理学的两大支柱并没有那么强大”的意思。只有 A 项符合题干语意的这个转折要求。根据突点排除法，可以直接排除 B、C、D 三项。

所以，正确选项是 A。

29. 随着经济发展，城市的社会结构正发生深刻变迁。邻里之间原本融洽和谐的关系，因冰冷的钢筋混凝土森林的耸立而逐步瓦解。传统邻里关系虽令人怀想，却未必值得无条件推崇。在某种程度上，以熟悉程度为评判尺度、以交情深浅为处事标准的人际交往方式，与现代社会更注重契约与法制的精神是背道而驰的。在市场意识深入人心的当下，人们的权益意识不断提高，对个人隐私的呵护也日益加强。用一扇门来阻隔外界的纷扰、他人的窥探，具有一定的合理性。客观地说，适应陌生人社会的行事规则，是一个现代城市人必备的素质。

对邻里关系的淡漠，作者持有的态度是：

- A. 惋惜，反映了城市化进程中人与人的隔阂  
B. 赞成，认为这对斩断中国的人情纽带有着重要的意义  
C. 理解，认为这符合现代社会保护隐私、遵循法制的要求  
D. 无奈，认为这是城市化进程中不可避免的代价

**【答案】C。解析：**

本题属于“推断文意型”。

阅读可知，题干在逻辑上属于转折结构，转折结构强调后面的内容。题干说：传统邻里关系虽令人怀想，却未必值得无条件推崇……对个人隐私的呵护也日益加强。用一扇门来阻隔外界的纷扰、他人的窥探，具有一定的合理性。……客观地说，适应陌生人社会的行事规则，是一个现代城市人必备的素质。意在强调：这符合现代社会保护隐私、遵循法制的要求。

所以，正确选项是 C。

30. 我国儿童电影发展的现实境况的确不容乐观：我国每年拍摄 40 到 50 部儿童电影，其中 1/10 质量比较好，但缺少专门的人员或机构进行市场宣传和推广，谈不上院线支持，更谈不上让中小學生知晓，所以能够上映的儿童电影少之又少，即使上映也难逃“影院一日游”。那是不是意味着儿童电影在中国已经穷途末路？数据表明，我国未成年人数已达 3.67 亿，这是一个庞大的受众群体。目前的家长多是 70 后、80 后，他们很多人有观影习惯和电影情结，而且随着生活水平的不断提高，看电影越来越成为人们重要的精神需求。因此，带着孩子去看电影也是流行趋势。

这段文字意在说明：

- A. 我国儿童电影发展现状十分惨淡  
B. 我国儿童电影市场其实大有可为

C. 影片质量成为阻碍电影发展的主要因素

D. 生活水平的提高有助于电影市场的拓展

**【答案】B。解析：**

本题属于“推断文意型”。

阅读可知，题干的内容关键词是“儿童电影”，在逻辑上属于转折结构，转折结构强调的后面的内容。题干首先指出我国儿童电影发展的现实境况的确不容乐观，接着话锋一转，指出：目前的家长多是70后、80后，他们很多人有观影习惯和电影情结，……带着孩子去看电影也是流行趋势。意在强调：我国儿童电影市场其实大有可为。

所以，正确选项是B。

**第一部分结束，请继续做第二部分！**

## 第二部分 常识判断

(共20题，参考时限10分钟)

**根据题目要求，在四个选项中选出一个最恰当的答案。**

31. 全国人大及其常委会和国务院行使不同的职权，其中全国人大常委会行使的职权是：

A. 批准省、自治区、直辖市的区域划分

B. 决定省、自治区、直辖市的部分地区范围内进入紧急状态

C. 决定同外国缔结的条约和重要协定的批准和废除

D. 审查和批准国民经济和社会发展规划和计划执行情况的报告

**【答案】C。解析：**

根据现行《宪法》第六十七条规定，全国人民代表大会常务委员行使下列职权：（十四）决定同外国缔结的条约和重要协定的批准和废除。

所以，正确选项是C。

32. 根据我国《选举法》规定，关于全国和地方各级人民代表大会的代表候选人提名产生，下列说法不正确的是：

A. 选民10人联名推荐

B. 代表5人联名推荐

C. 各政党单独推荐

D. 各人民团体联合推荐

**【答案】B。解析：**

根据我国《选举法》第二十九条规定：各政党、各人民团体，可以联合或者单独推荐代表候选人。因此B项说法错误。所以，正确选项是B。

33. 某毒品案件中的重要证人小张因在诉讼中作证而导致其人身安全面临危险，人民法院、人民检察院和公安机关应当采取的保护措施不包括：

A. 免于其出庭作证

B. 不公开其真实姓名

C. 禁止特定人员与其接触

D. 对其住宅采取专门性保护措施

**【答案】A。解析：**

根据《刑事诉讼法》第六十二条规定，对于危害国家安全犯罪、恐怖活动犯罪、黑社会性质的组织犯罪、毒品犯罪等案件，证人、鉴定人、被害人因在诉讼中作证，本人或者其近亲属的人身安全面临危险的，人民法院、人民检察院和公安机关应当采取以下一项或者多项保护措施：（一）不公开真实姓名、住址和工作单位等个人信息；（二）采取不暴露外貌、真实声音等出庭作证措施；（三）禁止特定的人员接触证人、鉴定人、被害人及其近亲属；（四）对人身和住宅采取专门性保护措施；（五）其他必要的保护措施。

因此A项不属于应当采取的保护措施。

所以，正确选项是 A。

34. 下列组织机构的标志与其名称对应正确的是：



**【答案】B。解析：**

A 项是 APEC 即亚太经济合作组织标志，对应错误；B 项是欧洲联盟的标志，对应正确；C 项是联合国难民署标志，对应错误；D 项是联合国教育、科学及文化组织标志，对应错误。

只有 B 项对应正确。所以，正确选项是 B。

35. 宪法是一个国家的根本大法，具有至高无上的地位，回顾世界各国宪法的产生和发展历程，其又呈现出各自不同的发展轨迹和特点。

下列有关世界主要国家的宪法的发展与历史的表述不正确的是：

- A. 英国是典型的不成文宪法国家，英国宪法的主体由不同历史时期颁布的宪法性文件构成
- B. 法国是资产阶级国家中制宪最多的国家之一，共制定过 15 部不同的宪法，法国现行宪法为 1739 年颁布的《雅各宾宪法》
- C. 1787 年的美国《联邦宪法》是世界上第一部成文宪法，迄今为止已经至少颁布了 27 个宪法修正案
- D. 新中国成立后，我国共颁布了四部宪法，其中现行的为 1982 年颁布的宪法，该部宪法迄今已经进行了四次修订

**【答案】B。解析：**

根据法国宪法的历史，法国从大革命到现在共制定过 13 部不同的宪法，其现行宪法是 1958 年宪法，又称为“第五共和国宪法”。

B 项表述不正确，所以，正确选项是 B。

36. 根据《中共中央关于全面推进依法治国若干重大问题的决定》，下列哪些属于重大行政决策的法定程序？

- ①公众参与      ②专家论证      ③风险评估      ④合法性审查      ⑤集体讨论
- A. ①②③⑤      B. ②③④⑤      C. ①②④⑤      D. ①②③④⑤

**【答案】D。解析：**

根据中共十八届四中全会通过的《中共中央关于全面推进依法治国若干重大问题的决定》：健全依法决策机制。把公众参与、专家论证、风险评估、合法性审查、集体讨论决定确定为重大行政决策法定程序，确保决策制度科学、程序正当、过程公开、责任明确。

所以，正确选项是 D。

37. 下列人物和典故对应不正确的是：

- A. 霍去病——封狼居胥
- B. 祖逖——闻鸡起舞
- C. 韩信——瞒天过海
- D. 晋文公——退避三舍

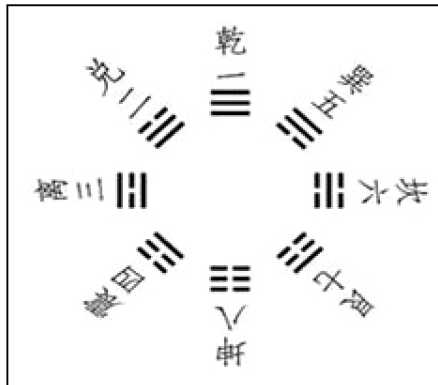
**【答案】C。解析：**

瞒天过海：字面意思是瞒住天子，偷渡大海。比喻用谎言和伪装向别人隐瞒自己的真实意图，而在背地里偷偷地行动。清代无名氏将“瞒天过海”收进其所编《三十六计》中，并作为“三十六计”的第一计。“瞒天过海”的计策，古时人们早有使用，而“瞒天过海”这一词语的形成，或与元人所撰《薛仁贵征辽事略》中薛仁贵设计让唐太宗渡海的故事有关。

因此，“瞒天过海”这一词语与韩信对应不正确。

所以，正确选项是 C。

38. 关于下图，下列说法不正确的是：



- A. 是诸葛亮创造的  
B. 《周易》对其有详细阐述  
C. 乾清宫的命名与之存在关联  
D. “坤”代表“地”和“女性”

**【答案】A. 解析：**

据汉族民间传说，八卦起源于三皇五帝之伏羲，伏羲氏在天水卦台山始画八卦，表示事物自身变化的阴阳系统，用“—”代表阳，用“--”代表阴，用这两种符号，组成八种不同形式，叫做八卦。因此，八卦不是诸葛亮创造的，A 项说法错误。

所以，正确选项是 A。

39. 关于下列诗文中的人物，说法不正确的是：

- A. 醉翁之意不在酒，在乎山水之间也——“醉翁”是欧阳修  
B. 臣本布衣，躬耕于南阳——“臣”是诸葛亮  
C. 少陵野老吞声哭——“少陵野老”是杜牧  
D. 座中泣下谁最多，江州司马青衫湿——“江州司马”是白居易

**【答案】C. 解析：**

C 项出自唐代诗人杜甫的作品《哀江头》，其中的“少陵野老”是杜甫自称，而不是指杜牧。因此 C 项说法错误。

所以，正确选项是 C。

40. 下列反映公历八月初的农谚是：

- A. 处暑动刀镰  
B. 小暑不算热  
C. 大暑在伏天  
D. 立秋忙打靛

**【答案】D. 解析：**

《二十四节气歌》：春雨惊春清谷天，夏满芒夏暑相连，秋处露秋寒霜降，冬雪雪冬小大寒。

“立秋”是二十四节气中的第 13 个节气，时间在农历七月初一前后（公历 8 月 7—9 日之间）。民间有谚语：立秋忙打靛，处暑割麻田。意思是：秋天来了赶紧割草晒干，留着冬天喂牲口。

所以，正确选项是 D。

41. 下列作品的作者所在国家是岛国的是：

- A. 《茶花女》                      B. 《罗生门》                      C. 《复活》                      D. 《汤姆叔叔的小屋》

**【答案】B。解析：**

《罗生门》是日本作家芥川龙之介的短篇小说，日本被称为“千岛之国”。因此B项说法正确。所以，正确选项是B。

42. 山东是儒家文化的发祥地。下列观点不属于先秦儒家代表人物观点的是：

- A. 仁者爱人                      B. 五德终始                      C. 化性起伪                      D. 尽心知天

**【答案】B。解析：**

“五德”指五行金、木、水、火、土所代表的五种德性。“五德终始”指金、木、水、火、土周而复始的循环运转。五德终始说是战国时期阴阳家邹衍的观点，而不是儒家的思想。所以，正确选项是B。

43. 关于2015年山东省重大基础设施建设规划，下列表述不正确的是：

- A. 启动建设济青高速公路扩容项目  
B. 加快建设济南至东营等15条高速公路  
C. 争取青岛新机场、菏泽机场、聊城机场开工建设  
D. 加快济青高铁、鲁南铁路、石济客专、青连城际等9条铁路的建设

**【答案】D。解析：**

2015年1月27日，山东省省长郭树清作政府工作报告，报告指出：必须继续加强重大基础设施建设。开工建设济青高铁、鲁南快速铁路，加快石济客专、青连城际等8条铁路建设进度。D项说法与报告不符。所以，正确选项是D。

44. 中国古人一般是“因名取字”。字和名之间在意义上往往存在相同或相近、相关联、相反等关系，下列人物的名和字之间意义相反的是：

- A. 诸葛亮，字孔明                      B. 岳飞，字鹏举  
C. 苏轼，字子瞻                      D. 韩愈，字退之

**【答案】D。解析：**

A项，“亮”对“明”，意思相近，排除。B项，“飞”对“鹏举”，意思相近，排除。C项，苏轼字子瞻，源于“登轼而望之”，意思相关，排除。D项，“愈”对“退之”，“愈”是愈加、更加、进一步的意思，与“退之”意思相反。所以，正确选项是D。

45. 关于交通，下列说法不正确的是：

- A. “红眼航空”是航空公司正常安排的夜间飞行航班  
B. 我国高速公路限制最高时速一般为110公里  
C. 船舶通信方式包括视觉通信、电波通信、卫星通信等  
D. 世界上首条正式运营的高速铁路是日本的新干线

**【答案】B。解析：**

根据《道路交通安全法》第六十七条及规定，高速公路最高时速不得超过每小时120公里。因此，B项说法不正确。所以，正确选项是B。

46. 下列关于新能源的说法正确的是：

- A. 沼气的主要成分与瓦斯相同  
B. 核电站是利用核衰变发电  
C. 氢气的热值低于汽油  
D. 风能的来源与太阳能无关

**【答案】A。解析：**

沼气的主要成分与瓦斯主要成分相同，因此 A 项说法正确。

核电站是利用核裂变或核聚变发电，B 项说法错误，排除。氢气的热值约为汽油的 3 倍，C 项说法错误，排除。风能来源于风，而风来源与太阳密切相关，D 项说法错误，排除。

所以，正确选项是 A。

47. 下列生活现象与大气压强无关的是：

- A. 用注射器进行肌肉注射  
B. 给钢笔吸取墨水  
C. 茶壶上留一个小孔  
D. 将吸盘挂衣钩贴在墙上

**【答案】A。解析：**

用注射器进行肌肉注射，是利用液体压强，与大气压强无关。

所以，正确选项是 A。

48. 下列对于作用力的分析正确的是：

- A. 推出的铅球在空中受到重力和推力的作用  
B. 桨对水的推力是木船前进的动力  
C. 丢入池塘的石子没入水中后，在不同深度所受浮力不同  
D. 匀速行驶的汽车对放在车上的货物没有静摩擦力作用

**【答案】D。解析：**

汽车上装载货物，在行驶的过程中车上的货物与车的静摩擦力的方向根据汽车的行驶状况产生差异。汽车加速行驶时，车对货物的静摩擦力方向向前；汽车减速行驶时，车对货物的静摩擦力方向向后；汽车匀速行驶时，车对货物的静摩擦力为零。因此 D 项说法正确。

所以，正确选项是 D。

49. 关于灭火器的原理和使用方法，下列说法不正确的是：

- A. 泡沫灭火器使用时会产生大量的二氧化碳，将燃烧物与空气隔绝  
B. 使用干粉灭火器时需要将灭火器倒立，使两种物质混合产生干粉  
C. 在使用二氧化碳灭火器时，要将手放在钢瓶的木柄上以防冻伤  
D. 电路失火在没切断电源之前不能使用泡沫灭火器灭火

**【答案】B。解析：**

使用干粉灭火器时将灭火器倒立的目的是使筒内的干粉松动，而不是借此产生干粉。因此 B 项说法错误。

所以，正确选项是 B。

50. 关于生活常识，下列说法正确的是：

- A. 数字电视将数字信号转化为模拟信号  
B. 微波炉利用自身的电阻丝发出热量来加热食物  
C. 常压下蒸汽电熨斗喷出的水汽不会超过 100  
D. LED 灯的发光原理与白炽灯相同

**【答案】C。解析：**

在常压下，水蒸气的温度一般不会超过 100 摄氏度。因此 C 项说法正确。

所以，正确选项是 C。



## 第三部分 数量关系

(共 15 题，参考时限 15 分钟)

在这部分试题中，每道题呈现一段表述数字关系的文字，要求你迅速、准确地计算出答案。

51. 某次考试前三道试题的总分值是 60 分，已知第一题比第二题的分值少 4 分，第二题比第三题的分值少 4 分，问第三题的分值是多少分？

A. 18                      B. 16                      C. 24                      D. 22

**【答案】C。解析：**

作答本题可以采用“方程法”。

设第二题的分值为  $x$ ，则第一题的分值为  $x-4$ ，第三题的分值为  $x+4$ 。

三道试题的分值相加为： $(x-4)+x+(x+4)=60$ 。解得  $x=20$ 。则第三题的分值为： $20+4=24$ （分）。所以，正确选项是 C。

52. 乒乓球世界杯锦标赛上，中国队、丹麦队、日本队和德国队分在一个小组，每两个队之间都要比赛 1 场，已知日本队已比赛了 1 场，德国队已比赛了 2 场，中国队已比赛了 3 场，则丹麦队还有几场比赛未比？

A. 0                      B. 1                      C. 2                      D. 3

**【答案】B。解析：**

作答本题可以采用“条件转化+分情况讨论法”。

根据题意，每两个队之间都要比赛 1 场，则每个队需要比赛 3 场。

情况 1：中国队已经比赛了 3 场，则意味着中国队已经与丹麦、日本、德国各比赛一场。

情况 2：德国队已经比赛了 2 场，则意味着其中一场是与中国比赛，另一场是与丹麦队比赛。因为日本只比赛了一场，还没有与德国队比赛。

因此，丹麦队已经比赛了 2 场，1 场是与中国的比赛，1 场是与德国的比赛，还剩 1 场与日本的比赛未比。

所以，正确选项是 B。

53. 某市制定了峰谷分时电价方案，峰时电价为原电价的 110%，谷时电价为原电价的八折。小静家六月用电 400 度，其中峰时用电 210 度，谷时用电 190 度，问实行峰谷分时电价调整方案后小静家用电成本为调整前的多少？

A. 95.75%                      B. 87.25%                      C. 90.5%                      D. 85.5%

**【答案】A。解析：**

作答本题可以采用“特殊赋值法”。

设原电价为每度 1 元。则峰时电价为每度 1.1 元，谷时电价为每度 0.8 元。

电价调整方案前小静家用电成本为： $400 \times 1 = 400$ （元）。

电价调整方案后小静家用电成本为： $(210 \times 1.1) + (190 \times 0.8) = 231 + 152 = 383$ （元）。

则电价调整方案后小静家用电成本为调整前的： $383/400 \approx 95\%$ 。

所以，正确选项是 A。

54. 某剧场 A、B 两间影视厅分别坐有观众 43 人和 37 人，如果把 B 厅的人往 A 厅调动，当 A 厅满座后，B 厅内剩下的人数占 B 厅容量的  $1/2$ ，如果将 A 厅的人往 B 厅调动，当 B 厅满座后，A 厅内剩下的人数占 A 厅容量的  $1/3$ ，问 B 厅能容纳多少人？

A. 56

B. 54

C. 64

D. 60

**【答案】C。解析：**

作答本题可以采用“方程法”。

设A厅坐满人数为A人，B厅坐满人数为B人；设B厅往A厅调动的人数为x人，而A厅往B厅调动的人数为y人，则可得算式为：

$$37-x=(1/2)B$$

$$37+y=B$$

$$43+x=A$$

$$43-y=(1/3)A$$

消去未知数A、B，可解得  $y=27$  人。则  $B=37+27=64$ （人）。

所以，正确选项是C。

55. 从甲地到乙地 111 千米，其中有  $1/4$  是平路， $1/2$  是上坡路， $1/4$  是下坡路。假定一辆车在平路的速度是 20 千米/小时，上坡的速度是 15 千米/小时，下坡的速度是 30 千米/小时。则该车由甲地到乙地往返一趟的平均速度是多少？

A. 19 千米/小时

B. 20 千米/小时

C. 21 千米/小时

D. 22 千米/小时

**【答案】B。解析：**

本题考查的是等距离平均速度。其公式为：

平均速度  $=2 \times V_1 \times V_2 \div (V_1 + V_2)$ 。（一半路程的平均速度为  $V_1$ ，一半路程的平均速度为  $V_2$ ）。

根据题意，从甲地到乙地往返一趟的总里程看，上坡路的总里程等于下坡路的总里程，上坡路和下坡路的总里程等于平路的总里程。则先求上坡路与下坡路的平均速度为：

$$\text{上坡路与下坡路的平均速度} = 2 \times V_1 \times V_2 \div (V_1 + V_2)$$

$$= 2 \times 15 \times 30 \div (15 + 30)$$

$$= 20 \text{ (千米/小时)}$$

上坡路与下坡路的平均速度与平路的速度相同。则可知该车由甲地到乙地往返一趟的平均速度是 20 千米/小时。

所以，正确选项是B。

56. 某企业前 5 个月的销售额为全年计划的  $3/8$ ，6 月的销售额为 600 万，其上半年销售额占全年计划的  $5/12$ ，问其下半年平均每个月要实现多少万元的销售额才能完成全年的销售计划？

A. 1600

B. 1800

C. 1200

D. 1400

**【答案】D。解析：**

作答本题可以采用“条件转化法”。

根据题意，某企业前 5 个月的销售额为全年计划的  $3/8$ ，6 月的销售额为 600 万，其上半年销售额占全年计划的  $5/12$ 。则可知：上半年的销售额比例 - 前 5 个月的销售额比例 = 6 月的销售额。即：

$$(5/12) - (3/8) = 1/24 = 600。$$

则可知全年计划的销售额应为： $600 \div (1/24) = 14400$ （万）。

则下半年还需要完成销售额为： $14400 \times (7/12) = 8400$ （万）。

则下半年每个月还需要完成销售额为： $8400 \div 6 = 1400$ （万）。

所以，正确选项是D。

57. 某单位从下属的 5 个科室各抽调了一名工作人员，交流到其他科室，如每个科室只能接收一个人的话，有多少种不同的人员安排方式？

A. 120

B. 78

C. 44

D. 24

**【答案】C。解析：**

本题属于“错位重排”问题，也可以理解为“鸟不回自己笼子”问题。例如，有一只鸟，一个笼子，如果鸟从笼子中飞出去后，那么一定会飞回自己的笼子里来。但是，如果鸟和笼子的数量增加之后，情况就复杂了，比如说，如果有两个笼子，每个笼子里各有一只鸟，如果把两个笼子里的鸟放出去，那么，它们飞回来的时候就可能就会飞错，并且飞错的情况只有1种（a笼里的鸟飞入b笼，b笼里的鸟飞入a笼）。如果有三个笼子三只鸟，飞错的情况有多少种呢？（注意，飞错的情况是指每个鸟都不回自己的笼子）三只鸟飞错的情况有2种；如果有四个笼子四只鸟，那么飞错的情况有9种；如果有5个鸟笼5只鸟，那么飞错的情况有44种。把规律总结如下：

鸟或笼子的数量	1	2	3	4	5	6
鸟飞错的情况数	0	$0 \times 2 + 1 = 1$	$1 \times 3 - 1 = 2$	$2 \times 4 + 1 = 9$	$9 \times 5 - 1 = 44$	$44 \times 6 + 1 = 265$

本题考查的是5个人的错位重排，5个人的错位重排的方式有44种。

所以，正确选项是C。

58. 车间领到一批电影票和球票发放给车间工人，电影票是球票数的2倍。如果每个工人发3张球票，则富余2张，如果每个工人发7张电影票，则少6张，问车间领到多少张球票？

A. 32                      B. 30                      C. 64                      D. 60

**【答案】A。解析：**

作答本题可以采用“整除+代入选项验算法”。

根据题意，如果每个工人发3张球票，则富余2张。设工人人数为x，则球票数为 $3x+2$ ，也就是意味着：球票数-2=3的倍数。

代入验算A项： $(32-2) \div 3=10$ ，是3的倍数。符合题意。

所以，正确选项是A。

59. 一家三口人的属相和生日都相同，父母的岁数之和是儿子的6倍，而儿子尚未满15岁，问妈妈可能多少岁？

A. 30                      B. 36                      C. 40                      D. 42

**【答案】B。解析：**

作答本题可以采用“条件转化+代入选项验算法”。

根据题意，一家三口人的属相和生日都相同。按照常识，父母的年龄差不会很大，因此父母二人年龄相同的可能性极大。同时，父母与儿子的年龄差必然是12的整倍数。

验算A项： $(30+30) \div (30-24)=10$ （倍）。不符合题意，排除。

验算B项： $(36+36) \div (36-24)=6$ （倍）。符合题意。

所以，正确选项是B。

60. 某次知识竞赛的决赛有3人参加，规则为：共12道题，每题由1人以抢答方式答题，正确得10分，错误扣8分，如果最后所有人得分都是正分，且回答问题最多的人是得分最少的人，那么前两名之间的分差最多为多少分？

A. 8                      B. 12                      C. 20                      D. 40

**【答案】D。解析：**

作答本题可以采用“极端情况讨论法”。

根据题意，最后所有人得分都是正分，且回答问题最多的人是得分最少的人，则可以讨论为：要得分最少且是正数，必须尽可能错的多，可能的情况有：

情况1：回答问题最多的人答4题，错2道、对2道，得4分。此时还剩8题，另外两人回答，平均每人4题，不能满足“回答问题最多的人是得分最少的”的条件，排除。

情况 2: 回答问题最多的人答 6 题, 错 3 道、对 3 道, 得 6 分。此时还剩 6 题, 另外两人回答, 其中一个人答对 1 题, 得 10 分, 另一个人答对 5 题, 得 50 分, 二人的分差为 40 分。

情况 3: 回答问题最多的人答:8 题, 错 4 道、对 4 道, 得 8 分。此时还剩 4 题, 另外两人回答, 其中一个人答对 1 题, 得 10 分, 另一个人答对 3 题, 得 30 分, 二人的分差为 20 分。

可见, 情况 2 最符合题目要求。即前两名之间的分差最多为 40 分。

所以, 正确选项是 D。

61. 商场里某商品成本上涨了 20%, 售价只上涨了 10%, 毛利率(利润/进货价)比以前的下降了 10 个百分点。问原来的毛利率是多少?

- A. 10%                      B. 20%                      C. 30%                      D. 40%

**【答案】B。解析:**

作答本题可以采用“特殊赋值+方程法”。

根据题意, 设原来的成本(进货价)为 100, 则上涨后的成本为 120。设原售价为  $x$ , 则新售价为  $1.1x$ 。则可以列方程为:

$$[(原售价-原成本) \div 原成本] - [(新售价-新成本) \div 新成本] = 10\%$$

$$则: [(x-100) \div 100] - [(1.1x-120) \div 120] = 10\%$$

解得:  $x=120$ 。

则原来的毛利率为:  $(120-100) \div 100=20\%$ 。

所以, 正确选项是 B。

62. 亲子班上 5 对母子坐成一圈, 孩子都挨着自己的母亲就坐, 问所有孩子均不相邻的概率在以下哪个范围内?

- A. 小于 5%                      B. 5%—10%                      C. 10%—15%                      D. 大于 15%

**【答案】B。解析:**

作答本题可以采用“分情况讨论法”。

总情况: 因为每个孩子都挨着自己的母亲就坐, 每个孩子有两种坐法(坐在母亲左右两侧), 所以五对母子共有  $2 \times 2 \times 2 \times 2 \times 2$  种坐法, 即 32 种坐法。

孩子均不相邻的情况: 若要孩子均不相邻, 则要么孩子都坐在母亲的左侧, 要么孩子都坐在母亲的右侧, 只要有一个孩子坐错, 就会出现有孩子相邻的情况。所以, 只有 2 种坐法。

则所有孩子均不相邻的概率为:  $2/32=1/16 \approx 6\%$ 。即在 5%—10% 的范围内。

所以, 正确选项是 B。

63. 某学校 2012 年 5 月份有在校生 15000 人, 6 月份毕业的学生中男女比例为 1:X, 剩下的学生中男女比例为 1:X。9 月份新生入校时发现新生的男女比例也是 1:X, 最终发现 9 月份在校生总人数比 5 月份多 3000 人, 其中男生 6000 人。问 5 月份在校生中的男生人数为多少?

- A. 5000 人                      B. 6000 人                      C. 9000 人                      D. 3000 人

**【答案】A。解析:**

作答本题可以采用“分情况讨论法”。

根据题意, 9 月份在校生总人数比 5 月份多 3000 人, 则 9 月份在校生总人数为  $15000+3000=18000$ 。其中男生 6000 人, 则男女生比例为  $6000:12000=1:2$ 。

因为每次的男女比例都是 1:X, 最终的男女比例也是 1:X, 则可知 5 月份的男女生比例也是 1:2。

5 月份共有在校生 15000 人, 按照男女生比例 1:2 可知, 5 月份在校生中的男生人数为 5000 人。

所以, 正确选项是 A。

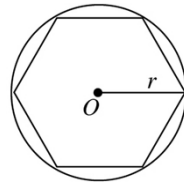
64. 在直径 10 米的圆形小广场上放置了 7 根旗杆，将距离最近的两根旗杆用绳子连起来，问绳子的长度最长可能为多少米？

- A.  $\sqrt{5}$                       B.  $\sqrt{10}$                       C. 5                      D.  $5\sqrt{2}$

**【答案】C。解析：**

作答本题可以采用“极端情况讨论法”。

根据题意，如果要使连接距离最近的两根旗杆绳子的长度最长，那么必须使离得最近的两根旗杆离得尽可能远。可以如右图放置旗杆：在小广场中心防止一根一根旗杆，另外 6 根旗杆均匀分布于圆周。



则距离最近的两根旗杆之间的最长距离为圆的半径 5。

所以，正确选项是 C。

65. 甲乙两人分别从 A、B 两地同时出发，相向而行。甲的速度是 8 公里/小时，乙的速度是 5 公里/小时，甲乙两人相遇时，距离 A、B 两地的中点正好 1 公里，问当甲到达 B 地后，乙还需要多长时间才能到达 A 地？

- A. 39 分钟                      B. 31 分钟                      C. 22 分钟                      D. 14 分钟

**【答案】A。解析：**

作答本题可以采用“分情况讨论法”。

根据题意可知，甲、乙的速度比 8 : 5，在时间一定的情况下，二人所走的路程比必然是 8 : 5。即当甲乙两人相遇时，甲走了 8 份路，乙走了 5 份路。

已知当甲乙两人相遇时，距离 A、B 两地的中点正好 1 公里。则意味着甲比乙多走的 3 份路对应 2 公里，由此可知 1 份路对应  $2/3$  公里。则 A、B 两地之间全程为  $26/3 \approx 8.7$  公里。

甲走完从 A 到 B 全程，约需要时间 1.1 小时，即 66 分钟。

乙走完从 B 到 A 全程，约需要时间 1.74 小时，即 104 分钟。

$104 - 66 = 38$ （分钟），与 A 项的数据最为接近。

所以，正确选项是 A。

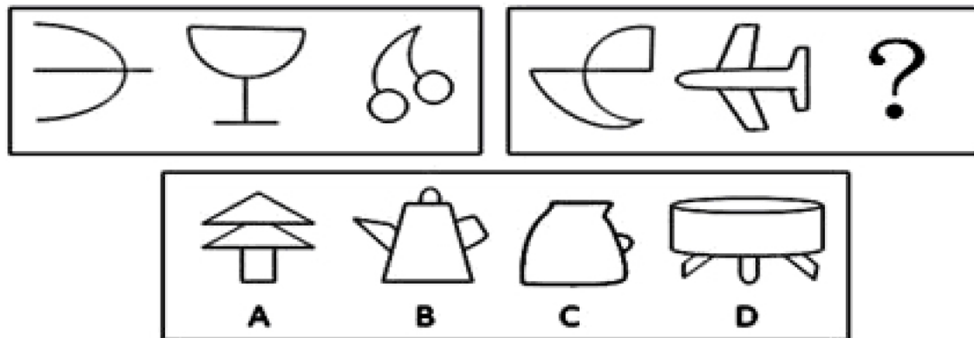
**第三部分结束，请继续做第四部分！**

## 第四部分 判断推理

（共 35 题，参考时限 40 分钟）

**一、图形推理。请按每道题的答题要求作答。**

66. 从所给四个选项中，选择最适合的一个填入问号处，使之呈现一定规律性：



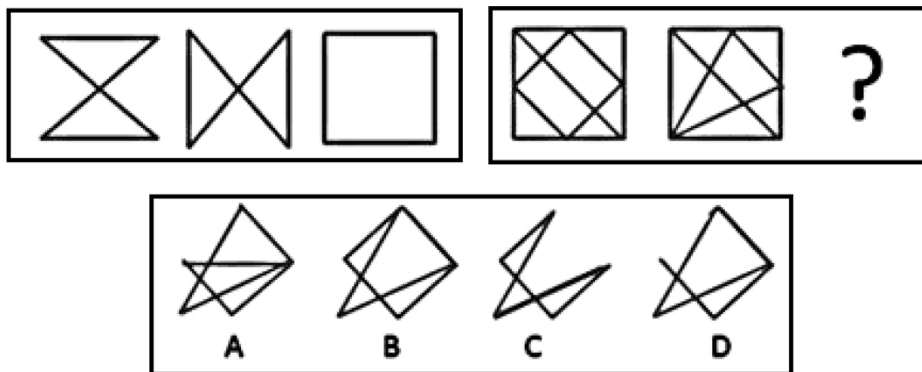
**【答案】B。解析：**

本题考查“封闭空间”。观察可见，题干图形从左到右的封闭空间数依次为 0、1、2。问题图形从左

到右的封闭空间数依次为 2、3、(4)。

所以，正确选项是 B。

67. 从所给四个选项中，选择最适合的一个填入问号处，使之呈现一定规律性：

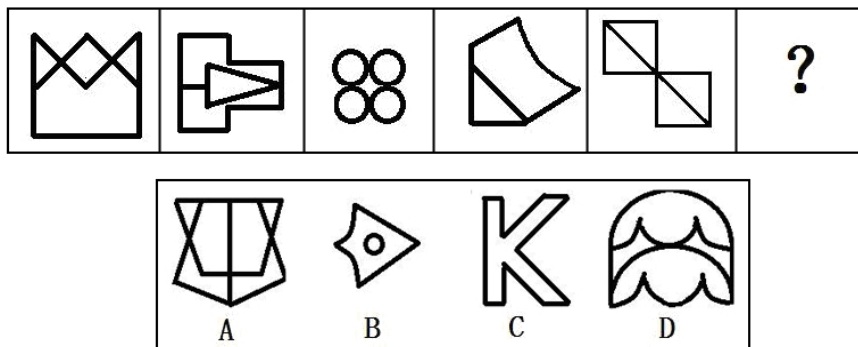


**【答案】C。解析：**

本题考查“叠加去同存异”。观察可见，题干前两个图形叠加去同存异，可以得到第三个图形。按照这个规律，只有 C 项符合要求。

所以，正确选项是 C。

68. 从所给四个选项中，选择最适合的一个填入问号处，使之呈现一定规律性：

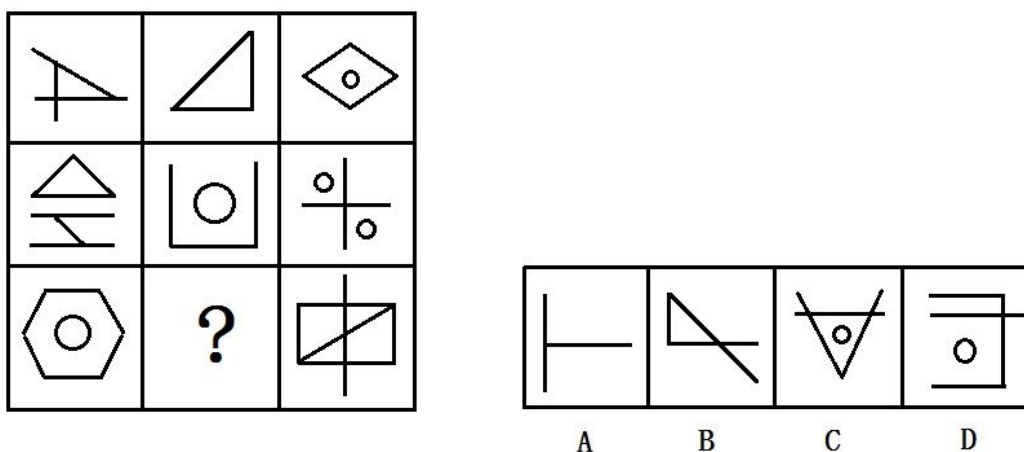


**【答案】C。解析：**

本题考查“一笔画”。观察可见，题干图形均为一笔画图形。按照这个规律，填入问号处的图形必须是一笔画，只有 C 项符合要求。

所以，正确选项是 C。

69. 从所给四个选项中，选择最适合的一个填入问号处，使之呈现一定规律性：

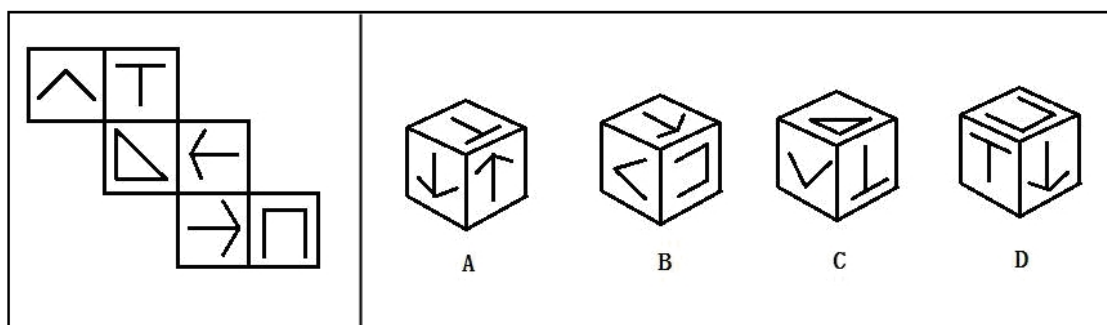


**【答案】C。解析：**

本题考查“封闭空间”。观察可见，每行题干图形的前两个图形的封闭空间数之和等于第三个图形的封闭空间数，每列也符合这个规律。因此，问号处图形应有 2 个封闭空间。

所以，正确选项是 C。

70. 左边给定的是纸盒的外表面，下列哪一项能由它折叠而成？



**【答案】D。解析：**

观察可见，A 项，顶面与右侧面应为相对面，不可能相邻，排除；B 项，左侧面中的“<”开口方向错误，排除；C 项，顶面中的直角三角形应该是斜边与右侧面中的“T”形相邻，排除。

所以，正确选项是 D。

**二、定义判断。每道题先给出定义，然后列出四种情况，要求你严格依据定义，从中选出一个最符合或最不符合该定义的答案。注意：假设这个定义是正确的，不容置疑的。**

71. 行动公众指的是不仅意识到组织行为引起的共同问题的存在，而且准备或已经采取某种解决问题的行动的公众。

根据上述定义，以下哪项涉及行动公众？

- A. 某化工厂污染严重，小李带领附近居民对此进行了抗议
- B. 某小区居民领取了某公司免费发送的化妆品
- C. 某班学生从广告中得知某文具公司推出了新型文具
- D. 多名消费者到厂家了解有关产品的生产情况

**【答案】A。解析：**

本题是“属于型”。要求找出涉及“行动公众”的一项。

定义的关键信息是：（1）意识到组织行为引起的共同问题的存在；（2）准备或已经采取某种解决

问题的行动。

A 项中的小李不仅意识到组织行为引起的共同问题（化工厂污染严重）的存在，而且已经采取某种解决问题的行动（带领附近居民对此进行了抗议），完全符合定义条件，属于“行动公众”。

B、C、D 三项中均没有涉及“共同问题”，也没有采取“解决问题的行动”，不符合定义条件，不属于“行动公众”，排除。

所以，正确选项是 A。

72. 非语言沟通是相对于语言沟通而言的，是指通过身体动作、体态、语气语调、空间距离等方式交流信息，进行的沟通过程。在沟通中，信息的内容部分往往通过语言来表达，而非语言则作为提供解释内容的框架，来表达信息的相关部分。

根据上述定义，下列不属于非语言沟通的是：

- A. 交警向驶入路口的车辆打出通行的手势
- B. 接受采访时，小丽有意降低语速，显得很自信
- C. 废墟下传来了求救者断断续续的敲击声
- D. 谈判陷入僵局，双方代表都身体后靠，拉开距离

**【答案】C。解析：**

本题是“不属于型”。要求找出不属于“非语言沟通”的一项。

定义的关键信息是：通过身体动作、体态、语气语调、空间距离等方式交流信息。

A 项中的“手势”，B 项中的“降低语速”，D 项中的“身体后靠，拉开距离”都符合定义条件，只有 C 项中的“敲击声”不符合定义条件。

所以，正确选项是 C。

73. 手表定律是指一个人有一只表时，可以知道现在是几点钟，而当他同时拥有两只显示时间不一致的表时却无法确定。两只表并不能告诉一个人更准确地时间，反而会使看表的人失去准确判断时间的信心。

根据上述定义，以下选项中所述内容不属于手表定律的是：

- A. 在两个显示不同路线的导航系统的指挥下，驾驶员会感到非常慌张
- B. 对于一个任务，目标应尽量明确，评价体系应尽量单一具体
- C. 一个人走入超市，想买些什么，但是又不是很确定，最后什么也没有买
- D. 一个人如果同时选择两种不同的价值观，他的行为很可能会陷于混乱

**【答案】C。解析：**

本题是“不属于型”。要求找出不属于“手表定律”的一项。

定义的关键信息是：一个人有一只表时，可以知道现在是几点钟，而当他同时拥有两只显示时间不一致的表时却无法确定。（隐含：不同的标准带来的判断的冲突）

A 项中的“两个显示不同路线的导航系统”，B 项中的“评价体系应尽量单一具体”，D 项中的“两种不同的价值观”都符合“不同标准”的定义条件，属于“手表定律”，排除。

C 项中的“想买些什么，但是又不是很确定”，不是两种不同的标准带来的判断的冲突，不符合定义条件。

所以，正确选项是 C。

74. 思想库是指从事于力图影响公共政策的多学科研究的独立组织。

根据上述定义，以下属于思想库的是：

- A. M 研究所是 N 企业下属的一家研究机构，专门从事 N 企业战略发展方面的相关研究
- B. J 省语言研究多在方言研究方面独树一帜，产生不少科研成果，也获得不少科研奖项



C. D 研究院是一家民间机构，专门从事气候政策方面的研究，旨在为国家气候政策制定与完善提供咨询报告

D. 刘师爷是晚清绍兴师爷之一，任过几位清廷大员的幕僚，是当时有名的“智囊”人物

**【答案】C。解析：**

本题是“属于型”。要求找出属于“思想库”的一项。

定义的关键信息是：（1）从事于力图影响公共政策的（2）多学科研究的（3）独立组织。

A 项中的“企业战略发展方面的相关研究”不属于“力图影响公共政策”；B 项中的“J 省语言研究”不属于“独立组织”；D 项中的“刘师爷”不属于“独立组织”，都不符合定义条件，不属于“思想库”，排除。

C 项中的 D 研究院是一家民间机构（属于独立组织），专门从事气候政策方面的研究，旨在为国家气候政策制定与完善提供咨询报告（属于力图影响公共政策）。符合定义条件，属于“思想库”。

所以，正确选项是 C。

75. 逻辑学家伯特兰·罗素有个你我他定理：我坚守原则，你不知变通，他冥顽不灵；我三思而行，你迟疑不决，他反应迟钝；我节俭，你小气，他嗜钱如命；我正在沉思，你在发呆，他整天浑浑噩噩。

根据上述定义，下列符合你我他定理的是：

A. 我是活雷锋，你是好公仆，他是小官僚

B. 我好学上进，你不学无术，他不耻下问

C. 我光明磊落，你宅心仁厚，他故作聪明

D. 我无所畏惧，你趾高气扬，他盛气凌人

**【答案】D。解析：**

本题是“属于型”。要求找出属于“你我他定理”的一项。

定义的关键信息是：在同一个事情上，“我”是最好的，“你”稍微差一点，“他”是最差的。

A 项中的“活雷锋”与“小官僚”不是同一事情，排除。

B 项中的“不耻下问”与“好学上进”相比不是更差，排除。

C 项中的“光明磊落”与“故作聪明”不是同一事情，排除。

只有 D 项符合定义条件，属于“你我他定理”。

所以，正确选项是 D。

76. 把一个漂亮的鸟笼挂在房间最显眼的地方，过不了几天，主人必定会做出下面两个选择之一：把鸟笼扔掉，或者买一只鸟回来放在鸟笼里，因为这比无休止地向别人解释和说明挂一个空鸟笼要轻松得多，这就是鸟笼逻辑。并不一定每一个鸟笼里应该装进一只鸟，但可惜的是人们总是受制于惯性思维，不知变通，难以突破常规，逃不出这个逻辑的局限。

根据上述定义，下列没有反映鸟笼逻辑的是：

A. 大多数年轻人都认为结婚要先置办新房

B. 大学毕业生一般都选择先就业再择业，待职业发展成熟后再考虑创业

C. 楚国人想要偷袭宋国，派人先在河里做标记，晚上河水突然上涨，楚国人依然沿着原来的标记渡水，结果淹死了不少兵士

D. 乌鸦为了喝到瓶子里的水，把衔到的小石子放到瓶子里，使没装满水的瓶子里地水位得到上升，最终它喝到了水

**【答案】D。解析：**

本题是“不属于型”。要求找出没有反映“鸟笼逻辑”的一项。

定义的关键信息是：受制于惯性思维，不知变通，难以突破常规。

A 项中的“结婚要先置办新房”，B 项中的“先就业再择业”，C 项中的“沿着原来的标记渡水”都符合“受制于惯性思维，不知变通，难以突破常规”的定义条件，属于“鸟笼逻辑”，排除。

D 项中的乌鸦“把衔到的小石子放到瓶子里，使没装满水的瓶子里地水位得到上升”，突破了把水从

瓶子里倒出来才能喝到水的常规思维，不属于“鸟笼逻辑”。

所以，正确选项是D。

77. 必要条件指的是两个句子之间的一种关系，如果由甲句子为假，可得出乙句子为假，那么就说甲句子是乙句子的必要条件。

根据上述定义，以下哪项中的前一个句子是后一个句子的必要条件？

- A. 首饰柜台的营业员不是大学生，就是漂亮的女孩；首饰柜台的营业员是漂亮女孩
- B. 南京景色优美，气候宜人；南京气候宜人
- C. 观象台的仪器既有清代的，也有宋元的；观象台的仪器是唐代的
- D. 大学教师王菲菲既是博士，又有留学海外的经历；王菲菲可以被评聘为副教授

**【答案】A。解析：**

本题是“属于型”。要求找出属于“必要条件”的一项。

定义的关键信息是：如果由甲句子为假，可得出乙句子为假。

A项中的前一个句子“首饰柜台的营业员不是大学生，就是漂亮的女孩”是一个充分条件假言命题，如果这个充分条件假言命题是假的，则意味着“前件真并且后件假”，即：首饰柜台的营业员不是大学生，并且首饰柜台的营业员也不是漂亮女孩。那么，A项的后一个句子也就是假的。因此，A项的前一个句子是后一个句子的必要条件。

所以，正确选项是A。

78. 市场区隔是指不断地与某一特定消费者进行对话，了解其特定需求，通过新产品或新服务或新的沟通形式，使消费者从认识到使用产品或服务并回馈相关信息，其作用在于巩固旧市场或发现新市场。

下列哪项最符合上述定义？

- A. 公司员工条款规定凡内部工作人员购买本公司最新款产品，一律打8折
- B. 某大型外贸市场按照食品、服装、日用百货分成三大块消费区域
- C. 某时装品牌位于购物中心最显眼的位置，成为许多顾客驻足的第一站
- D. 某一线运动品牌不定时进行市场调研，更新产品，受到越来越多年轻人追捧

**【答案】D。解析：**

本题是“属于型”。要求找出属于“市场间隔”的一项。

定义的关键信息是：（1）不断地与某一特定消费者进行对话，了解其特定需求，（2）通过新产品或新服务或新的沟通形式，使消费者从认识到使用产品或服务并回馈相关信息，（3）其作用在于巩固旧市场或发现新市场。

A项中的“规定”属于公司的员工条款，没有体现出“不断地与某一特定消费者进行对话，了解其特定需求”。排除。

B项中的“分成三大块消费区域”属于按商品种类分区，没有体现出“不通过新产品或新服务或新的沟通形式”。排除。

C项中的“位于购物中心最显眼的位置”属于利用好的商铺位置，没有体现出“不断地与某一特定消费者进行对话，了解其特定需求”。排除。

D项中的某一线运动品牌不定时进行市场调研（隐含：了解其特定需求），更新产品（隐含：通过新产品或新服务或新的沟通形式），受到越来越多年轻人追捧（隐含：某一特定消费者）。属于“市场间隔”。

所以，正确选项是D。

79. “第一时间”译自英语的“primetime”，它有两个意思，本义指“电台、电视台等受众最多的时间

段”，相当于汉语的“黄金时间”；另一个引申义，指“最佳时间或最快并及时的时间”。

下列各项中“第一时间”的用法与上述定义不符合的是：

- A. 学生们第一时间学会了基本的网络语
- B. 媒体通过网络第一时间报道会议进程
- C. 事件发生时，记者积极捕捉第一时间的独家新闻
- D. 危急时刻，政府主要负责人要第一时间到达现场

**【答案】A。解析：**

本题是“不属于型”。要求找出不符合“第一时间”的一项。

定义的关键信息是：（1）受众最多的时间段，（2）最佳时间，或（3）最快并及时的时间。

A项中的学生们第一时间学会了基本的网络语（隐含：是最快时间，但不一定是最佳时间，也不一定是最及时时间），不符合“第一时间”。

B项中的“第一时间报道会议进程”（隐含：受众最多的时间段），C项中的“第一时间的独家新闻”（隐含：最快并及时的时间），D项中的“第一时间到达现场”（隐含：最快并及时的时间），都符合“第一时间”的定义条件，排除。

所以，正确选项是A。

80. 大气污染物分为一次污染物和二次污染物。从污染源排放到大气后，直接污染空气称一次污染物，主要有二氧化硫、一氧化碳、氮氧化物、二氧化氮、颗粒物（飘尘、降尘、油烟等），氮气及含氧、氮、氯、硫有机化合物以及放射性物质等。二次污染物是由于阳光照射污染物，排入环境中的一次污染物在物理、化学因素或生物的作用下发生变化，或与环境中的其他物质发生反应，所形成的物理、化学性状与一次污染物不同的新污染物。

根据上述定义，下列没有提及二次污染物的是：

- A. 火山爆发喷出的二氧化硫与大气中的氧结合会形成硫酸雾或硫酸盐气溶胶，引起环境酸化，后者还会通过直接或间接辐射强迫作用影响气候变化
- B. 颗粒物质是漂浮在大气中的固体和液体微粒，颗粒物质能散射和吸收阳光，使能见度降低，影响交通，增加汽车与航空事故
- C. 工业生产排放出的氮氧化物和乙醛会发生光化学反应生成过氧乙酰硫酸酯，该物质强烈刺激眼睛，会引起呼吸困难、心功能障碍和肺功能衰竭等一系列症状
- D. 汽车发动机排放的污染物中的氮氧化物和碳氢化合物，经阳光照射，在大气中形成光化学烟雾，对人类呼吸系统产生极大危害

**【答案】B。解析：**

本题是“不属于型”。要求找出没有提及“二次污染物”的一项。

定义的关键信息是：（1）由于阳光照射污染物，（2）排入环境中的一次污染物在物理、化学因素或生物的作用下发生变化，或与环境中的其他物质发生反应，（3）所形成的物理、化学性状与一次污染物不同的新污染物。

A项中的“火山爆发喷出的二氧化硫与大气中的氧结合会形成硫酸雾或硫酸盐气溶胶”（隐含：形成的新污染物），C项中的“工业生产排放出的氮氧化物和乙醛会发生光化学反应生成过氧乙酰硫酸酯”（隐含：形成的新污染物），D项中的“汽车发动机排放的污染物中的氮氧化物和碳氢化合物，经阳光照射，在大气中形成光化学烟雾”（隐含：形成的新污染物），都符合“二次污染物”的定义条件，排除。

B项中的“漂浮在大气中的固体和液体微粒……吸收阳光，使能见度降低”（隐含：没有形成新污染物），不属于“二次污染物”。

所以，正确选项是B。

**三、类比推理。每道题先给出一组相关的词。要求你在备选答案中找出一组与之在逻辑关系上最为**

贴近、相似或匹配的词。

81. 颁奖：领奖

- A. 受虐：施虐  
C. 盈利：亏损

- B. 成功：失败  
D. 行贿：受贿

**【答案】D。解析：**

题干词组的逻辑关系可以表述为：颁奖与领奖是对应存在的两方，其中前者是施与方，后者是接受方。D项的逻辑关系与此相同：行贿与受贿是对应存在的两方，其中前者是施与方，后者是接受方。

所以，正确选项是D。

82. 耳朵：赫兹

- A. 皮肤：温度  
C. 舌头：味蕾

- B. 鼻子：气味  
D. 眼睛：波长

**【答案】D。解析：**

题干词组的逻辑关系可以表述为：耳朵能听到特定赫兹范围的声波。D项的逻辑关系与此相同：眼睛能看到特定波长范围的光波。

所以，正确选项是D。

83. 密码锁：保密

- A. 打卡器：考勤  
C. 监视器：摄像

- B. 防火墙：黑客  
D. 微博：手机

**【答案】A。解析：**

题干词组的逻辑关系可以表述为：密码锁可以用来保密。A项的逻辑关系与此相同：打卡器可以用来考勤。

所以，正确选项是A。

84. 潮：涨：落

- A. 花：蕊：瓣  
C. 心：悲：喜

- B. 草：荣：枯  
D. 水：沸：冰

**【答案】B。解析：**

题干词组的逻辑关系可以表述为：潮涨潮落有一定的时间周期。B项的逻辑关系与此相同：草荣草枯有一定的时间周期。

所以，正确选项是B。

85. 运动：热量：瘦身

- A. 压力：倾诉：释放  
C. 打磨：瑕疵：平滑

- B. 按摩：疼痛：骨骼  
D. 检查：纠正：合格

**【答案】C。解析：**

题干词组的逻辑关系可以表述为：运动能够消耗热量，从而达到瘦身的效果。C项的逻辑关系与此相同：打磨能够消除瑕疵，从而达到平滑的效果。

所以，正确选项是C。

86. 律师：厨师：职业

- A. 大学生：中学生：学校  
C. 作者：记者：学者

- B. 博士：硕士：学位  
D. 飞机：飞船：飞行

**【答案】B。解析：**

题干词组的逻辑关系可以表述为：律师和厨师都是职业。B 项的逻辑关系与此相同：博士和硕士都是学位。

所以，正确选项是 B。

87. 实验员：试管：器具

A. 司机：公交车：交通工具

B. 农民：水稻：作物

C. 职员：电脑：科技

D. 雕塑家：雕塑：艺术品

**【答案】A。解析：**

题干词组的逻辑关系可以表述为：实验员使用试管，试管是一种器具。A 项的逻辑关系与此相同：司机驾驶公交车，公交车是一种交通工具。

所以，正确选项是 A。

88. 潮汐：月球引力：太阳引力

A. 地震：海啸：火山喷发

B. 车祸：违章驾驶：醉驾

C. 污染：人为活动：尾气排放

D. 泥石流：暴雨：乱砍乱伐

**【答案】D。解析：**

题干词组的逻辑关系可以表述为：月球引力和太阳引力引发潮汐。D 项的逻辑关系与此相同：暴雨和乱砍乱伐引发泥石流。

所以，正确选项是 D。

89. 歼击机对于( ) 相当于( )对于通信

A. 军事 卫星

B. 空战 手机

C. 客机 探测

D. 雷达 网络

**【答案】B。解析：**

代入选项造句可知，B 项的逻辑关系是相同的：歼击机用于空战，手机用于通信。

所以，正确选项是 B。

90. 版权对于( ) 相当于( )对于军衔

A. 作品 军人

B. 权利 上将

C. 著作权 级别

D. 智力 战争

**【答案】B。解析：**

代入选项造句可知，B 项的逻辑关系是相同的：版权是一种权利，上将是一种军衔。

所以，正确选项是 B。

**四、逻辑判断。每道题给出一段陈述，这段陈述被假设是正确的，不容置疑的。要求你根据这段陈述，选择一个答案。**

91. 对于权力，有人这样主张：有实权干大事，有虚权干实事，没权了干好事。以下哪项最不可能从上述主张中推出：

A. 没有权，不干好事

B. 没有虚权，不干实事

C. 有权了，干好事

D. 没有实权，不干大事

**【答案】A。解析：**

本题属于“逻辑推理型”。题干条件可以整理为：

(1) (如果) 有实权，(那么) 干大事；

(2) (如果) 有虚权, (那么) 干实事;

(3) (如果) 没权了, (那么) 干好事。

三个命题都是充分条件假言命题, 充分条件假言命题的有效式只有“肯定前件式”和“否定后件式”。

A 项属于命题 (1) 的“肯定前件, 却否定后件式”, 与充分条件假言命题的有效式“肯定前件式”相矛盾, 因此不可能推出。

B 项属于命题 (2) 的“否定前件, 否定后件式”, 虽然不是充分条件假言命题的有效式, 但是是有可能的, 因此可能推出。

C 项属于命题 (3) 的“否定前件, 肯定后件式”, 虽然不是充分条件假言命题的有效式, 但是是有可能的, 因此可能推出。

D 项属于命题 (1) 的“否定前件, 否定后件式”, 虽然不是充分条件假言命题的有效式, 但是是有可能的, 因此可能推出。

所以, 正确选项是 A。

92. 某单位员工除了基本工资之外, 其收入很大一部分来源于绩效工资。在今年 4 月份, 该单位第一项目组所有员工的绩效工资高于第二组员工的最高绩效工资, 但是该单位本月绩效工资最高的员工并不在第一项目组。

由此可以推出:

A. 该单位领导的绩效工资最高

B. 该单位其他项目组有些员工的绩效工资没有第一、第二项目组平均的高

C. 该单位有些员工既不属于第一项目组也不属于第二项目组

D. 第二项目组的平均绩效工资低于单位的平均绩效工资

**【答案】C。解析:**

本题属于“推断文意型”。

题干说: 在今年 4 月份, 该单位第一项目组所有员工的绩效工资高于第二组员工的最高绩效工资。但是同时又说: 该单位本月绩效工资最高的员工并不在第一项目组。那么请问, 该单位本月绩效工资最高的员工在哪个项目组呢?

首先, 不可能在第二项目组 (因为第一项目组所有员工的绩效工资高于第二组员工的最高绩效工资); 其次, 也不可能在第一项目组 (因为该单位本月绩效工资最高的员工并不在第一项目组)。由此可知, 该单位本月绩效工资最高的员工既不属于第一项目组也不属于第二项目组 (隐含: 该单位有些员工既不属于第一项目组也不属于第二项目组, 还存在着另外的项目组)。

所以, 正确选项是 C。

93. 研究人员设计了这样一个实验。他们从实验鼠体内收集了神经细胞并且将它们植入到家鼠大脑内。实验鼠的寿命大约只有 18 个月, 而家鼠的寿命是它们的两倍。研究人员发现, 当家鼠死亡的时候, 从实验鼠植入的神经细胞依然存活。

以下哪项可以作为上述实验的结论?

A. 实验鼠的神经细胞比它们所属的生物体的寿命更长

B. 家鼠的神经细胞寿命长于实验鼠的神经细胞寿命

C. 实验鼠的神经细胞寿命长于家鼠的神经细胞寿命

D. 神经细胞可以通过移植而得到无限期的存活

**【答案】A。解析:**

本题属于“推断文意型”。

根据题意, 实验鼠的寿命大约只有 18 个月, 而家鼠的寿命是它们的两倍。

研究人员的实验是：把从实验鼠体内收集的神经细胞植入到家鼠大脑内。实验得到的结果是：当家鼠死亡的时候，从实验鼠植入的神经细胞依然存活。

这个实验结果告诉了研究人员什么？那就是：家鼠的寿命比实验鼠长很多，而从实验鼠体内收集的神经细胞，其寿命竟然能够比家鼠的寿命还要长。因此可以得出结论：实验鼠的神经细胞比它们所属的生物体的寿命更长。

B、C 两项均涉及家鼠的神经细胞寿命与实验鼠的神经细胞寿命的长短比较。但题干中并没有涉及家鼠的神经细胞寿命的长短，因此，不可能作为上述实验的结论。

D 项的“无限期存活”的说法过于极端，属于明显的谬误，可以直接排除。

所以，正确选项是 A。

94. 感冒是自限性疾病，一两周之后会自愈。如果忍受得了，完全没有必要吃那些缓解症状的感冒药，注意多喝水和休息即可。忍受不了，可吃点缓解症状的感冒药也行，但普通感冒药并不真正治疗感冒。

以下哪项如果为真，能够削弱上述观点？

A. 吃药缓解症状可加速感冒的治愈

B. 感冒会自愈，吃药的作用在于缓解症状

C. 多喝水多休息有利于感冒的自愈

D. 感冒药可缓解咳嗽、鼻涕等症状

**【答案】A。解析：**

本题属于“削弱型”。

题干的论点是：感冒是自限性疾病，一两周之后会自愈。得出论点的前提是：普通感冒药并不真正治疗感冒。

题目要求考生做的，就是从四个备选项中找出一个“唱反调”的选项来对题干陈述的论证进行反驳，从而使其不能成立。怎样才能使题干的论证不能成立呢？只要指出“感冒不是自限性疾病”或者“感冒药能够真正治疗感冒”就可以了。

A 项说“吃药缓解症状可加速感冒的治愈”（隐含：感冒药能够真正治疗感冒）。如果 A 项为真，那么就直接推翻了题干的论证。

B、C 项均说“感冒会自愈”，属于支持项，可以直接排除。D 项说“感冒药可缓解感冒症状”，支持“感冒药并不真正治疗感冒”的论据，也属于支持项，排除。

所以，正确选项是 A。

95. 小王、小张、小赵、小刘四人讨论比赛四强的甲、乙、丙、丁四个队伍哪个将获得冠军。

小王：“乙是冠军。”

小张：“冠军是丁或丙。”

小赵：“冠军是甲或丁。”

小刘：“甲和丙不是冠军。”

结果出来后，只有两个人的推断是正确的，冠军是：

A. 甲

B. 乙

C. 丙

D. 丁

**【答案】B。解析：**

本题属于“逻辑推理型”。

根据条件最大化原则，只有小王所说“乙是冠军”涉及乙，与其他三个人的说法矛盾感最强，信息量最大，因此从此条件切入。

设小王所说“乙是冠军”为真，则可推知小张的话是假的，小赵的话是假的，小刘的话是真的。四句话两真两假，与题设条件完全相符。因此，小王的话是真的，即乙是冠军。

所以，正确选项是 B。

96. 通常情况下，人体内的瘦素和胰岛素能帮人管住嘴巴，一旦吃饱就会发出信号传至大脑，告知人们停止进食。而垃圾食品中含有过量的饱和脂肪，饱和脂肪分子会屏蔽这些停止进食的信号。

由此可以得出：

- A. 整体均衡饮食，保持营养全面是维护健康的最关键因素
- B. 垃圾食品不仅会导致肥胖，还会诱发其他疾病
- C. 垃圾食品中含有的饱和脂肪大大超过其他食品
- D. 吃饱的信号传至大脑可避免饮食过度

**【答案】D。解析：**

本题属于“推断文意型”。

根据题意，人体内的瘦素和胰岛素能帮人管住嘴巴。因为“一旦吃饱就会发出信号传至大脑，告知人们停止进食”。但是，垃圾食品中含有过量的饱和脂肪，饱和脂肪分子会屏蔽这些停止进食的信号。（隐含：由于人们接收不到停止进食的信号，就会继续进食，从而导致饮食过度。因此可以推知 D 项：只有吃饱的信号传至大脑才可避免饮食过度。）

A 项中的“整体均衡饮食，保持营养全面”，B 项中的“诱发其他疾病”，C 项中的“饱和脂肪大大超过其他食品”，在题干中均没有涉及，不可能推出，排除。

所以，正确选项是 D。

97. 所有来自中国的留学生，都住在校园内；所有住在校园内的学生，都必须参加运动会；有些中国留学生加入了学生会；有些心理专业的学生也加入了学生会；所有心理学专业的学生都没有参加运动会。

由此不能推出以下哪项结论？

- A. 所有中国留学生都参加了运动会
- B. 没有一个心理学专业的学生住在校园内
- C. 有些中国留学生是学心理学专业的
- D. 有些学生会成员没有参加运动会

**【答案】C。解析：**

本题属于“逻辑推理型”。题干条件可以整理为：

- (1) 所有中国留学生都住校；
- (2) 所有住校学生都参加运动会；
- (3) 有些中国留学生加入学生会；
- (4) 有些心理专业的学生加入学生会；
- (5) 所有心理学专业的学生都没有参加运动会。

根据 (2) (5) 可以推出 (6)：所有心理学专业的学生都不住校。

根据 (1) (6) 可以推出：所有中国留学生都不是心理学专业的学生。

这与 C 项的说法是相矛盾的。因此 C 项不能推出。

所以，正确选项是 C。

98. 考古学家对安第斯地区出土的 900 年到 2800 年前的人类骨骼进行了研究。从中提取出的某些化学同位素成分，反映出那里的人当时多以玉米为食。“玉米文化”带动了安第斯地区的人口增长，当时爆发的几次大规模战争也与争夺稀缺的适种玉米的土壤有关，战争导致了社会体系不断变革和发展，因此他们得出结论“农业推动了古代安第斯社会的发展”。

以下哪项如果为真，最能质疑上述结论？

- A. 安第斯地区的印加文明早在 2800 年前就经历了几次较大的社会变革
- B. 安第斯地区 3600 年前的人类以沿海打鱼为主，直到 2800 年前左右才逐渐向内陆迁徙
- C. 从人类骨骼中提取的另一些化学同位素反映了人们当时也食用马铃薯和豆类
- D. 安第斯地区的社会体系拥有中央政府和地方政府，后又衍生出多种社会形态

**【答案】B。解析：**

本题属于“削弱型”。



题干的结论是：农业推动了古代安第斯社会的发展。得出结论的前提是：提取出的某些化学同位素成分，反映那里的人当时多以玉米为食→当时爆发的几次大规模战争也与争夺稀缺的适种玉米的土壤有关→战争导致了社会体系不断变革和发展。

题目要求考生做的，就是从四个备选项中找出一个“唱反调”的选项来对题干陈述的论证进行反驳，从而使其不能成立。怎样才能使题干的论证不能成立呢？只要指出“并不是农业推动了古代安第斯社会的发展”就可以了。

B项说“安第斯地区 3600 年前的人类以沿海打鱼为主，直到 2800 年前左右才逐渐向内陆迁徙”（隐含：在 3600—2800 年前安第斯人以打鱼为生并，那时并没有农业，意在强调：并不是农业推动了古代安第斯社会的发展）。如果 B 项为真，那么就直接推翻了题干的论证。

所以，正确选项是 B。

99. 谷子大约在 5000 万年前开始从水稻中分化出来，分化之后的基因组结构仍存在明显的共线性。研究人员发现谷子的 2 号和 9 号染色体分别由水稻的 7 号和 9 号，3 号和 10 号染色体融合而成。同时，他们发现这两次融合事件也发生在高粱的染色体中，由此，研究人员推测这两次染色体融合事件应该发生在高粱从谷子中分化出来之前。

上述推理需要以下哪项作为前提？

- A. 高粱从谷子中分化出来发生在谷子从水稻中分化出来之后
- B. 高粱与谷子之间的共线性小于高粱和水稻之间的共线性
- C. 3 号和 10 号染色体融合之后不大可能再分离开
- D. 谷子由水稻分化出来之后又发生一次染色体融合事件

**【答案】A。解析：**

本题属于“搭桥型”。

题干论证的结论是：这两次染色体融合事件应该发生在高粱从谷子中分化出来之前。论据是：他们发现这两次融合事件也发生在高粱的染色体中。

难道仅仅根据“这两次融合事件也发生在高粱的染色体中”，就能得出“这两次染色体融合事件应该发生在高粱从谷子中分化出来之前”这样的结论吗？二者之间显然没有必然联系。要在论据与结论之间“搭桥”，关键是要建立起“两次染色体融合事件”与“发生在高粱从谷子中分化出来之前”之间的必然联系。

明确建立这个联系的只有 A 项。A 项说：“高粱从谷子中分化出来发生在谷子从水稻中分化出来之后”。根据“引入否定法”，如果高粱从谷子中分化出来不是发生在谷子从水稻中分化出来之后，那么，所谓“这两次染色体融合事件应该发生在高粱从谷子中分化出来之前”的说法就不可能成立了。因此，如果 A 项为真，能够支持题干论证。

所以，正确选项是 A。

100. 很多医学专家提出过量饮用咖啡对健康有害。为验证过量饮用咖啡对心脏的影响，研究人员选取了两组被试者，第一组被试者每天饮用 5 杯或 5 杯以上咖啡，第二组被试者从不饮用咖啡。一段时间后发现，第一组被试者中患心脏病的比例明显高于第二组被试者。因此，研究人员得出结论，过量饮用咖啡增加心脏病的风险。

以下哪项如果为真，最能质疑上述论证？

- A. 研究发现，每日饮用 2 杯咖啡的人心脏功能未受影响
- B. 在研究期间，第一组被试者每日的运动量大大小于第二组被试者
- C. 除影响心脏功能外，咖啡中所含的咖啡因还易引发焦虑症
- D. 第一组被试者中部分人每日饮用 10 杯咖啡

**【答案】B。解析：**

本题属于“削弱型”。

题干的结论是：过量饮用咖啡增加心脏病的风险。得出结论的前提是：大量饮用咖啡的第一组被试者中患心脏病的比例明显高于第二组被试者。

题目要求考生做的，就是从四个备选项中找出一个“唱反调”的选项来对题干陈述的论证进行反驳，从而使其不能成立。怎样才能使题干的论证不能成立呢？只要指出“并不是过量饮用咖啡增加了心脏病的风险”就可以了。

B项说“在研究期间，第一组被试者每日的运动量大大小于第二组被试者”（隐含：并不是过量饮用咖啡增加了心脏病的风险，而是因为每日的运动量太小）。如果B项为真，那么就直接推翻了题干的论证。

A、C、D项都隐含饮用咖啡增加心脏病的风险，都是支持项，排除。

所以，正确选项是B。

**第四部分结束，请继续做第五部分！**

## 第五部分 资料分析

（共20题，参考时限25分钟）

所给出的图、表、文字或综合性资料均有若干个问题要你回答。你应根据资料提供的信息进行分析、比较、计算和判断处理。

一、根据所给资料，回答101—105题。

2014年1—4月中国农产品进出口情况

类别 \ 指标	出口额 (亿美元)	同比增减 (%)	进口额 (亿美元)	同比增减 (%)
农产品	217.0	3.7	429.4	19.0
其中：				
谷物	1.2	-58.0	22.0	50.3
棉花	-	-	20.6	-41.0
食糖	-	-	5.0	13.3
食用油籽	5.4	2.8	142.6	33.3
食用植物油	0.6	17.2	26.5	-11.6
蔬菜	38.3	8.7	1.5	22.6
水果	18.5	-5.0	18.8	20.6
畜产品	22.1	14.3	85.0	34.7
水产品	61.9	-2.8	32.1	14.6

101. 2014年1~4月，以下哪种农产品进出口总额占同期农产品进出口总额的比重超过20%？

- A. 食用油籽                      B. 蔬菜                              C. 畜产品                              D. 水产品

**【答案】A。解析：**

解题逻辑：某种农产品进出口总额 ÷ 某种农产品同期进出口总额 > 20%

本题问比重超过20%，且为单选题，因此只要找出相对于进口总额，出口总额最大的即可。直接对比数据可知，“食用油籽”符合要求。

所以，正确选项是A。

102. 2013年1~4月，以下农产品进出口贸易额呈现顺差关系的是：

- A. 谷物                      B. 食用油籽                      C. 畜产品                      D. 水果

**【答案】D。解析：**

所谓顺差，指出口额大于进口额。

解题逻辑：2013年1~4月某种农产品出口贸易额>某种农产品同期进口贸易额。

解题公式：2013年1~4月某种农产品出口或进口贸易额=2014年1~4月某种农产品出口或进口贸易额÷(1+同比增长率)

不需要精确计算，直接估算对比可知，2013年的谷物、食用油籽、畜产品的进口额大于出口额太多，不可能是顺差关系，排除。

只有水果的进出口贸易额呈现顺差关系。

所以，正确选项是D。

103. 2014年1~4月，食用植物油进出口总额比上年同期约：

- A. 减少了11%                      B. 增加了3%                      C. 增加了11%                      D. 减少了3%

**【答案】A。解析：**

解题公式：数量A与B的两个部分分别增长a%与b%，那么A与B的整体混合增长率为：

混合增长率为=(A×a% + B×b%) / (A+B)      (混合增长率必然在a%和b%之间)

2014年1~4月，食用植物油进口总额比上年同比增长-11.6%，出口总额比上年同比增长17.2%。则食用植物油进出口总额比上年同期的整体混合增长率，必然处在-11.6%和17.2%之间。考虑到2014年1~4月食用植物油的进口总额为26.5，而出口总额仅有0.6，几乎可以忽略不计，因此估算为：混合增长率必然更靠近-11.6%。

所以，正确选项是A。

104. 表中2014年1~4月进口额与出口额都高于上年同期水平的农产品有几类？

- A. 2                      B. 3                      C. 4                      D. 5

**【答案】B。解析：**

解题逻辑：求2014年1~4月某种农产品进口额和出口额，两个数额都高于上年同期水平的农产品。

不需要精确计算，直接读取表格数据（进出口同比增长率均为正数的农产品种类）可知，共有食用油籽、蔬菜、畜产品等3类符合要求。

所以，正确选项是B。

105. 关于2014年1~4月农产品进出口贸易，能够从上述资料推出的是：

- A. 超出半数农产品进出口额同比增速低于农产品平均增速  
B. 食用油籽出口额占总出口额比重高于上年同期  
C. 上年同期棉花进口额低于谷物  
D. 农产品进出口贸易差高于上年同期

**【答案】D。解析：**

解题逻辑：求“能够从上述资料推出”的一项。

A项，直接对比数据估算，共9类农产品，符合要求的只有4个，不到半数。不能从资料推出，排除。

B项，食用油籽出口额增速低于农产品总出口额增速，因此比重不是高于上年同期，而是低于上年同期。不能从资料推出，排除。

C项，直接对比数据估算可知，上年同期棉花进口额明显高于，而不是低于上年同期谷物。不能从资料推出，排除。

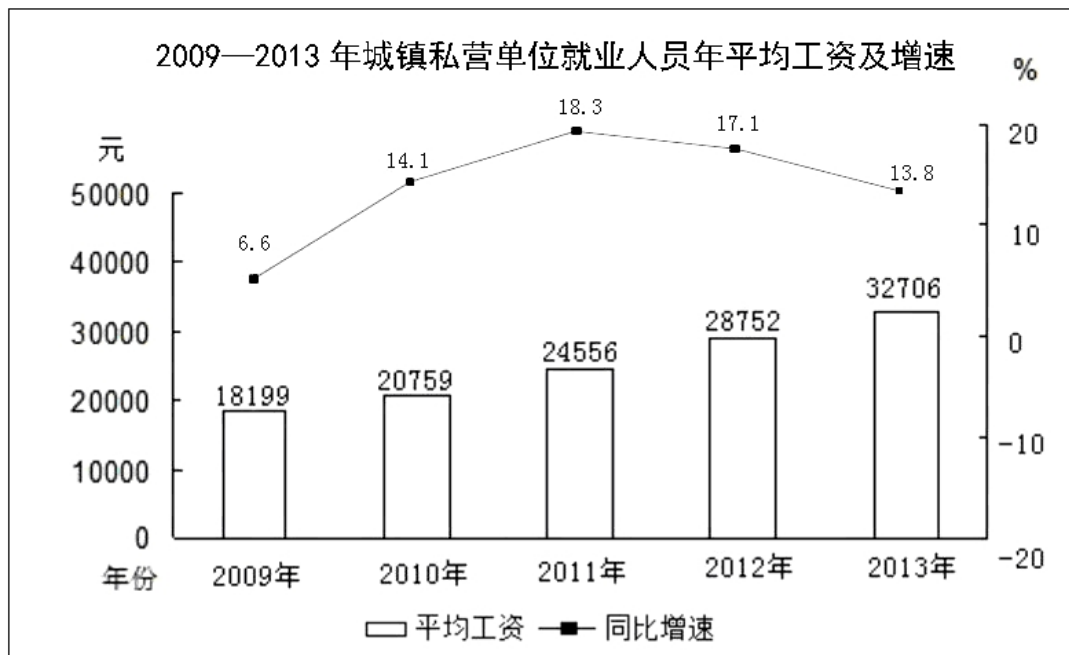
D项，直接对比数据估算可知，农产品的进口额增长得更快，因此农产品进出口贸易差必然是变大

了。能够从资料推出。

所以，正确选项是D。

二、根据所给资料，回答106~110题。

2012—2013年城镇私营单位部分行业就业人员年平均工资 单位：元		
行业	2012年	2013年
农、林、牧、渔业	21973	24645
采矿业	29684	33081
制造业	28215	32035
建筑业	30911	34882
交通运输、仓储和邮政业	28159	33141
住宿和餐饮业	23933	27352
信息传输、软件和信息技术服务业	39518	44060
金融业	32696	37253
房地产业	30778	35038
科学研究和技术服务业	36598	42854
文化、体育和娱乐业	26177	30402



106. 2009~2012年，城镇私营单位就业人员年平均工资同比增长不到3000元的年份有几个？

- A. 0                      B. 1                      C. 2                      D. 3

【答案】C。解析：

解题逻辑：求2009年、2010年、2011年、2012年这4个年份中，城镇私营单位就业人员年平均工资同比增长的金额不到3000元的年份有几个。

根据柱状图直接读取数据，2010年、2011年和2012年的数据直接与上年的数据相减，即可求增长量，其中2011年、2012年均超过3000元，只有2010年的不到3000元。

2009年的增长量需要根据2009年的同比增长率来求,2009年的同比增长率为6.6%,则2009年较2008年的同比增长量约为:  $18199 - [18199 \div (1+6.6\%) ]$ , 估算可知很明显小于3000。

因此,2009~2012年,城镇私营单位就业人员年平均工资同比增长不到3000元的年份只有2011年和2012年2个年份。

所以,正确选项是C。

107. 如果按照2013年的同比增量计算,城镇私营单位就业人员年平均工资在哪一年超过5万元?

- A. 2017                      B. 2018                      C. 2019                      D. 2020

**【答案】B。解析:**

解题逻辑: 根据2013年的同比增量:  $32706 - 28752 = 3954$ 元,求城镇私营单位就业人员年平均工资在哪一年超过5万元。

已知2013年城镇私营单位就业人员年的平均工资为32706元,如果每年增加3954元,则达到平均工资超过5万元需要时间为:  $(50000 - 30726) \div 3954 > 4$ (年),也就意味着需要5年,即在2018年。

所以,正确选项是B。

108. 2013年城镇私营单位就业人员平均工资与城镇私营单位行业就业人员年平均工资最接近的行业,其2012年的平均工资比城镇私营单位:

- A. 高300多元              B. 高900多元              C. 低500多元              D. 低600多元

**【答案】B。解析:**

解题逻辑: 2013年城镇私营就业人员年平均工资为32706元,根据表格数据可知,2013年就业人员平均工资与这个数据最接近的行业是采矿业(33081元)。

根据柱状图可知:2012年城镇私营单位就业人员平均工资28752元;2012年采矿业就业人员年平均工资为29684元。 $29684 - 28752 > 900$ (元)。也就是高900多元。

所以,正确选项是B。

109. 以下哪个行业2013年平均工资的同比增速超过15%?

- A. 科学研究和技术服务                      B. 农、林、牧、渔业  
C. 建筑业                                      D. 信息传输、软件和信息技术服务业

**【答案】A。解析:**

解题逻辑: 求四个选项所列行业中2013年平均工资的同比增速超过15%的一个行业。

根据表格可知四个选项所列行业2012年和2013年的数据。同比增长率=  $(2013年数据 - 2012年数据) \div 2012年数据$ 。

估算可知,只有A项“科学研究和技术服务”的增长率超过了15%。

所以,正确选项是A。

110. 能够从上述资料推出的是:

- A. 表中所有行业2012年的人均月工资都不足3000元  
B. 表中只有3个行业2013年的人均工资不再3~4万元范围  
C. 金融业2013年人均工资同比增量低于交通运输、仓储和邮政业  
D. 图中平均工资同比增速最快与同比增量最大的年份是同一年

**【答案】C。解析:**

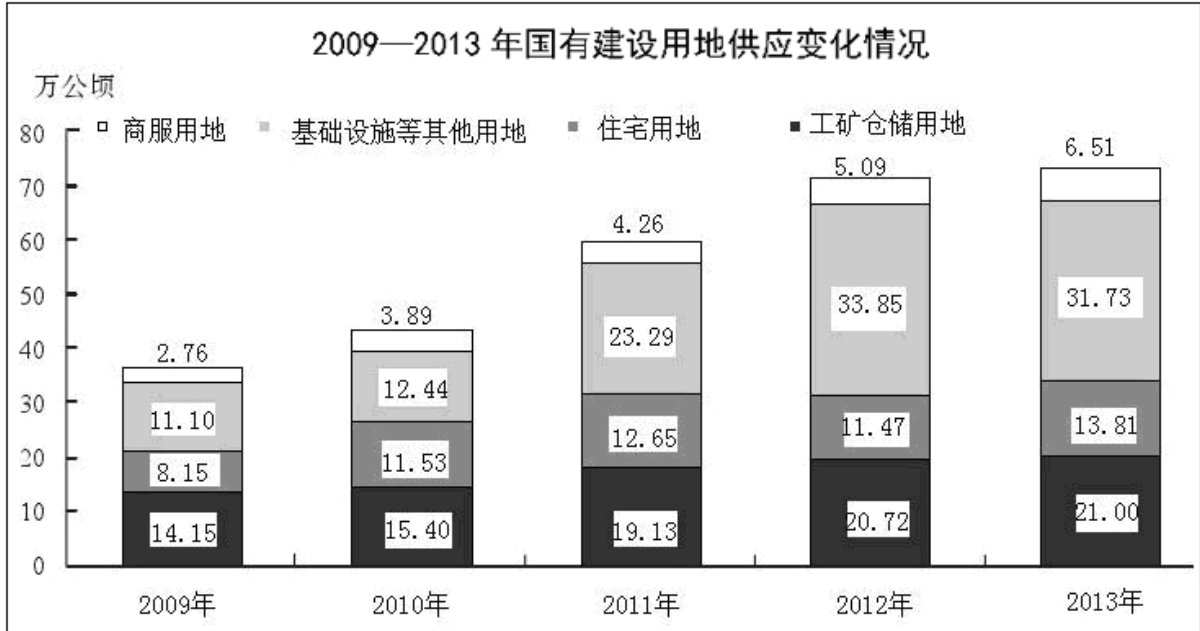
解题逻辑: 求“能够从上述资料推出”的一项。

C项,2013年金融业人均工资同比增量为:  $37253 - 32696 \approx 4600$ 元;2013年交通运输、仓储和邮政业人均工资同比增量为:  $33141 - 28159 = 5000$ 元。因此,金融业2013年人均工资同比增量的确低于交通

运输、仓储和邮政业。可以从资料中推出。

所以，正确选项是 C。

### 三、根据所给资料，回答 111~115 题。



111. 与 2012 年相比，2013 年土地供应增加面积最多的是：

- A. 工矿仓储用地
- B. 商服用地
- C. 基础设施等其他用地
- D. 住宅用地

**【答案】D。解析：**

解题逻辑：求与 2012 年相比，2013 年土地供应增加面积最多的一项。

解题公式：2013 年土地供应增加面积 - 2012 年土地供应增加面积。

根据柱状图直接查找数据估算可知，很明显只有住宅用地的增加面积超过了 2，其他三项都小于 2。所以，正确选项是 D。

112. 以下各年中，国有建设用地供应面积同比增量最多的年份是：

- A. 2010
- B. 2011
- C. 2012
- D. 2013

**【答案】B。解析：**

解题公式：国有建设用地供应面积同比增量 = 本年供应面积 - 上一年供应面积。

不必要将每年的四个数据相加求和后再求增量，可以通过观察柱状图的高度差直接得出答案（可以借助直尺辅助观察）。观察可知，2011 年的柱子比 2010 年的柱子增高最多。是同比增量最多的年份。所以，正确选项是 B。

113. 2013 年工矿仓储用地占国有建设用地供应面积的比重约为：

- A. 21.0%
- B. 28.7%
- C. 33.3%
- D. 42.8%

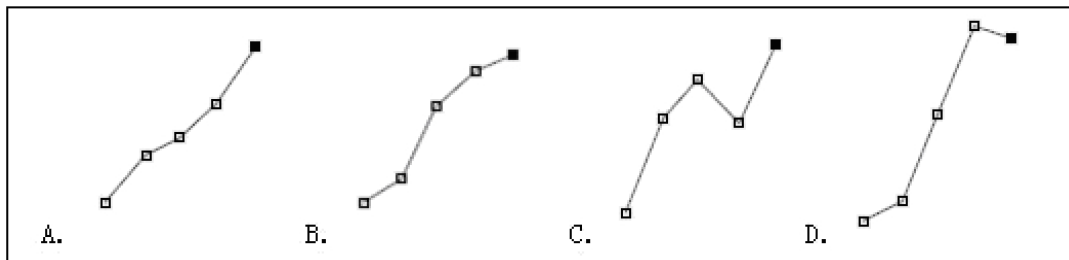
**【答案】B。解析：**

解题公式：比重 = 2013 年工矿仓储用地面积 / 2013 年国有建设用地供应面积。

2013 年工矿仓储用地面积为 21，2013 年国有建设用地供应面积为：6.51+31.73+13.81+21≈73。则比重为：21/73=28.7%。

所以，正确选项是 B。

114. 以下哪条曲线能正确反映 2009~2013 年住宅用地面积的变化情况？



**【答案】C。解析：**

解题逻辑：求正确反映 2009~2013 年住宅用地面积的变化情况的曲线。

观察 2009~2013 年住宅用地面积的数据变化情况可知，除了 2012 年为下降，其他年份都是上升，只有 C 曲线符合变化情况。

所以，正确选项是 C。

115. 能够从上述资料推出的是：

- A. 2009~2013 年，商服用地供应量占国有建设用地的比重均低于 10%
- B. 2010 年~2013 年，基础设施等其他用地面积均高于工矿仓储用地面积
- C. 2010 年我国国有建设用地供给总面积首次突破 45 万公顷
- D. 2012 年基础设施等其他用地面积超过其它 3 项用地面积之和

**【答案】A。解析：**

解题逻辑：求“能够从上述资料推出”的一项。

A 项，比重 = 商服用地供应量 / 国有建设用地。不需要精确计算，估算可知，2009~2013 年商服用地供应量占国有建设用地的比重均低于 10%。A 项可以从资料中推出。

所以，正确选项是 A。

#### 四、根据所给资料，回答 116~120 题。

2014 年 1~2 月，我国金融市场总体运行平稳。

##### (一) 债券市场发行情况

1 月份，债券市场发行债券 4041.7 亿元，同比减少 24.8%，环比减少 27.1%。其中，银行间债券市场发行债券 3927.9 亿元，环比减少 19.6%。2 月份，债券市场发行债券 5880.9 亿元，同比增加 15.7%。其中，银行间债券市场发行债券 5780.5 亿元，环比增加 47.2%。

1~2 月，债券市场累计发行债券同比减少 5.1%，其中，银行间债券市场累计发行债券同比减少 4.7%。

##### (二) 货币市场运行情况

1 月份，货币市场成交总量共计 14.4 万亿元，同比减少 18.6%，环比减少 14.5%。其中，同业拆借市场成交 2.3 万亿元，同比减少 40.2%，环比增加 2.8%；质押式回购成交 11.6 万亿元，同比减少 14.1%，环比减少 16.7%；买断式回购成交 5650.3 亿元，同比增加 30.6%，环比减少 26.4%。

1~2 月，货币市场成交量共计 26.2 万亿元，同比减少 14.4%。其中，同业拆借市场累计成交 4.0 万亿元，同比减少 39.4%；质押式回购累计成交 21.2 万亿元，同比减少 8.9%；买断式回购累计成交 1.0 万亿元，同比增加 35.1%。

##### (三) 债券市场运行情况

1 月份，银行间债券市场现券交易累计成交 1.9 万亿元，同比减少 76.1%，环比减少 1.6%。1 月末，

银行间债券总指数为 145.35，环比上升 0.98%。交易所国债指数为 139.58，较去年 12 月末上升 0.04%。

1~2 月，银行间债券市场现券交易累计成交 4.0 万亿元，同比减少 69.6%。

116. 2013 年 12 月份银行间债券市场发行债券占债券市场发行总额的比重约为：

- A. 97%                      B. 99%                      C. 62%                      D. 88%

**【答案】D。解析：**

解题逻辑：求 2013 年 12 月份银行间债券市场发行债券占债券市场发行总额的比重。

解题公式：基期 = 末期 ÷ (1 + 环比增长率)

资料(一)：2014 年 1 月份的量和环比增长率：1 月份，债券市场发行债券 4041.7 亿元，同比减少 24.8%，环比减少 27.1%。其中，银行间债券市场发行债券 3927.9 亿元，环比减少 19.6%。

据此可以求 2013 年 12 月份债券市场发行总额为： $4041 \div (1 - 27.1\%) \approx 5500$ 。银行间债券市场发行债券为： $3927.9 \div (1 - 19.6\%) \approx 4900$ 。

则 2013 年 12 月份银行间债券市场发行债券占债券市场发行总额的比重为： $4884 \div 5543 \approx 0.9$ 。即 90%，与 D 项的数据最为接近。

所以，正确选项是 D。

117. 2013 年 1~2 月银行间债券市场累计发行债券约多少亿元？

- A. 9187                      B. 9830                      C. 10187                      D. 11230

**【答案】C。解析：**

解题逻辑：求 2013 年 1~2 月银行间债券市场累计发行债券总额。

解题公式：基期 = 末期 ÷ (1 + 同比增长率)

资料(一)：2014 年 1 月份……银行间债券市场发行债券 3927.9 亿元，2 月份……银行间债券市场发行债券 5780.5 亿元。1~2 月……银行间债券市场累计发行债券同比减少 4.7%。

则 2014 年 1~2 月份银行间债券市场累计发行债券为： $3927.9 + 5780.5 = 9708.4$  (亿元)。

则 2013 年 1~2 月份银行间债券市场累计发行债券为： $9708.4 \div (1 - 4.7\%) = 10187$  (亿元)。

所以，正确选项是 C。

118. 根据 2014 年 1 月各类型货币交易成交金额，从高到低排序正确的是：

- A. 同业拆借、质押式回购、买断式回购                      B. 质押式回购、同业拆借、买断式回购  
C. 买断式回购、质押式回购、同业拆借                      D. 买断式回购、同业拆借、质押式回购

**【答案】B。解析：**

解题逻辑：求 2014 年 1 月，各类型货币交易成交金额，从高到低的正确排序。

资料(二)：1 月份，……其中，同业拆借市场成交 2.3 万亿元，……质押式回购成交 11.6 万亿元，……买断式回购成交 5650.3 亿元……。

不需要精确计算，找到相关数据直接排序即可。从高到低排序正确的是：质押式回购、同业拆借、买断式回购。

所以，正确选项是 B。

119. 2014 年 2 月份，银行间债券市场现券交易累计成交额较上年同期减少了多少万亿元？

- A. 3.1                      B. 4.1                      C. 6.9                      D. 7.9

**【答案】A。解析：**

解题逻辑：求 2014 年 2 月份，银行间债券市场现券交易累计成交额较上年同期减少了多少万亿元。

资料(三)：2014 年 1 月份，银行间债券市场现券交易累计成交 1.9 万亿元，同比减少 76.1%，……1~2 月，银行间债券市场现券交易累计成交 4.0 万亿元，同比减少 69.6%。

已知末期值和同比增长率，求同比增长量的公式为：同比增长量 = [末期值 ÷ (1 + 同比增长率)] ×



同比增长率

2014年1~2月同比增长量为： $[4 \div (1-69.6\%)] \times (-69.6\%) \approx -9$

2014年1月同比增长量为： $[1.9 \div (1-76.1\%)] \times (-76.1\%) \approx -6$

则2014年2月份，银行间债券市场现券交易累计成交额较上年情况为： $-9 - (-6) = -3$ 。也就是减少3万亿。与A项的数据最为接近。

所以，正确选项是A。

120. 下列关于2014年1~2月我国金融市场的描述，能够从上述资料中推出的是：

- A. 2013年1月，货币市场成交总量约为12万亿元
- B. 2014年1月，同业拆借市场成交额占货币市场成交总量比重低于上月水平
- C. 2014年1~2月，同业拆借市场累计成交额同比下降了2万亿元以上
- D. 2013年12月，交易所国债指数高于同期银行间债券总指数

**【答案】C。解析：**

解题逻辑：求“能够从上述资料推出”的一项。

A项，根据资料（二），2014年1月份，货币市场成交总量共计14.4万亿元，同比减少18.6%，可知：2013年1月货币市场成交总量必然大于14.4万亿。因此A项说法错误，排除。

B项，根据资料（二），2014年1月份，货币市场成交总量共计14.4万亿元，……环比减少14.5%。其中，同业拆借市场成交2.3万亿元，……环比增加2.8%。

比较现基期比重大小，只需要观察部分和整体的增长率即可。根据资料数据，同业拆借市场成交额环比增长率为：2.8%，明显高于市场成交总量的环比增长率：-14.5%。因此，比重不可能低于上月水平，而是高于上月水平。B项说法错误，排除。

C项，根据资料（二），2014年1~2月，……同业拆借市场累计成交4.0万亿元，同比减少39.4%。可知2014年1~2月同业拆借市场累计成交额同比情况为： $[4 \div (1-39.4\%)] \times (-39.4\%) \approx -2.7$ 。也就是说，必然下降了2万亿以上。因此，C项能够从资料推出。

D项，根据资料（三），2014年……1月末，银行间债券总指数为145.35，环比上升0.98%。交易所国债指数为139.58，较去年12月末上升0.04%。简单估算可知：2013年12月交易所国债指数不是高于，而是低于同期银行间债券总指数。因此D项说法错误，排除。

所以，正确选项是C

**全部测验到此结束！**

请扫描QQ二维码，备注“公务员考生”加QQ好友，获取曹长远老师精解历年公务员考试申论、行测、面试真题完整解析资料。

精品资料，尽在掌握！



扫描二维码，加QQ好友