

2018年4月21日山东省公务员考试

## 《行政职业能力测验》真题答案解析

### 说明

一、此项测验分为五个部分，共120题，总时限120分钟，各部分不单独计时，但都给出参考时限，供答题时合理分配时间。

二、此项测验科目代码为“1”。请按照要求在答题卡上填写好自己的姓名，涂写好准考证号、科目代码。

三、必须在答题卡上答题：在题本上答题，一律无效。

严禁折叠答题卡！

### 第一部分 言语理解与表达

(共30题，参考时间30分钟)

本部分包括表达与理解两方面的内容。请根据题目要求，在四个选项中选出一个最恰当的答案。

1. 我们中有很多人并不甘心，想叛逆，想抵抗，他们不惜将世人视同生命的“安全感”抛之脑后。人们\_\_\_\_\_的“安全而平庸的幸福”对他们而言无异于毒药，而世人避之不及的\_\_\_\_\_的状态，却恰恰是他们最赖以生存的空气。

A. 心驰神往 大起大落  
C. 梦寐以求 危机四伏

B. 求之不得 波翻浪涌  
D. 众星捧月 动荡不安

**【答案】C。解析：**

第一空，根据“世人视同生命的‘安全感’”可知，人们无比向往、追求“安全而平庸的幸福”，因此横线处需体现出向往、追求之意。A项“心驰神往”形容思想集中在追求和向往的事情或地方上，一心向往；B项“求之不得”与C项“梦寐以求”形容迫切地期望得到，三项均符合文意。D项“众星捧月”比喻众人拥护着受尊敬爱戴的人，与文意不符，排除。

第二空，根据“而”可知，横线处所填词语与前面的“安全而平庸”语意相反，表示不安全、不平庸之意，C项“危机四伏”比喻到处隐藏着危险的祸根，语义恰当，当选。A项“大起大落”表示起伏变化大，不能体现不安全之意，排除；B项“波翻浪涌”形容水势大而凶猛，与文意无关，排除。

所以，正确选项是C。

2. 从碎片化、孤立化应用为主的起步阶段，迈入跨界融合、集成创新的新阶段，物联网大规模爆发式增长的序幕已经开启。智能硬件、可穿戴设备、联网车辆发展迅猛，正是物与物、物与人加速连接的\_\_\_\_\_。物联网将信息化与传统领域深度融合，也在重塑生产组织方式，\_\_\_\_\_产业形态。

A. 诱因 调整  
C. 结果 构建

B. 条件 创新  
D. 印证 变革

**【答案】D。解析：**

第一空，根据文意，物联网的发展推动了智能硬件等事物的发展，透过智能硬件等的发展可以看出物与物、物与人正在加速连接，C项“结果”、D项“印证”均符合文意。A项“诱因”、B项“条件”属于因果倒置，排除。

第二空，空格所在分句与“重塑生产组织方式”并列，空格所填词语与“重塑”对应，含有“变化”之意。D项“变革”指改变事物的本质，符合文意。C项“构建”指全方位、多角度、深层次地建设，没有“变化”的意思，排除。

所以，正确选项是 D。

3. 儒家在对“君子”进行阐述的时候，采取了一种极为\_\_\_\_\_的理论技巧，那就是不直接定义“君子”，只是反复\_\_\_\_\_它的对立面。“君子”的对立面，就是“小人”。用一系列的否定，来完成一种肯定。这种方法，在逻辑学上，是通过\_\_\_\_\_外延，来包围内涵。

- A. 罕见 列举 缩小  
B. 精当 强调 剔除  
C. 巧妙 叙述 限制  
D. 高明 描绘 确认

**【答案】D。解析：**

第一空，根据文意，儒家对“君子”进行阐述时，不直接定义“君子”，而是通过对立面去阐述。

C项“巧妙”指灵巧高妙，D项“高明”指技艺高超，均能体现出方法的高妙，符合文意。

A项“罕见”强调十分少见，儒家对“君子”进行间接定义的方法并非如此“罕见”，排除；B项“精当”指精确恰当，通过对立面进行阐述的方法属于“间接”的方法，不一定精确，排除。

第二空，根据文意，儒家通过阐述什么是“小人”，界定“君子”的含义，因此空缺处有阐述之意。D项“描绘”指描写，符合文意。C项“叙述”指记述，是记叙性文章的主要表达方式，用来展开情节，交代人物活动

和事件经过，而“它的对立面”并非一个事件，故与“叙述”搭配不当，排除。初步判定正确答案为 D。

第三空，代入验证，“确认”外延，在文中指先阐述并确定“君子”的对立面，进而定义“君子”，符合文意。

所以，正确选项是 D。

4. 数字世界的革命固然玄妙，但其经济规模和在人们生活中的重要程度，直到今天，仍旧不能与实体世界\_\_\_\_\_。

- A. 同日而语  
B. 旗鼓相当  
C. 一决高下  
D. 平分秋色

**【答案】A。解析：**

BD 强调相当，意思相近，排除。C 的“决高下”与文意不符，排除。

所以，正确选项是 A。

5. 在会展场馆、组展商实力和展会项目三大指标上全面领跑，使德国得以称雄全球会展业。德国企业\_\_\_\_\_, 大量中小企业从家门口举办的国际高品质展会中获益匪浅，“德国制造”和“优质展会”\_\_\_\_\_, 共同助推德国经济的发展。

- A. 蜂拥而至 相辅相成  
B. 近水楼台 相得益彰  
C. 不期而遇 并驾齐驱  
D. 摩拳擦掌 同舟共济

**【答案】B。解析：**

第一空，呼应“大量中小企业从家门口举办的国际高品质展会中获益匪浅”，选择 B 项“近水楼台”。

所以，正确选项是 B。

6. 或许，技术的进步总会带来焦虑，尼采曾对“短暂之物”报纸的出现怒不可遏。后来，“热闹”的电视取代了“冷静”的报纸；今天，“\_\_\_\_\_”的网络又取代了“群聚”的电视。技术的\_\_\_\_\_可以改变我们的相处方式，但情感的交互却从来不是技术可以替代的。

- A. 孤独 更新迭代  
B. 隔离 日新月异  
C. 单一 此消彼长  
D. 寂寞 革故鼎新

**【答案】A。解析：**

第一空，与“群聚”词义相反，选择“孤独”。

所以，正确选项是A。

7. 女性争取平等权利的步伐从未停止，她们总会寻找各种途径，与\_\_\_\_\_的性别歧视进行抗争。如抗议企业招聘中的性别歧视，\_\_\_\_\_国民教育为女性提供更多平等的受教育机会等。

- A. 根深蒂固 呼吁  
B. 形形色色 倡议  
C. 司空见惯 要求  
D. 习以为常 迫使

**【答案】B。解析：**

第一空，呼应“各种途径”，选择“形形色色”；第二空，呼应“抗议”，选择“倡议”。

所以，正确选项是B。

8 媒体和科学家所追求的目标是不一致的：媒体追求的是新闻性，而科学则需要\_\_\_\_\_的方法。新闻记者们需要用通俗的标题来传达简单而新奇的内容，而科学方法则强调知识的积累、不同术语间的细微差别和对一切事物的质疑态度。然而，等到某一领域的科学知识真正到了值得用来投资或能够改变生活的时候，这些早就变成\_\_\_\_\_了。

- A. 系统 不刊之论  
B. 理性 泛泛之谈  
C. 简洁 齿牙余论  
D. 严谨 明日黄花

**【答案】D。解析：**

第一空，与“新闻性”词义相反，新闻偏感性，因此选择BD，排除AC。

第二空，呼应“然而，等到……的时候，早已……”，意在强调“过时”，选择“明日黄花”。

所以，正确选项是D。

9. 当下的功夫片质量普遍粗糙，丢失了功夫片\_\_\_\_\_的优良传统。此外，一些功夫片过于强调动作，未找到更新的故事表达方法，使得作品越来越套路化，造成了生产和消费之间的\_\_\_\_，这些都是导致部分中国功夫片遭遇市场困境的原因。

- A. 精雕细琢 错位  
B. 脚踏实地 脱节  
C. 革故鼎新 鸿沟  
D. 一丝不苟 差异

**【答案】A。解析：**

第一空，与“粗糙”词义相反，排除BC。

第二空，呼应“生产和消费之间”，选择A。

所以，正确选项是A。

10. “大众娱乐”这个标签并非贬义，恰恰相反，要想让消费者\_\_\_\_\_地为娱乐埋单，其实很是考验创作者的能力。艺术家们或许会对商业叙事作品的生产者开发出的一整套完备的叙事模式\_\_\_\_\_，但这也是一种能力的体现。

- A. 乐此不疲 漠然置之  
B. 毫不犹豫 不屑一顾  
C. 心甘情愿 嗤之以鼻  
D. 趋之若鹜 冷眼相对

**【答案】C。解析：**

第一空，呼应“买单”，排除BD。

第二空，呼应“艺术家们或许会对商业叙事作品的生产者开发出的一整套完备的叙事模式”，选择C。

所以，正确选项是C。

11. 文化的基本使命是立人，通过文化的教化和积淀，有效地协调人与自然、社会及自我的关系，培养健全的、充分发展的社会的人。文化对于人的塑造体现在人的自立、自强、自尊、自信等文化心态的确立以及人类社会人文氛围的形成上。在人类历史的长河中，文化以道德、宗教、艺术、教育等各种生活内容存在，并通过家庭启蒙、社会心理、社会舆论等多种手段向整个社会和民族传播和教化，使社会形成一种文化的氛围，并获得可持续发展的可能。

这段文字主要阐述了文化具有：

- A. 塑造功能
- B. 濡化功能
- C. 调节功能
- D. 传播功能

**【答案】B。解析：**

概括主旨。概括关键词。

通过文化的教化和积淀……文化对于人的塑造……向整个社会和民族传播和教化……因此，文化具有“教化”——濡化功能。

所以，正确选项是 B。

12. 农业危机根本上也是资源危机，关键是土地资源。我们总希望自己的住房大一点，然而，土地是有存量没有增量的要素，人类的需求却是没有止境的。所以，更多的农业用地被工业侵占，更多的农村土地被城市侵占，农业危机的根源就在这里。发达国家已经完成工业化，进入所谓后现代社会了，已经没有改弦更张的可能了。\_\_\_\_\_。

填入画横线部分最恰当的一项是：

- A. 因此，我们应该把为数不多的土地做成高附加值的东西
- B. 我们所能做的，就是改变过度消耗资源的产业体系
- C. 我们要提高技术进步对经济增长的贡献率，改变生产和生活方式
- D. 这就提醒我们：面临资源环境压力，在产业升级中要保护好农田

**【答案】D。解析：**

推断文意。问题对策结构。前面说农业的危机的根源：更多的农业用地被工业侵占，更多的农村土地被城市侵占。后面提出对策：要保护好农田。

所以，正确选项是 D。

13. 英国人在印度发展种茶业，从一开始就明确了以需求为导向——\_\_\_\_\_。19 世纪上半叶，迷上喝茶的英国人为了摆脱中国对茶叶生产的控制，将茶树种子连同加工技艺一起，偷偷从中国带到了印度。从印度的阿萨姆和大吉岭地区开始，英国彻底改变了红茶的命运。到了 1860 年，投资者就明确意识到，在印度种茶是个能够赚钱的行当。伦敦和加尔各答等地的先行者开始购买茶园股份，在英属印度政府优惠政策的鼓励下，公司和有能力的欧洲人纷纷租地种茶。

填入画横线部分最恰当的一项是：

- A. 为了让茶叶变得廉价易得
- B. 殖民者为了获取更多的利润
- C. 满足英国国内对茶叶的极大需求
- D. 解决英国本土茶叶供应不足的问题

**【答案】A。解析：**

概括主旨。证明结构。

呼应“以需求为导向”、“英国人为了摆脱中国对茶叶生产的控制”，当然是为了更容易得到便宜的茶叶，因此选择 A。

所以，正确选项是 A。

14. 长期以来，研究人员认为人类是从大约 500 万年前的非洲猿分化而来的，不过最新发表的一项研究报告提出，欧洲发生的这种分化要早得多。关于人类起源的这一新假说的依据是，在希腊和保加利

亚洞穴里发现了720万年前的前人类遗骸。来自多个国家的研究人员对两个已知样本的牙根进行了分析。他们利用专门的X射线，即计算机断层检查技术，对来自希腊的下颌化石和来自保加利亚的上前臼齿化石进行了扫描，发现其特征表明这两个像人的古猿——外号“希腊人”，可能是前人类，即原始人类。

根据这段文字，以下说法正确的是：

- A. 原始人类从欧洲古猿分化而来
- B. “希腊人”古猿具有人的特征
- C. 研究人员只找到了欧洲古猿的牙根
- D. X射线技术能准确测算古猿人的年代

**【答案】B。解析：**

细节对比。发现其特征表明这两个像人的古猿——外号“希腊人”——→“希腊人”古猿具有人的特征。

所以，正确选项是B。

15. 美籍华裔物理学家李政道说“中国的算盘是世界上最古老的计算机”，英国学者李约瑟也把算盘誉为“中国第五大发明”。那么，算盘为何有如此魅力，以致得到两位学者这样高的推崇呢？就是它以框梁档珠的简单结构，配以形象精妙的珠算口诀，解决了加减乘除乃至开方的计算问题。在没有计算机的年代里，它对推动社会经济发展发挥了不可估量的作用。

这段文字主要介绍了：

- A. 算盘的结构和原理
- B. 算盘受推崇的原因
- C. 算盘对社会经济的作用
- D. 算盘在科技史上的地位

**【答案】B。解析：**

概括主旨。因果结构。那么，算盘为何有如此魅力，以致得到两位学者这样高的推崇呢？就是……。

所以，正确选项是B。

16. 规模化是工业现代化的重要方式之一，中国农业发展是否适应大规模农业生产模式还值得商榷。美国多年的大农场生产方式已经证明，集约化的农业生产会造成农业生态环境退化、生物多样性被破坏，进而影响到粮食安全。当前，我国人均耕地面积仅1.52亩，只有世界平均水平的45%，更远低于美国的人均水平，所以美国的大农场模式并不一定适合中国的发展。同时，我国农业现代化起步较晚，相较于美国等发达国家，无论是在农业科技还是经营管理方式上还存在一定差距，现代化的“步子”骤然迈得太大，很有可能造成上下层“脱节”。

这段文字接下来最可能说的是：

- A. 农业改革不应操之过急，而应稳扎稳打
- B. 发展大规模农业生产模式应吸取国外教训
- C. 农业生产的规模化应量体裁衣、因地制宜
- D. 生产环节的脱节是农业规模化发展的瓶颈

**【答案】C。解析：**

接下来说。并列结构。

所以美国的大农场模式并不一定适合中国的发展。同时，我国农业现代化起步较晚。意在强调我国的特殊国情，强调农业生产的规模化必须与我国国情相结合，也就是要因地制宜。

所以，正确选项是C。

17. ①没有细菌和感染的知识，就不会有无菌操作的概念

②知识，是人类认识自然的总结

③比如说，没有人体解剖和血型的知识，就无法成功输血

④这种总结的过程是连续的，由浅入深，由简单到复杂

⑤如果没有人体解剖、输血和无菌操作技术，就无法进行手术

⑥杰出的人物，只是把这种认识的过程大大向前推进，但他们也并不能跳过连续的认识发展过程而



前进

将以上 6 个句子重新排列，语序正确的是：

- A. ⑤①④③②⑥  
B. ⑥④③①②⑤  
C. ①⑤②④③⑥  
D. ②④⑥③①⑤

**【答案】D。解析：**

④“这种总结”必须指代②“……的总结”，②④捆绑。排除 AB。

③①⑤都是举例：没有……就没有……，必须并列。排除 C。

所以，正确选项是 D

18. ①随着商业在社会生活中地位的提高，商家的文化意识日益增强

②牌匾艺术熔书法、装饰和建筑艺术于一炉，呈现出丰富的形式

③尤其是经营长久的老字号，牌匾多出自名人名家手笔

④商业牌匾早期大多用于说明商号的经营性质

⑤虽然各自风格神韵不同，但大都具有深厚的造诣

⑥在文人的参与下，牌匾文雅含蓄，常有典故出处

将以上 6 个句子重新排列，语序正确的是：

- A. ②④①⑥③⑤  
B. ②③④①⑥⑤  
C. ④②③⑥⑤①  
D. ④①②③⑤⑥

**【答案】A。解析：**

②说“牌匾”，④说“商业牌匾”，商业牌匾是对牌匾的解读，应放在后面。因此②最适合作为首句。排除 CD。

③说老字号牌匾，必定是商业牌匾，不可能出现在④的前面。排除 B。

所以，正确选项是 A。

19. 量子力学是关于微观客体的基本理论框架，关于微观客体的所有科学规律都在此框架中。微观客体基本上是指原子或者更微观的粒子，比如电子和光子。宏观物体是由微观粒子构成，那么\_\_\_\_\_？有一种理论说原则上量子力学也适用于更大的客体，但是它们与环境耦合，从而失去量子行为。实验室里，确实有比原子大的东西被孤立，从而表现量子行为。虽然目前尚无定论，但可以肯定的是对于我们所在的现实宏观世界，不能直接套用量子力学。

填入画横线部分最恰当的一项是：

- A. 如何判断二者之间的明确界限  
B. 怎么确定量子力学的适用范围  
C. 该如何定义量子力学的构成条件  
D. 量子力学的研究客体该如何界定

**【答案】B。解析：**

根据文段最后的结论“但可以肯定的是对于我们所在的现实宏观世界，不能直接套用量子力学”，可知这段话主要是讨论量子力学的适用范围。

所以，正确选项是 B。

20. 地理结构上，中国大陆是一个面积辽阔、平坦完整的区块，是自给自足的一大片土地。南方的寮、越、高棉等，有丘陵峡谷高原等相隔，历史上从来没有北侵并造成困扰过。西边有沙漠阻绝，形成天然的屏障。零星的商旅僧人，可能往返跋涉，但是很难发生大规模的军事行动。东边是大海，在坚船利炮之前，安全是不成问题的。剩下的，只有北方来的强敌。因此，只要能挡得住北方的威胁，\_\_\_\_\_。

填入画横线部分最恰当的一项是：

- A. 中央政权就会有意识地排斥地方势力  
B. 中国大地便自成体系，唯我独尊

- C. 中原大地内部的诸多力量便取得平衡      D. 大一统的思维便会应运而生

**【答案】B。解析：**

主语：中国大陆……土地。呼应“自给自足的一大片土地”，选择：中国大地便自成体系，唯我独尊。

所以，正确选项是B。

21. 在付费知识的市场宣传重点中，最吸引人的莫过于能有效地利用碎片时间，如在等公共汽车、跑步时进行学习和提升自我，进而有效管理时间。这种碎片化学习的方式虽然看似很灵活，并可以提高时间利用率，但科学研究表明，它不能真正地让你吸收学到的知识，不符合大脑吸收知识的运行机制。那些让你啧啧称奇的金句，那些让你醍醐灌顶的时刻，过不了几日就会被忘得精光，更别提知识内化和迁移了。正如快餐虽然好吃，也有饱腹感，但并不代表有营养。

这段文字意在强调：

- A. 付费知识领域前景尚未明朗      B. 付费知识的宣传导向言不符实  
C. 学习是一个长期而艰苦的过程      D. “碎片化学习”的方式并不理想

**【答案】D。解析：**

主语关键词：碎片化学习。转折结构：这种碎片化学习的方式虽然看似很灵活，并可以提高时间利用率，但科学研究表明，它不能真正地让你吸收学到的知识，不符合大脑吸收知识的运行机制。意在强调：“碎片化学习”的方式并不理想。

所以，正确选项是D。

22. 近代以来人类的技术发展过程与古代不同。古代技术发展只是偶发事件，如火药、指南针等，尽管在军事史上产生过重大影响，由于结构简单，后续没有重大改进。而近代技术则不然，从织布机到蒸汽机，进而到内燃机、电动机，技术的进步是连续的，也是一个可期待的线性过程，因此可瞄准未来，进行过程上的超前式跨越。如钱学森在中国基础工业非常薄弱的情况下，就主张重点发展导弹而不是飞机；美国在人造地球卫星和载人航天落后于苏联的情况下，便直接推出阿波罗登月计划。这些都是跨越式发展的典型表现。

这段文字意在强调：

- A. 跨越式发展是抢占技术发展先机的前提      B. 现代技术发展的路径与古代有本质的区别  
C. 勇气和魄力是支持跨越式发展的精神品质      D. 对技术改进的无限追求才能实现跨越式发展

**【答案】A。解析：**

推断文意。因果结构。而近代技术则不然，……技术的进步是连续的，也是一个可期待的线性过程，因此可瞄准未来，进行过程上的超前式跨越。

意在强调：技术发展的条件是跨越式发展。

所以，正确选项是A。

23. 无论原著多么丰富精彩，文学经典改编成电视剧都是一次再创作。电视剧要尽可能地呈现原著复杂而沉重的主题，也要通过改编使片段式的故事汇成线条式的人物命运。古老土地的历史变迁、民族生存的生命反思、儒家文化的辉煌与没落、人性欲望的压抑与张扬……文学经典的母题，必须经由改编之手重新诠释。而且，无论怎么改，情节的推进，人物的塑造，剧情的发展，其本身都要符合人物内在的行为逻辑。

关于文学经典改编成电视剧的原则，文中没有涉及：

- A. 要突出文学经典的主题      B. 要有比较明确的主线  
C. 应具有合理的内在逻辑      D. 要使用必要的夸张手法

**【答案】D。解析：**

细节对比。文段没有提到“夸张收发”。

所以，正确选项是 D。

24. 近日，国家多部委联合发布了《关于办理刑事案件严格排除非法证据若干问题的规定》，从侦查、起诉、辩护、审判等方面，明确非法证据的认定标准和排除程序。所谓刑事案件中的“证据”，乃是定罪量刑的“依据”。根据我国的证据标准，只有达到“事实清楚、证据确实充分”的标准，才能判决一个公民有罪。如果证据材料不符合《刑事诉讼法》的“8种法定形式”，或者取得程序违反法律规定，就不属于合法证据，不能为法院所采信。尽管法律规定“白纸黑字”，严格排除非法证据，但从司法实践看，这类证据犹如顽固的牛皮癣禁而不止、杜而不绝。

这段文字接下来最可能讲的是：

- A. 非法证据无法严格排除的原因
- B. 《刑事诉讼法》“8种法定形式”的内容
- C. 非法证据对司法工作的影响
- D. 新规定出台的现实背景

**【答案】A。解析：**

转折结构。但从司法实践看，这类证据犹如顽固的牛皮癣禁而不止、杜而不绝。

下面应该讨论的可能是：非法证据为什么无法排除？应该怎样排除？

所以，正确选项是 A。

25. 当代社会呈城乡一体化发展趋势，文化的阶层和地域区别越来越小，民俗的地域性和群体性差别消失，民俗作为地区和人群的标识或认同的意义逐渐微弱。民俗也在审美化的趋势和背景下，成为时尚的，而非实用的。比如旅游场域中的刺绣或帽子等等，基本不会拿来用，而是用来装饰和收藏。民俗变为了一种浪漫的、时尚的消费品，沦为大众文化的一部分。

这段文字主要说的是：

- A. 应从美学角度来重构作为大众文化的民俗审美观
- B. 大众流行文化影响了普通百姓对民俗的审美品味
- C. 文化阶层与地域的差距缩小使民俗成为大众文化
- D. 城乡一体化的快速的发展趋势改变了民俗的性质

**【答案】D。解析：**

概括主旨。关键词：城乡一体化发展，民俗。

所以，正确选项是 D。

26. ①展望未来，第四次科技革命同样面临着诸多社会问题的考验，人类的未来也可能发生根本性重塑

②自动化逐渐代替人力，就业市场对教育和技能较低工人的需求下降，这次科技革命客观上正在造成一定的失业规模

③就像史蒂芬·霍金担心的，未来 20 年中机器将通过人工智能超越人类，发展出与人类相冲突的意志，从而导致人类文明史的终结

④当大部分人失去谋生手段时，必然会加剧社会关系的紧张

⑤历史上每一次重大科技进步在给人类带来惊喜和显性好处的同时，也给部分个体以及整个社会带来潜在的挑战

⑥科技创新是把双刃剑，它所带来的繁荣并不会成为真正的“百家乐”

将以上 6 个句子重新排列，语序正确的是：

- A. ⑤⑥①②③④
- B. ①③②④⑥⑤
- C. ⑥⑤①③②④
- D. ①②④③⑤⑥

**【答案】C。解析：**



①中的“同样”，决定了它不可能是第一句。

⑤的科技进步的好处是对⑥的“双刃剑”的解释。顺序必须为⑥⑤。

所以，正确选项是 C。

27. 民俗是文化的一种表现形态，即传统与文化的活态形式。它是经过千百年岁月的淘洗留下来的文化精华与现实结合的产物。民俗对于特定的群体有强烈的认同功能，对于当代社会的建设，具有不可替代的作用。

这段文字是从什么角度来定义“民俗”的？

- A. 群体建构
- B. 社会功能
- C. 价值观念
- D. 文化传承

**【答案】B。解析：**

民俗……对于当代社会的建设，具有不可替代的作用。即社会功能。

所以，正确选项是 B。

28. “天下为公”的基本含义是，天下是天下人所共有的，不是一个集团、一个群体的。在“天下为公”观念背后，我们看到的是中国人最基本的政治观念，也是过去四千年来中国政治运作的基本原则，那就是政治平等，人人都有参与天下之治理的机会。当然，参与方式非常多样，一个普普通通的人，也可以参与天下之治理，比如修身、齐家，这就是治国、平天下的内容和基础。

这段文字主要介绍了：

- A. 中国政治运作的基本原则
- B. “天下为公”的含义和表现
- C. 人们参与治理国家的多种形式
- D. “天下为公”所反映的政治观念

**【答案】B。解析：**

根据关键词：天下为公，可以直接排除 AC。

并列结构。文段先说天下为公的含义，再说天下为公的表现（参与方式）。即 B 项。

所以，正确选项是 B。

29. 历朝历代的皇家、文人以及社会主流，对北宋五大名窑瓷器倍加宠爱，深为以青色为基调的天然淡雅而倾倒。至今，神秘的“柴窑”未见踪影，珍稀的“汝窑”，于青色之中淡酝霞光，存世仅几十件，苏富比拍了一件，价逾千万。南宋时，“龙泉窑”的青瓷成为主流，于今也备受崇尚。我们看到的许多古瓷器，仍然闪烁着青釉色的高贵，人们对其的喜爱依旧是器物审美中的主流之一。

这段表述旨在说明：

- A. 官窑瓷器有极高的收藏价值
- B. 青色对瓷器审美意义非凡
- C. 色彩决定瓷器价值而非窑口
- D. 古往今来瓷器备受人们喜爱

**【答案】B。解析：**

概括主旨。关键词：青色。深为以青色为基调的天然淡雅而倾倒。于青色之中淡酝霞光，仍然闪烁着青釉色的高贵。

所以，正确选项是 B。

30. 在宇宙完成大爆炸的那一刻，物质不断向四面八方飞散，这就是宇宙的膨胀。在宇宙膨胀的过程中，各种物质的密度存在微弱的差异，这使得宇宙中各个部分的物质在引力的作用下，朝着附近物质密度稍高一点的地方集中。引力随着物质的集中而逐渐提高和增大，而引力越大则越会令物质更加集中，这个集中的过程便无法停止。每一处物质集中时的区域范围都非常大，甚至可能超过数十万光年。如此庞大的区域，最终形成的结构就是星系。

这段文字主要说的是：

- A. 星系是如何形成的  
B. 宇宙膨胀的物理过程  
C. 宇宙为什么会发生大爆炸  
D. 物质集中过程中的引力作用

**【答案】A。解析：**

概括主旨。关键词：星系。因果结构。如此庞大的区域，最终形成的结构就是星系。所以，正确选项是 A。

## 第二部分 常识判断

（共 20 题，参考时限 15 分钟）

根据题目要求，在四个选项中选出一个最恰当的答案。

31. 下列自然现象，解释正确的是：

- A. 冬天热汤会冒白气，是汽化现象  
B. 樟脑丸会越来越小，是蒸发现象  
C. 洗澡时卫生间的镜子有一层小水珠，是液化现象  
D. 报废的电灯泡取下发现变黑了，是腐蚀引起的

**【答案】C。解析：**

A 项错误，“冬天热汤会冒白气”是水蒸气遇冷液化的过程，而不是汽化现象。

B 项错误，樟脑丸越来越小是固态直接变成气态，属于升华现象，而不是蒸发现象。

C 项正确，洗澡时镜子上有小水珠，是水蒸气遇冷液化成小水珠附着在镜面上，是液化现象。

D 项错误，报废的电灯泡会变黑，是因为钨丝受热升华，然后钨蒸气又在灯泡壁上凝华的缘故，不是腐蚀现象。

所以，正确选项是 C。

32. 关于北斗系统，下列说法错误的是：

- A. 是中国自主研发的全球卫星导航系统  
B. 北斗系统的卫星都是静止轨道卫星  
C. 可实现高精度授时的功能  
D. 能够实现汉字的短报文通信

**【答案】B。解析：**

B 项错误。北斗卫星导航系统空间段由 5 颗静止轨道卫星和 30 颗非静止轨道卫星组成，因此，“北斗系统的卫星都是静止轨道卫星”的表述是错误的。

本题为选非题。所以，正确选项是 B。

33. 一位西方旅行家如果于二十世纪初来到中国，他不可能看到下列哪一处景观？

- A. 北京紫禁城  
B. 秦始皇陵兵马俑  
C. 敦煌莫高窟  
D. 万里长城

**【答案】B。解析：**

二十世纪初，即 1901 年 以后的几年。

A 项一定能看见。北京紫禁城是明朝都城，明永乐十八年（1420 年）建成。因此，西方旅行家在二十世纪初来到中国，一定能看到北京紫禁城。

B 项不可能看见。1974 年秦始皇陵兵马俑才被发现。因此，西方旅行家在二十世纪初来到中国，不可能看到秦始皇陵兵马俑。

C 项一定能看见。敦煌莫高窟历经十六国、北朝、隋、唐、五代、西夏、元等朝代修建。因此，西方旅行家在二十世纪初来到中国，一定能看到敦煌莫高窟。

D 项一定能看见。秦始皇修建万里长城。因此，西方旅行家在二十世纪初来到中国，一定能看到万里长城。

本题为选非题。所以，正确选项是 B。

34. 关于袋鼠，下列描述不正确的是：

- A. 哺乳动物中跳得最远  
B. 在澳大利亚广泛分布  
C. 是草食性动物  
D. 有胎盘

**【答案】D。解析：**

D项错误。袋鼠属于比较原始的哺乳动物，虽是胎生，但没有胎盘。它不能像有胎盘的哺乳动物那样生出发育完全的幼仔，而只能产出个“早产儿”，然后幼崽需要在妈妈体外的“育儿袋”里继续发育，直至成熟。

本题为选非题。所以，正确选项是D。

35. 关于洋流，下列说法错误的是：

- A. 墨西哥湾暖流与拉布拉多寒流交汇形成了闻名世界的纽芬兰渔场  
B. 哥伦布航海横跨大西洋前往美洲时，可以利用墨西哥湾暖流顺水航行  
C. 美国西海岸发生原油泄漏后，污染物有可能随加利福尼亚寒流污染赤道地区  
D. 由于秘鲁寒流的强大影响，可以在赤道附近的科隆群岛看到企鹅

**【答案】B。解析：**

B项说法错误。哥伦布航海横跨大西洋前往美洲，不可能顺墨西哥湾暖流航行，只能逆墨西哥湾暖流航行。

C项正确，加利福尼亚寒流是一股寒冷、浅层的洋流，沿着北美西海岸向东南方向流动，然后在赤道附近同北赤道暖流汇合，有可能将美国西海岸的污染物带到赤道地区。

本题为选非题。所以，正确选项是B。

36. 下列属于我国基层民主自治工作的一组是：

- ①某村村民直接参与投票选举村委会干部  
②某社区居委会定期向居民会议汇报工作  
③某区妇女联合会实行事务公开的制度  
④某厂职工代表大会依法选举职工代表

- A. ①②  
B. ②③  
C. ③④  
D. ①④

**【答案】A。解析：**

根据《中华人民共和国宪法》第一百一十一条规定，城市和农村按居民居住地区设立的居民委员会或者村民委员会是基层群众性自治组织。因此，村委会属于基层群众性自治组织。根据《村民委员会组织法》第十一条规定：村民委员会主任、副主任和委员，由村民直接选举产生。任何组织或者个人不得指定、委派或者撤换村民委员会成员。因此，①正确。

根据《城市居民委员会组织法》第十条规定：居民委员会向居民会议负责并报告工作。因此②正确。

某区妇女联合会和某厂职工代表大会，不是我国基层群众性自治组织，排除。

所以，正确选项是A。

37. 下列和宪法有关的表述正确的是：

- A. 在我国，矿藏、水流和森林属于国家所有  
B. 世界上第一部资产阶级国家的成文宪法是1791年通过的法国宪法  
C. 人民代表大会制度是中华人民共和国的根本制度  
D. 中央军事委员会主席对全国人民代表大会和全国人民代表大会常务委员会负责

**【答案】D。解析：**

A 项错误，根据《中华人民共和国宪法》第九条规定：“矿藏、水流、森林、山岭、草原、荒地、滩涂等自然资源，都属于国家所有，即全民所有；由法律规定属于集体所有的森林和山岭、草原、荒地、滩涂除外。”因此，矿藏、水流属于国家所有，森林可以属于集体所有。

B 项错误，美国 1787 年制定并于 1789 年批准生效的美国宪法，是世界上第一部资产阶级成文宪法。法国宪法晚于美国宪法。

C 项错误，根据《中华人民共和国宪法》第一条规定：“社会主义制度是中华人民共和国的根本制度。”因此 C 项错误。

D 项正确，根据《中华人民共和国宪法》第九十四条规定：“中央军事委员会主席对全国人民代表大会和全国人民代表大会常务委员会负责。”因此 D 项表述正确。

所以，正确选项是 D。

38. 下列哪种情形不能解除劳动关系？

- A. 用人单位和劳动者协商一致
- B. 试用期内提前一天通知用人单位
- C. 合同期内，提前三十天以书面形式通知用人单位
- D. 劳动者同时与其他用人单位建立劳动关系，对完成本单位的工作任务造成严重影响

**【答案】B。解析：**

A 项情形能解除劳动关系。根据我国《劳动合同法》第三十六条规定：“用人单位与劳动者协商一致，可以解除劳动合同。”

B 项情形不能解除劳动关系。根据我国《劳动合同法》第三十七条规定：“劳动者在试用期内提前三日通知用人单位，可以解除劳动合同。”因此选项提前一天通知的表述错误。

C 项情形能解除劳动关系。根据我国《劳动合同法》第三十七条规定：“劳动者提前三十日以书面形式通知用人单位，可以解除劳动合同。”

D 项情形能解除劳动关系，根据我国《劳动合同法》第三十九条规定：“劳动者有下列情形之一的，用人单位可以解除劳动合同：（四）劳动者同时与其他用人单位建立劳动关系，对完成本单位的工作任务造成严重影响，或者经用人单位提出，拒不改正的。”

本题为选非题。所以，正确选项是 B。

39. 下列与证件有关的说法错误的是：

- A. 未满十六周岁的公民不得申领居民身份证
- B. 驾驶机动车上路行驶必须随车携带行驶证
- C. 公共场所直接为顾客服务的人员须有健康证
- D. 港澳通行证由我国公安部出入境管理局签发

**【答案】A。解析：**

A 项错误，根据《中华人民共和国居民身份证法》第五条规定：“未满十六周岁的公民，自愿申请领取居民身份证的，发给有效期五年的居民身份证。”因此，A 项说法错误。

十六周岁至二十五周岁的，发给有效期十年的居民身份证；二十六周岁至四十五周岁的，发给有效期二十年的居民身份证；四十六周岁以上的，发给长期有效的居民身份证。

本题为选非题。所以，正确选项是 A。

40. 下列行政行为属于行政处罚的是：

- A. 质监部门将甲生产的涉嫌违法使用添加剂的香肠予以先行登记保存
- B. 土地管理部门对于乙、丙之间宅基地权属纠纷作出裁决
- C. 卫生部门对感染传染病病毒的患者丁进行强制隔离

D. 消防部门对未经消防安全检查擅自营业的戊茶楼作出责令停产停业的决定

**【答案】D。解析：**

D 项属于行政处罚。根据《中华人民共和国行政处罚法》第八条的规定：行政处罚的种类：（一）警告；（二）罚款；（三）没收违法所得、没收非法财物；（四）责令停产停业；（五）暂扣或者吊销许可证、暂扣或者吊销执照；（六）行政拘留；（七）法律、行政法规规定的其他行政处罚。因此，消防部门对未经消防安全检查擅自营业的戊茶楼作出责令停产停业的决定，属于行政处罚。

所以，正确选项是 D。

41. 《山东省新旧动能转换重大工程实施规划》提出，加快形成“三核引领、多点突破、融合互动”的新旧动能转换总体布局。这里的“三核”指的是：

- A. 济南 青岛 潍坊  
B. 济南 青岛 烟台  
C. 烟台 威海 日照  
D. 泰安 威海 德州

**【答案】B。解析：**

《山东省新旧动能转换重大工程实施规划》提出，加快形成“三核引领、多点突破、融合互动”的新旧动能转换总体布局。这里的“三核”指的是：济南、青岛、烟台

所以，正确选项是 B。

42. 关于洲际导弹下列说法错误的是：

- A. 射程在 8000 公里以上  
B. 目前仅有中、美、俄三国拥有  
C. 弹头一般采用核弹头  
D. 中国的东风 5 型属于洲际导弹

**【答案】B。解析：**

B 项说法错误。目前拥有洲际弹道导弹的国家有：俄罗斯、美国、中国、英国、法国五国。本题是选非题。所以，正确选项是 B。

43. 关于古诗中提到的“雨”的成因，下列解释正确的是：

- A. 君问归期未有期，巴山夜雨涨秋池——冷锋雨  
B. 夜来风雨声，花落知多少——台风雨  
C. 东边日出西边雨，道是无晴却有晴——对流雨  
D. 好雨知时节，当春乃发生——地形雨

**【答案】C。解析：**

A 项错误，锋面雨是指锋面活动时，暖湿空气上升冷却凝结而引起的降水现象，可分为冷锋雨与暖锋雨。“巴山夜雨”是由于四川盆地的地形导致的地形雨。

B 项错误，台风雨，顾名思义，与台风有关，发生时必然狂风暴雨。夜间的春雨，淅淅沥沥下个不停，这场风柔雨柔的春雨不可能是台风雨，排除。

C 项正确，对流雨是因地面温度较高，近地面湿热空气受热迅速膨胀上升，形成强烈的空气对流，使上升气流中的水汽在高空遇冷凝结，形成的降水历时短，范围小，但强度大，常伴有风暴、雷电。“东边日出西边雨，道是无晴却有晴”是对流雨的生动写照。

D 项错误，“好雨知时节，当春乃发生”描写的是春天的季节雨，不属于地形雨。

所以，正确选项是 C。

44. 下图所反映的历史事件是：





- A. 周平王迁都洛邑
- B. 汉光武帝定都洛阳
- C. 北魏孝文帝迁都
- D. 武周以洛阳为神都

【答案】C。解析：

C项正确，图中反映的是北魏孝文帝将都城从平城迁往洛阳的历史事件，这是北魏孝文帝改革的关键一步，促进了经济发展，巩固了北魏政权。

所以，正确选项是C。

45. 下列关于雷电的说法错误的是：

- A. 人们总是先看见闪电后听见打雷
- B. 直击雷的破坏性比球形雷小
- C. 闪电时可能伴随着臭氧的生成
- D. 雷电一般发生在对流层

【答案】B。解析：

B项说法错误。直击雷就是直接打击到物体上的雷；球形雷则像火球一样，会飘进室内。直击雷的电压峰值通常可达几万伏甚至几百万伏，比球形雷的破坏性更强。

本题是选非题。所以，正确选项是B。

46. 京剧，曾称平剧，腔调以西皮、二黄为主，用胡琴和锣鼓等伴奏，被视为中国国粹。它是由哪些戏剧进京演出融合而成的？

- A. 豫剧、越剧
- B. 汉剧、川剧
- C. 徽剧、汉剧
- D. 粤剧、沪剧

【答案】C。解析：

京剧是徽剧、汉剧等剧种在北京融合形成的剧种。清代乾隆起，四大徽班陆续进入北京，他们与来自湖北的汉调艺人合作，通过不断的交流、融合，最终形成了京剧。

所以，正确选项是C。

47. 下列有关急救知识的叙述正确的是：

- A. 对等待急救的脑出血病人不宜随意搬动
- B. 发生烫伤后的伤口可用酱油或牙膏涂抹
- C. 胸外心脏按压的频率为每分钟30~50次
- D. 严重烧伤的病人口渴时可以喝白开水

【答案】。解析：A

A项说法正确。脑出血的患者如果随意搬运，可能加重脑出血，也可能呕吐物流出，阻塞气道引起

窒息。因此脑出血的病人应平卧，不能随意搬运。

所以，正确选项是 A。

48. 下列关于铁矿的说法正确的是：

- A. 赤铁矿与铁锈的主要成分相同                      B. 磁铁矿一般呈黄褐色  
C. “千锤百炼”是指铁矿石的开采过程              D. 我国的铁矿开采始于西汉时期

**【答案】A。解析：**

A 项说法正确。赤铁矿的主要化学成分为三氧化二铁，呈红褐色，可用作红色颜料。铁锈，是铁在空气中氧化后生成的红褐色锈，主要化学成分也是三氧化二铁。

所以，正确选项是 A。

49. 下列关于通讯技术的说法正确的是：

- A. 蓝牙是一种短距离无线通信技术                      B. 光纤通信抗电磁干扰能力差  
C. 移动通信可直接使用无线电波通讯                      D. 对讲机使用时需要网络支持

**【答案】A。解析：**

A 项说法正确。蓝牙是一种支持设备短距离通信（一般 10km 内）的无线电技术，能在包括移动电话、PDA、无线耳机、笔记本电脑等众多设备之间进行无线信息交换。

所以，正确选项是 A。

50. 下列哪一诗句没有反映古代农业丰收的场景？

- A. 田家少闲月，五月人倍忙，夜来南风起，小麦覆陇黄  
B. 新筑场泥镜面平，家家打稻趁霜晴  
C. 瓠篓满篝，污邪满车，五谷蕃熟，穰穰满家  
D. 桑柘悠悠水蘸堤，晚风晴景不妨犁

**【答案】D。解析：**

D 项诗句没有反映古代农业丰收的场景。“桑柘悠悠水蘸堤，晚风晴景不妨犁”，从其中的“犁”字可以看出，该诗句反映的是耕种的场景，而不是丰收的场景。

本题为选非题。所以，正确选项是 D。

## 第三部分 数量关系

（共 10 题，参考时限 10 分钟）

在这部分试题中，每道题呈现一段表述数字关系的文字，要求你迅速、准确地计算出答案。

51. 小张和小王 18:00 分别从甲、乙两地同时出发，沿相同道路匀速相向而行。18:20 小张到达丙地停留，18:40 两人在丙地碰面并均以出发时速度继续行进。18:50 小王到达甲地，问小张在几点到达乙地？

- A. 20:00                      B. 20:40                      C. 19:00                      D. 19:40

**【答案】A。解析：**

根据题意，小张从甲到丙用时 20 分钟，小王从丙到甲用时 10 分钟，意思就是说：小王的速度是小张的 2 倍。

既然小王从乙到丙用时 40 分钟，那么小张从丙到乙就要用 80 分钟。

18 点 40 分+1 小时 20 分=20 点。

所以，正确选项是 A。

52. 为响应城市节能减排政策，邻居小邢和小赵决定拼车上班。从小区开车 35 公里后到达小赵单位，

继续直线行驶 5 公里后到达小邢单位。已知小赵、小邢的车在市区行驶百公里耗油分别为 10L、12L，油价为每升 6 元。如开小赵的车，需先将小邢送至单位再原路折返回小赵单位。如开小邢的车，则无需折返。那么两种方案花费相差多少元？

- A. 0.9                      B. 1.2                      C. 1.8                      D. 2.4

**【答案】C。解析：**

根据题意，开小赵的车耗油为：45 公里 $\times$ 0.1=4.5L。

开小邢的车耗油为：40 $\times$ 0.12=4.8L。

则花费相差为：0.3 $\times$ 6=1.8 元。

所以，正确选项是 C。

53. 一艘船模出发后先逆流航行 1 分钟；掉头后顺流航行 2 分钟；再掉头后逆流航行 3 分钟……以此类推。已知船模顺流速度为 30 米/分钟，逆流速度为 10 米/分钟。问 10 分钟后船模的位置和 20 分钟后船模的位置相距多少米？

- A. 0                      B. 30                      C. 50                      D. 100

**【答案】D。解析：**

根据题意，船模运行情况为：逆流 1 分钟，顺流 2 分钟，逆流 3 分钟，顺流 4 分钟（此时为 10 分钟），此时船模的位置为： $-1\times 10+2\times 30-3\times 10+4\times 30=140$  米

然后再逆流 5 分钟（15 分钟），再顺流 5 分钟（此时为 20 分钟）。此时船模的位置为： $140-5\times 10+5\times 30=240$  米。

则两个时间的船模位置相距为：240-140=100 米。

所以，正确选项是 D。

54. 某企业有不到 100 名员工，本月只有 1/12 的员工未得到每人 1000 元的全勤奖，只有 13 名员工未得到每人 1000 元的绩效奖金，两个奖都未得到的员工占员工总数的 1/14。问企业本月共发放全勤奖和绩效奖金多少万元？

- A. 7.1                      B. 12.6                      C. 14.8                      D. 16.8

**【答案】C。解析：**

求 12 和 14 的最小公倍数为  $2\times 6\times 7=84$ ，则该企业员工人数为 84 人。

全勤奖和绩效奖金奖金都是 0.1 万元，如果所有人都得全勤奖和绩效奖金，则需发放  $84\times 0.2=16.8$  万元。

已知有 7 人没得全勤奖，13 人没得绩效奖金，则需要扣掉  $(7+13)\times 0.1=2$  万元。即需要发放 14.8 万元。

所以，正确选项是 C。

55. 某企业招聘一批新员工，有 65% 的应聘者通过笔试，在面试环节有 20 人被淘汰，最终录取的人数占总应聘人数的 40%。企业将录取的新员工分成若干小组进行业务培训，每个小组的人数都不相同，每组至少 2 人，问至多可以分成多少个组？

- A. 7                      B. 8                      C. 5                      D. 6

**【答案】D。解析：**

根据题意，20 人占应聘者的 25%，则可知总应聘人数为  $20\times 4=80$ 。

最终录取的人数占总应聘人数的 40%，则共录取 32 人。

求最多分组，小组的成员最少 2 人，则其他小组的人数必须在此前提下尽可能地少。 $32=2+3+4+5+6+7+\dots$  余 5，必须把这 5 人分到前面各组并且保证人数各不相同，显然 3+1、4+1、5+1、6+1、7+1 就可以。因此，最多只能分成 6 组。

所以，正确选项是 D。

56. 甲、乙两个投资公司共同投资了 A、B 两个项目，甲公司在 A 项目中的投资额是 B 项目的 2 倍，乙公司在 A 项目中的投资额是 B 项目的一半，这两个投资公司在 A 项目的总投资额是 B 项目总投资额的 1.2 倍。问甲公司总投资额与乙公司总投资额之比为：

- A. 5 : 3                      B. 7 : 4                      C. 9 : 5                      D. 14 : 9

**【答案】B。解析：**

设甲在 B 项目投资  $x$ ，乙在 A 项目投资  $y$ ，列表为：

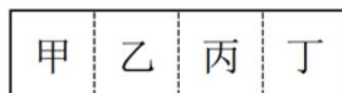
	A	B
甲	$2x$	$x$
乙	$y$	$2y$
总	$2x+y$	$x+2y$

根据题意可知： $2x+y=1.2(x+2y)$

解得： $x:y=7:4$ 。

所以，正确选项是 B。

57. 甲、乙、丙和丁四个依次相邻的农场分别饲养 76 头、82 头、45 头和 93 头牛，位置如下图所示（虚线位置为栅栏）。现由于两处栅栏损坏，有 3 个农场的牛混在一起。问最多需要分辨多少头牛，就一定能将所有牛还回原本的农场？



- A. 219                      B. 220                      C. 250                      D. 251

**【答案】A。解析：**

混在一起的可能是甲乙丙或者乙丙丁，问最多需要分辨多少头牛，因此必须让牛多的乙丙丁混合。

乙丙丁共有牛： $82+45+93=220$  头。一头一头去分辨，当剩下最后一头时不再需要分辨（此时哪个农场还少牛就是哪个农场的）。因此，需要分辨 219 头牛。

所以，正确选项是 A。

58. 商店购入一批某种水果，如按定价销售，每千克盈利 23 元。销售总量的  $\frac{5}{9}$  后，每千克降价 8 元卖出剩余部分，销售这批水果共盈利 2275 元。问按原定售价卖出了多少千克水果？

- A. 60                      B. 65                      C. 75                      D. 80

**【答案】B。解析：**

设总量  $9x$ ，则可知按定价销售了  $5x$ ，降价销售了  $4x$ 。

已知按定价销售，每千克盈利 23 元。每千克降价 8 元价销售，每千克盈利 15 元。总盈利 2275 元。

根据题意可得： $2275=5x \times 23+4x \times 15$ 。

解得： $x=13$ 。即按定价销售水果为： $5x=5 \times 13=65$  千克。

所以，正确选项是 B。

59. 甲、乙、丙和丁四辆卡车运输一批货物，已知甲车满载可以装 50 箱，乙车满载可以装 35 箱。如果只使用甲车和丁车，满载 4 次正好可以运完；如果只使用乙车和丁车，满载 5 次正好可以运完；如果只使用丙车和丁车，满载 6 次正好可以运完。问丙车满载可以装多少箱？

- A. 18                      B. 20                      C. 25                      D. 27

**【答案】C。解析：**

根据题意可知， $(50+丁) \times 4 = (35+丁) \times 5 = (丙+丁) \times 6$ 。

解第一个等式可得：丁=25。

如果只使用甲车和丁车，满载 4 次正好可以运完，可知货物总量为  $(50+25) \times 4 = 300$  箱。

如果只使用丙车和丁车，满载 6 次正好可以运完。则：丙+丁=300÷6=50。

则：丙=50-25=25。

所以，正确选项是 C。

60. 某市场调查公司 3 个调查组共 40 余人，每组都有 10 余人且人数各不相同。2017 年重新调整分组时发现，若想分为 4 个人数相同的小组，至少需要新招 1 人；若想分为 5 个人数相同的小组，至少还需要新招 2 人。问原来 3 个组中人数最多的组比人数最少的组至少多几人？

- A. 2                      B. 3                      C. 4                      D. 5

**【答案】B。解析：**

若想分为 5 个人数相同的小组，至少还需要新招 2 人，则原人数的尾数必定为 3 或 8。

3 个调查组共 40 余人，则原人数必定为 43 或 48。

若想分为 4 个人数相同的小组，至少需要新招 1 人。48+1 不是 4 的倍数，排除。则原来调查组共有 43 人。

3 个组每组都有 10 余人，转化为去掉 30 人后 13 人分三组，三个组的人数尽可能接近。 $13/3=4.3$ ，中间数为 4 或 5，选 4：剩  $9=3+6$ ，得 13 和 16；选 5，剩  $8=2+6$ ，得 12 和 16。因此，原来 3 个组中人数最多的组比人数最少的组至少多  $16-13=3$  人。

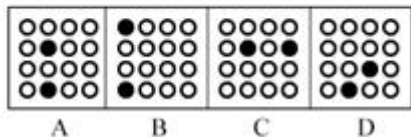
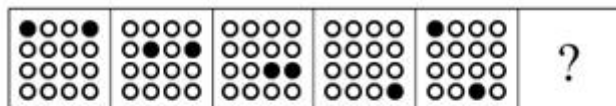
所以，正确选项是 B。

## 第四部分 判断推理

(共 40 题，参考时限 40 分钟)

一、图形推理。请按每道题的答题要求作答。

61. 从所给的四个选项中，选择最合适的一个填入问号处，使之呈现一定的规律性：



**【答案】A。解析：**

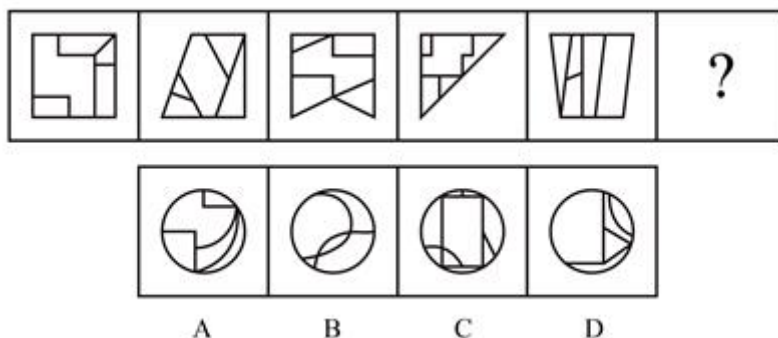
第一图中的右上黑点依次顺时针旋转一个格，排除 BC。

第一图中的左上黑点沿对角线依次向右下移动一个格，排除 D。

所以，正确选项是 A。




62. 从所给的四个选项中，选择最合适的一个填入问号处，使之呈现一定的规律性：



**【答案】A。解析：**

每个题干图形中都有一个面积最大的中心对称图形。只有 A 项符合。所以，正确选项是 A。

63. 从所给的四个选项中，选择最合适的一个填入问号处，使之呈现一定的规律性：



**【答案】D。解析：**

题干第一行都是直线图形，第二行都是曲线图形，第三行都是直线曲线图形。排除 BC。每行的图形都是封闭图形。? 处应为封闭图形。排除 A。所以，正确选项是 D。

64. 从所给的四个选项中，选择最合适的一个填入问号处，使之呈现一定的规律性：

Σ	了	圭
R	兄	凵
?	侶	⑥

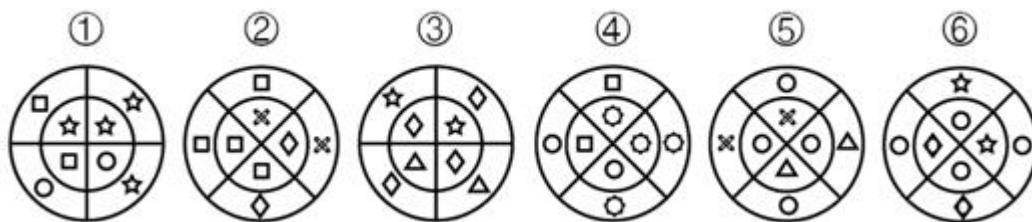
靳	洲	有	齐
A	B	C	D

【答案】C。解析：

第一行题干图形都没有封闭空间，第二行题干图形都有 1 个封闭空间，第三行题干图形都有 2 个封闭空间。只有 C 项符合要求。

所以，正确选项是 C。

65. 把下面的六个图形分为两类，使每一类图形都有各自的共同特征或规律，分类正确的一项是：



A. ①④⑥，②③⑤

B. ①③④，②⑤⑥

C. ①②④，③⑤⑥

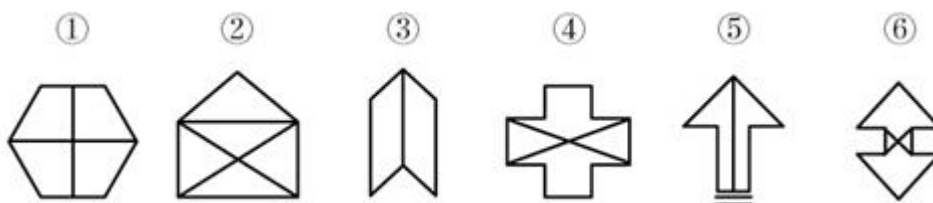
D. ①④⑤，②③⑥

【答案】C。解析：

观察可见，图①②④中，内外圈的相同小元素有两个是相邻的；图③⑤⑥中，内外圈的相同小元素没有两个是相邻的。

所以，正确选项是 C。

66. 把下面的六个图形分为两类，使每一类图形都有各自的共同特征或规律，分类正确的一项是：



A. ①④⑥，②③⑤

B. ①②③，④⑤⑥

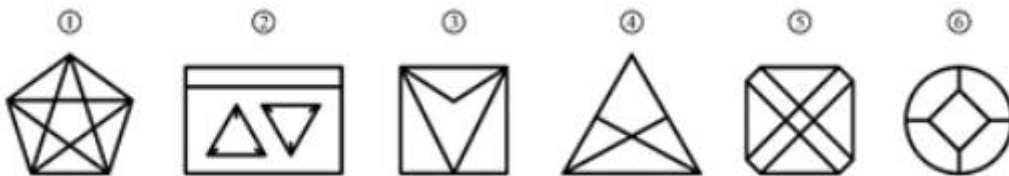
C. ①③④, ②⑤⑥

D. ①③⑤, ②④⑥

【答案】A。解析：

观察可见，①④⑥为轴对称图形，同时也是中心对称图形；②③⑤仅仅是轴对称图形。所以，正确选项是A。

67. 把下面的六个图形分为两类，使每一类图形都有各自的共同特征或规律，分类正确的一项是：



A. ①②⑥, ③④⑤

B. ①④⑤, ②③⑥

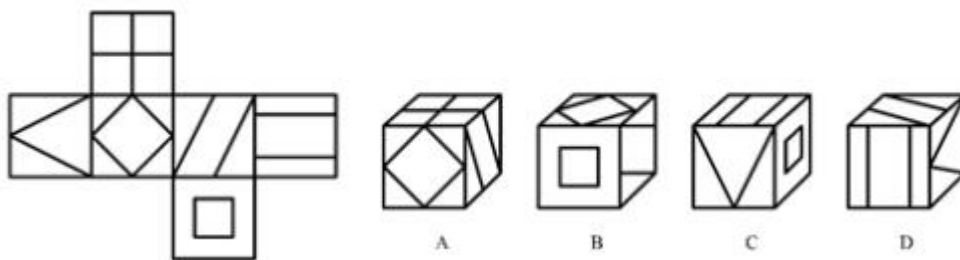
C. ①④⑥, ②③⑤

D. ①②⑤, ③④⑥

【答案】A。解析：

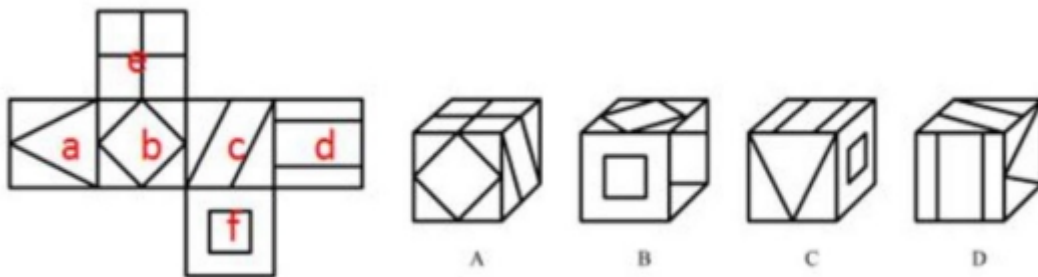
观察可见，图①②⑥：外围交点数-内部交点数=0；图③④⑤：外围交点数-内部交点数=4。所以，正确选项是A。

68. 左边给定的是纸盒的外表面，下面哪一项能由它折叠而成？



【答案】B。解析：

将题干展开图中的面依次标注为面 a、b、c、d、e、f，如下图：



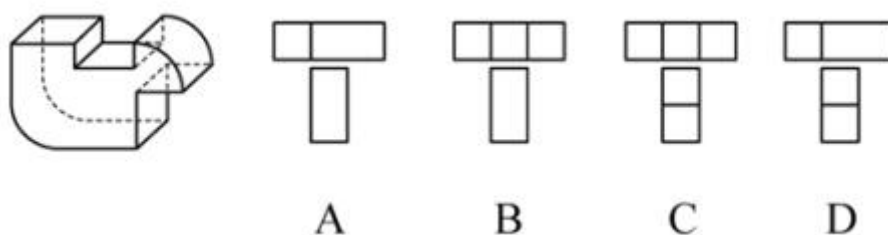
A 项：选项的三个面分别是 b、c、e，在题干展开图中，三个面的公共点没有发出任何一条线，而选项中三个面的公共点发出一条线，选项与题干不一致，排除；

B 项：选项中的三个面分别是 b、c、f，选项与题干一致，保留；

C 项：选项中的三个面分别是 a、d、f，选项中面 a 的大三角底边与 d 相邻，而展开图中 a 的大三角底边与 b 相邻，选项与题干不一致，排除；

D 项：选项中的三个面分别是 a、c、d，展开图中 a 和 c 为相对面，相对面不能同时出现，排除。所以，正确选项是 B。

69. 下面四个选项中，符合左边立体图形的俯视图和左视图的是：



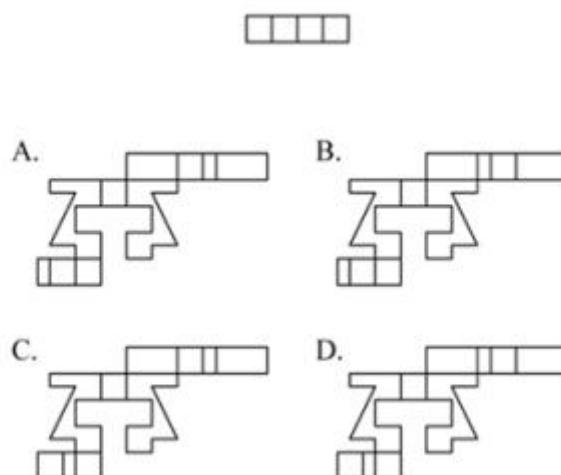
**【答案】B。解析：**

俯视图中间应该有 2 条竖线。排除 AD。

左视图中间应该没有横线，排除 C。

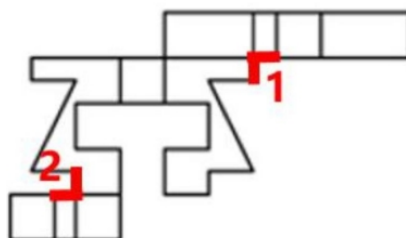
所以，正确选项是 B。

70. 下图和哪个选项一起可以拼接成一个封闭立体图形？



**【答案】D。解析：**

如下图分别标记 1、2。



由成直角的两条边是公共边可知，要想折成题干所示立体图形，需要 1 和 2 区域标红线的两部分均相互垂直且等长。

A 项 1、2 部分均不等长，B 项第 2 部分不等长，C 项第 1 部分不等长，排除。只有 D 项满足。

所以，正确选项是 D。

**二、定义判断。每道题先给出定义，然后列出四种情况，要求你严格依据定义，从中选出一个最符**

合或最不符合该定义的答案。注意：假设这个定义是正确的，不容置疑的。

71. 化感作用是指一种植物通过向环境释放化学物质而对该种植物或周围植物（包括微生物）所产生的直接或间接的作用。

根据上述定义，下列不属于化感作用的是：

- A. 在人参上喷洒的农药被土壤吸收后，会杀死土壤中的硝化细菌和氨化细菌
- B. 胡桃树的叶、皮会释放葡萄糖代胡桃醌从而杀死胡桃树下的植物
- C. 桉树叶中分泌出来的酚类物质被雨水冲刷下来后对附近亚麻的生长有抑制作用
- D. 黑麦残株经微生物分解后产生羟基脲酸，影响自身的生长发育

**【答案】A。解析：**

不属于型。

定义关键词：（1）一种植物通过向环境释放化学物质，（2）对该种植物或周围植物（包括微生物），产生的直接或间接的作用。

A项：在人参上喷洒的农药，农药并不是人参释放出来的，不符合（1）“一种植物通过向环境释放化学物质”。不属于化感作用，当选。

B项：胡桃树的叶、皮释放葡萄糖代胡桃醌，符合（1）“一种植物通过向环境释放化学物质”，杀死胡桃树下的植物，符合（2）“对该种植物或周围植物（包括微生物）所产生的直接或间接的作用”，符合定义，排除；

C项：桉树叶分泌出来的酚类物质，符合（1）“一种植物通过向环境释放化学物质”，对附近的亚麻的生长有抑制作用，符合（2）“对该种植物或周围植物（包括微生物）所产生的直接或间接的作用”，符合定义，排除；

D项：黑麦残株被分解后产生羟基脲酸，符合（1）“一种植物通过向环境释放化学物质”，影响自身的生长发育，符合（2）“对该种植物或周围植物（包括微生物）所产生的直接或间接的作用”，符合定义，排除。

所以，正确选项是A。

72. 合义务的择一举动是指虽然行为人实施了违法行为，造成了结果，但即使其遵守法律，也不能避免该结果的情形。

根据上述定义，下列属于合义务的择一举动的是：

- A. 甲驾车正常行驶，行人王某从人行道上猛然冲向甲，结果王某被撞伤
- B. 乙醉酒后驾车，行人王某同样喝醉了酒，从人行道上猛然冲向乙，结果王某被撞伤
- C. 丙驾车超速行驶，行人王某横穿马路，丙来不及刹车，将王某撞伤
- D. 丁驾车超载行驶，行人王某横穿马路，幸而丁紧急刹车，才没有撞到王某

**【答案】B。解析：**

属于型。

定义关键词：（1）行为人实施了违法行为，造成了结果，（2）即使其遵守法律，也不能避免该结果的情形。

A项：甲驾车正常行驶，因为行人王某猛然冲出被撞伤，行为人“甲”没有实施了违法行为，不符合定义，排除；

B项：乙酒后驾车将王某撞伤，符合“行为人实施了违法行为，造成了结果”，但即使乙没有酒后驾车，也不能避免该结果的情形，因为行人王某同样喝醉了酒并且冲向乙，符合“即使其遵守法律，也不能避免该结果的情形”，符合定义，当选；

C项：丙驾车超速行驶将王某撞伤，符合“行为人实施了违法行为，造成了结果”，但如果丙遵守法律不超速驾驶，就可以及时刹车，从而避免该结果出现，不符合“但即使其遵守法律，也不能避免该结果的情形”，不符合定义，排除；



D项：虽然丁驾车超载行驶是违法行为，但是并没有造成结果，不符合定义，排除。  
所以，正确选项是B。

73. 认知失调是一个人在做出决定、采取行动或者接触到一些有违原先信念，情感或价值的信念后所体验到的冲突状态。当人们感到认知失调时，不协调的存在感将推动人们去努力减少不协调，除设法调整自身的行为或改变自己的态度外，人们还可以主动避开那些很可能使不协调增加的情境内外因素和信息因素。

根据上述定义，下列反映认知失调的是：

- A. 小明参与了一个很无聊的活动，从中得到了很少的报酬
- B. 推销员说服小红用相对高的价格买了自己不是很需要的厨具，几天后小红觉得自己非常喜欢这套厨具
- C. 小王因为考试没考好被爸爸批评了，他回到自己房间后认真思考了原因，决定以后更加努力学习
- D. 勤奋的小宇参加了很多课外班，这导致每次练习钢琴都会迟到，他对钢琴老师表示非常抱歉

**【答案】B。解析：**

属于型。

定义关键词：（1）做出决定、采取行动或者接触到一些有违原先信念，情感或价值的信念后所体验到的冲突状态，（2）不协调的存在感将推动人们去努力减少不协调。

A项：小明参与无聊的活动，得到了很少的报酬，没有体现（1）“体验到的冲突状态”，不符合定义，排除；

B项：小红用相对较高的价格买了自己不是很需要的厨具，符合（1）“体验到的冲突状态”，几天后觉得非常喜欢，符合（2）“不协调的存在感将推动人们去努力减少不协调”，符合定义，当选；

C项：小王没考好被爸爸批评，没有体现（1）“体验到的冲突状态”，不符合定义，排除；

D项：小宇参加了很多课外班导致每次练习钢琴都会迟到，没有体现（2）“努力减少不协调”，不符合定义，排除。

所以，正确选项是B。

74. 战略性新兴产业是以重大技术突破和重大发展需求为基础，对经济社会全局和长远发展具有重大引领带动作用，知识技术密集、物质资源消耗少、成长潜力大的产业。

根据上述定义，下列不属于战略性新兴产业的是：

- A. 食品加工业
- B. 节能环保产业
- C. 信息产业
- D. 新材料产业

**【答案】A。解析：**

不属于型。

定义关键词：（1）以重大技术突破和重大发展需求为基础，（2）知识技术密集、物质资源消耗少、成长潜力大。

A项：根据常识，食品加工业明显不是新兴产业，也不符合（1）“以重大技术突破和重大发展需求为基础”，不符合定义，当选；

B项：节能环保产业符合（2）知识技术密集、物质资源消耗少、成长潜力大，符合定义，排除；

C项：信息产业符合（1）以重大技术突破和重大发展需求为基础，（2）知识技术密集、物质资源消耗少、成长潜力大，是战略性新兴产业，符合定义，排除；

D项：新材料产业符合（1）以重大技术突破和重大发展需求为基础，是战略性新兴产业，符合定义，排除。

所以，正确选项是A。

75. 集合体是指由一定数量的同类个体组成的统一整体，组成集合体的个体通常并不必然具有该集合体的所有属性。集合概念是指以集合体为反映对象的概念。

根据上述定义，下列用黑体字显示的概念属于集合概念的是：

- A. **自然数**是不小于0的整数  
B. **人民**享有广泛的民主权利  
C. 我们班的**同学**来自五湖四海  
D. 教师是**知识分子**

**【答案】C。解析：**

属于型。

定义关键词：（1）由一定数量的同类个体组成的统一整体，（2）组成集合体的个体通常并不必然具有该集合体的所有属性。

A项：自然数中的每个数都必然是不小于0的整数，不符合（2）“组成集合体的个体通常并不必然具有该集合体的所有属性”，不符合定义，排除；

B项：人民具有的广泛民主权利，组成人民的每一个人都必然具有广泛的民主权利，不符合（2）“组成集合体的个体通常并不必然具有该集合体的所有属性”，不符合定义，排除；

C项：我们班的同学来自五湖四海，但不能说其中的某一位同学来自五湖四海，符合（2）“组成集合体的个体通常并不必然具有该集合体的所有属性”，符合定义，当选；

D项：教师是知识分子，每位教师都必然是知识分子，不符合（2）“组成集合体的个体通常并不必然具有该集合体的所有属性”，不符合定义，排除。

所以，正确选项是C。

76. 水平迁移是指处于同一抽象和概括水平的经验之间的相互影响，是在难度、复杂程度上属于同一水平层次的两种经验之间的相互影响；垂直迁移是指处于不同抽象和概括水平的经验之间的相互影响，是具有较高概括水平的上位经验与具有较低概括水平的下位经验之间的相互影响。

根据上述定义，下列属于垂直迁移的是：

- A. 小学生在学会写“木”这个字后，有助于学会写“森”  
B. 学习了“植物”“动物”等概念后，有助于对“生物”这一概念的学习  
C. 学习了“老虎”“狮子”等概念后，有助于对不熟悉的鲸或海豚的识别  
D. 学习了有关正方形的知识后，有助于对菱形、长方形等相关知识的学习

**【答案】B。解析：**

属于型。

定义关键词：（1）水平迁移：处于同一抽象和概括水平的经验之间的相互影响，是在难度、复杂程度上属于同一水平层次的两种经验之间的相互影响；

（2）垂直迁移：处于不同抽象和概括水平的经验之间的相互影响，具有较高概括水平的上位经验与具有较低概括水平的下位经验之间的相互影响。

A项：“木”和“森”都是汉字，学习“木”有助于学习“森”，符合“处于同一抽象和概括水平的经验之间的相互影响”，符合“水平迁移”定义，不符合“垂直迁移”定义，排除；

B项：“生物”是对植物、动物的概括，其概括水平高于植物、动物，学习较低概括水平的植物、动物，有助于学习概括水平较高的“生物”，符合“处于不同抽象和概括水平的经验之间的相互影响”以及“具有较高概括水平的上位经验与具有较低概括水平的下位经验之间的相互影响”，符合“垂直迁移”定义，当选；

C项：老虎、狮子、鲸和海豚都是动物，属于同一抽象和概括水平的经验，学习老虎、狮子有助于学习鲸、海豚，符合“处于同一抽象和概括水平的经验之间的相互影响”，符合“水平迁移”定义，不符合“垂直迁移”定义，排除；

D项：正方形、菱形和长方形都是图形，属于同一抽象和概括水平的经验，学习正方形有助于学习菱形、长方形，符合“处于同一抽象和概括水平的经验之间的相互影响”，符合“水平迁移”定义，不

符合“垂直迁移”定义，排除。

所以，正确选项是B。

77. 主观唯心主义认为人的主观精神（如目的、意志、感觉、经验、心灵等）是世界的本原，客观唯心主义认为上帝、理念等客观精神是先于物质世界并独立于物质世界而存在的本体，而物质世界不过是这种客观精神的外化，前者是本原的、第一性的，后者是派生的、第二性的。

根据上述定义，下列思想属于客观唯心主义的是：

- A. 相由心生，境由心转  
B. 一花一世界，一草一灵魂  
C. 一切事物的存在是因为它们被我们所感知到  
D. 理是世界万事万物存在的根据

**【答案】D。解析：**

属于型。

定义关键词：（1）主观唯心主义：人的主观精神（目的、意志、感觉、经验、心灵等）是世界的本原，是第一性的，物质世界是派生的、第二性的。

（2）客观唯心主义：上帝、理念等客观精神先于物质世界并独立于物质世界，是第一性的，物质世界是派生的、第二性的。

A项：“相由心生，境由心转”，意在强调：环境的美好与恶劣是由心境的快乐与否决定的，强调主观精神中的“心灵”是世界的本原，符合主观唯心主义，不符合客观唯心主义，排除；

B项：“一花一世界，一草一灵魂”，意在强调：每个事物都由“灵魂”决定，强调“主观精神（目的、意志、感觉、经验、心灵等）是世界的本原”，符合主观唯心主义，不符合客观唯心主义，排除；

C项：一切事物的存在是因为被我们所感知到，意在强调：主观精神中的“感觉”是世界的本原，符合主观唯心主义，不符合客观唯心主义，排除；

D项：理是世界万事万物存在的根据，意在强调：理（理念）先于物质世界并独立于物质世界，符合客观唯心主义，当选。

所以，正确选项是D。

78. 加害给付是指在履行合同的过程中，合同关系中的债务人所作出的履行行为不符合合同的规定，并且这种不适当履行行为造成了对债权人的履行利益以外的损害，这一损害包括人身损害或给付标的以外的其他财产损害。

根据上述定义，下列没有反映加害给付的是：

A. 甲公司与乙宾馆协议，约定在该宾馆举办答谢酒宴，结果在酒席中部分客人食用海鲜后出现了食物中毒的情况

B. 甲与乙一直有合作协议，2018年年初，甲将患有传染病的家禽卖给农场主乙，致使乙农场的其他家禽染病死亡

C. 甲电子商城与供货商乙签订采购协议，乙将有问题的充电宝供货给甲，一名消费者购买了甲商场的充电宝，使用时发生爆炸，一只手受伤

D. 甲水果店欲采购水果，于是与乙供货商签订合同，后发现乙送来的水果中部分已经腐烂，无法销售

**【答案】D。解析：**

不属于型。

定义关键词：（1）履行合同过程中，（2）债务人作出的履行行为不符合合同规定，（3）造成对债权人的履行利益以外的损害，包括人身损害或给付标的以外的其他财产损害。

A项：甲与乙约定在宾馆举办答谢宴，符合（1）“履行合同过程中”，客人食用海鲜出现食物中毒，符合（2）“债务人作出的履行行为不符合合同规定”，也符合（3）造成“人身损害”，符合定义，排

除：

B项：甲乙有合作协议，符合（1）“履行合同过程中”，甲将有传染病的家禽卖给乙，符合（2）“债务人作出的履行行为不符合合同规定”，乙农场的其他家禽染病死亡符合（3）“给付标的以外的其他财产损失”，符合定义，排除；

C项：甲将有问题的充电宝卖给消费者，符合（2）“债务人作出的履行行为不符合合同规定”，消费者使用中发生爆炸导致一只手受伤，符合（3）“造成对债权人的履行利益以外的损害（人身损害）”，符合定义，排除；

D项：甲乙签订合同，符合（1）“履行合同过程中”，乙送的水果部分腐烂，符合（2）“债务人作出的履行行为不符合合同规定”，腐烂的水果无法销售，仅仅是造成该产品本身无法销售，不符合（3）“给付标的以外的其他财产损失”，不符合定义，当选。

所以，正确选项是D。

79. 正态曲线中间突起部分是“头”，两边相对平缓的部分叫“尾”。人们的大多数需求会集中在“头”部，分布在“尾”部的需求是个性化的、零散的、小量的。但这部分差异化的、少量的需求会在需求曲线上面形成一条长长的“尾”。所谓长尾效应是指，将所有分布在“尾”部的市场累加起来就会形成一个比“头”部市场还大的市场，强调“个性化”和“小利润大市场”，就是只赚每个人很少的钱，但是要赚很多人的钱。

根据上述定义，下列符合长尾效应的是：

A. 小季开了一家网上书店，主营图书销售，手工艺者也可以在此销售自己手工制作的书签，书签很便宜但很受欢迎，销售额居然超过了图书的销售额

B. 随着网络图书销售的兴起，小张将实体书店改成“书吧”，不再销售图书。一段时间后，他发现每天的咖啡和茶点的销售额比原本的图书销售额还要高

C. 很多“白领”工作期间想喝咖啡却没时间去买，小王创办一家咖啡配送网站，到咖啡店买咖啡送到下单客户手中，虽然每杯只收2元服务费，但网站收益很不错

D. 小刘的电子商务网站原本做小家电销售和配送，后来他们拓展主营业务，配送杂志和鲜花，一段时间后，杂志和鲜花的订单和收益逐渐超过了家电配送

**【答案】C。解析：**

属于型。

定义关键词：个性化，小利润大市场，只赚每个人很少的钱，但是要赚很多人的钱。

A项：手工艺者的书签很便宜，符合“小利润”，但没有体现出是否有大市场，不符合定义，排除；

B项：小张不销售图书而去销售咖啡和茶点，没有体现出咖啡和茶点的价格是否便宜，不符合“只赚每个人很少的钱”，也没有体现出是否有大市场，不符合定义，排除；

C项：“很多”白领想喝咖啡说明市场大，咖啡配送符合“个性化”服务，每杯只收2元服务费，说明利润很小，符合“只赚每个人很少的钱”，符合定义，当选；

D项：杂志和鲜花的收益超过了家电配送，没有提及价格是否便宜，也没有体现出是否有大市场，不符合定义，排除。

所以，正确选项是C。

80. 在面临不希望发生的事情时，个体往往在回避或接纳事实之间调整以获得内心平衡，若出现一个新选择与内心平衡状态相近，就很容易接纳。因此，首先提出高要求，再提出较低要求，往往更容易为对方所接受。这在心理学上被称为“拆屋效应”。

根据上述定义，下列不属于拆屋效应的是：

A. 某商家首先把价格抬高，然后开展打折活动，往往能吸引更多的顾客前来购买商品

B. 某学生犯错后离家出走，几天后安全返校，班主任反倒不再过多追究其之前的错误

- C. 某朋友提出一个无理要求遭拒绝后，马上提出一个相对合理的要求，往往更易被接受  
D. 某人在看到多数人作出某一选择时，即使该选择有多么不合理，也会选择妥协

**【答案】D。解析：**

不属于型。

定义关键词：先提出高要求，再提出较低要求，更容易为对方所接受。

A项：商家把价格抬高符合“提出高要求”，然后展开打折活动，打折之后价格降低符合“再提出较低要求”，最后吸引来了更多顾客买商品，说明“更容易为对方所接受”，符合定义，排除；

B项：学生犯错离家出走，是班主任没有办法接受的，符合“高要求”，学生之前所犯的错误相对于离家出走就是更容易接受的，符合“较低要求”“更容易为对方所接受”，符合定义，排除；

C项：提出一个无理要求符合“提出高要求”，遭拒绝后提出一个相对合理的要求符合“再提出较低要求”，往往更易被接受结果，符合“更容易为对方所接受”，符合定义，排除；

D项：看到多数人做出了不合理的选择，自己也选择了妥协，没有体现出“先提出高要求，再提出较低要求，最后更容易为对方所接受”，不符合定义，当选。

所以，正确选项是D。

**三、类比推理。每道题先给出一组相关的词，要求你在备选答案中找出一组与之有逻辑关系上最为贴近、相似或匹配的词。**

81. 宇航员：探月

A. 航空公司：飞行

B. 清洁工：保洁

C. 志愿者：组织

D. 药厂：制药

**【答案】B。解析：**

宇航员是一个职业，探月是他的工作内容，二者为职业和工作内容的对应关系。

B项：清洁工是一个职业，保洁是他的工作内容，二者为职业和工作内容的对应关系，与题干逻辑关系一致，当选。

所以，正确选项是B。

82. 语言：德语

A. 图书馆：书本

B. 命题：概念

C. 有理数：正分数

D. 地球：卫星

**【答案】C。解析：**

德语是一种语言，二者为种属关系。

C项：正分数是一种有理数，二者为种属关系，与题干逻辑关系一致，当选。

所以，正确选项是C。

83. 有形损耗：无形损耗

A. 中国哲学：西方哲学

B. 蒸馏酒：葡萄酒

C. 急性中毒：慢性中毒

D. 有色金属：稀有金属

**【答案】C。解析：**

有形损耗和无形损耗都是损耗，除了有形损耗就是无形损耗，二者为矛盾关系。

C项：急性中毒和慢性中毒都是中毒，并且除了急性中毒就是慢性中毒，二者为矛盾关系，与题干逻辑关系一致，当选。

所以，正确选项是C。

84. 循规蹈矩：规矩



- A. 年富力强：富强  
B. 功成名就：成就  
C. 待人接物：人物  
D. 伶牙俐齿：牙齿

**【答案】B。解析：**

循规蹈矩是指有规矩，二者为对应关系。

B项：功成名就是指有成就，二者为对应关系，与题干逻辑关系一致，当选。所以，正确选项是B。

85. 大豆：酱油

- A. 柠檬：白醋  
B. 淀粉：年糕  
C. 花生：香油  
D. 甘蔗：红糖

**【答案】D。解析：**

大豆是制作酱油的主要原料，二者为原料和产品的对应关系。

D项：甘蔗是制作红糖的主要原料，二者为原料和产品的对应关系，与题干逻辑关系一致，当选。所以，正确选项是D。

86. 亭台：楼宇：砖瓦

- A. 彩虹：阳光：蜃景  
B. 电闪：雷鸣：电荷  
C. 蛋糕：面包：面粉  
D. 核聚变：核裂变：核能

**【答案】C。解析：**

亭台、楼宇都是建筑物，砖瓦是亭台和楼宇的原材料，第三个词和前两个词是产品与原材料的对应关系。

C项：蛋糕和面包都是食物，面粉是蛋糕和面包的原材料，第三个词和前两个词是产品与原材料的对应关系，与题干逻辑关系一致，当选。

所以，正确选项是C。

87. 小斑虎猫：虎猫属：猫科

- A. 庄稼：粮食：谷物  
B. 卷尺：尺子：工具  
C. 小学：初中：高中  
D. 少尉：少校：少将

**【答案】B。解析：**

小斑虎猫是虎猫属，虎猫属是猫科，三者之间为种属关系。

B项：卷尺是尺子，尺子是工具，三者之间为种属关系，与题干逻辑关系一致，当选。所以，正确选项是B。

88. 批准：审查：申报

- A. 烹饪：切菜：洗菜  
B. 跑步：走路：爬行  
C. 早退：迟到：报到  
D. 痊愈：治疗：受伤

**【答案】D。解析：**

先申报、再审查、最后批准，三者存在时间上的先后顺序，且批准是审查的结果。

D项：先受伤、再治疗、最后痊愈，三者存在时间上的先后顺序，且痊愈是治疗的结果，与题干逻辑关系一致，当选。

所以，正确选项是D。

89. 扇子 对于 ( ) 相当于 ( ) 对于 钢笔

- A. 折扇 笔帽  
B. 团扇 墨水

C. 空调 毛笔

D. 扇面 圆珠笔

**【答案】C。解析：**

逐一代入选项验证。

A 项：折扇是扇子的一种，二者为种属关系，笔帽是钢笔的组成部分，二者为组成关系，前后逻辑关系不一致，排除；

B 项：团扇是扇子的一种，二者为种属关系，钢笔和墨水是配套使用的对应关系，前后逻辑关系不一致，排除；

C 项：扇子和空调为并列关系，二者都可以用来降温；毛笔和钢笔为并列关系，二者都可以用来书写，前后逻辑关系一致，当选；

D 项：扇面是扇子的组成部分，二者为组成关系；钢笔和圆珠笔为并列关系，前后逻辑关系不一致，排除。

所以，正确选项是 C。

90. ( ) 对于 污染 相当于 起诉 对于 ( )

A. 防治 驳回

B. 排放 判决

C. 农药 原告

D. 工厂 法院

**【答案】B。解析：**

逐一代入选项验证。

A 项：“防治污染”为动宾关系，但“起诉驳回”不是动宾关系，前后逻辑关系不一致，排除；

B 项：先排放后污染，先起诉后判决，时间先后顺序关系，前后逻辑关系一致，保留。

C 项：“农药污染”指农药对环境产生污染，为固定搭配；“原告起诉”为主谓关系，前后逻辑关系不一致，排除；

D 项：工厂产生污染，二者是对应关系；起诉法院，二者不是对应关系，前后逻辑关系不一致，排除。

所以，正确选项是 B。

**四、逻辑判断。每道题给出一段陈述，这段陈述被假设是正确的，不容置疑的。要求你根据这段陈述，选择一个答案。正确答案应与所给陈述相符合，不需要任何附加说明即可以从陈述中直接推出。**

91. 一般来说，幼儿的体温因阳光照射而上升的幅度比成人小。可是人们发现，在汽车车厢内，如果温度较高，幼儿很容易发生中暑，而成人几乎很少出现这一现象。甚至在 45℃ 的高温环境下待在车厢里一小时，也不会中暑。

以下哪项如果为真，最能解释上述发现？

A. 在 0~3 岁的幼儿中，年龄越小的孩子，抵抗能力越弱

B. 随着年龄的增长，人体内的水分占体液总量的比例变小，体温的变化也不再明显

C. 车内属于密闭空间，当室外气温达到 25~29℃ 时，车内温度就能达到 45℃，而成人在车内感到不适时很可能会打开车窗

D. 中暑多在丧失了相当于体重的 3% 水分时发生，幼儿体重相对应的体表面积更大，能更快地吸收热量，由于汗腺数目与大人相同，水分流失速度更快

**【答案】D。解析：**

解释型。

首先找出题干现象中的矛盾：一般幼儿的体温因阳光照射上升的幅度比成人小，但高温环境下幼儿很容易中暑而成人却很少中暑。这怎么解释？

A 项 年龄越小的孩子，抵抗能力越弱，但抵抗力弱是否就意味着在高温环境下容易中暑？不明确！不能解释题干矛盾，排除；

B项：随着年龄的增长，体温变化不再明显，说明人的体温变化在常态下与在封闭空间内应当是一样的，不能解释题干矛盾，排除；

C项：成人所处的环境是打开车窗，而题干强调的是在高温环境下呆一个小时，与题干描绘的环境不一致，不能解释题干矛盾，排除；

D项：由于幼儿体重相对应的体表面积更大，水分流失更快，解释了幼儿体温上升幅度比成人小，但在高温环境下更容易中暑的原因，能够解释题干矛盾，当选。

所以，正确选项是D。

92. 甲说：如果考试不合格，就不能被录取。

乙说：不对。李明考试合格了，但没有被录取。

乙的回答说明他将甲的话错误地理解为：

A. 有些被录取的人考试合格了

B. 李明应该被录取

C. 只要考试合格，就要被录取

D. 并非所有考试合格的都要被录取

**【答案】C。解析：**

乙说：甲不对，李明考试合格，并且没有被录取。但是乙的回答将甲的话理解错了，并不是甲的矛盾命题。

乙的话“李明考试合格了，但没有被录取”，其矛盾命题是“只要考试合格，就要被录取”。即C项。

所以，正确选项是C。

93. 在国家发展新兴产业的大背景下，某公司虽然在某产业长期处于领先地位，但上半年的生产数据显示，领先优势越来越小，在邀请专家进行企业诊断后，专家认为该公司领先优势缩小的原因在于公司虽然管理制度健全，但由于企业文化缺乏进取心，导致在好的政策环境下公司发展趋缓。

以下哪项如果为真，不能反驳专家的观点？

A. 相较沿海地区同类公司受益于健全的产业链，公司处于内地，其发展有所受限

B. 发展趋缓的原因在于长期以来公司下半年的生产数据一般高于上半年

C. 公司一直注重加强企业文化建设，形成了和谐的企业氛围

D. 企业文化并不是一个公司的核心竞争力，关键问题在于新产品研发力度不够

**【答案】C。解析：**

最不削弱型：支持或无关。

专家论点：该公司领先优势缩小的原因在于公司虽然管理制度健全，但由于企业文化缺乏进取心，导致在好的政策环境下公司发展趋缓。

论据：无。

A项：论点说的是企业文化缺乏进取心导致的公司发展缓慢，该项说的是公司处于内地，导致公司发展受限，提供了一个也能导致结果产生的新原因，属于他因削弱，排除；

B项：论点说的是企业文化缺乏进取心导致的公司发展缓慢，该项说的是长期以来公司下半年的生产数据一般高于上半年，提供了一个也能导致结果产生的新原因，属于他因削弱，排除；

C项：论点说的是企业文化缺乏进取心导致的公司发展缓慢，该项说的是加强企业文化会形成和谐的氛围，和谐的氛围与发展趋缓之间话题不一致，属于无关选项，无法削弱，当选；

D项：论点说的是企业文化缺乏进取心导致的公司发展缓慢，该项说的是企业文化不是核心竞争力，即企业文化对公司发展影响不大，削弱论点，排除。

所以，正确选项是C。

94. 美国幼儿教育注重培养孩子的“批判式思维”，其中重要一点就是区分事实陈述与观点陈述，

事实陈述是可被验证的，有“真假”，无“好坏”；观点陈述则多为主观体验，受价值观等影响。

以下广告语中，兼顾事实与观点的是：

- A. 金牌巧克力，唤醒你的甜蜜回忆
- B. 量牌 65 英寸无边框全玻璃超薄电视，给您海一般视野
- C. 喜酒沁人心脾，滴滴难舍，回味无穷
- D. 水平对置发动机，左右对称全时四驱，成就捷牌汽车

**【答案】B。解析：**

事实陈述是可被验证的，有“真假”，无“好坏”；观点陈述则多为主观体验，受价值观等影响。要求选择一个兼顾事实与观点的选项。

A 项：“唤醒你的甜蜜回忆”是主观体验，属于观点陈述，该广告只体现了观点陈述而无事实陈述，排除；

B 项：“65 英寸无边框全玻璃”是可被验证的，属于事实陈述。“海一般的视野”是主观体验，属于观点陈述。因此，该广告语兼顾事实与观点，当选；

C 项：“沁人心脾，滴滴难舍，回味无穷”都是主观体验，属于观点陈述，该广告只体现了观点陈述而无事实陈述，排除；

D 项：水平对置发动机，左右对称全时四驱是可被验证的，属于事实陈述，该广告只体现了事实陈述而无观点陈述，排除。

所以，正确选项是 B。

95. 自闭症患者往往认知水平低下，一些自闭症患者会表现出叙述情障碍，即无法理解情感，缺乏对自身或他人情感的认知能力，由于缺乏情感认知能力，人们通常认为自闭症患者比较冷漠。

以下哪项如果为真，最能支持上述结论？

- A. 在道德两难的困境中，自闭症患者会为了避免作出伤害性举动而承受强烈的情绪压力
- B. 述情障碍的发生率在自闭症患者中高达 50%左右，远远高于普通人
- C. 自闭症患者也会对他人产生正常的共情反应，甚至会比普通人更加关注别人的情绪
- D. 述情障碍虽会伴随自闭症出现，但二者并无必然联系，因为很多普通人也会出现

**【答案】B。解析：**

支持型。

题干结论：自闭症患者比较冷漠。

论据：自闭症患者缺乏情感认知能力。

A 项：讨论的是自闭症患者会承受强烈的情绪压力，与题干结论的话题不一致。属于无关选项，不能支持，排除；

B 项：强调自闭症患者比普通人更容易发生述情障碍，即更容易缺乏情感认知能力。属于补充论据支持，保留；

C 项：讨论的是自闭症患者比普通人更加关注别人的情绪，即自闭症患者的情感认知能力更强。属于削弱项，而不是支持项，排除；

D 项：讨论的是述情障碍与自闭症无必然联系，普通人也可能会出现述情障碍，因此，不能说明自闭症患者比普通人更冷漠。属于削弱项，而不是支持项，排除。

所以，正确选项是 B。

96. 当人们在海洋游泳时，身体会释放一种看不见的电信号，科研人员根据这一种情况研制了海洋隐形衣，该隐形衣通过屏蔽掉身体释放的电信号，使得鲨鱼等海洋生物无法发现人们的踪迹。这样，人们就可以近距离接触并观察鲨鱼等海洋生物。

以下哪项是科研人员假设的前提？

- A. 有些海洋生物利用超声波进行信息交流、觅食、发现并躲避天敌
- B. 部分鱼类其视网膜中含有很多视锥细胞，能够敏锐地感受水中细微的光线变化
- C. 鲨鱼等海洋生物是凭借人体释放的电信号来发现人们踪迹的
- D. 该隐形衣非常轻薄，对人们在水下的活动不会形成阻碍

**【答案】C。解析：**

搭桥型。

科研人员论点：隐形衣使得鲨鱼等海洋生物无法发现人们的踪迹。

论据：隐形衣屏蔽掉身体释放的电信号。

难道该隐形衣通过屏蔽掉身体释放的电信号，就能使得鲨鱼等海洋生物无法发现人们的踪迹吗？二者之间显然没有必然联系。搭桥，就是要在“隐形衣屏蔽掉身体释放的电信号”与“隐形衣使得鲨鱼等海洋生物无法发现人们的踪迹为”之间建立必然联系。

C项说：鲨鱼等海洋生物是凭借人体释放的电信号来发现人们踪迹。如果鲨鱼等海洋生物不是凭借人体释放的电信号来发现人们踪迹的，那么，隐身衣就不能使鲨鱼等海洋生物无法发现人们的踪迹。这是科研人员论点成立的必要条件，当选。

所以，正确选项是C。

97. 为什么一些灵长类动物的大脑尺寸比其它动物要大？原因通常被认为是社会行为，即灵长类动物生活于更大更复杂的社会群体中，为了更好地处理各种社会关系，它们需要更大的大脑。

以下哪项如果为真，不能质疑上述观点？

- A. 通过灵长类动物的饮食特点而非社群复杂性，能够更容易预测大脑的大小
- B. 猩猩等一些灵长类动物通常是独居生活，但它们的大脑也很大
- C. 大脑皮层的大小与大脑尺寸没有直接关联，但对于灵长类动物的认知、空间推理能力等非常重要
- D. 灵长类动物中，食果类的大脑比食叶类大，这是因为果实在时间和空间上更分散，找到果实是一项更为复杂的任务

**【答案】C。解析：**

最不质疑型：支持或无关。

题干论点：灵长类动物的大脑尺寸比其它动物要大。

论据：灵长类动物生活于更大更复杂的社会群体中，为了更好地处理各种社会关系，它们需要更大的大脑。

A项：说明要通过饮食特点，而不是社会行为来预测灵长类动物大脑的大小，否定了题干论点，排除；

B项：通过举猩猩的例子说明独居动物的大脑也很大，即社会行为和大脑的大小无关，否定了题干论点，排除；

C项：说的是大脑皮层对于灵长类动物的重要性，与题干论点的话题不一致，属于无关项，保留；

D项：食果类灵长类动物比食叶类灵长动物的大脑更大，说明饮食特点决定了大脑的大小，否定了题干论点，排除。

所以，正确选项是C。

98. 目前，人们通过在河流上筑坝建造水电站获得电能，但是地球上适合筑坝的地方为数不多，筑坝也会破坏生态环境。相比之下，海洋覆盖的地球表面。海面上波涛滚滚，昼夜不息，蕴藏着巨大的能量，收集波浪能适合的海域广，生态环境破坏小。因此，收集波浪能用于发电将比在河流上筑坝发电更有优势。

以下哪项如果为真，不能质疑上述结论？

- A. 据估计，全世界可开发利用的波浪能达 2.5TW，目前一些小功率的波浪能设备已经推广应用于导



航浮标、灯塔等

B. 河流的流向较为稳定，而波浪是海水的缓慢运动，方向并不固定，在此条件下设立的发电机效率非常低

C. 不管是在海床上建塔来支撑发电，还是把发电机固定在海床上都要耗费巨资，成本比河流电站要昂贵得多

D. 河水的水能易于收集，而深海地区及开阔洋面中的波浪能难以提取，可供利用的波浪能仅局限于靠近海岸的地方

**【答案】A. 解析：**

最不质疑型：支持或无关。

题干论点：收集波浪能用于发电将比在河流上筑坝发电更有优势。

论据：海面上波涛滚滚，昼夜不息，蕴藏着巨大的能量，收集波浪能适合的海域广，生态环境破坏小。

A 项：全世界可利用的波浪能达 2.5TW，小的波浪能设备已经可以推广利用，说明收集波浪发电确实有优势，支持了题干论点，保留；

B 项：河流的流向稳定，而波浪方向不固定且发电效率低，说明收集波浪发电不如在河流上筑坝发电好，否定了题干论点，排除；

C 项：收集波浪发电成本比河流电站贵很多，说明收集波浪发电不如在河流上筑坝发电好，否定了题干论点，排除；

D 项：河水的水能比波浪能容易提取，且可利用的波浪能范围小，说明收集波浪发电不如在河流上筑坝发电好，否定了题干论点，排除。

所以，正确选项是 A。

99. 甲、乙、丙、丁四人讨论本班同学完成作业的情况。甲说：班里所有同学都写完了作业。乙说：如果小李写完了作业，那么小赵就没有写完作业。丙说：小李写完了作业。丁说：班里有人没有写完作业。

已知四人中只有一人说的不对，那么可推出下列哪项？

A. 甲说的不对，小赵没有写完作业

B. 乙说的不对，小李写完了作业

C. 丙说的不对，小赵没有写完作业

D. 丁说的不对，小赵写完了作业

**【答案】A. 解析：**

逻辑推理型。

已知四人中只有一人说的不对。

甲说“班里所有同学都写完了作业”，与丁说“班里有人没有写完作业”，二者之间是矛盾关系，必有一真必有一假。因此，唯一一句假话必然在甲和丁之中。由此可以推知：乙和丙说的都是真话。

根据丙说的是真话可知：小李写完了作业；根据乙说的是真的，结合丙的话，通过充分条件假言推理的“肯定前件式”可以推知：小赵没有写完作业。

根据“小赵没有写完作业”可知：甲说的“所有人都写完作业”不对。即 A 项可以推出。

所以，正确选项是 A。

100. 在人际交往的过程中，容貌是最容易观察到的属性特征。和容貌普通的人相比，容貌有吸引力的个体，往往被认为具有较高的能力、较为积极的人格特征和较好的人际关系，甚至收入水平和个人幸福指数也会比较高。在工作中，相同的任务被不同人完成时，通常顾客会对容貌姣好员工的服务质量给予相对较高的评价。

由此可以推出：

A. 随着容貌吸引力越来越大，人们对其个性特征的评价越来越好

- B. 企业应选择容貌姣好的人为员工，以提高顾客的服务满意度
- C. 简历不应附带照片，因为照片会影响招聘者决策的公平性
- D. 发表文章时提供作者的照片，可以提高读者对文章质量的评价

**【答案】B。解析：**

推断文意型。

A 项：随着容貌吸引力越来越大，人们对其个性特征的评价越来越好。所谓“越来越好”在题干中没有提及，属于无中生有，排除；

B 项：题干最后一句：通常顾客会对容貌姣好员工的服务质量给予相对较高的评价。说明选择容貌姣好的人为员工，确实可以提高顾客的服务满意度。可以推出，当选；

C 项：简历不应附带照片，因为照片会影响招聘者决策的公平性。所谓“照片会影响招聘者决策的公平性”在题干中没有提及，属于无中生有，排除；

D 项：发表文章时提供作者的照片，可以提高读者对文章质量的评价。所谓发表文章时提供作者照片与文章质量评价之间的关系，在题干中没有提及，属于无中生有，排除。

所以，正确选项是 B。

## 第五部分 资料分析

（共 20 题，参考时限 20 分钟）

所给出的图、表、文字或综合性资料均有若干个问题要你回答。你应根据资料提供的信息进行分析、比较、计算和判断处理。

### 一、根据所给资料，回答 101~105 题。

2017 年 1~4 月份，全国社会消费品网上零售额 19180 亿元，同比增长 32.0%。其中，实物商品网上零售额 14617 亿元，增长 25.9%。在实物商品网上零售额中，吃、穿和用类商品零售额分别增长 19.3%，18.4%和 29.5%。

2017年4月份社会消费品零售总额及同比增速

	4月		1-4月	
	金额(亿元)	增速(%)	金额(亿元)	增速(%)
社会消费品零售总额	27278	10.7	113102	10.2
其中:限额以上单位消费品零售额	12253	9.2	49765	8.2
按经营地分				
城镇	23483	10.4	96881	9.9
乡村	3795	12.6	16221	12.1
按消费类型分				
餐饮收入	2886	11.1	12082	10.9
其中:限额以上单位餐饮收入	721	8.0	2932	7.5
商品零售	24392	10.6	101020	10.1
其中:限额以上单位商品零售	11532	9.3	46832	8.3
其中:粮油、食品类	1174	12.6	5119	10.9
饮料类	175	14.2	708	13.0
烟酒类	310	8.9	1507	9.6
服装鞋帽、针纺织品	1126	10.0	4779	7.1
化妆品	176	7.7	784	9.4
金银珠宝	229	7.5	1028	7.8
日用品	414	8.0	1736	8.4
家用电器和音像器材	729	10.2	2758	8.6
中西药品	742	12.6	2894	11.2
文化办公用品	240	3.8	1006	12.0
家具	229	13.9	850	12.9
通讯器材	316	6.1	1322	9.8
石油及制品	1610	12.1	6330	12.8
汽车	3136	6.8	12402	3.4
建筑及装潢材料	265	13.4	957	14.4

101. 2017年1~4月份,实物商品网上零售额占社会消费品零售总额的比重约为:

- A. 12.9%                      B. 29.4%                      C. 53.6%                      D. 76.2%

**【答案】A。解析:**

根据题干“2017年1~4月份,实物商品网上零售额占社会消费品零售总额的比重约为”,可知本题求现期比重问题。

定位文字数据:2017年1~4月份,……实物商品网上零售额14617亿元,……

定位表格数据:2017年1~4月份,社会消费品零售总额113102亿元。

$14617 \div 113102$ ,首位为1,与A项数据最为接近。

所以,正确选项是A。

102. 2017年4月份,城镇消费品零售额约是乡村消费品零售额的多少倍?

- A. 1.2倍                      B. 5.2倍                      C. 5.9倍                      D. 6.2倍

**【答案】D。解析:**

定位表格数据。城镇消费品零售额:23483亿元;乡村消费品零售额:3795亿元。

$23483 \div 3795$ ，首位为6。与D项数据最为接近。  
所以，正确选项是D。

103. 2017年4月份，表中各类商品限额以上单位零售额同比增量最多的是：

- A. 服装鞋帽、针纺织品
- B. 石油及制品
- C. 汽车
- D. 家用电器和音像器材

**【答案】C。解析：**

比较增长量大小，主要看基数。基数相近的，再看增长幅度。C项基数较其他商品大得太明显。  
所以，正确选项是C。

104. 2016年1~3月份，限额以上单位消费品零售额的绝对量约为多少万亿元？

- A. 3.0
- B. 3.5
- C. 4.0
- D. 4.5

**【答案】B。解析：**

定位表格数据。

2017年1~4月份，限额以上单位消费品零售额49765亿元。增速为8.2%。

2017年4月份，限额以上单位消费品零售额12253亿元。增速为9.2%。

$49765 \div (1+8.2\%) - 12253 \div (1+9.2\%) \approx 35000$  亿元，即3.5万亿元。

可以考虑基数估算。

所以，正确选项是B。

105. 能够从上述资料中推出的是：

- A. 2017年1~4月份，限额以上单位餐饮收入同比增速快于限额以下单位餐饮收入
- B. 2017年1~4月份，非实物类社会消费品网上零售额为5000多亿元
- C. 2017年4月份，粮油、食品类限额以上单位商品零售额占限额以上单位商品零售总额的一成多
- D. 2017年第一季度烟酒类限额以上单位商品零售额同比增速不超过9.6%

**【答案】C。解析：**

A项：求混合增长率。

所谓混合增长率，就是已知A的增长率、B的增长率，求A+B的增长率。

这类题目一般会给定A、B的增长率求A+B的增长率，或者是给定A+B的增长率及A的增长率求B的增长率。解题方法主要有二种：

方法一：A+B的增长率介于A、B增长率之间。

方法二：如果A、B二者的基期数值相差较大，那么，A+B的增长率介于A、B基期值大的对应的增长率与A、B增长率平均值之间。

本题，2017年1~4月份，餐饮收入总额同比增速为10.9%，限额以上单位餐饮收入同比增速为7.5%。故而限额以下的增长率必然超过10.9%。因此可知A项错误，排除。

B项：2017年1~4月份，全国社会消费品网上零售额19180亿元，其中，实物商品网上零售额14617亿元。 $19180-14617 < 5000$ 。因此B项错误，排除。

C项：2017年4月份，粮油、食品类限额以上单位商品零售额为1174亿元；2017年4月份限额以上单位商品零售总额为11532亿元，直接观察可知，的确占一成多。C项正确。

D项：求混合增长率。2017年1~4月，烟酒类限额以上单位商品零售额同比增速为9.6%；2017年4月烟酒类限额以上单位商品零售额同比增速为8.9%。可知1~3月的增长率必然超过9.6%。因此D项错误，排除。

所以，正确选项是C。

二、根据所给资料，回答 106~110 题。

2016 年，J 省规模以上工业取水量为 86.4 亿立方米，比上年增长 4.4%。其中，直接采自江、河、淡水湖、水库等的地表淡水 68.1 亿立方米，比上年增长 3.8%，所占比重比上年下降 0.4 个百分点；自来水取水量 15.9 亿立方米，同比增长 6.0%。

2016 年，规模以上工业重复用水量 168.4 亿立方米，比上年增长 0.8%；重复用水利用率 85.7%，比上年提高 0.1 个百分点。其中，石油加工、黑色金属冶炼及压延加工、电力和化学原料等 4 个行业的重复用水总量占规模以上工业的 86.9%，重复用水利用率分别为 97.7%、95.0%、94.1%和 93.4%。全年用新水量超过 2 亿立方米的 5 个行业用新水量合计 19.1 亿立方米，占总用新水量的 67.6%，比重比上年下降 0.9 个百分点。

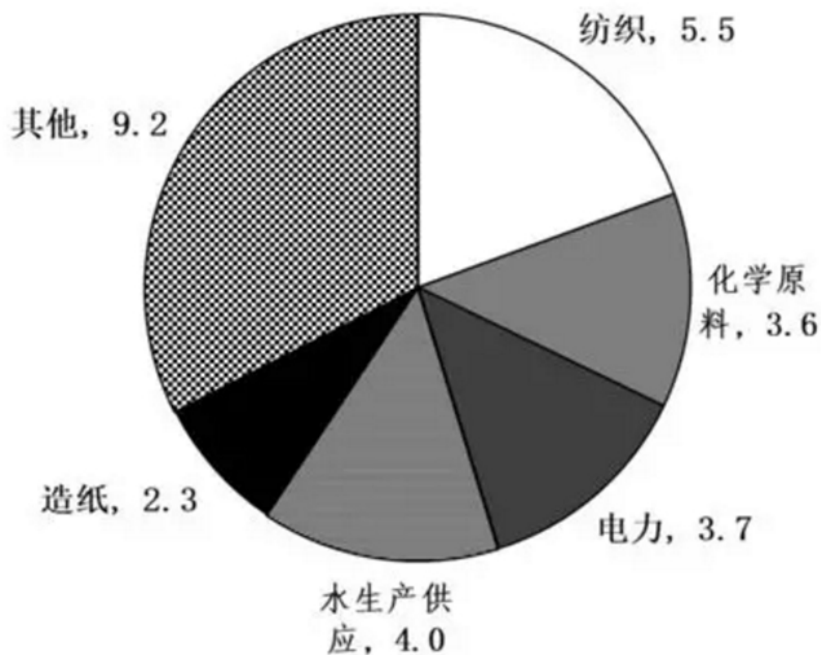


图 1 2016 年规模以上工业用新水量行业结构（单位：亿立方米）  
（注：“其他”为用新水量不足 2 亿立方米的所有行业用新水量之和）

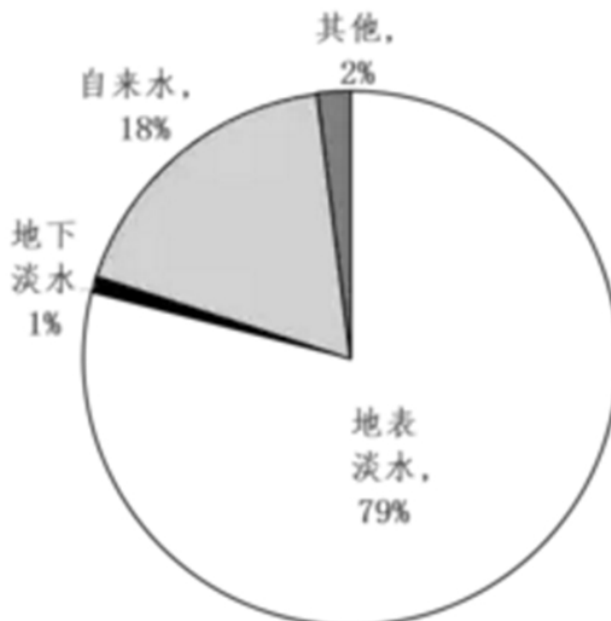




图2 2016年规模以上工业取水水源结构

106. J省2015年规模以上工业取水量约为多少亿立方米?

- A. 90                      B. 83                      C. 74                      D. 65

**【答案】B。解析：**

文字资料：2016年J省规模以上工业取水量为86.4亿立方米，同比增长率为4.4%。

$86.4 \div (1+4.4\%)$ ，直接观察选项，可知B项符合。

所以，正确选项是B。

107. J省2016年规模以上工业自来水取水量占总取水量的比重比上年：

- A. 提高0.3个百分点                      B. 下降0.3个百分点  
C. 提高4个百分点                      D. 下降4个百分点

**【答案】A。解析：**

求比重的变化。

定位文字资料：2016年，J省规模以上工业取水量为86.4亿立方米，比上年增长4.4%。其中，……自来水取水量15.9亿立方米，同比增长6.0%。

已知今年部分量A，增长率是X；总体量B，增长率是Y。求今年A占B的比重比去年增长了多少个百分点。

公式： $(A/B) \times (X-Y) / (1+X)$ 。

$( (15.9/86.4) \times (6\%-4.4\%) ) \div (1+6\%)$ 。估算略增长。

所以，正确选项是A。

108. 2016年J省用新水量最多的2个行业，用新水量占全省规模以上工业用新水总量的比重相差约多少个百分点?

- A. 5.3                      B. 6.7                      C. 7.9                      D. 9.5

**【答案】A。解析：**

根据图1，用水量最多的2个行业是纺织业、水生产供应业。新水量分别为5.5亿立方米、4亿立方米。2016年，J省规模以上工业用新水量28亿立方米。

$(5.5-4) \div 28 \approx 5\%$ 。

所以，正确选项是A。

109. J省2016年规模以上工业地表淡水取水量比地下淡水取水量高：

- A. 68亿立方米以上                      B. 67亿多立方米  
C. 66亿多立方米                      D. 66亿立方米以下

**【答案】B。解析：**

根据图2，地表淡水取水量占比为79%，地下淡水取水量为1%。

文字资料：2016年J省规模以上工业取水量为86.4亿立方米。

$86.4 \times (79\%-1\%) > 67$ 。

由于选项数据非常接近，因此需要认真计算。

所以，正确选项是B。

110. 能够从上述资料中推出的是：

- A. 用新水量第4名的行业，重复用水利用率不到94%  
B. 2015年规模以上工业重复用水利用率为85.8%  
C. 2016年电力行业重复用水利用率高于石油加工行业

D. 2016 年规模以上工业从其他水源取水不到 1 亿立方米

【答案】A。解析：

A 项：定位图 1 可得，2016 年规模以上工业用新水量行业结构中用新水量第 4 名的行业为化学原料行业，利用率为 93.4%，的确不到 94%。A 项正确。

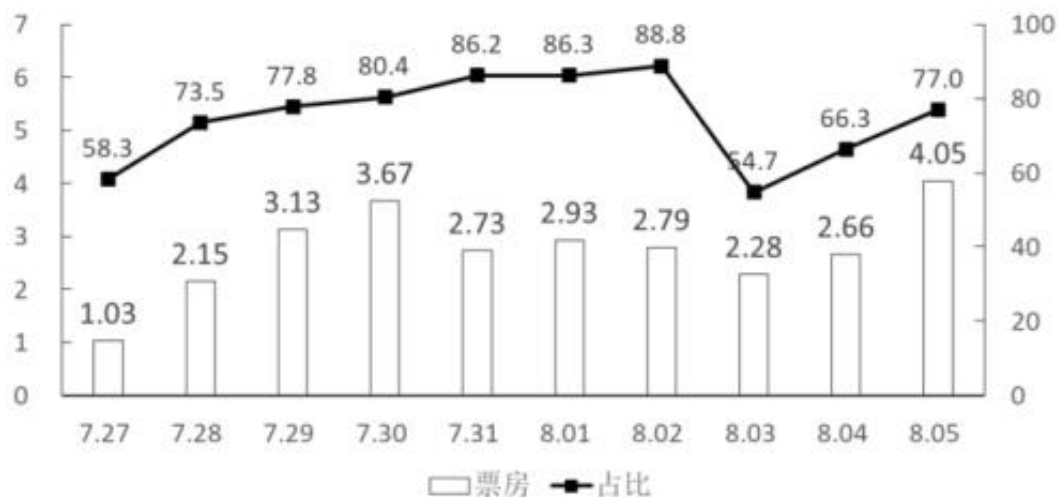
B 项：定位文字材料第二段可得：2016 年规模以上工业重复用水利用率为 85.7%，比上年提高 0.1 个百分点。故 2015 年规模以上工业重复用水利用率 85.6%。B 项错误，排除。

C 项：定位文字材料第二段可得：2016 年电力行业重复用水利用率为 94.1%，石油加工行业为 97.7%，电力行业不是高于而是低于石油加工行业。C 项错误，排除。

D 项：定位图 2 可得：2016 年规模以上工业从其他水源取水占比为 2%。定位文字材料第一段可得：2016 年 J 省规模以上工业取水量为 86.4 亿立方米。 $86.4 \times 2\% > 1$  亿立方米。D 项错误，排除。

所以，正确选项是 A。

### 三、根据所给资料，回答 111~115 题。



7月27日~8月5日A影片单日票房及占当日全国总票房比例

#### 8月5日部分影片票房及排片上座率

	单日票房 (亿元)	排片占比 (%)	上座率 (%)
A影片	4.05	50.9	55.5
B影片	0.87	31.2	21.4
C影片	0.12	5.0	32.9
D影片	0.04	2.9	18.4
E影片	0.04	1.8	21.8

(注：A 影片上映时间为 7 月 27 日。)

111. 已知 7 月 29 日为星期六，问 A 影片 8 月 6 日票房至少要达到多少亿元，才能在上映后第二个周末（星期六和星期日）的票房不低于第一个周末票房的 1.25 倍？

- A. 4.1                      B. 4.25                      C. 4.3                      D. 4.45

【答案】D。解析：

第一个周末(7月29日~7月30日)的票房是:  $3.13+3.67=6.8$  亿元。

则第二个周末(8月5日~8月6日)的票房至少为:  $6.8 \times 1.25=8.5$  亿元。

8月5日A影片的票房是: 4.05 亿元。

那么, A影片8月6日的票房至少要达到:  $8.5-4.05=4.45$  亿元。

所以, 正确选项是D。

112. 8月3日, 除A影片之外的其他影片票房总额在以下哪个范围内?

A. 不到1.6亿元

B. 在1.6亿~2.2亿元之间

C. 在2.2~2.8亿元之间

D. 高于2.8亿元

**【答案】B。解析:**

8月3日A影片的票房为2.28亿, 占当日全国总票房的54.7%。

则8月3日除A影片之外的其他影片票房总额为:

$$(2.28 \div 54.7\%) - 2.28 \approx 1.7$$

所以, 正确选项是B。

113. 7月28日~8月5日间, A影片票房环比增速最快的单日, 当日A影片占全国总票房的比例在该影片上映10天内排名:

A. 第7

B. 第6

C. 第5

D. 第4

**【答案】A。解析:**

根据柱形图可知, 7月28日的A影片票房环比增长最快。

根据折线图可知, 7月28日A片占全国总票房的比例在该影片上映10天内排名为第7。

所以, 正确选项是A。

114. 如全国所有放映厅座位数相同, 则8月5日B影片观影人次数约是C影片的多少倍?

A. 3

B. 4

C. 5

D. 6

**【答案】B。解析:**

$$(31.2\% \times 21.4\%) \div (5\% \times 32.9\%) \approx 4.$$

所以, 正确选项是B。

115. 以下信息中, 能够从上述资料中推出的有几条?

① A影片上映第6~10日票房之和高于前5日票房之和

② 8月2日全国总票房高于8月1日水平

③ 8月5日B影片票房占当日全国总票房的15%以上

④ 8月5日A影片的上映场次是E影片的20多倍

A. 1

B. 2

C. 3

D. 4

**【答案】C。解析:**

①直接观察数据, 可知①正确。

②直接观察数据, 可知②错误。

③ $0.87 \div (4.05 \div 77\%) > 15\%$ , 正确。

④ $50.9\% \div 1.8\% > 20$ , 正确。

可推出3条。所以, 正确选项是C。

#### 四、根据所给资料, 回答116~120题。

2016年, 我国境内民用航空(颁证)机场共218个(不含香港、澳门和台湾地区, 以下简称境内机

场)。

2016年我国境内机场全年完成旅客吞吐量101635.7万人次，比上年增长11.1%。分航线看，国内航线完成91401.7万人次，增长10.3%；其中内地至香港、澳门和台湾地区航线完成2764.5万人次，下降1.4%。国际航线完成10234.0万人次，增长19.3%。

全年完成货邮吞吐量1510.4万吨，比上年增长7.2%。分航线看，国内航线完成974.0万吨，增长6.1%；其中内地至香港、澳门和台湾地区航线完成93.6万吨，增长4.2%。国际航线完成536.4万吨，增长9.1%。

全年完成飞机起降923.8万架次，比上年增长7.9%；其中运输架次为793.5万架次，增长8.8%。分航线看，国内航线完成842.8万架次，增长7.1%；其中内地至香港、澳门和台湾地区航线完成20.3万架次，下降2.8%。国际航线完成81.0万架次，增长16.9%。

2016年，年旅客吞吐量1000万人次以上的机场有28个，较上年净增2个，完成旅客吞吐量占全部境内机场旅客吞吐量的79.1%。年旅客吞吐量200~1000万人次的机场有21个，较上年净减1个，完成旅客吞吐量占全部境内机场旅客吞吐量的12.8%。年旅客吞吐量200万人次以下的机场有169个，较上年净增7个，完成旅客吞吐量占全部境内机场旅客吞吐量的8.1%。

116. 2016年我国国内航线完成旅客吞吐量占总旅客吞吐量的比重比国内航线完成货邮吞吐量占总货邮吞吐量的比重：

- A. 高5个百分点  
B. 高25个百分点  
C. 低5个百分点  
D. 低25个百分点

**【答案】B。解析：**

文字资料第二段：2016年我国境内机场全年完成旅客吞吐量101635.7万人次，……国内航线完成91401.7万人次……。

文字资料第三段：全年完成货邮吞吐量1510.4万吨，……国内航线完成974.0万吨……。

则： $(91401 \div 101635) - (974 \div 1510) = 91\% - 65\% = 25\%$ 。

所以，正确选项是B。

117. 2016年我国完成的所有民用飞机起降中，不承担运输任务的架次数占比约为：

- A. 4%                      B. 9%                      C. 14%                      D. 19%

**【答案】C。解析：**

文字资料第四段：全年完成飞机起降923.8万架次，……其中运输架次为793.5万架次……。

则： $(923 - 793) \div 923 \approx 14\%$ 。

所以，正确选项是C。

118. 2016年我国平均每个境内民用航空机场日均完成国内航线飞机起降约多少架次？

- A. 75                      B. 91                      C. 106                      D. 124

**【答案】C。解析：**

文字资料第一段：2016年，我国境内民用航空（颁证）机场共218个（不含香港、澳门和台湾地区，以下简称境内机场）。

文字资料第四段：全年……分航线看，国内航线完成842.8万架次……。

闰年计算方法：当年份是整百年时，年份能被400整除的是闰年，不能被400整除的是平年。

当年份不是整百年时，年份能被4整除的是闰年，不能被4整除的是平年。

2016能被4整除，是闰年，366天。

则： $842 \div (218 \times 366) \approx 106$ （首位商1，略大于100）

所以，正确选项是C。

119. 假设 2016 年全年旅客吞吐量 1000 万人次以上的机场的平均旅客吞吐量为 X，全年旅客吞吐量 200 万人次以下的机场平均旅客吞吐量为 Y，则 X/Y 的值约为：

- A. 15                      B. 29                      C. 40                      D. 59

**【答案】D。解析：**

文字资料最后一段：2016 年，年旅客吞吐量 1000 万人次以上的机场有 28 个，……完成旅客吞吐量占全部境内机场旅客吞吐量的 79.1%。……年旅客吞吐量 200 万人次以下的机场有 169 个，……完成旅客吞吐量占全部境内机场旅客吞吐量的 8.1%。

$$X = (101535 \times 79\%) \div 28$$

$$Y = (101535 \times 8.1\%) \div 169$$

分子 10 倍，分母六分之一。则：X/Y ≈ 60。

所以，正确选项是 D。

120. 关于我国境内机场运输状况，能够从上述资料中推出的是：

- A. 2016 年内地至香港、澳门、台湾地区旅客和货物吞吐量均同比下降  
B. 2016 年我国国际航线货邮吞吐量同比增速快于旅客吞吐量增速  
C. 2015 年我国旅客吞吐量 200 万人次以上的机场为 50 个  
D. 2015 年我国境内民用航空机场为 210 个

**【答案】D。解析：**

A 项：材料中并未给出 2016 年内地至香港、澳门和台湾地区货物吞吐量相关数据（给的是货邮吞吐量），因此 A 项无法推出

B 项：直接读取数据，2016 年我国境内机场全年完成旅客吞吐量……国际航线……增长 19.3%。全年完成货邮吞吐量……国际航线……增长 9.1%。前者增长 9.1%，后者增长 19.3%，故 B 项无法推出。

C 项：2016 年年旅客吞吐量 1000 万人次以上的机场有 28 个，较上年净增 2 个，年旅客吞吐量 200~1000 万人次的机场有 21 个，较上年净减 1 个。则 2015 年我国旅客吞吐量 200 万人次以上的机场为 26+22=48，故 C 项无法推出。

D 项：2016 年，我国境内民用航空（颁证）机场共 218 个；定位文字第二段，2016 年，年旅客吞吐量 1000 万人次以上的机场有 28 个，较上年净增 2 个，年旅客吞吐量 200~1000 万人次的机场有 21 个，较上年净减 1 个，年旅客吞吐量 200 万人次以下的机场有 169 个，较上年净增 7 个。26+22+162=210。故 D 项能够推出。

所以，正确选项是 D。

**全部测验到此结束！**

请扫描QQ二维码，备注“公务员考生”加QQ好友，获取曹长远老师精解历年公务员考试申论、行测、面试真题完整解析资料。

精品资料，尽在掌握！



扫描二维码，加QQ好友