

2009年3月15日山东省公务员考试

《行政职业能力测验》真题答案解析

说明

一、此项测验分为五个部分，共120题，总时限120分钟，各部分不单独计时，但都给出参考时限，供答题时合理分配时间。

二、此项测验科目代码为“1”。请按照要求在答题卡上填写好自己的姓名，涂写好准考证号、科目代码。

三、必须在答题卡上答题：在题本上答题，一律无效。

严禁折叠答题卡！

第一部分 言语理解与表达

(共35题，参考时间30分钟)

每道题包含一段文字或一个句子，后面是一个不完整的陈述。要求你从四个选项中选出一个来完成陈述。注意：答案可能是完成对所给文字主要意思的提要，也可能是满足陈述中某个方面的要求，你的选择应与所提要求最相符合。

1. 每一届《感动中国》的感动点，实际上都和当年中国特定的大背景相关联，触动了中国公众最敏感的神经，代表了当年最能_____公众_____，最能感动中国的力量。

依次填入划横线部分最恰当的一项是：

- A. 引起 共鸣 B. 打动 心灵 C. 拨动 心弦 D. 震撼 内心

【答案】C。解析：

阅读题干，“代表了当年最能_____公众_____”这句话，与它前面的那句“触动了中国公众最敏感的神经”是并列呼应的，与“触动……神经”可以形成最佳语境呼应的只能是C项的“拨动……心弦”。根据“突点排除法”，A、B、D三项可以直接排除。

所以，正确选项是C。

2. 唐山十三位农民兄弟，不是归途，是千里奔波，雪中送炭；不是邻里，是素不相识，出手相援。他们用纯朴、_____和_____的行为，告诉了我们“兄弟”的含义。

依次填入划横线部分最恰当的一项是：

- A. 正直 坚强 B. 感恩 非凡 C. 善良 倔强 D. 真情 执着

【答案】C。解析：

阅读题干，“他们用纯朴、_____和_____的行为”这句话，当然是对前面“不是归途，是千里奔波，雪中送炭；不是邻里，是素不相识，出手相援”的概括。“素不相识，出手相援”是“善良”。根据“突点排除法”，A、B、D三项可以直接排除。

所以，正确选项是C。

3. 在相携相伴的风雨同行中，一批人走的风华正茂，正在经行而立不惑；一批人领略了春夏的_____，而收获着金秋的_____。

依次填入划横线部分最恰当的一项是：

- A. 炙热 静美 B. 明媚 丰厚 C. 绚烂 丰盈 D. 烂漫 静谧

【答案】D。解析：

阅读题干，“一批人领略了春夏的_____，而收获着金秋的_____”这句话，与它前面的那句“一批人走的风华正茂，正在经行而立不惑”是并列呼应的。从“风华正茂”到“而立不惑”，隐含着从年轻到成熟、从热闹到安静的转折意味。与之可以形成最佳语境呼应的只能是D项的“烂漫……静谧”。根据“突点排除法”，A、B、C三项可以直接排除。

所以，正确选项是D。

4. 牺牲在抗灾前线的年轻战士武文斌，山崩地裂之时绿色的迷彩撑起了生命的希望，他竖起了旗帜，自己却悄然倒下，在那灾难的_____背景下，他26岁的青春是_____的那束光。

依次填入划横线部分最恰当的一项是：

- A. 沉重 明亮 B. 阴森 耀眼 C. 黑色 最亮 D. 慌乱 绚丽

【答案】C。解析：

阅读题干，“在那灾难的_____背景下”，应该与前面的“山崩地裂之时绿色的迷彩”、“他竖起了旗帜”相呼应，重在强调“色彩”的象征意义。在第一个空格里，只有填入“黑色”才能形成最佳的语境呼应。根据“突点排除法”，A、B、D三项可以直接排除。

所以，正确选项是C。

5. 要创作一件艺术作品包括一篇文学作品，需要一些条件，这就是知识、经验、想象三样东西。把知识和经验_____、组织起来，就是_____。

依次填入划横线部分最恰当的一项是：

- A. 结合 创造力 B. 糅合 创作力 C. 调和 想象力 D. 协调 感受力

【答案】C。解析：

阅读可知，题干的第一句话说明了艺术创作需要的三样东西：知识、经验、想象。与之相联系，第二句话应该是进一步说这三样东西，而不可能只说“知识和经验”，因此，在第二个空格中填入C项的“想象力”可以形成最佳的语境呼应。根据“突点排除法”，A、B、D三项可以直接排除。

所以，正确选项是C。

6. 消防战士李隆：火场，废墟，有多少次出生入死，就有多少次不离不弃。他用希望_____希望，用生命_____生命。

依次填入划横线部分最恰当的一项是：

- A. 点燃 换回 B. 带来 挽救 C. 扩展 激活 D. 连接 拯救。

【答案】C。解析：

阅读可知，题干的第二句话“他用希望_____希望，用生命_____生命”，是对第一句所说的消防战士李隆在火场上多少次“出生入死、不离不弃”的概括提升。虽然李隆的出现，并不一定能“换回”“挽救”“拯救”被大火围困的群众的生命，但却可以让渺茫的希望得到扩大、扩展，让垂死的生命受到刺激、激活，重新鼓起求生的勇气。因此，在第二个空格中填入C项的“激活”可以形成最佳的语境呼应。根据“突点排除法”，A、B、D三项可以直接排除。

所以，正确选项是C。

7. 就一个群体而言，发生某种风险的几率会随着规模的扩大而趋向一个常数。层次越高，范围越大，人数越多，这个客观存在的_____就越_____、越稳定。

依次填入划横线部分最恰当的一项是：

- A. 定数 集中 B. 变数 显著 C. 常数 明显 D. 固数 明确

【答案】C。解析：

阅读可知，题干的第一句话议论了发生某种风险的“常数”，第二句话仍然是在议论这个客观存在

的“常数”，因此，在第一个空格中填入C项的“常数”可以形成最佳的语境呼应。根据“突点排除法”，A、B、D三项可以直接排除。

所以，正确选项是C。

8. 在这个世界上，依然有很多朋友热爱纸质的芬芳，翰墨的留香，也依然有很多人经过岁月的_____后仍坚守着朴实的_____，渴望真诚的交流，欣赏丰富而_____的灵魂。

依次填入划横线部分最恰当的一项是：

- A. 淘洗 信念 淡定
B. 洗礼 理想 平静
C. 磨砺 理念 激扬
D. 检验 作风 优雅

【答案】A。解析：

第一个空格的四个选项：淘洗、洗礼、磨砺、检验，很难取舍。

本题的突破点在第二个空格。阅读可知，填入第二个空格中的词语必须与它前面的“坚守着”相呼应。A项中的“信念”指人们坚定不移的思想情感意识；B项中的“理想”指人们对未来事物的想像或希望；C项中的“理念”指人们对某种事物的观点和看法；D项中的“作风”指在思想、工作和生活等方面表现出来的态度或行为。比较来看，只有A项中的“信念”含有“坚定不移”的意思，可以与“坚守”形成最佳的语境呼应。

根据“突点排除法”，直接排除B、C、D三项。

所以，正确选项是A。

9. 2008年，中国大地上堪称祸福更替，悲喜交集。所谓“福”和“喜”，大抵是百年一遇，普照人心，如迎接北京奥运会和残奥会，纪念改革开放30周年；而所谓“祸”与“悲”，则属于_____、_____。

依次填入划横线部分最恰当的一项是：

- A. 惊天动地 千难万险
B. 惊涛拍岸 山河破碎
C. 猝不及防 石破天惊
D. 防不胜防 有惊无险

【答案】C。解析：

我们知道，2008年的“祸”与“悲”指的是南方的雪灾和汶川的大地震，都是造成了巨大损失的自然灾害。A项中的“惊天动地”形容某个事件的声势或意义极大，多用作褒义，与“祸”与“悲”的语境不符，因而排除。B项中的“山河破碎”比喻国家遭到外敌侵略，领土沦陷，显然与语境不符，因而排除。D项中的“有惊无险”与实际情况不符，雪灾和地震给我们带来了巨大的损失，是“有惊有险”，而不是“有惊无险”，因而排除。

所以，正确选项是C。

10. 党的十七届三中全会通过的《中共中央关于推进农村改革发展若干重大问题的决定》指出：农业基础依然薄弱，最需要_____；农村发展依然滞后，最需要_____；农民增收依然困难，最需要_____。

依次填入划横线部分最恰当的一项是：

- A. 强化 带动 扶助
B. 加固 支持 提高
C. 加强 扶持 加快
D. 夯实 加快 扶持

【答案】C。解析：

阅读可知，填入第一个空格的词必须与其前面的“薄弱”意思相反，既然农业的基础薄弱，则最需要“加强”。根据“突点排除法”，直接排除A、B、D三项。

所以，正确选项是C。

11. 清人纪晓岚讲过：有个官员一辈子没做过坏事，所到之处，也不过饮人一杯清水而已，于是想要阎王爷赏他来生还去做官。阎王爷却讥笑道：不贪不占，就能算是好官吗？假若不搜刮民财就是好官，那么塑一个木偶放在官府，连井水也不喝，岂不更好？该官辩解：我虽无功，但也无罪呀。岂料阴司对为官者行为俱记录在案：做官三年，无绩可求，纯属混混一个。

这段文字意在说明：

- A. 为官之道
- B. 无功即为有过
- C. 为官需廉政亦需勤政
- D. 为官不为民做主，不如回家种红薯

【答案】B。解析：

推断文意。

阅读可知，题干讲述了一个官员与阎王对话的故事。显然纪晓岚并不只是为了讲一个故事，而是想通过故事说明一个道理。官员说：“我虽无功，但也无罪。”纪晓岚借阎王之口反驳说：“无绩可求，纯属混混。”（隐含：无功就是混混，即为有过）由此可知，这段文字想要表达的是B项“无功即为有过”。

所以，正确选项是B。

12. 仙人掌这种无叶有节、长着刺的“常青植物”、“卫士植物”，无论是生长在沙漠、悬崖这种人迹罕至之地，或是公园、路边这种人流如川之地，她都能做到坦然无忧，笑迎日出日落。无论是其形胖如山丘，或是其体瘦如孤峰，她都能安身为乐，外不劳形去减肥；无忧为福，内不思悲以滋补，很有点“莫思身外无穷事，且尽生前有限杯”的味道。

这段文字描述的主要是：

- A. 仙人掌的做派是豁达的，仙人掌的风骨是秀爽的
- B. 仙人掌的胸襟是博大的，仙人掌的精神是高尚的
- C. 仙人掌的生命是顽强的，仙人掌的情趣是自然的
- D. 仙人掌是平常的花瓶，但又是平常的刺头

【答案】C。解析：

概括主旨。

阅读可知，题干分为两个层次。第一层“无论是生长在沙漠、悬崖这种人迹罕至之地，或是公园、路边这种人流如川之地，她都能做到坦然无忧，笑迎日出日落”，主要是说仙人掌的“生命顽强”；第二层“安身为乐，外不劳形去减肥 无忧为福，内不思悲以滋补”，主要是说仙人掌的“顺乎自然”。因此，C项的概括是恰当的。

所以，正确选项是C。

13. 根基坚固，才有繁枝茂叶，硕果累累；倘若根基浅薄，便难免枝衰叶弱，不禁风雨。山不解释自己的高度，并不影响它的耸立云端；海不解释自己的深度，并不影响它容纳百川；地不解释自己的厚度，但没有谁能取代它孕育万物的地位……人生在世，我们常常产生想解释点什么的想法。然而，一旦解释起来，却发现任何解释都是那样的苍白无力。

这段文字告诉我们的道理是：

- A. 开水不响，响水不开
- B. 欲成事者必须严以律己
- C. 低调做人，是一种智慧
- D. 解释的多余和尴尬

【答案】C。解析：

推断文意。

阅读可见，题干通过对自然景物的描述来说明做人的道理，先说“树”，再说“山”、“海”、“地”，“山不解释自己的高度……海不解释自己的深度……地不解释自己的厚度”。

通过这段文字作者想要说明什么道理呢？透过字里行间可以看出，他是在提醒人们：要在不显山

不露水中成就事业，要低调做人，而不能四处“解释”，喋喋不休，过于张扬。这是一种策略，一种胸襟，一种智慧。

所以，正确选项是 C。

14. 春秋战国时期，宋国有个叫子罕的以不贪而名垂青史。有一次，一个人得了块玉，拿去送给当权的子罕。子罕拒不接受。那人说，让做玉的师傅看过，说是件宝物，才敢送给你的。子罕道，你的宝物是这块玉，我的宝物是“不贪”，我若收下你这块玉，你和我的宝物不都丧失了吗？还不如各人留着各自的宝物好啊！

这段文字给人的警语是：

- A. 君子慎独
- B. 君子坦荡荡，小人常戚戚
- C. 一丝一缕，我之名节；一厘一毫，民之脂膏
- D. 宽一分，民受赐不止一分；取一文，我为人不值一文

【答案】A。解析：

推断文意。

题干讲述了一个春秋战国时期子罕“不贪”的故事。要求考生选择它给人的警语。所谓“警语”，就是能够陈述深刻的道理，并且给予人们提醒的语句。因此，本题不是要求概括主旨，而必须推断故事背后蕴含的深刻道理。

B 项的“君子坦荡荡，小人常戚戚”是孔子《论语》中的话，意思是：君子胸怀坦荡、心底宽广，而小人却经常忧心忡忡。这句话的意思与题干故事明显不符，可以直接排除。

C、D 两项都属于对故事主旨“不贪”的直接概括，并没有进一步挖掘，如果算是警语，也只是比较初级的警语。排除。

A 项的“君子慎独”，意思是：做人的道德原则是一时一刻也不能离开的。就是说，君子必须在无人监督的情况下能模范地遵守道德规范，做到言行一致，只有这样才能人前人后都是君子。子罕在无人监督的情况下拒不接受别人送的宝物，以“不贪”为宝，正是体现了“君子慎独”的道德原则。

所以，正确选项是 A。

15. 看到室内墙角处的一轮旧纺线车，耳际似乎响起那彻夜不眠的嗡嗡声；目睹旧织布机，往事仿佛在那节奏感强烈的织布声中浮现脑海。家织土布属于古老的传统技术，男耕女织，天经地义。土布常被作为农村姑娘的嫁妆和她们心灵手巧的见证。农家妇女坐在织布机旁，把她们多姿多彩的生活与梦想编织在或清白如雪或繁花似锦的土布里。

这段文字表达的主要是：

- A. 心灵的归本还原、还淳返朴
- B. 人间的真情珍藏在土布中
- C. 旧事民风，睹物生情
- D. 昔日的浮华如梭穿过

【答案】C。解析：

概括主旨。

阅读可知，题干先说由看到旧纺线车和旧织布机所触发的情感（睹物生情），然后描述与家织土布这门传统技术有关的民风民情（旧事民风）。把两层意思概括在一起就是 C 项所说的：旧事民风，睹物生情。

所以，正确选项是 C。

16. 汉字的方块式结构由点画穿插而成，经历过多次演变，形成篆、隶、草、行、楷五种字体。篆书是匀净的线条组织，结构类似图案。隶书笔画变篆书的婉转为方折，横平竖直、撇捺翻挑，结构仿佛“崇台重宇”。楷书的笔画形状最丰富，结体欹侧而端庄。行书也是欹侧的体态，但是笔画牵连映带，

具有流利的美韵。草书线条连绵盘曲，结构简略，放逸生奇。

这段文字表达的主要是：

- A. 中国书法是书写汉字的艺术
- B. 书法的外在形式美来自汉字形态
- C. 书法的内在美韵来自书写的笔力、笔势
- D. 书法这门艺术的显著特征是由“汉字”与“书写”所决定的

【答案】B。解析：

推断文意。

阅读可知，题干分别介绍了篆、隶、楷、行、草五种字体在笔画线条和结构上的不同形态。作者通过这段话想要表达什么意思呢？从他特别强调不同汉字字体的形态特征可以体会到，汉字形态对书法的外在形式美具有决定作用。也就是说：书法的外在形式美来自汉字形态。

所以，正确选项是B。

17. 有人说：没有享受到某种社会服务的人就好像一个大沙漠，享受到这种社会服务的人就好像大沙漠中的一个绿洲，沙漠永远在吞噬着绿洲，而保护绿洲的唯一办法，就是把沙漠尽快地改造成绿洲。

这段文字说明的是：

- A. 大数定律
- B. 沙漠效应
- C. 绿洲效应
- D. 此长彼消法则

【答案】C。解析：

推断文意。

阅读可知，题干说“沙漠永远在吞噬着绿洲，而保护绿洲的唯一办法，就是把沙漠尽快地改造成绿洲。”（隐含：特别强调绿洲）由此推断，这段文字说明的是“绿洲效应”。

所以，正确选项是C。



知识加油站

在社会保障理论中有个“绿洲效应”，就是把没有享受社会保险的人比作沙漠，把享受社会保险的人比作沙漠中的绿洲。当一项社会保险制度只对一小部分公民有效时，就会异化为一种“特权”，而不能享受这种特权的常常又是贫弱群体，这时，社会保险制度不但没有起到缩小贫富差别的作用，反倒是扩大了贫富差别。沙漠是永远要吞噬着绿洲的，保护绿洲的唯一办法，就是把沙漠尽快地改造成绿洲。就是说，要让更多的人享受社会保险。

18. 《史记》中《公仪休嗜鱼》说的是：公仪休在鲁国当丞相的时候特别喜欢吃鱼，有很多人投其所好送鱼给他，他一概不收。有人问：你为什么喜欢吃鱼却不收鱼？他说，我现在做丞相买得起鱼，自己可以买来吃。如果因接受了别人送的鱼而被免职，我从此就买不起鱼，也吃不起鱼了。

这段文字意在说明：

- A. 贪欲猛如虎，贪欲如洪水
- B. 人的性格各异，嗜好有别
- C. 做一个正直向上的人，首先要“寡欲”
- D. 贪欲是把一个人推向不归路的“助推器”

【答案】C。解析：

推断文意。

阅读可知，题干讲述了一个公仪休拒收鱼的故事。“有很多人投其所好送鱼给他，他一概不收。”所谓“拒收鱼”就是不贪，就是控制自己的贪欲（隐含：寡欲）。

B项说人的性格，与题干的内容无关，因而排除。A、D两项都是强调“贪欲”的危害，而不是说“寡欲”，因而排除。

所以，正确选项是C。

19. 在觅食过程中，成百上千只蚂蚁在蚁穴和食物所在处之间来来往往，最终都能够在相对最短时间内得到食物，却从来不会有拥堵现象出现。德国科学家赫尔冰发现，避免道路拥堵是基于蚂蚁之间的交流。在一条路有可能出现拥堵时，返回的蚂蚁就向迎面过来的同伴发出信息素，让它选择另一条路。他认为，人类可以采取相同方法减少车辆拥塞现象。

这段文字说明的主要是：

- A. 聪明蚂蚁启发人类解决交通拥堵
- B. 解决难题，从蚂蚁觅食中找思路
- C. 互通情况，绕道可避免遭遇拥堵
- D. 蚂蚁的不拥堵与人类的车辆拥塞

【答案】A。解析：

推断文意。

阅读可知，题干先说蚂蚁从来不会有拥堵现象出现，然后分析蚂蚁不拥堵的原因，最后从蚂蚁引申到人类，提出“人类可以采取相同方法减少车辆拥塞现象”。

很明显，作者通过这段文字并不是为了说蚂蚁，而是为了说明科学家受到蚂蚁的启示，找到了人类解决交通拥堵的办法。

所以，正确选项是A。

20. 三个和尚在破庙里相遇。“这庙荒废必是和尚不虔。”甲和尚说。“必是和尚不勤。”乙和尚说。“必是和尚不敬。”丙和尚说。三人争执不下，决定留下来各尽所能。于是甲和尚礼佛念经，乙和尚整理庙务，丙和尚化缘讲经，果然香火渐盛。但是，后因三人争功闹了个不休，庙里的盛况又逐渐消失了。

这段文字告诉我们的道理是：

- A. 所有的成败得失，取决于天时、地利和人和
- B. “三个和尚没水吃”这句话是有道理的
- C. 成也人心，败也人心；得也人心，失也人心
- D. 分工负责、各尽所能十分重要

【答案】C。解析：

推断文意。

阅读可知，题干讲了一个“三个和尚”的故事。先说三个和尚关于破庙荒废争论；然后说三个和尚各尽所能，寺庙香火渐盛（隐含：成也人心）；最后，三人争功闹了个不休，庙里的盛况又逐渐消失了（隐含：败也人心）。

所以，正确选项是C。

21. 楷树，果实椭圆形，红色，木材细致。相传这种树最早生长在孔子墓旁，树干挺拔，枝繁叶茂，似为众树的榜样。模树，春天青翠碧绿，夏季赤红如血，秋日变白，冬日变黑，因其色泽纯正，“不染尘俗”，也为诸树之榜样。相传此树最早生长在周公的墓旁。这两种树分别称之为“楷”和“模”，以树喻人，故把人的模范行为称之为“楷模”。

这段文字意在说明：

- A. “楷”和“模”是两种树木的名称
- B. “楷模”二字都带“木”字
- C. “楷模”原指两种树
- D. 楷树、模树皆有灵气

【答案】C。解析：

推断文意。

阅读可知，题干先说“楷树”最早生长在孔子墓旁，再说“模树”最早生长在周公的墓旁，最后说“以树喻人，故把人的模范行为称之为‘楷模’”。意在说明“楷模”的来历，即“楷模”原来就是两种树。

所以，正确选项是C。

22. 2008年12月2日央视《新闻联播》播出了有关“山寨现象”的内容，五成网友看好“山寨产品”。“山寨风”在民间流行已久，并深深地打上了草根创新、群众智慧的烙印，它在模仿与超越的羊肠小道上一路狂奔，终于闯进了主流文化的视野。它一开始瞄准的只是低端消费群体，但慢慢地突破了低收入消费群体的局限，演变为一种大众流行时尚。

这段文字表达的主要是：

- A. 山寨风何以刮进了新闻联播
- B. 关于山寨流行文化意义上的解读
- C. “山寨风”把貌似高端的产品送到了普通百姓手中
- D. 从经济消费的视角透析一下“山寨风”的亲民路径

【答案】B。解析：

推断文意。

阅读可知，题干首先说“山寨风”在民间流行已久，然后说“终于闯进了主流文化的视野”。从“山寨”到“新闻联播”，从“低端消费群体”到“大众流行时尚”，从“草根”到“主流文化”（隐含：主要是一种文化意义上的解读）。

所以，正确选项是B。

23. 成语中的数字运用很多，如一鼓作气、百废俱兴。非整数也进入了成语，如半途而废、半壁江山。还有两个成语：一举两得、一箭双雕，“两”和“双”是数字“2”的不同表示法。多数成语都是由四个字组成的，数目字有时还被“连用”，如五光十色、三头六臂。也有成语纯粹由数目字组成，如三三两两、一五一十。

最适合做这段文字标题的是：

- A. 成语与数字的关系
- B. 成语数字趣谈
- C. 数字成语与成语数字
- D. 成语用遍数目字

【答案】B。解析：

概括主旨。

阅读可见，题干材料属于证明型结构。前面先说“成语中的数字运用很多”，后面接着列举了大量的成语来进行例证。由此可知，题干主要是说成语中的数字。

那么，哪一项最适合做这段文字的标题呢？拟定标题的原则是既要准确，又要吸引人。A项强调“成语与数字的关系”，与题干主要说成语的意思不符，因而排除。C项把“数字成语与成语数字”进行对比，在题干中没有涉及，排除。D项说“用遍数目字”，虽然题干中列举了不少例子，但是离“用遍”恐怕还差得很远，因而排除。

B项的“成语数字趣谈”不仅非常准确地概括了题干的意思，而且语言生动、有吸引力，特别适合作为标题。

所以，正确选项是B。

24. 先秦诸子百家中，儒家和道家是影响最大的两家，而儒家和道家正是中国传统文化的两条主线。《论语》、《老子》分别是儒家和道家思想的主要代表作，把儒家和道家思想的源头抓住了，就比较容易把握中国传统文化的来龙去脉，还可以避免对中国传统文化的单向理解，易于进行儒、道两家思想的比较。

这段文字的主旨是：

- A. 要弘扬中国的传统文化，首先就要读懂《论语》和《老子》
- B. 《论语》和《老子》对中国的政治产生了广泛和深远影响
- C. 在中国传统文化中，最经典的原著是《论语》和《老子》
- D. 熟读《论语》和《老子》，就能为传播中国文化打好基础

【答案】A。解析：

概括主旨。

阅读可知，题干强调“把儒家和道家思想的源头抓住”，就比较容易把握中国传统文化的来龙去脉。也就是强调只有把握《论语》和《老子》，才能把握中国传统文化。

B、C 两项非常偏颇，可以直接排除。D 项的“就能”说的是充分条件，与文中的“较容易”文意不符，因而排除。

所以，正确选项是 A。

25. 英国某家报纸曾举办一项有奖征答活动，题目是：在一个热气球上载有三人。一是环保专家，他可使人们免于因环境污染而死亡的厄运；二是核专家，他有能力防止全球性的核战争；三是粮食专家，他能使几千万人脱离饥荒。此刻热气球即将坠毁，必须丢出一个人以减轻载重，问该丢下谁？应答信如雪片飞来，结果，巨额奖金的得主是一个小男孩。他的答案是：最胖的下去。

对这段文字的理解正确的是：

- A. 这是办法总比问题多的实例
- C. 这是棘手事情快处理的选择

- B. 这是复杂问题简单化的典范
- D. 这是小顽童解决大难题的故事

【答案】B。解析：

推断文意。

阅读可知，要在三个人中选择一个从热气球上丢出，的确是一个非常难以取舍的复杂问题。不论抛出哪个人，恐怕都难免引起激烈的争论。小男孩的答案有些出人意料，但又非常合理，他避开了把环保专家、核专家、粮食专家三人中选一个放弃的复杂问题，而转化为“最胖的下去”这样一个简单问题（隐含：把复杂问题简单化）。

所以，正确选项是 B。

26. 虽有秋风秋霜，白菜却茂盛成长。深秋里的成片新绿并不多见。此时，田野百花凋零，白菜仍旧水灵。叶柄宽而肥厚，瓷勺状的叶瓣弯弯地往上翘，在阳光下欢喜地仰着脸，叫人生出希望。白菜的白和南瓜的黄、辣椒的红一样，都是美的极点。

最能概括这段文字的话是：

- A. 霜降对植物是一种历练
- C. 霜打过的白菜有回味的甘甜

- B. 家常白菜生成美的极点
- D. 白菜溢出了生活本真的气息

【答案】D。解析：

概括主旨。

阅读可知，题干描绘了深秋里白菜生机勃勃的景象。先说秋风秋霜里白菜茂盛成长，然后把白菜与田野百花对比，突出白菜的生机，最后再把白菜与南瓜、辣椒一同赞作美的极点。

白菜不过是一种普通得不能再普通的菜蔬，然而，作者却从中体味出了“希望”和“美的极点”，正所谓“平平淡淡才是真”。这普通的大白菜蕴含了生活的真谛，溢出了生活本真的气息。

A、B、C 三项都仅仅概括了题干的某一方面内容，不够全面，因而排除。

所以，正确选项是 D。

27. 在公共汽车上，一个人张大嘴打了个哈欠，他周围会有几个人也忍不住打起了哈欠。有些人不打哈欠是因为他们受暗示性不强。哪些人受暗示性强呢？可以通过一个简单的测试检查出来。让一个人水平伸出双手，掌心朝上，闭上双眼。告诉他现在他的左手上系了一个氢气球，并且不断向上飘；他的右手上绑了一块大石头，向下坠。三分钟以后，看他双手之间的差距，距离越大，则暗示性越强。

这段文字说明的主要是：

- A. 人常常迷失在自我当中，形成一定程度的从众心理

- B. 人很容易受到来自外界信息的暗示，从而出现自我知觉的偏差
- C. 人很容易相信一个笼统的、一般性的人格描述特别适合他
- D. 在日常生活中，人不可能总把自己放在局外人的地位来观察自己

【答案】B。解析：

推断文意。

阅读可知，题干描述了一个“测试受暗示性强弱”的实验。为什么会出现受试者的双手距离拉大这样的实验结果呢？因为他“受到了来自外界信息的暗示，从而出现自我知觉的偏差”。

所以，正确选项是 B。

28. “80 后”这个词，最早于 2001 年出现在网络论坛中，指的是一批活跃于网络论坛的出生于 20 世纪 80 年代的诗人。2003 年开始，它更多指的是一批被商业运作出名的生于 1980 年以后的写手。2004 年底，随着“80 后作家”的批量涌现，这个词逐渐被用来指称整个 20 世纪 80 年代出生的年轻人群体。

最适合做这段文字标题的是：

- A. “充满希望”的一代
- B. “80 后”的由来
- C. 用新视角理性看待“80 后”
- D. “80 后”引起社会的广泛关注

【答案】B。解析：

概括主旨。

阅读可知，题干属于承接型结构。“80 后”这个词“最早……”，“2003 年开始……”，“2004 年底……”，具有明显的时间承接关系，旨在说明“80 后”的由来及其词义演变过程。

B 项准确地概括了题干的意思，适合作为标题。

所以，正确选项是 B。

29. 黄山松在黄山岩石从这种难以见容、与己为敌的环境里生长，海拔高达一千六七百米，名松的树龄都以数百年计。这些松树因抗风御霜，针叶短粗，冠平如削，绿色深沉，枝干坚韧且富弹性，一株株显得生气勃勃，十分顽强。迎客松挺立在青狮石旁，玉屏峰与天都峰的风口上，寿逾千年，两只巨臂向四海宾客致意。

这段文字让人们悟出：

- A. 松与石同外界自然密切联系
- B. 松树与石头之间，不再是有我无你，你死我活
- C. 人与环境，人与人，变不利为互惠，在竞赛、竞争中通达和谐
- D. 从许多人、事、物当中，洞悉他人所无法体会的绝妙世界

【答案】C。解析：

推断文意。

阅读可知，题干描写了黄山松在恶劣的生长环境中生气勃勃、顽强生长的品格。虽然说的是松树与恶劣的环境，其实意在说人与自然的关系。就像黄山松那样，人与环境，也应该变不利为互惠，在竞赛、竞争中通达和谐。

所以，正确选项是 C。

30. 一间坐满了观众的剧院突然发生大火，争于逃生的观众都渴望从有限的紧急出口中尽快逃出去，但当所有人挤成一团时，必然会因为相互拥挤和彼此踩踏而影响逃生速度。在这种紧急情境下，最佳的解决方案是大家同时采取合作策略，按照一定规则有序通过紧急出口。

这段文字所强调的主要是：

- A. 当事人既会损害自身利益也会损害他人利益
- B. 利己策略往往无法实现自身收益最大化的目标

- C. 维护自身利益是需要与他人合作和付出一定代价的
D. 合作策略比利己策略更有利于实现当事各方效用的最大化

【答案】D。解析：

概括主旨。

阅读可知，题干描述了紧急情境下所有人自顾逃生的恶果，强调“最佳的解决方案是大家同时采取合作策略”。因为合作策略比利己策略更有利于实现当事各方效用的最大化。

所以，正确选项是D。

31. 此次金融危机之所以会蔓延到全球，很大程度上是因为各个经济体都经历了6—7年的金融规模超常扩张、金融创新及其金融衍生品空前发展的“经济繁荣”时期。在这一模式下，各种资产价格都被不断地非理性地推高。治理危机关键要让曾经被炒作到高价格的各种资产，回归到其合理的价格水平。一段时期的资产贬值不可避免，这是对过去超速增值的“还债”。

对这段文字的准确概括是：

- A. 应采取积极的财政政策和适当宽松的货币政策来刺激经济
B. 刺激经济同时也要挤“泡沫”
C. 刺激经济的目标是促使经济正常运转起来
D. 要通过政府行为或政府宣传来维护高水平的资产价格

【答案】B。解析：

概括主旨。

阅读可知，题干首先分析了引发金融危机的原因：各种资产价格都被不断地非理性地推高，然后给出了治理金融危机的关键策略：让曾经被炒作到高价格的各种资产，回归到其合理的价格水平。所谓“回归到其合理的价格水平”，也就是挤“泡沫”的意思，

所以，正确选项是B。

32. 美国经济学家保罗·费德曼每拿到一个研究合同时，总会买面包圈分给大家。后来他养成了习惯，每到周末都会在办公室放一筐面包圈，让大家吃。为了收回成本，他在面包筐旁放了一个篮子，标有建议价格。结果这个没人看守的收款篮收回了95%的面包钱。后来，他辞职专卖面包圈。每天一早，他将面包圈和收款篮放好。几年后，费德曼赚的钱和原来当研究分析师时一样多。

最适合做这段文字标题的是：

- A. 一个关于诚实的试验
B. 一个靠智慧赚钱的故事
C. 一种新的销售方式的产生
D. 把生意当作一种经济学实验

【答案】A。解析：

概括主旨。

阅读可见，题干讲述了美国经济学家保罗·费德曼卖面包圈的故事。一开始，他在办公室里做实验：在办公室放一筐面包圈，在面包筐旁放了一个篮子，标有建议价格，结果这个没人看守的收款篮收回了95%的面包钱。后来，他辞职专卖面包圈，他将面包圈和收款篮放好，几年后，费德曼赚的钱和原来当研究分析师时一样多。

如果认为保罗·费德曼这样卖面包圈仅仅是为了做生意赚钱就大错特错了。作为一个经济学家，他这样做的目的是什么？其目的是：看一看在没人看守的情况下，收款篮究竟能收回多少钱。显然，这不是一个生意，不是一种新的销售方式，不是为了赚钱，而是一个实验，一个关于诚实的试验。

所以，正确选项是A。

33. 一个人离开你的视线，只消失几秒钟，你便会给他一个评语，正视的时候却不行。聪明的人，一定把后背比前脸看得更重要。这后背就是自己的一个雕像。雕塑是由别人操作的，材料和尺度则完全

由自己提供。我们不奢望把每个人都塑造成完人，但至少自己走过去别让人戳脊梁骨。

最适合做本段文字标题的是：

- A. 看好你的背影
B. 背影比前脸更重要
C. 人过留名，雁过留声
D. 背影是一个人的德行和名声

【答案】A。解析：

概括主旨。

C项非常偏颇，忽视了与“背影”之间的联系，可以直接排除。

A、B、D三项的区别在于，B、D都是在表述某个证据，以说明背影的意义和重要性，这些证据所要证明的，正是A项所说的“看好你的背影”。

所以，正确选项是A。

34. 非洲草原上有一种尖茅草，是那里长得最高的茅草，可它的生长过程却极为特别。在最初的半年里，它几乎是草原上最矮的草，只有一寸高，但半年后雨水一旦到来时，却像施了魔法一样，三五天后就长到一米六至二米的高度。原来在前六个月里，尖茅草不是不长，而是一直在长根部，雨季前它虽然只露头一寸，但却扎根地下超过28米。

这段文字启示人们：

- A. 一个人成长不能只要地面以上的高度
B. 一个人的基础越牢，发展潜力越大
C. 起步最早的，不一定是发展最好的
D. 人不可貌相 海水不可斗量

【答案】B。解析：

推断文意。

阅读可知，题干给我们讲了一个“非洲尖毛草”的故事。非洲尖毛草“在最初的半年里几乎是草原上最矮的草，但半年后雨水一旦到来时，却像施了魔法一样，三五天后就长到一米六至二米的高度。”因为“雨季前它虽然只露头一寸，但却扎根地下超过28米。”

作者想通过这个故事告诉我们什么道理呢？尖毛草在前6个月，一直在长根部，为的是什么呢？为的是扎稳自己的根基，打牢自己的基础。这充分说明：一个人的基础越牢，发展潜力越大。

所以，正确选项是B。

35. 梅兰芳不像绝大多数因媒体包装而走红的明星那样瞬间就被人们忘却。他并不是因《一缕麻》、《牢狱鸳鸯》之类的新编剧目获得观众爱戴，而是忧郁在《贵妃醉酒》、《霸王别姬》、《汾河湾》这些传统戏的表演中，既恪守规矩，又能超越前人。虽因大众媒体的鼓动，经历过一段除旧布新的喧嚣时光，终因回归传统风范而成为一代宗师。

这段文字主要说明：

- A. 梅兰芳是20世纪上半叶中国的媒体英雄人物
B. 梅兰芳的艺术之树常青，是因为他有深厚的传统艺术积淀
C. 梅兰芳的成功之路，就是我国经济的成功之路
D. 梅兰芳是如何成为京剧观众心目中最卓越的表演艺术家的

【答案】B。解析：

推断文意。

阅读可知，“梅兰芳不像绝大多数因媒体包装而走红的明星那样瞬间就被人们忘却”（隐含：梅兰芳的艺术之树常青）；“终因回归传统风范而成为一代宗师”（隐含：因为他有深厚的传统艺术积淀）。

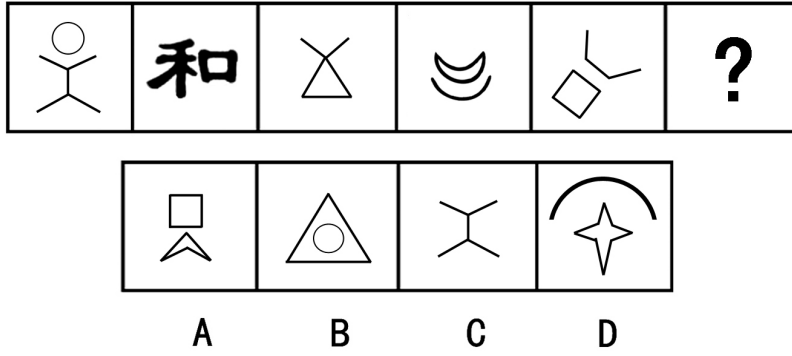
所以，正确选项是B。

第二部分 判断推理

（共35题，参考时限35分钟）

一、图形推理。请按每道题的答题要求作答。

36. 请从所给的选项中，选择最适合的一个填入问号处，使之呈现一定的规律性。

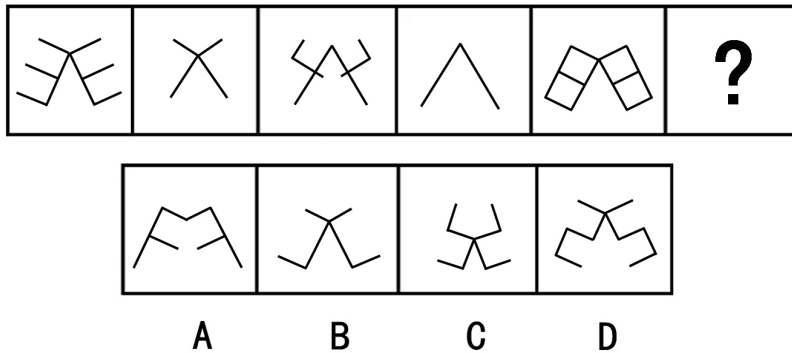


【答案】D。解析：

本题考查的是封闭空间的数量。

观察题干可知，每个图形中都有一个封闭空间。按照这个规律，只有D项符合要求。所以，正确选项是D。

37. 请从所给的选项中，选择最适合的一个填入问号处，使之呈现一定的规律性。



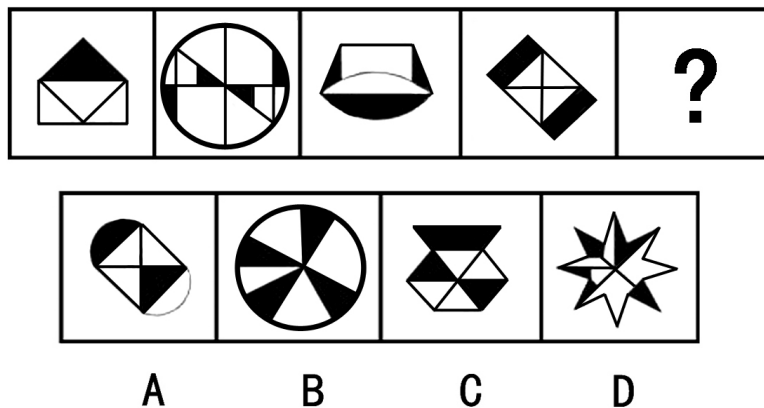
【答案】D。解析：

本题考查的是构图元素的“求同”。

观察题干可知，每个图形都是对称图形，并且它们分别是阿拉伯数字3、7、4、1、8。按照这个规律，只有D项符合要求：是阿拉伯数字5的对称图形。

所以，正确选项是D。

38. 请从所给的选项中，选择最适合的一个填入问号处，使之呈现一定的规律性。




【答案】D。解析：

观察可知，题干图形中的独立的黑色区域分别有 1，4，3，2 个，由此推知，取代问号的图形中应该有 5 个独立的黑色区域。只有 D 项符合要求。

所以，正确选项是 D。

39. 请从所给的选项中，选择最适合的一个填入问号处，使之呈现一定的规律性。



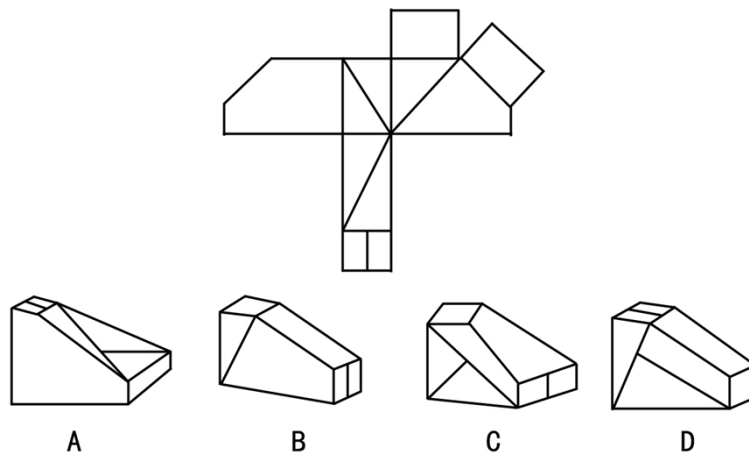
【答案】C。解析：

本题考查的是“叠加求同”。

观察题干可知，每行的前两个图形叠加，不同的元素叠加后消失，相同的元素叠加后保留，则可以得到第三个图形。按照这个规律，只有 C 项符合要求。

所以，正确选项是 C。

40. 下面四个选项中，那一个能拆成下面给定的图形。



【答案】B。解析：

首先排除 C 项，两个横连的小长方形不可能拆成竖连的。

A 项的“坡面”图形在纸板中没有出现，D 项的“侧面”图形在纸板中没有出现，都可以排除。

所以，正确选项是 B。

二、定义判断。每道题先给出一个概念的定义，然后给出一组典型例证，要求你从中选出符合题意的一项。注意：假设这个定义是正确的，不容置疑的。

41. 人文关怀是指一种普遍的人类自我关怀，表现为对人格、人的价值、人的命运和尊严的关切，对人的生存状态和社会地位、人的进步需求、生活条件保障的关注，以及对理想人格的肯定和塑造。

根据以上定义，下列不属于人文关怀的是：

- A. 对民众的博大的爱，深刻的理解和无私的付出
- B. 对人生存状况的关注，对人的生命和健康的呵护
- C. 对人的精神状态和人性的深切关怀，对人的情感、意志和价值的尊重
- D. 在强调国家利益的同时，关心个人的价值和利益及个人的困难和困境

【答案】D。解析：

本题是“不属于型”。要求从四个备选项中找出不属于“人文关怀”的一个选项。

分析定义可知，要归类于“人文关怀”，必须符合以下条件：（1）一种普遍的人类自我关怀，（2）表现为对人格、人的价值、人的命运和尊严的关切，（3）对人的生存状态和社会地位、人的进步需求、生活条件保障的关注，（4）对理想人格的肯定和塑造。

D项所说的“强调国家利益”，不是对人的关怀，与人文关怀的定义不符，不属于人文关怀。

所以，正确选项是D。



知识加油站

人文关怀是指一种普遍的人类自我关怀，表现为对人格、人的价值、人的命运和尊严的关切，对人的生存状态和社会地位、人的进步需求、生活条件保障的关注，以及对理想人格的肯定和塑造。“人文”一词出自《易·贲》，所谓“文明以止，人文也。观乎天文，以察时变；观乎人文，以化成天下”。指以人为中心的各种文化现象的集中表现。人文关怀的核心是以人为本，宗旨在于“助人自助”，自觉地对生存环境和主体自身进行自我调节和控制，合理利用自主选择权利，达到自我完善境界。源于西方人文主义和中国传统文化的人文关怀所包含的内涵有：

- （1）对民众的博大的爱、深刻的理解和无私的付出；
- （2）对人生存状况的关注，对人的生命和健康的呵护；
- （3）对人的精神状态和人性的深切关怀，对人的情感、意志和价值的尊重；
- （4）对人的尊严与符合人性的生活条件的肯定和对人类解放与自由的追求；
- （5）对人的基本权利的尊重和保护，对人格的尊重与重视等。现代意义上的人文关怀在强调国家公共利益的同时，同样应当重视和关心个人的价值和利益及个人的苦难和困境。

42. 社会责任是公民、企业和各种组织对国家或社会公共利益方面应尽的责任或义务。社会责任就是行为主体对社会负有一定的责任，人是社会的动物，只有在社会中才能体现出人的真正本质。

根据以上定义，下列属于公民社会责任的是：

- A. 宪法法律规定以外的公民义务
- B. 公民应尽的非道德责任的责任
- C. 爱国守法、明礼诚信、敬业奉献
- D. 在工作单位应尽的一些岗位职责

【答案】C。解析：

本题是“属于型”。要求从四个备选项中找出属于“公民社会责任”的一个选项。

分析定义可知，要归类于“社会责任”，必须符合以下条件：（1）公民、企业和各种组织，（2）对国家或社会公共利益，（3）应尽的责任或义务。

A项所说“宪法法律规定以外的义务”，B项所说“非道德责任的责任”，其范围明显过宽，有悖常理，可以直接排除。D项所说“在工作单位应尽的一些岗位职责”，其范围“一些”过于模糊，表述不当，排除。

所以，正确选项是 C。

43. 公共意识是独立自由的个体所具有的一种整体意识或整体观念。公共意识一方面是个体自由的体现，另一方面是对于一个超越个体自身以外的共同整体的体现。

根据以上定义，下列属于公共意识的是：

- A. 期望公民必须变得无私并在行为上完全利他
- B. 公民顾及私利的同时，追求公共目标和利益
- C. 现代社会所张扬的一种精神气质和公共精神
- D. 把自己认定为一个与他人联系在一起的集合体

【答案】B。解析：

本题是“属于型”。要求从四个备选项中找出属于“公共意识”的一个选项。

分析定义可知，要归类于“公共意识”，必须符合以下条件：（1）个体自由的体现，（2）对于超越个体自身以外的共同整体的体现。

B 项所说：公民顾及私利的同时（隐含：个体自由的体现），追求公共目标和利益（隐含：对于超越个体自身以外的共同整体的体现），全面地体现了“公共意识”的内涵，属于“公共意识”。

所以，正确选项是 B。

44. 团队精神是指团队的成员为了团队的利益和目标，而相互协作竭尽全力的意愿和作风。高绩效团队强大竞争力的根源，不在于其成员个人能力的卓越，而在于其成员整体“合力”的强大，其中起关键作用的就是团队精神。

根据以上定义，下列属于团队精神的是：

- A. 忠诚、投入、志趣相投、相互吸引
- B. 有凝聚力和为团队利益牺牲的愿望
- C. 高绩效团队的灵魂和难以模仿的特质
- D. 将每个成员“粘”在一起的“胶”

【答案】B。解析：

本题是“属于型”。要求从四个备选项中找出属于“团队精神”的一个选项。

分析定义可知，要归类于“团队精神”，必须符合以下条件：（1）团队的成员，（2）为了团队的利益和目标，（3）相互协作竭尽全力，（4）意愿和作风。

请特别注意“意愿和作风”这个条件。B 项所说：有凝聚力和为团队利益牺牲的愿望（隐含：意愿和作风），全面地体现了“团队精神”的内涵，属于“团队精神”。

所以，正确选项是 B。

45. 城市化是人类生产与生活方式由农村型向城市型转化的历史过程，表现为乡村人口向城市人口转化以及城市不断发展和完善的过程。党的十七届三中全会会议公报指出，到 2020 年，城乡经济社会发展一体化机制基本建立。

根据以上定义，下列对城市化的理解正确的是：

- A. 大批的农民迁移到城市，由农民变为市民
- B. 农民进城数量越来越多，就说明城市化率越高
- C. 农民进城越多，这个地方的社会发展越先进
- D. 农民生产方式的工业化程度越高，这个地方的社会发展越先进

【答案】A。解析：

本题是“属于型”。要求从四个备选项中找出属于“城市化”的一个选项。

分析定义可知，要归类于“城市化”，必须符合以下条件：（1）乡村人口向城市人口转化，（2）城市不断发展和完善。

A 项所说：大批的农民迁移到城市，由农民变为市民（隐含：乡村人口向城市人口转化），很好地体

现了“城市化”的内涵，属于“城市化”。

所以，正确选项是A。

46. 不正当竞争是指一切违反商业道德和善良风俗，特别是违反有关法律规定的非法经营行为。它包括垄断行为，限制竞争行为，经营者采用欺骗、胁迫、利诱、诋毁、窃用以及其他不道德手段从事市场交易的行为。

根据上述定义，下列属于不正当竞争行为的是：

- A. 欺骗性交易、不正当销售行为、拒绝“三包”行为
- B. 诋毁竞争对手行为、商业贿赂行为、无合格商品标志行为
- C. 贬低竞争对手行为、附加条件的交易行为、协议限制的竞争行为
- D. 侵犯商业秘密行为、不出具购物发票行为、无视消费者权益行为

【答案】C。解析：

本题是“属于型”。要求从四个备选项中找出属于“不正当竞争行为”的一个选项。

分析定义可知，要归类于“不正当竞争行为”，必须符合以下条件：（1）违反商业道德和善良风俗，（2）违反有关法律规定，（3）非法经营行为，（4）包括垄断行为，限制竞争行为，经营者采用欺骗、胁迫、利诱、诋毁、窃用以及其他不道德手段从事市场交易的行为。

A项中的“拒绝‘三包’行为”属于经营者与消费者之间的售后服务问题，与不正当竞争无关，排除。

B项中的“无合格商品标志行为”，属于伪劣假冒产品，与不正当竞争无关，排除

D项的“无视消费者权益行为”属于经营者与消费者之间的关系问题，与不正当竞争无关，排除。

所以，正确答案是C。

47. 企业文化的核心就是以人为本的价值观，具体来说就是尊重人，服务人，发展人。尊重人，就是对人平等、关心、理解、宽容；服务人，就是为人提供周到细致的服务，提供各种保护和保障举措；发展人，就是因用人的现实需求和目标需要，实现人的各种权益和利益。

根据上述定义，下列属于企业文化的核心的是：

- A. 企业领导人的一些大的经营理念和经营方略
- B. 企业的责任、创新、诚信、推动力、影响力
- C. 把人而不是金钱、机器看作自然资源
- D. 企业管理者、业内人士、普通员工的价值观

【答案】C。解析：

本题是“属于型”。要求从四个备选项中找出属于“企业文化的核心”的一个选项。

分析定义可知，要归类于“企业文化的核心”，必须符合以下条件：（1）以人为本的价值观，（2）尊重人，就是对人平等、关心、理解、宽容，（3）服务人，就是为人提供周到细致的服务，提供各种保护和保障举措，（4）发展人，就是应因人的现实需求和目标需要，实现人的各种权益和利益。

C项所说“把人而不是金钱、机器看作自然资源”（隐含：把人看作是企业发展赖以发展的自然资源，体现了以人为本的价值观），属于“企业文化的核心”。

所以，正确选项是C。

48. 逆向思维是一种比较特殊的思维方式，它的思维取向与常人的思维取向相反。逆向思维并不是主张人们在思考时违逆常规，不受限制地胡思乱想，而是训练一种小概率模式，即在思维活动中关注小概率可能性的思维。

根据上述定义，下列属于逆向思维的是：

- A. 人弃我取，人进我退，人动我静，人刚我柔
- B. 以某一复杂问题的结果为发射点，尽可能多的把它与别的事物组合成新问题
- C. 以某一复杂问题的结果为发射点，推出各种结果的各种原因

D. 将人们通常思考的思路稍加扭转，“歪打正着”

【答案】A。解析：

本题是“属于型”。要求从四个备选项中找出属于“逆向思维”的一个选项。

分析定义可知，要归类于“逆向思维”，必须符合以下条件：（1）与常人的思维取向相反，（2）并不是主张人们在思考时违逆常规，不受限制地胡思乱想，（3）在思维活动中关注小概率可能性。

A 项所说“人弃我取，人进我退，人动我静，人刚我柔”（隐含：与常人的思维取向相反），属于“逆向思维”。

所以，正确选项是 A。

49. 揣摩指的是对自身以外的人和事的推测、估量、判断等。揣摩必须以良好的心态为基础，以实践经验总结为依据，以认真分析思考为前提。能够比较全面、客观和准确的推测、估量、估计、判断他人内心情感，是人们认识和处理复杂问题时必需的一种基本功。

根据上述定义，下列属于揣摩的是：

A. 知己知彼，百战不殆

B. 凡事预则立，不预则废

C. 仁者见仁，智者见智

D. 己所不欲，勿施于人

【答案】B。解析：

本题是“属于型”。要求从四个备选项中找出属于“揣摩”的一个选项。

分析定义可知，要归类于“揣摩”，必须符合以下条件：（1）对自身以外的人和事，（2）推测、估量、判断。

B 项所说“凡事预则立，不预则废”，意思是：不论做什么事，事先有准备，就能得到成功，不然就会失败。怎样才能“事先有准备”呢？，当然需要对自身以外的人和事进行“推测、估量”。这完全符合“揣摩”的定义条件。

所以，正确选项是 B。

50. 食品添加剂是为提高食品品质和色、香、味、形以及防腐、保鲜和加工工艺的功能而加入食品中的化学合成或天然物质。食品添加剂只要以合理方式、合理剂量使用，不会引发食品安全问题。

根据上述定义，下列属于食品添加剂的是：

A. 色素、膨松剂、蛋白精、防腐剂

B. 甜味剂、水分、乳化剂、硫化钠

C. 味精、木糖醇、维生素、矿物质

D. 着色剂、罂粟壳、面粉处理剂

【答案】C。解析：

本题是“属于型”。要求从四个备选项中找出属于“食品添加剂”的一个选项。

分析定义可知，要归类于“食品添加剂”，必须符合以下条件：（1）为提高食品品质和色、香、味、形以及防腐、保鲜和加工工艺的功能，（2）加入食品中的化学合成或天然物质。

（2008 年 12 月国家公布了第一批“食品中可能违法添加的非食用物质和易滥用的食品添加剂品种名单”，其中包括 17 种非食用物质为：吊白块、苏丹红、王金黄块黄、蛋白精三聚氰胺、硼酸与硼砂、硫氰酸钠、玫瑰红 B、美术绿、碱性嫩黄、酸性橙、工业用甲醛、工业用火碱、一氧化碳、硫化钠、工业硫黄、工业染料、罂粟壳。）

A 项中的“蛋白精”，B 项中的“硫化钠”，D 项中的“罂粟壳”都属于非食用物质，因而不属于“食品添加剂”，排除。

所以，正确选项是 C。

三、类比推理。下列各题先给出一对相关的词，请在四个选项中找出一对与之在逻辑关系上最为贴近或相似的词。

51. 位置：高度

- A. 卧室：厨房
C. 苏打：漂白
- B. 室内：墙壁
D. 网球：排球

【答案】B。解析：

题干表述的关系是：确定物体位置需要以高度为参照。

B项的关系与此相同：确定室内空间需要以墙壁为参照。

所以，正确选项是B。

52. 地球：北极

- A. 星球：月亮
C. 联合国：中国
- B. 昆虫：蚊虫
D. 书本：封面

【答案】D。解析：

题干表述的关系是：北极是地球的组成部分。

D项的关系与此相同：封面是书本的一部分。

所以，正确选项是D。

53. 丰功：伟绩

- A. 维和：行动
C. 文化：传播
- B. 风餐：露宿
D. 风卷：残云

【答案】B。解析：

题干表述的关系是：丰功、伟绩是近义词并且能组成成语。

B项的关系与此相同：风餐、露宿是近义词并且能组成成语。

所以，正确选项是B。

54. 心理：承受

- A. 干扰：闹钟
C. 睡眠：质量
- B. 信息：刺激
D. 消化：吸收

【答案】B。解析：

题干表述的关系是：心理具有承受功能。

B项的关系与此相同：信息具有刺激功能。

所以，正确选项是B。

55. 期刊：杂志

- A. 水果：柠檬
C. 油墨：印刷
- B. 酱油：食品
D. 皮肤：搔痒

【答案】A。解析：

题干表述的关系是：杂志是一种期刊。

A项的关系与此相同：柠檬是一种水果。

B项容易误选。酱油与食品之间的关系是：酱油→调味品→食品，也就是说它们不是层次相邻概念，与题干关系不符，因而排除。

所以，正确选项是A。

56. 双杠：单杠

- A. 阑尾：心脏
C. 南宋：北宋
- B. 毫米：口径
D. 纪念：周年

【答案】C。解析：

题干表述的关系是：双杠和单杠是相对应的两种体育器材。

C项的关系与此相同：南宋和北宋是相对应的两个朝代。

所以，正确选项是C。

57. 真皮：标志

A. 模拟：通信

B. 噪声：范围

C. 火车：车厢

D. 中国：邮票

【答案】B。解析：

题干表述的关系是：根据真皮标志可以认定真皮。

B项的关系与此相同：根据噪声范围可以认定噪声。

有人把“真皮”看作是“标志”的定语，把题干的逻辑关系表述为：真皮标志是一种标志。这样理解应该说也是一种思路，未尝不可。但是，按照这个思路，至少有两个选项符合要求：火车车厢是一种车厢；中国邮票是一种邮票。由此看来，这种思路并不能很好地把选项区分开来，因而必须排除。

所以，正确选项是B。

58. 军队：军人

A. 灯具：台灯

B. 车辆：轿车

C. 饰品：挂件

D. 文具：笔墨

【答案】D。解析：

题干表述的关系是：军人是军队的最重要组成部分。

D项的关系与此相同：笔墨是文具的最重要组成部分。

相比而言，台灯只是一种普通的灯具，轿车只是一种普通的车辆，挂件只是一种普通的饰品，都与题干表述的关系不符，排除。

所以，正确选项是D。

59. 红光：满面

A. 东山：再起

B. 魂牵：梦绕

C. 五光：十色

D. 雨打：芭蕉

【答案】D。解析：

题干表述的关系是：“满面”是“红光”的范围。

D项的关系与此相同：“芭蕉”是“雨打”的范围。

所以，正确选项是D。

60. 休克：昏厥

A. 同一：统一

B. 口误：误口

C. 分类：划分

D. 再见：再会

【答案】B。解析：

题干表述的关系是：“休克”与“昏厥”是两个完全不同，但却容易被混淆的概念。

B项的关系与此相同：“口误”与“误口”是两个完全不同，但却容易被混淆的概念。

所以，正确选项是B。

四、演绎推理。每题给出一段陈述，这段陈述被假设是正确的，不容置疑的。要求你根据这段陈述，选择一个答案。注意：正确答案应与所给的陈述相符合，不需要任何附加说明即可以从陈述中直接推出。

61. 2008 年以来，索马里附近海域先后发生累计 120 起海盗劫船事件。海盗何以猖獗？甲乙丙丁四人断定如下：

甲：海盗猖獗的主因是被劫船只通常都愿支付高额赎金

乙：如果海盗猖獗的主因是船主愿意支付高额赎金，那么肯定会助长海盗的气焰

丙：确实助长了海盗的气焰，但其主因并非被劫船主都愿意支付高额赎金

丁：海盗猖獗主要是被劫船主愿支付高额赎金，但其嚣张气焰并非由此生成

如果上述断定有一个人的断定为真，那么以下断定不可能为真，除了：

A. 甲

B. 乙

C. 丙

D. 丁

【答案】B。解析：

本题属于真假型。

根据题意，本题实际上就是要求找出那个唯一说真话的人。

阅读可知，乙与丁的断定相互矛盾，二者必有一真一假。也就是说，唯一的真话必在乙、丁之中。因此，甲和丙的断定都是假的。

根据甲的断定“海盗猖獗的主因是被劫船只通常都愿支付高额赎金”是假的，可以推知：海盗猖獗的主因并不是被劫船只都愿支付高额赎金。

既然“海盗猖獗的主因并不是被劫船只都愿支付高额赎金”，那么我们就可以直接确定乙的断定是真的。

为什么我们可以直接确定乙的断定是真的呢？这是根据充分条件假言命题的逻辑性质。乙的断定在形式逻辑学上叫做充分条件假言命题，其最典型的逻辑特征就是以“如果……那么……”为关联词，其逻辑形式可以表示为：如果 p，那么 q。其中的 p 和 q 分别称为命题的前件和后件。一个充分条件假言命题，只有当“前件真而后件假”时才是假的，在另外的情况下（前件真后件真，前件假后件真，前件假后件假），充分条件假言命题都是真的。

既然“海盗猖獗的主因并不是被劫船只都愿支付高额赎金”，就意味着乙的断定的前件“海盗猖獗的主因是船主愿意支付高额赎金”是假的。根据充分条件假言命题的逻辑性质，如果前件是假的，那么充分条件假言命题就必然是真的。因此，乙的断定是真的。

所以，正确选项是 B。

62. 下派干部中，有三个人是到基层锻炼过的，四个是山东人，两个是济南人，五个是研究生学历。以上情况涉及了开现场会的所有人员，其中济南人不是研究生学历，那么召开现场会的全部人数是：

A. 最少 5 人，最多 12 人

B. 最少 7 人，最多 12 人

C. 最少 5 人，最多 14 人

D. 最少 7 人，最多 14 人

【答案】B。解析：

本题属于统筹问题。

全部人数最多的情况只能是“所有人员都不重叠”的情况，即：

3 个到基层锻炼过的 + 4 个山东人（含 2 个济南人）+ 5 个研究生 = 12 人。由此排除 C、D 两项。

全部人数最少的情况只能是“所有人员尽量重叠”的情况，即：

5 个研究生（含 3 个到基层锻炼过的，4 个山东人中除 2 个济南人的 2 个人）+ 2 个非研究生（济南人）= 7 人。由此排除 A 项。

所以，正确选项是 B。

63. 有一件未留姓名的好人好事在某社区传开，甲乙丙丁有如下对话：

甲说：这件事肯定是乙丙丁中的一位做的

乙说：我没有做这件事，好人好事是丙做的

丙说：此事是甲和乙中的一位做的

丁说：乙说的是事实

经调查，证实这4人中有两人说的符合实际。

由此推出：

- A. 是甲做的好事 B. 是乙做的好事 C. 是丙做的好事 D. 是丁做的好事

【答案】B。解析：

本题属于真假型。

根据题意，乙和丁说的话是完全一致的，也就是说，乙和丁的话要么同时是真的，要么同时是假的。

设乙和丁的话同时是真的。根据题意，4人中有两人说的符合实际，那么，甲和丙的话就必定都是假的。然而，根据乙的话是真的可知：好事是丙做的，必然推出甲的话也是真的。这就与题设发生了矛盾。因此，乙和丁的话不可能同时是真的，只能同时是假的。

乙和丁的话同时是假的，则甲和丙的话都是真的。

由甲丙的话可以推出：好事是乙做的。

所以，正确选项是B。

64. 研究人员挑选了600多名学生，让他们在屏幕背景分别为红蓝两色的电脑上接受测试。结果用红色背景电脑的人在记忆校对等准确性测试方面得分较高，而使用蓝色背景电脑的人则表现出了更出色的想象力和创造力。2004年夏季奥运会上，穿红色服装的运动员在拳击、跆拳道、摔跤等比赛中的获胜率为60%。蓝天、海洋给人带来开放和宁静感。

由此可以推出：

- A. 红色在潜意识中象征某种优势 B. 蓝色易促使人表现出更多的创造力
C. 红色和蓝色容易影响人的认知和行为 D. 红色易使人联想起愤怒、进攻性和勇气

【答案】C。解析：

本题属于推断文意型。

阅读题干可知，其中的“用红色背景电脑的人在记忆校对等准确性测试方面得分较高，而使用蓝色背景电脑的人则表现出了更出色的想象力和创造力”，具体描述了红色和蓝色对人发生的影响。

AD两项仅仅说明了红色对人的影响，B项则仅仅说明了蓝色对人的影响，都不够全面。可以排除。所以，正确选项是C。

65. 在一次对全市中学假期加课情况的检查后，甲乙丙三人有如下结论：

甲：有学校存在加课问题

乙：有学校不存在加课问题

丙：一中和二中没有暑期加课情况

如果上述三个结论中只有一个正确，则以下哪项一定为真？

- A. 一中和二中都存在暑期加课情况 B. 一中和二中都不存在暑期加课情况
C. 一中存在加课情况，但二中不存在 D. 一中不存在加课情况，但二中存在

【答案】A。解析：

本题属于真假型。

阅读可知，甲与乙的断定之间具有下反对关系，二者不能同假，必有一真。也就是说，唯一的真话必在甲、乙之中。因此，丙的断定必定是假的。

由丙的断定是假的，可以推知甲的断定是真的，乙的断定是假的。

根据乙的断定是假的，“有学校不存在加课问题”是假的，可以推知：一中和二中都存在暑期加课情况。即A项是真的。

所以，正确选项是A。

66. 自今年起的每年8月8日为“全民健身日”。甲、乙、丙、丁四人议论“全民健身日”的性质。甲说：“我们办公室所有人都知道这是法定的健身活动日。”乙说：“如果小张说这不是法定的健身活动日，那么他就认为是法定的‘国家体育日’。”丙说：“小张说这不是法定的健身活动日，也不是法定的北京奥运会纪念日。”丁说：“我们办公室有人就不知道这是法定的健身活动日，而认为是体育节。”

已知上述四人中只有一人说的是不符合事实。由此可以推出：

- A. 甲说假话 B. 乙说假话 C. 丙说假话 D. 丁说假话

【答案】A。解析：

本题属于真假型。

阅读可知，甲与丁的议论相互矛盾，二者必有一真一假。也就是说，唯一的假话必在甲、丁之中。因此，乙和丙的议论都是真的，可以排除B、C两项。

既然丙的议论是真的，丙说：“小张说这不是法定的健身活动日，也不是法定的北京奥运会纪念日。”由此可以推知甲的议论是假的，丁的议论是真的。排除D项。

所以，正确选项是A。

67. 飞鸟的集体自杀，是大自然的一个难解之谜。当今一个通行的说法是：鸟类集体自杀，主要是地球磁极的移动使它们看不准定向标。

以下哪项如果为真，最能削弱上述专家的观点？

- A. 空气中漂浮的大量毒气云团是飞鸟致死的元凶
B. 飞鸟的集体死亡一般是大自然的偶然事件
C. 飞鸟吃了河海里以有毒藻类为食的虾蟹致死
D. 火山爆发产生大量硫化物造成飞鸟的集体死亡

【答案】B。解析：

本题属于削弱型。

题干陈述的论点是：鸟类集体自杀，主要是地球磁极的移动使它们看不准定向标。

怎样才能反驳这个观点呢？就是要指出，鸟类集体自杀，不是因为地球磁极的移动使它们看不准定向标。

阅读选项可知，4个选项分别说明了飞鸟集体死亡的不同原因，因此，在一定程度上都可以削弱题干中专家的观点。那么，哪一项最能削弱专家的观点呢？仔细对比可以看出，A项的“毒气云团”，C项的“有毒虾蟹”，D项的“硫化物”所引起的飞鸟死亡都不是“自杀”，而是“被杀”，对专家的观点削弱较轻，可以排除。

B项所说“飞鸟的集体死亡一般是大自然的偶然事件”，说明飞鸟的集体死亡不是因为地球磁极的移动使它们看不准定向标，而是偶然事件，这就强烈削弱了专家的观点。

所以，正确选项是B。

68. 关于确定一项突击性任务的人选，甲、乙、丙三位推荐人的意见分别是：

甲：不是选派小张，就是选派小王

乙：如果不选派小张，就不选派小王

丙：只要不选派小王，就不选派小张

以下几项中，同时满足甲、乙、丙三人意见的方案是：

- A. 两人都选派 B. 两人都不选派 C. 选小张，不选小王 D. 选小王，不选小张

【答案】A。解析：

本题属于逻辑推理型。

（解法一）

根据题意，同时满足甲、乙、丙三人的方案，那么，甲、乙、丙三人的话同时是真的。

阅读题干可知，甲、乙两个充分条件假言命题的前件相同，后件是相互矛盾的，要想让这两个命题同时为真，根据充分条件假言命题的逻辑性质，其前件必须是假的。也就是说，“不选派小张”为假，即“选派小张”为真。

把“选派小张”与丙的意见“只要不选派小王，就不选派小张”相结合，构成充分条件假言推理的“否定后件式”，可以得到结论“选派小王”。

也就是说，同时满足甲、乙、丙三人意见的方案是 A 项：两人都选派。

所以，正确选项是 A。

（解法二）

解答本题可以采用真值表法。

甲、乙、丙三位推荐人的意见，其逻辑形式可以分别用公式表示为：

甲：非小张→小王

乙：非小张→非小王

丙：非小王→非小张

用“1”表示真，“0”表示假，则可以画真值表为：

小张	小王	非小张	非小王	甲：非小张→小王	乙：非小张→非小王	丙：非小王→非小张
1	1	0	0	1	1	1
1	0	0	1	1	1	0
0	1	1	0	1	0	1
0	0	1	1	0	1	1

由真值表可知，同时满足甲、乙、丙三人意见的方案是 A 项：两人都选派。

所以，正确选项是 A。

69. 研究人员通过基因操作，使实验鼠体内能够代谢葡萄糖和脂肪酸，但不能代谢醋酸，然后比较这些实验鼠和正常实验鼠在喂给饵料和绝食 48 小时的状态下，身体状态有何不同。结果发现，在被迫长时间绝食的状态下，不能代谢醋酸的实验鼠体温和耐力明显降低。醋酸是生命体内的基本物质，而实验鼠的身体构造又与人体非常接近。

由此可以推出：

- A. 醋酸在其维持人体能量供应中起着至关重要的作用
- B. 醋酸可以作为人体的一种不会提升血糖值的能量源
- C. 代谢产生的三磷酸腺苷是生命活动的能量源泉
- D. 在持久运动时，脂肪酸和酮体是 ATP 的主要来源

【答案】A。解析：

本题属于推断文意型。

阅读题干可知，在被迫长时间绝食的状态下，不能代谢醋酸的实验鼠体温和耐力明显降低（隐含：醋酸对极度饥饿的实验鼠维持生命活动所需能量十分重要）；而“实验鼠的身体构造又与人体非常接近”；由此可以推出 A 项：醋酸在其维持人体能量供应中起着至关重要的作用。

所以，正确选项是 A。

70. 近几年，为治理城镇污水，污水处理厂的建设和不断升温。大规模上马污水处理厂，的确能在短期内实现城镇生活用水 COD 的减排。但是，一些地方城镇生活污水经过鱼塘和天然湿地的生态净化，COD 浓度也能大幅度降低。

由此可以推出：

- A. 单一的集中治理模式不符合环境保护自身的规律
- B. 治污就是要付出消耗能量和资金的代价的
- C. 减排手段因地制宜，多种方式相结合
- D. 为治污而治污，不能将节能与减排结合好

【答案】C。解析：

本题属于推断文意型。所谓推断文意，就是要揭示出题干中隐含的作者想说而没有说出来的意思。阅读可知。题干属于转折型结构。转折型结构强调的往往是转折词后面的内容。

题干首先说污水处理厂在 COD 减排中的作用，接着话锋一转，又说鱼塘和天然湿地的生态净化作用。作者这样的叙述意在说明什么呢？显然他是想告诉我们：减排手段要因地制宜，多种方式相结合，不能搞一刀切。

所以，正确选项是 C。

第三部分 常识判断

（共 30 题，参考时限 15 分钟）

一、单项选择题。下列各题均有四个选项，正确选项只有一个，请将正确答案选出。

71. 下列古谚、古训不蕴含同一哲学原理的一组是：

- A. 郑人买履；按图索骥；邯郸学步；对牛弹琴
- B. 鲁侯养鸟；张冠李戴；良莠不分；指鹿为马
- C. 千里之行，始于足下；千里之堤，溃于蚁穴；水滴石穿；防微杜渐
- D. 入山问樵，入水问渔；不入虎穴，焉得虎子；凡事要好，须问“三老”；百闻不如一见

【答案】A。解析：

A. 郑人买履；按图索骥；邯郸学步——不从实际出发，犯了主观主义的错误。

对牛弹琴——混淆事物的不同性质，抹杀不同矛盾的不同特点。

B. 鲁侯养鸟；张冠李戴；良莠不分；指鹿为马——混淆事物的不同性质，抹杀不同矛盾的不同特点。

C. 千里之行，始于足下；千里之堤，溃于蚁穴；水滴石穿；防微杜渐——量变是质变的必要准备，质变是量变的必然结果，要重视量的变化和积累。

D. 入山问樵，入水问渔；不入虎穴，焉得虎子；百闻不如一见；凡事要好，须问“三老”——实践是认识的来源，实践出真知。

由此可知，A 组的古谚、古训不蕴含同一哲学原理。

所以，正确选项是 A。

72. “曲高和寡”出自战国宋玉的《对楚王问》，这一成语的本义是曲调高深，能跟着唱的人就少，多指知音难得。引申义是言论或作品不通俗，能了解的人很少。如果从经济学的角度来理解，它所体现出的道理是：

- A. 价格应定在边际成本上
- B. 价格应定在消费者的需求线上
- C. 价格应该由政府整合调控好
- D. 价格应定在社会实际需求上

【答案】A。解析：

宋玉用“曲高和寡”这个成语比喻自己的文章太深了，没有几个人能看得懂，虽引来不少非议，但又不无道理。如果我们出售一种产品时把价格订得太高，我想无论是商家也好，还是广大消费者也好，肯定也会出现“曲高和寡”的现象。

凡是代表厂家参加过价格谈判的人都知道，出售一种产品有一个价格底线，低于此线的价格是不能接受的。这个底线一般就是产品的全部成本（包括风险成本）。在谈判时这个底线并不泄露给对方，而是试图按对方的购买能力及承担水平尽量抬高价格。从经济学来分析这一现象，说明商品有两种价格，一是它的生产成本；二是消费者愿意出的价格。前者位于商品的边际成本线上，后者位于消费者的需求

线上。这两种价格是彼此独立的，互相不发生影响。微观经济学的理论证明了一条重要原理，即价格应定在边际成本上（边际成本就是指在一定产量水平下，增加或减少一个单位产量所引起成本总额的变动数，用以判断增、减产量在经济上是否合算），这样的定价可以使商品得到最大的产出，避免“曲高和寡”的现象，有利于社会。

所以，正确选项是 A。

73. 下列观点不属于达尔文进化理论的是：

- A. 生物在代代相传的繁育过程中都有可能发生变异
- B. 变异的长期积累，导致各个物种出现千变万化
- C. 变异是长期存在、逐步发展，进化是逐渐发生的
- D. 生物进化不是“适者生存”，而是“幸者生存”

【答案】D。解析：

达尔文进化理论的主要内容是：地球生物都是从最初的最简单的单细胞进化来的，在亿万年的进化过程中，不断地物竞天择，适者生存，并导致了物种的变异。

“幸者生存”是反对达尔文“适者生存”理论的一种观点，它认为：地球生物的进化和灭绝都是随机发生的，只有幸运者才能生存，生存下来的即是幸者。

由此可见，D 项的“幸者生存”观点不属于达尔文的进化理论。

所以，正确选项是 D。

74. 下列陈述中错误的是：

- A. 在地球上的能源中，地热能仅次于太阳辐射能，排在第二位
- B. 太阳能、风能、地热、潮汐能以及生物质能都是可再生资源
- C. 三聚氰胺是一种含氮杂环有机化工原料，主要用于做蜜胺塑料
- D. 1 纳米等于二十亿分之一米，约为 4—5 个原子排列起来的长度

【答案】D。解析：

纳米是一个长度单位，1 纳米等于十亿分之一米。由此可知 D 项的陈述是错误的。

所以，正确选项是 D。

75. 干燥的冷空气和富含水蒸气的暖空气相遇，发生大规模碰撞时形成的极端天气现象是：

- A. 热带风暴
- B. 台风
- C. 飓风
- D. 龙卷风

【答案】A。解析：

根据经验可知，龙卷风的规模、区域一般较小，与题干所说的“发生大规模碰撞”不符，可以直接排除。

根据地理知识，飓风和台风都是指风速达到 33 米/秒以上的热带气旋，只是因发生的地域不同，才有了不同名称。出现在西北太平洋和我国南海的强烈热带气旋被称为“台风”；发生在大西洋、加勒比海和北太平洋东部的则称“飓风”。由此可知，选择 B、C 两项都不恰当，可以排除。

所以，正确选项是 A。

76. 在人类探测月球的过程中，可以用不同方式将月球探测器送入月球轨道，我国“嫦娥一号”采用的经济稳妥方式是：

- A. 火箭将月球探测器送入近地轨道，然后探测器自行加速进入地月转移轨道到达月球
- B. 将月球探测器送入环地大椭圆轨道，在大椭圆轨道近地点加速进入地月转移轨道
- C. 火箭将月球探测器送到地月引力平衡点处，探测器加速进入月球轨道到达月球
- D. 火箭将月球探测器直接送入地月转移轨道到达月球

【答案】B。解析：

把月球探测卫星从地面发射到月球轨道的方式主要有4种：第一种是用运载火箭先将月球探测卫星送入近地球的圆轨道上，然后靠月球探测卫星自行加速进入地月转移轨道到达月球；第二种是用运载火箭将月球探测卫星送入环地球飞行的大椭圆轨道，然后通过月球探测卫星在椭圆轨道的近地点处加速来进入地月转移轨道，最终到达月球；第三种是用运载火箭将月球探测卫星送入地月引力平衡点处，然后在地月引力平衡点处使月球探测卫星加速进入月球轨道；第四种是用运载火箭把月球探测卫星直接送入地月转移轨道从而飞向月球。

以上四种方式在过去的探月活动中都使用过，它们各有特点。根据“嫦娥一号”的使命和性能以及我国现有运载火箭的能力，经过精确的分析和计算，为了用最小的代价实现奔月过程，我国月球探测卫星选择了第二种轨道飞行方式，即：由运载火箭将“嫦娥一号”首先送入环绕地球的大椭圆轨道，然后由“嫦娥一号”在该轨道的近地点处不断加速，进入地月转移轨道，到达月球后减速成为月球卫星。

所以，正确选项是B。

77. 我国“十一五”时期能源发展规划提出了能源发展的总体要求。其中，作为维护我国能源安全的基本方略是：

- A. 节约优先，把节能作为基本国策，坚持开发与节约并重，不断提高能源利用率
- B. 主要依靠国内解决能源供给问题，加快能源工业发展，增强国内能源供给能力
- C. 加强合作、坚持平等互利、合作双赢，积极开展能源领域的国际合作
- D. 坚持以煤炭为主体，以电力为中心，加快再生能源和新能源开发

【答案】B。解析：

根据我国“十一五”规划的要求，立足国内，多元发展，这是维护我国能源安全的基本方略。

所以，正确选项是B。

78. 2008年，国务院发布推进长三角地区改革发展的指导意见，提出了长三角地区改革发展的四项主要原则，其中坚持一体化发展的重要内容是：

- A. 努力提高自主创新能力，切实加强资源节约和环保
- B. 着力保障和改善民生，加强社会主义民主和法制建设
- C. 加强与周边地区和长江中下游地区的联合与协作
- D. 统筹区域内基础设施建设，形成统一开放的市场体系

【答案】D。解析：

进一步推进长江三角洲地区改革开放和经济社会发展的主要原则是：坚持科学发展，努力提高自主创新能力，切实加强资源节约和环境保护，推进经济发展方式的转变；坚持和谐发展，着力保障和改善民生，加强社会主义民主法制建设，维护社会公平正义；坚持率先发展，加强与周边地区和长江中上游地区的联合与协作，强化服务和辐射功能，带动中西部地区发展；坚持一体化发展，统筹区域内基础设施建设，形成统一开放的市场体系，促进生产要素合理流动和优化配置；坚持改革开放，继续在体制创新上先行先试，率先在重要领域和关键环节取得突破，为又好又快发展提供制度保障。（出处：《国务院关于进一步推进长江三角洲地区改革开放和经济社会发展的指导意见》）

所以，正确选项是D。

79. 最近，我国以前所未有的力度扩大投资规模，启动和加快建设一批国家级重点工程。其中，投资额为千亿元级的四大工程是：

- A. 青藏铁路、南水北调、西气东输、西电东送
- B. 月球探测二期、西部路网、阳江核电站、北京地铁新线
- C. 西气东输二线、京沪高铁、核电工程、南水北调

D. 天湾核电站、人造卫星发射、上海磁悬浮铁路、城际轨道交通

【答案】C。解析：

“十五”计划期间，我国曾启动改写中国经济版图的“青藏铁路、南水北调、西气东输、西电东送”四大工程。

最近，为抵御国际金融危机冲击、解决当前我国经济运行中的突出问题，我国以前所未有的力度扩大投资规模，启动和加快建设一批国家级重点工程。这其中投资额为千亿元级的新“四大工程”是：西气东输二线、京沪高铁、核电工程和南水北调。

所以，正确选项是C。

80. 我国面临的生态环境形势十分严峻，生态环境状况已临近生态阈值。下列陈述正确的是：

- A. 现有荒漠化土地面积已占国土总面积的10%
- B. 荒漠化土地每年仍在增加1万多平方公里
- C. 七大江河水系，劣五类水质占20%
- D. 50%的湖泊出现不同程度的富营养化

【答案】C。解析：

我国是世界上荒漠化面积大、分布广、受荒漠化危害最严重的国家之一，全国荒漠化土地总面积达260多万平方公里，占国土面积三分之一，而不是10%。由此排除A项。

全国荒漠化土地，由上世纪末每年增加10000平方公里，转变为现在每年减少7500平方公里。荒漠化和沙化整体扩展的趋势已经得到初步遏制。由此排除B项。

根据《2008年中国环境状况公报》，七大水系I类至III类水质断面比例占55%，IV类为18%，V类为6%，劣五类占21%。由此可知C项的陈述是正确的。

目前我国有75%以上的湖泊呈不同程度的富营养化状态，而不是50%。由此排除D项。

所以，正确选项是C。

81. 以马克思的逻辑看来，资本主义的古典危机与当代危机并无本质不同，都是生产过剩危机。但在古典危机中，生产过剩直接表现为商品卖不出去，最终引发金融动荡，股市崩溃；而在当代危机中，生产过剩直接表现为：

- A. 有效需求不足
- B. 有效需求旺盛
- C. “透支消费”
- D. “寅吃卯粮”

【答案】B。解析：

虽然资本主义的古典危机的导火线是有效需求不足，当代金融危机的导火线是有效需求“过度”，但从根本上说，二者并无本质不同：都是生产过剩的危机，只不过是现代危机把“皮球”从供给方踢给了需求方。

表面上看，当下的金融危机，其导火线的确不再是有效需求不足，而是有效需求过于旺盛，以至于“过度”。正是这种“需求过度”造成了违约率不断上升，最终导致了信用崩溃。

所以，正确选项是B。

82. 目前，“金砖四国”的经济总量大致是美国的一半，在全球金融风暴的当下，虽然经济也遭受影响，但“金砖四国”的实力仍令世界刮目相看。“金砖四国”是指：

- A. 巴西、俄罗斯、印度和中国
- B. 中国、南非、俄罗斯和印度
- C. 巴西、印度、英国和南非
- D. 印度、法国、南非和英国

【答案】A。解析：

美国高盛投资公司在2003年第一次提出了“金砖四国”的名称，用来指称巴西、俄罗斯、印度和中国四个发展中大国。

“砖”在英文中是 BRICK，与巴俄印中四国英文名的第一个字母拼出的 BRIC 同音，加上四国都是非常具有未来发展潜力的发展中国家，或者说，都是未来掘“金”的好地方，所以被美国高盛投资公司称为“金砖四国”。

所以，正确选项是 A。

83. 中央经济工作会议提出的 2009 年经济工作的首要任务是保持经济平稳，要着力在：

- A. 扩内需上下功夫
- B. 保增长上下功夫
- C. 促改革上下功夫
- D. 惠民生上下功夫

【答案】B。解析：

中央经济工作会议指出，贯彻落实 2009 年经济工作的总体要求，必须把保持经济平稳较快发展作为明年经济工作的首要任务。要着力在保增长上下功夫，把扩大内需作为保增长的根本途径，把加快发展方式转变和结构调整作为保增长的主攻方向，把深化重点领域和关键环节改革、提高对外开放水平作为保增长的强大动力，把改善民生作为保增长的出发点和落脚点。

所以，正确选项是 B。

84. “依法治国，建设社会主义法制国家”作为中国共产党领导人民治理国家的基本方略，以宪法修正的形式写进宪法的时间是：

- A. 1988 年
- B. 1993 年
- C. 1995 年
- D. 1999 年

【答案】D。解析：

1999 年 3 月 15 日—16 日举行的第九届全国人民代表大会第二次会议，把“依法治国，建设社会主义法制国家”以宪法修正的形式写进了《中华人民共和国宪法》。

所以，正确选项是 D。

85. 两岸海运直航、空运直航、直接通邮正式启动时间是：

- A. 2008 年 10 月 1 日
- B. 2008 年 12 月 15 日
- C. 2008 年 12 月 31 日
- D. 2009 年 1 月 1 日

【答案】B。解析：

从 1949 年起，近 60 年过去了；从 1979 年元旦《告台湾同胞书》首倡两岸“三通”以来，近 30 年过去了。然而浅浅的台湾海峡，却似难以跨越的鸿沟天堑。两岸不知有多少颗忧伤的心，日日夜夜被思念牵动摧折；又不知有多少远眺的眼，朝朝暮暮为亲情望穿秋水。

这一切，终于在 2008 年 12 月 15 日化作历史。银燕展翅、百舸争流、鸿雁传书——随着两岸空运、海运直航和直接通邮的同步实施，“三通”终于在这一天从梦想变成了现实。

所以，正确选项是 B。

86. 世界人权宣言，是联合国大会以 48 票赞成，0 票反对，8 票弃权通过的，是全世界人权事业进入一个崭新阶段的重要里程碑。世界人权宣言通过的时间是：

- A. 1948 年
- B. 1984 年
- C. 1986 年
- D. 1966 年

【答案】A。解析：

1948 年 12 月 10 日，联合国大会第 217A（III）号决议通过并颁布《世界人权宣言》。这一具有历史意义的《宣言》颁布后，大会要求所有会员国广为宣传，并且“不分国家或领土的政治地位，主要在各级学校和其他教育机构加以传播、展示、阅读和阐述。”

所以，正确选项是 A。

87. 《中华人民共和国公务员法》规定，录用公务员，必须在规定的编制限额内进行，并有相应的：

- A. 职位空缺 B. 计划空缺 C. 职务空缺 D. 职数空缺

【答案】A。解析：

《中华人民共和国公务员法》第二十五条规定：“录用公务员，必须在规定的编制限额内，并有相应的职位空缺。”

所以，正确选项是 A。

88. 2009 年山东省政府工作报告提出今年山东经济和社会发展的多项主要预期目标，其中生产总值增长：

- A. 7%左右 B. 8%左右 C. 9%左右 D. 10%左右

【答案】D。解析：

2008 年 1 月 20 日，姜大明代省长在省十一届人大一次会议上作的政府工作报告中说，2009 年全省经济社会发展的主要预期目标是：生产总值增长 10%，地方财政收入增长 15%，城镇居民人均可支配收入和农民人均纯收入均增长 8%，城镇登记失业率控制在 3.8% 以内。

所以，正确选项是 D。

89. 在公文写作中，一些数字变动的用法，以下表述不正确的是：

- A. 从 10 增加到 50，可以说“增加了 4 倍” B. 从 100 增加到 500，可以说“增加到 4 倍”
C. 从 10 减少到 1 可以说“减少了 9/10” D. 从 100 减少到 10，可以说“减少到 1/10”

【答案】B。解析：

在公文写作中，有许多内容必须用数字来说明。数字书写、表述的准确与否直接关系到公文语言运用准确与否。一些数词有固定的用法。如倍数只能用来表示数目的增加而不能表示数目的减少。分数既可以表示数目的增加，也可以表示数目的减少。表示数目的增减是用原来的数目做基数，不是用增减后的数目做基数。

表示数字变动的用法有一套习惯用语。表示增加的，可以用：增加（了）、增长（了）、上升（了）、提高（了）——不包括底数，只指净增数。例如从 10 增加到 50，可以说“增加了 4 倍”，但不能说“增加了 5 倍”；增加到（为）、增长到（为）、上升到（为）——则包括底数，指增加后的总数。例如从 100 增加到 500，可以说“增加到 5 倍”，不能说“增加到 4 倍”。表示数量减少的，可以用减少（了）、降低（了）、下降到（为）——指差额。例如从 10 减少到 1 应该说“减少了 9/10”；减少到（为）、降低到（为）、下降到（为）——则指减少后的余数。例如从 100 减少到 10，以分数计算，应该说“减少到 1/10”

由此可知，只有 B 项的表述是不正确的。

所以，正确选项是 B。

90. 山东是中华文明的发祥地之一，下列说法有误的是：

- A. 发现最早的“西尊人”，可把山东的历史上推到四五十万年以前
B. 临淄为春秋时期齐国的国都，战国时期齐国迁都曲阜
C. 战国管仲的《管子·地员》是世界上最早的生态学与地质学著作
D. 山东省境内有鲁文化、齐文化、红色文化、泰山文化等

【答案】B。解析：

临淄为春秋时期齐国的国都，也是战国时期齐国的国都，并没有迁都曲阜。由此可见，B 项的说法是错误的。

所以，正确选项是 B。

二、不定项选择题。下列各题均有四个备选答案，其中两个或两个以上的答案是正确的，请将正确

答案选出，并填涂在答题卡相应的位置上。少选、多选均不得分。

91. 实事求是马克思主义哲学中的一个基本命题。实事求是中的求实精神与实用主义的实用原则都讲实际，但它们的精神实质迥然不同，其区别在于：

- A. 前者所求的“是”为客观事物的规律，后者追求的是实际效用
- B. 前者所讲的“实际”为客观存在的一切事物，后者是个人经验
- C. 前者以客观实际为出发点，后者以个人的经验和行动为出发点
- D. 前者是一种普遍性的方法原则，后者代表美国特有的思维方式

【答案】ABCD。解析：

实事求是的“是”客观事物的规律。实用主义的“是”是对实用性的追求，即追求的是实际效果。

A 项正确。

“实事”就是客观存在着的一切事物，而对实用主义者来说，人的实践是人适应环境的行为，真理对于个人经验具有极强的依赖关系。B 项正确。

结合 AB 选项，可知 C 项内容正确。

实事求是唯物辩证法的方法论内容，是普遍性的方法原则。实用主义是产生于 19 世纪 70 年代的现代哲学派别，在 20 世纪的美国成为一种主流思潮，代表了美国特有的思维方式。D 项正确。

所以，正确选项是 ABCD。

92. 对自然地理中“东亚”和“亚太”概念范围的认定正确的是：

- A. “东亚”包括“东亚”和“东北亚”
- B. “东亚”包括中国、日本、蒙古和朝鲜半岛
- C. “亚太”包括亚洲、横跨太平洋的美洲国家、澳洲和南太平洋岛国
- D. “亚太”包括亚洲东部沿太平洋的国家及地区、濒临太平洋的美洲国家和澳洲

【答案】BD。解析：

东北亚，是指亚洲的东北部地区，按地理位置的分布，包括俄罗斯的东部地区，中国的东北、华北地区，日本，韩国，朝鲜以及蒙古，也就是整个环太平洋地区。东亚则通常是指亚洲东部，包括，中国，蒙古，朝鲜，韩国和日本共五个国家。由此可知，A 项是错误的，B 项是正确的。

亚太，全称“亚洲及环太平洋地区”，主要包括包括亚洲东部沿太平洋的国家及地区、濒临太平洋的美洲国家和澳洲。由此可知，C 项是错误的，D 项是正确的。

所以，正确选项是 BD。

93. 世界四大地热带均沿着边缘分布，其中通过中国的有：

- A. 环太平洋地热带
- B. 大西洋中脊地热带
- C. 地中海—喜马拉雅地热带
- D. 红海—亚丁湾—东非裂谷地热带

【答案】AC。解析：

世界四大地热带都沿着板块边缘分布：环太平洋地热带、大西洋中脊地热带、红海—亚丁湾—东非裂谷地热带及地中海—喜马拉雅地热带。四个地热带中有两个通过中国。环太平洋地热带西经中国台湾省，而地中海—喜马拉雅地热带东端就是藏滇地热带的主体。

所以，正确选项是 AC。



知识加油站

环太平洋地热带：它是世界最大的太平洋板块与美洲、欧亚、印度板块的碰撞边界。世界许多著名的地热田，如美国的盖瑟尔斯、长谷、罗斯福；墨西哥的塞罗、普列托；新西兰的怀腊开；中国的台湾马槽；日本的松川、大岳等均在这一带。

地中海—喜马拉雅地热带：它是欧亚板块与非洲板块和印度板块的碰撞边界。世界第一座地热发电站意大利的拉德瑞罗地热田就位于这个地热带中，中国的西藏羊八井及云南腾冲地热田也在这个地热带中。

大西洋中脊地热带：这是大西洋海洋板块开裂部位。冰岛的克拉弗拉、纳马菲亚尔和亚速尔群岛等一些地热田就位于这个地热带。

红海—亚丁湾—东非裂谷地热带：它包括吉布提、埃塞俄比亚、肯尼亚等国的地热田。

94. 在中国革命史上，一些历史事件产生了深远影响。按事件发生先后排列无误的是：

- A. 南昌起义—秋收起义—百色起义
B. 西安事变—卢沟桥事变—皖南事变
C. 平型关大捷—百团大战—重庆谈判
D. 上党战役—莱芜战役—孟良崮战役

【答案】ABCD。解析：

- A. 南昌起义（1927. 8. 1）—秋收起义（1927. 9. 9）—百色起义（1929. 12. 11）
B. 西安事变（1936. 12. 12）—卢沟桥事变（1937. 7. 7）—皖南事变（1941. 1. 4）
C. 平型关大捷（1937. 9）—百团大战（1940. 8）—重庆谈判（1945. 8—10）
D. 上党战役（1945. 9）—莱芜战役（1947. 1）—孟良崮战役（1947. 5）

所以，正确选项是 ABCD。

95. “未秋先秋，踏断蛮牛”，“生地茄子熟地瓜，生地菜子熟地花”，“庄稼施肥有技巧，看天看地又看苗”，“天灾不由人，抗灾不由天”。这些农谚告诉我们的哲学道理是：

- A. 用联系、发展、矛盾的观点看问题
B. 坚持一切从实际出发，具体问题具体分析
C. 坚持规律客观性和主观能动性的统一
D. 发挥主观能动性必须以尊重客观规律为依据

【答案】ABCD。解析：

“未秋先秋，踏断蛮牛”：D. 发挥主观能动性必须以尊重客观规律为依据。

“生地茄子熟地瓜，生地菜子熟地花”：B. 坚持一切从实际出发，具体问题具体分析。

“庄稼施肥有技巧，看天看地又看苗”：A. 用联系、发展、矛盾的观点看问题。

“天灾不由人，抗灾不由天”：C. 坚持规律客观性和主观能动性的统一。

所以，正确选项是 ABCD。

96. 以下对中国封建社会一些专有名词的解释准确的是：

- A. 秦朝“三公”“九卿”中的“三公”，为丞相、太尉和御史大夫
B. 隋朝“三省”“六部”中的“三省”，为中书省、门下省和尚书省
C. 明朝科考“八股文”规定，每篇由破题、承题、起讲、复题等组成
D. 清朝“连中三元”即在乡试、会试、殿试三试考试中均名列前茅

【答案】AD。解析：

秦朝在皇帝之下，设中央机构，以协助皇帝领导全国，并处理庶政。中央机构采用“三公九卿制”。三公为丞相、太尉、御史大夫。由此可知，A 项是正确的。

隋朝的“三省”为内史省、门下省、尚书省，而不是“中书省、门下省和尚书省”。由此可知，B 项是错误的。

明朝科考“八股文”由破题、承题、起讲、入手、起股、中股、后股、束股等八部分组成，不包括“复题”。由此可知，C 项是错误的。

明清两朝科举以进士科考试最为重要。进士科正式考试共分三级：院试、乡试、会试与殿试。院试是国家科举考试的最初一级，院试通过了，才准许参加更高级的乡试。乡试在京城及各省省城举行，三年考试一次。乡试取中的称举人，第一名叫解元。会试和殿试是最高一级的考试，由礼部主办，在京城的贡院举行。会试被录取的人，称为贡士，第一名叫做会元。殿试名义上由皇帝亲自主持，明清两朝

都只考策问一场。出榜分三甲：一甲为赐进士及第，只有前三名，为状元、榜眼、探花；二甲为赐进士出身若干人；三甲为赐同进士出身若干人。在一、二、三甲的都泛称进士。一身兼有解元、会元、状元的，叫做“连中三元”。由此可知，D项是正确的。

所以，正确选项是AD。

97. 如今，一些在东部地区“人人喊打”的小化工企业，却成为中西部地区招商引资的“香饽饽”。这种“污染大搬家”的现象表明，污染企业只是“区域淘汰”，而不是市场淘汰。解决这一问题应当：

- A. 取消当地因环境问题被取缔的企业申办新企业的资格
- B. 被取缔的企业名单纳入到全国各大媒体的“黑名单”中
- C. 建立全国统一的监督网络，不让污染小化工企业异地重生
- D. 针对小化工企业搬家问题进行专项整治，在各地形成取缔之势

【答案】CD。解析：

虽然小化工企业“污染大搬家”破坏了中西部地区的生态环境，但这是一种市场行为，行政机关在管理时必须依法行政，而不能违法办事。A项的做法违反了法律对公民经营自由权的保护，B项的做法在一定程度上侵犯了企业的名誉权，是不恰当的，排除。

所以，正确选项是CD。

98. 党的十七大报告指出，深入贯彻落实科学发展观，要求我们：

- A. 始终坚持“一个中心、两个基本点”的基本路线
- B. 积极构建社会主义和谐社会
- C. 继续深化改革开放
- D. 切实加强和改进党的建设

【答案】ABCD。解析：

胡锦涛同志在党的十七大报告中指出：深入贯彻落实科学发展观，要求我们始终坚持“一个中心、两个基本点”的基本路线。深入贯彻落实科学发展观，要求我们积极构建社会主义和谐社会。深入贯彻落实科学发展观，要求我们继续深化改革开放。深入贯彻落实科学发展观，要求我们切实加强和改进党的建设。

所以，正确选项是ABCD。

99. 今年的中央一号文件强调，进一步规范农村土地承包经营权的流转。所谓要规范，就是要：

- A. 重申过去的法律和政策，必须让农民自愿地选择
- B. 任何人不能强迫农民去流转土地
- C. 任何人不得阻止农民依法自愿地流转土地
- D. 不得改变土地的所有权、用途和损害承包方的利益

【答案】ABC。解析：

对于农民承包土地在依法自愿有偿的前提下，允许流转的政策由来已久，1984年中央一号文件即对此进行了明确。随着农村劳动力外出务工的增多和现代农业的发展，农村对加快土地承包经营权流转的要求更加迫切。今年中央一号文件对此进行了进一步规范。强调必须尊重农民的土地流转主体地位，任何组织和个人不得强迫流转，也不能妨碍自主流转。同时，不得改变土地集体所有性质，不得改变土地的用途，不得损害农民土地承包的权益。

D项所说“承包方的利益”不是今年中央一号文件的意思表达，排除。

所以，正确选项是ABC。

100. 今年是推进“十一五”规划顺利实施的关键一年，山东要实现由经济大省向经济文化强省的新

跨越，就要做好“新、特、优”三篇文章，当前应重点抓好：

- A. 创新发展理念、更新发展思路、转变发展方式，形成协调发展新格局
- B. 发展能够使地域、资源等优势得到充分发挥的特色产业、特色经济
- C. 优化经济结构，优化产品质量，优化资源利用，优化生态环境
- D. 优化整顿金融秩序，防范金融风险

【答案】ABC。解析：

根据《山东省人民政府关于加强企业技术改造实施工业发展新特优工程的意见》，山东省要在新起点上建设经济文化强省，实现富民强省的新跨越，必须把优化工业结构作为一项十分紧迫的任务，进一步加强企业技术改造，实施工业发展“新特优工程”。“新”就是创新发展理念，更新发展思路，坚持走新型工业化道路，不断推进技术创新，发展高新技术产业和具有时代先进水平的新产品，培育新的经济增长点，再造工业发展的新优势；“特”就是因势利导发展特色产业和特色产品；“优”就是优化产业结构，提高产品质量档次，优化资源利用，优化生态环境。

所以，正确选项是 ABC。

第四部分 数量关系

（共 20 题，参考时限 20 分钟）

一、数字推理。给你一个数列，但其中缺少一项，要求你仔细观察数列的排列规律，然后从四个供选择的选项中选择你认为最合理的一项，来填补空缺项，使之符合原数列的排列规律。

101. 13, 9, 31, 71, 173, ()

A. 235

B. 315

C. 367

D. 417

【答案】D。解析：

估算法：

观察题干可以发现，从第三项开始，数字逐渐增大， $71 \div 31 \approx 2.3$ ， $173 \div 71 \approx 2.4$ 。

增长的倍数缓慢递增。由此估计：(?) $\div 173 \approx 2.5$ 。

解得：? ≈ 430 。只有 D 项符合要求，其他三项的数字都太小。

所以，正确选项是 D。

解法二：

本题的数字规律是：从左到右相邻三项，第一项与第二项的和等于第三项与第二项的差。即：

$13+9=22$ ， $31-9=22$ ， $9+31=40$ ， $71-31=40$ ， $31+71=102$ ， $173-71=102$

可以推断： $71+173=244$ ，(?) $-173=244$

解得：? $=244+173=417$ 。按照这个规律，填入空格中的项应该是：417。

所以，正确选项是 D。

102. 3, 10, 29, 66, 127, ()

A. 218

B. 227

C. 189

D. 321

【答案】A。解析：

观察题干数字可以发现，其数字与自然数的完全立方数列非常接近。

1, 8, 27, 64, 125, 216, ……

因此本题的数字规律是：

$3=1^3+2$ ， $10=2^3+2$ ， $29=3^3+2$ ， $66=4^3+2$ ， $127=5^3+2$

可以推断：(?) $=6^3+2$ ，解得：? $=218$

按照这个规律，填入空格中的项应该是：218。

所以，正确选项是 A。

103. 13, 17, 26, (), 69, 105

A. 28

B. 36

C. 42

D. 45

【答案】C。解析：

估算法：

观察题干可以发现，各项数字逐渐增大：

$$17-13=4=2^2, 26-17=9=3^2, 105-69=36=6^2$$

增长的差数都是自然数的完全平方数。由此估计：(?) - 26 = 16 = 4²。

$$\text{解得：?} = 26 + 16 = 42$$

所以，正确选项是 C。

解法二：

本题的数字规律是：从左到右每两项为一组，后项减前项，可以得到一个新数列：

$$17-13=4=2^2$$

$$(?) - 26 = 4^2$$

$$105-69=36=6^2$$

$$\text{解得：?} = 4^2 + 26 = 42$$

按照这个规律，填入空格中的项应该是：42。

所以，正确选项是 C。

104. 2, 4, 3, (), $\frac{13}{4}$, $\frac{27}{8}$, $\frac{53}{16}$

A. 1

B. $\frac{7}{2}$

C. $\frac{7}{3}$

D. 4

【答案】B。解析：

估算法：

为了比较各个数项的大小，可以把题干中的分数估算小数为：

2, 4, 3, (), 3.2, 3.4, 3.3

观察可见，奇数项的数字逐渐增大，偶数项的数字逐渐减小。

因此估计空缺的项其数值大小应该介乎于 4 与 3.4 之间。

只有 B 项 $\frac{7}{2} = 3.5$ 符合要求。

所以，正确选项是 B。

解法二：

本题的数字规律是：从左到右相邻三项，第一项与第二项的和除以 2 等于第三项。即：

$$(2+4) \div 2 = 3$$

$$(4+3) \div 2 = (?)$$

$$(3+?) \div 2 = \frac{13}{4}$$

$$(? + \frac{13}{4}) \div 2 = \frac{27}{8}$$

$$(\frac{13}{4} + \frac{27}{8}) \div 2 = \frac{53}{16}$$

解得： $？ = \frac{7}{2}$

按照这个规律，填入空格中的项应该是： $\frac{7}{2}$ 。

所以，正确选项是 B。

105. 2, 1, $\frac{6}{7}$, $\frac{4}{5}$, $\frac{10}{13}$, ()

A. $\frac{4}{3}$

B. $\frac{3}{4}$

C. $\frac{7}{15}$

D. $\frac{7}{16}$

【答案】B。解析：

估算法：

为了比较各个数项的大小，可以把题干中的分数估算小数为：

2, 1, 0.85, 0.8, 0.77, ()

观察可见，各项数字逐渐减小。

因此估计空缺的项其数值大小应该小于 0.77。

只有 B 项 $\frac{3}{4} = 0.75$ 符合要求。

所以，正确选项是 B。

解法二：

像这种题干中有分数项有整数项的数列，可以先把整数转化成分数。这样做往往能对迅速找到解题思路有很大的帮助。把题干数列整理为：

$\frac{2}{1}$, $\frac{4}{4}$, $\frac{6}{7}$, $\frac{8}{10}$, $\frac{10}{13}$, (?)

现在发现什么规律了吗？

其分子是一个公差为 2 的等差数列：2, 4, 6, 8, 10, (12)

其分母是一个公差为 3 的等差数列：1, 4, 7, 10, 13, (16)

解得： $？ = \frac{12}{16} = \frac{3}{4}$

按照这个规律，填入空格中的项应该是 B 项： $\frac{3}{4}$ 。

所以，正确选项是 B。

二、数学运算。在这部分试题中，每道题呈现一段表述数字关系的文字，要求你迅速、准确地计算出答案。

106. 一小型货车站最大容量为 50 辆车，现有 30 辆车，已知每小时驶出 8 辆，驶入 10 辆，问多少小时后车站容量饱和？

A. 8

B. 10

C. 12

D. 14

【答案】B。解析：

根据题意，每小时驶出 8 辆，驶入 10 辆，也就是说车站里的车每小时将在 30 辆的基础上增加 2 辆。要让车站的容量达到饱和（50 辆），则需要时间为：

$(50 - 30) \div 2 = 10$ 。

所以，正确选项是 B。

107. 某单位有 78 个人，站成一排，从左向右数，小王是第 50 个，从右向左数，小张是第 48 个，则小王与小张之间有多少人？

- A. 16 B. 17 C. 18 D. 20

【答案】C。解析：

根据题意，从左向右数，小王是第 50 个，可以推知小王的右边还有 28 个人；从右向左数，小张是第 48 个，可以推知小张的左边还有 30 个人。

那么，算上小王和小张两个人，中间还有： $78 - 28 - 30 = 20$ 人。

去掉小王和小张两个人，则小王与小张之间有： $20 - 2 = 18$ 人

所以，正确选项是 C。

108. 疾病控制中心对某校高中三个年级的学生进行抽样做视力状况调查，抽样的方法为分层抽样（按比例抽样），若高中一、二、三年级的学生人数分别为 626，703，780，样本容量为 84，则应从高二年级抽样的学生人数为多少？

- A. 24 B. 26 C. 28 D. 30

【答案】C。解析：

根据按比例抽样的要求，设应从高二年级抽样的学生人数为 a ，则其比例为：

$$\frac{703}{(626 + 703 + 780)} = \frac{a}{84}$$

解得：

$$\begin{aligned} a &= (703 \times 84) \div (626 + 703 + 780) \\ &= 59052 \div 2109 \end{aligned}$$

根据整除法可以推知，商的尾数必然是 8，则应从高二年级抽样的学生人数为 C 项的 28 人。

所以，正确选项是 C。

109. 某高校有 A、B 两个食堂，开学第一天 A 食堂就餐人数为 8 000，但其中 20% 在第二天流失到 B 食堂就餐，同时，第一天在 B 食堂就餐者有 30% 于第二天流失到 A 食堂，如果第二天两食堂就餐人数相同，则第一天 B 食堂的就餐人数为：

- A. 10 000 B. 11 000 C. 12 000 D. 13 000

【答案】C。解析：

设第一天 B 食堂的就餐人数为 a ，根据题意，第二天两食堂就餐人数相同，则可列算式为：

$$8\ 000 \times 0.8 + 0.3a = 0.7a + 8\ 000 \times 0.2。解得：a = 12\ 000。$$

所以，正确选项是 C。

110. 商场开展促销活动，凡购物满 100 元返还现金 30 元。小王现有 280 元，最多能买到多少元的商品？

- A. 250 B. 280 C. 370 D. 400

【答案】C。解析：

第一次购买 200 元商品，返还 60 元，则还剩 $80 + 60 = 140$ 元。

第二次再购买 100 元商品，返还 30 元，则还剩 $30 + 40 = 70$ 元。

第三次再购买 70 元商品。

则小王最多能买到 370 元的商品。

所以，正确选项是 C。

111. 大学四年级某班共有 50 名同学，其中奥运会志愿者 10 人，全运会志愿者 17 人，两种志愿者都不是的有 30 人，则班内是全运会志愿者而非奥运会志愿者的同学为多少人？

- A. 3
B. 7
C. 10
D. 17

【答案】C。解析：

解答本题可以采用图示法。

设长方形表示全体学生，班内是全运会志愿者而非奥运会志愿者的同学为 x ，则根据题意可以图示如右：

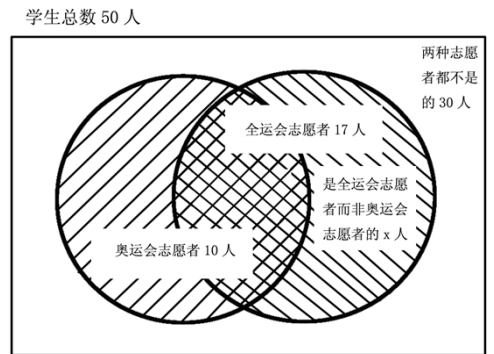
从图示可以看出。全班人数 = 两种志愿者都不是的 30 人 + 奥运会志愿者 10 人 + 是全运会志愿者而非奥运会志愿者的同学 x 人。

即：

$$50 = 30 + 10 + x. \text{ 解得: } x = 10$$

即：是全运会志愿者而非奥运会志愿者的同学有 10 人。

所以，正确选项是 C。



112. 有两种电话卡，第一种每分钟话费 0.3 元，除此以外，无其他费用；第二种每分钟话费 0.2 元，另有每月固定费用 10 元（无论拨打与否都要扣）。如果小王每月通话量不低于两个小时，那么他办理哪种卡比较合算？

- A. 第一种
B. 第二种
C. 两个卡一样
D. 无法判断

【答案】B。解析：

解答本题可以采用代入法。

已知小王每月通话量不低于两个小时，以最少两个小时计算，则：

办第一种卡需缴电话费为：120 分钟 \times 0.3 元 / 分钟 = 36 元

办第二种卡需缴电话费为：120 分钟 \times 0.2 元 / 分钟 + 10 元固定费用 = 34 元

通话时间越长，则办第一种卡需缴电话费越多。由此可见，还是办第二种卡比较合算。

所以，正确选项是 B。

113. 某商场以摸奖的方式回馈顾客，盒内有五个乒乓球，其中一个为红色，2 个为黄色，2 个为白色。每位顾客从中任意摸出一个球，如果摸到红球奖 10 元，黄球奖 1 元，白球无奖励，那么每一位顾客所获奖励的期望值为多少？

- A. 10
B. 1.2
C. 2
D. 2.4

【答案】D。解析：

每位顾客摸到红色球的概率为 $\frac{1}{5}$ ，摸到黄色球的概率为 $\frac{2}{5}$ ，摸到白色球的概率为 $\frac{2}{5}$ 。则每一位顾客所获奖励的期望值为：

$$10 \times \frac{1}{5} + 1 \times \frac{2}{5} + 0 \times \frac{2}{5} = 2.4 \text{ 元}$$

所以，正确选项是 D。

114. 用 234567 六个数字组成两个三位数，每个数字只用一次，这两个三位数的差最小是多少？

- A. 47
B. 49
C. 69
D. 111

【答案】A。解析：

(解法一)

要解答本题，首先必须要弄懂“两个三位数的差最小”是什么意思。

怎样才能使两个三位数之间的差最小呢？第一，两个三位数要尽量接近，即必须让小的三位数的末两位尽量地大（76），让大的三位数的末两位尽量地小（23）。第二，百位数只能相差1（4，5），

按照以上要求，大的三位数应该是：523，小的三位数应该是：476。二者之间的差为：

$$523 - 476 = 47$$

所以，正确选项是 A。

(解法二)

解答本题可以采用代入法，一个一个试也费不了多少时间。

百位数肯定是相邻的，十位数和个位数必定是小数减大数。代入为：

以 2, 3 为百位，剩下 4567，则 $345 - 276 = 69$

以 3, 4 为百位，剩下 2567，则 $425 - 376 = 49$

以 4, 5 为百位，剩下 2367，则 $523 - 476 = 47$

所以，正确选项是 A。

115. 某单位有三名职工和六名实习生需要被分配到 ABC 三个地区进行锻炼，每个地区分配一名职工和 2 名实习生，则不同的分配方案有多少种？

- A. 90 B. 180 C. 270 D. 540

【答案】D。解析：

这是一道简单的组合题目。

从 3 名职工中任意选 1 人，就是 $C(3, 1)$ ；从 6 名实习生中任意选 2 人，就是 $C(6, 2)$ ；从 3 个地区中任意选 1 个，就是 $C(3, 1)$ ，再把三种方案的结果相乘，就可以得出答案了。

从 3 名职工中任意选 1 人为： $C(3, 1) = (3 \times 2) \div (1 \times 1) = 6$

从 6 名实习生中任意选 2 人为： $C(6, 2) = (6 \times 5) \div (2 \times 1) = 15$

从 3 个地区中任意选 1 个为： $C(3, 1) = (3 \times 2) \div (1 \times 1) = 6$

由此可知，共有不同的分配方案为： $6 \times 15 \times 6 = 540$ 种。

所以，正确选项是 D。

116. 甲乙两人由于顺路搭乘同一辆出租车，甲走了 4 公里后下了车，出租车又走了 6 公里，乙下车并付了 18 元车费，如果由两人分摊车费，则甲应分摊多少元？

- A. 3 B. 3.6 C. 7.2 D. 7.5

【答案】B。解析：

出租车共行驶为： $4 + 6 = 10$ 公里。

乙付了 18 元车费，则每公里车费为： $18 \div 10 = 1.8$ 元。

前 4 公里需要付车费为： $4 \times 1.8 = 7.2$ 元。

如果由两人分摊车费，则甲应分摊为： $7.2 \div 2 = 3.6$ 元

所以，正确选项是 B。

117. 某校初一年级共有三个班，一班与二班人数之和为 98，一班与三班人数之和为 106，二班与三班人数之和为 108，则二班人数为多少人？

- A. 48 B. 50 C. 58 D. 60

【答案】B。解析：

根据题意可列算式：

(1) 一班+二班=98; (2) 一班+三班=106; (3) 二班+三班=108。

$$\begin{aligned} & (1) + (3) - (2) = (\text{一班} + \text{二班}) + (\text{二班} + \text{三班}) - (\text{一班} + \text{三班}) \\ & = 2 \text{ 个二班} \\ & = 98 + 106 - 108 \\ & = 100 \end{aligned}$$

解得：二班人数为 50 人

所以，正确选项是 B。

118. 电影票原价若干元，现在每张降价 3 元出售，观众增加一半，收入也增加五分之一，那么一张电影票原来为多少元？

- A. 4.5 B. 7.5 C. 12 D. 15

【答案】D. 解析：

根据题意，设一张电影票原价为 a 元，原来有观众 10 人，则可列算式为：

$$10a = (a - 3)(10 + 10 \div 2)。解得：a = 15。$$

所以，正确选项是 D。

119. 某工程由甲项目公司单独做需 4 天完成，由乙项目公司单独做需 6 天才能完成，由甲乙丙三个公司共同做 2 天就可以完成。该工程由乙丙公司合作完成共需多少天？

- A. 3 B. 4 C. 5 D. 6

【答案】B. 解析：

根据题意，甲公司单独做需 4 天可以完成，而甲乙丙三个公司共同做 2 天就可以完成，可以推知，甲乙丙三个公司共同做的工程进度是甲公司单独做的工程进度的 2 倍，可列算式为：

$$\text{甲} + \text{乙} + \text{丙} = 2 \text{ 甲}$$

$$\text{乙} + \text{丙} = \text{甲}$$

也就是说，乙、丙公司合作完成该项目所需要的时间，与甲公司单独完成该项目的相同，需要 4 天。

所以，正确选项是 B。

120. 现分多次用等量清水去冲洗一件衣服，每次均可冲洗掉上次所残留污垢的四分之三，则至少需要多少次才使得最终残留的污垢不超过初始污垢的 1%？

- A. 3 B. 4 C. 5 D. 6

【答案】B. 解析：

根据题意，每次均可冲洗掉上次所残留污垢的四分之三，则每次冲洗后剩余上次污垢的四分之一。设初始污垢为 1，则有：

$$\text{第一次冲洗后残留污垢为：} 1 \times \frac{1}{4} > 1\%$$

$$\text{第二次冲洗后残留污垢为：} \frac{1}{4} \times \frac{1}{4} > 1\%$$

$$\text{第三次冲洗后残留污垢为：} \frac{1}{4} \times \frac{1}{4} \times \frac{1}{4} > 1\%$$

$$\text{第四次冲洗后残留污垢为：} \frac{1}{4} \times \frac{1}{4} \times \frac{1}{4} \times \frac{1}{4} < 1\%$$

所以，正确选项是 B。

第五部分 资料分析

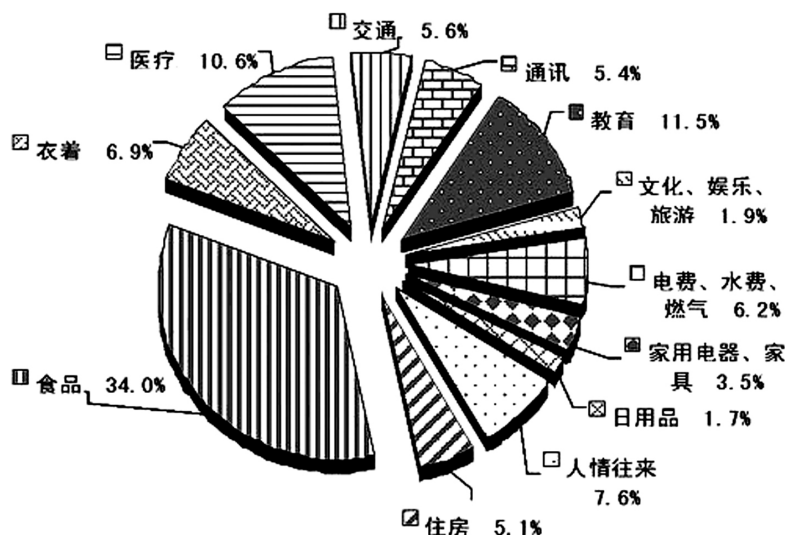
(共 20 题, 参考时限 20 分钟)

下列所给出的图、表、文字或综合性资料均有若干个问题, 请你根据资料提供的信息进行分析、比较、计算和判断处理, 正确选项只有一个, 请将正确答案选出。

一、请根据下列资料, 回答 121~125 题。

2008 年中国家庭居民的消费水平持续提高, 与 2006 年社会状况综合调查结果比较, 消费支出总额从 17 388 元升高到 22 555 元 (未考虑价格变动因素), 消费结构也进一步改善, 作为家庭生活水平标志的恩格尔系数 (家庭食品支出占消费总支出的比例) 进一步降低。在 2008 年城乡家庭消费支出细项中, 列前三位的消费类型是食品、教育和医疗, 分别占总支出的 34.0%、11.5% 和 10.6%。

调查还显示, 城乡居民消费的总体结构及家庭生存型消费 (包括食品与衣着类) 与发展型消费 (包括居住、交通通讯、文教、娱乐用品、医疗保健、旅游等) 所占比重, 都发生了重要变化。从购买商品和服务的消费情况看, 城乡居民消费层次有所提高。大众耐用消费品普及率提高较快, 但家庭消费率总体仍偏低。



图一 城乡家庭居民的消费结构

121. 城乡家庭居民的消费结构最主要的特点是:

- A. 居民消费水平持续提高, 总体结构进一步改善
- B. 城乡居民消费商品化程度较高, 但消费层次存在明显差异
- C. 家庭消费率总体偏低, 消费率随收入提高而边际递减
- D. 大众耐用消费品普及率较高, 农村消费发展潜力巨大

【答案】A. 解析:

第一步, 明确问题。求“城乡家庭居民的消费结构最主要的特点”。

第二步, 数据定位。

2008 年中国家庭居民的消费水平持续提高, 与 2006 年社会状况综合调查结果比较, 消费支出总额从 17 388 元升高到 22 555 元 (未考虑价格变动因素), 消费结构也进一步改善。

第三步, 估算。

从题干可以直接得出, 城乡家庭居民的消费结构最主要的特点是“居民消费水平持续提高, 总体结构进一步改善”。

所以, 正确选项是 A。

122. 城乡家庭居民的消费结构图说明,在城乡家庭消费支出中,生存型消费约占消费总支出的比重为:

- A. 31% B. 41% C. 51% D. 61%

【答案】D. 解析:

第一步,明确问题。求“在城乡家庭消费支出中,生存型消费约占消费总支出的比重”。

第二步,数据定位。

发展型消费包括居住、交通通讯、文教、娱乐用品、医疗保健、旅游。生存型消费就是城乡家庭居民消费结构中除去发展型消费后剩余的部分。

第三步,估算。

在城乡家庭消费支出中,发展型消费为: $5.1+5.6+5.4+11.5+1.9+10.6 \approx 40$ 。

在城乡家庭消费支出中,生存型消费约占消费总支出的比重为: $100\%-40\%=60\%$ 。

与D项的数据最为接近。

所以,正确选项是D。

123. 由“图一 城乡家庭居民的消费结构”可见,在城乡家庭消费支出中,发展型消费的比重占到消费总支出的:

- A. 40%以上 B. 50%以上 C. 60%以上 D. 70%以上

【答案】A. 解析:

第一步,明确问题。求“在城乡家庭消费支出中,发展型消费约占消费总支出的比重”。

第二步,数据定位。

第122题已经求得。

第三步,估算。

在城乡家庭消费支出中,发展型消费约占消费总支出的比重为40%。

所以,正确选项是A。

124. 城乡家庭居民的消费结构图说明,中国的消费结构已经在总体上完成了从生存型向发展型的过渡,进入了:

- A. 大众消费阶段 B. 适度消费阶段 C. 中等消费阶段 D. 较高消费阶段

【答案】A. 解析:

第一步,明确问题。求“中国的消费结构已经在总体上完成了从生存型向发展型的过渡,进入了”什么阶段。

第二步,数据定位。

从购买商品和服务的消费情况看,城乡居民消费层次有所提高。大众耐用消费品普及率提高较快,但家庭消费率总体仍偏低。

第三步,估算。

从题干“大众耐用消费品普及率提高较快”的说法可以直接推知,中国的消费结构已经在总体上进入了“大众消费阶段”。

所以,正确选项是A。

125. 教育和医疗支出占城乡家庭消费总支出的比例比较高,分别占11.5%和10.6%,教育和医疗的家庭消费支出比例较高,主要显示了:

- A. 家庭消费结构升级的发展趋势
B. 教育、健康方面的支出是一种刚性消费

- C. 教育、医疗的费用和支出，存在比重过高的问题
 D. 教育、医疗的费用和支出增长过快，影响到居民一般生活质量的改善

【答案】A。解析：

第一步，明确问题。求“教育和医疗的家庭消费支出比例较高，主要显示了什么”。

第二步，数据定位。对题干的阅读理解。

第三步，估算。

教育和医疗支出占城乡家庭消费总支出的比例比较高，分别占 11.5% 和 10.6%。教育和医疗的家庭消费支出比例较高，显示了家庭消费结构升级的发展趋势，也就是在解决了温饱问题以后，为了今后的发展，人们更加重视教育、健康等方面的人力资本投入，而不仅仅是单纯地为了生活的享受。

所以，正确选项是 A。

二、请根据下列资料，回答 126~130 题。

表一 2004—2007 年城乡居民消费状况表

年份/项目	城镇居民人均生活消费支出(元)	农村居民人均生活消费支出(元)	城镇居民恩格尔系数	农村居民恩格尔系数
2004 年	7 182	2 185	37.7%	/
2006 年	8 697	2 829	35.8%	43.0%
2007 年	9 997	3 223	36.3%	43.1%

另据统计，2004 年农村居民人均食品消费支出为 1032 元。

126. 与 2006 年相比较，2007 年农村居民人均生活消费支出增长：

- A. 近 12% B. 近 13% C. 近 14% D. 近 15%

【答案】C。解析：

第一步，明确问题。求“与 2006 年相比较，2007 年农村居民人均生活消费支出增长”的百分比。

第二步，数据定位。“农村居民人均生活消费支出”列的数据。

第三步，估算。

$$(3\ 223 - 2\ 829) \div 2\ 829 \approx 14\%$$

所以，正确选项是 C。

127. 如果以恩格尔系数作为衡量居民生活水平的高低，根据统计数据，与 2006 年相比，2007 年我国城乡居民家庭生活水平：

- A. 略有降低 B. 略有提高 C. 没有变化 D. 无法确定

【答案】A。解析：

第一步，明确问题。求“与 2006 年相比，2007 年我国城乡居民家庭生活水平”的情况。

第二步，数据定位。

第三步，估算。

所谓恩格尔系数，就是指食品支出总额占个人消费支出总额的比重。简单地说，一个家庭或国家的恩格尔系数越小，就说明这个家庭或国家经济越富裕。反之，如果这个家庭或国家的恩格尔系数越大，就说明这个家庭或国家的经济越困难。

与 2006 年相比，2007 年我国城乡居民家庭的恩格尔系数均略有提高，因而其生活水平略有降低。

所以，正确选项是 A。

128. 2004 年农村居民恩格尔系数约为：

- A. 14.4% B. 15.4% C. 42.7% D. 47.2%

【答案】D。解析：

第一步，明确问题。求“2004年农村居民恩格尔系数”。

第二步，数据定位。

2004年农村居民人均生活消费支出为2 185元，人均食品消费支出为1 032元。

第三步，估算。

2004年农村居民恩格尔系数为： $1\ 032 \div 2\ 185 \approx 50\%$ 。与D项的数据最为接近。

所以，正确选项是D。

129. 2007年的城镇家庭食品支出额约为：

A. 1 172元

B. 1 433元

C. 3 629元

D. 4 309元

【答案】C。解析：

第一步，明确问题。求“2007年的城镇家庭食品支出额”。

第二步，数据定位。

2007年的城镇家庭人均生活消费支出为9 997元，恩格尔系数为36.3%。

第三步，估算。

2007年的城镇家庭食品支出额为：

$9\ 997 \times 36.3\% \approx 3\ 600$ 元。与C项的数据最为接近。

所以，正确选项是C。

130. 2007年城镇居民家庭食品支出比农村家庭食品支出高：

A. 1.61倍

B. 2.61倍

C. 1.41倍

D. 1.31倍

【答案】A。解析：

第一步，明确问题。求“2007年城镇居民家庭食品支出比农村家庭食品支出高”多少倍。

第二步，数据定位。

第129题已求，2007年的城镇家庭食品支出额为：3 629元。

2007年的农村家庭食品支出额为： $3\ 223 \times 43.1\% \approx 1\ 400$ 元。

第三步，估算。

$(3\ 629 - 1\ 400) \div 1\ 400 \approx 1.6$ 。与A项的数据最为接近。

所以，正确选项是A。

三、请根据下列资料，回答131~135题。

表二 城乡家庭消费水平和消费结构比较

消费类型	城市家庭		农村家庭	
	金额(元)	比例(%)	金额(元)	比例(%)
住房	1 865.9	6.6	484.7	2.8
食品	9 790.2	34.5	5 751.0	33.3
衣着	1 957.6	6.9	1 171.7	6.8
医疗	2 670.9	9.4	2 141.6	12.4
交通	1 425.0	5.0	1 107.0	6.4
通讯	1 482.9	5.2	965.8	5.6
教育	3 170.5	11.2	2 069.2	12.0
文化、娱乐、游泳	717.8	2.5	180.3	1.0
电费、水费等日常开销	1 935.3	6.8	926.9	5.4

家用电器、家具	1 010.7	3.6	567.3	3.3
日用品	467.7	1.7	313.7	1.8
人情往来	1 849.1	6.5	1 605.7	9.3
合计	28 343.7	100	17 285.0	100

一般来说，恩格尔系数可以衡量家庭生活水平状况，但在调查中发现了低收入家庭恩格尔系数比中低和中等收入家庭恩格尔系数较低的特殊情况。调查结果显示，家庭消费率明显偏低。

131. 由“表二 城乡家庭消费水平和消费结构比较”分析得出，城乡居民家庭消费差异和问题主要是

- A. 城乡家庭消费水平差异较大，消费结构差异明显
- B. 教育、医疗等发展型消费呈刚性特点
- C. 低收入家庭生活质量受到影响
- D. 家庭消费率总体偏低，消费率随收入提高而边际递减

【答案】A。解析：

第一步，明确问题。求“城乡居民家庭消费差异和问题”主要是什么。

第二步，数据定位。对题干表格中的数据进行对比分析。

第三步，估算。

调查数据显示，城市家庭的消费水平明显要高于农村家庭的消费水平，城市家庭平均消费数额为 28 343.7 元，比农村家庭的 17 285 元高出 10 000 多元。在各细项中差距最大的三项是食品、住房和教育食品支出，城市 9 790.2 元，农村 5 751.0 元；住房支出，城市 1 865.9 元，农村 484.7 元；教育支出，城市 3 170.5 元，农村 2 069.2 元。在其他各细项消费水平上也存在明显的城乡差距。

在消费结构上，虽然城乡家庭在生存型支出方面不存在明显的差异，衣食支出占家庭消费总支出的比例分别为 41.4% 和 40.1%，两者比较接近；但在发展型支出结构上存在明显差异，特别是在住房和医疗两个方面。城市地区与住房相关的消费支出比例明显增加，占到消费总支出的 6.6%，远高于农村住房支出的 2.8%。尽管农村医保体系在 2008 年已经基本覆盖全部农村家庭，但是较低的保障水平仍然未能大幅度降低农村家庭在医疗费用支出的压力，农村家庭医疗支出占消费总支出的 12.4%，比城市家庭 9.4% 高出 3 个百分点。农村家庭除在医疗支出比例高于城市外，教育和人情往来支出比例也高于城市家庭。此外，文化、娱乐和旅游支出中，尽管消费水平较低，但城乡家庭间差异也很明显，城市平均 717.8 元，占 2.5%；农村平均 180.3 元，占 1.0%，说明农村家庭在文化、娱乐消费方面基本上才刚刚起步。

通过以上分析可见，城乡居民家庭消费差异和问题主要是：城乡家庭消费水平差异较大，消费结构差异明显。

所以，正确选项是 A。

132. 上述文字资料主要显示：

- A. 食品支出占家庭总消费支出的比例越高，家庭生活水平就越低
- B. 食品支出占家庭总消费支出的比例越低，家庭生活水平就越高
- C. 低收入家庭的食品支出数额较低，占消费总支出的比例也较低
- D. 城市低收入家庭食品支出数额高于中等收入家庭食品支出数额

【答案】C。解析：

第一步，明确问题。求四个选项中“上述文字资料主要显示”的一项。

第二步，数据定位。

第三步，估算。

一般来说，恩格尔系数可以衡量家庭生活水平状况，但在调查中发现了低收入家庭恩格尔系数比中低和中等收入家庭恩格尔系数较低的特殊情况。调查结果显示，家庭消费率明显偏低。这主要说明：低收入家庭的食品支出数额较低，但同时其占消费总支出的比例也较低。

所以，正确选项是 C。

133. 调查发现，城市低收入家庭平均食品支出数额为 4898.8 元，占消费总支出 14321 元的比例为：
A. 24.2% B. 28.2% C. 34.2% D. 38.2%

【答案】C。解析：

第一步，明确问题。求“城市低收入家庭平均食品支出数额为 4 898.8 元，占消费总支出 14 321 元的比例”。

第二步，数据定位。

第三步，估算。

$4898 \div 14321 \approx 35\%$ 。与 C 项的数据最为接近。

所以，正确选项是 C。

134. 通过数据分析发现，低收入家庭的恩格尔系数较低的特殊情况，主要是因为：

- A. 为了保证教育和医疗等发展型消费而省吃俭用 B. 城市低收入家庭住房消费支出数额较高
C. 城市低收入家庭的保险等消费数目较大 D. 城乡低收入家庭食品消费支出一直不高

【答案】A。解析：

第一步，明确问题。求“低收入家庭的恩格尔系数较低”的原因。

第二步，数据定位。对题干的阅读理解。

第三步，估算。

低收入家庭的恩格尔系数较低的特殊情况，主要是因为城乡低收入家庭为了保证教育和医疗等发展型消费而省吃俭用。我国家庭普遍具有高度重视子女教育的观念，同时，在多数家庭医疗看病还需要自己付费的情况下，低收入家庭只能依赖省吃俭用来保障这方面的支出。

所以，正确选项是 A。

135. 我国家庭的消费率长期低于发达国家和其他同等水平的发展中国家，其原因主要是：

- A. 与长期形成的勤俭持家传统有关
B. 与中国家庭文化和消费观念有关
C. 为了应对住房、医疗、教育等大宗消费支出的不确定性
D. 消费品零售价格偏高

【答案】B。解析：

第一步，明确问题。求“我国家庭的消费率长期低于发达国家和其他同等水平的发展中国家的原因”。

第二步，数据定位。对题干的阅读理解。

第三步，估算。

我国家庭的消费率长期低于发达国家和其他同等水平的发展中国家，其原因一方面是与中国家庭文化和消费观念有关，长期形成的勤俭持家的优良传统使得大多数中国家庭有积蓄的习惯，另一方面也是为了应对住房、医疗、教育等大宗消费支出的不确定性，家庭长期筹集这方面的开支，压制即期消费。

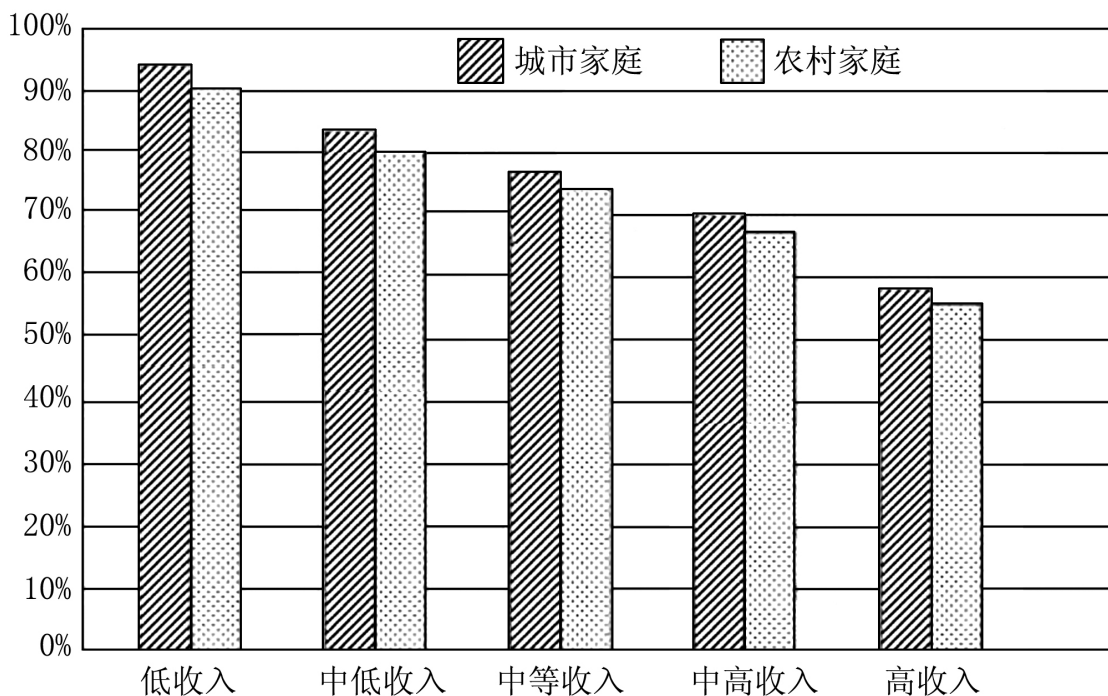
综合考虑，其原因主要是与中国家庭文化和消费观念有关。

所以，正确选项是 B。

四、请根据下列资料，回答 136~140 题。

根据调查结果测算，家庭平均消费率在 76% 左右，城市家庭消费率为 77.6%，高于农村家庭的 74.1%，说明城市家庭的即期消费倾向要略高于农村。调查结果表明，不论城市还是农村，家庭消费率随着收入增加而递减。低收入家庭消费率高达 90% 以上。高收入家庭消费率比较低，城市和农村高收入家庭的消

费率分别为 57.9% 和 53.9%。高收入家庭的消费水平与其他几类家庭的差距较为悬殊，高收入家庭的消费绝对数额约等于中等收入加上中高收入家庭的消费数额。以城市为例，中等收入家庭年平均消费支出 24790.5 元，中高收入家庭年平均消费支出 31058.7 元，两者相加仅比高收入家庭年平均消费支出 55772.6 元高 526.6 元。



图二 分城乡按收入水平划分的家庭支出收入比

136. “图二 分城乡按收入水平划分的家庭支出收入比”显示，不同收入层次的家庭，其消费率的变化呈现出规则的曲线，以家庭消费率代表家庭即期消费的倾向，比率越高，即期消费倾向：

- A. 越强烈 B. 越微弱 C. 越显著 D. 越明显

【答案】A。解析：

第一步，明确问题。求“以家庭消费率代表家庭即期消费的倾向，比率越高，即期消费倾向”的情况。

第二步，数据定位。

第三步，估算。

不同收入层次的家庭，其消费率的变化呈现出规则性的曲线。从图二看，不论城市还是农村，家庭消费率随着收入增加而递减。低收入家庭消费率高达 90% 以上，这意味着低收入家庭每年的收入几乎全部用于消费。而高收入家庭消费率比较低。

也就是说，以家庭消费率（家庭支出与收入之间的比率）代表家庭即期消费的倾向，比率越高，则即期消费倾向越强烈。

所以，正确选项是 A。

137. “图二 分城乡按收入水平划分的家庭支出收入比”说明，从增加收入以刺激消费的角度来看，高收入家庭收入的增加：

- A. 不会在短时间内带动商品消费的增长 B. 会在长时间内带动商品消费的增长
C. 会在短时间内带动服务消费的增长 D. 将不会产生更多的家庭积累和储蓄

【答案】A。解析：

第一步，明确问题。求“从增加收入以刺激消费的角度来看，高收入家庭收入的增加”的作用。

第二步，数据定位。

第三步，估算。

如果从增加收入以刺激消费的角度看，增加低收入家庭的收入比增加高收入家庭的收入，对刺激消费更加有效。如果低收入家庭收入水平提高，其购买力实现程度高，能够更快、更多的提高消费支出水平。与之相反，高收入家庭收入的增加，将会产生更多的家庭积累和储蓄，不会在短时间内带动商品和服务消费的增长。

所以，正确选项是 A。

138. 调查结果表明，“不论城市还是农村，家庭消费率随着收入增加而递减。低收入家庭消费率高达 90%以上”。

根据这一结果，下列说法不正确的是：

- A. 低收入家庭每年收入几乎全部用于消费
- B. 低收入家庭收入水平提高，能够更快、更多地提高消费支出水平
- C. 增加低收入家庭的收入比增加高收入家庭的收入，对刺激消费更加有效
- D. 低收入家庭每年收入的 10%以上用于储蓄和积累

【答案】D。解析：

第一步，明确问题。求四个选项中“说法不正确”的一项。

第二步，数据定位。对题干的阅读理解。

第三步，估算。

阅读题干可知，“低收入家庭消费率高达 90%以上。”既然低收入家庭消费率高达 90%以上，那么就不可能出现 D 项所说的情况：“低收入家庭每年收入的 10%以上用于储蓄和积累”。因而，D 项的说法是错误的。

所以，正确选项是 D。

139. 高收入家庭消费率比较低，意味着城市和农村高收入家庭每年收入的：

- A. 20%以上用于储蓄和积累
- B. 30%以上用于储蓄和积累
- C. 40%以上用于储蓄和积累
- D. 50%以上用于储蓄和积累

【答案】C。解析：

第一步，明确问题。求“高收入家庭消费率比较低，意味着高收入家庭每年收入的百分之多少用于储蓄和积累”。

第二步，数据定位。对题干的阅读理解。

第三步，估算。

而高收入家庭消费率比较低，城市和农村高收入家庭的消费率分别为 57.9%和 53.9%。很显然，这意味着高收入家庭每年收入的 40%以上用于储蓄和积累。

所以，正确选项是 C。

140. 拉动内需，促进城乡居民消费是重要对策，为此投资的重点应该是加大就业、教育、医疗、住房、社会保障等领域的投资力度，最关键的措施是：

- A. 认清当前我国家庭消费所处发展阶段，促消费保增长保就业
- B. 改革和完善住房、医疗和教育制度体系，解决家庭正常消费的后顾之忧
- C. 完善城乡均等的公共服务体系，减少农村家庭公共服务消费支出比例
- D. 理顺收入分配关系，重点帮扶农村和低收入家庭提高收入水平

【答案】D。解析：

第一步，明确问题。求拉动内需，促进城乡居民消费是重要对策其中“最关键的措施”。

第二步，数据定位。

第三步，估算。

我国城乡居民收入差距的不断加大，拉大了不同类型家庭和人群之间的消费差距。由于高收入家庭的消费率基本固定，尽管农村和低收入家庭边际消费倾向（增加的消费和增加的收入之间的比率）较高，但实际购买力有限，导致社会整体消费能力下降。因而，对农村和低收入家庭而言，提高收入水平才是刺激消费的关键。重点帮扶农村和低收入家庭提高收入水平，缩小收入差距，有益于提高社会整体消费能力和经济增长的稳定性。

所以，正确选项是D。

全部测验到此结束！

请扫描QQ二维码，备注“公务员考生”加QQ
好友，获取曹长远老师精解历年公务员考试申论、
行测、面试真题完整解析资料。

精品资料，尽在掌握！



扫描二维码，加QQ好友