

2013年4月14日广东省公务员考试 《行政职业能力测验》试题（县级）答案解析

说明

此项测验分为五个部分，共100题，总时限90分钟，满分100分。各部分不分别计时，但都给出了参考时限，供你参考以分配时间。

请将姓名与准考证号用黑色字迹的笔填写在指定位置，并用2B铅笔在准考证号对应的数字上填涂。请将题本上的条形码揭下，贴在答题卡的指定位置。没有贴条形码的答题卡将按作废处理，成绩记为0分。

试题答错不倒扣分。严禁折叠答题卡！

第一部分 数量关系

（共15题，参考时限15分钟）

一、数字推理：共5题。每道题给出一个数列，但其中缺少一项，要求从四个供选择的答案中选出最合理的一个来填补空缺项，使之符合原数列的排列规律。

1. 1.8, 3.6, 7.2, 14.4, (), 57.6

- A. 18.4 B. 22.6 C. 28.8 D. 34.4

【答案】C。解析：

公比为2的等比数列。空缺项应为： $28.8 \times 2 = 57.6$ 。

所以，正确选项是C。

2. 3, 7, 9, 14, 27, 28, 81, ()

- A. 132 B. 108 C. 83 D. 56

【答案】D。解析：

间隔数列。奇数项为3, 9, 27, 81，是公比为3的等比数列；偶数项为7, 14, 28。是公比为2的等比数列。空缺项是偶数项，应为： $28 \times 2 = 56$ 。

所以，正确选项是D。

3. 6, 14, 22, (), 38, 46

- A. 30 B. 32 C. 34 D. 36

【答案】A。解析：

公差为8的等差数列。 $22+8=30$ ， $30+8=38$ 。空缺项应为30。

所以，正确选项是A。

4. 1, $\frac{5}{6}$, $\frac{7}{10}$, $\frac{3}{5}$, $\frac{8}{15}$, ()

- A. $\frac{1}{5}$ B. $\frac{1}{4}$ C. $\frac{1}{3}$ D. $\frac{1}{2}$

【答案】D。解析：

将原数列通分为分母为30的分数，可以得到： $\frac{30}{30}$, $\frac{25}{30}$, $\frac{21}{30}$, $\frac{18}{30}$, $\frac{16}{30}$ 。

其分子为：30, 25, 21, 18, 16

相邻两项前项减后项可得一公差为1的等差数列： $-5, -4, -3, -2, (-1)$ 。

按照这个规律，空缺项应为： $\frac{15}{30} = \frac{1}{2}$ 。

所以，正确选项是D。

【答案】。解析：

设该行动组中男同志、女同志人数分别为 m 、 n ，根据题意可得算式为：

$$m=3(n-1), (m-3) \times (2/3) = n. \text{ 解得：} m=9, n=4.$$

要派出男女各 2 名组员在外执勤，那么执勤人员的组成方式有：

$$C(9, 2) \times C(4, 2) = (9 \times 8 \div 2) \times (4 \times 3 \div 2) = 216.$$

所以，正确选项是 B。

15. 有一批商品需要装箱运输。商品每件均为 10 厘米×40 厘米×80 厘米的长方体。包装箱为边长为 1.2 米的立方体，一个包装箱最多能装（ ）件商品。

A. 54 B. 53 C. 52 D. 51

【答案】C。解析：

通过调整放置商品的方向，尽量放最多的商品。

首先，长：可以放 $1.2 \times 100 \div 80 = 1.5$ （件）；宽：可以放 $1.2 \times 100 \div 40 = 3$ （件）；高：可以放 $1.2 \times 100 \div 10 = 12$ （件）。因此，可以先将就包装箱的一侧放 $1 \times 3 \times 12 = 36$ （件）。

还剩余空间为 $120 \times 40 \times 120$ 厘米，调整放置商品的方向，可放置 $1 \times 1 \times 12 = 12$ （件）。

还剩余空间为 $40 \times 40 \times 120$ 厘米，再次调整放置商品的方向，可放置 $1 \times 4 \times 1 = 4$ （件）。

则一个包装箱最多能装 $36 + 12 + 4 = 52$ 件商品。

所以，正确选项是 C。

第二部分 言语理解与表达

一、选词填空。每道题给出一句话，但其中缺少一个或几个词，要求从四个备选项中最合适、最合理的一个来填补空缺，使之符合句子所表达的意思。

16. 要加快新型产业布局，就需要进一步结合广东资源和经济发展的现状，以科技创新去_____产业新优势。

A. 构造 B. 构建 C. 建筑 D. 建造

【答案】B。解析：

B 项“构建”指全方位、多角度、深层次地建立，多用于抽象事物。“产业新优势”属于抽象事物，因此空格中填入“构建”符合文意。

A “构造”做动词时指制造、建造，做名词时指结构；

C “建筑”做动词时指建造、建立，做名词指建筑物；

D “建造”指制造、兴建，多用于建筑物或具体事物。

ACD 三项都与语境中的“产业新优势”不符合，排除。

所以，正确选项是 B。

17. 创新型人才的一个突出特点，就是不简单_____既成事实，不_____于固定的想法，具有求异思维和批判精神。

A. 认同 拘泥 B. 认同 局限 C. 认可 拘泥 D. 认可 局限

【答案】A。解析：

“认同”有三层含义：（1）认为一致、相同；（2）认为彼此是同类，具有亲近感或归属感；（3）赞同。

创新性人才对既成事实具有批判精神，必然是不“认同”。

“拘泥”指固执，不知道变通。此处强调的是求异思维，善于创新，有“不拘泥”的意思。

所以，正确选项是 A。

18. 我国许多传统的老字号药店，_____在最困难的情况下，也在千方百计地保证药品的_____。

A. 即使 质量 B. 即使 性能 C. 纵使 性质 D. 尽管 功效

【答案】A。解析：

第一空，四个选项都表示让步，不好区分。

第二空，显然要保住的是全面的“质量”。“性能”“功效”“性质”都仅仅是“质量”的一个方面，都不全面，排除。

所以，正确选项是 A。

19. 暴雨暴露了城市公共管理和应急机制中的_____，更_____了市政规划建设中的硬伤。

- A. 隐患 显现 B. 软肋 凸显 C. 顽疾 揭示 D. 漏洞 呈现

【答案】B。解析：

本题考查递进关系，第一空对应第二句末的“硬伤”，比硬伤弱一点的词是“软肋”；第二空对应第一句“暴露”，选择同义词“凸显”。

所以，正确选项是 B。

20. 外交调研是一门特殊的学问，既要善于_____，又不能听风便是雨。

- A. 见微知著 B. 当机立断 C. 反躬自省 D. 触类旁通

【答案】A。解析：

题干中出现了“既要……又不能……”，表示反向并列。反向并列的前后意思相反相对，后文说的是“听风就是雨”，即刚听到一点儿风声，就当要下雨了，形容听到一点风声就竭力附和渲染，常常用来比喻那些听到小道消息就丧失个人主见，人云亦云的人，是贬义词。因此它的前面就要选一个与其意思大致相反的词。

A 项，见微知著：见到事情的苗头，就能知道它的实质和发展趋势的情况了。比喻由小事看出大的结果，是褒义词。与“听风便是雨”词义相反相对。因此，A 项正确当选。

B 项，“当机立断”比喻事情到了紧要关头，就毫不犹豫地做出决断。

C 项，“反躬自省”回过头来检查自己的言行得失。

D 项，“触类旁通”比喻掌握了解某一事物的规律，从而类推了解同类的其他事物的规律。

BCD 三项都不能与“听风便是雨”构成反义关系，排除。

所以，正确选项是 A。

21. 竞争性选拔是_____选人视野、打破论资排辈，让优秀年轻干部_____的“绿色通道”，也是公信度高、为干部群众普遍认同的选拔方式。

- A. 开拓 脱胎换骨 B. 开拓 脱颖而出 C. 拓宽 脱颖而出 D. 拓宽 脱胎换骨

【答案】C。解析：

第一空，“开拓”是从无到有的过程，“拓宽”是在原有的基础上进一步加大的过程。

“选人视野”肯定原本是存在的，只是不够宽广，因此要拓宽，排除 AB 两项。

第二空，“脱颖而出”指锥尖透过布袋显露出来，比喻本领全部露出来。“脱胎换骨”比喻痛改前非，重新做人。根据语境，第二空应选“脱颖而出”。

所以，正确选项是 C。

22. 跟纸质出版界相比，网络文章发表之前无须经过身份验证、资格审查和学术评议等程序，这样就难免造成_____、_____的局面。

- A. 鱼目混珠 杂乱无章 B. 鱼龙混杂 杂乱无章
C. 鱼龙混杂 泥沙俱下 D. 鱼目混珠 泥沙俱下

【答案】D。解析：

第一空，“鱼目混珠”指拿鱼眼睛冒充珍珠，比喻用假的冒充真的一般形容物，不用来形容人。“鱼龙混杂”形容好人和坏人混在一起，不用来形容物。

文中的主体是“网络文章”，是物而不是人，因此用“鱼目混珠”，排除 BC 两项。

第二空，“杂乱无章”形容乱七八糟，又多又乱，没有条理，不整齐。泥沙俱下：泥土和沙石跟着水一起流了下来，比喻好坏不同的人或事物混杂在一起。

根据文意可知，由于网络文章没有审核程序，导致好的坏的一同出现，因此必须选择“泥沙俱下”。

所以，正确选项是 D。

文段是“之所以……在于……”结构，此结构的重点是对“之所以”中结果的解释。

文段重点即中华文化保持强劲生命力的原因，因此 B 项正确。

本题的话题是“中华文化”，根据主体错误可以排除 C 项；

A 项和 D 项是对策，属于无中生有，排除。

所以，正确选项是 B。

27. 目前国内关于个人信息保护的法规分散，既缺乏对个人信息的界定，也缺乏可操作的标准，执法主体缺位，执法力度不足。对于个人信息保护的难题，业内讨论认为主要有三方面：保护程度界定，难以区别正当或非法使用个人信息；信息泄露取证，难以确定个人信息是在哪个环节发生泄露；执法力度统一，难以确保多个监管主体执法的宽严尺度一致。

因此，个人信息保护的关键在于：

- A. 保障信息充分流通的同时避免滥用个人信息
- B. 行业自律与政府部门监管相结合
- C. 要形成一定程度的执法威慑
- D. 要出台专门的法律法规保护个人信息

【答案】D。解析：

概括主旨。

文段首先指出“目前国内关于个人信息保护的法规分散”，说明问题的根源是在法律法规层面。随后进一步指出业内人士认为个人信息保护的难题主要有三方面：（1）“难以区别正当或非法使用个人信息”，正当与否需要法律标准进行界定；（2）“信息泄露取证”和（3）“执法力度统一”，都是法律层面涉及的问题。因此 D 项正确。

A 项中的信息充分流通与否原文没有讨论，排除；

B 项中的监管层面原文没有涉及，排除；

C 项，文段只讨论了要统一执法力度，而没有讨论有无执法威慑，排除 C 项。

所以，正确选项是 D。

28. 近年来，社会热点事件频频占据了我们的视线，从毒奶粉事件到染色馒头事件，无疑给广大民众带来了巨大的心理负担和精神困惑；曾经轰动全国的抢盐事件，更是对社会正常秩序的一种冲击。很明显，这些社会热点事件，给人们的生活带来了破坏性甚至是毁灭性的影响。但是最为严重的影响，莫过于这些社会热点事件所产生的负面效应的不断扩散，并由此引发的公众的困惑和不安。

根据这段文字，可以看出作者的意图是：

- A. 呼吁对社会热点事件负面效应的扩散进行有效抑制
- B. 批判社会热点事件的负面效应混淆了公众的视听
- C. 揭示社会热点事件的负面效应不断扩散的实质
- D. 提醒人们在复杂多变的环境中提高甄别社会热点事件的能力

【答案】A。解析：

推断文意。

文段先用“近年来”陈述背景，然后用“但”引出问题，“但是最为严重的影响，莫过于这些社会热点事件所产生的负面效应的不断扩散，并由此引发的公众的困惑和不安。”作者的意图就在于解决这个问题，即：要抑制这个负面效应的扩大，A 项正确。

B、C 两项只是在揭示“负面效应”本身，并不是针对问题的对策，因此排除；

D 项的对策是针对人们无法甄别社会热点问题而言的，而不是针对文段反应的问题——“热点事件所产生的负面效应的不断扩散”，因此排除。

所以，正确选项是 A。

29. 人类所创造的每一种文化都是一个动态的生命体，各种文化聚集在一起，形成各种不同的文化群落、文化圈、

甚至类似食物链的文化链。它们互相关联成一张动态的生命之网，其作为人类文化整体的有机组成部分，都具有自身的价值，为维护整个人类文化的完整性而发挥着自己的作用。

这段文字主要表明：

- A. 人类文化实质是一种动态的生命体
- B. 人类文化的聚集类似于生态的系统
- C. 人类文化本身就像一个生态系统
- D. 人类文化相互关联组成动态网络

【答案】D。解析：

概括主旨。

文段共两句，第一句说人类创造了各种不同的文化，第二句说“它们”组成了一个互相关联的网，每一种文化都有自己的价值。观察四个选项，发现没有关于价值的选项，因此只有D项可选。

所以，正确选项是D。

30. 医学上认为，不论在哪个年龄段，超重者患高血压、心血管疾病以及 II 型糖尿病的风险都会升高。这些疾病同时也是导致肾病的危险因素。研究人员曾对 1830 名 6 岁至 14 岁的日本儿童进行尿检，结果显示，27 名儿童出现持续性蛋白尿、尿中红血球增多等肾病症状。经对比后发现，这些尿检异常儿童的身高体重指数（BMI）以及血压的收缩压（高压）明显高于尿检正常儿童。

通过这段文字可以看出：

- A. 儿童须注意预防肾病发生
- B. 体重超标是肾病发生的原因
- C. 越来越多的肥胖儿童出现肾病
- D. 儿童肥胖与肾病风险存在关联

【答案】D。解析：

细节对比。

A 项，主语错误，文段中有肾病风险的是超重儿童，而不是所有儿童，排除；

B 项，体重超标只是肾病发生的“原因之一”，而不是所有原因，属于偷换概念，排除；

C 项，“越来越多肥胖儿童”文中没涉及，属于无中生有，排除。

D 项，检查结果显示，27 名有肾病症状的儿童“尿检异常”，儿童的身高体重指数（BMI）以及血压的收缩压（高压）明显高于尿检正常儿童。因此 D 项正确当选。

所以，正确选项是 D。

31. 中国的科技进步举世瞩目。2010 年中国科技人力资源总量居世界第一位，国际科技论文数量居世界第二位，发明专利授权量居世界第三位……但调查显示，我国人才资本对经济增长的贡献率远远低于西方国家，而关键技术的对外依存度明显高于西方国家。

这段文字主要想传递的信息是：

- A. 缺乏关键核心技术的支持已成为科技发展的瓶颈
- B. 中国科技发展的自主创新能力不强，研究基础薄弱
- C. 中国的科技实力发展迅猛，取得了许多重大成果
- D. 中国已成为科技大国，但仍与发达国家存在较大差距

【答案】D。解析：

推断文意。

转折结构，文段首先讲中国科技做的好的方面，然后用“但”转折，强调中国科技远不如西方国家。D 项是对文段内容的全面概括，正确当选。

A 项缺少主语，错误，排除。

B 项，文段没有讨论中国“自主创新能力”和“研究基础”的强弱，属于无中生有，排除。

C项，文段的转折部分重点强调了科技发展的不足，而C项仅仅是对优势的描述，错误，排除。所以，正确选项是D。

32. 很多经济学家统计，印度因为人口的快速增长而前景光明，因为它将逐步收获“人口红利”。未来十年，印度的就业人口将增长26%。这些年轻劳动力将显著降低人口的抚养比，从而提高储蓄率，促进投资，推动经济发展。但年轻人口转化为劳动力的前提在于一个国家的教育设施是否完备，能否提供足够的培训。印度欠缺的也正在于此，研究显示，尽管每年新增劳动人口1280万，但印度每年仅能培训约310万人，只是新增人口的1/4，剩下的3/4反而成为社会发展的负担。

作者通过这段文字意在说明：

- A. “人口红利”能推动经济起飞
- B. 出生率对国家经济发展影响巨大
- C. 高出生率有助于推动经济发展
- D. 教育资源欠缺阻碍经济发展

【答案】D。解析：

推断文意。

转折结构，首先说很多经济学家统计，印度因为人口的快速增长将收获“人口红利”，然后用“但”转折指出是否能收获“人口红利”的前提在于一个国家的教育设施是否完备，能否提供足够的培训，而印度欠缺的也正在于此。因此作者意在强调：人口增长并不一定带来“人口红利”，“人口红利”受制于教育。D项正确当选。

所以，正确选项是D。

33. 互联网的普及让人们开始超越以民族、国家为单位看待历史发展的视角，看到了世界各个地区、各个文化之间的频繁互动和交流。而一些跨国公司，利用现代社会信息传送的发达和便利，其各个部门根据需要可以分布在世界的各个角落，通过电信技术和互联网加以沟通。

对这段文字概括最准确的是：

- A. 互联网使当今世界进入信息交流十分便利的时代
- B. 当今世界的交流和沟通已经完全突破民族、国家的限制
- C. 以互联网为代表的信息时代的来临标志着当今世界走向全球化
- D. 以互联网的普及为核心的信息时代改变了交流与沟通的传统模式

【答案】A。解析：

概括主旨。

文段共两句，第一句说互联网的普及让人们……频繁互动和交流，第二句说互联网使现代社会信息的传送更加发达与便利。概括地说就是：互联网使当今世界的信息交流十分便利的。A项正确当选。

B项，“开始超越”被偷换成“完全突破”，错误，排除。

C项，“全球化”属于无中生有，排除。

D项，“传统模式”属于无中生有，排除。

所以，正确选项是A。

34. 大众传媒主要是通过报纸、电视、广播等平台来开展。人际传播是指举办论坛、公众开放日等活动，实现人和人之间的传播。新媒体集合了大众传媒和人际传播两者的优点，兼具广泛性和精准性，既可以同时面对数百万甚至是数千万的受众，也可以实现传播者和受众一对一的交流。受众既是传播的目标对象，也是传播的主体，可以帮助我们实现二次乃至多次再传播。

根据上述文字，对“新媒体”理解不准确的一项是：

- A. 新媒体是建立在大众传媒传播和人际传播的基础之上的
- B. 新媒体的受众已从传播的目标对象转变为传播的主体
- C. 新媒体有助于我们实现二次乃至多次再次传播
- D. 新媒体的双向互动性体现了它与传统媒体的区别和优势

【答案】B。解析：

细节对比。

文段谈到新媒体的受众既是传播的目标对象，也是传播的主体。“既是……也是……”是并列连词，表明新媒体的受众包含两者，而B项说的是“从传播的目标对象转变为传播的主体”，属于偷换概念，对“新媒体”的理解不准确。因此B项当选。

A项，来源于“新媒体集合了大众传媒和人际传播两者的优点”，理解正确，排除。

C项，来源于最后一句话，即“受众既是传播的目标对象，也是……可以帮助我们实现二次乃至多次再传播。”理解正确，排除。

D项，概括了新媒体的区别于大众媒体的双向互动性优势，理解正确，排除。

所以，正确选项是B。

35. 威慑其实是让假想敌人的内心产生恐惧，从而阻止他做出对自己不利的事情来。但是这种恐惧的根源有两个：第一，对手要认可威慑方所具备的实力，很难想象一个弱小的国家能够威慑强大的美国；第二，对手还要相信威慑方动用实力来达到目的的决心，换句话说，对手要确认威慑方的意图。如果对手认为威慑方并不具备真实的进攻性意图，那么简单的展示实力或者言语威胁就毫无意义了。

根据这段文字，以下说法正确的是：

A. 威慑方通过让潜在对手相信自己的实力以达到威慑的目的

B. 威慑的目的在于阻止强大对手的攻击并使其产生惧怕

C. 威慑方真实明确的意图更能给对手带来恐惧

D. 威慑的成功与否关键在于被威慑方的认知

【答案】D。解析：

细节对比。

文段通过转折关联词“但”强调了威慑的两个根源，（1）对手认可威慑方的实力，（2）对手确认威慑方的意图，只有满足这两个条件才能达到威慑的目的，而这两个条件都是取决于“被威慑方”的，即威慑的成功与否取决于被威慑方的认知。因此，D项正确当选。

A项和B项都是仅仅围绕威慑的目的来阐述的，片面曲解了文意，排除。

C项属于无中生有的选项，文段并没有说威慑方明确的意图会给对方带来恐惧，排除。

所以，正确选项是D。

36. 2012年8月，有“史上最严限抗令”之称的《抗菌药物临床应用管理办法》正式实施。根据《办法》，抗菌药物将依据安全性、疗效、细菌耐药性、价格等因素，被分为非限制使用级、限制使用级和特殊使用级三个级别。医疗机构和医疗人员应严格掌握使用抗菌药物预防感染的指征。违规使用抗菌药物的医师，将被警告、限制处方权、吊销执业证书，直至追究刑事责任。

通过上述文字可以得知：

A. 抗菌药物滥用将得到有效遏制

B. 我国抗菌药物滥用现象严重

C. 医疗人员将会谨慎使用抗菌药物

D. 主管部门向抗菌药物滥用宣战

【答案】C。解析：

细节对比。

文段主要介绍了新出台的《抗菌药物临床应用管理办法》的相关规定，并未谈及“抗菌药物滥用”，因此排除A、B、D三项。

根据“医疗机构和医疗人员应当……直至追究刑事责任”可知，在《办法》的严厉约束下，医疗人员必将会谨慎使用抗菌药物。因此，C项正确当选。

所以，正确选项是C。

37. 干细胞是具有自我更新和多向分化潜能的原始细胞群体，是形成各种组织器官的起源细胞。当机体成熟体细胞因衰老或受伤死亡，干细胞随时生产他们的替代品来维持各种细胞更新和组织修复。可惜的是，随着年龄的增长，人体中的干细胞族群增殖和分化的能力会严重减弱。从这个角度看，通过某种方式干预和恢复干细胞的活力就有望修复组织功能，达到延缓衰老的效果。

这段文字意在说明：

- A. 人类实现青春不老的美丽夙愿依赖于干细胞技术的应用
- B. 恢复活力的干细胞能替换各种因衰老或受伤而死亡的细胞
- C. 干细胞技术将有助于改善人类健康水平、提高生活质量
- D. 人体之所以会老去是因为衰老细胞不能及时被干细胞替代

【答案】C。解析：

推断文意。

A 项，将“达到延缓衰老的效果”偷换为“青春不老”，排除。

B 项，将“干细胞生产的替代品”偷换为“恢复活力的干细胞”，排除。

C 项，文段首先提出问题：随着年龄的增长，人体中的干细胞族群增殖和分化的能力会严重减弱。然后提出了对策，即干细胞技术的运用有望达到延缓衰老的作用。因此可以引申为：干细胞技术将有助于改善人类健康水平、提高生活质量。C 项正确当选。

D 项，文段未谈及人体衰老的原因，属于无中生有，排除。

所以，正确选项是 C。

38. “云计划”极有可能引发新一轮信息技术革命，并且对国际局势产生深远的影响。简单地说，“云”就是利用互联网技术进行远程计算和数据存储，用户只要有一台能访问互联网的普通电脑或者手机就可以进行复杂计算，个人的数据资料也可以通过互联网轻松地放到“云端”进行存储。从硬件上说，“云”就是计算机群，每一群包括了几十万台、甚至上百万台计算机，这些计算机可能是高性能的服务器，也可能是连到互联网上的普通电脑，甚至是手机。

根据上述文字，对“云”理解最准确的一项是：

- A. “云”是几十万台，甚至上百万台的计算机群
- B. 离开互联网，“云”的功能将无法实现
- C. “云”技术实际上就是互联网技术
- D. 谁控制了“云”，谁就控制了虚拟世界

【答案】B。解析：

细节对比。

文段的第一句讲述的是“云计划”的影响，第二句讲述的是“云”的概念，即利用互联网技术进行远程计算和数据存储，第三句讲的是“云”的硬件组成。

A 项，偷换概念，“云”是利用互联网技术进行远程计算和数据存储，而不是计算机群，错误，排除。

B 项，根据“云”的概念，“云”技术必须依托互联网，离开互联网，“云”的功能将无法实现。因此，B 项理解正确，当选。

C 项，曲解了“云”的概念，“云”是利用互联网技术，而不是等于互联网技术，错误，排除。

D 项，文段中没有提到虚拟世界，属于无中生有，排除。

所以，正确选项是 B。

39. 近日，我国 2000 吨地沟油加工成的生物煤油被荷兰航空公司买走的报道震撼了国民：地沟油还有这么高端的用途！原来，经过特殊技术加工后的地沟油可以作为一种生物煤油来替代传统的柴油和汽油，用于航空飞行。通过严格的国家立法与执法、先进的技术投入以及人们日益提高的环保意识和健康觉悟，餐厨余油经过回收、加工后流入工矿、发电厂、甚至是家庭的汽车油箱。

如果这是一篇文章的引言，这篇文章的内容最有可能是：

- A. 世界各国都致力于研究地沟油的回收利用
- B. 设立完整的处理地沟油的方法以造福民生
- C. 地沟油已经成为真正的可再生清洁能源
- D. 我国餐厨余油的加工生产前景广阔

【答案】B。解析：

下文衔接。

文段的开头是背景陈述，引出我国处理后的地沟油的经济用途，然后谈论通过国家立法，餐厨余油会变废为宝。作为下文推断题，其接下来讲述的内容必须与前文保证话题一致，因此接下来必须围绕我国如何正确利用“地沟油”的对策来展开，即：设立完整的处理地沟油的方法以造福民生。B项正确当选。

A项谈论的是世界各国，主语不符，排除。

C项属于无中生有，文段没有涉及到可再生清洁能源这一概念，排除。

D项空洞地说餐厨余油的加工生产的前景，体现不了我们如何处理及利用地沟油的对策，排除。

所以，正确选项是B。

40. 中国稀土产业正面临内外夹击困局：国内，资源消耗过快，环境污染严重，非法采矿现象屡禁不绝，大量稀土被变相出口与走私；国外，美国、欧洲、日本在稀土出口问题上不断对我国施压，半个多世纪的超强度开采，已使我国的稀土资源保有储量及保障年限不断下降。部分专家指出，以人力资源量相比，目前我国已经是稀土匮乏的国家，然而我国尚未完成工业化，未来需要更大量的稀土。

这段文字主要想传达的信息是：

- A. 超强度开采使我国稀土资源匮乏，人均资源量低
- B. 我国已经为稀土的开采付出了沉重的环境代价
- C. 需要统筹管理稀土开发、生产和出口突破困境
- D. 国内外因素造成稀土行业的开发无序等多种困难

【答案】C。解析：

推断文意。

文段首先引出我国稀土面临内外困局，然后援引专家观点，指出目前我国已经是稀土匮乏的国家，然而未来需要更大量的稀土。面对困局怎么办？作者意在强调：必须采取有效措施，统筹管理稀土开发、生产和出口突破困境。因此，C项正确当选。

A项为国内问题的陈述，非解决问题的对策，排除。

B项只描述了我国稀土开采付出的环境代价，非解决问题的对策，排除。

D项分析稀土开发问题的原因，非解决问题的对策，排除。

所以，正确选项是C。

41. 中国的邻邦日本，正在遭受“人口少子化”的困境。1999年，日本的总和生育率下降到1.57，被称为“1.57”危机。2006年，这一数字下降到1.04。日本媒体惊呼“少子化已达危害国家兴衰地步”。与此同时，在人口众多的中国，少子化问题也日渐浮现。根据2010年全国人口普查的数据，我国0到16岁人口占人口总数的16.60%，比2000年下降了6.2个百分点，总和生育率约为1.1%。人口学家惊呼，中国已经步入最低生育率和严重少子化国家的行列。

这段文字意在强调：

- A. 中国少子化的现象尚未引起国人的足够关注
- B. 少子化已经成为困扰我国经济发展的社会问题
- C. 中国少子化程度严重，总和生育率低于日本
- D. 我们要重视人口少子化问题所带来的威胁

【答案】D。解析：

推断文意。

文段用“与此同时”连接，前半部分讲述的是日本遭受人口少子化的困境，后半部分讲的是中国人口少子化日渐浮现。作者将中国与日本作对比，意在强调中国人口少子的严重性，呼吁我们一定要重视人口少子化问题所带来的威胁。因此，D项正确当选。

A项属于无中生有，文段没有涉及国人的关注度，错误，排除。

B项属于无中生有，文段没有论及少子化对我国的影响，错误，排除。

C项，日本的总和生育率2006年下降到1.04，我国2010年总和生育率约为1.1%。二者无法对比，C项错误，排除。

所以，正确选项是D。

42. 优抚安置工作要充分体现党、政府和人民对革命功臣的关爱。优抚安置的服务对象种类多，老龄化突出，服务对象有优抚和安置两大部分，共5类27种。优抚安置的工作环节和服务保障流程复杂。比如接收安置一名重点对象，需经过审定安置计划、落实住房建购经费、下达安置计划、办理移交手续等十几个环节。接收下来后还要负责落实政治待遇、生活待遇、医疗保障等服务管理内容几十项。

这段话主要说明：

- A. 优抚安置工作政治性强，政策保障要求高
- B. 优抚安置工作相关性强，协调沟通任务重
- C. 优抚安置工作特殊性强，服务保障难度大
- D. 优抚安置工作矛盾性强，形势任务适应难

【答案】C。解析：

概括主旨。

文段分别从政治意义、服务对象种类多等方面说明优抚安置工作不同于其他工作，隐含：特殊性强；还强调优抚安置服务环节多，保障流程复杂，隐含：服务保障难度大。因此，C项正确当选。

所以，正确选项是C。

43. 说起社会公正，最多人的答案是要机会平等。说起机会平等，人们脑海浮现的，往往是竞技场上的起跑线。只要大家站在同一起跑线，竞争就是公平的，因此最后跑出来的结果无论是什么，那也是公正的。问题是：到底要满足什么条件，我们才能站在相同的起跑线？更进一步，当我们用起跑线这一比喻来思考正义问题时，背后有着怎样的道德想象？

这段文字的主要观点是：

- A. 只有站在相同的起跑线上才能实现机会平等
- B. 机会平等的概念，不能只停留在同一起跑线上
- C. 机会平等是努力确保起点公平，容许竞争者自由发挥
- D. 所谓起点公平是要抹平竞争者的所有差别

【答案】B。解析：

概括主旨。

转折结构，文段首先对大多数人的看法进行了总结：机会平等就是起点公平，然后转折提出自己的疑问，问题是：到底要满足什么条件，我们才能站在相同的起跑线？通过对前面的看法提出疑问，可知作者认为机会平等不仅仅是起点公平。因此，B项正确当选。

所以，正确选项是B。

44. 识才需要智慧，用人需要胆略，护才需要勇气。大规模选拔人才必须依照制度进行，但“制度选人”不能代替“伯乐相马”。现在通行的标准化选人方法，只能选出一般性的优秀人才，而那些特殊性的杰出人才则很难被选拔出来，甚至会被当作“不合格产品”加以淘汰。_____。

承接上述文字最恰当的一句是：

- A. 因此，领导者只有独具匠心和慧眼，才能将他们挑选出来
- B. 因此，高明的领导者应当大胆地起用、加倍地呵护杰出人才

- C. 因此，标准化的选人方法已不合时宜，更为灵活、覆盖面更广、尊重特点、承认差别的选拔方法应运而生
D. 因此，选人方法必须由一般性人才向特殊性人才转换，为特殊性人才的发展开辟广阔的空间

【答案】C。解析：

语句衔接。

由于下文是紧接着上文来展开的，因此推断下文必须重点关注上文内容。

根据就近原则先看最后一句。本文最后一句提到了现在通行的标准化选人的不足，相当于提出了一个需要解决的问题，因此下文最有可能围绕解决问题的对策来展开。既然标准化选人存在不足，那么接下来最可能谈到的就是通过转变选人标准来解决问题。因此，C项正确当选。

所以，正确选项是C。

45. 在一些基层单位，总会发生群众同干部“顶嘴”的现象，有的还因此造成了干群情绪对立。究其原因，主要是一些基层干部忽视了群众的“辩白心理”。心理学家认为，人们在受到他人的批评时，大都会本能地产生一种辩解意识，也就是“辩白心理”。即便是做了明显的、无可推卸的错事，有的人也会讲几条客观原因来为自己辩解，冲淡自己的过失所造成的不良影响。一般来讲，“辩白心理”主要有以下两种表现：一种是通过辩白说明问题，另一种是为了逃避责任。

根据上述文字，以下说法正确的是：

- A. 群众之所以为自己“辩白”是想让干部弄清真实情况
B. 基层干部对待群众的“辩白”，要区分不同情况，正确处理
C. 做错事却心存侥幸以求逃避责任的人容易产生“辩白心理”
D. 基层干部与群众发生纠纷是因为忽视群众的“辩白心理”

【答案】B。解析：

细节对比。

A项错误，文中指出“辩白心理”有两种表现，一种是通过辩白说明问题，另一种是为了逃避责任。

B项正确，文段首先指出干部忽视群众的“辩白心理”是造成一些基层单位干群矛盾的主要原因，然后阐释了“辩白心理”产生的心理因素，最后指出辩白心理的两种表现，因此基层干部面对群众的“辩白”，必须对其不同的表现形式有所认识、有所区别。因此B项正确当选。

C项错误，从原文来看，人们在受到他人批评时会本能地产生“辩白心理”，做了明显的、无可推卸的错事时，有的人也会产生“辩白心理”。可见，受到批评时比做错事情时产生“辩白心理”的概率更高。

D项以偏概全，原文说干群情绪对立“主要”是因为忽视群众的“辩白心理”，但不等于说只有这一条原因。

所以，正确选项是B。

第三部分 判断推理

(共40题，参考时限35分钟)

一、类比推理，共10题。给出一组相关的词，然后要求报考者仔细观察，在备选答案中找出与题干在逻辑关系上最为贴近或相似的一项。

46. 业务：业绩

- A. 工作：收入 B. 现实：幻想 C. 手术：疗效 D. 投入：产出

【答案】C。解析：

题干词组的逻辑关系可以表述为：业绩体现了业务完成后的效果。C项的关系与此相同：疗效体现了手术完成后的效果。

所以，正确选项是C。

47. 政务：公文

- A. 广告：电视 B. 品牌：产品 C. 市场：需求 D. 规划：计划

【答案】A。解析：

题干词组的逻辑关系可以表述为：公文是政务采取的一种方式。A项的关系与此相同：电视是广告采取的一种方式。

所以，正确选项是A。

48. 重视：人才

- A. 依法：治国 B. 商品：销售 C. 掌握：知识 D. 作战：军队

【答案】C。解析：

题干词组的逻辑关系可以表述为：动宾结构：重视人才。C项的关系与此相同：动宾结构：掌握知识。

所以，正确选项是C。

49. 读书：治学

- A. 收获：耕种 B. 继承：传播 C. 归纳：总结 D. 战争：战役

【答案】C。解析：

题干词组的逻辑关系可以表述为：读书是一种治学方式。C项的关系与此相同：归纳是一种总结方式。所以，正确选项是C。

50. 山色：水声

- A. 春花：秋月 B. 珠圆：玉润 C. 钟鼓：琴瑟 D. 天寒：地冻

【答案】B。解析：

题干词组的逻辑关系可以表述为：山和水是并列关系，且色和声是山和水的美好属性。B项的关系与此相同：珠和玉是并列关系，且圆和润是珠和玉的美好属性。

所以，正确选项是B。

51. 兼济天下：独善其身

- A. 扶危济困：落井下石 B. 前车之鉴：后顾之忧
C. 出双入对：形单影只 D. 好高骛远：好大喜功

【答案】C。解析：

题干词组的逻辑关系可以表述为：兼济天下和独善其身是反义关系，且均没有贬义。C项的关系与此相同：出双入对和形单影只是反义关系，且均没有贬义。

所以，正确选项是C。

52. 鱼沉雁渺：音信全无

- A. 风声鹤唳：人心惶惶 B. 焚琴煮鹤：附庸风雅
C. 举杯望月：对牛弹琴 D. 势成骑虎：威风凛凛

【答案】A。解析：

题干词组的逻辑关系可以表述为：鱼沉雁渺和音信全无是近义词。A项的关系与此相同：风声鹤唳和人心惶惶是近义词。

所以，正确选项是A。

53. 刻薄不赚钱：忠厚不折本

- A. 骏马不等鞭：响鼓不重锤 B. 慷慨杀身易：从容就死难
C. 枯木难复活：惯贼难悔悟 D. 谦虚使人进步：骄傲使人落后

【答案】D。解析：

题干词组的逻辑关系可以表述为：刻薄和忠厚是反义词，前后两句话也是反义关系。D项的关系与此相同：谦虚和骄傲是反义词，前后两句话也是反义关系。

所以，正确选项是D。

54. 道路：红绿灯：畅通

- A. 教室：教师：秩序 B. 运动员：拼搏：荣誉

C. 游泳池：救生员：健康

D. 国家：法律：稳定

【答案】D。解析：

题干词组的逻辑关系可以表述为：道路有了红绿灯才能保持畅通。D项的关系与此相同：国家有了法律才能保持稳定。所以，正确选项是D。

55. 铁路：火车：乘客

A. 车间：机器：工人

B. 旅馆：房间：宾客

C. 田地：庄稼：农民

D. 海洋：潜艇：士兵

【答案】D。解析：题干词组的逻辑关系可以表述为：火车在铁路上行驶，乘客坐在火车里。D项的关系与此相同：潜艇在海洋里行驶，士兵坐在潜艇里。所以，正确选项是D。

二、常识判断。要求根据常识在四个备选项中选择最符合题干要求的一项。

56. 任人唯贤的“贤”是指（ ）。

A. 思想品德好

B. 工作作风好

C. 德才兼备

D. 文武双全

【答案】C。解析：

任人唯贤的“贤”是指德才兼备。所以，正确选项是C。

57. “阳关大道”原是指通往（ ）的道路。

A. 东海

B. 西域

C. 南国

D. 中原

【答案】B。解析：

“劝君更尽一杯酒，西出阳关无故人。”王维的千古名句让人们对于阳关以外的西域充满了遐想。所谓西出阳关，就是去西域。

所以，正确选项是B。

58. 今年年初，严重影响我国华北华东地区的灰霾天气再次引发人们对PM2.5的关注。以下关于PM2.5的说法错误的一项是（ ）。

A. PM2.5的主要来源，是日常发电、工业生产、汽车燃油等过程中金属燃烧而排放的残留物

B. 与较粗的大气颗粒物相比，PM2.5粒径小，含有大量的有毒、有害物质且在大气中的停留时间长、输送距离远

C. PM2.5的主要对呼吸系统和心血管系统造成伤害，老人、小孩以及心肺疾病患者是PM2.5污染的敏感人群。

D. 空气中不同大小的颗粒物均能降低能见度，不过相对粗颗粒物，PM2.5由于颗粒细小，对空气能见度的影响相对较弱。

【答案】D。解析：

空气能见度与空气中的颗粒物密度有关。尽管PM2.5的直径很小，但是当空气中PM2.5的密度加大时，仍然会严重降低空气能见度。因此，D项的说法是错误的。

所以，正确选项是D。

59. 日常生活中的污染可现象以分为不同的种类。下列污染不属于物理性污染的是（ ）。

A. 遗弃的废旧荧光灯管

B. 夜间刺眼的汽车灯光

C. 歌厅震耳欲聋的音乐

D. 变压器的电磁波

【答案】A。解析：

物理性污染是指由物理因素引起的环境污染，如：放射性辐射、电磁辐射、噪声、光污染等。化学性污染主要是指农用化学物质、食品添加剂、食品包装容器和工业废弃物的污染，汞、镉、铅、氰化物、有机磷及其他有机或无机化合物等所造成的污染。

本题中的“废旧荧光灯管”属于化学污染，不属于物理污染。

所以，正确选项是A。

60. 下列关于日常礼仪说法正确的一项是（ ）。

A. 在宴会中，将筷子横搁就表示自己已饱不需要在进食了。

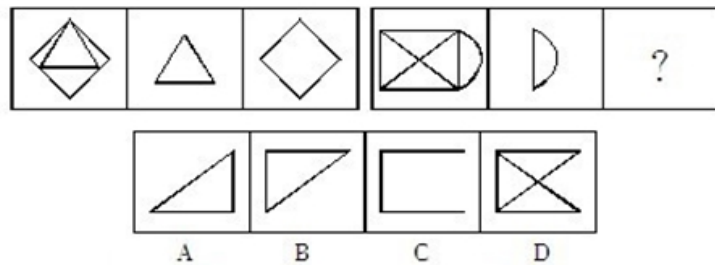
B. 行拱手礼时，双手的叠放次序为右手包在左手之外。

【答案】C。解析：

影响冰雹大小的主要因素是上升气流。所以，正确选项是C。

三、图形推理。每道题给出一套或两套图形，要求认真观察找出图形排列的规律，选出符合规律的一项。

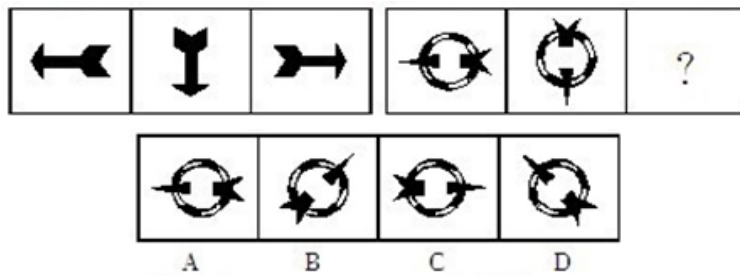
66. 下列选项中最符合所给图形规律的是：



【答案】D。解析：

观察可见，前两个题干图形“叠加去同存异”，可以得到第三个图形。按照这个规律，只有D项符合要求。所以，正确选项是D。

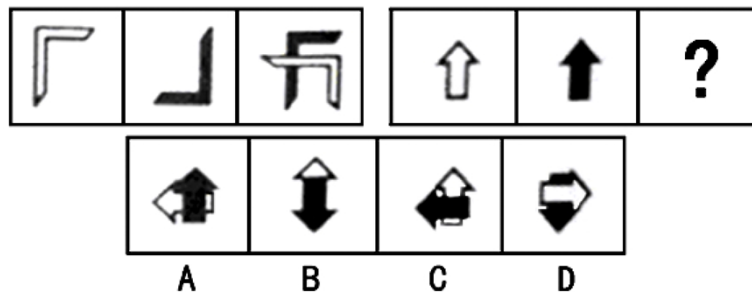
67. 下列选项中最符合所给图形规律的是：



【答案】C。解析：

观察可见，前一个题干图形逆时针旋转 90°，可以得到后一个图形。按照这个规律，只有C项符合要求。所以，正确选项是C。

68. 下列选项中最符合所给图形规律的是：

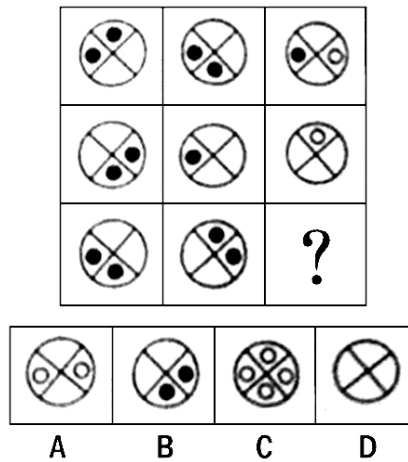


【答案】D。解析：

观察可见，第一个题干图形顺时针旋转 90 度，第二个图形顺时针旋转 180 度，然后两个图形叠加，可以得到第三个图形。按照这个规律，只有D项符合要求。

所以，正确选项是D。

69. 下列选项中最符合所给图形规律的是：




【答案】。解析：

观察可见，每行前两个图形叠加，黑点去异存同，空白+空白=圆圈，可以得到第三个图形。按照这个规律，只有D项符合要求。

所以，正确选项是D。

70. 下列选项中最符合所给图形规律的是：



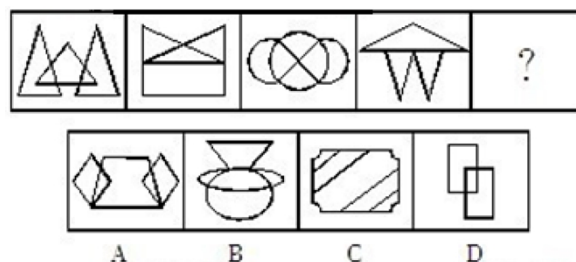
【答案】C。解析：

观察可见，以问号方框为对称轴，位置对称的两个方框中的图形叠加，阴影去同存异，得到的图形都是中间方框问号处的图形。如第一行第一个图形与第三行第三个图形对称；第一行第二个图形与第三行第二个图形对称；第一行第三个图形与第三行第三个图形对称；第二行第一个图形与第二行第三个图形对称。

按照这个规律，只有C项符合要求。

所以，正确选项是C。

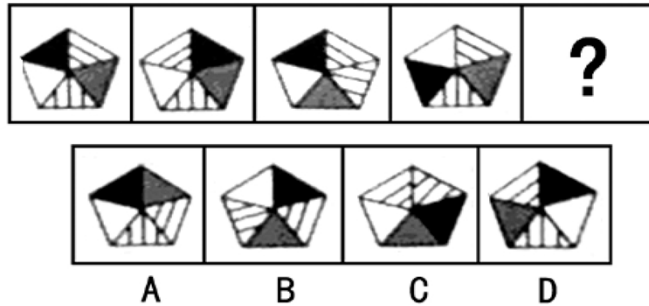
71. 下列选项中最符合所给图形规律的是：



【答案】A。解析：

观察可见，每个题干图形都是左右对称图形，并且都是一笔画。按照这个规律，只有 A 项符合要求。所以，正确选项是 A。

72. 下列选项中最符合所给图形规律的是：

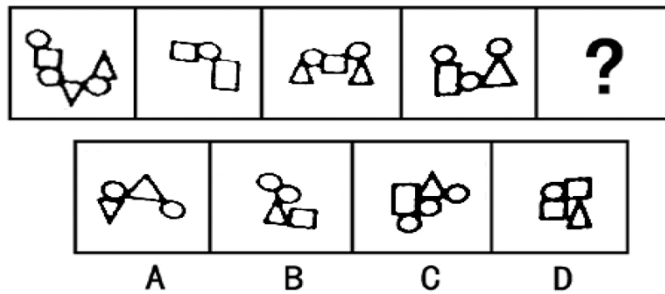


【答案】A。解析：

观察可见，以题干第一个图形基础上，把其中两个相邻部分互换位置，可以得到后面的图形。按照这个规律，只有 A 项符合要求。

所以，正确选项是 A。

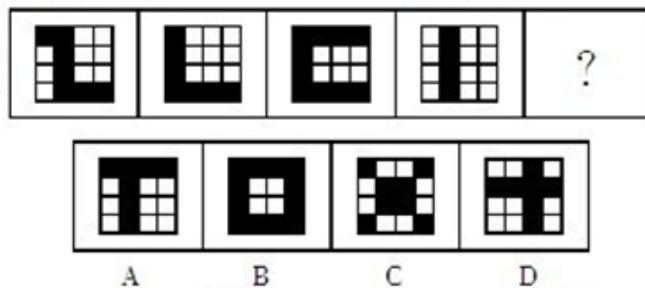
73. 下列选项中最符合所给图形规律的是：



【答案】A。解析：

观察可见，每个题干图形中的直线图形都被圆圈间隔开来，不相接触。按照这个规律，只有 A 项符合要求。所以，正确选项是 A。

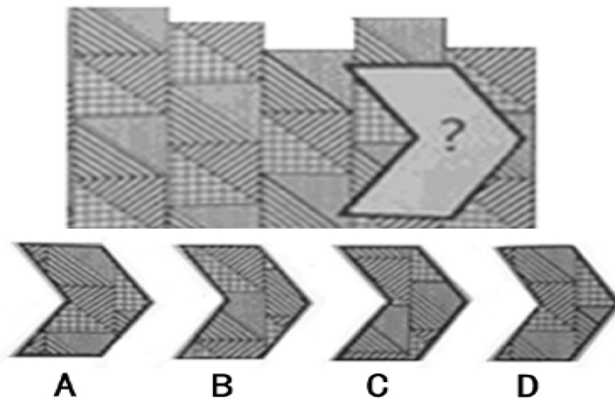
74. 下列选项中最符合所给图形规律的是：



【答案】B。解析：

观察可见，每个题干中的黑色方块连成的线都可以一笔画成。按照这个规律，只有 B 项符合要求。所以，正确选项是 B。

75. 下列选项中最符合所给图形规律的是：



【答案】C。解析：

观察可见，相邻两列的后一列条纹相当于是前一列条纹向上移动所得。对比第四列第一个方格的条纹，即可以确定本题选C。

所以，正确选项是C。

四、演绎推理，共10题。每道题给出一段陈述，这段陈述被假设是正确的，不容置疑的。要求根据这段陈述，选择一个最恰当答案，该答案应与所给的陈述相符合，应不需要任何附加说明即可以从陈述中直接推出。

76. 据国家权威机构研究证实，当前市场上热销的某品牌保健食品并不含有提高人类身体机能、增强个体免疫力的成分。但调查结果表明，不少身体虚弱的人在购买服用了该品牌的保健食品一段时间后，身体素质明显提高。

以下最有助于解释上述矛盾的一项是（ ）。

- A. 保健食品作用的发挥具有一定的时间滞后性
- B. 许多身体健康的人在服用保健食品后体体质也增强了
- C. 购买该品牌保健食品的人大多经济条件较好
- D. 服用保健品的人在生活其他方面也开始注重健康

【答案】D。解析：

本题属于解释型。需要解释的题干中的矛盾现象是：研究证实某品牌保健品并不含有提高人类身体机能、增强个体免疫力的成分，但是不少身体虚弱的人在服用保健食品一段时间后，身体素质明显增高。

D项说“服用保健品的人在生活其他方面也开始注重健康”（隐含：不少身体虚弱的人在服用保健食品一段时间后身体素质明显增高，并非是保健食品的功效，而是另有他因），这就很好地解释了题干中的矛盾。

所以，正确选项是D。

77. 某公司研发了一种空调管理系统，通过对人流量的检测系统自动启动。关闭空调，这个系统的应用，将使得办公场所的空调用电量大大节省。但这个系统推出几年来，购买的单位并不多，销售不理想。

以下最能够合理解释上述现象的是（ ）。

- A. 该空调管理系统受到许多城市家庭用户的欢迎
- B. 该空调管理系统操作复杂，需配备专业人员才能运作
- C. 市场上节能空调占主流，空调能耗较以往已大大降低
- D. 许多单位的职工环保意识强，养成了出门关空调的习惯

【答案】B。解析：

本题属于解释型。需要解释的题干中的矛盾现象是：研发的空调管理系统使空调用电量大大节省，但这个系统推出几年来，销售不理想。

B项说“该空调管理系统操作复杂，需配备专业人员才能运作”（隐含：虽然这个系统省电，但是不好操作，因此不好销售。）这就很好地解释了题干中的矛盾。

所以，正确选项是B。

78. 相比于化工“污染地”、重金属“污染地”，化肥、农药、农膜带来的农地污染并没有那么触目惊心，但却具有量大、面广、隐蔽性强、持续时间长等特点。一些受污染严重的土地，已经不能进行正常的农业生产。农地的“批量污染”治理已经到了刻不容缓的地步。以农膜为例，由于塑料残余物在自然条件下可在土壤中残存数十年甚至上百年而不降解，这些废膜的存在会影响土壤的通透性，阻碍土壤水分的补给和养分转移。根据以上表述，可以得出的结论是（ ）。

- ①化工和重金属的污染往往量不大、面不广、易发现、持续时间不长
- ②农膜残留通过阻碍土壤的水分补给和养分转移对农地产生影响
- ③农膜残留是当前农地“批量污染”中最为突出和严重的
- ④农地污染不能因其隐蔽性强等特点而在治理土地污染中被人们忽视
- ⑤化工和金属对土地的污染比农地污染更为严重

A. ①② B. ①③④ C. ②④ D. ②③⑤

【答案】C。解析：

本题属于推断文意型。题干说农地污染具有量大、面广、隐蔽性强、持续时间长的特点，但是并没有涉及化工和重金属的污染是否有此特点，因此结论①错误，排除。

由题干最后一句“废膜的存在会影响土壤的通透性，阻碍土壤水分的补给和养分转移”可知，结论②正确。

题干只是以农膜为例，无法知道农膜残留是否是最为突出和严重的，因此结论③错误，排除。

题干说农地的“批量污染”治理已经到了刻不容缓的地步，由此可知结论④正确。

题干没有对比化工、重金属对土地的污染和农地污染的程度，因此结论⑤错误，排除。

只有结论②④正确，所以，正确选项是C。

79. 在我国的黄海和东海的海底地层中，蕴藏着丰富的石油资源，这些石油就是远古时大量陆地植物的遗骸生成的。这表明，现在黄海和东海的大陆架在远古时代是一片生长着茂密植物的大平原。

以下能够支持上述推论的一项是（ ）。

- A. 大陆架会随着地球地壳的移动而持续着缓慢但永不停息的变化
- B. 川流不息的江河就像传送带，把陆地上的有机物质源源不断地带到大海中
- C. 中东的海湾地区大多是广袤的沙漠，地下蕴藏着丰富的石油资源
- D. 一般来讲，陆地上相近纬度的山区比平原地区的植被资源更为丰富

【答案】A。解析：

本题属于搭桥型。题干论证的结论是：现在黄海和东海的大陆架在远古时代是一片生长着茂密植物的大平原。现有的论据是：在我国的黄海和东海的海底地层中，蕴藏着丰富的石油资源，这些石油就是远古时大量陆地植物的遗骸生成的。

仅仅因为“石油就是远古时大量陆地植物的遗骸生成的”，就能够得出“现在黄海和东海的大陆架在远古时代是一片生长着茂密植物的大平原”这个结论吗？显然，二者之间是缺乏必然联系的。考生的任务就是在它们之间“搭桥”。

根据“加入否定法”可知，选项A是题干推出结论不可缺少的“桥”。否则，如果大陆架不是持续变化的，那么，“茂密植物”就不会生成“石油”，题干的论证也就不能成立了。

所以，正确选项是A。

80. 中国社会的未来发展，离不开包括儒学在内的传统文化的滋养和作用，这一点已被越来越多的人所认同和接受。因此，大力弘扬中国传统文化的优良传统应当成为当前我国文化建设的一项重要内容。

以下最能够支持上述主张的一项是（ ）。

- A. 中国传统文化中的许多优良传统面临将要失传的危机
- B. 许多地方政府加大了对本地各类文化遗产的保护和宣传力度
- C. 经过历史积淀的传统文化对一个民族具有无可替代的积极作用
- D. 传统文化对经济社会发展的积极作用在越来越多的地方显现出来

【答案】D。解析：

题干由“中国社会的未来发展离不开传统文化的滋养和作用”得出结论“大力弘扬中国传统文化的优良传统应当成为当前我国文化建设的一项重要内容”。

A、B两项与题干结论无关；C项只是说明传统文化对一个民族具有积极作用，但是是否会促进社会发展不得而知，故不能加强结论；D项说明传统文化对经济社会发展有积极作用（隐含：传统文化促进社会发展），支持了题干的论证。

所以，正确选项是D。

81. “没有经济的快速发展，就不会有社会事业的进步。现在经济发展速度很快，所以社会事业的建设也会取得显著的成绩。”

与上述文字推理形式相同的是（ ）。

- A. 社会主义民主和法制相辅相成，缺一不可，民主是法制的前提，法制是民主的体现。现在法制体系不断健全，因此民主得以保障
- B. 效益与公平是矛盾统一体，没有公平很难取得更大的效益。某企业的效益提高了，因此，该企业也实现了分配公平
- C. 社会化程度越高，社会分工越细。现在社会化程度提高了，因此现在的社会分工也更细了
- D. 清正廉洁是对领导干部的基本要求。一名作风正派、严于律己的领导干部就是合格的领导干部

【答案】D。解析：

题干的推理形式是：P是Q的必要条件，P，所以Q。

A项的推理形式为：P（民主）是Q（法制）的必要条件，非Q，所以非P。与题干不同，排除；

B项的推理形式为：P（公平）是Q（效益提高）的必要条件，Q，所以P。与题干不同，排除；

C项的推理形式为：P（社会化程度高）是Q（社会分工细）的充分条件，P，所以Q。与题干不同，排除；

D项的推理形式为：P（清正廉洁）是Q（合格的领导干部）的必要条件，P，所以Q。与题干推理形式相同。

所以，正确选项是D。

82. 由于某市路边的报刊亭大多属于违章建筑，影响城市景观，并且普遍存在超范围经营等问题，当地政府考虑拆除路边报刊亭，市民可以继续到当地超市、书店或专门的报刊销售点购买报刊、杂志。

以下有助于推动当地政府作出拆除路边报刊亭决定的信息不包括：

- A. 不少路边的报刊亭存在贩卖非法出版物的问题
- B. 当地超市、书店和专门的报刊销售点相当普及，随处可见
- C. 路边报刊亭的销售收入主要来源于贩卖烟酒零食而非报刊
- D. 数据显示，当地市民购买报刊、杂志主要还是通过邮局订购

【答案】D。解析：

阅读题干得知，政府拆除路边报刊亭的理由有二：（1）路边报刊亭普遍存在超范围经营；（2）市民可以到当地超市、书店或专门的报刊销售点购买报刊。

A项说“不少路边的报刊亭贩卖非法出版物”，加强了理由（1），排除；

B项说“当地超市、书店和专门的报刊销售点相当普及”，加强了理由（2），排除；

C项说“路边报刊亭的销售收入主要来源于贩卖烟酒零食而非报刊”，加强了理由（1），排除；

D项的“当地市民购买报刊、杂志主要还是通过邮局订购”并不能成为政府拆除路边报刊亭的原因。

所以，正确选项是D。

83. 为了让居者有其屋，某市筹措资金推进保障房建设。明年该市保障房建设将进入建成完工的高潮。目前，保障房申请资格如何界定引起市民的普遍关注。有人认为，保障房是政府筹资建设的，因此只能让本市居民购买，对于非本市户籍的人口，不应具有保障房申请资格。

以下最能够质疑这一观点的是（ ）。

- A. 保障房建设的资金来源除了政府财政外，还有大量商业性资本

- B. 该市非户籍常住人口为政府财政上缴了大量税费
- C. 该市户籍人口的收入水平普遍高于非户籍人口
- D. 该市的常住人口有一半以上为非户籍人口

【答案】B。解析：

本题属于削弱型。题干陈述的观点是：保障房只能让本市居民购买，对于非本市户籍的人口，不应具有保障房申请资格。其前提是：保障房是政府筹资建设的。

怎样才能反驳这个观点呢？只要指出“非本市户籍的人口也应具有保障房申请资格”就可以了。

B项说“该市非户籍常住人口为政府财政上缴了大量税费”，既然该市非户籍常住人口为政府财政上缴了大量税费，那么非本市户籍的人口当然也应具有保障房申请资格。这就构成了对题干结论的强烈反驳。

所以，正确选项是B。

84. 据统计，自1901年起共有786位男性和44位女性科学家获得诺贝尔奖。这一男女比例为18:1。其中在经济学和物理学领域，几乎没有女性科学家获奖。据此，诺贝尔奖存在着严重的性别歧视。

以下最能削弱上述结论的一项是（ ）。

- A. 能否获得诺贝尔奖不是衡量工作潜能的唯一标准
- B. 女性从事科研工作的人数远远低于男性
- C. 诺贝尔评审委员会中女性评委的人数不断提高
- D. 其他的国际科学大奖也存在此类获奖者男女失调的现象

【答案】B。解析：

本题属于削弱型。题干陈述的观点是：诺贝尔奖存在着严重的性别歧视。其前提是：几乎没有女性科学家获奖。

怎样才能反驳这个观点呢？只要指出“几乎没有女性科学家获奖”并不是因为“性别歧视”就可以了。

B项说“女性从事科研工作的人数远远低于男性”，既然女性从事科研工作的人数远远低于男性，那么女性获得诺贝尔奖少并不是因为性别歧视，而是另有他因。这就构成了对题干结论的强烈反驳。

所以，正确选项是B。

85. 小周、小吴、小郑三人中，一个是工人，一个是农民，一个是知识分子。已知：小郑的年龄比知识分子大；小周的年龄和农民不同；农民的年龄比小吴小。

根据以上情况，判断正确的是（ ）。

- A. 小周是工人、小吴是知识分子、小郑是农民
- B. 小周是知识分子、小吴是农民、小郑是工人
- C. 小周是工人、小吴是农民、小郑是知识分子
- D. 小周是知识分子、小吴是工人、小郑是农民

【答案】D。解析：

由“小周的年龄和农民不同”可知，小周不是农民；由“农民的年龄比小吴小”可知，小吴不是农民。因此，小郑是农民。

由“农民的年龄比小吴小”，“小郑的年龄比知识分子大”可知，小吴不是知识分子，是工人。因此，小周是知识分子。

即小周是知识分子、小吴是工人、小郑是农民。

所以，正确选项是D。

第四部分 资料分析

（共15题，参考时限15分钟）

针对每段资料有5个问题，请根据资料所提供的信息进行分析、比较、计算，从四个备选答案中选出符合题意的答案。

一、根据下列资料，回答86~90题。

城市综合竞争力十年间（2002年-2011年）的区域变化 （单位：个）

城市排名（档次）	年份	东南	环渤海	东北	中部	西南	西北
前 50 名	2002	28	7	5	4	4	2
	2011	26	8	5	6	2	3
第 51-100 名	2002	17	11	2	10	6	4
	2011	19	10	3	7	6	5
第 101-150 名	2002	12	9	5	16	4	4
	2011	10	6	6	17	7	4
第 151-200 名	2002	4	2	7	27	7	3
	2011	5	4	10	18	8	5
前 200 名总计	2002	61	29	19	57	21	13
	2011	60	28	24	48	23	17

城市综合竞争力十年间（2002年-2011年）不同规模城市数量变化 （单位：个）

城市排名（档次）	年份	特大型城市	大城市	中等城市	小城市
前 50 名	2002	37	10	3	0
	2011	37	11	1	1
第 51-100 名	2002	13	22	14	1
	2011	14	19	17	0
第 101-150 名	2002	6	20	21	3
	2011	6	24	17	3
第 151-200 名	2002	3	19	24	4
	2011	2	17	25	6
前 200 名总计	2002	59	71	62	8
	2011	59	71	60	10

86. 与 2002 年相比，2011 年西北地区进入城市综合竞争力前 100 名的城市增加了（ ）个。
 A. 1 B. 2 C. 3 D. 4

【答案】B。解析：

观察第一个表格中西北地区的数据，前 100 名的城市 2011 年有 $3+5=8$ （个），2002 年有 $2+4=6$ （个）。因此与 2002 年相比，2011 年增加了 2 个城市。

所以，正确选项是 B。

87. 与 2002 年相比，2011 年（ ）地区的城市综合竞争力前 200 名的城市数量下降最为显著。
 A. 环渤海 B. 东南 C. 中部 D. 西南

【答案】C。解析：

观察第一个表格中最后 2 行的数据可知，中部地区相差最大，为 $57-48=9$ （个），城市综合竞争力前 200 名的城市下降最为显著。

所以，正确选项是 C。

88. 2011 年，城市综合竞争力前 50 名中的特大型城市，至少有（ ）个位于东南地区。
 A. 11 B. 13 C. 18 D. 无法判断

【答案】B。解析：

第二个表格中，2011 年综合竞争力排在前 50 名的特大型城市有 37 个。若其他地区位列前 50 名的城市均为特大型城市，则位于东南地区的特大型城市最少。因此，东南地区的特大型城市至少有 $37-(8+5+6+2+3)=13$ （个）。

所以，正确选项是 B。

89. 十年间，与其他规模的城市相比，（ ）在各个排名档次内的城市数量变化幅度最小。
 A. 特大型城市 B. 大城市 C. 中等城市 D. 小城市

【答案】A。解析：

观察第二个表格，四个排名档次中，特大型城市的数量变化幅度最小，分别为 0、1、0、1。所以，正确选项是 A。

90. 根据资料, 以下有关 2011 年城市综合竞争力排名的描述无法判断的是 ()。

- A. 排名第 101-200 名的城市主要为大城市和中等城市
- B. 排名第 101-200 名的城市有 1/3 以上集中在中部地区
- C. 与十年前相比, 西南和东南地区均有城市跌出城市综合竞争力前 50 名
- D. 排名前 200 名的城市中, 近 1/4 数量的城市属于中部地区的大城市和中等城市

【答案】D。解析:

A 项, 观察第二个表格, 在第 101—200 名的数据中, 2011 年四种规模城市的数量分别为特大型城市 $6+2=8$ 个, 大城市 $24+17=41$ 个, 中等城市 $17+25=42$ 个, 小城市 $3+6=9$ 个。其中主要是大城市和中等城市, 正确, 排除;

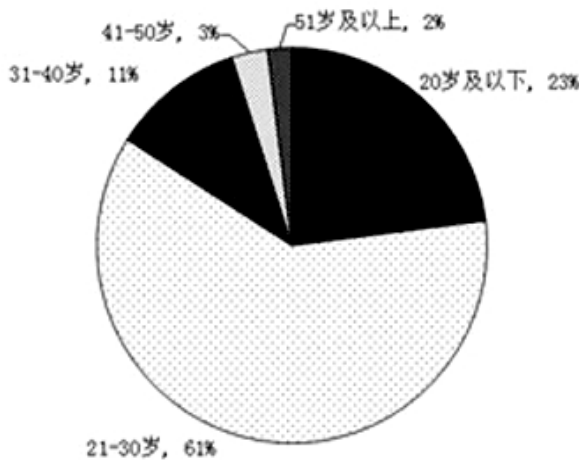
B 项, 根据第二个表格, 2011 年排名第 101—200 名的城市共有 $8+41+42+9=100$ 个。第一个表格中, 中部地区排名第 101—200 名的城市数量为 $17+18=35$ 个, 比重为 35%, 大于 1/3。正确, 排除;

C 项, 比较第一个表格中西南和东南地区的前 50 名城市数量, 2011 年均比 2002 年减少 2 个, 说明有城市跌出综合竞争力的前 50 名。正确, 排除;

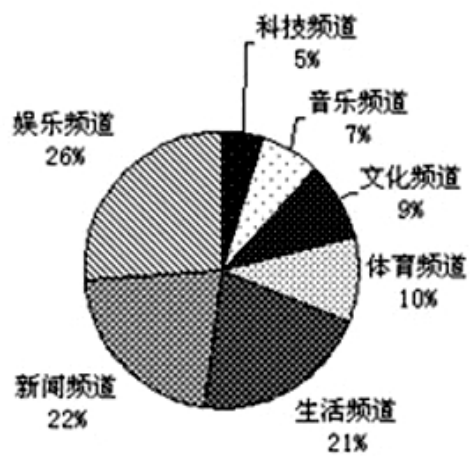
D 项, 两个表格都没有说明中部地区的大城市和中等城市的数量, 因此无法判断其在前 200 名中所占的比例。综上可知, 正确选项是 D。

二、根据下列资料, 回答 91—95 题。

为了解网站对不同年龄段用户群体的吸引力, 某综合网站随机调查了 3000 名该网站的用户, 主要调查内容为用户在该网站首选阅读的频道 (下简称首选频道)。



调查样本年龄构成情况图



网站各首选频道的用户数比例图

各个首选频道的用户群体中不同年龄段人数的比例 (单位: %)

	20岁及以下	21-30岁	31-40岁	41-50岁	50岁及以上
娱乐频道	25.4	63.6	8.3	2.2	0.5
新闻频道	18.3	62.3	14.7	2.6	2.1
生活频道	22.8	65.2	8.2	2.2	1.6
体育频道	9.9	63.7	18.7	2.4	3.3
文化频道	32.3	49.2	10.8	3.1	4.6
音乐频道	35.9	57.5	4.7	1.6	0.3
科技频道	27.3	45.5	15.9	4.5	6.8

注: 假设本次调查能够代表该网站用户的真实阅读情况。

91. 如果该网站日均登陆流量为 6 万人, 则平均每日首选生活频道的用户约为 () 人 (不考虑同一用户反复登陆该网站的情况)。

- A. 331 B. 1260 C. 3310 D. 12600

【答案】D。解析:

每日首选生活频道的用户占比为 21%, 则所求为: $60000 \times 21\% = 12600$ (人)。所以, 正确选项是 D。

92. 本次调查中, 首选频道为体育频道的 51 岁及以上用户共约有 () 名。

- A. 10 B. 18 C. 47 D. 99

【答案】A。解析:

首选体育频道的 51 岁及以上的用户有: $3000 \times 3.3\% \times 10\% \approx 10$ (人)。所以, 正确选项是 A。

93. 与该网站 21—30 岁的用户相比, 该网站 31 岁及以上用户普遍对 () 更感兴趣。

- A. 文化频道 B. 音乐频道 C. 新闻频道 D. 科技频道

【答案】C。解析:

根据表格材料可知, 该网站 21—30 岁的用户, 科技频道占比最低, 为 45.5%, 而 31 岁及以上用户占比最高, 为 $15.9\% + 4.5\% + 6.8\% = 27.2\%$ 。因此, 与 21—30 岁的用户相比, 该网站 31 岁及以上用户普遍对科技频道更感兴趣。所以, 正确选项是 C。

94. 如果有企业在该网站上播放广告, 企业产品定位 31—40 岁的人群, 那么它播放广告的频道应该首选 ()。

- A. 音乐频道 B. 生活频道 C. 新闻频道 D. 体育频道

【答案】C。解析:

播放广告肯定首选查看网页人数最多的频道。31—40 岁的人群, 四个选项中新闻频道人数最多, 为 $3000 \times 22\% \times 14.7\% \approx 90$ (人), 其他均低于 90 人。

所以, 正确选项是 C。

95. 根据上述资料, 下列说法正确的是 ()。

- A. 该网站科技频道对 31 岁以上用户的吸引力远大于该频道对 20 岁及以下用户的吸引力
B. 20 岁及以下用户已经成为该网站继 21—30 岁用户之后的第二大用户群
C. 在该网站所有频道中, 41—50 岁用户数量均大于 51 岁及以上用户数量
D. 与其他频道相比, 该网站的文化频道对 21—30 岁用户的吸引力最低

【答案】B。解析:

A 项, 该网站科技频道 31 岁及以上用户占比为 $15.9\% + 4.5\% + 6.8\% = 27.2\%$, 20 岁及以下的为 27.3%。不是远大于, 而是略小于。因此 A 项错误, 排除;

B 项, 该网站用户中, 21—30 岁占比最大为 61%, 其次是 20 岁及以下的为 23%。因此 B 项正确。

确定了 B 想法正确, 直接排除 C、D 两项。

所以, 正确选项是 B

三、根据下列资料, 回答 96—100 题。

2012 年, 某省加大扶持贫困残疾人力度, 财政投入扶贫资金 3816.3 万元, 比上年大幅增长 18%, 扶持贫困残疾人员 56561 人, 脱贫 35110 人, 享受优惠政策的贫困残疾人 117727 人, 比上年增加 3%。

截止 2012 年底, 城镇残疾人员安排就业人数共 227192 人, 其中, 集中就业 25135 人, 按比例就业合计 91384 人, 个体及其他形式就业 110673 人。农村残疾人实际就业 630900 人, 其中, 从事农业生产活动 515278 人, 从事其他形式就业 115622 人。

2012 年城镇残疾职工参加社会保险 133546 人, 城镇残疾居民参加社会保险 235584 人。2012 年有 14 个区县确定为中央新农保的试点县, 试点地区参保新农保 22717 人, 参保率为 34.5%; 其中重度残疾人参占比 19.9%。

城镇纳入各类生活保障的残疾人共计 147438 人。其中，已经纳入最低生活保障范围 87922 人；其中供养 3758 人，临时救济 22423 人，定期补助 33335 人，农村纳入各类生活保障的残疾人共计 339075 人。其中，已纳入最低生活保障的残疾人共有 221132 人，五保供养 18146 人，临时救济 32719 人，定期补助 67078 人。

截止 2012 年底，省、市、县、乡级残联实有人员 5591 人，比上年增加 11.8%，全省 21 个地级市中的 3 个地级市与 121 个县（市、区）中的 61 个县（市、区）配备了残疾人领导干部，全省 1589 个乡镇街道中已建残联 1547 个；全省 19435 个村（社区）中已建残协 10537 个。

96. 2012 年，该市城镇残疾人就业形式主要为（ ）。
- A. 集中就业 B. 按比例就业 C. 从事农业生产活动 D. 个体及其他形式就业

【答案】C。解析：

根据材料第二段，可知城镇残疾人就业形式中，个体及其他形式就业人数最多，占比接近 50%。

所以，正确选项是 C。

97. 该省每年投入的残疾人财政扶贫资金如果可以均分到每位享受优惠政策的贫困残疾人身上，则 2012 年享受优惠政策的贫困残疾人的人均扶贫金额要比 2011 年增长约（ ）元。
- A. 30 B. 40 C. 50 D. 60

【答案】B。解析：

根据材料第一段，2012 年享受优惠政策的贫困残疾人的人均扶贫金额为： $3816.3 \div 11.77 \approx 320$ （元）；2011 年享受优惠政策的贫困残疾人的人均扶贫金额为： $[3816.3 \div (1+18\%)] \div [11.77 \div (1+3\%)] \approx 280$ （元）。 $320-280=40$ 。

所以，正确选项是 B。

98. 2011 年全省、市、县、乡级残联实有人员（ ）人。
- A. 5001 B. 4931 C. 4776 D. 3758

【答案】A。解析：

根据材料最后一段，所求为： $5591 \div (1+11.8\%) \approx 5000$ 人。与 A 项数据最为接近。

所以，正确选项是 A。

99. 以下有关纳入各类生活保障范围的城镇残疾人和农村残疾人人数的说法，错误的是（ ）。
- A. 无论在城镇还是在农村，领取定期补助的残疾人数量都高于领取临时救济的残疾人数量
- B. 无论在城镇还是农村，最低生活保障都是当地残疾人生活保障的主要形式
- C. 在所有被纳入生活保障范围的城镇残疾人中，集中供养者的比例高于享受生活保障的农村残疾人中五保供养者得比例
- D. 在所有被纳入生活保障范围的城镇残疾人中，享受定期补助的人数比例高于农村

【答案】C。解析：

A 项，根据材料第四段，可知 A 正确，排除；

B 项，根据材料第四段，可知城镇和农村纳入最低生活保障的残疾人占纳入各类生活保障的残疾人的比重都超过 50%，B 项正确，排除；

C 项，根据材料第四段，纳入生活保障范围的城镇残疾人中，集中供养者的比例为： $3758 \div 147438 < 4 \div 100 = 4\%$ ；享受生活保障的农村残疾人中，五保供养者的比例为 $18146 \div 339075 > 18 \div 400 = 4.5\%$ 。可知集中供养者的比例不是高于，而是低于享受生活保障的农村残疾人中五保供养者得比例。C 项是错误的。

直接排除 D 项。所以，正确选项是 C。

100. 根据上述资料，以下说法正确的是（ ）。
- A. 全省乡镇各街道建残联的比例要比农村（社区）的建残联的比例低
- B. 全省县（市、区）配备残疾人领导干部的情况要比地级市普遍
- C. 全省区县接近 2 成的重度残疾人参加了新农保
- D. 全省城镇残疾人被纳入最低生活保障范围的比例低于农村

【答案】A。解析：

A项，根据材料最后一段，地市级配备残疾人领导干部占比为： $5 \div 21 < 50\%$ ；县（市、区）配备残疾人领导干部占比为： $61 \div 121 > 50\%$ 。由此可知A项正确，可直接排除B、C、D三项。

所以，正确选项是A。

全部测验到此结束！

请扫描QQ二维码，备注“公务员考生”加QQ
好友，获取曹长远老师精解历年公务员考试申论、
行测、面试真题完整解析资料。

精品资料，尽在掌握！



扫描二维码，加QQ好友