

2010年4月25日内蒙古公务员考试

《行政职业能力测验》真题答案解析

说 明

一、此项测验分为五个部分，共120题，总时限120分钟，满分100分。各部分不单独计时，但都给出参考时限，供答题时合理分配时间。

二、此项测验科目代码为“1”。请按照要求在答题卡上填写好自己的姓名，涂写好准考证号、科目代码。

三、必须在答题卡上答题，在题本上答题，一律无效。

严禁折叠答题卡！

第一部分 数量关系

(共15题，参考时限15分钟)

一、数字推理。每道题给你一个数列，但其中缺少一项，要求你仔细观察数列的排列规律，然后从四个供选择的选项中选择你认为最合理的一项，来填补空缺项，使之符合原数列的排列规律。

1. 0, 0, 6, 24, 60, 120, ()

- A. 180
B. 196
C. 210
D. 216

【答案】C。解析：

$$0=1^3-1, 6=2^3-2, 24=3^3-3, 60=4^3-4, 120=5^3-5, (?)=6^3-6$$

解得：? $=210$

所以，正确选项是C。

2. 2, 3, 7, 45, 2017, ()

- A. 4068271
B. 4068273
C. 4068275
D. 4068277

【答案】B。解析：

$$3=2^2-1, 7=3^2-2, 45=7^2-4, 2017=45^2-8, (?)=2017^2-16$$

估算可知，?的末尾必定是3，只有B项符合要求。

所以，正确选项是B。

3. 2, 2, 3, 4, 9, 32, ()

- A. 129
B. 215
C. 257
D. 283

【答案】D。解析：

$$3=2\times 2-1, 4=2\times 3-2, 9=3\times 4-3, 32=4\times 9-4, (?)=9\times 32-5$$

解得：? $=283$

所以，正确选项是D。

4. 0, 4, 16, 48, 128, ()

- A. 280
B. 320

C. 350

D. 420

【答案】B。解析：

$0=2^1 \times 0$, $4=2^2 \times 1$, $16=2^3 \times 2$, $48=2^4 \times 3$, $128=2^5 \times 4$, $(?) = 2^6 \times 5$

解得： $? = 320$ 。

所以，正确选项是 B。

5. 0.5, 1, 2, 5, 17, 107, ()

A. 1947

B. 1945

C. 1943

D. 1941

【答案】C。解析：

$2=0.5 \times 1 + 0.5 + 1$, $5=1 \times 2 + 1 + 2$, $17=2 \times 5 + 2 + 5$, $107=5 \times 17 + 5 + 17$, $(?) = 17 \times 107 + 17 + 107$

解得： $? = 1943$ 。

所以，正确选项是 C。

二、数学运算。在这部分试题中，每道试题呈现一段表述数字关系的文字，要求你迅速、准确地计算出答案。你可以在草稿纸上运算。

6. 一个正三角形和一个正六边形周长相等，则正六边形面积为正三角形的：

A. $\sqrt{2}$ 倍

B. 1.5 倍

C. $\sqrt{3}$ 倍

D. 2 倍

【答案】B。解析：

正六边形可分解成 6 个全等的小等边三角形，正三角形可以分成 4 个全等的小正三角形，其边长等于正六边形的边长。

则正六边形的面积 \div 正三角形的面积 $= 6 \div 4 = 1.5$

所以，正确选项是 B。

7. n 为 100 以内的自然数，那么能令 $2^n - 1$ 被 7 整除的 n 有多少个？

A. 32

B. 33

C. 34

D. 35

【答案】C。解析：

已知 $(8-1)$ 能被 7 整除， $8=2^3$ ，由此可知，当 n 为 3 的倍数时， $2^n - 1$ 可以被 7 整除。

这样，题目就转化成了：100 以内 3 的倍数有多少个。

100 以内 3 的倍数共有 33 个。

另外，由于 0 也是 100 以内的自然数，因此不能忽视 $n=0$ 的情况。

$2^0 - 1 = 0$ ，而 0 是可以被 7 整除的。

这样， $33 + 1 = 34$ ，即共有 34 个。

所以，正确选项是 C。

8. 甲、乙两个乡村阅览室，甲阅览室科技类书籍数量的 $\frac{1}{5}$ 相当于乙阅览室该类书籍的 $\frac{1}{4}$ ，甲阅览室文化类书籍数量的 $\frac{2}{3}$ 相当于乙阅览室该类书籍的 $\frac{1}{6}$ ，甲阅览室科技类和文化类书籍的总量比乙阅览室两类书籍的总量多 1 000 本，甲阅览室科技类书籍和文化类书籍的比例为 20 : 1，问甲阅览室有多少本科技类书籍？

则：A = (17 + 25 - 28) ÷ 2 = 7, B = 10, C = 18

D + E = 45, C + E = 42, C + D = 39

则：D = 21, E = 24。

其中 C、E 能被 6 整除。

所以，正确选项是 C。

15. 一列队伍沿直线匀速前进，某时刻一传令兵从队尾出发，匀速向队首前进传送命令，他到达队首后马上原速返回，当他返回队尾时，队伍行进的距离正好与整列队伍的长度相等。问传令兵从出发到最后到达队尾行走的整个路程是队伍长度的多少倍？

A. 1.5

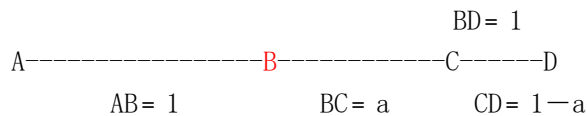
B. 2

C. $1 + \sqrt{2}$

D. $1 + \sqrt{3}$

【答案】C。解析：

(解法 1)



假设队伍长 AB=1，当第一次传令兵追上队首的时候，队伍走了 a，那么传令兵则走了 1+a。根据“路程比=速度比”可知：

传令兵所走路程：队伍所走路程 = 1+a : a①

第二次，当传令兵从 C 点返回到 B 点时，队伍走了 CD 段，而此时队伍行进的距离正好与整列队伍的长度相等，因此队伍走了 1-a，传令兵走了 a。根据“路程比=速度比”可知：

传令兵所走路程：队伍所走路程 = a : 1-a②

根据①②解得：a = $\sqrt{2}/2$ 。

则传令兵从出发到最后到达队尾行走的整个路程是队伍长度的倍数为：

$$(1+a+a) \div 1$$

$$= (1 + \sqrt{2}/2 + \sqrt{2}/2) \div 1$$

$$= 1 + \sqrt{2} \text{ 倍。}$$

所以，正确选项是 C。

(解法 2)

设队伍长度为 l ，队伍行走的速度为 v_d ，传令兵的速度为 v_r ，则传令兵从队尾到队头的时间为 $\frac{l}{v_r - v_d}$ ，

从队首再到队尾的时间 $\frac{l}{v_r + v_d}$ ， $\frac{v_r}{v_d}$ 为所求。根据题意得： $\left(\frac{l}{v_r - v_d} + \frac{l}{v_r + v_d}\right)v_d = l$ 。解得， $\frac{v_r}{v_d} = 1 + \sqrt{2}$ 。

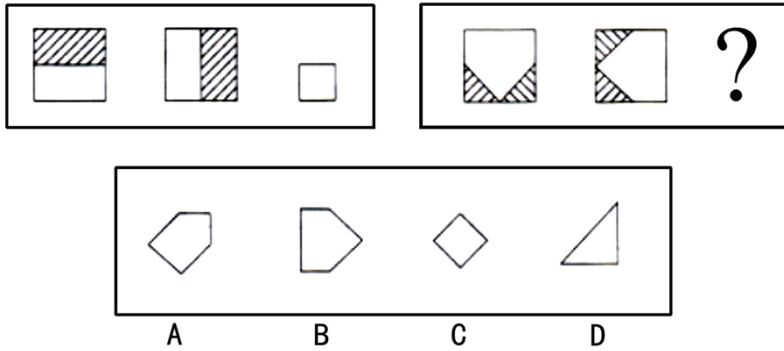
所以，正确选项是 C。

第二部分 判断推理

(共 35 题，参考时限 40 分钟)

一、图形推理。从所给的四个选项中，选择最合适的一个填入问号处，使之呈现一定的规律性。

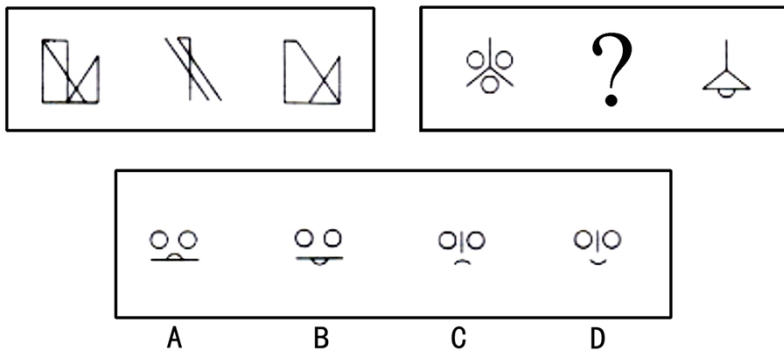
16. 从所给的四个选项中，选择最合适的一个填入问号处，使之呈现一定的规律性：



【答案】A。解析：

前两个图像叠加“去异存同”，可以得到第三个图形。只有 A 项符合要求。所以，正确选项是 A。

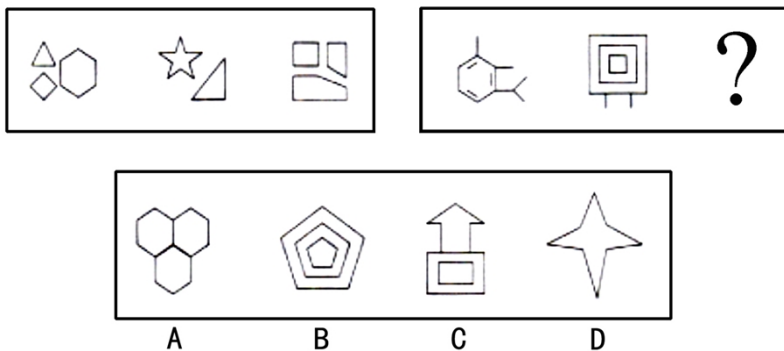
17. 从所给的四个选项中，选择最合适的一个填入问号处，使之呈现一定的规律性：



【答案】A。解析：

第一、三图形叠加“去同存异”，可以得到第二个图形。只有 A 项符合要求。所以，正确选项是 A。

18. 从所给的四个选项中，选择最合适的一个填入问号处，使之呈现一定的规律性：

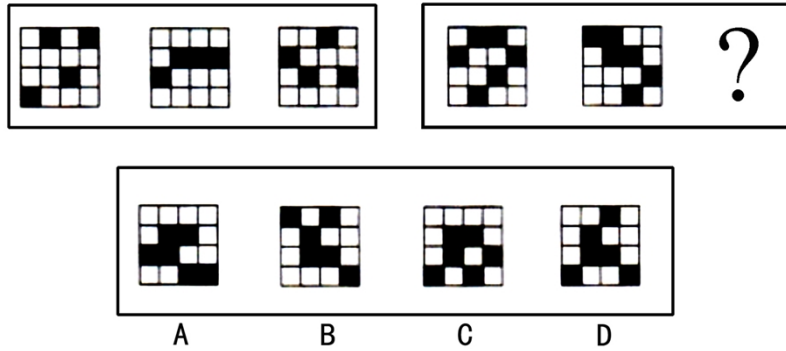


【答案】C。解析：

每个题干图形都由 13 条线段组成。问题框中前两个图形都由 14 条线段组成，据此推断下一个图形也应该由 14 条线段组成。只有 C 项符合要求。

所以，正确选项是 C。

19. 从所给的四个选项中，选择最合适的一个填入问号处，使之呈现一定的规律性：



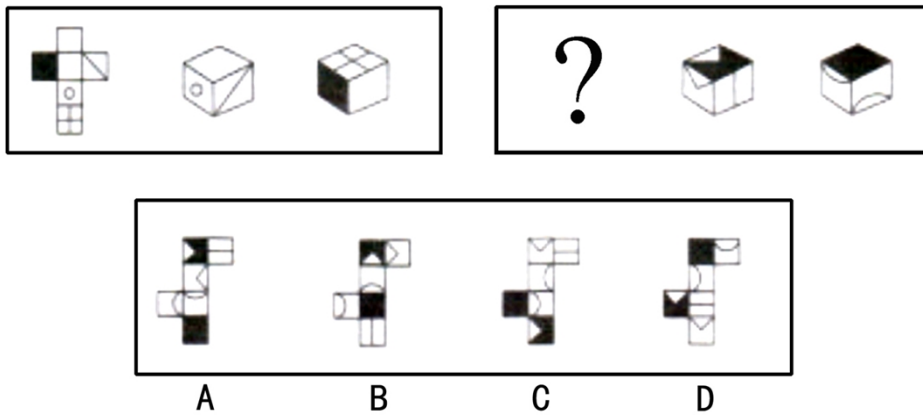
【答案】D。解析：

题干图形中，第一列、第三列的黑块每次向上移动一格，触顶后返回底部；第二列、第四行的黑块每次向下移动一格。

问题框图形中，第一列图形的黑块每次向上移动一格，触顶后返到底部；第二列、第三列、第四列的黑块每次向下移动一格，触底后返到顶部。只有D项符合要求。

所以，正确选项是D。

20. 从所给的四个选项中，选择最合适的一个填入问号处，使之呈现一定的规律性：



【答案】B。解析：

本题主要考查两个立体面之间的相对关系和相邻关系。

所以，正确选项是B。

二、定义判断。每道题先给出一个定义，然后列出四种情况，要求你严格依据定义，从中选出一个最符合或最不符合该定义的答案。注意：假设这个定义是正确的，不容置疑的。

21. 第一次刺激能缓解第二次的小刺激，这种规律称为“贝勃规律”。它表明当人经历强烈 的刺激后，之后施与的刺激对他来说会变得微不足道。

根据上述定义，下列能用贝勃规律进行解释的是：

- A. 当人们从一个明亮的地方进入一个光线很差的地方时，一开始会看不清任何物体，但过了一会儿后能很快适应黑暗
- B. 得知公司将进行第三次裁员时，小王没有前两次时那么担心，能够比较平静地对待了
- C. 甲公司向乙公司出售整套设备，开始时报价很优惠，谈判即将结束时，却提出加收安装服务费，乙公司认为不可以接受

D. 小李刚开始工作时兢兢业业，熟悉环境后慢慢松懈下来，但周围人仍觉得他很敬业

【答案】B。解析：

本题是“属于型”。要求从四个备选项中找出能用“贝勃规律”进行解释的一个选项。

理解题干定义，其中所说第一、第二次刺激，应该是相同的刺激，并且第一次的感觉最为强烈。

选项A、C、D均不符合两次以上的相同刺激，排除。

选项B说明小王经历前两次裁员的担心以后，得知公司将进行第三次裁员时，反应已经比前两次较弱，能够比较平静地对待了，能用贝勃规律进行解释。

所以，正确选项是B。

22. 外包是一种战略管理模式，是指企业为维持核心竞争能力，将非核心业务委托给外部的专业公司，以降低运营成本、提高顾客满意度。离岸外包是外包的一种形式，是指企业将某项业务委托给海外的某个服务提供商或者公司在海外的子公司。

根据上述定义，下列不属于外包的是：

- A. 某家企业的一个项目需要5名高级电子工程师，它请国内一家人力资源公司帮助招聘
- B. 美国某家公司的一个项目有大量文字资料需要转为电子文本，它请一家中国的公司来完成
- C. 某公司承建中东某个国家的钢厂，工程的运输部分由这个公司的海外子公司——海运公司承担
- D. 某家建筑工程公司承建某学校的一座教学楼，该校委托另外一家公司进行教学楼的室内装修工作

【答案】D。解析：

本题是“不属于型”。要求从四个备选项中找出不属于“外包”的一个选项。

定义的关键信息是：企业把非核心业务委托给外部专业公司、海外某个服务提供商或者公司在海外的子公司。选项D中的“学校”不是企业，不符合定义要求。

所以，正确选项是D。

23. 苏联研制的米格—25喷气式战斗机的许多零部件与同时期美国的战机相比都要落后得多，但因设计者考虑了整体性能，对各零部件进行了更为协调的设计，使该机在升降、速度、应急反应等方面达到当时世界一流水平。这一因组合协调而产生的令人意想不到的结果，被后人称为“米格—25效应”。

根据上述定义，下列属于米格—25效应的是：

- A. 一家礼品店礼品样式齐全、定价也不高，因此生意非常不错
- B. 小方学习服装设计后，着装时从丝巾到鞋都搭配得当，给人以美感
- C. 机关举行乒乓球混双比赛，某处的两人配合默契，以绝对优势战胜了男女单打冠军的组合
- D. 某电脑公司开发了一款笔记本电脑，虽然内部配置不高但外观小巧精美，上市后销售情况很好

【答案】C。解析：

本题是“属于型”。要求从四个备选项中找出属于“米格—25效应”的一个选项。

定义的关键信息是：虽然苏联研制的米格—25喷气式战斗机许多零部件与同时期美国的战机相比都要落后得多，但因组合协调而产生了令人意想不到的效果。

C项中的“某处的两人”，虽然单打水平比“男女单打冠军”差，但是因为“配合默契”而取得了胜利。符合定义要求。

所以，正确选项是C。

24. 自我防御性归因是指通过强调自己对积极的、合乎期望的好结果的作用，缩小对消极的、不合乎期望的坏结果的责任来保护自尊。

根据上述定义，下列属于自我防御性归因的是：

- A. 很多家长认为，孩子能否具有创造力关键在于学校的教育理念是否先进

- B. 某公司管理者在总结企业成功经验时说，一个成功的企业离不开优秀的员工和先进的管理方法
C. 某国 GDP 水平屡创新低，该国领导人表示，这是受到世界经济持续低迷的影响
D. 某企业因经营不善而面临破产，该企业领导承认企业领导班子在经营决策上存在失误

【答案】C。解析：

本题是“属于型”。要求从四个备选项中找出属于“自我防御性归因”的一个选项。

定义的关键信息是：强调自己对好的结果的作用，缩小自己对坏结果的责任。

选项 C 中某国的领导人将 GDP 水平屡创新低归因于“世界经济持续低迷的影响”，意在缩小该国领导人对坏的结果的责任，符合定义的要求。

所以，正确选项是 C。

25. 价格歧视实质上是一种价格差异，通常指商品或服务的提供者在同一时间向不同的接受者提供相同等级、相同质量的商品或服务时，在接受者之间实行不同的销售价格或收费标准。

根据上述定义，下列属于价格歧视的是：

- A. 经销商将过季商品打五折出售
B. 电信运营商对网内和网外通话实行区别定价
C. 北京某电影院对其会员实行票价八折的优惠
D. 香港四星级酒店的价格高于内地很多四星级酒店

【答案】C。解析：

本题是“属于型”。要求从四个备选项中找出属于“价格歧视”的一个选项。

定义的关键信息是：商品或服务的提供者在同一时间向不同的接受者提供相同等级、相同质量的商品或服务，却采取不同的销售价格或收费标准。

选项 C 中的会员和普通观众看同样的电影却价格不同，属于价格歧视。

所以，正确选项是 C。

26. 企业战略联盟是两个或两个以上的经济实体（一般指企业，如果企业间的某些部门达成联盟关系，也适用此定义）为了实现特定的战略目标而采取的共担风险、共享利益的长期联合与合作协议。

根据上述定义，下列属于企业战略联盟的是：

- A. 某人将自己的专利授权某工厂长期使用，所得利润按协议分配
B. 某汽车配件公司和某汽车制造厂签订合同，长期以优惠价格向该厂提供优质配件
C. 为储备人才，某公司与某名牌大学计算机系达成协议，该系每年的毕业生可参加该公司的招聘面试
D. 为应对国外手机生产商的挑战，国内 3 家手机生产商达成 10 年合作协议，共同研发高端手机

【答案】D。解析：

本题是“属于型”。要求从四个备选项中找出属于“企业战略联盟”的一个选项。

定义的关键信息是：企业（或企业内部部门）为了实现特定战略目标，采取共担风险、共享利益的长期合作协议。

选项 A 不是两个企业，排除。

选项 B 无共担风险，排除。

选项 C 不是两个企业，排除。

所以，正确选项是 D。

27. 环境承载力是生态系统在维持生命机体的再生能力、适应能力和更新能力的前提下，承受有机体数量的限度。

根据上述定义，下列不属于保护环境承载力措施的是：

- A. 政府规定每平方公里草场放牧的牧畜数量
- B. 某地政府出资修缮年久失修的道路，并规定载重超过 20 吨的车辆禁止通行
- C. 为防止外人随意游牧，政府将草场划分给牧民个人并在边界安装围栏
- D. 某风景旅游区规定，每天进入景区的旅游人数不得超过 1000 人

【答案】B。解析：

本题是“不属于型”。要求从四个备选项中找出不属于“保护环境承载力措施”的一个选项。

定义的关键信息是：生态系统承受有机体数量的限度。

选项 B 中的“道路”不属于生态系统。

所以，正确选项是 B。

28. 角色过载冲突是指一个人的角色要求太多，工作量太大，不可能完成所有角色所要求的工作时所面临的冲突。

根据上述定义，下列属于角色过载冲突的是：

- A. 节目主持人黄女士在主持节目的同时还接拍电影、撰写剧本、参加社会公益活动，她觉得力不从心
- B. 保险业务员张先生为人热情，经常帮助客户解决生活上的困难，很多人都找他办理保险业务，因而张先生每个月都能超额完成任务
- C. 李女士是单位的业务骨干，又是一位孩子的母亲，同时还要照顾老人，但乐观的性格和充沛的精力使她在工作 and 家庭之间游刃有余
- D. 小刘是一名实验员，每天都要高度集中注意力，与各种危险的化学品打交道，还要防止化学品外泄，这让他感到身心疲惫

【答案】A。解析：

本题是“属于型”。要求从四个备选项中找出属于“角色过载冲突”的一个选项。

定义的关键信息是：一个人的角色要求太多，工作量太大，不可能完成所有角色所要求的工作时所面临的冲突。

选项 A 中的黄女士由于角色要求太多，因而觉得力不从心，面临冲突，符合定义要求。

所以，正确选项是 A。

29. 诉前证据保全是指，依诉讼参加人的申请，人民法院对有可能灭失或者以后难以取得对案件有证明意义的证据，在诉讼前对证据加以固定和保护的制度。

根据上述定义，下列对诉前证据保全的申请可能获得人民法院批准的是：

- A. 债务人未能按期偿还债务，债权人申请对作为抵押品的厂房申请诉前证据保全
- B. 水果商贩李某与供货商王某发生合同纠纷，胜诉后王某仍拒不交付货物，李某申请对该批水果进行诉前证据保全
- C. 货主因怀疑运输公司在运输途中出卖其货物，诉前申请对运输车辆予以证据保全
- D. 某公司在市场上发现有商店出卖假冒其品牌的商品，申请对这些商品诉前证据保全

【答案】D。解析：

本题是“属于型”。要求从四个备选项中找出诉前证据保全的申请可能获得人民法院批准的一个选项。

定义的关键信息是：可能灭失或以后难以取得的对案件有意义的证据。

选项 A 中的“厂房”不可能灭失；选项 B 中的“水果”对案件没有证明意义；选项 C 中的“运输车”对案件也没有证明意义；只有 D 项符合定义要求。

所以，正确选项是 D。

30. 滥用市场支配地位，是指在相关市场内具有能够控制商品价格、数量或者其他交易条件，或者能够阻碍、

影响其他经营者进入相关市场的经营者，利用其市场支配地位危害竞争，损害竞争对手和社会公共利益及其他私人利益的行为。

根据上述定义，下列行为构成滥用市场支配地位行为的是：

- A. 甲公司通过取得股权或者资产方式取得对其他很多经营者的控制权，使自己该地的市场占有率达 50%以上
- B. 在某地食用油市场占有率达 55%的甲公司，要求当地某超市在购物车上为其免费做广告，遭到超市拒绝，甲公司停止向该超市供货
- C. 某市电力公司称很多用户的电表不准，要求用户必须购买该公司指定的几种品牌的电表，经查，电力公司与指定品牌的生产厂家并无利益关系
- D. 在某市打火机市场占有率达 70%的甲、乙二厂，为缓解由于经济不景气而导致的销售量严重下降，就限定生产数量和销售价格达成协议，造成很多小厂家破产

【答案】D。解析：

本题是“属于型”。要求从四个备选项中找出“构成滥用市场支配地位行为”的一个选项。

定义的关键信息是：利用市场支配地位危害竞争对手和社会公共利益及其他私人利益的行为。

选项 D 中的“占有率达 70%的甲、乙二厂”就限定生产数量和销售价格达成协议，造成很多小厂家破产，符合定义要求。

所以，正确选项是 D。

三、类比推理。每道题先给出一组相关的词，要求你在备选答案中找出一组与之在逻辑关系上最为贴近、相似或匹配的词。

31. 手术刀：外科医生

- A. 渔网：渔民
- B. 讲台：教师
- C. 打火机：抽烟者
- D. 望远镜：科学家

【答案】A。解析：

题干词组的关系可以表述为：手术刀是外科医生的专用工具。

A 项的关系与此相同：渔网是渔民的专用工具。

所以，正确选项是 A。

32. 树木：砍伐

- A. 汽车：驾驶
- B. 山泉：流淌
- C. 酵母：分解
- D. 石油：开采

【答案】D。解析：

题干词组的关系可以表述为：砍伐树木。

D 项的关系与此相同：开采石油。

所以，正确选项是 D。

33. 世界地图：地球仪

- A. 一元纸币：一元硬币
- B. 纸飞机：飞机模型
- C. 肖邦画像：肖邦雕塑
- D. 楼房平面图：楼房三维图

【答案】C。解析：

题干词组的关系可以表述为：世界地图是地球的平面图，地球仪是地球的立体图。

C 项的关系与此相同：肖邦画像是肖邦的平面图，肖邦雕塑是肖邦的立体图。

所以，正确选项是 C。

34. 水：农业
A. 消费：经济
B. 婚姻：人生
C. 文字：文化
D. 娱乐：生活

【答案】A。解析：

题干词组的关系可以表述为：水是农业发展的必要条件。
A 项的关系与此相同：消费是经济发展的必要条件。
所以，正确选项是 A。

35. 考古：文物：博物馆
A. 教育：人才：企业
B. 贸易：商品：工厂
C. 耕种：庄稼：土地
D. 培训：员工：社会

【答案】。解析：

题干词组的关系可以表述为：考古得到的文物有些在博物馆里。
A 项的关系与此相同：教育得到的人才有些在企业里。
所以，正确选项是 A。

36. 田野：小麦：麦粒
A. 水塘：鲤鱼：鱼籽
B. 林场：树木：枯枝
C. 牧场：牛群：牛尾
D. 海洋：鱼鳍：鲨鱼

【答案】A。解析：

题干词组的关系可以表述为：田野里种植着小麦，小麦产生麦粒。
A 项的关系与此相同：水塘里养殖着鲤鱼，鲤鱼产生鱼籽。
所以，正确选项是 A。

37. 妻子：母亲：社会角色
A. 水：冰：液体
B. 父亲：儿子：家庭
C. 冰糖：砂糖：糖精
D. 石墨：金刚石：化学物质

【答案】D。解析：

题干词组的关系可以表述为：妻子和母亲都是社会角色。
D 项的关系与此相同：石墨和金刚石都是化学物质。
所以，正确选项是 D。

38. () 对于 效益 相当于 经营 对于 ()
A. 投入；利润
B. 成本；税收
C. 生产；规划
D. 资本；管理

【答案】A。解析：

前一个空格中的词相当于“经营”，后一个空格中的词相当于“利润”。只有 A 项符合要求。
所以，正确选项是 A。

39. 乐手 对于 () 相当于 车厢 对于 ()
A. 钢琴；铁轨
B. 乐队；火车
C. 舞台；站台
D. 乐谱；乘客

【答案】B。解析：

代入选项词组，题干的关系可以表述为：乐手是乐队的组成部分，车厢是火车的组成部分。体现了一种整体和部分的关系。

所以，正确选项是 B。

40. 血管 对于 () 相当于 () 对于 城市

- A. 血液；国家
B. 健康；居民
C. 循环；运输
D. 身体；道路

【答案】D。解析：

前一个空格中的词相当于“城市”，后一个空格中的词相当于“血管”。体现了一种整体和部分的关系。只有 D 项符合要求。

所以，正确选项是 D。

四、逻辑判断。每题给出一段陈述，这段陈述被假设是正确的，不容置疑的。要求你根据这段陈述，选择一个答案。注意：正确的答案应与所给的陈述相符合，不需要任何附加说明即可以从陈述中直接推出。

41. 相关研究发现，每天睡眠不足 7 小时的人普遍比睡眠时间更长的人胖。这是因为睡眠不足影响了新陈代谢功能，使刺激食欲的荷尔蒙增加，同时产生饱胀感的荷尔蒙水平降低。

由此不能推出：

- A. 胖人的食欲比体重正常的人好
B. 睡眠状况影响新陈代谢
C. 荷尔蒙水平影响食欲
D. 胖人的荷尔蒙水平可能异于常人

【答案】A。解析：

本题属于“推断文意型”。

从题干“睡眠不足影响了新陈代谢功能”可以推出 B 项“睡眠状况影响了新陈代谢”。

从题干“睡眠不足影响了新陈代谢功能，使刺激食欲的荷尔蒙增加，同时产生饱胀感的荷尔蒙水平降低”可以推出 C 项“荷尔蒙水平影响食欲”和 D 项“胖人的荷尔蒙水平可能异于常人”。

所以，正确选项是 A。

42. 一个外地品牌为进入本地市场进行广告宣传效果的调查。结果显示，在用电视广告宣传时，当地每百人有 15 人知晓该品牌，而后选用报纸广告，每百人有 26 人表示对其有印象。据此，为提高该品牌的知晓率，该公司决定将全部广告资金投入报纸广告。

以下如果为真，最能削弱该公司决定的是：

- A. 电视是当地人获取信息的最主要途径
B. 报纸广告容易给观众留下“产品过于廉价”的负面印象
C. 若不采用报纸广告而继续采用电视广告宣传，相同时间后，每百人有 45 人知晓该品牌
D. 通过电视知晓该品牌的人中，八成有购买意愿，而通过报纸广告知晓者，仅两成由此意愿

【答案】C。解析：

本题属于“削弱型”。

C 项充分肯定电视广告的成长性，最能削弱该公司的决定。

所以，正确选项是 C。

43. 某公司所有的销售人员都是男性，所有的文秘都是女性，所有的已婚者都是文秘，公司的总经理尚未结婚。据此，我们可以知道：

- A. 总经理是男性
B. 已婚者中有男性

成分复杂，加工过程中可能因结构改变而生成有害物质”，说明了用天然色素代替合成色素潜在的危险，如果此项为真，最能削弱题干的结论。

所以，正确选项是 B。

47. 快递公司服务范围即服务网络所能覆盖或到达的范围，是衡量快递公司竞争能力的最重要因素，也是快递企业提供快递服务的物质基础。服务范围决定了快递公司快件所能到达的服务区域。对于客户来说，快递公司能提供的服务范围当然是越大越好。

以下哪项如果为真，不能支持上述判断？

- A. 许多服务范围小的快递公司在激烈的市场竞争下举步维艰
- B. 大中型客户的业务范围往往非常广泛，覆盖全国各地
- C. 服务网络覆盖面广的快递公司，如 EMS、中铁快运等四家的营业总额超过国内市场总额的 50%
- D. 划分为省内和省外快件后，快递公司主要以重量计费，并不以距离计费

【答案】D。解析：

所谓“不支持”，可能是反对，也可能是不相干。

题干论证的结论是：快递公司提供的服务范围越大越好。

A 项所说许多服务范围小的公司举步维艰，从反面支持了题干的论证；

B 项所说大中型客户的范围非常广泛，说明快递公司只有扩大服务范围，才能吸引大中型客户，支持了题干的论证；

C 项所说服务范围广的几家公司占有大量的市场份额，也支持了题干的论证。

D 项所说，与服务范围大小不相干，不能支持上述判断。

所以，正确选项是 D。

48. 几位同学对物理竞赛的名次进行猜测。小钟说：“小华第三，小任第五。”小华说：“小闽第五，小宫第四。”小任说：“小钟第一，小闽第四。”小闽说：“小任第一，小华第二。”小宫说：“小钟第三，小闽第四。”已知本次竞赛没有并列名次，并且每个名次都有人猜对。那么，具体名次应该是：

- A. 小华第一、小钟第二、小任第三、小闽第四、小宫第五
- B. 小闽第一、小任第二、小华第三、小宫第四、小钟第五
- C. 小任第一、小华第二、小钟第三、小宫第四、小闽第五
- D. 小任第一、小闽第二、小钟第三、小宫第四、小华第五

【答案】C。解析：

本题属于“推断文意型”。

把几个同学的预测情况整理为：

第一	第二	第三	第四	第五
		小华		小任
			小宫	小闽
小钟			小闽	
小任	小华			
		小钟	小闽	

表中猜测第二名的只有一种情况，根据“本次竞赛没有并列名次，并且每个名次都有人猜对”可知，小华是第二名必然是正确的。只有 C 项符合条件。

所以，正确选项是 C。

49. 关于基本粒子目前最被认可的理论是“标准理论”。它约在 30 年前确立，已发现的基本粒子都可以根据这

一理论进行解释。100多年来，质子、中子、电子等基本粒子陆续被发现。面对这些成绩，有人认为，宇宙间的基本粒子被发现得差不多了，即使有，也可以用现有的理论解释，因而不会给人们带来太大的惊奇。以下哪项如果为真，最能反驳以上观点？

- A. 基于“标准理论”而被发现的基本粒子很少
- B. 基于“标准理论”作出的某些预测未在实验中得到证实
- C. 新发现的基本粒子与“标准理论”作出的预测不相符
- D. 有科学家提出了颠覆人们以往对基本粒子认识的新理论

【答案】C。解析：

本题属于“削弱型”。

题干论证的结论是：新发现的粒子可以用现有的“标准理论”解释。

C项说：新发现的粒子与“标准理论”做出的预测不符，也就是说不能用“标准理论”解释新发现的粒子，这就与题干的观点相互矛盾，从而构成了最严重的反驳。

所以，正确选项是C。

50. 据史料记载，唐贞观十九年，玄奘从印度取经归来后，亲自设计建造了大雁塔，用以供奉带回的佛经、金银佛像、舍利等宝物。但直到现在，玄奘所带回的珍宝到底藏在哪里，却无人知晓。考古专家认为，就像法门寺古塔下面存在千年地宫一样，大雁塔地下肯定也藏有地宫，只是尚未发掘而已，并由此推测，大雁塔下的地宫里极有可能藏有玄奘当初带回的珍宝。

以下哪项如果为真，最不能质疑上述推测？

- A. 玄奘所画的大雁塔图纸上没有地宫
- B. 已发掘的其他几座古塔下的地宫里并没有发现宝物
- C. 考古学家已经在其他地点发现了玄奘带回的佛经
- D. 根据史籍记载，玄奘带回的宝物已全部进献到皇宫

【答案】B。解析：

本题属于“削弱型”。

题干论证的结论是：大雁塔下的地宫里极有可能藏有玄奘当初带回的珍宝。

A项说“大雁塔图纸上没有地宫”，没有地宫就不可能藏珍宝，削弱了题干的论证，排除。

B项说“其他古塔地宫没有发现宝物”，不能由此推出大雁塔的地宫里没有宝物，对题干的论证不构成质疑，保留。

C项说“考古学家在其他地点发现了玄奘带回的佛经”，说明玄奘带回的珍宝很可能藏在其他地点，而不是在大雁塔里，削弱了题干的论证，排除。

D项说“玄奘带回的宝物已全部进献到皇宫”，说明不宝物在大雁塔里，削弱了题干的论证，排除。

所以，正确选项是B。

第三部分 言语理解与表达

(共30题，参考时限30分钟)

本部分包括表达与理解两方面的内容。请根据题目要求，在四个选项中选出一个最恰当的答案。

51. 有研究表明，生物大灭绝在历史上发生过二十几次，大约每2600万年发生一次，似乎具有_____。对于物种大灭绝的发生是否如此频繁和有规律，还有争议。即便是最_____的估计，也认为至少有5次物种大灭绝是非常明显的。

- A. 必然性 乐观
- B. 规律性 简单
- C. 突发性 粗略
- D. 周期性 保守

【答案】D。解析：

【答案】C。解析：

阅读可知，“无论当下的生活多么衣食无忧，……即使这些真正发生的几率接近于零”，所谓“这些真正发生的几率接近于零”，是说人们在好的情况下做坏的打算，因此在第二个空格中填入“未雨绸缪”或“居安思危”，可以形成恰当的符合语境，排除A、B两项。

与“未雨绸缪”或“居安思危”相呼应，D项的“麻烦”的程度太轻，可以排除。

所以，正确选项是C。

56. 战争文化研究运用了多种学科、多种理论和多种研究方法来解释战争与社会文化之间的互动关系，远比运用单一学科要_____得多，可以修正过去一些错误或存在_____的观点，也可以对历史进行另外一种角度的解释或观察。

- A. 合理 偏差
B. 科学 误会
C. 深刻 误差
D. 客观 分歧

【答案】A。解析：

阅读可知，第二个空格的前面有一个动词“修正”，修正的只能是偏差或误差，而不能是“误会”或“分歧”，由此排除B、D两项。

“偏差”和“误差”相比较，“误差”一般指测量数据不准确，不能用来指称错误的认识。由此排除C项所以，正确选项是A。

57. 事后控制不如事中控制，事中控制不如事前控制，可惜大多数的事业经营者均未能_____到这一点，等到错误的决策造成了重大的损失才如梦方醒，结果往往是请来了名气很大的“空降兵”也_____。

- A. 意识 于事无补
B. 体会 无力回天
C. 观察 无济于事
D. 认识 一事无成

【答案】B。解析：

阅读可知，填入第二个空格中的词语必须与前面“重大的损失”相呼应。等到大错已经铸成，神仙也救不了他，请来任何人也“无力回天”了。根据突点排除法，直接排除A、C、D三项。

所以，正确选项是B。

58. 亚洲有中、印两个人口大国，然而人口的庞大却与人才是否_____没有必然关系。人才供应缺口在一些国际化的行业中尤为_____，例如金融从业人员、工程研发人员等在全亚洲都供不应求。

- A. 饱和 突出
B. 充裕 明显
C. 过剩 严峻
D. 流失 巨大

【答案】B。解析：

阅读可知，填入第一个空格中的词语必须与后面的“供不应求”是相反的。只有B项符合要求。根据突点排除法，直接排除A、C、D三项。

所以，正确选项是B。

59. 全方位开发风险保障产品，仅靠保险业自身的_____还不够。因为这类产品往往保险面广、赔付金额多，巨大的经营风险令保险公司难以承受，大面积开发和经营这类产品显得_____。

- A. 条件 前途未卜
B. 努力 力不从心
C. 资源 得不偿失
D. 积累 捉襟见肘

【答案】B。解析：

阅读可知，填入第一个空格中的词语必须与前面的“自身”相呼应，“自身”表明主观因素，由此可以排除

A、C 两项。

对比“捉襟见肘”和“力不从心”两个成语，“捉襟见肘”比喻顾此失彼，穷于应付，而“力不从心”指心里想做某事，但是力量不够。结合语境分析，题干显然是说保险公司大面积开发和经营这类产品“力量不够”。由此排除 D 项。

所以，正确选项是 B。

60. 当我们在谈论创意的时候，大多数会认为没有什么规律可循，或者说，创意应该是_____的。我们会说如果给创意制定一个框架的话，可能会束缚创意，让创意变成_____的工匠活。

- A. 天马行空 按部就班
B. 稍纵即逝 循规蹈矩
C. 自由自在 循序渐进
D. 标新立异 熟能生巧

【答案】A。解析：

阅读可知，前面的“创意”与后面的“工匠”是相反的，因此，填入两个空格的词语也应该是相反的。只有 A 项符合要求。根据突点排除法，直接排除 B、C、D 三项。

所以，正确选项是 A。

61. 古希腊和古代中国相似的经验知识曾产生了相似的理论洞察力，比如亚里士多德和《墨经》对杠杆原理的认识。但是，古希腊的初始力学理论很快发展成理论知识的综合体，而中国墨家的力学传统在战国之后就中断了。不擅长观察、认识物体运动并形成系统的理论，这是中国古代科学传统中的一个明显的“软肋”。相比之下，中国人在解决实际问题方面的建树更加突出。

这段文字意在说明：

- A. 中国古代科学发展的特点
B. 中国古代科学传统中断的原因
C. 古代中国对于力学最初的研究不逊于古希腊
D. 力学理论的不完备是中国古代科学研究的弱点

【答案】A。解析：

本题属于“推断文意型”。所谓推断文意，就是推测题干材料的作者想说而未说出来的意思是什么。

阅读可知，作者从正反两个方面客观描述了中国古代科学的情况，意在说明中国古代科学发展的特点。BC、D 三项都只是截取了题干的某一方面意思，排除。

所以，正确选项是 A。

62. 人口密度是单位面积土地上居住的人口数，它是表示世界各地人口的密集程度的指标。但人口密度只反映人口与土地面积的一般数量关系，不能体现单位面积土地上的人口成分，也不能体现人口与实际供养他的土地面积的关系。为了弥补这些缺陷，出现了一些新的补充性密度指标，如生理密度、农业密度等，而以面积计算的人口密度称为人口的数学密度。

这段文字意在说明：

- A. 人口密度含义演变的原因
B. 补充性密度指标的产生过程
C. 人口密度的具体表现形式
D. 土地面积和人口成分的关系

【答案】A。解析：

本题属于“推断文意型”。

阅读可知，“人口密度”概念存在缺陷，为了弥补这些缺陷，进一步发展到了“人口的数学密度”概念，意在描述了“人口密度”含义演变的原因。

所以，正确选项是 A。

63. 当年韩愈被贬到潮州做刺史，虽然只有 8 个月的时间，却不怕费力，大力兴办州学，捐出所有的俸银，用作办学费用，并积极推广唐朝的普通话，“以正音为潮人诲”。8 个月后，韩愈就调离了潮州，几乎没有什么“政绩”可言，然而他给潮州留下了巨大的精神财富。到南宋时，潮州已是当时的文化名城，有了“海滨邹鲁”的美誉。

这段文字意在说明：

- A. 语言规范化是一项长期的工作
B. 潮州称为历史文化名城的原因
C. 文化建设对城市有深刻的影响
D. 评价官员不应只看短期的政绩

【答案】C。解析：

本题属于“推断文意型”。

阅读可知，题干讲述了一个“韩愈造福潮州”的故事，由于韩愈在文化建设方面的努力，潮州成了当时的文化名城。通过这个故事，作者意在告诉我们这样一个道理：文化建设对城市有深刻的影响。

所以，正确选项是 C。

64. 现代社会中，人们是在相对统一的时间里交往活动，这有利于节约社会成本，提高社会效率，推动社会发展。但全社会的“步调一致”容易导致交通的堵塞，由此引发的一系列社会问题不容忽视。另一方面，人们的需要、社会发展的需求，又对作息时间提出了不同的要求。但如果作息时间杂乱无章，也会给人们的交往、社会的发展带来一定障碍。

这段文字意在说明：

- A. 作息时间应在统一与差异中寻找平衡
B. 小问题可能会引起社会发展中的大矛盾
C. 调整作息时间是解决交通堵塞的有效措施
D. 作息时间需随着人们生活习惯的改变而调整

【答案】A。解析：

本题属于“推断文意型”。

阅读可知，题干包括前后两层意思，前半部分说作息时间的统一会引发一系列问题，后半部分说作息时间不统一也会给人们的交往和社会的发展带来一定障碍。综合起来看，作者意在说明：作息时间应在统一与差异中寻找平衡。

所以，正确选项是 A。

65. 毫无疑问，电视节目主持人是当今社会颇具影响力的人群之一。借助大众传媒的影响，主持人成为公众人物。他们的角色因此不同于普通人，而是集社会角色、媒介角色及个人角色于一体的特殊角色。选择了这一职业，不仅仅意味着选择了鲜花和掌声，财富和荣耀，更意味着选择了媒体和社会必然赋予他们的责任。

这段文字意在强调：

- A. 大众传媒的发展使主持人具备特殊的影响力
B. 主持人作为公众人物发挥着特殊的社会作用
C. 职业的特殊性决定了主持人所应肩负的责任
D. 主持人应借助传媒的影响扩大其社会影响力

【答案】C。解析：

本题属于“推断文意型”。

阅读可知，题干最后一句“选择了这一职业，不仅仅意味着选择了鲜花和掌声，财富和荣耀，更意味着选择了媒体和社会必然赋予他们的责任”，其中的“更……”意在说明：职业的特殊性决定了主持人所应肩负的责任。

所以，正确选项是 C。

66. 一位著名企业家从百折不挠的拼搏经历中总结出了“冰淇淋哲学”，即卖冰淇淋必须从冬天开始，因为冬天顾客少，会逼迫你降低成本，改善服务。如果能在冬天生存，就再也不会害怕夏天的竞争。

根据本段文字，“冰淇淋哲学”主要强调了：

- A. 逆境对培养企业的竞争力非常重要
- B. 选择一个好的时机，企业就成功了一半
- C. 企业在创业阶段难免会遇到很多困难
- D. 企业应注重降低成本，提高服务质量

【答案】A。解析：

本题属于“推断文意型”。

阅读可知，“卖冰淇淋必须从冬天开始，因为冬天顾客少，会逼迫你降低成本，改善服务。如果能在冬天生存，就再也不会害怕夏天的竞争。”意在强调：逆境对培养企业的竞争力非常重要。

所以，正确选项是 A。

67. 对一项科学工作的评价不能简单地归结为一个数字的大小，任何数字都不能取代同行评议及对该工作科学意义的具体分析和历史检验。然而，不好的评价指标有可能误导评审人员，导致错误的结果；而好的评价指标可以提供更准确的信息，使相应的评审更加客观和公正。

这段文字意在强调，对科学工作的评价：

- A. 应该是主观评价和客观评价的统一
- B. 关键在于建立科学的评价指标体系
- C. 不应以数字结论作为主要参考依据
- D. 需要综合考虑多种因素才能实现公正

【答案】B。解析：

本题属于“推断文意型”。

阅读可知，题干属于转折结构，转折结构强调的是转折后面的内容。

“然而……不好的评价指标……而好的评价指标”，意在强调：对科学工作的评价“关键在于建立科学的评价指标体系”。

所以，正确选项是 B。

68. 近年来全球油价持续上涨，随着各国原油生产能力的日益提高，全球原油储备资源日趋紧张。据分析人士预测，这一上涨趋势不会在短期内逆转。受此影响，尽管汽车已逐渐成为人们不可缺少的日常交通工具，但越来越多的人决定暂缓买车或者开始暂停用车。照此看来，整个汽车销售市场的经营风险在相当长一段时间里有增无减。

这段文字的主旨是：

- A. 预测未来石油行业的发展趋势
- B. 说明汽车销售业的经营风险将会增加
- C. 探讨能源行业与交通运输行业存在的联系
- D. 认为能源行业将逐渐影响人们的出行方式

【答案】B。解析：

本题属于“概括主旨型”。

阅读可知，题干属于因果结构，因果结构强调的是结果而不是原因。

“照此看来，整个汽车销售市场的经营风险在相当长一段时间里有增无减”，旨在说明：汽车销售业的经营风险将会增加。

所以，正确选项是 B。

69. 色盲也能成为天文学家么？事实上，天文学家日常所分析的照片多数都是黑白的，我们在杂志和其他彩色印刷品上看到的五彩缤纷的天文照片，其实也是通过把多张望远镜拍摄的不同波段的黑白照片加工合成而

来的。而且这些波段未必都在人类可见光的范围内，所以即使对于视力正常的人来说，这些图片也并非天体真正的颜色。

下列说法与文意相符的是：

- A. 天文学家需要辨别可见光的颜色
- B. 彩色的天文照片科学价值相对较低
- C. 天文图片是靠不同波段的彩色照片合成而来
- D. 视力正常的人也不能完全识别天体本来的颜色

【答案】D。解析：

A项，与题干“天文家日常分析的图片大多数都是黑白的”不符，排除。

B项，文中未提及，排除。

C项，与题干“五彩缤纷的天文照片……不同波段的黑白照片加工合成而来的”不符，排除。

D项，与题干“即使对于视力正常的人来说，这些图片也并非天体真正的颜色”相符。

所以，正确选项是D。

70. 体育竞技掺入越来越多的经济利益，会驱使一些人走向极端。虽然目前运动员的自然能力仍占主导，但是如果有一天科技手段足以超越自然赋予的力量，运动员在日常不需要严格训练，而是通过仪器、手术来增强体质，这与驾驶着摩托车去参加百米竞赛是否还有本质区别？这不仅是抛给体育界的问题，也将成为科学的两难。

“这不仅是抛给体育界的问题”中的“这”指的是：

- A. 通过仪器、手术来增强体质
- B. 科技手段的作用超过运动员的自然能力
- C. 让运动员的自然能力占据主导地位
- D. 体育竞技在经济利益驱使下走向极端

【答案】B。解析：

要确定“这”的指代，必须结合“这”所处的语言环境。“虽然……但是如果有一天科技手段足以超越自然赋予的力量，运动员在日常不需要严格训练，而是通过仪器、手术来增强体质，这与驾驶着摩托车去参加百米竞赛是否还有本质区别？这不仅是抛给体育界的问题，也将成为科学的两难。”由此可知，“这不仅是抛给体育界的问题”中的“这”指的是B项：科技手段的作用超过运动员的自然能力。

所以，正确选项是B。

71. 在与自然灾害的抗争中，人类仍然有很长的路要走，现实固然必须正视，但普通民众是否就无可作为呢？在灾害预测还无法做到完全精确的今天，每一个人该如何保护上天赋予我们的宝贵生命，如何在灾难降临的那一刻做出最及时而智慧的选择，该如何自救、救人，避免或减少悲剧的发生？这些事情，其实都可以通过社会教育和自我教育来完成。

这段文字意在强调：

- A. 人类与自然灾害抗争是一个漫长的过程
- B. 在自然灾害面前人的首要任务是保护生命
- C. 灾难来临时的及时而智慧的选择非常重要
- D. 教育可以在自然灾害中保护更多宝贵的生命

【答案】D。解析：

本题属于“推断文意型”。

阅读可知，题干首先提出问题：在灾害预测还无法做到完全精确的今天，每一个人该如何……该如何……该如何……？最后给出答案：这些事情，其实都可以通过社会教育和自我教育来完成。由此可见，作者意在强

调 D 项：教育可以在自然灾害中保护更多宝贵的生命。

所以，正确选项是 D。

72. 许多跨国企业在进入中国市场时，都试图推行本土化的传播策略和营销方案，都期望得到中国消费者的关注和认同，在广告中运用“中国元素”就是一种体现。这本是值得肯定的，但这种运用要与人们的文化习惯和感情倾向相一致，如果仅仅在技术上简单地模仿和运用，缺乏文化上真正的尊重和理解，再美的“元素”也只会开出“恶之花”。

这段文字意在说明：

- A. 不同国家的消费者会有不同的审美取向
- B. 在广告中使用“中国元素”要适可而止
- C. 在广告中彰显文化特色是重要的营销策略
- D. 理解文化内涵是“中国元素”成功运用的前提

【答案】D。解析：

本题属于“推断文意型”。

阅读可知，题干属于转折结构，转折结构强调的是转折后面的内容。

“这本是值得肯定的，但这种运用要与人们的文化习惯和感情倾向相一致，如果仅仅在技术上简单地模仿和运用，缺乏文化上真正的尊重和理解，再美的‘元素’也只会开出‘恶之花’”。由此可知，作者意在说明 D 项：理解文化内涵是“中国元素”成功运用的前提。

所以，正确选项是 D。

73. 英国银行协会每年都组织一个培训班，帮助银行职员识别假钞。在培训期间，学员们一张假钞也摸不到，训练时用的都是真钞，上课时讲的都是真钞的特点。专家们解释说，学员们通过反复接触真钞，手指、眼睛都习惯了真钞的感觉，以后在工作中一旦遇到假钞，就会感到特别不习惯。虽然他们对假钞的特征一无所知，但潜意识告诉他们：“这不是真钞！”据统计，接受了这种培训的职员，对假钞的识别能力要强得多。

这段文字意在说明：

- A. 潜意识是在不断的重复中获得的
- B. 当信息缺失的时候更需要依赖直觉
- C. 强化正确的信息有助于提高鉴别力
- D. 接触过多的错误信息有可能干扰人们的判断

【答案】C。解析：

本题属于“推断文意型”。

阅读可知，题干先讲了一个英国银行协会培训银行职员识别假钞的事例，最后得出结论“虽然他们对假钞的特征一无所知，但……接受了这种培训的职员，对假钞的识别能力要强得多”。由此可知，作者意在说明 C 项：强化正确的信息有助于提高鉴别力。

所以，正确选项是 C。

74. 长期以来，人们对工业的文化内涵没有认识，文物保护的理念相对落后。事实上，每项工业遗产都在一定程度上代表了当时社会生产力的最高发展水平，推动了社会的发展进步。近代工业遗产更是如同一种超越时代的文化载体和现代设计思想的容器，凝结着社会经济、产业和工程技术等方面的历史信息。有些工业遗产，甚至代表了一个城市最基本的东西，见证着城市发展的历史。

对这段文字概括最为准确的是：

- A. 文物保护理念应适应生产力发展
- B. 文化研究应以工业遗产为突破口

C. 工业遗产记录了城市发展的历史

D. 工业遗产是具有文化价值的文物

【答案】D。解析：

本题属于“概括主旨型”。

阅读可知，题干属于转折结构，转折结构强调的是转折后面的内容。

“长期以来，人们对工业的文化内涵没有认识……事实上，每项工业遗产……是如同一种超越时代的文化载体和现代设计思想的容器，……”。概括地说就是D项：工业遗产是具有文化价值的文物。

所以，正确选项是D。

75. 影响一个地区长期或某段时期气候变化的原因，是众多而复杂的，人们至今还无法确切说明各种因素对气候变化的影响程度。但是可以断言：即使人类社会发展到今天，从总体讲，自然因素仍然是影响气候的主导因素。人类活动至今仍然不足以影响地区性气候的基本属性，更不足以引起冰期或间冰期等巨大的气候变化。

这段文字意在说明：

A. 一个地区的气候是多种因素共同作用的结果

B. 地区性气候的基本属性主要取决于自然因素

C. 人类活动不足以对一个地区的气候产生影响

D. 人类对气候影响因素的了解与分析还不足够

【答案】B。解析：

本题属于“推断文意型”。

阅读可知，题干属于转折结构，转折结构强调的是转折后面的内容。

“但是可以断言：即使人类社会发展到今天，从总体讲，自然因素仍然是影响气候的主导因素。”由此可知，题干作者意在说明B项：地区性气候的基本属性主要取决于自然因素。

本题的C项容易误选。C项说“人类活动不足以对一个地区的气候产生影响”，这与题干“人类活动至今仍然不足以影响地区性气候的基本属性”是有矛盾的。“不足以影响地区性气候的基本属性”并不意味着“不足以对一个地区的气候产生影响”。因而排除C项。

所以，正确选项是B。

76. (1) 对发展中国家和新兴市场国家尤其如此

(2) 很大原因是因为中国仍然保持着对资本流动的严格控制

(3) 作为一个发展中国家，中国之所以在过去这些年屡屡可以躲过金融危机的直接冲击

(4) 资本的自由流动，从来都是一把双刃剑

(5) 一个原因就是这些国家尚不成熟的金融体系碰上了具有高度流动性的国际资本

(6) 这个世界上几乎还没有哪个新兴市场国家逃脱过金融危机的魔爪

对上述语句排序正确的一项是：

A. (3) (2) (6) (5) (4) (1)

B. (6) (1) (5) (4) (3) (2)

C. (4) (1) (3) (2) (6) (5)

D. (3) (2) (4) (1) (6) (5)

【答案】D。解析：

阅读题干，根据内容的关联性，可以把它们分为三组：(3) (2)，(4) (1)，(6) (5)。

首先以中国为例，引出资本流动的话题，因而(3) (2)应该在最前面。

接着应该是(4) (1)，通过对资本自由流动的简单说明，引出资本流动对发展中国家和新兴市场经济发展的影响。

最后是(6) (5)，进一步说明正是高度流动性的国际资本导致了新兴市场的金融危机。

因此，上述语句的正确排序是D项：(3) (2) (4) (1) (6) (5)。

所以，正确选项是 D。

77. 如果发现一个好产品或者一个大市场，就应该立即跟进；在跟进中发现现有产品的缺陷，然后通过创新弥补缺陷，超越对手，实现后来者居上。当然，创新的目标是创造，而不是简单模仿。因此，创造性模仿者需要通过对他人创意的了解，重新组合、改良而产生具有不同功能与价值的新东西。事实上，所有的产品，除了第一代是原创的，以后的进步都是通过创造性模仿来实现的。

这段文字旨在说明：

- A. 创造性模仿是改良产品的主要途径
B. 通过不断地改善就能得到新的产品
C. 创新来源于对现有产品缺陷的弥补
D. 大部分产品都是通过模仿来完成的

【答案】A。解析：

本题属于“概括主旨型”。

阅读可知，题干讨论了如何弥补产品缺陷的问题。“事实上，所有的产品，除了第一代是原创的，以后的进步都是通过创造性模仿来实现的。”由此可知，这段文字旨在说明 A 项：创造性模仿是改良产品的主要途径。

所以，正确选项是 A。

78. 越来越多的人成了互联网追新潮的盲从者，他们生怕自己惯用的虚拟身份在某个网络社区被别人抢先占据。这种场面似乎与 1999 年前后免费电子信箱热炒有些相似，当时的统计显示，每个互联网用户平均注册了 8.6 个电子信箱。可是到了 2005 年，这些信箱只有 18% 还在使用，每个互联网自然人平均使用的电子信箱仅为 1.73 个。同样，只有少数社区注册者将成为存活下来的网络自然人。每个人有限的精力和时间，决定了未来网络社区的天花板高度。

这段文字意在说明：

- A. 同时在多个网络社区注册是没有必要的
B. 盲目追逐新潮会耗费大量的精力和时间
C. 网络社区应吸取免费电子信箱热炒的教训
D. 对未来网络社区规模的估计不宜盲目乐观

【答案】D。解析：

本题属于“推断文意型”。

阅读可知，题干讨论的是“未来网络社区的天花板高度”（隐含：未来网络社区的规模）。通过与 1999 年前后免费电子信箱热炒的对照，可以推测，未来网络社区的天花板高度是有限的。意在说明：对未来网络社区规模的估计不宜盲目乐观。

本题的 C 项容易误选。“免费电子信箱热炒”反映的只是一种虚假繁荣的现象，作者拿它与“未来网络社区”进行比照，意在提醒人们不要被表面的繁荣所迷惑。就像“到了 2005 年，这些信箱只有 18% 还在使用”一样，社区注册者也将只有少数能够存活下来。

所以，正确选项是 D。

79. 城市好比一个巨大的海绵，劳动力就像城乡之间流动的水，当经济处于上行期，经济扩张会吸纳更多的劳动力；当经济处于下行期，经济衰退又将这这些劳动力挤回了农村。正是中国城乡二元结构所引发的海绵效应，在此次金融危机中发挥着就业缓冲器的作用。但这种海绵效应是不可持续的，因为中国的一个基本国情就是农业剩余劳动力要向城市进行转移。

这段文字意在说明：

- A. 经济衰退影响了中国的城市化进程
B. 城乡二元结构减弱了经济衰退的影响
C. 不能过分依赖海绵效应的就业缓冲作用
D. 农村劳动力不应成为经济衰退中的牺牲品

【答案】C。解析：

本题属于“推断文意型”。

阅读可知，题干属于转折结构，转折结构强调的是转折后面的内容。

前面先说“海绵效应”发挥着就业缓冲器的作用，后面再说“但这种海绵效应是不可持续的”。由此可见，题干作者意在说明 C 项：不能过分依赖海绵效应的就业缓冲作用。

所以，正确选项是 C。

80. 中国消费者对轿车的了解和要求已经有了很大的变化，他们的价值观念以及对汽车理解的变化都会左右着他们的买车意向。在对多个购车指标的调查中，我们发现，大家不再强调单一某个指标，但安全性能依然是消费者购买轿车最关心的指标，关注程度在我们的调查中占 8.6%；其次关注的是轿车的操控性能；第三是质量耐久性能，然后是外观造型、舒适程度、品牌口碑、形象、动力性能以及二手车价值等等，即使是排在后边的关于品牌的指标比重也达到了 8.1%。

下列说法与文意相符的是：

- A. 消费者对汽车安全性能的关注度没有变化
- B. 中国消费者对轿车的价值观念差异并不大
- C. 轿车主流消费群的构成发生了较大变化
- D. 消费者对轿车品牌的关注度呈下降趋势

【答案】B。解析：

阅读可知，题干讨论了中国消费者对轿车的价值观念问题。在多个购车指标的调查中，安全性能依然是消费者购买轿车最关心的指标，关注程度占 8.6%；……即使是排在后边的关于品牌的指标比重也达到了 8.1%。从 8.6%与 8.1%这个非常接近的数据可以看出：中国消费者对轿车的价值观念差异性并不大。

所以，正确选项是 B。

第四部分 资料分析

（共 20 题，参考时限 25 分钟）

所给出的图、表、文字或综合性资料均有若干个问题要你回答。你应根据资料提供的信息进行分析、比较、计算和判断处理。

一、根据所给图表、文字资料回答 81—85 题。

2008 年，全国民政事业基本建设完成投资总额为 66.6 亿元，施工项目为 3 906 个，完成投资总额比上年增长 39.6%。其中国家投资 26.6 亿元，比上年增长 83.4%。在投资总额中，用于优抚安置事业单位投资为 9.6 亿元，比上年增长 88.2%；社区服务单位投资为 5.2 亿元，比上年增长 52.9%；收养性单位投资为 30.4 亿元，比上年增长 33.9%；殡仪服务单位投资为 11.3 亿元，比上年增长 21.3%；救助类单位投资为 2.6 亿元，比上年增长 100%；其他事业单位投资为 7.5 亿元，比上年增长 27.1%。

84. 根据 2007 年民政事业基本建设投资金额从高到低排序, 以下正确的是:

- A. 优抚安置事业单位、其他事业单位、救助类单位
- B. 收养性单位、其他事业单位、优抚安置事业单位
- C. 收养性单位、救助类单位、其他事业单位
- D. 优抚安置事业单位、救助类单位、收养性单位

【答案】A. 解析:

根据文字资料, 在投资总额中, 用于优抚安置事业单位投资为 9.6 亿元, 收养性单位投资为 30.4 亿元, 救助类单位投资为 2.6 亿元, 其他事业单位投资为 7.5 亿元。按投资金额从高到低排序为:

收养性单位 > 优抚安置事业单位 > 其他事业单位 > 救助类单位。只有 A 项排列正确。

所以, 正确选项是 A。

85. 下列说法与资料相符的是:

- A. 2006 年—2008 年, 全国民政事业基本建设完成投资总额超过之前 5 年的投资总额
- B. 2007 年, 收养性单位投资额占全国民政事业基本建设完成投资总额的一半以上
- C. 全国民政事业基本建设完成投资总额 2005 年的年增长率高于 2004 年—2008 年的年均增长率
- D. 2008 年, 平均每个民政事业基本建设投资项目的完成投资额不到 200 万元

【答案】D. 解析:

根据文字资料, 2008 年平均每个民政事业基本建设投资项目为: 66.6 亿/3906 个 < 200 万。由此可知 D 项的说法与资料相符。

所以, 正确选项是 D。

二、根据下表, 回答 86—90 题。

世界部分城市气候状况

城市	国家	地理纬度	海拔 (米)	年均温 度(度)	最冷月 平均温 度(度)	最暖月 平均温 度(度)	年均降 水(mm)	最湿月 平均降 水(mm)	最干月 平均降 水(mm)	日照最长月 平均日照 (小时)	日照最短月 平均日照 (小时)
北京	中国	39°55'N	37	11.8	-4.3/1	25.9/7	578	182/8	2/12	9.3/5	6.1/12
香港	中国	22°20'N	33	22.9	15.8/1	28.8/7	222	391/8	23/1	7.5/7	3.1/3
鄂木斯克	俄罗斯联邦	55°00'N	85	1.4	-17.3/1	19.7/7	391	61/7	14/2.3	10.4/7	2.0/12
海参崴	俄罗斯联邦	43°10'N	28	4.2	-13.1/1	19.5/8	788	149/8	15/1	7.0/3	3.9/7
东京	日本	35°40'N	6	15.6	5.2/1	27.1/8	1406	185/5	45/1	5.9/5	3.7/9
新德里	印度	28°40'N	216	25.1	14.3/1	33.4/6	790	237/7	9/11.12	7.3/9	5.4/7
加尔各答	印度	22°35'N	10	26.9	20.1/1	30.7/5	1800	411/7	11/1	7.9/4	3.0/7
孟买	印度	18°55'N	11	27.5	24.5/1	30.2/5	2168	682/7	0/1-3	9.6/5	2.4/7
马尼拉	菲律宾	14°35'N	16	27.4	25.6/1	29.5/5	1875	398/8	3/2	8.6/4	4.2/8
胡志明市	越南	10°45'N	10	27.2	25.7/1	29.0/4	1861	303/9	4/2	7.5/2	4.4/7
新加坡	新加坡	1°20'N	17	26.7	25.7/12	27.5/5	2150	304/12	140/6	6.2/2	4.3/11
雅加达	印度尼西亚	6°10'S	8	26.2	25.6/2	27.3/8	1802	336/1	46/8	7.6/8	4.5/1

注: 第 6、7、9、10、11、12 列中温度、降水和日照指标之后的数字表示特定的月份。

86. 表中最靠近赤道的四个城市, 其年均降水量的均值为:

- A. 1747 毫米
- B. 1778 毫米
- C. 1922 毫米
- D. 2013.5 毫米

【答案】C. 解析:

根据地理纬度, 表中最靠近赤道的四个城市是马尼拉、胡志明市、新加坡、雅加达, 其年降水量分别为: 1875、1861、2150、1802。其平均值为:

$$(1875 + 1861 + 2150 + 1802) \div 4 = 1922.$$

95. 下列说法与资料相符的是:

- A. 2008 年底, 我国网络购物用户数已经超过手机网民数
- B. 2008 年底, 我国使用网络媒体的人数比使用电子邮件的约多 0.65 亿
- C. 2008 年底, 我国的宽带网民中超过一半的人拥有博客
- D. 2001 年—2008 年, 我国 IPv4 地址数几乎每年翻一番

【答案】B。解析:

A 项, 2008 年底, 我国网络购物用户数为 7400 万, 而手机网民数为 1.2 亿。因而 A 项与资料不符。

B 项, 2008 年底, 我国使用网络媒体的人数为 2.98 亿 \times 78.5%, 使用电子邮件的人数为 2.98 亿 \times 56.8%, 约差 0.65 亿人。因而 B 项与资料相符。

所以, 正确选项是 B。

四、根据下表, 回答 96—100 题。

2005 年—2008 年全国主要港口 7 月货运吞吐量 (单位: 万吨)

	2005 年 7 月	2006 年 7 月	2007 年 7 月	2008 年 7 月
1. 沿海合计	24 245	27 660	32 631	36 516
其中: 大连港	1 357	1 626	1 804	2 000
秦皇岛港	1 310	1 685	2 154	2 126
天津港	1 995	2 243	2 759	3 080
青岛港	1 585	1 857	2 190	2 503
上海港	3 950	3 950	4 180	4 590
深圳港	1 306	1 526	1 605	1 864
2. 内河合计	8 244	9 588	13 760	13 944
其中: 南京港	910	755	915	960
苏州港	937	1 237	1 448	1 706
南通港	650	830	1 010	1 200
镇江港	375	495	675	700

96. 全国港口 2008 年 7 月货运吞吐总量的同比增长率约为:

- A. 11.9%
- B. 14.7%
- C. 17.8%
- D. 21.5%

【答案】B。解析:

全国港口 2008 年 7 月货运吞吐量的同比增长率为:

$$(36516 + 13944) \div (32631 + 11376) \approx 14.7\%$$

所以, 正确选项是 B。

97. 与 2005 年同期相比, 上海港 2008 年 7 月货运吞吐量占沿海港口合计吞吐量的比重约:

- A. 增加了 3.7%
- B. 减少了 3.7%
- C. 增加了 5.3%
- D. 减少了 5.3%

【答案】B。解析:

上海港 2008 年 7 月货运吞吐量占沿海港口合计吞吐量的比重为: $4590 \div 36516 \approx 12.6\%$ 。

2005 年 7 月, 上海港货运吞吐量占沿海港口合计吞吐量的比重为: $3950 \div 24245 \approx 16.3\%$ 。

与 2005 年同期相比, 2008 年 7 月减少了 $16.3\% - 12.6\% = 3.7\%$ 。

所以, 正确选项是 B。

98. 2006年—2008年间,表中港口有几个在7月出现过货运吞吐量比上年同期下降的局面?

- A. 0
B. 1
C. 2
D. 3

【答案】C。解析:

表中港口在7月出现过货运吞吐量比上年同期下降的有:2006年7月的南京港,2008年7月的秦皇岛港。共两个港口。

所以,正确选项是C。

99. 与2006年7月相比,2007年同期哪个港口货运吞吐量的同比增长率与沿海港口合计吞吐量的同比增长率最为接近?

- A. 大连港
B. 青岛港
C. 上海港
D. 深圳港

【答案】B。解析:

与2006年7月相比,2007年沿海港口合计吞吐量的同比增长率为:

$$(32631-27660) \div 27660 \times 100\% \approx 18\%$$

四个选项与2006年7月相比,2007年同期港口货运吞吐量的同比增长率分别为:

大连港: $(1804-1626) \div 1626 \times 100\% \approx 11\%$

青岛港: $(2190-1879) \div 1879 \times 100\% \approx 15\%$

上海港: $(4180-3950) \div 3950 \times 100\% \approx 6\%$

深圳港: $(1605-1526) \div 1526 \times 100\% \approx 5\%$

青岛港的数据最为接近。

所以,正确选项是B。

100. 下列说法与资料相符的是:

- A. 沿海港口合计吞吐量2008年1月的同比增长额高于2007年
B. 2005年—2008年,每年7月内河港口合计吞吐量在全国港口货运吞吐总量中所占的比重逐年降低
C. 2008年7月,天津港在全国港口货运吞吐总量中的比重为四年以来同期最高
D. 与2005年7月相比,表中2008年7月货运吞吐量增长率最高的港口是一个内河港

【答案】D。解析:

A项,沿海港口合计吞吐量的同比增长额,2008年7月为: $36516-32631=3885$; 2007年7月为: $32631-27660=4971$,显然是2007年1月的增长额高。因而A项与资料不符。

B项,2005年—2008年,每年7月内河港口合计吞吐量在全国港口货运吞吐总量中所占的比重分别为:

2005年7月: $8244 \div (8244+24245) = 25.4\%$

2006年7月: $9588 \div (9588+27660) = 25.7\%$

显然不是逐年降低。因而B项与资料不符。

C项,2008年7月天津港在全国港口货运吞吐总量中的比重为:

$3080 \div (13944+36516) \approx 6.10\%$

2005年7月天津港在全国港口货运吞吐总量中的比重为:

$1995 \div (8244+24245) \approx 6.14\%$

显然,2008年7月比2005年7月低。因而C项与资料不符。

D项,与2005年7月相比,表中2008年7月货运吞吐量增长率最高的港口为镇江港,增长率约为87%,是一个内河港口。因而D项与资料相符。

所以，正确选项是 D。

第五部分 常识判断

(共 20 题，参考时限 10 分钟)

根据题目要求，在四个选项中选出一个最恰当的答案。

101. 下列做法符合宪法或者法律规定的是：

- A. 省人民代表大会常务委员会制定地方性法规
- B. 市人民代表大会撤销市长职务
- C. 国务院各部部长连续任职超过两届
- D. 县人民政府设立秘书长

【答案】A。解析：

《立法法》第六十三条规定：省、自治区、直辖市的人民代表大会及其常务委员会根据本行政区域的具体情况和实际需要，在不同宪法、法律、行政法规相抵触的前提下，可以制定地方性法规。因而 A 项正确。

《宪法》第一百零一条规定：市人民代表大会对市长享有罢免权。因而 B 项错误。

《宪法》第八十七条规定：总理、副总理、国务委员连续任职不得超过两届。因而 C 项错误。

《政府组织法》第四十四条规定：县级以上的地方各级人民代表大会常务委员会根据省长、自治区主席、市长、州长、县长、区长的提名，决定本级人民政府秘书长、厅长、局长、委员会主任、科长的任免，报上一级人民政府备案。因而 D 项错误。

所以，正确选项是 A。

102. 下列关于设立行政许可与行政处罚的说法中，正确的是：

- A. 行政许可与行政处罚的设定机关均应定期对其设定的行政许可、行政处罚进行评价
- B. 部门规章可以依法设定一定的行政许可、行政处罚
- C. 尚未制定法律的，行政法规可以依法设定一定的行政许可、行政处罚
- D. 法律、法规、规章以外的其他规范性文件一律不得设定任何行政许可、行政处罚

【答案】C。解析：

根据《行政许可法》第二十条规定，行政许可的设定机关应当定期对其设定的行政许可进行评价，但行政处罚没有相关规定。因而 A 项错误。

根据《行政许可法》第十六条和《行政处罚法》第十二条规定，部门规章只能对已经设定的行政许可作出实施的具体规定，但可以在法律、法规没有规定的情况下设定一定的行政处罚。因而 B 项错误。

根据《行政许可法》第十四条规定，尚未制定法律的，行政法规可以设定除限制人身自由、吊销企业营业执照以外的行政处罚。因而 C 项正确。

根据《行政许可法》第十四条，必要时，国务院可以采用发布决定的方式设定行政许可。因而 D 选项错误。所以，正确选项是 C。

103. 萧某对李某作出承诺：只要李某把邻居家的小狗偷来，就付给酬金 200 元。该行为属于：

- A. 附条件的民事法律行为
- B. 无效的民事法律行为
- C. 可撤销的民事法律行为
- D. 犯罪行为

【答案】B。解析：

萧某要求李某偷小狗的行为明显违背国家法律，因而李某的承诺行为属于无效的民事法律行为。

所以，正确选项是 B。

104. 某化肥厂向附近一小河排放工业废水，受该厂污染的河水流入村民承包的农田，造成农作物大量减产。村

民的下列做法中没有法律依据的是：

- A. 直接向该厂提出排除危害并承担赔偿要求
- B. 就赔偿责任和赔偿金额，请求当地环境保护行政主管部门处理
- C. 向法院提起民事诉讼，要求厂家停止侵害、承担赔偿损失等责任
- D. 向法院提起行政诉讼，要求环境保护行政主管部门承担行政赔偿责任

【答案】D。解析：

根据《行政诉讼法》第二条规定，公民、法人或者其他组织认为行政机关和行政机关工作人员的具体行为侵犯其合法权益，有权依照本法向人民法院提起诉讼。但本题中不存在行政机关或其工作人员的具体行政行为侵害村民合法权益的问题，因而村民向法院提起行政诉讼，要求环境保护行政主管部门承担行政赔偿责任的做法没有法律依据。

所以，正确选项是 D。

105. 李某为公司仓库保管员。某日，两歹徒为逼李某交出仓库钥匙而持刀追打李某，李某被打成重伤，无奈之中李某抢了路边正在停车的黄某的摩托车逃走。李某抢走摩托车的行为：

- A. 应负刑事责任。李某抢走他人车辆，属于抢劫行为，侵犯他人利益。
- B. 应负刑事责任。李某抢走他人车辆，属于盗窃行为，侵犯他人利益。
- C. 不应负刑事责任。李某抢走摩托车属于正当防卫，保护了公司和个人的合法权益。
- D. 不应负刑事责任。李某抢走摩托车属于紧急避险，损害了他人合法权益但保全了更大的合法权益。

【答案】D。解析：

根据《刑法》第二十一条，为了使国家、公共利益、本人或者他人的人身、财产和其他权利免受正在发生的危险，不得已采取的紧急避险行为，造成损害的，不负刑事责任。

本题中李某为了保全公司的公共利益和个人人身安全抢走摩托车的行为，完全符合紧急避险的构成要件。

所以，正确选项是 D。

106. 下列由被告（被申请人）负举证责任的是：

- A. 行政诉讼中，证明与被诉具体行政行为有利害关系
- B. 民事诉讼中，对原告提出建筑物发生倒塌致人损害的侵权事实，被告给予否认的
- C. 行政赔偿诉讼中，证明所受损害的事实
- D. 行政复议中，认为行政机关不履行法定职责，证明曾经要求行政机关履行法定职责而该机关未履行的

【答案】B。解析：

根据《最高人民法院关于民事诉讼证据的若干规定》第四条，建筑物或者其他设施以及建筑物上的搁置物、悬挂物发生倒塌、脱落、坠落致人损害的侵权诉讼，由所有人或者管理人对其无过错承担举证责任，即应由被告（被申请人）负举证责任。因而 B 项是正确的。

所以，正确选项是 B。

107. “文景之治”出现在哪个朝代？

- A. 周
- B. 汉
- C. 唐
- D. 宋

【答案】B。解析：

西汉文帝、景帝两代，政治稳定、经济得到显著发展，被视为封建社会的“盛世”，史称“文景之治”。

所以，正确选项是 B。

108. 我国教育近代化之先河开启于哪一时期？

- A. 洋务运动时期
B. 戊戌变法时期
C. 辛亥革命时期
D. 南京临时政府时期

【答案】A。解析：

洋务运动时期的教育改革是中国近代教育与传统教育的第一次交锋，它创办新式学堂，派遣留学生，翻译西书，传播西学，可谓开启我国教育近代化之先河。

所以，正确选项是 A。

109. 关于水稻，下列说法正确的是：

- A. 水稻是目前全球产量最大的粮食作物
B. 我国在上世纪 50 年代研制出世界首例杂交水稻
C. 《诗经》的“彼黍离离，彼稷之苗”一句中提到了水稻
D. 袁隆平的研究小组在海南岛找到的野稻对杂交水稻培育意义重大

【答案】D。解析：

目前全球产量最大的粮食作物是玉米而不是水稻。A 项错误，排除。

20 世纪 80 年代，袁隆平培育杂交水稻试验获得成功，是世界上首例获得成功的杂交水稻品种。B 项错误，排除。

黍指小米，稷指高粱，该句话里并没有提到水稻。C 项错误，排除。

所以，正确选项是 D。

110. 货币政策是政府调控宏观经济的基本手段之一，当通货膨胀较为严重时，应该采取的货币政策是：

- A. 紧缩性货币政策
B. 扩张性货币政策
C. 适度宽松货币政策
D. 积极货币政策

【答案】A。解析：

通货膨胀是指在纸币流通条件下，因货币供给大于货币实际需求，也即现实购买力大于产出供给，导致货币贬值，从而引起一段时间内物价持续而普遍地上涨现象。

紧缩性的货币政策就是通过削减货币供应的增长率来降低需求水平，因此，在通化膨胀较严重时，应该采取紧缩性的货币政策。

所以，正确选项是 A。

111. 青藏高原有“世界屋脊”之称，它的形成是由哪两个板块碰撞引起的？

- A. 印度板块和太平洋板块
B. 印度板块和欧亚板块
C. 太平洋板块和南美板块
D. 太平洋板块和欧亚板块

【答案】B。解析：

印度板块与欧亚板块相碰撞，导致了青藏高原野的形成

所以，正确选项是 B。

112. 我国佛教艺术驰名中外，云冈石窟、龙门石窟和莫高窟三大石窟举世皆知。以下关于三大石窟地理位置的描述，正确的是：

- A. 所在省份两两接壤
B. 所在省份都有黄河流过
C. 均地处黄土高原
D. 所处纬度大致相当

【答案】B。解析：

云冈石窟位于山西大同，龙门石窟位于河南洛阳，莫高窟位于甘肃敦煌，甘肃与河南、山西都不接壤，因而 A 项错误，排除。

山西、河南、甘肃三省都有黄河流过，因而 B 项是正确的。
所以，正确选项是 B。

113. 下列依次与蒙古族、回族、藏族、维吾尔族、壮族有关的是：

- A. 酥油茶、馓子、青稞酒、馕、萨其马
- B. 马头琴、冬不拉、铜钦、葫芦丝、芦笙
- C. 那达慕大会、开斋节、雪顿节、吉尔邦节、泼水节
- D. 《嘎达梅林》、《穆斯林的葬礼》、《格萨尔王传》、《阿凡提的故事》、《刘三姐》

【答案】D。解析：

A 项的酥油茶是藏族的传统食品，而不是蒙古族的。由此排除 A 项。

B 项的冬不拉是哈萨克族乐器，而不是回族的，葫芦丝是云南少数民族乐器，而不是维吾尔族的。由此排除 B 项。

C 项的泼水节是傣族的节日，而不是壮族的。由此排除 C 项。

所以，正确选项是 D。

114. 下列历史事件按时间先后排序正确的是：

- A. 北美自由贸易区建立→世界贸易组织建立→亚太经济合作组织成立→欧洲联盟成立
- B. “珍妮纺纱机”发明→瓦特改良蒸汽机→内燃机得到广泛应用→“阿波罗”号飞船进入太空
- C. 哥白尼“日心说”→舍勒“燃素说”→爱因斯坦“相对论”→达尔文“进化论”
- D. 巴黎圣母院建成→罗马大角斗场建成→白金汉宫建成→印度泰姬陵建成

【答案】B。解析：

A 项：亚太经济合作组织（成立于 1989 年）早于北美自由贸易协定（成立于 1994 年），因而 A 项是错误的，排除。

B 项：“珍妮纺纱机”发明（18 世纪 60 年代）—瓦特改良蒸汽机（1781 年）—内燃机得到广泛应用（19 世纪）—“阿波罗”号飞船进入太空（1969 年）。因而 B 项是正确的。

所以，正确选项是 B。

115. 挂在墙壁上的石英钟，当电能耗尽而停止走动时，其秒针往往会停在哪个数字上？

- A. 3
- B. 6
- C. 9
- D. 12

【答案】C。解析：

这联系生活经验就能解决。

我们知道，走路的时候上坡累而下坡轻松，同样道理，秒钟在走到数字 9 的时候最困难，做功最多，因而往往停在这里。

所以，正确选项是 C。

116. 下列说法错误的是：

- A. 核心电子器件、高端通用芯片及基础软件产品项目简称“核高基”，是我国“十一五规划”中的第一个科技课题
- B. 王选院士开发的汉字激光照排系统被誉为“汉字印刷术的第二次发明”
- C. 上海超级计算中心是国内第一个面向社会开放、实现资源共享的高性能计算公共服务平台
- D. CDMA2000 是我国自主研发的 3G 移动通信标准

【答案】D。解析：

CDMA2000 是由美国主导提出的，后来摩托罗拉、韩国三星等都有参与，并不是我国自主研发的。因而 D 项的说法是错误的。

所以，正确选项是 D。

117. 以下说法正确的是：

- A. 存在主义是十九世纪流行于西方的哲学思潮
- B. 玛雅文化以南美洲的秘鲁为中心
- C. 世界第二次工业革命的主要标志是蒸汽机的广泛使用
- D. 十八世纪欧洲启蒙运动的中心在法国

【答案】D。解析：

存在主义又称生存主义，是当代西方哲学主要流派之一，在 20 世纪初获得发展，二战后成为西方思想界的主流学说。因而 A 项错误，排除。

玛雅文化主要分布在中美洲一带，而不是在南美洲。因而 B 项错误，排除。

蒸汽机的广泛使用是第一次工业革命的主要标志，第二次工业革命的主要标志是电的广泛使用。因而 C 项错误，排除。

所以，正确选项是 D。

118. 以下哪个选项中的作品全部出自美国作家之手？

- A. 《悲惨世界》、《了不起的盖茨比》、《百年孤独》
- B. 《飞鸟集》、《草叶集》、《静静的顿河》
- C. 《飘》、《红字》、《汤姆叔叔的小屋》
- D. 《瓦尔登湖》、《海底两万里》、《堂吉诃德》

【答案】C。解析：

《悲惨世界》的作者是法国作家雨果，因而 A 项错误，排除。

《飞鸟集》的作者是印度诗人泰戈尔，因而 B 项错误，排除。

《海底两万里》的作者是法国作家儒勒·凡尔纳，《堂吉诃德》的作者是西班牙作家塞万提斯，因而 D 项错误，排除。

所以，正确选项是 C。

119. 菠菜不仅含有大量的β胡萝卜素，也是维生素 B6、叶酸、铁和钾的极佳来源。但是菠菜不能直接烹调，吃菠菜时宜先用沸水烫软，捞出再炒。在烹调前用沸水烫菠菜的主要原因是：

- A. 清除生菠菜含有的红血球凝集素
- B. 改变生菠菜内龙葵素的化学成分
- C. 防止菠菜内的草酸成分阻碍人体对钙的吸收
- D. 清除菠菜种植过程中残留的农药

【答案】C。解析：

菠菜中含有草酸，草酸影响钙的吸收。在食用菠菜时先用开水烫一下，可以降低菠菜中的草酸含量，从而防止菠菜内的草酸成分阻碍人体对钙的吸收。

所以，正确选项是 C。

120. 红细胞是血液中数量最多的一种血细胞，它在人体中的主要作用是：

- A. 将氧气从肺运送到身体各个组织
- B. 作为免疫系统的一部分帮助身体抵抗传染病以及外来感染

- C. 促进血液中的生物化学反应，辅助生物体的新陈代谢
- D. 在血管破裂时大量聚集，起到凝血作用

【答案】A。解析：

红细胞是人体内通过血液运送氧气的最主要媒介。

所以，正确选项是 A。

全部测验到此结束！

请扫描QQ二维码，备注“公务员考生”加QQ
好友，获取曹长远老师精解历年公务员考试申论、
行测、面试真题完整解析资料。

精品资料，尽在掌握！

