

2011年9月17日甘肃公务员考试

《行政职业能力测验》真题答案解析

说明

一、此项测验分为五个部分，共120题，总时限120分钟，满分100分。各部分不单独计时，但都给出参考时限，供答题时合理分配时间。

二、此项测验科目代码为“1”。请按照要求在答题卡上填写好自己的姓名，涂写好准考证号、科目代码。

三、必须在答题卡上答题，在题本上答题，一律无效。

严禁折叠答题卡！

第一部分 常识判断

根据题目要求，在四个选项中选出一个最恰当的答案。

1. 毛泽东同志在其诗词中描写过许多历史事件：

- ①六盘山上高峰，红旗漫漫卷西风。
- ②黄洋界上炮声隆，报道敌军宵遁。
- ③更喜岷山千里雪，三军过后尽开颜。
- ④雾满龙冈千峰暗，齐声唤，前头捉住了张辉瓒。

以上诗词涉及的历史事件按时间先后顺序排列正确的是：

- A. ②④③①
- B. ④②①③
- C. ②④①③
- D. ④②③①

【答案】A。解析：

- ②黄洋界上炮声隆，报道敌军宵遁——1928年；
 - ④雾满龙冈千峰暗，齐声唤，前头捉住了张辉瓒——1931年；
 - ③更喜岷山千里雪，三军过后尽开颜——1935年9月；
 - ①六盘山上高峰，红旗漫漫卷西风——1935年10月。
- 所以，正确选项是A。

2. 建国以来，我国提出了一系列的外交方针政策：

- ①“韬光养晦，有所作为”。
- ②“和平共处五项原则”、“求同存异”。
- ③“搁置争议，共同开发”。
- ④“和谐共处”、“合作共赢”。

上述方针政策按时间先后顺序排列正确的是：

- A. ②③①④
- B. ②①③④
- C. ①②③④
- D. ①②④③

【答案】A。解析：

②“和平共处五项原则”——1953年12月，周总理在会见来访的印度代表团时提出。
③“搁置争议，共同开发”——1979年6月，中方通过外交渠道正式向日方提出共同开发钓鱼岛附近资源的设想。

- ①“韬光养晦、有所作为”——20世纪80年代末90年代初邓小平提出。
- ④“和谐共处”、“合作共赢”——是我国现在的外交方针政策。

所以，正确选项是 A。

3. 下列选项中不准确的是：

- A. 行政处罚通常由违法行为发生地的县级以上有权行政主体管辖
- B. 在我国，人民检察院对行政案件的审理进行监督主要是采用抗诉的方式
- C. 行政机关作出影响相对方权利义务决定后，应说明作出决定的法律依据
- D. 行政机关发现对公民、法人或其他组织作出的行政处罚有错误的，应当主动改正

【答案】C。解析：

根据行政程序的说明理由制度，行政机关作出影响相对方权利义务决定时，要说明作出决定的事实原因和法律依据。由此可知，C 项的说法是不准确的。

所以，正确选项是 C。

4. 下列选项中错误的是：

- A. 甲就其被处行政拘留处罚起诉后，由其所在地或被告所在地人民法院管辖
- B. 若利害关系人就行政许可要求组织听证，那么听证费用应由申请人承担
- C. 某派出所对乙作出行政拘留的处罚决定，乙向其县级人民政府申请行政复议
- D. 丙工厂将排污口建在行洪道上并违规排放，某市环保局与市水利局对该工厂分别作出处罚

【答案】B。解析：

《行政处罚法》第 42 条规定：当事人要求听证的，行政机关应当组织听证。当事人不承担行政机关组织听证的费用。由此可知，B 项的说法是错误的。

所以，正确选项是 B。

5. 下列属于旁系血亲关系的是：

- A. 祖孙之间的关系
- B. 兄弟之间的关系
- C. 夫妻之间的关系
- D. 父子之间的关系

【答案】B。解析：

直系血亲是指与自己有直接血缘关系的亲属，即生育自己和由自己所生育的上下各代亲属。旁系血亲是指具有间接血缘关系的亲属，即除直系血亲以外的、与自己同出一源的血亲。由此可知，A 项“祖孙之间的关系”和 D 项“父子之间的关系”属于直系血亲，C 项“夫妻之间的关系”不属于血亲关系。只有 B 项“兄弟之间的关系”属于旁系血亲关系。

所以，正确选项是 B。

6. 下列选项中错误的是：

- A. 环境法律关系主体不履行环境义务的，由可能承担民事责任
- B. 甲公司不服省政府最终裁决，向最高人民法院提起行政诉讼
- C. 根据我国立法法规定，国务院各部委有权发布命令、指示和规章
- D. 某市政府一处长被撤销职务，他不能因此事项当地人民法院提起诉讼

【答案】BA。解析：

《行政诉讼法》第 12 条规定：人民法院不受理公民、法人或者其他组织对下列事项提起的诉讼……（四）法律规定由行政机关最终裁决的具体行政行为。根据该条法律规定，B 项中的甲公司对“省政府最终裁决”不得向最高人民法院提起行政诉讼。由此可知，B 项的说法是错误的。

所以，正确选项是 B。

7. 中国古代以天干地支纪年，天干是：甲、乙、丙、丁、戊、己、庚、辛、壬、癸。地支是：子、丑、寅、

卯、辰、巳、午、未、申、酉、戌、亥。甲午战争发生在 1894 年，1900 年八国联军侵华以干支纪年是：

- A. 乙亥年
B. 庚子年
C. 辛丑年
D. 壬寅年

【答案】B。解析：

已知 1894 年是甲午年， $1900 - 1894 = 6$ ，则 1900 年天干纪年为“甲+6=庚”，地支纪年为“午+6=子”。由此可知，1900 年的干支纪年是庚子年。

所以，正确选项是 B。

8. 汉字源远流长，下列字体按出现时间先后顺序排列正确的是：



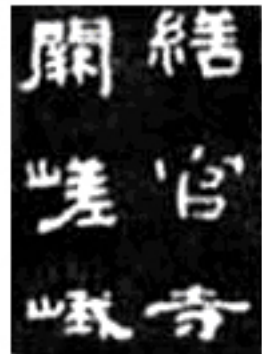
(1)



(2)



(3)



(4)

- A. ②①④③
B. ①②④③
C. ②①③④
D. ①③④②

【答案】A。解析：

汉字字体按出现时间先后书序可以排列为：甲骨文—金文—小篆—隶书—楷书、行书、草书。①属于小篆，②属于甲骨文，③属于楷书，④属于隶书。由此可知，正确排序为 A。

所以，正确选项是 A。

9. 下列说法错误的是：

- A. 《古文观止》成书于清代康熙年间
B. 《尚书》是我国最早的历史文献总集
C. 《史记》是司马迁编纂的叙事历史著作
D. 《资治通鉴》是司马光主编的编年体史书

【答案】C。解析：

《史记》是司马迁编纂的中国第一部纪传体通史，而不是叙事历史著作。由此可知，C 项的说法是错误的。所以，正确选项是 C。

10. 下列说法错误的是：

- A. 19 世纪美国在世界上最早确立了总统共和制
B. 15 世纪新航路的开辟开启了世界经济全球化的进程
C. 17 世纪英国通过工业革命成为当时世界上最发达的工业国
D. 19 世纪法国颁布的《拿破仑法典》是资产阶级国家最早的民法典

【答案】C。解析：

英国工业革命始于 18 世纪。由此可知，C 项的说法是错误的。所以，正确选项是 C。

11. 下列选项正确的是：

- A. 黎族同胞说：“我们每年举行盛大的赛马会”
- B. 朝鲜族同胞说：“我们种的莲雾又获得丰收”
- C. 傣族同胞说：“泼水节是我们传统的盛大节日”
- D. 高山族同胞说：“我们用青稞酒招待远方来客”

【答案】C。解析：

泼水节是傣族的传统节日，因而 C 项的说法是正确的。

赛马会是藏族的传统节日，而不是黎族的，因而 A 项错误，排除。莲雾是一种热带水果，主要生长在台湾地区，而朝鲜族主要分布在我国东北地区，因而 B 项错误，排除。青稞酒是藏族最喜欢的酒，而不是高山族的，因而 D 项错误，排除。

所以，正确选项是 C。

12. 下列说法错误的是：

- A. 青藏高原上雪山连绵、冰川耸立，是世界上最大的“固体水库”
- B. 准噶尔盆地位于天山以北，降水较多，农牧业发达，被誉为“塞北江南”
- C. 柴达木盆地存储丰富的盐、石油、煤以及多种金属矿藏，被称为“聚宝盆”
- D. 成都平原上有举世瞩目的都江堰，自古农业发达，有“天府之国”的美称

【答案】A。解析：

地球上 90% 的冰雪都储存在南极大陆，世界上最大的“固体水库”是南极洲，而不是青藏高原。由此可知，A 项的说法是错误的。

所以，正确选项是 A。

13. 下列说法正确的是：

- A. 木马是一种计算机程序，它常被黑客用来窃取用户电脑中的信息
- B. 信息存储的常用单位有 TB、GB、MB、KB、B，1TB=1000²MB=1000⁴B
- C. 防病毒卡是病毒防护的硬件，安装它可以清除病毒，避免硬盘被感染
- D. WINDOWS 可以支持图形、音频等，但对硬件配置的要求却比 LINUX 低

【答案】A。解析：

木马是一种计算机程序，它常被黑客用来窃取用户电脑中的信息，A 项的说法是正确的。

信息存储的常用单位有 TB、GB、MB、KB、B，1KB=1024B，1MB=1024KB，1 GB=1024MB，1TB=1024GB=1024×1024MB=1048576MB，因而 B 项错误，排除。防病毒卡是病毒防护的硬件产品，安装它可以对一定范围内新出现的病毒具有防护能力，但对病毒不具备消除能力，因而 C 项错误，排除。目前来说，WINDOWS 对硬件配置的要求比 LINUX 高，因而 D 项错误，排除。

所以，正确选项是 A。

14. 下列关于蛋白质化学特性叙述错误的是：

- A. 蛋白质的组成单位是氨基酸
- B. 蛋白质可以水解为脱氧核糖核酸
- C. 蛋白质变性凝固过程是不可逆的
- D. 组成蛋白质的基本化学元素是碳、氢、氧、氮

【答案】B。解析：

蛋白质可以水解为氨基酸，而不是水解为脱氧核糖核酸。因而 B 项的说法是错误的。

所以，正确选项是 B。

15. 下列说法错误的是：

- A. 家用冰箱不宜存放汽油、乙醇等易燃性液体
- B. 使用干粉灭火器灭火时，应对准火焰的底部喷射
- C. 火灾现场中首先对人体造成危害的一般是烟雾和毒气
- D. 发现室内燃气泄漏，应打开门窗，关闭气源和大功率家用电器

【答案】D。解析：

当发现燃气泄漏时，千万不要关闭任何电器，以免产生火花引发火灾或爆炸。因而 D 项的说法是错误的。所以，正确选项是 D。

16. 下列最符合环保要求的做法是：

- A. 小吴很讲究卫生，与人握手后就用清洁剂洗手
- B. 为减少用水量，小何在洗碗时常使用生物洗涤剂
- C. 为减少生活垃圾，小王将剩菜搅碎后再用水冲走
- D. 小明喜欢上网，每到新年他就给朋友们发电子贺卡

【答案】D。解析：

在新年时给朋友们发电子贺卡，可以节约用纸，最符合环保要求。因而 D 项的说法正确。所以，正确选项是 D。

17. 下列说法错误的是：

- A. 城市生态系统容易被污染，主要原因是城市生态系统营养结构简单
- B. 在国家或地方自然保护区内建立野生药材保护区，需要征得自然保护部门的同意
- C. 我国近年出现的水华和赤潮分别是淡水和海水长期被污染，使水体富营养化而产生的
- D. 酸雨是由于大气中二氧化碳浓度过高引起的，它对人体、水生系统、陆生系统、建筑物等都会产生较大危害

【答案】D。解析：

酸雨主要是由煤、石油、天然气等化石燃料燃烧产生的二氧化硫、氮氧化物，在大气中经过复杂的化学反应，被雨水吸收而成，并非由于大气中二氧化碳浓度过高而引起。因而 D 项的说法是错误的。所以，正确选项是 D。

18. 下列说法错误的是：

- A. 当今世界各军事强国都将雷达对抗作为研究发展电子战的重点
- B. 深水载人潜水器体积小、航程短，必须依靠母船补给能量和空气
- C. 目前航空母舰舰载机的起飞方式有滑跃起飞、垂直起飞和弹射起飞
- D. 人类使用生物武器可追溯到冷兵器时代，它利用细菌、病毒杀伤敌人

【答案】A。解析：

电子战是指敌对双方争夺电磁频谱使用和控制权的军事斗争，包括电子侦察与反侦察、电子干扰与反干扰、电子欺骗与反欺骗、电子隐身与反隐身、电子摧毁与反摧毁等，并不是将雷达对抗作为研究发展电子战的重点。因而 A 项的说法是错误的。

所以，正确选项是 A。

19. 下列选项中错误的是：

- A. 汽车价格下降，其互补品汽油需求量将增加
- B. 货币供给既定，市场利率提高，货币投机需求则相应减少

- C. 在企业成本核算中，补偿机器设备无形损耗的折旧费属于可变成本
D. 与汽车、飞机制造业相比，日用小商品制造业最接近于完全竞争模式

【答案】C。解析：

在企业成本核算中，补偿机器设备无形损耗的折旧费属于不变成本，而不是可变成本。因而 C 项的说法是错误的。

所以，正确选项是 C。

20. 下列说法错误的是：

- A. 企业在目标设立过程中，通常目标要略高于当前的生产经营能力
B. 在管理过程中，各级管理人员及其所属的职能部门是控制的主体
C. 组织的专项计划必须以综合计划为指导，避免与综合计划相脱节
D. 扁平化管理需要较多的管理人员，管理人员之间的协调比较困难

【答案】D。解析：

所谓扁平化管理就是通过减少行政管理层次，裁剪冗余人员，从而建立一种紧凑、干练的扁平化组织结构。扁平化管理需要的管理人员相对较少，而不是需要较多的管理人员。因而 D 项的说法是错误的。

所以，正确选项是 D。

第二部分 言语理解与表达

本部分包括表达与理解两方面的内容。请根据题目要求，在四个选项中选出一个最恰当的答案。

21. 食品安全不仅由食品药品监督管理部门负责，还涉及工商、卫生、农业、质量检验检疫等部门的职责，“九龙治水”极易造成“_____”，一项论责任要各方分担、利益却与其他部门无涉的工作，常常会由于缺少强力的调配、精确的协调和统一的部署，失去推动力。

填入划横线部分最恰当的一项是：

- A. 各自为政
B. 一盘散沙
C. 群龙无首
D. 敷衍了事

【答案】C。解析：

阅读可知，填入空格中的词语必须与前面的“九龙治水”和后面的“缺少强力的调配、精确的协调和统一的部署”相呼应。所谓“缺少……统一的部署”（隐含：九条龙缺少统一领导，也就是“群龙无首”的意思）。因此，在空格中填入“群龙无首”，可以形成恰当的语境呼应。

所以，正确选项是 C。

22. 在生物界中，最为高级的人眼也有不足之处，比如能观看的角度太小。而鱼眼在视角上_____，在所有的动物中，鱼的眼睛视角最大，有的大到 160~170 度，甚至还有更大的。

填入划横线部分最恰当的一项是：

- A. 得天独厚
B. 独一无二
C. 绝无仅有
D. 卓尔不群

【答案】A。解析：

阅读可知，填入空格中的词语必须与后面的“在所有的动物中，鱼的眼睛视角最大”相呼应。所谓“在所有的动物中，鱼的眼睛视角最大”（隐含：与其他动物相比，鱼眼的自然条件特别优越，也就是“得天独厚”的意思）。因此，在空格中填入“得天独厚”，可以形成恰当的语境呼应。

所以，正确选项是 A。

23. 在职称评审过程中，各级评审组织几乎无法看到申报人的艺术实践能力，只能看到表格栏目里的论文和项目。在唯论文是重的标准下，音乐理论的教师还能体现一些真才实学，而表演艺术的教师则只能扬短避

蓬勃状态。相比较说，在空格中填入“鼎盛”呼应语境更为恰当。由此排除 C 项。

所以，正确选项是 A。

27. 城市规模是_____城市发展程度的重要指标，_____城市规模的大小可从人口、占地范围、经济发展的水平等多方面来_____。

依次填入划横线部分最恰当的一项是：

- A. 衡量 判断 考察
B. 衡量 考察 判断
C. 考察 衡量 判断
D. 考察 判断 衡量

【答案】A. 解析：

阅读可知，填入第一个空格中的词语必须与后面的“城市发展程度”相呼应。“衡量”与“发展程度”属于固定搭配。根据“突点排除法”，可以直接排除 C、D 两项。

填入第二个空格中的词语必须与后面的“城市规模的大小”相呼应。“规模大小”必定是判断出来的。只有在第二个空格中填入“判断”，才可以形成恰当的语境呼应。由此排除 B 项。

所以，正确选项是 A。

28. 当代法国生态纪录片并不仅仅是单纯_____动物生活，而是探索更深层的真实，把被肉眼隐藏的内涵加以揭示，复活人们的现实生活中_____了的感觉，让观众发现在日常认识中被忽略的动物的力量 and 美感，并从动物身上寻找到全新的意义，透过它们，人类也多了一扇审视自己的窗口。在这些华美影像背后，人与动物，自然精髓，天地仁爱，_____成关于生命本身的哲学命题。

依次填入划横线部分最恰当的一项是：

- A. 翻制 枯萎 交织
B. 复制 枯竭 交织
C. 复制 枯萎 交织
D. 复制 枯萎 编织

【答案】C. 解析：

阅读可知，填入第一个空格中的词语必须与前面的“生态纪录片”相呼应。所谓“翻制”，是指用模具翻制，“生态纪录片”显然不是用模具翻制。由此排除 A 项。

填入第二个空格中的词语必须与前面的“复活”相反相对。“枯竭”主要用来形容水源干涸、资源枯竭等，与“复活”搭配不当。由此可以排除 B 项。

填入第三个空格中的词语必须与前面的“人与动物，自然精髓，天地仁爱”相呼应。这些对象是客观的存在，不是由人把它们“编织”在一起的，而是一个整体，是错综复杂地“交织”在一起的。由此可以排除 D 项。

所以，正确选项是 C。

29. 天花作为一种恶性传染病，是最早被人类_____的一种烈性传染病。早在 3000 多年前的古埃及，就曾留下了天花流行的_____。在古埃及法老拉美西斯五世的木乃伊上，考古学家在其脸部找到了有天花的_____，通过考古学和病理学的研究，证明了这可能是人类历史上目前能找到的最早的一个天花病例。

依次填入划横线部分最恰当的一项是：

- A. 认识 迹象 痕迹
B. 认知 印迹 印证
C. 记载 痕迹 印记
D. 记录 传说 印迹

【答案】C. 解析：

阅读可知，填入第一个空格中的词语必须与前面的“最早”以及后面的“早在 3000 多年前的古埃及”相呼应。人们之所以能知道 3000 多年前埃及的天花是“最早”的，必定是通过相关某些“记载”、“记录”确定的。由此可以直接排除 A、B 两项。

比较“记载”和“记录”两个词语，与“记录”相比，“记载”更强调历史记载，与语境的呼应更为恰当。

由此可以排除 D 项。

所以，正确选项是 C。

30. 苏州建城有 2500 年之久，它已经_____。无怪乎七年前初次_____的时候它是那样疲劳，那样忧伤，那样强颜欢笑。失修的名胜与失修的城市，以及市民失修的心灵似乎都在_____苏州自身的存在。苏州，还是苏州吗？

依次填入划横线部分最恰当的一项是：

- A. 千疮百孔 拜访 置疑
B. 未老先衰 探访 质疑
C. 老气横秋 寻访 质问
D. 老态龙钟 造访 怀疑

【答案】D。解析：

阅读可知，填入第一个空格中的词语必须与前面的“2500 年之久”相呼应，意在强调苏州的“老”。由此可以直接排除 A、B 两项。

比较“老气横秋”和“老态龙钟”两个词语，“老气横秋”容易被误选。“老气横秋”不是形容“老”，而是形容摆老资格，自以为了不起的样子，与语境不符。由此排除 C 项。

所以，正确选项是 D。

31. 人的欲望是无穷的，不受限制的欲望无疑是贪婪的同义语。相对于人的无限的欲望而言。科学技术与生产力的任何进步都不过是_____。一种文明如果把掠夺和征服自然（以便使人的无穷欲望得到满足）视为自己的价值_____，那么，环境污染与生态危机的出现就是不可避免的。因此，环境危机是不能通过_____的技术手段来解决。

依次填入划横线部分最恰当的一项是：

- A. 无济于事 原则 复杂
B. 螳臂当车 根本 简单
C. 杯水车薪 圭臬 单纯
D. 沧海一粟 底线 单一

【答案】C。解析：

阅读可知，填入第一个空格中的词语必须与前面的“贪婪”、“人的无限欲望”相呼应。相对于人的贪婪的欲望之火，科学技术与生产力的任何进步都不可能彻底解决。由此可以直接排除 B、D 两项。

比较“无济于事”和“杯水车薪”两个词语，“无济于事”容易被误选。“无济于事”指对事情没有什么帮助或益处，“杯水车薪”是说用一杯水去救一车着了火的柴草，比喻力量太小，解决不了多大问题。相比较说，“杯水车薪”与语境的呼应更为恰当。由此排除 A 项。

所以，正确选项是 C。

32. 其实“拥有秘密”是成年人的一个_____，孩子要长大成人，必然要进入一个拥有秘密的世界。这是一个_____的过程，最初，孩子并没分清哪些是秘密，不知道如何保守秘密，不懂得给秘密分级，但是他们又极为渴望拥有秘密。于是，他们的生活变得_____，好像每个人都守着很多不能告诉别人的秘密。

依次填入划横线部分最恰当的一项是：

- A. 标志 学习 神秘兮兮
B. 界线 成长 神秘莫测
C. 特征 积累 莫测高深
D. 象征 变化 深不可测

【答案】A。解析：

阅读可知，填入第二个空格中的词语必须与后面的“过程”、“最初，孩子并没分清哪些是秘密，不知道如何保守秘密，不懂得给秘密分级”相呼应。一个孩子从分不清哪些是秘密，不知道如何保守秘密，不懂得给秘密分级，到能够分清哪些是秘密，能够知道如何保守秘密，能够懂得给秘密分级的“过程”，必然是一个“学习”的过程。根据“突点排除法”，可以直接排除 B、C、D 三项。

所以，正确选项是 A。

- ④日本最先开始海外屯田，它拥有超过国内农田面积三倍的 1200 万公顷海外农田
- ⑤此外，一些企业，如摩根士丹利、英国 LandKom 公司、瑞士黑土农垦和阿尔帕科农业公司等也开始积极投资购买海外农田
- ⑥在全球粮食危机和粮食贸易保护的背景下，大量国家加入了耕地海外扩张行列，将“海外屯田”作为确保粮食安全的重要战略
- ⑦过去严重依赖粮食进口的沙特、阿曼等海湾国家在 2008 年组成海湾国家合作委员会，携手并战于海外屯田

将以上 7 个句子重新排列，语序正确的是：

- A. ①⑥④③⑦②⑤
B. ⑥④⑦⑤②③①
C. ①⑥④⑦②③⑤
D. ⑥④③⑦②⑤①

【答案】D。解析：

本题要求根据语句之间的逻辑关系进行排序。对比四个选项，第一句要么是①，要么是⑥。阅读可知，①是得出“我国也应积极探索海外屯田”的结论，⑥是描述“海外屯田”的背景。我们知道，不可能在文章的开头就得出结论，因此可以直接排除 A、C 两项。

对比 B、D 两项，区别在于⑦和③的顺序。阅读可知，⑦说的是 2008 年，③说的是 2007 年，按照时间的先后顺序，必然是③在⑦的前面。由此可以排除 B 项。

所以，正确选项是 D。

37. ①干细胞的重要性奠定了其在医药卫生、科技产业、国防等领域内的重要地位
- ②美国总统奥巴马上任之初就宣布取消前任总统对干细胞研究的限制
- ③干细胞因其在生命科学、新药试验和疾病研究这三大生物医药领域的重要作用受到全世界医学界和政治人物的关注
- ④2009 年，美国 FDA 批准了世界上首次人类胚胎干细胞治疗脊髓损伤的临床试验
- ⑤因此，干细胞的研究、开放和应用可以看作是人类的健康工程，预期在未来几年内会有很大的飞跃
- ⑥现在人们已经发现，癌症、糖尿病、帕金森氏症、心脑血管病、组织器官纤维化、自身免疫性疾病等一系列疾病都可能是干细胞数量减少或结构功能变异引起的

将以上 6 个句子重新排列，语序正确的是：

- A. ③②①⑤⑥④
B. ①⑤③②⑥④
C. ③②④⑥①⑤
D. ①⑤⑥④③②

【答案】C。解析：

本题要求根据语句之间的逻辑关系进行排序。对比四个选项，第一句要么是③②，要么是①⑤。阅读可知，③②是描述“干细胞研究”的背景，①⑤是描述“干细胞研究”的地位，并得出结论。我们知道，不可能在文章的开头就得出结论，因此可以直接排除 B、D 两项。

对比 A、C 两项，前面我们已经知道，⑤是得出结论的句子，必须放在文章的结尾。④是有关美国干细胞研究的一个具体材料，显然不能放在文章的最后。由此可以排除 A 项。

所以，正确选项是 C。

38. 深入研读西方经典不会使人变好或变坏，也不会使公民变得更有用或更有害。心灵的自我对话本质上不是一种社会现实，西方经典的全部意义在于使人善用自我的孤独。

关于上述文字，下列理解正确的是：

- A. 研读西方经典可以排遣孤独
B. 西方经典是人们排遣孤独的产物
C. 研读西方经典并不会提高公民的素质
D. 研读西方经典是自我心灵的非功利性活动

【答案】D。解析：

本题属于“推断文意型”。

阅读可知，题干属于转折型结构，转折型结构强调的是转折后面的内容。研读西方经典“不会使人变好或变坏，也不会使公民变得更有用或更有害”（隐含：非功利性），其意义在于“心灵的自我对话”，“使人善用自己的孤独”。由此可以推知D项：研读西方经典是自我心灵的非功利性活动。

所以，正确选项是D。

39. “我不同意你的说法，但我誓死捍卫你说话的权利”，这句话据称是法国启蒙思想家，被称为“法国良心”的伏尔泰说的，作为捍卫“言论自由”标志性的符号，这句话一直被欧美媒体和政客不遗余力地向全世界推广。令人意想不到的是，经考证，伏尔泰并未说过这句话，这好像在西方“言论自由”的说法上戳了一个窟窿。一个在欧美生活多年的中国学者称，在美国有18种“言论自由”不受保护，“欧洲人权公约”对言论自由限制的内容比言论自由的内容长一倍。

这段文字意在强调：

- A. 西方“言论自由”存在双重标准
B. 西方“言论自由”是不存在的
C. 西方不存在绝对的“言论自由”
D. 有人借伏尔泰之名杜撰了言论自由的名言

【答案】C。解析：

本题属于“推断文意型”。

阅读可知，题干属于转折型结构，转折型结构强调的是转折后面的内容。“令人意想不到的是，经考证，伏尔泰并未说过这句话，这好像在西方“言论自由”的说法上戳了一个窟窿”（隐含：对西方鼓吹“言论自由”的质疑），“在美国有18种‘言论自由’不受保护，‘欧洲人权公约’对言论自由限制的内容比言论自由的内容长一倍”（隐含：西方的“言论自由”是受限制的，而不是绝对的）。由此可以推知C项：西方不存在绝对的“言论自由”。

所以，正确选项是C。

40. 文艺批评的诸多缺陷是缺乏理论勇气的表现，批评之所以失语和缺位，是因为背后没有了可适用的足够强大的新理论和精神来支撑，心中也就无话可说。什么是健康的文艺批评？标准有很多，其中最重要的一条标准，就是能宽容、理性地对待与自己文化主张不一样的文化实践。

这段文字意在强调：

- A. 宽容、理性是文艺批评中最重要的理论标准
B. 文艺批评失语和缺位是由于缺乏理论勇气造成的
C. 健康的文艺批评必须要有足够强大的新方法、新理论来支撑
D. 健康的文艺批评必须能宽容、理性地对待不同的文化主张

【答案】D。解析：

本题属于“推断文意型”。

阅读可知，题干属于证明型结构，证明型结构强调的是论点而不是论据。题干在最后提出论点：“健康的文艺批评的……标准有很多，其中最重要的一条标准，就是能宽容、理性地对待与自己文化主张不一样的文化实践”。所谓“最重要的”，表现出了明显的强调。由此可以推知D项：健康的文艺批评必须能宽容、理性地对待不同的文化主张。

所以，正确选项是D。

41. 中央气象台进行天气预报，先用计算机解出描述天气演变的方程组，“算”出来未来天气。天气预报员通过分析天气图、气象卫星等资料，再根据经验的累积，作出未来3~5天的具体天气预报。每天上午8点，中央气象台联网各地气象台，进行天气会商，首席预报员把大家的预报意见汇总后，对未来天气的发展变化作出预报结论。

这段文字主要介绍的是：

- A. 我国“未来天气”的预报是怎样做出来的

- B. 中央气象台用高科技的手段观测天气
- C. 人工分析预报在天气预报中无可替代
- D. 天气预报是科学家们集体智慧的结晶

【答案】A。解析：

本题属于“概括主旨型”。

阅读题干，从其中的连接词“……先……再……每天上午8点……”可以看出，前后内容之间在顺序上具有明显的时间承接关系，预报“未来天气”的过程。由此可知这段文字主要介绍的是A项：我国“未来天气”的预报是怎样做出来的。

所以，正确选项是A。

42. 曾几何时，欧洲殖民者走到哪里，朗姆酒就被带到哪里。当地人被迫接受列强的殖民统治，但却心甘情愿地接受了朗姆酒，“为了得到朗姆酒，他们甚至愿意付出一切”。殖民地地造就了朗姆酒，而朗姆酒的存在又促进了殖民地的不断扩张。

作者在上述这段话中没有表达的意思是：

- A. 殖民地人民喜欢殖民者的朗姆酒
- B. 朗姆酒帮助了欧洲殖民地的扩张
- C. 朗姆酒随殖民扩张被带到世界各地
- D. 朗姆酒深受不同种族、不同阶级的喜爱

【答案】D。解析：

本题属于“推断文意型”。

阅读可知，题干中没有涉及“不同阶级”这方面的内容。由此可知，D项“朗姆酒深受不同种族、不同阶级的喜爱”，是作者在这段话中没有表达的意思。

所以，正确选项是D。

43. 家长、学生和雇主没有参与院校管理的当然权力，但却有对高等院校社会责任的问责权。高等教育大众化，大学经费来源多元化，导致家长、学生以及雇主都成为高等院校的利益相关者。对于家长和学生而言，他们对高等院校责任的问责，更多在学生能否获得良好的学习经历和学习体验，学校能否培养出适合社会需求的毕业生，而且能够针对企业和社会需求，进行直接投入生产和增加效益的应用型研究。

从上述文字我们可以得出：

- A. 高等教育大众化容易受到急功近利的社会风气影响
- B. 高等院校应给予家长、学生和雇主社会责任问责权
- C. 高等院校的发展应考虑家长、学生和雇主的利益诉求
- D. 家长、学生和雇主的要求促进了应用型学科蓬勃发展

【答案】C。解析：

本题属于“推断文意型”。

阅读可知，题干首先指出家长、学生和雇主“有对高等院校社会责任的问责权”，然后具体解释了家长、学生和雇主“对高等院校责任的问责”的内容。让我们来推断一下，作者为什么要说这些话呢？透过字里行间我们可以体会到，既然家长、学生和雇主有问责权，并且提出了具体的问责内容，那么作为高等学校决不能置之不理，必须充分“考虑家长、学生和雇主的利益诉求”。

所以，正确选项是C。

44. 蝴蝶以其绚丽的色彩和优美的舞姿，赢得了“会飞的花朵”、“大自然的舞姬”等美誉。蝴蝶翅膀丰富的色彩、各异的图案造就了这美丽的精灵。有些蝴蝶在阳光下飞舞时翅膀会闪烁着金属光芒，有些蝴蝶翅膀的色彩可以单一到通体只有一个颜色，也有蝴蝶的颜色可以丰富到让人眼花缭乱，甚至还有人在蝴蝶翅膀上收集到了阿拉伯数字1~9和26个英文字母形状图案。

这段文字描述的主要是：

- A. 蝴蝶是自然界美丽的化身
B. 蝴蝶的翅膀丰富多彩、无奇不有
C. 蝴蝶是昆虫中极具有观赏性的类群
D. 在蝴蝶翅膀上有许多绚丽的图案

【答案】C。解析：

本题属于“概括主旨型”。

阅读可知，题干属于证明型结构，题干第一句提出论点：蝴蝶以其绚丽的色彩和优美的舞姿，赢得了……美誉。然后列举了大量的具体材料作为论据。证明型结构强调的是论点而不是论据。论点句中所说蝴蝶的“色彩”、“舞姿”以及“美誉”等，都是站在人对蝴蝶进行欣赏的角度而说的，是赞扬蝴蝶极具观赏性。因此，这段文字描述的主要是C项：蝴蝶是昆虫中极具有观赏性的类群。

本题的B项容易误选。由于题干中关于蝴蝶翅膀的描述篇幅很大，导致许多考生错误地选择B项。必须知道，题干论证的对象是蝴蝶，而不是蝴蝶的翅膀，关于蝴蝶翅膀的大量议论，都是论据，都是用来论证蝴蝶美丽的。如果选择B项，就是混淆了题干论证的对象，混淆了论点和论据的关系。

所以，正确选项是C。

45. 目前正在向世界各地全面拓展的汉语国际推广活动，必须将海外华人族群文化的现状考虑在内，以全面促进汉语国际推广。弘扬中华文化来发展软实力是一回事，支持海外华人文化从中华文化的母体脱胎而出，成为当地社会的族群文化又是另一回事。如果以前者来取代后者，就会混淆华人学习母语与学习一种外国语的界限，混淆配合海外华人构建自己的族群文化与弘扬中华文化的界限，对维护和发展华人与中国的政策关系是不利的。

这段文字强调的是：

- A. 应注意维护和发展海外华人与中国的正常关系
B. 发展中华文化软实力应与支持海外华人族群文化齐头并进
C. 海外华人文化应与中华文化巧妙融合，同时保有自身的特色
D. 汉语国际推广活动的前提之一是支持海外华人构建自己的族群文化

【答案】D。解析：

本题属于“推断文意型”。

阅读可知，题干属于证明型结构，首先提出论点，然后再通过一些论据加以论证。证明型结构强调的是论点而不是论据。“目前正在向世界各地全面拓展的汉语国际推广活动，必须将海外华人族群文化的现状考虑在内，以全面促进汉语国际推广”（隐含D项：汉语国际推广活动的前提之一是支持海外华人构建自己的族群文化）。

所以，正确选项是D。

46. 蜗牛参加了很多次动物运动会，成绩如下：跳高，零；跳远，不到一厘米；短跑，一小时一米；马拉松，到了下一届运动会开幕还没跑完，结果每次都没有得奖。今年，蜗牛参加了攀岩比赛，它速度不快，但却登上了顶峰，获得了冠军。

与这个故事寓意最相符的是：

- A. 天生我材必有用
B. 冰冻三尺，非一日之寒
C. 世上无难事，只怕有心人
D. 金无足赤，人无完人

【答案】A。解析：

本题属于“推断文意型”。

阅读可知，题干属于转折型结构，转折型结构强调的是转折后面的内容。虽然蜗牛参加跳高、跳远、短跑、马拉松都失败了，但是在最后在攀岩比赛中获得了冠军（隐含：天生我材必有用）。

所以，正确选项是A。

47. 芭蕾，在中国若从清末在宫廷里表演算起，已经一个多世纪，如果从俄罗斯上个世纪20年代在上海开始教授也近百年。芭蕾舞与中国传统审美确实存在很大距离，然而中国人却能顺利接受，百年来从未间断。即

便在“文革”那样的岁月，芭蕾舞仍然畅行于舞台，担负起“样板”的重任。芭蕾舞曾经是欧洲宫廷欣赏的文化，进入我国却实现了中国化，一批批中国选手登上了国际赛场的领奖台。

这段文字叙述的主要是：

- A. 在中国芭蕾舞也有着悠久的历史传统
- B. 芭蕾舞以其独特的魅力在中国生根开花
- C. 中国人对芭蕾舞始终保持着开放的态度和持续的热情
- D. 芭蕾舞成为一个外来文化在中国大地生根开花的奇迹

【答案】D。解析：

本题属于“推断文意型”。

阅读可知，题干属于转折型结构，转折型结构强调的是转折后面的内容。芭蕾舞与中国传统审美确实存在很大距离，“然而中国人却能顺利接受，百年来从未间断……担负起‘样板’的重任……实现了中国化，一批批中国选手登上了国际赛场的领奖台”，字里行间流露出作者对西方的芭蕾舞竟然能在中国生根开花的惊奇（隐含D项：芭蕾舞成为一个外来文化在中国大地生根开花的奇迹）。

所以，正确选项是D。

48. 诗歌绝不能仅仅停留在纸质媒体上，要充分利用舞台、影视等多种平台，这样才能为人民群众所接受并保持长久的生命力。很多优秀诗歌作品本身具有较高的艺术性，在走向舞台、影视的过程中又融入了表演者的理解和感受，对诗歌进行了“第二次艺术创作”，辅以声光电等多种现代艺术表现形式，极大地提升了诗歌的欣赏性和观赏性。

对这段话理解正确的是：

- A. 借助当代技术手段，人民群众对诗歌的理解远胜古人
- B. 借助舞台、影视等艺术形式，诗歌可以保持长久生命力
- C. 表演者对诗歌进行“第二次艺术创作”延长了诗歌的生命力
- D. 普及诗歌需要借助舞台、影视等人民群众喜闻乐见的艺术形式

【答案】B。解析：

本题属于“推断文意型”。

阅读可知，题干属于证明型结构，首先提出论点，然后再通过一些论据加以论证。证明型结构强调的是论点而不是论据。“诗歌……要充分利用舞台、影视等多种平台，这样才能为人民群众所接受并保持长久的生命力”（隐含B项：借助舞台、影视等艺术形式，诗歌可以保持长久生命力）。

所以，正确选项是B。

49. 阿Q和一切不朽的文学典型一样，是说不尽的。不同时代、不同民族、不同阶段、不同文化程度的读者从不同的角度、侧面去解读它，甚至同一个读者在人生的不同阶段对它都会有不同的理解。这些不同的解读和理解构成了一部阿Q接受史，这部接受史没有终结，也永远不会终结。

下列说法与这段文字不符的是：

- A. 阿Q的形象随着时代发展不断丰富
- B. 对阿Q的解读是个常说常新的话题
- C. 对阿Q的解读与读者自身阅历有关
- D. 未来的人民对阿Q会有更新的解读

【答案】A。解析：

本题属于“推断文意型”。

阅读可知，题干讨论的是“对阿Q的解读”。B、C、D三项都是在说“对阿Q的解读”，只有A项说的是“阿Q的形象”，与题干文意不符。

所以，正确选项是A。

50. 政府对公共风险进行管制，区别于其他社会事务的最大特点在于“决策于未知之中”，不确定性的存在，为

风险管制的决策与实施增加了难度。鉴于此，风险管制者应该通盘考虑科学因素、经济因素、政治因素和法律因素，忽视其中任何一项因素，都可能导致管制失灵

上述文字中，作者意在表明

- A. 公共风险管理的重要性
- B. 公共风险管理的复杂性
- C. 公共风险管理的多变性
- D. 公共风险管理的不可控性

【答案】C。解析：

本题属于“推断文意型”。

阅读可知，公共风险管制的最大特点在于“决策于未知之中”和“不确定性的存在”。所谓“未知”、“不确定性”（隐含C项：公共风险管理具有多变性）。

所以，正确选项是C。

51. 进入21世纪，中国的媒体事件频发，媒体对事件的关注程度和方式决定了公众的态度和事件的发展。人们所看到的已经不是事件本身，而是经过媒体把关后的媒体事件。随着网络的兴起，媒体事件更是集中地以网络事件的形式表现。在网络事件中，网民是网络舆论和网络监督的主体，他们的触角遍布社会各个角落，时时处处监督着政府和官员的一举一动。

下列说法与这段文字不符的是：

- A. 网络监督呈现出广泛性和普遍性
- B. 网络对社会舆论有重大影响
- C. 媒体事件可能不是事件本身
- D. 网络监督比传统手段更有效率

【答案】D。解析：

本题属于“推断文意型”。

阅读可知，题干中没有涉及“网络监督与传统手段哪个更有效率”这方面的内容。由此可知，D项“网络监督比传统手段更有效率”与题干文意不符。

所以，正确选项是D。

52. 在日本经济雄视天下的时候，很多企业家涌入艺术品市场，大肆搜罗西方印象派的作品。后来随着经济泡沫的破裂，日本艺术品购买力一落千丈，那些艺术大师的经典作品，恰似万顷波涛上的巨轮，尚能岿然不动；那些平凡之作却是小舢板，在风雨飘摇中不堪一击，其所有者难免遭受灭顶之灾。

这段文字意在强调：

- A. 购买艺术品时不能盲目跟风
- B. 艺术品市场受经济形势影响
- C. 艺术大师的经典作品能保值
- D. 艺术品价格取决于作品的成就

【答案】A。解析：

本题属于“推断文意型”。

阅读可知，题干属于转折型结构，转折型结构强调的是转折后面的内容。“那些艺术大师的经典作品，恰似万顷波涛上的巨轮，尚能岿然不动；（但是）那些平凡之作却是小舢板，在风雨飘摇中不堪一击，其所有者难免遭受灭顶之灾”，意思是：那些看见别人买艺术品就跟着购买了一堆平凡之作的人，难免遭受灭顶之灾（隐含：千万不要跟风啊）。由此可以推知A项：购买艺术品时不能盲目跟风。

所以，正确选项是A。

53. 中国的电视人，必须正视这样一个事实：无论手机、网络还是其他移动终端，真正对电视形成挑战的，不是这些实体的机构和渠道，而是在这些媒体环境浸泡之下慢慢嬗变的受众。这些受众，他们也许是电视群众，也许是网民，也许是“手拍暴民”，电视内容从传递到他们身上的那一刻开始，就已经脱离了制作者的掌控。这些受众将从电视节目中获得什么样的信息、乐趣和价值观，他们将如何解读、衍生、变造电视节目，都让电视人夜不能寐。

文章接下来最可能讲述的是：

- A. 电视受众趣味发生变化的原因
B. 电视制作人如何引导受众的审美导向
C. 电视制作如何适应受众趣味的变化
D. 受众如何利用手机、网络等媒体发表见解

【答案】C。解析：

本题属于“文意衔接型”。要求考生推测“文章接下来最可能讲述的”是什么。

阅读可知，题干的最后一句话是“……都让电视人夜不能寐”，文章接下来讲述的内容，必然呼应这一句话，去解决那些“让电视人夜不能寐”的问题。

是什么问题让电视人夜不能寐呢？是受众的乐趣和价值观。为了制作出让观众喜欢的电视节目，电视人必须学会适应受众趣味的变化。因此，文章接下来最可能讲述的是：电视制作应如何适应受众趣味的变化。

所以，正确选项是C。

54. 有科学实验表明，大多数人并没有同时处理多项任务的能力。只要一上网，人们的工作记忆就会严重超载，导致大脑额叶难以聚精会神地关注任何一件小事。同时，由于神经通路具有可塑性，上网越多，对大脑适应精力分散状态的训练就越多。这也是为什么习惯上网的人，只要离开互联网，就会感到无所适从。大脑的全面发展要求我们既能迅速解析各种信息，又能无拘无束地沉思冥想；既要能在互联网那个数字世界中积极工作，也要能隐退到田园中静思遐想。今天的问题在于，我们正在丧失在两种截然不同的思想状态之间保持平衡的能力。

根据上述文字，下列说法正确的一项是：

- A. 网络限制了人类大脑的全面发展能力
B. 网络使人们处理多项任务的能力衰退
C. 上网会使人的记忆力下降，精力分散
D. 人类原本具备自由转换思想状态的能力

【答案】A。解析：

本题属于“推断文意型”。

A项，题干说“大脑的全面发展要求我们既能迅速解析各种信息，又能无拘无束地沉思冥想……今天的问题在于，我们正在丧失在两种截然不同的思想状态之间保持平衡的能力”，这与“网络限制了人类大脑的全面发展能力”是一致的。因而A项的说法是正确的。

B项，题干说“大多数人并没有同时处理多项任务的能力”，并不是“网络使人们处理多项任务的能力衰退”。因而B项说法错误，排除。

C项，题干说“只要一上网，人们的工作记忆就会严重超载”，并不是“上网会使人的记忆力下降”。因而C项说法错误，排除。

D项，题干说“我们正在丧失在两种截然不同的思想状态之间保持平衡的能力”，并不是“人类原本具备自由转换思想状态的能力”。因而D项说法错误，排除。

所以，正确选项是A。

55. 有项购物实验，先让购物者看一些他们喜爱的物品或者厌恶的物品，以改变他们的情绪，然后再展示一些普通物品的图片，让购物者在其中进行选择。结果发现，受积极情绪控制的受试者，能够很快做出购买决定，且他们的决定更不容易被其他原因所改变。

这段文字意在说明：

- A. 心情愉快能让购物者做出快而不易变更的决定
B. 提示售货员切不可让顾客购物时产生厌恶情绪
C. 购物者看他们喜爱的物品会很快做出购买决定
D. 情绪不好的购物者会很快改变他们的购买决定

【答案】B。解析：

本题属于“推断文意型”。

阅读可知，题干中的购物实验结果表明：受积极情绪控制的受试者，能够很快做出购买决定，且他们的决定更不容易被其他原因所改变。作者为什么要描述这个实验呢？其用意应该是研究购物者的心理，从而为销售

方提供帮助。因此，这段文字意在提示售货员，为了销售更多的商品，切不可让顾客购物时产生厌恶情绪。

本题的 A 项容易误选。然而 A 项所说“心情愉快能让购物者做出快而不易变更的决定”是题干已经明确陈述出来的意思，是对题干的概括，而不是推断出来的。所谓“意在说明”就是要求考生透过字里行间，推断出一些题干想说而没有说出来的意思。由此排除 A 项

所以，正确选项是 B。

第三部分 数量关系

每道试题呈现一段表述数字关系的文字，要求你迅速、准确地计算出答案。

56. 去某地旅游，旅行社推荐了以下两个报价方案：甲方案成人每人 1000 元，小孩每人 600 元；乙方案无论大人小孩，每人均为 700 元。现有 N 人组团，已知 1 个大人至少带 3 个小孩出门旅游，那么对于这些人来说
- A. 只要选择甲方案都不会吃亏
B. 甲方案总是比乙方案更优惠
C. 乙方案总是比甲方案更优惠
D. 甲方案和乙方案一样优惠

【答案】A。解析：

作答本题可以采用特殊值代入法求解。

假设 1 个大人带 3 个小孩，代入验算，则甲方案需要 $1000+3\times 600=2800$ （元），乙方案需要 $4\times 700=2800$ （元）。在这种情况下，甲方案和乙方案一样优惠。由此排除 B、C 两项。

假设 1 个大人带 4 个小孩，代入验算，则甲方案需要 $1000+4\times 600=3400$ （元），乙方案需要 $5\times 700=3500$ （元）。在这种情况下，甲方案和乙方案并非一样优惠。排除可以 D 项。

所以，正确选项是 A。

57. 1 路、2 路和 3 路公交车都是从 8 点开始经过 A 站后走相同的路线到达 B 站，之后分别是每 30 分钟，40 分钟和 50 分钟就有 1 路，2 路和 3 路车到达 A 站。在傍晚 17 点 05 分有位乘客在 A 站等候准备前往 B 站，他先等到的将是几路车？
- A. 1 路
B. 2 路
C. 3 路
D. 2 路和 3 路

【答案】A。解析：

根据题意，1 路、2 路、3 路公交车从 A 站发车的时间能够分别被 30、40、50 整除。从 8 点开始计时到 17 点 05 分，共有 9 小时 5 分钟，即 545 分钟。此时，乘客在 A 站等车，1 路、2 路、3 路公交车出现的时间分别为：

1 路车： $30\times 19=570$ ， $570-545=25$ ，即 1 路车将在 25 分钟后即 17 点 30 分出现在 A 站。

2 路车： $40\times 15=600$ ， $600-545=15$ ，即 2 路车将在 15 分钟后即 17 点 20 分出现在 A 站。

3 路车： $50\times 11=550$ ， $550-545=5$ ，即 3 路车将在 5 分钟后即 17 点 10 分出现在 A 站。

由此可知，乘客在 A 站等车时最先等到的将是 3 路车。

所以，正确选项是 A。

58. 小赵、小钱、小孙、小李、小周五个人的收入依次成等比，已知小赵的收入是 3000 元，小孙的收入是 3600 元，那么小周比小孙的收入高多少元？
- A. 700
B. 720
C. 760
D. 780

【答案】B。解析：

根据题意，已知小赵、小钱、小孙、小李、小周五个人的收入依次成等比。小赵排第一个，小孙排第三个，小周排第五个，则小赵、小孙、小周三人之间的收入也一定依次成等比。

小孙与小赵的收入比为： $3600\div 3000=1.2$ （倍）。

则可以推知小周的收入为： $3600\times 1.2=4320$ （元）。

61. 某房地产公司分别以 80 万元的相同价格出售两套房屋，其中一套盈利 20%，另一套盈利 30%，那么该房地产公司总共盈利多少万元？

- A. 31.5
B. 31.6
C. 31.7
D. 31.8

【答案】D。解析：

本题所给四个选项的数值之间相差很小，因此在计算时要注意精确。

第一套房屋的成本为： $80 \div (1+20\%) = 66.67$ （万元）。

第二套房屋的盈利为： $80 \div (1+30\%) = 61.54$ （万元）。

两套房屋的总成本为： $66.666+61.538=128.2$ （万元）。

则两套房屋总共盈利为： $160-128.2=31.8$ （万元）。

所以，正确选项是 D。

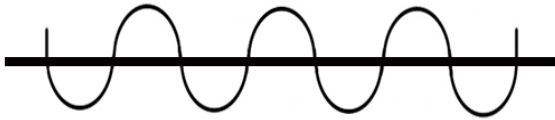
62. 一根绳子对折三次后，从中剪断，共剪成（ ）段绳子。

- A. 9
B. 6
C. 5
D. 3

【答案】A。解析：

作答本题可以采用图示法求解。

一根绳子对折三次，可以把对折情况图示如下图：



直接数图形可知，绳子共剪成了 9 段。

也可以列算式求解。一根绳子对折三次后从中剪断，共剪成的段数为： $2^3+1=9$ 段。

所以，正确选项是 A。

63. 某高校从 E、F 和 G 三家公司购买同一设备的比例分别是 20%、40%和 40%，E、F 和 G 三家公司所生产设备的合格率分别是 98%、98%和 99%，现随机购买到一台次品设备的概率为：

- A. 0.013
B. 0.015
C. 0.016
D. 0.01

【答案】C。解析：

随机购买到一台次品设备的概率为从三家公司选到次品的概率之和，即：

$20\% \times 2\% + 40\% \times 2\% + 40\% \times 1\% = 0.016$ 。

所以，正确选项是 C。

64. 某市规定，出租车合乘部分的车费向每位乘客收取显示费用的 60%，燃油附加费由合乘客人平摊。现有从同一地方出发的三位客人合乘，分别在 D、E、F 点下车，显示的费用分别为 10 元、20 元、40 元，那么在这样的合乘中，司机的营利比正常多多少元？

- A. 2
B. 10
C. 12
D. 15

【答案】B。解析：

本题是讨论“合乘车”与正常情况的区别，因此必须要准确理解合乘车时的收费规则。

根据题意，出租车合乘部分的车费向每位乘客收取显示费用的 60%。在 D 点下车的乘客系合乘，付 $10 \times 60\%$

=6元。在E点下车的乘客系合乘，付 $20 \times 60\% = 12$ 元。在F点下车的乘客其前20元的里程系合乘，付 $20 \times 60\% = 12$ 元，而后20元的里程则系单独乘坐，需要付20元，共付 $12 + 20 = 32$ 元。

司机共收了 $6 + 12 + 32 = 50$ 元，比非合乘运营40元里程多收10元。

所以，正确选项是B。

65. 今年某高校数学系毕业生为60名，其中70%是男生，男生中有 $\frac{1}{3}$ 选择继续攻读硕士学位，女生选择攻读硕士学位的人数比例是男生选择攻读硕士学位人数比例的一半。那么该系选择攻读硕士学位的毕业生共有多少人？

- A. 15
B. 19
C. 17
D. 21

【答案】C。解析：

根据题意，数学系毕业生为60名，其中有42名男生和18名女生。由于有 $\frac{1}{3}$ 的男生选择继续攻读硕士学位，

因此选读硕士学位的男生人数为： $42 \times \frac{1}{3} = 14$ （人）。由于有 $\frac{1}{6}$ 的女生选择继续攻读硕士学位，因此选读硕士学位

学位的女生人数为： $18 \times \frac{1}{6} = 3$ （人）。

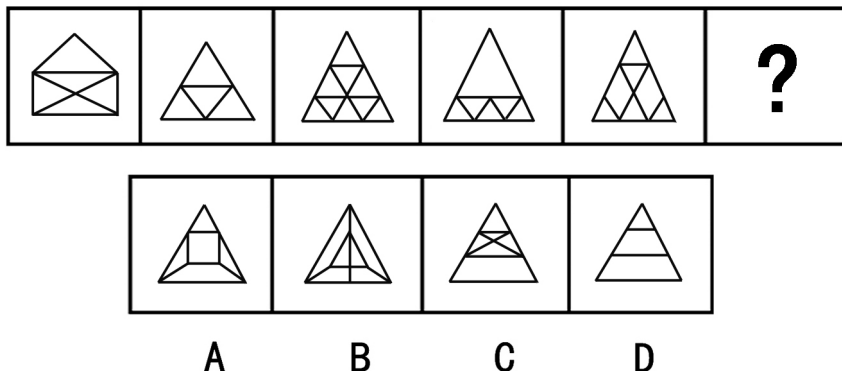
则该系选择攻读硕士学位的毕业生共有： $14 + 3 = 17$ （人）。

所以，正确选项是C。

第四部分 判断推理

一、图形推理。请按每道题的答题要求作答。

66. 从所给的四个选项中，选择最合适的一个填入问号处，使之呈现一定的规律性：



【答案】C。解析：

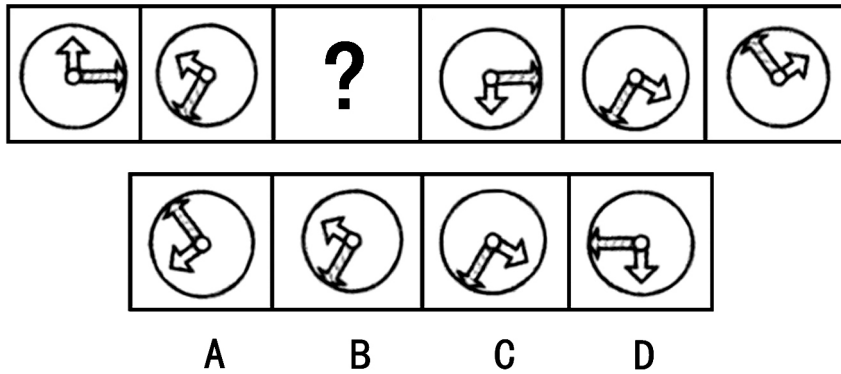
本题考查“一笔画”。

判断一个图形是否是一笔画，取决于图形中的奇点（与奇数条线相连的点）和偶点（与偶数条线相连的点）的个数。所有点都是偶点的图形和只有两个奇点的图形属于一笔画。

观察可见，从左到右五个题干图形中，图1有两个奇点，图2、图3和图4中的所有点都是偶点，图5有两个奇点，都属于“一笔画”。四个选项中，C项图形中的所有点都是偶点，属于一笔画。

所以，正确选项是C。

67. 从所给的四个选项中，选择最合适的一个填入问号处，使之呈现一定的规律性：

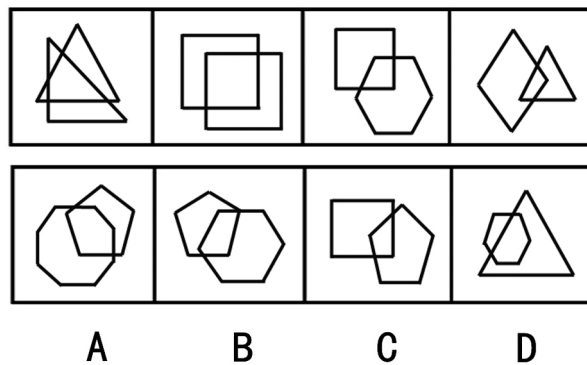


【答案】A。解析：

本题考查图形的“旋转”。观察可见，题干图形中的长针依次顺时针旋转，短针依次逆时针旋转。只有 A 项符合要求。

所以，正确选项是 A。

68. 从所给的四个选项中，选择最合适的一个填入问号处，使之呈现一定的规律性：



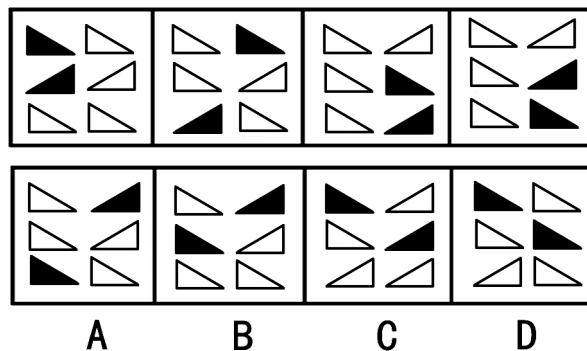
【答案】C。解析：

本题考查图形的“求同”。

观察可见，题干中两个大图形相交所形成的小图形都是四边形。只有 C 项符合要求。

所以，正确选项是 C。

69. 从 A、B、C、D 四个图形中选出最合适的一个，使得它保持第一行四个图形所呈现的规律性：



【答案】A。解析：


本题考查图形的“旋转”。

观察可见，以题干右数第一个图形中的两个黑色三角形为基准，第一行中的黑三角依次顺时针移动一格，

第二行中的黑三角依次逆时针移动一格，由此可以得到左侧相邻的图形。只有 A 项符合要求。

所以，正确选项是 A。

70. 从 A、B、C、D 四个图形中选出最合适的一个，使得它保持左边四个图形所呈现的规律性：



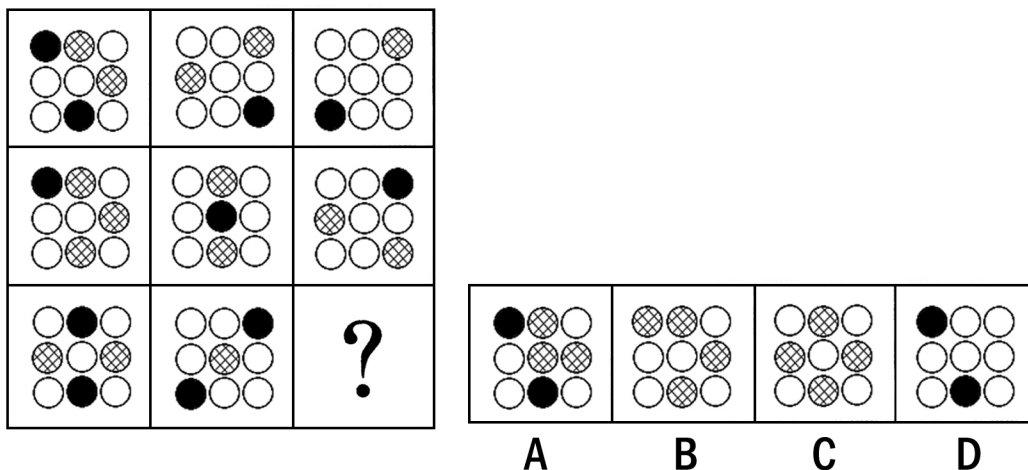
【答案】B。解析：

本题考查图形的“叠加求同”。

观察可见，题干中的奇数项图形都是两个含有弧线的图形相交，并且其叠加部分显示出来；而偶数项图形中两个图形的叠加部分不显示出来。只有 B 项符合要求。

所以，正确选项是 B。

71. 从所给的四个选项中，选择最合适的一个填入问号处，使之呈现一定的规律性：



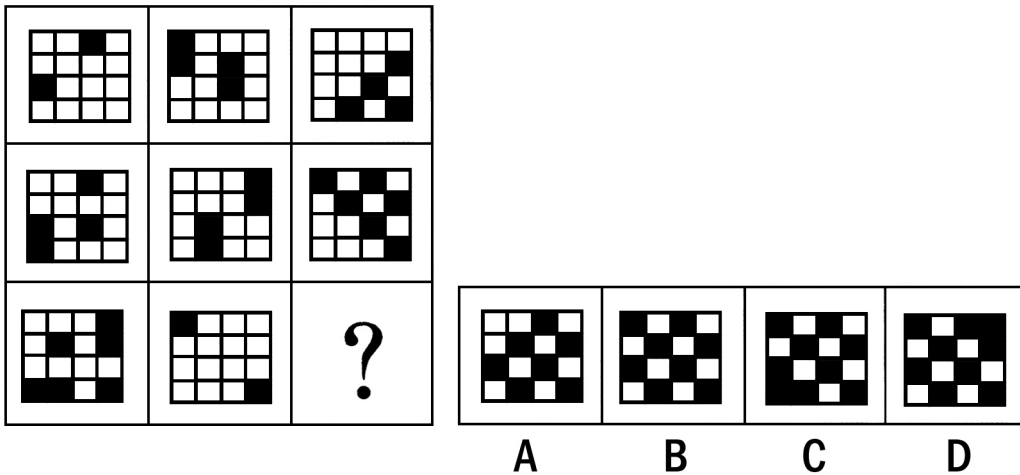
【答案】A。解析：

本题考查“构图元素的求同”。

观察可见，每个题干图形中都含有三种构图元素：黑圆、白圆、网纹圆。只有 A 项符合要求。

所以，正确选项是 A。

72. 从所给的四个选项中，选择最合适的一个填入问号处，使之呈现一定的规律性：



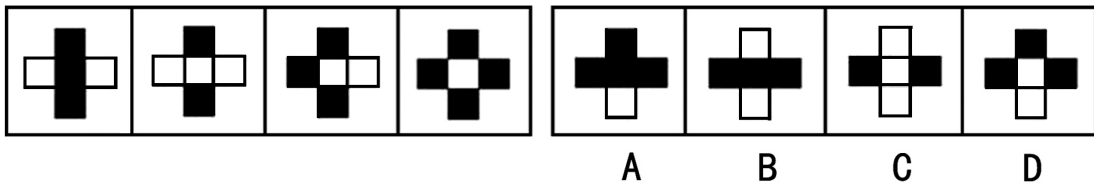
【答案】B。解析：

本题考查“构图元素的求同”。

观察可见，每个题干图形中所包含的黑色方块的数量均为偶数。只有B项符合要求。

所以，正确选项是B。

73. 从A、B、C、D四个图形中选出最合适的一个，使得它保持左边四个图形所呈现的规律性：



【答案】B。解析：

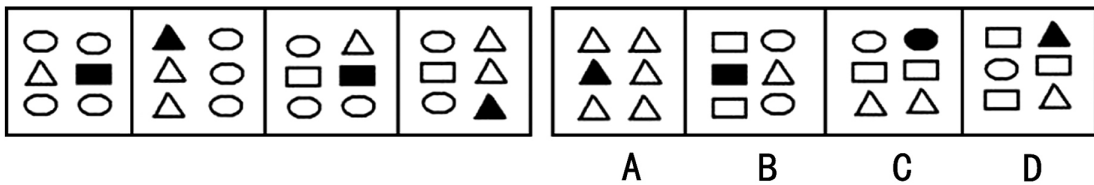
本题考查图形的“对称”。

首先，每个题干图形都是上下对称图形，由此可以排除A、D两项。

其次，题干奇数项图形中黑色方块的数量为奇数，而偶数项图形中黑色方块的数量为偶数。因此，下一个奇数项图形中黑色方块的数量应该为奇数。只有B项符合要求。

所以，正确选项是B。

74. 从所给的四个选项中，选择最合适的一个填入问号处，使之呈现一定的规律性：



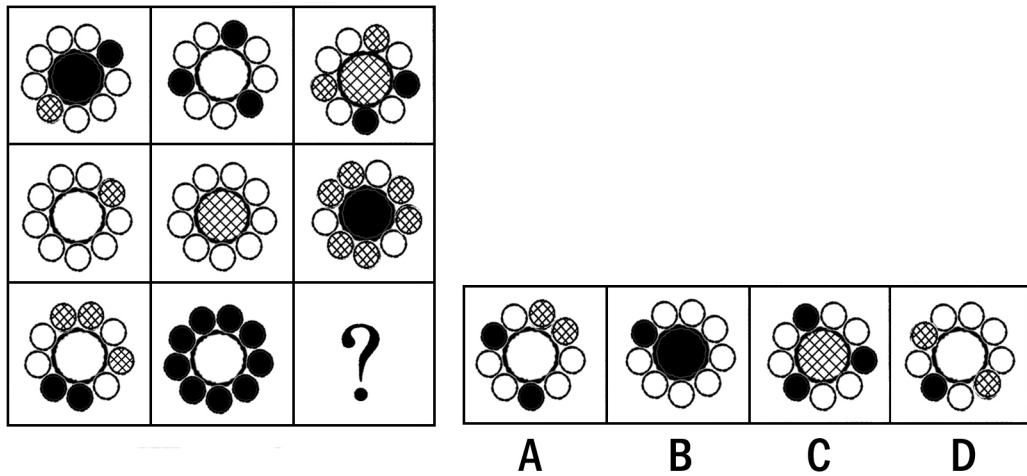
【答案】B。解析：

本题考查“构图元素的求同”。

观察可见，奇数项题干图形中都含有黑色小长方形，偶数项题干图形中都含有黑色小三角形。按照这个规律，下一个图形中应该含有黑色小长方形。只有B项符合要求。

所以，正确选项是B。

75. 从所给的四个选项中，选择最合适的一个填入问号处，使之呈现一定的规律性：



【答案】D。解析：

本题考查“构图元素的换算关系”。

观察可见，如果把一个大黑圆换算为9个小黑圆，则每列题干图形中都有12个小黑圆。按照这个规律，第三列中已经有11个小黑圆，则填入问号处的图形中应该有1个小黑圆。只有D项符合要求。

所以，正确选项是D。

二、定义判断。每道题先给出一个定义，然后列出四种情况，要求你严格依据定义，从中选出一个最符合或最不符合该定义的答案。注意：假设这个定义是正确的，不容置疑的。

76. 负性制裁：是指社会以消极性手段对违反社会规范的社会成员所进行的惩治方式。其特点是强迫性，迫使社会成员认识到不遵守社会规范所承担的不良后果。

根据上述定义，下列不属于负性制裁的是：

- A. 甲因入室行凶抢劫，被判处死刑
- B. 乙因不孝顺父母，受到邻里谴责
- C. 丙因不当行为，被单位警告处分
- D. 丁因严重违反校纪，被开除学籍

【答案】B。解析：

本题是“不属于型”。要求找出不属于“负性制裁”的一项。

定义的关键信息是：（1）社会以消极性手段对违反社会规范的社会成员所进行的惩治方式，（2）其特点是强迫性，迫使社会成员认识到不遵守社会规范所承担的不良后果。

B项中的乙因不孝顺父母，受到邻里谴责（隐含：“邻里谴责”属于社会舆论，不具有强迫性），不符合定义条件（2），因而不属于“负性制裁”。

所以，正确选项是B。

77. 冲突管理：由冲突与管理组合而成，冲突是指人们由于某种抵触或对立状况而感知到的不一致的差异，管理者不仅要解决组织中的冲突，更要刺激功能性的冲突，以促进组织目标的达成。

根据上述定义，下列选项不属于冲突管理的是：

- A. 某公司营销部和技术部因产品定位产生意见分歧，公司领导在听取技术部的意见后，采纳了他们的意见
- B. 某公司的部门之间常有沟通和协作障碍，公司决定将各个部门人员分批送到拓展机构开展团队协作训练，效果显著
- C. 在课题论证会上，主持人鼓励大家发言，有些专家观点针锋相对，最后主持人汇总了大家的意见并提出结论性意见
- D. 某公司人力资源部与战略部对公司目标的确定存在争议，公司领导要求各部联合论证方案的合理性，最

终形成新的方案

【答案】A。解析：

本题是“不属于型”。要求找出不属于“冲突管理”的一项。

定义的关键信息是：（1）由冲突与管理组合而成，（2）冲突是指人们由于某种抵触或对立状况而感知到的不一致的差异，（3）管理者不仅要解决组织中的冲突，更要刺激功能性的冲突，以促进组织目标的达成。

A项中某公司营销部和技术部因产品的定位产生意见分歧，公司领导在听取技术部的意见后，采纳了他们的意见（隐含：管理者直接听取技术部的意见了，没有刺激功能性的冲突），不符合定义条件（3），因而不属于“冲突管理”。

所以，正确选项是A。

78. 基多夫定理：是指最好的想法如果提出的时机选择不当，也会招致失败。即一个决策正确与否不能离开具体的地点、时间、条件，如果脱离这些基本前提条件，真理就有可能成为谬误。

根据上述定义，下列不符合基多夫定理的是：

- A. 甲公司原总裁对其继任者说：在没有获得全部事实根据前，你不应该做出任何决策
- B. 许多厂商报名参加在某市举办的机床博览会，而乙机床厂经理在收到邀请函时，就明确表示拒绝参加
- C. 20世纪80年代，世界爆发了严重的石油危机，丙汽车公司董事长抓住这一时机，作出了汽车转型决策
- D. 近年，众多热水器厂在广告上投入过大，导致价涨量滞，处于行业领先的丁公司立刻采取了降价政策

【答案】B。解析：

本题是“不属于型”。要求找出不符合“基多夫定理”的一项。

定义的关键信息是：（1）最好的想法如果提出的时机选择不当，也会招致失败。（2）一个决策正确与否不能离开具体的地点、时间、条件，（3）如果脱离这些基本前提条件，真理就有可能成为谬误。

B项中的乙机床厂经理在收到邀请函时，就明确表示拒绝参加（隐含：不能确定乙机床厂经理作出拒绝参加博览会的决定，其时机选择是否恰当），不符合定义条件（1），不符合“基多夫定理”。

A项中甲公司原总裁对其继任者说：在没有获得全部事实根据前，你不应该做出任何决策（隐含：如果要求只有在得到100%的全部事实根据时，才能作出决策，那么也许到那时正确的决策就已经过时，成为错误的决策，因为情况可能随着时间已发生了变化。也就是说，提出想法的时机选择不当），符合定义条件（1），排除。

C项中的丙汽车公司的董事长“抓住时机”，作出了汽车转型决策（隐含：提出想法的时机选择恰当），符合定义条件（2），排除。

D项中的丁公司针对“众多热水器厂在广告上投入过大，导致价涨量滞”的情况，立即采取了降价政策（隐含：提出想法的时机选择恰当），符合定义条件（2），排除。

所以，正确选项是B。

79. 顶层设计：是指统筹考虑系统各层次和各要素，追根溯源，统揽全局，在最高层次上寻求问题的系统解决之道。

根据上述定义，下列选项不符合顶层设计的是：

- A. 某市政府在有关园林绿化决策执行效果的检查过程中发现问题，有关领导指示对北区绿化方案进行优化
- B. 某公司董事会就公司扩大经营范围，在海外收购项目等问题召集相关专家起草方案，在论证后董事会进行表决
- C. 某岛屿具有不冻不淤的深水港口与沙白滩阔等条件，辖区政府为利用好这些资源，组织海内外专家研究岛屿开发方案
- D. 软件公司在开发大型软件时，就软件的框架召集专家进行论证，在充分吸收专家意见的基础上，确立了软件设计思路

【答案】A。解析：

本题是“不属于型”。要求找出不符合“顶层设计”的一项。

定义的关键信息是：（1）统筹考虑系统各层次和各要素，追根溯源，统揽全局，（2）在最高层次上寻求问题的系统解决之道。

A 项中的有关领导指示对北区绿化方案进行优化（隐含：领导仅仅是提出要求而已，并未找出问题的系统解决之道），不符合定义条件（2），因而不符合“顶层设计”。

所以，正确选项是 A。

80. 机会成本：是指同一经济主体在从事某项经济活动时面临多项决策，如果所选择的决策不是价值最大的，那么价值最大的决策与所选择决策之间的差额就是机会成本。

根据上述定义，下列对机会成本理解正确的是：

- A. 小赵如果将旧书卖给收报纸的将得到 50 元，但是他将书以 20 元的价格卖给了宿舍管理员，他付出了机会成本 30 元
- B. 小庄有闲钱 1 万元，他投资了股票，结果损失 2000 元；如果他投资期货，将获利 1000 元，为此他付出了 8000 元的机会成本
- C. 小贾、小郑如果在甲公司工作，将获得 5 万年薪；如果在乙公司工作，将获得 4 万年薪；如果在丙公司工作，将获得 3 万年薪。结果，小贾选择了乙公司，小郑选择了丙公司，他们付出了相同的机会成本
- D. 小王如果将汽车卖给小李，将得款 12 万元；如果将汽车卖给小明，将得款 10 万元。结果他将车卖给了小李，他赢得了 2 万元机会成本

【答案】A。解析：

本题是“属于型”。要求找出对“机会成本”理解正确的一项。

定义的关键信息是：（1）同一经济主体在从事某项经济活动时面临多项决策，（2）如果所选择的决策不是价值最大的，那么价值最大的决策与所选择决策之间的差额就是机会成本。

A 项，小赵付出的机会成本为： $50 - 20 = 30$ 元。对“机会成本”的理解是正确的。

B 项，小庄付出的机会成本应为： $1000 - (-2000) = 3000$ 元，而不是 8000 元。因而 B 项对“机会成本”的理解是错误的，排除。

C 项，小贾付出的机会成本应为： $5 万 - 4 万 = 1 万$ 元，小郑付出的机会成本应为： $5 万 - 3 万 = 2 万$ 元。他们付出的机会成本并不相同。因而 C 项对“机会成本”的理解错误，排除。

D 项，小王将汽车卖给小李，是选择了价值最大的决策，多买的 2 万元不属于机会成本。因而 D 项对“机会成本”的理解错误，排除。

所以，正确选项是 A。

81. 高位嫁接：是指把观赏树木的枝或芽嫁接在大规格的砧木上，实现快速形成树冠的一种培育大苗方法，现被引申指将相对较高层次、较高素质的人才充实到经济建设和社会发展一线主战场，实现高层次人才与基层组织的结合，高素质专业人才与劳动群众的结合。

根据上述定义，下列最符合高位嫁接的是：

- A. 某省卫生厅组织系统内年轻专业技术人员到院士身边工作学习
- B. 某省科技厅组织高级工程师到山区科技企业技术管理岗位任职
- C. 甲公司与乙公司签订合作协议，乙公司派技术员到甲公司任职
- D. 某项生物工程专利权人张教授，辞去教师职务到山区创办企业

【答案】B。解析：

本题是“属于型”。要求找出符合“高位嫁接”的一项。

定义的关键信息是：（1）将相对较高层次、较高素质的人才充实到经济建设和社会发展一线主战场，（2）实现高层次人才与基层组织的结合，高素质专业人才与劳动群众的结合。

A 项中的“年轻专业技术人员”（隐含：不是高层次人才），“到院士身边工作学习”（隐含：不是与基层组织的结合）。与定义条件（2）不符，排除。

B项中的“高级工程师”（隐含：是高层次人才），“到山区科技企业技术管理岗位任职”（隐含：是与基层组织的结合）。符合定义条件，属于“高位嫁接”。

C项中的“乙公司派技术员到甲公司任职”（隐含：所派技术员不一定是高层次人才）。与定义条件（2）不符，排除。

本题D项容易误选。虽然D项中的张教授属于高层次人才，但是他“到山区创办企业”（隐含：是去当老板，而不与基层组织的结合）。与定义条件（2）不符，排除。

所以，正确选项是B。

82. 感受域：是指人对于各种刺激所能感受的范围，亦即在感觉系统中能够引起某一神经细胞或神经纤维反应的受刺激区域。

根据上述定义，下列各项不涉及感受域的是：

- A. 盲人在触觉上具有与正常视力的人所不同的特点
- B. 小张觉得舅舅今天要来，不一会儿，舅舅果然来了
- C. 在海洋深处，有些大型鱼类能发出人类听不见的各种声音
- D. 小李在皮革厂工作，凭借手感他就可以区分人造皮和真皮

【答案】B。解析：

本题是“不属于型”。要求找出不涉及“感受域”的一项。

定义的关键信息是：（1）人对于各种刺激所能感受的范围，（2）也即在感觉系统中能够引起某一神经细胞或神经纤维反应的受刺激区域。

B项中的“小张觉得舅舅今天要来”（隐含：只是小张的猜测，不是他的感觉系统受刺激的反应），不符合定义条件（1），因而不涉及“感受域”。

所以，正确选项是B。

83. 生态住宅：是指运用生态学原理和遵循生态平衡及可持续发展的原则，设计、组织内外空间中的各种物质因素，使物质、能源在建筑系统内有秩序地循环转换，从而获得一种高效、低耗、无污染、生态平衡的建筑环境。

根据上述定义，下列不属于生态住宅的是：

- A. 某住宅区统一安装智能系统，实现太阳能和常规供热恒温调控
- B. 某家庭装修时，用了集水管将雨水引至住宅的中央水池以供利用
- C. 某市商务区的办公大楼屋顶种植花草，增强大楼的隔热保温功能
- D. 某小区对垃圾进行分类存放，及时清运，以提高垃圾的循环利用

【答案】D。解析：

本题是“不属于型”。要求找出不属于“生态住宅”的一项。

定义的关键信息是：（1）运用生态学原理和遵循生态平衡及可持续发展的原则，设计、组织内外空间中的各种物质因素，（2）使物质、能源在建筑系统内有秩序地循环转换，（3）获得一种高效、低耗、无污染、生态平衡的建筑环境。

D项中的某小区对垃圾进行“分类存放，及时清运”（隐含：不是使物质、能源在建筑系统内有秩序地循环转换，而是清运到建筑系统外再去循环利用），不符合定义条件（2），因而不属于“生态住宅”。

所以，正确选项是D。

84. 宜斯策略：是指生物为生存和繁衍而采取的一种比较稳定的策略，即如果种群的大部分成员采用某种策略，而这种策略的好处是其他策略所比不上的，则这种策略就是进化上的稳定策略，或称宜斯策略。

根据上述定义，下列属于宜斯策略的是：

- A. 母狼为虎崽哺乳
- B. 通过人工授粉提高苹果产量

C. 狼群中出现的争夺头狼的战争

D. 幼小的羚羊见到狮子拔腿就跑

【答案】D。解析：

本题是“属于型”。要求找出属于“宜斯策略”的一项。

定义的关键信息是：（1）生物为生存和繁衍而采取的一种比较稳定的策略，（2）种群的大部分成员采用某种策略，而这种策略的好处是其他策略所比不上的。

A 项中的“母狼为虎崽哺乳”（隐含：母狼不是为了生存和繁衍）。与定义条件（1）不符，排除。

B 项中的“人工授粉”（隐含：不是生物种群采取的策略，而是人工干预）。与定义条件（2）不符，排除。

C 项中的“争夺头狼”（隐含：不是生物种群的大部分成员采取的策略，而是小部分成员的行为）。与定义条件（2）不符，排除。

D 项中的“幼小的羚羊见到狮子拔腿就跑”（隐含：是羚羊为生存和繁衍，种群的大部分成员采取的策略）。符合定义条件，属于“宜斯策略”。

所以，正确选项是 D。

85. 一个词语通常有两种用法，一种用法是用这个词去表达其所表达的对象，一种用法是用这个词表达其自身。其中，前一种用法通常表达的就是词语的意义，一般称之为指称用法；后一种用法通常表达的是这个词语的形式，一般称之为自名用法。

根据上述定义，下列加黑的词属于自名用法的是：

A. 女性一般喜欢**粉色**

B. 大象一般生活在**密林**之中

C. “其它”，现在一般都使用“**其他**”

D. “**商品**”指的是用来交换的劳动产品

【答案】C。解析：

本题是“属于型”。要求找出属于“自名用法”的一项。

定义的关键信息是：（1）用这个词去表达其所表达的对象，表达的是词语的意义，称之为指称用法，（2）用这个词表达其自身，表达的是这个词语的形式，称之为自名用法。

A 项中的“粉色”（隐含：女性喜欢的就是粉色这种颜色，而不是“粉色”这个词）。与定义条件（2）不符，排除。

B 项中的“密林”（隐含：大象就是生活在密林中，而不是生活在“密林”这个词中）。与定义条件（2）不符，排除。

C 项中的“其他”（隐含：“其他”表达的就是“其它”这个词）。符合定义条件，属于“自名用法”。

D 项中的“商品”（隐含：指称的是“商品”这个对象，而不是“商品”这个词）。与定义条件（2）不符，排除。

所以，正确选项是 C。

三、类比推理。每道题先给出一组相关的词，要求你在备选答案中找出一组与之在逻辑关系上最为贴近、相似或匹配的词。

86. 汽车：导航仪

A. 电脑：鼠标

B. 相机：闪光灯

C. 医生：护士

D. 办公室：办公桌

【答案】A。解析：

题干词组的逻辑关系可以表述为：导航仪是汽车的非必要组成部分。

A 项的逻辑关系与此相同：鼠标是电脑的非必要组成部分。

所以，正确选项是 A。

87. 民法：法律：法官

A. 榕树：植物：园丁

B. 母牛：奶牛：牧民

C. 太阳：月亮：银河系

D. 学生：中学生：教师

【答案】A。解析：

题干词组的逻辑关系可以表述为：民法是一种法律，法官与法律密切相关。

A 项的逻辑关系与此相同：榕树是一种植物，园丁与植物密切相关。

所以，正确选项是 A。

88. 网络：网游：网瘾

A. 矿山：采矿：矽肺

B. 球场：球迷：暴力

C. 会议：会谈：会务

D. 车展：车模：车友

【答案】A。解析：

题干词组的逻辑关系可以表述为：在网络上网游可能导致网瘾。

A 项的逻辑关系与此相同：在矿山上采矿可能导致矽肺。

所以，正确选项是 A。

89. 花朵：浇灌：鲜艳

A. 牙齿：洗刷：美味

B. 石油：开采：提炼

C. 学生：教育：博学

D. 建筑：管道：雨水

【答案】C。解析：

题干词组的逻辑关系可以表述为：浇灌可以让花朵鲜艳。

C 项的逻辑关系与此相同：教育可以让学生博学。

所以，正确选项是 C。

90. 海底：隧道：汽车

A. 深山：洞穴：大炮

B. 空中：航线：飞机

C. 树林：树木：小鸟

D. 天空：气流：热气球

【答案】B。解析：

题干词组的逻辑关系可以表述为：汽车在海底隧道行驶。

B 项的逻辑关系与此相同：飞机在空中航线飞行。

所以，正确选项是 B。

91. 海洋：海浪：冲浪板

A. 泳池：浪花：潜水

B. 血管：血液：细胞

C. 树林：树木：小鸟

D. 天空：气流：热气球

【答案】D。解析：

题干词组的逻辑关系可以表述为：海洋里有海浪，海浪可以让冲浪板滑行。

D 项的逻辑关系与此相同：天空中有气流，气流可以让热气球上升。

所以，正确选项是 D。

92. 黄金：铂金：金属

A. 北京：纽约：首都

B. 河流：黄河：长江

C. 本科生：研究生：学生

D. 民法：宪法：母法

【答案】C。解析：

题干词组的逻辑关系可以表述为：黄金和铂金都是金属。

C 项的逻辑关系与此相同：本科生和研究生都是学生。

所以，正确选项是 C。

93. 电器：空调：塑料

- A. 服装：上衣：皮革
C. 橱柜：衣柜：木料

- B. 住房：车库：水泥
D. 电话：电线：电波

【答案】A。解析：

题干词组的逻辑关系可以表述为：空调是一种电器，塑料是制造电器的一种原料。

A 项的逻辑关系与此相同：上衣是一种服装，皮革是制造服装的一种原料。

所以，正确选项是 A。

94. 手机：通讯：辐射

- A. 地雷：防卫：战争
C. 冰箱：冷藏：臭氧

- B. 列车：运输：噪音
D. 药物：治疗：麻醉

【答案】B。解析：

题干词组的逻辑关系可以表述为：手机是一种通讯工具，使用手机会产生辐射。

B 项的逻辑关系与此相同：列车是一种交通工具，使用列车会产生噪音。

所以，正确选项是 B。

95. 曹操：张辽：《三国演义》

- A. 宝钗：袭人：《红楼梦》
C. 唐僧：佛祖：《西游记》

- B. 宋江：关胜：《水浒传》
D. 秦琼：程咬金：《隋唐英雄传》

【答案】B。解析：

题干词组的逻辑关系可以表述为：张辽是曹操的属下，两人都是《三国演义》中的人物。

B 项的逻辑关系与此相同：关胜是宋江的属下，两人都是《水浒传》中的人物。

所以，正确选项是 B。

四、逻辑判断。每题给出一段陈述，这段陈述被假设是正确的，不容置疑的。要求你根据这段陈述，选择一个答案。注意：正确的答案应与所给的陈述相符合，不需要任何附加说明即可以从陈述中直接推出。

96. 通常情况下，报刊的记者和编辑在文章的措辞上极其小心，但在基于激发读者好奇心与报刊发行量的压力下，“体面”的报刊与“垃圾”报刊之间的品味差异似乎在缩小。加之，人们的注意力持久度似乎也很短暂，这使得上述困境加剧。

下列各项判断不能从上述文字中推出的是：

- A. 报刊迫于销售压力，在尽量准确报道的同时还要吸引读者的注意力
B. 记者和编辑对怎样才能在文章中激发读者的好奇心更在意了
C. 如果人们对报刊报道的注意力持久度并不短暂，则“体面”报刊的品味会提升
D. 记者和编辑在文章措辞上的极其小心，不能与其应怎样吸引读者注意力相提并论

【答案】D。解析：

本题属于“推断文意型”。要求找出不能从题干文字中推出的一项。

阅读可知，题干说“……记者和编辑在文章的措辞上极其小心，但在基于激发读者好奇心与报刊发行量的压力下……”，这显然是把“记者和编辑在文章措辞上的极其小心”与“怎样吸引读者注意力”相提并论的。由此可知，D 项的说法与题干文意不符，不能从题干中推出。

所以，正确选项是 D。

97. 有经验的司机完全有能力并习惯以 120 公里的时速在高速公路上行驶，为了迅速提高道路的使用效率，某

条高速公路的最高时速限制由原来 100 公里转为 120 公里。

以下各项如果为真，最能质疑上述主张的是：

- A. 统计表明行车速度达 120 公里时事故发生率明显增加，反而影响高速公路的使用效率
- B. 限速每小时 120 公里不能迅速提高公路使用效率，因为高速驾车对技术的要求很高
- C. 时速达 120 公里时汽车的油耗量将明显增加，考虑到油价，大多数司机还是放松油门
- D. 虽然时速限制放宽到 120 公里，但在不少路段上，很多司机对此速度有安全之虞

【答案】A。解析：

本题属于“削弱型”。

题干的主张是：“把高速公路的最高时速限制由原来 100 公里转为 120 公里，可以迅速提高道路的使用效率”，论据是：“有经验的司机完全有能力并习惯以 120 公里的时速在高速公路上行驶”。题目要求考生做的，就是从四个备选项中找出一个“唱反调”的选项来对题干的论证进行反驳，从而使其不能成立。怎样才能使题干的论证不能成立呢？只要指出“提高高速公路的最高时速限制，并不能迅速提高道路的使用效率”就可以了。

A 项说“统计表明行车速度达 120 公里时事故发生率明显增加，反而影响高速公路的使用效率”（隐含：提高高速公路的最高时速限制，不仅不能迅速提高道路的使用效率，甚至还有负面影响，降低道路的使用效率）。如果此项为真，最能质疑题干的主张。

本题的 B 项容易误选。B 项说“限速每小时 120 公里不能迅速提高公路使用效率”。与 A 项“反而影响高速公路的使用效率，即不仅不能提高道路的使用效率，甚至还有负面影响，降低道路的使用效率”的质疑相比，B 项“不能迅速提高公路使用效率”的质疑力度就显得小多了。因此排除 B 项。

所以，正确选项是 A。

98. 蜜蜂大脑只有几毫克重，却可与哺乳动物一样执行某些任务，比如为同伴带路、建造家园等。大象大脑体积是蜜蜂的 500 万倍，但运行效率极其低下，神经信号从大脑一端传入另一端，以及从大脑传入脚趾间所需要的时间，均是蜜蜂的 100 倍。有人认为，人类的大脑可能不像大象或蜜蜂那样极端，但只要通过进化，神经元数量变多，我们会更聪明。

以下各项如果为真，最能质疑上述主张的是：

- A. 牛脑体积是老鼠的 800 倍，但牛并不比老鼠聪明多少
- B. 神经元是用来产生电脉冲的蛋白质，它们天生不稳定
- C. 要使人脑的脑力变强，最明显的方法是增加大脑容量
- D. 蜜蜂的脑容量有限，但可将神经系统的功能发挥到极致

【答案】B。解析：

本题属于“削弱型”。

题干的主张是“神经元数量变多，人会更聪明”。题目要求考生做的，就是从四个备选项中找出一个“唱反调”的选项来对题干的主张进行质疑。怎样才能质疑呢？只要指出“神经元数量不容易变多，人也不可能因此更聪明”就可以了。

B 项说“神经元是用来产生电脉冲的蛋白质，它们天生不稳定”（隐含：神经元数量不容易变多）。既然如此，那么希望通过神经元数量变多让人更聪明就是不可能的。如果此项为真，最能质疑题干的主张。

所以，正确选项是 B。

99. 科学家最新发现被命名为“郑氏晓廷龙”的小恐龙是始祖鸟的“亲戚”，与生存于侏罗纪晚期的始祖鸟亲缘关系非常近。通过分析始祖鸟的形态，并对似鸟恐龙和早期鸟类的系统发育关系进行重新分析，得出始祖鸟并非鸟类，而是原始恐爪龙类，即始祖鸟是迅猛龙的祖先，而不是鸟类的祖先。

以下各项如果为真，最不能质疑上述主张的是：

- A. 恐爪龙类是一类与恐龙亲缘关系很近的鸟
- B. 恐爪龙类是一类与鸟类亲缘关系很近的恐龙

- C. 兽脚类恐龙的一支演化成植食性恐龙，再演化成鸟类
- D. 始祖鸟标本被命名后，一直被认为是最原始、最古老的鸟类

【答案】B。解析：

本题属于“削弱型”。题干的观点是：始祖鸟并非鸟类，而是原始恐爪龙类，即始祖鸟是迅猛龙的祖先，而不是鸟类的祖先。要求找出“最不能削弱”这个观点的一项。所谓“最不能削弱”有两种可能，一种是支持，一种是不相干。

A项所说“恐爪龙类是一类与恐龙亲缘关系很近的鸟”（隐含：恐爪龙类是鸟，削弱了题干“原始恐爪龙类不是鸟”的观点），排除。

B项所说“恐爪龙类是一类与鸟类亲缘关系很近的恐龙”（隐含：恐爪龙类不是鸟，而是恐龙），对题干的观点不仅不构成削弱，反而是一种支持。

C项所说“兽脚类恐龙的一支演化成植食性恐龙，再演化成鸟类”（隐含：恐龙出现在鸟之前，如果始祖鸟是恐龙，那么就有可能是鸟的祖先，削弱了题干“始祖鸟不是鸟类的祖先”的观点），排除。

D项所说“始祖鸟标本被命名后，一直被认为是最原始、最古老的鸟类”（隐含：始祖鸟是鸟类，削弱了题干“始祖鸟并非鸟类”的观点），排除。

所以，正确选项是B。

100. “断食法”在日本、台湾等亚洲一些地区比较盛行，这种方法是一日三餐以果汁、菜汤清水等低卡路里饮食取代固体食物，为期三至十天不等，以求达到排毒、烧脂和瘦身等效果。

如果以下各项为真，哪项最不能削弱上述观点？

- A. 人体每天摄取热量过低时，可能会出现血糖或血压过低状况
- B. 肥胖者身体摄取热量太低，会加速燃烧脂肪，肾功能会发生积极变化
- C. 食用蔬菜可以促进肠道蠕动，但其热量过低，过度食用会干扰新陈代谢
- D. 低卡路里饮食会导致体内毒素因缺乏营养而丧失活性，但同时因新陈代谢遭扰乱而存在致胖风险。

【答案】B。解析：

本题属于“削弱型”。

题干的观点是：“断食法”可以达到排毒、烧脂和瘦身等效果。要求找出“最不能削弱”这个观点的一项。所谓“最不能削弱”有两种可能，一种是支持，一种是不相干。

A项中的“可能会出现血糖或血压过低状况”（隐含：指出“断食法”的不良后果，反对“断食法”）。削弱了题干的观点，排除。

B项中的“会加速燃烧脂肪”（隐含：指出“断食法”具有烧脂的作用，不仅没有削弱而是支持“断食法”），对题干的观点不构成削弱。

C项中的“干扰新陈代谢”（隐含：指出“断食法”的不良后果，反对“断食法”）；D项中的“存在致胖风险”（隐含：指出“断食法”的不良后果，反对“断食法”），也都在一定程度上削弱了题干的观点，排除。

所以，正确选项是B。

101. 植物生长调节剂是对植物的生长发育具有抑制或者促进作用的一类物质。包括人工合成的化合物和从生物中提取的天然植物激素。目前在全世界农业生产中广泛应用。针对人们对其安全性的质疑，业内人士指出，根据批量检测结果，看不出有植物生长调节剂的存在。因此，可以认为植物生长调节剂的安全性是比较可靠的。

下列哪项为真，最能质疑上述业内人士的观点？

- A. 植物生长调节剂喷洒后，将长期存在于土壤中，不易分解
- B. 有些发达国家对植物生长调节剂的使用有严格的管理规定
- C. 从以往的经验来看，即使是广泛使用的产品也未必是安全的
- D. 有些植物生长调节剂即使含量检测不出，如果长期食用，也可能致病

【答案】D。解析：

本题属于“削弱型”。

业内人士的观点是：“植物生长调节剂的安全性是比较可靠的”，论据是“根据批量检测结果，看不出有植物生长调节剂的存在”。题目要求考生做的，就是从四个备选项中找出一个“唱反调”的选项来对题干的论证进行反驳，从而使其不能成立。怎样才能使题干的论证不能成立呢？只要指出“即使检测不出植物生长调节剂的存在，植物生长调节剂的安全性也是不可靠的”就可以了。

D项说“有些植物生长调节剂即使含量检测不出，如果长期食用，也可能致病”（隐含：即使检测不出植物生长调节剂的存在，但是如果长期食用，也可能致病，因此，植物生长调节剂的安全性是不可靠的）。如果此项为真，最能质疑题干的主张。

所以，正确选项是D。

102. 疾病预防控制中心的研究报告认为，烟草使用是首要的可预防死因。每年全世界有500万人死于烟草相关疾病，其中每年死于二手烟的人数高达60万，四分之一以上为儿童。

以下各项如果为真，哪项最不能质疑上述观点？

- A. 每年全世界有500多万人死于因运动不足而引发的疾病
- B. 每年全世界有500多万人死于因生活不规律而引发的疾病
- C. 每年全世界不低于1405万人的可预防死因并非烟草相关疾病
- D. 每年全世界因心理调试不当引发的疾病成为人类首要的可预防死因

【答案】C。解析：

本题属于“削弱型”。

题干的观点是：烟草使用是首要的可预防死因。论据是：每年全世界有500万人死于烟草相关疾病。要求找出“最不能削弱”这个观点的一项。所谓“最不能削弱”有两种可能，一种是支持，一种是不相干。

A项中的“每年全世界有500多万人死于因运动不足而引发的疾病”，B项中的“每年全世界有500多万人死于因生活不规律而引发的疾病”，都意在说明“烟草使用并不是首要的可预防死因”，直接削弱了题干的观点，排除。

C项中的“每年全世界不低于1405万人的可预防死因并非烟草相关疾病”（隐含：不清楚非烟草相关疾病究竟有几种，更不明确死于某种非烟草相关疾病的病人数量多少），因而对题干的观点不构成直接削弱。

D项中的“每年全世界因心理调试不当引发的疾病成为人类首要的可预防死因”（隐含：烟草使用并不是首要的可预防死因），直接削弱了题干的观点，排除。

所以，正确选项是C。

103. 夏燕、贾枢和郑薇三个同学一起去旅游，为了照相方便，每个人拿的是同学的相机，背的是另一个同学的包。

如果背着郑薇的包的人拿的是贾枢的相机，那么以下哪项为真？

- A. 贾枢拿的是郑薇的相机
- B. 郑薇拿的是贾枢的相机
- C. 郑薇背着夏燕的包
- D. 贾枢背着郑薇的包

【答案】A。解析：

根据题意，每个人拿的是同学的相机，背的是另一个同学的包。已知“背着郑薇的包的人拿的是贾枢的相机”，由此可以推知：背郑薇的包、拿贾枢的相机的人不是郑薇，不是贾枢，只能是夏燕。

由“夏燕拿贾枢的相机”可以推知：贾枢拿的只能是郑薇的相机。否则，郑薇就需要拿自己的相机了。

所以，正确选项是A。

104. 某机关拟在全民国防教育日举办专项国防教育活动。对于采用何种活动形式，组织者甲、乙、丙三人意见如下：

甲：如果搞读书演讲、知识竞赛，那就不搞文艺演出和专题展览

乙：如果不搞文艺演出和专题展览，那就搞读书演讲、知识竞赛。

丙：不搞读书演讲、知识竞赛

上述三人的意见只有一个人的意见与最后结果相符合，最后结果是：

A. 搞读书演讲、知识竞赛，也搞文艺演出和专题展览

B. 搞读书演讲、知识竞赛，不搞文艺演出和专题展览

C. 搞文艺演出和专题展览，不搞读书演讲、知识竞赛

D. 不搞读书演讲、知识竞赛，也不搞文艺演出和专题展览

【答案】A。解析：

已知三句话只有一句话为真。假设丙为真，那么甲也必定是真的。因为如果丙为真，则意味着甲所说的充分条件假言命题的前件是假的，而如果充分条件假言命题的前件是假的，则该命题一定是真的。与题意不符。因此，丙必定是假的，即：搞读书演讲且知识竞赛。

丙是假的，则甲和乙必有一真一假。假设甲为真，那么乙也必定是真的。因为甲的前件“搞读书演讲且知识竞赛”是真的，则其后件“不搞文艺演出和专题展览”必须是真的（如果“前件真后件假”，则充分条件假言命题就一定假的）。也就意味着乙所说的充分条件假言命题的前件和后件都是真的，即乙命题是真的。与题意不符。因此，甲必定是假的，甲所说的充分条件假言命题的“前件真后件假”，即：搞文艺演出和专题展览。

综上所述，最后结果是 A 项：搞读书演讲、知识竞赛，也搞文艺演出和专题展览。

所以，正确选项是 A。

105. 中央作出新一轮支援新疆的战略部署后，某单位很快组成由党办、人事处、业务处室参加的推荐小组，确定了援疆干部人选。这三个部门的推荐意见分别是：

党办：从甲、乙、丙三人中选派出一至两人

人事处：如果不选派甲，就不选派乙和丙

业务处室：只有不选派乙和丙，才选派甲

在下列选项中，能够同时满足党办、人事处和业务处室的意见的方案是：

A. 选派乙和丙，不选派甲

B. 不选派乙和丙，选派甲

C. 选派乙，不选派甲和丙

D. 选派丙，不选派甲和乙

【答案】B。解析：

根据人事处和业务处室的推荐意见，可以构成一个二难推理的“简单构成式”：

如果选派甲，就不选派乙和丙。

如果不选派甲，就不选派乙和丙。

或者选派甲，或者不选派甲。

总之，不选派乙和丙。

再结合党办的意见：从甲、乙、丙三人中选派出一至两人，既然不选派乙和丙，那么就必须要选派甲。综上所述可知，能够同时满足党办、人事处和业务处室的意见的方案是 B 项：不选派乙和丙，选派甲。

所以，正确选项是 B。

第五部分 资料分析

所给出的图、表、文字或综合性资料均有若干个问题要你回答。你应根据资料提供的信息进行分析、比较、计算和判断处理。

一、根据以下资料，回答 106~110 题。

2008 年 1 至 3 月份，福建沿海地区与台湾地区海上客运直航船舶的公司共运营 2425 航次，共运送旅客 188648 人次，分别为 2007 年同期的 108%、97%。其中，大陆 5 家船舶公司经营的 7 艘客船共运营 1190 航次，运送旅

【答案】D。解析：

第一步，明确问题：求“自 2011 年以来，‘小三通’客运除厦门金门、马尾马祖和泉州金门航线外，其他航线占总运载旅客的比重”。

第二步，定位数据：文字资料第三段：“小三通”客运自 2011 年开通以来，共运载旅客 5419061 人次，其中厦门金门航线 4825431 人次，马尾马祖航线 351228 人次，泉州金门航线 235918 人次，湄洲金门航线 1346 人次，湄洲马祖航线 491 人次，马祖宁德航线 321 人次，厦门澎湖航线 4056 人次。

第三步，估算：

除厦门金门、马尾马祖和泉州金门航线外，其他航线的运载旅客人次为：

$1346 + 491 + 321 + 4056 \approx 6000$ （人次）。

则其他航线占总运载旅客的比重为： $6000 \div 5419061 \approx 0.1\%$ 。与 D 项的数据最为接近。

所以，正确选项是 D。

109. 从以上资料可以推出的是：

- A. 2008 年，厦门金门、马尾马祖和泉州金门三航线中客运量流向逆差最高的是厦门金门航线
- B. 2008 年，厦门金门、马尾马祖和泉州金门三航线中客运量流向逆差最高的是泉州金门航线
- C. 2008 至 2010 年，厦门金门、马尾马祖和泉州金门三航线中客运量同期增长最快的是马尾马祖航线
- D. 2008 至 2010 年，厦门金门、马尾马祖和泉州金门三航线中客运量同期增长最快的是厦门金门航线

【答案】A。解析：

第一步，明确问题：求“从以上资料可以推出”的一个选项。

第二步，定位数据：本题涉及数据众多，请小心提取。

第三步，估算：

A 项，根据表格一，2008 年，厦门金门航线的客运量流向逆差为： $81961 - 79289 = 2672$ ；马尾马祖的客运量流向逆差为负值；泉州金门的客运量流向逆差为： $7077 - 5817 = 1260$ 。

比较可知，逆差最高的是厦门金门航线，A 项的说法可以从资料推出。

所以，正确选项是 A。

110. 从以上资料可以推出的是：

- A. 2010 年厦门金门航线客运量小于马尾马祖和泉州金门航线客运量之和
- B. 2010 年客运总量是 2008 年的 4 倍
- C. 2010 年 1 至 3 月份台湾船舶每航次运送旅客约为 91 人
- D. 2008 年 1 至 3 月份台湾船舶每航次运送旅客约为 75 人

【答案】D。解析：

第一步，明确问题：求“从以上资料可以推出”的一个选项。

第二步，定位数据：本题涉及数据众多，请小心提取。

第三步，估算：

A 项：材料中只给了 2010 年 1 至 3 月份的数据，A 项和 B 项说的都是 2010 年全年，因此不能从资料中推出，排除。

C 项：材料未提及 2010 年 1 至 3 月份台湾船舶每航次运送旅客的数据，因此 C 项不能从资料中推出，排除。

D 项：根据文字资料第一段：2008 年 1 至 3 月份……台湾 6 家船舶公司经营的 8 艘客船共运营 1235 航次，运送旅客 92631 人次。则 2008 年 1 至 3 月份台湾船舶每航次运送旅客约为 $92631 \div 1235 = 75$ 人。D 项可以从资料中推出。所以，正确选项是 D。

二、根据以下资料，回答 111~115 题。

2010年1—4月全国入境旅游部分市场客源情况统计表

按1-4月入境 旅游人数排序	国家名称	4月份		1-4月累计	
		入境人数 (万人)	同比增长 (%)	入境人数 (万人)	同比增长 (%)
1	韩国	33.65	27.33	126.96	24.12
2	日本	30.75	22.25	119.71	19.83
3	美国	17.62	16.53	60.67	16.08
4	俄罗斯	16.03	40.78	60.57	29.62
5	马来西亚	11.72	8.52	37.96	10.24
6	新加坡	8.47	8.12	29.47	11.41
7	菲律宾	7.43	2.48	26.51	5.5
8	泰国	7.89	15.22	22.58	8.76
9	加拿大	5.67	19.13	20.63	16.47
10	澳大利亚	5.73	6.73	20.61	12.69
11	蒙古	5.74	27.75	19.54	35.51
12	德国	4.93	3.95	18.8	13.51
13	英国	5.03	-2.37	18.32	5.61
14	印度	5.33	36.37	16.23	23.55
15	印尼	5.15	33.79	15.96	25.61
16	法国	4.44	6.8	15.11	15.4

111. 若按2010年1~3月入境旅游人数排序, 以下各项错误的是:

- A. 韩国>日本>美国
 B. 俄罗斯>马来西亚>新加坡
 C. 菲律宾>泰国>加拿大
 D. 德国>英国>印度

【答案】C. 解析:

第一步, 明确问题: 求“按2010年1~3月入境旅游人数排序, 排序错误的一项”。

第二步, 定位数据: $1\sim 3$ 月入境人数 = (1~4月份累计入境人数) - (4月份入境人数)。

第三步, 估算:

A、B、D三项的数据相差比较明显, 不需要准确计算, 直接对比即可确定其排序是正确的。

2010年1~3月泰国入境人数为: $22.58 - 7.89 = 14.69$ 。

2010年1~3月加拿大入境人数为: $20.63 - 5.67 = 14.96$ 。

由此可见, 泰国和加拿大的排序应该是“加拿大>泰国”, C项的排序是错误的。

所以, 正确选项是C。

112. 2009年4月我国入境旅游的第三大客源市场是:

- A. 美国
 B. 日本
 C. 俄罗斯
 D. 马来西亚

【答案】A. 解析:

第一步, 明确问题: 求“2009年4月我国入境旅游的第三大客源市场”。

第二步, 定位数据: 2009年4月入境人数 = 2010年4月入境人数 ÷ (1 + 2010年4月同比增长率)。

第三步, 估算:

不需要准确计算，根据“末期值越大，增长率越小，则其初期值越大”的原则，对前五个国家的数据直接对比、估算即可。

韩国 2009 年 4 月入境人数为： $33.65 \div (1+27.33\%) \approx 27$

日本 2009 年 4 月入境人数为： $30.75 \div (1+22.25\%) \approx 25$

美国 2009 年 4 月入境人数为： $17.62 \div (1+16.53\%) \approx 15$

俄罗斯 2009 年 4 月入境人数为： $16.03 \div (1+40.78\%) \approx 11$

马来西亚 2009 年 4 月入境人数为： $11.72 \div (1+8.52\%) \approx 6$

比较可知，2009 年 4 月我国入境旅游的第三大客源市场是美国。

所以，正确选项是 A。

113. 2009 年 1~3 月，入境旅游的日本游客人数约为：

A. 105.86 万人

B. 91.11 万人

C. 88.96 万人

D. 74.75 万人

【答案】D。解析：

第一步，明确问题：求“2009 年 1~3 月，入境旅游的日本游客人数”。

第二步，定位数据：2009 年 1~3 月入境旅游的日本游客人数 = (2009 年 1~4 月入境旅游的日本游客人数) - (2009 年 4 月入境旅游的日本游客人数)。

第三步，估算：

2009 年 1~4 月入境日本人数

= (2010 年 1~4 月入境日本人数累计) \div (1+19.83%)

= $119.71 \div (1+19.83\%) \approx 120 \div 1.2 \approx 100$

前面第 112 题中已经计算过，日本 2009 年 4 月入境人数为： $30.75 \div (1+22.25\%) \approx 25$ 。

则 2009 年 1~3 月入境旅游的日本游客人数为： $100 - 25 = 75$ 。与 D 项的数据最为接近。

所以，正确选项是 D。

114. 若保持同比增长率不变，预计哪一年 4 月入境旅游的法国游客人数将会超过英国？

A. 2011

B. 2012

C. 2013

D. 2014

【答案】B。解析：

第一步，明确问题：求“若保持同比增长率不变，预计哪一年 4 月入境旅游的法国游客人数将会超过英国”。

第二步，定位数据：英国、法国两行的数据。

第三步，估算：

2011 年 4 月法国游客人数将达到： $4.44 \times (1+6.8\%) \approx 4.4 \times 1.07 \approx 4.7$ (万人)。

2011 年 4 月英国游客人数将达到： $5.03 \times (1-2.37\%) \approx 5 \times 0.98 = 4.9$ (万人)。

两个数据已经非常接近。据此可以推测，若保持同比增长率不变，则 2012 年 4 月入境旅游的法国游客人数必将超过英国。

所以，正确选项是 B。

115. 能够从上述资料中推出的是：

A. 2010 年 4 月，入境旅游的韩国游客人数首次超过 30 万人

B. 2010 年 4 月，入境旅游的各国游客人数都有一定比率的增加

C. 2010 年 1~4 月，我国入境旅游市场的主要收入来自亚洲

D. 2010 年 4 月，表中各国入境旅游人数均大于其当年 1~4 月的月均入境旅游人数

【答案】D。解析：

第一步，明确问题：求“能够从上述资料中推出”的一个选项。

第二步，定位数据：本题涉及数据众多，请小心提取。

第三步，估算：

A项：2010年4月，韩国游客人数为33.65万人，但从表格所给数据无法确定其3月份是否超过30万人。因此A项错误，排除。

B项：2010年4月，英国的游客人数是减少的。因此B项错误，排除。

C项：表格所给数据只涉及人数，并没有给出有关收入的数据。因此C项错误，排除。

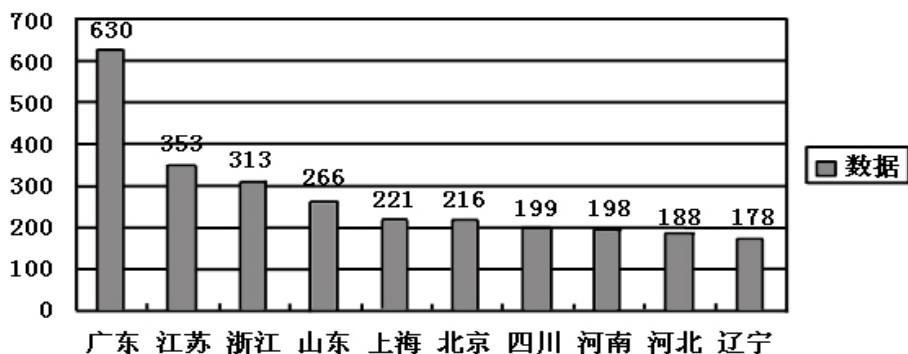
所以，正确选项是D。

三、根据以下资料，回答116~120题。

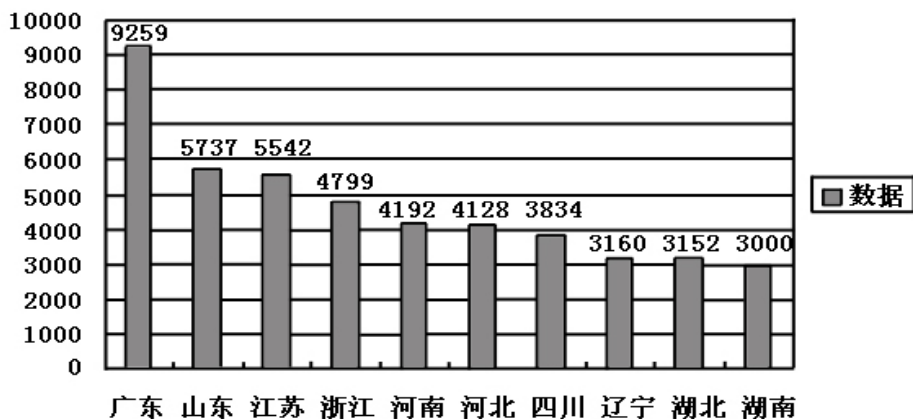
2010年1~6月，全国电信业务收入总量累计完成14860.7亿元，比上年同期增长21.4%；电信主营业务收入累计完成4345.5亿元，比上年同期增长5.9%。其中，移动通信收入累计完成2979亿元，比上年同期增长11.2%，比重提升到68.55%，增加了3.24%；固定通信收入累计完成1366.5亿元，比重下降到31.45%。

2010年1~6月，全国电话用户净增4920.4万户，总数达到11.1亿户，其中，固定电话用户减少876.7万户，降至3.05亿户；移动电话用户增加5797万户，总数突破8亿户，达到8.05亿户。

2010年1-6月电信主营业务收入前十名的省份（亿元）



2010年6月移动电话用户数量排名前十的省份（万户）



116. 2010年1~6月我国电信业务收入总量比上年同期增长：

- A. 2476.7亿元
- B. 2619.6亿元
- C. 2972.0亿元
- D. 3180.2亿元

【答案】B。解析：

第一步，明确问题：求“2010年1~6月我国电信业务收入总量比上年同期增长”。

第二步，定位数据：文字资料第一段：2010年1~6月，全国电信业务收入总量累计完成14860.7亿元，比上年同期增长21.4%。

第三步，估算：

2009年1~6月我国电信业务收入总量为： $14860 \div (1+21.4\%) = 12240$ 。

则2010年1~6月我国电信业务收入总量比上年同期增长为： $14860 - 12240 = 2620$ 。

所以，正确选项是B。

117. 截至2010年6月，我国的移动电话用户占全国电话用户的比重相比2009年底约：

- A. 增加2%
- B. 增加8%
- C. 减少2%
- D. 减少8%

【答案】A。解析：

第一步，明确问题：求“截至2010年6月，我国的移动电话用户占全国电话用户的比重相比2009年底的增加或减少情况”。

第二步，定位数据：2010年1~6月，全国电话用户净增4920.4万户，总数达到11.1亿户，其中……移动电话用户增加5797万户，总数突破8亿户，达到8.05亿户。

第三步，估算：

2010年6月，我国的移动电话用户占全国电话用户的比重为： $8.05 \div 11.1 \approx 0.72$ 。

2009年底，我国的移动电话用户占全国电话用户的比重为：

$(8.05 - 0.58) \div (11.1 - 0.49) \approx 0.7$ 。

$0.72 - 0.7 = 0.02 = 2\%$ 。由此可知，是增加了2%。

所以，正确选项是A。

118. 根据上面的图表资料，可以推出的是：

- A. 2010年1~6月，山东省的户均电信主营业务收入小于江苏省和浙江省
- B. 2010年1~6月，北京、上海的电信主营业务收入主要来自于固定通信
- C. 2011年6月，广东省的固定电话用户数量将突破1亿
- D. 按照全国移动电话用户2010年上半年的平均增速，到2011年1月，广东省的移动电话用户数量将突破一亿

【答案】D。解析：

第一步，明确问题：求“可以推出”的一个选项。

第二步，定位数据：本题涉及数据众多，请小心提取。

第三步，估算：

A项：资料并未给出各省电信主营业务的用户数，无法求出户均值。因此A项错误，排除。

B项：资料并未给出北京、上海的电信主营业务收入构成。因此B项错误，排除。

C项：资料并未给出广东省2010年的固定电话用户数，无法计算2011年广东省的固定电话用户数。因此C项错误，排除。

D项：估算可知，全国移动电话用户2010年上半年的平均增速约为7%。根据图2可知，2010年6月，广东省的移动电话用户数量为9259万户。按照7%的平均增速，到2011年1月，广东省的移动电话用户数量必将突破一亿。因此D项可以从资料中推出。

所以，正确选项是D。

119. 2010年1~6月，我国固定通信收入比上年同期减少约：

- A. 3%
- B. 11%
- C. 4%
- D. 31%

【答案】C。解析：

第一步，明确问题：求“2010年1~6月，我国固定通信收入比上年同期减少”的比例。

第二步，定位数据：文字资料第一段：2010年1~6月，全国电信业务收入总量累计完成14860.7亿元，比上年同期增长21.4%；电信主营业务收入累计完成4345.5亿元，比上年同期增长5.9%。其中，移动通信收入累计完成2979亿元，比上年同期增长11.2%，比重提升到68.55%，增加了3.24%；固定通信收入累计完成1366.5亿元，比重下降到31.45%。

第三步，估算：

本题所给选项数据相差很小，需要准确计算。

2010年1~6月，我国固定通信收入为1366.5亿元。

2009年1~6月，我国固定通信收入为：

$4345.5 \div (1+5.9) \times (31.45\%+3.24\%) \approx 4100 \times 35\% \approx 1430$ （亿元）。

则2010年1~6月，我国固定通信收入比上年同期减少为：

$1 - (1366.5 \div 1430) \approx 1 - 0.96 \approx 0.04 = 4\%$ 。与C项的数据最为接近。

所以，正确选项是C。

120. 根据上述资料判断，下列说法中正确的是：

- A. 2010年我国的移动电话用户首次达到8亿
- B. 2010年我国电信业务收入总量主要来自电信主营业务
- C. 2010年6月，广东省移动电话用户数大于辽宁、湖北、湖南三省之和
- D. 2010年1~6月，我国南方地区的电信主营业务收入普遍高于北方地区

【答案】A。解析：

第一步，明确问题：求“说法正确”的一项。

第二步，定位数据：本题涉及数据众多，请小心提取。

第三步，估算：

A项：根据文字资料第二段“2010年1~6月，……移动电话用户增加5797万户，总数突破8亿户，达到8.05亿户”可知，2010年我国的移动电话用户首次达到8亿。由此可知，A项的说法是正确的。

确定了A项是正确的，B、C、D三项可以直接排除。

所以，正确选项是A。

全部测验到此结束！

请扫描QQ二维码，备注“公务员考生”加QQ好友，获取曹长远老师精解历年公务员考试申论、行测、面试真题完整解析资料。

精品资料，尽在掌握！



扫描二维码，加QQ好友