

## 2013年6月29日陕西省公务员考试

# 《行政职业能力测验》真题

### 说明

一、此项测验分为五个部分，共140题，总时限120分钟，满分100分。各部分不单独计时，但都给出参考时限，供答题时合理分配时间。

二、此项测验科目代码为“1”。请按照要求在答题卡上填写好自己的姓名，涂写好准考证号、科目代码。

三、必须在答题卡上答题，在题本上答题，一律无效。

严禁折叠答题卡！

## 第一部分 常识判断

(共15题，参考时限10分钟)

根据题目要求，在四个选项中选出一个最恰当的答案。

1. 2013年( )，航天员( )在“天宫一号”中，为全国青少年进行太空授课。

- A. 6月19日，王亚平
- B. 6月19日，刘洋
- C. 6月20日，王亚平
- D. 6月20日，刘洋

2. 作为拉动陕西经济的“火车头”，陕西省的“一线两带”建设受到全国的广泛关注，以下关于“一线两带”的说法中，不正确的是：

- A. 一线指陇海陕西段和宝潼高速
- B. 两带指关中技术产业开发带和关中星火产业带
- C. 一线两带以线串点，以点带面，形成高新、先进的产业体系
- D. 它包括创新层、核心层、辐射层和制度层

3. 下列选项中，不属于陕西地方戏曲剧种的是：

- A. 老腔
- B. 眉户
- C. 碗碗腔
- D. 蒲州梆子

4. “天下兴亡，匹夫有责”是明末清初思想家( )的名言。

- A. 戴震
- B. 黄宗羲
- C. 顾炎武
- D. 王夫之

5. 清代，中央政府正式任命的第一任台湾巡抚是：

- A. 郑成功

- B. 丘逢甲  
C. 林则徐  
D. 刘铭传
6. 下列文学作品中，不属于莫言作品的是：  
A. 《丰乳肥臀》  
B. 《活着》  
C. 《断手》  
D. 《透明的红萝卜》
7. 习近平总书记在党的群众路线教育实践活动工作会议讲话中指出，党内脱离群众路线的现象大量存在，集中表现在“四风”上，这“四风”指：  
A. 直教经个  
B. 教个享奢  
C. 形官享奢  
D. 经享个官
8. 小张高中毕业，倘若参加工作，每年可挣得4万元，现在他进入某大学进行本科专业学习，学习期为4年，那么由于其读本科而未挣得的16万元，属于小张读本科的：  
A. 沉没成本  
B. 机会成本  
C. 固定成本  
D. 可变成本
9. 下列说法中能体现唯物主义和唯心主义根本分歧的是：  
A. “生死由命，富贵在天”与“物是观念的舞台”  
B. “世异则事异，世异则备变”与“天不变，道亦不变”  
C. “气者，环之依也”与“环生万物”  
D. “不入虎穴，焉得虎子”与“秀才不出门，全知天下事”
10. 宗教改革领袖达尔文说：通往永恒的、不变的意图，上帝始终决定着谁可以被拯救，谁将被毁灭，这反映了宗教改革的：  
A. 圣经高于一切  
B. 上帝永恒  
C. 反对罗马天主教会  
D. 信仰得救
11. 以下各项中，不属于太阳能利用的主要形式是：  
A. 光热  
B. 光电  
C. 风热  
D. 光化学
12. 唐朝诗人孟郊的《登科后》诗云：“春风得意马蹄疾，一朝看遍长安花。”生动描绘了士子在

参加完科考后获取功名后的愉悦心情，据此判断这位士子参加的是：

- A. 会试
- B. 乡试
- C. 童试
- D. 殿试

13. 下列表达中，正确的是：

- A. 不满 18 周岁的人犯罪，不适用附加剥夺政治权利
- B. 不满 18 周岁的人犯罪，应当从轻或减轻处罚
- C. 不满 18 周岁的人犯罪，应当宣告缓刑
- D. 不满 18 周岁的人犯罪，不适用无期徒刑

14. 王某上小学二年级，今年 7 岁，他所实施的下列行为中，在法律上无效的是：

- A. 接受姑姑压岁钱 500 元
- B. 参加一部电影拍摄得报酬 1000 元
- C. 给自己买一个价值 300 元的玩具
- D. 参加英语竞赛获奖，得到奖金 50 元并捐给生活困难的同学

15. 下列活动中，属于司法活动范畴的是：

- A. 某司法局审查并发放律师执业证
- B. 陕西省高级人民法院向陕西省人民代表大会做工作报告
- C. 交警对王某的交通违章进行罚款处罚
- D. 检察机关对犯罪嫌疑人刘某的涉嫌受贿犯罪予以批准逮捕

16. 张某受王某的委托，为王某画了一幅肖像，双方未就这幅画的版权归属做出约定。王某去世后，其继承人王一将这幅画卖给了李某，李某未经任何人同意，将这幅画复制出售。下列关于李某做法的认定中，表达正确的是：

- A. 李某侵犯了张某的著作权
- B. 李某侵犯了王某的著作权
- C. 李某侵犯了王一的著作权
- D. 李某的行为是合法行使权利的行为

17. 一对夫妻欲离婚，下列各项属于他们夫妻共同财产的是：

- A. 婚姻关系存续期间一方专用的生活用品
- B. 出租一方婚前所购房屋获得的租金 2 万元
- C. 婚姻关系存续期间，夫妻各自和共同劳动所得的收入 60 万元
- D. 虽属一方的婚前财产，但在婚后共同生活中双方共同长期使用的房屋两套，汽车一部

18. 下列选项中，不属于我国法定人民团体的是：

- A. 陕西省工商联
- B. 陕西省作家协会
- C. 陕西省妇女联合会
- D. 西安某大学的学生会

19. 下列选项中，免征个人所得税的是：
- A. 张某的存款利息
  - B. 王某的保险赔款
  - C. 李某的稿酬所得
  - D. 赵某的房屋出租所得
20. 2013年3月5日，是毛泽东“向雷锋同志学习”题词发表（）周年纪念日。
- A. 30
  - B. 40
  - C. 50
  - D. 60
21. 关于中医，下列说法中不正确的是：
- A. 《神农本草经》中，将药物分为上、中、下三品
  - B. 《黄帝内经》是黄帝所著的中国最早的医学理论典籍
  - C. 中医的四诊是指望、闻、问、切
  - D. 针灸是两种不同治疗疾病方法的合称
22. 下列说法中，正确的是：
- A. 中国古代的五行学说认为，五行之间，相生相克，五行相克次序是：金克土，土克水，水克火，火克木，木克金
  - B. 佛家的六根是指鱼、身、香、味、触、法
  - C. 唐玄宗时期，中国社会出现了繁荣景象，被史学家称为“贞观之治”
  - D. 《易经》中的八卦是指乾卦、坤卦、离卦、坎卦、兑卦、震卦、艮卦、巽卦
23. 处置突发性公共事件的首要原则是：
- A. 迅速性原则
  - B. 效率性原则
  - C. 安全性原则
  - D. 慎重性原则
24. 关于宋词，下列说法中不正确的是：
- A. “有井水处即能歌柳词”说的是柳永
  - B. “檣櫓灰飞烟灭”说的是“官渡之战”
  - C. 辛弃疾是宋代词人中“豪放派”代表之一
  - D. “人比黄花瘦”是女词人李清照的名句
25. 下列不属于乾隆皇帝入藏“三希堂”的法帖是：
- A. 《伯远帖》
  - B. 《中秋帖》
  - C. 《兰亭序》
  - D. 《快雪时晴帖》
26. 以下说法中，不正确的是：

- A. 在加油站停车加油时，不能拨打手机
- B. 室内装修应尽可能选择在冬季进行
- C. 受到核辐射的人员应适当服用稳定碘
- D. 家用电冰箱的制冷剂氟利昂会破坏空气中的臭氧

27. 党的十八大首次把（ ）与经济建设、政治建设、文化建设、社会建设并称为中国特色社会主义事业“五位一体”的总布局。

- A. 党的建设
- B. 制度建设
- C. 法制建设
- D. 生态文明建设

28. 以下说法中，不正确的是：

- A. 五岳之一的华山坐落在陕西省境内
- B. 贾平凹是著名的陕西籍作家
- C. “西安事变”是由著名的西北军将领杨虎城、张学良发动的
- D. “泾渭分明”一词中所涉及的泾河和渭河的交汇处在陕西省

29. 下列说法中，不属于习近平同志关于“中国梦”明确表述的是：

- A. 国家富强
- B. 民族振兴
- C. 美丽中国
- D. 人民幸福

30. 以下关于经济政策与经济行为的说法中，不正确的是：

- A. 政府加大采购力度，有助于抑制通货膨胀
- B. 当通货紧缩时，中央银行应降低存款利息
- C. 当通货膨胀时，中央银行应提高存款准备金率
- D. 政府购回已发行的债券，有助于抑制通货紧缩

## 第二部分 言语理解与表达

**本部分包括表达与理解两方面的内容，请根据题目要求，在四个选项中选出一个最恰当的答案。**

31. 在许多大城市中，无家可归者和失业者流落街头似已\_\_\_\_\_，没几个驾驶者会停下来给予施舍或提供援助，一般都会\_\_\_\_\_，毫无疑问，大多数人都听过这样的告诫：一味地给这些人钱，只会养成他们懒惰、依赖的生活方式。

依次填入划横线部分最恰当的一项是：

- A. 习以为常，熟视无睹
- B. 蔚然成风，视而不见
- C. 司空见惯，呼啸而过
- D. 见怪不怪，一笑而过

32. 变老大概是一种对自己的放弃，不断放弃自尊，变得\_\_\_\_\_，却毫无愧色，仍能\_\_\_\_\_，渐渐溢出边界，直至失去了人应当有的轮廓，与朋友谈起那样的人，皆感慨，假如自己

变成那样，真是\_\_\_\_\_，如此感慨，或许因为我们还不够老，老到某个时候，对自己就会宽容，无论变成什么样，都可以接纳。

依次填入划横线部分最恰当的一项是：

- A. 一无是处，乐在其中，无地自容
- B. 面目全非，自圆其说，生不如死
- C. 一无是处，坦然自若，生不如死
- D. 面目全非，怡然自得，无地自容

33. 靠机制吸引人，而不是靠补贴吸引人，这是市场经济与计划经济在思维惯性上的\_\_\_\_\_，靠补贴的搞工程式吸引人才的最大弊端是已经先入为主地假定谁是人才了，因此，你不能补贴所有人，不能给人们提供\_\_\_\_\_才能的社会氛围。梁文道在他所著的《常识》中写道，新加坡就很能够吸收人才了，但比起美国还是\_\_\_\_\_。

依次填入划横线部分最恰当的一项是：

- A. 鸿沟，激发，略逊一筹
- B. 差异，发挥，望尘莫及
- C. 差别，触发，稍逊一筹
- D. 区别，发挥，相去甚远

34. 在房价不断\_\_\_\_\_的当今中国，我们甚至有理由怀疑，中国的无产阶层已经被高房价消灭。受过良好教育的大学生是最有可能成为中产阶层的群体，然而，在这个遍地都是大学生的年代，我们看不到中产阶级成长的希望。毕业即失业已是一种\_\_\_\_\_，初入社会的他们，又不得不面对来自各方的压力，他们的生存空间不断地被挤压，生活幸福感不断降低，“房奴”、“孩奴”\_\_\_\_\_，整个群体被焦虑和失败所\_\_\_\_\_。

依次填入划横线部分最恰当的一项是：

- A. 攀升，现象，俯拾，皆是困惑
- B. 上涨，趋势，层出，不穷纠缠
- C. 上扬，潮流，无处，不在干扰
- D. 飙升，常态，比比，皆是困扰

35. 前些年，从\_\_\_\_\_的市中心搬家到尚未完全开发的新区，住宅临河，两岸绿竹簇簇，鸟叫蝉鸣，水流风动，空气清新；房侧有一池塘，水草繁茂，鲫鱼穿梭，前方田野开阔，一片葱笼，晚上，河滩上、池塘中、田野里，蛙声齐鸣，\_\_\_\_\_，恰似从几个立体音响发出的立体声，浑厚而\_\_\_\_\_。

依次填入划横线部分最恰当的一项是：

- A. 纷繁复杂，交相辉映，沧桑
- B. 纷纷扰扰，余音绕梁，优美
- C. 热闹喧嚣，遥相呼应，和谐
- D. 繁荣兴盛，此起彼伏，清晰

36. 在乡村，老牛与牧童彼此守望，庄稼人面朝黄土，把自己生命的期望播种进\_\_\_\_\_的泥土里，把一切梦想向季节里扔去，和庄稼、土地一起\_\_\_\_\_，一起金黄。在鲜润的土地上，将十指插入泥土，攥一把，闻一闻泥土的清香，然后把泥土提出心中渴望的形状，那是老农一生重复了多少次的庄重礼仪和神奇享受，\_\_\_\_\_的身影和溅落的汗珠也被编成一个章节，使故事闪现着更加真实的笑声，\_\_\_\_\_在季节深处的笑容和粗犷的酒歌里。

依次填入划横线部分最恰当的一项是：

- A. 黝黑，葱郁，消瘦，镶嵌
- ， B. 广袤，成长，清瘦，洒落
- C. 湿润，葱郁，健硕，飘落
- D. 厚重，成长，矫健，凝结

37. 罗马是一座古色古香、历史悠久、充满\_\_\_\_\_和艺术气息的城市，是用艺术品装饰得最多的地方，是\_\_\_\_\_的露天开放博物馆，具有独特风格，万般诱人，但也有人说，罗马\_\_\_\_\_，小偷多，骗子多，不如其他欧洲国家的首都好。

依次填入划横线部分最恰当的一项是：

- A. 柔情蜜意，首屈一指，藏污纳垢
- B. 诗情画意，美轮美奂，徒有虚名
- C. 柔情蜜意，光怪陆离，乌烟瘴气
- D. 诗情画意，包罗万象，破烂肮脏

38. 中国古代，士的人格风骨最令人敬仰，也最让后人\_\_\_\_\_，士在这方面的表现，是\_\_\_\_\_的史书中最\_\_\_\_\_的部分，也是人们看历史小说时最受感动的故事，虽然士眼中的人格，远没有人类现代文明中关于人的“健全的、完整的”意义，但其精神操守的价值却是永恒的。

依次填入划横线部分最恰当的一项是：

- A. 羞愧，浩如烟海，感人至深
- B. 汗颜，卷帙浩繁，光彩照人
- C. 羞愧，洋洋洒洒，感人肺腑
- D. 汗颜，汗牛充栋，精彩绝伦

39. 《物种起源》提出的进化论思想不仅推翻了达尔文之前两千多年来居于主导地位的上帝创造世界的观点，改变了人们关于自身和世界\_\_\_\_\_，成为一种根本性的\_\_\_\_\_的变革，具有里程碑式的意义，而且达尔文理论犹如宇宙之酸，“它每浸入一种传统的观念后便会留下一种革命观”，在达尔文的进化论诞生一百多年以来，几乎没有一个科学领域没有受到进化思维的\_\_\_\_\_。

依次填入划横线部分最恰当的一项是：

- A. 设想，不可逆转，渗透
- B. 假象，无法遏制，影响
- C. 想象，势不可挡，影响
- D. 假定，难以控制，渗透

40. 创新活动还有一个特点，越是能对人类社会产生重大作用的创新，越要依赖于个人的天赋、努力和不可预知的\_\_\_\_\_，而不是集中的控制，并且，越是有价值的创新活动，也就越\_\_\_\_\_，因为，重大的发明往往在很多方面\_\_\_\_\_了人们对已知事物的理解，而集中控制所依据的，恰恰只能是这种理解。

依次填入划横线部分最恰当的一项是：

- A. 随机性，坚强，超载
- B. 必然性，虚弱，背离
- C. 偶然性，脆弱，超出
- D. 随意性，顽强，违背

41. 我蹲下身细看这块石头，它光滑，浑圆，细致的花纹呈现着天然的文理美。忽然，我看到了一

条\_\_\_\_\_的痕迹，是一块石头滚动时压出的，似乎还有流水的痕迹。这些欲隐不隐的、欲显不显的迹象，一下子\_\_\_\_\_了我的心，让我觉得它像一张在沧桑中平静下来的脸，由于没有心理准备，我被忽然呈现的如此撩人的事实\_\_\_\_\_了。

依次填入划横线部分最恰当的一项是：

- A. 惊天动地，抓住，震惊
- B. 惊心动魄，震撼，征服
- C. 震撼人心，充斥，惊呆
- D. 若隐若现，揪住，震撼

42. 城市环境和市民的生活方式是互相\_\_\_\_\_的。非汽车城市的环境，往往给运动留下诸多\_\_\_\_\_，鼓励人们从事体育锻炼。大家都喜欢户外运动，因而更加珍惜环境，愿意把一切都维护成这样。有了环境，则又\_\_\_\_\_更多的人参与户外运动，使更多的人关心环境。这样形成了良性循环。

依次填入划横线部分最恰当的一项是：

- A. 融合，可能，促使
- B. 塑造，便利，刺激
- C. 补充，空间，迫使
- D. 促使，便捷，导致

43. 胡兰和唐君毅二人在知己和论敌之间，见解多有抵触，\_\_\_\_\_视对方为长友，并未因观点相异而伤了和气，\_\_\_\_\_胡兰成偶有偏激之语，唐君毅也不以为意，长会“人之好不在其同而在于其各有所异”，他认为胡兰成的某些观点发人所未发，\_\_\_\_\_介绍他的学生与之通信。

依次填入划横线部分最恰当的一项是：

- A. 且，虽然，但
- B. 但，尽管，仍
- C. 但，即使，还
- D. 且，如果，却

44. 法国当代著名政治哲学家皮埃尔·马高的《民主的本性——托克维尔的政治哲学》堪称研究托克维尔的众多著作中最精彩者之一。马南格外重视并不惜笔墨剖析民主的种种\_\_\_\_\_，很大程度上缘于他对欧洲民主当前遭遇的\_\_\_\_\_的感受。在马南看来，造成民主的\_\_\_\_\_性的一个根本原因在于民主的教义除了强调个体的独立与自主外，缺乏更多的道德\_\_\_\_\_。

依次填入划横线部分最恰当的一项是：

- A. 病理，危险，懦弱，素质
- B. 弊端，痛苦，脆弱，品质
- C. 病理，危机，脆弱，内涵
- D. 弊端，痛苦，懦弱，品味

45. 2012年，当每个中国人都在讨论《舌尖上的中国》里各式\_\_\_\_\_的美食时，“据说一个中国人死了，拍扁了就是一张元素周期表”的挖苦和自嘲也在网络间流行，这源于中国人多年来对食品安全\_\_\_\_\_的焦虑和不安，在微博上，对食品安全的议论，比过去一年增加了近10倍。

依次填入划横线部分最恰当的一项是：

- A. 令人垂涎，根深蒂固
- B. 垂涎三尺，刻骨铭心



- C. 千奇百怪，彻头彻尾
- D. 花样繁多，深恶痛绝

46. 大众娱乐最需要的是—种浪漫化或庸俗浪漫化的激情，作者和读者都有强烈的自我代入欲望，所以这些作品中的主人公总是容貌出众，本领超群，所向无敌，及其多情，不停地拯救弱者，敌人的女人是最有戏剧性和冲击力的欲望对象。当这类娱乐英雄所承担直教任务的时候，总能让乏味的意识形态宣传变得\_\_\_\_\_。

填入划横线部分最恰当的一项是：

- A. 脍炙人口
- B. 惹人耳目
- C. 引人入胜
- D. 出神入化

47. “二战”之后，法国高等教育飞速发展，众多新生学科\_\_\_\_\_兴起。不过，在布尔迪厄眼中，这与其说是学术\_\_\_\_\_结果，不如说是资本转化的需要。以学位为标志的文化资本以其隐蔽性、\_\_\_\_\_、长期有效性成为资本掌握者\_\_\_\_\_资本的上佳选择。

依次填入划横线部分最恰当的一项是：

- A. 突然，发展，合理性，运用
- B. 逐渐，创新，规范性，再生
- C. 猛然，延续，权威性，利用
- D. 渐次，延拓，合法性，转化

48. 去年美国有人闹过一阵抵制“孔子学院”的事，还没等我回过神来这件事情倒\_\_\_\_\_了，估计八成是发现孔子书里塞不进去什么意识形态，其实意识形态的生长对土壤特别\_\_\_\_\_，这都是常识了，美国佬这次有了觉悟便\_\_\_\_\_，不再害怕十三亿中国纳税人\_\_\_\_\_给他们上门送识字教育了。

依次填入划横线部分最恰当的一项是：

- A. 平复，挑剔，志气陡长，慷慨解囊
- B. 平复，适应，志气陡长，不顾一切
- C. 安静，挑剔，意气风发，慷慨解囊
- D. 安静，适应，意气风发，不顾一切

49. 中国真正进入全球化的坐标体系，也就是在这短短三十多年，但就是在这三十多年里，我们写下了让世界\_\_\_\_\_的“中国故事”。从\_\_\_\_\_的革命年代，到\_\_\_\_\_的建设岁月，再到\_\_\_\_\_的改革时期，在不断探索和奋斗中，我们形成和发展了中国特色社会主义道路。

依次填入划横线部分最恰当的一项是：

- A. 惊异，战火纷飞，激情燃烧，轰轰烈烈
- B. 惊叹，硝烟弥漫，激情燃烧，波澜壮阔
- C. 惊异，战火纷飞，热情奔放，轰轰烈烈
- D. 惊叹，硝烟弥漫，热情奔放，波澜壮阔

50. 无论是战后一些国家飞速发展，还是“金砖五国”重构世界版图，奇迹也好，飞腾也罢，都是一步一个脚印干出来的，\_\_\_\_\_有利的发展机遇、\_\_\_\_\_更好的体制机制、\_\_\_\_\_地革除自身弊病、\_\_\_\_\_迎接风险挑战，这是一个长期积累的过程，也就是一个持续奋斗的过程。

依次填入划横线部分最恰当的一项是：

- A. 控制，构建，坚决，自信
- B. 把握，建设，勇敢，积极
- C. 控制，建设，坚决，积极
- D. 把握，构建，勇敢，自信

51. 一本好书出了，不过如此，大奖拿上了，响动基巨，原因是大奖调动了社会自愿，与国家、权力、财力结合在一起，堂堂皇皇地闯入文学的象牙塔，以世俗之力去干预有脱俗之心的语言艺术。这样，各种奖被传媒与大众所十分关注，而单枪匹马的作家，没有这样的实力。

这段话的主要意思是：

- A. 大奖比被奖的文学作品和作家更牛
- B. 大奖能调动各种社会资源
- C. 获奖的作品更有轰动效应
- D. 世俗的力量会干预脱俗的语言艺术

52. 留学精英在国内形成的权威主义人格，在他们浸润于西方文化环境之后会有所改变，但他们作为成年人，其人格特征的改变是很难的。从权威主义人格到最终形成现代的民主人格，是一个漫长的过程，从中国人的整体上来看，需要几代人的进化。具体到一个留学精英，我们需要确认，他是处在怎样一个年代政治人格的形成阶段，他身上有多少权威主义人格特征，多少现代民主政治人格的因素。一个形成民主政治人格的人，无疑会认同和选择民主宪政的建国方案，即使他偶尔接受权威政治，也是不得已的权宜之计，但基本上属于权威主义人格的人，则会有两种情景：有的会选择民主政治，但不会很彻底，容易动摇；大多数会选择各种权威政治方案。

以下各项中，与以上文字说法相符的是：

- A. 留学精英在西方文化影响下会迅速转化成民主政治人格
- B. 民主主义人格的人绝不会接受权威政治方案
- C. 留学精英多属于权威主义人格
- D. 权威主义人格的人只会选择各种权威政治方案

53. 按照世界银行的界定，基尼系数反映的是收入活消费支出在不同个人活家庭分布。世界上大多数国家统计的是收入的分布，并且将收入界定为税后的可支配收入，但也有一些国家统计的是消费支出的分布，比如印度，由于边际消费倾向递减的因素，用消费支出计算的基尼系数会明显低于用收入计算的基尼系数，比如，2005年世界银行公布的印度基尼系数是0.33，但如果用收入指标衡量将超过0.6；反之，如果用消费支出法计算中国的基尼系数，则200年中国的基尼系数将只有0.26。

上述蚊子意在说明（）。

- A. 印度的基尼系数计算存在的问题
- B. 目前基尼系数计算指标的差异性影响了各国之间的可比性
- C. 使用税后收入计算基尼系数合理
- D. 中国的基尼系数被高估

54. 促进生产要素合理流动和优化配置，实现区域优势互补，提高经整体发展质量和效益，离不开健全的市场机制，实施区域发展总体战略，促进区域经济协调发展，需要在完善市场机制上下功夫，目前应强调两个方面：一方面，要纠正要素价格扭曲现象，用价格杠杆引导各类生存要素合理流动，优化要素资源配置，提高经济效益。另一方面，要正确应对生产要素供需的结构性变化。

对上述文字的中心意思概括最恰当的一项是：

- A. 要推进区域经济协调发展，需要完善市场机制，促进生产要素合理流动
- B. 价格机制是调整资源配置的有效手段
- C. 健全的市场机制是经济发展的充分条件
- D. 促进生产要素的合理流动和优化资源

55. 作为一个生命个体，人不仅是一个自然人也是社会人。全社会要大力宣扬生命道德，开展一场热爱生命的宣传运动，形成珍惜生命的良好风尚：要发动社会各界力量参与到生命道德教育中来：网络、电影、电视、报刊等社会媒体要强化正面引导，减少对青少年的负面暗示和误导，学校、家庭、社会三位一体，合力推展，促使青少年欣赏生命之美好，珍惜生命之存在，尊重生命之权利。

上述文字想要表达的中心意思是：

- A. 开展生命道德教育刻不容缓
- B. 青少年要珍惜生命
- C. 要加强对青少年生命道德教育
- D. 生命道德建设需要家庭、学校和社会的共同努力

56. 中国经济的高速发展首先保证了居民获得幸福的物质因素。城乡居民收入稳步提升，居民身体素质、寿命都得到提高。在市场经济体制中，物质资源极大丰富，人们可以发挥自己的能动性，来获得最大的物质享受。城乡社会消费品零售总额稳步提升，说明居民的生活水平在提高，这些都是人们保持幸福的无知保障。然而，现实情况也告诉我们，很多收入颇丰的中产阶级甚至富裕阶层还往往比工薪阶层更容易“抑郁”，这当然不是因为“有钱”让人变得不幸福，而是因为“不差钱”让物质丰富这样一个幸福增长点消失了。

这段文字想要表达的意思是：

- A. 中国的工薪阶层比中产阶级和富裕阶层更幸福
- B. 亿万富翁多数是不幸福的
- C. 物质丰富是幸福的基本保障，但它所能带来的幸福体验并不可持续
- D. 幸福的程度与财富的多少成正比

57. 在经济结构的扭曲度没有得到释放的情况下，在段时间内止住经济下滑趋势，稳住经济态势，建立市场预期，也只有投资拉动以这一条路可走。这样做，实属无奈之举，但是，为了稳住一两个百分点的经济增长数字，启动数万亿的投资项目，这样的“手笔其实已经远远超过了所谓”稳增长“的需要。

根据上述文字，坐着对于数万亿投资项目的态度是：

- A. 欣赏
- B. 讽刺
- C. 中立
- D. 否定

58. ①在无意义面前，大脑由于寻找不到的答案而引发的焦虑，当然这是积累到固定阈值之后的事情。

- ②权利是伴随选择而产生的，譬如电视剧的频道转换器就给了观众看与不看的权利。
- ③人的大脑有一种无法改变的功能，即不断地追索词语以及多有事情的意义。
- ④如果在人权当中引申出一项“安静权”的话，公共厕所的这些广告无疑损害了这项权利。
- ⑤在城里，已经很难看到纯朴生动的脸了，这和多重因素相关，与无法回避的喧嚣也有关系。
- ⑥市场竞争在剥夺这些权利，在无孔不入的资讯面前，人群中呈现着一张张冷漠的脸。

将上述 6 个句子重新排列，语序正确的是：

- A. ③①④⑤②⑥
- B. ③①④②⑥⑤
- C. ④③⑤①②⑥
- D. ①④②③⑥⑤

59. ①再往后，不光城市有稳像，城乡也有，而且雕像不再是单独一尊放在那里，而是一群地站满全国每个城镇的街头巷尾。

②达沃窦是玛西古第四王朝的第五十五位皇帝，这个王朝以崇拜偶像著称，大大小小的城市里，林立着历代皇帝的石像。

③由于雕像数目过多，连底蕴都配不起，只好直接安放在街道上。

④他把父亲和爷爷的雕像全部推到，改塑为自己的像，还重新采石新雕了更多石像。

⑤到达沃窦即位，变了规矩。

将以上 5 个句子重新排列，语序正确的是：

- A. ②④③①⑤
- B. ②③①④⑤
- C. ②⑤④③①
- D. ⑤②④③①

60. 纵观整个评估产品组件的供应链，中国企业仍然处在价值增值的低端，利润微薄，仅能赚取低廉的加工费。亚洲开发银行的报告现实，一个 IPHONE（3G）的出口价格大约是 179 美元，在中国组装支出大约 6.5 美元，也就是说，一个 Iphone 手机在中国的价值增值只有其出口价格的 3.6% 左右。显然，作为世界第二大经济体和世界工厂，中国制造业的发展依旧落后，科技含量低，利润率低。

这段文字意在强调：

- A. 苹果手机在中国的价值增长值非常小
- B. 中国仍没有改变世界代工厂的低端地位
- C. 苹果手机组建主要在中国加工
- D. 中国在苹果产品组件供应链中处于重要的地位

61. 中国流失在海外的文物数量巨大，情况也非常复杂，如果不分情况，一位花重金购买，就等于承认了这部分文物流失海外的合法性，这于情于理都难以接受。而中国文物无论是在什么地方——无论是在中国还是在世界任何一个国家，无论它是在国家手中还是在个人手中，重要能够项公众展示，它代表的都是中国文化，这个文化是需要宣传和展示的。文物保护本身并不是目的，目的是在于利用它，利用它来宣扬我们的文化。

这段文字想要表达的意思是：

- A. 中国流失海外的文物情况复杂
- B. 文物保护的目的在于利用文物宣扬文化
- C. 文物归还，要冷静思考、理性从事
- D. 中国流失海外是文物合法性未得到承认

62. 随着改革开放的深化，商品价格和劳动力的价格迅速高度市场化，土地价格随拍卖而市场化，甚至股票价格也高度市场化了，但唯独最广大劳动者的最主要的财产性收入即储蓄存款利息没有市场化，垄断的利息制度，通过人为地压低公众的财产性收入，即为企业提供了廉价资金，也为银行提供了丰厚的利息和低风险客户，作为这种制度安排基础的，是广大储户变成了金融稳定的牺牲品。

上述文字想要表达的意思是：

- A. 居民储蓄存款利息的制度垄断在全局规模上影响了收入和财富分配
- B. 目前居民储蓄存款利息制度具有垄断性
- C. 我过居民存储贷款制度对于保持金融稳定具有重要作用
- D. 垄断的利息制度人为地压制了公众的财产性收入

63. 人生所能有的成就有三：学问、事功、道德。事功方面，历史上最有成功的人是历朝的太相高皇帝。刘邦因为项羽的不行而成功，如果项羽比他更行，他绝不会成功。学问是个人之事，成功则与他人有关，道德能够成为大哲学家，并不是因为德国没有大哲学家。而希特勒能够横行，却是英国的纵容和法国的疏忽所致。历史上有些人实在配称英雄，可是碰到比他更厉害的人却失败了，有的人原很不行，可是碰到了比他更不行的人反能成功，所谓“世无英雄，遂便竖子成名”。

上述文字的主要观点是：

- A. 历朝开国皇帝是成功的人
- B. 事功方面的成就靠命运的成分大
- C. 康德比希特勒更成功
- D. 学问的成就主要靠个人努力

64. 1970年，伦敦的一本消费者杂志突发奇想测试一下钻石的投资价值，它花了400英镑在一珠宝商家买了两颗1.5克拉的钻石。1978年，当杂志的主编瓦茨打算出售这两颗钻石时，大多数商家都拒付现金，收到的最高报价是500英镑，如果考虑到当时通货膨胀率，这个报价相当于1970年的167英镑。

上述文字的主要观点是：

- A. 钻石的价值相对稳定
- B. 1970年至1978年间英国的通货膨胀率较高
- C. 钻石并不保值
- D. 通货膨胀是影响钻石保值的最主要原因

65. 分享需要平等理念和机制，需要平等，关怀他人，甚至关怀“陌生人”的精神，人们之间的日常交往和共同联系需要制度保障，这种制度以道德为基础，而不是以市场交换为基础，只有平等基础上，才能形成互相关怀的社区关系，当社区居民构建起自己的分享体系，价值意义上的社区才得以实现。

上述文字想要表达的主要意思是：

- A. 平等对于构建社区的分享体系意义重大
- B. 分享需要平等理念和机制
- C. 价值意义上的社区的实现需要以制度为基础
- D. 分享体系的构建对于实现价值意义上的社区非常重要

66. 日本经济近期“景气”主要得益于重建需求和政府重启环保车补贴等政策刺激，并不具有可持续性，随着重建工作的逐步推进，重建需求对经济的刺激效果将持续减弱，而环保车补贴政策也即将到期，外需将成为日本经济下半年能否持续增长的关键因素。目前看来，由于欧债危机持续发酵、美国经济增长乏力、新兴国家经济增速减缓、日元持续高位等因素制约，未来日本经济或将艰难前行。

以下各项中，与上文说法不一致的是：

- A. 环保车补贴政策促进了日本经济的发展
- B. 美国经济增长乏力阻碍了日本经济的发展

- C. 未来重建需求或难以刺激日本经济持续发展
- D. 未来日本经济能否持续增长取决于多方面的因素

67. 在航母舰面上,各站位的人员身着五颜六色的服装,这与传统军舰上同一颜色的着装要求有极大差别。职责不同,工作人员穿戴的头盔、马甲和长袖衫的颜色也不同:紫色代表燃油补给;红色代表危险和安全管控;绿色代表起降和飞机维修;蓝色代表调运和供气保障;棕色代表机务。外型看起来,仿佛在甲板上看到了七色的“彩虹”。

上述文字最可能来自:

- A. 一则散文
- B. 科普读物
- C. 一篇游记
- D. 企业广告

68. 下列各句中,没有语病的一项是:

- A. 城市发展论坛的与会专家普遍认为:我国城镇化研究主要集中在预测城镇化速度和趋势上,而对城镇化过程共政策的负面影响则明显被忽略。
- B. 国家粮食安全具有全局性和普遍性,粮食主产区、产销平衡区和主销区的生产、加工、流通、储备等粮食产业发展状况构成了国家粮食安全。
- C. 一道老歌往往会令我们感动得热泪盈眶,原因之一就是因为它能勾起人们对往事的回忆。
- D. 学校南边的那片树林,早被人们砍光了。

69. 纸质书是一个多页共存的实体,一件有其完整物质形态的物品,由封面、扉页、目录、前言、主体、后记等要素构成,其本身就是一个占据一定空间的艺术品。这是纸质书与电子书的根本区别。在传递信息这一功能上,电子书与纸质书没有区别:但二者一是虚拟,一是实体,一是单面,一是多页。纸质书多页共存,虽有笨拙不便之处,但在“有形的实体”方面,却有着独到的优势,电子书等虚拟形态固然轻便快捷、海量存储,但却满足不了人对“有形的物质实体”的需求。

上述文字意在说明:

- A. 纸质书难以完全被电子书替代。
- B. 纸质书的多页共存的实体性是纸质书和电子书的根本区别。
- C. 电子书有着纸质书不可比拟的优势。
- D. 纸质书相比电子书存在明显劣势。

70. 征服地中海世界以后,财富的增多、经济结构的变化和外来思想的涌入,使罗马人开始感到茫然失措,价值追求呈现出光怪陆离的景象,绝大多数罗马人抛弃了传统的社会美德,奉行快乐主义哲学,崇拜金钱,贪图安逸,沉溺美食与色相,罗马民族在人生价值取向上与传统美德渐行渐远,罗马帝国形成后,罗马人引以为豪的传统美德荡然无存,道德的解体导致了罗马帝国的衰亡。

上述文字的主要观点是:

- A. 罗马人征服地中海世界后,开始抛弃传统社会美德。
- B. 道德决定了一个民族的兴衰。
- C. 道德沦丧导致了罗马帝国的衰亡。
- D. 罗马民族曾经拥有传统美德。

### 第三部分 数量关系

一、数字推理。在这部分试题中，每道题呈现一组具有内在关系的数字，要求你迅速、准确地找出内在规律，并据此计算出答案。

71. 0, 5, 8, 17, 24, ( )

- A. 37
- B. 45
- C. 51
- D. 62

72. 17, 29, 43, 61, 87, ( )

- A. 167
- B. 115
- C. 259
- D. 129

73. 13, 16, 20, 34, 92, ( )

- A. 1124
- B. 904
- C. 1316
- D. 832

74. 2, 2, 3, 4, 5, 6, 7, 8, ( )

- A. 9
- B. 10
- C. 11
- D. 12

75. 2, 6, 30, 60, 130, 210, ( )

- A. 340
- B. 350
- C. 360
- D. 1370

二、数学运算。在这部分试题中，每道题呈现一段表述数学关系的文字，要求你迅速、准确地计算出答案。

76. 甲、乙二人分别从 A、B 两地同时出发，相向而行，甲的速度是乙的 4 倍，甲用时 15 分钟到达 B 地后立即返回，甲乙第二次相遇后，乙再走 ( ) 分钟才能到达 A 地。

- A. 40
- B. 30
- C. 45
- D. 33

77. 某商店 2 万元购进一批商品，按原价卖出这批商品的五分之二后，由于市场情况发生变化，决定以七五折销售所剩商品，等商品全部卖出后结算发现这批商品亏损 2000 元，则降价前这批商品的利润率约为：

- A. 6%
- B. 7%
- C. 8%
- D. 9%

78. 五年级一班共有 55 个学生，在暑假期间都参加了特长培训班，35 人参加书法班，28 人参加美术班，31 人参加舞蹈班，其中以上三种特长培训班都参加的有 6 人，则有（ ）人只参加了一种特长培训班。

- A. 45
- B. 33
- C. 29
- D. 22

79. 现有 100 块糖，把这些糖分给 10 名小朋友，每名小朋友分得的糖数都不相同，则分得最多的小朋友至少分得（ ）块糖。

- A. 13
- B. 14
- C. 15
- D. 16

80. 某领导要把 20 项任务分配给三个下属，每个下属至少分得三项任务，则共有（ ）种不同的分配方式。

- A. 28
- B. 36
- C. 54
- D. 78

81. 学校组织学生举行献爱心捐款活动，某年级共有三个班，甲班捐款数是另外两个班捐款总数的  $\frac{2}{5}$ ，乙班捐款数是丙班的 1.2 倍，丙班捐款数比甲班多 300 元，则这三个班一共捐款（ ）元。

- A. 6000
- B. 6600
- C. 7000
- D. 7700

82. 一艘轮船负责 6 个码头之间的货物调配任务，已知这 6 个码头所需装卸工的数量分别为 12 人、10 人、6 人、8 人、3 人、9 人，现在让一部分装卸工跟随轮船移动，而不是在各自的码头等待轮船到来后才开始工作，这样一来，可以使得 6 个码头所需装卸工的总数减少，则在不影响任务的前提下，所需装卸工的最少人数为（ ）人

- A. 48
- B. 39
- C. 45
- D. 31

83. 将 700 克 14.3% 的盐水与 900 克 11.1% 的盐水混合后，再加入 200 克盐，蒸发掉 300 克水后，



该盐水的浓度为：

- A. 22.2%
- B. 24.3%
- C. 26.7%
- D. 28.6%

84. 某单位分为A、B两个部门，A部门有3名男性，3名女性，B部分由4名男性，5名女性，该单位欲安排三人出差，要求每个部门至少派出一人，则至少一名女性被安排出差的概率为：

- A. 107/117
- B. 87/98
- C. 29/36
- D. 217/251

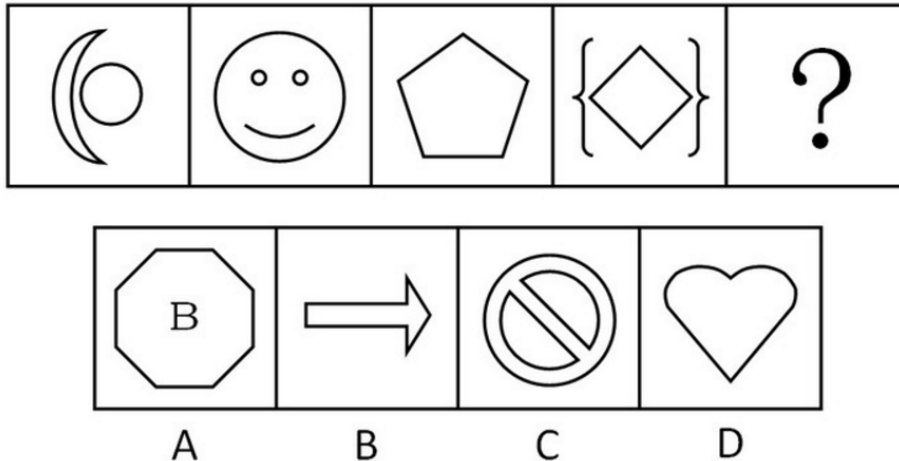
85. 将一个边长为1的木质正方体削去多余部分，使其成为一个最大的木质圆球，则削去部分的体积为：

- A.  $\pi/6$
- B.  $1-\pi/6$
- C.  $\pi^2/16$
- D.  $1-\pi^2/16$

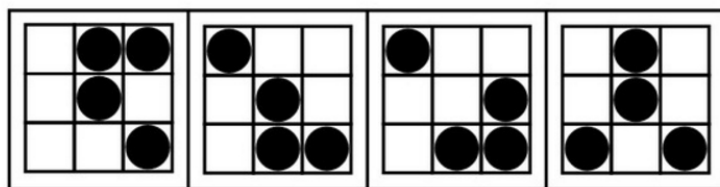
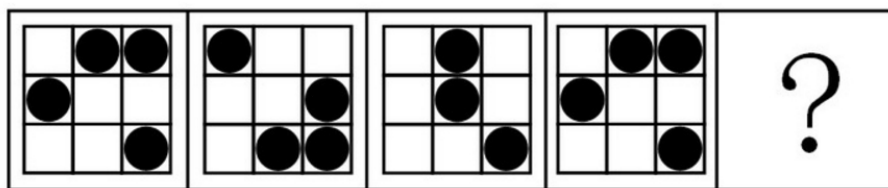
## 第四部分 判断推理

一、图形推理。请按每道题的答题要求作答。

86. 从所给选项中，选择最合适的一个填入问号处，使之呈现一定得规律性。



87. 从所给选项中，选择最合适的一个填入问号处，使之呈现一定得规律性。





A

B

C

D

88. 从所给选项中，选择最合适的一个填入问号处，使之呈现一定得规律性。



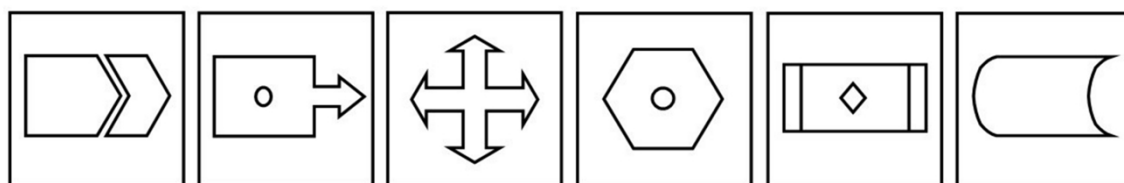
A

B

C

D

89. 把下面的六个图形分为两类，使每一类图形都有各自的共同特征或规律，分类正确的一项是：



①

②

③

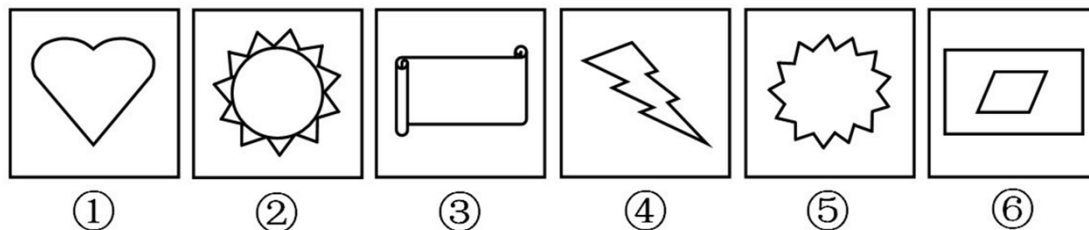
④

⑤

⑥

- A. ①⑤⑥, ②③④  
 B. ①③⑤, ②④⑥  
 C. ①④⑥, ②③⑤  
 D. ①②⑥, ③④⑤

90. 把下面的六个图形分为两类，使每一类图形都有各自的共同特征或规律，分类正确的一项是：



- A. ①④⑤，②③⑥  
B. ①②④，③⑤⑥  
C. ①③⑥，②④⑤  
D. ①②⑤，③④⑥

**二、定义判断，每道题先给出定义，然后列出四种情况，要求你严格依据定义，从中选出一个最符合或最不符合该定义的答案，注意：假设这个定义是正确的，不容置疑的。**

91. 根据我国《合同法》的规定，要约是希望和他人订立合同的意思表示，要约必须标明经受要约人的承诺，要约人即受该意思表示约束。

根据上述定义，下列选项中属于要约的是：

- A. 甲对乙说：“我打算卖掉我的手机，价格 1 千元左右吧。”  
B. 西安火车站的始发列车时刻表  
C. 某报纸征稿启事：“凡我报选用者按 200 元/千字从优支付稿酬。”  
D. 某培训机构打出广告：“高级辅导班 2000 元/人，随到随学。”

92. 我国《刑法》规定：在犯罪活动中，自动放弃犯罪或者自动有效地防止犯罪结果发生的，是犯罪中止。

根据上述定义，下列行为属于犯罪中止的是：

- A. 甲趁乙熟睡之际潜入乙家杀乙，打开煤气阀一段时间后，又后悔了，遂将煤气阀关上，并将 120 叫来对乙进行抢救，乙遂脱险  
B. 甲潜入乙家盗窃，突然听到旁边门响，误以为被发现，遂逃走  
C. 甲去乙家行窃，到乙家后却发现乙不在，遂将行窃的五万元带回，交准备改天再去  
D. 甲在街上对乙进行抢劫，被过路的群众发现、制止并扭送至公安机关

93. 一般来讲，耕作的涵义是指作物在种植之前，或在生长期中，为了改善作物生长条件，对土壤进行机械操作，耕作的目的有三个：（1）改良土壤结构；（2）把农作物残茬和有机肥掩埋并掺合到土壤中；（3）清除杂草和其他不需要的植株

根据上述定义，下列选项中属于耕作的是：

- A. 下雪后将板结的表土破碎  
B. 在麦田旁挖排水沟  
C. 在农田里种植绿肥作物  
D. 喷洒杀虫剂以杀灭害虫

94. 法的适用是指国家司法机关根据法定的职权和法定的程序，具体应用法律处理案件的专门活动，根据上述定义，下列行为属于法的适用的是：

- A. 海关工作人员认为张某有走私嫌疑而对其进行查办

- B. 检查机关根据群众举报对王某的受贿行为进行侦查
- C. 李某根据国家有关法律规定，在某售楼部签订房屋买卖合同
- D. 公安局长召开并于提高干警办案质量的工作会议

95. 知识产权是指在科学、技术、文化、教育、艺术等领域，人们对智力劳动创造的财富所享有的权利。

根据上述定义，下列选项中不属于只是产权的是：

- A. 商标权
- B. 发明权
- C. 肖像权
- D. 版权

96. 所谓联觉是指一种感觉引起另一种感觉因另一种感觉的同时作用而得加强的心理现象。

根据上述定义，下列选项中不属于联觉的是：

- A. 有人在看到红色时会兴奋
- B. 在炙热的阳光下，小刘戴上墨镜会感到舒服些
- C. 小张想起昨天晚上的噩梦，依然会心存恐惧
- D. 深色的服装比浅色的服装看上去有收敛的效果

97. 心境是一种微弱平静、持续时间较长、有弥散性的情绪状态。

根据上述定义，下列选项中不属于心境的是：

- A. 热恋中的小王工作积极性明显高涨
- B. 因前面车辆突然违规掉头，正在开车的小张情急之下破口大骂
- C. 刚出国学习的小李最近闷闷不乐，变得少言寡语
- D. 由于不愿意去幼儿园，小朋友莉莉最近不好好吃饭

98. 公害是指各种污染源或其他人为原因对自然环境和生活环境所造成的社会性危害；

根据上述定义，下列选项中不属于公害的是：

- A. 某化工厂的废水造成附近的农田污染
- B. 某人养的小狗晚上狂吠，导致邻居无法休息
- C. 一群人经常偷猎，致使周边山林内的动物减少
- D. 丈夫与妻子发生口角，大打出手，致使妻子受伤住院

99. 衰老是指机体从性成熟后开始或加速的一种持续发展且不可逆转的过程；

根据上述定义，下列选项中属于衰老的是：

- A. 老年人身高下降，脊柱弯曲，皮肤松弛，须发脱落
- B. 某干部退休后，睡眠不好，情绪烦躁，不愿与人交往
- C. 某青年原本活泼好动，热情奔放，但因学业繁重而郁郁寡欢
- D. 某工人因长期在噪音环境下工作，导致听觉能力下降

100. 内在稳定器又称“自动稳定器”，是指财政制度中的自动稳定因素，当经济衰退或过热时，无需政府变动经济政策，便可自动地起到控制衰退或抑制经济过热的作用：

根据上述定义，下列选项中属于内在稳定器作用的是：

- A. 由于税收制度上的累进税制，导致税收在经济过热时趋于上升，而在经济萧条时趋于下降，从

而起到稳定经济的作用

- B. 政府通过在经济萧条时加大投资力度，而在经济过热时减少投资来稳定经济
- C. 政府在经济萧条时，加大货币供给，而在经济过热时，减少货币供给，从而对经济起到稳定作用
- D. 在经济衰退时，政府通过制定鼓励出口的贸易政策来促进经济复苏

**三、逻辑判断。每道题给出一段陈述，这段陈述被假设是正确的，不容置疑的，要求你根据这段陈述选择正确答案。注意：正确答案应与所给陈述相符合，不需要任何附加说明即可以从陈述中直接推出。**

101. A、B、C、D 为四位漂亮女生，她们喜欢穿漂亮衣服，某天，她们穿的衣服颜色各不相同，有黄色、绿色、蓝色和红色四种，在问到她们各自衣服的颜色时，A 说：“B 的衣服不是黄色的。” B 说：“C 的衣服不是绿色的。” C 说：“D 的衣服不是蓝色的。” D 说：“A、B、C 三人中有一个人的衣服是绿色的，而且只有这个人说的是实话。”如果 D 说的是实话，那么以下说法中正确的是：

- A. C 的衣服是蓝色的，D 的衣服是绿色的
- B. B 的衣服是蓝色的，C 的衣服是红色的
- C. A 的衣服是绿色的，B 的衣服是红色的
- D. D 的衣服是绿色的，A 的衣服是红色的

102. 陈华、刘刚、王明三人中，星期日只有一个人在家做作业，陈华说：“我在家做作业”，刘刚说：“我没在家做作业”，王明说：“陈华没有在家做作业”，如果这三句话，只有一句话是真的，那么说真话的是：

- A. 无法判断
- B. 王明
- C. 刘刚
- D. 陈华

103. 致远高中的部分物理教师取得了硕士学位，去的硕士学位的物理教师都有三年以上的教学经历，有的女教师也具有三年以上的教学经历，所有女教师都已经结婚，

根据以上文字，下列选项中一定正确的是：

- A. 所有物理教师都具有三年以上的教学经历
- B. 可能有男教师尚未结婚
- C. 所有取得硕士学位的物理教师都已结婚
- D. 可能有取得硕士学位的物理教师为女教师

104. 暑假期间，学校组织高二（五）班的同学于 7 月 20 日外出旅游，小明说：“如果我去，小强与小林就一定都会去。”小强说：“如果我去，那么小燕与小芬至少有一人会去。”小燕说：“只有不下雨，我才会去。”小芬说：“只有气温在 30 摄氏度以下，我才会去。”天气预报显示，7 月 20 日，小雨，32 至 37 摄氏度。

根据以上文字，下列选项中可以推出的是：

- A. 小明、小强、小林、小燕与小芬都没有外出旅游
- B. 小燕、小芬没有外出旅游，但小明、小林与小强外出旅游
- C. 小燕、小芬与小强没有外出旅游，但小明与小林外出旅游
- D. 小明、小强、小林、小燕与小芬都外出旅游

105. 在《创新管理》课堂上，张教授对学生说：“企业创新成功与否是以创新绩效来衡量的，一个企业要么创新绩效高，要么创新绩效低，在我看来，一个企业要么创新成功，要么创新失败，由于创新绩效高的企业在我看来都是创新成功的企业，所以创新绩效低的企业在我看来都是创新失败的企业。”

为了是张教授的论证成立，下列假设中必须成立的一项是：

A. 由于企业所从事的业务领域不同，其创新绩效有不同的表现形式，因而很难对企业的创新绩效进行评判

B. 在张教授看来，创新绩效高的企业未必是创新成功的企业，创新绩效低的企业也未必是创新失败的企业

C. 在张教授看来，创新绩效高的企业就是创新成功的企业，创新绩效低的企业也就是创新失败的企业

D. 创新绩效高低具有客观评价标准，且张教授具有区分创新绩效高低的能力

106. 城市是一种生活方式，或者说是一种体验，而不是大小的区别。比如深圳，除了罗湖区，其他地区，依我个人的体验，皆为未完成之城区。道理很简单，城市需要若干年才能成熟，人气不是一天聚起来的。没有人生活的城区就是“鬼城区”。

下列选项中，最能支持上述观点的是：

A. 城市不仅是一种生活方式，而且是经济发展的动力源泉

B. 小城市更适合人们居住，因而更能代表独特的生活方式

C. 发展时间长的城市，聚集起来的人气比较旺，城市才成熟

D. 大城市人口规模大，发展也就成熟

107. 民意调查在制造出一连串的精确数字的同时，却掩盖了一个硬性的事实，即大多数美国人对政治的无知是令人吃惊的，好比经典的“呼喊”，民调数据表达的是政治意志在一个瞬间的抽搐，而无需经过问题的深思明辨。而且，民调是一种有效得多的“呼喊”形式，这是因为它看起来以严肃社会科学的冷静理性的发现取代了群众歇斯底里的视觉形象。

下列选项中，最能支持上述观点的是：

A. 美国民调能够以严肃社会科学的冷静理性表达出公民的真实意愿

B. 美国民调是最有效的“呼喊”形式，有助于政治目标的实现

C. 美国民调并不能反映公民的理性思考结果，反而成为实现政治目标的有效工具

D. 美国民调既反映公民的理性思考结果，又有助于政治目标的实现

108. 改革开放以来，中国逐渐形成新旧两种政法话语与体制，两者相互寄生，斗争又合作。新政法体制的建立是通过寄生在旧政法体制之中逐步实现的，但随着新政法体制的逐步壮大并越来越具正当性，现在出现了反向寄生，即旧政法体制开始学会了新政法体制那套话语和做法，寄生在新政法体制之中，从之前的抵制转向了合作，甚至利用。

下列选项中，最能削弱上述观点的是：

A. 新旧两种政法体制是在斗争中并存的

B. 新旧两种政法体制相互独立，没有斗争，也没有合作

C. 新旧两种政法体制的关系分为两阶段：在第一阶段，新政法体制寄生于旧政法体制；在第二阶段，旧政法体制寄生于新政法体制

D. 新旧两种政法体制是一个问题的两个方面

109. 在打击拐卖儿童犯罪的活动中，警方救获一名男孩，为了确定他的家乡，警方进行了调查：

知情人士 A 说，他可能是四川人，也可能是贵州人；知情人士 B 说，他不可能是四川人；知情人士 C 说，他肯定是四川人；知情人士 D 说，他不是贵州人。警方确定，只有一个人的话不可信。

根据以上信息，警方可以确定这名男孩的家乡是：

- A. 四川
- B. 贵州
- C. 可能是四川，也可能是贵州
- D. 无法判断

110. “成功”只是局部的麻醉。那些艺术家应该意识到他们只能在“那里”成功，而不能在“这里”成功，这本身就很可笑，很荒诞。这本身就是一种“失败”。更可笑的是，他们还想到了“回来”，戴着桂冠回来，这是一种陈腐不堪的情绪，这说明他们内心并不自由，这说明他们仍然是“这里”的奴隶。

下列选项中，最能削弱上述观点的是：

- A. 艺术家在其所从事的领域取得成功，不精通其他领域，并不可笑
- B. 艺术家不仅在所从事的领域取得成功，还能够在其他领域取得成功，他们内心自由
- C. 艺术家在自身领域取得成功的同时，也想在其他领域取得成功
- D. 艺术家从事自身领域以外的其他领域，并不是陈腐不堪

**四、类比推理。每道题先给出一组相关的词，要求你在备选答案中找出一组与之有逻辑关系上最为贴近、相似或匹配的词。**

111. 钡餐：硫酸钡：BaSO<sub>4</sub>

- A. 干冰：二氧化硫：SO<sub>2</sub>
- B. 纯碱：碳酸钠：NaCO<sub>3</sub>
- C. 石膏：碳酸钙：CaCO<sub>3</sub>
- D. 小苏打：碳酸氢钠：NaHCO<sub>3</sub>

112. 聂海胜：张晓光：王亚平

- A. 杨利伟：费俊龙：聂海胜
- B. 翟志刚：刘伯明：景海鹏
- C. 景海鹏：刘旺：刘洋
- D. 杨利伟：景海鹏：聂海胜

113. 中国：上海

- A. 美国：华盛顿
- B. 俄罗斯：莫斯科
- C. 法国：巴黎
- D. 澳大利亚：悉尼

114. 范雎：白起：秦国

- A. 商鞅：李悝：魏国
- B. 田忌：孙臧：齐国
- C. 蔺相如：廉颇：赵国
- D. 屈原：项燕：韩国

115. 牛皮夹克：上衣

- A. 鞋套：鞋子
- B. 建安诗人：诗人
- C. 植物：动物
- D. 陶瓷：餐具

116. 陕西 对于 ( )，相当于 ( ) 对于 布达拉宫。

- A. 兵马俑；河南
- B. 渭河；西藏
- C. 大雁塔；西藏
- D. 华山；北京

117. 博弈论：经济学：纳什

- A. 历史学：新儒学：钱穆
- B. 小说：文学：梁启超
- C. 日心说：天文学：哥白尼
- D. 量子物理：物理学：薛定谔

118. 考试：试卷

- A. 血压：血压计
- B. 考评：考评表
- C. 温度：温度计
- D. 湿度：湿度表

119. 企业：员工：经理

- A. 军队：士兵：首长
- B. 机关：公务员：领导
- C. 学校：学生：教授
- D. 医院：护士：大夫

120. 吴承恩：《西游记》

- A. 干宝：《搜神记》
- B. 罗贯中：《三国演义》
- C. 大仲马：《基督山伯爵》
- D. 吴敬梓：《儒林外史》

## 第五部分 资料分析

所给出的图、表、文字或综合性资料均有若干个问题要你回答。你应根据资料提供的信息进行分析、比较、计算和判断处理。

### 一、根据以下资料，回答 121~125 题。

2011 年末，我国城乡就业人数达 76420 万人，比 2002 年增加 3140 万人。其中，城镇就业人数从 25159 万人增加到 35914 万人；乡村就业人数从 48121 万人减少到 40506 万人，随着工业化和城市化进程的不断推进，城镇吸收就业的能力不断增强。2011 年，农民工总量达到 25278 万人。



2011年，城镇居民人均可支配收入21810元，比2002年增长1.8倍，扣除价格因素，年均实际增长9.2%；农村居民人均纯收入6977元，比2002年增长1.8倍，扣除价格因素，年均实际增长8.1%；城乡居民收入年均增速超过1979年至2011年7.4%的年均增速，是历史上增长最快的时期之一，2010年、2011年农村居民收入增速连续两年快于城镇，城乡居民收入差距有所缩小。

2011年，城乡居民家庭恩格尔系数分别为36.3%和40.4%，分别比2002年降低了1.4和5.8个百分点。2011年，城镇居民人均住房建筑面积32.7平方米，比2002年增加8.2平方米；农村居民人均住房面积36.2平方米，增加9.7平方米，主要耐用消费品拥有量大幅增长。2011年底，城镇居民家庭平均每百户拥有家庭汽车18.6辆，比2002年度增长20.1倍；拥有移动电话205.3部，增长2.3倍；拥有家庭电脑81.9台，增长3.0倍，农村居民家庭平均每户拥有电冰箱61.5台，比2002年度增长3.1倍；空调机22.6台，增长8.9倍；拥有移动电话179.7部，增长12.1倍。2011年，全国电话普及率达到94.90/百人，比2002年提高1.8倍。

2011年末，全国城镇职工基本养老保险、城镇基本医疗保险、失业、工伤、生育保险参保人数分别达到28391万人、47343万人、14317万人、17696万人、13892万人。2011年底，2277万城市居民得到政府最低生活保障，5306万农村居民得到政府最低生活保障，分别比2002年增加212万人和4898万人。以低收入标准测算，农村贫困人口从2002年末的8645万人下降到2010年末的2688万人。2011年，中央决定将农民人均纯收入2033元（2010年不变价）作为新的国家扶贫标准，比2009年提高92%，按照新标准，年末扶贫对象为12238万人。

121. 从2002年到2011年，城镇就业人数占我国城乡就业人数的比重增加了（ ）百分点。

- A. 14.1
- B. 14.7
- C. 16.1
- D. 12.7

122. 从2002年到2011年，城镇居民人均可支配收入增长量比农村居民人均纯收入增长（ ）元。

- A. 9535.5
- B. 5297.5
- C. 8240.6
- D. 11528.9

123. 2002年，农村居民恩格尔系数是城镇居民恩格尔系数的（ ）倍。

- A. 1.1
- B. 1.2
- C. 1.3
- D. 1.4

124. 如果2011年底我国城外镇居民为1.8亿户，那么2002年底我国城镇居民拥有轿车（ ）万辆。

- A. 159
- B. 167
- C. 195
- D. 204

125. 根据以上资料，以下表述不正确的是：

- A. 2011年，农民工总量所占我国城乡就业人数的比重超过30%
- B. 2002年，我国城镇居民人均住房建筑面积比农村居民不小
- C. 2002年，得到政府最低生活保障的农村居民超过城市居民的四分之一

D. 从 2002 年到 2010 年, 农村贫困人口减少了将近六千万人

**二、根据以下资料, 回答 126~130 题。**

**表 1 2011 年盈利能力最强的公司 (前 10 名) (百万美元)**

排名	公司名称	500 强排名	2011 年利润	利润与 2010 年相比变化 (%)
1	俄罗斯天然气工程公司	15	44459.6	39.4
2	埃克森美孚	2	41060.0	43.8
3	中国工商银行	54	32214.3	32
4	荷兰皇家壳牌石油公司	1	30918.8	53.6
5	雪佛龙	8	26855.8	41.4
6	中国建设银行	77	26180.6	31.4
7	苹果公司	55	25922.0	85
8	英国石油公司	4	25700.0	0
9	必和必拓	108	23618.0	85.9
10	微软	119	23150.8	23.4

**表 2 2011 年收入增长最快的公司 (前 10 名) (百万美元)**

排名	公司名称	500 强排名	2011 年收入	收入与 2010 年相比变化 (%)
1	德国巴登-符腾堡州银行	128	57431.4	209.8
2	国际石油投资公司	305	35495.4	131
3	浙江吉利控股集团	475	23355.7	125.9
4	西班牙 ACS 集团	240	42654.9	97.9
5	新兴际华集团	484	22332.3	92.3
6	全球燃料服务公司	313	34622.9	81
7	国际航空集团	494	22390.4	75.7
8	韩国友利金融控股公司	449	24435.3	67.6
9	苹果公司	55	108249.0	66
10	coop 美国	364	40022.2	65

**表 3 2011 年利润增长最快的公司 (前 10 名) (百万美元)**

排名	公司名称	500 强排名	2011 年利润	利润与 2010 年相比变化 (%)
1	medipal 控股公司	310	147.5	541.6
2	默沙东	207	6272	528.5
3	国际资产控股公司	102	37.3	590.7
4	瓦莱罗能源公司	35	2090	545.1
5	美国 EPP 公司	226	2046.9	538.1
6	中国化工集团公司	402	100.1	531.3
7	EXOR 集团	45	2700.8	286.2
8	万通互惠理财	457	877.4	239.8
9	英国葛兰素史克公司	231	8434.5	234.2
10	美国联合大陆控股有限公司	283	340	232

126. 2011 年盈利最强的公司 (前 10 名) 中, 利润比 2010 年增长最多与最快的公司分别是:

A. 埃克森美孚与苹果公司

- B. 俄罗斯天然气工业公司与必和必拓
- C. 埃克森美孚与必和必拓
- D. 俄罗斯天然气工业公司与苹果公司

127. 2011 年收入增长最快的公司（前 10 名）中，2010 年收入最高的公司的收入是收入最低的公司（ ）倍。

- A. 4.7
- B. 4.8
- C. 5.5
- D. 6.3

128. 2011 年利润增长最快的公司（前 10 名）中，利润比上一年增加最多的公司的利润增加了（ ）亿美元。

- A. 59.1
- B. 54.1
- C. 40.6
- D. 17.3

129. 2011 年既是盈利能力最强的公司（前 10 名）之一，又是收入增长最快的公司（前 10 名）之一的公司，在 2011 年利润占收入的比重与 2010 年相比：

- A. 资料不足，无法判断
- B. 正好相等
- C. 上升了
- D. 下降了

130. 根据以上资料，以下说法中正确的是：

- A. 2011 年盈利能力最强的公司（前 10 名）基本上就是同年利润增长最快的公司（前 10 名：）
- B. 2011 年盈利能力最强的公司（前 10 名）在世界 500 强中的排名，与收入增长最快的公司（前 10 名）、利润增长最快的公司（前 10 名）总体持平
- C. 2011 年收入增长最快的公司（前 10 名）中，收入与上一年的相对变化差别不大
- D. 中国金融行业公司数目在 2011 年盈利能力最强的公司（前 10 名）中所占比重既超过在收入增长最快的公司（前 10 名）中所占的比重，又超过在利润增长最快的公司（前 10 名）中所占的比重。

### 三、根据以下资料，回答 131~135 题。

2003 年至 2011 年，我国第一产业年增长 4.6%，第二产业年均增长 11.9%，第三产业年均增长 11.1%，均保持较快发展态势。2010 年，我国制造业产出占世界的比重为 19.8%，超过美国成为全球制造业第一大国，2011 年，服务业增加值占国内生产总值的比重上升到 43.1%，比 2002 年提高 1.6 个百分点，2011 年，内需对经济增长的贡献率由 2002 年的 92.4% 提高到 104.1%，外需贡献率则由 2002 年 7.6% 转化为负 4.1%，2011 年，我国城镇化率首次突破 50%，达到 51.3%，比 2002 年提高 12.2 个百分点，我国城乡结构发生历史性变化，2011 年，中部地区、西部地区国内生产总值占全国的比重分别为 20.1%、19.2%，分别比 2002 年提高了 1.3 和 2.0 个百分点。2011 年，中部地区、西部地区、东北地区全社会固定资产投资占全国的比重分别为 23.2%、23.5% 和 10.7%，分别比 2002 年提高 5.5、3.2 和 2.4 个百分点。

图1 2003年至2011年三次产业

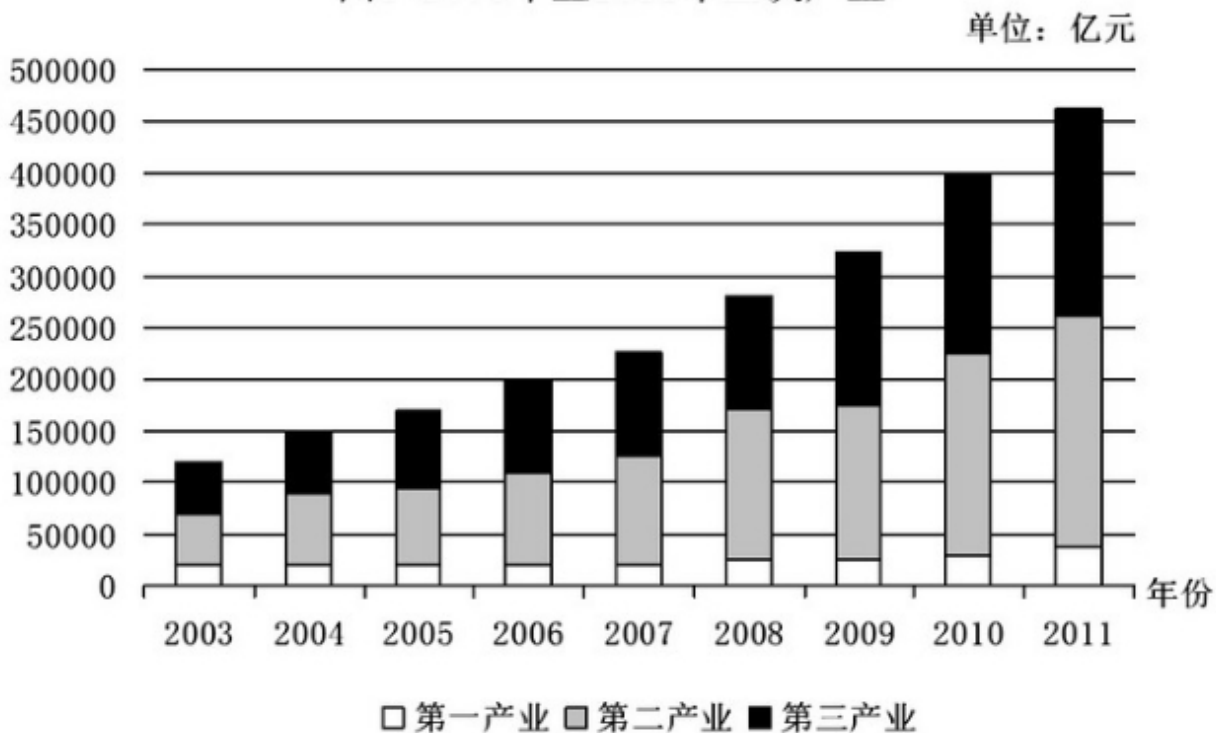
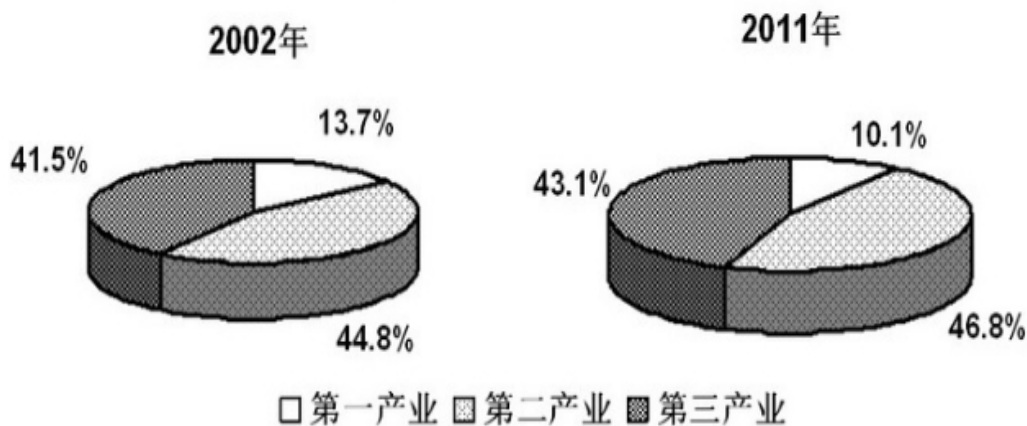


图2 2002年及2011年三次产业构成



131. 如果 2010 年我国制造业生产总值为 135000 亿元，那么 2010 年世界制造业生产总值约为（ ）万亿元。

- A. 67
- B. 68
- C. 71
- D. 72

132. 从 2002 年到 2011 年，外需对经济增长的贡献率：

- A. 增长 3.5 个百分点
- B. 增长 11.7%
- C. 下降 3.5 个百分点

D. 下降了 11.7%

133. 与 2002 年相比, 2011 年其他地区(除中部地区, 西部地区以外的地区) 国骨生产总值占全国的比重:

- A. 降低了 3.3%
- B. 上升了 3.3 个百分点
- C. 降低了 9.2%
- D. 上升了 9.2 个百分点

134. 如果 2002 年、2011 年我国国内生产总值分别为 115000 亿元、470000 亿元, 那么 2011 年第三产业生产总值是 2002 年的 ( ) 倍。

- A. 1.04
- B. 1.06
- C. 4.24
- D. 5.35

135. 根据以上资料, 以下说法中不正确的是:

- A. 从 2003 年到 2011 年, 我国国内生产总值逐年稳步增长
- B. 从 2003 年到 2011 年, 我国三次产业生产总值均呈现出稳步增长的趋势
- C. 从 2002 年到 2011 年, 我国全社会固定资产投资占全国的比重增长最快的地区为中部地区
- D. 与 2002 年相比, 2011 年我国三次产业的比例结构更加协调

#### 四、根据以下资料, 回答 136~140 题。

2011 年, 某省全社会研发经费达 612.93 亿元, R&D9 (研发) 经费占 GDP 的比重达 1.9%。比 2010 年提高 0.12 个百分点。2011 年, 该省专利申请量和授权量分别达 16.5 万件和 13 万件。同比增长 35% 和 11.7%。2011 年, 该省技术市场合同成交额 68.2928 亿元。2011 年, 该省每万元 GDP 能耗 0.590 吨标准煤。

表1: 研发经费 (按来源)

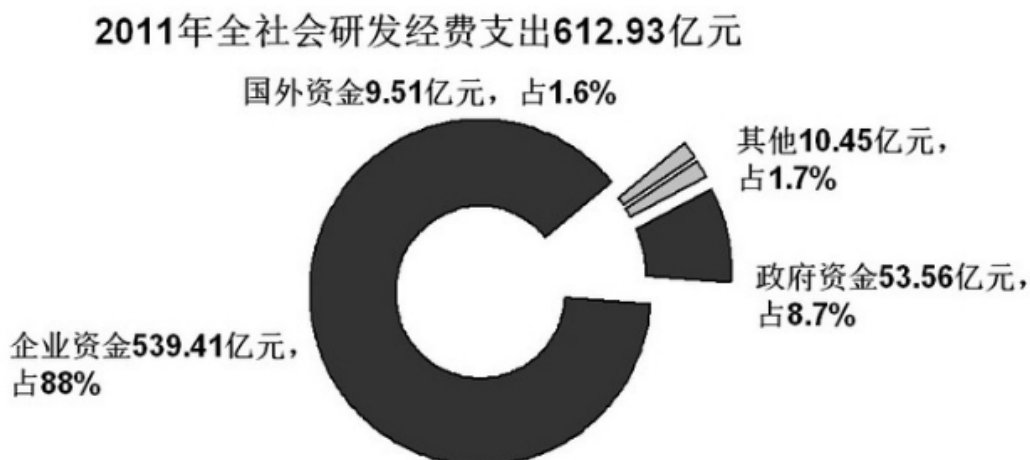


表2：研发人员（按部门）

2011年全社会研发人员全时当量为**26.288**万人年



表3：技术合同成交额

单位：亿元

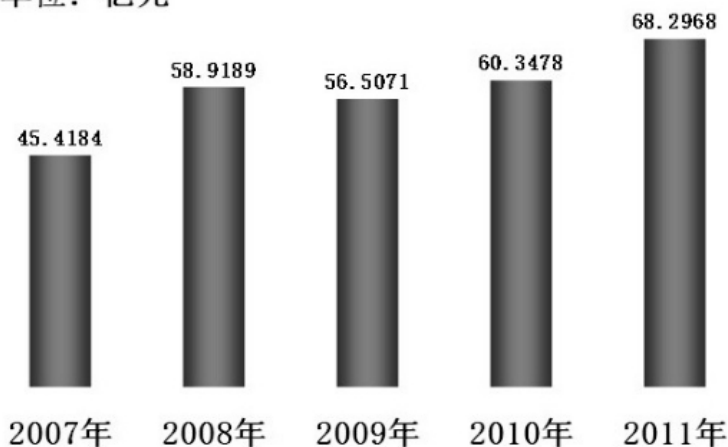
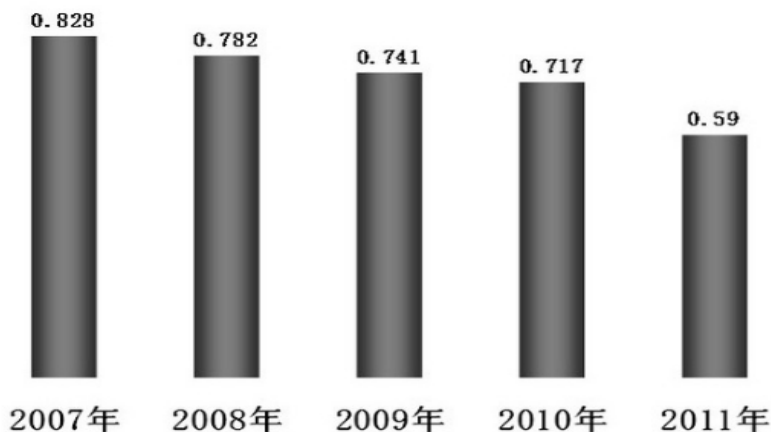


表4：每万元GDP综合能耗

单位：吨标准煤



136. 2011 年，平均就业人员创造的 GDP 为：

- A. 23.316 万元
- B. 1227.1563 万元
- C. 3.864 万元
- D. 88355 元

137. 2011 年工业企业对于每名研发人员的经费支出大约为：

- A. 24
- B. 25
- C. 26
- D. 27

138. 按照 2007~2011 年增长最快的增长率算，2012 年技术合同成交金额一定超过：

- A. 110
- B. 100
- C. 90
- D. 80

139. 2011 年该省 GDP 总耗能约为（ ）吨标准煤。

- A. 359.5
- B. 361.6
- C. 1.9
- D. 4533

140. 根据以上资料，以下说法不正确的是：

- A. 2010 年，该省专利授权率（授权量占申请量的比重）低于 2011 年
- B. 2011 年，该省研发经费的不同来源部分差别较大
- C. 2011 年，该省研发人员以工业企业中的研发人员为主体
- D. 从 2007 年到 2011 年，该省每万元 GDP 综合能耗呈现出逐年递减的趋势

**全部测验到此结束！**

请扫描QQ二维码，备注“公务员考生”加QQ  
好友，获取曹长远老师精解历年公务员考试申论、  
行测、面试真题完整解析资料。

**精品资料，尽在掌握！**



扫描二维码，加QQ好友