

2014年3月16日浙江省公务员考试

《行政职业能力测验》真题答案解析

说明

本测验共有五个部分，130道题，总时限为120分钟。各部分不分别计时，但都给出了参考时限，供你参考以分配时间。

请在题本、答题卡上严格按照要求填写好自己的姓名，填涂准考证号。

题目应在答题卡上作答，在题本上作答的一律无效。涂写答案时一定要认准题号。

严禁折叠答题卡。

第一部分 常识判断

(共20题，参考时间15分钟)

根据题目要求，在四个选项中选出一个最恰当的答案。

1. 《中共中央关于全面深化改革若干重大问题的决定》指出，要完善国有资本经营预算制度，提高国有资本收益上缴公共财政比例，2020年提到：

- A. 百分之二十 B. 百分之三十 C. 百分之四十 D. 百分之五十

【答案】B。解析：

《中共中央关于全面深化改革若干重大问题的决定》在提到“积极发展混合所有制经济”时指出：要完善国有资本经营预算制度，提高国有资本收益上缴公共财政比例，2020年提到百分之三十，更多用于保障和改善民生。

所以，正确选项是B。

2. 2013年12月10日至13日，中央经济工作会议在北京举行，会议提出了2014年经济工作的六大主要任务，下列不属于这六大任务的是：

- A. 切实保障国家粮食安全 B. 着力防控债务风险
C. 积极促进区域协调发展 D. 完善基本公共服务

【答案】D。解析：

2013年12月召开的中央经济工作会议，提出了2014年经济工作的六大主要任务：一、切实保障国家粮食安全。二、大力调整产业结构。三、着力防控债务风险。四、积极促进区域协调发展。五、着力做好保障和改善民生工作。六、不断提高对外开放水平。

D项的“完善基本公共服务”不属于这六大任务。

所以，正确选项是D。

3. ()和()获得2013年国家最高科学技术奖。

- A. 吴良镛 谢家麟 B. 郑哲敏 王小谟 C. 张存浩 程开甲 D. 师昌绪 王振义

【答案】C。解析：

物理学家张存浩和物理学家程开甲获得2013年国家最高科学技术奖。

所以，正确选项是C。

4. 下列论述符合马克思主义哲学观点的是：

- A. 意识是一种特殊的物质 B. 人有多大胆，地有多大产
C. 时间和空间是物质的根本属性 D. 真理既是绝对真理，又是相对真理

【答案】D。解析：

马克思唯物主义认为：真理既是绝对真理，又是相对真理。
所以，正确选项是 D。

5. 根据《宪法》规定，下列表述不正确的是：

- A. 农村和城市郊区的土地，除由法律规定属于国家所有以外，属于集体所有
- B. 国务院有权批准省、自治区、直辖市的建置和区域划分
- C. 公民在年老、疾病或者丧失劳动能力的情况下，有从国家和社会获得物质帮助的权利
- D. 地方各级人民检察院对产生它的国家权力机关和上级人民检察院负责

【答案】B。解析：

全国人大有权批准省、自治区、直辖市的建置，国务院有权批准其区域划分。B 项表述错误。
所以，正确选项是 B。

6. 根据《行政诉讼法》规定，下列有关行政诉讼的表述不正确的是：

- A. 人民法院不受理对国防、外交等国家行为提起的行政诉讼
- B. 被告对做出的具体行政行为负有举证责任
- C. 人民法院审理行政案件，适用调解
- D. 因不动产提起的行政诉讼，由不动产所在地人民法院管辖

【答案】C。解析：

根据《行政诉讼法》规定，行政案件不适用调解。C 项的表述不正确，
所以，正确选项是 C。

7. 王某在大街上遛狗。张某故意挑逗狗，之后跑掉，结果狗将路过的孙某咬伤，并继续追赶孙某。王某为阻止狗继续伤人，在狗不听使唤的情况下，用木棍将狗的腿打断。对此，下列表述正确的是：

- A. 孙某可以向张某或王某要求赔偿
- B. 孙某只能向王某要求赔偿
- C. 孙某要求王某承担赔偿责任，必须证明王某存在过错
- D. 王某不能要求张某赔偿狗受伤的损失

【答案】A。解析：

《民法通则》第 127 条规定，饲养动物造成他人损害的，动物饲养人或管理者应当承担民事责任。由于第三人过错造成损害的，第三人应当承担民事责任。

本题中，狗的饲养人王某、挑逗狗的第三人张某都应当对孙某受到的伤害承担民事责任，孙某可以向张某或王某要求赔偿。

所以，正确选项是 A。

8. 编造、故意传播虚假恐怖信息，严重扰乱社会秩序，具有下列哪一情形的，应当处五年以上有期徒刑？

- A. 致使航班备降或返航
- B. 造成直接经济损失二十万元以上的
- C. 多次编造、故意传播虚假恐怖信息
- D. 造成三人以上轻伤或者一人以上重伤

【答案】D。解析：

编造、故意传播虚假恐怖信息，严重扰乱社会秩序，具有下列情形之一的，应当认定为刑法第二百九十一条规定的“造成严重后果”，处五年以上有期徒刑：（一）造成三人以上轻伤或者一人以上重伤的；（二）造成直接经济损失 50 万元以上的；（三）造成县级以上区域范围居民生活秩序严重混乱的；（四）妨碍国家重大活动进行的；（五）造成其他严重后果的。

所以，正确选项是 D。

9. 下列有关经济学常识的表述中，不正确的是：

- A. 市场经济通常由市场主体、市场体系和市场机制三个基本要素构成
- B. 价格调节机制是价格机制的核心内容
- C. WTO 的非歧视原则要求各成员之间相互给予最惠国待遇和国民待遇
- D. 减少政府支出和增加税收属于紧缩性财政政策

【答案】B。解析：

价格机制的核心内容是价格形成机制，而不是价格调节机制。

B 项的表述不正确，所以，正确选项是 B。

10. 下列不属于行政外部监督的是：

- A. 立法监督
- B. 司法监督
- C. 政党监督
- D. 审计监督

【答案】D。解析：

行政内部监督是指行政机关内部上下级之间，以及专设的行政监察、审计机关对行政机关及其公务人员的监督。行政外部监督泛指执政党、国家权力机关、司法机关和人民群众等多种社会力量对国家行政机关及其公务人员的监督。

D 项的“审计监督”属于行政内部监督，而不属于行政外部监督。

所以，正确选项是 D。

11. () 适用于对重要事项或重大行动做出安排，奖惩有关单位及人员，变更或者撤销下级机关不适当的决定事项。

- A. 决定
- B. 公告
- C. 通报
- D. 批复

【答案】A。解析：

“决定”适用于对重要事项或重大行动做出安排，奖惩有关单位及人员，变更或者撤销下级机关不适当的决定事项。

所以，正确选项是 A。

12. 下列关于我国京剧的表述中，不正确的是：

- A. 京剧已列入人类非物质文化遗产代表作名录
- B. 京剧中一般用黑色脸谱来表示忠勇侠义
- C. 京剧“四大名旦”是指梅兰芳、程砚秋、尚小云和荀慧生
- D. 唱、念、做、打是京剧表演的四种艺术手法

【答案】B。解析：

京剧脸谱的颜色分别表示角色不同的品质：红色表示“忠义”，如关羽；白色表示“奸诈”，如曹操；黄色表示“凶残”，如典韦；黑色表示“刚烈正直、勇猛”，如包拯、张飞。因此，B 的说法是错误的。

所以，正确选项是 B。

13. 下列关于科技常识的表述中，不正确的是：

- A. 弗莱明发明了青霉素
- B. 魏格纳提出了大陆漂移学说
- C. 爱因斯坦创立了狭义相对论
- D. 麦克斯韦发现了电磁感应

【答案】D。解析：

发现电磁感应的人迈克尔·法拉第，而不是麦克斯韦。麦克斯韦只是预言了电磁波的存在。因此，D 选项的说法是错误的。

所以，正确选项是 D。

- A. ①②③④ B. ②①③④ C. ②①④③ D. ②④①③

【答案】A。解析：

- ①“恰同学少年，风华正茂，书生意气，挥斥方遒”出自1925年诗词《沁园春·长沙》；
②“红军不怕远征难，万水千山只等闲”出自1935年诗词《七律·长征》；
③“宜将剩勇追穷寇，不可沽名学霸王”出自1949年诗词《七律·人民解放军占领南京》；
④“为有牺牲多壮志，敢叫日月换新天换新天”出自1959年写诗词《七律·到韶山》。
因此，按创作时间排序正确的是：①②③④。
所以，正确选项是A。

19. 下列名医与著作的对应关系不正确的是：

- A. 华佗—《伤寒杂病论》 B. 葛洪—《抱朴子》
C. 孙思邈—《千金方》 D. 李时珍—《本草纲目》

【答案】A。解析：

《伤寒杂病论》是张仲景的著作，而不是华佗的著作。A项的对应关系不正确。
所以，正确选项是A。

20. 下列关于地理常识的表述中，不正确的是：

- A. 北回归线和南回归线都穿过非洲
B. 南极洲是地球上平均海拔最高的大洲
C. 昆仑山脉和秦岭山脉大致均为东西走向
D. 长江是仅次于密西西比河和亚马逊河的世界第三长河

【答案】D。解析：

世界第一长河是尼罗河，第二长河是亚马逊河，第三长河是长江。因此，长江是仅次于尼罗河和亚马逊河的世界第三长河。
D项的说法不正确。所以，正确选项是D。

第二部分 言语理解与表达

（共35题，参考时间35分）

本部分包括表达与理解两个方面的内容。请根据题目要求，在四个选项中选出一个最恰当的答案。

21. 从芦山回望玉树，回望汶川，那举国动员的生死营救，那生命至上的国家理念、那（ ）的民族精神，那（ ）的坚韧品格，定格为无数震撼心灵的画面。有这些坚实的内核，中华民族历经苦难而又生生不息。

填入括号部分最恰当的一项是：

- A. 众志成城 视死如归 B. 万众一心 百折不挠 C. 临危不惧 不屈不挠 D. 无私无畏 勇往直前

【答案】B。解析：

阅读可知，填入第一个空格的词语必须与前面的“举国动员”相呼应，有“众志成城”“万众一心”之意。由此排除C、D两项。

对比A、C两项，填入第二个空格的词语必须与后面的“中华民族历经苦难而又生生不息”相呼应。所谓“历经苦难而又生生不息”，就是“百折不挠”的意思。排除A项。

所以，正确选项是B。

22. 沿着新修的国道从呼伦贝尔市出发一直向北，如果是在冬季，沿途草原大雪覆盖，松林点缀、白雪皑皑。间或有驯鹿从密林中迁徙、（ ）雪原，黑白相间，宛如格林童话的冰雪世界。车行敖鲁古雅的布冬霞部落，

驻足静听阵阵哨笛，鄂温克族人驯养的角鹿从四方密林中飞疾汇聚，场面（ ）。

填入括号部分最恰当的一项是：

- A. 纵观 宏伟 B. 横贯 宏大 C. 穿越 壮观 D. 穿过 雄伟

【答案】D。解析：

阅读可知，填入第一个空格的词语必须与前面的“迁徙”并列，有驯鹿穿越、穿过雪原之意。由此可以排除 A、B 两项。

对比 C、D 两项，填入第二个空格的词语必须与前面的“角鹿从四方密林中飞疾汇聚”，比喻数量多，场面壮观。由此可以排除 D 项。

所以，正确选项是 D。

23. 文化的整合功能是指它在协调群体成员的行动方面所发挥的作用。社会群体中不同成员都是（ ）的行动者，他们基于自己的需要，根据对情形的判断和理解采取行动。文化是他们之间沟通的中介，如果他们能够（ ）文化，就能有效沟通，消除隔阂，促进（ ）。

填入括号部分最恰当的一项是：

- A. 特别 认识 进步 B. 单独 分享 行动 C. 孤独 认同 融合 D. 独立 共享 合作

【答案】D。解析：

阅读可知，填入第二、三个空格的词语必须呼应其前、后的“有效沟通，消除隔阂”，D 项的“共享、合作”最为恰当。

所以，正确选项是 D。

24. 虽然政府与企业、家庭一起共同参与国民经济，但其行为方式和目的（ ）。企业和居民是以收益最大化为前提和的目标，而政府的经济活动一方面不能（ ）收益和成本，另一方面又必须以全社会的公正和公平为前提。

填入横线部分最恰当的一项是：

- A. 大相径庭 忽视 B. 截然相反 忽略 C. 不尽相同 无视 D. 泾渭分明 轻视

【答案】A。解析：

阅读可知，填入第二个空格的词语必须与后面的“收益和成本”相呼应。“无视”和“轻视”都有主观上瞧不起的意思，明显不符合语境，据此可以排除 C、D 两项。

对比 A、B 两项，“忽略”指虽然注意到了，但因为不重要或数量小而忽略不计，一般说被忽略的东西通常不会造成大的影响；“忽视”指主观上不重视，一般说被忽视的东西通常会造成很大的影响，不应该被忽视。这里的“收益和成本”显然不是不重要或数量小而可以忽略不计的东西，据此排除 B 项。

所以，正确选项是 A。

25. 传统的超级计算机，强项是处理“计算密集型”的任务，比如预测天气。这只要按照某个成熟的算法模型，（ ）地算，就行了。但在大数据时代，要从海量、特别是缺乏直接相关性的数据中，（ ）出有价值的内容，超级计算机的系统设计需要创新，以适应新的计算模式。

填入括号部分最恰当的一项是：

- A. 一板一眼 整理 B. 按部就班 挖掘 C. 循规蹈矩 提炼 D. 周而复始 搜寻

【答案】B。解析：

阅读可知，填入第一个空格的词语必须与前面的“只要求按照某个成熟的算法模型”相呼应，没有明显的感情倾向，应该填一个中性词。“循规蹈矩”为贬义词，排除 C 项。“周而复始”是指事物循环往复，不符合语境，排除 D 项。

对比 A、B 两项，填入第二个空格的词语必须与后面的“需要创新”相呼应。“整理”是指使材料、事物有条理，有秩序。显然，要“创新”仅仅通过“整理”数据是不够的，必须深入“挖掘”才行，据此可以排除 A

项。

所以，正确选项是 B。

26. 在这里，作家的人格显得（ ）。无论是历史还是现实或者是最普遍的底层生活，都在他们的笔下幻化为一种真实人生的存在，一种精神的存在，一种被称为“心灵史”的存在。他们（ ）于历史与现实之间，心甘情愿地进行着漫长而苦涩的精神之旅，既充实又富有。

填入括号部分最恰当的一项是：

- A. 微乎其微 踟蹰 B. 举足轻重 徜徉 C. 至关重要 彷徨 D. 无关大局 徘徊

【答案】B。解析：

阅读可知，作者在感情上特别强调作家人格的重要性，因此填入第一个空格的词语不可能是“微乎其微”和“无关大局”，可以直接排除 A、D 两项。

对比 B、C 两项，填入第二个空格的词语必须与后面的“心甘情愿地进行着漫长而苦涩的精神之旅”相呼应。既然是“心甘情愿”，那么就应该是正面的“徜徉”，而不能是负面的“彷徨”。由此排除 C 项。

所以，正确选项是 B。

27. 人世间的美好梦想，只有通过诚实劳动才能实现；发展中的各种难题，只有通过诚实劳动才能（ ）；生命里的一切辉煌，只有通过诚实劳动才能铸就。必须牢固树立劳动最光荣、劳动最崇高、劳动最伟大、劳动最美丽的观念，崇尚劳动，造福劳动者，让全体人民进一步焕发劳动热情、（ ）创造潜能，通过劳动创造更加美好的生活。

填入括号部分最恰当的一项是：

- A. 破解 释放 B. 完成 激发 C. 化解 开发 D. 解决 发挥

【答案】A。解析：

阅读可知，填入第一个空格的词语必须与前面的“发展中的各种难题”相呼应。“破解难题”属于固定搭配。根据“突点排除法”，直接排除 B、C、D 三项。

所以，正确选项是 A。

28. 从曾经的自行车王国，到今天的车轮上国家，中国仅用了一代人时间，就实现了欧美几代人的梦想。更多人能开上汽车，这是（ ）；更多车主会遵守规则，这是（ ）。

填入括号部分最恰当的一项是：

- A. 趋势 前提 B. 必然 进步 C. 发展 文明 D. 目标 基础

【答案】C。解析：

阅读可知，填入第一个空格的词语必须与前面的“更多人能开上汽车”相呼应，填入第二个空格的词语必须与前面的“更多车主会遵守规则”相呼应。“更多人能开上汽车”属于物质领域，因此，第一个空格填“发展”；“更多车主会遵守规则”属于精神领域，因此，第二个空格填“文明”。

所以，正确选项是 C。

29. 如果说清末的红学还只是一种开玩笑式的诨号，1921 年后红学则确实以成为一种（ ）的专门之学，由于胡适的提倡，《红楼梦》的考证工作已和中国近代学术的主流——从乾嘉考据学到“五四”之后的国故整理——汇合了。因此，从学术史的观点来看，“红学”无疑地可以和其他当代的显学如“甲骨学”或“敦煌学”等（ ），而毫无愧色。

填入括号部分最恰当的一项是：

- A. 严格 平分秋色 B. 严谨 三足鼎立 C. 严密 等量齐观 D. 严肃 并驾齐驱

【答案】D。解析：

阅读可知，填入第一个空格的词语必须与前面的“开玩笑式的诨号”转折相对。在四个选项中，只有“严

肃”与“开玩笑”相反相对。根据“突点排除法”，直接排除 A、B、C 三项。

所以，正确选项是 D。

30. 从历史的角度看，生态问题只有通过不断重建天人之间的统一才能解决，仅仅赞美自然的原初形态，一味讴歌、缅怀天人之间的原始统一，只能得到某种抽象、空泛的满足，而无法真正解决生态的问题。生态的危机因人而起，也只有通过人自己的合理活动来克服。单纯地由于人的作用导致生态困境而拒斥人的活动，无异于（ ）。

填入括号部分最恰当的一项是：

- A. 因小失大 B. 因噎废食 C. 等因奉此 D. 因循守旧

【答案】B。解析：

阅读可知，填入空格的词语必须与前面的“由于人的作用导致生态困境而拒斥人的活动”相呼应。所谓“由于人的作用导致生态困境而拒斥人的活动”，就是比喻做事情由于出了毛病就索性不干了。“因噎废食”正是这个意思。

所以，正确选项是 B。

31. “扶老人”的争议背后有深刻的社会道德因素，也（ ）了医保制度的不完善带来的养老之痛，老人们“摔不起”“病不起”，一些老人及其亲属承担不了老人住院的后果，加剧了一些无责任人的“扶不起”（ ）。

填入括号部分最恰当的一项是：

- A. 影射 窘迫 B. 揭露 尴尬 C. 折射 窘境 D. 暴露 困境

【答案】C。解析：

阅读可知，填入第一个空格的词语必须与后面的“医保制度的不完善带来的养老之痛”相呼应，这里只是客观分析“扶老人”争议背后的问题，不能填入贬义的“揭露、暴露”。由此可以排除 B、D 两项。

对比 A、C 两项，“窘迫”指收入少、经济困难，与语境明显不符，由此排除 A 项。

所以，正确选项是 C。

32. 近些年，传统文化，尤其是儒家经典，正在重新出场，有人对此（ ），觉得儒家的这种出场违背自由与文明的现代趋势。他们的理据是，从周的封建式家天下到秦汉以来的皇权帝制式家天下，儒家学说与之（ ）。有人认为，讲究民本、限制君权的儒家与绝对尊君的法家为皇权专制的一体两面。

填入括号部分最恰当的一项是：

- A. 颇有微词 相濡以沫 B. 忧心忡忡 如影随行 C. 左顾右盼 亦步亦趋 D. 惴惴不安 并行不悖

【答案】B。解析：

阅读可知，填入第一个空格的词语必须与后面的“觉得儒家的这种出场违背自由与文明的现代趋势”相呼应，有担心、不满的意思。C 项的“左顾右盼”明显不当，可以直接排除。

第二空，对比 A、B、D 三项，“相濡以沫”比喻用微薄的力量互相帮助，与语境明显不符，排除；“并行不悖”与后面的“与绝对尊君的法家为皇权专制的一体两面”相矛盾，排除。

所以，正确选项是 B。

33. 由于所处的“制度地位”以及“市场地位”非常低，在利益结构已（ ）的当下，他们对于改变命运并无多少机会和预期，于是转而（ ）运气，期待奇迹发生，买彩票就是如此。

填入括号部分最恰当的一项是：

- A. 稳固 依赖 B. 稳定 述诸 C. 定型 投靠 D. 固化 祈求

【答案】D。解析：

阅读可知，填入第二个空格的词语必须与后面的“期待奇迹发生”相呼应，有明显的“祈求”之意。根据

“突点排除法”，直接排除 A、B、C 三项。

所以，正确选项是 D。

34. 大凡在动荡的社会里，汉字的（ ）比较大，当一个稳定的时候，就会出现对汉字的整理和（ ），比如战国时期文字就比较乱，出现很多的异体，秦统一之后，就开始整理文字，这就是社会发展提出的要求。

填入括号部分最恰当的一项是：

- A. 变化 干预 B. 自主性 统一 C. 改变 规定 D. 随意性 规范

【答案】D。解析：

阅读可知，填入第二个空格的词语必须与前面的“对汉字的整理”相呼应。“规范汉字”是固定搭配。根据“突点排除法”，直接排除 A、B、C 三项。

所以，正确选项是 D。

35. 流行总是在轮回，“怀旧情结”流行趋势大大激发了设计灵感。人们都愿意将一些能（ ）流逝时光、让人静下心来欣赏的艺术品搬回家。生活节奏更快，生活环境更新换代也更快，企盼昨日重现的心情自然而然地高涨。过去最平常的物件，如今却变得异常新奇和珍贵，比如电风扇、煤油灯、红灯笼，从这些曾经的日常生活用品中捕捉灵感，设计出一款款具有“怀旧情结”的艺术精品，是艺术设计（ ）的新现象。

填入括号部分最恰当的一项是：

- A. 怀念 别出心裁 B. 憧憬 推陈出新 C. 留恋 标新立异 D. 追忆 返璞归真

【答案】D。解析：

阅读可知，填入第二个空格的词语必须与前面的“怀旧情结”相呼应。“别出心裁”和“标新立异”都是指与众不同，明显与语境不符，可以直接排除 B、C 两项。

对比 A、D 两项，填入第一个空格的词语必须与后面的“流逝时光”相呼应。“追忆”流逝时光，可以形成最佳的语境呼应。

所以，正确选项是 D。

36. 下列词语中括号里的字，读音全部正确的一组是：

- A. 商（榷 que） （掬 qian）客 （掎 ji）角之势
B. 悲（怆 chuàng） 哨（卡 ka） 提纲（挈 qie）领
C. 拘（泥 ni） 熟（稔 ren） 面面相（觑 xu）
D. 作（梗 geng） 粗（糙 zao） 虚与（委 wei）蛇

【答案】。解析：

B 项中的卡（ka）应读卡[qiǎ]；C 项中的面面相觑（xu）应读面面相觑[qù]；D 项中的粗糙（zao）应读粗糙[cāo]。只有 A 项的读音全部正确。所以，正确选项是 A。

37. 下列词语中没有错别字的一组是：

- A. 精兵减政 问心无愧 B. 人所不耻 竭泽而渔 C. 恃强凌弱 屈打成招 D. 迫不急待 防微杜渐

【答案】C。解析：

A 项中的“减”应为“简”；B 项中的“耻”应为“齿”；D 项中的“急”应为“及”。只有 C 项词语中没有错别字。

所以，正确选项是 C。

38. ①为了储存足够的水分，多肉植物的根、茎、叶部进化成富有大量浆液的组织

②多肉植物来自高山、沙漠等气候干燥的环境

③不用太多浇水和打理，它们就能存活

- ④以帮助他们在干旱恶劣的气候环境中得以生存
⑤因此，它们非常适合室内种植
⑥它们有特别的代谢方式，它们会在夜间吸收 CO₂，产生苹果酸，白天放出 CO₂，进行光合作用
将以上 6 个句子重新排列，语序正确的一项是：

A. ②①④③⑥⑤ B. ②③①④⑥⑤ C. ①④⑥②③⑤ D. ①⑥②③⑤④

【答案】A。解析：

本题属于“推断文意型”。要求根据语句之间的逻辑关系进行排序。

对比四个选项的排列顺序可以发现，其中 A、B 两项以②为首句，C、D 两项以①为首句。因此，首句必在①②之中。①句说“为了储存足够的水分，多肉植物的根、茎、叶部进化成富有大量浆液的组织”，②句说“多肉植物来自高山、沙漠等气候干燥的环境”，从逻辑关系看，与①的“为了……”相比，②提出了主题关键词“多肉植物”，最适合做首句，①不能作为首句。由此可以排除 C、D 两项。

比较 A、B 两项，区别在于第二句是①还是③。阅读可知，①句分析原因，提出浆液的重要性，③句论述有了浆液后所带来的好处，③是①的结果，因此必须先①后③，排除 B 项。

所以，正确选项是 A。

39. ①事实上，在耕田之外也几乎没有其他的选择
②同样地，生活上的大小事情，除了可以遵循风俗习惯之外，也有宗亲长老按祖训家法裁夺
③在传统的农业社会里，绝大多数的人以农业为生
④在某一层意义上来说，一个人几乎没有什么机会要他自己做决定，在少数需要他自己做决定的时候，也有现成的规矩习惯等等可以作为参考
⑤农作上的点点滴滴，除了靠自己经年累月的积累，也由宗亲长老口耳相传
⑥这些经验、规矩、风俗、习惯、祖训、家法，可以说涵盖了一个人生老病死、婚丧嫁娶的每一个环节
将以上 6 个句子重新排列，语序正确的是：

A. ①③⑤④②⑥ B. ③①⑤②⑥④ C. ①③⑤②⑥④ D. ③①⑤④②⑥

【答案】B。解析：

本题属于“推断文意型”。要求根据语句之间的逻辑关系进行排序。

对比四个选项的排列顺序可以发现，其中 A、C 两项以①为首句，B、D 两项以③为首句。因此，首句必在①③之中。①句中的转连词“事实上……”决定了，它不适合作为首句。由此可以排除 A、C 两项。

比较 B、D 两项，区别在于第四句是②还是④。阅读可知，②和⑤一样都是围绕“宗亲长老”展开的，二者必须前后相连，由此排除 D 项。

所以，正确选项是 B。

40. ①楼市远未到健康发展的程度，然而这并不妨碍我们认识一个真实的中国楼市格局
②而长期来看，让市场起决定性作用，无可避免地将成为中国楼市发展的方向
③无论看涨者和看跌者找到多少理由支持自己的观点，楼市的大格局就摆在那里
④于是乎，各色看法、判断甚至惊人言论无不是裹挟着民意打“影响政策”的主意
⑤中国楼市的参与者都知道，楼市趋势的继续或反转并非来自市场或他们的预测，而是来自政策
⑥事实清楚不过，在认清楼市格局的基础上，保持政策连续性、稳定性是当前稳预期稳房价的关键一招
将以上 6 个句子重新排列，语序正确的是：

A. ①③⑤④⑥② B. ①⑤③④⑥② C. ⑤③①②④⑥ D. ⑤⑥①②④③

【答案】A。解析：

本题属于“推断文意型”。要求根据语句之间的逻辑关系进行排序。

对比四个选项的排列顺序可以发现，其中 A、B 两项以①为首句，C、D 两项以⑤为首句。因此，首句必在①⑤之中。①句说“不妨碍我们认识一个真实的中国楼市格局”，⑤句说“中国楼市的参与者都知道……”，

所谓“中国楼市的参与者都知道……”显然是对中国楼市的认识，是对①的进一步展开。因此，⑤必须在①的后面，不可能作为首句。由此可以排除 C、D 两项。

比较 A、B 两项，区别在于第二、三句是③⑤还是⑤③。①句说“不妨碍我们认识一个真实的中国楼市格局”，③句说“……楼市的大格局就摆在那里”，两句都是围绕“中国楼市格局”展开的，因此，①③两句应该先后相连。排除 B 项。

所以，正确选项是 A。

41. 总体上看，我国是一个资源紧缺的国家，资源紧缺愈益成为我国经济社会发展的瓶颈。我国人均水资源、耕地资源、森林资源，石油、天然气、铜和铝等重要矿产资源都远低于世界人均水平。虽然我国粮食连续第 10 年实现增产，但供需仍处于紧平衡状态。我国人民生活水平总体上还不富裕，全国还有近一亿农村扶贫对象、两千多万城市低保人口以及其他众多的困难群体。我们没有任何理由奢侈浪费。

这段文字意在说明：

- A. 我国是一个资源紧缺的国家
- B. 现实国情决定了我们必须节俭
- C. 我国人民的生活水平还需进一步提高
- D. 能源紧缺已成为我国经济发展的瓶颈

【答案】B。解析：

本题属于“推断文意型”。

阅读可知，题干属于证明结构，证明结构强调的是论题而不是论据。

题干首先罗列了一系列具体材料描述我国的“资源紧缺”状况。最后一句提出论点：“我们没有任何理由奢侈浪费”。意在说明：现实国情决定了我们必须节俭。

所以，正确选项是 B。

42. 中国人对知识与思想、文风与人品、政治与学术，向来很难划出一道理性的界限，把本来只是经验和感觉的判断，常常当成评价一切的铁律。其实，元好问早就说“心画心声总失真，文章宁复见为人”，刘因也曾说“若将字字论心术，恐有无边受屈人”。

以下观点与原文意思最相符的是：

- A. “文如其人”式的说法过于武断
- B. 凭感觉去评价人是不可靠的
- C. 知人知面不知心
- D. 识人的标准应多元化

【答案】A。解析：

本题属于“推断文意型”。

阅读可知，题干属于转折结构，转折结构强调的是转折后面的内容。题干说：其实，元好问早就说“心画心声总失真，文章宁复见为人”，刘因也曾说“若将字字论心术，恐有无边受屈人”。通过转折，明确反对根据创作者的文章给人的感觉来判断作者本人的人品及思想，把文风与人品混为一谈。意在说明：“文如其人”式的说法过于武断。

所以，正确选项是 A。

43. 在深化改革过程中，调整利益分配方式，必然触动既有利益格局，削弱一部分人获取利益的权利和机会。这就难免使深化改革举措引起反弹，产生阻力。然而，改革的攻坚期、深水区绕不开、躲不过，必须以啃硬骨头、涉险滩的勇气，勇往直前。瞻前顾后、畏葸不前不仅不能前进，而且可能前功尽弃。

这段文字的主旨是：

- A. 改革已进入关键时期
- B. 既得利益者是阻碍改革的重要因素
- C. 改革的本质是利益的重新分配
- D. 深化改革就要去触动利益

【答案】D。解析：

本题属于“概括主旨型”。

阅读可知，题干属于转折结构，转折结构强调的是转折后面的内容。

题干说：在深化改革过程中，调整利益分配方式，必然触动既有利益格局……然而，改革的攻坚期、深水区绕不开、躲不过，必须以啃硬骨头、涉险滩的勇气，勇往直前。旨在强调：深化改革就要去触动利益。

所以，正确选项是 D。

44. 既然人是社会性的动物，做任何事情都无法脱离人际环境，那么，在单位时间内，谁能够以最低的沟通成本、最快地赢得他人的信任与配合，自然获得成功的几率就大——古今中外，凡能成就大事者，往往胜出在沟通、组织与行动的综合素质。进入工业时代的社会化大生产，以及市场经济环境下的商业竞争，无不需要将这类“人际型知识”贯穿于每一个“经济人”的行为之中。

下列说法与上述文字相符的是：

- A. 沟通对于成功很重要
- B. 降低沟通成本才能成功
- C. 沟通、组织与行动能够成大事
- D. 得到他人信任的关键在于沟通

【答案】A。解析：

本题属于“细节对比题”。要求找出说法与上述文字相符的一项。

B 项，题干说“谁能够以最低的沟通成本……自然获得成功的几率就大”，与“降低沟通成本才能成功”不符，排除；

C 项，题干说“古今中外，凡能成就大事者，往往胜出在沟通、组织与行动的综合素质”，其中的“往往……”与“沟通、组织与行动能够成大事”不符，排除；

D 项所说“……关键在于沟通”在题干中没有涉及，排除。

所以，正确选项是 A。

45. 使市场在资源配置中起决定性作用，绝不是说市场是万能的，可以把一切交给市场，更不是认为政府对市场可以撒手不管。更好发挥政府作用，一方面是要解决政府越位，即对市场干预过多和干预不当问题；另一方面是要解决政府缺位，政府要把该做的事做好，把该管的事管好。政府“有形的手”有效配合市场“无形的手”发挥作用，才能保证市场经济健康发展。

对这段文字的主旨理解最准确的是：

- A. 政府要把该管的事管牢管好
- B. 要正确处理政府与市场的关系
- C. 市场在资源配置中具有天然优势
- D. 政府的监管是对市场失灵的矫正

【答案】B。解析：

本题属于“推断文意型”。

阅读可知，题干讨论的对象是“政府与市场的关系”，逻辑上属于分析对策结构，分析对策结构强调的是对策而不是分析。题干首先提出“政府与市场的关系问题”，最后给出了对策：政府“有形的手”有效配合市场“无形的手”发挥作用，才能保证市场经济健康发展。意在强调：要正确处理政府与市场的关系。

所以，正确选项是 B。

46. 数据表明，我国目前团购网站数量不到 2000 家，去年高峰时期曾有 10000 家，但不到一年的时间就淘汰了 40% 的网站。分析师认为，经过两年的竞争，资源逐渐掌握在少数几家手里，市场集中度还将进一步提高，只有极少数网站能够存活下来。活下来的网站会逐渐捡回话语权，毛利会逐渐上抬。

这段文字主要介绍了团购行业的：

- A. 竞争方式
- B. 经营现状
- C. 发展趋势
- D. 市场前景

【答案】D。解析：

本题属于“概括主旨型”。

阅读可知，题干属于证明结构，证明结构强调的是论点而不是论据。

题干首先介绍了团购行业的发展情况，然后借分析师之口给出观点：经过两年的竞争……市场集中度还将进一步提高。所谓“……市场集中度将进一步提高”，是对未来市场的一种预测，旨在介绍团购行业的“市场前景”。

景”。

所以，正确选项是 D。

47. 对于个体和一个国家来说，人的生存是首先要解决的头等大事，虽然环境保护已越来越多地被提及和关注，但比起解决“吃饭”问题，始终要屈居第二的。这也是发展中国家为什么多重复走发达国家先污染后治理的老路的原因，并非看不到教训，而是谋求发展的艰巨任务使得各国不得不走捷径，优先选择煤炭这种低廉可靠、提高贫困人口生活水平还能促进就业的发展型能源。

这段文字的主要意思是：

- A. 环境保护和经济发展同样重要
- B. 发展中国家为了生存和发展不得不先污染后治理
- C. 解决温饱问题比保护环境更重要
- D. 发展中国家谋求发展忽略了环境保护

【答案】B。解析：

本题属于“概括主旨型”。

阅读可知，题干属于转折结构，转折结构强调的是转折后面的内容。

题干说：虽然环境保护已越来越多地被提及和关注，但比起解决“吃饭”问题，始终要屈居第二的。这也是发展中国家为什么多重复走发达国家先污染后治理的老路的原因……旨在强调：发展中国家为了生存和发展不得不先污染后治理。

所以，正确选项是 B。

48. 吃鱼的时候，小刺要比大刺麻烦，因为大刺很容易被发现，小刺则必须下很大功夫才能清除。做人，小毛病要比大毛病难改正，因为大的差错很容易被发现，小缺点则必须格外留意才会被发现。虽然有小刺的鱼往往肉都特别细腻而鲜美，但许多人就因为怕小刺而不愿意吃那种鱼。虽然脾气怪异、不拘小节的人常有特殊的才华，但是许多人就因为讨厌这些小毛病而不愿意与这些人打交道。

这段文字意在说明：

- A. 要学会如何与人相处
- B. 小毛病会让人敬而远之
- C. 情商与智商同等重要
- D. 小毛病可能产生大影响

【答案】B。解析：

本题属于“推断文意型”。

阅读可知，题干讨论的对象是人们对“小毛病”的态度。虽然脾气怪异、不拘小节的人常有特殊的才华，但是许多人就因为讨厌这些小毛病而不愿意与这些人打交道。根据“许多人……不愿意……”，可知意在说明：小毛病会让人敬而远之。

所以，正确选项是 B。

49. 低利率政策的初衷是刺激美国人迅速消费，以弥补危机带来的需求萎缩。但经历了数年的储蓄资产贬值后，相信低利率的刺激作用的边际效应已缩减到了几近于无。危机之初，开启低利率的另一个目的是为流动性紧张的金融机构提供“免费”资金，并帮助金融业补充资本。凭借零利率的借贷，银行可投资于政府债券，获得稳定而无风险的回报。可正因为此，银行丧失了为企业提供信贷这一风险和收益并存的业务和动力，从而未能够帮助中小企业创造就业岗位。

这段文字主要是：

- A. 暗示低利率政策必须做出调整
- B. 分析实行低利率政策的弊端
- C. 强调应鼓励银行开展企业信贷业务
- D. 说明低利率政策刺激消费的作用有限

【答案】D。解析：

本题属于“推断文意型”。

阅读可知，题干讨论的对象是“低利率”，逻辑上属于因果结构，因果结构强调的是结果而不是原因。

题干说：低利率政策的初衷是刺激美国人迅速消费……可正因为此，银行丧失了为企业提供信贷这一风险和收益并存的业务和动力，从而未能够帮助中小企业创造就业岗位。意在说明：低利率政策刺激消费的作用有

限。

所以，正确选项是 D。

50. 可能多数人都认为，我们的五官是感知外部世界的窗口，五官感觉非常真实而精确地反映着外部世界的现实。殊不知，我们信赖有加的感官事实上也会“欺骗”我们，我们所感知的有可能并非真实世界的反映，各种感官知觉，特别是视觉，有时只是大脑的幻觉和虚构。加拿大不列颠哥伦比亚大学心理学家罗恩·雷恩辛克指出，“你的体验在很大程度上是大脑活动的产物，大脑通过眼睛来获取视觉信息，但这并不是现实的直接反映。”

这段文字意在：

- A. 批驳普遍存在的关于“感知”的错误认识
- B. 说明我们所感知的有可能并非真实的世界
- C. 揭示我们信赖有加的感官事实上一直在“欺骗”我们
- D. 介绍加拿大不列颠哥伦比亚大学心理学家的研究成果

【答案】C。解析：

本题属于“推断文意型”。

阅读可知，题干讨论的对象是“感官”，逻辑上属于转折结构，转折结构强调的是转折后面的内容。

题干说：殊不知，我们信赖有加的感官事实上也会“欺骗”我们……。意在：揭示我们信赖有加的感官事实上一直在“欺骗”我们。

所以，正确选项是 C。

51. “阅读是纯个人事，非常自觉的事”，阅读本身是一件很美好的事，在阅读中心灵能够自觉的驰骋在各种时空，各个国度，在书本中傲游，从而引发对时代，对人生的思考。过度重视物质生活而看不起精神生活，只停留在获取信息没有引发思考，心态浮躁，在书本中寻不得心的共鸣或思想的碰撞。但是现在真正沉醉在阅读中的人却不多，只从网络上读取碎片化，表面化的信息，只停留在获取信息没有引发思考，如今很多书本，过分重视实用主义，过分强调阅读效果，如“3 个月练成 XX，10 天可以当 XX。”

这段文字意在说明：

- A. 阅读需要深入思考
- B. 阅读应该是一种精神享受
- C. 阅读是一个潜移默化的过程
- D. 实用主义过分强调阅读的效果

【答案】A。解析：

本题属于“推断文意型”。

阅读可知，题干讨论的对象是“阅读与思考”，逻辑上属于转折结构，转折结构强调的是转折后面的内容。

题干说：但是现在真正沉醉在阅读中的人却不多，只从网络上读取碎片化，表面化的信息，只停留在获取信息没有引发思考……。意在说明：阅读过程中思考的重要性，即阅读需要深入思考。

所以，正确选项是 A。

52. 中国服饰被引入日本并制度化，应该是从奈良时代开始的。日本的奈良时代正值中国盛唐时期，日本派出大批学者、僧侣到中国学习，这些遣唐使者把唐代文化艺术、律令制度都带回了日本，“衣服令”就是奈良时代模仿唐代制定的制度之一。韩服则是受汉服和蒙古服饰的影响从古代演变到现代的传统服装，形制上更多模仿明朝服饰。

下列说法与上述文字相符的是：

- A. 日本奈良时代派出的遣唐使者都是一些著名僧侣
- B. 韩服在形制上更多模仿中国汉朝与元朝时期的服饰
- C. 日本从奈良时代开始引进中国服饰并且使之制度化
- D. “衣服令”是日本奈良时代模仿明朝制定的服饰制度

【答案】C。解析：

本题属于“细节对比题”。要求找出说法与上述文字相符的一项。

A项，题干说“日本派出大批学者、僧侣到中国学习”（隐含：不是A项说的“都是一些著名僧侣”）。表述与题干不符，排除。

B项，题干说“韩服……形制上更多模仿明朝服饰”（隐含：并非B项所说“韩服在形制上更多模仿中国汉朝与元朝时期的服饰”）。表述与题干不符，排除。

D项，题干说“‘衣服令’就是奈良时代模仿唐代制定的制度之一”（隐含：并不是D项所说“‘衣服令’是日本奈良时代模仿明朝制定的服饰制度”）。说法与题干不符，排除。

所以，正确选项是C。

53. 红米手机里有一个“老人模式”，就是根据论坛里的用户反馈倒逼出来的创新，“我们最早听到大量用户抱怨，老人不敢用智能手机，因为安卓系统太复杂了，让老人无所适从。技术人员着重在这些问题上研发产品，现在的红米手机‘老人模式’去除了所有的信息聚合，以卡片式的界面为主，将老人会用的短信、电话、新闻、拍照等功能铺排在桌面上，反响非常好。”

上述案例印证了下面哪句话？

- A. “市场需要什么，应该由消费者来决定，而不是企业。”
- B. “用户不知道他们想要什么，直到你把产品放在他们面前”
- C. “在一个充分竞争的市场上，创新可以颠覆一切”
- D. “在购买时，你可以用任何语言；但在销售时，你必须使用购买者的语言。”

【答案】A。解析：

本题属于“推断文意型”。

阅读可知，题干属于证明结构，证明结构强调的是论题而不是论据。

题干首先提出论题“‘老人模式’就是根据论坛里的用户反馈倒逼出来的创新”，然后罗列了一个具体材料来证明它。意在说明：市场需要什么，应该由消费者来决定，而不是企业。

所以，正确选项是A。

54. 刚刚开学一个多星期，一名正在参加军训的大学生就将一大包衣服和购买被子打包寄回家，让家人帮着洗，然后再寄回来。这则消息毫无悬念地引发了舆论的一阵喧哗，与以往的类似事情一样，痛心疾首者铺天盖地，上纲上线痛批中国教育的也不在少数。中国的校园总能不断制造类似的奇闻异事，高考和入学前后是集中爆发和展示期，年复一年，学校、孩子和家长似乎被符号化：一定是僵化冷漠且糟蹋人的，学生一定是娇生惯养将来要“垮掉”的，而家长多半是无原则的一味溺爱的。这样的符号化思维大大简化了中国社会以及中国教育的复杂性。

这段文字意在说明：

- A. 符号化的批评无助于教育和社会的进步
- B. 中国社会和学校的教育使学生缺乏独立性
- C. 社会舆论易对校园个别事例夸大宣传报道
- D. 大学生的独立性并不像媒体说的那么差

【答案】A。解析：

本题属于“推断文意型”。阅读可知，题干讨论的关键词是“符号化”，逻辑上属于证明结构，证明结构强调的是论题而不是论据。

题干首先罗列了一系列具体材料作为论据，其中“学校、孩子和家长似乎被符号化：学校一定是僵化冷漠且糟蹋人的，学生一定是娇生惯养将来要‘垮掉’的，而家长多半是无原则的一味溺爱的。”流露出作者对“符号化”的强烈不满。最后一句提出论点：“这样的符号化思维大大简化了中国社会以及中国教育的复杂性”。意在说明：符号化的批评无助于教育和社会的进步。

所以，正确选项是A。

55. PM_{2.5}是指大气中直径小于或等于2.5微米的颗粒物，也称为可入肺颗粒物。直径相当于人的头发粗细的1/20。PM_{2.5}的主要来源是发电、工业生产、汽等过程中燃烧产生的残留物。因为这些颗粒物太轻，很难自然降落在地面上，而是长期悬浮在空气中，可直接通过呼吸进入肺部甚至融入血液。PM_{2.5}直径小，在大气中的停留时间长，输送距离远，多含有二氧化硫、氮氧化物、硫酸铵等有害物质，因而对人体健康和大气环境质量的影响很大。

根据上述文字，下列表述不正确的是：

- A. 只要控制各种燃烧释放的残留物就能有效减少PM_{2.5}
- B. PM_{2.5}能长时间悬浮在空气中
- C. 只要能使PM_{2.5}降落到地面，就能避免其伤害
- D. PM_{2.5}会直接将二氧化硫等有害物质带入人体内影响健康

【答案】C。解析：

本题属于“细节对比题”。要求找出根据上述文字表述不正确的一项。

A项，题干说“PM_{2.5}的主要来源是发电、工业生产、汽等过程中燃烧产生的残留物”（隐含：控制各种燃烧释放的残留物就能有效减少PM_{2.5}）。表述正确，排除。

B项，题干说“PM_{2.5}直径小，在大气中的停留时间长”（隐含：PM_{2.5}能长时间悬浮在空气中）。表述正确，排除。

D项，题干说“PM_{2.5}……多含有二氧化硫，”“可直接通过呼吸进入肺部甚至融入血液”（隐含：PM_{2.5}会直接将二氧化硫等有害物质带入人体内影响健康）。说法正确，排除。

所以，正确选项是C。

第三部分 数量关系

（共25题，参考时间30分）

一、数字推理：共10题。给你一个数列或图形，但其中缺少一项，要求你仔细观察其排列规律，然后从四个选项中选择你认为最合理的一项，来填补空缺项，使之符合原有的排列规律。

56. 52, 32, 20, 12, 8, ()

- A. 3
- B. 4
- C. 5
- D. 6

【答案】B。解析：

本题的数列规律是：前项-后项=第三项。则下一项应为：12-8=4。

所以，正确选项是B。

57. 143, 59, 25, 9, 7, ()

- A. -2
- B. -3
- C. -4
- D. -5

【答案】D。解析：

本题的数列规律是：前项-后项×2=第三项。则下一项应为：9-7×2=-5。

所以，正确选项是D。

58. 2, 3, 7, 34, 50, 175, ()

- A. 211
- B. 213
- C. 215
- D. 217

【答案】A。解析：

本题的数列规律是：后项-前项可以得到一个新数列：1, 4, 27, 16, 125。得到幂指数1³, 2², 3³, 4², 5³, (6²)。则下一项应为：6²+175=211。

所以，正确选项是A。

59. 1, 1, 5, 7, 13, ()

A. 15 B. 17 C. 19 D. 21

【答案】B。解析：

本题的数列规律是：相邻两项相加可以得到一个新数列：2, 6, 12, 20。这个新数列前后两项的项差是：4, 6, 8, 10。则下一项应为：10+20-13=17。

所以，正确选项是 B。

60. 11, 6, 21, -16, 1, 36, ()

A. -53 B. -21 C. 21 D. 53

【答案】C。解析：

本题的数列规律是：第一项-第二项-第三项=第四项。则下一项应为：-16-1-36=-53。

所以，正确选项是 D。

61. -3, 3, 6, 30, 240, ()

A. 480 B. 1200 C. 1920 D. 2640

【答案】C。解析：

本题的数列规律是：两项一组后项除以前项，其商是一等差数列：3, 5, (8)。则下一项应为：240×8=1920。

所以，正确选项是 C。

62. 3, 4, 6, 12, 36, ()

A. 72 B. 108 C. 216 D. 288

【答案】C。解析：

本题的数列规律是：第一项×第二项÷2=第三项。则下一项应为：12×36÷2=216。

所以，正确选项是 C。

63. -23, -3, 20, 44, 72, 105, 147, ()

A. 203 B. 218 C. 275 D. 296

【答案】A。解析：

本题的数列规律是：相邻两项的后项减前项可以得到一个新数列：20, 23, 24, 28, 33, 42；这个新数列继续做差可得：3, 1, 4, 5, 9, (14)，这是一个和数列。则下一项应为：14+42+147=203。

所以，正确选项是 A。

64. 2, 6, 21, 43, 82, ()

A. 130 B. 134 C. 144 D. 156

【答案】B。解析：

本题的数列规律是：相邻两项相加可以得到一个新数列：8, 27, 64, 125, (216)，这个新数列可以整理为： $2^3, 3^3, 4^3, 5^3, (6^3)$ 。则下一项应为：216-82=134。

所以，正确选项是 B。

65. 1, 2, 7, 23, 76, ()

A. 206 B. 218 C. 239 D. 251

【答案】D。解析：

本题的数列规律是：第一项+第二项×3=第三项。则下一项应为：23+76×3=251。

所以，正确选项是 D。

二、数学运算：共 15 题。每道试题呈现一道算术式或表述数字关系的一段文字或几何图形，要求你迅速、准确地计算或论证出答案。

66. 小张练习写数码，从 1, 2, 3……连续写至 1000 多才停止。写完一数，共写了 3201 个数码。请问，小张写的最后一个数是多少？

- A. 1032 B. 1056 C. 1072 D. 1077

【答案】D。解析：

作答本题可以采用“分情况讨论法”。

个位数：1—9，共 9 个数码；两位数：10—99，共 $90 \times 2 = 180$ 个数码；三位数：100—999，共 $900 \times 3 = 2700$ 个数码。 $9 + 180 + 2700 = 2889$ 个数码。还剩 $3201 - 2889 = 312$ 个数码。

因为每个四位数有 4 个数码，则有 $312 \div 4 = 78$ 个四位数。从 1000 开始数，第 78 个数字是 1077。

所以，正确选项是 D。

67. 对分数 $11/1000$ 进行操作，每次分母加 15，分子加 7，问至少经过几次这样的操作能使得到的分数不小于 $1/5$ ？

- A. 46 次 B. 47 次 C. 48 次 D. 49 次

【答案】C。解析：

设至少经过 x 次这样的操作能使得到的分数不小于 $1/5$ ，则有算式：

$$\frac{11 + 7x}{1000 + 15x} \geq \frac{1}{5}。解得：x \geq 47.25。$$

所以，正确选项是 C。

68. 合唱团成员排练时站在一个五级的台阶上，最上面一级站 N 个人。若上面一级比下面一级多站一个人，则多了 7 个人；若上面一级比下面一级少站一个人，则少多少人？

- A. 4 个 B. 7 个 C. 10 个 D. 13 个

【答案】D。解析：

最上面一级站 N 个人，若上面一级比下面一级多站一个人，则演唱团共有团员人数为：

$$N + (N-1) + (N-2) + (N-3) + (N-4) + 7 = (5N-10) + 7。$$

若上面一级比下面一级少站一个人，则演唱团共有团员人数为：

$$N + (N+1) + (N+2) + (N+3) + (N+4) - x = (5N+10) - x。$$

该团的团员人数是确定的，则有： $(5N-10) + 7 = (5N+10) - x$ 。

解得： $x = -13$ 。即少了 13 人。

所以，正确选项是 D。

69. 某班有 56 名学生，每人都参加了 a、b、c、d、e 五个兴趣班中的其中一个。已知有 27 人参加 a 兴趣班，参加 b 兴趣班的人数第二多，参加 c、d 兴趣班的人数相同，e 兴趣班的参加人数最少，只有 6 人，问参加 b 兴趣班的学生有多少个？

- A. 7 个 B. 8 个 C. 9 个 D. 10 个

【答案】C。解析：

作答本题可以采用“代入选项验算法”。

已知有 27 人参加 a 兴趣班，参加 b 兴趣班的人数第二多，参加 c、d 兴趣班的人数相同，e 兴趣班的参加人数最少，只有 6 人。设参加 c、d 兴趣班的人数均为 c ，则根据题意可得算式： $27 + b + 2c + 6 = 56$ 。整理可得： $b + 2c = 23$ 。

代入验算可知，只有 C 项符合题意。

所以，正确选项是 C。

70. 有 a、b、c 三种浓度不同的溶液，按 a 与 b 的质量比为 5 : 3 混合，得到的溶液浓度为 13.75%；按 a 与 b 的质量比为 3 : 5 混合，得到的溶液浓度为 16.25%；按 a、b、c 的质量比为 1 : 2 : 5 混合，得到的溶液浓度为 31.25%。问溶液 c 的浓度为多少？

- A. 35% B. 40% C. 45% D. 50%

【答案】B。解析：

作答本题可以采用“分情况讨论法”。

设 a、b、c 浓度为 a、b、c。则根据题意可得算式：（1） $5a+3b=13.75\% \times 8$ ；（2） $3a+5b=16.25\% \times 8$ ；（3） $a+2b+5c=31.25\% \times 8$ 。

把算式（1）乘以 3，可得（4）： $15a+9b=13.75\% \times 8 \times 3$ 。

把算式（2）乘以 3，可得（5）： $15a+25b=16.25\% \times 8 \times 5$ 。

把算式（5）减去算式（4），可得算式（6）： $16b=320$ 。

解得： $b=20\%$ ， $a=10\%$ ， $c=40\%$ 。

所以，正确选项是 B。

71. 两支篮球队打一个系列赛，三场两胜制，第一场和第三场在甲队的主场，第二场在乙队的主场。已知甲队主场赢球概率为 0.7，客场赢球概率为 0.5。问甲队赢得这个系列赛的概率为多少？

- A. 0.3 B. 0.595 C. 0.7 D. 0.795

【答案】C。解析：

作答本题可以采用“分情况讨论法”。

甲队要赢得这个系列赛，则需要至少赢 2 场。分情况讨论为：

情况 1，甲胜 3 场的概率为： $0.7 \times 0.5 \times 0.7 = 0.245$ ；

情况 2，甲输 1 场、胜 2 场的概率为： $((0.7 \times 0.5 \times 0.3) + (0.7 \times 0.5 \times 0.3)) + (0.7 \times 0.5 \times 0.7) = 0.455$ 。

则总的概率为：0.7。

所以，正确选项是 C。

72. 有 30 名学生，参加一次满分为 100 分的考试，已知该次考试的平均分是 85 分，问不及格（小于 60 分）的学生最多有几人？

- A. 9 人 B. 10 人 C. 11 人 D. 12 人

【答案】B。解析：

作答本题可以采用“极端情况讨论法”。

本次考试共被扣分数为： $30 \times (100 - 85) = 450$ （分）。按最极端的情况，必须 59 分的考生最多，即不及格的学生每人扣 41 分的时候，才是不及格人数最多的情况。

$450 \div 41 = 10$ 余 40。即不及格的学生最多有 10 人。

所以，正确选项是 B。

73. 四对情侣排成一队买演唱会门票，已知每对情侣必须排在一起，问共有多少种不同的排队顺序？

- A. 24 种 B. 96 种 C. 384 种 D. 40320 种

【答案】C。解析：

作答本题可以采用“分情况讨论法”。

先将四对情侣看成四个整体，则有情况： $A(4, 4) = 4 \times 3 \times 2 \times 1 = 24$ （种）。

每对情侣再排列，则有情况： $A(2, 2) \times A(2, 2) \times A(2, 2) \times A(2, 2) = 2 \times 2 \times 2 \times 2 = 16$ （种）。

则共有情况： $24 \times 16 = 384$ （种）。

所以，正确选项是 C。

74. 甲、乙、丙三人跑步比赛，从跑道起点出发，跑了 20 分钟，甲超过乙一圈，又跑了 10 分钟，甲超过丙一圈，问再过多长时间，丙超过乙一圈？

- A. 30 分钟 B. 40 分钟 C. 50 分钟 D. 60 分钟

【答案】A。解析：

作答本题可以采用“特殊赋值法”。设跑道长为 60。

根据“跑了 20 分钟，甲超过乙一圈”，则 $V_{甲} - V_{乙} = 60 \div 20 = 3$ 。

根据“又跑了 10 分钟，甲超过丙一圈”，则 $V_{甲} - V_{丙} = 60 \div (10 + 20) = 2$ 。

则 $V_{丙} - V_{乙} = 1$ 。因此，丙超过乙一圈需要 60 分钟。也就是说再过 $60 - 30 = 30$ 分钟即可。

所以，正确选项是 A。

75. 在一堆桃子旁边住着 5 只猴子。深夜，第一只猴子起来偷吃了一个，剩下的正好平均分成 5 份，它藏起自己的一份，然后去睡觉。过了一会儿，第二只猴子起来也偷吃了一个，剩下的也正好平均分成 5 份，它也藏起自己的一份，然后去睡觉，第三个、第四、五只猴子也都依次这样做。问那堆桃子最少有多少个？

- A. 4520 B. 3842 C. 3121 D. 2101

【答案】C。解析：

作答本题可以采用“代入验算法”。

求那堆桃子最少有多少个，应该从数据最小的 D 项开始验算。

验算 D 项：第一只猴子吃掉一个还剩 2100， $2100 \div 5 = 420$ ，拿走 420，还剩 1680。

第二只猴子吃掉一个还剩 1679， $1679 \div 5$ 不能整除了，不符合题意，排除。

验算 C 项：第一只猴子吃掉一个还剩 3120， $3120 \div 5 = 624$ ，拿走 624，还剩 2496。

第二只猴子吃掉一个还剩 2495， $2495 \div 5 = 499$ ，拿走 499，还剩 1996。

第三只猴子吃掉一个还剩 1995， $1995 \div 5 = 399$ ，拿走 399，还剩 1596。

第四只猴子吃掉一个还剩 1595， $1595 \div 5 = 319$ ，拿走 319，还剩 1276。

第五只猴子吃掉一个还剩 1275， $1275 \div 5 = 255$ ，拿走 255，还剩 1020。

1020 能被 5 整除，符合题意。

所以，正确选项是 C。

76. 夏天干旱，甲、乙两家请人来挖井，阴天时，甲家挖井需要 8 天，乙家需要 10 天；晴天时，甲家工作效率下降 40%，乙家工作效率下降 20%。甲、乙两家同时开工并同时挖好井，问甲家挖了几个晴天？

- A. 2 天 B. 8 天 C. 10 天 D. 12 天

【答案】C。解析：

作答本题可以采用“特殊赋值法”。

因为阴天时挖井，甲需要 8 天乙需要 10 天，则设甲、乙两家的总挖井工作量都是 40（8、10 的最小公倍数）。则甲阴天时挖井的工作效率为： $40 \div 8 = 5$ ，晴天时挖井的工作效率为： $5 \times 60\% = 3$ ；乙阴天时挖井的工作效率为： $40 \div 10 = 4$ ，晴天时挖井的工作效率为： $4 \times 80\% = 3.2$ 。

设甲、乙挖了 x 个阴天， y 个晴天，根据题意则可列算式为： $5x + 3y = 40$ ， $4x + 3.2y = 40$ 。解得： $y = 10$ （天）。

所以，正确选项是 C。

77. 商店进了 100 件同样的衣服，售价定为进价的 150%，卖了一段时间后价格下降 20% 继续销售，换季时剩下的衣服按照售价的一半处理，最后这批衣服盈利超过 25%。如果处理的衣服不少于 20 件，问至少有多少件衣服是按照原售价卖出的？

- A. 7 件 B. 14 件 C. 34 件 D. 47 件

【答案】D。解析：

作答本题可以采用“特殊赋值法”。

设每件衣服的进价为 100 元，共进了 100 件，则总成本为 10000 元，盈利超过 2500 元。

根据题意，按每件 150 元卖了一部分，按每件 120 元卖了一部分，按每件 75 元卖了至少 20 件。设按每件 150 元（原价）卖出 x 件，则有算式： $150x+120\times[(100-20)-x]+75\times 20>12500$ 。解得： $x>46$ 。

即至少有 47 件衣服是按照原售价卖出的。

所以，正确选项是 D。

78. 某委员会有成员 465 人，对 2 个提案进行表决，要求必须对 2 个提案分别提出赞成或反对意见。其中赞成第一个提案的有 364 人，赞成第二个提案的有 392 人，两个提案都反对的有 17 人。问赞成第一个提案且反对第二个提案的有几人？

- A. 56 人 B. 67 人 C. 83 人 D. 84 人

【答案】A。解析：

作答本题可以采用“条件转化法”。

根据“赞成第二个提案的有 392 人”可知，反对第二个提案的人数为： $465-392=73$ （人）。

由于两个提案都反对的有 17 人，必须去掉重复计算的 17 人，则赞成第一个提案且反对第二个提案的人数为： $73-17=56$ （人）。

所以，正确选项是 A。

79. 某小区有 40% 的住户订阅日报，有 15% 的住户同时订阅日报和时报，至少有 75% 的住户至少订阅两种报纸中的一种。问订阅时报的比例至少为多少？

- A. 35% B. 50% C. 55% D. 60%

【答案】B。解析：

作答本题可以采用“特殊赋值法”。

设小区共有住户 100 户。则订阅日报的住户有 40 户，同时订阅日报和时报的有 15 户，至少订阅两种报纸中的一种有 75 户。

则订阅时报的户数为： $75-40+15=50$ 。即订阅时报的比例至少为 50%。

所以，正确选项是 B。

80. 一门课程的满分为 100 分，由个人报告成绩与小组报告成绩组成，其中个人报告成绩占 70%，小组报告成绩占 30%。已知小明的个人报告成绩与同一小组的小欣的个人报告成绩之比为 7：6，小明该门课程的成绩为 91 分，问小欣的成绩最低为多少分？

- A. 78 分 B. 79 分 C. 81 分 D. 82 分

【答案】C。解析：

作答本题可以采用“极端情况讨论法”。根据题意可知，本题是求小欣的成绩最低多少分，即小欣与小明的分数相差的最大值。

已知小欣和小明是同组，则两人的小组报告成绩应该是一样的。设小明、小欣两人的小组报告成绩均为 x 分，个人报告成绩分别为 $7y$ 、 $6y$ 分，则小明的总成绩为 $7y+x=91$ 分，小欣的总成绩为 $6y+x$ 。要使小欣的总成绩最低，则小明与小欣总成绩必须相差最大。而两人的小组报告成绩是一样的，则两人的成绩之差完全取决于其个人报告成绩的差别。

两人的总成绩相差为： $(7y+x)-(6y+x)=y$ 。根据个人报告成绩占 70%，设 $7y$ 取最大值 70 分（即 $100\times 70\%=70$ ），则 y 的最大取值为 10。根据 $7y+x=91$ 分，可以推知 $x=21$ 。

因此，小欣的总成绩最低为： $(6\times 10)+21=81$ 分。

所以，正确选项是 C。

第四部分 判断推理

(共 35 题，参考时间 35 分)

本部分包括四种类型的试题：

一、类比推理。每道题先给出一组相关的词，要求你在备选答案中找出一组与之在逻辑关系上最为贴切、相似或匹配的词。

81. 物质：匮乏：补给

- A. 知识：渊博：传授 B. 政府：廉洁：监督 C. 本金：利率：利息 D. 走私：猖獗：打击

【答案】D。解析：

题干词组的逻辑关系可以表述为：物资匮乏需要补给。

D 项的逻辑关系与此相同：走私猖獗需要打击。

所以，正确选项是 D。

82. 雨：雪

- A. 热水瓶：盘子 B. 加热器：电容器 C. 音响：显示器 D. 电视机：游戏机

【答案】D。解析：

题干词组的逻辑关系可以表述为：雨在一定条件下可以转化成雪。

D 项的逻辑关系与此相同：电视机在一定条件下可以转化为游戏机。

所以，正确选项是 D。

83. 中国：熊猫

- A. 美国：白头鹰 B. 南非：企鹅 C. 澳大利亚：考拉 D. 英国：狮子

【答案】C。解析：

题干词组的逻辑关系可以表述为：熊猫是中国的濒危保护动物。

C 项的逻辑关系与此相同：考拉是澳大利亚的濒危保护动物。

所以，正确选项是 C。

84. 未雨绸缪：临阵磨枪

- A. 曲高和寡：阳春白雪 B. 忠贞不渝：朝三暮四 C. 瑕不掩瑜：差强人意 D. 今非昔比：物是人非

【答案】B。解析：

题干词组的逻辑关系可以表述为：“未雨绸缪”与“临阵磨枪”是反义词。

B 项的逻辑关系与此相同：“忠贞不渝”与“朝三暮四”是反义词。

所以，正确选项是 B。

85. 上元节：赏花灯

- A. 七夕节：鹊桥相会 B. 端午节：插茱萸 C. 重阳节：登高 D. 中秋节：游湖

【答案】C。解析：

题干词组的逻辑关系可以表述为：上元节赏花灯。

C 项的逻辑关系与此相同：重阳节登高。

所以，正确选项是 C。

86. 七窍生烟：气愤

- A. 同流合污：腐败 B. 百口莫辩：复杂 C. 手舞足蹈：高兴 D. 鹏程万里：遥远

【答案】C。解析：

题干词组的逻辑关系可以表述为：七窍生烟形容非常气愤。

C 项的逻辑关系与此相同：手舞足蹈形容非常高兴。

所以，正确选项是 C。

87. 路程：时间：速度

- A. 压强：面积：压力 B. 功率：电流：电压 C. 本金：利率：利息 D. 原价：折扣：现价

【答案】B。解析：

题干词组的逻辑关系可以表述为：路程等于时间乘以速度。

B 项的逻辑关系与此相同：功率等于电流乘以电压。

所以，正确选项是 B。

88. 婚礼：司仪：宾客

- A. 教学：学生：教师 B. 诉讼：法官：原告 C. 新闻：主持人：记者 D. 球赛：裁判：球迷

【答案】D。解析：

题干词组的逻辑关系可以表述为：司仪主持婚礼，宾客欣赏婚礼。

D 项的逻辑关系与此相同：裁判主持球赛，球迷欣赏球赛。

所以，正确选项是 D。

89. () 对于 蜜蜂 相当于 产品 对于 ()

- A. 蜂蜜 工人 B. 昆虫 企业 C. 鲜花 商店 D. 蝴蝶 原料

【答案】A。解析：

代入选项造句可知，A 项的逻辑关系是相同的：蜜蜂制造蜂蜜；工人制造产品。

所以，正确选项是 A。

90. 计划对于 () 相当于 () 对于操作

- A. 实施 规程 B. 调研 方法 C. 方案 制定 D. 改变 失误

【答案】A。解析：

代入选项造句可知，A 项的逻辑关系是相同的：实施计划，动宾关系；操作规程，动宾关系。

所以，正确选项是 A。

二、定义判断。每道题先给出定义，然后列出四种情况，要求你严格依据定义，从中选出一个最符合或最不符合该定义的答案。注意：假设这个定义是正确的，不容置疑的。

91. 刻板印象是将对一类人行为的整体印象推广到个体的过程。它是由于人们在种族（或民族）、宗教、性别、年龄等方面的差异而形成的。对一个人的刻板印象可导致知觉错误。

根据上述定义，下列不属于刻板印象的是：

- A. 东北人都是活雷锋，有事找东北人没错。
B. 俗话说“家贫出孝子”，老李家境贫寒，他的孩子肯定孝敬父母
C. 某企业觉得有些地方的人不诚实，因此没有录用来自这一地区的小张
D. 经理认为小王在工作中经常出错，所以今后对他的任用要谨慎

【答案】D。解析：

本题是“不属于型”。要求找出不属于“刻板印象”的一项。

定义的关键信息是：（1）将对一类人行为的整体印象推广到个体，（2）它是由于人们在种族（或民族）、宗教、性别、年龄等方面的差异而形成的。

D项中的经理“认为小王在工作中经常出错，所以今后对他的任用要谨慎”（隐含：只有因为小王的个人行为，不是将对一类人行为的整体印象推广到个体。）与定义条件（1）不符，不属于“刻板印象”。

所以，正确选项是D。

92. 园林是指在一定地域运用工程技术和艺术手段，通过改造地形（或进一步筑山、叠石、理水），种植花草，营造建筑和布置园路等途径，创作而成的优美自然环境和游憩境域。

根据上述定义，下列属于园林的是：

- A. 某企业为了打造良好的工作环境，在厂房前后种植了大量的树木和花草
- B. 老张承包一片山林，建造餐厅和客舍，吸引城市游客前来休闲观光
- C. 某区专辟一块地供市民休闲，修建回廊亭阁，假山喷泉，以树木花草环绕
- D. 某地树木葱茏，山清水秀，且遗留许多奇特的民俗，很多游客慕名前往

【答案】C。解析：

本题是“属于型”。要求找出属于“园林”的一项。

定义的关键信息是：（1）在一定地域运用工程技术和艺术手段，（2）通过改造地形（或进一步筑山、叠石、理水），种植花草，营造建筑和布置园路等途径，创作而成的优美自然环境和游憩境域。

A项中的某企业仅仅在厂房前后种植树木和花草，没有改造地形、营造建筑和布置园路等，不属于园林，排除；

B项中的老张仅仅建造餐厅和客舍，没有改造地形、营造建筑和布置园路等，不属于园林，排除；

C项中的“修建回廊亭阁，假山喷泉，以树木花草环绕”（隐含：通过改造地形、种植花草，营造建筑和布置园路等途径，创作优美自然环境和游憩境域），完全符合定义条件，属于“园林”。

D项没有运用工程技术和艺术手段进行改造，不属于园林，排除。

所以，正确选项是C。

93. 主观唯心主义把个人的某种主观精神如感觉、经验、心灵、意识、观念、意志等看做是世界上一切事物产生和存在的根源与基础，而世界上的一切事物则是由这些主观精神所派生的，是这些主观精神的显现。

根据上述定义，下列观点不属于主观唯心主义的是：

- A. 生死有命，富贵在天
- B. 对象和感觉是同一个东西
- C. 有条件要上，没条件也要上
- D. 万物森然于方寸之间，满心而发充塞宇宙

【答案】A。解析：

本题是“不属于型”。要求找出不属于“主观唯心主义”的一项。

定义的关键信息是：（1）个人的某种主观精神如感觉、经验、心灵、意识、观念、意志等看做是世界上一切事物产生和存在的根源与基础，（2）世界上的一切事物由这些主观精神所派生，是这些主观精神的显现。

A项中的“生死有命，富贵在天”（隐含：所谓“天”，不是人的“主观精神”，而是“客观精神”，属于客观唯心主义。）与定义条件（1）不符，不属于“主观唯心主义”。

所以，正确选项是A。

94. 蘑菇长在阴暗的角落，得不到阳光，也没有肥料，自生自灭，只有长到足够高的时候才会开始被人类关注，可此时它自己已经能够接受阳光了。人们将这种现象称为“蘑菇效应”。

根据上述定义，下列属于蘑菇效应的是：

- A. 小刘是留学归来的MBA，一进公司就担任了部门经理
- B. 演员小王初行时常常几个月只演一个小角色，后来终于成名，每天片约不断
- C. 某单位给每个层级的管理者规定了一项制度，没有预先培养自己的接班人，就不能升迁
- D. 小李工作后一直表现平平，一次偶然的机遇他得到领导赏识，在后来的一个大项目中被委以重任

【答案】B。解析：

本题是“属于型”。要求找出属于“蘑菇效应”的一项。

定义的关键信息是：（1）弱小时自生自灭，（2）只有长到足够高的时候才会开始被人类关注。

B项中的演员小王“初入行时常常几个月只演一个小角色”（隐含：弱小时不被关注），后来终于成名，每天片约不断（隐含：长到足够高的时候，开始被人关注）。符合“蘑菇效应”的定义条件。

所以，正确选项是B。

95. 气象服务经济包含两层意义，一是指利用气象服务来防灾、抗灾以避免风险和损失；二是指利用有力的气象条件来创造效益。人们可以利用气象信息作为从事经济活动的决策依据之一，可以根据气象服务提供的信息，安排生产经营活动，减少经济损失，提高经济效益。

根据上述定义，下列属于气象服务经济的是：

- A. 渔民根据台风警报取消出海作业
- B. 大学生根据气象预报选择旅行时间
- C. 电信服务商发布收费天气预报短信
- D. 根据地球公转周期选择卫星最佳发射时机

【答案】A。解析：

本题是“属于型”。要求找出属于“气象服务经济”的一项。

定义的关键信息是：（1）利用气象服务来防灾、抗灾以避免风险和损失；（2）利用有利的气象条件来创造效益。

A项中的渔民“根据台风警报取消出海作业”（隐含：利用气象服务来防灾、抗灾而避免损失。）符合定义条件，属于“气象服务经济”。

B项中的大学生“根据气象预报选择旅行时间”（隐含：不是利用气象服务来防灾、抗灾以避免风险和损失，也不是利用有利的气象条件来创造效益）。不符合定义条件，排除；


C项中的电信服务商“发布收费天气预报短信”（隐含：不是利用有利的气象条件来创造效益，而是利用发布天气预报赚钱），不符合定义条件，排除；

D项中的“根据地球公转周期选择卫星最佳发射时机”（隐含：不是根据气象服务），排除。

所以，正确选项是A。

三、图形推理：请按每题的答题要求作答。

96. 选择最合适的一项填入问号处，使之呈现一定的规律性。




【答案】C。解析：

观察可见，题干大圆图形中的小图形的角的个数分别为3、5、7、9，成等差数列。

按照这个规律，填入问号处的大圆图形中的小图形应该有11个角。只有C项符合要求，所以，正确选项是C。

97. 选择最合适的一项填入问号处，使之呈现一定的规律性。



【答案】D。解析：

观察可见，从左到右题干图形中的交点（含切点）个数分别为3、4、2、4。根据数字的对称规律，填入问号处的图形中应该有3个交点。只有D项符合要求，所以，正确选项是D。

98. 选择最合适的一项填入问号处，使之呈现一定的规律性。



【答案】B。解析：

观察可见，若将题干图形中的1个△换成2个□，则每个题中图形□的个数依次为3、5、7、9，成等差数列。按照这个规律，填入问号处的图形中应该有相当于11个□的图形元素。只有B项符合要求。所以，正确选项是B。

99. 把下面的六个小图形分为两类，使每一类图形都有各自的共同特征或规律，分类正确的一项是。

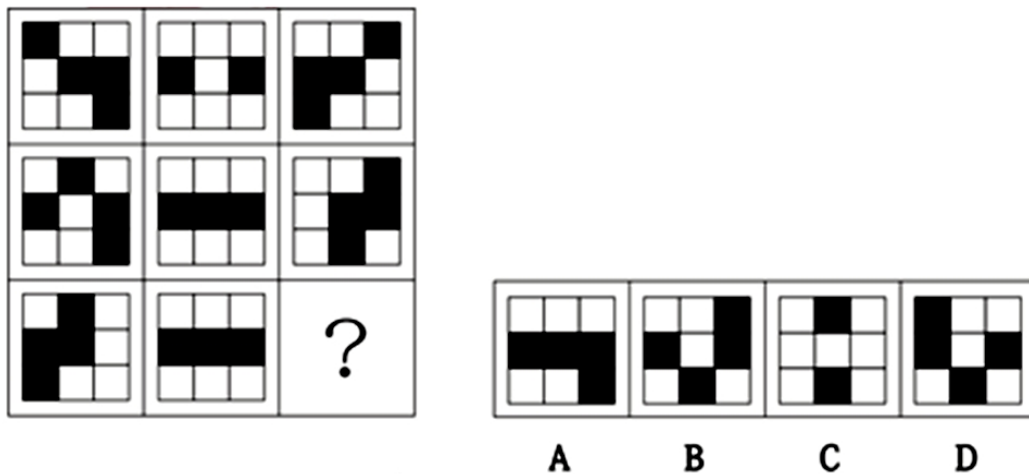


- A. ①②③, ④⑤⑥ B. ①④⑥, ②③⑤ C. ①②⑤, ③④⑥ D. ①⑤⑥, ②③④

【答案】D。解析：

观察可见，根据对称轴的数量，可以将6个图形分为两组，①⑤⑥图形中均有两条对称轴，②③④图形中均只有一条对称轴。所以，正确选项是D。

100. 选择最合适的一项填入问号处，使之呈现一定的规律性。

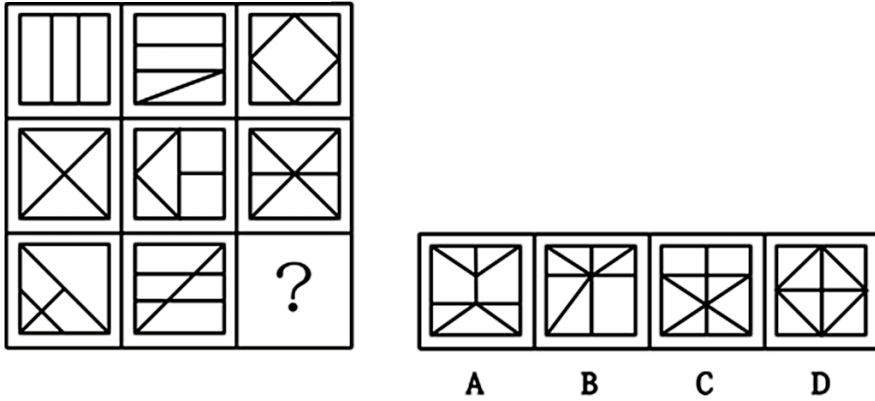


【答案】D。解析：

观察可见，如果把每个题干图形看成由三行组成，则第一行中的黑色方块依次向下移动一格，第二行中的白色方块依次向右移动一格，第三行中的黑色方块依次向上移动一格，当白色方块与黑色方块移动到相同位置

时，显示为黑色，可以得到下一个图形。
 按照这个规律，只有D项符合要求。
 所以，正确选项是D。

101. 选择最合适的一项填入问号处，使之呈现一定的规律性。

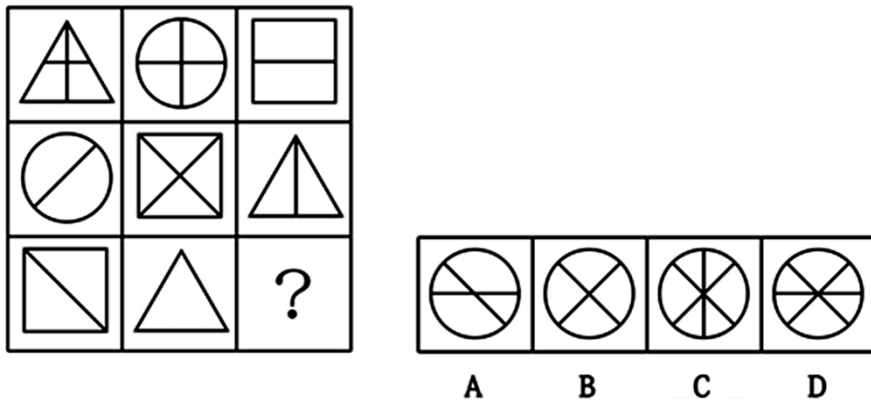


【答案】A。解析：

观察可见，每行题干图形中的封闭空间数分别为，第一行：3、4、5；第二行：4、5、6；第三行：5、6、（7）。按照这个规律，填入问号处的图形中应该有7个封闭空间。C、D两项中均有8个封闭空间，不符合要求，排除。但A、B两项中均有7个封闭空间，无法区分。

进一步观察可见，每行题干图形中线段条数分别为，第一行：2、3、4；第二行：4、5、6；第三行：6、7、（8）。按照这个规律，填入问号处的图形中应该有8条线段。B项中只有7条线段，不符合要求，排除。
 所以，正确选项是A。

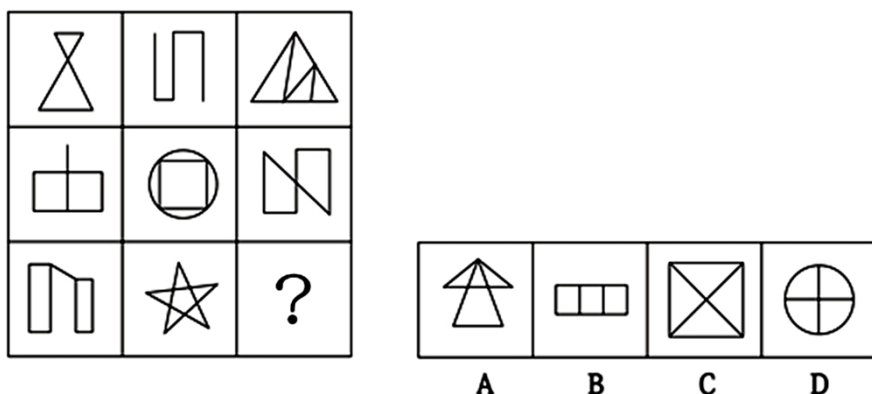
102. 选择最合适的一项填入问号处，使之呈现一定的规律性。



【答案】B。解析：

观察可见，每列图形的外框均有三角形、圆形、方形三种，其内部线条均有“—”、“|”、“\”、“/”四种方向。按照这个规律，填入问号处的图形中应该有“\”、“/”两种方向的线条，只有B项符合要求。
 所以，正确选项是B。

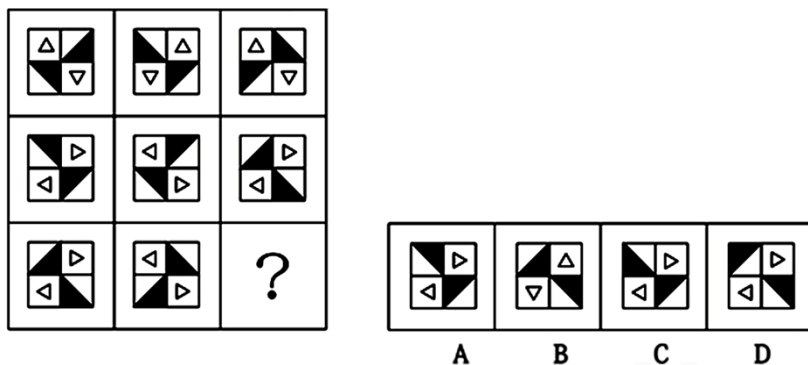
103. 选择最合适的一项填入问号处，使之呈现一定的规律性。



【答案】A。解析：

观察可见，所有题干图形都是一笔画。选项中只有 A 项图形是一笔画。所以，正确选项是 A。

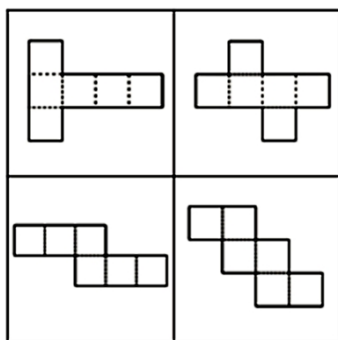
104. 选择最合适的一项填入问号处，使之呈现一定的规律性。



【答案】A。解析：

观察可见，每行题干图形的第一个图形左右翻转可以得到第二个图形，第二个图形再上下翻转可以得到第三个图形。按照这个规律，只有 A 项符合要求。所以，正确选项是 A。

105. 下列四块纸板均由六个正方形组成，问沿虚线折叠能形成立方体的有几个。



A. 1 B. 2 C. 3 D. 4

【答案】B。解析：

本题问“沿虚线折叠，能形成立方体的有几个？”所给题干图形的下面两个图形中没有虚线，不符合“沿虚线折叠”的要求，排除。

根据“相间排列”或者“Z 字形两端”的两个面是相对面，可以发现，带虚线的两个题干图形，都能找出 3

组相对面，也就是都能折成立方体。也就是说，有两块纸板沿虚线折叠，能形成立方体。

所以，正确选项是 B。

四、逻辑判断。每道题给出一段陈述，这段陈述被假设是正确的，不容置疑的。要求你根据这段陈述，选择一个答案。注意：正确的答案与所给的陈述相符合，不需要任何附加说明即可以从陈述中直接推出。

106. 有甲、乙、丙、丁四人，如果甲炒股，那么乙、丙、丁也都炒股。

如果上述断定为真，那么以下哪项一定也为真？

- A. 如果甲没有炒股，那么乙、丙、丁也没有炒股
- B. 如果甲没有炒股，那么乙、丙、丁中至少有一人没有炒股
- C. 如果乙、丙、丁都炒股，那么甲也炒股
- D. 如果丁没有炒股，那么甲和乙至少有一人没有炒股

【答案】D。解析：

本题属于“逻辑推理型”。

题干是充分条件假言命题，据此进行的推理只有“肯定前件式”和“否定后件式”。

A、B 两项都是否定前件，得不到必然结论，排除；C 项是肯定后件，也得不到必然结论，排除。

所以，正确选项是 D。

107. 曹操又称魏武王，河南安阳西高穴大墓中出土了刻有“魏武王格虎大戟”的石碑以及刻有“魏武王常用魏项石”的石枕等随葬品。所以西高穴大墓就是曹操墓。

如果下列哪项为真，最能加强上述推断：

- A. 随葬品是证明墓穴墓主身份的重要证据
- B. 如果在墓穴中没有发现刻有“魏武王”之类字样的随葬品，就不能证明该墓穴是曹操墓
- C. 只有在墓穴中发现刻有“魏武王”之类的字样的随葬品，才能证明该墓穴是曹操墓
- D. 只要在墓穴中发现刻有“魏武王”之类字样的随葬品，那么该墓穴就是曹操墓

【答案】D。解析：

本题属于“搭桥型”。

题干的论点是：西高穴大墓就是曹操墓。

论据是：墓中出土了刻有“魏武王格虎大戟”的石碑以及刻有“魏武王常用魏项石”的石枕等随葬品。

难道墓中出土了刻有“魏武王格虎大戟”的石碑以及刻有“魏武王常用魏项石”的石枕等随葬品，就一定得出“西高穴大墓就是曹操墓”这个结论吗？二者之间显然没有必然联系。要在论据与结论之间“搭桥”，关键是要在“发现刻有‘魏武王’之类字样的随葬品”与“该墓穴是曹操墓”之间建立起必然联系。

明确建立这个联系的 D 项。D 项说：只要在墓穴中发现刻有“魏武王”之类字样的随葬品，那么该墓穴就是曹操墓。这是一个充分条件假言命题，结合题干中的论据：墓中出土了刻有“魏武王格虎大戟”的石碑以及刻有“魏武王常用魏项石”的石枕等随葬品，根据充分条件假言推理的“肯定前件式”，就必然得出了“该墓穴是曹操墓”的结论。这就直接加强了题干的论证。

所以，正确选项是 D。

108. 某工厂的生产线会排放大量废弃物导致大气污染，为了迫使该工厂改变生产流程，减少污染，当地居民决定对该厂销量最大的产品——荧光灯进行联合抵制。因为居民们认为对销售量最大的产品进行抵制能够最大程度地降低该厂的利润。

以下哪项如果为真，最能质疑上述推论？

- A. 联合抵制行动仅考虑产品的销售量，无法推断其相应的利润
- B. 联合抵制行动没有考虑该工厂改变生产流程的可能途径等信息
- C. 联合抵制行动没有涉及可以使得该工厂改变生产流程的其他方法

D. 居民通过联合抵制的方式，想要达到目的需要花费很长时间

【答案】A。解析：

本题属于“削弱型”。

题干的论点是：居民对对荧光灯进行联合抵制。

论据是：居民们认为对销售量最大的产品进行抵制能够最大程度地降低厂的利润。

题目要求考生做的，就是从四个备选项中找出一个“唱反调”的选项来对题干陈述的论证进行反驳，从而使其不能成立。怎样才能使题干的论证不能成立呢？只要指出“居民的联合抵制”并不能“降低该厂利润”就可以了。

A 项说“联合抵制行动仅考虑产品的销售量，无法推断其相应的利润”（隐含：“居民的联合抵制”并不一定能“降低该厂利润”）。如果 A 项为真，那么就直接削弱了题干的结论。

所以，正确选项是 A。

109. 近年来，学术不端甚至学术腐败现象愈演愈烈。有些人剽窃他人研究成果，有些人编造实验数据，有些人私自拿患者做实验，不仅丧失了学者的底线，甚至是连最起码做人底线都没有了。身为学者的李教授对此感到非常痛心，他认为学术腐败已经到了非惩治不可的地步。但是同样身为学者的妻子说：“我不同意你的观点，我们学院的张教授治学严谨，他从来没有学术不端的行为。”

以下哪项最能反驳李教授妻子的观点：

- A. 惩治学术腐败光靠榜样的力量是不够的，更需要法律的约束
- B. 张教授也可能存在学术不端行为，只是没有被发现而已
- C. 作为一名公共知识分子，张教授要注意自己在公众面前的正面形象
- D. 张教授的情况属于个别案例，并不能反驳带有普遍性的某种规律

【答案】D。解析：

本题属于“削弱型”。

李教授妻子的论点是：学术腐败没有到非惩治不可的地步。

论据是：我们学院的张教授治学严谨，他从来没有学术不端的行为。

题目要求考生做的，就是从四个备选项中找出一个“唱反调”的选项来对李教授妻子的论证进行反驳，从而使其不能成立。怎样才能使李教授妻子的论证不能成立呢？只要切断其论点与论据之间的联系就可以了。

明确切断二者之间的联系只有 D 项。D 项说：张教授的情况属于个别案例，并不能反驳带有普遍性的某种规律。（隐含：并不能用张教授的孤证，反驳“学术腐败没有到非惩治不可的地步”）。这就直接削弱了李教授妻子的论证。

所以，正确选项是 D。

110. 雪豹属于世界级濒危物种，国家一级保护动物，已被列入动物保护白皮书。它常栖息于 2500—5000 米人迹罕至的高原地带。但近年来，雪豹与人类邂逅的故事屡见报端，很多人觉得这是雪豹种群上升的有力证据。

以下哪项如果为真，最能反驳上述观点？

- A. 一些国家设立了保护区来保护雪豹
- B. 雪豹的生存环境不断恶化，开始进入人类的生活区觅食
- C. 有些雪豹白天也会出来活动
- D. 人类比以前更加关注雪豹的活动

【答案】D。解析：

本题属于“削弱型”。

题干的论点是：雪豹种群上升。

论据是：雪豹与人类邂逅增多。

题目要求考生做的，就是从四个备选项中找出一个“唱反调”的选项来对题干的论证进行反驳，从而使其

不能成立。怎样才能使题干的论证不能成立呢？只要切断其论点与论据之间的联系就可以了。

明确切断二者之间的联系只有 B 项。B 项说：雪豹的生存环境不断恶化，开始进入人类的生活区觅食。（隐含：雪豹与人类邂逅增多是因为环境恶化，并不是因为种群数量上升）。这就直接反驳了题干的观点。

所以，正确选项是 D。

111. 目前，我国新能源汽车推广的战略方向是在公共交通领域进行示范应用。截至 2012 年 12 月，全国约有 27800 多辆新能源汽车，其中 80% 是公交车。但是汽车生产商认为，新能源汽车在全社会的推广还是比较艰难，短期内难以大规模普及。

以下哪项如果为真，不能支持厂商的观点？

- A. 另外 20% 的新能源汽车大部分是机关单位公务用车
- B. 新能源汽车的维修网点等配套设施而不完善
- C. 新能源汽车的性能与普通汽车无异
- D. 目前公众的节能环保意识还不强

【答案】C。解析：

本题属于“最不支持型”。所谓“最不支持”，就是找出“削弱项”或者“无关项”。

题干的论点是：新能源汽车在短期内难以大规模普及。

A、B、D 三项都是从某个角度说明新能源汽车推广困难，支持厂商“新能源汽车在短期内难以大规模普及”的观点，排除。

C 项所说“新能源汽车的性能与普通汽车无异”与“新能源汽车在短期内难以大规模普及”并无必然联系，属于无关项，不构成对厂商观点的支持。

所以，正确选项是 C。

112. 某国今年来放松了对销售民用枪支的管制，枪击案发生率快速上升。据统计，大多数枪击案与合法购置的民用枪支被滥用有关。所以有人提出为减少该国的枪击案发生率，政府应该加强销售民用枪支的限制。

下列哪项最能支持上述论述？

- A. 该国走私枪支的数量远远大于合法购置的枪支
- B. 目前对枪击案罪犯的严厉惩罚没有足够的威慑力
- C. 大多数在该国销售的民用枪支的杀伤力并不大
- D. 严格限制销售民用枪支能得到国民的支持

【答案】B。解析：

本题属于“搭桥型”。

题干的论点是：政府应该加强销售民用枪支的限制。

论据是：大多数枪击案与合法购置的民用枪支被滥用有关。

难道仅仅因为“大多数枪击案与合法购置的民用枪支被滥用有关”，就一定能得出“政府应该加强销售民用枪支的限制”这个结论吗？二者之间显然没有必然联系。要在论据与结论之间“搭桥”，关键是要在“限枪”与“减少枪击案”二者之间建立起必然联系。

明确建立这个联系的 B 项。B 项说：目前对枪击案罪犯的严厉惩罚没有足够的威慑力。（隐含：打击枪击案罪犯不力，只能采取限枪的手段）。这就直接加强了题干的论证。

所以，正确选项是 B。

113. 某慈善基金会收到一名没有署名的捐款，经多方调查得知，是林川、吴飞、郑傅、郭博四人中一人中捐的，但问他们时，林川说：“我没捐”，郑傅说：“是吴飞捐的”，吴飞说：“是郭博捐的”，郭博说：“不是我捐的”。

如果四人中只有一人说了真话，则下列哪项为真？

- A. 林川说真话，是吴飞捐的
B. 林川说假话，是林川捐的
C. 吴飞说真话，是郭博捐的
D. 郑傅说假话，是郑傅捐的

【答案】B。解析：

本题属于“逻辑推理型”。

阅读题干可知，吴飞和郭博说的话之间具有矛盾关系，两句话必然一真一假，题干中唯一的一句真话必然在吴飞和郭博的话中。

由此可知：林川和郑傅说的话都是假话。林川说：“我没捐”，他说的这句话是假的，那么就是林川捐的。所以，正确选项是 B。

114. 科学家研制出一种新型纳米涂层材料，能够促使任何液体从物体表面反弹出去。例如，油类、酒、有机碱和溶剂等表面张力很低的液体洒到用这种材料制作的衣物上时，会立刻被反弹，不会弄脏衣物。因此，有商业人士预测，这种材料如果大量用于生产服装，洗涤剂的销量将大幅下降。

以下哪项如果为真，不能质疑该商业人士的预测？

- A. 消费者使用洗涤剂往往还因为洗涤剂具有消毒的功效
B. 这种涂层材料将影响服装穿着舒适度，从而影响服装的销量
C. 该研究成果商业化还需要相当长的一段时间
D. 人们习惯于根据穿着时间来洗衣服，无论衣服是否已经被弄脏

【答案】C。解析：

本题属于“最不削弱型”。所谓“最不削弱”，就是选择对该商业人士预测的“支持项”，或者选择“无关项”。

该商业人士的预测是：如果新型纳米涂层材料大量用于生产服装，洗涤剂的销量将大幅下降。

论据是：新型纳米涂层材料，能够促使任何液体从物体表面反弹出去……不会弄脏衣物。

A 项中的“消费者使用洗涤剂往往还因为洗涤剂具有消毒的功效”（隐含：人们需要洗涤剂的消毒功能，因此洗涤剂的销量不会大幅下降），质疑了商业人士的预测，排除；

B 项中的“这种涂层材料将影响服装穿着舒适度，从而影响服装的销量”（隐含：人们主要还是购买传统衣服，需要洗涤剂，因此洗涤剂的销量不会大幅下降），质疑了商业人士的预测，排除；

C 项中的“该研究成果商业化还需要相当长的一段时间”（隐含：在这种涂层材料商业化以后，洗涤剂的销量将会大幅下降），支持了商业人士的预测；

D 项中的“人们习惯于根据穿着时间来洗衣服，无论衣服是否已经被弄脏”（隐含：人们依然需要洗涤剂，因此洗涤剂的销量不会大幅下降），质疑了商业人士的预测，排除。

所以，正确选项是 C。

115. 某校报受学生会委托，在全校师生中进行抽样调查，推选最受欢迎的学生会干部，结果姚俊得到 65% 以上的支持，得票最多，据此学生会认为最受欢迎的学生会干部是姚俊。

以下哪项如果为真，最能削弱学生会的结论？

- A. 这次调查大部分来自于姚俊所在的院系
B. 多数被调查者并不关注学生会成员及其工作
C. 该校师生中有部分人没有在调查中发表自己的意见
D. 这次调查问卷在设计上把姚俊放在了调查首位

【答案】D。解析：

本题属于“削弱型”。

题干的论点是：最受欢迎的学生会干部是姚俊。

论据是：姚俊得票最多。

题目要求考生做的，就是从四个备选项中找出一个“唱反调”的选项来对题干的论证进行反驳，从而使其

不能成立。怎样才能使题干的论证不能成立呢？只要指出“姚俊得票最多”与“最受欢迎的学生会干部是姚俊”之间没有必然联系就可以了。

明确切断二者之间的联系只有 A 项。A 项说：这次调查大部分来自于姚俊所在的院系（隐含：姚俊的得票不符合抽样调查的科学原则）。这就直接削弱了学生会结论的论据。

所以，正确选项是 D。

第五部分 资料分析

所给出的图、表、文字或综合性资料均有 5 个问题要你回答，请你根据资料所提供的信息进行分析、比较、计算和判断处理。

一、根据下列资料，回答问题。

公立医院服务费用情况

单位：元，%

年份	次均门诊费用			人均住院费用		
	费用额	药费占比	检查费占比	费用额	药费占比	检查费占比
2008	138.8	43.2	18.3	5363.3	43.8	6.7
2009	152.5	44.4	18.2	5856.2	43.9	7.0
2010	167.3	48.5	18.4	6415.9	43.4	7.2
2011	180.2	51.5	18.5	6909.9	42.2	7.5
2012	193.4	51.3	18.7	7325.1	41.3	7.7

基层医疗机构服务费用情况

单位：元，%

年份	社区卫生服务中心				乡镇卫生院			
	次均门诊费	药费占比	人均住院费	药费占比	次均门诊费	药费占比	人均住院费	药费占比
2008	87.2	72.2	2514.2	47.9	42.5	60.7	790.8	51.1
2009	84.0	71.4	2317.4	49.0	46.2	62.3	897.2	53.5
2010	82.8	70.9	2357.6	49.3	47.5	60.4	1004.6	52.3
2011	81.5	67.4	2315.1	45.8	47.5	53.3	1051.3	40.8
2012	84.6	69.1	247.9	46.5	49.2	54.8	1140.7	46.0

116. 公立医院人均住院费用中，药费最多的那一年的药费约是：

- A. 2570.9 元 B. 2784.5 元 C. 2916.0 元 D. 3025.6 元

【答案】D。解析：

第一步，明确问题。求“公立医院人均住院费用中，药费最多的那一年的药费是多少”。

第二步，定位数据。表一“人均住院费用”中“费用额”和“药费占比”两列的数据。

第三步，估算：

药费=人均住院费用×(药费所占比重)。

根据表 1，2012 年的“费用额”明显最高。则 2012 年的药费为：7325.1×41.3%>3000（元）。

与 D 项的数据最为接近。

所以，正确选项是 D。

117. 2008—2012 年，公立医院次均门诊费用的年均增长率与下列哪个最接近？

- A. 8.6% B. 9.2% C. 9.7% D. 10.2%

【答案】A。解析：

第一步，明确问题。求“2008—2012年，公立医院次均门诊费用的年均增长率”。

第二步，定位数据。表一“次均门诊费用”中“费用额”列的数据。

第三步，估算：

设4年间公立医院次均门诊费用的年均增长率为 $x\%$ 。根据表1，则有： $138.8 \times (1+x\%)^4 = 193.4$ 。

解得： $x\% \approx 8.6\%$ 。

所以，正确选项是A。

118. 2012年，社区卫生服务中心的次均门诊费比乡镇卫生院多：

A. 14.3元

B. 26.8元

C. 35.4元

D. 39.6元

【答案】C。解析：

第一步，明确问题。求“2012年，社区卫生服务中心的次均门诊费比乡镇卫生院多多少元”一项。

第二步，定位数据。表2中的数据。

第三步，估算：

直接从表2中读取数据可知，2012年，社区卫生服务中心的次均门诊费比乡镇卫生院多： $84.6 - 49.2 = 35.4$ （元）。

所以，正确选项是C。

119. 2009—2012年，乡镇卫生院人均住院费同比增长超过9%的有：

A. 1个

B. 2个

C. 3个

D. 4个

【答案】B。解析：

第一步，明确问题。求“2009—2012年，乡镇卫生院人均住院费同比增长超过9%的有”。

第二步，定位数据。表2中的数据。

第三步，估算：根据表2，乡镇卫生院人均住院费同比增长为：

2009年： $(897.2 - 790.8) \div 790.8 > 10\%$ ；

2010年： $(1004.6 - 897.2) \div 897.2 > 10\%$ ；

2011年： $(1051.3 - 1004.6) \div 1004.6 < 9\%$ ；

2012年： $(1140 - 1051) \div 1051.3 < 9\%$ 。

同比增长超过9%的有2个。

所以，正确选项是B。

120. 下列说法不正确的一项是：

A. 公立医院次均门诊费用中的检查费呈逐年上升趋势

B. 公立医院人均住院费用中的检查费呈逐年上升趋势

C. 2008年，社区卫生服务中心的人均住院费是乡镇卫生院的3倍多

D. 社区卫生服务中心人均住院费中药费最多的年份与最少的年份的费用相差不足100元

【答案】D。解析：

第一步，明确问题。求“说法不正确”一项。

第二步，定位数据。本题涉及数据较多，请小心提取。

第三步，估算：

观察表1中的数据直接可知，A、B两项说法正确，排除；

C项，2008年社区卫生服务中心的人均住院费是乡镇卫生院的倍数： $2514.2 \div 790.8 > 3$ （倍）。C项说法正确。排除。

所以，正确选项是D。

二、根据下列资料，回答问题。

2013年1—10月，全国汽车商品累计进出口总额为1307.15亿美元，同比增长2.16%，同比年内首次呈现增长。其中：进口金额664.72亿美元，同比增长0.18%，结束了9月下降趋势；出口金额642.43亿美元，同比增长4.29%，增幅较前9月有所提升。

进口整车方面，1—10月，汽车整车共进口95.39万辆，同比下降1.68%；进口金额391.61亿美元，同比下降4.40%；降幅较前9月分别减缓4.39个百分点和5.30个百分点。在汽车主要进口品种中，越野车进口40.21万辆，同比增长4.80%；轿车进口34.65万辆，同比下降10.51%；小型客车进口17.70万辆，同比增长17.77%。上述三大类汽车品种共进口92.56万辆，占汽车进口总量的97.03%。

出口整车方面，1—10月，汽车整车共出口78.12万辆，同比下降8.25%；出口金额104.97亿美元，同比下降7.67%。在汽车主要出口品种中，轿车出口34.44万辆，同比下降17.40%；载货车出口24.16万辆，同比下降10.50%；客车出口13.69万辆，同比增长33.36%。上述三大类汽车品种共出口72.29万辆，占汽车出口总量的92.54%。

此外，1—10月摩托车累计出口829.86万辆，同比增长2.70%；累计出口金额44.20亿美元，同比增长4.80%。

121. 2012年1—10月，全国汽车商品累计进口额约为：

- A. 616 亿美元 B. 664 亿美元 C. 666 亿美元 D. 1280 亿美元

【答案】B。解析：

第一步，明确问题。求“2012年1—10月，全国汽车商品累计进口额约为多少亿美元”。

第二步，定位数据。资料第一段：2013年1—10月，全国汽车商品累计……进口金额664.72亿美元，同比增长0.18%。

第三步，估算：

根据现期量求基期量=664.72÷(1+0.18%)≈664(亿美元)。

所以，正确选项是B。

122. 2013年1—10月，越野车进口数量约占汽车整车进口量的：

- A. 19% B. 36% C. 42% D. 48%

【答案】C。解析：

第一步，明确问题。求“2013年1—10月，越野车进口数量约占汽车整车进口量的百分比”。

第二步，定位数据。资料第二段：进口整车方面，1—10月，汽车整车共进口95.39万辆，……在汽车主要进口品种中，越野车进口40.21万辆……。

第三步，估算：

求现期量比重=40.21÷95.39≈42%。

所以，正确选项是C。

123. 2013年1—10月，全国汽车整车出口金额比整车进口金额：

- A. 多22.29亿美元 B. 少22.29亿美元 C. 多286.64亿美元 D. 少286.64亿美元

【答案】C。解析：

第一步，明确问题。求“2013年1—10月，全国汽车整车出口金额与整车进口金额相比的情况”。

第二步，定位数据。资料第二段：进口整车方面，1—10月，汽车整车共进口95.39万辆，……进口金额391.61亿美元。

第三段：出口整车方面，1—10月，汽车整车共出口78.12万辆，……出口金额104.97亿美元。

第三步，估算：

391.61-104.97=286.64(亿美元)。

所以，正确选项是C。

124. 2013 年 1—10 月，汽车整车出口的平均单价约为：

- A. 1.34 万美元 B. 2.29 万美元 C. 3.61 万美元 D. 4.1 万美元

【答案】A。解析：

第一步，明确问题。求“2013 年 1—10 月，汽车整车出口的平均单价约为多少万美元”。

第二步，定位数据。资料第三段：出口整车方面，1—10 月，汽车整车共出口 78.12 万辆，同比下降 8.25%；出口金额 104.97 亿美元。

第三步，估算：

汽车整车出口的平均单价=104.97÷78.12=1.34（万美元）。

所以，正确选项是 A。

125. 以下说法不正确的一项是：

- A. 2013 年 1—10 月，轿车进口数量比出口数量略多
 B. 2013 年 1—10 月，摩托车出口的平均单价同比有所下降
 C. 2013 年 1—10 月，汽车整车的进出口数量同比都有所下降
 D. 2013 年 1—10 月，摩托车累计出口数量比上年同期约增加了 22 万辆

【答案】B。解析：

第一步，明确问题。求“说法不正确的一项”。

第二步，定位数据。本题涉及数据较多，请小心提取。

第三步，估算：

A 项，根据资料中数据可知，轿车进口数量比出口数量略多，说法正确，排除；

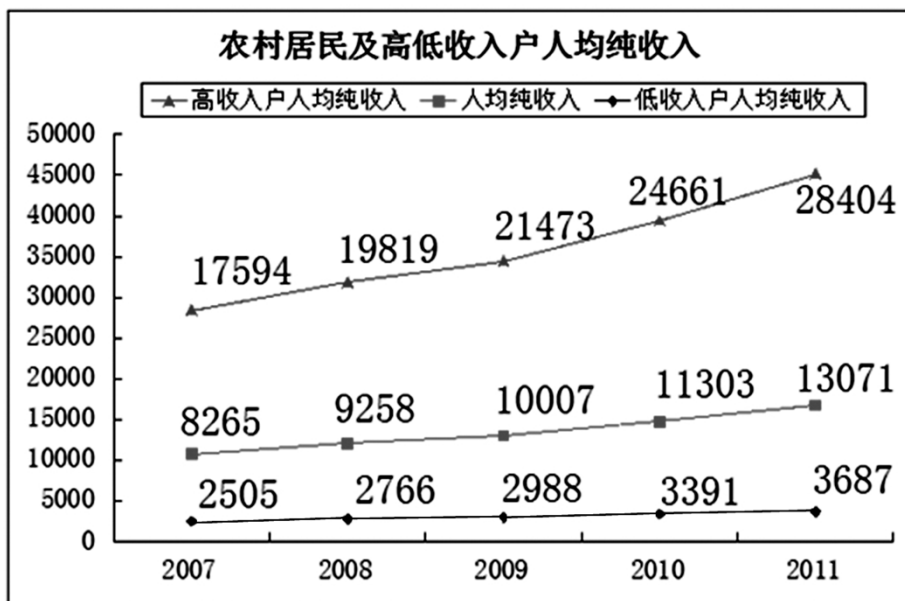
B 项，摩托车出口的平均单价=出口金额÷出口量，其中出口金额的增长率为 4.8%，出口量增长 2.7%，所以单价会上升，说法不正确；

C 项，根据资料中数据可知，汽车整车的进口数量同比都有所下降，说法正确，排除；

D 项，2013 年 1—10 月，摩托车累计出口数量 829.86 万辆，同比增长 2.70%，比上年同期增加了 829.86×2.70%≈22（万辆），说法正确，排除。

所以，正确选项是 B。

三、根据下列资料，回答问题。



2011年农村家庭收入结构 单位：元

	平均	按人均纯收入等级分组				
		低收入户	次低收入户	中等收入户	次高收入户	高收入户
人均纯收入	13071	3681	8111	11582	15814	28404
人均工资性收入	6878	2309	4557	7089	9754	11439
人均家庭经营收入	4872	283	2727	3449	4921	14281
人均财产性收入	553	500	152	304	438	1510
人均转移性收入	767	595	676	740	701	1174

126. 2011年，农村居民高收入户人均纯收入的同比增长幅度约比低收入户人均纯收入的同比增长幅度高：
 A. 6个百分点 B. 9个百分点 C. 12个百分点 D. 15个百分点

【答案】A。解析：

第一步，明确问题。求“2011年，农村居民高收入户人均纯收入的同比增长幅度约比低收入户人均纯收入的同比增长幅度高多少个百分点”。

第二步，定位数据。统计图中2011年、2010年的数据。

第三步，估算：

农村居民高收入户人均纯收入的同比增长幅度为： $(28404-24661) \div 24661 \approx 15\%$ 。

农村居民低收入户人均纯收入的同比增长幅度为： $(3687-3391) \div 3391 \approx 9\%$ 。

$15\% - 9\% \approx 6\%$ 。

所以，正确选项是A。

127. 2011年，农村居民高收入户的人均工资性收入约是低收入户的：

A. 4.68倍 B. 4.95倍 C. 5.12倍 D. 5.37倍

【答案】B。解析：

第一步，明确问题。求“2011年，农村居民高收入户的人均工资性收入约是低收入户的多少倍”。第二步，定位数据。表格中的数据。第三步，估算：

直接从表格中读数计算为： $11439 \div 2309 \approx 4.9$ （倍）。

所以，正确选项是B。

128. 2008—2011年内，低收入户人均纯收入与上年相比增长最快的年份是：

A. 2008年 B. 2009年 C. 2010年 D. 2011年

【答案】C。解析：

第一步，明确问题。求“2008—2011年内，低收入户人均纯收入与上年相比增长最快的年份”。

第二步，定位数据。统计图中低收入户人均纯收入的数据。

第三步，估算：

根据折线图，低收入户人均纯收入与上年相比增长，2008年为： $(2766-2505) \div 2505$ ；2009年为： $(2988-2766) \div 2766$ ；2010年为： $(3391-2988) \div 2988$ ；2011年为： $(3687-3391) \div 3391$ 。

不需要精确计算，估算可知，2010年市低收入户人均纯收入与上年相比增长最快的年份。

所以，正确选项是C。

129. 2011年，低收入户与高收入户相比，收入结构中相差最大的是：

- A. 人均工资性收入 B. 人均家庭经营收入 C. 人均财产性收入 D. 人均转移性收入

【答案】B。解析：

第一步，明确问题。求“2011年，低收入户与高收入户相比，收入结构中相差最大的”一项。

第二步，定位数据。表格中的数据。

第三步，估算：

通过阅读表格可以直接知道：2011年，低收入户与高收入户相比，收入结构中“人均家庭经营收入”相差最大。

所以，正确选项是B。

130. 下列说法不正确的一项是：

- A. 2007—2011年，农村低收入户的人均纯收入与高收入户的差距呈扩大趋势
B. 2011年，只有高收入户的人均转移性收入超过了农村家庭的人均转移性收入
C. 2011年，各收入等级分组中，人均工资性收入占人均纯收入的比例均为最大
D. 2011年，在低收入户中，人均家庭经营收入占人均纯收入的比例最低

【答案】B。解析：

第一步，明确问题。求“说法不正确的一项”。

第二步，定位数据。本题涉及数据较多，请小心提取。

第三步，估算：

A项，根据折线图可知，农村低收入户的人均纯收入与低收入户的差距呈扩大趋势。说法正确，排除。

B项，2011年只有高收入户均转移性收入（1174元）超过了农村家庭的人均转移性收入（767元）。说法正确，排除。

C项，根据表格数据，高收入户人均工资性收入低于人均家庭经营收入，所占比例不是最大。说法是错误的。

D项，根据表格数据，人均家庭经营收入均低于其他人均收入，故占人均收入的比例最低。说法正确，排除。

所以，正确选项是B。

全部测验到此结束！

请扫描QQ二维码，备注“公务员考生”加QQ
好友，获取曹长远老师精解历年公务员考试申论、
行测、面试真题完整解析资料。

精品资料，尽在掌握！



扫描二维码，加QQ好友