

## 2012年3月3日浙江公务员考试

# 《行政职业能力测验》真题

### 说明

这项测验共有五个部分，140道题，总时限为120分钟。各部分不分别计时，但都给出了参考时限，供你参考以分配时间。

请在机读答题卡上严格按照要求填写好自己的姓名、报考部门，涂写准考证号。

特别提醒你注意，涂写答案时一定要认准题号。

严禁折叠答题卡！

## 第一部分 言语理解与表达

(共40题，参考时限35分钟)

每道题包含一个句子或一段话，后面是一个不完整的陈述，要求你从四个选项中选出一个来完成陈述，你的选择应与所提要求最相符合。

1. 房产税并非能直接降低房价，但是对房价预期起作用，\_\_\_\_\_在于建立合理的长效税收机制，对于促进商品房市场机制的形成必不可少。今后应征收存量房产税，以逐步\_\_\_\_\_土地出让金，这一步应及早进行。  
A. 目的 废除                      B. 意义 取代                      C. 影响 废止                      D. 价值 取消
2. 收藏家从来不是将艺术品作为商品来对待的人，对他们而言，收藏\_\_\_\_\_是一种暂时性的投资，\_\_\_\_\_是一种激情：艺术的激情，物质的激情，历史的激情，占有的激情。正是这种激情重新改写了艺术品的意义。  
A. 与其说 不如说                      B. 不仅 而且                      C. 尽管 然而                      D. 哪怕 也
3. 一个人拥有包容心态，在为人处事时就不会\_\_\_\_\_，也不会卑躬屈膝，他会平心静气，拒绝浮华，兼收并蓄，包容万物。  
A. 目空一切                      B. 盛气凌人                      C. 狂妄自大                      D. 仗势欺人
4. 关于兰州拉面用“食用胶”使面条筋道的报道，再一次\_\_\_\_\_了公众对于“食品添加剂”敏感的神经。“吃一碗面等于吃掉一只塑料袋”的恐吓，成功地煽起了公众的\_\_\_\_\_——这再次凸显，我们的记者亟需提升基本的科学素养。  
A. 震动 惊慌                      B. 触动 慌乱                      C. 拨动 恐慌                      D. 惊动 恐惧
5. 似曾相识的故事，只要你静心观察，就在我们生活周遭日复一日\_\_\_\_\_地演出。人生旅途看起来纷繁纷沓，置身其中才知那是独来独往的终身体验——沿途的浮光掠影，何尝不是为了成就我们或丰饶或\_\_\_\_\_的内在？  
A. 单一式 单薄                      B. 木偶式 贫穷                      C. 平面化 骨感                      D. 机械化 贫瘠
6. 在深刻变化的社会转型期，思想观念多样多元多变，一些领域道德\_\_\_\_\_，一些社会成员人生观、价值观扭曲，这是文艺工作者必须面对的时代\_\_\_\_\_；如何实现文艺的社会价值，净化心灵，烛照前行，这是文艺工作者必须回答的时代\_\_\_\_\_。  
A. 失当 背景 主题                      B. 缺失 环境 议题                      C. 失范 场景 命题                      D. 缺乏 境况 问题
7. 这首\_\_\_\_\_的山西民歌，将男女之爱，离情别绪与人生苦情一并抒发，以凄婉的歌声，揭开了移民史上\_\_\_\_\_的一页，饱含着时代的沧桑。  
A. 脍炙人口 波澜壮阔                      B. 脍炙人口 气势磅礴                      C. 喜闻乐见 浩浩荡荡                      D. 喜闻乐见 沧海桑田
8. 领导人下台只是危机的一个后果，并非医治危机的良药。欧洲依然在艰难\_\_\_\_\_，并试图寻求外界的援助，但是大西洋对岸的美国盟友已经\_\_\_\_\_，有实力施以援手的是在欧亚大陆另一端的中国。  
A. 挣扎 形影相吊                      B. 踟蹰 焦头烂额                      C. 突围 自顾不暇                      D. 徘徊 分身乏术
9. 亚当·斯密认为，人们只有享有参与到市场经济进程的\_\_\_\_\_，才会增加财富。只有在这样的背景下，人们才能寻找到他的比较优势，才能\_\_\_\_\_每个人身上的企业家禀赋。因此有人说，其实每个人都是企业家，

- 每个人都在创新，\_\_\_\_\_是我们的制度设计是否给每个人这样的机会。
- A. 自由 激活 关键      B. 保障 引发 前提      C. 权利 驱动 主要      D. 保证 释放 条件
10. 革命免不了使用暴力，免不了造成社会一定的破坏和震荡，这是\_\_\_\_\_的客观事实。有人据此否定了革命，认为革命的代价太大，不如采取和平渐进的改良方式为好，这种观点貌似有理，但它脱离具体情况抽象地议论改良和革命孰优孰劣，实则毫无意义。
- A. 不可否认      B. 毋庸讳言      C. 不言而喻      D. 无可争辩
11. 有的人藐视一切他们弄不懂的事物，以\_\_\_\_\_来掩盖自己的\_\_\_\_\_。
- A. 无畏 平庸      B. 愚昧 自负      C. 轻蔑 无知      D. 不屑 自卑
12. 我国传统法律文化中确实存在大量与现代法治\_\_\_\_\_的消极因素，它们严重阻碍了法律文化传统的自我更新，但同时，我们不能因为就简单否定其全部价值，毕竟，“传统是历史和文化的积淀，只能更新，不能铲除，失去传统就失去了民族文化的特点，就失去了前进的历史与文化的基础”。
- A. 大相径庭      B. 扞格不入      C. 背道而驰      D. 截然不同
13. 有人总是把工作当成一种负担，得过且过，搪塞敷衍，这是很可怕的，因为慢慢地你的理想就会被\_\_\_\_\_，志气就会被吞食，最终难免迷失方向，沦为平庸之辈。
- A. 磨灭      B. 摧毁      C. 丢弃      D. 消磨
14. 扬善必须抑恶，扶正自应祛邪，一个健康文明的社会当然不应让横行一方、为非作歹的黑恶势力逍遥法外，不应为毒害健康\_\_\_\_\_暴利的无良企业庇护，不应对权钱勾结贪婪摄取的腐败现象\_\_\_\_\_，不应让\_\_\_\_\_侵夺他人权益的缺德行为无所制约。
- A. 获取 漠然置之 随意      B. 获取 不闻不问 恣意  
C. 牟取 置之不理 任意      D. 牟取 麻木不仁 肆意
15. 下列词语中，加点字读音不正确的一项是：
- A. 湍 (tuān)急      B. 谲 (jué)诈      C. 木讷 (nè)      D. 牛虻 (máng)
16. 下列词语中，没有错别字的一项是
- A. 范筹 抉择 棉里藏针 望风披靡      B. 防害 亟待 徇私枉法 挺而走险  
C. 枯躁 脉络 投鼠忌器 因噎费食      D. 怂恿 羁绊 阴谋诡计 同仇敌愆
17. 下列句子中，加点的成语使用不恰当的一项是：
- A. 不到实际中去调查，光靠少数人苦心孤诣，是解决不了问题的。  
B. 假如每个人都能见贤思齐，以人之长补己之短，那么我们的生活将变得愈加美好。  
C. 永远不要对他人的苦难无动于衷，因为谁也无法保证下一个不是你。  
D. 顶尖人才大多不是培养出来的，这是一个耳顺之年的老教师最爱讲的话。
18. 下列句子中，句意明确，没有语病的一项是：
- A. 王教授仔细分析了那两套应急方案，反复斟酌后说：“要是如果让我选择的话，我选第一套方案。”  
B. 郭美美事件引发了社会对红十字会如何化解危机、信息透明化的重要性以及商界的社会责任等各方面问题的广泛讨论。  
C. 要是一个共产党员的理想信念不坚定，那么他即使工作能力很强，也不应该被委以重任，因为他迟早会出大问题。  
D. 不同民族对“龙”的认识和联想各不相同，在很大程度上是受地理环境、民情风俗和宗教信仰等因素的影响造成的。
19. 随着经济的发展，社会化养老是大势所趋，那么，政府应不应该介入社会养老保险？在政府介入社会养老保险的理由这个问题上，存在许多对立和争议。由于社会养老保险能起到“安全网”和“减震器”的作用，而且在创立之初带有明显的强制性和政府行为特征，所以许多学者将其产品（服务）属性归为中央（或地方）提供的公共产品。实际上，严格从公共产品所具有的三个特征（不可分性、非排他性和非竞争性）来考察，养老保险并非公共产品，而是具有私有产品的性质。
- 下面最符合这段文字意思的一项是：

- A. 政府应该介入社会养老保险  
B. 养老保险似乎应由市场提供  
C. 政府不应该介入社会养老保险  
D. 养老保险似乎不应由市场提供
20. ①我的食物基本都不是我自己做的，衣服更是一件都没做过。  
②用我们的专长来表达是唯一的方式——因为我们不会写鲍勃·迪伦的歌或汤姆·斯托帕德的戏剧。  
③我想大多数创造者都想为我们得以利用前人取得的成就表达感激。  
④我并没有发明我用的语言或数学。  
⑤我们很多人都想回馈社会，在这股洪流中再添上一笔。  
⑥我所做的每一件事都有赖于我们人类的其他成员，以及他们的贡献和成就。  
将以上 6 个句子重新排列，语序正确的是：  
A. ③⑥①④⑤②  
B. ⑥④③①②⑤  
C. ③④①⑥⑤②  
D. ⑥⑤②①④③
21. ①这其中一脉相承地贯穿了中国传统山水文化的精神和理念，体现了天人合一的历史文化的延续性。  
②主要原因在于历史上的杭州人将传统山水文化的理念和西湖的治理融合在一起，并将这种融合延续下来，两者缺一不可。  
③中国拥有湖泊的城市很多，但为什么城市发展景观和谐并存的鲜而有之，而尤以杭州与西湖这一例凸显了出来？  
④这种天人合一的延续性，是中国其他城市普遍缺失的。  
⑤我们翻阅西湖的历史，那就是一部保护与治理的历史，就是城市建设与景观建设相辅相成的历史。  
将以上 5 个句子重新排列，语序正确的是：  
A. ①④③⑤②  
B. ③⑤④①②  
C. ⑤①④③②  
D. ③②④①⑤
22. 面对大众文化扑面而来，我国主流文化大有力不从心，步步退缩的趋势，而面对西方强大的文化热潮，主流文化大有与“狼”共枕之感。主流文化，只有经过与狼“共枕”的温存和与狼“共舞”的较量，才能获得健康的传承基因和生命活力。  
此段文字意在说明：  
A. 主流文化备受各方的威胁，已经面临绝境  
B. 任何事物只有竞争才能生存  
C. 主流文化必须要经过与其他文化斗争才能蓬勃发展  
D. 面对大众文化与西方文化的竞争，主流文化危在旦夕
23. 如果科学追求真理但又不可能得到真理，难免导致不可知论或怀疑论的悲观论调，况且我们一旦得到真理，也就等于宣布科学的终结；但如果科学追求好的理论，我们对科学的看法就非常乐观。现在我们手中有迄今为止最好的理论，但将来还可能有更好的理论来代替它。  
根据这段文字我们可得出结论是：  
A. 科学研究不能定位于寻找真理  
B. 改掉对真理的说法是为了让人们科学的追求保持乐观  
C. 这个世界上是不存在绝对真理的  
D. 人们总是给自己很多藉口来拒绝寻找真理
24. 政府的信息发布在定位上应当有所不同，重在体现政务微博的“公共性”。在“卷心菜”事件中，“上海发布”的“公共性”体现为着力搭建城市供应与市民需求之间的关联。要让一个特大城市巨量的市民得到稳定的日常供应保障，不容易；而要让供应市民的蔬菜种植者，在“看天吃饭”的生产状态还无法改变的情况下，利益得到保障，从而维持种菜积极性和稳定性，更不容易——\_\_\_\_\_，而不是仅仅关心吃菜市民的便宜、方便，正是“卷心菜”信息发布时的公共定位。  
填入画横线部分最恰当的一句是：  
A. 切实维护好广大种菜农民的利益  
B. 同时着眼生产和消费两方面  
C. 建立起吃菜市民和种菜农民的情感关联  
D. 全面考虑“卷心菜”信息发布的作用
25. 科学是认识客观世界的动态过程。科学活动特别是现代科学活动，可以根据社会需要、已有知识的指导、前

人的经验和学科的预测而设定目标，安排计划。然而，与按既定规程动作的物质生产过程不同，\_\_\_\_\_，因而难以完全按预定的目的和计划进行，有其不确定性和强烈的探索性。

填入画横线部分最恰当的一句是：

- A. 科学活动面对的是未知的或知之较少的世界  
B. 科学活动是社会的一种精神生产  
C. 科学活动的具体形式多种多样  
D. 科学活动需要不断创新

26. 在现代民主制国家中，法律至少在形式上追求六个方面的价值目标，即平等、民主、秩序、自由和效率以及程序的正义。为了实现上述的价值或协调上述价值以充分发挥其调整社会关系的功能和效率，法律必须首先确立其在社会成员中的权威，使人们自愿接受它所确立的行为规范，而要促成这种结果，就一定要依靠民主制度自身的建设。民主愈发达，就愈能有效地控制权力的滥用和特权的滋生，这将为法律的使用和遵守提供良好的政治环境和社会环境，法律也因此而更加具有权威性和有效性。

这段文字意在说明：

- A. 民主是现代法最核心的价值目标  
B. 民主是实现现代法价值的前提和基础  
C. 民主决定现代法的发展方向  
D. 民主是现代法的威力与作用的保障
27. 文化“必定有异”，文明“难免有异”；文化“必须有异”，文明“可以存异”。这就是文化与文明的区别。所以，文化可以交流，甚至融合，但最终“存异”。文明的去向，却是“求同”。因为文明的背后，是核心价值；而只有人类共同的价值，才最有价值。由此可见，只要把握了全人类的共同价值，又能兼收并蓄各民族的不同文化，就能打造出自己的“文化航母”。

根据这段文字，不能得出的观点是：

- A. “求同”是打造文化航母的根本  
B. 文化对“异”的包容程度要宽于文明  
C. 世界文明存在着不同价值取向  
D. 文化即使融合也难以消除差异
28. 在信仰崩溃的时代，那些佯癫装疯的狂人倒是一些太严肃地对待其信仰的人。鲁迅深知此中之理，说嵇康、阮籍表面上毁坏礼教，实则倒是太相信礼教，因为不满意当权者利用和亵渎礼教，才以反礼教行为发泄内心愤想。其实，在任何信仰体制之下，多数人并非真有信仰，只是做出相信的样子罢了。于是，过分认真的人就起而论究是非，阐释信仰之真谛，结果被视为异端。

对这段文字主要意思概括最恰当的一项：

- A. 真正有信仰的人并不多  
B. 真正有信仰者往往是那些被视为异端的人  
C. 把信仰太当回事会使人行为不正常  
D. 很多自称有信仰的人只是徒有其名
29. 纵然有一百个理由为职业“光环”褪色而辩解，更有一万个理由要求这个职业不能踩踏底线、弃守底线，不管是搬出为了生存的经济理由，还是将良知的缺失归咎为体制的束缚，将一切推责给外部的环境，都是对职业伦理的戕害。

这段文字意在说明：

- A. 体制的束缚是职业伦理的主因  
B. 体制伦理受损一般源于职业“光环”的褪色  
C. 任何时候都不能突破职业道德底线  
D. 弃守底线者总会给自己找借口
30. 在几千年的历史中，我们始终没有断过敌人，东南西北，四面都有。虽然有的当年的敌人今天可能已融入中华民族之中，但是在当年他们只能算是敌人。我们决不能把古代史现代化，否则我们的苏武、岳飞、文天祥等一大批著名的爱国者，就都被剥去了爱国的光环，成为内战的牺牲者。

这段文字的主旨是：

- A. 民族英雄都是爱国者  
B. 内战和统一的交替是历史发展的规律  
C. 不同时期的爱国主义都具有狭隘性  
D. 不能因历史变迁而否定民族英雄事迹
31. 现代的学术发言环境比过去好多了，可知识分子中存在一种奇怪的犬儒主义，不敢把自己的思想讲出来，唯恐得罪什么人。之所以存在这种情况，有些是过去搞怕了，有些是胆小，但你在学术界，不把真正的问题讲出来，看脸色行事，是做不成学问、搞不成研究的。

对这段文字的主要意思概括最恰当的一项是：

- A. 做学问要敢于挑战权威  
B. 没有骨气的人成不了学术大家

- C. 敢于表达自己的思想才能做好学问  
D. 学术环境是影响学术成就的重要因素
32. 第二次世界大战后，多数先进国家的行政重心逐渐向社会福利管理转移，它们的人口基础管理，普遍形成了一种以“人口服务”为主的新体制。这种体制并没有放弃人口的管控，只是这种管控的核心目标是人口服务，基本手段是人口服务，表现形式也是人口服务，它将管控寓于服务之中，而不是相反。我国社会转型下的人口管理，显然也面临着类似的调整。  
以下表述与这段文字意思不相符的是：  
A. 我国的人口管理应确立人口服务的管理宗旨  
B. 人口管控与人口服务是完全不同的两种模式  
C. 先进国家的人口管理转型是行政重心转移的结果  
D. 人口管理的新体制通过人口服务实现人口管控
33. 世界是由无数具体事物及其联系构成的有机整体。按照认识的顺序，人们的认识是从具体的、个别的、有限的事物开始，然而人的思维本性总是不满足于对具体事物的个别方面或局部的支离破碎的认识，不愿意停留在“管中窥豹，只见一斑”的状态。人们孜孜不倦地探索诸多看似孤立的事物背后的内在联系，苦苦寻找那种把自然界、人类社会和人的精神世界统一起来并起支配作用的内在联系，这种形而上的思考就是哲学思考，自古至今，从未中断。  
对这段文字的主要意思概括最恰当的一项是：  
A. 哲学思考追求整体性  
B. 哲学思考意在揭示事物的本质  
C. 哲学思考具有连续性  
D. 哲学思考以抽象思维为主导
34. 在中国文化的剧烈冲击下，佛教如果不能适应现实情况，必然不能在中国立定脚跟，于是佛教只能作出一些伪装，以求得生存。早期佛典中有些地方特别强调“孝”字，就是歪曲原文含义以适应中国浓厚纲纪色彩文化的要求。  
对这段文字的主要意思概括最恰当的一项是：  
A. 佛教是一个适应性很强的宗教  
B. “孝”是佛典发展过程中衍生出来的要义之一  
C. 佛学在中国传统文化传承中的影响较深  
D. 传统文化力量迫使佛教在传播中采取了变通策略
35. 君子所见无不善，小人所见无不恶。拾荒的陈阿姨并不像一些人那样，将帮助别人这种再简单不过的事情也想象得那样复杂、可怕。作为一个真正富有正义感的人，不会在助人为乐之前就考虑自己做了好事是不是会被冤枉，为自己寻找一个不作为的借口。举手之劳怎么却变得如此艰难，要不要扶起倒地的弱者似乎成了今天一个重要的社会问题。  
这段文字意在说明：  
A. 要积极营造助人为乐的社会环境  
B. 有正义感的人做好事时不会考虑得失  
C. 遇到弱者需要帮助时，我们应伸出援助之手  
D. 当今社会缺乏正义感，出现了道德危机
36. 汶川地震一开始测定是 7.8 级，过了两三天之后，修订为 8.0 级，这是因为随着地震以后我们获取的地震记录资料的增多，不光是国内的，包括国际上的各方面地震资料增多以后，得到进一步准确的结果。至于各个国家测定的震级有差别，是由于各个国家所用的地震台网观测资料的差别。另外一个原因，地震震级还有很多不同的类型，我们现在测的里氏 8.0 级是面波震级，还有利用破裂的错动量和破裂长度等来测定的，产生地震波测定的，叫矩阵级，类型不同，给出的数字也有一些差别。这也是经常会发现不同的国家对同一个地震给出的震级有差别的原因。  
根据以上文字，汶川地震修订为 8.0 级的主要原因是：  
A. 各个国家所用的地震台网观测资料的差别  
B. 利用破裂的错动量和破裂长度等来测定的  
C. 我国地震的测量技术逐步与国际先进技术相接轨  
D. 我们获取的地震记录资料的增多，使得测定更准确
37. 空中的微粒能分散照射进来的阳光，这就是为何晴朗天空是蓝色的原因。而日落表现为微红色，这是因为太阳光线穿越了更长距离的大气路程，从而只有波长更长的红光可以到达我们的跟前。这些细微的火山灰被火山喷射到了大气的同温层，之后随风向全球各地扩散。由火山喷射出来的二氧化硫能在大气中发生反应，形成硫酸盐浮质。这种独特的硫酸盐浮质，可以对阳光设置更多的穿透障碍来增强这种效果，从而使日落显得格外的红。  
以上文字主要说明的问题是：

- A. 空中的微粒能分散照射进来的阳光，使得晴朗的天空呈现蓝色  
B. 火山喷射出来的二氧化硫能在大气中发生反应，形成硫酸盐浮质  
C. 只有太阳光线中波长更长的红光可以穿越更长距离到达我们的跟前  
D. 由于火山爆发喷射物形成独特硫酸盐浮质，致使日落显得格外的红
38. 著名物理学家霍金是“太空移民”理论的倡导者，他认为：“地球生命被某一灾难消灭的危险正以前所未有的速度与日俱增，如突如其来的全球变暖、核战争、基因病毒或其它危险。”霍金的观点并不新颖，但我们必须承认他们的观察是正确的。与其他体积一样大小的星球相比，地球所拥有的适合居住的表面区域较小，可供我们居住的面积少得可怜。作者的主要观点是：  
A. 地球所拥有的适合居住的表面区域太小，抵御毁灭性灾难的能力差  
B. 突如其来的全球变暖、核战争、基因病毒或其他危险威胁人类  
C. 如果人类不能及时移民至其他星球，难免会被某一灾难消灭  
D. 地球生命被某一灾难消灭的危险正以前所未有的速度与日俱增
39. 近两年，随着国际市场能源性产品价格的持续大幅上涨，制造业的生产成本不断抬高，使得国际市场竞争激烈的各类制成品价格也开始逐步上升，价格上涨开始从上游向下游传递。与此同时，国际商品市场价格上涨也开始向各国传递，特别是能源和农产品价格大幅上涨对各国消费价格指数逐步产生明显的上升推动作用。这段文字强调的是：  
A. 国际商品市场价格上涨开始向各国国内传递      B. 价格上涨开始从制造业上游向下游传递  
C. 制造业的生产成本对各国消费价格指数的影响      D. 国际市场能源资源性产品价格对国内消费价格的影响
40. 美国科学家在一海底河床发现了一些古生物的足迹化石，经考证，留下这些足迹的生物距今 5.7 亿年，这把世界上最早的有腿生物生活的年代向前推进了 3000 万年。科学家们曾经以为，在寒武纪之前地球上主要存在的可能仅仅是一些微生物以及一些简单的单细胞动物。地球科学教授 Loren Babock 表示：“我们一直研究在埃迪卡拉纪时期出现复杂生物如软珊瑚、节肢动物及扁虫的可能性，但所得到的研究证据都不具有足够的说服力。但当我们发现了像这种利用腿走路的动物化石足迹后，该项推测的可能性就大大提高了。”  
根据这段文字，下列推断正确的一项是：  
A. 科学家们认为，在寒武纪之前地球上不可能存在生物  
B. 埃迪卡拉纪时期比寒武纪时期距离今天的时间更久远  
C. 可以肯定，5.7 亿年前的有腿生物生活在海底世界  
D. 在此之前，对有腿生物的研究仅限与微生物及单细胞动物

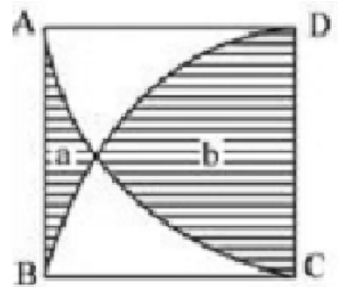
## 第二部分 数量关系

(共 15 题，参考时限 15 分钟)

**每道试题呈现一道算术题，或表述数学关系的一段文字或几何图形，要求你迅速、准确地计算出答案。**

46. 一电信公司在每晚九点到次日早七点以及周六、周日全天实行长话半价收费。请问该电信公司在一周内共有多少个小时实行长话半价收费？  
A. 114                              B. 84                              C. 98                              D. 91
47. 16 支球队分两组，每组打单循环赛，共需打 (              ) 场比赛。  
A. 16                              B. 56                              C. 64                              D. 120
48. 某小学班有 65 名同学，其中男同学有 30 人，少先队员有 45 人。如果有 12 名男同学是少先队员，则有多少名女同学不是少先队员？  
A. 2                              B. 8                              C. 10                              D. 15
49. 四个连续奇数的和为 32，则它们的积是多少？  
A. 945                              B. 1875                              C. 2745                              D. 3465
50. 某班级去超市采购体育用品时发现买 4 个篮球和 2 个排球共需 560 元，而买 2 个排球和 4 个足球则共需 500 元。问如果篮球、排球和足球各买 1 个，共需多少元？

- A. 250 元                      B. 255 元                      C. 260 元                      D. 265 元
51. 有一个长方体容器，长 40 厘米，宽 30 厘米，高 10 厘米，里面的水深 6 厘米(最大面为底面)。如果把这个容器盖紧，再竖起来(最小面为底面)，里面的水深是多少厘米?  
 A. 15 厘米                      B. 18 厘米                      C. 24 厘米                      D. 30 厘米
52. 一容器内有浓度为 30%的糖水，若再加入 30 千克水与 6 千克糖，则糖水的浓度变为 25%。问原来糖水中含糖多少千克?  
 A. 15 千克                      B. 18 千克                      C. 21 千克                      D. 24 千克
53. A、B 两地间有条公路，甲、乙两人分别从 A、B 两地出发相向而行，甲先走半小时后，乙才出发，一小时后两人相遇，甲的速度是乙的  $\frac{2}{3}$ 。问甲、乙所走的路程之比是多少?  
 A. 5 : 6                          B. 1 : 1                          C. 6 : 5                          D. 4 : 3
54. 南阳中学有语文教师 8 名、数学教师 7 名、英语教师 5 名和体育教师 2 名。现在要从以上四科教师中各选出 1 名教师去参加培训，问共有几种不同的选法?  
 A. 96 种                          B. 124 种                          C. 382 种                          D. 560 种
55. 有一个上世纪 80 年代出生的人，如果他能活到 80 岁，那么有一年他的年龄的平方数正好等于那一年的年份。问此人生于哪一年?  
 A. 1980 年                      B. 1983 年                      C. 1986 年                      D. 1989 年
56. 有编号为 1—13 的卡片，每个编号有 4 张，共 52 张卡片。问至少摸出多少张，就可保证一定有 3 张卡片编号相连?  
 A. 27 张                          B. 29 张                          C. 33 张                          D. 37 张
57. 某演唱会检票前若干分钟就有观众开始排队等候入场，而每分钟来的观众人数一样多。从开始检票到等候队伍消失，若同时开 4 个入场口需 50 分钟，若同时开 6 个入场口则需 30 分钟。问如果同时开 7 个入场口需几分钟?  
 A. 18 分钟                      B. 20 分钟                      C. 22 分钟                      D. 25 分钟
58. 一个班里有 30 名学生，有 12 人会跳拉丁舞，有 8 人会跳肚皮舞，有 10 人会跳芭蕾舞。问最多有几人会跳两种舞蹈?  
 A. 12 人                          B. 14 人                          C. 15 人                          D. 16 人
59. 有一架天平，只有 5 克和 30 克的砝码各一个。现在要用这架天平把 300 克味精分成 3 等份，那么至少需要称多少次?  
 A. 3 次                          B. 4 次                          C. 5 次                          D. 6 次
60. 如右图所示，正方形 ABCD 的边长为 5cm，AC、BD 分别是以点 D 和点 C 为圆心、5cm 为半径作的圆弧。问阴影部分 a 的面积比阴影部分 b 小多少? ( $\pi$  取 3.14)  
 A. 13.75cm                      B. 14.25cm  
 C. 14.75cm                      D. 15.25cm



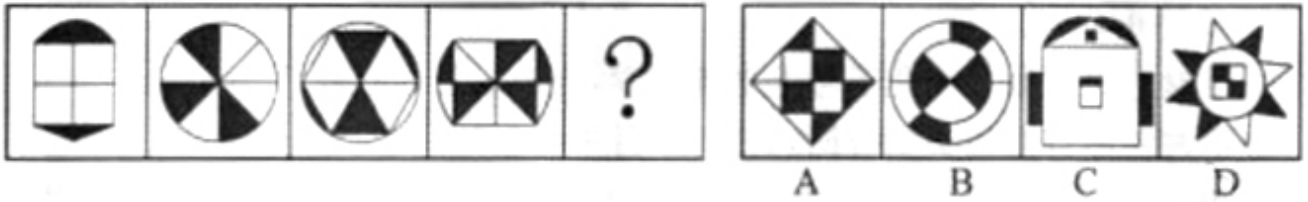
### 第三部分 判断推理

(共 40 题，参考时限 35 分钟)

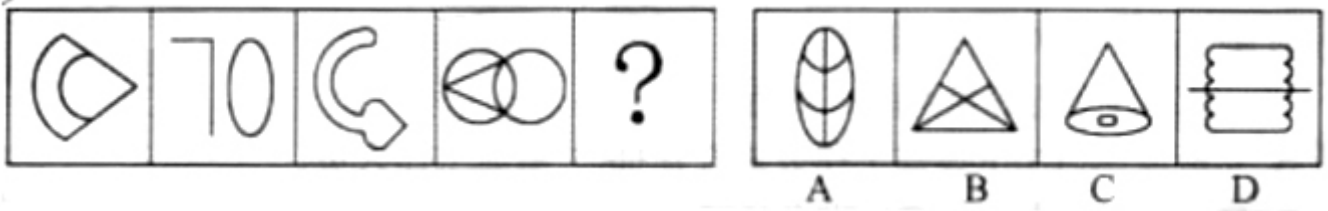
本部分包含四种类型的试题：

一、图形推理：共 10 题。请按每道题的答题要求作答。

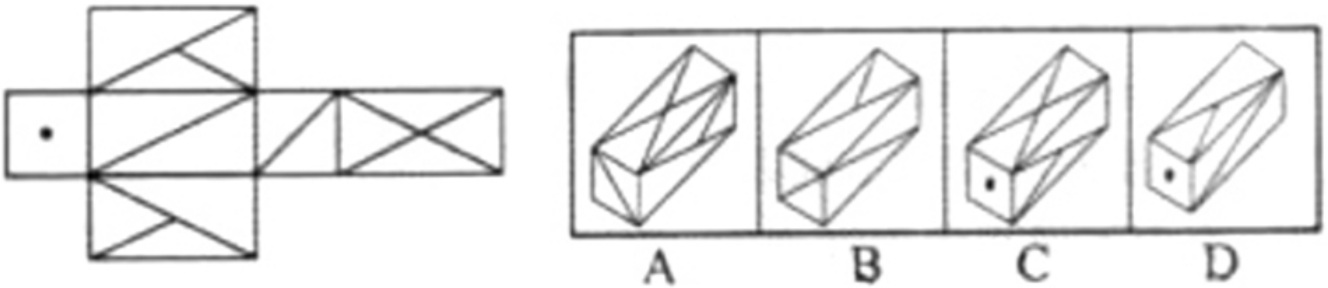
61. 从所给的四个选项中，选择最合适的一个填入问号处，使之呈现一定的规律性。



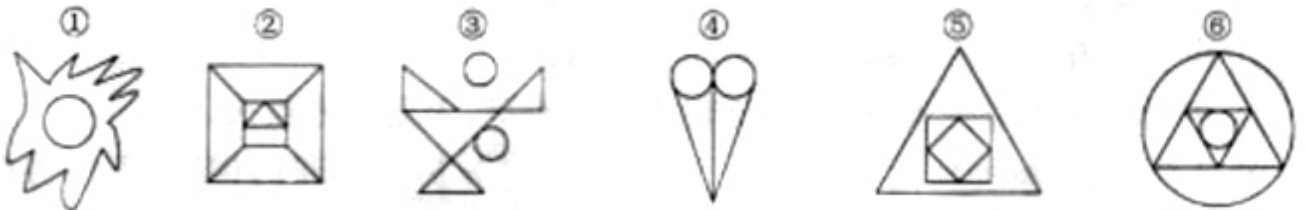
62. 从所给的四个选项中，选择最合适的一个填入问号处，使之呈现一定的规律性。



63. 左边给定的是纸盒的外表面，下面哪一项能由它折叠而成？



64. 把下面的六个图形分为两类，使每一类图形都有各自的共同性或规律，分类正确的一项是：



- A. ①②④，③⑤⑥  
B. ①③⑤，②④⑥  
C. ①③⑥，②④⑤  
D. ①④⑥，②③⑤


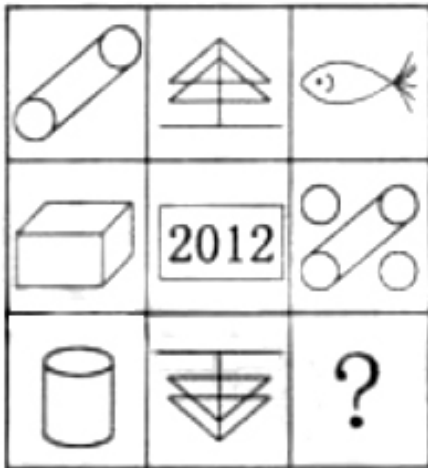
65. 把下面的六个图形分为两类，使每一类图形都有各自的共同特征或规律，分类正确的一项是：



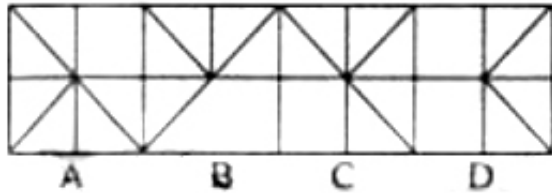

- A. ①②④，③⑤⑥  
B. ①③④，②⑤⑥  
C. ①③⑤，②④⑥  
D. ①④⑤，②③⑥

66. 从所给的四个选项中，选择最合适的一个填入问号处，使之呈现一定的规律性。

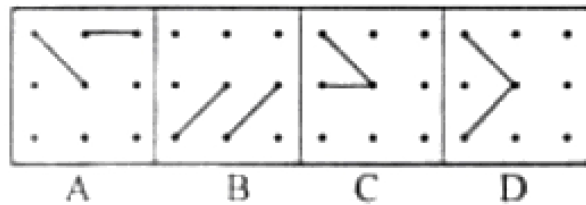





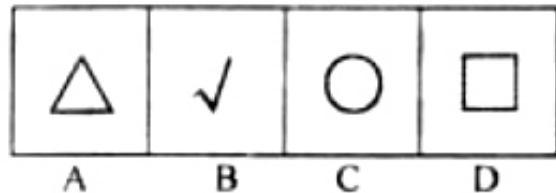

67. 从所给的四个选项中，选择最合适的一个填入问号处，使之呈现一定的规律性。



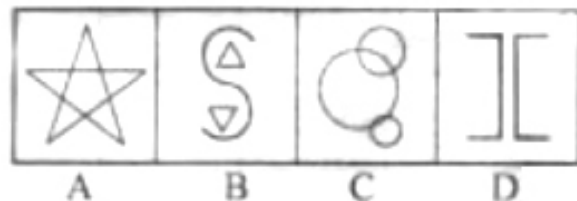

68. 从所给的四个选项中，选择最合适的一个填入问号处，使之呈现一定的规律性。



69. 从所给的四个选项中，选择最合适的一个填入问号处，使之呈现一定的规律性。



70. 从所给的四个选项中，选择最合适的一个填入问号处，使之呈现一定的规律性。



**二、类比推理：共 10 题。每道题先给出一组相关的词，要求你在备选答案中找出一组与之在逻辑关系上最贴近、相似或匹配的词。**

71. 眼睛：虹膜
- A. 骨头：关节                      B. 乔木：白桦
- C. 衣服：丝绸                      D. 手表：表带
72. 蝴蝶：蟋蟀
- A. 桑椹：鲜花                      B. 海棠：海参
- C. 鹦鹉：海鸥                      D. 恒星：太阳
73. 土地：农民
- A. 资本：商人                      B. 药方：医生
- C. 晚会：歌手                      D. 课本：教师
74. 创造：历史
- A. 发展：经济                      B. 和谐：社会
- C. 发扬：光大                      D. 生产：积累
75. 票友：业余
- A. 专家：肤浅                      B. 运动员：瘦弱
- C. 教师：慈祥                      D. 艺术大师：著名

76. 出人头地：苏轼  
A. 东山再起：谢安  
B. 多多益善：项羽  
C. 投笔从戎：班固  
D. 指鹿为马：李林甫
77. 百发百中：百步穿杨  
A. 门可罗雀：班门弄斧  
B. 深思熟虑：优柔寡断  
C. 不求甚解：囫囵吞枣  
D. 白日做梦：梦想成真
78. 道德：行为：约束  
A. 权力：人民：服务  
B. 信仰：图腾：崇拜  
C. 教师：教育：学生  
D. 法律：犯罪：惩治
79. 煤气灶：主妇：做饭  
A. 车间：工程师：生产  
B. 炼丹：道士：修行  
C. 剪刀：理发师：美发  
D. 马路：清洁工：打扫
80. 微博：媒体：消息  
A. 股票：有价证券：金融  
B. 护照：证件：身份  
C. 长城：景点：北京  
D. 债权：权利：债务

**三、定义判断：共 10 题。每道题先给出一个概念的定义，然后分别列出四种情况，要求你严格依据定义从中选出一个最符合或最不符合定义的答案。注意：假设这个定义是正确的，不容置疑的。**

81. 胜任力：员工在工作情境中，为完成工作所具备并体现出来的知识、技能、能力、态度、动机等关键特征。根据以上定义，下列表现为胜任力的行为是：  
A. 小张运用自己的专业知识，顺利完成了领导交给他的任务，得到同事们的称赞  
B. 还在试用期的小王，用了整整一周的时间，才整理出合格供应商的名单和真实报价  
C. 元旦刚过，小黄请叔叔和客户打招呼，为公司签订了一个大订单，打响“开门红”  
D. 上个月，小周所在班组在全厂考核中被评为优秀班组
82. 同理心：是指在人际交往过程中，能够体会他人的情绪和想法，理解他人立场和感受，并站在别人的角度思考和处理问题。根据以上定义，下列不属于同理心的是：  
A. 己所不欲，勿施于人  
B. 设身处地，感同身受  
C. 推己及人，将心比心  
D. 物我两忘，心无旁骛
83. 从众型思维枷锁：是指在认识判断、解决问题时，附和多数，人云亦云，缺乏自己独立思考，无主见、无创新意识的一种不良思维定势。以下表现不属于“从众型思维枷锁”的一项是：  
A. 前面许多行人闯了红灯，自己也紧跟着冲了过去  
B. 大人们把自己的孩子“左撇子”习惯硬性扭转过来  
C. 专家的意见值得信赖，大家都以专家的意见为办事依据  
D. 中学生每天都要求穿校服，中学生小军每天都穿着校服
84. 实在判断：判断的最简单的形式，肯定或否定地表明某一个事物的某种一般性质。例如，肯定判断：菊花是黄色的；否定判断：菊花不是黑色的。根据以上定义，以下不是实在判断的是：  
A. 月球绕着地球做圆周运动  
B. 月球不是恒星  
C. 月球是圆的  
D. 月球不是圆的
85. 创伤后应激障碍：是一种极度的灾难的持续效果，即经历了创伤以后，出现持续的、不必要的、无法控制的障碍。根据以上定义，下列不属于创伤后应激障碍的是：  
A. 小明小时候到野外郊游的时候被蛇咬了一口，从此再也不想去野外郊游了

- B. 小张玩秋千时重重的摔了下来，从此常常在梦中梦到从高处摔下来，以后再也不敢荡秋千了  
 C. 从战场回来的士兵，大多患上了失眠、焦虑甚至严重的精神疾病  
 D. 目睹了儿子阿毛被野兽叼走的那一幕，失魂落魄的祥林嫂见了人就说：“我真傻，真的。我不知道下雪的时候，野兽在山坳里没有食吃，会到村里来，我不知道春天也会有……”
86. 自然失业：是由于经济中一些难以克服的原因所引起的失业，它是任何经济都难以避免的失业，也是正常的失业。根据以上定义，下列不属于自然失业的是：  
 A. 王某在某公司工作，嫌工资太低，于是辞职  
 B. 某地发生地震，厂房和设备毁坏了，厂长不舍地遣散了工作多年的工人  
 C. 某企业进行改制，一些文化水平低，年满40岁的女职工下了岗  
 D. 张某违反公司规定暗箱操作，被发现后公司将其开除
87. 原点思维是指给人或事设定一个原点，时常回到原点进行思考，进行状态对照，纠正偏差，不断向目标前进。下列属于原点思维的是：  
 A. 怎样看出人的优秀素质——重点考核小时候的表现    B. 谁是中国历史上的罪人——宋代的秦桧  
 C. 谁能解下老虎脖子上的金铃——解铃还须系铃人    D. 怎样处理好人与人之间的关系——经常交流沟通
88. 例外原则：是指企业高级管理人员，把一般日常事务授权给下属管理人员负责管理，保留例外事项，一般也是重要事项的决策和控制权。根据以上定义，下列属于例外原则的是：  
 A. 某公司的董事长主要负责公司内的一切事务，而总经理则负责维护跟合作单位的关系  
 B. 某公司的报账制度中，500元以下的都由部门经理审批，只有500元以上的才需要总经理审批  
 C. 某管理中心兼职人员的确定，副总经理有决定权；专职人员的确定，总经理才有决定权  
 D. 在每周的例会上，各中层管理人员都要将本周工作总结和下周工作计划向总经理汇报。
89. 逆向思维是一种特殊的思维方式，它的思维取向与常人的思维取向相反。逆向思维并不主张人们在思考时违逆常规，不受限制地胡思乱想，而是训练一种小概率模式，即在思维活动中关注小概率可能性的思维。根据上述定义，下列属于逆向思维的是：  
 A. 人弃我取，人进我退，人动我静，人刚我柔  
 B. 以某一复杂问题的结果为发射点，尽可能多的把它与别的事物组合成新问题  
 C. 以某一复杂问题的结果为发射点，推出各种结果的各种原因  
 D. 将人们通常思考的思路稍加扭转，“歪打正着”
90. 揣摩指的是对自身以外的人和事的推测、估量、判断等。揣摩必须以良好的心态为基础，以实践经验总结为依据，以认真分析思考为前提。能够比较全面、客观和准确的推测、估量、估计、判断他人内心情感，是人们认识和处理复杂问题时必需的一种基本功。根据上述定义，下列属于揣摩的是：  
 A. 知己知彼，百战不殆  
 B. 凡事预则立，不预则废  
 C. 仁者见仁，智者见智  
 D. 己所不欲，勿施于人

**四、逻辑判断：共10题。每题给出一段陈述被假设是正确的，不容置疑的。要求你根据这段陈述，选择一个答案。注意，正确的答案应与所给的陈述相符合，不需要任何附加说明即可以从陈述中直接推出。**

91. 现在，在黄金领域进行投资将是一项有利可图的商业活动。《中国黄金》杂志的一项调查表明，该杂志读者中有88%的人正在计划最近购买一批金条，而对于黄金投资市场的研究显示，目前每年推出的金条购赎业务只能满足购买需求的70%。下面哪项如果为真，最能对上文投资建议的正确性构成质疑？  
 A. 购买金条的人中大约有一半的人为了购买金条而进行抵押贷款  
 B. 在金条购赎业务开展的前两个星期里，金条只卖出了总数的20%  
 C. 购买金条的人中大约有一半的人曾经有过黄金投资行为  
 D. 那些宣称购买金条的人中仅仅只有20%的人最后真的购买了金条
92. 土家狗是一种仅仅在美国南部生活的无毛小型野兽。在人类定居美国南部之前，土家狗的天敌都不强大，因

此土家狗在美国南部繁衍旺盛。当人类开始猎取他们之后，土家狗灭绝了。因此，肯定是人们对它的猎取导致了其灭绝。

下面哪一项如果为真，最严重地削弱了上文中的推理？

- A. 土家狗的一些品种跑得比豹类还快
  - B. 在第一批人类定居美国南部以来，土家狗在美国南部的某些地区仍旧存在了约 300 年
  - C. 人类在美国南部定居的同时，也带来了新的可能是土家狗天敌的物种
  - D. 在美国南部人们猎取了另一种容易被天敌捕食，但从来没有灭绝的哺乳动物
93. 世卫组织指出，全世界的自杀率已经上升了 60%，特别是在发展中国家，这种现象更为严重。大部分自杀事件发生在亚洲地区，自杀人数占全球总数的 60%。中国、印度和日本由于人口众多，因此其自杀人数占总数的 40%。……此外，自杀已经成为 15 岁至 34 岁年轻人的第三大死因。

根据题干中的信息，可以确定下面哪一个选项？

- A. 由题干信息，不能确定日本的自杀率上升幅度
  - B. 日本的青少年自杀问题很严重
  - C. 印度妇女自杀问题很严重
  - D. 中国的自杀率上升高于 60%
94. 甲、乙、丙、丁是思维天资极高的艺术家，他们分别是舞蹈家、画家、歌唱家和作家，尚不能确定其中每个人所从事的专业领域。已知：
- (1) 有一天晚上，甲和丙出席了歌唱家的首次演出。
  - (2) 画家曾经为乙和作家两个人画过肖像。
  - (3) 作家正准备写一本甲的传记，他所写的丁的传记是畅销书。
  - (4) 甲从来没有见过丙。

下面哪一选项正确地描述了每个人的身份？

- A. 甲是歌唱家，乙是作家，丙是画家，丁是舞蹈家
  - B. 甲是舞蹈家，乙是歌唱家，丙是作家，丁是画家
  - C. 甲是画家，乙是作家，丙是歌唱家，丁是作家
  - D. 甲是作家，乙是画家，丙是舞蹈家，丁是歌唱家
95. 所有切实关心教师福利的校长，都被证明是管理得法的校长；而切实关心教师福利的校长，都首先把注意力放在解决中青年教师住房上。因此，那些不首先把注意力放在解决中青年教师住房上的校长，都不是管理得法的校长。

为使上述论证成立，以下哪项必须为真？

- A. 中青年教师的住房问题，是教师的福利中最为突出的问题
  - B. 所有管理得法的校长，都是关心教师福利的校长
  - C. 中青年教师的比例近年来普遍有了大的增长
  - D. 所有首先把注意力放在解决中青年教师住房上的校长，都是管理得法的校长
96. 一支攻击型军队必须具有“三大件”：一是航母编队，一是战略机，一是海外军事基地。目前中国“一无所有”，根本无法形成攻击链。因此，聪明的兰德公司认为：“中国距离‘破坏’地区军事平衡还相差很远。”下面哪一选项在论证方式上与题干相同？

- A. 崛起的中国必须以强大的军事力量支撑自己的脊梁。中国要崛起，所以，中国必须拥有强大的军事力量
  - B. 只有聪明且勤奋，才能有大成就；李明既不聪明也不勤奋，所以，他不会有大成就
  - C. 如果吃高蛋白、高热量和高脂肪的食品过多，就会发胖；我很少吃这类食品，所以，我不会发胖
  - D. 如果 139 是偶数，则它能够被 2 整除；139 不能被 2 整除，所以，139 不是偶数
97. 关于某公司职员的工作状况有如下三个描述：“该公司所有职员都恪尽职守”，“该公司职员并不都恪尽职守”，“文茜女士恪尽职守”，其中有两个描述是假的。

根据题干，仍不能确定下面哪个选项的真假？

- A. 文茜女士未恪尽职守
  - B. 该公司所有职员都不恪尽职守
  - C. 该公司有些职员不恪尽职守
  - D. 该公司所有职员都恪尽职守
98. 2008 年北京奥运会上争夺奖牌的事实，使我们明白了一个道理：在失败还未成为最后的事实时，决不能轻易接受失败！在胜利尚存一丝微弱的希望时，仍要拼尽全力去争取胜利！否则，就不是真正的强者。

由上述题干可推出以下哪个选项？

- A. 没有随随便便的成功，成功都来自拼搏      B. 弱者会轻易地接受失败  
C. 真正的强者决不接受失败      D. 只有在失败成为不可改变的事实时，真正的强者才会接受失败
99. 20 世纪 70 年代出现了大学毕业生的过度供给，过度的供给使大学毕业生的平均年收入降到了比只持有高中文凭的工人仅高 18% 的水平。到了 20 世纪 80 年代，大学毕业生的平均年收入比只持有高中文凭的工人高 43%，尽管 20 世纪 70 年代到 80 年代后期大学毕业生的供给量没有下降。  
下面哪项，如果在 20 世纪 80 年代后期是正确的，最好地调节了上述明显的分歧？  
A. 经济放慢了，从而使对大学生的需求减少了  
B. 高中教育的质量提高了  
C. 与 20 世纪 70 年代相比，更多的高中为它们提供了职业指导计划  
D. 20 年来第一次出现了仅有高中文凭的求职者的过度供给
100. 随意挑选一组人去听一位演讲者对一大群注意力高度集中的听众所做的行政伦理学讲演。再随意挑选另一组人去听这位讲演者对一小群注意力不太集中的听众所做的同样内容的讲演。前一组人认为，该讲演者思考深入、自信；后一组人却认为，他的表达模糊、冗长。  
题干中的信息最能够反驳以下哪一项断言？  
A. 人们对讲演者个人素质的判断主要取决于讲演者所做讲演的内容和方式  
B. 如果第二组人听了该讲演者的第一次讲演，他们所作出的判断将会很不相同  
C. 同一个社会行为，当被置于不同的社会语境中评价时，不同的人会得出不同的判断  
D. 一个人对某位讲演者的讲演质量的评判，会受到其他人对这次讲演的反应的影响

## 第五部分 资料分析

(共 20 题 参考时限 20 分钟)

所给出的图、表、文字或综合性资料均有 5 个问题要你回答。你应根据资料提供的信息进行分析、比较、计算和判断处理。请开始答题：

### 一、根据下面资料，完成下面 121—125 题。

2007 年，山东省大中型工业企业共 481 家，比上年增加 27 家；从业人员 110.2 万人，比去年增加 3.1 万人；完成工业产值 5 143 亿元，增长 9.8%；增加值 2 546.1 亿元，增长 9.1%；实现主营业务收入 5541 亿元，增长 10.1%；实现利税总额 1 684.5 亿元，增长 0.9%；科技活动经费内部支出 61.2 亿元，增长 23.7%。2007 年，全省大中型工业企业从事技术开发活动的人员 6.5 万人，比去年增加近 0.4 万人。其中科学家和工程师 4.1 万人，比去年增加 0.2 万人。从性别看，女性科技活动人员 1.6 万人，比去年增加 0.3 万人。2007 年，全省大中型工业企业加大新产品开发的投入，积极研制开发新产品。全年经费投入 10 万元（含 10 万元）以上的新产品项目数 1 139 项，与去年持平。用于新产品开发经费 24.8 亿元，比上年增长 41.6%。平均每个新产品项目经费由上年的 218.3 万元上升到今年的 286.4 万元。投入增长带来了效益的增加，实现新产品产值 429.6 亿元，比上年增长 36.6%。新产品销售收入 437 亿元，比上年增长 44.3%，新产品出口 18.5 亿元比上年增长 26.8%。申请专利 851 件，比上年增长 16.4%。

121. 根据资料，2006 年山东省平均每个大中型企业约有从业人员多少人？

- A. 1933 人      B. 2427 人      C. 2291 人      D. 2359 人

122. 2006 年山东省大中型企业完成工业增加值占工业总产值的比重是：

- A. 49.51%      B. 49.82%      C. 45.4%      D. 54.4%

123. 2007 年山东省大中型工业企业从事技术开发活动的人员人均新产品开发经费是：

- A. 3.8 万元      B. 4.1 万元      C. 218.3 万元      D. 286.4 万元

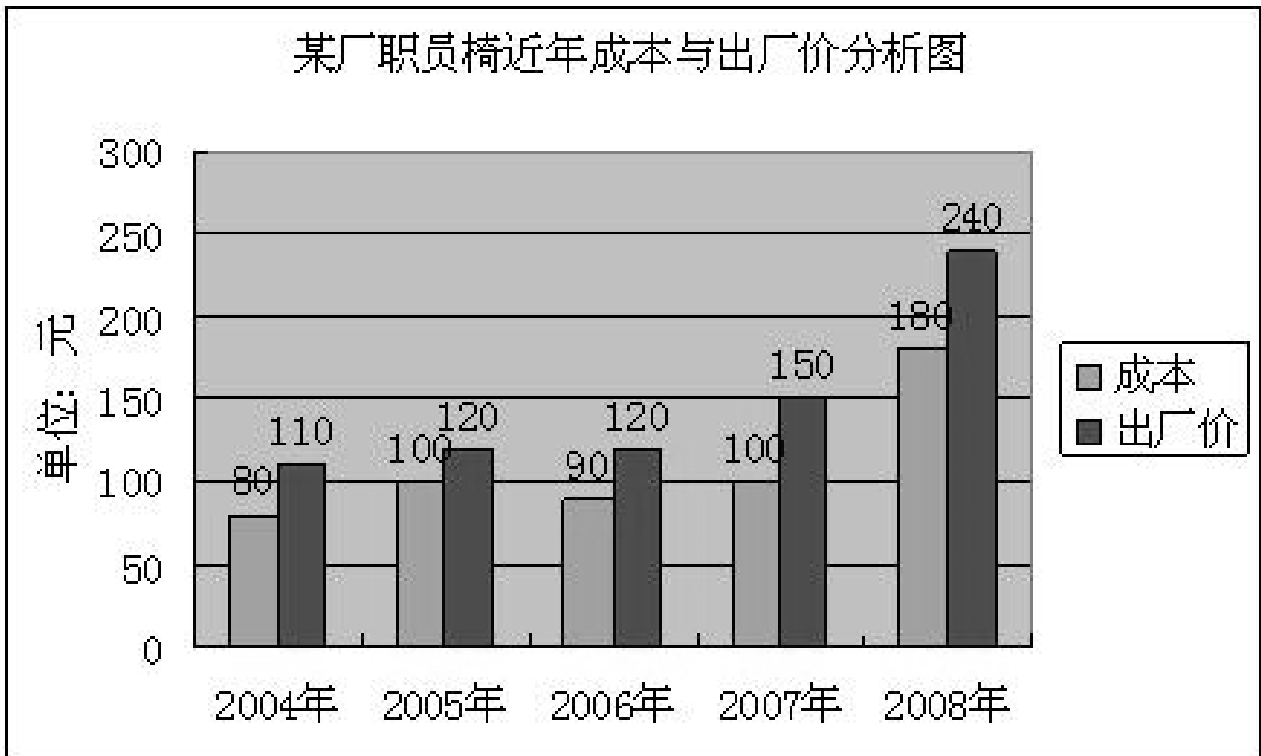
124. 下面说法中正确的是:

- A. 与去年相比, 2007 年山东省大中型企业平均每个项目经费增长 23.8%
- B. 2006 年, 山东省大中型企业实现新产品产值 272.4 亿元
- C. 2006 年, 山东省大中型企业科技活动经费内部支出 61.2 亿元
- D. 2006 年, 山东省大中型企业实现利税总额为 1669.5 亿元

125. 下列关于山东省大中型企业 2007 年的有关说法, 不正确的是:

- A. 2007 年, 山东省从事科技活动人员队伍不断壮大, 女性科技活动人员明显增长
- B. 2007 年, 山东省大中型企业全年经费投入 10 万元以上的项目比去年明显增长
- C. 2007 年, 大中型企业科学家、工程师增长率明显高于其他人员的增长率
- D. 2007 年, 山东省每个大中型企业从业人员与去年相比略有减少

**二、根据下列图表, 回答 126—130 题。**



126. 每生产一把该型号职员椅获得的利润率最高的年份是:

- A. 2005 年
- B. 2006 年
- C. 2007 年
- D. 2008 年

127. 2008 年, 生产该型号职员椅 5000 把, 若获得同样多的利润, 2006 年需要生产该型号职员椅多少把?

- A. 2000
- B. 5000
- C. 10000
- D. 120000

128. 与 2005 年相比, 2008 年增长速度最快的是:

- A. 成本
- B. 出厂价
- C. 利润
- D. 利润率

129. 根据上图, 原材料上涨速度最快的年份是:

A. 2005 年

B. 2006 年

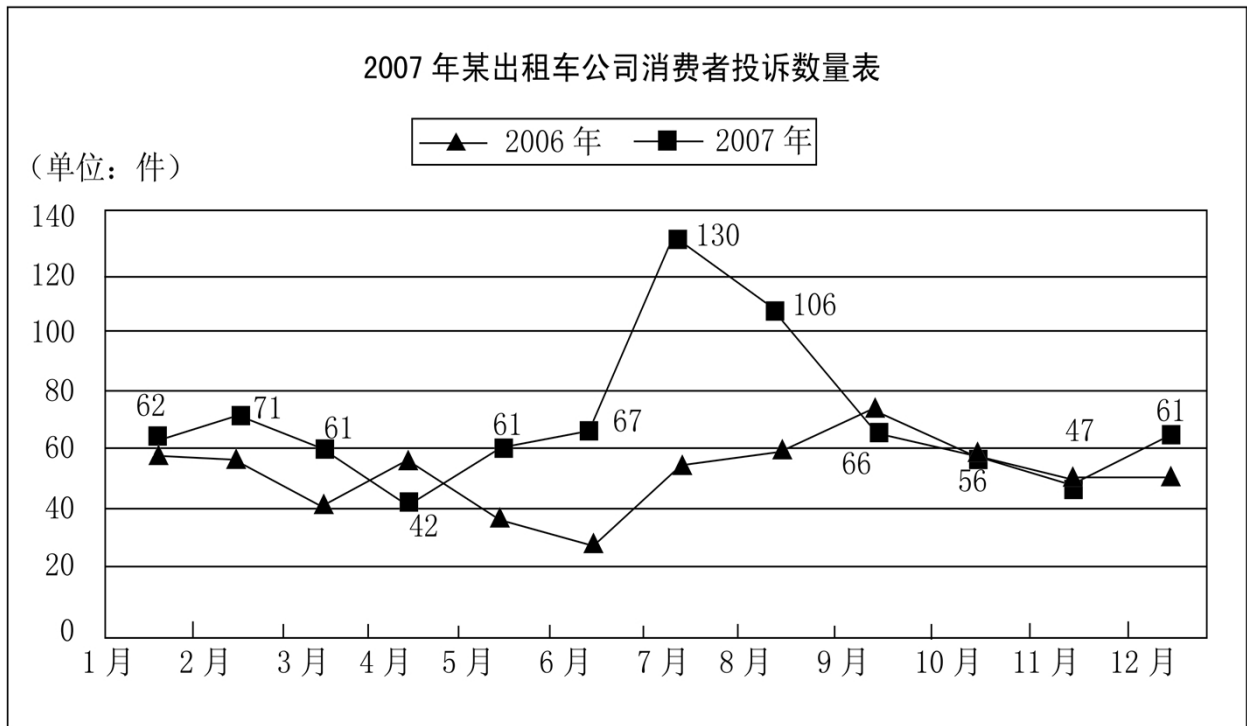
C. 2007 年

D. 2008 年

130. 根据上图，下列说法正确的是：

- A. 2004 年以来，每生产一把该型号职员椅获得的利润呈现上升趋势
- B. 2004 年以来，该型号职员椅出厂价逐年上升
- C. 2004 年以来，该型号职员椅原材料价格逐年上升
- D. 2004 年以来，每生产一把该型号职员椅获得的利润率呈下降趋势

**三、根据下图回答 131—135 题。**



131. 2007 年的投诉数量图中，波谷数跟 2006 年比相差几个？

- A. 0
- B. 1
- C. 2
- D. 3

132. 图中所显示的月投诉数量，共有几个月份是 2007 年高过 2006 年 15 件以上的：

- A. 5
- B. 6
- C. 7
- D. 8

133. 下列哪个月份的投诉数量超过 100 件？

- A. 2006 年 7 月
- B. 2006 年 8 月
- C. 2007 年 7 月
- D. 2007 年 9 月

134. 2007 年各个月的投诉变化幅度（与前一个月相比）从大到小排序为：

- A. 9, 4, 8, 11, 10, 3, 6, 2, 12, 5, 7
- B. 6, 3, 2, 10, 11, 8, 4, 12, 9, 5, 7
- C. 7, 9, 8, 4, 5, 12, 3, 10, 2, 11, 6
- D. 7, 5, 12, 2, 6, 3, 10, 11, 8, 4, 9

135. 关于 2007 年投诉数量增加的原因，不恰当的说法是：

- A. 消费者投诉率与 2006 年持平
- B. 该出租车公司运输业务大大增加
- C. 消费者可以采取的投诉方式更多、更方便
- D. 消费者投诉意识提高



**四、根据下面资料，完成下面 136—140 题。**

根据全国 31000 个农户和农业生产经营单位购买农业生产资料的价格调查，2007 年我国农资市场购销两旺，农民实际购买价格上涨 12.2%，具体情况如下表：

**全国主要农业生产资料购买价格指数** (上年同期 = 100)

	2006 年	2007 年				
	全年	一季度	二季度	三季度	四季度	全年
总指数	102.35	104.40	107.09	118.57	116.71	112.15
小麦种子	102.30	100.16	104.19	102.40	106.44	105.01
稻谷种子	104.26	102.09	104.49	105.28	105.80	104.02
玉米种子	103.66	100.19	102.64	101.13	104.68	102.14
仔猪	84.80	115.24	140.66	170.40	180.74	156.74
酒糟	102.55	102.56	107.75	102.36	106.42	104.92
豆饼	102.40	102.02	104.45	109.23	122.70	111.51
氮肥	100.67	100.71	101.64	101.13	104.88	102.00
磷肥	101.25	101.49	102.83	102.43	105.09	102.94
钾肥	102.32	101.77	103.05	103.75	106.99	103.73
复合肥料	102.42	102.84	102.67	103.45	106.25	103.64
杀虫剂	101.56	101.39	104.30	105.39	105.67	104.75
杀菌剂	97.46	103.05	104.34	104.66	105.25	104.63
除草剂	101.32	102.95	102.78	103.71	105.24	103.11
农用薄膜	103.93	104.04	105.26	104.07	105.75	104.97
农用机油	107.46	106.59	105.73	106.48	107.82	106.57
农用柴油	110.60	107.22	105.52	101.73	107.63	105.22
农业用电	100.13	100.83	100.44	99.76	99.91	100.13
排灌费	104.29	102.85	105.14	105.64	101.78	102.99
机播作业费	108.29	109.84	104.44	107.11	108.18	106.83
机收作业费	108.44	109.57	106.28	104.15	109.25	107.51

136. 如果 2006 年第二季度和第四季度农用薄膜的价格都是 14.00 元/公斤，那么 2007 年相同季度的农用薄膜价格分别是：
- A. 14.81 元/公斤和 14.87 元/公斤  
 B. 14.74 元/公斤和 14.81 元/公斤  
 C. 14.88 元/公斤和 14.94 元/公斤  
 D. 14.87 元/公斤和 14.94 元/公斤
137. 2007 年第三季度全国主要农业生产资料购买价格总指数与去年同期相比上升：
- A. 18.57%                      B. 16.22%                      C. 11.84%                      D. 6.42%
138. 2007 年四个季度全国主要农业生产资料购买价格指数的变动特点，下面描述错误的是：
- A. 农业用电有升有降，总体与去年价格相等  
 B. 小麦种子价格比上年上涨 5%，稻谷种子上涨 4%，玉米种子上涨 2%  
 C. 2007 年上涨幅度最大的是仔猪价格  
 D. 机收、机播作业费连续两年价格增幅均高于 6%

139. 农业生产资料购买价格指数变动的原因不可能是：
- A. 化肥价格上涨是因为上游原材料和能源价格上涨的影响
  - B. 农用柴油价格上涨是由于国内市场供给偏紧
  - C. 仔猪价格大幅上涨是因为今年猪肉出口量急剧增加
  - D. 柴油价格上涨带动机播作业费、农业作业费上扬
140. 下列说法不正确的是：
- A. 下半年农资价格涨幅快于上半年
  - B. 稻谷种子价格与去年相比下降 0.2 个百分点
  - C. 仔猪价格全年变动幅度最大
  - D. 工业产品类农资价格上涨速度低于农业内部的农资价格上涨幅度

**全部测验到此结束！**

请扫描QQ二维码，备注“公务员考生”加QQ  
好友，获取曹长远老师精解历年公务员考试申论、  
行测、面试真题完整解析资料。

**精品资料，尽在掌握！**

