

2010年5月30日安徽省公务员考试

《行政职业能力测验》真题答案解析

说明

一、此项测验分为五个部分，共140题，总时限120分钟，满分100分。各部分不单独计时，但都给出参考时限，供答题时合理分配时间。

二、此项测验科目代码为“1”。请按照要求在答题卡上填写好自己的姓名，涂写好准考证号、科目代码。

三、必须在答题卡上答题，在题本上答题，一律无效。

严禁折叠答题卡！

第一部分 数量关系

(共20题，参考时限20分钟)

一、数字推理：共5题。给你一个数列，但其中缺少一项，要求你仔细观察数列的排列规律，然后从四个选项中选你认为最合理的一项，来填补空缺项。

1. 1, 2, 3, 6, 12, 24, ()

- A. 48
- B. 45
- C. 36
- D. 32

【答案】A。解析：

本题的数字规律是：相邻几项，前面所有项的和等于最后一项。即：

$$1+2=3,$$

$$1+2+3=6,$$

$$1+2+3+6=12,$$

$$1+2+3+6+12=24,$$

$$(\quad)=1+2+3+6+12+24=48.$$

所以，正确选项是A。

2. 1, 9, 25, 49, 121, ()

- A. 144
- B. 154
- C. 169
- D. 177

【答案】C。解析：

本题的数字规律是：原数列“1, 9, 25, 49, 121”为质数数列“1, 3, 5, 7, 11”的平方。

A项 $144=12^2$ ，12是合数，排除。

B、D项都不是平方数，排除。

所以，正确选项是C。

3. 56, 114, 230, 462, ()

- A. 916

- B. 918
- C. 924
- D. 926

【答案】D。解析：

本题的数字规律是：相邻两项，前项 $\times 2 + 2 =$ 后项。即：

$$56 \times 2 + 2 = 114,$$

$$114 \times 2 + 2 = 230,$$

$$230 \times 2 + 2 = 462,$$

$$(\quad) = 462 \times 2 + 2 = 926.$$

所以，正确选项是D。

4. 1, 4, 8, 12, 15, 20, 22, ()

- A. 28
- B. 25
- C. 30
- D. 26

【答案】A。解析：

本题的数字规律是：奇数项加3、4、5等于下一项，偶数项加4、5、6等于下一项。分别为：

$$1 (+3) = 4,$$

$$4 (+4) = 8,$$

$$8 (+4) = 12,$$

$$12 (+3) = 15,$$

$$15 (+5) = 20,$$

$$20 (+2) = 22,$$

则下一项应为： $22 (+6) = 28$ 。

所以，正确选项是A。

5. 0.2, 0.23, 0.234, ()

- A. 0.0234
- B. 0.1234
- C. 0.2345
- D. 0.2341

【答案】C。解析：

本题的数字规律是：每一项都是在前项小数的数字末尾再添加一个数字，且这个数比它的前一位数大1。

所以，正确选项是C。

**二、数学运算：共10题。你可以在草稿纸上运算。如果你不能快速巧妙的计算。可以跳过不做。待你有时
间再返回来做。**

6. $2009 \times 20082008 - 2008 \times 20092009 = ?$

- A. 0
- B. 1
- C. 2
- D. 3

【答案】A。解析：

作答本题可以采用尾数法。

2009×20082008 尾数为 2, 2008×20092009 尾数也为 2, 所以差的尾数一定是 0, 只有 A 项符合。
所以, 正确选项是 A。

7. 一个正方形队列, 如果减少一行和一列会减少 19 人, 那么原队列有几个人?
A. 81
B. 100
C. 121
D. 144

【答案】B。解析:

作答本题可以采用条件转化法。

已知对列为正方形队列, 则减少一行的人数一定与减少一列的人数相差 1。而 19 只能分解成 $9+10$, 由此可知原方阵一定是 10 行 10 列共 100 人。

所以, 正确选项是 B。

8. 下表是“人人乐”超市某日早上开始营业 8 分钟内对客户进出超市情况的记录, 其中正数表示进入, 负数表示走出, 则 8 分钟内光顾该超市的顾客有 () 位?

时间 / 分	1	2	3	4	5	6	7	8
人数	+6	-3	+2	-1	+5	-4	+3	-2

- A. 13
B. 14
C. 15
D. 16

【答案】D。解析:

作答本题可以采用条件转化法。

8 分钟内光顾该超市的顾客等于 8 分钟内进入该超市的顾客, 即: $6+2+5+3=16$ 。

所以, 正确选项是 D。

9. 有一本书, 若小静第一天读了 12.5%, 第二天读了 37.5%, 第二天比第一天多读了 32 页, 则这本书共多少页?
A. 98
B. 108
C. 118
D. 128

【答案】D。解析:

作答本题可以采用条件转化法。

小静第一天读了 $12.5\%=1/8$, 由此可知, 这本书的总页数应该是 8 的倍数。只有 D 项符合要求。

所以, 正确选项是 D。

10. 在一条公路的两边植树, 每隔 3 米种一棵树, 从公路的东头种到西头还剩 5 棵树苗, 如果改为每隔 2.5 米种 1 棵, 则缺树苗 115 棵, 问这条公路长多少米?
A. 700
B. 800
C. 900

D. 600

【答案】C。解析：

根据题意，是在“一条公路的两边植树”。设公路长为 a 米，则可列算式为：

$2(a \div 3 + 1) + 5 = 2(a \div 2.5 + 1) - 115$ 。解得 $a = 900$ 。

所以，正确选项是 C。

11. 给长方形的长增加 2，宽增加 5，恰好可以得到一个面积为 100 的正方形，则原长方形的周长是（）。

A. 13

B. 26

C. 40

D. 46

【答案】B。解析：

已知新正方形的面积为 100，则边长为 10。则原长方形的长为 8，宽为 5。

长方形的周长为： $(5 + 8) \times 2 = 26$ 。

所以，正确选项是 B。

12. 在一条线段中间另有 6 个点，则这 8 个点可以构成多少条线段？

A. 15

B. 21

C. 28

D. 36

【答案】C。解析：

作答本题可以采用分情况讨论法。

相邻两点构成线段为： $8 - 1 = 7$ 。

中间隔一点构成线段为： $8 - 2 = 6$ 。

中间隔两点构成线段为： $8 - 3 = 5$ 。

中间隔三点构成线段为： $8 - 4 = 4$ 。

中间隔四点构成线段为： $8 - 5 = 3$ 。

中间隔五点构成线段为： $8 - 6 = 2$ 。

中间隔六点构成线段为： $8 - 7 = 1$ 。

则这 8 个点可以构成线段为： $7 + 6 + 5 + 4 + 3 + 2 + 1 = 28$ 。

所以，正确选项是 C。

13. 一根竹笋从发芽到长大，如果每天长一倍，经过 10 天长到 40 分米，那么长到 2.5 分米时，要经过多少天？

A. 6

B. 8

C. 4

D. 12

【答案】A。解析：

作答本题可以采用条件转化法。

首先计算从 2.5 分米长到 40 分米所需要的时间，这是一个首项为 2.5，公比为 2 的等比数列，可以算得需要 4 天。因此，长到 2.5 分米需要 $10 - 4 = 6$ 天。

所以，正确选项是 A。

14. 某班数学测试，全班平均 91 分，其中男生平均 88 分，女生平均 93 分，则女生人数是男生人数的多少倍？
- A. 0.5
B. 1
C. 1.5
D. 2

【答案】C。解析：

设女生人数为 x ，男生人数为 y ，由题干可得算式： $93x+88y=91(x+y)$ 。解得 $x/y=1.5$ 。
所以，正确选项是 C。

15. 某商店规定每 4 个空啤酒瓶可以换 1 瓶啤酒，小明家买了 24 瓶啤酒，他家最多能喝多少瓶啤酒？
- A. 30
B. 31
C. 32
D. 33

【答案】C。解析：

作答本题可以采用分情况讨论法。

第一次喝完 24 瓶啤酒后，可以用 24 个啤酒瓶再换 6 瓶啤酒。

第二次先喝完 6 瓶啤酒，可以用 4 个啤酒瓶再换 1 瓶啤酒；再喝完还剩 3 个酒瓶，向商店借 1 个酒瓶，凑成 4 个酒瓶可以再换 1 瓶啤酒，喝完啤酒后将这个啤酒瓶还给商店即可。

共可以喝啤酒： $24+6+1+1=32$ 瓶。

所以，正确选项是 C。

16. 一项工程，工作效率提高四分之一，完成这项工程的时间将由原来的十小时缩短到几小时？
- A. 4
B. 8
C. 12
D. 16

【答案】B。解析：

作答本题可以采用特殊赋值法。

设工作效率为 1，则提高效率后工作效率为 $5/4$ ，工程的时间缩短为原来的 $4/5$ 。则完成这项工程的时间将由原来的 10 小时缩短为： $10 \times 4/5=8$ 小时。

所以，正确选项是 B。

17. 火树银花楼七层，层层红灯倍增加，共有红灯 381，试问四层几红灯？
- A. 24
B. 28
C. 36
D. 37

【答案】A。解析：

作答本题可以采用分情况讨论法。

设一楼有红灯 x ，则 2 楼有红灯 $2x$ ，3 楼有红灯 $4x$ ，4 楼有红灯 $8x$ ，5 楼有红灯 $16x$ ，6 楼有红灯 $32x$ ，7 楼有红灯 $64x$ 。则有： $127x=381$ 。

解得： $x=3$ 。则 4 楼有红灯： $8x=24$ 。

所以，正确选项是 A。

18. 甲、乙、丙、丁四人比赛乒乓球，规定每两人之间均要赛 1 场，结果甲胜了丁，甲、乙、丙三人胜的场数相同，那么丁胜了多少场？
- A. 3
B. 1
C. 0
D. 2

【答案】C。解析：

作答本题可以采用分情况讨论法。

4 人间每两个人都要赛一场，则一共需要比赛 6 场：甲乙，甲丙，甲丁，乙丙，乙丁，丙丁。

已知甲胜了丁，甲、乙、丙三人胜的场数相同，则有两种可能情况：

可能情况 1：甲、乙、丙都只胜 1 场，那么丁赢了 $6-3=3$ 场。

可能情况 2：甲、乙、丙都胜 2 场，那么丁赢了 $6-6=0$ 场。

只有 C 项符合要求。

所以，正确选项是 C。

19. 一个两位数，十位上的数字是个位上的数字的 $2/3$ ，把十位与个位的数字调换后，新数比原数大 18，则原来这个两位数的两个数字之和是（ ）。
- A. 12
B. 10
C. 8
D. 21

【答案】B。解析：

作答本题可以采用分情况讨论法。

满足题设条件“十位上的数字是个位上的数字的 $2/3$ ”的两位数只有 23、46、69 三种可能。这三个两位数的两个数字之和分别为 5, 10, 15。只有 B 项符合要求。

所以，正确选项是 B。

20. 某个月有五个星期六，已知这五个日期之和为 85，则这个月中最后一个星期六是多少号？
- A. 10
B. 17
C. 24
D. 31

【答案】D。解析：

作答本题可以采用法。

五个星期六可以构成以 7 为公差的等差数列。设第一个星期六的日期数字为 a ，则这五个星期六的日期数字之和为： $a+a+7+a+14+a+21+a+28=85$ 。解得： $a=3$ 。

则这个月中最后一个星期六是： $3+28=31$ 。

所以，正确选项是 D。

第二部分 言语理解与表达

（共 40 题，参考时限 35 分钟）

每道题包含一段话、一个句子或一篇短文，后面是一个不完整的陈述，要求你从四个选项中选出一个来写成陈述。注意：答案可能是完成对所给文字主要意思的提要，也可能是满足陈述中其他方面的要求，你的选择

应与所提要求最符合。

21. 下列句子中，有歧义的一句是：

- A. 这个合理化建议一经采纳，大大激发了全体员工献计献策的积极性。
- B. 部队是个大熔炉，三年里，我进步很大，因为首长对自己的要求十分严格。
- C. 他事先没作充分准备，遇到这样的意外情况就显得不知所措。
- D. 古人尚且能闻过则喜，今天有些人却常常讳疾忌医，这实在不应该。

【答案】B。解析：

B项“自己”一词指代不明，根据句意，“自己”可以指“首长”，也可以指“我”，因此有歧义。所以，正确选项是B。

22. 下面的句子中，划线的成语使用有误的是：

- A. 看到非洲草原上角马迁徙的场景，你一定会震撼不已——绵延几公里的角马群如黑色的洪流，一泻千里，蔚为壮观。
- B. 年关临近，本是商品销售的最佳良机，受次贷危机的影响和欧元的持续走低，今年意大利的市场显得十分萧条，60%的华人企业裹足不前。
- C. 人类向自然毫无节制的索取，造成环境严重污染、资源日益匮乏，这种行为无异于作茧自缚。
- D. 我和汪剑做了四年的室友，对他的经历、性格、爱好都了如指掌，我相信他绝不会出卖朋友。

【答案】A。解析：

A项中“一泻千里”，形容江河奔流直下，流得又快又远；或用来比喻文笔或曲调气势奔放；也可以用来形容价格猛跌不止。这里用来形容角马群迁徙，属于用词不当。

所以，正确选项是A。

23. 下列各句中，没有语病的是：

- A. 通过考察美国几所中学，使这些中国校长们的教育教学理念悄然地发生着变化。
- B. 机关考勤制度改革后，“一杯茶，一支烟，一张报纸看半天”的现象不见了，全勤的人数骤然增多，出勤率较前三个月有很大增加。
- C. 这个峡谷至今仍是谜，听老人们说，那里从来就没有人能进去过，进去的人从来就没有能活着回来的。
- D. 市井百姓的生活变化实实在在。他们的欲求原本就简单，只是盼望着生活就这样一步一个脚印地往前走。然而，这看似简单、实则难得的进步，离不开中国稳扎稳打的“内功修炼”。

【答案】D。解析：

A项主语残缺，应该去掉“使”；

B项主谓搭配不当，“出勤率”只能说“提高”，不能说“增加”，出勤人数可以说“增加”，应改为“出勤率较三个月前有很大提高”；

C项属于逻辑错误，既然“从来就没有人能进去过”，那么就不可能有“进去的人”，属于自相矛盾。

所以，正确选项是D。

24. 《梦溪笔谈》无疑代表了宋代地理观察的最高水平，但该书并不算一部地理著作，宋代地理观察的结果更集中地表现在游记中。

问《梦溪笔谈》是游记吗？

- A. 是
- B. 不是
- C. 其中一部分是
- D. 目前还有争议

【答案】A。解析：

根据句意，“宋代地理观察的结果更集中地表现在游记中”，而“《梦溪笔谈》无疑代表了宋代地理观察的最高水平”，由此可以得出结论，《梦溪笔谈》肯定是游记。

所以，正确选项是 A。

25. 过去几十年，中国社会淡化了民族民俗。随着人们生活富裕，需要用一个个节日掀起娱乐高潮，这时发现我们的传统节日“贫乏”，难以满足人们的精神文化需求，于是，那些富于人情味的洋节便顺理成章地钻入了中国人的生活。

这段话对洋节进入中国人生活的态度是：

- A. 理解
- B. 赞成
- C. 反对
- D. 无所谓

【答案】A。解析：

题干解释了洋节进入中国人生活的原因，“顺理成章”一词表明了作者对洋节进入中国人生活这种现象是接受、理解的，但并没有表示是否一定赞成。

所以，正确选项是 A。

26. 世界经济论坛年会 2 月 1 日在瑞士达沃斯落下帷幕，出席的经济专家们普遍认为，全球经济下滑尚未触底。这句话告诉我们，出席世界经济论坛年会的经济专家：

- A. 认为全球经济出现了下滑
- B. 认为全球经济仍有继续下滑的趋势
- C. 对全球经济下滑问题达成了共识
- D. 对全球经济下滑的研究没有尽头

【答案】B。解析：

经济学家认为的“全球经济下滑尚未触底”，解题的关键在于对“尚未触底”一词的理解，“尚未触底”意味着还没有达到底线，还有继续下滑的趋势，和 B 项意思相符。

A 项和 C 项只提到了下滑，至于下滑到何种程度没有提及，不够准确；D 项偷换了概念，是“经济下滑”而不是“经济下滑的研究”。排除。

所以，正确选项是 B。

27. 周总理在欢迎基辛格二次访华的宴会上说，“（中美关系的恢复）要归功于毛主席和尼克松总统。当然，一定也要有一个人做先导，这个先导就是基辛格博士。”

这说明：

- A. 基辛格访华标志着中美关系走向正常化
- B. 基辛格对促进中美关系改善起到了决定性的作用
- C. 毛主席和尼克松总统是中美关系改善的推动者
- D. 基辛格为中美关系的改善奠定了基础

【答案】D。解析：

周总理说：基辛格是中美关系恢复的“先导”，所谓先导，也就是为中美关系的恢复做出了前期的贡献，即奠定了基础。

所以，正确选项是 D。

28. 南太平洋上的岛国 A 国，空气清新，环境优美，每人每年享受政府发放的 3.5 万美元的零用钱，人们无需工作，但是，无法想象的是，生活在这里的人们，患高血压、心脏病、脑中风的比率居世界之最，有 37% 的人

患糖尿病，为全球最高，全国只有 1.3% 的人活到 60 岁，是人均寿命最短的国家。

这段文字主要表达的是：

- A. 富足的代价
- B. 生于忧患，死于安乐
- C. 安逸是我们生命的杀手
- D. 养尊处优，舒适安逸的 A 国人

【答案】C。解析：

阅读可知，题干是转折结构，强调的是转折后面的内容。

题干说：但是，无法想象的是，生活在这里的人们，……全国只有 1.3% 的人活到 60 岁，是人均寿命最短的国家。隐含：安逸是我们生命的杀手。

所以，正确选项是 C。

29. 1923 年，国语统一筹备会决定采用北京语音标准，在全国推行。语言不只是交流工具，而且是文化载体。方言的萎缩即是一方文化的褪色。保持方言、民族语言与共通语的并存有利于保持文化的多样性，在推广普通话的同时也应让方言有一定的表达空间。而且方言不但应用于一方土地，还能丰富共通语的色彩，如粤语的打的、买单、高企与烂尾楼等词语已经进入共通语语汇，并且有所发展。

这段文字的主旨是：

- A. 提倡双语有利于保持传统文化与地方文化特色
- B. 共通语认同有利于提高全民族文化水平与科技发展水平
- C. 提倡双语、方言、民族语言与共通语并存
- D. 任何一种共通语都是以某种方言为基础的

【答案】A。解析：

阅读可知，题干强调，既要推行“国语”，又要保持方言、民族语言，即“保持方言、民族语言与共通语的并存有利于保持文化的多样性，在推广普通话的同时也应让方言有一定的表达空间。”隐含：提倡双语有利于保持传统文化与地方文化特色。

所以，正确选项是 A。

30. 我们如果把人生比作几何图形中的一个圆，在一个已经画好的圆上，你要找到起点在哪，终点在哪，固然是很困难的，但你要找出半径有多长，则是比较容易的。圆有半径，人生也有半径，生命的宽度、厚度及重度，就是由你的人生半径决定的。人生半径越大，你的生命的空间也就越大。

这段文字的意思主要是：

- A. 生活中年少者的价值远胜于年长者的并不少见
- B. 生命虽然是个充满变数的事物，但它也是可以度量的
- C. 不是有生命就有价值，也不是活得越久就越有价值
- D. 度量生命，首先应该度量你的所思所想、所言所行、所作所为

【答案】B。解析：

阅读可知，题干是转折结构，强调的是转折后面的内容。

题干说：你要找到起点在哪，终点在哪，固然是很困难的，但你要找出半径有多长，则是比较容易的。所谓“你要找出半径有多长，则是比较容易的”，隐含：生命虽然是个充满变数的事物，但它也是可以度量的。

所以，正确选项是 B。

31. 有一家农场主，为了方便拴牛，在庄园里的一棵榆树的树干上箍了一个铁圈，随着榆树的长大，铁圈慢慢地长进了树身里，榆树的表皮留下一通深深的伤痕。几年后，当地发生了榆树病，方圆几十里的榆树全部死亡，唯独那棵箍了铁圈、留下深深伤痕的榆树却存活下来。植物学家研究发现，它从锈蚀的铁圈里吸收了大量的

铁，才对真菌产生了免疫力。

这段文字说明的道理是：

- A. 坚强的生命能把伤害变成财富和力量
- B. 生命在逆境中创造惊人的奇迹
- C. 伤痕有时会成为生命的一种养料
- D. 生命在伤害中更坚强，更充满活力和希望

【答案】C。解析：

阅读可知，题干说：唯独那棵箍了铁圈、留下深深伤痕的榆树却存活下来。（隐含：伤痕）……它从锈蚀的铁圈里吸收了大量的铁。（隐含：养料）

所以，正确选项是 C。

32. 年画作为民俗的一种具体表现形式，通过点、线、面、色等的巧妙组合，反映了民众的文化心理、审美观，在长期的生活实践中，民众的审美情趣以红为美，以大为美，以对称为美，以规范为美，都充分体现于年画艺术特色上。在农村，吉祥的含义包含于人们对美好生活的向往以及祝愿、期望、赞赏和歌颂的多种意思。这段文字主要说的是：

- A. 年画传达着我国民间的美学形态
- B. 年画体现着民众的审美情趣
- C. 年画是人们在长期生活中形成的一种美好心愿
- D. 年画反映了民众的文化心理和审美情趣

【答案】D。解析：

阅读可知，题干属于证明结构，证明结构强调的是论点而不是论据。

题干首先提出论点：年画……反映了民众的文化心理、审美观。（隐含：年画反映了民众的文化心理和审美情趣）

所以，正确选项是 D。

33. 大家知道，这次汶川地震，虽然危害很大，破坏性极强，造成的损失也十分惨重，但是，各种不利于抗震救灾，不利于社会稳定的谣传几乎没有。一个重要的原因，就在于政府信息的公开透明，真相走在了谣言的前面，谣言自然没有生存的土壤，没有传播的空间。

这段话主要支持了这样一个观点：

- A. 汶川地震破坏巨大的信息在社会上没有广泛传播
- B. 有关地震谣言的危害要远远大于地震本身的危害
- C. 我国政府对待汶川地震信息一事处理得非常及时
- D. 信息透明，公布及时，可防止谣言的产生及传播

【答案】D。解析：

阅读可知，题干属于转折结构，转折结构强调的是转折后面的内容。

题干说：但是，各种不利于抗震救灾，不利于社会稳定的谣传几乎没有……信息的公开透明，……谣言自然没有生存的土壤，没有传播的空间。即：信息透明，公布及时，可防止谣言的产生及传播。

所以，正确选项是 D。

34. 30 年前日本遭遇能源危机，这个资源匮乏的岛国不是被动地应对——在油价高起时节制消耗，在油价低廉时又恢复消费的无度，而是把能源危机变成提高国家经济竞争力的“黄金时机”，举国上下厉行节能，政府打出一系列“政策环保”牌，使得该国的能源使用效率不断提升，成为全球楷模。现在，高油价不仅对日本经济的冲击有限，反而，之前未雨绸缪建立的低资源消耗发展模式，使得日本企业在高油价时代更具竞争优势，低油耗汽车等日本产品风靡全球。

可以推知，日本应对能源危机的主动策略是：

- A. 油价高起时节制消耗，油价低廉时恢复无度消费
- B. 改变能源使用方式，以非稀缺能源代替稀缺能源
- C. 调整经济增长发力点，改变过分依赖能源的缺点
- D. 改变消费观念，加强环保意识，提高能源利用率

【答案】D。解析：

阅读可知，题干属于转折结构，转折结构强调的是转折后面的内容。

题干说：不是……而是把能源危机变成提高国家经济竞争力的“黄金时机”，举国上下厉行节能，政府打出一系列“政策环保”牌，使得该国的能源使用效率不断提升。即：改变消费观念，加强环保意识，提高能源利用率。

所以，正确选项是 D。

35. 曾几何时，网络被视为只言片语的集散地，道听途说的原产地，这些对网络的陈旧认识，正在随着网络的发展而逐步被抛弃。今天，我国网民的数量已超过 1.5 亿，因特网全面渗入到中国人的日常生活，网络文化产业正在赶上并超过传统文化产业的规模，网络文化变得日益丰富，网络理性的力量正在成为主流，对年轻一代的影响尤甚。那种忽视网络影响的观点，在信息技术日益发展的今天，是违背历史唯物论的。

可以推知，作者对网络的态度是：

- A. 肯定
- B. 否定
- C. 中立
- D. 不清楚

【答案】A。解析：

阅读可知，题干说：对网络的陈旧认识，……被抛弃。……网络理性……成为主流，对年轻一代的影响尤甚。那种忽视网络影响的观点，……违背历史唯物论。很显然，作者对网络的态度是“肯定的”。

所以，正确选项是 A。

36. 海南泓缘生物科技公司从日本引进先进技术，经自主研发生产出泓缘菌并掌握相关应用技术，在普通环境里，用普通的饲养饲料，加上泓缘菌及相关的微生物应用技术，生产出符合国家绿色食品标准的猪肉、鸡肉等产品，有效解决了传统养猪业中药物残留高、猪场环境污染、猪肉口感差、产品达不到出口要求 4 大问题。经农业部热带农产品质量监督检验测试中心检测，海南泓缘生物科技有限公司生产的猪肉、鸡肉等产品全部指标均达到国家绿色猪肉、禽肉质量标准。

这段话主要支持了这样一个观点，即海南泓缘生物科技公司：

- A. 注意国际合作，通过引进日本技术解决了很多的问题
- B. 研发出来绿色肉类，解决了长期困扰我们的几个问题
- C. 研发出的肉类，经权威部门检验，全部达到绿色标准
- D. 在绿色肉类自主研发技术上已经达到国际前沿的水平

【答案】A。解析：

阅读可知，题干说：海南泓缘生物科技公司从日本引进先进技术，经自主研发生产出泓缘菌并掌握相关应用技术。BCD 三项都只强调“研发”，过于片面，排除。

所以，正确选项是 A。

37. 炫耀的目的，都是希望在某个层次上获得成功，如某人确有钱财，确实美貌，确有文才，确有口才，那你就炫耀吧，用现在一个词儿：展示。你总能获得局部成功，但成本太大，别人在认可你的同时，也要剥夺你本来具有的一些别的美德，比如稳重，比如谦虚。世人总是心照不宣地认为，看他那个讨厌劲儿啊！

由上述文字可推知，“炫耀”是：

- A. 施展的舞台
- B. 成功的催化剂
- C. “双刃剑”
- D. 金玉其外，败絮其中

【答案】C。解析：

阅读可知，题干说：……你总能获得局部成功，但……也要剥夺你本来具有的一些别的美德。（隐含：有利有弊）

所以，正确选项是C。

38. 特定的社会发展阶段，框定了相应的社会文化，特定的社会文化又决定着相应的财富文化，特定的财富文化决定相应的财富观。只有取之于民、用之于民的财富观已然成为社会较普遍的对财富的价值判断和价值追求时，盖茨式的、真正理解和认同“千金散尽还复来”的财富哲学的、热衷于慈善的企业家才会成批涌现。

这段话主要支持了这样一个观点，即：

- A. 中国的企业家不具备盖茨式的慈善精神
- B. 社会发展阶段决定了特定的慈善企业家
- C. 财富观正确与否在不同国度有不同答案
- D. 慈善家的“井喷”需要相应的财富文化

【答案】D。解析：

阅读可知，题干首先论述了“社会文化——财富文化——财富观”之间的连锁关系，然后说：只有取之于民、用之于民的财富观……慈善的企业家才会成批涌现。隐含：慈善家的“井喷”需要相应的财富文化。

所以，正确选项是D。

39. 从管理角度上来讲，主管应该是强势的，“一只狮子带领的一群羊”会轻易击败“一只羊带领的一群狮子”。经营管理如同带兵打仗，作为团队领袖的主管，绝对需要稳定军心，给团队提起无论是精神上还是物质上的“主心骨”。缺乏强势，团队就缺乏士气和斗志，一个团队的强势是由这个团队的主管是否强势所决定的——虎啸震山岗，狮吼百兽惊！

这段话主要支持了这样一个观点，即：

- A. 团队主管的管理能力决定了这个团队的战斗力
- B. 一个团队的强弱和团队主管的强弱有直接关系
- C. “狮子”和“羊”的最大差距在于不同的首领
- D. 只有团队强大了，其中的首领才能建立起威信

【答案】B。解析：

阅读可知，题干说：“一只狮子带领的一群羊”会轻易击败“一只羊带领的一群狮子”，一个团队是否强势是由这个团队的主管是否强势所决定的。（隐含：一个团队的强弱和团队主管的强弱有直接关系）

所以，正确选项是B。

40. “道理”浅显易懂，是常理和常识，人们很容易识别其有“理”还是没“理”，同时也就不会轻易地盲从。而“真理”不一样，要么是自然世界的奥秘，要么是历史规律。这些都是平民百姓所不懂的。在“真理”面前，百姓们处于绝对的低位态，只有靠上面那些精英人物灌输给他们“真理”的知识。对于其是否有“理”，他们是不知晓的。

可以推知，上述文字意在解释：

- A. “真理”比“道理”更具权威性的原因
- B. “真理”比“道理”难以被参悟的原因

- C. “真理”比“道理”被混为一体的原因
- D. “真理”比“道理”更具欺骗性的原因

【答案】D。解析：

阅读可知题干属于转折结构，转折结构强调的是转折后面的内容。

题干说：而“真理”不一样，……在“真理”面前，百姓们处于绝对的低位态，只有靠上面那些精英人物灌输给他们“真理”的知识。对于其是否有“理”，他们是不知晓的。（隐含：“真理”比“道理”更具欺骗性）所以，正确选项是 D。

41. 中国的粮食问题，仍然要靠自己，这是中国作为一个人口大国的国情所决定的。粮价是市场创造过程的客观结果，我们与其在价格干预上绞尽脑汁，不如把目光放长远，切实在农业基础设施、农业技术进步方面下大力气，珍惜每一寸土地，利用好每一项要素投入，保持粮食产量的稳定增长和粮食自给率的合适水平。在此基础上，才可能有“不管风吹浪打、胜似闲庭信步”的底气。

文中画线的“此基础”表示：

- A. 引进国外先进的农业技术，改变农业生产结构
- B. 提高粮食的销售价格，调动农民种粮的积极性
- C. 改善农业生产要素，保证足够适量的粮食产量
- D. 加大宏观调控，避免粮食市场掉入盲目的误区

【答案】C。解析：

根据前后语境呼应，“此基础”指的是它前面的“切实在农业基础设施、农业技术进步方面下大力气，珍惜每一寸土地，利用好每一项要素投入，保持粮食产量的稳定增长和粮食自给率的合适水平。”即 C 项：改善农业生产要素，保证足够适量的粮食产量。

所以，正确选项是 C。

42. 日本的文化在战后一直在潜移默化地影响着西方，现在越来越成为主流文化的重要组成部分，村上隆、奈良美智、村上春树已经成了世界流行文化的突出符号；在《黑客帝国》等一批好莱坞大片中可以清楚地看到日本动漫的影子。而在这些影响着世界（包括中国）的日本文化中，我们看到的并不是非常表面化的“菊与刀”之类的东西，而是更加本质的东西，有些东西需要仔细考量才能真正领悟。

这段文字主要说明：

- A. 日本文化已经渗透到了世界很多国家的文化领域
- B. 《黑客帝国》表明美国文化呈现出东方化的趋势
- C. 日本已经改变策略，我们要提防深层的文化侵略
- D. 要抵制异域文化的侵袭，需要我们提高分析能力

【答案】A。解析：

题干议论的关键词是“日本文化”，四个选项中只有 A 项强调日本文化。

所以，正确选项是 A。

根据短文回答 43—45 题：

_____ 哟！

你看那红的，黑的，白的，青的，嬉笑的，悲哀的，目眦欲裂的面具，无论怎样褒奖，怎样弃嫌，它们一点儿也不改变。红的还是红的，白的还是白的，目眦欲裂的还是目眦欲裂。人面呢？颜色比那纸制的小玩意好而且活动，带着生气。可是你褒奖它的时候，它虽是很高兴，脸上却装出很不情愿的样子；你指责他的时候，他虽是懊恼，脸上偏要显示出乐于纳言的颜色。

人面到底是靠不住呀！我们要学做面具，但不要戴它，因为面具后面应当让它空着才好。

43. 第一句话具有统括全文的作用，横线上应填充的文字为：

- A. 人面却不同
- B. 纸制的面具则不同
- C. 纸制的面具更不同那人面
- D. 人面原不同那纸制的面具

【答案】。解析：

本题属于概括主旨型。

题干感慨人面总试图隐藏真实的内心，不如面具真实，通过对比可以看出，作者的侧重点在于强调后半部分的“人面”。因此，“人面”才是文段的主体，排除 B、C 两项，A 项概括不够全面，排除。

所以，正确选项是 D。

44. 对文尾画横线的句子，理解正确的是：

- A. 因为面具虽然称作假面具但它不会做假
- B. 因为面具固然有真实的一面但它毕竟是假面具
- C. 因为面具具有真有假，真假令人莫辨
- D. 因为面具不会变化，假就是假，真就是真

【答案】B。解析：

阅读可知“我们要学做面具”，是因为面具“无论怎样褒奖，怎样弃嫌，它们一点儿也不改变。”是真实的；“但不要戴它”是因为它毕竟是“假面具”，不能代替人面，用它遮住了人面，更加看不到人面真实的表情，也更加不能揣测人的内心。

A、D 项都仅仅解释了面具真实的一面，但没有解释为什么不能戴；C 项不符合文意，面具本身没有假的。所以，正确选项是 B。

45. 短文将人面与面具对比，其用意强调说明的是：

- A. 人面有时比面具更假
- B. 面具有时比人面更假
- C. 人面比面具更善于表演
- D. 面具比人面更善于表演

【答案】C。解析：

本题属于推断文意型。

阅读可知，面具是真实的，而人面却常常是虚假的。A、B 项都表达了面具和人面都是假的的观点，只是谁比谁更甚的区别，前提错误，排除；D 项明显错误，排除。

所以，正确选项是 C。

46. 美国五星上将麦克阿瑟统率百万雄师，驰骋沙场，却对自己的小儿子不听管教、不把书念好、无望进入西点军校而苦恼不已。将军尚且管教不了儿子，何况是普通人呢？现代青少年和麦克阿瑟儿子的时代不同，思想迥异，但其“叛逆不羁”的程度，实有过之而无不及，越来越难以管教了。

这段话主要支持了这样一个观点，即：

- A. 现在青少年难以管教，是普遍现象
- B. 美国上将都管不了孩子，何况常人
- C. 人无完人，管不了孩子，不用自责
- D. 对不同时代的孩子，管教方法不一

【答案】A。解析：

本题属于概括主旨型。阅读可知，题干说“将军尚且管教不了儿子，何况是普通人呢？”“现代青少年……有过之而无不及”，这显然是说“现代青年难教是普遍现象”。

所以，正确选项是 A。

47. 网络的出现使人们更加敢于大胆地表露自己的想法，因为“在网络上，没有人知道你是一条狗”。从而网络传播也促进了快餐文化的盛行，受众不再静下心研究作品，而只追求视觉上的刺激，他们平时在网络上看到的信息今天是一个样，明天又是另外一个样，长此以往，受众就会产生浮躁心理，对网络的信息产生不信任。最符合这段文字中心思想的是：

- A. 网络文化是快餐文化的典型表现形态之一
- B. 主体隐蔽性致使网络文化及其传播产生负面效应
- C. 从长远来看，网络文化应该是一种泡沫文化
- D. 网络对传统文化带来的害处是不言而喻的

【答案】B。解析：

本题属于概括主旨型。阅读可知，题干首句体现了网络主体的隐蔽性，第二句之后所说明的问题如追求视觉刺激、浮躁心理等，均是网络的负面效果。B 项的概括最为恰当。

所以，正确选项是 B。

48. 古代咏花诗对花的自然属性有丰富多彩的描绘。剪春萝花瓣前端呈不规则锯齿状，像剪出的花边，被描述为“谁把风刀剪菠萝，极知造化著功多”。写蜡梅的“洗却铅膏饰道装，檀心浅露紫香囊”，“饰道装”表明总体来说花口是黄色的，长在下陷成囊状的花托上，且基部有紫晕，所以说“檀心浅露紫香囊”。写山茶花“雪里开花到春晚，世间耐久孰如君”，野蔷薇“似锦如霞色，连春接夏开”。

这段文字说明的主要是：

- A. 人们赏析古代咏花诗的人文内涵和对自然属性的描述
- B. 古时候人们对花卉有细致深入的观察，并表达得言简意赅
- C. 古代咏花诗对花形、花色、开花时间有精彩纷呈的描述
- D. 中国古代诗人们观花咏花，留下名垂千古的诗篇

【答案】C。解析：

“剪春萝花瓣前端呈不规则锯齿状”描写花形，蜡梅的“饰道装”描写的是花色，山茶花“雪里开花到春晚”描写花期。

所以，正确选项是 C。

49. 《简·爱》中罗彻斯特身为庄园主，财大气粗，对地位低下又其貌不扬的简·爱说：“我有权蔑视你！”但有坚强个性又渴望平等的简·爱反唇相讥：“你以为我穷，不好看，就没有自尊吗？不！我们在精神上是平等的！正像你和我最终通过坟墓平等地站在上帝面前一样。”这番话强烈地震撼了罗彻斯特。

这段文字主要表达的是：

- A. 自重方能赢得别人的尊重
- B. 在比自己强的人面前，不要畏缩
- C. 在比自己弱的人面前，不要骄纵
- D. 在现实生活中，人需要彼此尊重

【答案】A。解析：

本题属于推断文意型。阅读可知，简·爱的自尊自重赢得了庄园主罗彻斯特的尊重，据此可知：自重方能赢得别人的尊重。

所以，正确选项是 A。

50. 复杂的现代民族—国家体系提示每一个试图从弱到强崛起的落后国家，硬软实力的强化首先不是一个外部竞争的问题，而是一个内部理顺的问题。只要一个国家内部问题重重，既无视经济上基本机制的建构，又忽视

政治上政体的严肃选择，更抹杀社会文化的价值认同，那这样的国家就会始终处于民族—国家间竞争的弱势位置，即使它偶尔获得机遇成为一时大国甚至强国，它的长期维持能力也严重不足。

这段话主要支持了这样一个观点：

- A. 国家的软实力要比硬实力更具决定性
- B. 国家的内部问题要比外部问题更重要
- C. 经济、政治、文化共同决定国家实力
- D. 任何国家都不可能长期保持强势状态

【答案】B。解析：

阅读可知，题干属于转折结构，转折结构强调的是转折后面的内容。题干说：“硬软实力的强化首先不是一个外部竞争的问题，而是一个内部理顺的问题”，明显强调的是转折词“而是”之后的“内部理顺”问题，其后面的内容明显是对“内部问题”的解释。

所以，正确选项是B。

51. 一个人要有所敬畏，在自己心目中总有一些东西属于做人的根本，是_____不得的。

填入划横线处最恰当的一项是：

- A. 张扬
- B. 褻渎
- C. 诋毁
- D. 冒犯

【答案】B。解析：

张扬，把隐秘的或不必让众人知道的事情声张出去。褻渎：轻慢、不尊敬。诋毁：毁谤、污蔑。冒犯：言语或行动没有礼貌，冲撞了对方。根据句中“敬畏”一词，可知本题填入B项的反义词“褻渎”最合适。

所以，正确选项是B。

52. “为官不在多言”。这是中国自古以来的政治：这既是一种政治_____，更是做人的_____。

依次填入划横线处最恰当的一项是：

- A. 训诫 诚信
- B. 劝诫 精诚
- C. 训诲 至诚
- D. 训示 诚意

【答案】A。解析：

根据后一句“既是……更是……的诚信”可知，第二空应填入“诚信”一词。

所以，正确选项是A。

53. 抗震救灾_____民族精神的活力，_____民族精神的内涵，_____民族精神的价值。民族精神成为战胜灾害的巨大力量。

依次填入划横线处最恰当的一项是：

- A. 展示 激发 彰显
- B. 彰显 展示 激发
- C. 彰显 激发 展示
- D. 激发 彰显 展示

【答案】D。解析：

展示：清楚地摆出来，明显地表现出来。激发：刺激使奋发。彰显：鲜明地显示。根据语词的固定搭配可知，各空应该依次填入“激发活力，彰显内涵，展示价值”。

所以，正确选项是 D。

54. 与物质财富相比，人的精神财富的最大特点是_____，它是一种看不见的存在，一个人所拥有的精神财富的多少，别人只能凭_____知道。

依次填入划横线处最恰当的一项是：

- A. 无量 相处
- B. 无限 想象
- C. 无比 接触
- D. 无形 感觉

【答案】D。解析：

物质财富是有形的，与此相对，精神财富就应该是“无形”的，因此第一个空格中应填入“无形”。所以，正确选项是 D。

55. 理论与创作恰如一辆车的两个轮子，失去一个，另一个就难以_____地前行了，理论是支点，失去支点，也就失去了_____。

依次填入划横线处最恰当的一项是：

- A. 稳健 平衡
- B. 正常 根基
- C. 平衡 力量
- D. 自如 重心

【答案】A。解析：

由“失去支点”可知，填入第二个空格的应该是“也就失去了‘平衡’”。所以，正确选项是 A。

56. 几株老梅竞斗雪开着满树的繁花，仿佛毫不以深冬为意；倒塌的亭子旁边还有一株山茶树，从暗绿的密叶里显出十几朵红花来，赫赫的在雪中明得如火，_____而且_____。

依次填入划横线处最恰当的一项是：

- A. 狂暴 混乱
- B. 愤怒 傲慢
- C. 张扬 动荡
- D. 猛烈 惊心

【答案】B。解析：

文中以老梅喻人，故空格处应填入形容人的“愤怒”而且“傲慢”。所以，正确选项是 B。

57. 人类的大脑细胞具有_____的抵抗癌变的能力，不但可以调节人体免疫能力，还能_____肿瘤细胞的生长，人类实现自主抗癌不再是幻想。

依次填入划横线处最恰当的一项是：

- A. 显著 减缓
- B. 潜在 遏制
- C. 轻微 压迫
- D. 优异 阻止

【答案】B。解析：

本题可根据第二空解题，“减缓”和“压迫”肿瘤细胞的生长明显搭配不妥。由此可以排除 A、C 两项。再由

前半句“大脑细胞具有抵抗癌症的能力”可知，肿瘤细胞的生长只能被“遏制”，而不能被“阻止”。

所以，正确选项是 B。

58. 神话基本上不是靠理性原则、逻辑思维来安排的，而是依_____展开，因此充满了_____的色彩。神话之中的神，往往都会有明显的情绪表现，代表着一种尚未经过文化陶冶及修饰的，较为自然、原始、粗糙的人性面貌。

依次填入划横线处最恰当的一项是：

- A. 情感 感性
- B. 情节 朴实
- C. 情绪 率性
- D. 情趣 喜

【答案】A。解析：

由题干第一句中出现的“理性”可知，与之相反的应该是“感性”。

所以，正确选项是 A。

59. 归属是人的一种_____需要，人在社会中总是_____归属一定的群体。

依次填入划横线处最恰当的一项是：

- A. 高级心理 渴望自己
- B. 复杂心情 期望个人
- C. 特殊感情 希望个体
- D. 社会交往 自然而然

【答案】A。解析：

D 项的“自然而然”明显有误，排除。B 项的“期望个人”和 C 项的“希望个体”从表达方式上来说与句子主语“人”搭配不当，排除。A 项“渴望自己”与主语“人”搭配恰当。

所以，正确选项是 A。

60. 一种文化决不能靠_____其他文化而得到真正的发展，有没有容纳外来文化成分的气魄，能不能_____和消化并不机械照搬、盲目崇外，正是衡量一种文化有没有生命力的标准。

依次填入划横线处最恰当的一项是：

- A. 排挤 吸收
- B. 排斥 吸纳
- C. 诽谤 吸纳
- D. 排斥 吸收

【答案】D。解析：

排斥：使别的人或事物离开自己这方面。排挤：利用势力或手段使不利于自己的人失去地位或利益。根据文意，第一个空格中应填入“排斥”。由此排除 A、C 两项。

与“消化”相对应的只能是“吸收”，而不能是“吸纳”，由此排除排除 B 项。

所以，正确选项是 D。

第三部分 判断推理

(共 40 题，参考时限 40 分钟)

一、定义判断：共 10 题。每道题先给出一个概念的定义，然后分别列出四种行为。要求你严格依据定义从中选出一个最符合或最不符合该定义的答案。注意：假设这个定义是正确的，不容置疑的。

61. 继续教育：是指针对专业技术人员进行的以更新、补充、拓宽专业知识和培养、提高业务能力为目的的非学

历教育。根据以上定义，下列各项中属于继续教育的是

- A. 许多农村中学教师通过函授教育取得了本科文凭
- B. 高等院校已获得教授、副教授职称的教师在职攻读博士学位
- C. 为使小学教师适应新的课程标准，教育局连续三年举办暑期培训
- D. 劳动局为帮助下岗职工实现再就业举办的多种形式职业培训

【答案】C。解析：

继续教育的定义要点是：（1）针对专业技术人员，（2）以更新、补充、拓宽专业知识和培养、提高业务能力为目的，（3）非学历教育。

A、B 两项不符合条件（3）；

D 项不符合条件（2）；

只有 C 项符合定义条件。

所以，正确选项是 C。

62. 网络成瘾：是指个体反复过度使用网络导致的一种精神行为障碍，表现为对使用网络产生强烈预防，突然停止或减少使用时出现烦躁、注意力不集中、睡眠障碍等。以下属于网络成瘾的行为症候是

- A. 李小兵高考之后，父母对其上网不再过问，他一不上网就感到精神恍惚
- B. 学生张某勤工俭学，为某网吧做管理员，全部业余时间都在网吧，经常睡眠不足
- C. 某公司销售部经理整天泡在网上，联络客户、处理订单、工作压力大，使他有些烦躁
- D. 某职业技术学院电子商务专业的几位学生合伙开了电子购物网站，生意火爆，几乎没时间下线，老师说他们上课都有点心不在焉

【答案】A。解析：

网络成瘾的定义要点之一是：对使用网络产生强烈欲望。

A 项符合定义；

B 项做网吧管理员、C 项上网的目的是联络客户、D 项上网是为了做生意，都不是对使用网络产生强烈欲望，不符合定义。

所以，正确选项是 A。

63. 信息指的是客观世界的物质运动与主观世界精神活动所表现出来的各种状态特征的总和。这些特征被人的感觉器官或仪器所感觉到或测量到并被记录或表达下来，就成为了一些数据、图像、符号、语言、文字等，它们包含着所表征事物或事件的内容。信息技术则是有关信息的产生、收集、接受、处理、存贮、检索等技术的总称。

根据上述定义，下列不属于信息技术的是：

- A. 微电子技术（提供电脑芯片）
- B. 计算机技术、通信技术、信息存贮技术
- C. 数据库技术、网络技术
- D. 最新工程技术，如纳米技术

【答案】D。解析：

纳米技术不具有对信息的产生、收集、传输、接受、处理、存贮、检索等功能。

所以，正确选项是 D。

64. 横向收购是指生产同类（或同种）商品或服务的企业之间的收购。它一般涉及在同种商业活动经营和竞争的两家企业，其目的在于消除竞争，扩大市场份额，增加收购公司的垄断实力或形成规模效应。

根据上述定义，下列属于横向收购的是：

- A. 石化企业对石油制品销售企业的并购

- B. 白酒生产企业并购啤酒生产企业
- C. 美国著名零售商业公司蒙哥马利一沃德公司被美孚石油公司吞并
- D. 1987 年美国汽车公司被克莱斯勒汽车公司收购

【答案】D。解析：

只有 D 项是生产同类商品的企业之间的收购，属于横向收购。
所以，正确选项是 D。

65. 发散思维是指在创造和解决问题的思考过程中，从已有的信息出发，尽可能向各个方向扩展，不受已知的或现存的方式、方法、规则和范畴的约束，并且从这种扩散、辐射和求异式的思考中，求得多种不同的解决办法，衍生出各种不同的结果。

根据以上定义，下列不属于发散思维的是：

- A. 化学能产生电能，据此伏特发明了伏打电池；反过来电能也能产生化学能，通过电解，戴维发现了钾、钠等 7 种元素
- B. 19 世纪末法国园艺学家莫尼哀从植物的盘根错节想到水泥加固
- C. 数学运算过程中的“一题多解”
- D. 理论工作者依据许多现成的资料归纳出一种结论

【答案】D。解析：

根据关键信息“衍生出各种不同的结果”可知，理论工作者依据许多现成的资料归纳出“一种结论”不属于发散思维。

所以，正确选项是 D。

66. 领导意味着确立方向和战略决策，激励与鼓舞他人，为变革创建远景。管理意味着执行计划，制定实现目标的详细步骤和时间表，分配资源，支配日常工作，完成活动。管理者是把事情做正确的人，而领导者是做正确的事情的人。

根据上述定义，下列属于领导的是：

- A. 公司的董事长
- B. 军队的基层连长
- C. 政府的新闻发言人
- D. 企业的经理人

【答案】A。解析：

军队的基层连长、政府的新闻发言人和企业经理人都执行计划、完成活动的人，而只有公司董事长才是确立公司战略发展方向的人，属于领导。

所以，正确选项是 A。

67. 意外利润指企业由于外界条件的变化，而并非因为本身经营有方所获得的利润，相比额外利润它不是企业经营所致，而是在企业完全没有预料的情况下发生的、超出计划的部分利润所得。

根据上述定义，下列属于意外利润的是：

- A. 某市在郊外修建了一条铁路，沿线的小餐馆生意越来越红火
- B. 某公司营业一直不景气，于是更换了业务主管，结果营业额上升
- C. 某服装厂引进了先进的设备，结果获得了更多的利润
- D. 某金融公司由于与大客户签订合同成功，获得了更多的利润

【答案】A。解析：

根据意外利润中的关键信息“并非本身经营有方所获得的利润”可知，A 项中小餐馆不是因为经营有方，而是因为“在铁路沿线”生意越来越红火，获得的利润属于意外利润。

所以，正确选项是 A。

68. 价格竞争是指商品生产者为了增加商品销售量，击败对手，提高赢利水平，利用价格作为竞争手段之一。

根据上述定义，下列不属于价格竞争的是：

- A. 甲公司为招徕顾客而打折销售
- B. 乙公司为长期顾客降价优惠
- C. 丙公司以赠小商品来招揽顾客
- D. 丁公司靠加大广告宣传来招揽顾客

【答案】D。解析：

D 项中，丁公司靠加大广告宣传来招揽顾客没有利用价格作为竞争手段，不属于价格竞争。A 项中的“打折”，B 项中的“降价优惠”都明显属于价格竞争，排除；C 项中丙公司以赠小商品来招揽顾客也属于价格竞争，因为多赠商品相当于降低商品原价。

所以，正确选项是 D。

69. 金融诈骗犯罪是指采取虚构事实或隐瞒事实真相等方法，非法骗取金融机构资财或信用致使金融秩序遭到破坏，使国家资财遭受损失的行为。

根据上述定义，下面不属于金融诈骗犯罪的是：

- A. 甲某以“外商”为名骗取银行某支行金额 100 万美元的备用信用证
- B. 乙公司因经营不善到期未能偿还银行贷款，致使银行遭受损失
- C. 丙团伙伪造国务院批文，伪造成立“中华福利银行”
- D. 丁团伙非法集资百万

【答案】B。解析：

由关键信息“采取虚构事实或隐瞒事实真相等方法”可知，B 项不属于金融诈骗犯罪，乙公司是因为经营不善而无法偿还银行贷款，致使银行遭受损失的。

所以，正确选项是 B。

70. 法律援助是指在国家设立的法律援助机构的指导和协调下，律师、公证人员、基层法律工作者等法律服务人员依法为经济困难或特殊案件的当事人给予减、免收费提供法律帮助的一项法律制度。它有一般对象和特殊对象，前者是要审查其是否具备援助条件的中国公民；后者是指符合刑事诉讼法和司法部、最高人民法院关于开展刑事法律援助的联合通知规定的刑事被告人。

根据上述定义，下列属于法律援助对象的是：

- A. 在中国犯抢劫罪的外国人
- B. 确因经济困难，无能力或无完全能力支付法律服务费用的人
- C. 因经济困难无能力聘请律师的作为残疾人的刑事嫌疑人
- D. 在刑事案件中，委托了辩护人的外国籍被告人

【答案】B。解析：

根据定义，法律援助对象包括一般对象和特殊对象。一般对象的关键要件是：（1）具备援助条件中国公民；特殊对象的关键要件是：（2）刑事被告人。

A 项既不属于（1）也不属于（2），故排除。

B 项符合（1）。

C 项中刑事嫌疑人不等同于刑事被告人，不符合（2）。

D 项不符合（1）。

所以，正确选项是 B。

二、类比推理：共 10 题。先给出一对相关的词，要求你在备选答案中找出一对与之在逻辑关系上最为贴近或相似的词。

71. () 对于 鱼虾 相当于 草原 对于 ()

- A. 养殖 放牧
- B. 渔民 牧民
- C. 水产 牧草
- D. 海洋 牛羊

【答案】D。解析：

代入选项，题干的逻辑关系可以表述为：鱼虾在海洋里，牛羊在草原上。
所以，正确选项是 D。

72. 交通事故与道路的关系 相当于 () 与 () 的关系

- A. 食物中毒 医院
- B. 瓦斯爆炸 矿井
- C. 校舍坍塌 地震
- D. 河堤溃决 汛期

【答案】B。解析：

题干词组的关系可以表述为：在道路上发生交通事故。
B 项的关系与此相同：在矿井里发生瓦斯爆炸。
所以，正确选项是 B。

73. 苦的：甜的

- A. 决定性的：谨慎的
- B. 简单的：简洁的
- C. 有序的：默许的
- D. 高兴的：伤心的

【答案】D。解析：

题干词组的关系可以表述为：反义词。
D 项的关系与此相同。
所以，正确选项是 D。

74. 中国：国家

- A. 秦国：燕国
- B. 人：动物
- C. 武夷山：武夷山脉
- D. 生物：植物

【答案】B。解析：

题干词组的关系可以表述为：中国是国家。
B 项的关系与此相同：人是动物。
所以，正确选项是 B。

75. 音量：影响

- A. 性情：脆弱
- B. 哭：呼喊

- C. 小费：舞会
- D. 蒸馏：纯度

【答案】D。解析：

题干词组的关系可以表述为：音量大小决定影响的大小。

D项的关系与此相同：蒸馏程度决定纯度高低。

所以，正确选项是D。

76. 清新：空气

- A. 高兴：开心
- B. 郑重：答案
- C. 肥沃：土地
- D. 得意：生气

【答案】C。解析：

题干词组的关系可以表述为：清新的空气。

C项的关系与此相同：肥沃的土地。

所以，正确选项是C。

77. 公鸡：家禽

- A. 母鸡：矮脚鸡
- B. 小虾：有袋动物
- C. 卷发：头发
- D. 母马：牲畜

【答案】D。解析：

题干词组的关系可以表述为：公鸡是一种家禽。

D项的关系与此相同：母马是一种牲畜。

所以，正确选项是D。

78. 大海：鱼

- A. 天空：小鸟
- B. 大地：高山
- C. 猪：森林
- D. 果子：核

【答案】A。解析：

题干词组的关系可以表述为：鱼在大海中游。

A项的关系与此相同：小鸟在天空中飞。

所以，正确选项是A。

79. 成功：失败

- A. 开始：中断
- B. 幸福：悲哀
- C. 希望：失望
- D. 喜欢：仇恨

【答案】C。解析：

题干词组的关系可以表述为：反义词。

C 项的关系与此相同。
所以，正确选项是 C。

80. 教师：教室
- A. 勇士：枪支
 - B. 部队：战斗
 - C. 战场：战士
 - D. 士兵：军营

【答案】D。解析：

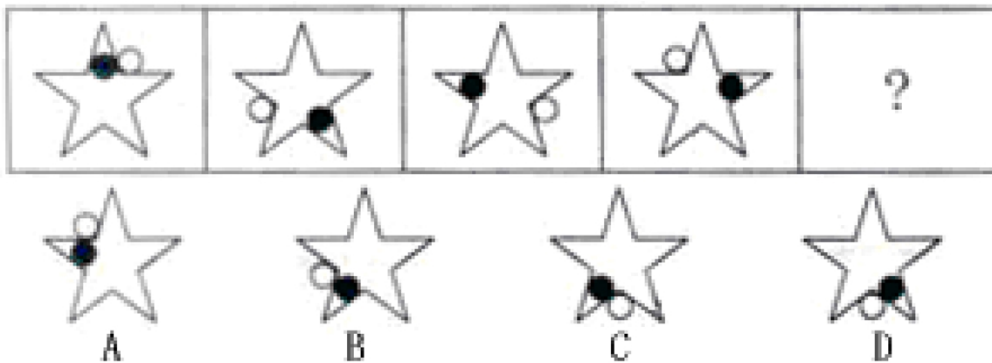
题干词组的关系可以表述为：教师在教室里。

D 项的关系与此相同：士兵在军营里。

所以，正确选项是 D。

三、图形推理：共 10 题。包括两种类型的试题：要求你从四个选项中选择你认为最合适的一项。

81.

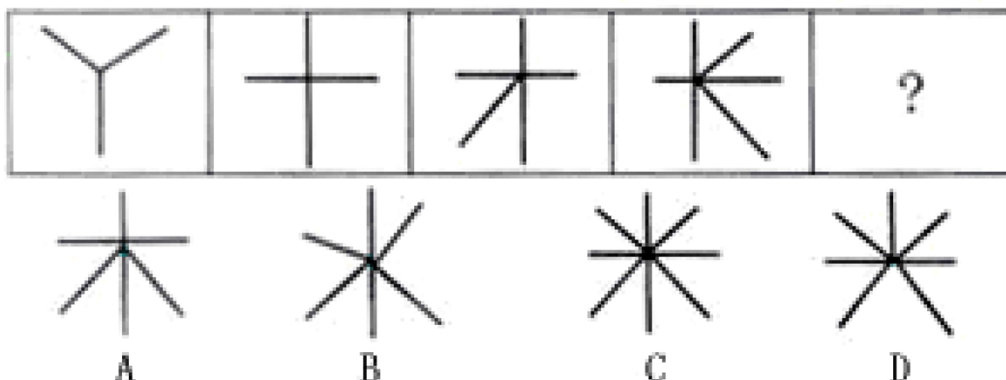


【答案】C。解析：

本题考查元素的位置移动规律。第 1 个图形的小黑色圆在五角星内顺时针移动两个五角星内角，同时小白圆在五角星外逆时针旋转两个五角星外角得到第 2 个图形。第 2 个图形依此规律得到第 3 个图形。

所以，正确选项是 C。

82.

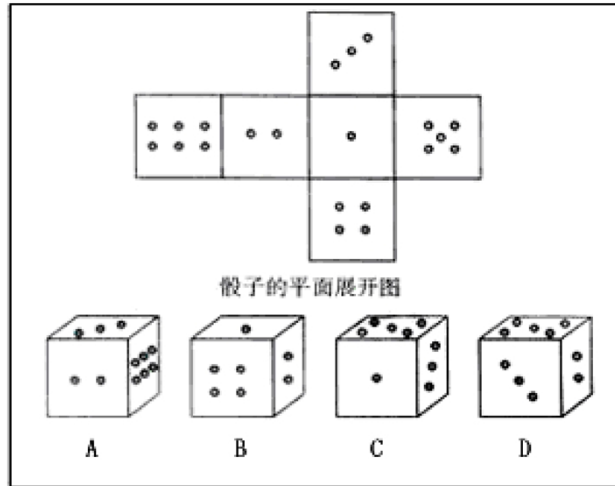


【答案】D。解析：

本题考查图形的线段个数。图形线段数量分别为 3、4、5、6、？，所以“？”处线段数应为 7。

所以，正确选项是 D。

83. 要求你从四个图形中把与众不同的挑出来。

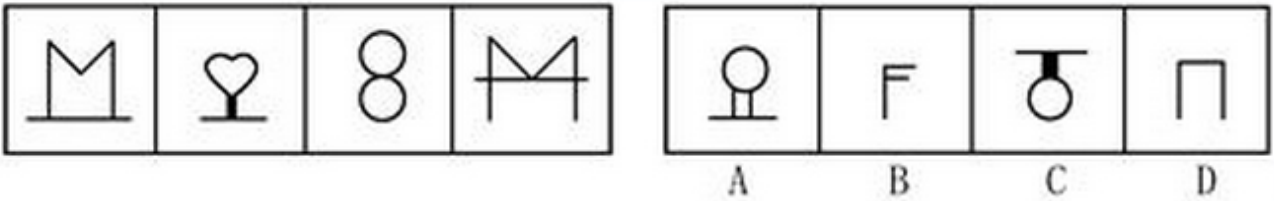


【答案】D。解析：

本题考查特征面间的相对位置关系。由骰子的平面展开图可知，A选项2点面、3点面和6点面两两相邻；B选项1点面、2点面和4点面两两相邻；C选项1点面、3点面和5点面两两相邻；D选项2点面和3点面相邻，3点面和5点面相邻，而2点面和5点面不相邻，所以D选项与其余三个选项特征不同。

所以，正确选项是D。

84.

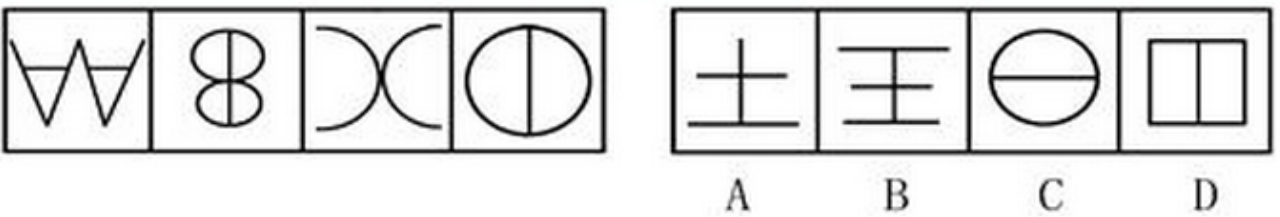


【答案】C。解析：

数字1、2、3、4、5的对称图形。

所以，正确选项是C。

85.

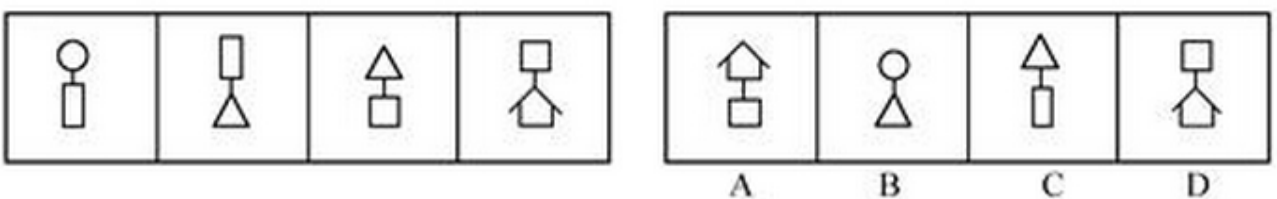


【答案】B。解析：

字母A、B、C、D、E的对称图形。

所以，正确选项是B。

86.

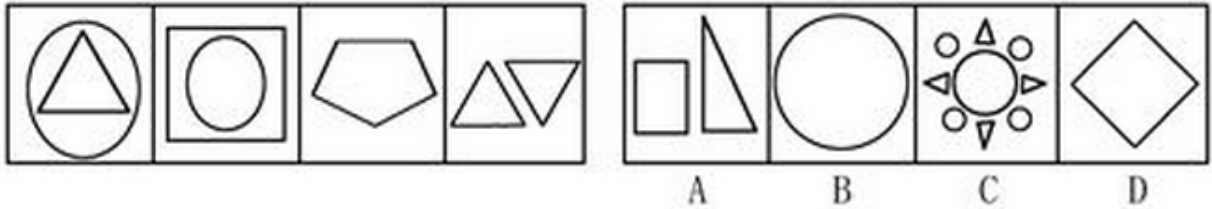


【答案】A。解析：

观察题干图形可以发现，第二、第三、第四个图形的上半部分元素分别是前一个图形的下半部分元素，所以未知项图形的上半部分也应该是第四个图形的下半部分。只有 A 项符合要求。

所以，正确选项是 A。

87.

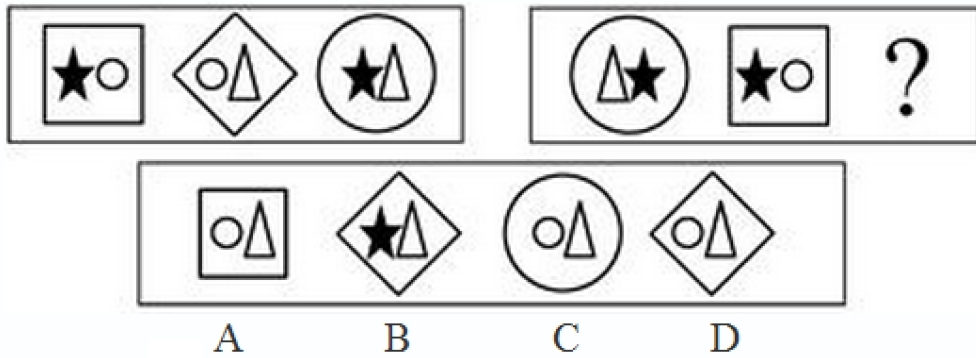


【答案】A。解析：

前四个图形中的直线数分别是 3、4、5、6 条，下一个图形中应该有 7 条直线。

所以，正确选项是 A。

88.

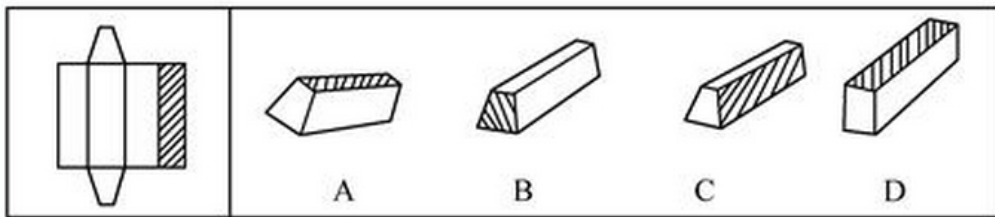


【答案】C。解析：

第三个图由图一、二的共同部分组成。

所以，正确选项是 C。

89. 在右面的 4 个图形中，只有一个是左边的纸板折叠而成。你需要选出正确的一个。

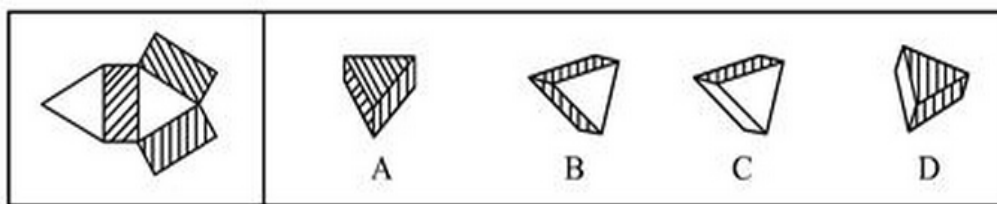


【答案】A。解析：

根据左边纸板可知，梯形的面折叠后不可能成为阴影面，也不可能与阴影面相邻，由此可以排除 B、C 两项。同时，根据纸板上的梯形可知，折叠后不可能是长方体，故 D 不正确。

所以，正确选项是 A。

90. 在右面的 4 个图形中，只有一个是左边的纸板折叠而成。你需要选出正确的一个。



【答案】。解析：

根据左边纸板可知，折叠后得到的三棱柱其两个三角形的侧面必是空白的，而三个四边形的侧面则是阴影的，所以，正确选项是 B。

四、逻辑推理：共 10 题。每题给出一段陈述。这段陈述被假设是正确的，不容置疑的。要求你根据这段陈述，选出一个答案。注意，正确答案应与所给的陈述相符合，不需要任何附加说明即可从陈述中直接推出。

91. 张教授是学术道德和学术诚信委员会委员，所以网上批评他学术不端行为的帖子不可能是真的。

以下哪项如果为真，上述推断才是必然可靠的？

- A. 该委员会的委员在入选之前都经过严格审查。
- B. 网络上的言论是不可靠的，且批评的帖子没有署真名。
- C. 该委员会的委员从来没有人被指责有学术不端行为。

【答案】D。解析：

张教授是学术道德和学术诚信委员会委员，只有“凡是学术道德和学术诚信委员会的委员都不会有学术不端行为”，才能确定网上批评他学术不端行为的帖子不可能是真的。

所以，正确选项是 D。

92. 随着中国经济的发展，私人轿车进入家庭，对中国人来说已不再是遥远的梦想。然而，随着私家车的日益增多，将使本来就十分严重的交通紧张状况面临雪上加霜的困境。因此，中国的交通问题最终必然限制私人轿车的发展。

以下哪项如果为真，最能驳斥上述观点？

- A. 应先发展交通，再发展轿车工业。
- B. 私人轿车的增多不是交通紧张状况加剧的主要原因。
- C. 随着轿车进入家庭，必将带动中国交通的大发展，从来就是先有车，然后才有路。
- D. 在人口众多、交通不发达的中国，发展私人轿车是不切实际的。

【答案】C。解析：

所谓“中国的交通问题最终必然限制私人轿车的发展”，是假定只发展私人轿车，而不发展道路交通。必须指出这是错误的。即：随着轿车进入家庭，必将带动中国交通的大发展，从来就是先有车，然后才有路。

所以，正确选项是 C。

93. 水是未来人类长期驻扎月球最重要的物质，月球上是否有丰富的水，一直是科学家探索的目标。月球南极附近一些环形山的凹陷处终年见不到阳光，温度约为零下 173 摄氏度，因此有推测称那里有可能存在较厚的冰盖。

以下哪项如果为真，最能颠覆上述假说？

- A. 月球上水的凝固温度与地球不同
- B. 月球南极被陨石撞击后新生成了一些小坑
- C. 月球南极个别环形山凹陷处有一定量的冰块
- D. 过去被认为能反映“冰盖”存在的信号，源自环形山内壁的石块

【答案】D。解析：

AC项说明月球上存在水或是冰，对题干结论起到支持作用。B项为无关选项。D项是对题干结论的否定，即原本认为可能的冰，其实是石块。

所以，正确选项是D。

94. 20世纪70年代以来，光导纤维、非晶态、新型陶瓷、碳50、钛合金、纳米材料、智能材料等具有各种特殊性能的材料不断涌现。目前已有25万种性能各异的材料问世，纳米科技由于其一系列独特的性能及广泛应用，正在形成一个新产业群落，推动并影响整个科学技术研究及产业的发展。

以下哪项如果为真，最能加强上述断定？

- A. 某些重要材料的出现，往往产生巨大的经济效益
- B. 材料技术的发展是各种新技术发展的基础
- C. 一系列新兴产业群落如纳米科技产业群正在崛起
- D. 第五次技术革命是智能化革命

【答案】B。解析：

C项与题干内容重复，排除。

D项为无关选项，排除。

A项“经济利益”与原文无关，排除。

所以，正确选项是B。

95. 在冰河世纪中期，地球上有着数百万的猛犸象，然而两万年之后，他们几乎全部灭绝。从对数百个猛犸象化石上萃取下来的DNA进行检测后发现，猛犸象个体之间的基因差异并不明显，所以它们不能适应自己的环境。10万年前的冰河世纪晚期的世界森林扩张最终导致许多动物所赖以生存的冰冻草原后来慢慢被森林所取代。由此可以推出：

- A. 该对这些巨大动物从历史上消失负责的是饥饿的史前猎人
- B. 气候的剧变是猛犸象绝迹的主因
- C. 森林扩张最终导致猛犸象灭绝
- D. 灭绝是其基因变异的结果

【答案】C。解析：

由题干末句“许多动物所赖以生存的冰冻草原后来慢慢被森林所取代”可知，森林的扩张导致猛犸象灭绝。所以，正确选项是C。

96. 何老师、李老师、詹老师都买了新手机，手机的牌子分别是诺基亚、摩托罗拉、三星，他们让小王猜他们各自买的是什么牌子的手机。小王猜道：“何老师买的诺基亚手机，詹老师买的不是三星手机，李老师买的不是诺基亚手机。”事实上，小王的上述猜测，只对了—一个。

由上述断定可推出以下哪项结论？

- A. 何老师买的是摩托罗拉，李老师买的是诺基亚，詹老师买的是三星
- B. 何老师买的是诺基亚，李老师买的是三星，詹老师买的是摩托罗拉
- C. 何老师买的是诺基亚，李老师买的是摩托罗拉，詹老师买的是三星
- D. 何老师买的是三星，李老师买的是诺基亚，詹老师买的是摩托罗拉

【答案】D。解析：

假设“何老师买的诺基亚”猜测正确，则詹老师买的是三星，李老师买的也是诺基亚，矛盾。由此排除B、C项。

假设“詹老师买的不是三星”正确，则李老师买的就是诺基亚，詹老师买的是摩托罗拉，何老师买的就是三星。

所以，正确选项是D。

97. 某旅行社组织了两个旅游团，一个团去北京旅游，一个团去杭州旅游。由于两个团同时出发，所以同一个人不可能跟两个团。所有去杭州旅游的人都是北京人，有些四川人参加了北京的旅游团，所有的四川人都喜欢吃辣椒。

如果以上说法是正确的，那么下列哪个也一定是正确的？

- A. 旅游团中不去北京旅游的人都不喜欢吃辣椒
- B. 旅游团中有些四川人没有参加去杭州的旅游
- C. 旅游团中有些北京人不去杭州旅游
- D. 旅游团中有些参加杭州旅游的人不喜欢吃辣椒

【答案】B。解析：

由“所有四川人都喜欢吃辣椒“推不出”不去北京旅游的人都不喜欢吃辣椒”，由此可以排除 A、D 两项。由“所有去杭州旅游的人都是北京人”可以推出“所有四川人没有参加去杭州的旅游”，因此 B 项正确。有“所有去杭州旅游的人都是北京人”不能推出“有些北京人不去杭州旅游”。由此可以排除 C 项。所以，正确选项是 B。

98. 有一种微生物，它产生毒素污染河水时会使河水变成绿色，这种现象被称为泛绿。当鸭子的主要食物河虾被这种有毒微生物污染时，鸭子就不会在那些区域觅食。对于鸭子的这种行为，科学家的一种解释认为，鸭子在某个地方正式觅食之前会先尝几只河虾，并且能够察觉到其中的任何毒素。

以下哪项为真，将最有力地表明上述解释是不正确的？

- A. 当河里发生泛绿现象的时候，既看不到鸭子，水里也没有河虾
- B. 鸭子在某个水域出现是一种显著的标志，表明那里可以找到其他水生生物
- C. 少量的微生物毒素不会产生什么危害，但是过量的话还是会使得鸭子死亡的
- D. 当没有受到泛绿影响的一片河水被人为地染成绿色时，鸭子也不吃那些地方的河虾

【答案】D。解析：

题干的结论是：鸭子通过先尝几只河虾能够察觉泛绿河水中的毒素，继而鸭子不在那儿觅食。D 项最好地证明了这个解释不正确，因为鸭子压根就不吃绿色河水里的虾（不管有没有毒素）。

所以，正确选项是 D。

99. 当在消毒柜中消毒时，不含水分的餐盘包括其内部可以达到很高的、足以把所有引起餐盘中毒的细菌杀死的温度，但是含有水分的餐盘的内部则达不到这样高的温度。

由上述断定不能推出的结论是哪项？

- A. 水分可以有效地阻止微波加热餐盘的内部
- B. 如果事先将要消毒的餐盘擦干，就能更彻底地消毒餐盘
- C. 当用消毒柜消毒餐盘时，其原有的杀菌功能大大减弱
- D. 经过消毒柜消毒的餐盘如果有残留的细菌，则其中一定含有水分

【答案】A。解析：

题干说“当在消毒柜中消毒时”，并没有说到是什么样的消毒柜，更没有指明是“微波消毒柜”，但是 A 项却说“水分可以有效地阻止微波加热餐盘的内部”，其中的“微波”属于无中生有，因而 A 项不可能推出。

本题的 D 项容易误选。题干所说“当在消毒柜中消毒时，不含水分的餐盘包括其内部可以达到很高的、足以把所有引起餐盘中毒的细菌杀死的温度”，可以整理为一个充分条件假言命题：如果不含水分的餐盘在消毒柜中消毒时，足以把所有的细菌杀死。”根据充分条件假言命题的规则，肯定前件必然肯定后件，否定后件必然否定前件，则如果经过消毒柜消毒的餐盘有残留的细菌，那么一定是因为餐盘含有水份。因此可以排除 D 项。

所以，正确选项是 A。

100. 某镇组织科姚科长在接受当地记者的采访时说：“近年来刚进入机关的干部对下基层锻炼的兴趣普遍比以前强多了，我镇的机关干部对于下基层的报名十分踊跃，这在几年前几乎是不可思议的。”

姚科长的结论基于以下哪项假设？

- A. 机关干部下基层锻炼，对当地的发展起到推动的作用
- B. 对待下基层的态度是衡量是否有下基层兴趣的重要标准
- C. 近年来进入该镇的干部较前几年的比起来有较高的综合素质
- D. 该镇机关干部对下基层锻炼产生兴趣，是由于基层待遇提高

【答案】B。解析：

题干论证的结论是：近年来刚进入机关的干部对下基层锻炼的兴趣普遍比以前强多了。据以得出结论的前提是：我镇的机关干部对于下基层的报名十分踊跃。

本题就是要求在“报名十分踊跃”（隐含：态度）与“下基层锻炼的兴趣普遍比以前强多了”之间搭桥。B项说：对待下基层的态度是衡量是否有下基层兴趣的重要标准，很好地在二者之间搭了桥。

所以，正确选项是B。

第四部分 常识判断

（共20题，参考时限10分钟）

要求你依据常识做出判断。请注意，似乎合理的答案可能有多种，你应选择最为合理的一个。

101. 科学发展观的本质特征是：

- A. 实践性
- B. 科学性
- C. 可持续性
- D. 可协调性

【答案】A。解析：

实践性是科学发展观的本质特征。开展深入学习科学发展观活动，必须突出实践特色，在学习中推动实践，在实践中深化认识。在坚持科学发展观的活动中，我们要自觉把学习实践活动与贯彻中央决策部署紧密结合起来。

所以，正确选项是A。

102. 坚定不移惩治腐败是我们党有力量的表现，也是全党同志与广大人民群众的共同愿望，“党的力量”来源于：

- A. 军队
- B. 加强作风建设
- C. 人民群众
- D. 共产主义理想信念

【答案】C。解析：

群众观点是马克思主义的基本观点，是我们党的根本政治路线和组织路线，也是我党我军的优良传统和优良作风，人民群众是历史的创造者和推动历史前进的决定性力量。中国共产党的发展历程证明：保持党与人民群众的密切联系是党一往无前、战无不胜的根本保证，人民群众是党的力量源泉和胜利之本。

所以，正确选项是C。

103. 根据我国宪法的规定，下列机关中_____有权制定行政法规。

- A. 全国人大
- B. 全国人大常委会
- C. 国务院
- D. 国务院各部委

【答案】C。解析：

我国宪法规定，全国人大常委会有权制定法律，省级人大可以制定地方性法规。国务院各部委有权制定部门规章，只有国务院可以制定行政法规。

所以，正确选项是 C。

104. 西游记中的西天是指：

- A. 埃及
- B. 印度
- C. 西藏
- D. 新疆

【答案】B。解析：

西游记中的西天古称天竺，也就是现在的印度，它是佛陀故乡、佛教圣地。
所以，正确选项是 B。

105. 下面诗词搭配正确的是：

- A. 随风潜入夜，润物细无声——《春夜喜雨》 李白
- B. 接天莲叶无穷碧，映日荷花别样红——《晓出净慈寺送林子方》 杨万里
- C. 不是话中偏爱菊，此话开尽更无花——《菊花》 陶渊明
- D. 洛阳亲友如相问，一片冰心在玉壶——《凉州词》 王昌龄

【答案】B。解析：

A 项，此诗句是杜甫的作品，不是李白，排除；C 项，此诗句源于元稹的《菊花》，不是陶渊明的，排除；D 项，此诗句源于王昌龄的《芙蓉楼送辛渐》，排除。

所以，正确选项是 B。

106. 三字经的派别是：

- A. 儒家
- B. 道家
- C. 法家
- D. 墨家

【答案】A。解析：

《三字经》是宋朝王应麟（字伯厚）所作，是学习中华传统文化不可多得的儿童启蒙读物。《三字经》中蕴含着典型的儒家经典思想和主张，是儒家的代表作，被历代人们奉为经典而不断流传。

所以，正确选项是 A。

107. 紫外线促使人体合成_____以预防佝偻病。

- A. 维生素 A
- B. 维生素 B
- C. 维生素 C
- D. 维生素 D

【答案】D。解析：

佝偻病俗称缺钙，在婴儿期较为常见，是由于维生素 D 缺乏引起体内钙、磷代谢紊乱，而使骨骼钙化不良的一种疾病。维生素 D 的产生与日光中紫外线照射关系密不可分，人体内所需的维生素 D 大约 90% 来源于经日光照射后的皮肤生成。

所以，正确选项是 D。

108. 声音在哪个介质中传播最快?

- A. 空气
- B. 金属
- C. 玻璃
- D. 水

【答案】B。解析：

声音在固体、气体、液体三种介质中传播速度大约为：固体约 5000 米/秒(具体要看什么材质)；液体约 1500 米/秒(具体要看温度)；气体约 340 米/秒(0 度)。而声音在金属中的传播速度远大于声音在玻璃中的传播速度。所以，正确选项是 B。

109. 我们感冒时，常会感到呼吸不畅，主要原因是：

- A. 器官、支气管分泌痰液太多
- B. 鼻粘膜分泌液过多
- C. 鼻粘膜充血肿胀
- D. 声带充血肿胀

【答案】C。解析：

感冒时鼻腔炎症反应使鼻黏膜充血肿胀，鼻道狭窄甚至闭塞，所以会出现鼻塞，造成呼吸不畅。同时因为炎症渗出增多，分泌液增多即鼻涕增多。

所以，正确选项是 C。

110. 家里的白炽灯用久了会发黑，是因为：

- A. 灰尘
- B. 钨蒸气凝华
- C. 钨丝烧断
- D. 灯泡变旧

【答案】B。解析：

白炽灯大多以钨作为灯丝材料，钨丝受热会发生升华现象，少量钨原子会呈气态离开灯丝，然后钨蒸气遇到较冷的灯泡玻璃时，在灯泡壁上凝华，所以用久了的白炽灯泡会发黑。

所以，正确选项是 B。

111. 西藏自古以来就是中国领土不可分割的一部分，藏族是中华民族大家庭中的重要成员，我国历史上中央政府对西藏地方行使主权是：

- A. 从宋朝到现在
- B. 从元朝到现在
- C. 从明朝到现在
- D. 从清朝到现在

【答案】B。解析：

13 世纪中叶，西藏正式归入中国元朝版图，成为元朝中央政府直接治理下的一个行政区域。元朝在西藏和其他藏区实施括户、置驿、征兵、征税等政策，充分行使了有效管理。自此之后，尽管中国经历了几代王朝的兴替，多次更换过中央政权，但西藏一直处于中央政权直接行使主权管辖治理之下。

所以，正确选项是 B。

112. 下列关于劳动合同期限的说法不正确的是：

- A. 劳动合同期限三个月以上不满一年的试用期不得超过一个月

- B. 劳动合同期限一年以上不满三年的，试用期不得超过三个月
- C. 三年以上固定期限和无固定期限的劳动合同，试用期不得超过六个月
- D. 以完成一定工作任务为期限的劳动合同期限不满三个月的，不得约定试用期

【答案】B。解析：

B项的说法不正确。《劳动合同法》第十九条规定：劳动合同期限三个月以上不满一年的，试用期不得超过一个月；劳动合同期限一年以上不满三年的，试用期不得超过二个月；三年以上固定期限和无固定期限的劳动合同，试用期不得超过六个月。同一用人单位与同一劳动者只能约定一次试用期。以完成一定工作任务为期限的劳动合同或者劳动合同期限不满三个月的，不得约定试用期。

所以，正确选项是B。

113. 《〈中华人民共和国继承法〉若干问题的意见》中规定，对被继承人生活提供了主要经济来源，或在劳务等方面给予了主要扶助的，应当认定其尽了主要赡养义务。

在司法实践中，不属于“尽了主要赡养义务”的是：

- A. 子女与老人共同生活多年
- B. 对老人的帮助具有持续性、长期性
- C. 为老人日常生活提供了帮助，如老人生病时进行护理
- D. 在经济上为老人生活提供了帮助，老人主要靠其提供的费用生活

【答案】A。解析：

B、C、D项分别体现了“对被继承人生活提供主要经济来源，或在劳务等方面给予主要扶助”的要求，属于“尽了主要赡养义务”，排除。

所以，正确选项是A。

114. 问题面前，是迎难而上，还是绕着走，直接反映一个干部的精神风貌，也折射出这名干部对待工作的态度和责任心。在解放思想中破解难题存在风险，甚至受到别人的责难，我们应该坚持的正确态度是：

- A. 没有百分之百的把握不去做
- B. 上级领导没有点头的，不便去做
- C. 为避免头脑发热，凡事都得找出处
- D. 冲破习惯和传统思维的束缚，敢想也敢做

【答案】D。解析：

在解放思想中破解难题，的确存在风险，但只要凡事出于公心，不是头脑发热、盲目蛮干，而是用科学发展观来指导实践，探索创新，即便一时遭受挫折，组织也会宽容，群众也会理解。在解放思想中破解难题，不能要求百分之百的把握，也不能消极等待领导点头。排除A、B、C三项。

所以，正确选项是D。

115. 大气层中的温室气体能够透过太阳的短波辐射，但同时吸收地面放射出的长波辐射，从而产生温室效应。如果大气中没有温室气体，地表平均气温将会是零下18度。正是因为大气中温室气体的存在，地球现在的地表平均气温为：

- A. 零上5度
- B. 零上10度
- C. 零上15度
- D. 零上20度

【答案】C。解析：

因为大气中温室气体的存在，地球现在的地表平均气温为零上15度，非常适合人类的生活和繁衍。

所以，正确选项是C。

116. 甲县人大代表李某，于 2010 年当选为该县人大代表，一年后，因私迁入另一个县居住，那么他应：

- A. 享有甲县人民代表大会代表资格到期满
- B. 自然转任乙县人民代表大会代表
- C. 按正常工作调动手续转任乙县人民代表大会代表
- D. 被终止甲县人民代表大会代表资格

【答案】D。解析：

根据《选举法》第 51 条规定，地方各级人民代表大会代表在任期内调离或者迁出本行政区域的，其代表资格自行终止，缺额另行补选。

所以，正确选项是 D。

117. 下列各项中，属于行政处罚的是：

- A. 罚金
- B. 拘役
- C. 责令停产停业
- D. 管制

【答案】C。解析：

《行政处罚法》第 8 条规定，行政处罚的种类：(1) 警告；(2) 罚款；(3) 没收违法所得、没收非法财物；(4) 责令停产停业；(5) 暂扣或者吊销许可证、暂扣或者吊销执照；(6) 行政拘留；(7) 法律、行政法规规定的其他行政处罚。

所以，正确选项是 C。

本题的 A 项容易误选。罚金与罚款是完全不同的两个法律概念。罚金是由人民法院强制被判了刑的人在一定的期限内交纳一定数量的金钱，它和判处有期徒刑、无期徒刑、死刑、或者是剥夺政治权利，没收财产一样，是一种刑罚，前提必须是被判处罚金的人构成了犯罪。

118. 三个重量相同的实心铅球、铁球和铝球，将它们用细线分别挂在同样的弹簧秤下并浸入水中，比较三个弹簧秤的读数是：

- A. 挂铝球的最大
- B. 挂铅球的最大
- C. 挂铁球的最大
- D. 三者一样大

【答案】B。解析：

铅球、铁球和铝球三者的密度都大于水，因此都会完全沉入水中。三种球由于铅的密度最大，故体积最小，浸入水中后排开水的体积最小，所以受到向上浮力也为最小。

弹簧秤上的示数=球身重量-所受浮力，因此必然是挂铅球的弹簧秤读数最大。

所以，正确选项是 B。

119. 中国人民银行公布，自 2008 年 3 月 25 日起，上调存款类金融机构人民币存款准备金率 0.5 个百分点。

下列关于提高存款准备金率说法错误的是：

- A. 提高存款准备金率是为了减少银行流动资金
- B. 提高存款准备金率是国家对经济进行宏观调控的货币手段
- C. 提高存款准备金率能够吸收公众更多的存款
- D. 提高存款准备金率是银根紧缩政策

【答案】C。解析：

央行上调存款准备金率体现出国家抑制货币投放、银根紧缩的政策，是为了减少银行流动资金，约束贷款能力。

所以，正确选项是 C。

120. 向级别与本机关相同的有关主管部门请求批准某事项应使用：

- A. 请示
- B. 函
- C. 批复
- D. 报告

【答案】B。解析：

《国家行政机关公文处理办法》规定：命令适用于依照有关法律发布行政法规和规章、宣布施行重大强制性行政措施、嘉奖有关单位及人员。决定适用于对重要事项或者重大行动作出安排，奖惩有关单位及人员，变更或者撤销下级机关不适当的决定事项。意见适用于对重要问题提出见解和处理办法。公告适用于向国内外宣布重要事项或者法定事项。

所以，正确选项是 B。

第五部分 资料分析

（共 20 题，参考时限 20 分钟）

针对下列图、表或文字回答问题。你应根据资料提供的信息进行分析、比较、计算、处理。

一、根据下列材料回答 121~125 题：

以下是反映我国人才资源现状的一些数据：在高层次人才方面，两院院士由刚建院的 233 人和 96 人，发展到 2003 年的 688 人和 663 人。在教育科技人才方面，2003 年中国科技人员总数达 320 多万人，比 1993 年增长近 1/3。从我国专业技术人才队伍的学历来看，从 1999 年到 2003 年本科人才的比例由 18.1% 上升到 24.2%。从全国的国有企事业单位专业技术人员的变动来看，1990 年国有企事业单位总人数为 9443 万人，到 2003 年降到 5575 万人，但是，专业技术人员总数却由 1080.9 万人增长到 2174 万人。以平均每万名职工中拥有专业技术人员的比例来看，1990 年为 1144.7 人，到了 2004 年增为 3899.5 人。

在全国 29 个专业技术系列中，高级职称以上的高层次人才总计为 157.3 万人，仅占人才总量的 5.5%。

目前，我国企业专业技术人员比例偏低，仅占 35%，远低于美、英德 80.8% 和 61.4%。我国高级技工占职工总数的比重仅占 5%，西方发达国家这一比例超过 35%。

121. 到 2003 年，我国两院院士人数已经相当于建院初期的：

- A. 4.1 倍
- B. 3.9 倍
- C. 3.7 倍
- D. 3.5 倍

【答案】A。解析：

材料第一句话提到，“两院院士由刚建院的 233 人和 96 人，发展到 2003 年的 688 人和 663 人”。

则到 2003 年，我国两院院士人数已经相当于建院初期的 $(688+663) \div (233+96) = 1351 \div 329 > 4$ 倍。

所以，正确选项是 A。

122. 我国 1993 年科技人员总数约为：

- A. 185 万人
- B. 218 万人
- C. 232 万人
- D. 240 万人

【答案】D。解析：

材料第二句话提到，“2003年中国科技人员总数达320多万人，比1993年增长近1/3”。则我国1993年科技人员总数约为 $320 \div (4/3) = 240$ 万人。

所以，正确选项是D。

123. 我国平均每个专业技术系列中拥有的高级职称以上的高层次人才约为：

- A. 4.66万人
- B. 5.42万人
- C. 5.71万人
- D. 6.13万人

【答案】B。解析：

材料第二段提到，“在全国29个专业技术系列中，高级职称以上的高层次人才总计为157.3万人”。则我国平均每个专业技术系列中拥有的高级职称以上的高层次人才约为： $157.3 \div 29 = 5.42$ 万人。

所以，正确选项是B。

124. 2003年与1990年相比，国有企事业单位中的专业技术人员占国有企事业单位职工总数的比例上升了：

- A. 22.6%
- B. 25.3%
- C. 27.5%
- D. 28.8%

【答案】C。解析：

材料第一段倒数第二句话提到，“1990年国有企事业单位总人数为9443万人，到2003年降到5575万人，但是，专业技术人员总数却由1080.9万人增长到2174万人”。则2003年国有企事业单位中的专业技术人员占国有企事业单位职工总数的比例为： $2174 \div 5575 \approx 0.39$ ，1990年为： $1080.9 \div 9443 \approx 0.114$ 。

$0.39 - 0.114 = 0.276 = 27.6\%$ ，与C项最为接近。

所以，正确选项是C。

125. 以下判断不正确的是：

- A. 每万名职工拥有的专业技术人员10多年间增长了2倍多
- B. 我国本科学历人才占专业技术人才队伍的比重接近四分之一
- C. 我国高级技工占职工总数的比重仅为西方发达国家的七分之一
- D. 国有企事业单位中专业技术人员数量变化趋势与职工总数变化成正相关

【答案】D。解析：

A选项：每万名职工拥有的专业技术人员1990年为1144.7人，到了2004年增为3899.5人， $3899.5 \div 1144.7 > 3$ ，即增长了2倍多，A项正确。

B选项：第一段第二句话提到“从我国专业技术人才队伍的学历来看，从1999年到2003年本科人才的比例由18.1%上升到24.2%”，24.2%接近1/4，B项正确。

C选项：由最后一句话知“我国高级技工占职工总数的比重仅占5%，西方发达国家这一比例超过35%”，所以我国高级技工占职工总数的比重仅为西方发达国家的七分之一，C项正确。

D选项：材料提到“1990年国有企事业单位总人数为9443万人，到2003年降到5575万人，但是，专业技术人员总数却由1080.9万人增长到2174万人”，专业技术人员数量增加而职工总数减少，成反相关。D项错误。

所以，正确选项是D。

二、根据所给图1和文字资料回答126~130题。

我国 2007 全年普通高等教育招生 566 万人,在校生 1 885 万人,毕业生 448 万人,各类中等职业教育招生 800 万人,在校生 2 000 万人,毕业生 530 万人。全国普通高中招生 840 万人,在校生 2 522 万人,毕业生 788 万人。全国初中招生 1 869 万人,在校生 5 736 万人,毕业生 1 954 万人。普通小学招生 1 736 万人,在校生 10 564 万人,毕业生 1 870 万人。我国 2006 全年普通高等教育招生 546 万人,在校生 1 739 万人,毕业生 377 万人,各类中等职业教育招生 748 万人,在校生 1 809 万人,毕业生 476 万人。全国普通高中招生 871 万人,在校生 2 515 万人,毕业生 727 万人。全国初中招生 1 930 万人,在校生 5 958 万人,毕业生 2 072 万人。普通小学招生 1 729 万人,在校生 10 712 万人,毕业生 1 928 万人。

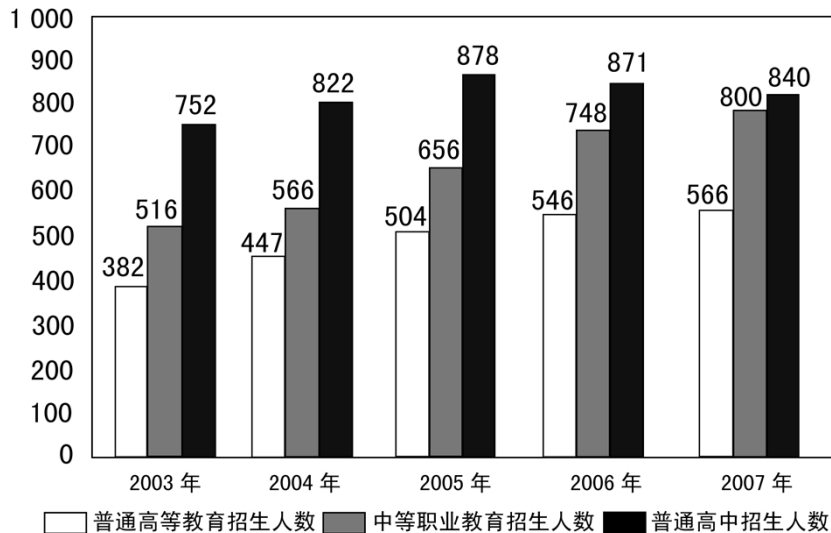


图 1 2003—2007 年各类教育招生人数(万人)

从全国 31 个省份共提取 76 所高等院校 2 162 名大学生进行调查,道德类涉及道德品质或者关系的题目中,当提问:“你最看重人的哪三种品质或关系”,选择比例前五名的选项依次是“诚信”、“关爱”、“宽容”、“负责任”、和“沟通”,选择比例依次为 74.70%、65.40%、65.17%、49.49%、35.89%,前五名的选项均为积极道德意识;而当提问改为:“你觉得现在的人实际上哪三种品质或相互关系居多”,选择比例前五名的选项依次为“相互利用”、“冷漠”、“不负责任”、“欺诈”、“关爱”,选择比例依次为 62.49%、54.85%、43.52%、34.64%、29.19%,前五名的选项有 4 项是消极道德意识。

虽然,大学生的道德期许与现实道德有很大的落差,这并不影响大学生保持良好的道德习惯,调查显示,大学生在爱护公共卫生上,选择“随手扔掉”的仅占 3.5%;乘车时对老弱病残人士让座的态度上,自认会“主动让座”的达 79.0%。

调查主要从爱国与民族意识、文史常识和文化与生活价值观三个方面进行考察。调查显示,大学生具有很强的民族自尊心,当问到“被误认是日本或者韩国人时”,高达 92.0%大学生认为会“声明是中国人”,只有 2.4%大学生认为自己会“干脆回答是”,也只有 5.6%的大学生认为自己会保持“沉默”。在爱国观念上,大学生对于我国在某些方面落后于其他国家,表示“立志为国争光”的占 55.7%,表示“对社会风气不满”的占 33.3%,而表示“无所谓”的占 11.0%。

理想信念是文化和生活价值观的重要组成部分,大学生作为国家培养教育的栋梁之材,理想是引领人生前进的重要航标,在树立人生理想问题上,选择“有理想,并为实现理想而努力”的大学生占 65.8%,选择“有理想,但觉得要实现很困难”的占 30.5%,而选择“无所谓理想,每天能过得去就行”的占 3.7%。可见,大部分大学生还是有明确的理想抱负,但仍有不少大学生对于如何实现理想抱有消极的态度。问卷还进而考察大学生的信念观,信念是激发一个人奋发进取、实现理想的重要支撑力量。自认“总是有信念支持”的大学生占 40.4%,而自认“有时有信念支持”的大学生多达 52.8%,大部分大学生在人生信念这个问题上还处于摇摆状态,既想努力向前,同时又有畏难情绪。

126. 2007 年我国普通高等教育招生规模扩大了:

- A. 3.7%
- B. 4.5%
- C. 4.8%
- D. 6.5%

【答案】A。解析：

$(566-546) \div 546 \times 100\% \approx 3.7\%$ 。

所以，正确选项是 A。

127. 2007 年高中毕业生占当年全体毕业生人数的比例是：

- A. 9.8%
- B. 14.1%
- C. 9.5%
- D. 8.5%

【答案】B。解析：

$[788 / (448+530+788+1964+1870)] \times 100\% \approx 14.1\%$ 。

所以，正确选项是 B。

128. 2007 年我国中等职业教育招生人数比上一年：

- A. 下降了 5.96%
- B. 提高了 5.96%
- C. 下降了 6.95%
- D. 提高了 6.95%

【答案】D。解析：

$[(800-748) / 748] \times 100\% \approx 6.95\%$ 。

所以，正确选项是 D。

129. 通过对心理期许道德状况和自认现实道德状况的对比分析，可以发现：

- A. 大学生对优良的道德品质还是非常看重的
- B. 大学生对现实生活中实际存在的道德品质做出消极的评价
- C. 大学生的道德期许与实际道德有落差，但不是极大
- D. 大学生看重优良的道德品质，但对实际存在的道德品质做出消极评价

【答案】A。解析：

由文字资料第二、三段可知大学生对优良的道德品质还是非常看重的。

所以，正确选项是 A。

130. 从爱国与民族意识、文史哲常识和文化与生活价值观考察，发现：

- A. 大学生有人生的理想信念，但缺少精神的滋养和文化的浸润
- B. 有相当一部分大学生对我国某些方面落后的现状持消极态度
- C. 大学生具有强烈爱国与民族意识，丰富的文史哲知识，健康的文化情趣，但理想信念摇摆不定
- D. 大学生理想信念坚定，爱国与民族意识强，学识丰厚

【答案】C。解析：

由文字资料第四段末句和末段末句可知。

所以，正确选项是 C。

三、根据所给图 2 和文字资料回答 131~135 题。

在大学生文化和生活价值观上，问卷通过多选题型考察大学生的文化生活趋向，大学生喜欢的十类文化排序分别是：传统经典文化、现代文化、古代文化、中国民间民族文化、通俗流行文化、异国文化、全球共同文化、宗教文化、前卫（超前）文化和后现代文化，大学生作为一个高知群体，在文化价值取向上展现出传统与现代交织的态势，大学生既热衷于现代文化，也保持对传统经典文化最浓厚的兴趣，只有小部分的大学生自认比较喜欢前卫文化和后现代文化。

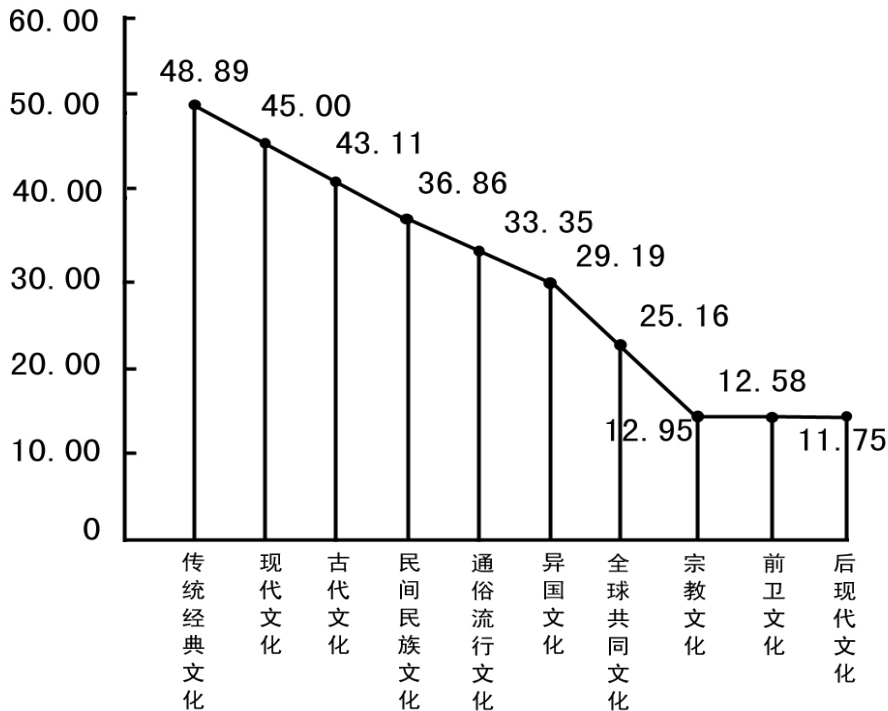


图 2 大学生喜欢的十类文化百分比降序图

在考察法律意识方面，问卷主要通过考察公民解决纠纷的途径来反映公民的法律意识。问卷设定了三种纠纷解决途径，即法律途径（“遵循法律和政策规定解决”）、行政途径（“找单位和领导帮助解决”）和武力途径（“通过恐吓、武力或其他施压方式解决”）三种，大学生在纠纷解决方面的选择情况分别为 67.6%、28.9%、3.5%。应该说，只有极少部分大学生采取武力途径解决纠纷。在法律常识方面，大学生对法律性质的正确认识高达 91.2%，在对我国已经颁布的部门法的了解上，选择“宪法”、“合同法”、“民事诉讼法”“继承法”、“婚姻法”的分别为：96.7%、94.7%、93.7%、89.8%、95.1%，几乎都在 90%以上，在调查中，我们还发现，大学生也以自己的实际行动来践行和维护法律。

在知识产权方面，93%的被调查者知道“世界知识产权日”，76%的被调查者明确我国国家知识产权战略现在是从“制定”转入“实施”，48%的被调查者关注过“北京市高级人民法院 2007 年受理的《十大知识产权典型案例》”。

在科学意识方面，大学生自认在日常工作和学习中，选择“按他人意志办事”的仅占 6.3%，选择“据自己兴趣办事”和“按客观规律办事”的占 45.6%、48.1%，而对“科学发展观”，表示“明确知道”的占 35.7%，表示“知道一些，不太明确”的占 58.6%，而表示“不知道”的占 5.6%。

在科学行为方面，把大学生发现、思考和解决问题的能力作为考察的重点。大学生自认“很少遇到问题”的仅占 22.7%，而认为“经常遇到问题”、“善于发现问题”、“善于提出解决问题的办法”、“善于解决问题”四项的选择比例分别为：57.1%、43.4%、39.5%和 37.2%。

131. 根据上图提供的信息可考察出大学生的文化生活趋向是：

- A. 对现代文化有浓厚的学习兴趣
- B. 传统与现代交织的态势

- C. 热衷于传统经典文化
- D. 一批人比较喜欢前卫和后现代文化

【答案】B。解析：

由第一段中的“大学生作为一个高知群体，在文化价值取向上展现出传统与现代交织的态势”可知 B 项正确。所以，正确选项是 B。

132. 根据所给文字资料得出结论：

- A. 大学生用法律途径解决纠纷多于行政途径，用行政途径多于武力
- B. 在法律意识和法律常识方面，大学生是一个强势群体
- C. 大学生能够以自己的实际行动来践行和维护法律
- D. 大学生法律意识强，法律知识丰富，并且是遵守和维护法律的先锋

【答案】D。解析：

D 项概括的结论最全面。所以，正确选项是 D。

133. 以上所给文字资料表明：

- A. “实施知识产权战略”已深入人心
- B. 大学生对知识产权的认识程度参差不齐
- C. 高校建立了知识产权教育体系和宣传体系
- D. 在经济全球化的今天，知识产权保护已成为大学生重要的游戏规则

【答案】B。解析：

A、C、D 三项在资料中均没有涉及，排除。所以，正确选项是 B。

134. 根据所给文字资料判定：

- A. 在科学意识、科学行为方面，大学生是一个高知群体
- B. 大学生有明确的科学观念，但动手解决问题的能力不强
- C. 大学生从发现问题、思考问题到解决问题呈递增的过程
- D. 大学生缺乏系统明确的科学观念，特别是动手、解决问题的能力

【答案】D。解析：

由第四段中的对“科学发展观”表示“明确知道”的占 35.7%，可知大学生缺乏系统明确的科学观念。由第五段中的“善于解决问题的占 37.2%”可知，大学生动手、解决问题的能力不强。

所以，正确选项是 D。

135. 上述图表和文字资料透视出：

- A. 当代大学生的基础性人文素质状况
- B. 当代大学生的发展性人文素质状况
- C. 当代大学生的竞争性人文素质状况
- D. 当代大学生的人文素质潜力发展状况

【答案】D。解析：

阅读可知，题干资料主要描述了大学生文化和生活价值观、法律意识、知识产权、科学意识、科学行为等五个方面的情况，都是涉及“当代大学生的人文素质”。

所以，正确选项是 D。

四、根据下列表格回答 136~140 题。

2007 年江苏省农村劳动力资源总量及构成

	全省	苏南地区	苏中地区	苏北地区
农村常住劳动力资源总量（万人）	3060.4	982.4	770.3	1307.7
农村常住劳动力性别构成（%）				
男性	48.7	51.6	46.3	47.9
女性	51.3	48.4	53.7	52.1
农村常住劳动力年龄构成（%）				
20 岁及以下	12.2	11.0	9.3	15.0
21~30 岁	14.4	18.5	10.9	13.3
31~40 岁	23.2	25.7	22.1	21.9
41~50 岁	22.2	21.8	22.9	22.0
50 岁以上	28.0	23.0	34.8	27.8
农村常住劳动力文化程度构成（%）				
文盲	5.2	2.1	5.2	7.6
小学	29.4	25.2	33.5	30.1
初中	50.2	54.8	46.6	48.9
高中	13.4	15.3	13.1	12.1
大专及以上	1.8	2.6	1.6	1.3

注：江苏全省分为苏南、苏中、苏北三个地区。

136. 苏南地区的农村常住劳动力资源总量比苏北地区少：

- A. 21.45%
- B. 24.88%
- C. 25.45%
- D. 56.42%

【答案】B。解析：

$(1307.7 - 982.4) / 1307.7 \times 100\% \approx 24.88\%$ 。

所以，正确选项是 B。

137. 2007 年该省农村常住劳动力人口男性比女性少（ ）万人。

- A. 78.21
- B. 79.05
- C. 79.44
- D. 79.57

【答案】D。解析：

$(51.3\% - 48.7\%) \times 3060.4 \approx 79.57$ (万人)。

所以，正确选项是 D。

138. 苏南、苏中、苏北三个地区中农村常住劳动力文盲最多的区域占该省农村常住劳动力文盲的：

- A. 45.32%
- B. 53.64%
- C. 62.45%
- D. 70.12%

【答案】C。解析：

苏北地区农村常住劳动力文盲最多，为 $1307.7 \times 7.6\% \approx 99.39$ (万人)。

全省农村常住劳动力文盲为： $3060.4 \times 5.2\% \approx 159.14$ (万人)。

则苏北地区农村常住劳动力文盲占全省农村常住劳动力文盲的比例为： $(99.39/159.14) \times 100\% \approx 62.45\%$ 。

所以，正确选项是 C。

139. 苏南地区 21~40 岁农村常住人口比苏中地区多 () 万人。

A. 127.32

B. 152.2

C. 180.02

D. 187.14

【答案】C。解析：

$(18.5\%+25.7\%) \times 982.4 - (10.9\%+22.1\%) \times 770.3 \approx 180.02$ (万人)。

所以，正确选项是 C。

140. 根据表格，下列表述正确的是：

A. 农村常住劳动力人口大专以上文化程度最多的是苏南地区

B. 31~40 岁农村劳动力人口在苏南、苏中、苏北三个地区比重为最高

C. 根据该表可以准确得知 10 年后该省农村常住劳动力年龄构成情况

D. 苏南地区的农村常住劳动力人口其中有高中文化程度的人口数量多于苏北地区

【答案】A。解析：

A 项，苏南地区农村常住劳动力中大专及以上学历人数为 25.54 万人，明显高于苏中，也高于苏北的 17 万人。因此，A 项正确当选。

B 项，31~40 岁农村常住劳动力人口只是在苏南地区比重为最高。错误，排除。

C 项，由题干表格无法推知 10 年后该省农村常住劳动力年龄构成情况。错误，排除。

D 项，苏南地区的农村劳动力人口具有高中文化程度的人口数量比苏北地区少。错误，排除。

所以，正确选项是 A。

全部测验到此结束！