

2010年1月16日浙江省公务员考试

## 《行政职业能力测验》真题

### 注意事项

这项测验共有五个部分，130道题，总时限为120分钟。各部分不分别计时，但都给出了参考时限，供你参考以分配时间。

请在机读答题卡上严格按照要求填写好自己的姓名、报考部门，涂写准考证号。

特别提醒你注意，涂写答案时一定要认准题号。

严禁折叠答题卡！

### 第一部分 言语理解与表达

(共35题，参考时限30分钟)

每道题包含一个句子或一段话，后面是一个不完整的陈述，要求是从四个选项中选出一个来完成陈述。你的选择应与所提要求最相符合。

- 在过去六十年中，现代中国的建设走过一条\_\_\_\_\_道路，经历过无数艰辛、动荡、摇摆与反复，既有山重水复之\_\_\_\_\_，也有柳暗花明之转机。  
填入横线部分最恰当的一项是：  
A. 循环往复 迷惘  
B. 迂回曲折 困惑  
C. 艰难险阻 迷惑  
D. 跌宕起伏 困难
- 《功夫熊猫》的热映说明“中国元素”已不仅仅只是好莱坞电影中的\_\_\_\_\_，它甚至已经成好莱坞电影导演的灵感来源，片中“功夫”和“熊猫”两个主要元素都来自中国文化，而猴王、老虎、螳螂、毒蛇、丹顶鹤等五大高手更是把中国功夫的轻功演绎得\_\_\_\_\_。  
A. 点缀 惟妙惟肖  
B. 卖点 栩栩如生  
C. 陪衬 精妙绝伦  
D. 题材 活灵活现
- 奥运一百多年的历史始终陷入一种\_\_\_\_\_，一方面它高扬超越民族的人类精神，另一方面参与竞争的基本单位是民族国家。前者表现为超越功利的尊重和欣赏，后者则是更实在的，不敢怠慢的国家荣誉和自尊心，金牌多寡成了竞争的\_\_\_\_\_。  
A. 困境 准则  
B. 矛盾 标志  
C. 争议 目的  
D. 悖论 核心
- 我无法不老，但我还有可能年轻。我不敢对我们过于庞大的文化有什么祝祈，却希望自己笔下的文字能有一种\_\_\_\_\_后的回味、焦灼后的会心，冥思后的放松、苍老后的年轻，当然，希望也只是希望罢了，何况这实在已是一种\_\_\_\_\_。  
A. 苦涩 奢望  
B. 辛酸 奢求  
C. 历练 幻想  
D. 风雨 梦境
- 毫无疑问，在今日武断批判中医的人中，不乏以“科学”代言人自居者，将各种自己不懂的知识系统一棍子打死，归入\_\_\_\_\_。这种态度不能不使人怀疑其言论与知识的讨论无关，另有用意。不过，在抗拒这种学霸的同时，我们也不必要陷入相反的\_\_\_\_\_。坦率地说，身为一个“中医”，我以为目前的中医面临的最大危机不是外来的，而是内在的。中医落到今天这个地步，一定程度上可谓是\_\_\_\_\_。  
A. 邪说 境地 罪有应得  
B. 异端 泥淖 咎由自取  
C. 异己 泥潭 责无旁贷  
D. 异类 困境 作茧自缚
- 至少在中文世界，将儒家传统定性为一种“人文主义”，已经成为学界的\_\_\_\_\_，而视儒家传统为一种“宗教”，或者认为儒家传统具有一种宗教性，则清末民初以来一直争论不已，至今\_\_\_\_\_。

- A. 公认 尚无定论                      B. 共鸣 未置可否  
C. 共识 莫衷一是                      D. 惯例 前途未卜
7. 很长一段时间以来，文学\_\_\_\_\_了，文学家们似乎都已经退隐到超凡脱俗的文学世界里，或专营文学技术的革新，或致力于自我感情的\_\_\_\_\_，在各种重大场合都很难看到文学的身影。  
A. 消失 装饰                              B. 寂静 掩饰  
C. 沉默 宣泄                              D. 沉寂 雕饰
8. 诚然，在相当长的一段时间里，对抗或叛逆确实是中国当代诗歌完成自我\_\_\_\_\_的法则之一，以真实取代虚假，以个人反抗群体，以感性抵制理性，以平面消除深度，中国当代诗歌正是在这种不断反叛中实行着某种\_\_\_\_\_。  
A. 衍变 更新                              B. 蜕变 更迭  
C. 嬉变 替换                              D. 演变 置换
9. 静一点也好，从柳宗元开始，这里历来寂静。京都太嘈杂了。面壁十年的九州学子，都曾\_\_\_\_\_过这种嘈杂。结果，满腹经纶被车轮马蹄捣碎，脆亮的吆喝填满了疏朗的胸襟。唯有在这里，文采华章才从朝报奏褶中抽出，重新\_\_\_\_\_心灵，并蔚成方圆。  
A. 期待 注入                              B. 迷恋 塞入  
C. 奢求 灌入                              D. 向往 凝入
10. 中国六十年的经济发展历程，是一个在以发达国家为主导的全球资本主义体系当中，如何在农业人口大国的基础上，艰苦地完成工业化的原始积累，进入产业资本扩张阶段，并开始向金融资本阶段\_\_\_\_\_的过程。  
A. 上升                                      B. 跨越  
C. 跃进                                      D. 跃升
11. 作为启蒙思想家，他们的思想和言论激烈、出格，乃至“悖于常理”，这都在情理之中。因为思想的创造需要那种“虽千万人，吾往矣”的对抗俗世的气概与意志，所以“\_\_\_\_\_”并非思想家的缺陷，也绝非衡量思想之深度、广度乃至力度的标准。  
A. 危言耸听                              B. 虚张声势  
C. 夸夸其谈                              D. 豪言壮语
12. 传统经济学习惯铺陈宏大的讲说辞，在人性的细节方面，总是\_\_\_\_\_，被抽空了细节的经济学，虽\_\_\_\_\_，拥有如庙堂般巍峨的气势，却还原和解读不了世界的真实。  
A. 语焉不详 高屋建瓴                      B. 闪烁其词 博大精深  
C. 含糊其辞 鞭辟入里                      D. 捉襟见肘 天马行空
13. 工业革命以来，两百余年的时间，生产力的飞速提高造就了昌盛的工业文明，在人类为自己创造的奇迹\_\_\_\_\_时，却丝毫不曾察觉已经在透支未来，外部性、知识与技术的瓶颈，以及人性的\_\_\_\_\_让工业文明在创造辉煌的同时也走向了尽头。  
A. 洋洋得意 虚伪                              B. 陶醉 无知  
C. 沉迷 罪恶                              D. 沾沾自喜 贪婪
14. 说“把玩学术”不大合适，显得有点\_\_\_\_\_，但如果是“沉潜把玩”呢？其实读书做学问，目的性太强，很难达到痛快淋漓、出神入化的地步，这一点，学问与游戏之道是\_\_\_\_\_的，缺乏足够的好奇心，求知欲，距离感，反而做不好。按照今日不少人的“学者”标准恐怕传统中国读书人，全都是业余性质——可那种“爱美的”读书人，自有\_\_\_\_\_之处。  
A. 轻浮 相近 可叹                              B. 轻佻 相通 可爱  
C. 轻慢 相似 可敬                              D. 轻视 相仿 可赞
15. 《汉魏两晋南北朝佛教史》于1938年问世，至今已超过半个世纪，此书规模之\_\_\_\_\_，结构之谨严，材料之丰富，考证之\_\_\_\_\_，问题提出之深刻，剖析解释之\_\_\_\_\_，实在可为中外学者们的楷模。  
A. 宏大 精准 周全                              B. 恢宏 精确 周密  
C. 庞大 精到 周评                              D. 宏伟 精妙 周严

16. 一直到九十年代中期以前，我们都在试图重新寻找自己的精神家园。钱穆、钱钟书和陈寅恪的著作和传记成了畅销书；《顾准问集》、《顾准日记》\_\_\_\_\_于市场，这个中国“市场经济第一人”，坚持学术自由的孤独者形象，\_\_\_\_\_了人们对于知识分子的期许；《傅雷家书》长达二十余年的畅销，成为了\_\_\_\_\_的“三字经”；浪漫骑士王小波横空出世，给这个日益保守的社会打开了一个叛逆的缺口。
- A. 充斥 符合 金玉良言  
B. 风靡 印证 字字珠玑  
C. 风行 满足 老少咸宜  
D. 充塞 引发 家喻户晓
17. 下列各句中，句意明确，没有语病的一句是：
- A. 我国北方基地计划鼓励当地农民把波儿羊与当地的山羊进行杂交，以提高农民养羊的经济效益，满足发展羊肉产业的需要。  
B. 司法腐败导致对有权势的罪犯的庇护，而贪污、受贿等职务犯罪的构成要件是当事人是否有职权。  
C. 我们在坚定不移地坚持改革开放，大力发展社会生产力，增强我国的综合国力，不断提高人民生活。  
D. 一部影视作品，要想有高的收视率或票房价值，作品本身要有质量和必要的包装宣传缺一不可。
18. 下列各句中，标点符号使用规范的一句是：
- A. 绿色是多么宝贵呀！它是生命、它是希望、它是慰安、它是快乐。  
B. 被郁郁苍苍的扁柏、蒲葵、一品红、木麻黄环绕着的三元里抗英斗争烈士纪念碑，在晴空下，金色的字迹正闪闪发光。  
C. 今年我们公司的新年联欢晚会有以下节目——大合唱、男女声独唱、诗歌朗诵、舞蹈和杂技。  
D. 我不知道这件事怎么会变成这个样子？但是，无论如何我们都应该竭尽全力把这件事情处理好。
19. 一个悲观的人，把所有的快乐都看成不快乐，好比美酒到充满胆汁的口中也会变苦一样，生命的幸福与困厄，不在于降临的事情本身是苦是乐，而要看我们如何去面对这些事。
- 这段文字意在告诉我们：
- A. 世界原来是美好的，我们应该热爱生活  
B. 用悲观的态度去认识世界，是人类的天性  
C. 心情的眼神决定着世界的颜色  
D. 为物所扰，为己所累，是现代人的生存困境
20. 日前大规模的信贷投入会引起通胀吗？如果经济复苏不明显，而银行系统依然开闸放水，那么大量资金并不能进入实体经济，从而会推高物价指数，并带来通胀，最坏的情况下甚至会形成“滞胀”；如果信贷的大规模投入伴随着经济复苏，那么，即使物价指数上涨，也是属于温和健康上涨，和通胀无关。
- 这段文字意在说明：
- A. 通胀的影响要具体问题具体分析，不可一概而论  
B. 大规模信贷投放与通胀的发生之间并无必然的因果关系  
C. 物价上涨的程度，是判断通胀是否发生的主要指标  
D. 在经济迅速增长的情况下，通胀是不大可能发生的
21. 只要一个国家的决策者，真心希望发展市场经济，愿意按照资本创造与流通的规律办事，能够尊重多数国民基于现实的财产占有与处置权利，就可以让多数所有权变的合法，从而创造出让合法财产灵活流动的环境。这正如将彼此孤立的湖泊，串连成一片巨大的水域，避免零星的湖水，消失在一块块贫瘠的沙地里。大量资本流动起来，财富创造与效率，就会在市场中野蛮生长。
- 对这段文字的主旨理解最准确的是：
- A. 国家需尊重多数国民的财产占有与处置权利  
B. 没有法律保护的所有权，是效率偏低、缺乏活力的所有权  
C. 市场经济的发展程度与一国决策者的水平密切相关  
D. 所有权合法化，是市场经济正常发展的关键
22. 理学重道德的修养固然不错，其对于中国社会日后发展贡献，也不容忽视，但不能否认，理学所倡导的偏重道德轻视事功的倾向，还有他那过分的内省自律，正好为专制帝王起到了为渊驱鱼的效果。读书人的大丈夫气概日渐消亡，英雄豪杰只有在草莽中孕育，从梁山伯里诞生。宋、明两次亡于外族，无疑与宋代以来主流思想的自宫与内敛不无干系。

对这段文字的主旨理解最准确的是：

- A. 理学特有的价值取向遵循了古代统治者的统治需求
- B. 理学所倡导的精神导致古代读书人中很少出现英雄豪杰
- C. 读书人大丈夫气概的缺失和理学自身的特点有关
- D. 宋明两次亡于外族，理学理论起到了推波助澜的作用

23. 在结构主义盛行的文化背景下，在功利取向为主导的市场经济中，人们缺乏理性向道德妥协的意识，迷信于理性计算，从而使得信仰与道德日渐荒漠化。信仰的缺乏必然造成人无法对生活及生命的意义进行完整解读，缺乏对规则的敬畏，从而信仰被理性“杀死”。

作者通过这段文字表达的主要意思是：

- A. 理性和信仰的相互对立是现代社会的一个标志
- B. 在现代社会，理性需要向道德妥协，人需要有信仰
- C. 迷信理性，会导致信仰缺失、道德沦丧
- D. 在现代社会，道德和信仰的形成非常困难

24. 事实上从九十年代开始，绿色经济的研究者就预言，按照著名的康德拉吉耶夫经济长波理论或熊彼特创新周期理论，在以信息技术革命为内容的第五次创新长波之后，即将来临的是以资源生产为革命特征的第六次创新长波，而这个长波的意义就是开创以低碳能源为特征的生态经济新时代。哥本哈根国际气候会议将会实质地启动这个绿色经济的新长波，并到 2020 年进入高潮，不管哥本哈根会议的具体结果如何，世界肯定将走低碳经济的绿色发展道路。

这段文字主要在说明哥本哈根国际气候会议的：

- A. 理论基础
- B. 时代背景
- C. 重要意义
- D. 前景展望

25. 作为一种力量，文化力不是一种直接作用的力，其显现发挥必然是通过一定的体裁或媒介，要么是附着于人们的思想观念或是精神理念上，要么是物化在一定的物质产品或精神产品上，只有通过精神的或者物质的载体，文化力才有了真实的存在。也就是说，文化力并不是那种立竿见影式的显在力量，不可能由人们随心所欲地控制和主宰。这也是千百年来人们对文化力的认识一直甚为模糊的根本原因之一。

作者通过这段文字意在：

- A. 说明文化力是一种软实力
- B. 表明文化力的表现形式是多样的
- C. 阐释文化力本质上具有依赖性质
- D. 解释人们对文化力认识不清的原因

26. 公平正义不仅是一个主观认识的问题，也是一个客观的可选择性问题，不仅是一个静态的问题，也是一个动态的过程。在认知问题上，我们需要通过媒体、舆论构建一个基本的社会认同。从客观的角度看，社会体制应该在某个时间和空间中尽可能满足绝大多数人的需求，即使当人们在这个时空结构中暂时得不到满足，难以达成公平正义时，理想的社会体制也应该可以给他创造条件，让他看到希望，能在后续的某个时空结构中享受公共产品的阳光。

这段文字意在阐述：

- A. 公平正义的本质属性
- B. 公平正义的实现途径
- C. 公平正义是可以被建构的
- D. 公平正义实现的重要途径

27. 循环经济与生态经济在考虑自然资源时，不仅视其为可利用的资源，而且是需要维持良性循环的生态系统；在考虑科学技术时，不仅考虑其对自然的开发能力，而且充分考虑稳定到它对生态系统的维系和修复能力，使之成为有益于环境的技术；在考虑人自身发展时，不仅考虑人对自然的改造能力，而且更重视人与自然和谐相处的能力，促进人的全面发展。

这段文字表达了循环经济和生态经济理念中的：

- A. 系统性
- B. 价值观
- C. 生产观
- D. 环保观

28. 研究表明，把在电动跑步机上 45 分钟的锻炼改为到附近公园慢跑，可以减少将近 1 公斤的二氧化碳排放量；不用洗衣机甩干衣服，而是让其自然晾干，可以减少 2.3 公斤的二氧化碳排放量；在午餐休息时间和下班后关闭电脑及其显示器，可以将这些电脑的二氧化碳排放量减少三分之一；改为节水型沐浴喷头，不仅可以节水，还可以使热水淋浴所导致的二氧化碳排放量减少一半。

作者通过这段文字最可能想表达的意思是：

- A. 自然的生活方式能够节能
- B. 节能意识十分重要
- C. 普通民众可以为节能做出贡献
- D. 节能必须从一点一滴做起

29. 多种怪之中，最突出的是“自知”与“他知”的迥然不同。这样的情况也是古已有之，比如明朝的徐文长，提起青藤道人的画，几乎无人不知，无人不爱，可是他自己评论，却是字（书法）第一，诗第二，画第三。根据这段文字，下列说法中正确的是：

- A. “自知”中“知”的意思
- B. 文章主旨在于评论徐文长的“怪”
- C. 在“他知”中，徐文长的字排第一
- D. “自知”与“他知”不同，并不奇怪

30. 每一种行为都来自一定的思想，但是，每一种思想却不一定导致一定的行动。古人云“三思而后行”，语言是思想的外在表现，却不一定都是行动的信号。人们越是充分运用语言工具自由地交流思想，越是能达于正确的认识以支配较为理智的行动。因此，镇压言论往往不是防止错误的行动，倒是防止了深思熟虑的行动，其结果必然是，假如压力有足够大，人们则消极被动，假如压力小了，人们就还任意乱动。

作者通过以上文字想要表达的主要意思是：

- A. 有思想就会产生行动
- B. 限制言论会限制思想
- C. 限制言论可以限制行动
- D. 行动产生于思想

31. 在中国，所有公民都在宪法的保护之下，相反，在穷人得不到充分保护的资源语境下奢谈“保护富人”是相当危险而诡异的一一它很可能对“贫富关系”造成舆情上的断裂与伤害。某种意义上说，在中国市场经济舞台上，以企业家为代表的“富人”群体的逐利本性与穷人的挣扎生存相比，似乎更值得我们警惕。

作者通过这段文字想表达的观点是：

- A. 奢谈保护富人是错误的
- B. 保护穷人利益是根本
- C. 要遏制为富不仁的现象
- D. 要在公平的前提下讨论贫富问题

32. 公共领域的问题从来都不是科学的问题，统计数字的问题，而是主观认识的问题、意识的问题、想象的问题。在社会领域，民众的主观感觉才是最主要的客观事实。因此，在讨论公共政策问题的时候，看似准确的数字，其实并不像官员，专家们想象的那样重要，相反，如果一个国家的民众感觉自己的税负沉重，那么，该国的税负就是沉重的，不论专家们计算出来的宏观税负水平与其他国家相比有多低。

这段文字意在告诉我们：

- A. 有时公共政策的科学制定需要我们远离数据分析
- B. 一国税负的沉重与否取决于该国公民对税负的主观感受
- C. 我们对一些公共领域问题的认识有失偏颇
- D. 解决公共领域的问题时参考民众的感觉比数据更重要

33. 由于受定论思想的影响，我们的研究总要分为正面人物与反面人物，而且人们一般认为一切过错都应是反面人物造成的，并天真地以为，只要没有反面人物，任何事情都会顺利地进行，按照人们预想的道路向前发展。这是不尊重历史的表现。而只要一个人被定为反面人物，就永远不能翻身，纵使你有再多的好处，也还是反面人物，是个坏人。我们强调历史地看问题，可是我们的很多评价并没有体现这一点，而只是按照我们现代人的思想感情去评价人，给人贴标签！

以下对作者的本意表述不正确的是：

- A. 对历史人物的研究应该客观
- B. 反面人物不应为所有过错负责
- C. 在历史评价中应尽量抛开现代人的思想感情
- D. 定论思想使我们对历史的研究走入了误区

34. 人们是否接受，或在多大程度上接受市场竞争体制，与其说是个文化差异问题，毋宁说是个历史案例问题，即竞争是否公正的问题。文化传统差异极大的拉美、俄国、伊朗都有强大的公众反竞争运动，而文化类型相同的美、英则此无彼有。可见，回避竞争是否公正而专在“文化传统”、“深层心理”上做文章，是多么缺乏说服力。

这段文字意在说明：

- A. 市场竞争体制可以被不同文化传统的国家接受
- B. 公正问题是市场竞争体制的核心问题

- C. 市场竞争体制的文化决定论缺乏解释力                      D. 市场竞争体制根植于文化传统
35. 一个故事是有关美国的一个自封的皇帝的，了解点美国历史的人都知道，美国的历史和现实中有许多稀奇古怪的事情，但有一样东西是没有的，就是皇帝。因为美国从来就没有实行过帝制，因而也就不可能有所谓的皇帝。然而，1880年1月9日的旧金山主要报纸之一的《旧金山纪事报》却在头版头条刊登了这样一条消息：“君王驾崩”，宣布“美国皇帝和墨西哥保护者诺顿一世逝世”。
- 根据上文推断，作者接下来最可能讲述的内容是：
- A. 美国没有实行帝制的原因分析                      B. 对该报纸的性质、宗旨进行简要介绍
- C. 告诉读者美国政治制度的演变过程                      D. 介绍诺顿一世的传奇故事

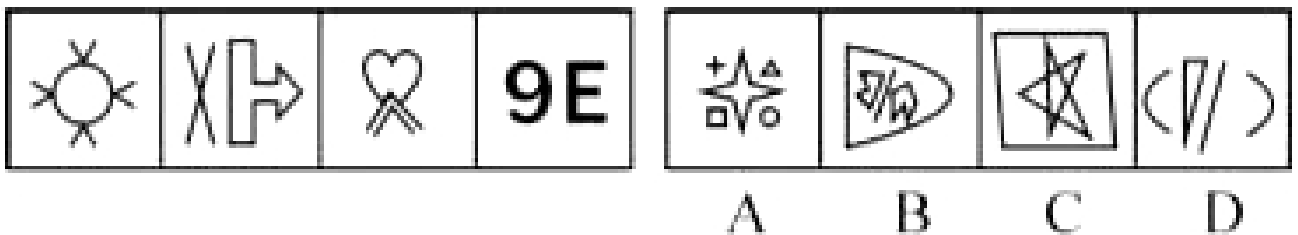
## 第二部分 判断推理

(共 30 题，参考时限 25 分钟)

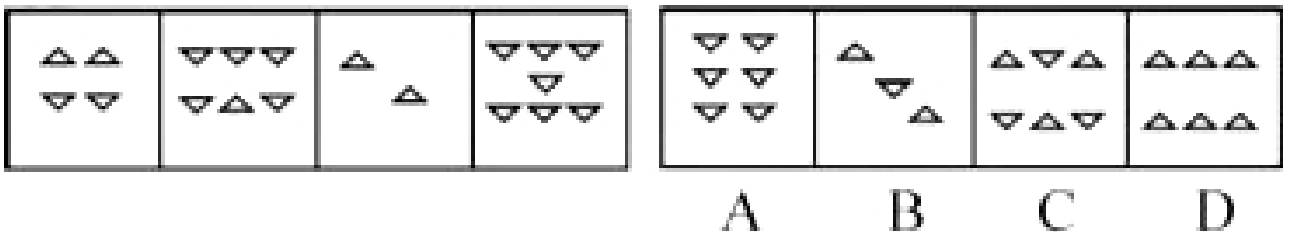
一、图形推理：包括两种类型的题目，共 8 题。

(一) 每道题目的左边 4 个图形呈现一定的规律。根据这种规律，你需要在右边所给出的备选答案中选出一个最合理的答案。每道题只有一个正确答案。

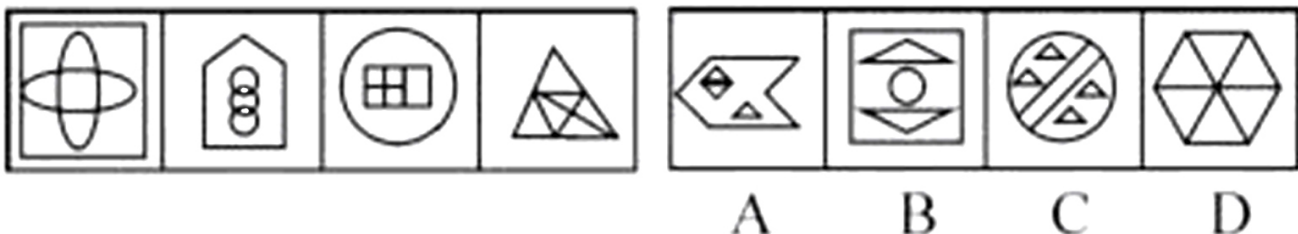
36. 请选择最适合的一项作为题干图形的第五个图，使之保持一致的规律性。



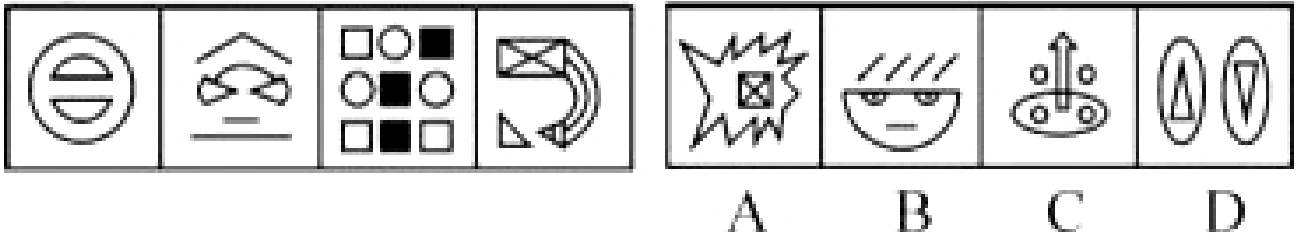
37. 请选择最适合的一项作为题干图形的第五个图，使之保持一致的规律性。



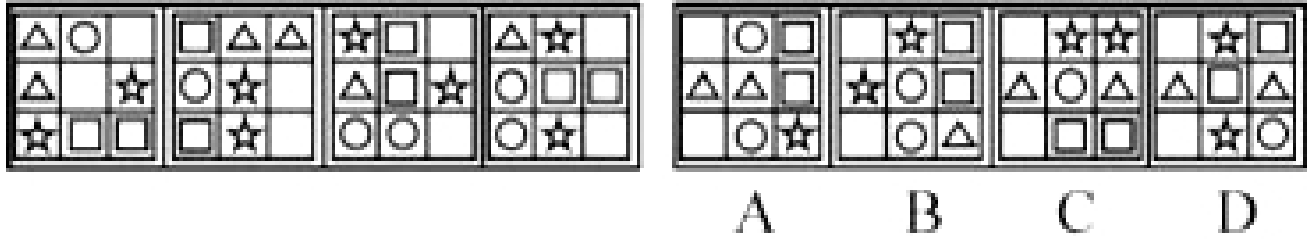
38. 请选择最适合的一项作为题干图形的第五个图，使之保持一致的规律性。




39. 请选择最适合的一项作为题干图形的第五个图，使之保持一致的规律性。



40. 请选择最适合的一项作为题干图形的第五个图，使之保持一致的规律性。

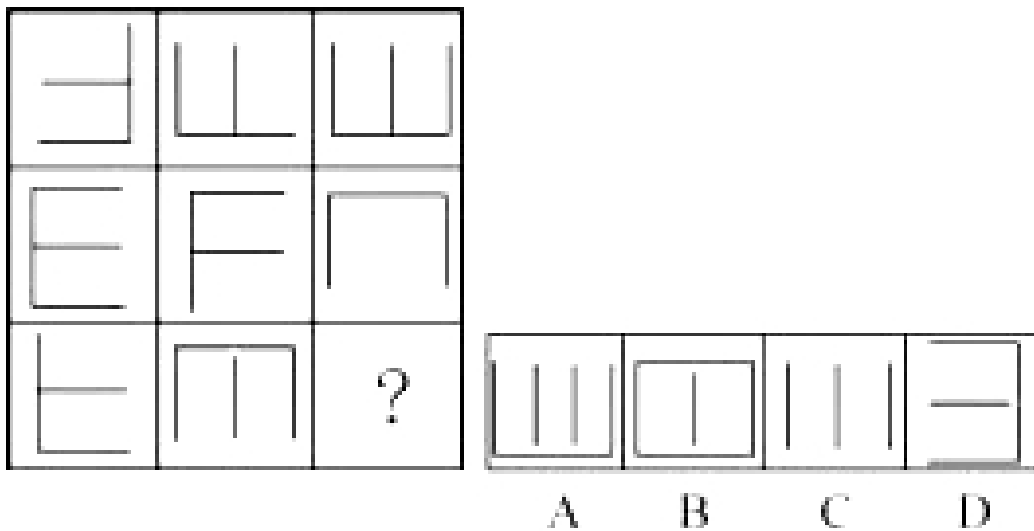


41. 请选择最适合的一项作为题干图形的第五个图，使之保持一致的规律性。

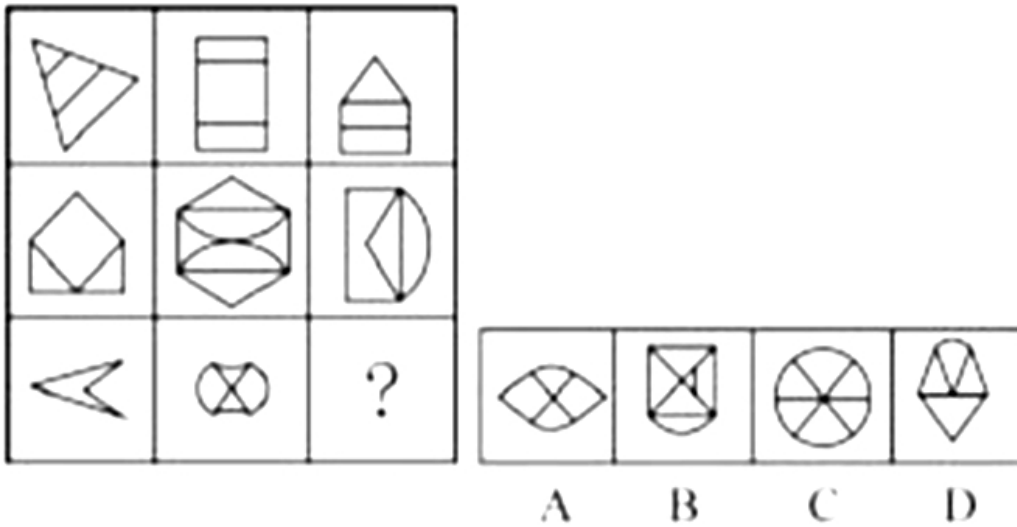


(二) 请从所给的四个选项中选择最适合的一个填在问号处，使之呈现一定的规律性。

42. 从所给的四个选项中，选择最合适的一个填入问号处，使之呈现一定的规律性。



43. 从所给的四个选项中，选择最合适的一个填入问号处，使之呈现一定的规律性。



**二、类比推理：共 9 题。每道题先给出一组相关的词，要求你在备选答案中找出一组与之在逻辑关系上最为贴近、相似或匹配的词。**

44. 明星：媒体：炒作
- A. 经济学：政策：复苏  
B. 商品：市场：交换  
C. 国家：武器：战争  
D. 分歧：会议：谈判
45. 建筑：水泥：粉刷
- A. 皮包：拉链：制作  
B. 大桥：钢铁：焊接  
C. 家具：木材：油漆  
D. 歌曲：音符：组合
46. 冲突：解决：和谐
- A. 吵架：爆发：混乱  
B. 生活：富裕：美好  
C. 噪音：消除：安静  
D. 兴奋：镇定：放松
47. 战士：勇敢
- A. 职员：八卦  
B. 学者：平庸  
C. 僧侣：愚昧  
D. 农民：朴实
48. 锦衣玉食：奢华
- A. 汗牛充栋：辛苦  
B. 噤若寒蝉：寒冷  
C. 吹毛求疵：洁癖  
D. 城下之盟：屈辱
49. 历程：回顾
- A. 集会：参与  
B. 实力：增强  
C. 活力：展现  
D. 速度：加快
50. ( ) 对于 网络 相当于 运输 对于 ( )
- A. 电脑 货物  
B. 流量 交通  
C. 交流 航线  
D. 查询 车辆
51. 风险 对于 ( ) 相当于 制度 对于 ( )
- A. 巨大 激进  
B. 信用 管理  
C. 规避 完善  
D. 减少 缺少
52. 理论 对于 ( ) 相当于 ( ) 对于 设计
- A. 实践 规划  
B. 建构 图纸  
C. 完美 严密  
D. 系统 程序



**三、演绎推理：共 8 题。每题给出一段陈述，这段陈述被假设是正确的，不容置疑的。要求你根据这段陈述，选择一个答案。注意，正确的答案应与所给的陈述相符合，不需要任何附加说明既可以从陈述中直接退出。**

53. 所有甲都属于乙，有些甲属于丙，所有乙都属于丁。没有戊属于丁，有些戊属于丙。  
以下哪一项不能从上述论述中推出：  
A. 有些丙属于丁  
B. 没有戊属于乙  
C. 有些甲属于戊  
D. 所有甲都属于丁
54. 对 A 市居民参加体育锻炼的情况进行的调查表明，经常参加体育锻炼的居民数近两年来不断上升，而该健身中心的顾客数略有下降。  
以下各项除了哪一项，都有助于解释上述矛盾：  
A. 该健身中心对顾客的统计不仔细，统计的准确性值得怀疑  
B. 为节省开支，许多居民改为到公园参加锻炼  
C. A 市调查中抽取的样本较多，所以调查具有较高的准确性  
D. 近两年该市新开发了许多健身中心
55. 某城市一个居民小区 2008 年以前盗窃事件经常发生，2008 年在小区居民的要求下，物业管理部門为该小区安装了技术先进的多功能防盗系统，结果该小区盗窃事件的发生率显著下降，这说明多功能防盗系统对于防止盗窃事件的发生起到了重要作用。  
以下哪一项为真，最能加强上述结论：  
A. 从 2008 年开始，该城市其他小区的盗窃事件有显著增加  
B. 该城市另一个居民小区也安装了这种多功能防盗系统，但效果不佳  
C. 从 2008 年开始，该城市加强了治安管理，盗窃事件有所减少  
D. 采取其他的防盗措施对预防盗窃事件也能起到一定的效果
56. 在世界市场上，中国生产的汽车比其他国家生产的汽车要便宜的多，因此其他国家的汽车工业将失去一部分汽车市场，而这些市场将被中国汽车占据。  
以下哪一项是上述论述所要假设的：  
I. 中国汽车的油耗比其他国家汽车的油耗更低  
II. 价格是汽车购买者考虑的重要因素  
III. 中国的汽车和其他国家的汽车耐用性基本相同  
IV. 汽车购买者具有较高的品牌忠诚度  
A. I 和 II  
B. I、II 和 III  
C. II、III 和 IV  
D. II 和 III
57. 2009 年 12 月初，两院院士新增选名单相继公布，继而有统计数据披露：中国科学院新增的 35 名院士中，八成是高校或研究机构的现任官员；中国工程院新增的 48 名院士中，超过 85% 是现任官员；工程院 60 岁以下新当选的院士，均有校长、院长、副院长、董事长等职务。所以有人认为，“官员身份”在院士评选中起到了非常大的作用。  
以下哪一项正确，最能对上述结论构成反驳：  
A. 院士评选没有规定官员不能当选  
B. 许多非常优秀的学者担任了行政职务  
C. 有官员身份的学者整体的比例不大  
D. 优秀的官员可以兼任学者
58. 有关数据显示，从 2005 年以来，广东高校毕业生自主创业的数量约占当年高校毕业生的 1%~2%。以 2008 年为例，应届高校毕业生中选择自主创业的仅占 1.2%。而在西方发达国家，这个数字为 20%~30%。由此看来，西方发达国家的大学生更具有创业才能。  
以下哪一项正确，最能对上述结论构成质疑：  
A. 中国关于鼓励高校毕业生创业的政策较少，创业环境不佳  
B. 中国高校毕业生的绝对数量比西方发达国家多  
C. 西方发达国家大学生创业成功率不比中国大学生高  
D. 西方发达国家的大学生更喜欢挑战自我
59. A 市的图书销售量高于 B 市，因此，A 市的居民比 B 市的居民更喜爱阅读。

以下各项除了哪一项，都会削弱以上结论：

- A. A市的人口比B市多  
B. 有很多B市的居民到A市购买图书  
C. B市居民习惯到图书馆借书阅读  
D. A市图书的平均销售价格略高于B市
60. 尽管大家开始抵制珍稀动物的皮草产品，但仍有家具制造商将珍稀动物的皮毛用于家具饰品。几年前专家发明了一种新的高仿合成皮草，受到了家具制造商广泛的好评。但从最近几年的统计看，各地为获取皮毛而对珍稀动物进行捕杀的活动却并没有减少。

以下哪一项正确，最有助于对“捕杀活动没有减少”进行解释：

- A. 生产新的高仿合成皮草比生产原来的合成皮草的成本更低  
B. 新的高仿合成皮草与动物皮毛的质地相似，很难区分  
C. 绝大部分珍稀动物的皮毛用在越来越流行的皮草服饰上  
D. 家具制造商在销售大的家居物件时，往往将家具饰品当作赠品免费送给购买者

**四、定义判断：共5题。每道题先给出一个概念的定义，然后分别列出四种情况，要求你严格依据定义中选出最符合或最不符合定义的答案。注意：假设这个定义是正确的，不同置疑的。**

61. 留置权：指债务人不履行到期债务，债权人可以留置已经合法占有的债务人的动产，并有权就该动产优先受偿。

根据上述定义，下列关于行为人是否享有留置权的说法中正确的是：

- A. 甲委托乙保管某件物品，乙在保管期间，发现该物品有质量问题，遂将该物品交给丙修理，修好后，甲拒付维修费用，丙无权留置该物品  
B. 甲向乙借了1万元钱，偿还期已到，甲未偿还，乙对甲工厂里的机器设备享有留置权  
C. 甲公司与乙某签订了一份运输合同，约定货到付款，乙某将货物运达目的地后，甲公司未付运费，乙某可以留置运输货物  
D. 李某有偿委托孙某代购一批产品，孙某买到产品后，李某不支付约定的报酬，孙某无权留置该批产品
62. 恐惧症：对某种物体或某种环境的一种非理性的、不适当的恐惧感。一旦面对这种物体或环境时，尽管当时并无危险，恐惧症患者仍会产生一种极端的恐惧感。

根据上述定义，下列属于恐惧症的是：

- A. 陈女士从小就胆小，一次去乡下办事经过一户农家的门口，冷不防一只体型壮硕的狼狗钻出来凶恶地盯着她，吓得她立刻尖叫着跑掉了。  
B. 工程师小徐每次看到印有深海的照片时，就感觉自己像置身于深海之中，四周都是幽暗深邃的海水，感到呼吸困难、心跳加快，害怕得再也不敢看那些照片一眼  
C. 晚饭后，有点醉意的老同事执意送大家回去，小李还没到小区门口就喊着要下车，因为他受不了那种害怕会出车祸的精神压力了  
D. 看了一部日本恐怖片后，小钱感觉脑子里总是浮现电影里的恐怖场景，好几天都睡不好觉
63. 形式公正：指个人或权力机关对同样的事件平等对待，以及对所有人按统一标准（而不是根据个人或所从属的特殊集团的立场）施加管束。

根据上述定义，下列属于形式公正的是：

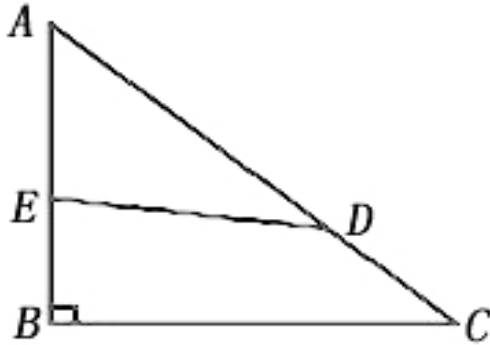
- A. 国家录用公务员，实行“凡进必考”  
B. 通过税收杠杆对收入差距进行调节  
C. 设立保护区，保护濒临灭绝的生物  
D. 政府对某件商品设立远远低于市场价格的指导价
64. 继续犯：又称持续犯，指犯罪行为与该行行为引起的不法状态在一定时间内处于继续状态的犯罪。

根据上述定义，下列行为属于继续犯的是：

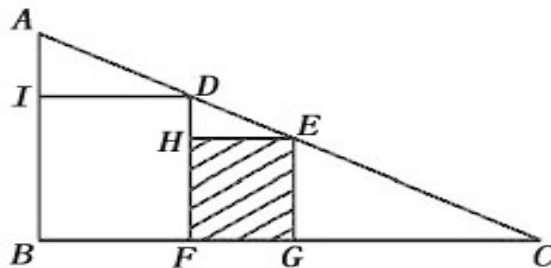
- A. 孙某与有夫之妇张某存在不正当男女关系，被张某丈夫发现后，张某与孙某断绝了关系。孙某怀恨在心，两天之内先后将张某与其丈夫杀害  
B. 李某举报某派出所所长王某徇私舞弊，王某为报复李某，借执法之名，将李某非法拘禁3日  
C. 张某非法行医三年多，导致1人死亡，2人身体残疾



78. 一个四位数“□□□□”分别能被 15、12 和 10 除尽，且被这三个数除尽时所得的三个商的和为 1365，问四位数“□□□□”中四个数字的和是多少？  
A. 17                                      B. 16                                      C. 15                                      D. 14
79. 用数字 0、1、2（即可全用也可不全用）组成的非零自然数，按从小到大排列，问“1010”排在第几个？  
A. 30                                      B. 31                                      C. 32                                      D. 33
80. 定义  $4\triangle 5=4+5+6+7+8=30$ ， $7\triangle 4=7+8+9+10=34$ ，按此规律， $(26\triangle 15) + (10\triangle 3)$  的值为：  
A. 528                                      B. 525                                      C. 423                                      D. 420
81. 建华中学共有 1600 名学生，其中喜欢乒乓球的有 1180 人，喜欢羽毛球的有 1360 人，喜欢篮球的有 1250 人，喜欢足球的有 1040 人，问以上四项球类运动都喜欢的至少有几？  
A. 20 人                                      B. 30 人                                      C. 40 人                                      D. 50 人
82. 工人甲一分钟可生产螺丝 3 个或螺丝帽 9 个；工人乙一分钟可生产螺丝 2 个或螺丝帽 7 个，现在两人各花 20 分钟，共生产螺丝和螺丝帽 134 个，问生产的螺丝比螺丝帽多几个？  
A. 34 个                                      B. 32 个                                      C. 30 个                                      D. 28 个
83. 如下图所示， $\triangle ABC$  是等腰直角三角形， $AB=12$ ， $AD$  的长度是  $CD$  的 2 倍，四边形  $EBCD$  与  $\triangle AED$  的面积之比为 3:2，问  $AE$  的长度是多少？



- A. 6.9                                      B. 7.1                                      C. 7.2                                      D. 7.4
84. 某俱乐部中女会员的人数比男会员的一半少 61 人，男会员的人数比女会员的 3 倍多 2 人，问该俱乐部共有会员多少人？  
A. 475 人                                      B. 478 人                                      C. 480 人                                      D. 482 人
85. 某区要从 10 位候选人中投票选举人大代表，现规定每位选举人必须从这 10 中任选两位投票，问至少要有多少位选举人参加投票，才能保证有不少于 10 位选举人投了相同两位候选人的票？  
A. 382 位                                      B. 406 位                                      C. 451 位                                      D. 516 位
86. 如下图所示， $\triangle ABC$  是直角三角形，四边形  $IBFD$  和四边形  $HFGE$  都是正方形，已知  $AI=1\text{cm}$ ， $IB=4\text{cm}$ ，问正方形  $HFGE$  的面积是多少？



- A.  $10\frac{16}{25}\text{cm}^2$                                       B.  $10\frac{9}{16}\text{cm}^2$                                       C.  $10\frac{6}{25}\text{cm}^2$                                       D.  $10\frac{5}{16}\text{cm}^2$

87. 有一本畅销书，今年每册书的成本比去年增加了 10%，因此每册书的利润下降了 20%，但今年的销量比去年增加了 70%。则今年销售该畅销书的总利润比去年增加了：
- A. 36%                      B. 25%                      C. 20%                      D. 15%
88. 有一只怪钟，每昼夜设计成 10 小时，每小时 100 分钟，当这只怪钟显示 5 点时，实际上是中午 12 点。问当这只怪钟显示 8 点 50 分时，实际上是什么时间？
- A. 17 点 50 分              B. 18 点 10 分              C. 20 点 04 分              D. 20 点 24 分
89. 已知盐水若干千克，第一次加入一定量的水后，盐水浓度变为 6%，第二次加入同样多的水后，盐水浓度变为 4%，第三次再加入同样多的水后盐水浓度是多少？
- A. 3%                      B. 2.5%                      C. 2%                      D. 1.8%
90. 某环形公路长 15 千米，甲、乙两人同时同地沿公路骑自行车反向而行，0.5 小时后相遇，若他们同时同地同向而行，经过 3 小时后，甲追上乙。问乙的速度是多少？
- A. 12.5 千米/小时              B. 13.5 千米/小时              C. 15.5 千米/小时              D. 17.5 千米/小时

## 第四部分 综合知识

(共 20 题，参考时限 15 分钟)

根据题目要求，在四个选项中选出一个正确答案。

91. 改革开放以来我们取得一切成绩和进步的根本原因，归结起来就是：开辟了中国特色社会主义道路，形成了中国特色社会主义理论体系，高举中国特色社会主义伟大旗帜，最根本的就是要坚持这条道路和这个理论体系。下列哪一项完整概括了中国特色社会主义理论体系的内容？
- ①马列主义                      ②毛泽东思想                      ③邓小平理论  
④“三个代表”重要思想              ⑤科学发展观
- A. ①②③④⑤                      B. ①③④⑤  
C. ②③④⑤                      D. ③④⑤
92. 建设和谐文化是建设社会主义和谐社会的主要任务。( ) 是建设和谐文化的根本，是社会主义意识形态的本质体现。
- A. 公平正义理念                      B. 四项基本原则  
C. 社会主义荣辱观                      D. 社会主义核心价值体系
93. 党的十七届四中全会审议通过了《中共中央关于加强和改进新形势下党的建设若干重大问题的决定》，全会提出要把( ) 作为重大而紧迫的战略任务抓紧抓好。
- A. 推进马克思主义中国化                      B. 建设马克思主义学习型政党  
C. 提高党的执政能力建设和先进性建设                      D. 推进惩治和预防腐败体系建设
94. 根据我国现行宪法和有关组织的规定，下列关于我国现行立法体制权限划分的表述不正确的是：
- A. 全国人大修改宪法，全国人大及其常委会可以制定和修改刑法、民法和其他基本法律  
B. 省、自治区、直辖市的人民代表大会及其常委会可以制定地方性法规  
C. 省、自治区人民政府所在市的人民政府，可以根据法律和行政法规，制定规章  
D. 自治区人民代表大会有权制定自治条例和单行条例
95. 甲与乙签订了一项买卖合同，约定：甲向乙支付定金 5 万元，如果任何一方不履行合同应支付违约金 8 万元。后来乙违约，甲打算向法院提起诉讼。下列哪种诉讼请求既能最大限度的保护自己的利益，又能获得法院的支持？

- A. 请求乙支付违约金 8 万元  
B. 请求乙双倍返还定金 10 万元  
C. 请求乙支付违约金 8 万元，同时请求返还定金 5 万元  
D. 请求乙双倍返还定金 10 万元，同时请求乙支付违约金 8 万元
96. 某市安全生产监督管理局在进行全市煤矿企业安全情况大检查时，发现甲企业在安全生产方面存在巨大隐患，责令该企业停产停业进行整顿，该企业对此决定不服，该企业：
- A. 可以向该市安全生产管理局申请行政复议  
B. 只能向该市市政府申请行政复议  
C. 可以直接向人民法院提起行政诉讼  
D. 应该先向该市市政府申请行政复议，若不服复议决定，再向人民法院提起行政诉讼
97. 我国《物权法》中的物权，是指权利人依法对特定的物享有直接支配和排他的权利。包括所有权、用益物权和（ ）三大类。
- A. 地役权  
B. 质权  
C. 担保物权  
D. 留置权
98. 李某因诈骗罪被判处有期徒刑 2 年，缓刑 3 年，缓刑考验期满后，司法机关查获李某在缓刑考验期内，曾经伙同他人盗窃财物价值 3 万元，对李某应当如何处理？
- A. 不撤销缓刑，以累犯从重处罚  
B. 撤销缓刑，以惯犯从重处罚  
C. 不撤销缓刑，以盗窃罪从重处罚  
D. 撤销缓刑，前后罪数罪并罚
99. 在下列哪种情形中，甲构成不当得利？
- A. 某城市修建地铁，地铁附近居民甲的房屋大幅升值  
B. 甲、乙之间订有买卖合同，价款为 8000 元，甲将 6000 元的带有瑕疵的标的物卖给乙  
C. 甲在赌场参加赌博，乙输给甲 5000 元，并当场支付给甲  
D. 甲到某超市购物，付款时由于收银员的疏忽，致使一件价值 500 元的商品未付款
100. 以下不属于《公务员法》中对公务员处分的种类是：
- A. 警告  
B. 记大过  
C. 开除  
D. 降职
101. （ ）实现管理效率和效果的灵魂，是管理过程中的核心环节。
- A. 计划职能  
B. 领导职能  
C. 控制职能  
D. 组织职能
102. 由商品的价格变动所引起的商品相对价格的变动，进而由商品的相对价格变动所引起的商品需求量的变动，称为：
- A. 挤出效应  
B. 替代效应  
C. 收入效应  
D. 外部效应
103. 以下有关世界贸易组织（WTO）的表述中，不正确的一项是：
- A. WTO 的前身是关贸总协定，WTO 于 1995 年 1 月 1 日建立  
B. 部长会议是 WTO 的最高权力机构和决策机构



业增加值 12025 亿元，增长 3.8%，第二产业增加值 70070 亿元，增长 6.6%，第三产业增加值 57767 亿元，增长 8.3%。上半年，全社会固定资产投资 91321 亿元，同比增长 33.5%，增速比上年同期加快 7.2 个百分点。其中，城镇固定资产投资 78098 亿元，增长 33.6%，加快 6.8 个百分点；农村固定资产投资 13223 亿元，增长 32.7%，加快 9.5 个百分点。上半年，社会消费品零售总额 58711 亿元，同比增长 15.0%。其中，城市消费品零售额 39833 亿元，增长 14.4%，县及县以下消费品零售额 18878 亿美元，增长 16.4%。上半年，进出口总额 9461 亿美元，同比下降 23.5%。其中，出口 5215 亿美元，进口 4246 亿美元，贸易顺差同比减少 21 亿美元。上半年，城镇居民家庭人均总收入 9667 元，其中，人均可支配收入 8856 元，同比增长 9.8%，在城镇居民家庭人均总收入中，工资性收入 6394 元，增长 11.1%；转移性收入 2273 元，增长 16.0%；经营净收入 778 元，增长 3.9%；财产性收入 222 元，增长 9.1%。农村居民人均现金收入 2733 元，增长 8.1%，其中，工资性收入 954 元，增长 8.4%；家庭经营收入 1512 元，增长 5.5%；财产性收入 78 元，增长 9.9%；转移性收入 189 元，增长 31.4%。

111. 2009 年上半年，我国国内生产总值为：

- A. 139862 亿元                      B. 147953 亿元                      C. 148632 亿元                      D. 151429 亿元

112. 2008 年上半年，全社会固定资产投资同比增长：

- A. 40.7%                              B. 33.5%                              C. 26.3%                              D. 24.2%

113. 2008 年上半年，我国进出口贸易顺差为：

- A. 1018 亿美元                      B. 990 亿美元                      C. 970 亿美元                      D. 948 亿美元

114. 2008 年上半年农村居民人均财产性收入约占农村居民人均现金收入的：

- A. 2.7%                              B. 2.8%                              C. 2.9%                              D. 3.0%

115. 以下对 2009 年上半年我国经济运行状况的表述中，不正确的一项是：

- A. 固定资产投资快速增长  
B. 国内市场销售平稳较快增长，县及县以下增长快于城市  
C. 对外贸易形式乐观，进出口企稳回升  
D. 城乡居民收入持续增长，转移性收入增幅较大

## 二、根据以下资料，回答 116-120 题。

2008 年我国全年建设占用耕地 19.16 万公顷，灾毁耕地 2.48 万公顷。生态退耕 0.76 万公顷，因农业结构调整减少耕地 2.49 万公顷。土地整理复垦开发补充耕地 22.96 万公顷。

全年水资源总量 27127 亿立方米，比上年增加 7.4%；人均水资源 2048 立方米，增加 6.9%，全年平均降水量 659 毫米，增加 8.0%，年末全国大型水库蓄水总量 1962 亿立方米，比上年末多蓄水 93 亿立方米，全年总用水量 5840 亿立方米，比上年增长 0.4%。其中，生活用水增长 0.6%，工业用水增长 1.8%，农业用水减少 0.2%。生态补水减少 0.7%，万元国内生产总值用水量 440.9 立方米，下降 0.1%。

全年完成造林面积 477 万公顷，其中人工造林 329 万公顷，林业重点工程完成造林面积 312 万公顷，占全部造林面积的 65.4%，全民义务植树 23.1 亿株，截至 2008 年底，自然保护区达到 2538 个，其中国家级自然保护区 303 个，新增综合治理水土流失面积 4.7 万平方公里，新增实施水土流失地区封育保护面积 2.6 万平方公里。

初步测算，全年能源消费总量 28.5 亿吨标准煤，比上年增长 4.0%，煤炭消费量 27.4 亿吨，增长 3.0%；原油消费量 3.6 亿吨，增长 5.1%；天然气消费量 807 亿立方米，增长 10.1%；电力消费量 34502 亿千瓦时，增长 5.6%，全国万元国内生产总值能耗下降 4.59%。主要原材料消费中，钢材消费量 5.4 亿吨，增长 4.2%，精炼钢消费量 538 万吨，增长 6.9%，电解铝消费量 1260 万吨，增长 4.3%；乙烯消费量 998 万吨，下降 2.9%；水泥消费量 13.7 亿吨，增长 3.5%。

116. 2007 年全年我国水资源总量约为：



- A. 24780 亿立方米      B. 25260 亿立方米      C. 25630 亿立方米      D. 26120 亿立方米
117. 2007 年全年我国万元国内生产总值用水量约是万元工业增加值用水量的：  
 A. 1.5 倍      B. 1.6 倍      C. 1.7 倍      D. 1.8 倍
118. 2008 年全国人工造林面积约占造林总面积的：  
 A. 63%      B. 65%      C. 69%      D. 74%
119. 与 2007 年相比，2008 年我国的水泥消费增加量和以下哪项最接近：  
 A. 8000 万吨      B. 5000 万吨      C. 800 万吨      D. 500 万吨
120. 根据以上资料，下列说法不正确的是：  
 A. 我国原有耕地在 2008 年减少了 24.89 万公顷  
 B. 2007 年年末全国大型水库蓄水量 1869 亿立方米  
 C. 截至 2008 年底，我国国家级自然保护区占自然保护区的比重超过 13%  
 D. 2007 年全国乙烯消费量超过 1000 亿吨

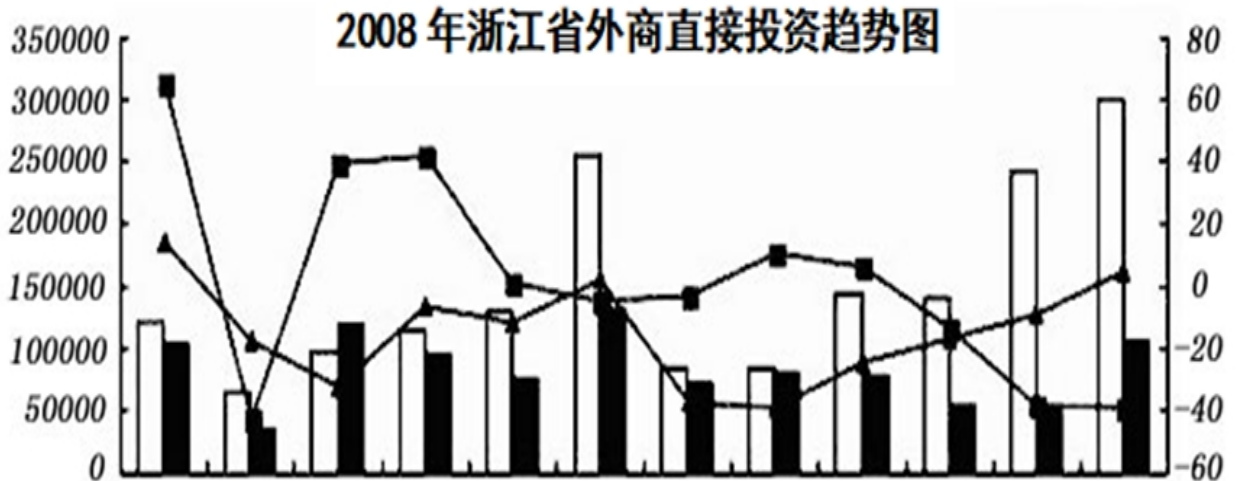
**三、根据以下资料，回答 121-125 题。**

地区	2007 年度		2008 年度	
	财政收入 (万元)	房地产开发企业施 工房屋面积(万平方 米)	财政收入 (万元)	房地产开发企业 施工房屋面积 (万平方米)
上海	20744792	10767	23587464	10784
山东	16753980	15165	19570541	20099
湖南	6065508	8162	7227122	10716
吉林	3206892	4370	4227961	4965
新疆	2856600	2054	3610616	2639
天津	5404390	4837	6756186	5704
云南	4867146	4302	6140518	5368

121. 山东 2008 年度财政收入在 2007 年度基础上约增长了：  
 A. 16.8%      B. 16.2%      C. 15.9%      D. 15.4%
122. 2008 年度“财政收入”和“房地产开发企业施工房屋面积”都比云南多的地区有：  
 A. 2 个      B. 3 个      C. 4 个      D. 5 个
123. 2007 年度上海的财政收入约是新疆的：  
 A. 7.3 倍      B. 7.6 倍      C. 7.9 倍      D. 8.1 倍

124. 与 2007 年度相比 2008 年度“房地产开发企业施工房屋面积”增长最快的是：  
 A. 新疆                      B. 山东                      C. 吉林                      D. 云南
125. 2008 年度“房地产开发企业施工房屋面积”最大的三个地区的面积之和比 2007 年度该三个地区之和增加了：  
 A. 7615 万平方米              B. 7595 万平方米              C. 7535 万平方米              D. 7505 万平方米

**四、根据以下资料，回答 126—130 题。**



	1月	2月	3月	4月	5月	6月	7月	8月	9月	10月	11月	12月
合同外资 □	120703	65355	98210	113897	129985	253889	85169	85026	145452	140995	242045	301269
实际外资 ■	104725	35309	118019	95847	76637	132194	72151	80672	77783	53714	54928	105315
合同外资同比 ▲	14.4	-17.3	-32.5	-6.7	-11.3	2.0	-37.4	-39.6	-24.2	-16.5	-9.2	4.5
实际外资同比 ■	65.0	-43.0	39.2	41.6	1.2	-4.3	-2.9	10.8	6.4	-13.5	-38.5	-39.2

126. 2008 年浙江省合同外资约为：  
 A. 156 亿美元                      B. 154 亿美元                      C. 178 亿美元                      D. 189 亿美元
127. 2007 年第四季度浙江省的实际外资总和约为：  
 A. 30.5 亿美元                      B. 32.5 亿美元                      C. 34.5 亿美元                      D. 36.5 亿美元
128. 2008 年实际外资最多的月份的实际外资约是实际外资最少的月份的实际外资的：  
 A. 3.1 倍                      B. 3.3 倍                      C. 3.6 倍                      D. 3.9 倍
129. 2008 年浙江省合同外资与实际外资的差在以下哪个范围？  
 A. 70~80 亿美元                      B. 55~65 亿美元                      C. 50~55 亿美元                      D. 45~50 亿美元
130. 根据资料，以下关于 2008 年浙江省外商直接投资的说法正不正确的一项是：  
 A. 2008 年浙江省的合同外资比 2007 年少  
 B. 12 个月份中，合同外资和实际外资的同比增长率都是负数的有四个

- C. 12 个月份中，合同外资大于实际外资的有 11 个  
D. 实际外资与合同外资相差最悬殊的月份和最接近的月份分别是 11 月份和 8 月份

**全部测验到此结束！**

请扫描QQ二维码，备注“公务员考生”加QQ  
好友，获取曹长远老师精解历年公务员考试申论、  
行测、面试真题完整解析资料。

精品资料，尽在掌握！

