

2016年10月22日吉林省公务员考试

# 《行政职业能力测验》真题（甲级）答案

## 说明

一、此项测验分为五个部分，共105题，总时限120分钟，满分100分。各部分不单独计时，但都给出参考时限，供答题时合理分配时间。

二、此项测验科目代码为“1”。请按照要求在答题卡上填写好自己的姓名，涂写好准考证号、科目代码。

三、必须在答题卡上答题，在题本上答题，一律无效。

严禁折叠答题卡！

## 第一部分 常识判断

根据题目要求，在四个选项中选出一个最恰当的答案。

1. 当遇到下列情况时，你的正确选择是：

- A. 被农药污染的食品一定要充分煮熟再食用
- B. 被毒蛇咬伤手臂后，应首先扎住伤口处的近心端
- C. 进行人工呼吸过程中，吹气者应始终捏紧被救者的鼻孔
- D. 处方药和非处方药都必须在医生的指导下购买和使用

【答案】B。解析：

2. 参会代表在主席台前合影后，某专家要求拍一张单身照，摄影师应采取的方法是：

- A. 使照相机靠近他，同时镜头往后缩，离胶片近一些
- B. 使照相机靠近他，同时镜头向前伸，离胶片远一些
- C. 使照相机远离他，同时镜头往后缩，离胶片近一些
- D. 使照相机远离他，同时镜头向前伸，离胶片远一些

【答案】B。解析：

3. “五十一个民族，五十六朵花”，各个民族都有绚丽多彩的民族文化。请为歌曲《美丽的草原我的家》、《阿里郎》、《青藏高原》、《牡丹汗》依次配上相应的民族的乐器，对应民族的乐器是：



①



②



③



④

- A. ④①②③
- B. ①③②④

C. ②③④①

D. ③①②④

**【答案】B。解析：**

4. 下列摘自历史专题片中的解说词，内容与史实不相符的是：

- A. 汉景帝时，刘濞等宗室诸侯王因不满中央政权削减封地，便起兵发动“七国之乱”
- B. 项羽虽未称帝，在《史记》中，司马迁却将项羽列入“本纪”，并给予高度评价
- C. 嘉靖年间，戚继光率领“戚家军”与其他明军配合，取得抗倭战争的最后一战胜利
- D. 七七事变激起国人抗日救国的高潮，张、杨二将军为逼蒋抗日，发动了西安兵变

**【答案】D。解析：**

5. 孔子说，一种人“和而不同”、还有一种人“同而不和”。下列角色行为属于“和而不同”的是：

- A. 公务员小李敢于指出领导脱离群众的缺点，使领导的群众基础更牢
- B. 副镇长小张任职后谦虚谨慎，对老镇长的指示一向言听计从
- C. 村支书小吴很会做宣传动员工作，总能说服群众接受村委会的各项决定
- D. 选调生小刘喜欢张扬个性，走上工作岗位后常常是“独树一帜”

**【答案】A。解析：**

6. 毛泽东的《七律·人民解放军占领南京》中写到：“钟山风雨起苍黄，百万雄师过大江。虎踞龙盘今胜昔，天翻地覆慨而慷。宜将剩勇追穷寇，不可沽名学霸王。天若有情天亦老，人间正道是沧桑。”根据此诗，下列说法错误的是：

- A. 钟山就是人们常说的紫金山，是南京的重要地标和风景区
- B. 南京城外有奇石耸立，如虎盘踞，与钟山绵延之势共得名“虎踞龙盘”
- C. “宜将剩勇追穷寇，不可沽名学霸王”是用典手法
- D. 律诗一般八行，每两行为一联，共四联，分首联、颔联、颈联、尾联

**【答案】B。解析：**

7. 在能源危机面前，人们纷纷将目光投向大海，浩瀚的大海有类型多样，数量巨大的海洋能源，关于各种海洋能源利用，以下表述错误的是：

- A. 人们所说的海洋能源主要指海底所储存的煤、石油、天然气等海底能源资源以及溶于水中的铀、锂、镁、重水等化学能源资源
- B. 通过风的作用引起海水沿水平方向周期性运动产生的波浪能可以发电
- C. 盐差能发电原理实际上是利用浓溶液扩散到稀溶液中释放出的能量
- D. 海水容纳的热量是巨大的，海洋热能是电能的来源之一

**【答案】A。解析：**

8. 拉尼娜现象就是太平洋中东部海水异常变冷的情况，东南信风将表面被太阳晒热的海水吹向太平洋西部，致使西部比东部海平面增高将近60厘米，西部海水温度增高，气压下降，潮湿空气积累形成台风和热带风暴，东部底层海水上翻，致使东太平洋海水变冷。拉尼娜现象总是出现在厄尔尼诺现象之后，是厄尔尼诺现象的反向，也称为“反厄尔尼诺”或“冷事件”，对于拉尼娜现象可能带来的影响，下列说法错误的是：

- A. 拉尼娜现象出现时，我国易出现冷冬热夏
- B. 登陆我国的热带气旋个数比常年多，洪涝灾害更易发生
- C. 印度尼西亚等东南亚地区降雨偏多

D. 美国西南部和南美洲西岸将有更充沛的降水

**【答案】D。解析：**

9. 一段朽木上面长满了苔藓、地衣，朽木凹处聚积的雨水中还生活着孑孓，水蚤等，树洞中还有老鼠、蜘蛛等，下列各项中，与这段朽木的“生命系统层次”水平相当的是：

- A. 一块稻田里的全部害虫
- B. 一个池塘中的全部鲤鱼
- C. 一片松林中的全部生物
- D. 一间充满生机的温室大棚

**【答案】D。解析：**

10. 如果你“穿越”回汉代，你不可能吃到的食物是：

- A. 葡萄、胡桃
- B. 土豆、地瓜
- C. 火腿、豆豉
- D. 粽子、米糕

**【答案】B。解析：**

11. 下列关于古代启蒙读物的说法，错误的是：

- A. 《百家姓》和《千字文》是识字类蒙书
- B. 《龙文鞭影》和《幼学琼林》是技能类蒙书
- C. 《增广贤文》和《弟子规》是家训类蒙书
- D. 《笠翁对韵》和《千家诗》是声律类蒙书

**【答案】B。解析：**

12. 成语“猴年马月”泛指没有盼头的遥远岁月。下列关于猴年马月说法中，错误的是：

- A. 并非所有“猴年”都有“马月”
- B. 每年的农历五月都是“马月”
- C. “猴年马月”的周期是12年
- D. 甲申年和丙申年都是“猴年”

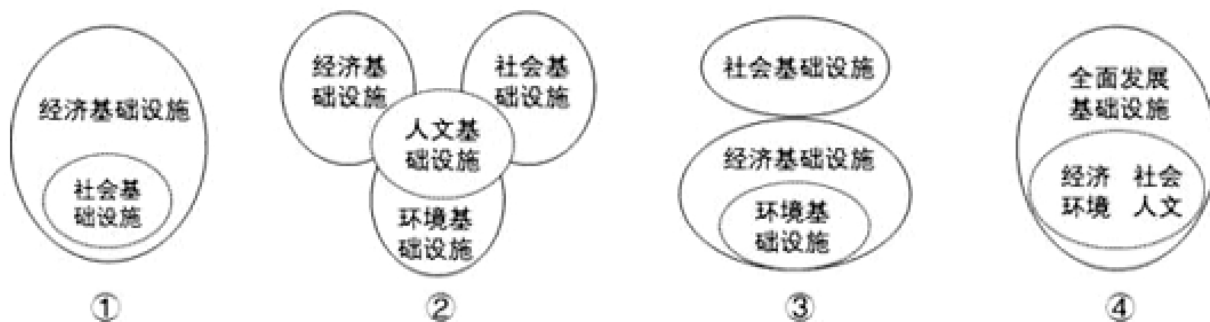
**【答案】A。解析：**

13. 关于诺贝尔奖，下列说法正确的是：

- A. 诺贝尔奖分为物理、化学、生理或医学、数学、文学、和平六个奖项
- B. 莫言是第一位获诺贝尔奖的华人
- C. 居里夫人是第一位获得诺贝尔奖的女性
- D. 由于创造新型抗癌药-青蒿素，屠呦呦获得诺贝尔医学奖

**【答案】C。解析：**

14. 国家发展理念是指导国家选择、安排和整合发展行为的思想基础，下列关于基础设施的观念图式代表国家发展理念演进的四个不同阶段，这四个阶段的正确排序是：



- ①  
②  
③  
④
- A. ①③②④  
B. ①③④②  
C. ③①②④  
D. ④①③②

【答案】A。解析：

15. 备受关注的微信“春节摇红包”活动把2015年春晚推向高潮，当晚共发放由众多品牌企业赞助的5亿现金微信红包。这意味着，微信红包开始从用户个人行为转向企业营销行为。借助向企业营销平台的转变，成为各家企业的营销工作。这种营销模式的成功之处在于：
- A. 减少流通环节，提高企业生产效率  
B. 提高品牌知名度，创造消费动力  
C. 引导消费者量入为出，理智消费  
D. 降低经营成本，增加商品的价值量

【答案】B。解析：

16. 成功就是把“不可能”变成“不！可能”，把“Impossible”变成“I'm possible”。这一说法的合理性在于：
- A. 思维和存在具有同一性  
B. 实践具有直接现实性  
C. 真理具有条件性  
D. 意识具有主动创造性

【答案】B。解析：

17. 数学中常常能折射出人生智慧。下列选项与算式体现的道理一致的是：

$$1.01365^{365} = 37.8 \quad 0.98365^{365} = 0.0006$$

$$1.02365^{365} = 1377.4 \quad 0.99365^{365} = 0.03$$

- A. 江碧鸟逾白，山青花欲燃  
B. 问渠那得清如许？为有源头活水来  
C. 聚沙成塔，集腋成裘  
D. 横看成岭侧成峰，远近高低各不同

【答案】C。解析：

18. 李克强总理指出，要继续促进教育公平，使全国财政性教育经费支出占国内生产总值比例超过4%。

如果某地财政教育经费投入不足，对这一问题，假设你是当地人大代表，可以：

- A. 行使任免权，罢免在教育投入上不足的政府领导
- B. 行使质询权，督促当地政府依法落实财政教育经费的投入
- C. 行使调查权，联名其他代表提请人大监督财政教育经费的使用
- D. 行使决定权，统筹当地政府的政府教育经费投入

**【答案】。解析：**

B

19. 党的十八届五中全会提出了引领中国发展的“五大理念”，即创新、协调、绿色、开放、共享。下列发展举措中，不符合“五大理念”的是：
- A. 实施“京津冀一体化”“长江经济带”战略
  - B. 把发展、民生、社会建设融为一体，减少贫困人口
  - C. 充分利用劳动力资源丰富优势，大力发展生产要素驱动的作用
  - D. 推动建立绿色低碳循环发展产业体系，实施近零碳排放区示范工程

**【答案】C。解析：**

20. 习近平主席在第二届世界互联网大会开幕式上的讲话提出，完善全球互联网治理体系，维护网络空间秩序，必须坚持同舟共济，互信互利的理念，摈弃零和博弈，赢者通吃的旧观念。据此判断，习主席讲话中会引用的名言是：
- A. 善治病者，必医其受病之处
  - B. 天下兼相爱则治，交相恶则乱
  - C. 万物各得其和以生，各得其养以成
  - D. 不受虚言，不听浮术，不采华名，不兴伪事

**【答案】B。解析：**

## 第二部分 言语理解与表达

本部分包括表达与理解两方面的内容。请根据题目要求，在四个选项中选出一个最恰当的答案。

21. 什么书算得上畅销？可能有人会想到热络一时的《秘密花园》或成为热门 IP 的小说《盗墓笔记》。不过，吉尼斯世界纪录机构 12 日在伦敦宣布，《新华字典》获得最受欢迎的字典和最畅销的书（定期修订）两项吉尼斯世界纪录。对此，著名文化学者张颐武在接受记者采访时表示，这个结果很客观，这说明\_\_\_\_\_。
- 填入划横线部分最恰当的一项是：
- A. 新华字典具有巨大的市场潜力，可以带来很好的经济效益
  - B. 中国人越来越喜欢学习，购书选择方面更加喜欢工具书
  - C. 汉语正在成为越来越重要的语言工具，也从一个侧面反映了汉语影响力的提升
  - D. 中文工具书越来越得到国际社会的认可和欢迎

**【答案】C。解析：**

22. 托尔斯泰说：幸福的家庭都是相似的，不幸的家庭各有各的不幸。可在我看来，\_\_\_\_\_是幸福的人际关系，\_\_\_\_\_不会真正相似，\_\_\_\_\_不会一模一样。世界上所有人际关系不会一模一样，而是全都有自己的模样。比如说这对亲子关系母亲爱女儿多些，那对亲子关系女儿爱父亲多些；这对朋友关系他更喜欢她，那对朋友她更喜欢他；这对恋人是双向的爱，那对恋人是单向的爱。如此等等，\_\_\_\_\_。
- 依次填入划横线部分最恰当的一项是：
- A. 哪怕 而 甚至 屡见不鲜

- B. 就算 却 起码 不胜枚举
- C. 纵然 也 更 层出不穷
- D. 即使 也 至少 不一而足

**【答案】D。解析：**

23. 在一般商品生产和交换领域，价值规律的调节功能日臻完善。在此背景下，一些求富者纷纷将\_\_\_\_\_的目光盯上资金、土地等“生产要素”领域，意图从这些高度垄断的领域之中，\_\_\_\_\_尽可能更多的金子。

依次填入划横线部分最恰当的一项是：

- A. 攫取 挖取
- B. 覬覦 掘取
- C. 贪婪 赚取
- D. 拜金 收获

**【答案】B。解析：**

24. 作为一名诗歌爱好者，我觉得《悲伤与理智》的核心，也是最有价值的部分，是三篇细品原作的散文，慢条斯理，\_\_\_\_\_，小溪般缓缓流淌中裸露出底下光滑坚硬的卵石。

《琅琊榜》作为一部宫廷剧在礼仪动作方面\_\_\_\_\_地追求完美。他们规范演员的举止动作，给每一个需要使用仪式的场面进行流程制定，见面行礼、口头请安、祭祀跪拜等都有不同标准。

依次填入划横线部分最恰当的一项是：

- A. 不疾不徐 精雕细刻
- B. 娓娓道来 全力以赴
- C. 信手拈来 全心全意
- D. 不温不火 不遗余力

**【答案】D。解析：**

25. 美是真正的世界语言。看台上，来自世界各地的嘉宾啧啧称赞，纷纷拍照留念，久久回味。当伯牙子期的“高山流水”遇到德彪西的“月光”，当\_\_\_\_\_的“梁祝”触碰缠绵悱恻的“天鹅湖”，当淡香悠悠的“茉莉花”引出慷慨奔放的“欢乐颂”……文化的力量\_\_\_\_\_。全球治理的磨合，首先要寻求文化的认同；全球治理的共识，也要从文化传统中探索沟通之道。

依次填入划横线部分最恰当的一项是：

- A. 此情可待成追忆 于无声处
- B. 发乎情止乎礼 润物无声
- C. 相见时难别亦难 大象无声
- D. 发乎情止于行 潜移默化

**【答案】B。解析：**

26. \_\_\_\_\_①\_\_\_\_\_无论角色大小、是否主演，好的演员都会以自己的职业素养与敬业精神对观众负责。\_\_\_\_\_②\_\_\_\_\_没有踏踏实实沉浸角色的前期准备，就不会有形神兼备的后期演绎。\_\_\_\_\_③\_\_\_\_\_表演中敷衍了事，观众一眼就能看出来。\_\_\_\_\_④\_\_\_\_\_影视表演最终要靠作品说话，演员走红后如果不注重提升自己的专业素养，最终会沦为低档快消品，在商业价值被消费殆尽后，最终被淘汰。

“没有小角色，只有小演员。”是原文中的句子，其最恰当的位置是：

- A. ①
- B. ②



C. ③

D. ④

**【答案】A。解析：**

27. 在发达国家，做慈善回馈社会是不二之选。最近扎克伯格裸捐 450 亿美元，就是对国内富豪的一次有益刺激。只有当“财富积累正当”的议程\_\_\_\_\_到“财富使用正当”中国富豪的正名之路才算走到尾声。

填入划横线部分最恰当的一项是：

A. 过渡

B. 发展

C. 进展

D. 进化

**【答案】D。解析：**

28. \_\_\_\_\_必须以最严厉的措施治理污染企业的超标排放，特别是在重金属污染、持久性有机物污染方面，更要毫不犹豫采取措施，并确保落实，改变污染不断加剧的趋势。此前媒体曝光的“某地多家企业将污染排到 1000 多米水层污染地下水”等行为，必须坚决遏制，任何来自权利与资本的\_\_\_\_\_，都不应该动摇治理决心。

依次填入划横线部分最恰当的一项是：

A. 首当其冲 阻拦

B. 毫无疑问 阻止

C. 当务之急 阻挠

D. 毋庸置疑 防止

**【答案】C。解析：**

29. 四川大学华西医院手术中心有 24 张床位、6 个手术间。马洪升介绍，日间手术刚开展时，医院采取\_\_\_\_\_模式，患者统一在日间手术中预约，再由各科室派医生到日间手术室执行手术；2010 年医院又推出\_\_\_\_\_模式，各科病房拿出一定床位用于日间手术；2014 年，医院再推出\_\_\_\_\_模式，由日间手术中心统一收患者，再分到各专科实施日间手术，患者出院后由该中心统一随访。

依次填入划横线部分最恰当的一项是：

A. 分散收分散治 集中收分散治 集中收集中治

B. 集中收集中治 分散收分散治 集中收分散治

C. 集中收分散治 分散收分散治 集中收集中治

D. 分散收分散治 集中收集中治 集中收分散治

**【答案】B。解析：**

30. 习近平总书记把“本领恐慌”现状概括为“\_\_\_\_\_不会用，\_\_\_\_\_不管用，\_\_\_\_\_不敢用，\_\_\_\_\_不顶用”，提出全党同志特别是各级领导干部，都要有本领不够的危机感，都要努力增强本领，都要一刻不停地增强本领。

依次填入划横线部分最恰当的一项是：

A. 硬办法 软办法 新办法 老办法

B. 新办法 老办法 硬办法 软办法

C. 软办法 硬办法 老办法 新办法

D. 老办法 新办法 软办法 硬办法

**【答案】B。解析：**

31. 书法是写字，但写字不是书法。文字是载体，它\_\_\_\_\_着表达思想、传递信息、记事备忘、传承历史的重大使命。而中国书法，则正是使汉字\_\_\_\_\_完美，升入化境的艺术。

依次填入划横线部分最恰当的一项是：

- A. 担负 臻于
- B. 肩负 趋于
- C. 承担 日趋
- D. 承载 日益

**【答案】A。解析：**

32. 有人用“天价”片酬导致行业畸形来批判“天价”片酬，然而实际上“天价”片酬与行业畸形是恶性循环，互为因果的关系，因为现有的行业的畸形，才导致对明星效应的依赖，一线明星\_\_\_\_\_，片酬自然\_\_\_\_\_。

依次填入划横线部分最恰当的一项是：

- A. 席珍待聘 坐地起价
- B. 囤积居奇 随行就市
- C. 奇货可居 水涨船高
- D. 待价而沽 居高不下

**【答案】C。解析：**

33. 4月8日下午，湖南人胡国辉和彭孝良，路过广州白云机场航站楼9号门时，拾到一个白色手提袋，内有35.6万美元，折合230余万元人民币。“飞来横财”并没有诱感到生活拮据的农民工，他们毅然将手提袋原封不动交给机场派出所。据报道，胡国辉和彭孝良拾金不昧的事迹曝光后，他们的身份和生活状况成了网友们热议和欲知的细节。许多网友猜测这两位拾金不昧者，属于受过高等教育的高素质高收入人群。总之，这句话的潜台词似乎是：“只有高素质的人才不会眼红这飞来的横财，只有高收入群体才能抵抗巨款的诱惑”。

这段文字的议题是：

- A. 道德约束力
- B. 规范有效性
- C. 金钱诱惑力
- D. 标签化解读

**【答案】D。解析：**

34. 猴子听说牛老大要请一名家庭教师，于是前往应聘。他在水田里找到了正在耕作的牛老大，双方商定了相关事宜。第二天，猴子要去任教，临走时，他拱到水塘里把身子涂了一通污浊泥水。母猴见了觉得奇怪，问他为何如此。猴子说：“昨天我见牛老大就是这模样，大概他们家就兴这个，我是入乡随俗，拉近关系。”牛老大望见猴子脏兮兮的模样，满心不高兴，大声呵斥其离开。猴子惊诧地问道：“你昨天不就是这样吗？”牛老大边关门边鄙夷地回了一句：“我那是在水田里劳作！”。

这则寓言故事给基层公务员的启示是：

- A. 努力工作才是群众最欢迎的
- B. 深入调查才能更好地为群众服务



- C. 拉近群众关系并不能更好地解决问题
- D. 了解人民诉求才能解决人民疾苦

**【答案】B。解析：**

35. 东北文化有好的一面。东北人仗义、大气、敢拍板，但东北人在商业上有个最大的弱点，就是不爱干小事儿，不爱弯腰，从来不爱干让人瞧不起的事。东北人不如南方人细腻、敢冒险。我们很多时候有雄心壮志，但落地的时候瞧不起那些辛苦的工作，看不上最低微的工作，我们老想干大事，不想干小事。要创业，就要有冒险精神，我们要肯干小事，干别人瞧不上的工作，一点一点地创业，这是成功的基础。任何事儿，有小成功，才有大成功。

与这段文字主旨无关的名言是：

- A. 它山之石，可以攻玉
- B. 不积跬步，无以至千里
- C. 恢弘志士之气，不宜妄自菲薄
- D. 业无高卑志当坚，男儿有求安得闲？

**【答案】A。解析：**

36. 打开朋友圈，晒美食、晒美景，各种晒，再忙也不会忘记随手拍，让本来繁杂或简单的环节硬生生地多出了这些步骤。看似生硬，实则自然，已然融入工作生活的方方面面，在不知不觉中花了大量时间，流失了大量精力。有这样一则段子：伤口流血，首先做的不是止血，而是拍照发微信；遇人危难，千钧一发，路过的人首先也不是挺身而出，而是拍照发朋友圈；阅览者的反应，首先也不是问拍摄者为什么是旁观者，而是盲目点赞，好也赞，坏也赞，欢也赞，愁还是赞。寻求帮助，除了得到赞以外，没有下文。

这段文字意在表明：

- A. 朋友圈的拍与炫
- B. 朋友圈的看与赞
- C. 朋友圈的假繁忙
- D. 朋友圈的真欢喜

**【答案】C。解析：**

37. 当你在家里拍了张炫富的钻戒照片，然后上传到自己的微博或者朋友圈，那么事情可能就不只是你想炫耀一下那么简单了。你分享的照片不是一张单纯的照片，它还隐藏着诸多信息，如拍照时间、相机或手机型号、拍照地点的经纬度。所以当这张照片摆上互联网时，对熟悉科技的窃贼来说，你就是一个明确且不需要踩点的目标。如果你还发布了“今天去看场电影或者明天去哪里旅游”的分享，那就是在进一步指引窃贼可以什么时候来偷了。

无法从这段文字推出的是：

- A. 犯罪分子可能会利用大数据分析去作案
- B. 个人信息泄露主要发生在网络社交平台
- C. 在网络社交平台炫富很可能会泄露隐私
- D. 面向公众的信息安全教育需要引起重视

**【答案】B。解析：**

38. 在陪伴子女的过程中，很多家长都会遇到孩子撒谎或者隐瞒真实情况的问题。撒谎差不多算得上是许多父母最担心的子女不良行为，甚至比子女学习成绩不好更令他们惊慌、生气。如果说好多家长并没有很好地解决孩子撒谎的问题，至少他们大多予以重视，而孩子对家长隐瞒自身情况的问题则

不仅解决得更差，也没有得到足够重视。

下列表述符合原文意思的是：

- A. 家长们认为孩子的知情不报比撒谎更令人担忧
- B. 家长们认为撒谎是最不可原谅的道德品质问题
- C. 对解决孩子撒谎问题多数家长心有余而力不足
- D. 孩子隐瞒自身情况的行为没有引起家长的重视

**【答案】D。解析：**

39. 离婚成了 21 世纪的世纪流行病。我料定未来的日子里公众还会看到更多的名人俗子离婚，这不是乌鸦嘴，是大势所趋。想想身边的人，看看每一天发生的事情，就知道趋势已不可避免。原因是信息革命会改变传统。工业革命后婚姻状况与农业社会的传统不同，导致新式家庭出现，旧式家庭崩盘。今天，这一代赶上了一个全新的时代，山雨欲来。

“山雨欲来”在文中的意思是：

- A. 当今社会将会迎来更高的离婚率
- B. 离婚率高于结婚率将成为新常态
- C. 传统家庭模式即将走向彻底消亡
- D. 婚姻制度的颠覆性变革即将到来

**【答案】A。解析：**

40. “洪荒少女”傅园慧的横空出世，让国人看到了中国当代运动员努力拼搏、享受比赛的风采：“孙杨不哭”，让我们感受到国人在对待运动员失利时的宽容。我们不禁高呼中国人开始享受奥运、不再纠结于输赢。但当看到“女排精神重现”“女排精神王者归来”这样的标题时，笔者感叹“我们眼里只有输赢，哪里有精神”。

这段文字的主旨是：

- A. 肯定球迷日益成熟的体育观
- B. 表扬傅园慧式的体育精神
- C. 批评媒体“以成败论英雄”的思维
- D. 指出“女排精神”已被曲解

**【答案】C。解析：**

41. 刚工作时，我在一家高职院校当老师，除了一周上满 20 节课，还要当辅导员。由于生源质量较差，学校学习氛围不理想，课堂教学面对的都是不爱学习的学生，每堂课后我都会产生满满的挫败感。每周下来，真感觉整个人都被“掏空”了。后来，我果断辞职，换了一个更喜欢的工作，这种“被掏空”的感觉就没有了。“我”的故事的主要启示是：

- A. 成就感的获得，往往关乎个人的喜好
- B. 如果无力改变现实，就要努力适应它
- C. 与其在挫败中消耗自信，不如选择另一种生活
- D. 只有做自己最喜欢的工作，才能避免挫败感

**【答案】C。解析：**

42. 我们除了做事，还需多读书，但人生苦短，经典都读不完，何必读其他？何谓经典？经过时间淘洗的著作才是经典。放宽点来说，知识界公认的大家著作也称为经典。但并非大家的所有著作都是经典。一个人，一生能写出一部经典已属不易，能写两三部者可称奇才。故一般而论，读一个人的代表作即已足够，只有少数里程碑式人物的著作需要全读。

这段文字的主要议题是：

- A. 如何理解经典
- B. 如何阅读经典
- C. 应读什么书
- D. 怎样坚持读书

**【答案】C。解析：**

43. 日本九州 7.3 级地震、缅甸 7.2 级地震、阿富汗 7.1 级地震、印度尼西亚苏门答腊岛附近海域 1 个月来多次 7.0 级以上地震……如何解释近来接二连三的强震，它们之间有关联吗？地球是否就此进入了地震活跃期？对此，中外专家均认为，任何结论都需要有科学证据来支撑。但无论从统计意义还是从具体研究来看，尚无法断定全球地震震级和频率等超出正常范畴，他们之间是否有关联也不能下定论。但对部分危险区域加以研究，并保持警惕是必须的。

以下选项最适合做文字标题的是：

- A. 地球已经进入震动模式
- B. 地球进入震动模式了吗
- C. 地球将要进入震动模式
- D. 地球没有进入震动模式

**【答案】B。解析：**

44. 我家楼下的王大妈每天推着瘫痪的老伴散步，以前总是有说有笑，最近情绪有些低落，一问才知道，都是被“开放二孩”政策闹的。原来，在北京的二儿子说，媳妇又怀孕了，他们计划让老太太去给带孩子，老爷子这边雇个 24 小时家政服务，王大妈说，咋也不能把老伴撇下，想自己出钱帮儿子在北京雇保姆，可儿子说北京太贵，而且保姆看孩子不放心。一来二去，媳妇去医院做了流产，不生了。这么一来，王大妈和老伴上火了，满心的内疚感。老伴天天嚷嚷“都怪自己拖累了全家”。王大妈也动不动掉眼泪说：“这身体真不行了，对不起孩子们呀”。

这段文字意在说明的是：

- A. 二孩政策放开了，但“敢不敢”生却是个问题
- B. 要二孩让有些隔辈的老年人也背负了压力
- C. 二孩政策未必立竿见影，需要家庭和社会共同努力
- D. 国家出台二孩政策考虑不周全，应该及时进行修改

**【答案】B。解析：**

45. 你是否想过这样一个问题。当你去某处时返程的路程似乎更短，花费时间更少，为什么呢？这是因为，我们并不知道里程的确切长度，只是通过一些其他线索来估算。当我们前往陌生之处时，去时的路似乎比往返的路更长。因为当时我们看到的是一连串儿新鲜的事物。然而在返程时，我们仅仅需要识别一些路标，而非形成新记忆。因此，大脑感觉时间缩短空间变小。

作者通过这段文字意在告诉我们：

- A. 外在刺激影响我们的时间感知
- B. 空间影响我们的时间感
- C. 时间感知影响我们的旅途长度
- D. 时间影响我们的空间感

**【答案】B。解析：**

46. 在台北，真正撑起书店产业的，并不是大名鼎鼎的诚品、纪伊国屋这类连锁书店，而是数量远超连

锁书店的独立书店。这些独立书店中，既有全方位经营的综合书店，也有专卖某一领域书籍的特色书店。以公馆书店街区为例，在这里，既有台湾最大的二手书店，也有藏着无数珍本的老旧书店，既有专卖外文书籍的原版书店，也有专卖简体书籍的大陆书店。如果只有以上这几个种类，那也谈不上特别多元，但在这里，甚至有专注于性别理论的女性主义书店，专注于宗教理论的神学书店等。根据这段文字可以确定的是：

- A. 台北的独立书店营销最有特色
- B. 台北是一个文化学者云集的城市
- C. 台北的独立书店种类非常丰富
- D. 台北的连锁书店进入发展瓶颈期

**【答案】C。解析：**

47. 在“龟兔赛跑”的寓言故事中，善于奔跑的兔子是“反面教材”。但在马拉松参赛者中，“兔子”却是肩负光荣使命的角色。“兔子”的学名叫速配员，他们在参赛中的职责是引导跑者按照稳定的节奏跑步，在预设的时间内完成比赛。跑步被认为是一项孤独的运动，但是一旦以“兔子”的身份出现在赛场上，那就不能只顾埋头刷新自己的成绩，一名合格的“兔子”反而要强调自己的“存在感”，把完赛的信心和跑步的稳定感传递给跟着自己比赛的跑友。

对“兔子”职责理解不正确的一项是：

- A. 做好准备，对跑友和赛事负责
- B. 跑得专业，在实战中给出指导
- C. 尊重跑者，把信心传递给跑者
- D. 赛出水平，不断超越自我局限

**【答案】D。解析：**

48. 电影《七月与安生》讲述了一对灵魂伴侣的成长故事。七月与安生，两个女孩性格迥异，相识于年少，无话不谈。她们是闺蜜，更是灵魂深处的另一个自我。尽管日后她们走上了不同的道路，但内心深处却都对另一种人生充满向往。影片贯穿了一条戏中戏的线索：一个女孩在写两个女孩的故事。最终，影片中在网络上发布小说的安生在书写时，同时活成了安生与七月，成为拥有两个自我的人，而这故事也在创作的虚构空间中完成了对生命过程的丰满，对生命质感的提升。

下列选项中最符合作者对《七月与安生》的解读的是：

- A. 人往往对别人的人生更感兴趣
- B. 一个人应该坦诚面对自己曾经有过的真实人生
- C. 一个人最终的成熟就是走向与自我的和解
- D. 每个人都希望活成别人的模样

**【答案】C。解析：**

49. 近日，有网友表示了这样的担心，“我支付宝，微信里都有钱，如果我哪天突然意外死了，这些钱会被怎么处理（我的家人并不知道这笔钱）？”一时间引发了共鸣。根据互联网公司的规定，如果长期不使用个人账户，支付宝会注销，微信会回收。这也意味着，个人网络财产很有可能被“充公”。在实体银行里也存在这样一种情况。但实体银行，一般都有救济机制。比如针对“休眠账户”，银行可以联系第二联系人，或者当事人的亲友拿着银行卡来查询等。受此启发，当前应该通过立法的方式，解决网络平台的“休眠账户”问题。

这段文字意在说明：

- A. 说明传统银行账户比网络账户更安全
- B. 强调网络账户相关立法的必要性

- C. 突出传统银行账户的优势所在
- D. 提示网络银行账户存在的风险性

【答案】B。解析：

50. ①它们便每天在血管中游荡，到处寻找安身之所，很快它们盯上了血管内壁。  
②这么多的胆固醇没有用武之地。  
③但在某些情况下，例如血液中胆固醇浓度实在太高，它抵挡不住了胆固醇，特别是氧化的低密度脂蛋白胆固醇，就会慢慢突破血管内皮防线，沉积在内皮下方。  
④血管内壁是一层薄薄的细胞，叫做血管内皮。正常情况下，它会阻挡胆固醇进入到血管内皮下方。  
⑤于是它们盯上了血管内壁。

对上述语句排序正确的一项是：

- A. ④③②①⑤
- B. ②①④③⑤
- C. ④⑤③②①
- D. ②①⑤④③

【答案】B。解析：

#### 阅读资料，回答 51~55 题。

最近，“拆二代”这个词火了起来。根据网上的说法：“‘拆二代’多数在上世纪 80 年代后出生于城市近郊的人，由于拆迁补偿一夜暴富，他们经常以负面形象示人。\_\_\_\_\_调查数据说明，“拆二代”纸醉金迷又扶不上墙的形象不过是一种幻想。它反映了一种将一个群体标签化，一竿子打翻一船人的思维模式。

“二代”是一种先赋的资源，对个人成长有着显著影响。但是，这种先天影响并非最具决定性的因素。在财富与权力中成长起来的人不一定骄奢淫逸，而从小面对挫折与贫困未必就奋发有为。不论是“富二代”还是“穷二代”，一个人会怎样、能怎样，更多地取决于他们的努力和社会阶层流动通道是否畅通，而非家庭背景高低。\_\_\_\_\_保障了法治的健全和社会的公平，\_\_\_\_\_没必要担心“二代”们做什么“坏事”。

“二代”标签之所以满天飞，无非有两个原因：其一，碎片化信息传播当道，以偏概全的情绪化表达容易战胜独立理性的判断，能吸引人眼球的“标签”容易集结公众力量，形成一种缺乏理性的舆论暴力；其二，“贴标签”省去人们深入思考、分析的工夫，迎合了人们的懒惰。

一个标签化的世界，必然是僵化而充满恶意的，但真实世界绝不是如此极端。是时候抛弃各种“×二代”的标签，正视每一个人的独特性了。就事论事，理性独立，这才是看待世界的应然态度。

51. 第一段的它指代的是：
- A. 拆二代一词
  - B. 拆二代群体
  - C. 对拆二代形象的想象
  - D. 对拆二代群体的评价

【答案】C。解析：

52. 填入横线处最恰当的一组词是：
- A. 然而 只要 就
  - B. 何况 如果 那么
  - C. 但是 只有 才
  - D. 而且 一旦 则



**【答案】A。解析：**

53. 对文意理解最准确的是：

- A. 网络舆论暴力是种集群行为
- B. X二代式的表述有失偏颇
- C. 寻求代际身份是人类的天性
- D. 先赋资源成为阶层流动的阻碍

**【答案】B。解析：**

54. 第四段中，画线句子的意思是：

- A. 现实社会并非都是僵化且充满恶意的
- B. 标签化社会未必都会僵化到极点
- C. 现实中的X二代并不都是坏人
- D. 现实中的X二代坏不到哪去

**【答案】A。解析：**

55. 最适合做这篇短文标题的是：

- A. X二代未必如你想像的坏
- B. X二代是一种非理性的表达
- C. X二代是充满恶意的标签
- D. 标签化表达伤害了“沉默的大多数”

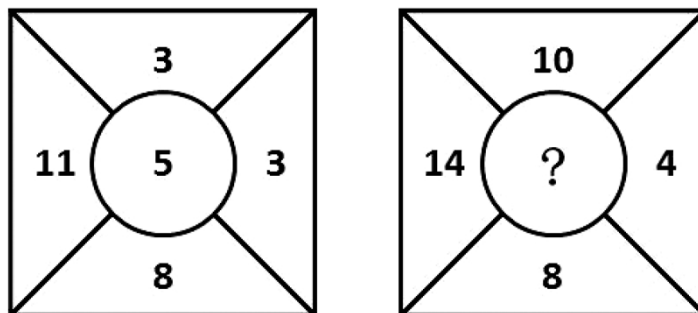
**【答案】B。解析：**

### 第三部分 判断推理

本部分包括图形推理、类比推理、定义判断与逻辑判断四种类型的试题，请在四个选项中选出一个最恰当的答案。

一、图形推理。请按每道题的答题要求作答。

56. 从所给的四个选项中，选择最合适的一个填入问号处，使之呈现一定的规律性：

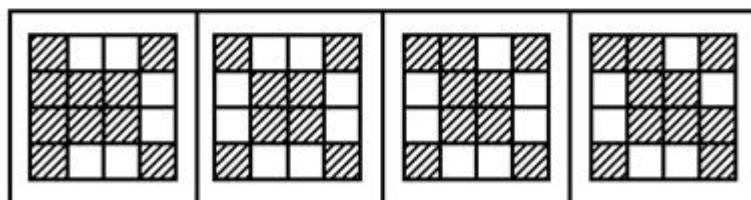



- A. 2
- B. 6
- C. 4
- D. 3

**【答案】B。解析：**

57. 从所给四个选项中，选择最合适的一个填入问号处，使之呈现一定的规律性：





A

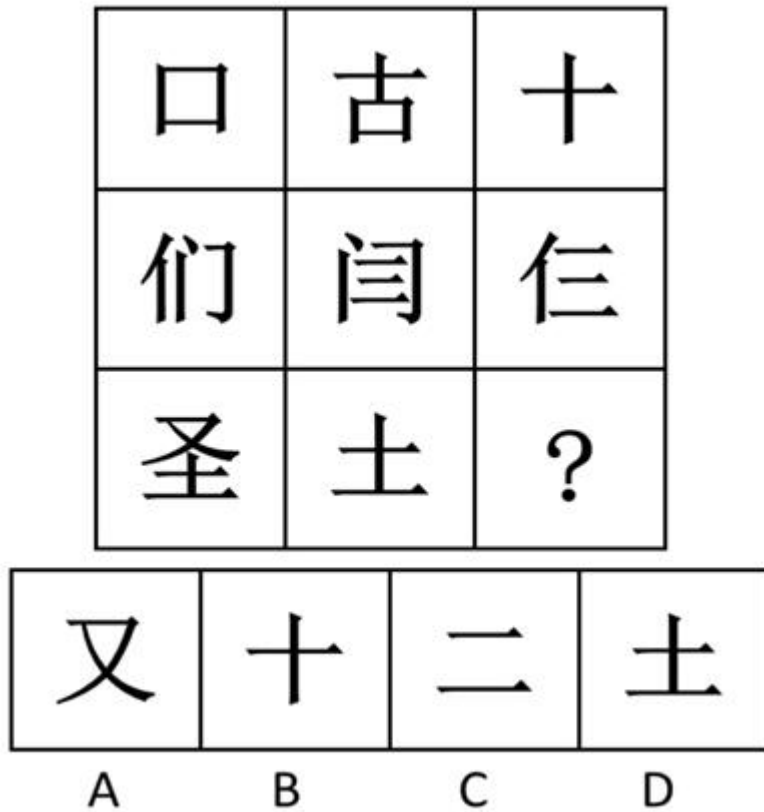
B

C

D

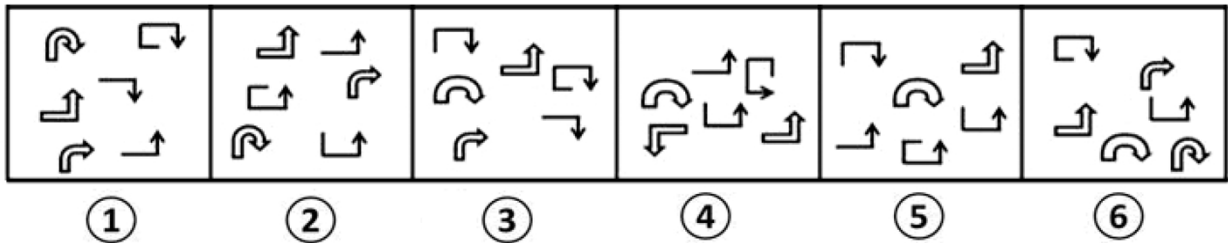
【答案】D。解析：

58. 从所给四个选项中，选择最合适的一个填入问号处，使之呈现一定的规律性：



**【答案】A。解析：**

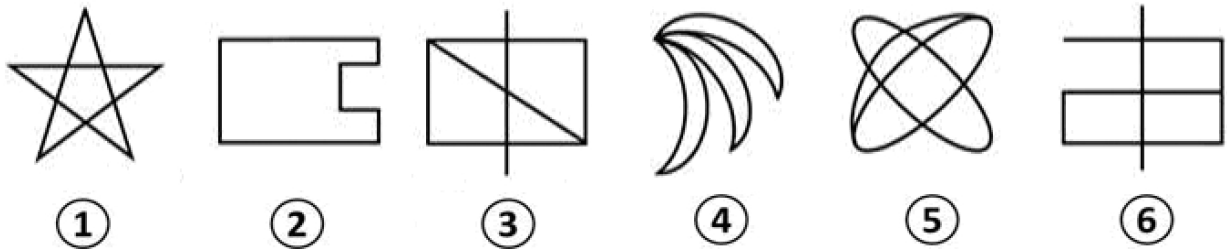
59. 把下面的六个图形分为两类，使每一类图形都有各自的共同特征或规律，分类正确的一项是：



- A. ①②④，③⑤⑥
- B. ①④⑥，②③⑤
- C. ①③⑥，②④⑤
- D. ①③④，②⑤⑥

**【答案】C。解析：**

60. 把下面的六个图形分为两类，使每一类图形都有各自的共同特征或规律，分类正确的一项是：



- A. ①③④, ②⑤⑥  
 B. ①③⑤, ②④⑥  
 C. ①②⑤, ③④⑥  
 D. ①②④, ③⑤⑥

**【答案】B。解析：**

**二、类比推理。**每道题先给出一组相关的词，要求你在备选答案中找出一组与之有逻辑关系上最为贴近、相似或匹配的词。

61. 松树 对于 ( ) 相当于 ( ) 对于 知识产权
- A. 松果；知识  
 B. 松树枝； 权利  
 C. 植物； 专利权  
 D. 松树林； 商标权

**【答案】C。解析：**

62. 信件：E-mail
- A. 电脑：台式电脑  
 B. 教师：女教师  
 C. 朋友：老同学  
 D. 图书：电子书

**【答案】B。解析：**

63. 曲艺：相声：娱乐性
- A. 社交：微信：即时性  
 B. 新闻：评论：客观性  
 C. 医院：医生：权威性  
 D. 司机：驾驶：可靠性

**【答案】A。解析：**

64. 大义凛然：卑躬屈膝
- A. 安分守己：好高骛远  
 B. 穷奢极欲：节衣缩食  
 C. 得心应手：百无一能  
 D. 持之以恒：虎头蛇尾

**【答案】D。解析：**

65. 流行：高尚

- A. 专家：学者
- B. 勇敢：品德
- C. 树根：树叶
- D. 闰月：春季

**【答案】A。解析：**

**三、定义判断。每道题先给出定义，然后列出四种情况，要求你严格依据定义，从中选出一个最符合或最不符合该定义的答案。注意：假设这个定义是正确的，不容置疑的。**

66. 稀缺效应，是指人们因物以稀为贵，而引起的购买行为变化的现象，即当某件事物变得稀缺或者难以得到时，人们会认为此物更有价值，也更想得到。

根据上述定义，下列没有体现稀缺效应的是：

- A. 商店每天都挂着打折仅此一天的横幅吸引大量顾客
- B. 某品牌手机实行网上预约销售限量抢购，结果供不应求
- C. 月底经济拮据的小张靠着去超市购买临期食品度日
- D. 男性在临近酒吧打烊时会认为女性的吸引力指数上升了

**【答案】C。解析：**

67. 互补品定价策略，是指企业为主要产品（价值量高的产品）制定较低的价格，而为附属产品（价值量低的产品）制定较高的价格，这样有利于增加整体的销量，从而增加企业利润。

根据上述定义，下列使用了互补品定价策略的是：

- A. 甲企业推出的一款网络游戏深受消费者喜爱，带动了游戏周边产品的热销
- B. 丁商场销售的十二生肖系列茶杯，成套购买会比单个购买的价格更加优惠
- C. 丙公司新推出内存为 16G、64G 和 128G 的三款智能手机，售价差别较大
- D. 乙厂商生产的喷墨打印机质量好、价格低，但墨盒的价格却一直居高不下

**【答案】D。解析：**

68. 犯罪目的是指犯罪人主观上通过犯罪行为所希望达到的结果，是以观念形态存在于犯罪人大脑中的犯罪行为所预期达到的结果。犯罪动机是刺激、促使犯罪人实施犯罪行为的内心起因或思想活动，它回答犯罪人基于何种心理原因实施犯罪行为。动机的作用是发动犯罪行为，说明实施犯罪行为对行为人的心理愿望具有什么意义。

根据以上定义，下列说法中正确的是：

- A. 甲为了报复乙，欲通过投毒的方式剥夺乙的生命，则甲的犯罪目的是报复
- B. 甲担心乙对其实施打击报复，将乙非法拘禁数日，则甲的犯罪动机是恐惧
- C. 甲投毒致乙死亡，经查明是因为其嫉妒乙的才华，则甲的犯罪目的是嫉妒
- D. 甲贪图钱财，通过盗窃而非法占有乙的财物，则甲的犯罪动机是非法占有

**【答案】B。解析：**

69. 价值理性，是指行为人注重行为本身所能代表的价值，即是否实现社会的公平、正义、忠诚、荣誉等，而不计较手段和后果。价值理性所关注的是从某些具有实质的、特定的价值理念的角度来看行为的合理性。

根据上述定义，下列符合价值理性要求的是：

- A. 积善成德
- B. 替天行道
- C. 过河拆桥

D. 礼贤下士

**【答案】B。解析：**

70. 辐射适应，是指具有血缘关系的生物，由于生活在不同的环境中而在形态以及生活习性上有着完全不同的适应性的现象。根据上述定义，下列属于辐射适应的是：
- A. 水生植物莲、狐尾藻和金鱼藻的亲缘关系很远，但由于都收到水中环境的影响，他们都具有通气组织发达，根系发育较弱等相似的特点。
  - B. 善于飞翔的信天翁翼展超过 3.4 米；善于在沙地上奔跑的鸵鸟身体巨大，双翼衰退，两腿刚劲有力，它的足几乎退化为适于奔跑的“蹄”
  - C. 斑马除腹部外，全身密布的黑白条纹，具有防止刺刺蝇叮咬的作用，因为刺刺蝇喜欢叮咬一些颜色单一的动物，并且会传播一种睡眠病
  - D. 生活在寒带的雷鸟，在白雪皑皑的冬天，体色是纯白色的，一到夏天，就换上棕褐色的羽毛，与夏季苔原的斑驳色彩相近，从而保护自己

**【答案】B。解析：**

71. X 理论认为，人的本性是懒惰的，工作越少越好，可能的话会逃避工作，因此管理者需要以强迫、威胁、处罚、金钱利益等诱因激发人们消极的工作原始动力。而 Y 理论则认为，人们有积极的工作源动力，工作是很自然的事，大部分人并不抗拒工作，即使没有外界的压力和处罚的威胁，他们一样会努力工作以期达到目的。

根据上述定义下列符合 Y 理论的是：

- A. 甲经理主张：应趋向于设定严格的规章制度，注重“他律”在管理中的应用
- B. 丁主任相信：世界上根本没有什么一成不变的、普遍适用的最佳的管理方式
- C. 丙科长指出：应趋向于对员工授予更大的权力，以此激发员工的工作积极性
- D. 乙厂长认为：在员工管理中要根据企业实际状况灵活掌握管制与自觉的关系

**【答案】B。解析：**

72. 概念混淆，是指由于自然语言的多义性和模糊性而产生的非形式谬误。构型歧义，是指由于句子语法结构的不正确而产生的歧义性谬误。

根据上述定义，下列属于构型歧义的是：

- A. 一人去算命，问家庭，算命先生掐指一算，说，父在母先亡
- B. 问：如果你哥哥有五个苹果，你拿走三个，结果怎样？答：结果他会揍我一顿
- C. 三个秀才问考试结果，算命先生伸出一个手指头，说了一个“一”，便再不出声
- D. 元宵夜，一女子想去观灯，丈夫说：家中不是已点灯了吗？

**【答案】A。解析：**

73. 回文，是指用相同语句回环往复地说明的一种修辞方式，形式上表现为词语相同但语序相反。

根据上述定义下列属于回文的是：

- A. 雾锁山头山锁雾，天连水尾水连天
- B. 寻寻觅觅，冷冷清清，凄凄惨惨戚戚
- C. 东边日出西边雨，道是无情却有晴
- D. 主人下马客在船，举杯欲饮无管弦

**【答案】A。解析：**

74. 复合平等理论，是一种实现社会公平的设想，它认为任何一个领域的优势都不应当构成对整个社会

的垄断，因此应将不同的社会领域尽可能区隔开来，允许各个领域有各自的优胜者，但要防止某个领域的优势越界扩张到其他领域。

根据上述定义，下列说法中最符合复合平等理论的是：

- A. 三百六十行，行行出状元
- B. 你可以选择做官，你也可以选择挣钱，但你不能选择通过做官来挣钱
- C. 凡有的，还要加倍给他，叫他多余；没有的，连他所有的也要夺过来
- D. 术业有专攻，隔行如隔山

**【答案】B。解析：**

75. 比拟法是植物命名时最常见的一种修辞造词手段，是一种当物体的一部分或整体在形状、纹色、气味儿、质地、功能等方面，与其他事物存在着相似联系，植物命名时就相应的选择代表相似事物的词语来参与造词的方法。

根据上述定义下列植物命名，没有使用比拟法的是：

- A. 蘑菇里最珍贵的叫猴头，这种蘑菇是圆的，没有根，泥黄色表面成头发丝状很像猴子的脑袋，故而得名
- B. 代代花，姑苏名产，实熟时色黄，若不采下，经五年而不烂，皮色由青而黄复由黄变青可历多年故称代代花
- C. 据《本草纲目-果部-椰子》，记载椰子果实圆形，上有黑褐色的毛，人们将其与人的头颅类比，命名为“越王头”
- D. 甘草可调和众药，故又名“国老”，“国老”本为古代的国之重臣。或为告老退職的卿，大夫或士，有德高望重之义

**【答案】B。解析：**

**四、逻辑判断。每道题给出一段陈述，这段陈述被假设是正确的，不容置疑的，要求根据这段陈述选择一个正确答案。注意：正确答案应与所给陈述相符合，不需要任何附加说明即可从陈述中直接推出。**

76. 近日，某国的科学家们正在尝试用粒子加速器治疗癌症。他们将包括脑胶质瘤细胞在内的几种肿瘤细胞培养物放置在模拟人类头部的有机玻璃器皿中。再把这个“人头”放在粒子加速器的作用范围内。科学家们首次在肿瘤细胞内聚集着足够量的硼-10，然后再用中子束照射肿瘤部位。使肿瘤细胞内部发生核反应，肿瘤细胞随之死亡。

以下哪项如果为真，最能支持实验的成功：

- A. 中子束对肿瘤细胞的作用，有别于健康细胞
- B. 脑胶质瘤类癌症用其他方式无法治愈
- C. 只有肿瘤细胞会在中子束的作用之下死亡
- D. 中子束能摧毁包括脑细胞在内的人体细胞

**【答案】B。解析：**

77. 某家有爸爸妈妈，哥哥和妹妹四口人。一天家里突然出现了一份为奶奶准备的神秘生日礼物，对于生日礼物是谁准备的四人有如下说法。

爸爸说：我们四人都没准备

妈妈说：不是我准备的

哥哥说：妈妈和妹妹至少有一人没准备

妹妹说：这是我们四人中有人准备的

已知四人中有两人说的真话，两人说的是假话。由此可以推出：

- A. 爸爸和妈妈说的是真话



- B. 爸爸和妹妹说的是真话
- C. 哥哥和妈妈说的是真话
- D. 哥哥和妹妹说的是真话

**【答案】D。解析：**

78. 自由基是人类机体在消耗氧气时产生的一种有时会有害的自由分子，很多人相信自由基是机体衰老背后的罪魁祸首。因为有研究人员发现，人类在衰老的过程中自由基的数量在不断上升。

以下除哪项外，均能削弱上述结论：

- A. 关于人类衰老的具体过程还存在着很多的争议
- B. 自由基在对抗机体衰老的过程中，数量会上升
- C. 通过人工提升自由基的数量可延长机体的寿命
- D. 染色体结构失去稳定性是导致人类衰老的原因

**【答案】A。解析：**

79. 所有工作都是有报酬的，而任何有报酬的工作都是可以用金钱衡量的。因此，公益劳动不是工作。上述论证的成立，必须补充以下哪项前提？

- A. 公益劳动不可以用金钱衡量
- B. 有报酬的工作不是公益劳动
- C. 公益劳动不是有报酬的工作
- D. 一切有报酬的工作都是工作

**【答案】A。解析：**

80. 最新公布的S省居民膳食结构调查结果显示：在过去的三年中，该省居民平均每日食用谷类薯类及杂豆 335.7 克，位于平衡膳食推荐量 250 克至 400 克的范围之内；食用蔬菜和水果 296 克和 132 克，蔬菜仅达到了平衡膳食推荐量要求每日 300 克至 500 克的下限，与 10 年前相比，摄入量大为下降，而水果仅为推荐量的左右；食用鱼虾类水产品 16.4 克，大大低于平衡膳食推荐量的 50 克至 100 克的标准；豆制品和奶制品摄入量分别为 16.9 克和 73.6 克，比推荐量低和左右。

由此可以推出：

- A. S 省居民最喜爱食用的是谷类薯类及杂豆
- B. S 省居民平均每日食用蔬菜和谷类薯类及杂豆类基本达到平衡膳食推荐量的标准
- C. 在 S 省居民过去三年的日常生活中，平均每日食用鱼虾类水产品数量是最少的
- D. S 省居民对蔬菜的摄入量呈逐年下降趋势

**【答案】B。解析：**

81. 最近几十年，花生过敏问题因其潜在的危險性及全球不断增加的发病率而日益受到关注。在美国国家过敏症和传染病研究所资助下，英国伦敦大学国王学院研究人员得出一个结论：从小就开始吃含花生的食品，会使人对花生过敏的风险大幅降低。

以下哪项如果为真，最能支持上述结论：

- A. 婴儿从 4 个月就开始吃鸡蛋，会使其对鸡蛋过敏的风险大幅降低
- B. 小孩停止定期食用花生制品之后，防止花生过敏的效果会仍然存在
- C. 美国国家过敏症和传染病研究所建议婴儿摄取花生制品以预防过敏
- D. 定期吃花生制品的婴儿，到 5 岁时对花生过敏的风险降低了

**【答案】D。解析：**

82. 最近，上海长宁区开了一个新超市。从外表看，这是一间典型的中国连锁超市。满满当当的货架塞满了各种食品和日用品。然而所有店内商品，虽然外观与普通商品没有分别，里面却是空的，包装上找不到拆封的痕迹，来访者也无从得知商品是如何被“掏空”的。虽然这是一家卖空的超市，却人气爆棚。

以下哪项如果为真，最能解释上述现象：

- A. 部分购买者不知道里面是空的
- B. 空包装实际上是一种艺术商品
- C. 有一些空包装是恶作剧的道具
- D. 超市引发日常消费文化的探讨

**【答案】B。解析：**

83. 苏格拉底有一句名言：“我只知道一件事，那就是什么都不知道。”

以下哪项最精准地表明了上述推理的荒谬？

- A. 甲：“我们不应背后议论我们的朋友。”乙：“难道我们要当面议论我们的朋友吗？”
- B. 纸牌一面写：“纸牌反面的句子是对的。”另一面写：“纸牌反面的句子是错的。”
- C. 俗话说：“男子汉大丈夫，宁死不屈。”俗语又说：“男子汉大丈夫，能屈能伸。”
- D. 甲：“你的观点和主流的观点是有矛盾的。”乙：“这没什么，矛盾是普遍存在的。”

**【答案】D。解析：**

84. 王戎七岁，尝与诸小儿游，见道边李树多子折枝。诸儿竞走取之，唯戎不动。人问之，答曰：“树在道边而多子，此必苦李。”取之信然。

王戎的隐含推理的假设是：

- A. 若路边的李子被摘光了，就不会多子折枝。
- B. 若路边的李子味道甜美，就不会多子折枝。
- C. 若路边的李子味道不甜美，就会多子折枝。
- D. 只有路边的李子没被摘光，才会多子折枝。

**【答案】B。解析：**

85. 巫马子对墨子说：我不能兼爱。我爱我的家人比爱我家乡的人深，爱我的双亲比爱我的家人深，爱我自己胜过爱我双亲，这是因为切近我的缘故。打我，我会痛，打别人，不会痛在我身上，所以我只会杀他人以利于我。墨子问道：你的这种义会告诉别人吗？巫马子答道：我为什么要隐藏，我会告诉别人。墨子说：既然你这样，如果有人喜欢你的主张，那么这个人就要杀你以利于自己。如果有人不喜欢你的主张，那他也要杀你，因为他认为你是散布不祥之言的人。

由上文可推知：

- A. 巫马子只能远走他乡
- B. 巫马子必须承认自己的观点是错的。
- C. 巫马子一定要改变自己原来的观点
- D. 巫马子一定会被人杀死

**【答案】B。解析：**

## 第四部分 数量关系

一、数字推理。给你一个数列，但其中缺少一项，要求你仔细观察数列的排列规律，然后从四个供选择的选项中选择你认为最合理的一项，来填补空缺项，使之符合原数列的排列规律。

86. 212, 207, 198, 180, 171, ( )

- A. 160
- B. 163
- C. 162
- D. 161

【答案】C。解析：

87. -1, 3, 2, 6, (        ), (        ), 14, 18

- A. 4, 6
- B. 9, 13
- C. 7, 11
- D. 5, 7

【答案】C。解析：

88. , (        ),  $2\sqrt{5}$ ,  $\sqrt{30}$

- A  $\sqrt{7}$
- B  $3\sqrt{2}$
- C  $\sqrt{10}$
- D  $2\sqrt{3}$

【答案】D。解析：

**二、数学运算。**在这部分试题中，每道题呈现一段表述数字关系的文字，要求你充分利用条件迅速，准确的计算出答案。

89. 小明痴迷网络游戏，父亲严控制他的上网时间，为电脑设置密码，小明趁父亲不在家，打开电脑试图解开密码。他点击密码出现提示，102308，183416，284532，405664，(        )，该密码是按此规律排列的数列中最后一个数，问密码是：

- A. 5467128
- B. 547680
- C. 506780
- D. 5076128

【答案】A。解析：

90. 希望中学为三个特困学生发放课外读本。甲发到的读本数与乙发到的读本数的2倍之和比丙发到的读本数多6本；甲发到的读本数与丙发到的读本数的2倍之和比乙发到的读本数多3本，则三个学生发到的读本数的平方和最小值为：

- A. 14
- B. 28
- C. 24
- D. 20

【答案】A。解析：

91. 某驾校甲、乙、丙三位学员在科目二考试中能通过的概率分别为  $\frac{2}{3}$ ,  $\frac{1}{2}$ ,  $\frac{2}{5}$ , 那么, 这三位学员中恰好有两位学员通过科目二考试的概率为:
- A.  $\frac{2}{5}$   
B.  $\frac{3}{4}$   
C.  $\frac{1}{2}$   
D.  $\frac{2}{3}$

**【答案】A. 解析:**

92. 正值毕业季, 班长小李组织大家聚餐, 费用均摊, 结账时, 如果每人付 300 元, 则多出 100 元; 如果每人付 290 元, 小李自己要多付 80 元才刚好, 那么, 这次活动的人均费用大约是:
- A. 293  
B. 296  
C. 295  
D. 294

**【答案】D. 解析:**

93. 已知赵先生的年龄是钱先生年龄的 2 倍, 钱先生比孙先生小 7 岁, 三位先生的年龄之和是小于 70 的素数, 且素数的各位数字之和为 13, 那么, 赵、钱、孙三位先生的年龄分别为:
- A. 30 岁, 15 岁, 22 岁  
B. 36 岁, 18 岁, 13 岁  
C. 28 岁, 14 岁, 25 岁  
D. 14 岁, 7 岁, 46 岁

**【答案】A. 解析:**

94. 有 6 种颜色的小球, 数量分别为 4, 6, 8, 9, 11, 10, 将它们放在一个盒子里, 那么, 拿到相同颜色的球最多需要的次数为:
- A. 6  
B. 12  
C. 11  
D. 7

**【答案】D. 解析:**

95. 李雷和韩梅梅去昆仑山探险, 发现山洞里有一个石门, 上面有一个九宫格式的按钮, 按钮上有 1 到 9 九个数字, 在其下方写着“ $3 \times 9^{2015} - 4 \times 8^{2016}$  的个位数是什么”。那么帮他们打开宝藏大门的数字是:
- A. 1  
B. 4  
C. 3  
D. 2

**【答案】C. 解析:**

## 第五部分 资料分析

所给出的图、表、文字或综合性资料均有若干个问题要你回答。你应根据资料提供的信息进行分析、

**比较、计算和判断处理。**

**一、根据以下资料，回答 96~100 题。**

2016 年 8 月份，全国一般公共预算收入 9894 亿元，同比增长 1.7%。其中，中央一般公共预算收入 4797 亿元，同比增长 2.5%。同口径下降 2.6%；地方一般公共预算本级收入 5097 亿元，同比增长 1%，同口径增长 6.1%。全国一般公共预算收入中的税收收入 7680 亿元，同比增长 1.9%，非税收入 2214 亿元，同比增长 1.2%。

2016 年 1—8 月累计，全国一般公共预算收入 110178 亿元，同比增长 6%。其中，中央一般公共预算收入 49711 亿元，同比增长 4.2%，同口径增长 1.5%；地方一般公共预算本级收入 60467 亿元，同比增长 7.6%，同口径增长 10.1%。全国一般公共预算收入中的税收收入 92637 亿元，同比增长 7.3%。

96. 下同比增速最快的是：

- A. 2016 年 8 月份全国一般公共预算收入同比增速
- B. 2016 年 1—8 月累计全国一般公共预算收入同比增速
- C. 2016 年 1—8 月累计中央一般公共预算收入同比增速
- D. 2016 年 8 月份中央一般公共预算收入同比增速

**【答案】B。解析：**

97. 2016 年 8 月，全国一般公共预算收入占 1~8 月累计数比重约为：

- A. 8%
- B. 11%
- C. 10%
- D. 9%

**【答案】D。解析：**

98. 2015 年 1~7 月，中央一般公共预算收入约为：

- A. 4.2 万亿元
- B. 4.8 万亿元
- C. 4.5 万亿元
- D. 4.3 万亿元

**【答案】D。解析：**

99. 2016 年 1~8 月累计，全国一般公共预算收入中非税收入同比：

- A. 增长 0.4%
- B. 下降 4%
- C. 下降 0.4%
- D. 增长 4%

**【答案】C。解析：**

100. 能够从上述资料推出的是：

- A. 2016 年 1~7 月，地方一般公共预算本级收入同比增速小于 1%
- B. 2016 年 1~8 月，非税收入占全国一般公共预算收入比重同比增加
- C. 2016 年 1~8 月，月平均全国一般公共预算收入超过 8 月份
- D. 2015 年 8 月，全国一般公共预算收入中非税收入不到 2000 亿元

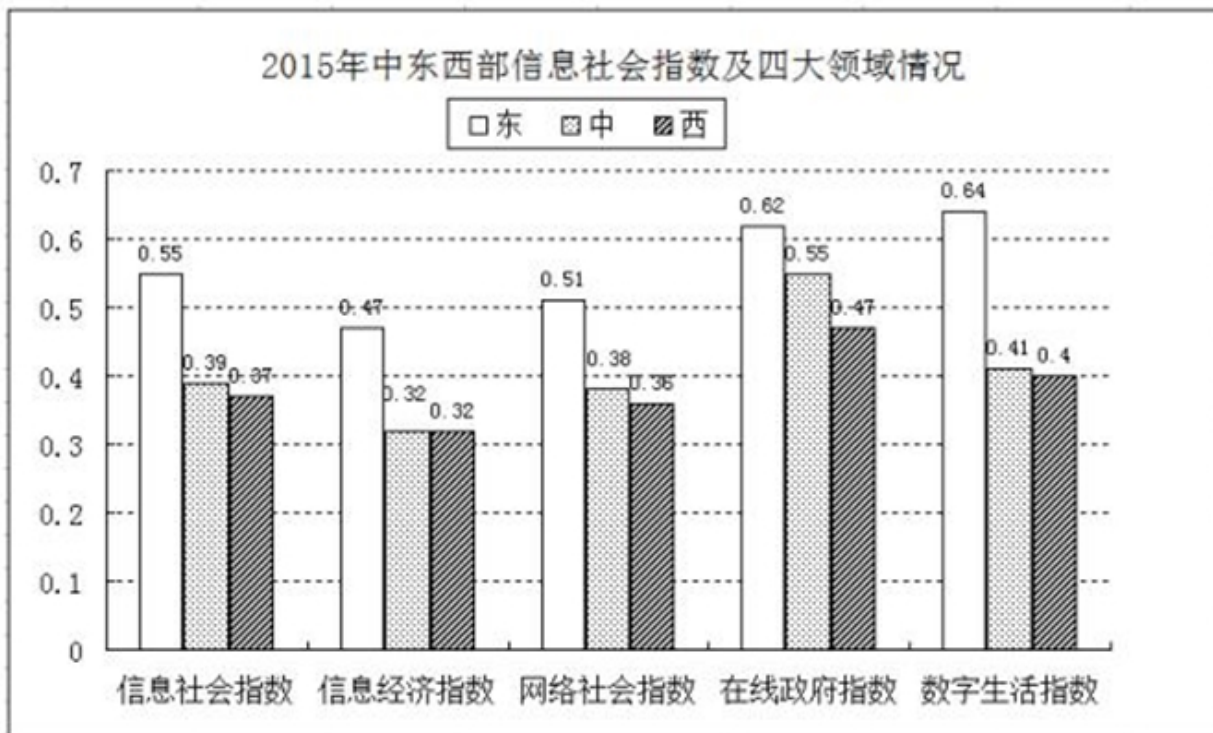
**【答案】C。解析：**

**二、根据以下资料，回答 96~100 题。**

国家信息中心近日发布的《中国信息社会发展报告 2015》显示，2015 年全国信息社会指数达到 0.4351。从四个重点领域看，数字生活发展最快，2015 年全国数字生活指数达到 0.5038，同比增长。

**2011-2015 年中国信息社会指数走势**

年份	全国信息社会指数	全国信息经济指数	网络社会发展指数	在线政府指数	数字生活指数
2011	0.3274	0.3114	0.3109	0.5031	0.3015
2012	0.3450	0.3316	0.3353	0.3914	0.3528
2013	0.3807	0.3462	0.3617	0.4410	0.4141
2014	0.4170	0.3683	0.3810	0.5450	0.4589
2015	0.4351	0.3795	0.3852	0.5450	0.5038



101. 2011~2015 年间，中国各领域信息社会指数中出现起伏变化的是：

- A. 全国信息经济指数
- B. 数字生活指数
- C. 全国信息社会指数
- D. 在线政府指数

**【答案】D。解析：**

102. 2015 年与 2011 年相比，我国数字生活指数提高了近：



- A. 1.5 倍
- B. 0.7 倍
- C. 1.7 倍
- D. 0.5 倍

**【答案】B。解析：**

103. 图中数据显示，东中西部各领域信息社会指数差距最大的是：

- A. 信息经济指数
- B. 网络社会指数
- C. 数字生活指数
- D. 在线政府指数

**【答案】C。解析：**

104. 资料显示，2015 年西部地区各类指数与全国水平相差的最大值是：

- A. 0.1038
- B. 0.0833
- C. 0.1362
- D. 0.0938

**【答案】A。解析：**

105. 下列说法错误的是：

- A. 2011~2015 年间，从四个重点领域看，发展最慢的是在线政府指数
- B. 2015 年信息社会指数及四大领域指数变化中中部地区处于中等水平
- C. 2011~2015 年间，从四个重点领域看，数字生活发展最快
- D. 2015 年，在社会信息指数及各领域变化中东部地区低于全国平均水平

**【答案】D。解析：**

**全部测验到此结束！**

请扫描QQ二维码，备注“公务员考生”加QQ  
好友，获取曹长远老师精解历年公务员考试申论、  
行测、面试真题完整解析资料。

精品资料，尽在掌握！



扫描二维码，加QQ好友