

## 2019年11月3日辽宁公务员考试

# 《行政职业能力测验》真题

### 说明

一、此项测验分为五个部分，共120题，总时限120分钟，满分100分。各部分不单独计时，但都给出参考时限，供答题时合理分配时间。

二、此项测验科目代码为“1”。请按照要求在答题卡上填写好自己的姓名，涂写好准考证号、科目代码。

三、必须在答题卡上答题，在题本上答题，一律无效。

严禁折叠答题卡！

## 第一部分 常识判断

根据题目要求，在四个选项中选出一个最恰当的答案。

1. 为庆祝中华人民共和国成立70周年，中共中央、国务院、中央军委颁发了“庆祝中华人民共和国成立70周年”纪念章。下述说法错误的是：

- A. 中华人民共和国成立前参加革命工作的、健在的老战士老同志
- B. 中华人民共和国成立后获得国家级表彰奖励及以上荣誉并健在的人员
- C. 中华人民共和国成立后因参战荣立特等功以上奖励并健在的军队人员（含退役军人）
- D. 为中华人民共和国成立作出杰出贡献的国际友人

2. 为了纪念1970年4月24日我国成功发射了第一颗人造地球卫星——“东方红”1号，2016年3月8日，国务院将每年4月24日设立为“中国航天日”。2019年中国航天日主题是：

- A. “逐梦航天，合作共赢”
- B. “共筑航天新时代”
- C. “航天创造美好生活”
- D. “中国梦，航天梦”

3. 中共中央、国务院于2019年1月8日在北京隆重举行国家科学技术奖励大会。习近平总书记向获得2018年度国家最高科学技术奖的\_\_\_\_\_颁发奖励证书。

- A. 王泽山院士和侯云德院士
- B. 赵玉芬院士和钟南山院士
- C. 王泽山院士和施一公院士
- D. 刘永坦院士和钱七虎院士

4. 关于信访，下列说法正确的是：

- A. 某县质监局不设立专门的信访工作机构，违反了信访规定
- B. 陈某对乡政府的决定不服，可以采用走访形式到市政府提出信访请求
- C. 詹某在提出信访事项时故意捏造歪曲事实，诬告陷害他人，应依法追究其刑事责任
- D. 钱某对区政府作出的信访事项处理意见不服，可以请求市政府复查

5. 关于刑事责任的追究，下列表述错误的是：

- A. 犯罪嫌疑人关某在被抓获前自杀身亡，依法不追究其刑事责任

- B. 外国商人保罗在我国领域内犯抢劫罪，适用我国刑法追究其刑事责任  
C. 某国公民大卫在搭乘中国飞机时，盗窃他人财物，不能依据我国刑法追究其刑事责任  
D. 苏某非法侵占顾某的财产，被害人顾某没有起诉，则依法不追究苏某刑事责任
6. 建国以来，我国在科技方面取得了瞩目的成就，下面的表述错误的是：  
A. “天鲲号”是首艘由我国自主设计建造的亚洲最大自航绞吸挖泥船  
B. “嫦娥四号”探测器的发射，在人类历史上首次实现了航天器在月球背面软着陆  
C. “蛟龙号”是我国首艘载人潜水器支持母船  
D. “雪龙2号”是我国第一艘自主建造的极地科学考察破冰船
7. 下列不属于我国在经济疲软时期应该采取的财政政策的是：  
A. 扩大政府开支，增加预算支出规模  
B. 降低税收，增加人均可支配收入  
C. 降低央行再贴现率  
D. 增加政府公债购买规模
8. 下列成语与其蕴含的经济学原理对应错误的是：  
A. 覆水难收——沉没成本  
B. 镜花水月——泡沫经济  
C. 洛阳纸贵——供给需求  
D. 他山之石——风险评估
9. 中国传统文化历来注重含蓄之美，古典诗词文学中更是经常使用典故来表情达意，下列有关典故对应错误的是：  
A. 还珠——比喻官吏为政清廉——今日还珠守，何年执戟郎（唐·杜牧）  
B. 尺素——代书信——欲寄彩笺兼尺素，山长水阔知何处（宋·张先）  
C. 抱柱——比喻坚守信约——常存抱柱信，岂上望夫台（唐·李白）  
D. 画眉——指喜欢——妆罢低声向夫婿，画眉深浅入时无（唐·朱庆馀）
10. 下列诗词中，属于陆游作品的有：  
①《早发自帝城》  
②《示儿》  
③《登幽州台歌》  
④《书愤》  
A. ①②  
B. ②③  
C. ②④  
D. ③④
11. 对中国字画的落款，下列表述错误的是：  
A. 惠存：是送给集体单位的  
B. 斧正：表示“请指导”的意思  
C. 清赏：表示这件作品供对方赏玩而已  
D. 伧正：指送给爱慕的人

12. 下列名言与其作者对应正确的是：

- A. 春蚕到死丝方尽，蜡炬成灰泪始干——屈原
- B. 孤帆远影碧空尽，唯见长江天际流——杜甫
- C. 路漫漫其修远兮，吾将上下而求索——李商隐
- D. 勤能补拙是良训，一分辛劳一分才——华罗庚

13. 中国古代有：“吾日三省吾身”；“道虽迩，不行不至；事虽小，不为不成”；“身体力行”等思想。这些都表达了在进行道德修养时应该：

- A. 省察克治，勤于实践
- B. 慎独自律，遵守道德规范
- C. 知行合一，完善道德品质
- D. 学思结合，加强道德行为训练

14. 联合国将 2019 年定为“国际化学元素周期表年”。下列有关化学元素周期表的说法错误的是：

- A. 元素周期表共有 18 列
- B. 元素周期表是俄国化学家门捷列夫编制的
- C. 今年是化学元素周期表创建 150 周年
- D. 元素周期表中元素是按原子从大到小排列的

15. 关于中国四大高原，下列表述错误的是：

- A. 青藏高原是世界最高的高原，平均海拔 4000 米以上，高原上，雪山、冰川很多，有“液体水库”之称
- B. 内蒙古高原是中国第二大高原。它地面平坦，很多地方是一望无际的草原
- C. 云贵高原地面高低不平，地势比较平坦的山间小盆地，被当地人称之为“坝子”
- D. 黄土高原，位于中国中部偏北地区，是中华民族古代文明的发祥地之一

16. 2019 年 8 月 2 日，第十四届全运会吉祥物“秦岭四宝”正式亮相。“秦岭四宝”是指：

- A. 朱鹮、大熊猫、羚牛、金丝猴
- B. 扬子鳄、朱鹮、羚牛、金丝猴
- C. 羚羊、大熊猫、丹顶鹤、金丝猴
- D. 朱鹮、大熊猫、羚羊、中华鲟

17. 有关生活小常识，下列表述错误的是：

- A. 几乎所有瓜果蔬菜都含有一定量的维生素 C.
- B. 地震时遇到化工厂着火、毒气泄漏，要尽量绕到上风方向，并用湿毛巾捂住口鼻
- C. 果脯是世界卫生组织已经公布的全球十大垃圾食品之一
- D. 被动物咬伤后必须在 48 小时内注射疫苗

18. “乳鸦啼散玉屏空，一枕新凉一扇风。睡起秋色无觅处，满阶梧桐月明中。”这首诗描述的是二十四节气中的：

- A. 秋分
- B. 白露
- C. 立秋

D. 霜降

19. 下列有关光的原理表达正确的是:

- A. 星星闪烁——光的衍射
- B. 下雨过后夜间亮者为水, 暗者为陆——光的反射
- C. 电影银幕——光的直线传播
- D. 通过狭缝观察发光的日光灯时能看见彩色条纹——光的漫反射

20. 汉字产生的标志是殷商后期所形成的初步定型的甲骨文, 其后经过了几千年的演变, 形成了我们今天文字。下列汉字演变过程的时间排序正确的是:

- A. 隶书、小篆、楷书、行书
- B. 小篆、隶书、行书、楷书
- C. 小篆、隶书、楷书、行书
- D. 楷书、小篆、行书、隶书

## 第二部分 言语理解与表达

**本部分包括表达与理解两方面的内容。请根据题目要求, 在四个选项中选出一个最恰当的答案。**

21. 中国共产党的历史, 就是一部党领导人民持续进行伟大社会革命的历史。习近平总书记指出: “新时代中国特色社会主义是我们党领导人民进行伟大社会革命的成果, 也是我们党领导人民进行伟大社会革命的继续, 必须\_\_\_\_\_进行下去。”

填入划横线部分最恰当的一项是:

- A. 始终如一
- B. 义无反顾
- C. 勇往直前
- D. 一以贯之

22. 习近平总书记指出, 世界正处于百年不遇的大\_\_\_\_\_之中, 经济仍在艰难复苏, 技术革命一日千里, 突发性风险始终存在, 各方对人类和平与发展\_\_\_\_\_既有期待, 又有忧虑。国际之“乱”和中国之“治”, 凸显中国方案的可行、中国理念的可贵。

依次填入划横线部分最恰当的一项是:

- A. 演变, 远景
- B. 变革, 愿景
- C. 改革, 愿望
- D. 变局, 前景

23. 在弘扬中国传统文化、坚守产品品质的同时, 老字号加快创新脚步, 灵活营销、打造品牌, 用全新面貌给人们带来更好的消费体验。在传承中华传统饮食文化的过程中, 聚德华天“发扬工匠精神, 打造原汁原味”。“但愿人长久, 岁岁杏花楼”, 这是上海街头巷尾广为流传的一句话, 展现了创办于1851年的老字号“杏花楼”在消费者心中的分量。中秋佳节, 团圆赏月, 少不了杏花楼的月饼。月饼已不单纯是食品, 更是中秋文化的\_\_\_\_\_, 浓缩了中华传统饮食文化的精髓。

依次填入划横线部分最恰当的一项是:

- A. 注重, 符号
- B. 关注, 元素

- C. 重视，代表
- D. 侧重，内涵

24. 我国艺术品拍卖市场异常火爆，大多数人看重的并非艺术品的文化价值，而是它的经济价值。所以，在这个过程中，并不能说明国民文化素质\_\_\_\_\_。这更多只是表明艺术品的\_\_\_\_\_价值而非文化价值受到了一些有钱人的重视。

依次填入划横线部分最恰当的一项是：

- A. 与日俱增，投资
- B. 突飞猛进，市场
- C. 水涨船高，商业
- D. 相形见绌，收藏

25. 历史城区、历史文化街区和文物建筑都是\_\_\_\_\_历史信息的资源，是历史的“活化石”，对待历史文化遗存，要使其“\_\_\_\_\_”，而不是“返老还童”。一些老城区成片拆除、全迁居民另建仿古街，这不是名城保护，也不是棚户区改造的正确方法，既丢了人气，文化传承也无从说起。

依次填入划横线部分最恰当的一项是：

- A. 包含，老当益壮
- B. 囊括，焕然一新
- C. 蕴藏，方兴未艾
- D. 饱含，延年益寿

26. 随着暑期结束，携娃出游的家长已陆续回到家中，但暑期旅游遭遇的种种窘境却依然\_\_\_\_\_。据报道，暑期学生旅游带动家庭出行，致使许多地方的热点景区纷纷“爆棚”，酒店“爆满”，假期“恶补式旅游”让不少家庭陷入进退两难的\_\_\_\_\_。

依次填入划横线部分最恰当的一项是：

- A. 历历在目，狼狈
- B. 挥之不去，境地
- C. 不寒而栗，抉择
- D. 记忆犹新，尴尬

27. 嫉妒心强的人常常言辞讽刺，他们\_\_\_\_\_，有时还喜欢过度\_\_\_\_\_对方。嫉妒者对目标者的攻击以恭维为烟幕，这不仅是因为需要维持其妒意披着的赞美外衣，同时也出于对引发其嫉妒的美事的强烈渴望。

依次填入划横线部分最恰当的一项是：

- A. 言不由衷，赞美
- B. 口是心非，表扬
- C. 阳奉阴违，夸奖
- D. 心口不一，褒奖

28. 面对新生事物，在很多时候我们是\_\_\_\_\_的。但是，纵观当前互联网经济的侵权新现象，如退押金难等，其所直陈的仍然是经济中存在的诚信缺失、假冒伪劣等老问题。因为互联网经济与实体经济一样，\_\_\_\_\_着相同的市场交易规律，它的本质特征依然是信用经济。

依次填入划横线部分最恰当的一项是：

- A. 无所适从，遵从

- B. 茫然若失，遵守
- C. 不知所措，遵照
- D. 手足无措，遵循

29. 罗曼·罗兰：最可怕的敌人，就是没有坚强的信念！顾城：黑夜给了我黑色的眼睛，我却用它来寻找光明！这些\_\_\_\_\_的名句既有艺术感染力又具有强大的生命力，所以能\_\_\_\_\_。依次填入划横线部分最恰当的一项是：

- A. 喜闻乐见，千古传颂
- B. 脍炙人口，传诵至今
- C. 交口称誉，源远流长
- D. 口碑载道，名流千古

30. 半个多世纪以来，沃伦·巴菲特一直都恰到好处地把握了时机。对于这位传奇投资家，他的长期投资取得了惊人的回报，巴菲特自己将他的成功归结为专注。他除了关注商业活动外，几乎对其他一切如艺术、文学、旅行、建筑等全部\_\_\_\_\_，因此他能够\_\_\_\_\_追求自己的激情。专注就是注意力全力集中到某事物上，与你所关注的事物融为一体，专注是完成伟大事业的决心。

依次填入划横线部分最恰当的一项是：

- A. 不予理睬，一心一意
- B. 不闻不问，尽心尽力
- C. 置若罔闻，聚精会神
- D. 充耳不闻，专心致志

31. 置身在\_\_\_\_\_的雪花中，在白色的\_\_\_\_\_间，仰望着天空飘落的雪花，手伸出来，接住落下的雪花，我仔细观察了雪花的样子，整朵雪花呈六边形，它的花纹伸展得非常整齐，像树杈分开的样子。

依次填入划横线部分最恰当的一项是：

- A. 漫天飞扬，亭台楼阁
- B. 翩翩起舞，富丽堂皇
- C. 漫天飞舞，琼楼玉宇
- D. 轻盈飘渺，雕梁画栋

32. 包光潜在《温暖的橘子》中提到，那是十年前的秋天，我和朋友到西北旅游观光。由于路途遥远，精神\_\_\_\_\_。大约过了几个隧道之后，豁然开朗，两边的山坡出现大片的橘林。刚刚成熟的橘子，在一片翠绿中\_\_\_\_\_地泛着橘红色的光彩。到了一个小站，火车尚未停稳，月台上已经到处都是奔跑的橘子。

依次填入划横线部分最恰当的一项是：

- A. 萎靡不振，清晰可见
- B. 萎靡不振，若隐若现
- C. 一蹶不振，隐约可见
- D. 一蹶不振，时隐时现

33. 要坚持因人因地施策，因贫困原因施策，因贫困类型施策，区别不同情况，做到\_\_\_\_\_、精准滴灌、靶向治疗，不搞大水漫灌、\_\_\_\_\_、大而化之。

依次填入划横线部分最恰当的一项是：

- A. 有的放矢，人浮于事

- B. 持之以恒，蜻蜓点水
- C. 对症下药，走马观花
- D. 锲而不舍，三心二意

34. 中国传统文人重视意境。美学家宗白华先生说过，中国艺术意境的创成，既须得屈原的缠绵悱恻，又须得庄子的超旷空灵。缠绵悱恻，才能\_\_\_\_\_，深入万物的核心，所谓“得其环中”。超旷空灵，才能为镜中花，水中月，\_\_\_\_\_，无迹可寻，所谓“超以象外”。

依次填入划横线部分最恰当的一项是：

- A. 一往情深，羚羊挂角
- B. 一如既往，雪泥鸿爪
- C. 一气呵成，神来之笔
- D. 一见倾心，天马行空

35. 文学只不过是文学，并不等同于文化，也不约等于。但文学是其它各艺术门类的酵母，“文艺”二字\_\_\_\_\_了此种关系。若将文艺从文化中\_\_\_\_\_出来，文化便很容易成为\_\_\_\_\_的学问，结果对于最广大的人民失去了感染力。用时下最流行的说法那就是“不接地气”了。

依次填入划横线部分最恰当的一项是：

- A. 解释，分离，阳春白雪
- B. 注脚，分解，曲高和寡
- C. 阐释，拆解，高高在上
- D. 注释，剥离，束之高阁

36. 散步谣言者抓住人们“宁可信其有不可信其无”的心理，散布\_\_\_\_\_的网络谣言。这些谣言误导了公共舆论，\_\_\_\_\_了社会秩序，影响了人们的正常生活。不仅会造成人心恐慌，有的还会给行业 and 产业发展带来巨大损失，甚至也使国家的一些好政策遭到误解，严重影响政府公信力，民众对此\_\_\_\_\_。

依次填入划横线部分最恰当的一项是：

- A. 捕风捉影，扰乱，嗤之以鼻
- B. 骇人听闻，干扰，莫衷一是
- C. 耸人听闻，妨碍，不屑一顾
- D. 危言耸听，扰乱，深恶痛绝

37. 不必讳言，近期猪肉价格暴涨，固然与农产品供给周期性\_\_\_\_\_有关，也与生猪生产供应在一些地方存在政策性收紧是分不开的。一个简单例子是，因为环保\_\_\_\_\_，很多地方不仅纷纷强力取缔养殖场，也禁止农村散户养猪，当规模性养殖受到猪瘟袭击时，供给侧渠道顿时收窄，猪肉涨价自然\_\_\_\_\_。

依次填入划横线部分最恰当的一项是：

- A. 波动，约束，毫无疑问
- B. 变化，制约，势在必行
- C. 影响，推进，顺理成章
- D. 规律，要求，水到渠成

38. 我们从小就接受“无规矩不成方圆”的教育，明白世上任何事物皆有各自标准法度的道理。但总有人不守规则、\_\_\_\_\_，个中道理值得深思。事实上，近年来有关漠视、违反、扭曲规则的事

\_\_\_\_\_，小到闯红灯、高铁霸座等，大到违规用权、官员腐败等，无不\_\_\_\_\_着破坏规则导致的种种危害和风险。

依次填入划横线部分最恰当的一项是：

- A. 自以为是，层出不穷，突显
- B. 随心所欲，比比皆是，显示
- C. 不以为然，大行其道，显露
- D. 各行其是，屡见不鲜，凸显

39. 中共中央、国务院《关于决定设立河北雄安新区的通知》一出台，可谓\_\_\_\_\_，连续几天，关于雄安新区的报道和分析\_\_\_\_\_。之所以引发如此巨大的关注，显然是因为雄安新区被提到了很高的地位。这些年国家陆续批准设立了十几个新区，只有雄安新区能和深圳特区、浦东新区\_\_\_\_\_。

依次填入划横线部分最恰当的一项是：

- A. 惊天动地，此起彼伏，同日而语
- B. 石破天惊，铺天盖地，相提并论
- C. 震天动地，等量齐观，同舟共济
- D. 震天撼地，翻天覆地，一视同仁

40. 显微摄影是一门使用照相机拍摄显微镜下一般用肉眼无法看清的标本的技术。肉眼中\_\_\_\_\_的细沙，在显微镜下确是“一沙一世界”，有的\_\_\_\_\_像宝石，有的金黄酥脆像饼干。即使是\_\_\_\_\_的柴米油盐，在显微镜下也会展现神奇而充满美丽的一面。

依次填入划横线部分最恰当的一项是：

- A. 如出一辙，晶莹剔透，不足为奇
- B. 一成不变，玲珑剔透，不足为奇
- C. 一模一样，光亮透明，司空见惯
- D. 千篇一律，晶莹剔透，司空见惯

41. 第 46 个世界环境日确定的主题是“绿水青山就是金山银山”。这是习近平总书记关于生态文明建设最具代表性的“金句”。习近平总书记提出“既要金山银山，又要绿水青山”、“宁要绿水青山，不要金山银山”、“绿水青山就是金山银山”等科学论断，人们习惯称之为“两山论”。随着实践的深入，“两山论”经受了事实检验，越来越成为社会共识，为中国发展注入越来越强大的正能量。

这段文字支持的观点是：

- ①生态环境是经济发展的重要基础
  - ②生态文明建设应与经济建设协同发展
  - ③经济建设是生态文明建设的重要基础
  - ④生态优势可以转化为经济优势
- A. ①②③
  - B. ②③④
  - C. ①②④
  - D. ①③④

42. 获得 2019 年诺贝尔经济学奖的三位经济学家，在减贫方面进行了长期的有意义的探索研究，对于如何解决贫困这个艰巨而宏观的世界性课题，他们将其分解为较小、更易于管理的问题，从细节入手，从而交出了一份更具可操作性的答卷。他们的实践表明，这些小而精确的问题通常可以通过精心设计的干预性实验来获得精准的答案，从而做到有效减贫。一些分析人士认为，通过田野实验方法验证具体减



贫政策的效果，从而发现有效地克服贫困状态的相关政策，这种研究路径正是发展经济学在当前及今后一段时期的前沿研究方向。

这段文字意在说明：

- A. 三位经济学家获奖原因分析
- B. 通过田野实验方法能解决世界性贫困问题
- C. 宏观性世界问题需要用干预性实验来进行验证
- D. 宏观性经济问题可通过精细的干预性实验探讨研究

43. 中国正处在经济快速发展时期，出现了许多新兴产业，但是这些新兴产业人才匮乏，导致我国人才结构不平衡，成为实现经济增长方式转变的瓶颈。与此同时，由于新兴产业新增了许多就业岗位，各地政府应该采取各种方法，调动各种资源，引进新兴产业高端人才，并积极倡导越来越多的人选择学习新兴学科知识。所以，新兴领域的人才培养应该成为越来越多的人升学深造的首选，并将成为高等教育未来发展趋势。

对这段话的主旨归纳准确的是：

- A. 新兴产业的兴起，增加了就业机会
- B. 发展新兴学科教育，提升人才资本
- C. 办好新兴产业，加快经济转型
- D. 要引导越来越多的人接受新兴学科教育

44. 在全球化日益发展、国际组织地位和作用愈加凸显的今天，中国要想在竞争日趋激烈的国际环境下实现自身发展的战略目标，不仅需要积极主动的进取精神，不断开辟新的领域，加大参与国际组织的力度，同时也需要以认真求实的科学态度，对当今国际组织有一个系统全面的认识，对自己在国际组织中的地位有一个准确的定位和把握，对中国与国际组织之间存在的问题有一个清醒的认识和理解，对未来国际组织的发展趋势及其走向作出合理的推测和判断。

这段文字主要支持的观点是：

- A. 国际组织地位和作用愈加凸显
- B. 中国在国际舞台上实现自身发展的战略目标
- C. 中国对国际组织的定位和把握准确
- D. 在全球化进程中，中国对国际组织的新认识

45. 在人人皆可言教育的年代，猜疑与隔阂正在消解传统意义上的师道尊严。教师，也算是一个清苦的职业。看似有寒暑假，实际上多数时间都用来备课、评课；双休日，学校要承担各类社会考试；工作日，课多人少，一人请假就可能影响教学进度。在这样的工作压力下，倘若再得不到应有的尊重，轻则让教师心灰意冷，重则令名师远走高飞。

接下来最有可能讲述的是：

- A. 如何消除社会对教师的猜疑与隔阂
- B. 涵养师道尊严的途径
- C. 造成社会对教师误解的原因
- D. 呼吁全社会尊重教师

46. 国际妇女节，好莱坞女星安妮·海瑟薇以联合国亲善大使的身份，站上联合国纽约总部讲台发表演说，为女性也为男性发声。她指出，妇女应该待在家里照顾小孩的人设是一种顽固的刻板印象，不仅歧视女性，加重了母亲的负担，也低估了父亲的角色，限制了男性在家庭和社会中的参与度。这种角色定位给孩子的成长带来了巨大的影响，她从亲身体验出发，呼吁全球政府、企业和机构，调整现有的

产假制度，给予两性平等的带薪产假和育婴假，“创造一个女性和男性都不会因为想当父母，而受到经济惩罚的世界。”

这段文字意在强调：

- A. 妇女待在家里照顾小孩的人设是错误的
- B. 男性在家庭和社会中的参与度应该加强
- C. 除了女性，男性也要拥有育婴权利
- D. 男女平等制度的设想

47. “无现金社会”之所以能够如此快速地被人们接受，无疑源自于它克服了现金给人们带来的“烦恼”，给生活带来了诸多便利：不仅让偷盗抢劫的笨贼们空手而归，更让使用假钞的骗子们倍感头疼。无现金状态下，还会减少以纸钞为媒介的疾病传播。然而，“无现金社会”也不是百益而无一害。无现金社会，改变的不仅是支付方式，也潜移默化地改变了人们的消费习惯、消费心理。消费者，要理财管理，收支有度；金融机构，要更新服务，保障安全；监管机构，则要因势利导，提升监管能力等。

本文中“无现金社会”意在强调的是：

- A. 给生活带来的便利
- B. 给社会带来了新的风险与挑战
- C. 减少以纸钞为媒介的疾病传播
- D. 推动技术发展和社会进步

48. 终身学习时代，对知识内容的提供者提出了更高要求。这恰恰也是知识付费平台的“软肋”之一。曾经有媒体做过一次调查，让一些参与过知识付费学习的人回答知识付费对他们来说有没有用。调查结果显示，大部分人对付费学习产品的满意度都不高，而他们的不满意主要就表现在他们对知识付费产品的质量不敢恭维。所以，对于知识付费平台来说，最迫切的任务就是精心打磨内容，提高质量，通过真正优质的好内容赢得学习者的心，让他们觉得“物有所值”。

最适合做这段文字标题的是：

- A. 知识付费助力终身学习
- B. 如何解决知识付费平台的软肋
- C. 知识付费需要物有所值
- D. 走出知识付费发展困境

49. “开学第一课”，本质是“课”，是所有教学的一部分，而课程创新也属于学校的教育事务，因此，在进行“开学第一课”时，各地宜充分结合本校的办学定位、办学条件和特色，由全体教师参与进行课程设计论证，并听取学生和家长的意见。每年的“开学第一课”也不必回避相同的主题，因为每个年龄段的学生，学习任务本就不同，关键在于要给同样的主题注入新的内涵。

这段文字强调的是：

- A. 不能脱离课的本质开展“开学第一课”
- B. “开学第一课”应由老师、学生、家长三方主体共同设计完成
- C. “开学第一课”与课程创新要同步
- D. “开学第一课”不应拘于形，而应重于实

50. 我们要在科学技术上赶超世界先进水平，不但要提高高等教育的质量，而且首先要提高中小学教育的质量，按照中小学生所能接受的程度，用先进的科学知识来充实中小学教育内容。

这段话支持了这样一个观点：

- A. 提高高等教育质量是在科学技术上赶超世界先进水平的条件

- B. 全面提高教育质量是在科学技术上赶超世界先进水平的条件
- C. 提高中小学的教育质量是在科学技术上赶超世界先进水平的条件
- D. 学习先进科学知识是在科学技术上赶超世界先进水平的条件

51. 将下列 6 个句子重新排列，语序正确的是：

- ①和人类的目标明确的前行不同，千百年来，还有另一些盲目的旅客
  - ②咸咸的海水侵蚀着它们，只有一些特殊的有着保护层的果实能幸存
  - ③视线里，没有帆船，只有被海风塑造的碎云和茫茫海面
  - ④各种植物的果实，来自大陆或别的海岛，漂浮着到处漫游
  - ⑤这些天涯浪子，一旦被冲上岛屿，就有可能成为岛屿上的移民
  - ⑥在这样的海面上依循命运的安排旅行着
- A. ④③①⑥⑤②
  - B. ①⑤②④⑥③
  - C. ③①⑥④②⑤
  - D. ④⑥①②③⑤

52. 网约车“合规”，说到底是为了促进网约车行业更良性的发展，为了保障和增进民众的福祉。网约车之规合不合理，民众的利益是最重要的标尺。换言之，如果“合规”有利于民众利益，那就是值得肯定和鼓励的，如果“合规”伤害了民众利益，那就是必须否定和摒弃的。概而言之，规矩是为“人”服务的，一味强调规矩而忘记了“人”，\_\_\_\_\_。

填在文中划横线部分比较恰当的是：

- A. 这无疑是在舍本逐末
- B. 其结果就是网约车之规为大众所诟病
- C. 规矩就是形同虚设
- D. 就会损害民众的利益

53. “快递”是一个典型的新业态，它对城市治理根本的挑战在于打破了原有的治理常规，塑造了新的街头治理景观。街头摊贩或许变少了，但摊贩经济却未必减少，它只不过不再依赖于街头巷尾的人员聚集，而是依赖于线上线下的精准匹配。传统意义上的城管执法冲突的确是减少了，但每天针对电动车摆放等服务管理工作却在急剧增加。以前，交警主要针对有车一族进行执法，但现如今针对“快递小哥”这类群体的交通执法在急剧增加。

下列说法与原文不符的是：

- A. 新业态对街头治理提出新要求
- B. 互联网使一些传统商业的实现形式发生了改变
- C. 快递新业态的发展是缓解城管执法冲突的有效手段
- D. 新业态的出现对城市治理是挑战

54. 诗，来源于生活，又高于生活。可是，诗并不是现实生活照相式的复制品。它是现实生活在诗歌创作者心中所激起的情感的浪花，它需要创作者在生活与艺术之间架起一座桥梁，而艺术感受便是这座桥梁。诗人能以诗的方式接受现实印象，并能借助幻想活动，在诗的形象中把印象又复印出来。诗歌创作者总是善于通过自己独特的艺术感受，去摄取生活中的那些元素，并调动自己的联想和想象，对那些元素进行发酵，进行化学处理，进而酿造出诗来。

这段文字意在说明：

- A. 诗歌是创作者在现实生活中所激起的情感浪花

- B. 对诗歌的创作是诗人通过艺术感受而完成的
- C. 诗歌来源于社会印象并反映社会印象
- D. 诗歌创作者的想象力十分丰富

55. 飞船和航天飞机在返回地球进入大气层时，总是要进入“黑障”，这时机身与大气层剧烈摩擦燃烧，通讯信号中断，航天员生理感觉痛苦，因而成为太空任务中最危险的关口。飞船的速度非常快，是第一宇宙速度，这样才能让它轨道上运行。它的速度一旦降低，就会下落，如果速度在进入大气层前降到很低，它就会直线往下掉，这样克服地球引力一直落到可以开伞的高度，需要消耗大量的燃料。因此，飞船在返回地球进入大气层时，不能减缓速度。

对这段文字概括最为恰当的是：

- A. 飞船在返回地球进入大气层时，速度不能减缓
- B. 飞船速度降低，航天员痛苦感觉增强
- C. 飞船速度加快有利于飞行安全
- D. 飞船和航天飞机在返回地球进入大气层时，进入“黑障”是必经之路

56. 生物科技是利用科学技术和生物技术，对农业或其他方面进行改造。利用生物体、生物组织、细胞及其成分，综合应用化学、生物学和医药学各学科原理和技术方法制得的用于预防、诊断、治疗和康复保健的制品或其它现代生物技术研制的蛋白质或核酸类药物。由于药物资源有限，含量极微，因而使用高纯度的分离工艺有一定难度，且成本昂贵。用生物基因工程方法生产这些药物，就可以很好地解决这些难题。

对“这些难题”理解最准确的一项是：

- A. 生物科技是利用科学技术和生物技术
- B. 高纯度的分离工艺有一定难度，成本昂贵
- C. 药物资源有限，含量极微，高纯度的分离工艺有一定难度
- D. 药物资源有限，含量极微，因而成本昂贵

57. 横跨江河的大桥两端接岸处，通常被称为桥头，在桥头位置建造的建筑物就是桥头堡。桥头堡最初的建造目的是出于军事防御的需要。由于最初的桥头堡只是一座地堡或堡垒，因此而得名。现在有些大桥修建的桥头堡不再出于军事目的，而是作为一种建筑标志，如著名的南京长江大桥，两端桥头都建有高达70米的桥头堡，并配合雕塑群像，形成宏伟壮观的建筑群体，使大桥更具气势。桥头堡内部还安装了观光电梯，方便游人登桥眺望壮丽的长江风光。除此之外，设置桥头堡还具有利于大桥的交通管理，方便对其进行日常养护等作用。

最适合做这段文字标题的是：

- A. 建造大桥桥头堡的初衷
- B. 桥头堡名字的由来
- C. 建造桥头堡的意义
- D. 为什么大桥要造桥头堡

58. 柏拉图说“法律有一部分是为有美德的人制定的，如果他们愿意和平善良地生活，那么法律可以教会他们在与他人的交往中所要遵循的准则；法律也有一部分是为那些不接受教诲的人制定的，这些人顽固不化，没有任何办法能使他们摆脱罪恶。”

这段话所阐述的法律的规范作用是：

- A. 教育作用，保障作用
- B. 指引作用，保障作用

- C. 教育作用，强制作用
- D. 指引作用，预测作用

59. 黄河凌汛发生在冬季河水开始封冻和春季河水开始解冻时，因冰坝阻塞水流甚至带来洪灾的一种河流特有的水文现象。纬度差异是引起凌汛的主要原因。秋末冬初，北部河水首先封冻，南来的未结冰的水流受阻排泄不畅，于是抬高水位，引起凌汛。冬末南部的河水先解冻，而北部河面依然冰层很厚，上游大量的水流夹带冰凌一起下泄，不仅无法破坏下游的冰层，甚至浮冰还会增进冰层的加厚，极易形成冰坝或冰桥，阻塞水流、抬高水位，发生凌汛。如果凌汛与黄河春季的洪汛结合起来，将会产生更大的危害。因此要兴建许多大型的水利工程，防止凌汛泛滥成灾。

对这段文字概括最为恰当的是：

- A. 黄河凌汛产生的原因
- B. 黄河凌汛是一种河流特有的水文现象
- C. 防止黄河凌汛泛滥成灾的必要性
- D. 黄河凌汛产生的危害

60. 将下列 6 个句子重新排列，语序正确的是：

- ①这条河贯穿南北，盯着一条河看，其实就是纲举目张，在打量一个辽阔而古老的中国
- ②它与空间一起支撑起一个勘探世界奥秘的坐标
- ③时间是历史，也是文化，还是解决一个个疑问的真相
- ④世界沿着运河像布匹一样在我的想象里展开
- ⑤在时空交错的坐标里探寻一条河，我相信我看见的是一个复杂、浩瀚的世界
- ⑥它还给了我另一个想象世界的维度，那就是时间

- A. ①⑤⑥③②④
- B. ④⑥③②⑤①
- C. ⑤①④⑥②③
- D. ③②⑤④⑥①

### 第三部分 数量关系

在这部分试题中，每道题呈现一段表述数字关系的文字，要求你迅速、准确的计算出答案。

61. 某农科院准备挑选 2 男 2 女 4 名科技人员分别去市郊的甲乙丙丁 4 个乡参加科技支农工作，在报名的人员中有 3 男 4 女符合要求，在 4 名女性中有 1 位是农科院的副院长，考虑到工作的具体需要，这名副院长不去甲乡，且去丁乡的是女性。符合条件的选法有\_\_\_\_\_种。

- A. 198
- B. 216
- C. 378
- D. 432

62. 某大型相亲类综艺节目举办线下联谊活动，在签到时每人可以抽取一张礼物卡，凡是抽中有编号的礼物卡均有玫瑰花赠送，抽到“谢谢参与”的则赠送一盒面巾纸。带有编号的礼物卡共 100 张，编号 1~100，按礼物卡标签号发放奖品的规则如下：

- (1) 标签号为 2 的倍数，领 2 枝玫瑰
- (2) 标签号为 3 的倍数，领 3 枝玫瑰
- (3) 标签号既是 2 的倍数，又是 3 的倍数可重复领奖
- (4) 其他标签号均领 1 枝玫瑰

那么本次联谊活动应准备玫瑰花\_\_\_\_\_枝。

- A. 215
- B. 232
- C. 312
- D. 416

63. 中秋假期，小王请同在一个城市的 9 位大学同学聚餐。10 人围坐一桌，敬酒前小王提出一个建议：每个人要同不相邻的同学喝一杯。如果小王的提议被通过，那么一共要准备\_\_\_\_\_杯酒。

- A. 70
- B. 90
- C. 140
- D. 210

64. 有两个班的学生从南部校区到北部校区参加活动，但只有一辆车接送，第一班的学生坐车从学校出发的同时，第二班学生开始步行；车到途中某处，让第一班学生下车步行，车立刻返回接第二班学生上车并直接开到北部校区。学生步行速度为每小时 4 公里，载学生时车速每小时 40 公里，空车时车速为每小时 50 公里。问：要使两班学生同时到达北部校区，第二班学生步行全程的\_\_\_\_\_。

- A. 1/6
- B. 1/7
- C. 1/10
- D. 1/8

65. 甲乙丙丁四个建筑队分别承担相同的施工任务。由于设备原因，当甲乙丙同时开工时，丁已经干了若干天。经过一番努力，甲用 3 天，乙用 5 天，丙用 8 天，赶上了丁的进度。已知甲的效率是 12，乙的效率是 8，则丙的效率的\_\_\_\_\_。

- A. 4
- B. 4 又 1/2
- C. 5 又 3/4
- D. 7 又 1/2

66. 长为 10cm 的素菜蛋卷的制作方法是：用一张的蛋皮把长度为 10cm 的豆芽卷在里面，外形为圆柱状。某日豆芽只有 7cm 长，于是改变蛋卷的卷法，得到 7cm 的圆柱。这两种大小的蛋卷在相连接处均重叠了 1cm 的蛋皮，问 10cm 长的蛋卷与 7cm 长的蛋卷的体积比是\_\_\_\_\_。

- A. 7 : 10
- B. 20 : 21
- C. 40 : 63
- D. 1 : 1

67. 两只机械手表，一只每天快 18 分钟，一只每天慢 15 分钟。现在将两只手表同时调整到标准时间，则它们再次同时显示标准时间要经过\_\_\_\_\_天。

- A. 40
- B. 88
- C. 178
- D. 240

68. 甲乙 2 艘帆船从 A 地到 B 地。无风时，甲需要 12 小时，乙需要 15 小时。如果逆风，甲的速度下降，乙的速度下降。两船同时从 A. 地出发，中途遇逆风，但同时到达 B 地。那么行船过程逆风行驶\_\_\_\_\_小时。

- A. 10
- B. 8
- C. 6
- D. 5

69. 在一块草场上老李养了若干头牛和若干只羊。如果只有羊吃草，够吃 16 天；如果第一天牛吃，第二天羊吃，这样交替，正好整数天吃完；如果第一天羊吃，第二天牛吃，这样交替，那么比上次轮流的做法多吃半天。则牛单独吃能够吃\_\_\_\_\_天。

- A. 8
- B. 7
- C. 6
- D. 5

70. 有 4 个盒子装有红白蓝绿四色粉笔各有若干支。任意 2 个盒子的粉笔的支数和分别为 12、23、35、46、54、65，粉笔支数最多的盒子里同一颜色最多的粉笔至少有\_\_\_\_\_支（没有并列）。

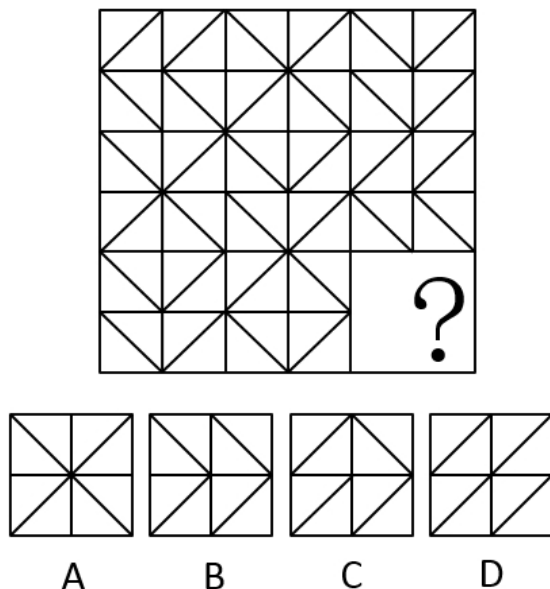
- A. 14
- B. 13
- C. 12
- D. 11

## 第四部分 判断推理

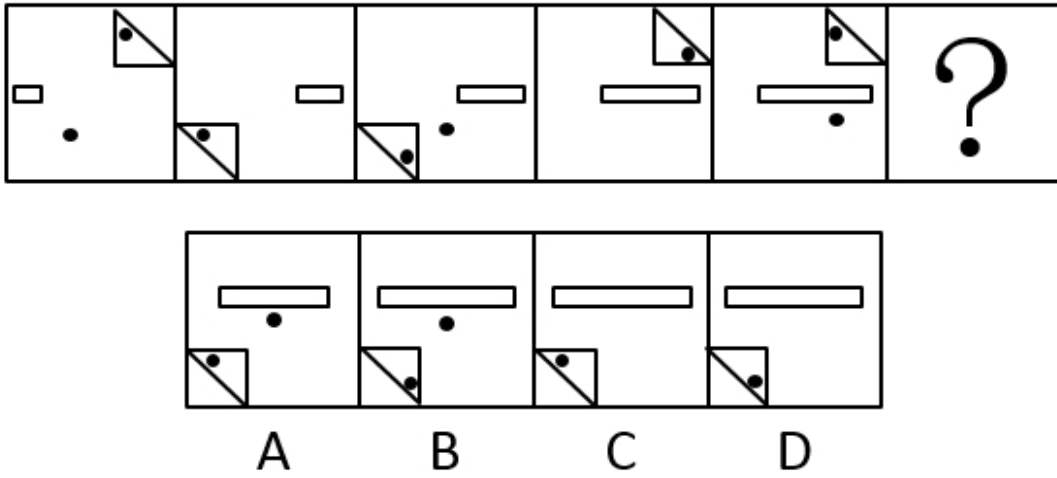
本部分包括图形推理、定义判断、类比推理与逻辑判断四种类型的试题，请在四个选项中选出一个最恰当的答案。

### 一、图形推理。请按每道题的答题要求作答。

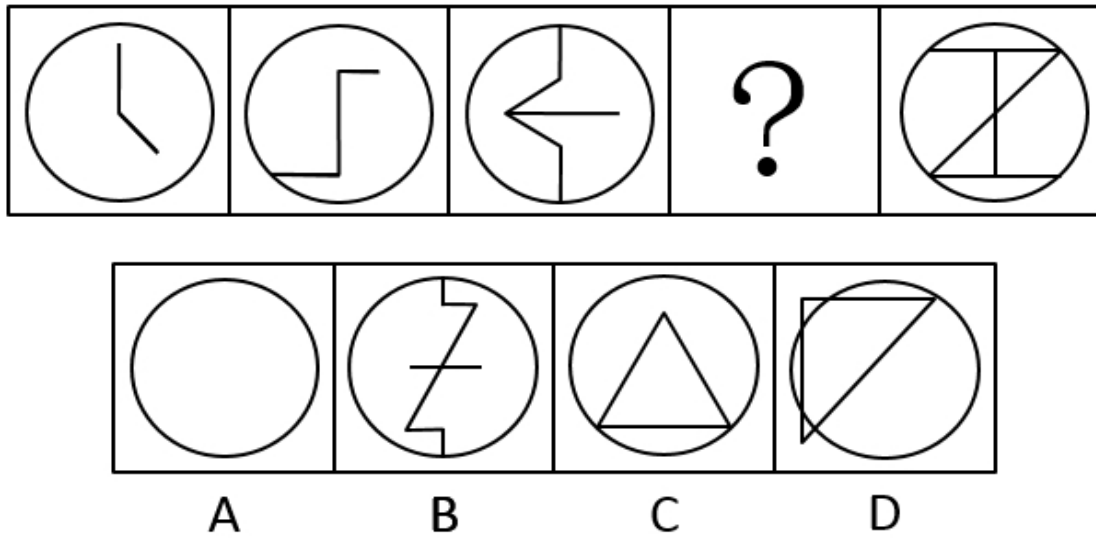
71. 从四个选项中选最合适的一个填入问号处，使之呈现一定的规律性：



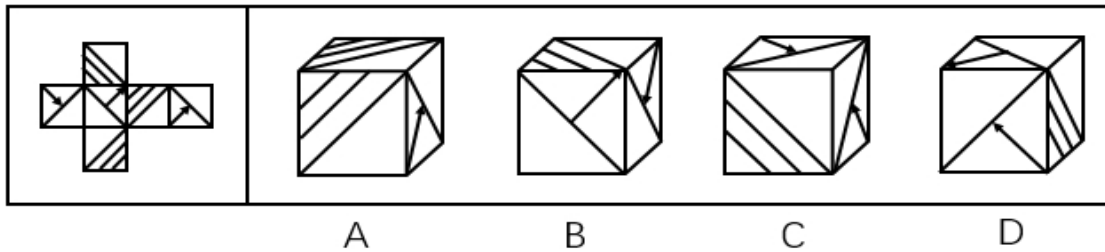
72. 从四个选项中选最合适的一个填入问号处，使之呈现一定的规律性：



73. 从四个选项中选最合适的一个填入问号处，使之呈现一定的规律性：

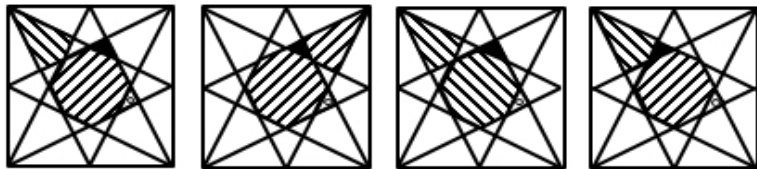
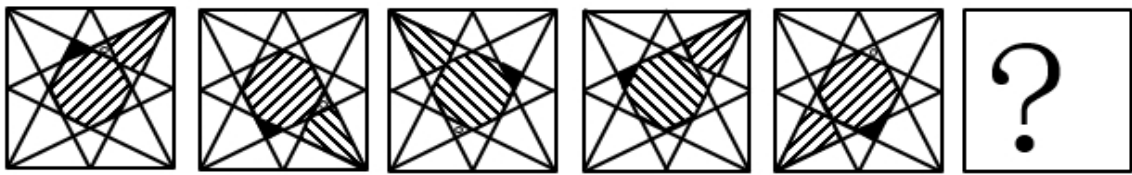


74. 左边给出的是纸盒的外表图，由它折叠而成的一项是：



75. 从四个选项中选最合适的一个填入问号处，使之呈现一定的规律性：






A

B

C

D

76. 把下面六个图形分为两类，使得每一类图形都有各自的共同特征或规律，分类正确的一项是：



①

②

③

④

⑤

⑥

- A. ①②③④⑤⑥  
B. ①④⑤②③⑥  
C. ①③⑥②④⑤  
D. ①③⑤②④⑥

**二、定义判断。每道题先给出定义，然后列出四种情况，要求你严格依据定义，从中选出一个最符合或最不符合该定义的答案。注意：假设这个定义是正确的，不容置疑的。**

77. 概念的内涵是指概念所反映的对象本质属性，它是概念质的规定性，说明概念所反映的对象是什么样。

根据上述定义，下列属于从概念的内涵加以说明的是：

- A. 存储—转发信息系统是无论文书或其他信息等数字形式的文本、数字数据都能够通过该系统进行发送和接收  
B. 社会关系包括经济、思想、政治、文化以及家庭等各方面的关系  
C. 独角兽公司是指那些估值达到 10 亿美元以上的初创企业  
D. 5G 是 4G 之后的延伸

78. 饥饿营销是指商品提供者有意调低产量，以期达到调控供求关系、制造供不应求假象、维持商品较高售价和利润，以达到维护品牌形象、提高产品附加值的目。

根据上述定义，下列属于饥饿营销的是：

- A. 在楼市旺季某开发商每次只开卖一栋楼，还张榜公布销售情况形成临时性缺货或只剩少数存量假象，造成人多排队、加价购买等热销氛围  
B. 全球某大车企为了调整产品结构，对某品牌汽车减低产量  
C. 苹果平板电脑 IPAD 刚上市很热销，有时断货，造成一些时尚人士找店长预留，甚至高价买水货  
D. 小米手机曾制定用户需先预定排号，根据排位顺序付款发货销售方式，从而引起大家对小米手机

的关注，形成热销

79. 授权是指主管或领导者按层次领导原则委授副职或下属以一定责任与部分理事权，使副职或下属在其领导、监督下有相应的自主权和行动指挥权，被授权者对授权者负有报告及完成之责。

根据上述定义，下列属于授权的是：

- A. 因去党校学习王校长将报销业务交由校长助理审批
- B. 财务处长每月将公司财务信息汇报给董事会
- C. 小张因为没找到车间主任，而直接找经理请假
- D. 张厂长让秘书替他准备午餐

80. 滚动调查是指一连串在不同时段采用相同内容开展的民意调查，目的是了解民意在时间维度上的变化，例如调查民众对公共服务满意度的变化。

根据上述定义，下列属于滚动调查的是：

- A. 某公司委托某社会调查公司对不同学历消费者开展调查，了解他们的需求差异
- B. 某大学每学期都会在学期初和学期末对学生开展心理健康调查，了解他们的心理健康状况
- C. 某区政府每年年初都会对全区居民开展公共服务需求调查，了解居民迫切的民生需要
- D. 某健身中心每次课后都会对消费者进行问卷调查，以评价不同健身老师的授课质量

81. 邻避效应是指具有负外部性效应的公共设施产生的效用为大众所共享，而带来的风险和成本却由设施附近居民承受，进而导致公众心理上的隔阂，引发居民抵制的现象。

根据上述定义，下列属于邻避效应的是：

- A. 某社区一楼业主私自开挖地下室，其他楼层业主认为安全受到影响，集体前去阻止施工
- B. 某公司拟在格林社区附近修建信号发射塔，但部分居民以信号塔影响风水为由阻止施工
- C. 某社区原有变电设施不能满足周边居民用电需求，供电公司拟在附近修建新的变电设施，但附近居民以会产生噪音为理由阻挠施工
- D. 某市拟投资兴建一座造纸厂，但相邻胶清市某造纸厂工人认为该厂的修建会影响他们的效益，故前往阻挠施工

82. 侧向思维方法是指利用其他领域的观念、知识或方法来寻找解决本领域某个问题的可能途径和思路的一种方式。

根据上述定义，下列不属于运用侧向思维方法的是：

- A. 鲁班由于茅草的细齿刮破手指而发明了锯
- B. 格拉塞通过观察啤酒泡沫的现象，提出了气泡室的设想
- C. 居里夫人根据实验室中看到的蓝光，发现了天然放射性元素“镭”
- D. 奥地利的医生奥恩布鲁格，受到敲酒桶凭叩击声就能知道桶内有多少酒的启发，想出以“叩诊”的方法诊断人体胸腔中是否有积水

83. 水下文化遗产是指经历至少 100 年的周期性或连续性的、部分或全部位于水下的具有文化、历史或考古价值的所有人类生存的遗迹。

根据上述定义，下列属于水下文化遗产的是：

- A. 我国南沙群岛附近海域历时数百万年形成的珊瑚礁群
- B. 我国道光年间在苏门答腊和爪哇岛之间触礁沉没的商船“泰兴号”
- C. 迪拜于上世纪末在海中以人工岛方式建造的世界第一座七星级观光酒店
- D. 希腊克里特岛上发掘出的公元前 10000 年至公元前 3300 年新石器文化遗迹

84. 《民法总则》第三十三条规定“具有完全民事行为能力的成年人，可以与其近亲属、其他愿意担任监护人的个人或者组织事先协商，以书面相关法律法条形式确定自己的监护人。协商确定的监护人在该成年人丧失或者部分丧失民事行为能力时，履行监护职责。”这种监护形式被称为意定监护。

根据上述定义，下列属于意定监护的是：

- A. 杜宇常年在海外工作，其母亲患慢性疾病，部分丧失民事行为能力，故杜宇指定其叔叔作为母亲的监护人
- B. 李伯伯膝下无子，孤身一人，得到了邻居王琦常年悉心照顾。今年初，李伯伯和王琦到公证处公证，确定在李伯伯丧失生活自理能力时由王琦担任其监护人
- C. 我国法律规定，在福利院收养的孤儿由福利院担任其监护人
- D. 丧偶多年的文爷爷与照顾其生活的保姆互生情愫，两人虽然没有领取结婚证，但俨然形成了事实婚姻

**三、类比推理。每道题先给出一组相关的词，要求你在备选答案中找出一组与之有逻辑关系上最为贴近、相似或匹配的词。**

85. ( ) 对于 知识，相当于 挑战 对于 ( )

- A. 理解；攀登
- B. 学识；理论
- C. 学习；极限
- D. 文化；迎接

86. 编辑部 对于 ( )，相当于 ( ) 对于 学校

- A. 作者；校园
- B. 档案处；学生处
- C. 期刊；学生
- D. 出版社；教务处

87. 弓箭：枪炮：战争

- A. 毛笔：钢笔：书法
- B. 马车：汽车：运输
- C. 书籍：电脑：学习
- D. 广播：电视：宣传

88. 侵犯：指责：愤怒

- A. 赞赏：感谢：真诚
- B. 帮助：道歉：谅解
- C. 误解：解释：无意
- D. 抢劫：反抗：犯罪

89. 语言：简洁

- A. 骨骼：清奇
- B. 想象：丰富
- C. 彷徨：徘徊
- D. 坦途：捷径

90. 猪八戒：唐僧

- A. 周公：比干
- B. 夸父：女媧
- C. 哪吒：姜子牙
- D. 黄帝：炎帝

91. 平面三角形：内角和 180 度

- A. 恒星：太阳
- B. 磁铁：南极北极
- C. 军人：手枪
- D. 电话：电波

92. 亏损：收入：成本

- A. 贸易顺差：进口：出口
- B. 负债：借钱：还钱
- C. 价格上涨：需求：供给
- D. 库存：入库：出库

**四、逻辑判断。每道题给出一段陈述，这段陈述被假设是正确的，不容置疑的，要求根据这段陈述选择一个正确答案。注意：正确答案应与所给陈述相符合，不需要任何附加说明即可从陈述中直接推出。**

93. 有甲乙丙丁戊五个人参加比赛，比赛结束后，有己庚辛壬癸五个人对他们的名次做了如下判断

- 己：甲第一名，乙第二名
- 庚：丁第四名，戊第五名
- 辛：丙第三名，乙第二名
- 壬：甲第一名，丁第四名
- 癸：丙第四名，戊第五名

赛后名次公布之后发现，己庚辛每人最多猜对了一半，壬癸至少猜对了一半。则甲乙丙丁戊的名次依次是：

- A. 1、3、4、2、5
- B. 2、1、3、4、5
- C. 1、2、4、5、3
- D. 5、3、4、1、2

94. 有三个小伙伴去吃火锅，点餐的时候他们对服务员讲了如下的话：

- 甲：或者吃鸭血，或者不吃藕片
- 乙：只有不吃海带，才吃鸭血
- 丙：不吃豆腐泡，除非吃藕片

按照三位小伙伴的要求，服务员的下列哪种菜品组合一定不符合客人的要求。

- A. 有鸭血和豆腐泡
- B. 有海带，没有藕片
- C. 有豆腐泡，没有海带
- D. 有海带和豆腐泡

95. 某班选派学生代表参加校庆活动，张强或者隋雷至少必须有一人参加，同时还需满足以下条件：

- (1) 如果有隋雷，就必须有夏伟
- (2) 夏伟、张强至多只能有一人
- (3) 若有张强，就必须有孙风
- (4) 有孙风，就必须有夏伟

如果以上为真，代表中一定包括以下哪两人？

- A. 张强和夏伟
- B. 夏伟和孙风
- C. 孙风和隋雷
- D. 隋雷和夏伟

96. 当前一些教师授课过程中存在知识更新不及时、授课态度不端正、教学方法不科学的问题。之所以会出现这三个问题，根本原因是教师考核过程中存在的重科研、轻教学的倾向。除非改变考核中教学评价占比过低的现状，教师才有积极性及时更新知识、授课态度才能更加端正、教学方法才能更加科学。对于学生而言，如果这三个问题不能得到有效解决，就很难激发起他们的学习兴趣。

如果上述陈述为真，则以下哪一项论断必定为真？

- A. 如果学生的学习兴趣没有激发起来，那一定是这三个问题没有得到有效解决
- B. 如果学生的学习兴趣激发起来了，那一定是教师考核中提高了教学评价的占比
- C. 如果教师的教学态度没有端正起来，则说明教师考核中教学占比仍然较低
- D. 只要解决了这三个问题，学生的学习兴趣就一定能激发起来

97. 赵甲、钱乙、孙丙、李丁和周戊分别住在赵楼、钱屯、孙家堡、李庄和周店五个村中。已知：

- (1) 每人的姓氏与所在村庄的第一个字不同
- (2) 赵甲和孙丙不住在李庄
- (3) 钱乙不住在孙家堡或周店
- (4) 李丁不住在赵楼或钱屯
- (5) 周戊不住在钱屯或赵楼
- (6) 除非赵甲住李庄，钱乙才住李庄
- (7) 若甲住孙家堡，则孙丙住李庄

根据以上信息可以得出以下哪项？

- A. 李丁住孙家堡
- B. 钱乙住李庄
- C. 孙丙住周店
- D. 赵甲住钱屯

98. 一个国家只有立足粮食基本自给，才能掌握粮食安全主动权，进而才能掌控经济社会发展这个大局。而只有守住今天的耕地，才能守住明天的饭碗，如果耕地守不住，粮食生产就成了无本之木、无源之水，我们就没有了赖以吃饭的“命根子”。由此可以推出：

- A. 守住耕地就可以确保粮食安全无虞
- B. 确保粮食自给意味着掌握了粮食安全主动权
- C. 如果能够确保粮食生产，意味着我们守住了耕地
- D. 之所以能掌控经济社会发展大局是因为做到了粮食基本自给

99. 近年来一些地区出现了居民因担心辐射阻挠移动通讯信号基站建设的案例。对此，专家指出，

移动通信基站手机频段的电磁辐射平均功率密度为 40 微瓦/平方厘米，其强度相当于一台电视机或 1.5 个移动电话充电器。因此，大家大可不必担心移动基站的辐射危害。

以下哪项如果为真，最能支持专家的结论？

- A. 实际上，人们并不是每天都处于移动基站的辐射范围内
- B. 即使有辐射，移动通讯已经成为人们必不可少的通讯工具
- C. 低于 100 微瓦/平方厘米的电磁辐射不会对人体产生伤害
- D. 没有哪个人因为电视机有辐射而放弃看电视

100. 相关资料显示，国内出现丁克家族大概实在上世纪 90 年代。进入工业社会，消费取代生产成为家庭的基本经济功能，知识取代体力成为主要人力资本，人口质量取代数量决定家庭的经济效益，社会化与社会保障将赡养外移至社会机构，生育的价值降低，不再是家庭的“必需品”和“生命的必要构成”，不育成为自由权利。所以，近年来选择做丁克的家庭有明显上升的趋势。为此，有专家预言丁克现象会对中国的二孩生育政策造成冲击和影响。

若以下选项均为真，最能对专家的预言进行削弱的是：

- A. 丁克家族的增多是社会发展到一定程度后必然出现的现象，背后反映的是中国人价值观的变迁
- B. 丁克在中国仍然是小众，是部分中国人的生育态度，是可以接受的自然选择，不会对中国的二孩生育政策造成任何冲击和影响
- C. 城市化的快速发展，年轻、适龄生育人口涌向大城市，随之而来的工作难、房价高、生育成本上涨，是选择不生二胎的主要原因
- D. 结婚十年一直做丁克族的小王夫妇被国家二胎政策所触动生育了一名男婴

## 第五部分 资料分析

所给出的图、表、文字或综合性资料均有若干个问题要你回答。你应根据资料提供的信息进行分析、比较、计算和判断处理。

### 一、根据以下资料，回答 101~105 题。

2019 年 1~8 月，全国房地产开发投资 84589 亿元，同比增长 10.5%，增速比 1~7 月回落 0.1 个百分点。其中，住宅投资 65187 亿元，增长 14.9%，增速回落 0.2 个百分点。

1~8 月，东部地区房地产开发投资 44857 亿元，同比增长 8.8%，增速比 1~7 月回落 0.4 个百分点；中部地区投资 17809 亿元，增长，增速加快 0.3 个百分点；西部地区投资 18506 亿元，增长 9.7%，增速加快 0.9 个百分点；东北地区投资 3418 亿元，增长 16.0%，增速回落 1.3 个百分点。

1~8 月，房地产开发企业土地购置面积 12236 万平方米，同比下降 25.6%，每平方米土地价格同比上涨，土地成交额 6374 亿元。

1~8 月，东部地区商品房销售面积 40303 万平方米，同比下降 3.6%，降幅比 1~7 月收窄 0.6 个百分点；销售额 50739 亿元，增长 5.5%，增速加快 0.3 个百分点。中部地区商品房销售面积 28791 万平方米，增长 0.5%，1~7 月为下降，销售额 20682 亿元，增长 07.4%，增速加快 0.7 个百分点。西部地区商品房销售面积 28284 万平方米，增长 3.8%，增速加快 1.0 个百分点；销售额 20363 亿元，增长 9.9%，增速加快 0.6 个百分点。东北地区商品房销售面积 4471 万平方米，下降 6.6%，降幅收窄 1.2 个百分点；销售额 3589 亿元，增长 2.3%，增速加快 1.8 个百分点。

101. 2018 年 1~8 月，住宅投资占全国房地产开发投资比重约为：

- A. 65%
- B. 69%
- C. 74%
- D. 77%

102. 2019年1~8月,西部地区投资比去年同期增加约\_\_\_\_\_亿元。

- A. 2812
- B. 2643
- C. 2552
- D. 2313

103. 2019年1~8月,房地产开发企业土地成交额与去年同期相比增长约:

- A. 2812
- B. 2643
- C. 2552
- D. 2313

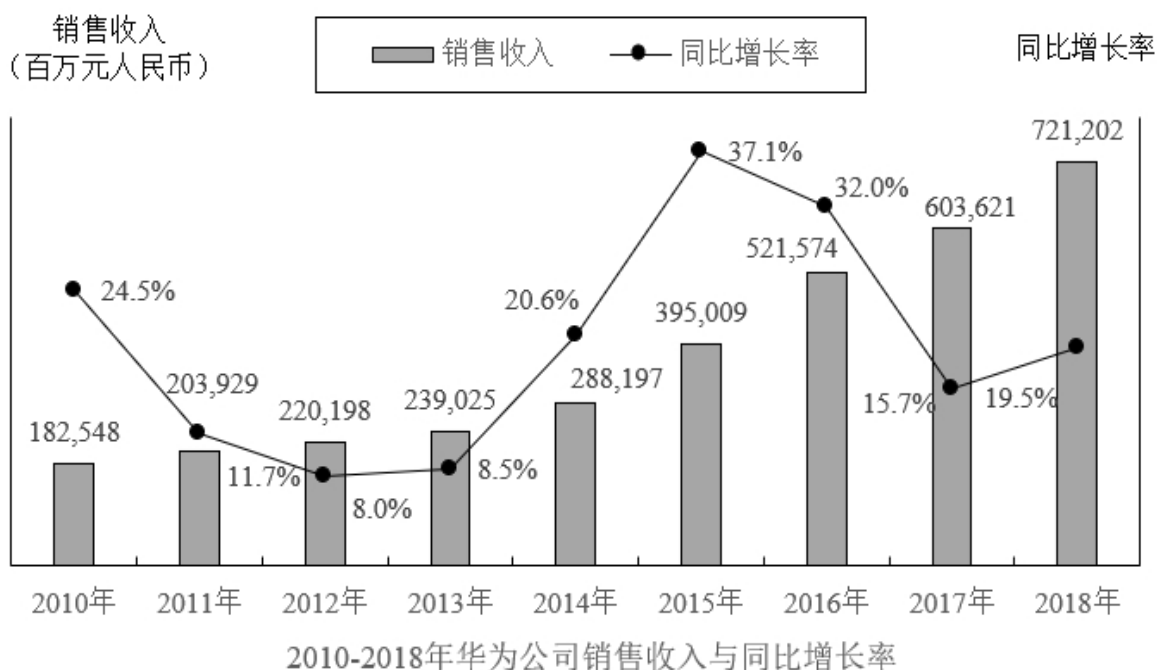
104. 2019年1~8月,下列地区中商品房价格同比增长最慢的是:

- A. 东部地区
- B. 西部地区
- C. 中部地区
- D. 东北地区

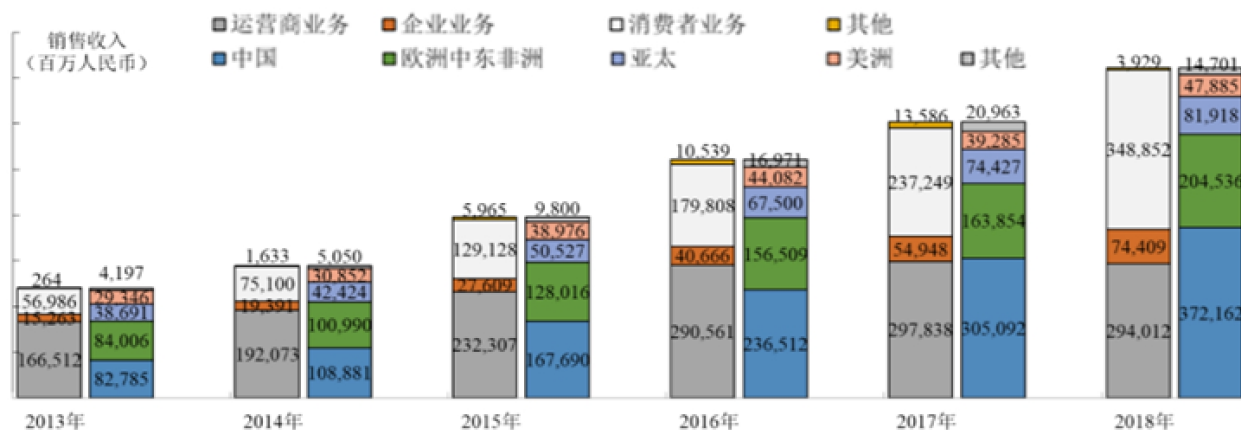
105. 下列说法错误的是:

- A. 2019年1~8月,全国各地区商品房单价均保持上涨
- B. 2019年1~8月,全国商品房销售额最多的是东部地区
- C. 2019年1~8月,西部地区商品房销售面积约27248万平方米
- D. 2019年1~7月,全国房地产开发投资东部地区增速高于东北地区

**二、根据以下资料,回答106~110题。**



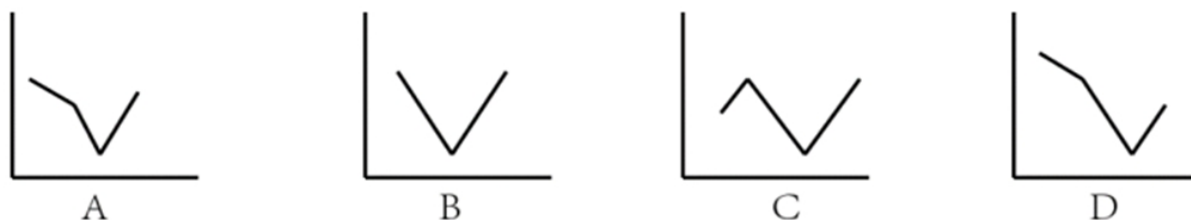
2013-2018年华为公司销售收入按业务与地区分类构成情况



106. “十二五”期间华为销售收入总计达到\_\_\_\_\_百万元。

- A. 1344565
- B. 1346358
- C. 1348467
- D. 1350118

107. 下面折线图能反映 2015~2018 年华为在美洲地区销售收入同比增长率趋势的是：



108. 2010 年~2018 年华为公司销售收入同比增长低于的年份有\_\_\_\_\_个。

- A. 2
- B. 3
- C. 4
- D. 5

109. 2013 年~2018 年华为公司各类业务销售收入同比增长率最高的是：

- A. 2018 年的运营商业务
- B. 2017 年的其他业务
- C. 2016 年的企业业务
- D. 2015 年的消费者业务

110. 根据上述信息，欧洲中东非洲地区的销售收入占公司总销售收入的下列说法不正确的是：

- A. 欧洲中东非洲地区的销售收入占比一直高于亚太与美洲地区之和的占比
- B. 2016 年欧洲中东非洲地区的销售收入占比比 2015 年的下降了约 3 个百分点
- C. 2013 年欧洲中东非洲地区的销售收入占比为最高
- D. 2017 年欧洲中东非洲地区的销售收入占比排第四位

三、根据以下资料，回答 111~115 题。



辽宁省各类市场主体部分数据表

2018年12月末				2018年			
项目	绝对量	同比增长率%	同比增速(百分点)	项目	绝对量	同比增长率%	同比增速(百分点)
市场主体(万户)	343.8	8.2	1.1	生产总值(亿元)	25315.4	5.7	-
其中:				年人均生产总值(元)	58008	5.9	-
企业(万户)	90.7	12	-2.9	规模以上工业主营业务收入(亿元)	26489.9	15.8	6.9
个体工商户(万户)	246.5	6.9	-	规模以上工业利润总额(亿元)	2925.1	20.7	-7.5
农民专业合作社(万户)	66.2	5.8	-	其中:			
注册资本(万亿元)	129.23	27.7	-2.9	利润总额(亿元)	1460.3	41.8	-51.9
新登记市场主体	66.1	5.1	-25.5	税收总额(亿元)	1464.8	5.1	-

111. 2018年比2016年新登记注册市场主体约增加\_\_\_\_\_万户。

- A. 16
- B. 18
- C. 20
- D. 22

112. 2016年各类市场主体中企业占比约为:

- A. 24%
- B. 26%
- C. 27%
- D. 28%

113. 2018年规模以上工业主营业务收入利润总额比2016年增长了约\_\_\_\_\_亿元。

- A. 471
- B. 535
- C. 703
- D. 928

114. 2017年规模以上工业主营业务收入利润率约为:

- A. 4.3%
- B. 4.5%
- C. 4.9%
- D. 5.2%

115. 能够从上述资料中推出的是:

- A. 2018年平均每个新登记市场主体贡献地区生产总值增加额约为360亿元
- B. 2016年农民专业合作社在全部市场主体中的占比高于2018年
- C. 2017年平均约13.8人拥有一户市场主体

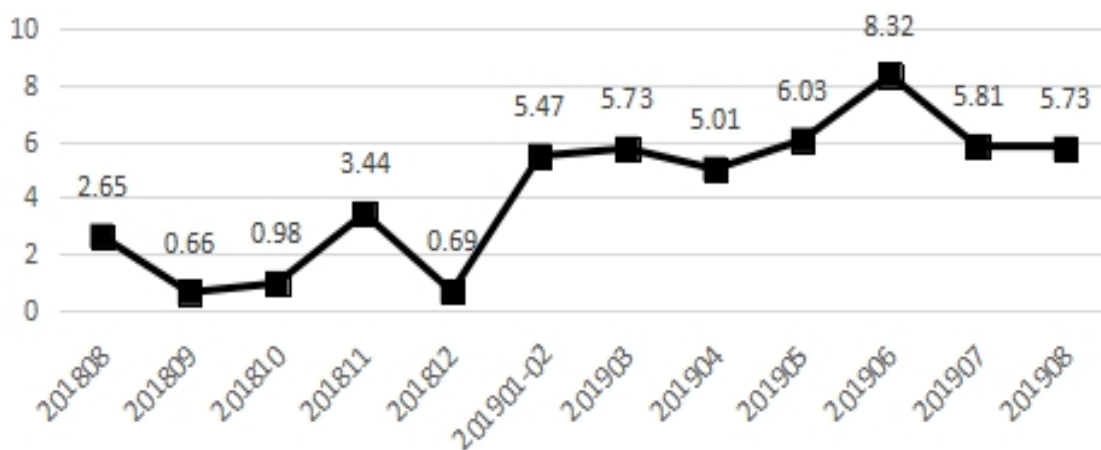
D. 规模以上工业主营业务纳税总额增速低于利润总额增速是因为实行了减税政策

#### 四、根据以下资料，回答 116~120 题。

2019 年 1~8 月，辽宁省社会消费品零售总额 9846.6 亿元，比上年同期增长 6.0%，增速回落 1.6 个百分点。限额以上单位消费品零售额实现 2254.6 亿元，同比下降，增速回落 6.5 个百分点。

2019 年 1~7 月，全省限额以上批发业，零售业，住宿业和餐饮业实现零售额同比分别增长-4.8%、-1.9%、-10.5%和 2.7%。

### 辽宁省社会消费品零售总额同比增速 (%)



指标名称	8 月		1-8 月	
	绝对量 (亿元)	同比增长 (%)	绝对量 (亿元)	同比增长 (%)
社会消费品零售总额	1280.7	5.73	9846.6	6
其中：限额以上单位消费品零售额	280.7	-4.4	2254.6	-2.3
按产品类别分：				
1.粮油、食品类	20.3	0.9	180.9	2.5
2.饮料类	2.4	-30.6	20.5	-3.8
3.烟酒类	3.5	10.3	29.8	-1.7
4.服装鞋帽、针、纺织品类	23.4	-4.4	216	-7.8
5.日用品类	7.1	2.1	59.2	-4.2
6.家用电器和音像器材类	22.2	26.9	191	7.7
7.中西药品类	12.5	7.8	101.8	14.5
8.通讯器材类	9.6	4.7	80	2.4
9.石油及其制品类	49.5	-2.3	392.6	1.7
10.汽车类	80.3	-11.3	594.7	-9.4
按行业分：				
批发业	4.9		170.4	-4.7
零售业	257		1960	-2.2
住宿业	3.9		23.9	-10.1
餐饮业	14.9		100.3	3.2

116. 2017 年 8 月，辽宁省社会消费品零售总额约为：

- A. 1121 亿元
- B. 1184 亿元
- C. 4750 亿元
- D. 8633 亿元

117. 2019 年 1~7 月，限额以上批发业平均每月实现销售额是住宿业的约\_\_\_\_\_倍。

- A. 7.12
- B. 7.69
- C. 8.28
- D. 9.01

118. 2019 年 8 月全省限额以上住宿业实现销售额同比约增长：

- A. -9.7%
- B. -9.3%
- C. -10.35
- D. -2.5%

119. 2018 年 8 月通讯器材类实现消费品零售额比日用品类约多\_\_\_\_\_亿元。

- A. 2.6
- B. 2.4
- C. 2.2
- D. 2.0

120. 根据上述材料，下列说法正确的是：

- A. 2017 年 8 月社会消费品零售总额约为 1208 亿元
- B. 2019 年 1~7 月烟酒类实现消费品零售总额少于 2018 年同期
- C. 2019 年 1~8 月，1 月的社会消费品零售总额同比增速高于 4 月同比增速
- D. 2019 年 1~8 月汽车类零售总额同比减少，而石油及其制品类零售总额同比增加是因为石油及其制品涨价

**全部测验到此结束！**

请扫描QQ二维码，备注“公务员考生”加QQ  
好友，获取曹长远老师精解历年公务员考试申论、  
行测、面试真题完整解析资料。

精品资料，尽在掌握！



扫描二维码，加QQ好友