

2016年4月23日山东省公务员考试

《行政职业能力测验》真题答案解析

说明

一、此项测验分为五个部分，共135题，总时限120分钟，各部分不单独计时，但都给出参考时限，供答题时合理分配时间。

二、此项测验科目代码为“1”。请按照要求在答题卡上填写好自己的姓名，涂写好准考证号、科目代码。

三、必须在答题卡上答题：在题本上答题，一律无效。

严禁折叠答题卡！

第一部分 常识判断

(共20题，参考时限15分钟)

根据题目要求，在四个选项中选出一个最恰当的答案。

1. 关于我国的社会救助制度，下列说法不正确的是：

- A. 最低生活保障是社会救助制度的基本内容
- B. 积极参与开展社会救助是集体和社会成员的法定义务
- C. 临时救助的具体事项、标准，由县级以上地方人民政府确定、公布
- D. 县级以上地方人民政府应当确保最低生活保障家庭有劳动能力的成员中至少有一人就业

【答案】B。解析：

根据2014年5月1日国务院出台的《社会救助暂行办法》第五十二条规定：国家鼓励单位和个人等社会力量通过捐赠、设立帮扶项目、创办服务机构、提供志愿服务等方式，参与社会救助，但并没有规定是法定义务，因此B项说法错误。

所以，正确选项是B。

2. 关于我国的住房公积金制度，下列说法不正确的是：

- A. 具有强制性、互助性和保障性等特征
- B. 由用人单位和职工个人共同缴纳
- C. 贷款利率一般低于相同期限的商业贷款的利率
- D. 贷款风险由经办住房公积金贷款业务的银行承担

【答案】D。解析：

根据2015年11月《住房公积金管理条例》第26条规定，住房公积金贷款的风险，由住房公积金管理中心承担，而不是银行承担，D项说法错误。

所以，正确选项是D。

3. 下列行为侵犯了公民肖像权的是：

- A. 杨某碰到走失儿童小赵，未经其同意将其照片印制在寻亲广告上
- B. 学校未经学生小王同意，将其获奖照片张贴在宣传窗内
- C. 报社未经省委书记同意，将其视察民情的照片刊登在报纸上
- D. 影楼未经张小姐同意，将其个人写真印制在宣传册上

【答案】D。解析：

《中华人民共和国民法通则》第 100 条规定：公民享有肖像权，未经本人同意，不得以营利为目的使用公民的肖像。D 选项影楼未经本人同意，并且以营利为目的印制张女士的写真，侵犯了公民肖像权。所以，正确选项是 D。

4. 根据法律规定，下列情形中，甲可以向乙主张违约责任的是
- A. 乙表示愿意在开车赴省城时捎上甲，甲便退掉了购买的火车票，不料乙动身时忘了与甲的约定
 - B. 甲乙签订书面协议，约定甲买上房子乙便嫁给甲。但甲买上房子时，乙已嫁给他人
 - C. 甲乘坐乙开的出租车上班，中途因乙车速过快而发生车祸，甲受伤致残
 - D. 甲乙同乘火车，约定到 A 站时乙提醒甲下车。火车到 A 站时，二人均未醒，导致甲支出额外费用

【答案】C。解析：

A、D 两项都是好意施惠关系，不产生合同关系（即不产生违约责任或者缔约过失责任）。排除。

B 项看似签订了书面协议，但是该项涉及“法外空间”。比如日出、日落、刮风、下雨等自然现象，宗教关系、师生关系、恋爱关系等客观情况，这些总称为法外空间，不产生民事法律关系。排除。

违约责任是违反合同的民事责任的简称，是指合同当事人一方不履行合同义务或履行合同义务不符合合同约定所应承担的民事责任。C 项属于运输合同，甲可以追究乙的违约责任。

属于，正确选项是 C。

5. 关于丝绸之路经济带，下列说法不正确的是：
- A. 东接亚太经济圈，西系欧洲经济圈
 - B. 被认为是世界上最长、最具有发展潜力的经济大走廊
 - C. 以温带季风气候为主，年平均降水量在 800 毫米左右
 - D. 是国家主席习近平在哈萨克斯坦纳扎尔巴耶夫大学演讲时提出的

【答案】C。解析：

A、B 两项，“丝绸之路经济带”东连亚太经济圈，西接欧洲经济圈，被认为是“世界上最长、最具发展潜力的经济大走廊”，因此，A、B 两项正确，排除。

C 项，我国东中部地区以温带季风气候为主，西北部地区以温带大陆性气候为主，青藏地区为高原气候区，西南地区为亚热带季风气候区，“丝绸之路经济带”经过的地区包括西北地区的陕西、甘肃、青海、宁夏、新疆等五省区，西南地区的重庆、四川、云南、广西等四省市，以温带大陆性气候和亚热带季风气候区为主。因此 C 项说法不正确。

D 项，习主席在哈萨克斯坦纳扎尔巴耶夫大学做的演讲《弘扬人民友谊 共创美好未来》中提出：为了使我们欧亚各国经济联系更加紧密、相互合作更加深入、发展空间更加广阔，我们可以用创新的合作模式，共同建设“丝绸之路经济带”。因此 D 项正确。排除。

所以，正确选项是 C。

6. 由于食盐的重要性和不可替代性，我国历代对盐都有较为严格的管制，用以防止不法商人的垄断抬价。从经济学角度看，下列说法正确的是：
- A. 食盐的需求的价格弹性系数无限大
 - B. 食盐的供给的价格弹性系数无限大
 - C. 食盐的需求的价格弹性系数几乎为零
 - D. 食盐的供给的价格弹性系数几乎为零

【答案】C。解析：

需求的价格弹性表示在一定时期内一种商品的需求量变动对于该商品的价格变动的反应程度。食盐是生活必需品，需求量变动很小，对商品的价格影响程度很小，因此 A 项错误，C 项正确。

所以，正确选项是 C。

7. 下列事件或文献按时间排序正确的是：

- A. 黄巢起义→黄巾起义→黄花岗起义
- B. 《春秋左氏传》→《资治通鉴》→《四库全书》
- C. 阿姆斯特朗登月→原子弹诞生→哈勃空间望远镜升空
- D. 美国《独立宣言》→《共产党宣言》→法国《人权宣言》

【答案】B。解析：

A项，黄巢起义发生于唐朝末年，黄巾起义发生于东汉末年，黄花岗起义发生在民国时期。因此A项错误，排除。

B项，《春秋左氏传》写于春秋末期，作者是左丘明；《资治通鉴》写于北宋，作者是司马光；《四库全书》编纂于清朝乾隆时期，由纪晓岚编纂。因此B项正确。

C项，阿姆斯特朗1969年7月21日成为第一个踏上月球的宇航员，第一颗原子弹诞生是在1945年7月16日，这颗原子弹是美国研制的，哈勃空间望远镜于1990年4月24日在美国肯尼迪航天中心，由“发现号”航天飞机成功发射。因此C项错误，排除。

D项，美国《独立宣言》签署于1776年，《共产党宣言》发表于1848年，《人权宣言》颁布于1789年。因此D项错误，排除。

所以，正确选项是B。

8. 下列诗句与人物对应不正确的是：

- A. 拔山力尽乌江水，今古悠悠空浪花——项羽
- B. 千山万壑赴荆门，生长明妃尚有村——西施
- C. 羽扇纶巾，谈笑间，檣櫓灰飞烟灭——周瑜
- D. 三顾频频天下计，两朝开济老臣心——诸葛亮

【答案】B。解析：

A项，从“拔山”和“乌江”可以推知描写的是项羽。因此A项正确，排除。

B项，“群山万壑赴荆门，生长明妃尚有村”出自杜甫的《咏怀古迹》第三首，描写的是王昭君。因此B项错误。

C项，“羽扇纶巾，谈笑间，檣櫓灰飞烟灭”出自苏轼的《念奴娇·赤壁怀古》，描写的是周瑜。因此C项正确，排除。

D项，从“三顾”可以推知描写的是诸葛亮。因此D项正确，排除。

所以，正确选项是B。

9. 关于古代音乐，下列说法不正确的是：

- A. 黄钟、大吕是乐律学名词
- B. 丝竹是对弦乐器和竹制管乐器的统称
- C. 李龟年是唐代著名乐工
- D. 教坊是汉代管理宫廷音乐的机构

【答案】D。解析：

A项，黄钟是我国古代音韵十二律中六种阳律的第一律，大吕是六种阴律的第一律。因此A项说法正确，排除。

B项，丝竹是对传统民族弦乐器和竹制管乐器的统称。因此B项说法正确，排除。

C项，李龟年是唐代开元初年的著名乐工，常在贵族豪门歌唱，因此C项说法正确，排除。

D项，教坊是唐高祖设立用来管理宫廷音乐的官署，而不是汉代的。因此D项说法错误

所以，正确选项是D。

10. 下列表述正确的是：

- A. 潮汐现象主要是其他行星的引力造成的
- B. 地转偏向力是由地球自转引起的
- C. 地磁场的北极在地理北极附近
- D. 一般来说，纬度越高重力加速度越小

【答案】B。解析：

A 项，潮汐现象是海水在天体（主要是月球和太阳）引力作用下所产生的周期性运动。A 项说法错误。

B 项，地转偏向力是由于地球自转而使地球表面运动物体受到与其运动方向相垂直的力，B 项说法正确。

C 项，地磁场的北极在地理南极，地磁场的南极在地理北极，C 项说法错误。

D 项，纬度低的地方，地心引力的一部分要作为向心力来维持物体在地球上做匀速圆周运动。而纬度越高，线速度越小，根据向心力公式，所需要的向心力也小，那么物体受到的重力也要比低纬的小。所以纬度越高，重力加速度越大，D 项说法错误。

所以，正确选项是 B。

11. 下列各项中，不属于化学变化的是：

- A. 焰色反应
- B. 铁锅生锈
- C. 粮食酿酒
- D. 卤水点豆腐

【答案】A。解析：

A 项，焰色反应是指某些金属或它们的化合物在无色火焰中灼烧时使火焰呈现特征的颜色反应，是物理反应，不是化学反应。所以，正确选项是 A。

12. 关于气候，下列说法不正确的是：

- A. 我国冬季南北温差很大的主要原因是纬度的影响
- B. 秦岭—淮河一线是季风区与非季风区分界线
- C. 我国气候的突出表现是季风气候显著
- D. 世界上大多数动植物在我国都能找到适合生长的地区，主要是因为我国气候类型复杂

【答案】B。解析：

我国的季风区与非季风区分界线为大兴安岭、阴山、贺兰山、巴颜喀拉山、冈底斯山，该线西北为非季风区，东南为季风区，B 项说法错误。

所以，正确选项是 B。

13. 生物多样性是指在一定时间和一定地区内所有生物物种及其遗传变异和生态系统的复杂性。衡量生物多样性丰富程度的基本标志是：

- A. 遗传多样性
- B. 基因多样性
- C. 环境多样性
- D. 物种多样性

【答案】D。解析：

衡量生物多样性丰富程度的基本标志是物种多样性。

所以，正确选项是 D。

14. 长城是我国首批世界文化遗产，下列不属于长城沿线世界文化遗产的是：

- A. 莫高窟
- B. 云冈石窟
- C. 秦始皇陵及兵马俑坑
- D. 安阳殷墟

【答案】D。解析：

安阳殷墟位于河南省安阳市，不属于长城沿线。

所以，正确选项是 D。

15. 地质学把自然界引起地壳或岩石圈的物质组成、结构、构造及地表形态等不断发生变化的各种作用称为地质作用。下列关于地质作用的表述不正确的是：

- A. “阡陌交通”与地质作用相关
B. 可分为表层和内部两种类型
C. 同时具有破坏性和再造性
D. 岩浆作用主要由地热能提供动力

【答案】A。解析：

阡陌，指农田地里的小道和灌溉渠道，纵者称“阡”，横者称“陌”。“阡陌交通”主要受到人的影响，与地质作用无关，A项错误。

所以，正确选项是A。

16. 关于电影，下列说法不正确的是：

- A. 世界上第一个国际电影节是威尼斯电影节
B. 李小龙是中国功夫和功夫电影的“名片”
C. 世界上拍摄电影数量最多的国家是美国
D. 蒙太奇和长镜头都是电影的主要表现手法

【答案】C。解析：

世界上拍摄电影数量最多的国家是印度，而不是美国，C项错误。

所以，正确选项是C。

17. 下列与电有关的说法正确的是：

- A. 电风扇将电能全部转化为机械能
B. 保险丝串联接入才能起到保护电路的作用
C. 为城市输电的高压输电线电压为220伏
D. 能使电笔发亮的插口连接的是零线

【答案】B。解析：

电风扇在工作过程中，电能大部分转化为机械能，但有一部分电能转化为内能，A项错误。

保险丝的特性是有规定的熔化温度，当电路中的电流达到保险丝的规定值时，保险丝就会熔化，从而切断电路起到保护的作用，因此串联接入保险丝才能保护电路。B项正确。

为城市输电的高压输电线电压有220KV、35KV、10KV等，C项错误。

能使电笔发亮的插口连接的是火线，不是零线。D项错误。

所以，正确选项是B。

18. 下列与电影有关的说法不正确的是：

- A. 西安电影制片厂是中国第一个电影制片厂
B. 香港是世界三大电影制作地之一
C. 《定军山》是中国第一部电影
D. 中国电影华表奖是中国三大电影奖项之一

【答案】A。解析：

中国第一个电影制片厂是长春电影制片厂，而不是西安电影制片厂。A项说法错误。

所以，正确选项是A。

19. 关于溶液与溶解，下列说法不正确的是：

- A. 酒精与水能够以任意比例互溶
B. 汽油溶解食用油属于物理变化
C. 酸碱中和后的溶液不一定呈中性
D. 加入蔗糖可以增加溶液的导电性

【答案】D。解析：

蔗糖不是电解质化合物，溶解于水后，不能电离出离子，无法增加溶液的导电性。D项说法错误。

所以，正确选项是D。

20. 下列关于食物的说法不正确的是：

- A. 储存一段时间的红薯比刚挖出来时更甜，是因为淀粉水解生成了单糖
B. 未成熟的香蕉与成熟的苹果一起保存，后者释放的乙烯能促进前者成熟
C. 食品包装上的“胀袋勿食”是因为微生物进行乳酸发酵产气导致食物变质
D. 生鸡蛋泡在石灰水中，水里的碳酸钙能堵塞鸡蛋表面微孔，延长保存时间

【答案】D。解析：

- A 项正确，红薯在储藏一段时间后淀粉会转化成各种单糖；
B 项正确，熟苹果会释放出乙烯，乙烯有促进果实成熟的作用，当然也能用于催熟香蕉；
C 项说法错误。食品包装胀袋的原因主要分为两大类：一类是外部的大量气体进入包装内部；另一类是包装中的微生物生长繁殖而产生了较多的气体。
D 项正确，石灰水中的酸钙能封闭鸡蛋壳上的气孔，防止细菌侵入，延长鸡蛋的保鲜期。
所以，正确选项是 D。

第二部分 言语理解与表达

(共 40 题，参考时间 35 分钟)

本部分包括表达与理解两方面的内容。请根据题目要求，在四个选项中选出一个最恰当的答案。

21. 浙东运河与别的地方的运河不同，隋唐运河如吉林等地的运河现已失去了原有的功能，仅留下文物保护的价值。而浙东运河仍然 _____，舟行栉比，橹棹相连，运河功能 _____。浙东运河不是单线的，而是复线的，沿河水道呈网状分布，因此它比别的地方的运河更丰富多彩。
- A. 迎来送往 全面
B. 蒸蒸日上 完善
C. 生机勃勃 齐全
D. 熙熙攘攘 强大

【答案】C。解析：

第一空，首句把浙东运河与别的地方的运河进行对比，其他运河已失去原有功能，空中所填词语表示与其他地区不同，浙东运河功能依然存在，还在焕发活力，C 项“生机勃勃”形容生命力旺盛的样子，符合文意。

“迎来送往”形容忙于交际应酬，与“运河”搭配不当，排除 A 项；

“蒸蒸日上”是指一天天地向上发展，形容发展速度快。“熙熙攘攘”形容人来人往，非常热闹拥挤。题干文段想表达的是浙东运河仍然在运作，而不是说发展速度快、来往人多，排除 B、D 两项。

第二空，代入验证，功能齐全，与前文“失去原有功能”形成对应，凸显浙东运河功能完备，符合语境。

所以，正确选项是 C。

22. 人们刚开始在纸上绘画时，沿用的也是帛画的技法、图式和法度要求。经过一千多年的发展，纸画才逐渐形成与帛画 _____ 的唯有宣纸才有的水墨表现体系。至此，纸本画终于蜕变为一个独立的画种，更在宋元之后，日渐兴盛。而以重彩见长的帛画反而 _____，以致使世人产生了中国画等于纸本画的错误印象，甚至还因中国画色彩表现力不如西洋画而生愧色。
- A. 截然不同 日渐式微
B. 大同小异 江河日下
C. 大相径庭 不值一提
D. 背道而驰 力不从心

【答案】A。解析：

第一空，根据“纸本画终于蜕变为一个独立的画种”可知，空中所填成语表示纸画形成了与帛画完全不同的风格。“大同小异”是指大体相同，略有差异，与文意不符，排除 B 项。

第二空，根据前面的“反而”可知，空中所填词语与前文“日渐兴盛”形成反义对应，表示一种逐渐衰落的意思，A 项地“日渐式微”符合语境。

“不值一提”表示不值得提起，形容事情很轻微或者不重要；“力不从心”表示心里想做，可是力量够不上，均无法与“日渐兴盛”形成反义对应，排除 C、D 两项。

所以，正确选项是 A。

【成语拓展】

截然不同：形容两件事物毫无共同之处。

日渐式微：指事物逐渐地由兴盛而衰落。

江河日下：比喻情况一天天地坏下去。

大相径庭：比喻相差很远，大不相同。

背道而驰：比喻彼此的方向和目的完全相反。

23. 吴王城虽然年代久远，但今天还有不少 _____，在文化研究方面具有很高价值。因此，政府应科学制定吴王城长期保护整体规划，并进入法律保护程序，形成地方性文物保护法规，使文物保护工作有 _____ 和生命力。

A. 遗存 延续性

B. 记载 规范性

C. 痕迹 专业性

D. 文物 操作性

【答案】A。解析：

本题从第二空入手，“和”表示并列关系，填入的词应该与“生命力”相并列，且是“科学制定吴王城长期保护整体规划”产生的结果，体现文物保护工作长期持续进行，A项的“延续性”符合文意要求。第一空，代入验证，表示“吴王城”在今天留下的遗迹，“遗存”符合语境。

所以，正确选项是A。

24. 在社会中不同地位不同阶层的人的行为，对群众的影响是不同的，地位越高，影响越大，所以才会有“_____”的说法。

A. 人云亦云

B. 上行下效

C. 从善如流

D. 高山仰止

【答案】B。解析：

题干为因果结构，填入的成语与前文“地位越高，影响越大”形成对应，表示位置高低所带来的影响程度不同，地位越高说话越有影响。“上行下效”是指上面的人怎么做，下面的人就跟着怎么干，通常用在上下级的语境中，题干中对此处词语加了引号，表示特殊用法，喻指地位高的人对群众的影响大。

【成语拓展】

人云亦云：人家怎么说，自己也跟着怎么说。指没有主见，只会随声附和

从善如流：形容能迅速地接受别人的正确意见。

高山仰止：比喻对高尚的品德的仰慕。

25. 文物是历史留下的印记，是过去写给今天和未来的“书信”，也是人类存在于历史中的_____。历史文化古迹损毁的后果是任何人都担不起的，每一次随意破坏文物的行为，都应被视作对文明传承的挑衅。因为，那些留在历史中的足迹都是_____的，没有备份，也没有重来的可能。

A. 见证 唯一

B. 记录 珍贵

C. 痕迹 脆弱

D. 标志 模糊

【答案】A。解析：

本题从第二空入手，空格后面的“没有备份，也没有重来的可能”是对空中所填词语的解释说明，表示文物是独一无二的，故A项“唯一”符合文意。

所以，正确选项是A。

26. 19世纪批判现实主义文学最卓越的功绩之一就是揭露了资本主义社会人与人之间赤裸裸的金钱关系，而夏洛蒂·勃朗特则在这深入人心的主题上_____，大胆开辟了新的价值观领域，以简·爱对爱情的追求，描绘了不以金钱标价的婚姻，使读者耳目一新。但是作者毕竟无法_____金钱对个人幸福的决定作用，这就使简·爱陷入了自相矛盾之中，给读者留下诸多的思考。

A. 标新立异 回避

B. 别出心裁 动摇

C. 独树一帜 抵消

D. 与众不同 忽视

【答案】A。解析：

本题第二空入手，由文段可知，金钱对个人幸福起决定作用是一种客观事实，“抵消”与语境明显不符，排除C项。“动摇”与“作用”搭配不当，排除B项。

再看第一空，“大胆开辟了新的价值观领域”是对第一空中所填词语的解释说明，“标新立异”表示提出新的想法、观点和主张，与“开辟新的价值观领域”形成准确对应。“与众不同”仅强调不同，没有体现出提出新的观点和主张，排除D项。

所以，正确选项是A。

【成语积累】

别出心裁：指想出的办法与众不同；

独树一帜：比喻独特新奇，自成一家。

27. 印象主义画家莫奈致力于观察沐浴在光线中的自然景色，把握色彩的冷暖变化和相互作用，用看似_____实则准确的迅捷的手法，把_____的光色效果记录在画布上，留下各种瞬间的永恒图像。

A. 粗糙 转瞬即逝

B. 模糊 千变万化

C. 荒诞 五彩斑斓

D. 随意 变幻莫测

【答案】D。解析：

第一空，填入词语以“看似……实则准确”与“准确”构成反义并列，A项“粗糙”的反义词为“细腻”，B项“模糊”的反义词为“清晰”，C项“荒诞”的反义词为“合理”，均不符合要求，排除。

“准确”意为行动的结果完全符合实际或预期，可以与“随意”形成反义关系。

验证第二空，“变幻莫测”比喻事物变化迅速，无法预料，可以与“迅捷的手法”构成恰当的语境呼应。

所以，正确选项D。

【成语积累】

转瞬即逝：形容消失得很快；

千变万化：形容变化极多；

五彩斑斓：指多种颜色错杂而繁多耀眼。

28. 在现实生活中，“读什么信什么”的现象并不少见，这可能产生两种不同的后果：或者是被一种_____的观念俘虏，变成错误学说的信徒；或者由于自己没有主见，觉得书中讲的都有道理，观点一日三

变，特别是当书中的观点彼此矛盾时，更是_____。

A. 先入为主 无所适从

B. 口耳相传 手足无措

C. 模棱两可 莫衷一是

D. 深入人心 朝令夕改

【答案】A。解析：

第一空，文段通过“或者……或者……”表示并列，列举两种不同的情况，根据后面的“或者由于自己没有主见”可知，第一空中表示自己没有主见，由“变成错误学说的信徒”可知，这类读者被错误学说俘虏而深信不疑，C项的“模棱两可”表示没有明确的态度和主张，与文意相悖，排除。“口耳相传”指口说耳听地往下传授，文段只提到读书，没有提到“耳听”，因此排除B项。

第二空，空格表示面对“书中的观点彼此矛盾”后的反应，“无所适从”指不知听从哪一个好，符合语境，A项正确。“朝令夕改”指早晨发布的命令，晚上就改了，文段并不是说命令或办法，排除D项。

所以，正确选项是A。

【成语积累】

先入为主：指先听进去的话或先获得的印象往往在头脑中占有主导地位，以后再遇到不同的意见时，就不容易接受；

口耳相传：口说耳听地往下传授；

深入人心：指理论、学说、政策等为人们深切了解和信服。

29. 知识产权教育是国家知识产权战略的基点，高校和大学生是国家知识产权战略的重要参与者和实践者，知识产权素质应该是大学生必备的素质。他们或许_____改变社会整体知识产权意识淡薄的问题，但可以先改变自己，_____，给社会树立尊重知识产权的_____。

A. 无力 洁身自好 典范

B. 无法 标新立异 形象

C. 无意 洗心革面 标兵

D. 无心 严于律己 楷模

【答案】A。解析：

第一空，根据后文“先改变自己”这一行动，可知第一空中表示没有力量或办法改变整个社会，并非“无意”或者“无心”，排除C项和D项。

第二空，根据前文“社会整体知识产权意识淡薄”可知，空格表示从自身做起，树立保护产权的意识，不侵犯他人的产权，“洁身自好”表示保持自己纯洁，不同流合污，符合语义语境，A项正确。B项“标新立异”指提出新奇的主张，表示与众不同，文段没有体现创新的含义，不符合语境，排除B项。

所以，正确选项是A。

【成语积累】

洗心革面：清除旧思想，改变旧面貌，比喻彻底悔改；

严于律己：严格地约束自己。

30. 阅读是人类自有文字以来的一种美好体验。可是，人类与书本深度接触且甘之如饴的情景似已_____。随着WiFi信号以一种_____的态势席卷生活的每一个角落，随着电脑的便携化和手机的智能化，阅读变得无比便捷，丰富和多元，电子化阅读似乎已将从前那种_____的阅读方式挤兑得“无地自容”。

A. 一去不返 无所不在 目不窥园

B. 渐行渐远 铺天盖地 手不释卷

C. 烟消云散 无孔不入 皓首穷经

D. 恍如隔世 潜移默化 苦心孤诣

【答案】B。解析：

第一空，与“情景”搭配，“烟消云散”比喻事物消失得干干净净，与“情景”不能搭配，排除；

第二空，D项“潜移默化”指人的思想或性格不知不觉受到感染、影响而发生了变化，是一个长期的过程，与文中“……的态势席卷”不符，排除D项。

第三空，空中表示从前的阅读方式，即书本阅读，对应“手不释卷”是固定搭配。A项“目不窥园”形容专心致志，埋头苦读，指的是读书的境界，不能形容“阅读的方式”，排除。

所以，正确选项是B。

【成语积累】

一去不返：比喻事情已成为过去，再不能重现；

无所不在：到处都存在，到处都有；

渐行渐远：慢慢地走，慢慢得远；

铺天盖地：形容来势猛，声势大，到处都是；

手不释卷：书本不离手；

无孔不入：比喻不放过任何一个机会；

皓首穷经：一直到老头白之时还在深入钻研经书和古籍；

苦心孤诣：苦心钻研，到了别人所达不到的地步。

31. 只要微观主体都具有创新活力，国家就能迸发出巨大的创新活力。_____对大部分创业创新者来说，与杰出科学家与知名企业家相比，他们的创业创新成果微不足道。_____，这些看上去微小的成果，组合在一起能够发挥强大的“长尾效应”。_____，对微观主体来说，只要有心，创新不需要付出太大的成本。在平时工作中注重改进方法，在经验积累的基础上做出改变，就能够让创新成为一种习惯。

- A. 因为 所以 但是
B. 也许 当然 因为
C. 可能 然而 更何况
D. 但是 虽然 当然

【答案】C。解析：

第二空，空的前面说“大部分创业者创业创新成果“微不足道”，空的后面说“这些成果能够发挥“强大的长尾效应”，前后之间存在明显的转折，因此，第二空可填写C项中的转折词“然而”。

所以，正确选项是C。

32. 有人说刘慈欣仅凭一己之力，就使中国的科幻小说_____于世界先进水平之列。这对于作家本人来说，_____是崇高的盛誉，但若从另一方面解读，其中何尝不隐含着十分的无奈。刘慈欣和《三体》的一花独放、单峰耸峙_____出的是科幻小说界的整体低迷。就整体而言，无论是科幻小说的创作、出版、阅读和传播还是改编拍摄成影视作品等_____艺术形式，中国跟世界先进水平都存在着巨大的差距。

- A. 跃居 虽然 衬托 延伸
B. 跻身 固然 反衬 衍生
C. 跻身 当然 反映 派生
D. 踏入 固然 烘托 多种

【答案】B。解析：

第一空，“跻身于……之列”是固定搭配。因此排除A、D两项。

第二空的后面，先是承认“盛誉”，接着转折说“但……无奈”，B项中的“固然”就是承认某个事实，然后引起下文转折的关联词，符合语境。因此排除C项。

所以，正确选项是B。

33. 依次填入横线处的最恰当词语是：

(1) 秋是代表成熟，对于春天之_____娇艳，夏日之茂密浓深，都是过来人，不足为奇了，所以其色淡，叶多黄，有古色苍茏之慨，不单以葱翠争荣了。

(2) _____，在利益多元、观念多样的时代，每个人都会有自己的打算、个性的选择。但如果人人只顾自己的“一亩三分地”，留下的只会是一片冷漠荒原。

(3) 20国集团，又称G20，旨在推动已工业化的发达国家和新兴市场国家之间就实质性问题进行开发及有建设性的讨论和研究，以_____合作并促进国际金融稳定和经济的持续增长。

- A. 明艳 总而言之 寻觅
B. 明丽 推己及人 谋求
C. 明媚 不可否认 寻求
D. 明朗 毋庸置疑 谋取

【答案】C。解析：

第一空，“明艳”与“娇艳”语义重复，“明朗”可以形容天气，但是不能用来形容季节，因此排除A、D两项。

第二空，根据“但如果人人只顾自己的‘一亩三分地’”可知，前面的句子应是在肯定“每个人都会有自己的打算”存在的普遍性及合理性，选C项中的“不可否认”更符合文意。因此排除B项。

所以，正确选项是C。

34. 丰子恺的散文_____，用著名学者赵景深的话说，“文字的干净流利和漂亮，怕只有朱自清可以和他媲美”。于是，令人_____的绘画原理，在丰子恺的笔下也显得_____起来。印象派为什么要在户外写生？色彩跟光的反射有什么关联？艺术家是如何观看一张椅子的？……丰子恺逐一_____，辅以直观的彩图，让读者悠然掌握绘画妙理，更好地与美相遇。

- A. 妙笔生花 聱牙佶屈 朴实无华 循循善诱 B. 脍炙人口 望而生畏 平易近人 娓娓道来
C. 行云流水 枯燥无味 绘声绘色 滔滔不绝 D. 栩栩如生 望而却步 生动活泼 侃侃而谈

【答案】B。解析：

第一空，“栩栩如生”形容艺术形象生动逼真，不能用来形容散文，因此排除D项。

第二空，根据“令人_____的绘画原理”，“聱牙佶屈”是指文章不通顺，与语境不符，因此排除A项。

第四空，与后面的“让读者悠然掌握绘画妙理，更好地与美相遇”相呼应，所填词语必须有褒义。B项中的“娓娓道来”有说话动听之意，含褒义，与语境搭配恰当。“滔滔不绝”缺少褒义色彩，排除C项。

所以，正确选项是B。

35. 古人早有“腹有诗书气自华”的_____，更直言过“士大夫三日不读书，则义理不交于胸中，对镜觉面目可憎，向人亦语言无味”。足见，读书对人心善良与审美韵味的_____价值。而且，不同的人生阶段赋予人不同的读书境界，这就更使人_____一生与书为伴。清人张潮就写过：“少年读书，如隙中窥月；中年读书，如庭中望月；老年读书，如台上玩月，皆以阅历之浅深，为所得之浅深耳。”人生历练助读书得真意，而读书本身_____不是借他人之笔丰富自我的人生。

- A. 感慨 培养 须 未尝 B. 叹息 培育 需 如何
C. 感叹 塑造 需 怎么 D. 喟叹 养成 须 何尝

【答案】D。解析：

文段围绕“读书”对于人自身的重要作用展开论述。

第一空，填入的词用来表述古人对“读书”观点与看法。“叹息”表达的是一种后悔与无奈，与文意明显不符，因此排除B项。

第二空，填入的词表示“读书”对于人心善良与审美韵味的重要价值。“培养”是按照一定目的进行的长期教育和训练。文段中的“读书”是人的主动行为，不是被培养。明显搭配不当，因此排除A项。

第三空，“需”表示“需要”，“须”表示“必须”，感情色彩明显不同。文段意在强调读书的重要作用，因此人生“必须”以书为伴，凸显“读书”的重要性。因此排除C项。

故正确答案为D。

36. 月球之所以能对地球自转轴起到重要影响，是因为它异乎寻常地大——事实上，它是太阳系卫星之中最大的。不仅如此，按照目前最流行的观点，月球乃是起源于地球演化早期——约45亿年前——的一次超级碰撞，碰撞的双方一方是正在成长中的原地球，另一方是一个差不多火星那么大的超级“陨石”。

这段文字中有三处破折号，它们的作用是：

- A. 前一个破折号是表示转折式说明，后两个破折号是引出下文
B. 前一个破折号是表示强调，后两个破折号是引出下文
C. 前一个破折号是插入例子，后两个破折号是表示插入补充说明
D. 前一个破折号是表示递进式说明，后两个破折号是表示插入补充说明

【答案】D。解析：

第一个破折号，前后内容都是说月球之大，作用是递进式说明。

第二个破折号，后面的“约 45 万亿年前”是对前面的“地球演化早期”的进一步补充说明。所以，正确选项是 D。

37. 中国文化产品走出国门，要善于运用世界能理解接受的方式和话语，更要不断揣摩并捕捉时代焦点，这样才能传得开、走得远。_____。从农耕时代与人类和谐共处之美，到工业化社会受到生存威胁濒临灭绝，成为博物馆中标本的切肤之痛，再到因人类悉心呵护而重生的喜悦，舞剧《朱鹮》将人类对于环境的忧思与关切，细密编织于演员们优美的舞姿之中，让中外观众都能在此找到共鸣。如在上文划线处添加句子，最恰当的是：
- A. 而舞剧《朱鹮》的成功，恰好是最佳的例证
B. 如果说舞剧《朱鹮》的成功有诸多因素，那真正为演出成功奠定基石的就是题材
C. 舞剧《朱鹮》成为了“真正的文化使者”
D. 而舞剧《朱鹮》的编剧尚未深刻地认识到这一点

【答案】A。解析：

阅读可知，空格后面列举了舞剧《朱鹮》这个例子。本着承上启下的原则，为了引导出后面的例子，添加 A 项句子“而舞剧《朱鹮》的成功，恰好是最佳的例证”，最为恰当。

所以，正确选项是 A。

38. 子路问老师：什么样的人算是君子？孔子说“修己以敬”。子路意犹未尽，追问道：“如斯而已乎？”孔子回答道：“修己以安人。”子路仍心有不甘，继续追问道：“如斯而已乎？”孔子答：“修己以安百姓”，接着又补充说，修己以安百姓，这是尧、舜大概还难以做到的啊！从这个“修身之答”中，我们可以看到修身要达到的三方面要求和目标，即“以敬”、“以安人”、“以安百姓”，这是值得今天的领导干部认真学习和体会的。
- 对上面语段概括最准确的是：
- A. 说明了孔子诲人不倦，值得学习
B. 阐释了孔子“修身之答”及其现实意义
C. 说明了孔子所谓修身的要求和目标
D. 介绍了著名的师生“修身之答”

【答案】B。解析：

概括主旨题。并列结构。

前半段，阐释了孔子的“修身之答”，后半段，说明了修身要达到的三方面要求和目标对今天的领导干部的重要意义。概括地说就是：阐释了孔子“修身之答”及其现实意义。

所以，正确选项是 B。

39. 写作事实上不但是为了向外发表，贡献社会，同时也是研究工作的最后阶段，而且是最重要、最严肃的阶段。不形成文章，根本就没有完成研究工作，学问也没有成熟。常有人说“某人学问极好，可惜不写作”，事实上，此话大有问题。某人可能学识丰富，也有见解，但不写作为文，他的学问就只停留在简单看法的阶段，没有经过严肃的思考与整理，就不可能真正是系统的。
- 这段文字主要强调了：
- A 论文写作的重要性
B 科学研究的首要目的
C 研究工作的评价标准
D 知识与实践的内在联系

【答案】A。解析：

关键词：写作。只有 A 项符合要求。

所以，正确选项是 A。

40. 文风之“简”，主要表现在三个方面：一是_____。华丽的语言常常被用来掩饰思想的贫乏。二是_____。“真传一句话，假传万卷书”。三是_____。“随风潜入夜，润物细无声。”对于

领导干部来说，在文风上是不是注重、能不能做到“简”，意义更为重大，它直接关系到能不能做好群众工作和能不能有效实施领导。

将以下三句分别填入上文的划线部分，最恰当的的顺序是

①简单生动，就是用形象的语言说明抽象的道理

②简朴深刻，就是用朴实的语言表达深刻的道理

③言简意赅，就是用简明的语言阐述完备的思想

A. ②③①

B. ②①③

C. ③①②

D. ①③②

【答案】A。解析：

第一空，与“华丽的语言、思想的贫乏”相反，填入“简朴深刻”最恰当；

第二空，与“真传一句话”相应，填入“言简意赅”最恰当；

第三空，与“润物细无声”相应，填入“简单生动”最恰当。

所以，正确选项是A。

41. 中国正掀起3D打印投资热。面对3D打印的广阔前景，各地纷纷兴建3D打印产业园，并出台各项优惠政策等。但发展3D打印新兴技术，凭借热情是不够的，3D打印产业链中，关键技术、材料、软件的制约有待突破，3D打印技术现在还处在初级阶段，如果企业和资本大量涌入，短时间内不能产生效益。

这段文字意在说明：

A. 3D打印的应用范围有待充分挖掘

B. 3D打印技术的发展遭遇瓶颈

C. 应出台政策鼓励3D打印技术的发展

D. 资金不宜盲目涌入3D打印领域

【答案】D。解析：

推断文意。问题对策结构。

文段先描写3D打印的火热现状，接着通过转折词“但”提出问题：3D打印在“关键技术、材料、软件”方面都有待突破。面对问题怎么办，题干最后给出了对策：如果企业和资本大量涌入，短时间内不能产生效益。意在强调D项：资金不宜盲目涌入3D打印领域。

本题B项容易误选。文段仅仅说3D打印技术在一些方面有待突破，但并未说遭遇瓶颈。所谓“瓶颈”，是指事业发展中遇到的停滞不前的状态。题干显然没有说3D打印技术停滞不前，而是现在还处在初级阶段。排除B项。

42. 垄断竞争理论认为，企业可以通过迎合消费者品味上的差异，在某种程度上降低竞争对企业所造成的影响。差异策略使其他企业的产品不能完美地替代本企业的产品。形成差异是要花钱的，使用差异策略的企业要提高产品价格来弥补其较高的生产成本。然而，即使采用差异策略的成本较高，处于寡头垄断市场中的企业，仍然可以通过提高产品的价格来赚取高额利润。

对这段文字的主旨概括最准确的是：

A. 垄断竞争会对企业有很大影响

B. 企业通过提高价格来弥补生产成本

C. 垄断企业可通过差异策略获得利润

D. 差异策略难以提高企业竞争力

【答案】C。解析：

概括主旨。转折结构。

文段先说明垄断竞争理论的观点是差异策略，“然而”之后提出重点，即垄断企业仍能通过提高产品价格赚取利润。

所以，正确选项是C。

43. 网络语言，尤其是当下流行的一些新潮网络语言，对汉语的发展是促进还是阻碍，是汉语文化的精华还是糟粕，得让其在不断的冲突中接受时间和实践的检验。而为了保护汉语，保证其固有的纯洁

性而一味地摒弃打压某些带有消极影响的网络语言，甚至制定相关规定性条文条款来限制网络语言的发展，有时非但不能抑制，反而会起到相反的作用。

这段文字意在说明：

- A. 网络语言的发展不宜通过行政手段干预
- B. 汉语的传承离不开网络语言的不断创新
- C. 网络语言的生命力需要依靠时间来检验
- D. 新生的网络语言可能影响汉语的纯洁性

【答案】A。解析：

推断文意。转折结构。

文段开篇提出网络语言对汉语发展的作用需要在冲突中接受时间和实践的检验，接着用“而”转折指出：为保护汉语一味打压，甚至用政策手段来干预，会起到相反的效果。意在强调：保护汉语，对网络语言不宜通过行政手段干预。

所以，正确选项是 A。

44. 从社会发展史的角度看，自由与平等是人类向往与追求的两大基本价值，而媒介发展的过程也是人们追求传播自由与平等的过程。不同媒介间的竞争，实质上就是在满足人的这两种内在需求方面的能力竞争。随着新媒体的发展，对自由与平等的追求作为一种新的传播理念，已越来越清晰地呈现在人们面前，以高度人性化的方式满足受众需求也正在成为媒介之间竞争的核心内容。

对这段文字的主旨概括最准确的是：

- A. 人类的发展需求影响着媒介的传播理念
- B. 新媒体的发展改变了媒介竞争的主要方式
- C. 媒体的发展满足了人类沟通交流的基本需求
- D. 媒介竞争的核心是满足人类对基本价值的追求

【答案】D。解析：

概括主旨。因果结构。关键词：媒体竞争、核心内容。

文段从自由与平等这两大人类追求的基本价值切入论述。最后用一个因果关系句式说：随着新媒体的发展，对自由与平等的追求……成为媒介之间竞争的核心内容。

所以，正确选项是 D。

45. 机会分配不仅能对收入分配结果产生重要影响，而且会直接影响到社会的经济发展效率。在不公正的机会分配下，一些人会因为某些特殊原因而获得发展机会，但这些获得机会的人很可能缺乏利用发展机会从事社会劳动和创造的能力，这必然导致他们所从事的劳动或经营项目的生产效率在下降，进而影响到整个社会的经济发展效率。让真正有才华的人获得机会，把合适的人放在适合的岗位上，是经济体系健康运行的基础。只有实现机会平等，才能最大限度地激发社会活力和人的积极性、主动性、创造性，提高社会劳动生产率和生产力发展水平。

这段文字意在说明：

- A. 收入分配的差距主要由机会分配不平等造成
- B. 经济体系健康运行的标志是公平的机会分配
- C. 公平的机会分配有助于提高社会经济发展效率
- D. 机会分配是维护社会公平正义不可或缺的内容

【答案】C。解析：

推断文意。问题对策结构。

文段开头提出问题：机会分配直接影响社会的经济发展效率，最后用“只有……才……”句式提出对策：只有实现机会平等，才能……提高社会劳动生产率和生产力发展水平。意在强调：公平的机会分配有助于提高社会经济发展效率。

所以，正确选项是 C。

46. 如果可以,机器人甚至能挽救你的生命。以自动驾驶汽车为例,美国近年来年均车祸致死量高达 13000 人,自动驾驶汽车至少能够降低因醉酒和走神导致的车祸数量。然而大部分美国人声称,乘坐自动驾驶的交通工具会让他们感觉不适。若此类想法得不到改变,科技的发展必然受阻。事实上,在很多领域机器人都可以替代人工以提高安全系数。令人讽刺的是,在一个至关重要的方面机器人却束手无策:_____。

填入划横线部分最恰当的一句是:

- A. 人类对机器人仍缺乏信任
- B. 人类在社会中仍居主导地位
- C. 人类还不能制造出超过人类本身智慧的机器
- D. 机器人还未寻找到更接近人类智能的进化路径

【答案】A。解析:

推断文意。转折结构。

横线空格在文段的末尾,空格前的冒号,表明需要填充的内容是作者通过前面的论述得出的结论。

文段通过转折词“然而”指出:大部分美国人声称,乘坐自动驾驶的交通工具会让他们感觉不适。意在强调:机器人遇到的困难不是机器人自身不安全,而是因为人们对机器人感到不适,即心理上并未接受,对机器人缺乏信任。这是至关重要的方面。

所以,正确选项是 A。

47. 现代媒介生态表现出一种“微”特质,碎片化的信息通过社交网络等链状系统被连接与组合起来。媒体要想生存,就要在一个个“微链”中把握传播机会,创造可能的舆论热点。因此,现代的媒体,除了要竞争信息的“独到解释权”外,还要在纷繁的“微链”世界中排兵布阵,成为一个个关键节点的组织者与传播者;报道组织形式不再是先前的“一刀切”,而是在无数个中心节点上进行“疏通”与“引导”。特别是在突发事件中,这种新型舆论引导方式的特点更加凸显。

在这段文字中,作者强调现代媒体更需要具备的能力是:

- A. 构建独有的链状传播系统
- B. 在关键节点进行舆论引导
- C. 密切关注社交网络信息动向
- D. 争取信息的“独到解释权”

【答案】B。解析:

推断文意。因果结构。

题干说:因此,现代的媒体,除了……不再是……而是在无数个中心节点上进行“疏通”与“引导”。特别是在突发事件中,这种新型舆论引导方式的特点更加凸显。

所以,正确选项是 B。

48. 中国传统文化蕴含着丰富的生态文明思想。古代中国是一个农业大国,以农为立国之本。_____。

因此,“究天人之际”的问题成了中国哲学的基本问题,而“天人合一论”则成为中国哲学的基本理念。

填入划横线部分最恰当的一句是:

- A. 农事活动仰仗于天,与自然联系密切
- B. 中国传统价值观的形成是一个漫长的过程
- C. 民以食为天,农业在古代中国的地位不言而喻
- D. 保持生态系统的平衡,在中国哲学中得到了充分的体现

【答案】A。解析:

推断文意。

横线空格在文段的中间，起承上启下的作用。横线空格的前面提到：中国重视农业，后面提到：天人合一论。“天”代表自然，因此横线空格的内容应该是强调农业与“天”即自然的关系，正确选项是A。

B项和D项均未提到“农业”，排除。C项仅强调农业的重要性，没有体现农业和自然的关系，排除。所以，正确选项是A。

49. 以往在讨论国人不文明出游现象的时候，往往将原因归结为国民素质没跟上经济发展的步伐。至于对策，除了强烈的舆论谴责，就是建议重罚。虽然说这样的原因分析和对策建议并非全无道理，但我们却忽视了一个事实，那就是很少有游客真的想当不文明的典型，更没有人想故意去给国家和民族形象抹黑。无论是政府部门，还是旅行社，对文明旅游方面的宣传和提醒基本为“零”，多数游客是无心而为。

根据这段文字，接下来会说明：

- A. 外界对国人形成不文明出游的印象可能存在误解
- B. 国人能否养成文明出游的习惯与整体国民素质高低有关
- C. 对不文明旅游行为的谴责和重罚带来的效果只是一时的
- D. 培养国人文明旅游的意识需要加大宣传教育和引导

【答案】D。解析：

本题属于“推断文意型”。要求考生根据题干资料，推测“接下来最可能说明什么”。

文段开头提到以往的讨论，接下来通过转折词“但”指出我们忽视的事实：没有人想故意去给国家和民族形象抹黑。然后分析问题的原因：无论是政府部门，还是旅行社，对文明旅游方面的宣传和提醒基本为“零”。意在强调：对国人文明旅游的意识缺乏宣传教育和引导。

因此，按照承上启下的原则，接下来最可能讲述的应该是如何提高国民文明旅游素质的对策：加强对国人文明旅游意识的宣传教育和引导。

所以，正确选项是D。

50. 从最先的余额宝，到后来的P2P，再到各类众筹模式，不得不承认互联网金融在改变着传统行业，更在颠覆着人们的生活。以众筹为例，它不单让普通民众多了一种参与并获取超额回报的渠道，同时也使怀揣梦想的年轻人有了低成本实现梦想的可能。

文章接下来最可能阐述的是：

- A. 互联网金融行业的发展过程
- B. 互联网如何改变人们的投资理念
- C. 众筹模式与其他模式的不同
- D. 众筹如何帮助投资者实现收益

【答案】D。解析：

本题属于“推断文意型”。要求考生根据题干资料，推测“接下来最可能说明什么”。

阅读可知，文段尾句谈论的是“众筹”这一话题，指出众筹能让投资者获取超额回报，可能用低成本实现梦想。按照承上启下的原则，接下来最可能讲述的是：众筹模式如何帮投资者获得回报、实现收益。正确选项是D。

A项和B项未提到“众筹”，排除。C项所说“众筹模式与其他模式的不同”，题干没有涉及，属于无中生有，排除。

所以，正确选项是D。

51. 如果仅从文物价值来看，纸质版的古籍文献的确不适宜大规模地向读者开放，否则，因为频繁翻阅以及由此带来的细菌侵入，必定会在很大程度上影响它们的保存。但如果从史料价值来看，它却本应该向社会开放，因为只有这样，古籍的文献价值才能得到充分实现，学术研究也才可能取得长足的进步。

这段文字重在说明古籍文献：

- A. 需要民众参与研究
- B. 保护技术有待提高
- C. 是否开放是一个难题
- D. 文物属性更应受到重视

【答案】C。解析：

推断文意。文段先从文物价值角度，说纸质版古籍不大适宜大规模向读者开放，接着用“但”表示转折，引出从史料价值角度来看，纸质版古籍只有向社会开放才能实现价值促进学术研究。

综合来看，作者的态度是：古籍文献对社会开放或者不开放各有道理，即：是否开放是一道难题。因此C项正确。

A项的“需要民众参与研究”，B项的“保护技术”，D项的“文物属性应受到重视”，在文段中均没有提及，属于无中生有，均排除。

所以，正确选项是C。

52. ①“道”在何方？它绝对不是佛祖在菩提树下的苦思冥想，也绝不是闭门造车
②学习者一旦进入一定的境界，就会发现学习的无非是顶层设计
③儒家所说的“天人合一”，一定是接触到社会的方方面面后社会属性成熟到极致的状态
④这必定是通过社交型学习来实现的
⑤一个人如果远离社交，那么他不是狼孩，便是梵高
⑥学会了千变万化的技法，最终求的是一个“道”

将以上6个句子重新排列，语序正确的是：

- A. ①⑥④②③⑤
- B. ②⑥①⑤③④
- C. ③⑤④②⑥①
- D. ⑤③②⑥①④

【答案】B。解析：

对比选项，首句不好判断。

观察6个句子寻找共同信息，⑥句中提到了最终求的是“道”，①句中详细阐述“道”在何方，怎么追求，根据“道”这个共同信息进行捆绑，⑥①两句必须相连，据此可以排除A项。

④句以“这”开头，分析可知，“这”指代的内容并非⑤句、①句的内容，而是③句内容，因此③①两句必须相连。据此排除C项和D项。

所以，正确选项是B。

53. ①戏曲只有以观众的需求为努力方向，依靠戏曲艺术的魅力才能获得市场竞争力
②我们应该鼓励戏曲的方言版和普通话版进行竞争
③语言改革是京剧和昆曲成为全国性剧种的关键因素
④地方戏要扩大影响，语言上必须做出牺牲
⑤地方戏走向衰亡，方言造成的理解障碍导致地方戏传播范围受限是不可忽略的因素
⑥地方戏的特色体现在音乐、舞蹈、服装、化妆、绝活、剧情等多个方面，方言并不是唯一特色

将以上6个句子重新排列，语序正确的是：

- A. ②⑤③⑥①④
- B. ⑤⑥③④②①
- C. ①⑥④②③⑤
- D. ③④⑥⑤①②

【答案】B。解析：

通读句子可知，②句指出“我们应该鼓励戏曲的方言版和普通话版进行竞争”，属于通过“应该”提出对策。①句通过“只有……才”对如何获得市场竞争力的对策进行进一步的阐述。根据共同信息和逻辑顺序可知，①句和②句必须捆绑，且①在②之后。只有B项符合要求。

所以，正确选项是B。

54. ①明末试图实践西法建筑城的仅是个别具有西学背景的地方豪绅，尚处于实验性起步阶段
②与欧洲的情况不同，西式火炮在明军方面主要是一种守城武器
③西炮在明清战争中扮演了极为重要的角色，相比之下，西洋建筑术在明末很少得到实际应用，对战局影响甚微
④改造防御工事的需求，主要源于增强守城火炮效力，而非抵御炮击
⑤西洋火炮与筑城术，几乎同时转入中国，效果却大相径庭
⑥然而，明朝的迅速败亡，终结了推广新型防御工事的可能，西洋筑城法也失去了在实战中充分证明其有效性的机会

将以上 6 个句子重新排列，语序正确的是：

- A. ③②①⑤④⑥
B. ①⑤⑥②④③
C. ⑤③②④①⑥
D. ④①⑥②⑤③

【答案】C。解析：

阅读可知，⑤句提出西洋炮火与筑城术传入中国且效果大相径庭的话题，③句是对⑤的解释说明，故可判定⑤在③前，①和④句均是对筑城术和火炮的具体阐述，故都应放在⑤之后，因此可以断定⑤为首句，确定答案为 C 项。

所以，正确选项是 C。

55. ①但实证是手段而不是目的，史学的真正使命是探索社会变迁的内在逻辑与规律，为文明的提升提供借鉴与参考
②清儒章学诚强调“言性命者必究于史”，反对离事而言理。体现了史学在真理探索中的重要作用
③史学是一门科学，其最显著的学术特点是实证
④力图通过对社会关系、社会形态的反思，通过对人和自然关系的反思，总结出有普遍意义的历史结论
⑤真正的史学家从来都将认识人类的命运作为自己全部学术活动的出发点
⑥事实上，高层次的史学活动从来都是思辨性的，充满了理性的睿智

将以上 6 个句子重新排列，语序正确的是：

- A. ②⑥①③⑤④
B. ②⑤④⑥③①
C. ③④②⑥①⑤
D. ③①⑤④②⑥

【答案】D。解析：

从选项入手，对比首句可知，③句指出史学是一门科学，其最显著的学术特点是“实证”，②句是对史学“实证”特点的具体解释，因此③必为首句，排除 A、B 项。

①句以“但”作转折指出“实证是手段而不是目的……”，讲述的依然是“实证”这一话题，因此③①必须捆绑，据此排除 C 项。

所以，正确选项是 D。

56. 数字化革命最伟大的成果之一就是采用了多利益方共同管理体系，而非基于国家的机构来管理重要的全球资源。互联网本身就属于这种重要管理体系。它的组成、运营和管理是由一个曾经不敢想象的群体完成的。这个群体包括个人、社会组织、公司和地方政府。然而，没有一个单独的政府、国家、垄断公司，或者政府掌握的机构能够控制整个互联网。

这段话主要说的是：

- A. 互联网和政府的关系
B. 互联网的管理特征
C. 互联网的经济模型
D. 数字化革命的成果

【答案】B。解析：

推断文意。关键词：管理。

文段首先介绍数字化革命最伟大的成果，引出管理的概念，接着重点介绍互联网的管理体系，并通过“然而”转折后强调没有一个单独的政府、国家、垄断公司，或者政府掌握的机构能够控制整个互联网。因此，主要是介绍互联网的管理特征，对应正确选项为 B 项。

A 项，“政府”只是与互联网有关的其中一个主体，概括不全面，排除。

C 项，“经济模型”无中生有，排除。D 项，“数字化革命”是引入话题的引言，不是文段论述的重点，排除。

所以，正确选项是 B。

57. 人们一直认为上海是个年轻的城市，但自从 1950 年代崧泽遗址发现以来，约半个多世纪总计 5 次的考古发掘，早已将上海起源的历史推至约 6000 年前。据了解，崧泽遗址不但是上海的发源地，还是中国文明起源的见证地之一。人们已有充分考古证据证明崧泽遗址中发现的距今 5500 年前的崧泽文化，已经进入到中国文明的起源时期。换句话说，远古上海也是中华文明最早的起源地之一，_____。

填入划横线部分最恰当的一句是：

- A. 考古发掘揭开了上海发展史的面纱
- B. 上海的发展在历史上曾经出现过断层
- C. 为中国早期文明做出过突出贡献
- D. 崧泽遗址在中华文明史上起着举足轻重的作用

【答案】C。解析：

推断文意。横线空格在句子的末尾，根据“换句话说”可知，尾句起到对前文的总结作用。

前文通过崧泽遗址发现：上海在远古时期已经存在，是中国早期文明不可缺少的一环，是中国文明起源的见证地之一，即：上海为中国早期文明做出过突出贡献，对应 C 项正确。

A 项，文段只是通过崧泽遗址证明了上海具有远古的历史，而非强调上海自身的“发展史”排除。

B 项，“上海历史出现过断层”在文段中没有提及，属无中生有的表述，排除。

D 项，尾句的主语为“远古上海”而非“崧泽遗址”，主语不一致，排除。

所以，正确选项是 C。

58. 科学家们之所以对 67P/楚留莫夫-格拉希门克彗星有强烈的兴趣，是因为根据此前在地球上对它的分析，再结合乔托航空飞行器发回的报告，发现这颗彗星很可能有大量的冰块，并且含有碳、氢、氧、氮等元素。在这颗彗星的表面很可能有复杂的有机分子，而这很可能就是构成早期生命的基础。这颗彗星形成的时间也有可能比地球形成的时间还要早。因此，对于该彗星的详尽研究_____。

填入划横线部分最恰当的一句是：

- A. 启发人们猜测地球生命是否来自彗星
- B. 帮助人们探索地球上生命的起源
- C. 有助于人们最终发现太阳系的形成原因
- D. 可以推动先进飞行器在彗星研究中的应用

【答案】A。解析：

推断文意。横线空格在句子的末尾，根据其前面的“因此”可知，空格中需填入对文段具有结论性内容的句子。

文段说明，通过对彗星的研究发现，这颗彗星表面的分子很可能是构成早期生命的基础，且形成时间可能比地球还早。故可知文段是在探讨地球生命与彗星的关系，对应 A 项为正确选项。

B 项，缺少关键词“彗星”，排除。

C 项，“太阳系的形成原因”题干没有涉及，属于无中生有，排除。

D 项，“先进飞行器”的应用不是题干议论的话题，与文段衔接不当，排除。

所以，正确选项是 A。

59. 近年来,我国商业无人机逐渐现身于测绘、军警、农业、应急救援等专业领域,但这些专业级市场需求未能快速增长,背后存在着产业水平和体制机制束缚。比如我国现代农业水平不高,无人机在农业作业推广方面进展不快。农业经营主体由于对无人机不了解,或者投资意愿不强、资金来源没保证,使这种潜在的市场需求无法转化为交易。同时,操作人才缺乏也制约了无人机在农业市场的推广。无人机农业作业要达到最佳喷药效果,这对于飞机控制的要求很高,一般农户很难掌握。要克服这些障碍,仅靠企业自身力量并不容易。

这段文字意在强调我国:

- A. 企业开拓无人机市场的能力和速度都有待提高
- B. 目前的经济水平不适合大规模推广无人机技术
- C. 专业技术人员缺乏限制了无人机在农业中的推广
- D. 商业无人机因多种原因未能在专业级市场充分发展

【答案】D。解析:

推断文意。转折结构。关键词:我国商业无人机、专业级市场。

文段通过“但”进行转折,说明我国商业无人机需求无法快速增长,是因为存在着产业水平和体制机制束缚。然后,举例说明了无人机难以发展的多种原因。D项的“多种原因”表述最为恰当,是正确选项。

A项,企业的“能力与速度都有待提高”,根据文段中“仅靠企业自身力量并不容易”可知,企业自身的原因并不是强调的重点,排除A项。

B项的“经济水平”、C项的“专业技术人员”,都仅仅是原因的一个方面,表述片面,排除。所以,正确选项是D。

60. 设计师让新的梦想世界有了创建的可能,在这个世界中,商品被视为唾手可得的魔法物品,而不是工厂生产出来的产品。也正是这些设计师们,赋予这些商品流线造型的一体化塑料外壳,将它们各不相同、不规整的零部件隐藏了起来。无数技术复杂的产品被强烈统一的视觉特征转化为艺术品,产品的操作流程也全都被掩盖了,成为一种具有鲜明个性的产品。由于利用模塑制造成型,塑料产品往往呈曲线形态,殊不知竟然因此助长了流线型风格的热潮,并使之成为了现代时尚的同义词。这段文字意在说明:

- A. 设计师利用塑料使产品成为艺术品
- B. 时尚和工业化共同催生塑料产品
- C. 产品实用性与审美性应有机结合
- D. 工业化产品需靠设计获得生命力

【答案】A。解析:

推断文意。关键词:设计师、塑料。只有A项符合要求。

所以,正确选项是A。

第三部分 数量关系

(共15题,参考时限15分钟)

在这部分试题中,每道题呈现一段表述数字关系的文字,要求你迅速、准确地计算出答案。

61. 三个工程队完成一项工程,每天两队工作、一队轮休,最后耗时13天整完成了这项工程。问如果不轮休,三个工程队一起工作,将在第几天内完成这项工程?
A. 6天 B. 7天 C. 8天 D. 9天

【答案】D。解析:

作答本题可以采用“特殊赋值法”。

题干对三个工程队的工作效率并未行任何要求,则他们的效率应该是一样的。

设三个施工队的工作效率都是1。根据“每天两队工作、一队轮休,最后耗时13天整完成了这项工程”,可知这项工程的总任务量为: $1 \times 2 \times 13 = 26$ 。

如果不轮休，三个工程队一起工作，每天的总工作效率为3，则完成工程的时间为： $26 \div 8 \approx 9$ 。
所以，正确选项是D。

62. 甲仓库有100吨的货物要运送到乙仓库，装载或者卸载每吨货物需要耗时6分钟，货车到达乙仓库后，需要花15分钟进行称重，而汽车每次往返需要2小时。问使用一辆载重15吨的货车可以比载重12吨的货车少用多少时间？
A. 3小时20分钟 B. 3小时40分钟 C. 4小时 D. 4小时30分钟

【答案】D。解析：

作答本题可以采用“条件转化法”。

要将甲仓库100吨的货物运送到乙仓库，使用一辆载重15吨的货车需要运7次，使用载重12吨的货车需要运9次。由于货物总量相同，装卸货物所需时间相同，因此使用一辆载重15吨的货车可以比载重12吨的少用2次称重的时间以及2次往返的时间，即： $2 \text{小时} \times 2 + 15 \text{分钟} \times 2 = 4 \text{小时} 30 \text{分钟}$ 。

所以，正确选项是D。

63. 某个社区老年协会的会员都在象棋、围棋、太极拳、交谊舞和乐器五个兴趣班中报名了至少一项。如果要在老年协会中随机抽取会员进行调查，至少要调查多少个样本才能保证样本中有4名会员报的兴趣班完全相同？
A. 93 B. 94 C. 96 D. 97

【答案】B。解析：

作答本题可以采用“分情况讨论+极端情况讨论法”。

某个社区老年协会的会员都在五个兴趣班中报名了至少一项。则其报名不同的情况数为：

$C(5,1) + C(5,2) + C(5,3) + C(5,4) + C(5,5) = 5 + 10 + 10 + 5 + 1 = 31$ （种）。

考虑最不利的极端情况，求4名会员报的兴趣班完全相同，则最不利的值为3。

因此，至少要调查的样本数为： $31 \times 3 + 1 = 91$ （人）。

所以，正确选项是B。

64. 甲乙丙三个工厂每天共可以生产防水布2万平方米。现有一批救灾物资要生产，如果将防水布生产任务交给甲乙联合或乙丙联合或甲丙联合完成，分别需要24、30和40天。如果三个工厂联合完成生产任务，且每个工厂每天的产能各增加1万平方米，问可以比在不增加产能的情况下提前几天完成？
A. 6 B. 8 C. 10 D. 12

【答案】D。解析：

作答本题可以采用“分情况讨论法”。

甲乙联合、乙丙联合、甲丙联合，分别需要24、30和40天，则三个工厂联合完成生产任务，一天的总工作效率为： $(\frac{1}{24} + \frac{1}{30} + \frac{1}{40}) \div 2 = \frac{1}{20}$ 。

已知甲乙丙三个工厂每天共可以生产防水布2万平方米，则可知总任务量为： $20 \div (\frac{1}{20}) = 40$ （万平方米）。

不增产能时，三个工厂联合完成生产任务共需要 $40 \div 2 = 20$ （天）。

每个工厂每天的产能各增加1万平方米，则甲乙丙三个工厂每天共可以生产防水布5万平方米。这种情况下，三个工厂联合完成生产任务共需要 $40 \div 5 = 8$ （天）。

则可以提前完成 $20 - 8 = 12$ （天）。

所以，正确选项是D。

65. 今天是本月的1日同时也是星期一，且今年某月的1日又是星期一。问这两个1日之间最多相隔几

已知甲、乙、丙在2015年的销售额分别比上年增长了20%、300万元和16%，而总销售额增长了1800万元。则可列算式为： $0.08A+300+0.04A=1800$ 万元。解得： $0.12A=1500$ （万元）。

因此，甲销售部的销售额比上年增长的量比丙销售部高： $0.08A-0.04A=0.04A=1500\div 3=500$ （万元）。

所以，正确选项是D。

69. 某房间共有6扇门，甲、乙、丙三人分别从任一扇门进去，再从剩下的5扇门中的任一扇出来，问甲未经过1号门，且乙未经过2号门，且丙未经过3号门进出的概率为多少？

- A. $125/216$ B. $8/27$ C. $27/64$ D. $64/125$

【答案】B。解析：

作答本题可以采用“分情况讨论法”。

甲从任一扇门进去，再从剩下的5扇门中的任一扇出来，其总情况数为 $6\times 5=30$ ；甲未经过1号门，则甲满足条件的情况数为： $5\times 4=20$ 。则概率为 $2/3$ 。

同理，乙、丙的概率情况与甲相同。

则所求总概率为： $(2/3)\times (2/3)\times (2/3)=8/27$ 。

所以，正确选项是B。

70. 某商品上周一开始销售，售价为100元/件，商家规定：如日销售量超过100件，则第二天每件提价10%销售；如日销售量不超过50件，则第二天每件降价10%销售；其它情况价格不变。最终发现，上周该商品共销售了400件。问上周日该商品的价格最高可能是多少元？

- A. 99 B. 100 C. 110 D. 121

【答案】C。解析：

作答本题可以采用“代入验算法”。

代入验算：已知：某商品上周一开始销售，售价为100元/件。

从价格最高的D项开始验算。如果周日价格为D项的121元，周一到周六共6天时间，则说明六天里有两次提价（意味着销售超过100件，设为最少的101件）、四次不变（意味着销售超过50件，设为最少的51件）。则周一到周六总销售量至少= $(101\times 2)+(51\times 4)>400$ 。不满足题设条件，排除；

如果周日价格为C项的110元，说明前6天里有一次提价（意味着销售超过100件，设为最少的101件）、五次不变（意味着销售超过50件，设为最少的51件）。则周一到周六总销售量至少= $(101\times 1)+(51\times 5)=356$ 。满足题设条件。

所以，正确选项是C。

71. 某公司推出A、B两种新产品，产品A售价为X元，本月售出了Y件；产品B售价为Y元。本月A、B两种产品共售出500件，且产品A的销量为产品B的3倍多，产品A的销售额为1万元。问A、B两种产品本月可能的最高销售总额最接近下列哪个值？

- A. 5.5万元 B. 5.7万元 C. 7.2万元 D. 7.5万元

【答案】B。解析：

已知产品A的销量为产品B的3倍多，则B产品的销量介于 $(Y/3)-(Y/4)$ 之间，B产品的销售额介于 $(Y^2/3)-(Y^2/4)$ 之间。

要使B产品销售额最大，则必须令A的销量最接近为B的3倍。总销量共分4份=500件，A占3份=375件（即Y件），B占1份=125件、售价为375元（即Y元）。

则两种产品本月可能的最高销售总额= $10000+(375\times 125)=56875$ 万。与B项的数据最为接近。

所以，正确选项是B。

72. 高校的科研经费按来源分为纵向科研经费和横向科研经费,某高校机械学院 2015 年前 4 个月的纵向科研经费和横向科研经费的数字从小到大排列为 20、26、27、28、31、38、44 和 50 万元。如果前 4 个月纵向科研经费是前 3 个月横向科研经费的 2 倍,则该校机械学院 2015 年第 4 个月的横向科研经费是多少万元?

- A. 26 B. 27 C. 28 D. 31

【答案】B。解析:

前 4 个月科研经费总额: $20+26+27+28+31+38+44+50=264$ 。

前 4 个月纵向科研经费是前 3 个月横向科研经费的 2 倍,则意味着:前 4 个月纵向科研经费+前 3 个月横向科研经费 = 前 3 个月横向科研经费的 3 倍。

根据题意可知,第 4 个月横向科研经费=前 4 个月科研经费总和- (前 4 个月纵向科研经费+前 3 个月横向科研经费) = $264-3 \times (\text{前 3 个月横向科研经费})$ 。观察可发现,264 是 3 的倍数,减去 3 的倍数,则结果必定也是 3 的倍数。即第 4 个月的横向科研经费是 3 的倍数。

只有 B 项符合要求。所以,正确选项是 B。

73. 上午 8 点,甲、乙两车同时从 A 站出发开往 1000 公里外的 B 站。甲车初始速度为 40 公里/小时,且在行驶过程中均匀加速,1 小时后速度为 42 公里/小时;乙车初始速度为 50 公里/小时,且在行驶过程中均匀减速,1 小时后速度为 48 公里/小时。问中午 12 点前,两车最大距离为多少公里?

- A. 8 B. 12.5 C. 16 D. 25

【答案】B。解析:

两车之间的距离先增加、再减少、再增加;甲车 1 小时速度增加 2 公里,乙车 1 小时速度减少 2 公里,总路程=平均速度 \times 时间;当两车速度都为 45 公里/小时,两车之间距离最大。此时经过了 $(45-40)/2=2.5$ 小时,甲车走的路程= $[(40+45)/2] \times 2.5$,乙车走的路程= $[(50+45)/2] \times 2.5$,相差的路程= $(10/2) \times 2.5=12.5$ 公里。

所以,正确选项是 B。

74. 团体操表演中,编号为 1~100 的学生按顺序排成一列纵队,编号为 1 的学生拿着红、黄、蓝三种颜色的旗帜,后面每隔 2 个学生有 1 人拿红旗,每隔 3 个学生有 1 人拿蓝旗,每隔 6 个学生有 1 人拿黄旗。问所有学生中有多少人拿两种颜色以上的旗帜?

- A. 13 B. 14 C. 15 D. 16

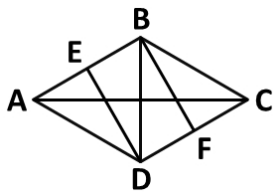
【答案】B。解析:

每隔 2 个学生相当于每 3 个学生拿一支红旗,每隔 3 个学生相当于每 4 个学生拿一支蓝旗,每隔 6 个学生相当于每 7 个学生拿一支黄旗。

排除编号为 1 的学生,剩下 99 个学生,拿红、蓝两色旗的有 $99 \div 12=8 \cdots 3$;拿红黄两色旗的有 $99 \div 21=4 \cdots 15$;拿蓝黄两色旗的有 $99 \div 28=3 \cdots 15$ 。在这 99 人里面,同时拿红蓝黄三色旗子的有 $99 \div 84=1 \cdots 15$,重复计算了 2 次,需要减去 2。已知编号为 1 的学生拿着红、黄、蓝三种颜色的旗帜,需要再总数里加上 1。则拿两种颜色以上旗帜的学生有: $8+4+3-(1 \times 2)+1=14$ (人)。

所以,正确选项是 B。

75. 一块由两个正三角形拼成的菱形土地 ABCD 周长为 800 米,土地周围和中间的道路如下图所示,其中 DE、BF 分别与 AB 和 CD 垂直。如要从该土地上任何一点出发走完每一段道路,问需要行进的距离最少是多少米?



- A. $1000+400\sqrt{3}$ B. $1100+400\sqrt{3}$ C. $1100+500\sqrt{3}$ D. $1000+600\sqrt{3}$

【答案】B。解析：

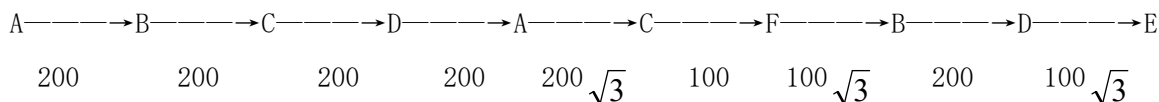
根据图形一笔画的基本规律，当图中奇点个数为 0 或 2 的时候可以一笔画，其他情况需要的至少笔画数=奇点个数 \div 2。

观察题目，图中一共有 4 个奇点，分别是 A、E、F、C，则至少需要两笔画完成。从任意奇点出发，需要重复走一段路，走到另一个奇点，才能走完所有道路。

观察可知，连接两个奇点最短的距离是 AE 或者 CF，都为 100 米。则需要行进的距离至少：

$$200+200+200+200+200+100+200\sqrt{3}+100\sqrt{3}+100\sqrt{3}=1100+400\sqrt{3}$$

例如，最短路径的走法可以是：



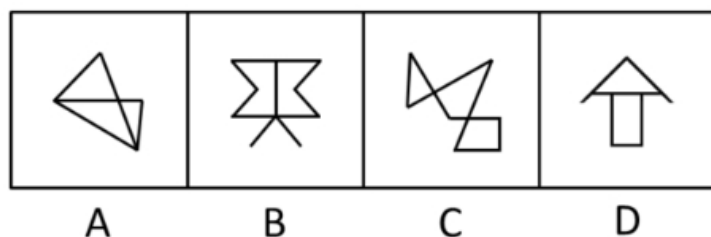
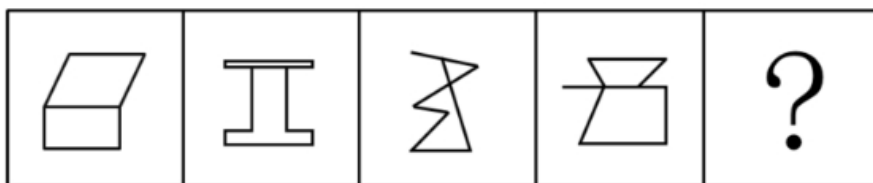
所以，正确选项是 B。

第四部分 判断推理

(共 40 题，参考时限 40 分钟)

一、图形推理。请按每道题的答题要求作答。

76. 从所给的四个选项中，选择最合适的一个填入问号处，使之呈现一定的规律性：

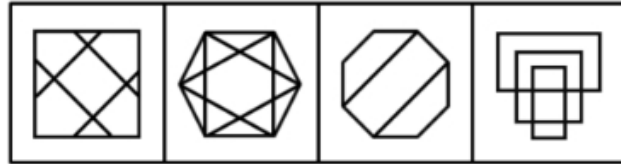
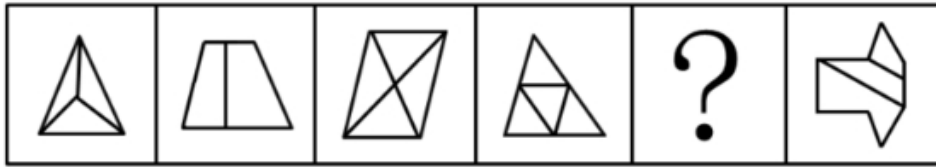


【答案】D。解析：

每个题干图形中都有两个面，排除 A、C。B、D 都有两个面，区别在于 B 是两个形状相同的面，D 是不同的面，题干中的面都不相同，排除 B。

所以，正确选项是 D。

77. 从所给的四个选项中，选择最合适的一个填入问号处，使之呈现一定的规律性：

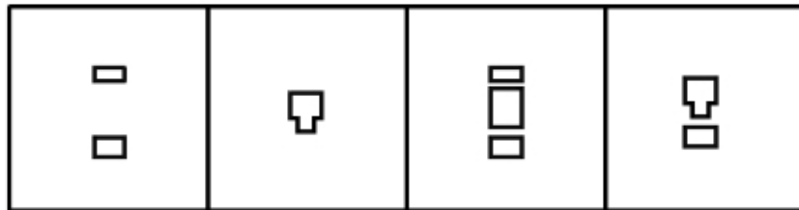
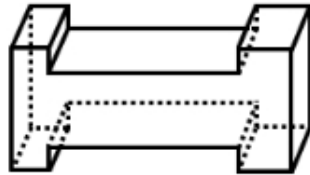


A B C D

【答案】A。解析：

所有题干图形都是非对称图形，只有 A 项符合要求。
所以，正确选项是 A。

78. 下面的立体图形如果从任一面剖开，以下哪一项不可能是该立体图形的截面？



A B C D

【答案】D。解析：

A 项：如图 1 所示可以切出；

C 项：如图 2 所示可以切出；

B 项：如图 3 所示可以切出；

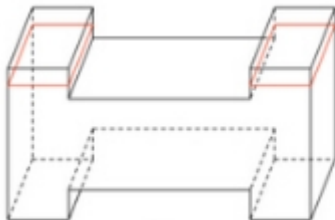


图1

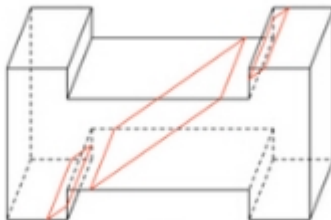


图2

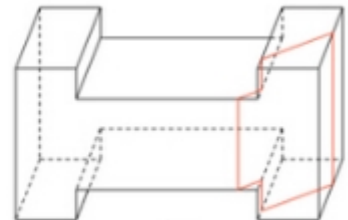
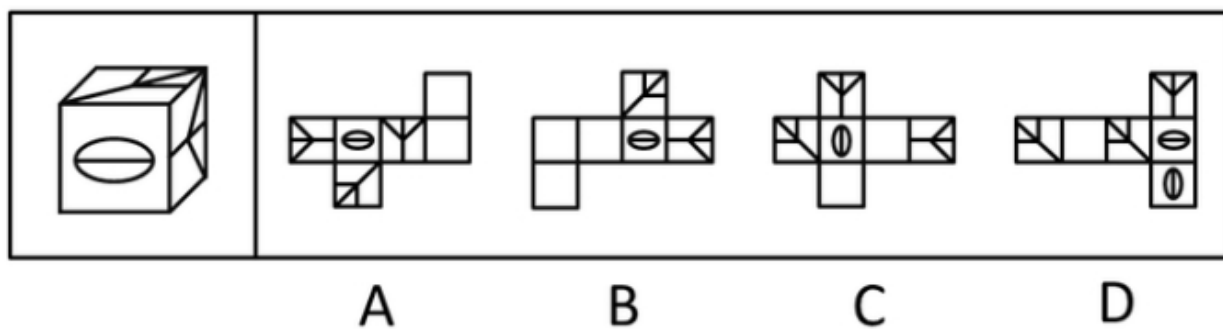


图3

所以，正确选项是 D。

79. 右边哪一项不可能是左边正方体纸盒的展开图？

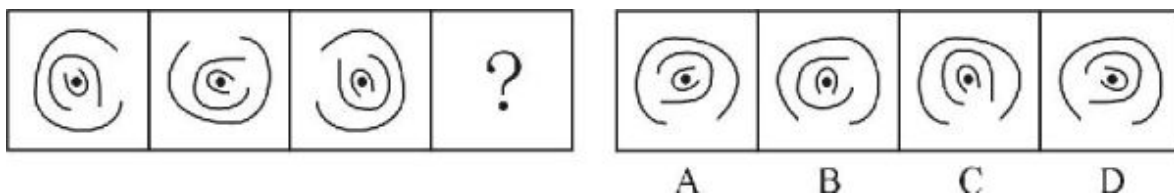


【答案】D。解析：

纸盒右边图形箭头指向椭圆，且与其指向的椭圆长轴处于一条直线上，观察选项，ABCD 的右边样式的图形都指向椭圆，但只有 D 选项与其指向的椭圆长轴垂直。

所以，正确选项是 D。

80. 从所给四个选项中，选择最合适的一个填入问号处，使之呈现一定规律性（ ）

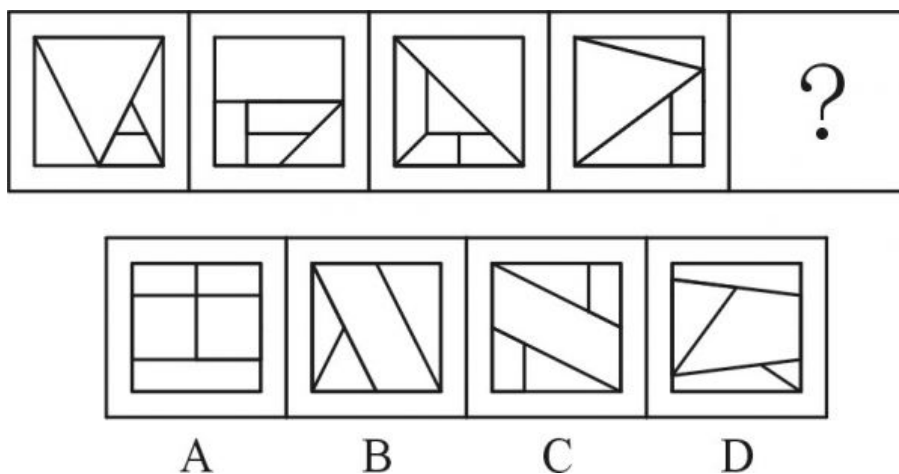


【答案】D。解析：

本题考查图形旋转。把每个图形分为三部分来观察，最外面和中间弧线均按照逆时针方向，每次旋转 90 度，最里面的弧线按照顺时针的方向，每次旋转 90 度。

所以，正确选项是 D。

81. 从所给四个选项中，选择最合适的一个填入问号处，使之呈现一定规律性：

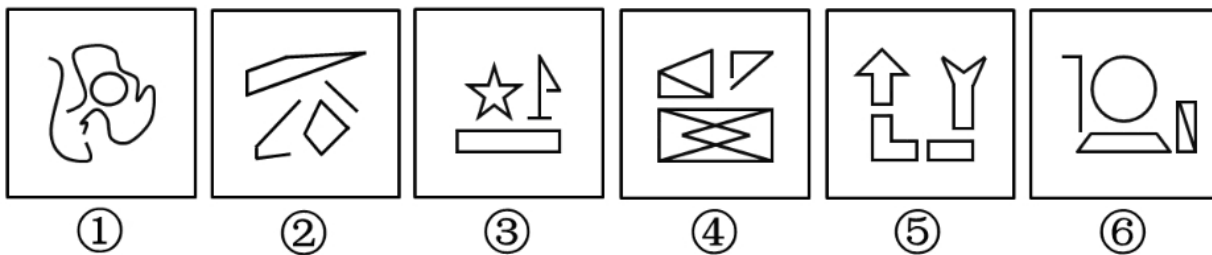


【答案】C。解析：

本题考查图形封闭空间。根据每一幅图都有 5 个封闭空间，排除 B 选项。同时每一幅图中都有 1 个封闭空间的面积占外面正方形面积的一半。

所以，正确选项是 C。

82. 把下面的六个图形分成两类，使每一类图形都有各自的共同特征或规律，分类正确的一项是：



- A. ①②③, ④⑤⑥
B. ①③⑤, ②④⑥
C. ①③④, ②⑤⑥
D. ①⑤⑥, ②③④

【答案】C。解析：

考查题干图中的构图元素多少。①③④中都有 3 个独立的构图元素，②⑤⑥中都有 4 个独立的构图元素。

所以，正确选项是 C。

83. 把下面的六个图形分成两类，使每一类图形都有各自的共同特征或规律，分类正确的一项是：



- A. ①②⑤, ③④⑥
B. ①③⑥, ②④⑤
C. ①③④, ②⑤⑥
D. ①⑤⑥, ②③④

【答案】C。解析：

本题考查图形的对称性。其中①③④为轴对称图形，②⑤⑥为中心对称图形。

所以，正确选项是 C。

84. 把下面的六个图形分成两类，使每一类图形都有各自的共同特征或规律，分类正确的一项是：



- A. ①③⑤, ②④⑥
B. ①②③, ④⑤⑥
C. ①②⑤, ③④⑥
D. ①②⑥, ③④⑤

【答案】D。解析：

本题考查图形的交点个数。其中①②⑥为 2 个交点，③④⑤为 4 个交点。

所以，正确选项是 D。

85. 把下面的六个图形分成两类，使每一类图形都有各自的共同特征或规律，分类正确的一项是：



- A. ①②③, ④⑤⑥
B. ①③⑤, ②④⑥
C. ①②⑤, ③④⑥
D. ①③⑥, ②④⑤

【答案】B。解析：

本题考查图形元素的位置。观察图形可以发现，每一幅图都由4个元素组成，其中有两个元素样式相同。①③⑤中两个相同元素都处于相邻位置，②④⑥中两个相同元素都处于对角线的位置。

所以，正确选项是B。

二、定义判断。每道题先给出定义，然后列出四种情况，要求你严格依据定义，从中选出一个最符合或最不符合该定义的答案。注意：假设这个定义是正确的，不容置疑的。

86. 群体规范包括正式规范和非正式规范，前者是指由组织明文规定的员工应遵循的规则和程序；后者是指人们在工作与生活过程中约定俗成的行为准则，该规范的形成受到历史的、习惯的、群体目的性的和社会因素的影响，同时也在很大程度上受到模仿、暗示、顺从等心理因素的制约，在群体成员彼此相互作用的条件下，发生的一种内化的过程。

根据上述定义，下列不属于非正式群体规范的是：

- A. 公司要求每位员工在刚入职时签署保密责任书
- B. 由于受到描写黑帮的电影影响，一些青少年往往容易进行简单的模仿，形成各种“帮”、“会”等组织
- C. 春节是一家人团聚的时刻，北方人常常要在除夕夜包饺子，而南方人则是煮汤圆
- D. 在举手表决时，尽管有些人不赞成提案，但碍于情面，也会举手赞成

【答案】A。解析：

不属于型。定义关键信息：（1）约定俗成的行为准则，（2）受到历史的、习惯的、群体目的性的和社会因素的影响，（3）受到模仿、暗示、顺从等心理因素的制约，（4）群体成员彼此相互作用。

A项：公司明文规定，属于正式规范，不属于非正式群体规范，当选。

B项：青少年对黑帮电影进行简单模仿，符合“受到模仿的制约”，属于非正式规范，排除。

C项：春节南北习俗不同，符合“受到历史的、习惯的影响”，属于非正式规范，排除。

D项：碍于情面，符合“群体成员彼此相互作用”，属于非正式规范，排除。

所以，正确选项是A。

87. 前控控制是指在计划实施之前，为了保证将来的实际成果能达到计划的要求，尽量减少偏离的控制。根据上述定义，下列属于前控控制的是：

- A. 营销部主任在方案推广期间，不断做出调整，尽量避免误差
- B. 新药剂的配方尽管之前经过多位专家考证，但药效还不如老配方
- C. 新游戏的图纸在投入编程之前，经过了几轮研讨以确保效果逼真
- D. 新产品上市后销量一般，工厂组织技术人员进行升级后再次推向市场

【答案】C。解析：

属于型。定义关键信息：（1）在计划实施之前，（2）为了保证将来的实际成果能达到计划的要求，尽量减少偏离的控制。

A项：在方案推广期间，不符合“在计划实施之前”，排除。

B项：新药剂药效不如老配方是两种不同药剂的比较，并不是使得新药剂的实际效果达到计划要求，排除。

C项：新游戏的图纸在投入编程之前研讨，符合“在计划实施之前”，确保效果逼真符合“尽量减少偏离的控制”，符合定义要求。

D项：新产品上市后，不符合“在计划实施之前”，排除。

所以，正确选项是C。

88. 诉诸群众指的是为赢得众人同意一项主张时，不诉诸相关的事实和理由，而通过激起众人的情感和

热情，以达到目的。不是服人以理，而是动人以情。这是宣传家、政客和广告商最常用的辩论方式。根据上述定义，下列哪项属于诉诸群众？

- A. 某宣传家说：“在座的都要支持我的主张，因为我的主张是合理的！”
- B. 某政客说：“大家投我一票，选择我就是选择了未来！”
- C. 某广告说：“好吃的包子叫龙凤，因为它采用了宫廷秘方！”
- D. 某刑事被告人说：“我是家里的顶梁柱，希望法官量刑时综合考虑！”

【答案】B。解析：

属于型。定义关键信息：（1）为赢得众人同意一项主张，（2）通过激起众人的情感和热情，（3）不诉诸相关的事实和理由。

A项：我的主张是合理的，是在诉诸相关理由，不符合“不诉诸相关的事实和理由”，排除。

B项：大家投我一票，选择我就是选择未来，是通过“激起众人的情感和热情，以达到目的”，符合定义要求。

C项：因为它采用了宫廷秘方，是在诉诸相关事实，不符合“不诉诸相关的事实和理由”，排除。

D项：我是家里的顶梁柱，是在诉诸相关的事实和理由，不符合“不诉诸相关的事实和理由”，排除。所以，正确选项是B。

89. 专利间接侵权是指行为人的行为本身并不直接侵犯他人的专利，但却教唆、帮助或诱导他人实施专利侵权行为。

根据上述定义，下列哪项属于专利间接侵权？

- A. 王某通过个人关系购买了甲公司发动机设备，该设备已申请国家专利，之后经甲公司许可转售给乙公司
- B. 李某购买了一批已申请专利的用于浇筑系统的模具，在购买前他和生产该模具的公司签订了相关合同
- C. 宋某将某外文小说译成中文后，以第一作者身份出版该小说，从中获利一百万元
- D. 甲公司遇到技术问题后委托乙公司解决，并暗示乙公司技术人员采用了丙公司的专利技术，但未告知丙公司

【答案】D。解析：

属于型。定义关键信息：（1）行为人的行为本身并不实施专利侵权，（2）教唆、帮助或诱导他人实施专利侵权。

A项：王某购买设备不涉及侵犯专利权，不符合定义，排除。

B项：李某购买模具前和生产该模具的公司签订了相关合同，没有侵权行为，不符合定义，排除。

C项：宋某本人侵犯了专利权，是直接侵权，不符合定义，排除。

D项：甲公司没有直接侵权，但教唆乙公司技术人员侵害丙公司的专利权，符合定义要求，属于专利间接侵权。

所以，正确选项是D。

90. 互助游是指有旅游意向的双方利用互联网等媒介中的人脉关系交换旅游资源，相互提供帮助而实现旅游的方式，达到双方都能降低旅游成本、实现深入体验旅游的目的。

根据上述定义，下列涉及互助游的是：

- A. 小张在北京读书，利用暑假时间到同学所在的城市旅游，期间住在同学的宿舍
- B. 小王家住南京，准备到西藏旅游，邀请家住西安的网友同行，分摊支出，旅途中互相帮助
- C. 小刘住在北京，在桂林旅游期间住在网友家里，对方到北京旅游时，自己也向对方提供住宿
- D. 小赵住在上海，到海南旅行，食宿与行程均有朋友安排负责，小赵返沪后邀请朋友到上海玩

【答案】C。解析：

属于型。定义关键信息：（1）有旅游意向的双方，（2）利用互联网等媒介中的人脉关系交换旅游资源，（3）双方都能降低旅游成本、实现深入体验旅游。

A项：小张一个人旅游，不涉及“有旅游意向的双方”，不符合定义，排除。

B项：小王和网友只是分摊支出，没有体现出资源的交换，不符合定义，排除。

C项：小刘和网友利用互联网媒介中的人脉关系，网友为小刘在桂林旅游提供住宿，小刘为网友在北京旅游提供住宿，体现了住宿旅游资源的交换，双方都降低了旅游成本，符合定义要求。

D项：小赵一人旅游，不涉及“有旅游意向的双方”，排除。

所以，正确选项是C。

91. 替代性攻击，即遭受挫折后由于无法直接向挫折制造的源头表达愤怒或不满，而将怒气发泄到另外的“替罪羊”身上，“替罪羊”往往处于相对较弱的地位。

根据上述定义，下列不属于替代性攻击的是：

A. 甲在工作中被老板责备，心怀不满，回家后因为一件小事责骂妻子

B. 乙上课时受到老师批评，心中憋闷，下课后在学校超市把货架上的方便面全部捏碎

C. 丙和邻居发生冲突时被迫忍气吞声，后趁天黑将邻居家的汽车车胎扎漏

D. 丁路过树下时被树上的鸟粪砸中，感到很生气，轰走了上来乞食的流浪猫

【答案】C。解析：

不属于型。定义关键信息：（1）遭受挫折后，（2）由于无法直接向挫折制造的源头表达愤怒或不满，将怒气发泄到另外的“替罪羊”身上，（3）“替罪羊”往往处于相对较弱的地位。

A项：甲受到了领导的责备，无法向领导表达不满而责骂妻子，妻子是“处于较弱地位替罪羊”，符合定义，排除。

B项：乙上课时受到老师批评，无法向老师表达不满而将怒气发泄到方便面上，方便面是“处于较弱地位替罪羊”，符合定义，排除。

C项：邻居是丙受挫折的源头，丙向挫折的源头“邻居”表达愤怒，扎了他的车胎，没有出现“替罪羊”，不符合定义要求，当选。

D项：丁被鸟粪砸中，但转面向流浪猫发脾气，流浪猫是“替罪羊”，符合定义，排除。

所以，正确选项是C。

92. 价值的条件化过程是指个体的价值评价建立在他人评价的基础上，以他人的价值规范为标准，而非根据自身的满足感进行评价。

根据上述定义，下列不属于价值的条件化过程的是：

A. 一个学生受到老师误解，虽然内心愤怒和委屈，但从小受教导应当尊重老师，认为即使受到误解，也不应该指责老师

B. 一个男孩把玻璃杯摔地上，他觉得很好玩，其父母因此不满并教育他不能随意摔东西，为了让父母高兴，男孩学会不再摔东西

C. 一个婴儿突然哭了，母亲听到后立刻给他换上干净清洁的纸尿裤，并给他喂奶，婴儿停止哭闹，不久后酣然入睡

D. 一个身材适中的女孩，其男友认为她很胖，于是女孩开始每天通过节食的方式进行减肥，即使饿了也不多进食

【答案】C。解析：

不属于型。定义关键信息：（1）个体的价值评价以他人的价值规范为标准，（2）非根据自身的满足感进行评价。

A项：学生以“从小受教导应当尊重老师，认为即使受到误解，也不应该指责老师”作为自己的价值评价，而非根据自身的满足感进行评价，符合定义，排除。

B项：男孩以“父母教育他不能随意摔东西”作为自己的价值评价标准，而非根据自身的满足感进行评价，符合定义，排除；

C项：婴儿哭是因为自己饿了，是根据自身的满足感进行评价，不符合定义要求，当选。

D项：女孩以“男友认为她很胖”作为自己的价值评价标准，而非根据自身的满足感进行评价，符合定义，排除。

所以，正确选项是C。

93. 动物权利主义认为，动物就其本质上来说应该有行为的自由；有在它们自己的生活圈中生活、居住的自由；有远离人类伤害、虐待和剥削的自由，也就是说动物有权利不受人伤害、虐待和剥削，享有和人类一样的权利。动物福利主义认为，人类可以利用动物，例如用于研究实验、食用、猎取，用于体育娱乐或其他用途，但在利用动物的过程中，人类应该人道地对待动物，防止并惩罚虐待动物的残酷行为。

根据上述定义，下列做法中符合动物权利主义思想的是：

A. 有些国家的法律禁止解剖动物，并禁止在马戏团进行驯兽表演

B. 1822年，英国国会通过了世界上第一部反对虐待动物的法律——《马丁法案》。这个法案禁止无故殴打、虐待任何驴、马、牛、羊或其他牲口，除非牲口先攻击人

C. 大多数人看到一只弱小的毛驴被无辜地鞭打的时候，都会身不由己地同情毛驴

D. 某地爱狗人士将高速公路上运送食用狗的车辆拦截，反对食用狗肉，但他们并不反对食用猪、牛、家禽等动物

【答案】A。解析：

属于型。定义关键信息：（1）动物应该有行为自由，（2）有在它们自己的生活圈中生活、居住的自由，（3）有远离人类伤害、虐待和剥削的自由。

A项：法律禁止解剖动物，并禁止在马戏团进行驯兽表演，符合“有远离人类伤害、剥削的自由”，符合定义。

B项：法案禁止无故殴打、虐待任何驴、马、羊或其他牲口，除非牲口先攻击人，符合“人类应该人道地对待动物，防止并惩罚虐待动物的残酷行为”，是动物福利主义，不是动物权利主义，排除。

C项：大多数人看到一只弱小的毛驴被无辜地鞭打的时候，都会身不由己的同情毛驴，是说人们应该人道地对待动物，防止虐待动物，是动物福利主义，不是动物权利主义，排除。

D项：爱狗人士反对吃狗肉但不反对食用猪、牛、家禽等动物，并没有涉及到所有动物，既不是动物福利主义，也不是动物权利主义，排除。

所以，正确选项是A。

94. 商标平行进口是指在国际货物贸易中，某一特定产品的商标已获进口国知识产权法保护，并且商标权人已在该国自己或授权他人制造或销售其商标权产品的情况下，进口商未经商标权人包括商标所有人或商标独占被许可人许可，擅自从国外进口该商标权产品到进口国销售的行为。

根据上述定义，下列不属于商标平行进口的是：

A. 商标权人甲在A国享有商标权，并仅授权乙在A国制造、销售该商标权产品，丙在B国仿造该商标权产品，并输入到A国

B. A国的商标权人甲授权B国代理商乙在B国独家制造、销售该商标权产品，丙从B国将该商标权产品输入到A国

C. 商标权人甲分别在A、B两国获得了同一商标注册，取得商标权，并且制造、销售产品，乙从A国将该商标产品输入到B国

D. 商标权人甲在A国享有商标权，甲授权B国的乙为独占被许可人，甲在C国不享有该商标权，丙从C国合法购买该商标产品并输入到A国

【答案】A。解析：

不属于型。定义关键信息：（1）某一特定产品的商标已获进口国知识产权法保护，并且商标权所有人已在该国自己或授权他人制造或销售其商标权产品，（2）进口商未经商标权人许可，擅自从国外进口该商标权产品到进口国销售。

A项：丙在B国是仿造该商标权产品，并不是“擅自从国外进口该商标权产品”，不符合定义要求，不属于商标平行进口。

B项：甲在A国是商标权人，丙没有经过甲的许可，擅自将B国的该商标权产品销售到A国，符合定义，排除。

C项：甲在A、B国都是商标权人，乙没有经过甲的许可，擅自从A国将该商标产品输入到B国，符合定义，排除。

D项：甲在A国是商标权人，丙没有经过甲的许可，擅自从C国将该商标产品输入到A国，符合定义，排除。

所以，正确选项是A。

95. 精神防御机制是在人们遇到困难时所采取的回避困难、解除烦恼、保护心理安宁的方法。该机制包括几种方法：转移作用是指对某一对象的情感因某种原因（发生危险或不合社会习惯）无法向其直接表现时，而转移到其它较安全或较为大家所接受的对象身上。合理化作用是指个人遭受挫折或无法达到所追求的目标以及行为表现不符合社会规范时，给自己找一些有利的理由来解释。投射作用是指将自己所不喜欢或不能接受的性格、态度、意念，“投射”到别人身上或外部世界去，而断言别人是这样的现象。

根据定义，下列反映了上述三种防御机制之一的是：

A. 小琴的父母不喜欢体育运动，小琴被校羽毛球队选去当优秀苗子来培养，父母认为这样会耽误学习而坚决反对

B. 小风在住院期间长时间和高护士接触，很感激高护士对自己的照顾，出院后他始终感念，对在护士学校上学的妹妹更加关心爱护

C. 小宁不喜欢数学，数学考试也常常不及格，他认为不是自己学不好，而是老师教得不好，无法引起他的兴趣

D. 小何在宾馆做前台接待，最近和家人发生了矛盾，心情很低落，在接待客户时常常心不在焉、丢三落四

【答案】C。解析：

属于型。定义关键信息：（1）在遇到困难时采取回避困难、解除烦恼、保护心理安宁的方法。（2）“转移作用”：转移到安全或大家接受的对象，（3）“合理化作用”：找有利理由解释，（4）“投射作用”：把自己不喜欢的的性格态度意念投射到别人身上。

A项：小琴遇到的困难是父母的反对，但没有提及小琴如何防御或解决问题，不符合定义，排除。

B项：小风是感激别人的帮助，并没有提到小风什么遇到困难和怎么解决烦恼，不符合定义，排除。

C项：小宁将自己数学考试常常不及格解释为老师教得不好，是为自己找有利的理由解释他所遇到的困难，属于“合理化作用”，符合定义要求。

D项：小何因为和家人的矛盾导致工作失误，这是他遇到的困难，但没有提及他如何回避困难解决烦恼，不符合定义，排除。

所以，正确选项是C。

三、类比推理。每道题先给出一组相关的词，要求你在备选答案中找出一组与之有逻辑关系上最为贴近、相似或匹配的词。

96. 指甲：指甲钳

- A. 头发：发卡
B. 铅笔：铅笔盒
C. 手：手套
D. 胡子：剃须刀

【答案】D。解析：

工具对应关系。指甲钳是剪指甲的工具；D项：剃须刀是剃胡子的工具。所以，正确选项是D。

A项：发卡的作用是装饰，不是剪头发的工具，不符合题干逻辑关系，排除。

B项：铅笔盒可以装铅笔，但二者不是工具对应关系，而是并列关系，与题干逻辑关系不同，排除。

C项：手套戴在手上，不是工具对应关系，与题干逻辑关系不同，排除。

97. 哺乳动物：陆生动物

- A. 航天器：交通工具
B. 有花植物：无花植物
C. 星际物质：天狼星
D. 北极熊：极地企鹅

【答案】A。解析：

概念外延间的交叉关系。

有的陆生动物是哺乳动物，有的哺乳动物是陆生动物；A项：有的航天器是交通工具，（如火箭），有的航天器不是交通工具（如卫星、空间站等，有的交通工具不是航天器）。

所以，正确选项是A。

B项：有花植物和无花植物是矛盾关系，与题干逻辑关系不符，排除。

C项：星际物质是星体与星体之间的物质，天狼星是星体，二者外延之间不是交叉关系，排除。

D项：北极熊和极地企鹅是并列关系，与题干逻辑关系不符，排除。

98. 清洁能源：太阳能

- A. 女英雄：三八红旗手
B. 风车：风能
C. 可再生能源：植物
D. 治疗仪：按摩器

【答案】C。解析：

概念外延间的种属关系。太阳能是一种清洁能源；C项：植物是一种可再生能源。

所以，正确选项是C。

A项：女英雄和三八红旗手是交叉关系，不符合题干逻辑关系，排除。

B项：风车是利用和产生风能的工具，对应关系，不符合题干逻辑关系，排除。

D项：按摩器和治疗仪是并列关系，不符合题干逻辑关系，排除。

99. 天下雨：地上湿

- A. 满18岁：有选举权
B. 开花：结果
C. 地上不湿：天没下雨
D. 摩擦：生热

【答案】D。解析：

充分条件。如果天下雨，那么地上湿。天下雨是地上湿的充分条件。D项：如果摩擦，那么生热。摩擦是生热的充分条件。

所以，正确选项是D。

A项：满18岁，不一定有选举权，不是充分条件，不符合题干逻辑关系，排除。

B项：开花，不一定结果，不是充分条件，不符合题干逻辑关系，排除。

C项：地上不湿是天不下雨的充分条件，但是这种“不……不……”的语言表达格式，通常被理解为必要条件，与题干不是最相符，排除。

100. 研究生：硕士：博士

A. 青少年：少年：青年

B. 妇孺：儿童：妇女

C. 建筑：平房：高楼

D. 图形：直线：三角形

【答案】A。解析：

包含关系。研究生只包含硕士和博士，硕士和博士属于研究生的两个阶段，读完硕士后才能读博士。

A项：青少年只包含青年和少年，经过少年阶段才能成长为青年。符合题干逻辑关系；

所以，正确选项是A。

B项：妇孺包含妇女和儿童，但是儿童和妇女并不是妇孺的两个成长阶段，且儿童的性别有男有女，有的成长为成年男子，而不是成长为妇女，与A相比不是最符合题干逻辑关系，排除。

C项：建筑包含平房和高楼，但平房和高楼并不是建筑的两个阶段，不符合题干逻辑关系，排除。

D项：直线和三角形也不是图形的两个阶段，不符合题干逻辑关系，排除。

101. 行驶：违章：罚款

A. 学习：成绩：奖励

B. 栽培：减产：施肥

C. 竞争：优势：成功

D. 锻炼：受伤：医治

【答案】D。解析：

对应关系。行驶过程中，违章可能被罚款。D项：锻炼过程中，受伤可能被医治，和题干逻辑关系一致。

所以，正确选项是D。

A项：学习过程中，成绩好才可能会有奖励，但A项并没有提到成绩的好坏，不符合题干逻辑关系。

B项：减产不是发生在栽培的过程中的，而是栽培结束之后，不符合题干逻辑关系。

102. 监督：人大：媒体

A. 教育：小学：中学

B. 融资：借贷：赞助

C. 增收：加薪：优惠

D. 惩罚：死刑：徒刑

【答案】A。解析：

并列关系、对应关系。人大和媒体是并列关系，都有监督功能。A项：小学与中学是并列关系，都有教育功能。

所以，正确选项是A。

B项：赞助不是融资的方式，不符合题干逻辑关系。

C项：优惠不是增收方式，不符合题干逻辑关系。

D项：有的死刑是徒刑（例如死刑缓期执行就是徒刑），死刑与徒刑是交叉关系，不符合题干逻辑关系。

103. 春雨：杏花：江南

A. 夏荷：烈日：江北

B. 秋风：腊梅：华北

C. 秋霜：枯草：塞外

D. 冬雪：牡丹：边疆

【答案】C。解析：

对应关系。春雨和杏花都是春天的景色，对应的地点是江南。

A 项：夏荷和烈日是夏天有的景色，对应的地点是江北，符合题干逻辑关系。

C 项：秋霜和枯草都是秋天的景象，对应的地点是塞外，符合题干逻辑关系。

比较 A、C 两项。题干春雨是一种天气状况，杏花是植物，而 A 项的夏荷是植物，烈日才是天气，排列顺序与题干不一致。C 项的秋霜是天气状况，枯草是植物，更符合题干逻辑关系。排除 A 项。

所以，正确选项是 C。

B 项：秋风是秋天的气候，但腊梅冬天才有，不符合题干逻辑关系，排除。

D 项：冬雪是冬天的景象，但牡丹是春天开花，不符合题干逻辑关系，排除。

104. 航空母舰 对于 () 相当于 雷达 对于 ()

A. 驱逐舰 天线

B. 海洋 天空

C. 舰载机 显示屏

D. 舰艇 电子设备

【答案】D。解析：

A 项：航空母舰和驱逐舰都属于舰艇，并列关系；天线是雷达的一部分。前后逻辑关系不一致，排除。

B 项：航空母舰在海洋行驶，但雷达并不在天空中运行。前后逻辑关系不一致，排除。

C 项：舰载机是配载在航空母舰上的武器，对应关系，但显示屏和雷达之间不存在对应关系。前后逻辑关系不一致，排除。

D 项：航空母舰是一种舰艇，雷达是一种电子设备。二者都是种属关系，前后逻辑关系一致。

所以，正确选项是 D。

105. 理想 对于 () 相当于 () 对于 涂鸦

A. 现实 作品

B. 梦想 画家

C. 白日梦 画作

D. 志愿 涂改

【答案】C。解析：

A 项：理想与现实是反义词，涂鸦和作品是交叉关系，前后逻辑关系不一致，排除。

B 项：理想和梦想是近义词，画家和涂鸦是对应关系，前后逻辑关系不一致，排除。

C 项：有的理想是白日梦，有的画作是涂鸦，前后逻辑关系一致。

D 项：理想和志愿意思有相近的地方，但理想比较宏大，志愿比较具体；涂改和涂鸦之间没有必然联系，前后逻辑关系不一致，排除。

所以，正确选项是 C。

四、逻辑判断。每道题给出一段陈述，这段陈述被假设是正确的，不容置疑的。要求你根据这段陈述，选择一个答案。正确答案应与所给陈述相符合，不需要任何附加说明即可以从陈述中直接推出。

106. 人类排放温室气体导致北极冰川开始消融，海平面扩大。冰川可以反射 85% 的太阳光，而海水只反射 5% 的太阳光，越来越多的海水吸收更多能量，进一步加速冰川消融。

以下哪一项中的因果关系与题干最为相同？

A. 商场为某名牌香水做推广和宣传，顾客购买几次后发现该香水香氛淡雅，持久清新，成为了该品牌香水的忠实顾客

B. 英语考试在即，王强不得不每天早起诵读英语，早上空气清新，精神抖擞，英语考试结束后，王强依然坚持早起

C. 张楠在爸爸的引荐下，认识了一些证券交易的客户，这个圈子的客户发展是滚雪球式的，张楠认识的客户越来越多

D. 使用新方法后, 刘丹的平面几何成绩迅速提高, 由于平面几何很多原理可用在立体几何中, 刘丹的立体几何成绩也很快提高

【答案】C。解析:

题干推理为: 冰川消融导致海水增多, 海水增多吸收更多能量加速冰川消融。

其因果关系为: a 导致 b, b 又导致 a。

A 项: 顾客因为购买多次某香水发现其优点, 所以成为该品牌香水的忠实顾客。因果关系为: a 导致 b。与题干的因果关系不一致, 排除。

B 项: 考试早起, 不考试也早起, 说明考试与早起之间不存在因果关系, 即 a 与 b 没有因果关系。与题干的因果关系不一致, 排除。

C 项: 张楠在爸爸的引荐下认识了一些客户, 然后越来越多的客户认识了张楠。因果关系为: a 导致 b, b 又导致 a。与题干的因果关系一致, 当选。

D 项: 使用新方法, 平面几何成绩提高, 利用新方法, 立体几何成绩也提高, 因果关系为: a 导致 b, a 也导致 c。与题干的因果关系不一致, 排除。

所以, 正确选项是 C。

107. 某研究所人员结构状况如下: 所有女性都拥有博士学位, 有的男博士有高级职称, 但所里也存在既没有博士学位也没有高级职称的人员。

根据以上描述, 可以推出的一项是:

A. 有的男性没有高级职称

B. 有的女性有高级职称

C. 所有男性都拥有高级职称

D. 有的女性没有高级职称

【答案】A。解析:

题干条件可以整理为:

(1) 所有女性都拥有博士学位。

(2) 有的男博士有高级职称

(3) 有人没有博士学位并且没有高级职称。

根据 (1) (3), 既然所有女性都拥有博士学位, 并且有人没有博士学位, 那么, 没有博士学位的一定是男性。可推知: (4) 有的男性没有博士学位。

根据 (3) (4), 既然有人没有博士学位并且没有高级职称, 并且有的男性没有博士学位, 那么这些“没有博士学位并且没有高级职称”的人一定是男性。可推知: 有的男性没有高级职称。

所以, 正确选项是 A。

108. 在摩天大楼里工作的人大多数都是白领阶层, 英语水平四级以上是成为外企白领的必要条件, 外企中只有白领阶层的办公地点设在摩天大楼里。

根据以上描述, 以下哪项是不正确的?

A. 在摩天大楼里的白领不一定是在外企工作

B. 外企中英语水平四级以上的未必是白领

C. 英语水平四级以上的白领可能不在摩天大楼里工作

D. 外企中英语水平四级以下者可能在摩天大楼里工作

【答案】D。解析:

题干条件可以整理为:

(1) 只有英语水平四级以上, 才能成为外企白领。

(2) 只有外企白领, 才能在摩天大楼工作。

根据 (1) 进行必要条件假言推理的“否定前件式”, 可推知: (3) 英语水平四级以下不能成为外企白领。

根据(2)进行必要条件假言推理的“否定前件式”，可推知：(4)不是外企白领不能在摩天大楼工作。

根据(3)(4)可推知：英语水平四级以下者不能在摩天大楼里工作。这个结论与D选项相矛盾。也就是说，D项的描述是不正确的。

所以，正确选项是D。

109. 随着气候变化，肥料和供水导致了极大的能源和环境成本，如何让作物更好地吸收营养和水就显得极其重要。因此不少人认为只要增加植物根毛的长度，就可以更有效地吸收水和养分，从而提高作物产量。

下列哪项如果为真，最能削弱上述结论？

- A. 实践证明，合理控制光照时间，并保证同一块田地间隔播种作物能极大地提高产量
- B. 根毛的寿命很短，仅能存活2~3周便自行脱落，由于更新很快，植物的根部总能保持一个数量相对稳定的根毛区
- C. 如果植株过于密集而养料不足，即使增加了根毛长度，也无法保证植物的营养供应
- D. 根毛的长度与植物生长激素密切相关，当植物生长激素分泌旺盛时，根毛也变长；而生长激素分泌减少时，根毛也逐渐萎缩

【答案】C。解析：

削弱题。题干的结论是：只要增加植物根毛的长度，就能提高作物产量。

我们需要指出的削弱项是：即使增加植物根毛的长度，也不能提高作物产量。

A项：合理控制光照时间，并保证同一块田地间隔播种作物能极大地提高产量，与题干结论没有关系，属于无关选项，排除。

B项：根毛的寿命长短以及植物根部的根毛相对稳定，与题干结论没有关系，属于无关选项，排除。

C项：指出在植株过于密集而养料不足的情况下，即使增加根毛长度，也无法保证植物的营养供应，(隐含：即使增加植物根毛的长度，也不能提高作物产量)。直接削弱题干的结论。

D项：植物生长激素对根毛的影响，与题干结论没有关系，属于无关选项，排除。

所以，正确选项是C。

110. 有研究发现，那些每天坐着看电视和工作总计达10小时的女性，与每天通常坐8小时的女性相比，患结肠癌的风险增加8%，患子宫癌的风险增加10%，而且无论研究对象在不坐时有多活跃，都不会影响这个结果。

由此可以推出：

- A. 缺乏运动可能是某些癌症的首要病因
- B. 久坐可能对女性健康造成不良的影响
- C. 工作之余的体育锻炼可以强身健体
- D. 上班族职业女性的身体健康状况堪忧

【答案】B。解析：

整理题干条件为：每天坐着看电视和工作总计达10小时的女性比每天坐8小时的女性患结肠癌与子宫癌的风险增加，而且不受研究对象在不坐时的活跃程度影响。

A项：题干中没有提到研究对象是否缺乏运动，无法推出，排除。

B项：题干中指出坐10小时比坐8小时的女性患结肠癌与子宫癌的风险更大，也就是说：坐的时间越久得病的风险越大，可以推出：久坐可能对女性健康造成不良影响。

C项：题干中没有提到工作之余的体育锻炼对于身体都有好处，无法推出，排除。

D项：题干讨论的是女性坐着看电视和工作的时间长短与患病风险大小的关系，不是讨论是否上班，与题干话题不一致，排除。

所以，正确选项是B。

111. 大脑受到有毒化学物质伤害会产生功能受损，进而导致帕金森症。研究显示，体内细胞色素 P450 水平低的人患帕金森症的可能性是体内 P450 水平正常的人的三倍。因而可以认为，P450 可以保护大脑免受有毒化学物质的损伤，进而预防帕金森症。

以下陈述如果为真，哪项最能质疑上述结论？

- A. 有毒化学物质损伤大脑功能的同时也抑制人体产生 P450
- B. 帕金森症患者除 P450 外的其他细胞色素水平也显著低于常人
- C. 人工合成 P450 可以用于治疗帕金森症患者
- D. 某些非细胞色素物质可有效对抗有害化学物质来预防帕金森症

【答案】B。解析：

削弱题。题干的结论是：P450 可以保护大脑免受有毒化学物质的损伤，进而预防帕金森症。论据是体内细胞色素 P450 水平低的人患帕金森症的可能性是体内 P450 水平正常的人的三倍。

我们需要指出的削弱项是：P450 不能预防帕金森症。

A 项：有毒物质对于 P450 的抑制与 P450 是否可以预防帕金森症没有关系，属于无关选项，排除。

B 项：指出帕金森症患者与常人除了 P450 水平不同，其他细胞色素水平也不相同（隐含：不是 P450 预防帕金森症，而是其他细胞起到了预防作用），直接削弱了题干结论。

C 项：人工合成的 P450 可以治疗帕金森症，与 P450 是否可以预防帕金森症没有关系，属于无关选项，排除。

D 项：某些非细胞色素物质预防帕金森症，与 P450 是否可以预防帕金森症没有关系，属于无关选项，排除。

所以，正确选项是 B。

112. 众所周知，每个人的指纹都是不同的，指纹才是每个人独一无二的身份证，因此指纹常常用在案件侦破中。然而科学家的最新研究发现，随着机体老化，指纹纹路排列会发生不可逆转的变化，因此科学家得出结论：指纹不应该再用于案件侦破中。

以下哪项如果为真，最能质疑上述结论？

- A. 指纹是目前案件侦破的最关键证据，许多重案犯是依靠指纹才被抓捕归案的
- B. 除了指纹，每个人的 DNA 也是独一无二的且不会随着时间变化而发生改变
- C. 除了纹路排列，指纹的其他几项指标也是指纹识别技术的重要依据
- D. 指纹纹路排列发生变化有规律可循，这一规律是普遍适用的

【答案】D。解析：

削弱题。题干的结论是：指纹不应该再用于案件侦破中。论据是：随着机体老化，指纹纹路排列会发生不可逆转的变化。

我们需要指出的削弱项是：即使指纹纹路排列发生不可逆转的变化，也应继续应用于案件侦破中。

A 项：指纹对于目前破案的关键性，与讨论的话题：指纹是否应该再用于案件侦破中，没有关系，属于无关选项，排除。

B 项：DNA 的特性，与指纹是否应该用于案件侦破没有关系，属于无关选项，排除。

C 项：指出指纹的其他几项指标也是指纹识别技术的重要依据，（隐含：指纹纹路排列只是指纹的特征之一，即使指纹纹路排列发生不可逆转的变化，但是仍应继续应用于案件侦破中），削弱了题干论证。

D 项：指出指纹纹路排列发生变化是有规律可循的，（隐含：即使指纹纹路变化了，依然可以结合指纹的变化规律为破案提供证据，用于案件侦破中）。也削弱了题干论证。

比较 C、D 两项，哪一个的削弱型更强呢？C 项是承认指纹纹路排列不再可用，但是还存在指纹的其他可用特征的；而 D 项则表明，即使指纹纹路排列发生不可逆转的变化，但变化是由规律可循的，仍应继续应用于案件侦破中。）

C 项承认指纹纹路排列不再可用，D 项坚持指纹纹路排列依然可用。相比可见，D 项的削弱更彻底。

排除 C 项。

所以，正确选项是 D。

113. 骨质疏松是一种骨钙质减少，骨脆性增加，易发骨折的疾病。现有的治疗手段比如使用雌激素或者降钙素有助于阻止进一步的骨质减少但不能增加骨头质量。氟化物被认为能增加骨质，给骨质疏松症患者注入氟化物会帮助他们的骨骼不容易折断。

以下哪项如果为真，能够削弱文中观点？

- A. 大多数患骨质疏松症的人没有意识到注入氟化物可以增加骨质
- B. 牙膏中常加入氟化物来起到坚固牙齿的作用
- C. 氟化物注入健康人的体内会导致较强的副作用
- D. 通过注入氟化物增加的骨质比正常的骨骼组织更加脆弱而缺少弹性

【答案】D。解析：

削弱题。题干的结论是：给骨质疏松症患者注入氟化物会帮助他们的骨骼不容易折断。论据是：氟化物被认为能增加骨质。

我们需要指出的削弱项是：即使给骨质疏松症患者注入氟化物，他们的骨骼依然容易折断。

A 项：与给骨质疏松症患者注入氟化物会不会帮助他们的骨骼不容易折断之间没有关系，属于无关选项，排除。

B 项：氟化物可以坚固牙齿，但是不意味着给骨质疏松症患者注入氟化物能够坚固骨骼，属于无关选项，排除。

C 项：指出氟化物注入健康人的体内会导致较强的副作用，与给骨质疏松症患者注入氟化物会不会帮助他们的骨骼不容易折断之间没有关系，属于无关选项，排除。

D 项：指出注入氟化物增加的骨质比正常的骨骼组织更加脆弱，（隐含：给骨质疏松症患者注入氟化物，他们的骨骼更容易折断）。这就直接削弱了文中观点。

所以，正确选项是 D。

114. 澳大利亚研究人员称，桉树在吸收水分的同时，会将水中微量的金元素吸收进树体。通过分析桉树落叶中金的含量，可指示金矿的位置，不用钻探就能了解地表以下是否有矿藏。因此桉树探矿法对矿产勘探具有重要意义。

以下哪项如果为真，最能削弱上述结论？

- A. 金矿一般都埋藏于砂石层之下，普通土壤层在砂石层上面，植物的根生长在土壤层
- B. 澳洲西南部的的新南威尔士州富含金矿，当地的桉树叶中含金量与其它地区并无显著差异
- C. 桉树探矿法的实施周期较长，需要等待桉树成材之后才能有效
- D. 澳洲西南部有大片的桉树林，澳洲最早发现的金矿也在那里

【答案】A。解析：

削弱题。题干的结论是：桉树探矿法对矿产勘探有重要意义。论据是：通过分析桉树落叶中金的含量，可以指示金矿的位置，不用钻探就能了解地表以下是否有矿藏。

我们需要指出的削弱项是：桉树探矿法对矿产勘探没有意义。

A 项：指出金矿一般在砂石层，而植物的根在土壤层。（隐含：桉树是植物，根必然也在土壤层，桉树的根与金矿分别在不同的位置，因此桉树探矿法对矿产勘探没有意义）。削弱了题干论证。

B 项：指出澳洲西南部的的新南威尔士州的桉树叶中含金量与其他地区并无显著差异，但是当地却富含金矿（隐含：举例说明桉树探矿法对矿产勘探没有意义。）有一定的削弱作用。

C 项：桉树探矿法的实施周期较长，需要等待桉树成材之后才能有效，属于支持项，排除

D 项：指出澳洲西南部有大片的桉树林也有最早发现的金矿，但是没有提到桉树探矿法对矿产勘探有没有意义，属于无关项，排除。

比较 A、B 两项，B 项仅是举例说明某一地区桉树探矿法无效，其他地区是否适用桉树探矿法无法判断，削弱力度较小。而 A 项指出桉树探矿法对矿产勘探没有意义，削弱力度更强。排除 B 项。

所以，正确选项是 A。

115. 过去人们基于对月岩原子放射性衰变的测量认为，月球诞生在太阳系形成之后约 3000 万到 4000 万年之间。一项新的研究基于 259 台电脑对围绕太阳旋转的原行星盘演化过程的模拟，再现了小型天体在最终形成现有岩态行星之前不断撞击和聚合的过程。该研究人员认为，大约在太阳系诞生之后约 9500 万年，一颗巨大的小行星撞击地球，形成的碎片最后变成了月球。

以下哪项最能指出前后两种观点的分歧？

- A. 关于月球形成时间，有两种不同的估算方法，一种基于放射性衰变测量，一种是基于计算机模拟
- B. 关于月球形成过程，有两种不同的理论假说，一种基于月岩自然衰变，一种是原行星盘自然演化
- C. 关于月球形成方式，有两种不同的模型解释，一种基于月球组成成分的测量，一种是小行星撞击
- D. 关于月球与地球的演化，有两种不同的还原方法，一种基于月球现有成分的测量，一种是计算机模拟

【答案】A。解析：

第一种观点：基于对月岩原子放射性衰变的测量认为，月球诞生在太阳系形成之后约 3000 万年到 4000 万年之间；

第二种观点：基于 259 台电脑对围绕太阳旋转的原行星盘演化过程的模拟，大约在太阳系诞生之后约 9500 万年，一颗巨大的小行星撞击地球形成的碎片最后变成了月球。

A 项：关于月球形成时间，第一种观点是基于对月岩原子放射性衰变的测量得出结论，第二种观点是基于 259 台电脑的模拟，得到了不同的月亮形成时间，选项与题干描述的内容一致，指出了前后两种观点的分歧。

B 项：第一种观点基于的是月岩原子放射性衰变，而不是基于月岩自然衰变，与题干描述不一致，排除。

C 项：第一种观点基于的是月岩原子放射性衰变，而不是基于月球组成成分的测量，与题干描述不一致，排除。

D 项：第一种观点基于的是月岩原子放射性衰变，并不是基于月亮现有成分的测量，与题干描述不一致，排除

所以，正确选项是 A。

第五部分 资料分析

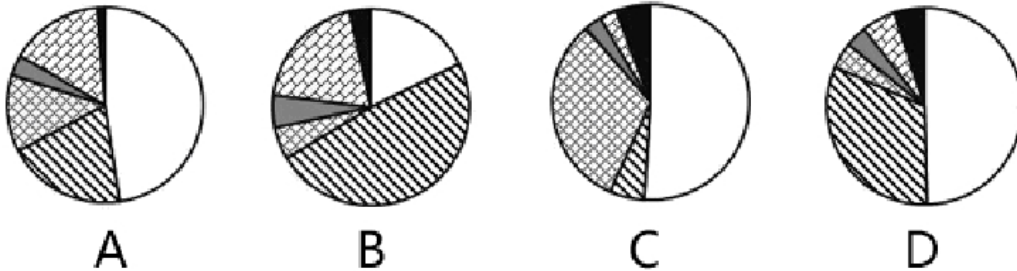
（共 20 题，参考时限 20 分钟）

所给出的图、表、文字或综合性资料均有若干个问题要你回答。你应根据资料提供的信息进行分析、比较、计算和判断处理。

一、根据下面提供的信息回答问题。

所以，正确选项是 C。

119. 以下哪个图形能够正确反映债券投资总额中各基金的占比情况？



【答案】A。解析：

定位数据，债券投资各项数据分别为：54、26、15、4、16、1 亿元，总额 116 亿元。

估算最大模块 $54/116$ ，明显小于 50%。C、D 两项明显不符，排除。

15、16 两个模块相近，按此特征选择。B 项竟然有三个模块相近，排除。

所以，正确选项是 A。

120. 能够从上述资料推出的是：

- A. 除居民养老保险基金外，其他社保基金均无协议存款投资
- B. 城镇职工基本医疗保险基金资产总额是居民基本医疗保险基金的 8 倍多
- C. 城镇职工基本医疗保险基金的资产项目类型数少于其他社会保险基金
- D. 城镇职工基本养老保险基金资产总额高于表中其他各项基金总额之和

【答案】D。解析：

A 项：定位图表可知，除城镇职工基本养老保险外，其他各项基金无协议存款投资。错误，不能推出。

B 项：定位图表可知，城镇职工基本医疗保险金额为 8348 亿元，居民基本医疗保险金额为 1077 亿元， $8348 \div 1077 < 8$ ，不到 8 倍。错误，不能推出。

C 项：定位图表可知，城镇职工基本医疗保险的项目比居民基本医疗保险多。错误，不能推出。

D 项：定位图表可知，城镇职工基本养老保险基金金额为 29930 亿元，总金额为 47727 亿元，则可知其他总和为： $47727 - 29930 \approx 17800$ 亿元，明显小于 29930 亿元。正确，可以推出。

所以，正确选项是 D。

二、根据下面提供的信息回答问题。

2013-2014学年某市高等教育分学科研究生数

	毕业生数(人)		招生数(人)		在校生数(人)	
	硕士	博士	硕士	博士	硕士	博士
哲学	425	210	430	263	1356	944
经济学	4218	708	5094	970	11818	3705
法学	6185	1027	6753	1161	17882	4630
教育学	2474	252	3721	374	8692	1535
文学	3863	570	4204	675	10953	2847
历史学	370	193	474	195	1349	714
理学	3671	2802	5500	4099	15283	14617
工学	22398	4666	27055	6499	74697	28613
农学	1952	600	2276	687	5690	2623
医学	2599	1503	3625	1419	9645	4879
军事学	19	6	14	12	70	50
管理学	9169	997	11603	1271	28669	5867
艺术学	2209	271	2688	337	7348	1180
总计	59552	13805	73437	17962	193452	72204

121. 2013~2014 学年该市毕业的研究生中, 工学研究生所占比例约为:

- A. 32% B. 37% C. 39% D. 47%

【答案】B. 解析:

工学研究生毕业生数为: 硕士毕业生 22398+博士毕业生 4666 \approx 27000 人, 研究生总毕业生数为 59552+13805=73357 人, 则工学研究生所占比重为: 27000/73357=37%。与 B 项数据最为接近。

所以, 正确选项是 B。

122. 在校博士生人数超过在校研究生人数 25%的学科有几个:

- A. 7 B. 6 C. 5 D. 4

【答案】A. 解析:

求: 在校博士生/(在校硕士生+在校博士生) $>$ 25%的学科。

或者理解为: 在校博士生 $\times 3 <$ (在校硕士生+在校博士生)的学科。

通过计算对比可知, 在校博士生人数超过在校研究生人数 25%的学科有: 哲学、历史学、理学、工学、农学、医学、军事学, 共有 7 个。

所以, 正确选项是 A。

123. 硕士生与博士生招生人数比例与其毕业人数比例相差最大的学科是:

- A. 哲学 B. 文学 C. 军事学 D. 艺术学

【答案】C. 解析:

哲学: 硕博招生比=430/263=1.6/1; 硕博毕业比=425/210=2/1。

文学: 硕博招生比=4204/675=6/1; 硕博毕业比=3863/570=7/1。

军事学: 硕博招生比=14/12=1.2/1; 硕博毕业比=19/6=3/1。

艺术学: 硕博招生比=2688/337=8/1; 硕博毕业比=2209/271=8/1。

硕士生与博士生招生人数比例与其毕业人数比例相差最大的学科是军事学。

所以，正确选项是 C。

124. 在校研究生人数排名第三的学科，其研究生招生人数是毕业人数的多少倍？

- A. 1.0 B. 1.2 C. 1.5 D. 1.8

【答案】C。解析：

比较图表数据，在校研究生人数排名第三的是理学，其研究生招生人数为 5500+4099 人，毕业生人数为 3671+2802 人。则招生人数是毕业生人数的倍数为： $9600 \div 6500 \approx 1.5$ （倍）

所以，正确选项是 C。

125. 能够从上述资料推出的是：

- A. 文、史、哲三专业共招录 1200 多名博士研究生
B. 博士招生人数超过 1000 人的有 4 个学科
C. 管理学科各项统计指标均高于经济学科
D. 表中各专业博士研究生毕业人数均低于招生人数

【答案】C。解析：

求“能够从资料推出的项”。

A 项：定位图表数据，文、史、哲专业招录人数为： $675+195+263 < 1200$ （人），错误。

B 项：定位图表数据，博士招生人数超过 1000 人的有法学、理学、工学、医学、管理学，共有 5 个学科，错误。

C 项：定位图表数据，管理学科招生人数、毕业人数、在校人数均高于经济学科，正确。

D 项：定位图表数据，医学博士毕业人数大于招生人数，错误。

所以，正确选项是 C。

三、根据下面提供的信息回答问题。

2014 年，某地区生态移民人均可支配收入 5084 元，其中县内移民人均可支配收入 4933 元，县外移民人均可支配收入 5233 元，2014 年该地区生态移民人均可支配收入比农村居民人均可支配收入低 3326 元，比该地区山区九县农村居民人均可支配收入低 1099 元。

2014年某地区生态移民与农村居民人均可支配收入情况 单位：元

	生态移民	农村居民
工资性收入	3470	3391
经营净收入	692	3645
财产净收入	123	149
转移净收入	799	1225
总 计	5084	8410

2014年某地区生态移民与农村居民人均生活消费支出情况 单位：元

	生态移民	农村居民
食品烟酒	2033	2296
衣着	411	602
居住	939	1388
生活用品及服务	261	496
交通通信	526	961
教育文化娱乐	393	867
医疗保健	427	857
其他用品服务类	100	209
总计	5090	7676

126. 2014年，该地区生态移民中，县内移民与县外移民人数之比与以下哪一项最接近？

- A. 8 : 5 B. 10 : 9 C. 5 : 8 D. 9 : 10

【答案】B。解析：

定位文字资料：2014年该地区生态移民人均可支配收入5084元，其中县内移民人均4933元，县外移民人均5233元。

运用十字相乘法，可求得2014年该地区生态移民中，县内移民与县外移民人数的比例。

$$\begin{array}{r} \text{县内移民：} 4933 \\ \qquad \qquad \qquad 149 \text{（对角线上大数减小数）} \\ \qquad \qquad \qquad 5084 \end{array}$$

$$\begin{array}{r} \text{县外移民：} 5233 \\ \qquad \qquad \qquad 151 \text{（对角线上大数减小数）} \end{array}$$

则2014年该地区生态移民中，县内移民与县外移民人数的比例位149：151，约等于9：10。

所以，正确选项是B。

127. 2014年，该地区生态移民经营净收入占人均可支配收入的比重比农村居民低多少个百分点？

- A. 0.6 B. 1.1 C. 15.7 D. 29.7

【答案】D。解析：

定位表1数据，2014年该地区生态移民经营性收入692元，人均可支配收入总计5084元；农村居民经营性收入3645元，人均可支配收入总计8410元。

则生态移民经营性收入所占比重与农村相比： $(692 \div 5084) - (3645 \div 8410) \approx 14\% - 43\% = -29\%$ 。即低29个百分点。

所以，正确选项是D。

128. 2014年，该地区农村居民在食品烟酒、衣着、居住三项消费上支出约占总消费支出的：

- A. 49% B. 56% C. 67% D. 74%

【答案】B。解析：

定位表1数据，2014年该地区农村居民食品烟酒支出2296元，衣着支出602元，居住支出1388元，总消费支出7676元。

则三者占总消费支出的比重为： $(2296+602+1388) / 7676 = 4300 / 7676 \approx 55\%$ 。

所以，正确选项是B。

129. 2014年该地区农村居民人均生活消费支出与生态移民人均生活消费支出金额相差在300元以上的

有几项？

A. 3

B. 4

C. 5

D. 6

【答案】B。解析：

定位表 2 数据，可知该地区生态移民与农村居民的人均生活消费支出状况，简单计算可得，差额在 300 元以上的有居住、交通通信、教育文化娱乐、医疗保健四类。

所以，正确选项是 B。

130. 能够从上述资料推出的是：

A. 2014 年该地区生态移民各项人均可支配收入均低于农村居民

B. 2014 年该地区山区九县农村居民人均可支配收入在 4000 元左右

C. 2014 年该地区生态移民人均交通通信支出占人均总生活消费支出的 10%以上

D. 2014 年该地区农村居民人均可支配收入比人均总生活消费支出高 1000 多元

【答案】C。解析：

找出说法正确的一项。

A 项：定位表 1 数据，2014 年该地区生态移民工资性收入为 3470 元，大于农村居民工资性收入 3391 元，说法错误。

B 项：定位文字资料，2014 年该地区生态移民人均可支配收入 5084 元，比山区九县农村居民可支配收入低 1099 元。则山区九县农村居民可支配收入=5084+1099>6000，说法错误。

C 项：定位表 2 数据，2014 年该地区生态移民交通通信消费支出为 526 元，总支出为 5090 元，则 2014 年该地区生态移民人均交通通信支出占人均总生活消费支出的比重为： $526/5090 > 10\%$ ，说法正确。

D 项：定位文字资料，2014 年该地区生态移民人均可支配收入比农村居民人均可支配收入低 3326 元，则 2014 年该地区农村居民人均可支配收入=5084+3326=8410 元，比农村居民人均生活消费总支出高 $8410-7676 < 1000$ 元，说法错误。

所以，正确选项是 C。

四、根据下面提供的信息回答问题。

2015 年一季度，某省省级及以上园区（以下简称园区）实现主营业务收入 7062.85 亿元，同比增长 11%，实现主导产业主营业务收入 4369.54 亿元，同比增长 10.4%。

一季度，全省园区拥有企业 30975 家，比上年同期增加 3221 家，其中本年新增企业 311 家，期末从业人数 264.23 万人，同比增长 9.2%。其中，工业企业期末从业人数 209.17 万人，同比增长 9.9%。

一季度，全省园区高新技术产业期末从业人数 90.92 万人，同比增长 8.3%，实现高新技术产业产值 2815.19 亿元，同比增长 8.1%。

一季度，全省园区共实现利润 279.54 亿元，同比增长 11.1%。上缴税金 223.87 亿元，同比增长 14.1%。

所以，正确选项是 B。

134. 关于 2015 年一季度该省园区企业的以下信息，能够从上述资料中直接推出的是：

- A. 平均每月新增从业人员数
- B. 平均每家工业企业从业人员数
- C. 平均每万元主营业务收入实现利润额
- D. 平均每家高新技术产业企业实现产值

【答案】C。解析：

求能够从资料中直接推出的一项。

A 项，文字资料第二段，只给出了期末从业人数和同比增长率，并没有给出 2014 年第四季度期末的从业人数，因此无法求得 2015 年一季度平均每月新增就业人员数。A 项错误。

B 项，文字资料第二段，只给出了 2015 年一季度工业企业期末从业人员数，并未给出工业企业的个数，因此无法推出平均每家工业企业的从业人数。B 项错误。

C 项，由文字资料第一、四段，分别可得到主营业务收入为 7062.85 亿元，利润总额为 279.54 亿元，则平均每万元主营业务收入实现利润额为： $(279.54 / 7062.85) \times 10000$ 。因此 C 项能够推出，正确。

D 项，文字资料第三段，只给出了高新技术产业产值，并未给出高新技术产业企业数，因此无法推出平均每家高新技术产业企业实现产值。D 项错误。

所以，正确选项是 C。

135. 关于 2015 年一季度该省园区企业营业状况，能够从上述资料推出的是：

- A. 主导产业主营业务收入占总体主营业务收入比重同比上升
- B. 平均每月新增企业约 26 家
- C. 图中主营业务收入增速快于园区主营业务收入总体增速的行业有 3 个
- D. 主营业务收入最低的行业主营业务收入占园区总体的比重低于 1%

【答案】D。解析：

求能够从资料中直接推出的一项。

A 项，由文字资料第一段可知，2015 年一季度，某省园区实现主营业务收入……同比增长 11%，实现主导产业主营业务收入……同比增长 10.4%。主营业务收入同比增幅大于主导产业主营业务收入，因此，主导产业主营业务收入占总体主营业务收入的比重必然是同比下降。因此 A 项错误。

B 项，由文字资料第二段可知，一季度……新增企业 311 家。则平均每月新增企业约为 $311 / 3 = 100$ 家，而不是 26 家。因此 B 项错误。

C 项，由文字资料第一段可知，2015 年一季度，某省园区主营业务收入同比增长 11%。对比图形资料数据，高于此值的有建筑业：12.5%，批发零售：15.9%，服务员：23%，房地产：16.3%。共有 4 个行业。因此 C 项错误。

D 项，由图形资料数据可知，主营业务收入最低的行业是住宿餐饮，其主营业务收入为 51.27 亿元。由文字资料第一段可知，2015 年一季度，某省园区实现主营业务收入 7062.85 亿元。则主营业务收入最低的行业主营业务收入占园区总体的比重为： $51.27 / 7062.85$ ，的确低于 1%。D 项正确。

所以，正确选项是 D。

全部测验到此结束！

请扫描QQ二维码，备注“公务员考生”加QQ
好友，获取曹长远老师精解历年公务员考试申论、
行测、面试真题完整解析资料。

精品资料，尽在掌握！



扫描二维码，加QQ好友