

2012年4月21日甘肃省公务员考试

《行政职业能力测验》真题答案解析

说明

一、此项测验分为五个部分，共120题，总时限120分钟，满分100分。各部分不单独计时，但都给出参考时限，供答题时合理分配时间。

二、此项测验科目代码为“1”。请按照要求在答题卡上填写好自己的姓名，涂写好准考证号、科目代码。

三、必须在答题卡上答题，在题本上答题，一律无效。

严禁折叠答题卡！

第一部分 常识判断

(共20题，参考时限15分钟)

根据题目要求，在四个选项中选出一个最恰当的答案。

1. 2011年我国改革开放和社会主义现代化建设取得新的重大成就，其中包括：

- A. 人均GDP超过3000美元
- B. 外汇储备首次超过日本居世界第一
- C. 城镇化率超过50%
- D. 粮食总产量首次超过10万亿斤

【答案】C。解析：

温家宝总理在《2012年政府工作报告》的第一部分“2011年工作回顾”中指出：“城镇化率超过50%，这是中国社会结构的一个历史性变化。”由此可知，C项的说法是正确的。

所以，正确选项是C。

2. 关于我国“战国七雄”的地理位置描述准确的是：

- A. 齐国的纬度最高
- B. 楚国的纬度最低
- C. 燕国的经度最小
- D. 秦国的经度最大

【答案】B。解析：

“战国七雄”的地理位置可以用口诀描述为：齐楚秦燕赵魏韩，东南西北在中间。由此可知：齐国不在最北边，纬度不是最高，A项错误，排除；楚国在最南边，纬度最低，B项正确；燕国在最北边，纬度最高，C项错误，排除；秦国在最西边，经度最小，D项错误，排除。

所以，正确选项是B。

3. 杨柳是我国古代诗词里面较为常见的意象，往往蕴涵离别之情。下列名句中不是表达离别意象的是：

- A. 羌笛何须怨杨柳，春风不度玉门关
- B. 渭城朝雨浥轻尘，客舍青青柳色新
- C. 今宵酒醒何处，杨柳岸、晓风残月
- D. 庭院深深深几许？杨柳堆烟、幕帘无重数

【答案】D。解析：

A项，“羌笛何须怨杨柳，春风不度玉门关”出自王之涣《凉州词》，表达了戍边军士对离别家乡的思念之情，排除；B项，“渭城朝雨浥轻尘，客舍青青柳色新”出自王维《渭城曲》，表达了作者送别友人的离别之情，排除；C项，“今宵酒醒何处，杨柳岸、晓风残月”出自柳永的《雨霖铃》，表达了作者与恋人的离别之情，排除。

D项，“庭院深深深几许？杨柳堆烟、幕帘无重数”出自欧阳修《蝶恋花》，描述了深深庭院中的女子，面对层层杨柳伤怀怨春的情感，不是表达离别意象。

所以，正确选项是D。

4. 中国古典戏剧作品塑造了王昭君、李香君、杜丽娘和崔莺莺等经典女性形象，下列作品与上述人物对应关系正确的是：
- A. 《西厢记》—《汉宫秋》—《桃花扇》—《牡丹亭》
 - B. 《西厢记》—《桃花扇》—《汉宫秋》—《牡丹亭》
 - C. 《汉宫秋》—《桃花扇》—《牡丹亭》—《西厢记》
 - D. 《汉宫秋》—《牡丹亭》—《桃花扇》—《西厢记》

【答案】C。解析：

根据崔莺莺是《西厢记》中的人物，可以直接排除 A、B 两项。王昭君是《汉宫秋》中的人物，李香君是《桃花扇》中的人物，杜丽娘是《牡丹亭》中的人物，排除 D 项。

所以，正确选项是 C。

5. 下列影视剧情景设计符合历史常识的是：
- A. 燕子丹与荆轲分坐八仙桌两侧，秉烛夜谈，谋划赴咸阳刺杀秦王计划
 - B. 毛泽东对李宗仁幽默地说：德邻先生，你这次归国，是误上了贼船啊
 - C. 魏征劝谏李世民时，说道：陛下当先天下之忧而忧，后天下之乐而乐
 - D. 越王勾践兵败后给吴王差夫当奴仆，以红薯充饥，每晚则睡在柴垛上

【答案】B。解析：

A 项，战国时代不可能有八仙桌，八仙桌到辽金时代才出现，A 项错误，排除；C 项，“先天下之忧而忧，后天下之乐而乐”是北宋范仲淹《岳阳楼记》里的名句，不可能是唐朝魏征说的，C 项错误，排除；D 项，红薯在明朝时才传入我国，勾践生活的春秋时代不可能有红薯，D 项错误，排除。

所以，正确选项是 B。

6. 下列选项中的三国典故与哲学论断对应错误的是：
- A. 士别三日，当刮目相看——用发展的眼光看问题
 - B. 草船借箭——人可以认识并利用规律
 - C. 张飞醉酒失徐州，借酒破张郃——矛盾是对立统一的
 - D. 望梅止渴——理性认识依赖于感性认识

【答案】D。解析：

“望梅止渴”说的是曹操让口渴的士兵想象酸酸的梅子，流口水而止渴。这个典故体现了“意识对物质的能动作用”，而不是理性认识依赖于感性认识。D 项是错误的。

所以，正确选项是 D。

7. 中美关系是全球最重要的双边关系之一，中美建交前后曾发生过以下事件：

- ①邓小平访美
- ②中美发布上海联合公报
- ③尼克松总统访华
- ④福特总统访华

按时间先后顺序排列正确的是：

- A. ②③①④
- B. ②①④③
- C. ①②③④
- D. ③②④①

【答案】D。解析：

1972 年尼克松总统访华，1975 年中美发布上海联合公报，1975 年福特总统访华，1979 年邓小平访美。按时间先后顺序排列正确的是③②④①。

所以，正确选项是 D。

8. 我国作为非成员国参加的政府间国际组织是：

- A. 上合组织
- B. 东盟 10 国
- C. 金砖国家
- D. G20

【答案】B。解析：

A 项，我国是上合组织成员国，排除；C 项的“金砖国家”和 D 项的“G20”都不是政府间国际组织，排除。所以，正确选项是 B。

9. 为提高社会管理科学化水平，全国各地积极出台加强和创新社会管理的措施。下列措施中不属于创新社会管理的是：

- A. 组织社区志愿者开展邻里互动活动
- B. 提高临床一线医护人员的待遇水平
- C. 通过微博向群众提供政务服务资讯
- D. 设奖鼓励市民投诉举报食品安全问题

【答案】B。解析：

B 项，“提高临床一线医护人员的待遇水平”属于行业内部的分配调整，不属于创新社会管理的措施。所以，正确选项是 B。

10. 下列论断属于邓小平同志在 1992 年“南方谈话”时提出的是：

- A. 社会主义首先要发展生产力
- B. 社会主义也可以搞市场经济
- C. 中国要警惕右，但主要是防止“左”
- D. 搞建设至少不比搞革命容易

【答案】C。解析：

1992 年邓小平在南方视察时指出：“中国要警惕右，但主要是防止‘左’。右的东西有，动乱就是右！‘左’的东西也有，把改革开放说成是引进和发展资本主义，认为和平演变的主要危险来自经济领域，这些就是‘左’。我们必须保持清醒的头脑，这样就不会犯大错误，出现问题也容易纠正和改正。”

所以，正确选项是 C。

11. 某村民委员会下列做法符合法律规定的是：

- A. 村委会规定村里的荒山不得以招标、拍卖等形式实行承包经营
- B. 村民乙外出经商，村委会不同意乙在承包期内放弃承包权
- C. 村民丙全家转为城市户口，村委会取消丙承包期内的承包权
- D. 村委会规定凡是嫁往外地的本村妇女，承包地应一律归还村委会

【答案】C。解析：

A 项，《农村土地承包法》第三条规定：农村土地承包采取农村集体经济组织内部的家庭承包方式，不宜采取家庭承包方式的荒山、荒沟、荒丘、荒滩等农村土地，可以采取招标、拍卖、公开协商等方式承包。因此，A 项中村委会的规定不符合法律规定，排除。

B 项，《农村土地承包法》第二十九条规定：承包期内，承包方可以自愿将承包地交回发包方。因此，B 项中村委会的做法不符合法律规定，排除。

C 项，《农村土地承包法》第二十六条规定：承包期内，承包方全家迁入设区的市，转为非农业户口的，应当将承包的耕地和草地交回发包方。因此，C 项中村委会的做法符合法律规定。

D 项，《农村土地承包法》第三十条规定：承包期内，妇女结婚，在新居住地未取得承包地的，发包方不得收回其原承包地。因此，D 项中村委会的做法不符合法律规定，排除。

所以，正确选项是 C。

12. 下列请求应依法予以支持的是：

- A. 某男擅自按市价出售双方共有住房，其妻要求追回
- B. 某女起诉请求离婚，要求分割其丈夫的工伤补助金
- C. 按父母遗嘱某女继承全部家产，其兄要求平分家产
- D. 某夫妻已育有一个健康男孩，现申请收养一名孤儿

【答案】A。解析：

《物权法》第九十七条规定：处分共有的不动产或者动产，应当经占份额三分之二以上的按份共有人或者全体共同共有人同意。《物权法》第一百零六条规定：无处分权人将不动产或者动产转让给受让人的，所有权人有权追回。

因此，某男无权擅自出售夫妻双方的共有住房，其妻要求追回的请求应依法予以支持。
所以，正确选项是 A。

13. 某小区召开业主大会，会上物业管理处马主任现场解答业主的提问，其中符合法律规定的是：

- A. 未经业主委员会同意，顶楼业主不得私自封闭屋顶天台
- B. 经物业管理处同意，业主可在自家临街外墙设置广告牌
- C. 未经业主委员会同意，开发商无权出售架空层内的车库
- D. 经工商行政管理部门许可，业主可将自家住宅改为商店

【答案】A。解析：

根据《最高人民法院关于审理建筑物区分所有权纠纷案件具体应用法律若干问题的解释》第三条规定，屋顶天台归业主共有，未经业主委员会同意，顶楼业主不得私自封闭屋顶天台。因此，A 项中马主任的解答符合法律规定。其他三项可以直接排除。

所以，正确选项是 A。

14. 下列产品或劳务应计入当年 GDP 的是：

- A. 某企业当年生产的库存品
- B. 某人购买的一套二手房
- C. 某人持有国债的利息收入
- D. 某人在家从事家务劳动

【答案】A。解析：

所谓 GDP，通常是指一定时期内（一个季度或一年），一个国家或地区的经济中所生产出的全部最终产品和提供劳务的市场价值的总值。

B 项中的“二手房”，不一定是当年生产的最终产品，排除；C 项中的“利息收入”，不是生产出的产品，排除；D 项中的“家务劳动”，不是用来市场交换的，不具有市场价值，排除。

所以，正确选项是 A。

15. 如果美元贬值，因此可能产生的后果是：

- A. 以美元计价的大宗商品价格上涨
- B. 世界新兴经济体将增加美元储备
- C. 我国产品在美国市场竞争力上升
- D. 我国经销商将减少进口美国产品

【答案】A。解析：

即使考生没有专业的经济学知识，也可以根据常识经验迅速作出判断。根据常识，如果美元贬值了，那么以美元计价的大宗商品价格肯定会随之上涨。

所以，正确选项是 A。

16. 2011 年 12 月中央经济工作会议提出“牢牢把握发展实体经济这一坚实基础”。下列产业中属于实体经济的是：①房地产业；②仓储服务业；③旅游产业；④收藏业；⑤电信产业。

- A. ③⑤
- B. ②③⑤
- C. ①②③⑤
- D. ①②③④⑤

【答案】B。解析：

所谓实体经济，是指物质的、精神的产品和服务的生产、流通等经济活动。包括农业、工业、交通运输业、商业服务业、建筑业等物质生产和服务部门，也包括教育、文化、知识、信息、艺术、体育等精神产品的生产和服务部门。

实体经济与虚拟经济相对。与虚拟经济相比，实体经济往往投入成本较高、产出周期偏长、利润空间有限，而虚拟经济则主要靠资金密集，过度炒作资产获利，如金融业、博彩业、房地产业、收藏业等。因此，①④不属于实体经济，排除。

所以，正确选项是B。

17. 关于我国兵役制度，下列表述错误的是：

- A. 我国实行义务兵与志愿兵相结合、民兵与预备役相结合的兵役制度
- B. 普通高等学校毕业生征集服现役的年龄可以放宽至二十四周岁
- C. 义务兵服现役的期限为三年，士官服现役的期限一般不超过三十年
- D. 士兵预备役的年龄，为十八周岁至三十五周岁，根据需要可适当延长

【答案】C。解析：

《兵役法》第十八条规定：义务兵服现役的期限为二年。因此，C项的表述是错误的。

所以，正确选项是C。

18. 为调动农民生产积极性，从2004年起，我国全面放开粮食收购市场。为保护粮食生产能力，同年，我国还配套出台的“三农”政策是：

- A. 在全国范围内免征农业税
- B. 在全国范围内实行粮食直补
- C. 实施农业科技入户工程
- D. 实施最严格的耕地保护制度

【答案】B。解析：

A项，从2006年起，我国在全国范围内免征农业税。因此，A项的说法错误，排除。

B项，从2004年起，我国在全国范围内实行粮食直补。因此，B项的说法是正确的。

C项，从2005年起，我国实施农业科技入户工程。因此，C项的说法错误，排除。

D项，2003年，党的十六届三中全会提出“实施最严格的耕地保护制度”。D项的说法错误，排除。

所以，正确选项是B。

19. 古人归纳总结出许多观天象识天气的谚语。下列与天气变化无关的谚语是：

- A. 朝霞不出门，晚霞行千里
- B. 天上鱼鳞云，地下雨淋淋
- C. 东风是个精，不下也要阴
- D. 百日连阴雨，总有一日晴

【答案】D。解析：

所谓“百日连阴雨，总有一日晴”，不是说什么天气变化，而是意在说明：在生活中面对逆境不要失去信心，逆境只是暂时的，总会有雨过天晴的那一天。

所以，正确选项是D。

20. 下列关于二十四节气说法错误的是：

- A. 雨水、谷雨反映降水现象
- B. 立春、春分反映季节变化
- C. 惊蛰、清明反映自然物候现象
- D. 小雨、芒种与农作物成熟和收成相关

【答案】B。解析：

从二十四节气的名称可以看出，节气的划分充分考虑了季节、气候、物候等自然现象的变化。其中，立春、立夏、立秋、立冬用来反映四个季节的开始；春分、秋分、夏至、冬至用来反映太阳高度变化的转折点；小暑、大暑、处暑、小寒、大寒用来反映一年中不同时期冷热程度；雨水、谷雨、小雪、大雪用来反映降雨、降雪的情况。

时间和强度；白露、寒露、霜降用来反映气温逐渐下降的过程和程度；小满、芒种反映农作物的成熟和收成情况；惊蛰、清明反映自然物候现象，尤其是惊蛰，它用天上初雷和地下蛰虫的复苏，来预示春天的回归。

由此可知，B项“春分反映季节变化”的说法是错误的。

所以，正确选项是B。

第二部分 言语理解与表达

(共30题，参考时限30分钟)

本部分包括表达与理解两方面的内容。请根据题目要求，在四个选项中选出一个最恰当的答案。

21. 越来越多的年轻观众对京剧缺乏了解，不懂得欣赏京剧的美；还有一部分人对舶来品_____，认为都比国内的好，对于自己国家的传统艺术，却认为是老土的、过时的东西，而_____。

依次填入划横线部分最恰当的一项是：

- A. 刮目相看 嗤之以鼻
B. 一见钟情 充耳不闻
C. 另眼相看 不屑一顾
D. 青眼有加 不足挂齿

【答案】C。解析：

阅读可知，填入第二个空格的词语必须与前面的“认为都比国内的好……认为是老土的、过时的东西”相呼应。由于认为自己国家的传统艺术是老土的、过时的东西，因此认为不值一看。认为不值一看正是“不屑一顾”的意思。由此可知，在第二个空格中填入C项，可以形成最佳的语境呼应。根据突点排除法，可以直接排除A、B、D三项。

所以，正确选项是C。

22. 目前，不少企业在市场营销活动中因缺乏对顾客消费心理的研究，常常因方法不当或举止不妥失去成交机会，致使长时间的业务洽谈_____。因此，掌握顾客的消费心理，促成顾客的购买行为已经成为企业提高营销水平的_____。

依次填入划横线部分最恰当的一项是：

- A. 毁于一旦 必由之路
B. 功败垂成 万全之策
C. 前功尽弃 长久之计
D. 功亏一篑 当务之急

【答案】D。解析：

阅读可知，填入第二个空格的词语必须与段首的“目前”相呼应。由于“目前……缺乏对顾客消费心理的研究”，因此企业当前最急切要办的事就是“掌握顾客的消费心理”。当前最急切要办的事正是“当务之急”的意思。由此可知，在第二个空格中填入D项，可以形成最佳的语境呼应。根据突点排除法，可以直接排除A、B、C三项。

所以，正确选项是D。

23. 许多种类的蝴蝶鱼在尾部前上方，与头部眼睛相对称位置有一黑色斑点，宛如鱼眼，而它的眼睛则在头部的黑斑中。平时，蝴蝶鱼在海中总是倒退游动。掠食者常受尾部黑斑的_____，误把鱼尾作鱼头。当掠食者猛扑向它时，蝴蝶鱼正好顺势向前飞速逃走。

依次填入划横线部分最恰当的一项是：

- A. 隐匿 引诱
B. 隐藏 迷惑
C. 深藏 诱惑
D. 藏匿 诱骗

【答案】B。解析：

阅读可知，填入第二个空格的词语必须与后面的“误把鱼尾作鱼头”相呼应。为什么掠食者会经常误把鱼尾作鱼头呢？是因为被蝴蝶鱼用尾巴上的黑色斑点冒充的眼睛“迷惑”了，而不是因为受到了蝴蝶鱼的诱惑。引诱、诱惑、诱骗三项都有“诱”的成分，与题干语境不符，排除。

所以，正确选项是B。

24. 到中世纪时期，大多数地区的文明已根深蒂固，难以_____。唯独在西方，曾盛行一时的古典文明被连根拔起，为新文明的形成彻底扫清了道路，沿着崭新的道路自由发展。正是西方的这一独特性，使西方能发展经济力量，推动技术进步，产生向海外扩张、_____世界诸海路的社会动力。这一重大发展了中世纪历史的结束。

依次填入划横线部分最恰当的一项是：

- A. 铲除 把持 宣判 B. 根除 控制 宣告
C. 清除 操纵 宣布 D. 清除 掌握 宣示

【答案】B。解析：

阅读可知，填入第一个空格的词语必须与前面的“根深蒂固”相呼应。既然是“根深蒂固”，与之相反的就只能是难以“根除”。由此可知，在第一个空格中填入 B 项，可以形成最佳的语境呼应。根据突点排除法，可以直接排除 A、C、D 三项。

所以，正确选项是 B。

25. 名校办分校是近年来冒出来的新生事物，这项举措受到各方意见的_____：“名校连锁”是否_____，是否与义务教育均衡发展_____。

依次填入划横线部分最恰当的一项是：

- A. 质疑 有名无实 背道而驰 B. 质询 名实不符 不谋而合
C. 质疑 名存实亡 分道扬镳 D. 质询 名不副实 南辕北辙

【答案】A。解析：

阅读可知，填入第一个空格的词语必须与后面的“是否……是否……”相呼应。所谓“是否……是否……”，有明显的“质疑”的意思。据此可以排除 B、D 两项。

对比 A、C 两项，“有名无实”与“名存实亡”不好区分。比较“背道而驰”与“分道扬镳”，“背道而驰”指背离正确的目标，“分道扬镳”指各走各的路或各干各的事。人们质疑“名校连锁”，不是质疑它干不干教育的事，而是质疑它是否背离义务教育均衡发展的正确目标。由此可知，在第三个空格中填入 A 项，可以形成最佳的语境呼应。

所以，正确选项是 A。

26. 城市的人居环境和城市发展要坚持发展和保护双赢，坚持当前发展和长远发展相结合。离开经济发展抓环境保护是_____，脱离环境保护搞经济发展是_____。

依次填入划横线部分最恰当的一项是：

- A. 开山采珠 饮鸩止渴 B. 南辕北辙 从长计议
C. 刻舟求剑 杀鸡取卵 D. 缘木求鱼 涸泽而渔

【答案】D。解析：

阅读可知，填入第二个空格的词语必须与前面的“脱离环境保护搞经济发展”相呼应。所谓“脱离环境保护搞经济发展”，就是指以牺牲环境为代价，片面发展经济。“杀鸡取卵”、“涸泽而渔”两项都有这个意思。据此可以排除 A、B 两项。

填入第一个空格的词语必须与前面的“离开经济发展抓环境保护”相呼应。所谓“离开经济发展抓环境保护”，意在批评工作的方向错误。对比 C、D 两项，“缘木求鱼”指爬到树上去捉鱼，比喻方法不对头，可以与语境构成很好的呼应；“刻舟求剑”指不能用发展的眼光看问题，与语境不符，排除。

所以，正确选项是 D。

27. 最近三个月的二手房市场成交量已接近 2008 年下半年市场最低迷时期的水平。但是，此轮调控是我国政府主动为之的行动，与 2008 年房地产市场因遭遇_____的国际金融危机而陷入低迷不同。当下的房价调整

并不均衡，不同于 2008 年房价_____，无可遏制的逐波下行。

依次填入划横线部分最恰当的一项是：

- A. 意想不到 日薄西山
B. 猝不及防 泥沙俱下
C. 出其不意 应声而下
D. 措手不及 江河日下

【答案】B。解析：

阅读可知，填入第二个空格的词语必须与前面的“不同于 2008 年”相呼应。2008 年的房地产市场情况是怎样的？由于遭遇国际金融危机而陷入低迷，与当下的“房价调整并不均衡”相反，所有房企不论好的、差的，全部“均衡”下跌，这正是“泥沙俱下”的意思。由此可知，在第二个空格中填入 B 项，可以形成最佳的语境呼应。根据突点排除法，可以直接排除 A、C、D 三项。

所以，正确选项是 B。

28. 文字可将一个人思考之所得传诸他人，于是不仅_____，而且可以利用他人的思考为出发点。文字的发展成为传至远方与后世的书籍，书籍也就成了人类思考结果的库藏。读书者可以从此库藏中_____，手执一卷可以上对邃古的哲人，远对绝域的学者，而仿佛亲聆其以言词_____毕生思考的心得。

依次填入划横线部分最恰当的一项是：

- A. 群策群力 任意索求 显露
B. 取长补短 无厌求取 诉谈
C. 传承文明 随心所欲 倾诉
D. 集思广益 予取予求 吐露

【答案】D。解析：

阅读可知，填入第一个空格的词语必须与前面的“文字可将一个人思考之所得传诸他人”，以及后面的“利用他人的思考”相呼应。所谓“思考……传诸他人”、“利用他人的思考”，都是强调把更多的思考、智慧集中起来，这正是“集思广益”的意思。由此可知，在第一个空格中填入 D 项，可以形成最佳的语境呼应。根据突点排除法，可以直接排除 A、B、C 三项。

所以，正确选项是 D。

29. 史学研究如果离开了哲学的_____，不关注重大的历史事变和基本的理论问题，以繁琐考辨取代理论思维，以堆砌资料为_____，以叠床架屋为_____，拾芝麻以为玊珠，袭陈言而自诩多闻，见枯木以为树林，_____，见小遗大，就注定要湮没在史料的汪洋之中，堕落为服务故纸堆的陈腐工具。

依次填入划横线部分最恰当的一项是：

- A. 指引 多 强 一孔见天
B. 引导 广 美 窥斑见豹
C. 指导 博 精 以偏概全
D. 指点 全 妙 以管窥天

【答案】C。解析：

阅读可知，填入第四个空格的词语必须与前面的“见枯木以为树林”相呼应。所谓“见枯木以为树林”，正是把片面当做全面，“以偏概全”的意思。由此可知，在第四个空格中填入 C 项，可以形成最佳的语境呼应。根据突点排除法，可以直接排除 A、B、D 三项。

所以，正确选项是 C。

30. 文化认同作为小到一个群体、大到一个民族向心力的有机“粘合剂”，是凝聚这个群体和民族伟大精神力量的_____。文化认同如果缺失，社会语境便趋于焦虑，人们的价值取向便会_____。因为，文化认同，相对于政治认同和社会认同，具有更深远的_____。

依次填入划横线部分最恰当的一项是：

- A. 根基 迷失 内涵
B. 基础 失落 后盾
C. 基础 失落 意义
D. 根本 丢失 价值

【答案】A。解析：

阅读可知，填入第二个空格的词语必须与前面的“价值取向”相呼应。所谓“价值取向”，有“方向”的意

思，表述“失去方向”的固定搭配是“迷失方向”。由此可知，在第二个空格中填入 A 项，可以形成最佳的语境呼应。根据突点排除法，可以直接排除 B、C、D 三项。

所以，正确选项是 A。

31. “徒法不足以自行”，在目前公车管理还不甚规范的大环境下，单一的公车尾号限行政策值得_____，真要实行的话，要_____其负面作用。至少，要_____拿出措施防止公车因此而增加。

依次填入划横线部分最恰当的一项是：

- A. 商讨 警惕 居安思危
B. 商量 防备 有备无患
C. 商议 提防 临阵磨枪
D. 商榷 谨防 未雨绸缪

【答案】D。解析：

阅读可知，填入第一个空格的词语必须与前面的“单一的公车尾号限行政策”相呼应。作者显然不同意“单一的公车尾号限行政策”。人们对某种观点或政策发表不同意见，固定用法是称之为“商榷”。由此可知，在第一个空格中填入 D 项，可以形成最佳的语境呼应。根据突点排除法，可以直接排除 A、B、C 三项。

所以，正确选项是 D。

32. 中国古代货币，是世界上起源最早的货币之一。它_____，对古代世界上国际经济交往，特别是亚洲各国货币的发展有着相当_____的影响。

依次填入划横线部分最恰当的一项是：

- A. 亘古长青 久远
B. 源远流长 深远
C. 历史久远 重大
D. 历史悠久 深刻

【答案】B。解析：

阅读可知，填入第一个空格的词语必须与前面的“起源最早”相呼应。所谓“起源最早”，意在强调其“源远流长”。由此可知，在第一个空格中填入 B 项，可以形成最佳的语境呼应。根据突点排除法，可以直接排除 A、C、D 三项。

所以，正确选项是 B。

33. 当天下午，加尔各答的唐人街可谓_____，人们携老扶幼，喜气洋洋地来到当地著名的科学城礼堂观看的文艺演出。当《春节序曲》等全球华人_____的乐曲响彻整个表演大厅时，整个大厅变成了一片欢庆的海洋。

依次填入划横线部分最恰当的一项是：

- A. 摩肩接踵 妙趣横生 口口相传
B. 万人空巷 异彩纷呈 耳熟能详
C. 倾巢而出 奇观异彩 耳闻则通
D. 人头攒动 五彩缤纷 烂熟于心

【答案】B。解析：

阅读可知，填入第三个空格的词语必须与前面的“《春节序曲》”相呼应，意在强调全球华人对这首乐曲听得很多，很熟悉。所谓对乐曲听得很多，很熟悉，固定用法是称之为“耳熟能详”。由此可知，在第三个空格中填入 B 项，可以形成最佳的语境呼应。根据突点排除法，可以直接排除 A、C、D 三项。

所以，正确选项是 B。

34. 中国女足很长一段时间陷于_____，国人对女足的关注似乎仅_____。2011 年 8 月 21 日，中国女足最终获得大运会女足冠军，铿锵玫瑰再次_____在球场上，国人不禁回想起当年中国女足的辉煌。

依次填入划横线部分最恰当的一项是：

- A. 低潮 弹指之间 怒放
B. 低回 转瞬之间 盛放
C. 低迷 昙花一现 绽放
D. 低落 电光火石 开放

【答案】C。解析：

阅读可知，填入第二个空格的词语必须与前面的“仅”相呼应，意在强调国人对女足的关注时间很短。“弹指之间”指弹一下手指的时间，“转瞬之间”指转一下眼珠的时间、“电光火石”指一次闪电、一次燧火的时间，用来描述国人对女足的关注时间都显得实在太短了，与语境明显不符，排除。“昙花一现”指昙花开放时间很短。用来描述国人对女足的关注时间很短，很快就过去了，可以形成最佳的语境呼应。

所以，正确选项是C。

35. “不负众望”与“不孚众望”，仅一字之差，但其义_____，作为公益型国企的石油石化、电网、通信服务等，一定要心系国家利益和人民利益，并把国家利益和人民利益放在首位，做到“_____”，切忌“_____”。

依次填入划横线部分最恰当的一项是：

- A. 泾渭分明 不孚众望 不负众望
B. 大相径庭 不孚众望 不负众望
C. 迥然不同 不负众望 不孚众望
D. 天差地别 不负众望 不孚众望

【答案】C。解析：

阅读可知，填入第二个空格的词语必须呼应前面的“做到”，应该是褒义的，填入第三个空格的词语必须呼应前面的“切忌”，应该是贬义的。“不负众望”意指不辜负大家的期望，含褒义，填入第二个空格；“不孚众望”意指不符合大家的期望，含贬义，填入第三个空格。由此可以排除A、B两项。

对比C、D两项，“迥然不同”和“天差地别”都是指差别很大的意思，似乎不好取舍。但填入第一个空格的词语必须呼应前面的“其义”，既然是说词的含义不同，则“迥然不同”与语境的呼应更佳。排除D项。

所以，正确选项是C。

36. 现在电影创作对热门题材大肆重复利用，一个题材有市场，多方人马就一涌而上，这不是健康的电影生态。相比之下，对民族文化的挖掘却不多见，比如以传统节日端午节、中秋节等为背景的开发，以及对昆曲、黄梅戏等民族艺术元素的利用都很少。一旦用心去挖掘这些中华民族文化财富，呈现在创作者面前的就是一个精彩纷呈的艺术宝库，国产电影也将迎来一个百花齐放的春天。

对这段文字的主旨最准确的概括是：

- A. 国产电影需努力摆脱不健康的生态
B. 国产电影将迎来一个百花齐放的春天
C. 国产电影不能陷入题材重复利用的误区
D. 国产电影应该深入挖掘民族文化的宝藏

【答案】D。解析：

本题属于“概括主旨型”。

阅读可知，题干属于转折型结构，转折型结构强调的是转折后面的内容。“相比之下，对民族文化的挖掘却不多见……”。由此可知，题干的的主旨是：国产电影应该深入挖掘民族文化的宝藏。

所以，正确选项是D。

37. 面对当前复杂的国际国内形势，我国未来产业发展将逐步呈现出两大抓手，一是适应需求结构变化趋势，加快推进传统产业技术改造；二是科学判断未来市场需求变化和技术发展趋势，加快发展战略性新兴产业。而当前全球经济竞争格局正在发生深刻变革，科技发展正孕育着新的革命性突破，发展战略性新兴产业已成为世界主要国家抢占新一轮经济和科技发展制高点的重大战略。

作者接下来最有可能论述的是：

- A. 我国应推动科技进步，增强自主发展能力
B. 我国应抢占新一轮经济和科技发展制高点
C. 我国应推进传统产业的技术改造
D. 我国应加快发展战略性新兴产业

【答案】D。解析：

本题属于“推断文意型”。

阅读可知，阅读可知，题干属于转折型结构，转折型结构强调的是转折后面的内容。题干首先提出“我国未来产业发展将逐步呈现出两大抓手”，然后话锋一转，“而当前……发展战略性新兴产业已成为世界主要国家

抢占新一轮经济和科技发展制高点的重大战略。”特别强调了发展战略性新兴产业的重要意义。根据作者的意图推断，接下来最有可能论述的是：我国应加快发展战略性新兴产业。

所以，正确选项是 D。

38. 像昆虫叮咬能引起瘙痒一样，皮肤与植物的毒素接触也能引起瘙痒。对栎叶漆树引起的瘙痒研究发现，当与植物的毒素接触后，皮肤细胞会释放出引起红肿和发痒的组胺。利用苯海拉明等抗组胺药物能治疗这类瘙痒，但还没有适合的药物来治疗特异反应性湿疹等引起的瘙痒，对于后者，最好的建议就是，穿宽松的衣服，在任何情况下都不要用手抓痒。

下列说法与原文不符的是：

- A. 苯海拉明不能治疗特异反应性湿疹
- B. 抗组胺药物可以用于治疗皮肤瘙痒
- C. 皮肤瘙痒症状相同但机理可能不同
- D. 减少皮肤摩擦有助于抑制组胺活性

【答案】D。解析：

本题属于“推断文意型”。

A 项，题干“……但还没有适合的药物来治疗特异反应性湿疹等引起的瘙痒”，隐含：苯海拉明不能治疗特异反应性湿疹，与原文相符，排除。

B 项，题干“利用苯海拉明等抗组胺药物能治疗这类瘙痒”，隐含：抗组胺药物可以用于治疗皮肤瘙痒，与原文相符，排除。

C 项，题干“利用苯海拉明等抗组胺药物能治疗这类瘙痒，但还没有适合的药物来治疗特异反应性湿疹等引起的瘙痒”，隐含：虽然两种皮肤瘙痒症状相同，但一种能用药物治疗，一种不能用药物治疗，二者的机理可能不同”，与原文相符，排除。

D 项，题干所说“对于后者”，指的是“特异反应性湿疹等引起的瘙痒”，这种瘙痒不能用苯海拉明等抗组胺药物进行治疗，显然不属于“组胺”引起的瘙痒。因此，“穿宽松的衣服，在任何情况下都不要用手抓痒”等建议，与“抑制组胺活性”没有什么关系。与原文不符。

所以，正确选项是 D。

39. 在一个环境和经济都面临挑战的高度技术化的时代，提高我们的理解能力和辨析科学证据与科学观点的能力至关重要。而要想做到这一点，出路之一就是需要来自自然科学和人文社会科学不同领域的专业人士的鼎力合作。比如，对于像地球气候变化这类复杂的问题，需要科学家去挖掘并阐述其根本原因，但与此同时，人文科学与社会科学工作者也同样需要去评估气候变化之于人口与社会的影响，而新闻工作者则需要把这类信息完整地传递给社会大众，在他们的共同努力下，才能把科学的新发现及其与社会相关的联系向社会大众解释得更好更清楚。

这段文字意在强调：

- A. 不同领域专家分工协作的方式
- B. 不同领域专家分工协作的目的
- C. 提高公众理解科学能力的途径
- D. 提高大众理解科学能力的意义

【答案】C。解析：

本题属于“推断文意型”。

阅读可知，题干属于证明型结构。证明型结构强调的是论点而不是论据。题干首先提出论点：“在……时代，提高我们的理解能力和辨析科学证据与科学观点的能力至关重要。而要想做到这一点，出路之一就是……”，然后列举了许多具体的事例来论证它。由此可知，题干文字意在强调：提高公众理解科学能力的途径。

所以，正确选项是 C。

40. 许多人很崇尚言论自由，以为言论自由就可以解决思想自由的问题。实际上，言论表达的自由并不必然走向思想自由。假如我们观察网络媒体上的有些表达，就会发现它存在着一种极端化的趋势，严谨的人不一定参与表达和讨论，同时网络媒体上有许多非理性的谩骂和恶意攻击等等。结果虽然言论自由了，但一个

人的思想表达很容易遭到围攻，这不是思想自由，仅仅是言论自由而已。

这段文字意在强调：

- A. 思想自由的前提并非言论自由
- B. 言论自由将导致思想的极端化
- C. 思想自由并不等于言论自由
- D. 言论自由不必然导致思想自由

【答案】D。解析：

本题属于“推断文意型”。

阅读可知，题干属于转折型结构。转折型结构强调的是转折后面的内容。“实际上，言论表达的自由并不必然走向思想自由”，由此可知，这段文字意在强调：言论自由不必然导致思想自由。

所以，正确选项是D。

41. 国际金融经济危机与主权债务危机相继爆发，使西方标榜的资本主义制度优越性黯然失色，迫使国际社会反思其弊端。目前无论是欧洲推崇的高福利“莱茵模式”，还是美英推崇的完全自由“盎格鲁-撒克逊模式”，均因其固有的缺陷而陷入困境。过度放纵的西方经济社会制度导致的种种弊端暴露无遗，引发全球范围内反思。

这段文字意在说明：

- A. 全球应反思西方发展模式的失败
- B. 西方发展模式的弊端是过度放纵
- C. 西方发展模式开始走下“神坛”
- D. 西方两种主流发展模式都已过时

【答案】C。解析：

本题属于“推断文意型”。

阅读可知，作者对“西方标榜的资本主义制度优越性”进行了讽刺，随着欧洲推崇的高福利模式和美英推崇的完全自由模式陷入困境，西方发展模式终于失去了往日的光环。意在说明西方发展模式已经开始走下“神坛”。

本题的A项容易误选。题干说“迫使国际社会反思其弊端”，显然，“反思其弊端”不等于反思其失败，事实上，西方发展模式“陷入困境”，也不必然意味着西方发展模式已经失败。A项属于引申错误，排除。

所以，正确选项是C。

42. 为避免养老金制度面临破产之灾，英国政府主要从四方面改革这项制度：一是增加养老保险缴费。从2011—2012财政年度开始，雇员和雇主的缴纳比例将各上升1%，合计为25.8%。二是推迟退休年龄。无论男女领取养老金的年龄都将进一步提高。三是对职业养老金加以改革，规定第二支柱自愿职业养老金将自2012年10月起成为强制性的职业养老金，要求所有年收入7475英镑以上、年龄在22岁到法定退休年龄之间、没有参加任何职业养老金计划的劳动者都将“自动加入”职业养老金计划。四是成立了由政府资助的低成本的国家职业储蓄信托，储蓄信托具有超低的0.3%年管理费率，届时第三支柱的私人养老金、个人寿险会更多地和第二支柱融合，统一使用国家职业储蓄信托平台，从而构成英国养老金的主体。

英国政府养老金制度改革措施的实质是：

- A. 增加更多的养老金品种以供选择
- B. 统一使用国家职业储蓄信托平台
- C. 增强职业养老金制度的吸引力
- D. 增加养老金收入并节约

【答案】D。解析：

本题属于“推断文意型”。

阅读可知，英国政府养老金制度改革的措施包括四个方面：一是增加养老保险缴费。（隐含：增加养老金收入）二是推迟退休年龄……领取养老金的年龄都将进一步提高。（隐含：减少养老金支出）三是要求所有年收入7475英镑以上……的劳动者都将“自动加入”职业养老金计划。（隐含：增加养老金收入）四是成立由政府资助的低成本的国家职业储蓄信托。（隐含：减少养老金支出）因此，英国政府养老金制度改革措施的实质是：增加养老金收入并节约。

所以，正确选项是D。

43. 科学家一直认为大脑中的语言中心让我们有别于与人类血缘关系最近的进化近亲，实际上，二者是相似的。或许，是时候开始重新审视猴子和人类语言的起源了。最近一项新研究发现，与人类语言能力有关的大脑区域所在位置与科学家一直认为的截然不同。这个控制语言能力的区域距离大脑中央更近，比此前认为的近了3厘米。这意味着人类大脑与猴子大脑的相似度超出此前预计。根据研究发现，我们可能需要重新审视猴子和人类语言的起源。

这段文字意在说明：

- A. 猴子和人类语言起源的关系可能比想象得更密切
- B. 人类大脑与猴子大脑的相似度远远超出我们的想象
- C. 人类大脑中的“语言中心”位置可能与此前认为的不同
- D. 大脑中的“语言中心”位置决定了人类和猴子的区别

【答案】A。解析：

本题属于“推断文意型”。

阅读可知，题干属于转折型结构，转折型结构强调的是转折后面的内容。题干说“……实际上，二者是相似的。或许，是时候开始重新审视猴子和人类语言的起源了。”作者通过强调“猴子和人类语言的起源”的相似性，意在说明：猴子和人类语言起源的关系可能比想象得更密切。其他三项都缺少关键词“语言起源”，排除。所以，正确选项是A。

44. 团购行业确有“病入膏肓”之忧，从团购行业的现实环境来看，短期内，资本日益枯竭，内生发展乏力，行业洗牌风暴日渐临近。在一个混乱的格局中，只有死亡案例不断上演，才能澄清市场，才能防止劣币驱逐良币，才能“吹尽黄沙始见金”。同时，笔者相信，“死者”的惨重教训，将能激发生者的求生欲望。但愿在“死亡”开始降临于团购行业时，同行的倒下，能触及有价值生存者的灵魂，推彼及己，心存悲悯，从而反躬自省，以求强身之道。对资本的鞭笞，团购行业从业者别指望公众会对你同情：好的产品、有价值的服务，才是与公众互动沟通的最好媒介；唯有创新灵魂不死，才能凤凰涅槃。

下列不符合作者对“团购”态度立场的是：

- A. 充满期待
- B. 善意忠告
- C. 指责批评
- D. 理性分析

【答案】C。解析：

本题属于“推断文意型”。

阅读可知，作者对“团购”的态度立场包括：

理性分析：从团购行业的现实环境来看，短期内，资本日益枯竭，内生发展乏力，行业洗牌风暴日渐临近。

充满期待：笔者相信，“死者”的惨重教训，将能激发生者的求生欲望。但愿……以求强身之道。

善意忠告：团购行业从业者别指望公众会对你同情：好的产品、有价值的服务，才是与公众互动沟通的最好媒介；唯有创新灵魂不死，才能凤凰涅槃。

所以，正确选项是C。

45. 五世纪初，日本出现被称为“假名”的借用汉字的标音文字。八世纪时，以汉字标记日本语音的用法已较固定，其标志是《万叶集》的编定，故称“万叶假名”，是为纯粹日语标音文字的基础。日本文字的最终创制是由吉备真备和弘法大师（空海）来完成的。他们俩人均曾长期留居中国唐朝，对汉字有很深的研究。前者根据标音汉字楷体偏旁造成日文“片假名”，后者采用汉字草体创造日文“平假名”。时至今日，已在世界占据重要地位的日本文字仍保留有一千多个简体汉字。

这段文字意在说明的是：

- A. 日本文字产生的历史过程
- B. 汉字在日本的影响和地位
- C. 汉字对日本文字的影响
- D. 日本文字与汉字的联系

【答案】C。解析：

本题属于“推断文意型”。

阅读可知，题干从五世纪初日本借用汉字造“假名”文字开始，说到吉备真备根据标音汉字楷体偏旁造成日文“片假名”，弘法大师采用汉字草体创造日文“平假名”，直到今天，日本文字仍保留有一千多个简体汉字。通过日本文字产生和发展的全过程对汉字的借用，意在说明汉字对日本文字的重要影响。

所以，正确选项是 C。

46. 网络影评在传统影评集体失语的生态环境下迅速兴起并蓬勃发展。借助互联网这个载体，网络影评因突破时空界限而体现出开放、互动、便捷的特征，因回归到大众而使内容形式趋向多元，因摆脱了现实的身份制约和利益牵挂而得以真实表露和独立发声。相较于传统影评，网络影评的优势体现在篇幅、格式、风格和传播上具有更多的自由。

作者通过这段文字意在强调：

- A. 网络影评兴起并蓬勃发展的趋势
- B. 网络影评兴起并蓬勃发展的条件
- C. 网络影评兴起并蓬勃发展的前景
- D. 网络影评兴起并蓬勃发展的原因

【答案】D。解析：

本题属于“推断文意型”。

阅读可知，题干从三个方面阐述了网络影评兴起并蓬勃发展的原因：网络影评因……，因……，因……。由此可知，作者通过这段文字意在强调网络影评兴起并蓬勃发展的原因。

所以，正确选项是 D。

47. 新兴产业物联网的发展势如破竹，仅几年时间，物联网的产业规模却呈现出年 30%以上的复合增长率。专利等知识产权为这个朝阳产业的迅速崛起提供了强有力的支撑。预测未来几年，全球物联网市场规模将出现快速增长，我国 2015 年物联网市场规模将达到 7500 亿元，市场前景将远远超过计算机、互联网、移动通信等市场。而从我国目前的专利申请情况来看，核心技术专利、通过《专利合作条约》途径提交的国际专利申请的数量都有明显不足。因此，业内专家指出，需要加速我国物联网产业的专利布局。

与这段文字意思不相符的一项是：

- A. 我国物联网市场规模未来有可能超过计算机市场
- B. 我国物联网产业作为朝阳产业发展规模快速增长
- C. 我国物联网产业的发展需要自主知识产权的支撑
- D. 我国物联网产业将发展成为未来我国的支柱产业

【答案】D。解析：

本题属于“推断文意型”。

阅读可知，题干虽然说“我国 2015 年物联网市场规模将达到 7500 亿元，市场前景将远远超过计算机、互联网、移动通信等市场”，但并没有涉及“我国物联网产业将发展成为未来我国的支柱产业”。因此，D 项与题干不符。

所以，正确选项是 D。

48. 由细颗粒物造成的灰霾天气对人体健康的危害甚至要比沙尘暴更大。粒径 10 微米以上的颗粒物，会被挡在人的鼻子外面；粒径在 2.5 微米至 10 微米之间的颗粒物，能够进入上呼吸道，但部分可通过痰液等排出体外，另外也会被鼻腔内部的绒毛阻挡，对人体健康危害相对较小；而粒径在 2.5 微米以下的细颗粒物吸入人体后会进入支气管，干扰肺部的气体交换，引发包括哮喘、支气管炎和心血管病等方面的疾病。这些颗粒还会进入血液，其中的有害气体、重金属等溶解在血液中，对人体健康的伤害更大。

这段文字意在说明：

- A. 重金属等会溶解于血液中危及人体健康
- B. 灰霾天气中的细颗粒物对人体健康伤害大

C. 不同粒径的颗粒物对人体健康的影响 D. 灾害天气中各自尺寸颗粒物的致病机理

【答案】B。解析：

本题属于“推断文意型”。

阅读可知，题干属于证明结构。证明结构强调的是论点而不是论据。题干首先提出论点：由细颗粒物造成的灰霾天气对人体健康的危害甚至要比沙尘暴更大。然后列举了大量的论据材料来证明它。由此可知，这段文字意在说明 B 项。

所以，正确选项是 B。

49. 微博注册的方式很简单，浏览者只要登记个电子邮箱地址，设置好密码就可以成为微博用户了。写微博的要求不高：只需撰写只言片语，便可宣泄情感。所以，只要使用者会电脑打字或者发手机短信，便可以将自己的情感以简短快捷的形式发布出去。此外，微博的界面设置方式使得信息浏览也变得更加方便，而且一条微博的内容仅相当于两三条手机短信，花费不了多长时间。在这个信息过剩，人们的注意力被严重瓜分的时代，微博更符合人们快速阅读的需求。

与这段文字的意思不相符的一项是：

- A. 微博使用门槛低、信息发布简便易行 B. 微博的内容更迎合现代人阅读的需求
C. 使用者可以借助微博宣泄自己的情感 D. 微博界面的设置便于使用者浏览信息

【答案】B。解析：

本题属于“推断文意型”。

阅读可知，题干最后说“微博更符合人们快速阅读的需求”，但是并没有说“微博的内容更迎合现代人阅读的需求”。由此可知，B 项与题干的意思不相符。

所以，正确选项是 B。

50. 海洋石油开发对海洋造成污染主要表现在：生活、生产以及自然过程中产生的废弃物、含油污水排入海洋；发生意外漏油、溢油、井喷等事故；其最大的危害是对海洋生物的影响。油膜和油块能粘住大量鱼卵和幼鱼，使鱼卵死亡、幼鱼畸形，还会使鱼虾类产生石油臭味，而成年鱼类、贝类长期生活在被污染的海水中，其体内蓄积了某些有害物质，当进入市场被人食用后则危害人类健康。防止海洋石油开发形成的污染要从加大技术革新和提高海洋石油开发工作者的环保意识抓起。

这段文字未提及海洋石油开发的：

- A. 污染现状 B. 环保意识
C. 污染表现 D. 危害对象

【答案】A。解析：

阅读可知，题干提及了“环保意识”：……防止海洋石油开发形成的污染要从加大技术革新和提高海洋石油开发工作者的环保意识抓起；提及了“污染表现”：海洋石油开发对海洋造成污染主要表现在：生活、生产……的影响。提及了“危害对象”：油膜和油块……危害人类健康。只有“污染现状”没有提及。

所以，正确选项是 A。

第三部分 数量关系

(共 15 题，参考时限 15 分钟)

在这部分试题中，每道题中呈现一段表述数字关系的文字，要求你迅速、准确地计算出答案。

51. 某小区物业征集业主意见，计划从 100 户业主中抽取 20 户进行调查。100 户业主中有 b 户户主年龄超过 60 岁，a 户户主年龄不满 35 岁，户主年龄在 36 岁到 59 岁的有 25 户。为了使意见更具代表性，物业采取分层抽样的方法，从 b 户中抽取了 4 户，则 a 的值可能是：

- A. 55 B. 66 C. 44 D. 50

【答案】A。解析：

作答本题可以采用“转化条件法”，把隐含的条件转化为直接可用的条件。

首先，必须清楚怎么样才能使意见更具代表性，100 户业主划分为三个年龄段，很显然，只有当各个年龄段的抽查比例相同时，才更具代表性。

已知：计划从 100 户业主中抽取有 20 户进行调查，则可知抽查比例为 $1/5$ 。

已知：从 b 户中抽取了 4 户，这 4 户占 b 户的 $1/5$ ，则可知 b 户共有 20 户。

已知：100 户业主中有 b 户户主年龄超过 60 岁，a 户户主年龄不满 35 岁，户主年龄在 36 岁到 59 岁的有 25 户，则可知： $a+b=75$ 户。

则 a 的值可能是： $75-20=55$ 户。

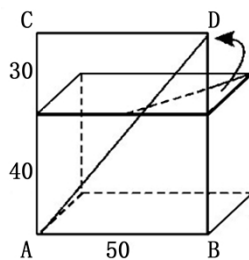
所以，正确选项是 A。

52. 某公司要在长、宽、高分别为 50 米、40 米、30 米的长方体建筑的表面架设专用电路管道联接建筑物内最远两点，预设的最短管道长度介于：

- A. 70—80 米之间 B. 60—70 米之间
 C. 90—100 米之间 D. 80—90 米之间

【答案】D。解析：

作答本题可以采用“图示法”。



最短管道对应的情形如上图，即其中两个数字的和与另外一个数字最接近的时候，斜角边最短。最短管道长度为： $AD = \sqrt{50^2 + (30+40)^2} = \sqrt{7400}$ 。估算为：管道长度介于 80—90 米之间。

所以，正确选项是 D。

53. 12 个啤酒空瓶可以免费换 1 瓶啤酒，现有 101 个啤酒空瓶，最多可以免费喝到的啤酒为：

- A. 10 瓶 B. 11 瓶 C. 8 瓶 D. 9 瓶

【答案】D。解析：

作答本题可以采用“分情况讨论法”。

根据题意，12 个啤酒空瓶可以免费换 1 瓶啤酒，则 96 个空瓶可以换 8 瓶啤酒。

喝完这 8 瓶免费啤酒，可以得到 8 个空酒瓶，加上前面剩下的 5 个空瓶，共有 13 个空瓶，可以换 1 瓶啤酒。

因此，最多可以免费喝到 9 瓶啤酒。

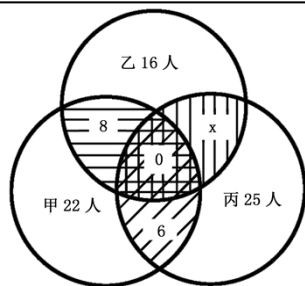
所以，正确选项是 D。

54. 某公司招聘员工，按规定每人至多可投考两个职位，结果共 42 人报名，甲、乙、丙三个职位报名人数分别是 22 人、16 人、25 人，其中同时报甲、乙职位的人数为 8 人，同时报甲、丙职位的人数为 6 人，那么同时报乙、丙职位的人数为：

- A. 7 人 B. 8 人 C. 5 人 D. 6 人

【答案】A。解析：

作答本题可以采用“图示法”。



设同时报乙、丙职位的人数为 x ，可以把甲、乙、丙三个职位报名的人数及职位重叠情况图示如上图：
请特别注意题干中“按规定每人至多可投考两个职位”这个要求，因此，右图中三个职位重叠区域的人数为 0。

从右图可以看出，甲职位报名人数+乙职位报名人数+丙职位报名人数-同时报甲、乙职位的人数-同时报甲、丙职位的人数-同时报乙、丙职位的人数=总报名人数。即：

$$22+16+25-8-6-x=42$$

$$\text{解得： } x=7 \text{ (人)}$$

所以，正确选项是 A。

55. 四名运动员参加 4×100 米接力，他们跑 100 米的速度分别为 v_1 、 v_2 、 v_3 、 v_4 ，不考虑其他影响因素，他们跑 400 米全程的平均速度为：

A. $\frac{1}{v_1} + \frac{1}{v_2} + \frac{1}{v_3} + \frac{1}{v_4}$

B. $\frac{4}{++++}$

C. $\frac{1}{4} (v_1+v_2+v_3+v_4)$

D. $\frac{4}{v^1+v^2+v^3+v^4}$

【答案】B。解析：

求平均速度的公式是：平均速度 = 总路程 ÷ 总时间。

四名运动员跑的总路程为 400 米。

四名运动员各跑 100 米，所用时间分别为： $100/v_1$ 、 $100/v_2$ 、 $100/v_3$ 、 $100/v_4$ ，总时间为 $100/v_1+100/v_2+100/v_3+100/v_4$ 。

则跑 400 米全程的平均速度为： $400 \div (100/v_1+100/v_2+100/v_3+100/v_4)$ 。化简为 B 项。

所以，正确选项是 B。

56. 3 颗气象卫星与地心距离相等，并可同时覆盖全球地表，现假设地球半径为 R ，则 3 颗卫星距地球最短距离为：

A. R

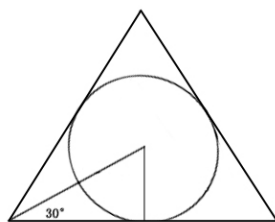
B. $2R$

C. $R/2$

D. $2R/3$

【答案】A。解析：

作答本题可以采用“图示法”。



假设地球为球形，如果三颗气象卫星同时覆盖全球地表，那么它们必定位于以地球为内切圆的等边三角形

的三个顶点上（如上图）。

不需要准确计算，直接观察估算可知，气象卫星距地球的最短距离约等于地球的半径 R 。 $R/2$ 和 $2R/3$ 都太短， $2R$ 则明显太长，可以直接排除。

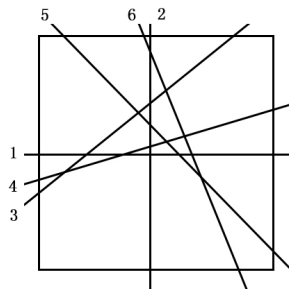
所以，正确选项是 A。

57. 用直线切割一个有限平面，后一条直线与此前每条直线都要产生新的交点，第 1 条直线将平面分成 2 块，第 2 条直线将平面分成 4 块，第 3 条直线将平面分成 7 块，按此规律将平面分为 22 块需：

- A. 7 条直线
- B. 8 条直线
- C. 9 条直线
- D. 6 条直线

【答案】D。解析：

解法 1： 作答本题可以采用“图示法”。



直接画线分割平面如上图，可知将平面分为 22 块需要 6 条直线。

所以，正确选项是 D。

解法 2： 作答本题可以采用“转化条件法”，把隐含的条件转化为直接可用的条件。

本题问“按此规律将平面分为 22 块需几条直线”，“此规律”是什么规律？根据题干，第 1 条直线将平面分成 2 块，第 2 条直线将平面分成 4 块，第 3 条直线将平面分成 7 块，归纳可知其规律是：

直线条数：	1,	2,	3,	4,	5,	6,	7	……
平面块数：	2,	4,	7,	11,	16,	22,	29	……
	2	3	4	5	6	7	(平面块数的差构成自然数数列)	

由此可知，将平面分为 22 块需要 6 条直线。

所以，正确选项是 D。

58. 某停车场按以下办法收取停车费：每 4 小时收 5 元，不足 4 小时按 5 元收，每晚超过零时加收 5 元并且每天上午 8 点重新开始计时，某天下午 15 小时小王将车停入该停车场，取车时缴纳停车费 65 元，小王停车时间 t 的数值区间为：

- A. $41 < t \leq 44$ 小时
- B. $44 < t \leq 48$ 小时
- C. $32 < t \leq 36$ 小时
- D. $37 < t \leq 41$ 小时

【答案】D。解析：

作答本题可以采用“分情况讨论法”。

本题所给选项不是确定的数值，而是数值区间，这就可能给许多考生带来困惑。解题的关键是把握分时间段计费的标准，细心地进行分情况讨论。

第一时段：15 点至第二天 8 点，时长 17 小时，前 16 小时每 4 小时收 5 元，收 20 元；剩 1 小时，不足 4 小时收 5 元；超过零时加收 5 元。共收 30 元。

第二时段：第二天 8 点至第三天 8 点，时长 24 小时，每 4 小时收 5 元，收 30 元；超过零时加收 5 元。共收 35 元。

两段时间共收费 $30+35=65$ 元，总时长为 $17+24=41$ 小时。因此，符合题意的停车时间为： $37 < t \leq 41$ 小时。

所以，正确选项是 D。

59. A、B 两地直线距离 40 千米，汽车 P 与两地的直线距离之和等于 60 千米。则以下判断正确的是：

- A. 如果 A、B、P 不在同一条直线上，汽车所在位置有 3 个，可位于 A、B 两地之间或 A、B 两地外侧
- B. 如果 A、B、P 不在同一条直线上，汽车的位置有无穷多个
- C. 如果 A、B、P 位于同一条直线上，汽车位于 A、B 两地之间或两地外侧
- D. 如果 A、B、P 位于同一条直线上，汽车位于 A、B 两地外侧，且汽车到 A 的距离为 20 千米

【答案】B。解析：

作答本题可以采用“图示法”。

请特别注意给定条件：汽车 P 与两地的直线距离之和为 60 千米，大于 A、B 两地之间的直线距离 40 千米。只要简单图示就可以发现，不论 A、B、P 是否在同一条直线上，汽车所在的位置都不可能位于 A、B 两地之间。由此可以直接排除 A、C 两项。

B 项，如果 A、B、P 不在同一条直线上，那么汽车的位置必有无穷多个，只要汽车到 A、B 的距离和为 60 千米即可。

D 项，如果 A、B、P 位于同一条直线上，则汽车必须位于 A、B 两地外侧，且汽车到 A、B 的距离只能分别为 10 千米和 50 千米。因此，汽车到 A 的距离不可能是 20 千米，D 项错误，排除。

所以，正确选项是 B。

60. 从 3 双完全相同的鞋中，随机抽取一双鞋的概率是：

- A. $1/2$
- B. $3/5$
- C. $1/6$
- D. $1/3$

【答案】B。解析：

题干所说“3 双完全相同的鞋”，意思是有 6 只鞋，其中 3 只是完全相同的左脚的，3 只是完全相同的右脚的。

作答本题的关键是弄清楚“一双鞋”的含义。按照生活常识，一双鞋中必定有一只左脚的，一只右脚的。

从 6 只鞋中任意抽取一只，不论是左脚的还是右脚的，其概率都是 $1/6$ 。

现在还剩下 5 只鞋，其中有 3 只可以与第一次抽出的那只凑成一双鞋。随即抽取的概率是 $3/5$ 。

则从 3 双完全相同的鞋中，随机抽取一双鞋的概率是： $1 \times 3/5 = 3/5$ 。

所以，正确选项是 B。

61. 某公司三名销售人员 2011 年的销售业绩如下：甲的销售额是乙和丙销售额的 1.5 倍，甲和乙的销售额是丙的销售额的 5 倍，已知乙的销售额是 56 万元，问甲的销售额是：

- A. 140 万元
- B. 144 万元
- C. 98 万元
- D. 112 万元

【答案】B。解析：

解法一：作答本题可以采用“整除法”。

由于甲和乙的销售额之和是丙的销售额的 5 倍，因此甲和乙的销售额之和必定能被 5 整除。由此可知，甲和乙的销售额之和的尾数只能要么是 0，要么是 5。

代入 A 项验算可知， $甲+乙=140+56$ ，其和的尾数不是 0 或 5，与题意不符，排除。

代入 B 项验算可知， $甲+乙=144+56$ ，其和的尾数是 0，与题意相符。

所以，正确选项是 B。

解法 2：作答本题还可以采用“代入选项验算法”。

已知甲的销售额是乙和丙销售额的 1.5 倍，则： $甲 = (乙+丙) \times 1.5$ 。已知甲和乙的销售额是丙的销售额的 5 倍，则： $丙 = (甲+乙) \div 5$ 。已知乙的销售额是 56 万元。

代入 A 项，验算为：丙 = $(140+56) \div 5$ 。估算丙的销售额不是整数，推断 $140 = 1.5 \times (56 + \text{丙})$ 不成立，排除。

代入 B 项，验算为：丙 = $(144+56) \div 5 = 40$ 。把丙的销售额代入 $144 = 1.5 \times (56 + \text{丙})$ 。 $144 = 1.5 \times (56 + 40)$ 。与题意相符，是正确的。

所以，正确选项是 B。

62. 某网店以高于进价 10% 的定价销售 T 恤，在售出 $\frac{2}{3}$ 后，以定价的 8 折将余下的 T 恤全部售出，该网店预计盈利为成本的：

- A. 3.2% B. 不赚也不亏 C. 1.6% D. 2.7%

【答案】D。解析：

作答本题可以采用“特殊赋值法”。

设该网店进 T 恤衫 30 件，进价每件 10 元。则定价每件为 11 元。

按定价销售了 20 件，销售收入为 $20 \times 11 = 220$ 元，盈利 20 元。按定价的 8 折销售了 10 件，销售收入为 $10 \times 11 \times 0.8 = 88$ 元，亏损 12 元。合计盈利 8 元。

则该网店预计盈利为成本的： $8 \div 300 \approx 2.7\%$ 。

所以，正确选项是 D。

63. 小王周末组织朋友自助游，费用均摊，结帐时，如果每人付 450 元，则多出 100 元；如果小王的朋友每人付 430 元，小王自己要多付 60 元才刚好，这次活动人均费用是：

- A. 437.5 元 B. 438.0 元 C. 432.5 元 D. 435.0 元

【答案】A。解析：

作答本题可以采用“等量法”。

设参加这次自助游的人数为 x ，根据题意则有： $450x - 100 = 430x + 60$ 。解得： $x = 8$ （人）。

据此可知这次活动人均费用是： $(450 \times 8 - 100) \div 8 = 450 - 12.5 = 437.5$ （元）。

所以，正确选项是 A。

64. 甲工人每小时可加工 A 零件 3 个或 B 零件 6 个，乙工人每小时可加工 A 零件 2 个或 B 零件 7 个。甲、乙两工人一天 8 小时共加工零件 59 个，甲、乙加工 A 零件分别用时为 x 小时、 y 小时，且 x 、 y 皆为整数，两名工人一天加工的零件总数相差：

- A. 6 个 B. 7 个 C. 4 个 D. 5 个

【答案】B。解析：

作答本题可以采用“图表法”。

本题题干所给条件很多，头绪有些复杂，考生仅靠阅读较难找到突破口。可以采用列表法把已知条件进行整理，以辅助解题。

	甲	乙
A 零件	$3x$	$2y$
B 零件	$6(8-x)$	$7(8-y)$

根据题意可得： $3x + 2y + 6(8-x) + 7(8-y) = 59$ 。解得： $3x + 5y = 45$ 。

根据 x 、 y 皆为整数，估算可得： $x = 5$ ， $y = 6$ 。也就是说：

甲一天生产零件为： $3 \times 5 + 6 \times 3 = 33$ （个）。

乙一天生产零件为： $2 \times 6 + 7 \times 2 = 26$ （个）。

则两名工人一天加工的零件总数相差为： $33 - 26 = 7$ （个）。

所以，正确选项是 B。

65. 一项工程，甲一人做完需 30 天，甲、乙合作完成需 18 天，乙、丙合作完成需 15 天，甲、乙、丙三人共同完成该工程需：
- A. 10 天 B. 12 天 C. 8 天 D. 9 天

【答案】A。解析：

作答本题可以采用“特殊赋值法”。

本题求“甲、乙、丙三人共同完成该工程需要多少天”。我们知道，工作时间 = 工作量 ÷ 工作效率。如果知道该工程的工作量以及三个人的工作效率，这道题就很容易了。但是，题干中并没有告诉该工程的工作量以及三个人的工作效率，这就需要采用“特殊赋值法”。

设该工程的工作量为 90，则甲的工作效率 = $90 \div 30 = 3$ ，甲效率 + 乙效率 = $90 \div 18 = 5$ ，乙效率 + 丙效率 = $90 \div 15 = 6$ 。则甲效率 = 3，乙效率 = 2，丙效率 = 4。

则甲、乙、丙三人共同完成该工程需： $90 \div (3+2+4) = 10$ （天）。

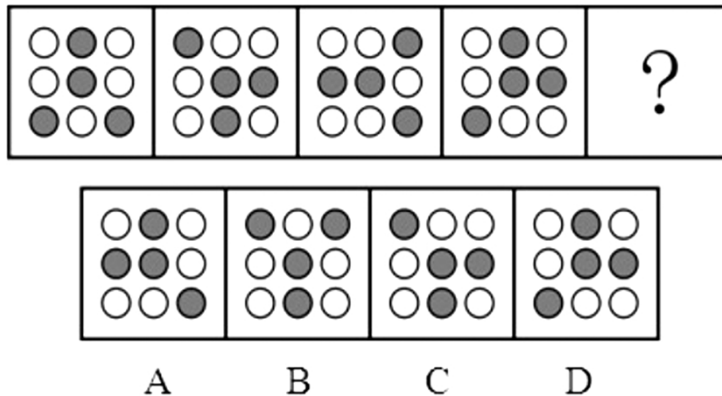
所以，正确选项是 A。

第四部分 判断推理

（共 35 题，参考时限 40 分钟）

一、图形推理。请按每道题的作答要求作答。

66. 从所给四个选项中，选择最合适的一个填入问号处，使之呈现一定的规律性：

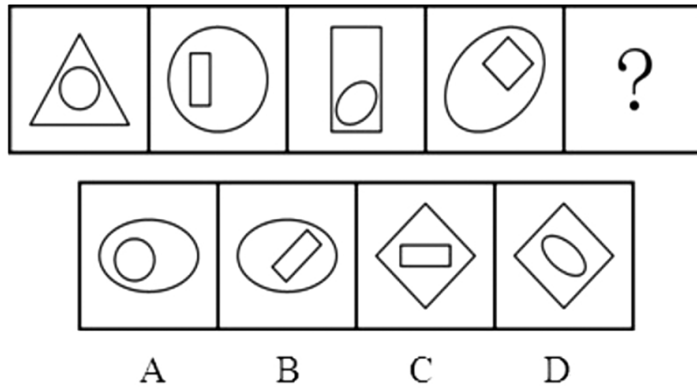


【答案】B。解析：

本题考查图形的旋转。

观察可见，题干中黑色圆点构成的“Y”形依次逆时针旋转 45° 。按照这个规律，只有 B 项符合要求。所以，正确选项是 B。

67. 从所给四个选项中，选择最合适的一个填入问号处，使之呈现一定的规律性：



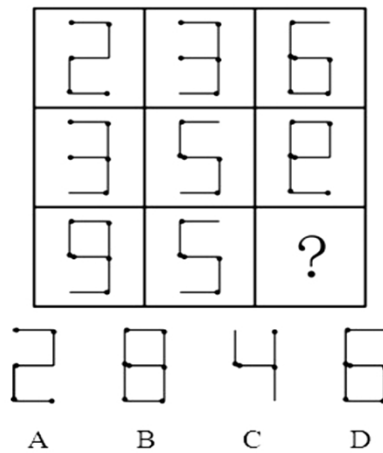
【答案】D。解析：

本题考查构图元素的组合变化。

观察可见，相邻题干图形中前一个图形的内层元素与后一个图形的外层元素相同。由此可以排除 A、B 两项。同时，每个题干图形均由一直一曲两种不同的构成元素组成，由此可以排除 C 项。

所以，正确选项是 D。

68. 从所给四个选项中，选择最合适的一个填入问号处，使之呈现一定的规律性：



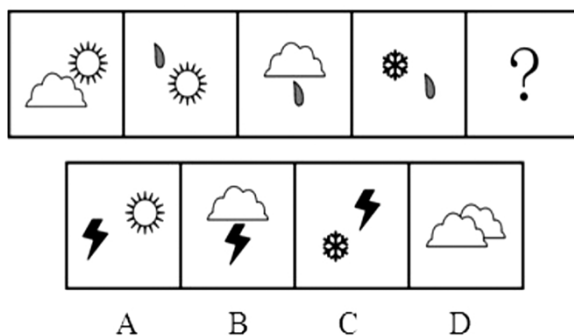
【答案】A。解析：

本题考查构图元素的数量。

观察可见，前两行题干图形中均由 16 根“火柴”组成。第三行图形中已经有 11 根“火柴”，还差 5 根。按照这个规律，只有 A 项符合要求。

所以，正确选项是 A。

69. 从所给四个选项中，选择最合适的一个填入问号处，使之呈现一定的规律性：



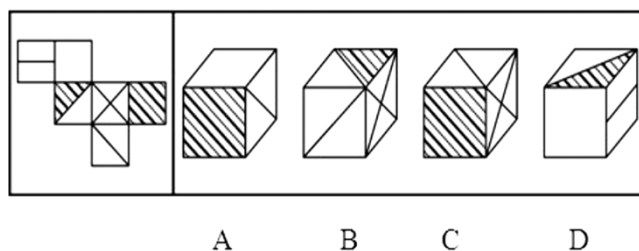
【答案】C。解析：

本题考查构图元素的组合变化。

观察可见，每个题干图形均由两个独立的构图元素组成，并且，相邻图形中有一个构图元素是相同的。按照这个规律，只有C项符合要求。

所以，正确选项是C。

70. 左边给定的是纸盒的外表面，下面哪一项是由它折叠而成：



【答案】D。解析：

本题属于“立体折叠型”，考查立体面之间的相邻关系和相对关系。

观察可知，A项，空白面与带一条对角线的面应该是相对面，不可能相邻，排除；B项，如果正面与右侧面的方位正确，那么顶面阴影的方向不正确，排除；C项，如果正面与右侧面的方位正确，那么顶面的对角线方向错误，排除。只有D项符合要求。

所以，正确选项是D。

二、定义判断。每道题先给出一个定义，然后列出四种情况，要求你严格依据定义，从中选出一个最符合或最不符合该定义的答案。注意：假设这个定义是正确的，不容置疑的。

71. 社会组织就是指自发成立，自主发展、自行动作，具有一定规模的，以民间组织形式存在，逐步从无序走向有序的社会组织。

根据上述定义，下列选项不属于社会组织的是：

- A. 某市软件企业定期组织企业家联谊，进行业务交流
- B. 一群学生通过QQ群认识，每周末一起参加敬老活动
- C. 每周六晚上，某市政公园广场上都有年轻人在跳街舞
- D. 一群年轻人建立动物收容所，收养各种被遗弃的宠物

【答案】C。解析：

本题是“不属于型”。要求找出不属于“社会组织”的一项。

定义的关键信息是：（1）自发成立，自主发展、自行动作，（2）具有一定规模，（3）以民间组织形式存在，（4）逐步从无序走向有序。

C项中的“每周六晚上，某市政公园广场上都有年轻人在跳街舞”（隐含：这些年轻人跳街舞并不是以民间

组织形式存在，也没有逐步从无序走向有序），与定义条件（3）（4）不符，不属于“社会自组织”。

所以，正确选项是 C。

72. 想象是指在原有经验的基础上创造新形象的思维活动。按照想象是否受意志控制，可分为随意想象和不随意想象。不随意想象的特点是把各种印象和信息离奇、突然、有时是无意义地组合在一起。随意想象是把各种印象和信息自觉控制、有目的、经过意志的努力呈现出需要的场景。

根据上述定义，下列选项属于随意想象的是：

- A. 小李昨天晚上睡觉时，梦到了儿时一起嬉戏的伙伴
- B. 张三接到录取通知，想到自己实现了目标，很兴奋
- C. 小王面对设计图，憧憬着公司新大楼竣工后的样子
- D. 小陈的父亲看着照片回忆起当年上山下乡对的场景

【答案】C。解析：

本题是“属于型”。要求找出属于“随意想象”的一项。

定义的关键信息是：（1）在原有经验的基础上创造新形象，（2）把各种印象和信息自觉控制、有目的、经过意志的努力，（3）呈现出需要的场景。

A 项中的小李“梦到了儿时一起嬉戏的伙伴”（隐含：做梦不是自觉控制、有目的的），与定义条件（2）不符，排除。

B 项中的张三“想到自己实现了目标”（隐含：并没有创造新形象），与定义条件（1）不符，排除。

C 项中的小王“面对设计图（隐含：自觉控制、有目的），憧憬着公司新大楼竣工后的样子（隐含：创造新形象）”，完全符合定义条件，属于“随意联想”。

D 项中的小陈“回忆起当年上山下乡对的场景”（隐含：回忆过去，并没有创造新形象），与定义条件（1）不符，排除。

所以，正确选项是 C。

73. 代币管理制就是用某种东西或标记来替代实物或权利，当期望行为出现时即给予一定数量的“标记”加以强化，期望行为坚持一段时间后再将“标记”按事前编制的激励系统转换成物质奖励。

根据上述定义，下列选项不属于代币管理制的是：

- A. 幼儿园老师经常用小星星贴纸来鼓励表现好的孩子
- B. 某企业按员工每月接受表扬的次数，确定当月奖金
- C. 游戏规定优胜者可获得奖券，积累奖券可换取奖品
- D. 顾客在商场购物获得积分，年底用积分兑换打折卡

【答案】A。解析：

本题是“不属于型”。要求找出不属于“代币管理制”的一项。

定义的关键信息是：（1）用某种东西或标记来替代实物或权利，当期望行为出现时即给予一定数量的“标记”加以强化，（2）期望行为坚持一段时间后再将“标记”按事前编制的激励系统转换成物质奖励。

A 项中的“幼儿园老师经常用小星星贴纸来鼓励表现好的孩子”（隐含：仅仅用小星星鼓励，并不转换成物质奖励），与定义条件（2）不符，不属于“代币管理制”。

所以，正确选项是 A。

74. 虚拟人力资源管理是指以合作关系为基础，充分利用现代信息网络技术，帮助企业获取、发展和筹划智力和劳力资本的一种人力资源管理办法。它可以满足企业管理虚拟化发展的要求，将大量的人力资源管理活动外部化或由员工实现自主管理，企业从而可以将主要精力放在核心人力资源管理方面，提高人力资源管理效率。

根据上述定义，下列选项不属于虚拟人力资源管理的是：

- A. 某企业通过猎头公司物色到一位产品研发专家
- B. 某集团将其全部广告交由同一家广告公司设计
- C. 小李和同事都被公司派到某职业学校培训半年
- D. 某公司委托劳动派遣公司负责分发员工的薪酬

【答案】B。解析：

本题是“不属于型”。要求找出不属于“虚拟人力资源管理”的一项。

定义的关键信息是：（1）以合作关系为基础，（2）充分利用现代信息网络技术，（3）帮助企业获取、发展和筹划智力和劳力资本，（4）人力资源管理。

B项中的“某集团将其全部广告交由同一家广告公司设计”（隐含：仅仅涉及广告设计，与人力资源管理无关），与定义条件（4）不符，不属于“虚拟人力资源管理”。

所以，正确选项是B。

75. 相符行为是指个人的行为与他人的行为和意志相符合、一致或相似的现象。相符行为通常包括三种情况：第一，人们出于适应社会生活环境的需要而遵守共同的社会规范，产生相似行为，以便使社会生活能正常进行；第二，相似的文化背景和社会化过程促使人们产生相似的行为；第三，人际交往中双方心理的相互影响，也导致相符行为。

根据上述定义，下列选项不属于相符行为的是：

- A. 某高校毕业生大多愿意到大型国有企业工作
- B. 双胞胎失散多年，但见面时仍可以一眼认出
- C. 两辆汽车在闹市区刮擦，路上行人驻足围观
- D. 某设计院建筑师设计的作品都有相似的风格

【答案】B。解析：

本题是“不属于型”。要求找出不属于“相符行为”的一项。

定义的关键信息是：（1）个人的行为与他人的行为和意志相符合、一致或相似，（2）人们出于适应社会生活环境的需要而遵守共同的社会规范，产生相似行为，以便使社会生活能正常进行，（3）相似的文化背景和社会化过程促使人们产生相似的行为，（3）人际交往中双方心理的相互影响，导致相符行为。

B项中的“双胞胎失散多年……一眼认出”（隐含：他们之所以能够“一眼认出”，必定是因为他们关于相貌的记忆，与遵守共同的社会规范、相似的文化背景和社会化过程、双方心理的相互影响没有关系），与定义条件（2）（3）（4）不符，不属于“相符行为”。

所以，正确选项是B。

76. 水平一体化物流是指同一行业的多个企业，通过共同利用物流渠道，获得规模经济效益、提高物流效率。水平一体化物流须具备物流需求和物流供应的信息平台，要有大量企业参与并存在较多的商品量。

根据上述定义，下列选项属于水平一体化物流的是：

- A. 某家具厂要求原材料供应商和产品销售商使用同一家物流公司
- B. 某市屠宰企业将猪、牛肉混放入冷藏车并送往一百多家零售店
- C. 电子城百家商店签订协议，指定其中一家承担电子城送货业务
- D. 某百货公司设立物流中心，统筹安排全公司各类货物发送工作

【答案】C。解析：

本题是“属于型”。要求找出属于“水平一体化物流”的一项。

定义的关键信息是：（1）同一行业的多个企业，（2）通过共同利用物流渠道，获得规模经济效益、提高物流效率。

A项中的“某家具厂”（隐含：没有同一行业的多个企业），与定义条件（1）不符，排除。

B项中的“某市屠宰企业”（隐含：没有同一行业的多个企业），与定义条件（1）不符，排除。

C项中的“电子城百家商店签订协议（隐含：同一行业的多个企业），指定其中一家承担电子城送货业务（隐含：共同利用物流渠道）”，完全符合定义条件，属于“水平一体化物流”。

D项中的“某百货公司”（隐含：没有同一行业的多个企业），与定义条件（1）不符，排除。

所以，正确选项是C。

77. 网络暴力是行为主体的网络行为对当事人造成实质性伤害的网络失范现象。

根据上述定义，下列选项属于网络暴力的是：

- A. 某非法传销团伙借助网络发展下线
- B. 某足球俱乐部球迷建立网站，要求主教练下课
- C. 某艺人喜欢在微博上爆料，提高自己微博的访问量
- D. 某选秀选手隐私在网上被曝光后，宣布放弃晋级机会

【答案】D。解析：

本题是“属于型”。要求找出属于“网络暴力”的一项。

定义的关键信息是：（1）行为主体的网络行为，（2）对当事人造成实质性伤害。

A项中的“发展下线”，B项中的“要求主教练下课”，C项中的“提高自己微博的访问量”（隐含：并没有对当事人造成实质性伤害），与定义条件（2）不符，排除。

D项中的“某选秀选手隐私在网上被曝光后（隐含：由于网络行为），宣布放弃晋级机会（隐含：对当事人造成实质性伤害）”，完全符合定义条件，属于“网络暴力”。

所以，正确选项是D。

78. 行政代履行是指行政机关依法作出要求当事人履行排除妨碍、恢复原状等义务的行政决定，当事人逾期不履行，经催告仍不履行，其后果已经或者将危害交通安全、造成环境污染或者破坏自然资源的，行政机关可以代履行，或者委托没有利害关系的第三人代履行。

根据上述定义，下列选项符合行政代履行规定的是：

- A. 某企业违规倾倒废渣造成水污染，因其不具备治理能力，当地环保局指定另一企业代为治理
- B. 安监局要求矿山企业配发防尘口罩，经催告，对拒不执行的企业，由安监局代为购买、配发
- C. 某工厂因噪声污染被环保局处以罚款，经催告，厂方拒不缴纳罚款，环保局遂申请法院强制执行
- D. 某店设置的广告牌影响行车安全，城管部门催告该店限期拆除，逾期未果，城管部门遂代为拆除

【答案】D。解析：

本题是“属于型”。要求找出符合行政代履行规定的一项。

定义的关键信息是：（1）行政机关依法作出要求当事人履行排除妨碍、恢复原状等义务的行政决定，（2）当事人逾期不履行，经催告仍不履行，其后果已经或者将危害交通安全、造成环境污染或者破坏自然资源的，（3）行政机关可以代履行，或者委托没有利害关系的第三人代履行。

A项中的某企业“不具备治理能力”（隐含：不是因为“经催告仍不履行”），与定义条件（2）不符，排除。

B项中的安监局要求矿山企业“配发防尘口罩”（隐含：其后果不属于危害交通安全、造成环境污染或者破坏自然资源），与定义条件（2）不符，排除。

C项中的环保局“申请法院强制执行”（隐含：不是行政机关代履行，或委托没有利害关系的第三人代履行），与定义条件（3）不符，排除。

D项中的“某店……城管部门催告该店限期拆除，逾期未果，（隐含：经催告仍不履行）城管部门遂代为拆除（隐含：行政机关代履行）”，完全符合定义条件，属于“行政代履行”。

所以，正确选项是D。

79. 公民的基本权利可分为积极权利和消极权利。积极权利是指通过国家积极介入保障公民在社会经济生活领域的权利，是要求国家积极作为的权利。消极权利即自由权，是要求排除国家妨害、国家相应不作为的权

利。

根据上述定义，下列选项属于积极权利范畴的是：

- A. 董事长不得借助权力剥夺股东的股权 B. 国家为满足低收入者需要建设保障房
C. 盲、聋、哑人员应依法列入选民名单 D. 每一位公民都有不受非法逮捕的权利

【答案】B。解析：

本题是“属于型”。要求找出属于“积极权利范畴”的一项。

定义的关键信息是：（1）国家积极介入，（2）保障公民在社会经济生活领域的权利。

A项中的“董事长”（隐含：不是国家），与定义条件（1）不符，排除。

B项中的“国家为满足低收入者需要建设保障房（隐含：保障公民在社会经济生活领域的权利）”，完全符合定义条件，属于“积极权利范畴”。

C项中的“应依法列入选民名单”（隐含：是政治生活，不是经济生活），与定义条件（1）不符，排除。

D项中的“不受非法逮捕的权利”（隐含：是法律生活，不是经济生活），与定义条件（1）不符，排除。

所以，正确选项是B。

80. 企业社会响应是指企业受社会伦理道德标准的引导满足社会某种普遍需要。

根据上述定义，下列选项不属于企业社会响应的是：

- A. 某工厂发生污染事故，周边企业出资垫付事故赔偿金
B. 工程队在工地周围铺设防尘网，减少粉尘造成的污染
C. 某企业捐赠3亿股企业股票给慈善组织设立专项基金
D. 某公司按照《残疾人保障法》的规定安排残疾人就业

【答案】D。解析：

本题是“不属于型”。要求找出不属于“企业社会响应”的一项。

定义的关键信息是：（1）企业，（2）受社会伦理道德标准的引导，（3）满足社会某种普遍需要。

D项中的某公司“按照《残疾人保障法》的规定安排残疾人就业”（隐含：是按照法律规定办事，而不是受社会伦理道德标准的引导），与定义条件（2）不符，不属于“企业社会响应”。

所以，正确选项是D。

三、类比推理。每道题先给出一组相关的词，要求你在备选项中找到一组与之在逻辑关系上最为贴近、相似或匹配的词。

81. （ ）对于轿车 相当于 牡丹对于（ ）

- A. 吉普：雪花 B. 卡车：菊花
C. 动车：梅花 D. 轮船：浪花

【答案】B。解析：

分析题干中的“轿车”和“牡丹”两个词语可知，轿车是一种汽车，牡丹是一种花。因此，估计填入空格的词与“轿车”和“牡丹”可能是“并列的具体事物”。

代入选项词组可见，B项构成的逻辑关系是相同的：卡车和轿车都是汽车，牡丹和菊花都是花。

所以，正确选项是B。

82. 理想对于（ ） 相当于 （ ）对于钻研

- A. 梦想：学习 B. 书籍：欲望
C. 志向：探索 D. 年龄：路程

【答案】C。解析：

代入选项词组可见，C项构成的逻辑关系是相同的：“理想”与“志向”是近义词，“钻研”与“探索”是近义词。

所以，正确选项是 C。

83. () 对于动物 相当于 () 对于星座

- A. 理智：幸运
- B. 凶猛：星星
- C. 可爱：神秘
- D. 珍稀：温馨

【答案】C。解析：

分析题干中的“动物”和“星座”两个词语可知，二者都是指称事物的类。因此，估计填入空格的词可能是属于“动物”类和“星座”类的具体事物，也可能是修饰、形容“动物”和“星座”的词语。

代入选项词组可见，C 项构成的逻辑关系是相同的：可爱的动物，神秘的星座。

所以，正确选项是 C。

84. () 对于照明 相当于 雷达对于 ()

- A. 灯光：探测
- B. 明亮：飞行
- C. 音乐：舞蹈
- D. 太阳：夜晚

【答案】A。解析：

分析题干中的“照明”和“雷达”两个词语可知，照明是一种功能，雷达是一种具体事物。因此，估计填入前一个空格的词可能是一种具体事物，填入后一个空格的词可能是某种具体事物一种功能。

代入选项词组可见，A 项构成的逻辑关系是相同的：灯光可以照明，雷达可以探测。

所以，正确选项是 A。

85. 葡萄酒：名酒：酒精

- A. 火箭炮：火箭：战斗力
- B. 敞篷车：跑车：发动机
- C. 宇航员：人员：驾驶员
- D. 玫瑰花：鲜花：牡丹花

【答案】B。解析：

题干所给词语之间的逻辑关系可以表述为：有些葡萄酒是名酒，酒里有酒精。

B 项的逻辑关系与此相同：有些敞篷车是跑车，汽车里有发动机。

所以，正确选项是 B。

86. 社交：微博：即时性

- A. 医院：消毒：安全性
- B. 曲艺：评书：娱乐性
- C. 司机：驾驶：可靠性
- D. 新闻：评论：客观性

【答案】B。解析：

题干所给词语之间的逻辑关系可以表述为：微博是一种社交手段，具有即时性。

B 项的逻辑关系与此相同：评书是一种曲艺形式，具有娱乐性。

所以，正确选项是 B。

87. 战士：坦克：武器装备

- A. 记者：相机：镜头
- B. 农民：镰刀：农具
- C. 矿工：矿灯：照明
- D. 商人：计算：资产

【答案】B。解析：

题干所给词语之间的逻辑关系可以表述为：坦克是战士的武器装备。

B 项的逻辑关系与此相同：镰刀是农民的农具。

所以，正确选项是 B。

88. 后果：结果：成果

- A. 信心：信念：信仰
C. 反动：反对：反思

- B. 妄想：遐想：理想
D. 思维：思想：思绪

【答案】B。解析：

题干所给词语之间的逻辑关系可以表述为：三个词是近义词，其中，“后果”是贬义词，“结果”是中性词，“成果”是褒义词。

B 项的逻辑关系与此相同：三个词是近义词，其中，“妄想”是贬义词，“遐想”是中性词，“理想”是褒义词。

所以，正确选项是 B。

89. 教室：教师：教材

- A. 军营：士兵：战场
C. 厨房：厨师：厨具

- B. 舞台：演员：演戏
D. 法庭：法官：法警

【答案】C。解析：

题干所给词语之间的逻辑关系可以表述为：教师在教室里使用教材上课。

C 项的逻辑关系与此相同：厨师在厨房里使用厨具做饭。

所以，正确选项是 C。

90. 食物：食品

- A. 拘泥：拘谨
C. 发挥：发扬

- B. 达到：到达
D. 矿产：矿石

【答案】D。解析：

题干所给词语之间的逻辑关系可以表述为：食品是一种食物。

D 项的逻辑关系与此相同：矿石是一种矿产。

所以，正确选项是 D。

四、逻辑判断。每题给出一段陈述，这段陈述被假设是正确的，不容置疑的。要求你根据这段陈述，选择一个答案。注意：正确的答案应与所给的陈述相符合，不需要任何附加说明即可以从陈述中直接推出。

91. 据英国《每日邮报》报道，日本富士摄影胶片公司将利用所掌握的胶片技术创新护肤产品，进军美容业。感光乳剂中的胶原蛋白可以防止胶片被氧化，与利用胶原蛋白保护皮肤免受紫外线伤害有着异曲同工之妙。一些忠实于富士品牌的消费者认为这对于爱美人士来说是一个好消息。

消费者得出上述结论隐含的假设是：

- A. 含有胶原蛋白的护肤品在亚洲欧洲等地区广受消费者欢迎
B. 富士公司具备了生产含有胶原蛋白护肤品的巨大生产能力
C. 科学家们已经从富士公司的护肤产品中发现了抗氧化物
D. 护肤产品能利用富士公司生产胶卷使用的科研成果和工艺

【答案】D。解析：

本题属于“搭桥型”。

题干论证的结论是：富士品牌能够创新护肤产品。论据是：感光乳剂中的胶原蛋白可以防止胶片被氧化，与利用胶原蛋白保护皮肤免受紫外线伤害有着异曲同工之妙。

仅仅因为“感光乳剂中的胶原蛋白可以防止胶片被氧化，与利用胶原蛋白保护皮肤免受紫外线伤害有着异曲同工之妙”，就能得出“富士品牌能够创新护肤产品”这样的结论吗？从题干现有的理由看，前提与结论之间是缺乏必然联系的。考生的任务就是在它们之间“搭桥”。

根据“加入否定法”可知，选项 D 是题干推出结论不可缺少的“桥”。否则，如果护肤产品不能利用富士公

司生产胶卷使用的科研成果和工艺，那么，富士品牌就不可能创新护肤产品，题干的论证也就不可能成立了。所以，正确选项是 D。

92. 某市以生产加工“工艺品”出口到欧盟国家著称。去年以来，受到欧洲债务危机影响，该市对欧盟工艺品出口锐减。鉴于市场的变化，作为该市最大的工艺品生产企业 A 公司，必须在以后两年的时间里提高 5% 的生产率，否则它就会破产。根据该市外经贸局的研究，A 公司按照目前的生产状况和经管结构，如果能提高 5% 的生产率，就能增加 10% 的生产利润。

如果上述陈述为真，以下选项必然为真的是：

- A. 如果 A 公司不能达到提高 10% 利润的目标，它就会破产
- B. A 公司的生产率两年内必须提高 10%，否则它就会破产
- C. 只要经济形势好转，A 公司不提高生产率，也不会破产
- D. A 公司生产状况和经管结构两年不变，利润才能提高 10%

【答案】A。解析：

本题属于“逻辑推理型”。

题干说“必须在以后两年的时间里提高 5% 的生产率，否则它就会破产”，这句话的隐含是：如果在以后两年的时间里不提高 5% 的生产率，公司就会破产。

题干说“如果能提高 5% 的生产率，就能增加 10% 的生产利润”，这句话的隐含是：如果不能增加 10% 的生产利润，就不能提高 5% 的生产率。

根据充分条件假言连锁推理的“肯定前件式”推理为：

如果不能增加 10% 的生产利润，就不能提高 5% 的生产率；如果在以后两年的时间里不提高 5% 的生产率，公司就会破产。所以，如果不能提高 10% 的利润，公司就会破产。

所以，正确选项是 A。

93. 近年来，我国城乡儿童学前教育事业发展取得了长足的进步，但是农村学前儿童“入园难”的问题仍然没有得到彻底的解决。解决儿童“入园难”的问题，不能够依靠大量使用校车来接送儿童，“合理布局，就近入园”才是确保儿童安全，解决入园难的根本。

如果以下各项为真，最能支持上述论证的是：

- A. 国家财政每年对农村学前教育的投入占国民教育投入的比例不断加大
- B. 按照国际安全标准采购的校车维护费用高，部分地区幼儿因无法承担
- C. 每个乡镇应规划建设一所公办幼儿园，大村独立办园，小村联合办园
- D. 国家招收幼儿教师免费培养定向分配，毕业后回到当地从事学前教育

【答案】B。解析：

本题属于“搭桥型”。

题干论证的结论是：解决儿童“入园难”的问题，不能够依靠大量使用校车来接送儿童。论据是：“合理布局，就近入园”才是确保儿童安全，解决入园难的根本。

仅仅因为“合理布局，就近入园”能够确保儿童安全，就能得出“不能够依靠大量使用校车来接送儿童”这样的结论吗？从题干现有的理由看，前提与结论之间是缺乏必然联系的。考生的任务就是在它们之间“搭桥”。

根据“加入否定法”可知，选项 B 是题干推出结论不可缺少的“桥”。否则，如果按照国际安全标准采购的校车维护费很低，幼儿因都可以承担，那么，就完全可以靠大量使用校车来接送儿童，题干的论证也就不可能成立了。

所以，正确选项是 B。

94. 小王、小张、小李、小顾四位舍友预测某次考试的结果。

小王：我想这次大家都能过吧！

小张：怎么可能？你没看见我乌云密布吗？

小李：小顾肯定是没有问题的。

小顾：拜托！要是我没问题，大家就都没问题。

成绩公布后，证明四人中只有一个人的说法是错误的。说法错误的是：

- A. 小王 B. 小张 C. 小李 D. 小顾

【答案】B。解析：

本题属于“逻辑推理型”。

已知四人中只有一个人的说法是错误的。小王与小张的说法相互矛盾，矛盾关系的两个判断既不能同真，也不能同假，因此，唯一的一句假话必定在小王和小张的说法里。由此可知，小李和小顾的说法都是正确的。

根据小李的说法：小顾肯定是没有问题的，可知“小顾没有问题”。

根据小顾的说法：要是我没问题，大家就都没问题。可知“大家都没问题”。

因此，小王的说法是正确的，小张的说法是错误的。

所以，正确选项是B。

95. 有专家认为，全球经济正缓慢复苏，其主要证据是，美国的经济表现超出预期，在就业和住房方面都有不错的表现；欧洲央行启动了融资运作计划，用比较低的利率贷款，为更多的企业以及中小企业进行融资；全球整个大宗商品市场树立了足够的信心。因此，这都是非常好的迹象。

如果以下各项为真，最有可能成为上述论证前提的是：

- A. 专家先前对美国经济表示不乐观 B. 欧洲央行原有利率交稿，银根紧张
C. 非欧美国家的经济状况保持稳定 D. 全球大宗商品交易缺乏信心支持

【答案】C。解析：

本题属于“搭桥型”。

题干论证的结论是：全球经济正缓慢复苏。论据是：美国的经济表现超出预期，在就业和住房方面都有不错的表现；欧洲央行启动了融资运作计划，用比较低的利率贷款，为更多的企业以及中小企业进行融资；全球整个大宗商品市场树立了足够的信心。

仅仅因为“美国的经济表现超出预期……；欧洲央行启动了融资运作计划，……；全球整个大宗商品市场树立了足够的信心”，就能得出“全球经济正缓慢复苏”这样的结论吗？从题干现有的理由看，前提与结论之间是缺乏必然联系的。考生的任务就是在它们之间“搭桥”。

根据“加入否定法”可知，选项C是题干推出结论不可缺少的“桥”。否则，如果非欧美国家的经济状况很不稳定，那么，就不能说全球经济正在复苏，题干的论证也就不可能成立了。

所以，正确选项是C。

96. 德国和瑞士的专家经过研究得出一个有趣的结论：餐具颜色能直接影响食欲，红色餐具可降低人们40%的食欲。在人们的传统观念中，红色是极具攻击性的色彩，用红色餐具盛放食物往往会让人难以下咽，因为在潜意识中人们会给自己发出不能吃红色餐具中食物的心理暗示，从而令食欲下降。

如果以下各项为真，最能质疑上述论断的是：

- A. 快餐巨头常在大堂中使用大片鲜亮的红色图案，并没有影响快餐销量
B. 红色易使人产生紧张感，暴饮暴食是人在精神紧张时放松自己的一种方式
C. 试验表明，使用红色水杯者比使用蓝色水杯者平均饮水量要减少44%
D. 红色预示着不安和担忧，人们看到红色餐具会本能地担心食物有危险

【答案】B。解析：

本题属于“削弱型”。

题干陈述的结论是：红色餐具可降低人们40%的食欲。据以得出这个结论的前提是：红色是极具攻击性的

色彩，用红色餐具盛放食物往往会让人难以下咽，从而令食欲下降。

题目要求考生做的，就是从四个备选项中找出一个“唱反调”的选项来对题干陈述的论证进行反驳，从而使其不能成立。怎样才能使题干的论证不能成立呢？只要指出“红色不会降低人们的食欲”就可以了。

B项说“红色易使人产生紧张感，暴饮暴食是人在精神紧张时放松自己的一种方式”（隐含：红色不仅不会降低人们的食欲，反而能让人暴饮暴食）。如果B项为真，就直接推翻了上述论证。

所以，正确选项是B。

97. 超级笔记本市场中有一个非常有竞争力的新生力量，2011年销量只占移动计算机市场销量的20%，低于预期的30%。有供应商表示，超级本之所以遭遇销售低迷，很大程度上是因为欧洲市场对超级本需求过小。调查显示，欧洲消费者普遍青睐15英寸及以上尺寸的笔记本电脑，有数据显示，目前欧洲售出的移动计算机中有40%~45%都是15英寸的机型，而超级本根本就没有这样的尺寸。

供应商得出上述结论的前提假设是：

- A. 生产前厂家未考虑欧洲消费者的使用习惯
- B. 超级本应该设计生产15英寸级别的产品
- C. 欧洲消费者的消费习惯与其他地区相类似
- D. 欧洲市场在全球笔记本市场中占较大比例

【答案】D。解析：

本题属于“搭桥型”。

题干论证的结论是：超级本销售低迷。论据是：欧洲市场对超级本需求过小。

仅仅因为“欧洲市场对超级本需求过小”，就能得出“超级本销售低迷”这样的结论吗？从题干现有的理由看，前提与结论之间是缺乏必然联系的。考生的任务就是在它们之间“搭桥”。

根据“加入否定法”可知，选项D是题干推出结论不可缺少的“桥”。否则，如果欧洲市场在全球笔记本市场中所占比例很小，那么，从“欧洲市场对超级本需求过小”就不能得出“超级本销售低迷”的结论，题干的论证也就不可能成立了。

所以，正确选项是D。

98. 有经济学者不赞成政府对低收入人群的直接救助，主张政府对大企业家和富人采取优惠的财政和税收政策，认为大企业家和富人的投资与消费活动会促进经济发展，增加穷人的就业机会，将财富从社会上层传递到社会底层。

如果以下各项为真，最能削弱上述理论的观点是：

- A. 政府对大企业家和富人采取优惠的财政和税收政策，导致因贫富差距拉大而引发不确定的社会矛盾
- B. 打破收入分配方面的平均主义，鼓励一部分人先富起来，但具体实施这一政策存在不可预见的风险
- C. 高收入者的消费需求达到饱和后，人的“自私性”将抑制投资需求，社会投资规模也不再继续增长
- D. 政府的财政和税收政策应该优惠穷人，提高穷人购买力同样会增加有效消费需求促使经济持续发展

【答案】C。解析：

本题属于“削弱型”。

题干陈述的结论是：不赞成政府对低收入人群的直接救助，主张政府对大企业家和富人采取优惠的财政和税收政策。据以得出这个结论的前提是：大企业家和富人的投资与消费活动会促进经济发展，增加穷人的就业机会，将财富从社会上层传递到社会底层。

题目要求考生做的，就是从四个备选项中找出一个“唱反调”的选项来对题干陈述的论证进行反驳，从而使其不能成立。怎样才能使题干的论证不能成立呢？只要指出“对大企业家和富人采取优惠的财政和税收政策，并不会让低收入人群得到救助”就可以了。

C项说“高收入者的消费需求达到饱和后，人的“自私性”将抑制投资需求，社会投资规模也不再继续增长”（隐含：不会让低收入人群得到救助）。如果C项为真，就直接推翻了上述论证。

所以，正确选项是 C。

99. 部分英国医生宣称，他们开始对苹果 IPAD 用户类似重复性劳损的病症进行治疗，这类被戏称为“i 伤害”的病症，主要表现为用户的手和点击、触摸屏幕的手指出现各种各样的病痛。专家推测：大多数 IPAD 用户左手拿着平板电脑以保持其稳定，右手食指点击屏幕发送邮件或生成文件。这使得他们有患上诸如重复性劳损、腕管综合症以及其他肌腱伤害的风险。

如果以下各项为真，最能支持上述专家推测的是：

- A. 使用 IPAD 的用户患上此类病症的概率比较高
- B. 使用其他品牌平板电脑的用户出现了类似病症
- C. 未普及 IPAD 的地区此类病症出现的比率极少
- D. 使用台式机的用户患上此类病症的概率比较低

【答案】C。解析：

本题属于“搭桥型”。

题干论证的结论是：IPAD 用户有患上重复性劳损病症的风险。论据是：大多数 IPAD 用户左手拿着平板电脑以保持其稳定，右手食指点击屏幕发送邮件或生成文件。

仅仅因为“大多数 IPAD 用户左手拿着平板电脑以保持其稳定，右手食指点击屏幕发送邮件或生成文件”，就能得出“IPAD 用户有患上重复性劳损病症的风险”这样的结论吗？从题干现有的理由看，前提与结论之间是缺乏必然联系的。考生的任务就是在它们之间“搭桥”。

根据“加入否定法”可知，选项 C 是题干推出结论不可缺少的“桥”。否则，如果未普及 IPAD 的地区此类病症出现的比率也很多，那么，就不能得出“IPAD 用户有患上重复性劳损病症的风险”这样的结论，题干的论证也就不可能成立了。

所以，正确选项是 C。

100. 法国总统萨科奇正式宣布竞选连任，打出了“强盛法国”的竞选口号，承诺带领法国走出经济危机。巴黎街头萨科奇竞选广告上写着：“只有强盛的法国才能保护你的家庭。”

根据此竞选口号的推理方式，下列选项为真的是：

- A. 虚弱的法国保护不了你的家庭
- B. 强盛的法国可以保护你的家庭
- C. 法国虚弱是因为没有保护家庭
- D. 家庭得到保护，法国就能强盛

【答案】A。解析：

本题属于“逻辑推理型”。

萨科奇的竞选广告是：“只有强盛的法国才能保护你的家庭。”这是一个必要条件假言判断。必要条件假言推理只有两个有效式：否定前件式、肯定后件式。

A 项所说“虚弱的法国（隐含：否定前件）保护不了你的家庭（隐含：否定后件）”，是根据“否定前件式”进行的必要条件假言推理，推理是有效的。

所以，正确选项是 A。

第五部分 资料分析

（共 20 题，参考时限 20 分钟）

所给出的图、表、文字或综合性资料均有若干个问题要你回答。你应根据资料提供的信息进行分析、比较、计算和判断处理。

一、根据所给文字资料回答 101~105 题。

表 1: 某市证券行业主要经济数据

年份	上市公司(家)	证券营业部 (家)	股民资金开 户数(万户)	股票、基金交 易量(亿元)	期货交易量 (亿元)
2005	17	45	70.07	1154.14	375.47
2006	18	44	71.89	2955.93	926.00
2007	18	72	210.95	25170.63	2763.35
2008	18	46	132.17	9676.99	5320.27
2009	19	60	119.70	21293.60	10662.76
2010	26	72	139.05	19709.81	28550.28

表 2: 某市保险行业主要经济数据

年份	各类保险营 业网点(个)	财产险保费 收入(亿元)	人身险保费 收入(亿元)	财产险赔款 支出(亿元)	人身险赔款 支出(亿元)
2005	224	9.73	25.47	6.44	3.77
2006	247	12.84	30.75	8.09	4.53
2007	311	17.70	40.84	9.40	8.99
2008	378	20.09	59.73	12.29	12.27
2009	116	23.11	68.21	12.97	12.45
2010	365	33.13	86.41	14.29	11.55

101. 到 2010 年末, 股民资金开户数比 2005 年末增长了大约:

- A. 90% B. 98% C. 100% D. 101%

【答案】B。解析:

第一步, 明确问题。求“到 2010 年末, 股民资金开户数比 2005 年末增长了大约多少”。

第二步, 定位数据。表 1 中“股民资金开户数”列的数据。

第三步, 估算。

$$(139.05 - 70.07) \div 70.07 \approx 98\%$$

所以, 正确选项是 B。

102. 2005—2010 年股票、基金交易量同比增长的年份共有几个?

- A. 1 个 B. 2 个 C. 3 个 D. 4 个

【答案】C。解析:

第一步, 明确问题。求“2005—2010 年股票、基金交易量同比增长的年份共有几个”。

第二步, 定位数据。表 1 中“股票、基金交易量”列的数据。

第三步, 估算。

不需要精确计算, 只要估算同比增长率是否大于 0 即可。

$$2006 \text{ 年: } (2955.93 - 1154.14) \div 1154.14 > 0$$

$$2007 \text{ 年: } (25170.63 - 2955.93) \div 2955.93 > 0$$

$$2008 \text{ 年: } (9676.99 - 25170.23) \div 25170.23 < 0$$

$$2009 \text{ 年: } (21293.60 - 9676.99) \div 9676.99 > 0$$

$$2010 \text{ 年: } (19709.81 - 21293.60) \div 21293.60 < 0$$

只有 2006、2007、2009 等 3 个年份同比增长率大于 0。

所以，正确选项是 C。

103. 2005—2010 年股票、基金交易的户均交易量最大的是哪个年份？

- A. 2007 B. 2008 C. 2009 D. 2010

【答案】C。解析：

第一步，明确问题。求“2005—2010 年股票、基金交易的户均交易量最大的是哪个年份”。

第二步，定位数据。表 1 中“股民资金开户数”和“股票、基金交易量”两列的数据。

第三步，估算。

不需要精确计算，只要估算、对比大小即可。

2007 年： $25170.63 \div 201.95 \approx 25000 \div 200$

2008 年： $9676.99 \div 132.1 \approx 10000 \div 1300$

2009 年： $21293.60 \div 119.70 \approx 21000 \div 120$

2010 年： $19709.81 \div 139.05 \approx 20000 \div 140$

很明显，2009 年的股票、基金交易的户均交易量最大。

所以，正确选项是 C。

104. 2005—2010 年财产险每年赔款支出与保费收入之比大约在什么范围内？

- A. 10%—25% B. 20%—50% C. 40%—70% D. 60%—90%

【答案】C。解析：

第一步，明确问题。求“2005—2010 年财产险每年赔款支出与保费收入之比大约在什么范围内”。

第二步，定位数据。表 2 中“财产险保费收入”和“财产险赔款支出”两列的数据。

第三步，估算。

不需要精确计算，只要估算、对比出比例最小和最打的两个年份即可。估算对比可知：

2010 年的比例最小： $14.29 \div 33.13 \approx 40\%$ 。

2005 年的比例最大： $6.44 \div 9.73 \approx 70\%$ 。

即 2005—2010 年财产险每年赔款支出与保费收入之比大约在 40%—70%。

所以，正确选项是 C。

105. 能够从上述资料中推出的是：

- A. 每年获得的人身险保费收入约为财产险保费收入的 2—3 倍，因此获得人身险给付的人数比获得财产险赔款的人数更多
- B. 2008 年出现股票、基金交易量同比下降约为 60%，而期货交易量同比增长约为 90%
- C. 2005—2010 年，2010 年的财产保费收入和人身保险费收入增长最快，2008 年的财产险赔款支出最接近人身险给付支出
- D. 2005—2010 年，该市的证券营业部数量逐年增加，2010 年末比 2005 年末增加了 27 家

【答案】B。解析：

第一步，明确问题。求“能够从上述资料中推出”的一项。

第二步，定位数据。本题涉及数据较多，请细心提取。

第三步，估算。

A 项，所给表格材料中没有关于“人数”的信息，不可能从资料中推出，排除。

B 项，2008 年出现股票、基金交易量同比下降约为 $(9696.99 - 25170.63) \div 25170.63 \approx 60\%$ ；期货交易量同比增长约为 $(5320.27 - 2763.35) \div 2763.35 \approx 90\%$ 。能够从上述资料中推出。

确定了 B 项正确，C、D 两项可以直接排除。

所以，正确选项是 B。

二、阅读以下资料，回答 106~110 题。

2011 年某省接待过夜游客总量再次实现突破，达到 3001.34 万人次，同比增长 16.0%，实现旅游收入 324.04 亿元，同比增长 25.8%。12 月份宾馆平均开房率为 74.02%。同比增长 0.06%；全年累计宾馆平均开房率为 62.37%。同比增长 2.0%。

表 1：该省 2011 年 12 月及全年接待过夜旅客人数

项目	12 月份 (万人)	同比增长 (%)	全年 (万人)	同比增长 (%)
接待过夜旅游者总计	333.50	24.3	3001.34	16.0
(一) 过夜境内旅游者	322.96	23.5	2919.88	15.5
1. 旅游饭店接待过夜人次	235.27	18.32	2123.51	14.33
2. 社会旅馆接待过夜人次	87.69	39.8	796.37	20.0
(二) 过夜入境旅游者	10.54	56.1	81.46	22.8
外国人	7.00	32.6	56.27	18.6
香港同胞	1.40	60.9	13.62	20.2
澳门同胞	0.13	160.0	1.13	43.0
台湾同胞	2.01	265.5	10.54	54.8

表 2：该省 2011 年 12 月及全年接待过夜游客的旅游收入情况

项目	12 月份 (亿元)	同比增长 (%)	全年 (亿元)	同比增长 (%)
接待过夜游客旅游总收入	33.94	37.6	324.04	25.8
1. 接待境内旅游者收入	30.83	36.5	299.47	27.1
2. 接待入境旅游者收入	3.11	49.5	24.57	11.6

106. 2010 年该省接待过夜游客的旅游总收入约为：

- A. 25 亿元 B. 258 亿元 C. 298 亿元 D. 408 亿元

【答案】B。解析：

第一步，明确问题。求“2010 年该省接待过夜游客的旅游总收入”。

第二步，定位数据。表 2 中“全年”和“同比增长”两列的数据。

第三步，估算。

$324.04 \div (1 + 25.8\%) \approx 260$ 。与 B 项的数据最接近。

所以，正确选项是 B。

107. 下列 2011 年 1—11 月该省旅游统计数据中，同比增长速度大于全年的是：

- A. 接待过夜境内旅游者收入 B. 宾馆平均开房率
C. 旅游饭店接待过夜的境内游客人数 D. 接待过夜入境旅游者人数

【答案】B。解析：

第一步，明确问题。求“同比增长速度大于全年”的一项。

第二步，定位数据。本题涉及数据较多，分散在文字资料、表 1 和表 2 中，请细心提取。

第三步，估算。

资料中并没有提供 2011 年 1—11 月该省旅游统计数据，只给了 12 月和全年的数据。

我们知道，全年的同比增长率是根据一年中 12 个月的同比增长率计算出来的。因此可以想象，如果 2011 年 1—11 月的同比增长速度大于全年，那么 2011 年 12 月的同比增长速度必定小于全年。否则，各月的数据和全年的数据就不一致了。

不需要精确计算，直接估算、比较可知，只有 B 项的“宾馆平均开房率”符合要求。即宾馆平均开房率 2011

年 12 月份的同比增长率为 0.06%，2011 年全年的同比增长率为 2.0%。

所以，正确选项是 B。

108. 2011 年 12 月该省入境外国旅游者占全年入境外国旅游者的比重，较上年约增加：

- A. 1.3% B. 14.2% C. 25.6% D. 32.6%

【答案】A。解析：

第一步，明确问题。求“2011 年 12 月该省入境外国旅游者占全年入境外国旅游者的比重，较上年增加的百分比”。

第二步，定位数据。表 1 中“外国人”行的数据。

第三步，估算。

2011 年 12 月该省入境外国旅游者占全年入境外国旅游者的比重为： $7 \div 56.27 \approx 12.5\%$ 。

2010 年 12 月该省入境外国旅游者人数为： $7 \div (1+32.6\%) \approx 5.3$ 。

2010 年全年该省入境外国旅游者人数为： $56.27 \div (1+18.6\%) \approx 48$ 。

2010 年 12 月该省入境外国旅游者占全年入境外国旅游者的比重为： $5.3 \div 48 \approx 11\%$ 。

则 2011 年 12 月该省入境外国旅游者占全年入境外国旅游者的比重，较上年增加的百分比为： $12.5\% - 11\% = 1.5\%$ 。与 A 项的数据最为接近。

所以，正确选项是 A。

109. 2011 年 12 月该省接待过夜游客中，境外游客每人的平均消费约为境内游客的：

- A. 1 倍 B. 2 倍 C. 3 倍 D. 4 倍

【答案】C。解析：

第一步，明确问题。求“2011 年 12 月该省接待过夜游客中，境外游客每人的平均消费为境内游客的倍数”。

第二步，定位数据。表 1、表 2 中“12 月份”的数据。

第三步，估算。

2011 年 12 月该省接待过夜游客中，境外游客每人的平均消费为： $30000 \div 10.54 \approx 2800$ 。

2011 年 12 月该省接待过夜游客中，境内游客每人的平均消费为： $308300 \div 322.96 \approx 950$ 。

倍数为： $2800 \div 950 \approx 3$ 。与 C 项的数据最为接近。

所以，正确选项是 C。

110. 能够从上述资料中推出的是：

- A. 2011 年该省旅游饭店接待过夜游客人次超过社会旅馆的 3 倍
B. 2010 年 12 月该省过夜入境游客中台湾同胞人次多于香港同胞
C. 2011 年 12 月台湾同胞到该省的旅游人次高于前 11 个月的平均值
D. 2011 年到该省消费的游客中，境外游客消费增长速度高于境内游客

【答案】C。解析：

第一步，明确问题。求“能够从上述资料中推出”的一项。

第二步，定位数据。本题涉及数据较多，请细心提取。

第三步，估算。

A 项， $2123.51 \div 796.37 < 3$ 。因此，2011 年该省旅游饭店接待过夜游客人次并没有超过社会旅馆的 3 倍。A 项错误，排除。

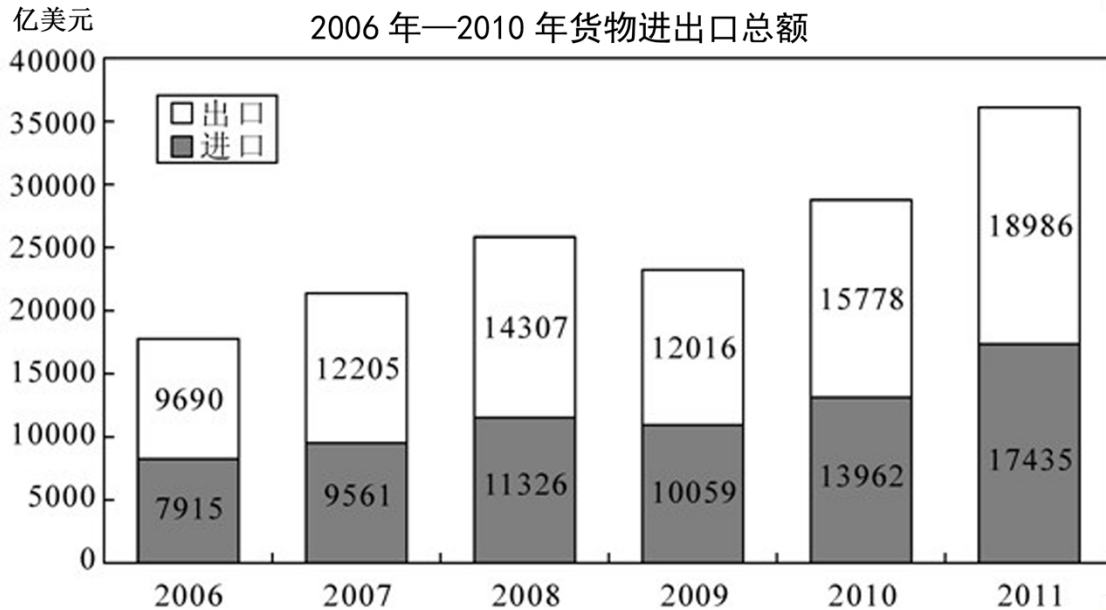
B 项，2010 年 12 月该省过夜入境游客中台湾同胞人次为： $2.01 \div (1+265.5\%) \approx 0.54$ （万人）；香港同胞人次为： $1.40 \div (1+60.9\%) \approx 0.87$ （万人）。台湾同胞人次不是多于香港同胞，而是少于香港同胞。B 项错误，排除。

C项, 2011年12月台湾同胞到该省的旅游人次为2.01万人, 明显多于前11个月的平均值: $(10.54 - 2.01) \div 11$ 。C项正确, 能够从上述资料中推出。

所以, 正确选项是C。

三、阅读以下资料, 回答111~115题。

2011年我国全年货物进出口总额36421亿美元, 比上年增长22.5%。其中, 出口18986亿美元, 增长20.3%; 进口17435亿美元, 增长24.9%。进出口差额(出口值与进口值差额的绝对值)1551亿美元, 比上年减少265亿美元。



2011年对主要国家和地区进出口额及其增长速度

国家和地区	出口额(亿美元)	比上年增长(%)	进口额(亿美元)	比上年增长(%)
欧盟	3560	14.4	2112	25.4
美国	3245	14.5	1222	19.6
中国香港	2680	22.8	155	26.4
东盟	1701	23.1	1928	24.6
日本	1483	22.5	1946	10.1
韩国	829	20.6	1627	17.6
印度	505	23.5	234	12.1
俄罗斯	389	31.4	403	55.6
中国台湾	351	18.3	1249	7.9

111. 2010年我国全年货物进出口差额为多少亿美元?

- A. 265 B. 1286 C. 1551 D. 1816

【答案】D。解析:

第一步, 明确问题。求“2010年我国全年货物进出口差额”。

第二步, 定位数据。文字资料: 2011年我国全年货物……进出口差额(出口值与进口值差额的绝对值)1551亿美元, 比上年减少265亿美元。

第三步, 估算。

2010 年我国全年货物进出口差额为：1551+265= 1816（亿美元）。

所以，正确选项是 D。

112. 2007—2011 年我国全年货物出口额与上一年相比增长超过 30% 的年份有几个？

- A. 1 个 B. 2 个 C. 3 个 D. 4 个

【答案】A. 解析：

第一步，明确问题。求“2007—2011 年我国全年货物出口额与上一年相比增长超过 30% 的年份有几个”。

第二步，定位数据。柱状图中的数据。

第三步，估算。

不需要精确计算，估算是否超过 30% 即可。

2007 年：(12250-9690) ÷ 9690 < 30%； 2008 年：(14307-12205) ÷ 12205 < 30%

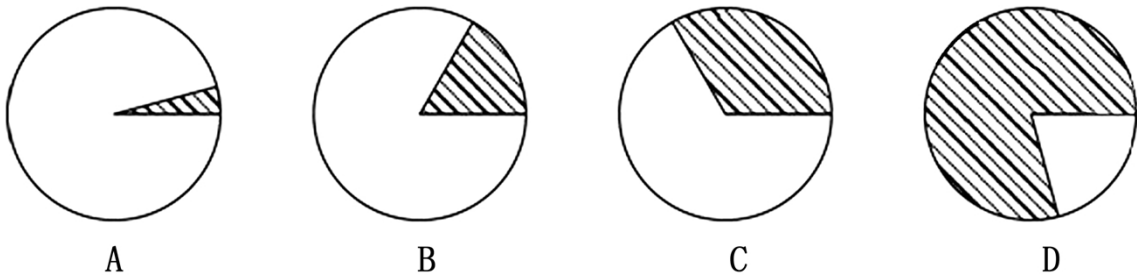
2009 年：(12016-14307) ÷ 14307 < 30%； 2010 年：(15778-12016) ÷ 12016 > 30%

2011 年：(18986-15778) ÷ 15778 < 30%

只有 2010 年一个年份，我国全年货物出口额与上一年相比增长超过 30%。

所以，正确选项是 A。

113. 下列最能体现 2011 年我国对欧盟出口额占全年出口额比重的图例是：



【答案】B. 解析：

第一步，明确问题。求“最能体现 2011 年我国对欧盟出口额占全年出口额比重的图例”。

第二步，定位数据。柱状图：2011 年我国全年出口额为 18986 亿美元；表格“欧盟”列：2011 年我国对欧盟出口额为 3560 亿美元。

第三步，估算。

$3560 \div 18986 \approx 3600 \div 19000 < 0.2$ 。即所占比重略小于 1/5。B 项图形最能体现这个比重。

所以，正确选项是 B。

114. 表中所列举的国家和地区中，2011 年我国货物进出口贸易差额最大的是：

- A. 欧盟 B. 中国香港 C. 美国 D. 中国台湾

【答案】B. 解析：

第一步，明确问题。求“2011 年我国货物进出口贸易差额最大的国家或地区”。

第二步，定位数据。表格中“欧盟、中国香港、美国、中国台湾”4 行的数据。

第三步，估算。

欧盟进出口贸易差额：3560-2112； 中国香港进出口贸易差额：2680-155

美国进出口贸易差额：3245-1222； 中国台湾进出口贸易差额：1249-351

不需要精确计算，估算、对比可知，进出口贸易差额最大的是中国香港。

所以，正确选项是 B。

115. 能够从上述资料中推出的是:

- A. 与上一年相比, 2011 年我国全年货物出口额占进出口总额的比重上升
- B. 2006—2011 年我国货物进出口总额逐年增加
- C. 2011 年我国对俄罗斯进口增长金额低于我国对韩国进口增长金额
- D. 2011 年大陆对中国台湾贸易总额与上一年相比增长 18%

【答案】C。解析:

第一步, 明确问题。求“能够从上述资料中推出”的一项。

第二步, 定位数据。本题涉及数据较多, 请细心提取。

第三步, 估算。

A 项, 2011 年我国全年货物进出口总额 36421 亿美元, 比上年增长 22.5%。其中, 出口 18986 亿美元, 增长 20.3%。由此可知, 2010 年我国全年货物进出口总额为: $36421 \div (1+22.5\%) = 29731$ 亿美元, 出口额 $18986 \div (1+20.3\%) = 15782$ 亿美元。

2011 年我国全年货物出口额占进出口总额的比重为: $18986 \div 36421 \approx 52\%$ 。

2010 年我国全年货物出口额占进出口总额的比重为: $15782 \div 29731 \approx 53\%$ 。

可见, 2011 年的比重比 2010 年不仅没有上升, 反而下降了。A 项错误, 排除。

B 项, 直接看柱状图可知, 2009 年的进出口总额比 2008 年不仅没有增加, 反而减少了。B 项错误, 排除。

C 项, 2011 年我国对俄罗斯进口增长金额为: $403 - 403 \div (1+55.6\%) \approx 150$; 对韩国进口增长金额为: $1627 - 1627 \div (1+17.6\%) \approx 250$ 。因此, 2011 年我国对俄罗斯进口增长金额的确低于我国对韩国进口增长金额。C 项正确, 能够从上述资料中推出。

所以, 正确选项是 C。

四、阅读以下资料, 回答 116~120 题。

2006 年至 2011 年全年我国农村居民人均纯收入分别为 3587 元、4140 元、4761 元、5153 元、5919 元、6977 元; 城镇居民人均可支配收入分别为 11759 元、13786 元、15781 元、17175 元、19109 元、21810 元。

2000 年至 2011 年全年我国粮食产量分别为 49804 万吨、50160 万吨、52871 万吨、53082 万吨、54648 万吨、57121 万吨。

与 2010 年相比, 2011 年全年粮食种植面积 11057 万公顷, 增加 70 万公顷; 棉花种植面积 304 万公顷, 增加 19 万公顷; 油料种植面积 1379 万公顷, 减少 10 万公顷; 糖料种植面积 195 万公顷, 增加 4 万公顷; 棉花产量 660 万吨, 增产 10.7%; 油料产量 3279 万吨, 增产 1.5%; 糖料产量 12820 万吨, 增产 4.3%; 肉类总产量 7957 万吨, 增长 0.4%, 其中, 猪肉产量 5053 万吨, 下降 0.4%; 养殖水产品产量 4026 万吨, 增长 5.2%; 捕捞水产品产量 1574 万吨, 增长 19%。

2011 年末全国参加城镇基本医疗保险的人数 47291 万人, 增加 4028 万人。其中, 参加城镇职工基本医疗保险人数 25226 万人, 参加城镇居民基本医疗保险 22065 万人。截至 9 月底, 2646 个县(市、区)开展了新型农村合作医疗工作, 新型农村合作医疗参合率 97.5%; 新型农村合作医疗基金支出总额为 1114 亿元, 受益 8.4 亿人次。

116. 2011 年, 我国城镇居民人均可支配收入比 2008 年大约增加了:

- A. 18%
- B. 38%
- C. 58%
- D. 85%

【答案】B。解析:

第一步, 明确问题。求“2011 年我国城镇居民人均可支配收入比 2008 年增加了多少”。

第二步, 定位数据。文字资料第一段: 2006 年至 2011 年……城镇居民人均可支配收入分别为 11759 元、13786 元、15781 元、17175 元、19109 元、21810 元。

第三步, 估算。

$$(21810 - 15781) \div 15781 \approx 38\%$$

所以, 正确选项是 B。

117. 2010 年，我国水产品产量大约达到多少万吨？

- A. 1500 B. 3800 C. 5000 D. 5300

【答案】D。解析：

第一步，明确问题。求“2010 年我国水产品产量大约达到多少万吨”。

第二步，定位数据。文字资料第三段：与 2010 年相比，2011 年全年……养殖水产品产量 4026 万吨，增长 5.2%；捕捞水产品产量 1574 万吨，增长 19%。

第三步，估算。

$4026 \div (1+5.2\%) + 1574 \div (1+19\%) \approx 5300$ （万吨）。

所以，正确选项是 D。

118. 2010—2011 年，下列哪项年增长速度最快？

- A. 农村居民人均纯收入 B. 粮食种植面积 C. 棉花产量 D. 粮食产量

【答案】A。解析：

第一步，明确问题。求“哪项年增长速度最快”。

第二步，定位数据。本题涉及数据较多，请细心提取。

第三步，估算。

A 项，2010—2011 年农村居民人均纯收入增长速度为： $(6977-5919) \div 5919 \approx 18\%$ 。

B 项，2010—2011 年粮食种植面积增长速度为： $70 \div (11057-70)$ ，增速太小，排除。

C 项，2010—2011 年棉花产量增长速度为：10.7%，增速太小，排除。

D 项，2010—2011 年粮食产量增长速度为： $(57121-54648) \div 54648$ ，增速太小，排除。

所以，正确选项是 A。

119. 2010 年，我国猪肉产量占肉类总产量的比重约为：

- A. 43% B. 53% C. 64% D. 84%

【答案】C。解析：

第一步，明确问题。求“2010 年我国猪肉产量占肉类总产量的比重”。

第二步，定位数据。资料第三段：与 2010 年相比，2011 年全年……肉类总产量 7957 万吨，增长 0.4%，其中，猪肉产量 5053 万吨，下降 0.4%。

第三步，估算。

与 2010 年相比，2011 年的肉类总产量增长率，猪肉产量下降率都是 0.4%，可以忽略不计，直接按 2011 年的数据估算即可。 $5053 \div 7957 \approx 64\%$ 。

所以，正确选项是 C。

120. 根据上述资料，下列说法错误的是：

- A. 2011 年末，我国参加城镇居民基本医疗保险人数约占参加城镇基本医疗保险人数的 46.7%
B. 2011 年棉花、油料、糖料的总种植面积比上年增加约 13 万公顷
C. 2011 年前三个季度，开展了新型农村合作医疗工作的县（市、区）中，人均基金支出大约为 130 元
D. 2006 年至 2011 年，我国城镇居民人均可支配收入增长比农村居民人均纯收入增长慢

【答案】D。解析：

第一步，明确问题。求“说法错误”的一项。

第二步，定位数据。本题涉及数据较多，请细心提取。

第三步，估算。

A 项，资料第四段：2011 年末全国参加城镇居民基本医疗保险的人数 47291 万人，其中……参加城镇居民基本

医疗保险 22065 万人。 $22065 \div 47291 \approx 46.7\%$ 。A 项正确，排除。

B 项，资料第三段：与 2010 年相比，2011 年全年……棉花种植面积 304 万公顷，增加 19 万公顷；油料种植面积 1379 万公顷，减少 10 万公顷；糖料种植面积 195 万公顷，增加 4 万公顷。 $19 - 10 + 4 = 13$ （万公顷）。B 项正确，排除。

C 项，资料第四段：2011 年……截至 9 月底，2646 个县（市、区）开展了新型农村合作医疗工作，……新型农村合作医疗基金支出总额为 1114 亿元，受益 8.4 亿人次。 $1114 \div 8.4 \approx 130$ （元）。C 项正确，排除。

所以，正确选项是 D。

全部测验到此结束！

请扫描QQ二维码，备注“公务员考生”加QQ
好友，获取曹长远老师精解历年公务员考试申论、
行测、面试真题完整解析资料。

精品资料，尽在掌握！

