

## 2015年7月11日新疆公务员考试

# 《行政职业能力测验》真题

### 说明

一、此项测验分为五个部分，共120题，总时限120分钟，满分100分。各部分不单独计时，但都给出参考时限，供答题时合理分配时间。

二、此项测验科目代码为“1”。请按照要求在答题卡上填写好自己的姓名，涂写好准考证号、科目代码。

三、必须在答题卡上答题，在题本上答题，一律无效。

严禁折叠答题卡！

## 第一部分 常识判断

根据题目要求，在四个选项中选出一个最恰当的答案。

1. 作为新疆首个撤地设市的地区，\_\_\_\_\_撤地设市工作的启动开创了新疆行政区划新纪元，其带来的社会、经济效益将进一步促进新疆打造“一路一带”战略中丝绸之路经济带核心区的建设。

- A. 喀什
- B. 吐鲁番
- C. 阿克苏
- D. 克拉玛依

2. 2015年5月10号11时，以\_\_\_\_\_为图标的“中国·新疆公路零公里”标志牌在乌鲁木齐人民广场举办揭牌仪式。该标志成为新疆干线公路起点的象征，从此以后，新疆所有公路营业距离的计算就有了一个统一的新起点，公路经营性行为和公路里程的计算都以此为新起点。

- A. 和谐的雪莲花
- B. 绵延的天山
- C. 舞蹈的新疆姑娘
- D. 温润的和田玉

3. 中央第二次新疆工作座谈会确定新疆工作的总目标是：

- A. 民族团结
- B. 社会稳定和长治久安
- C. 跨越式发展
- D. 改善民生

4. 2015年10月，新疆维吾尔自治区将迎来成立\_\_\_\_\_周年庆典。

- A. 60
- B. 62
- C. 63
- D. 65

5. 国务院实行国务院全体会议和国务院常务会议制度。下列说法中错误的是：

- A. 国务院常务会议由总理、副总理、国务委员、秘书长组成

- B. 国务院全体会议由总理召集和主持
- C. 国务院全体会议一般每年召开一次
- D. 国务院工作中的重大事项，必须经国务院全体会议或常务会议讨论决定

6. 当前，我国农村五保供养制度的“五保”是指：

- A. 保吃、保穿、保住、保医、保葬
- B. 保吃、保穿、保住、保医、保教
- C. 保吃、保喝、保烧、保住、保教
- D. 保吃、保穿、保烧、保住、保葬

7. 某省人大通过的地方性法规与国家发改委出台的部门规章对同一事项规定不一致时：

- A. 应该直接适用发改委的部门规章
- B. 应该直接适用该省人大通过的地方性法规
- C. 国务院认为应当适用地方性法规的，应当决定在该地方适用地方性法规
- D. 国务院认为应当适用部门规章的，由国务院作出最终裁决

8. 某市为落实“节能减排”政策，鼓励全市出租车进行油改气改造，并提供改造补贴。改造后的出租车，不仅尾气排放得到了显著改善，运营成本也大幅度降低。但由于受加气站数量的限制，“加气难”又使出租车司机抱怨连连。这一情况说明了：

- A. 任何公共政策都不可能解决所有的社会问题
- B. 相关配套设施的完善程度是确保政策顺利实施的重要条件
- C. 政府出台公共政策是为了解决那些市场机制不能解决的问题
- D. 吸纳社会公众广泛参与是提升政策执行质量的重要条件

9. 在我国的全国性市场中，最接近完全竞争市场的是：

- A. 小麦市场
- B. 保险市场
- C. 电信市场
- D. 铁路客运市场

10. 小壮是年满8周岁的小学生。小壮的下列行为中，他人不得主张无效的是：

- A. 签订买卖校服的合同
- B. 购买价值50元的游戏机
- C. 将自己的钢笔赠与他人
- D. 接受赠与

11. 张某和李某因故结仇。一日，张某看到李某在路上行走，便找了一根铁棍来教训李某。李某看到张某迎面赶来，情急之下夺过一辆摩托车骑上就逃，造成摩托车主人腿部骨折。关于李某的行为，下列说法正确的是：

- A. 属于紧急避险
- B. 属于正当防卫
- C. 构成抢夺罪
- D. 构成故意伤害罪

12. 甲、乙为夫妻，父母均已去世，且无子女。甲只有一姐丙，乙只有一妹丁。丙、丁均独自生活，多年不

与甲、乙来往。后甲、乙外出旅游发生车祸，甲当场死亡。乙一天后去世。经查甲、乙二人遗产共价值一百万元，二人均未留遗嘱，根据我国继承法，应如何处理：

- A. 由丙独自继承
- B. 由丁继承
- C. 丙、丁分别继承五十万元
- D. 收归国家所有

13. 关于著名战役与参战将领，下列对应错误的是：

- A. 百团大战——彭德怀
- B. 滑铁卢之战——拿破仑
- C. 台儿庄战役——李宗仁
- D. 美国南北战争——华盛顿

14. 有关社区宣传教育的说法错误的是：

- A. 宣传教育是社区工作者必须精通的一种工作方法
- B. 社区教育的重点宜放在大力开展社区儿童教育上
- C. 社区宣传教育是终身教育的重要形式之一，是创建学习型社区的基本模式
- D. 社区教育是社区建设、社区发展的客观要求和智力支撑

15. 关于能量转换，下列说法错误的是：

- A. 太阳能电池：光能转化为电能
- B. 蒸汽机：内能转化为机械能
- C. 发电机：电能转化为机械能
- D. 植物的光合作用：光能转化为化学能

16. 关于北回归线，下列说法正确的是：

- A. 位置为北纬  $25^{\circ}$
- B. 是太阳光直射在地球上最北的界限
- C. 穿过大部分的欧洲国家
- D. 是北寒带和北温带的分界线

17. 关于环境问题及主要原因、下列对应错误的是：

- A. 温室效应：二氧化碳等吸热性强的气体大量增加
- B. 酸雨：大量燃烧含硫量高的化石燃料使得大气中酸性物质增加
- C. 臭氧层空洞扩大：大量使用氟利昂作制冷剂
- D. 水体富营养化：过渡捕捞导致鱼类减少、藻类大量繁殖

18. 下列关于台风的说法，错误的是：

- A. 台风是热带气旋的一个类别
- B. 台风和飓风都是一种风，只是发生地点不同，叫法不同
- C. 大西洋地区是世界上台风活动最频繁的地区
- D. 台风经过时常伴随着暴雨或特大暴雨等强对流天气

19. 关于生活中的化学，下列说法正确的是：

- A. 煤气中加入硫醇，可以中和有毒气体，降低煤气中毒的可能
- B. 在食品袋中充入氮气，可以延长食品的保存时间
- C. 用酸性物质浸泡蔬菜，可以降低残余农药的药性
- D. 清洗干净的鸡蛋比没有清洗的鸡蛋保存时间更长

20. 一条新建的高速公路从某小区附近经过，当地政府希望采取措施减少高速公路噪声对居民的影响。下列哪一措施不宜采用：

- A. 在小区附近路段设立“快速通过”标示牌
- B. 在小区和高速公路之间修建声屏障墙
- C. 为小区住户朝向公路一侧的窗户加装隔声窗
- D. 使用能降低行驶噪音的排水沥青铺设路面

## 第二部分 言语理解与表达

本部分包括表达与理解两方面的内容。请根据题目要求，在四个选项中选出一个最恰当的答案。

21. 东汉许慎《说文解字》说：“仓颉之初作书，盖依类象形。”如果\_\_\_\_\_“圣人造书”的神秘观念不论，这种认为书法源于象形的说法是有一定依据的，它指出书法是从现实生活中\_\_\_\_\_形体的。但如果认为“象形”就是书法的审美本质，那就失于\_\_\_\_\_了。书法是无形与有形，不象形与象形的统一，抽象与具象的统一。

填入划横线最恰当的一项是：

- A. 除却，模仿，形象
- B. 摒弃，取得，单一
- C. 除去，创造，简单
- D. 撇开，获得，片面

22. 目前，全球面临的危机大体上分为两类：一类是由市场自己产生因而也能被市场\_\_\_\_\_的危机，比如当下的金融危机。另一类是受外在条件的\_\_\_\_\_，市场不能解决的危机，比如土地、空气、矿产资源、石油、天然气等等，不是随着价格提高就能增加产品供给量、增强资源约束力所导致的危机。这样的危机是真正值得我们长期关注的。

填入划横线最恰当的一项是：

- A. 扩大，限制
- B. 消融，干扰
- C. 消解，约束
- D. 加剧，影响

23. 科学进步的过程从某种意义上说，就是试错的过程。虽然有时会因科技欠发达而付出惨痛的代价，但若就此止步不前，无异于\_\_\_\_\_。

填入划横线最恰当的一项是：

- A. 讳疾忌医
- B. 舍本逐末
- C. 一叶障目
- D. 因噎废食

24. 传统是历史大潮冲击下的砥柱，但是它不应该是阻挡潮流的东西，而应有\_\_\_\_\_潮流走向的作用。传统在经受历史大潮淘洗的同时，也更新着自己。但是这种更新不是使自身\_\_\_\_\_，而是使其精髓愈益凝练，随

着历史进展而持续地焕发活力。

填入划横线最恰当的一项是：

- A. 制约，妥协
- B. 扭转，改变
- C. 引导，消亡
- D. 规范，迷失

25. 互联网时代，热点事件层出不穷。“新闻”盖“旧闻”也符合传播规律。“热点”可以变“冷”，但涉事单位的问责处理机制要继续运转并发挥作用。如何运转需按照法律法规和制度运行，而不是根据公众关注度的高低、媒体参与热情的变化而“\_\_\_\_\_”。

填入划横线最恰当的一项是：

- A. 随机应变
- B. 急不择途
- C. 顾此失彼
- D. 八面玲珑

26. 生命，是一树花开，或热烈或寂寞。生命中，总有一些令人唏嘘的空白，有些人让你牵绊，却不是相守；有些东西让你\_\_\_\_\_，却不能拥有；有些错过让你留恋，却终生遗憾。总想寻一处幽林，安养生活浅写岁月；总想借一些日子，\_\_\_\_\_向日葵的温暖，栽种阳光的花瓣。春花秋月，夏萤冬雪，怀一心宁淡，安然度日。经年流转，透过指尖的温度，\_\_\_\_\_岁月静好，这一路走来，你会发现，生活于我们，温暖，一直是一种\_\_\_\_\_；于生活的海洋中冲浪，云帆尽头，轻回眸，处处是别有洞天。

填入划横线最恰当的一项是：

- A. 羡慕，播种，期许，牵引
- B. 向往，播撒，期许，指引
- C. 心动，播种，期待，指引
- D. 爱慕，播撒，期待，牵引

27. 免费与管理并不冲突，反而可以\_\_\_\_\_。把管理等同于收费，甚至把收费当成管理的目标，免费了就\_\_\_\_\_地“不收费不担责”，疏于管理，甚至无人过问，这不仅有违公共管理的价值追求，而且难以将免费的实惠落到实处。

填入划横线最恰当的一项是：

- A. 取长补短，顺理成章
- B. 相得益彰，堂而皇之
- C. 求同存异，理直气壮
- D. 合二为一，冠冕堂皇

28. 对于中国人来说，院落不仅是一个物理的空间，而且是家的核心。有院落的地方，就有我们最真实淳朴的情感与记忆。巷、道、瓦、檐、廊等这些\_\_\_\_\_，形成了传统院落独具特色的形式美感和空间氛围。中国人几千年来形成的特有的生活方式、人文情怀，决定了我们对自己栖身的建筑有着自己独特的文明特征识别，而院落就可以将这一特征表达得\_\_\_\_\_。

填入划横线最恰当的一项是：

- A. 设计，一览无余
- B. 结构，尽善尽美
- C. 元素，淋漓尽致

D. 标志，出神入化

29. 人类历史进程充分表明，权力最终能否被关进“笼子”，绝非取决于少数人的主观意志而是取决于对权力\_\_\_\_\_力量的大小。

- A. 制衡
- B. 对抗
- C. 约束
- D. 规范

30. 没有无用的知识，只有还没派上用场的知识。人们往往觉得既然用不上，何必为那些\_\_\_\_\_的东西浪费时间。可他们\_\_\_\_\_了知识之间的相互联系。知识是关于世间万物的信息，获得一种知识相当于多了一个看世界的角度，从这个角度看过去，一些原有的认识会发生改变，从而又\_\_\_\_\_出新的问题和灵感。

填入划横线最恰当的一项是：

- A. 细枝末节，忽略，激发
- B. 繁文缛节，掩盖，萌生
- C. 零零星星，忘记，诞生
- D. 杂乱无章，淡化，迸发

31. 对微生物进行科学研究，需要超出常规的研究思路与工具。说到工具，很多人肯定会首先想到显微镜。但显微镜只适合观察，如果要进行生化分析的话，琼脂的作用更加重要。如果你去过微生物实验室，你会发现大家最常用的实验工具就是培养皿，里面铺着一层富含营养的琼脂。每一个细菌都能在琼脂表面单独长在一个肉眼可见的菌群。每个菌群里含有成千上万个完全一样的细菌，这在生物学术语里叫做一个“克隆”。因为琼脂是半固态的，细菌的位置被固定住了，无法在菌群之间自由往来，这就等于将一个细菌克隆并扩增到足够大的量，却没有遭受其他细菌的污染，只有这样，科学家们才能对其进行生化分析。

这段文字主要说明：

- A. 在微生物研究中显微镜的作用有限
- B. 琼脂在生化分析中发挥着重要作用
- C. “克隆”技术使生化分析更具操作性
- D. 在实验室里科学家是如何进行生化分析的

32. 撒切尔夫人生前说过，中国不会成为世界的超级大国，今天中国出 D 的是电视机，而不是思想观念。她从西方中心主义的立场看中国，认为中国的知识体系不能参与世界知识体系的建构。中国不能成为知识生产的大国，即使中国的经济正在迅速崛起，其充其量也只能是一个物质生产大国，在精神文化生产和创新乃至输出上，仍是个无法重视的小国。此话虽然尖锐但却提醒我们，西方并不看重物质财富的一味提升，更看重一个大国参与国际事务的能力和文化传播的力度。

作者通过这段文字意在说明：

- A. 西方对中国能成为超级大国持怀疑态度
- B. 中国精神文化生产输出仍处于落后地位
- C. 中国亟需提高自身的文化创新能力
- D. 精神文化的崛起比物质财富的提高更重要

33. 当冰冷的暴风雪横扫牧场时，温度会迅速降到零度以下，牛群通常会背对着风暴，缓缓移到下风处，最后被围篱阻挡时，它们只好挤在一起，最终导致牛的大量死亡。但有一种赫里福牛，却会肩并肩地一起迎着风暴，低下头来，面对暴风雪的肆虐，结果反而死亡率最低，损失最小。这个故事说明的道理与下列哪项最为接

近?

- A. 团结就是力量
- B. 生存之道在于防患于未然
- C. 狭路相逢勇者胜
- D. 坚持到底就是胜利

34. 从外观上看, 集装箱的结构太简单, 甚至让人们觉得不屑一顾。但在集装箱出现之后, 货运变得如此便宜, 以至于某件产品产自东半球, 运至纽约销售。远比在纽约近郊生产该产品来得划算。运输过程中成本的节省来自于工具和技术的改进, 而这个工具和技术就来自于集装箱看似简单却发挥着神器功能的独特构造。所以说, 简单的技术能带来的世界的变革, 影响到整个世界的进程。

这段文字意在说明:

- A. 小设计改变大世界
- B. 全球化消除了区域藩篱
- C. 货运成本影响着商品价格
- D. 简洁成为未来设计的主要趋势

35. 在今天的中国文学研究中, 有些人认为, 全盘西化等同于现代化。事实上, 中国的文学艺术传统与西方不一样, 它是写意、白描、散点透视, 长于感悟和感受, 理性空间被进一步压缩。其实西方的优秀艺术家也不会用理性来压迫感性, 它们应该是统一的。比如西方的现代绘画, 往前发展的道路上首先受到了日本的影响, 说明东方的写意艺术极大地启发了他们, 现代主义绘画开始稍稍脱离剖析和实证, 最后越走越远。这就是所谓的西方文学艺术的“现代化”他们的方向是反的——东进。

这段文字意在说明:

- A. 西方艺术的发展方向是统一的
- B. 文学中的感性和理性应该是统一的
- C. 中国文学研究不应把西化等同于现代化
- D. 中国文学艺术与西方文学艺术存在本质不同

36. 在娱乐化的炒作中, 隐私与个人的尊严成为收视效果的牺牲品, 道德底线让位于经济利益。更为严重的是过度娱乐让人们仅仅满足于娱乐需求, 而对社会人群缺乏关注, 漠视他们的存在, 忽视他们的需求。

这段文字意在说明, 电视节目的过度娱乐化:

- A. 忽略了其应有的社会职责
- B. 让人们不在关注深刻命题
- C. 使其沦为单一的娱乐工具
- D. 削弱了民众的同情和关爱意识

37. 淡水水螅具有超强的生存能力。它们不会衰老, 随着年龄的增大, 死亡率不会升高, 繁殖能力也不会下降, 即使身体被切成几段, 他们也可以从一小段身体开始, 重新长出完整的身体来。水螅能够永葆青春的奥秘在于: 它身上的每一个细胞既是体细胞, 也是生殖细胞。而对于大多数高等动物来说, \_\_\_\_\_。在长期的进化中, 我们已经分化出了许多专职细胞, 如神经细胞, 肌细胞等, 其实这种分工使我们的生存获得了巨大的优势。

填入划横线部分最恰当的一句是:

- A. 细胞的生殖功能和日常的生理功能是完全分开的
- B. 衰老的过程是不可避免的
- C. 机体本身并不具备再生能力

D. 细胞在生命的不同阶段发挥的功能有所不同

38. 中国传统观念认为，中药就是模糊的概念，药材种植条件不同，质量、药效就存在差异。但事实上，中药的某些参数是可以认为控制的。以德国产的银杏黄为例，尽管原材料银杏也是从中国各地收取的，原材料本身存在差异，但通过德国的技术萃取之后，产品质量最终是统一的。这也意味着，后期生产加工工艺对于原材料本身存在的差异具有一定的缓冲作用。

这段文字说明了：

- A. 中药受原材料质量差异的影响在一定程度上可以通过技术控制
- B. 中国中药药材不如国外的质量好
- C. 中药的质量存在很大的差异性
- D. 德国技术萃取之后的药材质量更好

39. 读书的设计是一个立体性、动态性的设计，围绕着某个问题、某种原有的优势的拓展，既可以在纵向上涉及古今，又可以在不同层面上涉及中外以及诸种学科。知今不知古，就罕能清理出事物的原理；知古不知今，就罕能悟透事物的意义和它们运行的曲线；知中不知外，就容易使自己的知识封闭起来；知外不知中，就容易使自己的知识失去根，变得虚浮空泛。古今中外在某一问题上进行互参，是读书深入以后应该追求的通则。

这段文字强调了读书的真谛是：

- A. 日新月异
- B. 融会贯通
- C. 博古通今
- D. 博采众长

40. 人们普遍认为，肉食最有营养。但是许多研究证明食肉过多导致的肥胖实际上也是一种营养缺乏。在欧美家庭中的肥胖症人群中，患有骨质疏松的病例比比皆是，为什么吃肉越多越缺钙呢？肉是酸性食物，当过度的摄入酸性食物之后，身体的酸碱失衡了，所以人体的自我调节功能就要把各个部位，比如骨骼中、血液中的钙都调动到消化道里来进行酸碱平衡，这样骨骼中的钙就会越来越少。现代人的生活方式，进食习惯和生理代谢使我们的身体愈发像偏酸方向发展。而偏酸的身体就会使很多疾病发生。究其原因，就是饮食结构不当导致的。

这段文字意在说明：

- A. 食肉过多是肥胖的主要原因
- B. 骨质疏松的防治应从饮食入手
- C. 酸碱平衡是机体健康的重要指标
- D. 及时补充碱性食物有助营养吸收

41. 用“熔炉”和“马赛克”这一对象征来描写美国和加拿大的名族文化特征，虽然新颖，却有过于简单化之嫌，“熔炉”的意向让人联想到钢铁厂的高温大熔炉，融化投进去的一切，带有充满活力和开拓未来的意思，“马赛克”则令人联想到中世纪教堂色彩斑斓的彩色玻璃，他指向往昔传统的瑰丽缤纷，这两个象征代表了美加两国各自不同的建国道路和成长历程。这段文字意在说明：

- A. 美加文化存在巨大差异
- B. 美国文化更具有包容性
- C. 加拿大的文化更历史更悠久
- D. 应从历史角度寻求美加文化存在差异的原因

42. 承认男人与女人在公共生活上拥有不同特质和技能非常重要。长久以来，女人一直被认为需要像男性一



样思考、行动，才能获得成功。然而，女性有别于男性的差异渐渐被视为力量的来源，而非需要克服的弱点。历史上首位美国女性众议院议长佩洛西便呼吁女性“做自己”。“唯一能发挥你的独有贡献的人就是你。你的真诚便是你的强项”。但这并不代表前方的路途没有障碍。一直以来，人们都以双重标准判断女性。研究显示，女人的成就总是被看轻，而容许她们犯错的空间也比较少。

对这段文字概括最准确的是：

- A. 对女性力量的新认识及女性人才发展的障碍
- B. 对女性能力的评价仍然存在误区
- C. 男女的思维、行动差别正是女性的优点
- D. 女性应做回自己而不必管男性的模式工作

43. 在诚实做研究的前提下，对具体实验结果的分析，理解有偏差甚至错误是很常见的，这是科学发展的正常过程。可以说，许多学术论文的分析，结论和讨论者存在不同程度的误区或偏差，这种学术问题的争论往往是科学发展的重要动力之一，越是前沿的科学研究，越容易出现错误理解和错误的结论。

这段文字主要说的是：

- A. 诚实研究的根本是尊重原始实验数据的真实性
- B. 基于诚实所做的科学研究出现差错是可以理解的
- C. 实验研究不能轻率得出结论，应反复验证
- D. 研究结论的推断和不断修正是科学发展的动力

44. 玻璃幕墙大量在公共建筑中采用，是由特定历史时期的审美所决定的，如今，这种墙体形式正在向着低成本、高普及的方向转变。玻璃幕墙最初的现代感、国际化色彩与神秘光环正在渐渐褪去，能源危机在一定程度上加速了这一过程，对于大多数地处亚热带和温带地区的城市而言，大面积的玻璃幕墙逐渐暴露出其光污染和高耗能的一面。

这段文字的主旨是：

- A. 说明滥用玻璃幕墙会带来城市污染和能源浪费
- B. 阐述建筑之美带有明显的时代特征
- C. 评价能源危机对现代审美意识的影响
- D. 介绍目前建筑材料发展的低能耗导向

45. 伦敦是世界上最拥挤的城市之一，在拥挤程度最甚的街道上，车速甚至在 12 英里/小时之下。面对这种状况，伦敦政府开始对机动车收取拥堵费，当天或者之前交费每辆 8 英镑。开始的一段时间，伦敦街道拥堵的状况有所好转，可是随着时间的推移，拥堵又出现反弹。不久，拥堵达到了最大化，伦敦行车速度只能在 8 英里/小时以下。原来，在收取拥堵费之前，许多私家车主觉得城市的拥堵也有自己的责任，不自觉地产生了一种“负罪感”，从而有意无意地减少驾车出行的时间。可是当他们交了 8 英镑的拥堵费之后，就认为自己为“错误”付出了代价，驾车出行理直气壮，没有了“负罪感”。很多时候，面对别人犯下的错误，我们总想让对方付出代价。可是，有时候，最好的方式就是宽容甚至“放任”他的错误。只有这样，他才会产生内疚感，从而能长时间地记住这个错误，永远不犯同样的错误。这段文字主要说明了：

- A. 只从制定规则考虑没有从道德去考虑
- B. 面对伦敦的交通拥堵最好的方式就是宽容
- C. 伦敦的交通政策不完善
- D. 人们不遵守交通规则

46. 用“文化大散文”来命名八十年代末出现的一种散文文体和随之而来的一种散文创作现象，其实是缺少学理支撑的，因为这一命名无法解释“文化”与“散文”、“散文”与“大散文”的关系。但是，它确实多少揭

示了一种散文文体的主要特征，并且显而易见地包含着适应读者市场的策划行为，因此，“文化大散文”的命名，成功地诱惑和引导了相当多的散文作者、读者和研究者。而今，当我在行文中对“文化大散文”的命名怀着理解和尊重时，也不能不指出：一次简单命名的成功，给知识生产和传播带来方便，但也纵容了思想的懒惰。

关于“文化大散文”，下列说法与原文相符的是：

- A. 改变了人们对散文的看法
- B. 其命名是一次成功的营销
- C. 带来了散文创作的新高潮
- D. 扩大了散文的表现领域

47. 当代中国人“提笔忘字”的现象早不罕见。互联网时代，因为我们习惯于敲打键盘，越来越多的人患上“失写症”。但更深层次的原因，是人们对汉字“敬畏之心”的淡漠。在浮躁心态之下，人们对于汉字书写已相当草率，甚至积非成是、将错就错。不坚持正确书写，谬误就会乘虚而入，这委实是对汉字和汉语言文化的莫大尴尬。键盘时代的高效与用笔书写的乐趣，并非是“二选一”的关系。在速度和效率面前，我们大可以使用键盘，但在不需要过于追求速度与效率的时候，我们能否拿起久违的笔，写一封信、题几句诗，这不仅是对中华汉字文化的一种传承，或许更是一种获得温暖与真诚交流的方式。

这段文字意在：

- A. 分析键盘输入给汉字文化传承带来的危机
- B. 批评当代中国人对汉字缺乏敬畏之心的现象
- C. 说明不坚持正确书写汉字会让谬误趁虚而入
- D. 倡导通过书写汉字来传承中华汉字文化

48. 有一个很有名的投资理念，那就是“要投资具有护城河的公司”。大意是说，一家公司只有具备足够的竞争优势，才能抵御其他竞争对手对自己盈利空间的蚕食，投资者只有投资这样的公司才有可能带来超额收益。然而“护城河”往往存有陷阱，最常见的陷阱是市场份额。较高的市场份额，通常会被投资者视为企业的“护城河”，但实践证明这并不可靠。市场份额只是说明了公司的过往业绩，并不代表将来，如果没有足够的能力抵御外来入侵，企业就不得不通过价格战来保持市场份额，结果一定是利润率大幅下降。

根据这段文字，以下说法正确的是：

- A. 将竞争优势理解为市场份额是片面的
- B. 市场份额的多少体现了企业竞争优势的大小
- C. 投资者应同时考虑利润率和企业的市场份额
- D. 企业的“护城河”并不能保证投资者的超额收益

49. 北京奥运会的圣火跨越了千山万水，传遍了五洲四海。无论哪个民族、哪种文化、哪种信仰的人们，都会从奥运圣火的传递中，感受到它彰显的进取精神，领悟到它承载的友谊信息，体会到它倡导的和平宗旨。“圣火”的传递，\_\_\_\_\_。

- A. 让世界各地了解北京奥运，把世界人民汇聚到五环旗下
- B. 表现了北京奥运会的特色，把世界人民汇聚到五环旗下
- C. 让世界各地了解北京奥运，弘扬了和平与友谊的奥运理念
- D. 表现了北京奥运会的特色，弘扬了和平与友谊的奥运理念

50. 如今，图书信息浩如烟海。表面上看，读者具有无限的自由度，可以在茫茫书海中自由选择。但事实上，他们无形中成了大众媒介的俘虏。大众媒介具有强大的议程设置功能，他们通过图书广告、阅读排行榜、书评人推介、对图书进行定向推送，最后呈现在读者眼前的，往往只是一个狭窄的阅读菜单。在新媒体环境下，这种定向推送就更为稀松平常了。新媒体在某种程度上，就是一个巨型的图书搜索引擎，大家都在利用新媒体这

张网捕捞图书，结果收获的多是同质化的东西。即是说，新媒体环境下的阅读很容易沦为“格式化”的阅读：不仅所选择的阅读内容被格式化，甚至连阅读方式、阅读趣味也会被“格式化”。而且这种“格式化”阅读带有很大的隐蔽性，不易被发现。

这段文字意在说明：

- A. 大众媒介和新媒体对阅读产生强烈影响
- B. 格式化阅读容易使读者形成思维定势
- C. 图书市场应为读者提供多元的阅读选择
- D. 读者应理性看待媒体推送的阅读菜单

### 第三部分 数量关系

在这部分试题中，每道题呈现一段表述数字关系的文字，要求你迅速、准确地计算出答案。

51. 将 2 名教师，4 名学生分成 2 个小组，去甲乙两座城市参加数学建模比赛，每个小组都要包含 1 名教师和 2 名学生，问不同的安排方法共有几种？

- A. 6
- B. 12
- C. 18
- D. 24

52. 某单位五个科室间举办拔河比赛，每两个科室之间最多比赛一场。其中甲、乙、丙、丁科室分别参加了 4、3、2 和 1 场比赛，问已经进行了多少场比赛？

- A. 8
- B. 7
- C. 6
- D. 5

53. 某种产品每箱中个数相等，将 1 箱这种产品按照每盒 47 个的方式重新装盒，最后剩 15 个；如果将 10 箱这种产品按照每盒 47 个重新装盒，问最后剩多少个？

- A. 9
- B. 29
- C. 36
- D. 39

54. 有 5 个数，其中任何三个数的平均值分别是 0、1、2、2、3、3、4、4、5、6，则这 5 个数的平均值为多少？

- A. 2.5
- B. 3
- C. 3.5
- D. 4

55. 小王参加电视台的一个智力竞赛节目。节目共有 20 道快速问答，答对一题得 10 分，答错或不答均倒扣 10 分，每人开始有基础分 100 分。小王最后成绩为 220 分，问他有几道题没答对？

- A. 5
- B. 6
- C. 3

D. 4

56. A、B 两个仓库分别存放有 8 台和 12 台挖掘机，现需要往 C 工地和 D 工地各运 10 台挖掘机。A 仓库到 C 工地的运输费用为 600 元/台，到 D 工地的费用为 900 元/台；B 仓库到 C 工地的运输费用为 400 元/台，到 D 工地的费用为 800 元/台。问要将 20 台挖掘机运到两个工地，至少需要花运输费多少元？

- A. 14400
- B. 13600
- C. 12800
- D. 12000

57. 一列 8 节编组的动车从始发站开出，在 7 节 80 个位置的二等座车厢中，有 6 节上座率达到 60%，另一节 80%；在 1 节一等座车厢中，40 个位置仅有 8 名旅客。则该列车从始发站开出时的上座率是多少？

- A. 56%
- B. 60%
- C. 64%
- D. 65%

58. 某停车场有三排停车位，每排的停车位数量相同。管理员发现如果只使用两排停车位，能够停放的车辆数正好与使用三排停车位、但每排空出 6 个车位停放的车辆数相同。问该停车场共有多少个停车位？

- A. 36
- B. 42
- C. 48
- D. 54

59. 某校计算机学院学生组成的正方形实心方阵参加学校体育节开幕式，能组成的最大方阵最外层人数为 48 人。问该学院的学生人数在以下哪个范围内？

- A. 144 到 155 之间
- B. 156 到 168 之间
- C. 169 到 195 之间
- D. 大于 195

60. 甲、乙两支工程队负责高校自来水管道改造工作，如果由甲队或乙队单独施工，预计分别需要 20 和 30 天完成。实际工作中一开始由甲队单独施工，10 天后乙队加入。问工程从开始到结束共用时多少天？

- A. 15
- B. 16
- C. 18
- D. 25

61. 李木在某次考试中，课程甲和课程乙得 178 分，课程丙和课程丁得 171 分，课程乙和课程丙得 174 分，课程丁比课程甲高 1 分。问李木四门课程中哪门课程得分最高？

- A. 课程甲
- B. 课程乙
- C. 课程丙
- D. 课程丁

62. 某大学生从学校骑车至某小区, 学校与该小区仅相隔一个山坡。从学校直接上坡, 再下坡即到达该小区。已知下坡速度是上坡速度的 2.5 倍, 下坡所花时间是上坡时间的一半。若返回时的上下坡速度仍保持不变, 则从小区返回学校花费时间与学校到小区花费时间之比为?

- A. 11:10
- B. 10:11
- C. 12:11
- D. 11:12

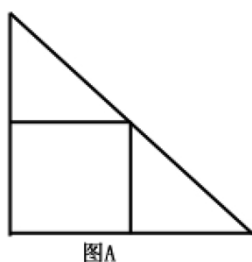
63. 学校图书馆有三大书架, 共放书若干册。从第一个书架拿出与第二个书架相同册数的书并入第二个书架, 再从第二个书架拿出与第三个书架相同册数的书并列入第三个书架, 最后从第三个书架拿出与第一个书架剩下的册数相同的书并列入第一个书架, 此时三个书架的书册数加和完全相同。问原来第一个书架和第三个书架的书本册数之比为?

- A. 1:1
- B. 3:2
- C. 8:5
- D. 11:6

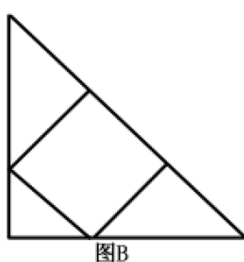
64. 舞蹈队的年龄之和是 2654 岁, 其中年龄最大的不超过 79 岁, 最小的不低于 50 岁, 且最多有 4 个人彼此年龄相同, 则这些人中至少有多少人的年龄不低于 60 岁?

- A. 5
- B. 6
- C. 7
- D. 8

65. 在大小相等的两个等腰直角三角形中, 按不同的方式各内接一个正方形 (如图 A、B 所示)。如果图 B 中的内接正方形的面积是 144, 那么图 A 中的内接正方形的面积是多少?



图A



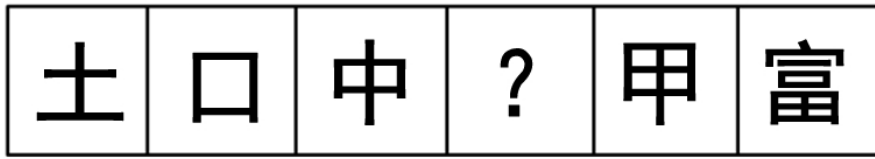
图B

- A. 225
- B. 162
- C. 128
- D. 98

## 第四部分 判断推理


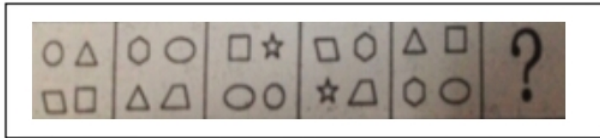
### 一、图形推理。请按每道题的答题要求作答。

66. 从所给四个选项中, 选择最适合一个填入问号处, 使之呈现一定的规律性。





A                  B                  C                  D

67. 从所给四个选项中，选择最适合一个填入问号处，使之呈现一定的规律性。





A                  B                  C                  D

68. 从所给四个选项中，选择最适合一个填入问号处，使之呈现一定的规律性。




A                  B                  C                  D

69. 以下哪一个图形是由左边的四个图形不经旋转、翻转直接拼接而成？



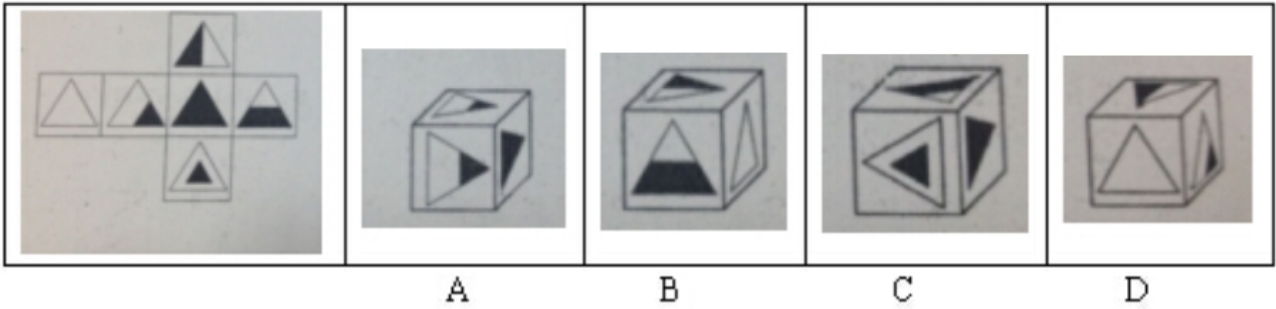
A                  B                  C                  D

70. 左边给定的是纸盒外表的展开图，右边哪一项能由它折成？




A                  B                  C                  D

71. 左边给定的是纸盒外表的展开图，右边哪一项能由它折成？

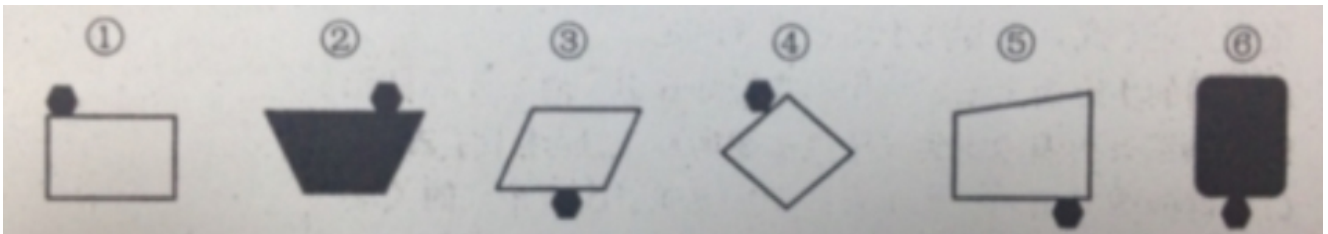


72. 把下面六个图形分为两类，使得每一类图形都有各自的共同特征或规律，分类正确的是：



- A. ①②③, ④⑤⑥
- B. ①④⑥, ②③⑤
- C. ①②④, ③⑤⑥
- D. ②③④, ①⑤⑥

73. 把下面六个图形分为两类，使得每一类图形都有各自的共同特征或规律，分类正确的是：



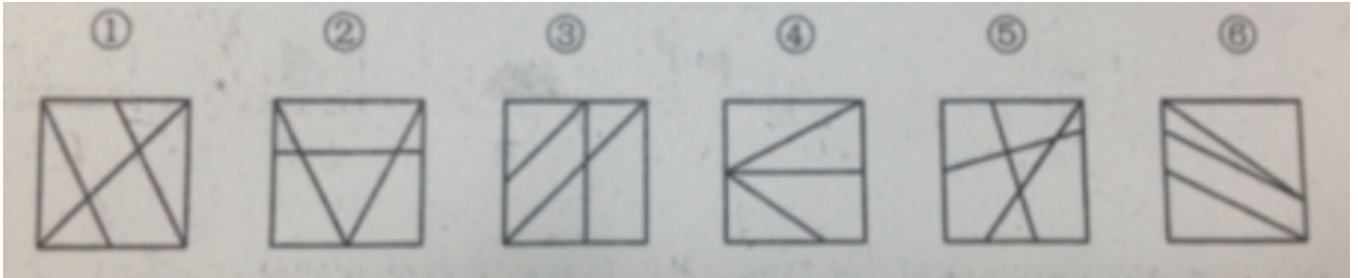
- A. ①②③, ④⑤⑥
- B. ①③⑤, ②④⑥
- C. ①④⑤, ②③⑥
- D. ①②④, ③⑤⑥

74. 把下面六个图形分为两类，使得每一类图形都有各自的共同特征或规律，分类正确的是：



- A. ①②⑤, ③④⑥
- B. ①③⑤, ②④⑥
- C. ①②④, ③⑤⑥
- D. ①④⑤, ②③⑥

75. 把下面六个图形分为两类, 使得每一类图形都有各自的共同特征或规律, 分类正确的是:



- A. ①③⑥, ②④⑤
- B. ①②③, ④⑤⑥
- C. ①③④, ②⑤⑥
- D. ①②⑥, ③④⑤

**二、定义判断。每道题先给出定义, 然后列出四种情况, 要求你严格依据定义, 从中选出一个最符合或最不符合该定义的答案。注意: 假设这个定义是正确的、不容置疑的。**

76. 注意是心理活动或意识对一定对象的指向与集中。随意注意是指事先有预定目的、需要一定意志努力的注意。

根据上述定义, 下列属于随意注意的是:

- A. 喧闹的步行街上五彩缤纷的霓虹灯吸引了周大爷的目光
- B. 余小军有次偶然听到《蓝色多瑙河》, 之后迷上了古典音乐
- C. 安静的图书馆内一个小女孩突然哭喊引起黄小红的关注
- D. 为探索钟摆现象的规律, 伽利略观看吊灯在微风下摆动

77. 微捐是指人们把日积月累、零散攒的钱捐助出去的一种慈善行为。

根据上述定义, 下列不属于微捐的是:

- A. 某店老板在柜台前放了一个零钱捐助箱, 每到年底就将箱中的钱捐给红十字会
- B. 小李近 10 年来一直坚持每年献血两次, 每次 300 毫升, 他觉得这样做很有意义
- C. 大学生小张业余时间做钟点工, 所得钱款一部分用来交学费, 一部分捐给希望工程
- D. 小毛在某电视台的一次捐助活动中, 将积攒多年的 5000 元压岁钱捐了出去

78. 负概念是反映对象不具有某种属性的概念。

根据上述定义, 下列不属于负概念的是:

- A. 未成年人
- B. 无形资产
- C. 负债
- D. 无罪

79. 机会成本, 又称择一成本。任何决策必须做出一定的选择, 被舍弃掉的选择中的最高价值即是这次决策



的机会成本。

根据上述定义，下列不属于机会成本的是：

- A. 小李把自己空闲的房屋出租给了同学小孙
- B. 赵某整个假期都泡在图书馆学习，没有外出游玩
- C. 小王收到录取通知书后没有去大学报到，而是选择了去广州打工
- D. 钱老板关闭了自己的服装加工厂，把所有的钱都购买商品期待升值

80. 报复陷害罪，是指国家机关工作人员滥用职权，假公济私，对控告人、申诉人、批评人、举报人实行报复陷害的行为。

根据上述定义，下列属于报复陷害罪的是：

- A. 市委办公室主任李某被下属举报贪污受贿，怀恨在心，雇佣打手对其进行报复
- B. 校董事会主席张小川怀疑某学院院长举报自己学术造假，便利用董事会力量将该院长撤职
- C. 警察王某的家人曾被黑社会成员孙某威胁过，王某成功抓捕孙某之后对其实施殴打
- D. 安全局干事小李举报王主任徇私舞弊之后，王主任制造伪证，导致小李因泄密罪被捕

81. 定向思维是指根据以往的知识经验形成的方向、方法或程序进行思维活动的过程，与发散思维相对。

根据上述定义，下列不属于定向思维的是：

- A. 衣服破了，想到用针线包缝补衣服
- B. 见到梳着辫子的人便断定这个人是女性
- C. 杯子用完了，用碗代替杯子喝水
- D. 北京的桃花开了，所以春天到了

82. 环保产业是国民经济结构中以防治环境污染、改善生态环境、保护自然资源为目的所进行的技术开发、产品生产、商业流通、资源利用、信息服务、技术咨询、工程承包等活动的总称。

根据上述定义，下列不属于环保产业的是：

- A. 某企业与国外知名环保公司合作，专注于含重金属废水处理设备的研发
- B. 某环保职业技术学院设立信息咨询中心，为企业提供污染防治技术咨询
- C. 某大型矿业公司新成立下属综合回收公司，用于尾矿的综合利用
- D. 某绿色食品生产企业为提高产品质量，规范了质量标准和生产流程

83. 书证是指以记载内容或表达思想来证明案件事实的证据。

根据上述定义，下列属于书证的是：

- A. 凶手用于砸伤受害者头部的厚重辞典
- B. 司法机关指定的医院出具的轻伤鉴定
- C. 死者临终前用鲜血在地上写下凶手的名字的缩写
- D. 车祸现场死者留下的日记

84. 抽象行政行为是指行政机关针对不特定的对象作出的具有普遍约束力的决定和命令的行为。

根据上述定义，下列属于抽象行政行为的是：

- A. 某市政府出台了车辆按尾号限行的交管措施
- B. 天然气公司规定，凡要安装天然气的用户必须购买“天飞”牌灶具
- C. 某夜，交警部门集中整治醉酒驾车，对几十名司机进行了处罚
- D. 某市规划局批准某房地产开发公司建造商品房

85. 占有改定是指动产物权转让时，双方又约定由出让人继续占有该动产的，物权自该转让约定生效时发生效力。

根据上述定义，下列属于占有改定的是：

- A. 甲把其出租的家具卖给乙，但由于租赁期未满，暂时无法收回家具，甲把家具的返还请求权让与乙
- B. 商场工作人员在使用中不慎将电视台租借的摄像机摔坏，商场以原价购买了该台摄像机
- C. 甲将自己的房子卖给租客乙，并办理的过户手续，乙因回老家处理事情，暂时没有入住，甲于是继续住在改房子里
- D. 甲将自己所有的一套书卖给乙，在交付该书时，甲还想再看一段时间，遂又与乙达成协议，借阅该书 15 天，乙表示答应

**三、类比推理。每道题先给出一组相关的词，要求你在备选答案中找出一组与之在逻辑关系上最为贴近、相似或匹配的词。**

86. 购物：银行卡

- A. 开车：方向盘
- B. 烹饪：天然气
- C. 奔跑：运动鞋
- D. 旅游：导航仪

87. 快递员：送货

- A. 护士：坐诊
- B. 学生：考试
- C. 律师：辩论
- D. 歌手：唱歌

88. 航空母舰：军舰：海洋

- A. 轰炸机：战斗机：天空
- B. 宇宙飞船：空间站：太空
- C. 坦克：导弹：陆地
- D. 潜艇：鱼雷：海洋

89. 树根 对于 ( )，相当于 ( ) 对于 楼房

- A. 树叶：房梁
- B. 大树：地基
- C. 树干：屋顶
- D. 大树：大楼

90. 规则 对于 ( )，相当于 思想 对于 ( )

- A. 规矩：交流
- B. 固定：语言
- C. 制定：传播
- D. 法律：梦想

**四、逻辑判断。每道题给出一段陈述，这段陈述被假设是正确的，不容置疑的，要求你根据这段陈述，选择一个答案。注意：正确的答案与所给的陈述相符合，不需要任何附加说明即可以从陈述中直接推出。**

91. 歌唱和舞蹈在各个人类氏族部落中是一种普遍共同的现象,它所造成的巨大优势效应就是使人群能够保持团结,解决各种内部纷争,能够更加有效地捍卫自己的领土。

上述结论要想成立,必须补充以下哪项作为前提?

- A. 歌唱和舞蹈具有使所有参与者逐步忘却与他人间的矛盾,和平相处的功效
- B. 歌唱和舞蹈具有调动所有参与者情绪,令人兴奋的功效
- C. 歌唱和舞蹈具有使所有参与者忘却阶层差别和等级关系的功效
- D. 歌唱和舞蹈具有心理安慰的功效,可以使所有参与者忘却现实困扰

92. 统计部门分析指出,尽管随着农村义务教育的普及,农村家庭的教育负担大大减轻,但随着当代农民观念的改变,他们对教育的认识和消费层次也不断提高。预计未来教育支出在农村家庭总开支中的比例还将进一步提高。

以下哪项如果为真,最能支持上述观点?

- A. 当代农民希望自己的子女能够在农村得到好的教育
- B. 当代农民愿意支付更多费用让子女享受优质教育
- C. 义务教育使得农村孩子都有机会接受教育
- D. 未来农村家庭的总开支将会有所增加

93. 有专家指出,中国人不好酒,但爱劝酒,盛产大量“居心叵测”的劝酒者,在饮酒过程中,劝酒者往往劝饮酒者遵循一种“伤害性建立社会关系”的饮酒游戏规则,即劝说饮酒者必须通过某种伤害自身方式来显示诚意、获取信任。饮酒者无论来自社会底层还是来自社会高层,都需要显示诚意和获得信任,虽然也许这不是他们当初饮酒的本意。

由此可以推出:

- A. 劝酒者自己并不饮酒但特别爱劝别人饮酒
- B. 劝酒者与饮酒者饮酒的本意往往是一致的
- C. 劝酒者认为只有多喝酒才能显示诚意,获得信任
- D. 来自社会中层的人士往往不需要建立社会关系

94. 最新研究发现,脑内一种名为 SIRT1 的基因,会在人的丘脑部位指导合成相应的蛋白质。SIRT1 基因会随年龄增长而弱化,它指导合成的蛋白质也逐渐减少。因此研究人员推测该基因会导致中年发福。

上述结论要想成立,必须基于以下哪项前提?

- A. 丘脑与控制体重有关,丘脑中相应的蛋白质合成得越多,越能有效遏制体重的上升
- B. 年龄越大的人,SIRT1 基因突变的概率越高,突变会使该基因逐渐失去指导蛋白质合成的功能
- C. 已有动物实验显示,人为增强 SIRT1 基因的功能可以减少实验对象的食欲,同时增加热量消耗
- D. SIRT1 基因存在于许多组织器官中,只有存在于丘脑中的基因才能影响机体蛋白质的合成

95. 很多医学专家提出过量饮用咖啡对健康有害。为验证过量饮用咖啡对心脏的影响,研究人员选取了两组被试者,第一组被试者每天饮用 5 杯或 5 杯以上咖啡,第二组被试者从不饮用咖啡。一段时间后发现,第一组被试者中患心脏病的比例明显高于第二组被试者。因此,研究人员得出结论,过量饮用咖啡增加心脏病的风险。

以下哪项如果为真,最能质疑上述论证?

- A. 研究发现,每日饮用 2 杯咖啡的人心脏功能未受影响
- B. 在研究期间,第一组被试者每日的运动量大大小于第二组被试者
- C. 除影响心脏功能外,咖啡中所含的咖啡因还易引发焦虑症
- D. 第一组被试者中部分人每日饮用 10 杯咖啡

96. 对于权力，有人这样主张：有实权干大事，有虚权干实事，没权了干好事。以下哪项最不可能从上述主张中推出：

- A. 没有权，不干好事
- B. 没有虚权，不干实事
- C. 有权了，干好事
- D. 没有实权，不干大事

97. 某单位员工除了基本工资之外，其收入很大一部分来源于绩效工资。在今年4月份，该单位第一项目组所有员工的绩效工资高于第二组员工的最高绩效工资，但是该单位本月绩效工资最高的员工并不在第一项目组。由此可以推出：

- A. 该单位领导的绩效工资最高
- B. 该单位其他项目组有些员工的绩效工资没有第一、第二项目组平均的高
- C. 该单位有些员工既不属于第一项目组也不属于第二项目组
- D. 第二项目组的平均绩效工资低于单位的平均绩效工资

98. 研究人员设计了这样一个实验。他们从实验鼠体内收集了神经细胞并且将它们植入到家鼠大脑内。实验鼠的寿命大约只有18个月，而家鼠的寿命是它们的两倍。研究人员发现，当家鼠死亡的时候，从实验鼠植入的神经细胞依然存活。

以下哪项可以作为上述实验的结论？

- A. 实验鼠的神经细胞比它们所属的生物体的寿命更长
- B. 家鼠的神经细胞寿命长于实验鼠的神经细胞寿命
- C. 实验鼠的神经细胞寿命长于家鼠的神经细胞寿命
- D. 神经细胞可以通过移植而得到无限期的存活

99. 感冒是自限性疾病，一两周之后会自愈。如果忍受得了，完全没有必要吃那些缓解症状的感冒药，注意多喝水和休息即可。忍受不了，可吃点缓解症状的感冒药也行，但普通感冒药并不真正治疗感冒。

以下哪项如果为真，能够削弱上述观点？

- A. 吃药缓解症状可加速感冒的治愈
- B. 感冒会自愈，吃药的作用在于缓解症状
- C. 多喝水多休息有利于感冒的自愈
- D. 感冒药可缓解咳嗽、鼻涕等症状

100. 小王、小张、小赵、小刘四人讨论比赛四强的甲、乙、丙、丁四个队伍哪个将获得冠军。

小王：“乙是冠军。”

小张：“冠军是丁或丙。”

小赵：“冠军是甲或丁。”

小刘：“甲和丙不是冠军。”

结果出来后，只有两个人的推断是正确的，冠军是：

- A. 甲
- B. 乙
- C. 丙
- D. 丁

## 第五部分 资料分析

所给出的图、表、文字或综合性资料均有若干个问题要你回答，你应根据资料提供的信息进行分析、比较、计算和判断处理。

一、根据所给资料，回答 101~105 题。

2014 年 1—4 月中国农产品进出口情况

指标 类别	出口额 (亿美元)	同比增减 (%)	进口额 (亿美元)	同比增减 (%)
农产品	217.0	3.7	429.4	19.0
其中：				
谷物	1.2	-58.0	22.0	50.3
棉花	-	-	20.6	-41.0
食糖	-	-	5.0	13.3
食用油籽	5.4	2.8	142.6	33.3
食用植物油	0.6	17.2	26.5	-11.6
蔬菜	38.3	8.7	1.5	22.6
水果	18.5	-5.0	18.8	20.6
畜产品	22.1	14.3	85.0	34.7
水产品	61.9	-2.8	32.1	14.6

101. 2014 年 1~4 月，以下哪种农产品进出口总额占同期农产品进出口总额的比重超过 20%?

- A. 食用油籽
- B. 蔬菜
- C. 畜产品
- D. 水产品

102. 2013 年 1~4 月，以下农产品进出口贸易额呈现顺差关系的是：

- A. 谷物
- B. 食用油籽
- C. 畜产品
- D. 水果

103. 2014 年 1~4 月，食用植物油进出口总额比上年同期约：

- A. 减少了 11%
- B. 增加了 3%
- C. 增加了 11%
- D. 减少了 3%

104. 表中 2014 年 1~4 月进口额与出口额都高于上年同期水平的农产品有几类？

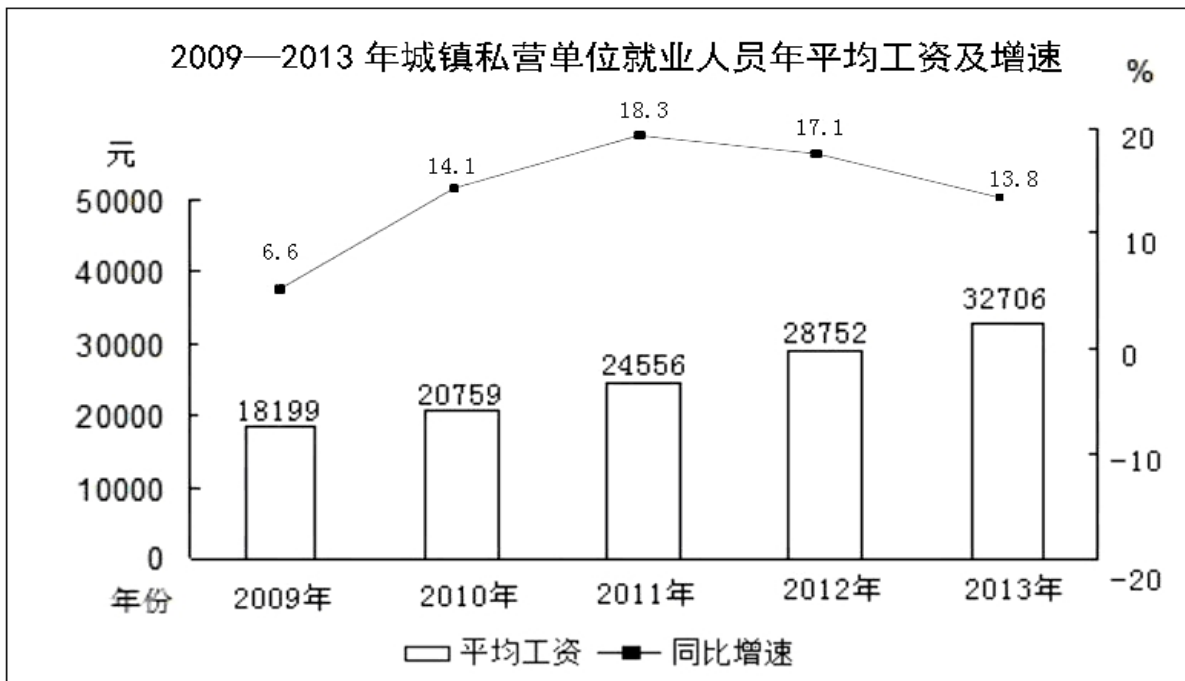
- A. 2
- B. 3
- C. 4
- D. 5

105. 关于 2014 年 1~4 月农产品进出口贸易，能够从上述资料推出的是：

- A. 超出半数农产品进出口额同比增速低于农产品平均增速
- B. 食用油籽出口额占总出口额比重高于上年同期
- C. 上年同期棉花进口额低于谷物
- D. 农产品进出口贸易差高于上年同期

**二、根据所给资料，回答 106~110 题。**

2012—2013 年城镇私营单位部分行业就业人员年平均工资 单位：元		
行业	2012 年	2013 年
农、林、牧、渔业	21973	24645
采矿业	29684	33081
制造业	28215	32035
建筑业	30911	34882
交通运输、仓储和邮政业	28159	33141
住宿和餐饮业	23933	27352
信息传输、软件和信息技术服务业	39518	44060
金融业	32696	37253
房地产业	30778	35038
科学研究和技术服务业	36598	42854
文化、体育和娱乐业	26177	30402



106. 2009~2012 年，城镇私营单位就业人员年平均工资同比增长不到 3000 元的年份有几个？

- A. 0
- B. 1

- C. 2  
D. 3

107. 如果按照 2013 年的同比增量计算，城镇私营单位就业人员年平均工资在哪一年超过 5 万元？

- A. 2017  
B. 2018  
C. 2019  
D. 2020

108. 2013 年城镇私营单位就业人员平均工资与城镇私营单位行业就业人员年平均工资最接近的行业，其 2012 年的平均工资比城镇私营单位：

- A. 高 300 多元  
B. 高 900 多元  
C. 低 500 多元  
D. 低 600 多元

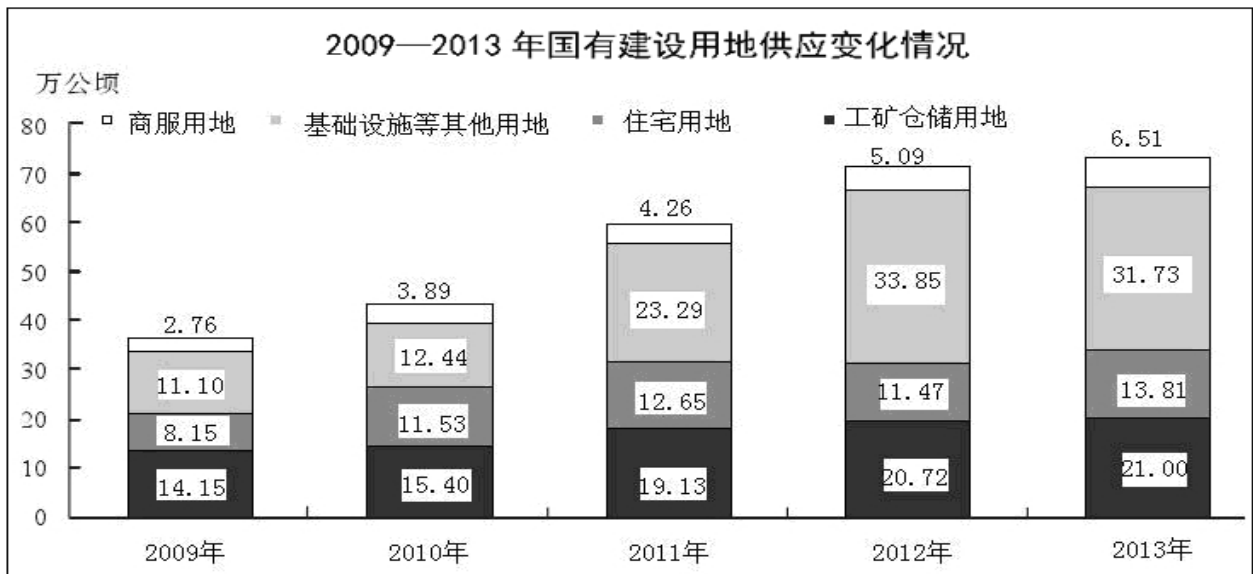
109. 以下哪个行业 2013 年平均工资的同比增速超过 15%？

- A. 科学研究和技术服务  
B. 农、林、牧、渔业  
C. 建筑业  
D. 信息传输、软件和信息技术服务业

110. 能够从上述资料推出的是：

- A. 表中所有行业 2012 年的人均月工资都不足 3000 元  
B. 表中只有 3 个行业 2013 年的人均工资不再 3~4 万元范围  
C. 金融业 2013 年人均工资同比增量低于交通运输、仓储和邮政业  
D. 图中平均工资同比增速最快与同比增量最大的年份是同一年

**三、根据所给资料，回答 111~115 题。**



111. 与 2012 年相比, 2013 年土地供应增加面积最多的是:

- A. 工矿仓储用地
- B. 商服用地
- C. 基础设施等其他用地
- D. 住宅用地

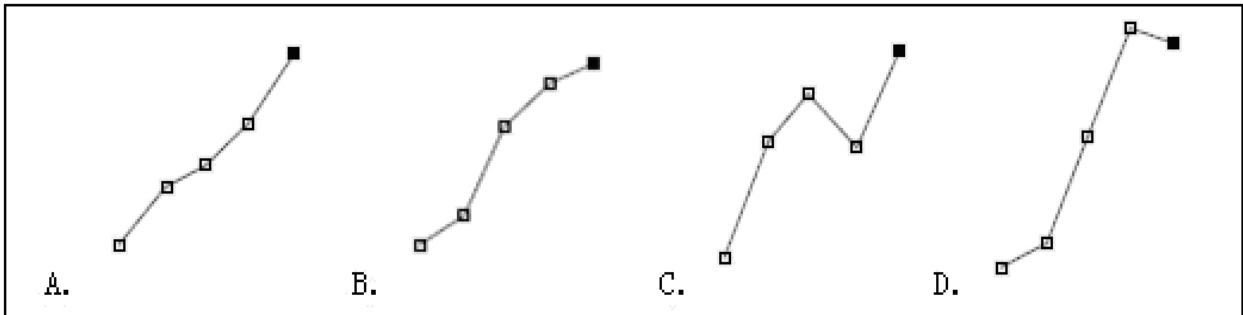
112. 以下各年中, 国有建设用地供应面积同比增量最多的年份是:

- A. 2010
- B. 2011
- C. 2012
- D. 2013

113. 2013 年工矿仓储用地占国有建设用地供应面积的比重约为:

- A. 21.0%
- B. 28.7%
- C. 33.3%
- D. 42.8%

114. 以下哪条曲线能正确反映 2009~2013 年住宅用地面积的变化情况?



115. 能够从上述资料推出的是:

- A. 2009~2013 年, 商服用地供应量占国有建设用地的比重均低于 10%
- B. 2010 年~2013 年, 基础设施等其他用地面积均高于工矿仓储用地面积
- C. 2010 年我国国有建设用地供给总面积首次突破 45 万公顷
- D. 2012 年基础设施等其他用地面积超过其它 3 项用地面积之和

**四、根据所给资料, 回答 116~120 题。**

2014 年 1~2 月, 我国金融市场总体运行平稳。

**(一) 债券市场发行情况**

1 月份, 债券市场发行债券 4041.7 亿元, 同比减少 24.8%, 环比减少 27.1%。其中, 银行间债券市场发行债券 3927.9 亿元, 环比减少 19.6%。2 月份, 债券市场发行债券 5880.9 亿元, 同比增加 15.7%。其中, 银行间债券市场发行债券 5780.5 亿元, 环比增加 47.2%。

1~2 月, 债券市场累计发行债券同比减少 5.1%, 其中, 银行间债券市场累计发行债券同比减少 4.7%。

**(二) 货币市场运行情况**

1 月份, 货币市场成交总量共计 14.4 万亿元, 同比减少 18.6%, 环比减少 14.5%。其中, 同业拆借市场成



交2.3万亿元，同比减少40.2%，环比增加2.8%；质押式回购成交11.6万亿元，同比减少14.1%，环比减少16.7%；买断式回购成交5650.3亿元，同比增加30.6%，环比减少26.4%。

1~2月，货币市场成交量共计26.2万亿元，同比减少14.4%。其中，同业拆借市场累计成交4.0万亿元，同比减少39.4%；质押式回购累计成交21.2万亿元，同比减少8.9%；买断式回购累计成交1.0万亿元，同比增加35.1%。

### (三) 债券市场运行情况

1月份，银行间债券市场现券交易累计成交1.9万亿元，同比减少76.1%，环比减少1.6%。1月末，银行间债券总指数为145.35，环比上升0.98%。交易所国债指数为139.58，较去年12月末上升0.04%。

1~2月，银行间债券市场现券交易累计成交4.0万亿元，同比减少69.6%。

116. 2013年12月份银行间债券市场发行债券占债券市场发行总额的比重约为：

- A. 97%                      B. 99%                      C. 62%                      D. 88%

117. 2013年1~2月银行间债券市场累计发行债券约多少亿元？

- A. 9187                      B. 9830                      C. 10187                      D. 11230

118. 根据2014年1月各类型货币交易成交金额，从高到低排序正确的是：

- A. 同业拆借、质押式回购、买断式回购  
B. 质押式回购、同业拆借、买断式回购  
C. 买断式回购、质押式回购、同业拆借  
D. 买断式回购、同业拆借、质押式回购

119. 2014年2月份，银行间债券市场现券交易累计成交额较上年同期减少了多少万亿元？

- A. 3.1                      B. 4.1                      C. 6.9                      D. 7.9

120. 下列关于2014年1~2月我国金融市场的描述，能够从上述资料中推出的是：

- A. 2013年1月，货币市场成交总量约为12万亿元  
B. 2014年1月，同业拆借市场成交额占货币市场成交总量比重低于上月水平  
C. 2014年1~2月，同业拆借市场累计成交额同比下降了2万亿元以上  
D. 2013年12月，交易所国债指数高于同期银行间债券总指数

**全部测验到此结束！**

请扫描QQ二维码，备注“公务员考生”加QQ好友  
获取曹长远老师精解历年公务员考试申论、行测、面试  
真题完整解析资料。

精品资料，尽在掌握！



扫描二维码，加QQ好友