

2012年3月24日山东省公务员考试

## 《行政职业能力测验》真题答案解析

### 说明

一、此项测验分为五个部分，共120题，总时限120分钟，各部分不单独计时，但都给出参考时限，供答题时合理分配时间。

二、此项测验科目代码为“1”。请按照要求在答题卡上填写好自己的姓名，涂写好准考证号、科目代码。

三、必须在答题卡上答题：在题本上答题，一律无效。

严禁折叠答题卡！

### 第一部分 言语理解与表达

(共30题，参考时间30分钟)

本部分包括表达和理解两方面的内容。请根据题目要求，在四个选项中选出一个最恰当的答案。

1. 思想观念的价值，在竞争中才会\_\_\_\_\_，在实践中才能检验，“我不同意你的看法，但我捍卫你说话的权力”，这是一种情怀，更是一种\_\_\_\_\_。“不同即敌对”的思维模式，在本质上是一种狭隘虚弱的表现。

依次填入画横线部分最恰当的一项是：

A. 流露 雅量

B. 展现 理解

C. 体现 客观

D. 彰显 自信

**【答案】D。解析：**

阅读可知，填入第一个空格的词语必须与前面的“价值”相呼应。A项中的“流露”多与感情表达相搭配，与语境明显不合，可以直接排除。

填入第二个空格的词语必须与后面的“狭隘虚弱”相呼应，并且二者构成转折关系，语义相反。“狭隘虚弱”属于不自信，因此，在第二个空格中填入D项的“自信”，可以形成最佳的语境呼应。

所以，正确选项是D。

2. 在画家的笔端，梅兰竹菊，被赋予文人风骨；牡丹荷花，被赋予盛世风范……无论色彩丰富还是清淡，都能读出诗意，读出真诚。要它的\_\_\_\_\_，有每一笔最自然地亮丽；要它的\_\_\_\_\_，有攀附向上生命力的线条；要它的\_\_\_\_\_，有花间人的恬淡自在；要它的\_\_\_\_\_，有藤萝架上鸟儿的清唱。

依次填入画横线部分最恰当的一项是：

A. 表里 远近

B. 色形 意音

C. 情趣 静动

D. 美力 真声

**【答案】B。解析：**

阅读可知，填入四个空格的词语必须分别与后面的“亮丽”、“线条”、“恬淡自在”、“清唱”相呼应。“亮丽”对应“色”，“线条”对应“形”，“恬淡自在”对应“意”，“清唱”对应“音”。因此，在空格中分别填入B项的词语，可以形成最佳的语境呼应。

所以，正确选项是B。

3. 世间的事物很少能比大学更美，在这里，憎恨无知的人奋力求知，\_\_\_\_\_真理的人传授真理，





阅读题干，由“春分，昼夜平分……”，“春分时节……沏上一杯春分茶”，“……尽在这春分茶中”可知，题干文字的关键词是“春分”。由此可以直接排除缺少关键词的B、C两项。

进一步分析，题干描述了“采春茶”和“沏春茶”两个方面的内容。概括这类并列关系的材料，不能忽略其中每一方面的内容。D项仅仅涉及“采茶”这个方面，不够全面，排除。

所以，正确选项是A。

11. 我国家庭的小型化特点造成了家庭养老功能的不足，所以必须有社会化的服务为养老提供支持。为此，政府将积极推进居家养老服务，鼓励社会团体和企业从事居家养老方面的服务，同时也积极推进利用网络资源建立养老服务的热线、养老服务的求助系统和救援系统的工作。也就是说，要建立一个“没有围墙的养老院”。

这段文字中“没有围墙的养老院”指的是：

- A. 多方参与的社会化居家养老系统
- B. 政府提供服务的公益性养老系统
- C. 个人自办的居家养老场所
- D. 基于网络的开放性资源共享的养老院

**【答案】A。解析：**

本题属于“推断文意型”。

阅读题干，由最后一句中的“也就是说”可以推知，“没有围墙的养老院”指的就是它前面所说的“为此，政府将积极推进居家养老服务，鼓励社会团体和企业从事居家养老方面的服务，同时也积极推进利用网络资源建立养老服务的热线、养老服务的求助系统和救援系统的工作”，即“多方参与的社会化居家养老系统”。

所以，正确选项是A。

12. 每个企业都有自己的核心价值观，它是企业一切理念、制度和技术的价值基础。企业在重视财务、营销、技术的同时，更应重视员工。员工是企业的主人，是企业的根本，只有建立起以“重视员工”为核心价值观的企业文化，企业才能凝聚员工，创造个性，为自身发展提供目标、方向和动力。

这段文字意在说明：

- A. 企业文化是企业发展的内在动力
- B. 建立企业核心价值观的途径
- C. 企业文化应以重视员工为中心
- D. 企业如何形成和加强自身的凝聚力

**【答案】C。解析：**

本题属于“推断文意型”。

阅读题干，由“企业在重视……的同时，更应重视员工”可以推知，这段文字强调的关键词是企业文化“更应重视员工”，即企业文化应以重视员工为中心。

所以，正确选项是C。

13. “煎饼人”是“门门通、门门松”的万金油式的“知道分子”，他们不是将精力专注于某一个感兴趣的领域，而是力求在各个领域都至少获得一些基本知识；他们爱好浅阅读，极度依赖搜索引擎，缺乏思辨力和想象力；他们的涉猎面薄而大，像煎饼一样，但没有厚而重的知识积淀。在信息时代，能够在短时间内获得稀缺知识的能力有其积极的一面，但同时也容易出现使人不愿意深究某一主题的倾向。

关于“煎饼人”，下列说法正确的是：

- A. 善于学习新知识
- B. 具有触类旁通的能力
- C. 热衷涉猎而不求甚解
- D. 占有大量稀缺的信息资源

**【答案】C。解析：**

本题属于“推断文意型”。

阅读可知，题干属于“转折结构”，转折结构强调的是转折后面的内容。“在信息时代，能够在短时间内获得稀缺知识的能力有其积极的一面，但同时也容易出现使人不愿意深究某一主题的倾向”，意在

说明“煎饼人”热衷涉猎而不求甚解。

所以，正确选项是 C。

14. 一个善于思考、用心思考、有强烈创新欲望的人，哪里都是他产生创新火花和灵感的风水宝地。从某种意义上说，无论创作、创新还是创造，都永远属于那些用心思考、积极思考的人。作为教学一线的课堂也是一个不可忽视的创新场所，有许多知识和学术问题等待人们去研究，这里应该成为科技创新的不竭源泉。

这段文字意在说明：

- A. 课堂也可以成为创新的重要场所  
B. 教师应在课堂上注重创新人才的培养  
C. 善于思考的人才能产生创新的火花  
D. 课堂教学既要传授知识也要培养创新思维

**【答案】A。解析：**

本题属于“推断文意型”。

阅读可知，题干讨论的对象或关键词是“作为教学一线的课堂”，而不是“教师”、“善于思考的人”或“课堂教学”。

所以，正确选项是 A。

15. 人类已经进入到知识经济时代。人才、知识、科技、教育等要素，在经济社会发展中的重要性日益凸显。高等教育作为高端人才培养和科技创新的主阵地，已经成为经济社会发展的重要引擎；高等教育发展的质量，已经成为影响一个国家和民族发展能力的重要因素。新的形势、迫切要求高等教育深化改革，更进一步增强社会服务功能，更加深入地参与到经济社会发展中来，参与到改革发展的时代大潮中来。

这段文字意在说明：

- A. 新形势下高等教育改革的迫切性和改革方向  
B. 新时期高等教育应为经济发展培养更多的高素质人才  
C. 知识经济时代为高等教育进一步改革提供了广阔空间  
D. 知识经济时代高等教育肩负的责任越来越重大

**【答案】A。解析：**

本题属于“推断文意型”。

阅读可知，题干讨论的对象或关键词是“高等教育深化改革”。

所以，正确选项是 A。

16. 在元代画家的笔下，花鸟画已经成为借物抒情、托物言志的途径，这种发展无疑丰富了花鸟画的内涵。发展至明清时期，许多花鸟画家更把国家观念、道德品评、祈求幸福等传统的人文精神寄托于画中，有些画家甚至将花鸟内容个性化，借以表达喜怒哀乐。因此，画家在创作时重视追求境界多于形似，因而特别讲究笔墨运用，注重意境。他们不把绘画称为“画画”，而叫“写画”，确实有其原因。

这段文字意在：

- A. 比较元代和明清绘画的技法的不同  
B. 叙述古代花鸟画的演变过程  
C. 解释“画画”和“写画”的区别  
D. 强调明清花鸟画的创作更加注重意境

**【答案】D。解析：**

本题属于“推断文意型”。

阅读可知，题干属于“因果结构”，因果结构强调的是结果而不是原因。题干说：“因此，画家在创作时重视追求境界多于形似”。意在强调：明清花鸟画的创作更加注重意境。

所以，正确选项是 D。



17. 社会管理不是为了加强控制，它是柔性的、协同的和互动的，这正是它与传统单位制管理模式根本区别，也是“大管理”的要旨所在。长期以来，单位就是社会，它包揽了我们的一切。“单位制”和“身份制”构成了我国计划经济时代社会运行的基本特征，国家和政府通过严密的单位体系和街居体系管理职工及城市居民。单位制的重要特征就是控制性、封闭性和单一性，是典型的“小管理”。或许，在当时的条件下，“单位制”有其合理的一面，但与之相对应的就是社会的萎缩，以至于我们生活在社会中却对“社会”很迷茫，社会是什么？社会在哪里？

下列说法与这段文字相符的是：

- A. “单位制”管理模式削弱了人们对社会的认识
- B. 社会管理的核心是提倡个人的主动参与
- C. 现代社会要求“小管理”和“大管理”的有机结合
- D. 计划经济时代我国社会管理模式主要是“身份制”

**【答案】A。解析：**

本题属于“概括主旨型”。

阅读可知，题干属于“转折结构”，转折结构强调的是转折后面的内容。题干讨论的关键词是“社会管理”，“或许，在当时的条件下，“单位制”有其合理的一面，但与之相对应的就是社会的萎缩，以至于我们生活在社会中却对“社会”很迷茫，社会是什么？社会在哪里”。描述了“单位制”导致人们对社会的认识不清。

所以，正确选项是 A。

18. 科学的本质是创新，那些变不可能为可能的发现，树立了科学史上一个又一个里程碑，比如 19 世纪有机尿素的合成，打破了“有机物只有靠动植物的生命力才能合成”的思想禁锢。但当我们自信能够通过合成超出自然的物质去战胜自然时，也应反思这些物质对健康、环境的反作用，毕竟它们改变着我们的衣食住行。

这段文字意在说明：

- A. 不应过于迷信科技的作用
- B. 应对合成技术进行全面评估
- C. 应全面审视科技对人类及环境的影响
- D. 科技改变了人类的生活及人类的思维方式

**【答案】C。解析：**

本题属于“推断文意型”。

阅读可知，题干属于“转折结构”，转折结构强调的是转折后面的内容。题干说：“但当我们自信能够通过合成超出自然的物质去战胜自然时，也应反思这些物质对健康、环境的反作用……”，意在提醒人们：应全面审视科技对人类及环境的影响。

所以，正确选项是 C。

19. 就本质而言，《人民文学》质量高低，\_\_\_\_\_，与传播媒介所处位置并没有必然的因果关联。从某种意义上讲，销量也不能必然反映文学的真正价值。今天的畅销作者中，有多少经得起历史的检验呢？有媒体统计发现，2010 年，王蒙、贾平凹、周国平、麦家四人的总版税，比不过一个“当年明月”，但这并不能因此就否认这四人的文学造诣。

填入划横线部分最恰当的一句是：

- A. 并不体现在它的市场价值上
- B. 惟一衡量标准在于作品本身
- C. 与读者群体的阅读喜好息息相关
- D. 取决于作者的文学底蕴和思想深度

**【答案】B。解析：**

本题属于“推断文意型”。

阅读可知，填入划横线部分的内容必须与前面的“《人民文学》质量高低”相呼应，说明《人民文学》的质量标准。文学的标准不取决于市场，不取决于作者，也不取决于读者，排除 A、C、D 三项。

所以，正确选项是 B。

20. 民间草根对传统文化特别是儒家文化的热情成为这一波中国文化热的巨大推动力量，它的出现和规模，完全超出了知识精英的预期，其力量也远不是学院知识分子可以相比的。其中虽然带些盲目的成分，但毋庸置疑的是，“文化场”不再是学者一统天下，这从一个侧面反映出，社会和民间的文化价值取向将成为知识精英必须重视的因素。

这段文字意在说明：

- A. 新一波中国文化热主要源于民间                      B. 民间文化价值取向的影响力不容忽视  
C. 民间草根对传统文化的热情带有盲目性              D. 知识精英需在借鉴草根文化的基础上寻求新发展

**【答案】B。解析：**

本题属于“推断文意型”。

阅读可知，题干属于“转折结构”，转折结构强调的是转折后面的内容。题干说：“……但毋庸置疑的是，“文化场”不再是学者一统天下，这从一个侧面反映出，社会和民间的文化价值取向将成为知识精英必须重视的因素”，意在提醒人们：民间文化价值取向的影响力不容忽视。

所以，正确选项是 B。

21. 网络不只发现问题，有时它还扮演了解决问题的线索提供者和监督者的角色。相对于各种监督管理的机制，网络的监督能力已经显出了超前的态势。似乎许多问题的端倪，总是先暴露在网络之上，然后才会被深究，继而解决处理。对此，我们应该清醒地认识到，网络监督固然在目前发挥了显著作用，但这绝不是一个法治社会下正常的监督问责途径，也不应当成为一种主流的监督方式。如何充分发挥原有监督机制的应有作用，是摆在我们面前亟待解决的问题。

这段文字意在说明：

- A. 法制社会不能主要依靠网络进行有效监督  
B. 网络相对于其他监督机制具有更为超前的监管能力  
C. 网络监督在自我完善的基础上才能更好地发挥作用  
D. 当今社会的一条重要监督途径是网络监督

**【答案】A。解析：**

本题属于“推断文意型”。

阅读可知，题干属于“转折结构”，转折结构强调的是转折后面的内容。题干说：“……网络监督固然在目前发挥了显著作用，但这绝不是一个法治社会下正常的监督问责途径，也不应当成为一种主流的监督方式”，意在提醒人们：法制社会不能主要依靠网络进行有效监督。

所以，正确选项是 A。

22. 2002 年诺贝尔化学奖颁给了提出“测定生物大分子质量原始思想”的日本科学家田中耕一，比他晚一两个月发明更有效的测定方法的德国化学家米夏埃尔·卡拉斯和弗伦茨·希伦坎普只好望洋兴叹；2008 年诺贝尔生理学或医学奖颁给了首次发现“人类免疫缺陷病毒”的两位法国科学家西诺西和蒙塔尼，另一位为“发现人类免疫缺陷病毒”作出重大贡献的美国科学家盖洛则名落孙山……

这段文字主要说明：

- A. 以“第一”论英雄是一些国际科学奖项所遵循的原则  
B. 诺贝尔奖获奖成果基本上都经过长时间的沉淀和考验  
C. 科学研究中的发明和创造是不折不扣的一种智力冒险  
D. 国际大奖注重的是发现者在科研中独一无二的贡献

**【答案】A。解析：**

本题属于“概括主旨型”。

阅读可知，题干属于“并列结构”，概括转折结构的题干必须概括并列的全部内容。题干并列的两个例子都强调把诺贝尔奖颁发给在某个领域“提出”和“首次发现”的学者，其原则就是以“第一”论英雄。

所以，正确选项是 A。

23. 在大自然面前，万物没有优劣之分。达尔文在《物种起源》中提出的进化论，把人类放在了一个很普通的位置上。然而，一直有很多人不愿接受这种观点，而是先入为主地将达尔文的进化论曲解为进步论并加以传播。根据进化论，我们很难预测出一个物种的进化趋势，因为进化的机制包含两个因素——环境和物种自身。我们无法预测环境的变化，物种自身怎样遗传和变异，我们也难以完全把握。进化论很大程度上只能给予解释，而非精确的预测，所以依据进化论去给出物种的进化趋势是没有道理的。尽管进化论难以刻画物种进化的细节，但还是帮助人们对生命有了深刻的理解。

这段文字意在说明：

- A. 进化论和进步论的根本区别
- B. 反进化论的观点缺乏事实根据
- C. 进化论很难预测物种的进化趋势
- D. 应科学认识进化论的含义和作用

**【答案】D。解析：**

本题属于“推断文意型”。

阅读可知，题干属于“转折结构”，转折结构强调的是转折后面的内容。题干说：“然而，一直有很多人不愿接受这种观点，而是先入为主地将达尔文的进化论曲解为进步论并加以传播。……所以依据进化论去给出物种的进化趋势是没有道理的”（隐含：批评人们对进化论的含义和作用的错误认识），意在提醒人们：必须科学认识进化论的含义和作用。

所以，正确选项是 D。

24. 专家在测试时发现，缺觉的学生虽然可以回答难题，却记不住简单的单词。同时，眨眼缺失对孩子的学习记忆可能造成不可逆的损害。研究发现，睡眠不足时，大脑部分功能区出现了不同程度的抑制状态，这使得学生在进行一些简单学习时常常出现失误。而面对难题时，由于通过额外激活和记忆、注意密切相关的前额叶皮质区域来补偿缺失的功能，学生答题的正确率以及反应时间并未受到显著影响。专家认为，虽然没有足够证据证明睡眠不足会直接影响智商，但现有证据可以证明缺觉学生的注意力以及记忆力确实会受到影响。

缺觉的孩子回答难题和简单题目表现出差异的根本原因是：

- A. 采用的答题策略不同
- B. 使用大脑的具体部位不同
- C. 睡眠不足对大脑部分功能区的抑制程度不同
- D. 回答难题时前额叶皮质区比回答简单题活跃

**【答案】D。解析：**

本题属于“概括主旨型”。

题干属于“转折结构”，转折结构强调的是转折后面的内容。题干说：“而面对难题时，由于通过额外激活和记忆、注意密切相关的前额叶皮质区域来补偿缺失的功能，学生答题的正确率以及反应时间并未受到显著影响”，由此可知：回答难题时前额叶皮质区比回答简单题活跃。

所以，正确选项是 D。

25. ①将会造成时间上错位，舍近求远

②靠单纯大力发展新能源，远水解不了近渴

③如果忽视了这点，而盲目发展可再生资源的“装机容量”

④目前而言，最需要重点对待的是传统能源的改进和合理利用

⑤但是可再生能源（含水能）产量只相当于 6 亿吨标准煤，约占全部能耗的 13%

⑥根据目前的能源消耗水平进行测试，到 2020 年，我国总耗能约达 45 亿吨标准煤



将以上 6 个句子的顺序重新排列，语序正确的是：

- A. ⑥②①③④⑤  
B. ⑥⑤②④③①  
C. ④⑥①⑤②③  
D. ④③①⑥②⑤

**【答案】B。解析：**

本题属于“推断文意型”。要求根据语句之间的逻辑关系进行排序。

对比四个选项的排列顺序可以发现，其中 A、B 两项以⑥为首句，C、D 两项以④为首句。因此，首句必在⑥④之中。

从④所说的“目前而言，最需要重点对待……”可以推断，它的前面必然应该还有其他相比不重要的内容，不可能是第一句。因此，⑥必定作为首句。由此可以排除 C、D 两项。

比较 A、B 两项，区别在于前两句“⑥②”与“⑥⑤”的不同组合。阅读可知，⑤作为转折句，所谓“产量只相当于 6 亿吨标准煤，约占全部能耗的 13%”，必然是相对于⑥中的“总耗能约达 45 亿吨标准煤”说的。因此，前两句只能是⑥⑤。由此排除 A 项。

所以，正确选项是 B。

26. ①新兴城市也有杂乱的居民大院，但那不是严格意义上的杂院  
②居住者不是高官显贵，便是富商大贾  
③大杂院是城市的“特产”  
④产大杂院的城市得有一把年纪  
⑤大杂院是什么时候出现的，没看过有关的考证，猜想大约在晚清之后  
⑥晚清之前这些院子就都存在了，但那时不叫大杂院，叫府第或大宅门

- 将以上 6 个句子的顺序重新排列，语序正确的是：  
A. ③④①⑤⑥②  
B. ③⑤④⑥②①  
C. ⑤⑥②③①④  
D. ⑤③④②⑥①

**【答案】A。解析：**

本题属于“推断文意型”。要求根据语句之间的逻辑关系进行排序。

对比四个选项的排列顺序可以发现，其中 A、B 两项以③为首句，C、D 两项以⑤为首句。因此，首句必在③⑤之中。

③说“大杂院是城市的‘特产’”，⑤说“大杂院是什么时候出现的……”。讨论大杂院“什么时候出现”应该是对③的意思的延伸。因此，③必定作为首句。由此可以排除 C、D 两项。

比较 A、B 两项，区别在于前两句“③④”与“③⑤”的不同组合。阅读可知，④所谓“产大杂院的城市”，必然是相对于③中的“特产”说的。因此，前两句只能是③④。由此排除 B 项。

所以，正确选项是 A。

27. 如果我们必须用一句给免疫系统下个定义，答案一定是“识别非我的机制”。这是免疫系统最核心的部分，其余的东西，比如抗体的形成或者巨噬细胞消灭敌人的能力，都必须建立在这个机制之上。换句话说，只要生命体能够将敌人辨认出来，剩下的事情就好办了，目前医学界遇到的最难对付的几种疾病，比如艾滋病和自免疫疾病，\_\_\_\_\_。

填入横线部分最恰当的一句是：

- A. 均因免疫器官受到损害  
B. 近阶段还难有突破性成果  
C. 其病理机制尚未研究清楚  
D. 关键问题都出在这一步

**【答案】D。解析：**

本题属于“推断文意型”。

阅读可知，填入划横线部分的内容必须与前面的“目前医学界遇到的最难对付的几种疾病”相呼应。题干讨论的关键词是“免疫系统”，“只要生命体能够将敌人辨认出来，剩下的事情就好办了”，因此，

难对付的几种疾病必定是因为免疫系统出了毛病，或者说，这些难以对付的疾病其关键问题都是免疫系统出了毛病。由此可以排除 B、C、D 三项。

所以，正确选项是 D。

本题 A 项容易误选。必须注意，A 项所说的“免疫器官”与题干中所说的“免疫系统”不是同一个概念，属于偷换概念，由此可以排除。

28. 儒家学说认为一个人如果没有美德，就不可能获得幸福，人生的幸福体现在个人的善行之中，人们不断提升个人美德的过程就是追求幸福的过程。而为了修炼美德，就不能执着于物质生活的享乐，即便是“一箪食、一瓢饮”，只要能够修得高尚的品德，这样的苦行也是幸福的。

这段文字意在强调：

- A. 人们如何提升个人美德
- B. 拥有美德是幸福的前提
- C. 幸福如何在善行中体现
- D. 美德与幸福的相互关系

**【答案】B。解析：**

本题属于“推断文意型”。

阅读可知，题干属于“转折结构”，转折结构强调的是转折后面的内容。题干说：“而为了修炼美德，就不能执着于物质生活的享乐……只要能够修得高尚的品德，这样的苦行也是幸福的”，意在说明：只要有了美德，就能获得幸福。即拥有美德是幸福的前提。

所以，正确选项是 B。

29. 哲学不是仅仅供人欣赏的精神财宝，也不是供人打发时间的思维游戏。哲学家的价值观，最终是被人类所面临的最根本的生存问题所左右的。哲学如果离开了与之相适应的时代，就会无家可归；而一个时代如果离开了与之相适应的哲学，就会没有灵魂。因此，哲学史的研究固然十分重要，但寻找时代的精神家园，即寻找时代的核心价值观念，始终是哲学不可逃避的社会责任。哲学的研究落后于时代的发展，必将影响到整个社会科学和全部精神文化的发展，影响到人类实践行为的合理发展。

这段文字意在说明：

- A. 哲学离不开现实社会
- B. 哲学研究需要走在时代的前沿
- C. 哲学无法独立于相适应的时代而存在
- D. 哲学以寻找时代的核心价值为主要目的

**【答案】D。解析：**

本题属于“推断文意型”。

阅读可知，题干属于“因果结构”，因果结构强调的是结果而不是原因。题干说：“因此，哲学史的研究固然十分重要，但寻找时代的精神家园，即寻找时代的核心价值观念，始终是哲学不可逃避的社会责任。”意在说明：哲学必须以寻找时代的核心价值为主要目的。

所以，正确选项是 D。

30. 所谓“以 IP 地址或者网络名称作为被告”，其实只是针对预立案程序而言。这样，网络侵权的原告可以申请人民法院调查被告身份的相关信息，可以查实的正式立案审理，无法查明的则不予受理。由此可见，这么做实际是原告请求法院通过其调查权，来查明 IP 地址或者网络名称背后的人，将调查核实“被告人具体身份”的权力转移给了法院。原告并不具备特别调查权，多数公众也都没有技术手段来进行网络追踪。如果法院介入后仍然无法查清，还是不会受理。只要没有明确的被告，原告的诉讼就失去了意义——且不说庭审过程中，“被告”无法进行辩护，就算原告赢得了官司，也没有责任人来承担相应的民事责任。

对这段文字的主旨概括最准确的是：

- A. 介绍网络时代处理法律问题面临的困境

- B. 分析原告在网络侵权案件中所处的不利地位
- C. 解释法院在处理案件时被告人身份确定的重要性
- D. 说明网络侵权案件中明确被告人的方式及其意义

**【答案】D。解析：**

本题属于“概括主旨型”。

题干属于“证明结构”，证明结构强调的是论点而不是论据。题干讨论的关键词是“网络侵权”，题干说：“由此可见，这么做实际是原告请求法院通过其调查权，来查明 IP 地址或者网络名称背后的人，将调查核实‘被告人具体身份’的权力转移给了法院……只要没有明确的被告，原告的诉讼就失去了意义”。因此，对这段文字的主旨概括最准确的是：说明网络侵权案件中明确被告人的方式及其意义所以，正确选项是 D。

## 第二部分 常识判断

（共 20 题，参考时限 15 分钟）

**根据题目要求，在四个选项中选出一个最恰当的答案。**

31. 今年的山东省政府工作报告中提到“制定现代海洋和高效生态示范园区建设标准和管理办法”，重点打造三个海洋经济新区，加快建设三个中外合作园区，着力推动海洋产业联动发展示范基地和黄河三角洲国家现代农业科技示范区发展。“三个海洋经济新区”指的是：

- A. 青岛海岸、烟台滨海、日照南海
- B. 日照沿海、烟台沿海、威海沿海
- C. 青岛西海岸、潍坊滨海、威海南海
- D. 青岛西海岸、日照滨海、威海南海

**【答案】C。解析：**

2012 年，山东省将重点推进“蓝黄”两区融合发展、一体发展。制定现代海洋和高效生态示范园区建设标准和管理办法，重点打造青岛西海岸、潍坊滨海、威海南海三个海洋经济新区，着力推动海洋产业联动发展示范基地和黄河三角洲国家现代农业科技示范区发展。

所以，正确选项是 C。

32. 某公司由甲、乙、丙三位股东出资设立，丁和戊分别依法选为公司的执行董事和监事，该公司因经营不善而无法按期偿还银行贷款。根据法律规定，银行下述主张能获得支持的是：

- A. 要求作出贷款决策的丁返还贷款
- B. 要求已足额缴纳出资的甲、乙、丙三股东返还贷款
- C. 要求该公司返还贷款
- D. 要求对该公司承担监督检查责任的戊返还贷款

**【答案】C。解析：**

《中华人民共和国公司法》规定：公司独立承担民事责任。也就是说，股东出资设立公司后，公司以其全部资产对公司的债务承担全部责任。因此，银行可以要求该公司返还贷款。

所以，正确选项是 C。

33. 下列关于外汇储备的说法不正确的是：

- A. 可以用来弥补国际收支逆差
- B. 规模越大越有利于实现国民经济的内外均衡
- C. 是实现国民经济内外平衡的重要手段
- D. 可以用来干预外汇市场以维持本国货币的汇率稳定

**【答案】B。解析：**

外汇储备是指一国政府所持有的国际储备资产中的外汇部分，是一个国家货币当局持有并可以随时兑换外国货币的资产。狭义而言，外汇储备是一个国家经济实力的重要组成部分，是一国用于平衡国际收支，稳定汇率，偿还对外债务的外汇积累。当国际收支出现逆差时，动用外汇储备可以促进国际收支的平衡。国家应根据持有外汇储备的收益、成本比较等把外汇储备保持在适度的水平上，并非越多越好。B项的说法过于绝对，是不正确的。

所以，正确选项是B。

34. 下列经济学理论或政策，与之对应不正确的是：

- A. 新自由主义——凯恩斯
- B. 经济危机理论——马克思
- C. 国家调节和干预经济——罗斯福
- D. 自由放任——亚当斯密

**【答案】A。解析：**

狭义新自由主义主要是指以哈耶克为代表的新自由主义。广义新自由主义，除了以哈耶克为代表的伦敦学派外，还包括以弗里德曼代表的货币学派、以卢卡斯为代表的理性预期学派、以布坎南为代表的公共选择学派和以拉弗、费尔德斯坦为代表的供给学派等，其中影响最大的是伦敦学派、现代货币学派和理性预期学派。凯恩斯主张政府干预经济，开创的是宏观经济学。因此，A项的对应是不正确的。

所以，正确选项是A。

35. 下列归类不正确的一组是：

- A. 五音：宫、商、角、徵、羽
- B. 五等爵：公、侯、伯、子、男
- C. 六部：吏、户、礼、兵、刑、工
- D. 五经：《诗》、《书》、《礼》、《易》、《论语》

**【答案】D。解析：**

《五经》是指《诗》《书》《礼》《易》《春秋》。《论语》是《四书》之一，不归《五经》。因此，D项的归类不正确。

所以，正确选项是D。

36. 关于我国人民调解制度，下列说法正确的是：

- A. 基层人民检察院对人民调解委员会调解民间纠纷进行业务指导
- B. 人民调解委员会是依法设立的调解民间纠纷的群众性组织
- C. 村民委员会、居民委员会、企业事业单位必须设立人民调解委员会
- D. 人民调解委员会调解民间纠纷，可依法适当收取费用，但不能超出工作经费需要

**【答案】B。解析：**

《人民调解法》第5条规定：“基层人民法院对人民调解委员会调解民间纠纷进行业务指导”，因此A项错误，排除。第7条规定：“人民调解委员会是依法设立的调解民间纠纷的群众性组织”，因此B项正确。第8条规定：“村民委员会、居民委员会设立人民调解委员会。企业事业单位根据需要设立人民调解委员会”，因此C项错误，排除。第4条规定：“人民调解委员会调解民间纠纷，不收取任何费用”，因此D项错误，排除。

所以，正确选项是B。

37. 关于琴棋书画，下列说法不正确的是：

- A. 米芾的山水画自成一家

- B. 东晋书法家王献之被称为“书圣”
- C. 围棋在我国古代称为“弈”
- D. “高山流水”讲的是琴师俞伯牙和樵夫钟子期的故事

**【答案】B。解析：**

被称为“书圣”的是东晋书法家王羲之，而不是他的儿子王献之。

B项的说法不正确，所以，正确选项是B。

38. 丁某与村委会签约承包本村一鱼塘，后丁某搬到镇上居住，遂拟将鱼塘转包给本村经营另一鱼塘的赵某。下列说法正确的是：

- A. 鱼塘经营转包应经过村委会同意
- B. 丁某拖欠村委会5万元，村委会有权收回鱼塘抵顶欠款
- C. 如转包费高于丁某向村委会交纳的承包金，则超出部分由村委会享有
- D. 如因鱼塘承包经营发生纠纷，丁某既可向农村土地承包仲裁机构申请仲裁，也可直接向法院起诉

**【答案】D。解析：**

《农村土地承包法》第26条第2款规定：“承包期内，承包方全家迁入小城镇落户的，应当按照承包方的意愿，保留其土地承包经营权或者允许其依法进行土地承包经营权流转。”

该法第37条第1款规定，土地承包经营权采取转让方式流转的，应当经发包方同意；采取转包、出租、互换或者其他方式流转的，应当报发包方备案。因此，鱼塘转包只需报村委会备案，不须经村委会同意，A项说法错误。

该法第35条规定，承包期内，发包方不得单方面解除承包合同，不得将承包地收回抵顶欠款。因此B项说法错误。

该法第36条规定：“土地承包经营权流转的转包费、租金、转让费等，应当由当事人双方协商确定。流转的收益归承包方所有，任何组织和个人不得擅自截留、扣缴。”因此C项说法错误。

该法第51条规定：“因土地承包经营发生纠纷的，双方当事人可以通过协商解决，也可以请求村民委员会、乡（镇）人民政府等调解解决。当事人不愿协商、调解或者协商、调解不成的，可以向农村土地承包仲裁机构申请仲裁，也可以直接向人民法院起诉。”因此D项说法正确。

所以，正确选项是D。

39. 应对物价上涨，可采取的措施是：

- A. 降低基准利率
- B. 扩大财政支出
- C. 提高存款准备金率
- D. 扩大财政赤字

**【答案】C。解析：**

为了应对物价上涨，政府一般会采取紧缩性货币政策，从而抑制消费增长，控制物价过快上涨，以达到控制通货膨胀的目的。本题的四个选项中，只有C项属于紧缩性货币政策，A、B、D三项都属于积极的货币政策，排除。

所以，正确选项是C。

40. 下列建筑名称与古代天文相关的是：

- A. 文渊阁
- B. 中和殿
- C. 坤宁宫
- D. 紫禁城



**【答案】D。解析：**

我国古代星象学说认为，紫微垣位于中天，乃天帝所居。根据天人对应，皇帝的居所又称紫禁城。4个选项中，只有紫禁城的名称与古代天文相关。

所以，正确选项是D。

41. 下列关于电影的说法不正确的是：

- A. 最早的电影只有画面，没有声音
- B. 电影蒙太奇是一种镜头剪接技术
- C. 《摩登时代》是卓别林的经典作品
- D. 长镜头是指在拍摄中使用焦距很长的镜头

**【答案】D。解析：**

长镜头是一种拍摄手法，指的不是实体镜头外观的长短或焦距，也不是摄影镜头距离拍摄物的远近，而是指用比较长的时间（有的甚至长达十几分钟），对一个场景、一场戏进行连续的拍摄，形成一个比较完整的镜头段落。因此D项的说法是错误的。

所以，正确选项是D。

42. 下列人物与各项主张、言论对应不正确的是：

- A. 卢梭——人民主权
- B. 梁启超——民主共和
- C. 孔子——己所不欲，勿施于人
- D. 孙中山——民族、民权、民生

**【答案】B。解析：**

梁启超是中国近代维新派的代表人物之一，与康有为等人发起戊戌变法，主张君主立宪，而不是民主共和。因此B项的说法是不正确的。

所以，正确选项是B。

43. 关于野生动物保护，下列说法符合法律规定的是：

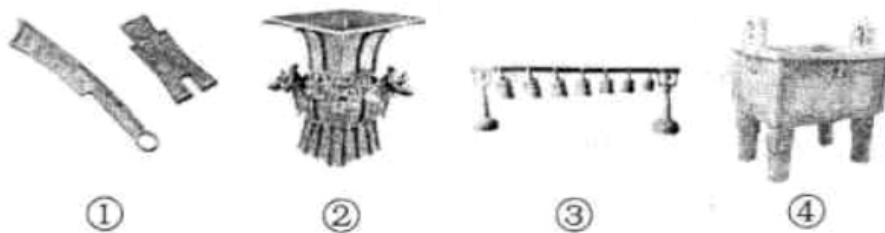
- A. 走私国家禁止出口的珍贵动物，最高可判无期徒刑
- B. 国家重点保护的野生动物分为一级、二级和三级保护野生动物
- C. 除农村集体土地上的野生动物资源以外，其他野生动物资源属于国家所有
- D. 持政府颁发猎捕证猎捕野生动物给他人造成损失的，由政府和猎捕者共同承担赔偿责任

**【答案】A。解析：**

《中华人民共和国刑法》第151条规定：“走私国家禁止出口的文物、黄金、白银和其他贵重金属或者国家禁止进出口的珍贵动物及其制品的，处五年以上十年以下有期徒刑，并处罚金；情节特别严重的，处十年以上有期徒刑或者无期徒刑，并处没收财产；情节较轻的，处五年以下有期徒刑，并处罚金。”因此A项的说法符合法律规定。

所以，正确选项是A。

44. 关于图片中青铜器，下列说法不正确的是：



- A. ①是先秦时期的货币                      B. ②相传是大禹铸造的  
C. ③是古代一种重要的乐器                D. ④在古代主要用于祭祀场合

**【答案】B。解析：**

图①左边是刀币，右边是布币，二者都是前秦时期的货币，因此 A 项说法正确，排除。

图②是四羊方尊，属于商朝晚期的青铜器。大禹所在的时代在夏朝之前，四羊方尊不可能是大禹铸造的。因此 B 项说法错误。

图③是编钟，是我国古代一种重要的打击乐器，多用于宫廷演奏，每逢征战、朝见或祭祀活动时，都要演奏编钟。因此 C 项说法正确，排除。

图④是鼎，是我国古代最重要的青铜器种类之一。鼎本是烹饪之器，后来发展为祭祀神灵的一种重要礼器。因此 D 项说法正确，排除。

所以，正确选项是 B。

45. 下列有关知识产权的说法符合法律规定的是：

- A. 国家版权局是著作权集体管理组织  
B. 注册商标有效期满前未申请续展注册的，应在有效期满后被注销  
C. 发明和实用新型属于专利权，而外观设计属于版权的范畴  
D. 原则上县级以上行政区划的地名和公众知晓的外国地名不得作为商标

**【答案】D。解析：**

《中华人民共和国商标法》第 10 条规定：“县级以上行政区划的地名或者公众知晓的外国地名，不得作为商标。但是，地名具有其他含义或者作为集体商标、证明商标组成部分的除外；已经注册的使用地名的商标继续有效。”因此，D 项的说法符合法律规定。

所以，正确选项是 D。

46. 下列有关新陈代谢的表述不正确的是：

- A. 光合作用属于绿色植物新陈代谢的过程  
B. 生物的新陈代谢过程都需要氧气的参与  
C. 新陈代谢既有能量交换又有物质转化  
D. 能否进行新陈代谢是区分生物与非生物的标准之一

**【答案】B。解析：**

生物体与外界环境之间的物质和能量交换以及生物体内物质和能量的转变过程叫做新陈代谢。在新陈代谢过程中，既有同化作用，又有异化作用。根据生物体在异化作用过程中对氧的需求情况，新陈代谢的基本类型可以分为需氧型、厌氧型和兼性厌氧型三种。厌氧型的生物有乳酸菌和寄生在动物体内的寄生虫等少数动物，它们在缺氧的条件下，仍能够将体内的有机物氧化，从中获得维持自身生命活动所需要的能量。因此生物的新陈代谢过程并不是都需要氧气的参与，B 项的表述是不正确的。

所以，正确选项是 B。

47. 下列有关医药常识不正确的是：

- A. 脾脏是人体的消化器官之一
- B. 腮腺炎是呼吸道传染病
- C. 河豚的毒素在其内脏中含量最高
- D. 很多矿物质可以作为中药使用

**【答案】A。解析：**

脾脏是人体最大的淋巴器官，也是人体最大的免疫器官，具有造血和血液过滤功能，也是淋巴细胞迁移和接受抗原刺激后发生免疫应答、产生免疫效应分子的重要场所。因此，脾脏不属于人体的消化器官，A项的说法是不正确的。

所以，正确选项是A。

48. 下列网络技术中，不属于数据安全技术的是：

- A. 网络防火墙
- B. 数字媒体技术
- C. 数字签名技术
- D. 数字水印技术

**【答案】B。解析：**

A项，防火墙作为内部网与外部网之间的一种访问控制设备，主要作用之一就是强化安全策略。因此A项属于数据安全技术，排除。

B项，数字媒体技术主要包含场景设计、角色形象设计、游戏程序设计、多媒体后期处理、人机交互技术等，主要用于游戏开发、网站美工以及创意设计类工作。因此B项不属于数据安全技术。

所以，正确选项是B。

49. 下列有关生活常识的叙述，不正确的是：

- A. 不慎扭伤关节，不应立即揉搓按摩
- B. 洪水来袭，如来不及逃生可向高处转移等候营救
- C. 火灾逃生时，应用湿毛巾或口罩蒙鼻，匍匐着撤离
- D. 电热毯折叠加热，升温快，且便于热量保存

**【答案】D。解析：**

为保证家庭使用电热毯的安全和延长电热毯的使用寿命，电热毯必须严格禁止折叠使用，以避免折断电线，导致漏电等安全事故。因此D项的说法是不正确的。

所以，正确选项是D。

50. 对我国现阶段“三农”政策的理解不正确的是：

- A. 扶贫标准是农民人均纯收入 2300 元
- B. 农村最低生活保障制度就是扶贫开发
- C. 农村集体土地农民集体所有的建设用地、农用地和未利用地
- D. 农业补贴政策包括种粮农民直接补贴、农资综合补贴、良种补贴和农机具购置补贴

**【答案】B。解析：**

扶贫开发是为帮助贫困地区和贫困户开发经济、发展生产、摆脱贫困的一种社会工作；农村最低生活保障制度指由地方政府为家庭人均纯收入低于当地最低生活保障标准的农村贫困群众，按最低生活保障标准，提供维持其基本生活的物质帮助。由此可见，农村最低生活保障制度与扶贫开发是两种完全不同的政策制度。因此，B项对我国现阶段“三农”政策的理解不正确。

所以，正确选项是B。

## 第三部分 数量关系

(共 15 题, 参考时限 15 分钟)

一、数量关系。在这部分试题中, 每道题中呈现一段表述数字关系的文字, 要求你迅速、准确地计算出答案。

51. 甲乙两人参加射击比赛, 规定每中一发记 5 分, 脱靶一发倒扣 3 分。两人各打了 10 发子弹后, 分数之和为 52, 甲比乙多得了 16 分。问甲中了多少发?

- A. 9                      B. 8                      C. 7                      D. 6

**【答案】B。解析:**

作答本题可以采用“分情况讨论法”。

(1) 根据分数之和为 52, 甲比乙多得了 16 分。则乙得  $(52-16) \div 2 = 18$  分, 甲得  $18+16 = 34$  分。

(2) 根据每中一发记 5 分, 两人各打了 10 发子弹。如果甲 10 发全中, 则得 50 分; 每脱靶一发倒扣 3 分, 则每脱靶一发减 8 分。甲丢了 16 分, 即甲 2 发未中。

所以, 正确选项是 B。

52. 某公司计划采购一批电脑, 正好赶上促销期, 电脑打 9 折出售, 同样的预算可以比平时多买 10 台电脑。问该公司的预算在平时能买多少台电脑?

- A. 60                      B. 70                      C. 80                      D. 90

**【答案】D。解析:**

作答本题可以采用“特殊赋值法”。

设不打折时每台电脑 10 元, 电脑打 9 折出售, 则每台电脑 9 元。

设不打折时能买电脑  $a$  台, 则打 9 折时能买电脑  $a+10$  台。

则有:  $10a = (a+10) \times 9$

解得:  $a = 90$

所以, 正确选项是 D。

53. 某单位依据笔试成绩招录员工, 应聘者中只有  $1/4$  被录取。被录取的应聘者平均分比录取分数线高 6 分, 没有被录取的应聘者平均分比录取分数线低 10 分, 所有应聘者的平均分是 73 分。问录取分数线是多少分?

- A. 80                      B. 79                      C. 78                      D. 77

**【答案】B。解析:**

作答本题可以采用“特殊赋值法”。

设应聘者共 4 人, 则被录取者 1 人, 没有被录取者 3 人。

设录取分为  $a$ , 则被录取者的分数为  $a+6$ , 没有被录取者的分数为  $a-10$ 。

则有:  $(a+6) + (a-10) \times 3 = 73$

解得:  $a = 79$

所以, 正确选项是 B。

54. 某蓄水池有一进水口 A 和一出水口 B, 池中无水时, 打开 A 口关闭 B 口, 加满整个蓄水池需 2 小时; 池中满水时, 打开 B 口关闭 A 口, 放干池中水需 1 小时 30 分钟。现池中有占总容量  $1/3$  的水, 问同时打开 A、B 口, 需多长时间才能把蓄水池放干?

- A. 90 分钟                      B. 100 分钟                      C. 110 分钟                      D. 120 分钟

**【答案】D。解析:**

作答本题可以采用“特殊赋值法”。

设蓄水池满水时水量为 30。

根据池中无水时，打开 A 口关闭 B 口，加满整个蓄水池需 2 小时，可知 A 口每小时可加水 15。

根据池中满水时，打开 B 口关闭 A 口，放干池中水需 1 小时 30 分钟，可知 B 口每小时可放水 20。

则同时打开 A、B 口，每小时可以放水 5。

现池中有占总容量  $\frac{1}{3}$  的水，即有水 10。则把蓄水池放干需要  $10 \div 2 = 2$  小时，即 120 分钟。

所以，正确选项是 D。

55. 某篮球比赛 14:00 开始，13:30 允许观众入场，但早有人来排队等候入场。假设从第一个观众来到时起，每分钟来的观众人数一样多，如果开 3 个入场口，13:45 时就不再有人排队；如果开 4 个入场口，13:40 就没有人排队，那么第一个观众到达的时间是：

- A. 13:00      B. 13:05      C. 13:10      D. 13:15

**【答案】A。解析：**

作答本题可以采用“特殊赋值法”。

设每个入场口每分钟可以入场 1 人。

根据如果开 3 个入场口，13:45 时就不再有人排队；如果开 4 个入场口，13:40 就没有人排队，可知每分钟来的观众人数为： $(3 \times 15) - (4 \times 10) \div (15 - 10) = 1$  人。

根据 13:30 允许观众入场，如果开 3 个入场口，13:45 时就不再有人排队，可知到 13:45 时，总共有 45 人入场，并且到 13:45 时，总共来了 45 人。

根据每分钟来 1 人，则需要 45 分钟。

则第一个观众到达时间为  $13:45 - 45$  分钟 = 13:00。

所以，正确选项是 A。

56. 甲从 A 地到 B 地需要 30 分钟，乙从 B 地到 A 地需要 45 分钟，甲乙两人同时从 A、B 两地相向而行，中间甲休息了 20 分钟，乙也休息了一段时间，最后两人在出发 40 分钟后相遇。问乙休息了多少分钟？

- A. 25                      B. 20                      C. 15                      D. 10

**【答案】A。解析：**

作答本题可以采用“特殊赋值法”。

设总路程就是 90，则甲的速度为 3，乙的速度为 2。

根据甲乙两人同时从 A、B 两地相向而行，中间甲休息了 20 分钟，最后两人在出发 40 分钟后相遇，可知甲实际走了 20 分钟，走的路程为 60。

则乙走的路程为  $90 - 60 = 30$ 。

乙走路程 30 需要 15 分钟。则乙休息的时间为： $40 - 15 = 25$  分钟。

所以，正确选项是 A。

57. 有两个三口之家一起出行去旅游，他们被安排相对的座位上，其中一排有 3 个座位，另一排有 4 个座位。如果同一个家庭的成员只能被安排在同一排座位相邻而坐，那么共有多少种不同的安排方法？

- A. 36                      B. 72                      C. 144                      D. 288

**【答案】C。解析：**

作答本题可以采用“分情况讨论法”。

根据同一个家庭的成员只能被安排在同一排座位相邻而坐，可知：

坐在 3 个座位上的家庭，其安排方法有： $3 \times 2 \times 1 = 6$  种。

坐在 4 个座位上的家庭，其安排方法有： $(3 \times 2) \times 2 = 12$  种。

则两个家庭共有安排方法为： $6 \times 12 = 72$  种。



两个家庭还可以整体互换座位，则共有安排方法为： $72 \times 2 = 144$ 种。

所以，正确选项是C。

58. 某路公交车单程共有10个车站，从始发站出发时，车上共有乘客20人，之后中间每站新上5人，且车上所有乘客最多坐3站下车。问最多会有多少名乘客在终点站下车？

- A. 20                      B. 10                      C. 5                      D. 15

**【答案】D。解析：**

作答本题可以采用“分情况讨论法”。

根据从始发站出发时，车上共有乘客20人，之后中间每站新上5人，且车上所有乘客最多坐3站下车，可知：

第一站车上乘客人数为：20

第二站车上乘客人数为：20+5

第三站车上乘客人数为：20+5+5

第四站车上乘客人数为： $(20+5+5+5) - 20$

第五站车上乘客人数为： $(5+5+5) - 5$

第六站车上乘客人数为： $(5+5+5) - 5$

第七站车上乘客人数为： $(5+5+5) - 5$

第八站车上乘客人数为： $(5+5+5) - 5$

第九站车上乘客人数为： $(5+5+5) - 5$

第十站车上乘客人数为：5+5+5

也就是说，最多会有15名乘客在终点站下车。

所以，正确选项是D。

59. 某公司的6名员工一起去用餐，他们各自购买了三种不同食品中的一种，且每人只购买了一份。已知盖饭15元一份，水饺7元一份，面条9元一份，他们一共花费了60元。问他们中最多有几人买了水饺？

- A. 1                      B. 2                      C. 3                      D. 4

**【答案】C。解析：**

作答本题可以采用“极端情况讨论法”。

设买水饺的人数为最大值6人，则花费为： $6 \times 7 = 42$ 元，与总花费差值为： $60 - 42 = 18$ 元。

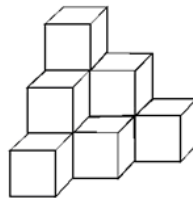
水饺价格与盖饭价格差值为： $15 - 7 = 8$ 元，与面条价格差值为： $9 - 7 = 2$ 元

利用两个差值8和2与花费总差值18进行调节，可得出买盖饭的人有2个，买面条的人有1个。

则买水饺的人数最多3人，

所以，正确选项是C。

60. 木工师傅为右图所示的3层模具刷漆，每层模具分别由1、3、6个边长1米的正方体组成，如果用一公斤油漆可以刷20平方米的面积，那么为这个3层模具的所有外表面上色，需要几公斤油漆？



- A. 1.8                      B. 1.6                      C. 1.5                      D. 1.2

**【答案】A。解析：**

作答本题只要数一数需要为几个面刷油漆就可以了。

从正面看，需要为18个面刷漆；从左侧看，需要为6个面刷漆；从右侧看，需要为6个面刷漆；从底面看，需要为6个面刷漆。

共需要为36个面刷漆，即需要刷36平方米。

根据一公斤油漆可以刷 20 平方米的面积，可知需要 1.8 公斤油漆。  
所以，正确选项是 A。

**二、数字推理。每道题给你一个数列，但其中缺少一项，要求你仔细观察数列的排列规律，从四个选项中选择最合理的一项来填补空缺项，使之符合原数列的排列规律。**

61.  $1/6, 1/3, 1, 4, 20, ( \quad )$

A. 100                      B. 108                      C. 120                      D. 128

**【答案】C。解析：**

观察可见，数项依次增大，相邻两项的后项依次是前项的 2、3、4、5 倍。

根据这个规律，填入括号中的数是 20 的 6 倍，即 120。

所以，正确选项是 C。

62. 1, 5, 5, 25, 25, 45, 125, ( )

A. 45                      B. 65                      C. 125                      D. 150

**【答案】B。解析：**

观察可见，题干为间隔组合数列。奇数项分别为：1, 5, 25, 125，是一公比为 5 的等比数列；偶数项分别为：5, 25, 45，是一公差为 20 的等差数列。

根据这个规律，填入括号中的数是 65。

所以，正确选项是 B。

63. -1, 2, 0, 4, 4, 12, ( )

A. 4                      B. 8                      C. 12                      D. 20

**【答案】D。解析：**

观察可见，相邻三项，第一项 $\times$ 2+第二项=第三项。

根据这个规律，填入括号中的数是  $2\times 4+12=(20)$ 。

所以，正确选项是 D。

64. 2.5, 2, 3, 4, 10, 38, ( )

A. 92                      B. 134                      C. 256                      D. 378

**【答案】D。解析：**

观察可见，相邻三项，第一项 $\times$ 第二项-2=第三项。

根据这个规律，填入括号中的数是  $10\times 38-2=(378)$ 。

所以，正确选项是 D。

65. 请选一个恰当的数填在“?”处。



A. 9                      B. 18                      C. 28                      D. 32

**【答案】C。解析：**

观察可见，图形中左下角的数与右下角的数之差，与左上角、右上角两数的乘积，等于中间的数字。

根据这个规律，问号处的数是  $(5-1) \times 1 \times 7 = 28$ 。

所以，正确选项是 C。

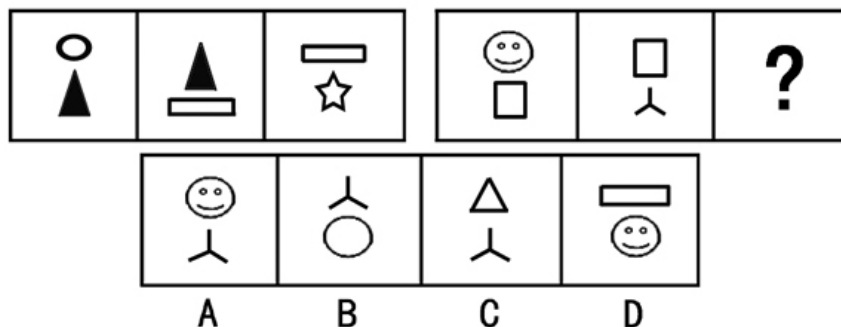
## 第四部分 判断推理

(共 35 题，参考时限 35 分钟)

### 一、图形推理。请按每道题的答题要求作答。

请开始答题：

66. 从所给的四个选项中，选择最合适的一个填入问号处，使之呈现一定的规律性。



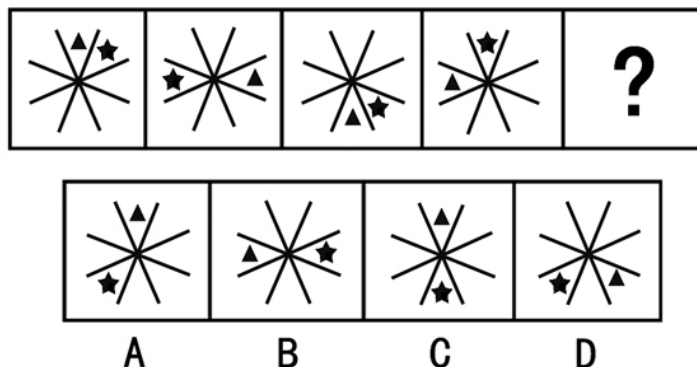
**【答案】B。解析：**

本题属于“3—3—4型”，考查图形中构图元素的组合变化。

观察可见，每个题干图形都是由上下两个元素构成的，并且在相邻的两个图形中，前一个图形的下面的元素与后一个图形的上面的元素相同。按照这个规律，只有 B 项符合要求。

所以，正确选项是 B。

67. 从所给的四个选项中，选择最合适的一个填入问号处，使之呈现一定的规律性。



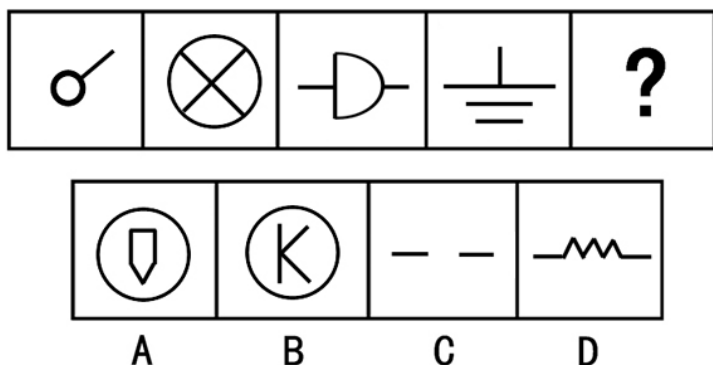
**【答案】A。解析：**

本题属于“3—3—4型”，考查图形中构图元素的旋转。

观察可见，题干图形中的黑色三角每次顺时针旋转两格，黑色五星每次逆时针旋转 3 格，可以得到下一个图形。按照这个规律，只有 A 项符合要求。

所以，正确选项是 A。

68. 从所给的四个选项中，选择最合适的一个填入问号处，使之呈现一定的规律性。



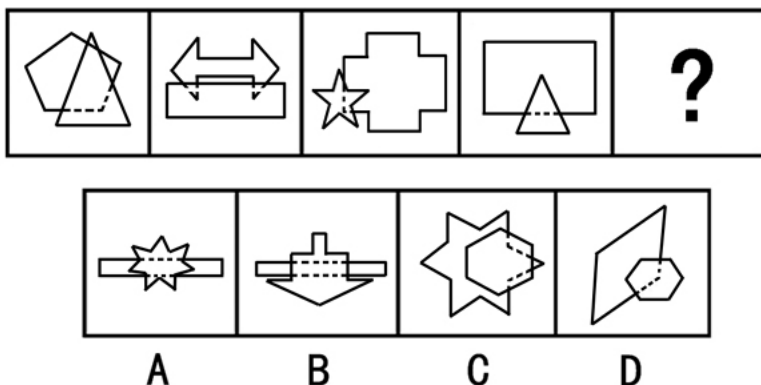
**【答案】A。解析：**

本题属于“3—3—4型”，考查图形中构图元素的数量变化。

观察可见，题干图形中的直线元素数量依次增加，分别有直线条数为：1，2，3，4。按照这个规律，问号处的图形中应该有5条直线。只有A项符合要求。

所以，正确选项是A。

69. 从所给的四个选项中，选择最合适的一个填入问号处，使之呈现一定的规律性。



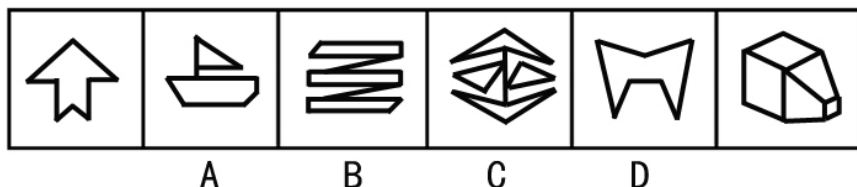
**【答案】C。解析：**

本题属于“3—3—4型”，考查图形中构图元素的组合变化。

观察可见，每个题干图形都是由两个图形叠加而成的，其中，上层图形的边数少，下层图形的边数多，边数多的图形被覆盖的边线部分用虚线表示。按照这个规律，只有C项符合要求。

所以，正确选项是C。

70. 下列四项去掉哪一项后，剩下的图形可以呈现出一定的规律性？



**【答案】D。解析：**

本题属于“3—3—4型”，考查图形中的封闭空间。

观察可见，从左到右，题干图形中依次有封闭空间个数为：1，2，3，4，1，5。去掉D项后，剩下的图形中的封闭空间个数是一个等差数列：1，2，3，4，5。

所以，正确选项是D。

**二、定义判断。每道题先给出一个定义，然后列出四种情况，要求你严格依据定义，从中选出一个最符合或最不符合该定义的答案。注意：假设这个定义是正确的，不容置疑的。**

71. 有形磨损和无形磨损是描述机器设备价值下降的概念。人才作为一种资源，也面临着有形磨损和无形磨损。人才有形磨损是指随着年龄和工作时间的增长，同人才的身体和心理状况有关的体力、进取性与合作性等因素水平的下降。人才的无形磨损是指由于人才的观念、知识、方法的相对落后造成人才使用价值的下降。

根据上述定义，下列属于人才无形磨损的是：

- A. 科室的陈力对新引进的遥感设备不感兴趣，也不积极学习
- B. 在同一个岗位做了 20 年，刘主任有时觉得烦躁、意志减退
- C. 大学毕业生赵刚工作方法简单，经常受到同事的批评
- D. 45 岁的王组长常觉得体力不支，发出“心有余而力不足”的感慨

**【答案】A。解析：**

本题是“属于型”。要求找出属于“人才无形磨损”的一项。

定义的关键信息是：（1）由于人才的观念、知识、方法的相对落后，（2）造成人才使用价值的下降。

A 项中的“陈力对新引进的遥感设备不感兴趣，也不积极学习”（隐含：人才的观念、知识、方法的相对落后），符合定义条件，属于“人才无形磨损”。

B 项中的“20 年”，C 项中的“工作方法简单”，D 项中的“体力不支”，都与人才的观念、知识、方法的相对落后无关，与定义条件不符，排除。

所以，正确选项是 A。

72. 结构性流动指的是因生产技术或者社会结构方面的变革引起的社会集团、社会阶层和人口性质与分布的大规模变化，往往不以个人意志为转移。

根据上述定义，下列哪项不属于结构性流动？

- A. 随着东部沿海经济的迅速发展，中西部人口大量东移
- B. 由于国内发生军事政变，某国公民近期大量涌入邻国
- C. 不满一线城市生活质量下降，人才纷纷向二三线城市回流
- D. 城市化表现为乡村人口向城市的转移以及城市的不断发展、完善

**【答案】C。解析：**

本题是“不属于型”。要求找出不属于“结构性流动”的一项。

定义的关键信息是：（1）因生产技术或者社会结构方面的变革引起的社会集团、社会阶层和人口性质与分布的大规模变化，（2）往往不以个人意志为转移。

C 项中的“不满一线城市生活质量下降，人才纷纷向二三线城市回流”（隐含：是以个人意志为转移），与定义条件（2）不符，不属于“结构性流动”。

所以，正确选项是 C。

73. 复种指数指的是一年内农作物总播种面积与耕地面积之比，一般用百分数表示。复种指数的高低受当地日照、土壤、水利、肥料、劳力和科学技术水平等条件的制约。日照条件好、无霜期长、水分充足、合理套种等是提高复种指数的基础。

根据上述定义，下列关于复种指数的叙述哪项是正确的？

- A. 我国由南向北，地区复种指数逐渐增高
- B. 复种指数和地区所处的经度有密切的关系
- C. 春季和秋季的复种指数要高于夏季和冬季



D. 较高的农业科技水平可使复种指数超过百分之百

**【答案】D。解析：**

本题是“属于型”。要求找出关于“复种指数”叙述正确的一项。

定义的关键信息是：（1）一年内农作物总播种面积与耕地面积之比，一般用百分数表示。（2）复种指数的高低受当地日照、土壤、水利、肥料、劳力和科学技术水平等条件的制约。（3）日照条件好、无霜期长、水分充足、合理套种等是提高复种指数的基础。

A 项中的“由南向北”，B 项中的“经度”，C 项中的“春季和秋季”，（隐含：未必满足“日照、土壤、水利、肥料、劳力和科学技术水平等条件”，因此，复种指数未必增高），与定义条件（2）不符，排除。

D 项中的“较高的农业科技水平”，符合定义条件（2），在较高的农业科技水平条件下，一年内农作物总播种面积与耕地面积之比可以超过百分之百，符合定义条件（1），属于“复种指数”。

所以，正确选项是 D。

74. 能力的补偿是指同一个体的不同能力之间或组织内部成员之间能力的相互替代或补偿作用，从而保持或维持活动的正常进行。其中辐射补偿是指优势能力有效地加强了各种能力之间的相互联系或带动其他能力同时提高的现象。放大补偿是指优势能力的高度发展，有效地弥补某些薄弱能力的现象。

根据上述定义，下列各项中应用了辐射补偿的是：

A. 甲国足球队 7 号球员奔跑速度快，盘带技术强，在他的带动下，本方多次突破对方防线，射门得分

B. 乙国篮球运动员在体能上存在不足，但是他们凭借“魔鬼训练”弥补了身体条件上的不足，创造了奥运会三连冠的佳绩

C. 丙国跳水队中一位小将技术全面，实力较强，但由于临场经验不足，有时会发挥失常。因此教练安排他参加团体比赛，第二个出场

D. 丁国乒乓球运动员的进攻实力是世界一流的，但是防守能力相对较弱，在多次世界大赛中他们依靠强大的进攻使对手疲于防守，从而取得胜利

**【答案】A。解析：**

本题是“属于型”。要求找出应用了“辐射补偿”的一项。

定义的关键信息是：（1）优势能力有效地加强了各种能力之间的相互联系，（2）或带动其他能力同时提高。

A 项中的“7 号球员奔跑速度快，盘带技术强，在他的带动下，本方多次突破对方防线，射门得分”（隐含：优势能力带动其他能力同时提高），符合定义条件（2），属于“辐射补偿”。

B 项中的“体能上存在不足”，C 项中的“临场经验不足”，D 项中的“防守能力相对较弱”（隐含：都不是优势能力），与定义条件不符，排除。

所以，正确选项是 A。

75. 短板理论是指木桶的盛水量是由组成木桶的木板中最短的一块决定的，这块短板即为这个木桶盛水量的“限制因素”。

根据上述定义，下列不符合短板理论的是：

A. 某单位员工工作积极性降低，单位遂任命一位新领导，提高了团队士气

B. 某家长注重孩子的智力培养，忽视其心理健康，使得孩子因为心理问题而迷失自我

C. 某企业注重对技术精英的培养，对一般员工的使用和开发不足，致使团队士气受挫

D. 某酒业集团投入巨资做广告，一度成为酒业的新秀，但终因产能不足，导致企业破产

**【答案】A。解析：**

本题是“不属于型”。要求找出不符合“短板理论”的一项。

定义的关键信息是：桶的盛水量是由组成木桶的木板中最短的一块决定的。

A 项中某单位的短板是“员工工作积极性降低”，而不是领导不行，单位却任命一位新领导（隐含：不是针对短板），与定义条件不符，不符合“短板理论”。

所以，正确选项是 A。

76. 替代效应是指当某种税的征收或税率变化影响相对价格或相对效益时，人们就选择另一种消费或活动来代替原先的消费或活动。

根据上述定义，下列不涉及替代效应的是：

- A. 我国加入 WTO 后，不少进口商品的税率降低，人们更多地选购这些商品
- B. 工资累进税率提高后，不少白领阶层选择用休息的方式来代替部分工作时间
- C. 1747 年英国曾征收窗户税，为了避免纳税，多数人纷纷将自家的窗户堵上
- D. 国家开始对工业锅炉烧用的原油征税以后，不少企业纷纷更新设备或改用其他原料

**【答案】C。解析：**

本题是“不属于型”。要求找出不涉及“替代效应”的一项。

定义的关键信息是：（1）当某种税的征收或税率变化影响相对价格或相对效益时，（2）人们就选择另一种消费或活动来代替原先的消费或活动。

C 项中的“为了避免纳税，多数人纷纷将自家的窗户堵上”（隐含：不是用其他东西替代窗户），与定义条件（2）不符，不涉及“替代效应”。

所以，正确选项是 C。

77. 片利共生是指生物界中两个物种之间的生态关系，一种生物会因这个关系而获得生存上利益，但是，另一种生物在这个关系中，并没有获得任何益处，但也没有获得害处，只是带动对方去获取利益。

根据上述定义，下列现象属于片利共生的是：

- A. 微生物寄生在反刍动物的胃内，同时还可以帮助反刍动物消化食物
- B. 鲫鱼的游泳能力较差，其背鳍演变成吸盘吸附在鲨鱼遨游四海，在鲨鱼捕获猎物时，鲫鱼就偷吃那些残存的食物
- C. 藻类植物生长在树獭的粗毛夹缝中，在雨季时，藻类繁盛，形成绿色的伪装，使树獭更易在树丛中生存，藻类则借助树獭作为衍生的工具
- D. 水母捕食海螺的幼虫，幼虫进入水母的体腔后不会被消化，反而获得食物及保护，幼虫长成离开水母体腔时，会带走一个水母繁殖体

**【答案】B。解析：**

本题是“属于型”。要求找出属于“片利共生”的一项。

定义的关键信息是：（1）生物界中两个物种之间的生态关系，（2）一种生物会因这个关系而获得生存上利益，（3）另一种生物在这个关系中，并没有获得任何益处，但也没有获得害处，只是带动对方去获取利益。

A 项中的“微生物寄生在反刍动物的胃内，同时还可以帮助反刍动物消化食物”（隐含：两个物种都获得利益），与定义条件（3）不符，排除。

B 项中的“鲫鱼在鲨鱼捕获猎物时，鲫鱼就偷吃那些残存的食物”（隐含：鲫鱼获得了利益，但鲨鱼并未获得害处），完全符合定义条件，属于“片利共生”。

C 项中的“使树獭更易在树丛中生存，藻类则借助树獭作为衍生的工具”（隐含：两个物种都获得利益），与定义条件（3）不符，排除。

D 项中的“海螺幼虫进入水母的体腔后不会被消化，反而获得食物及保护，幼虫长成离开水母体腔时，会带走一个水母繁殖体”（隐含：海螺获得了利益，但水母却获得了害处），与定义条件（3）不符，排除。



使对方获得利益时，并未降低或损害自我利益），与定义条件（4）不符，排除。

所以，正确选项是 B。

### 三、类比推理。每题先给出一组相关的词，要求你在四个选项中找出一组与之在逻辑关系上最为贴近、相似或匹配的词。

请开始答题：

81. 侦探：线索：结论

A. 医生：病情：诊断

B. 交警：违章：罚单

C. 裁缝：针线：衣服

D. 学生：复习：成绩

#### 【答案】A。解析：

题干所给词语之间的逻辑关系可以表述为：侦探通过了解线索得出结论。A 项的逻辑关系与此相同：医生根据了解病情作出诊断。

所以，正确选项是 A。

82. 锁具：保安员：安全

A. 日月：星辰：光明

B. 航母：导弹：战争

C. 手镯：项链：美观

D. 画框：纽扣：装饰

#### 【答案】C。解析：

题干所给词语之间的逻辑关系可以表述为：锁具和保安员都能起到安全的作用。C 项的逻辑关系与此相同：手镯和项链都能起到美观的作用。

所以，正确选项是 C。

83. 蓝天：飞行员：战斗机

A. 草原：牧民：牛羊

B. 刺绣：绣女：绣花针

C. 森林：伐木工：电锯

D. 大海：水兵：军舰

#### 【答案】D。解析：

题干所给词语之间的逻辑关系可以表述为：飞行员驾驶战斗机在蓝天上飞翔。D 项的逻辑关系与此相同：水兵驾驶军舰在大海上航行。

所以，正确选项是 D。

84. 理想 对于（ ），相当于（ ）对于 行动

A. 现实 作风

B. 动机 规划

C. 蓝图 希望

D. 奋斗 目标

#### 【答案】D。解析：

分析题干可知，理想是一个名词，行动是一个动词，二者的逻辑关系可以表述为：为了理想而行动。因此，填入前一个空格的可能是类似于“行动”的动词；填入后一个空格的可能是类似于“理想”的名词。

代入选项词组可见，D 项构成的逻辑关系是相同的：为了理想而奋斗，为了目标而行动。

所以，正确选项是 D。

85.（ ）对于 汽车，相当于（ ）对于 人体

A. 发动机 心脏

B. 车轮 关节

C. 汽油 肌肉

D. 方向盘 眼睛

#### 【答案】A。解析：

分析题干中的“汽车”和“人体”两个词语可知，二者都是指称事物的整体，因此，估计填入空格的词可能是属于事物整体的组成部分。

代入选项词组可见，A项构成的逻辑关系是相同的：发动机为汽车动力，心脏为人体提供动力。所以，正确选项是A。

86. 荷花：莲子

A. 绿豆：豆芽

B. 韭菜花：韭菜

C. 大蒜：蒜苗

D. 葵花：葵花子

**【答案】D。解析：**

题干所给词语之间的逻辑关系可以表述为：荷花的种子是莲子。D项的逻辑关系与此相同：葵花的种子是葵花子。

所以，正确选项是D。

87. 锦上添花：雪上加霜

A. 美不胜收：目不暇接

B. 耀武扬威：弃甲曳兵

C. 水滴石穿：磨棒成针

D. 雨后春笋：每况愈下

**【答案】B。解析：**

题干所给词语之间的逻辑关系可以表述为：“锦上添花”与“雪上加霜”是反义词。B项的逻辑关系与此相同：“耀武扬威”与“弃甲曳兵”是反义词。

所以，正确选项是B。

88. 大步流星：走路

A. 指手画脚：指导

B. 歌舞升平：跳舞

C. 奋笔疾书：书写

D. 闻鸡起舞：勤奋

**【答案】C。解析：**

题干所给词语之间的逻辑关系可以表述为：大步流星是一种走路的状态。C项的逻辑关系与此相同：奋笔疾书是书写的一种状态。

所以，正确选项是C。

89. 教师：学生

A. 丈夫：妻子

B. 出版商：读者

C. 商家：客户

D. 警察：罪犯

**【答案】A。解析：**

题干所给词语之间的逻辑关系可以表述为：教师与学生相互依存，二者同为学校的主体。A项的逻辑关系与此相同：丈夫和妻子相互依存，二者同为家庭的主体。

所以，正确选项是A。

90. 桥梁：河岸

A. 信件：邮局

B. 楼梯：楼层

C. 电话：沟通

D. 火车：终点

**【答案】B。解析：**

题干所给词语之间的逻辑关系可以表述为：桥梁连接河岸。B项的逻辑关系与此相同：楼梯连接楼层。

所以，正确选项是B。



**四、逻辑判断。每题给出一段陈述，这段陈述被假设是正确的，不容置疑的。要求你根据这段陈述，选择一个答案。注意：正确的答案应与所给的陈述相符合，不需要任何附加说明即可以从陈述中直接推出。**

91. 垃圾焚烧发电被列入国家发改委《可再生能源发展“十一五”规划》，有专家认为垃圾焚烧是一种安全环保的垃圾处理方式。

以下哪项如果为真，最能削弱上述专家观点？

- A. 焚烧垃圾产生的有机物无法自然分解
- B. 1 吨生活垃圾焚烧后可以发电 300 度至 500 度
- C. 1 吨生活垃圾焚烧后残留物只有原先的 10% 至 15%
- D. 在日本，70% 的生活垃圾被回收利用而不是被焚烧

**【答案】A。解析：**

本题属于“削弱型”。

专家的观点是：垃圾焚烧是一种安全环保的垃圾处理方式。题目要求考生做的，就是从四个备选项中找出一个“唱反调”的选项来削弱专家的观点。怎样才能削弱呢？只要指出“垃圾焚烧不是一种安全环保的垃圾处理方式”就可以了。

A 项说“焚烧垃圾产生的有机物无法自然分解”（隐含：垃圾焚烧并不环保）。如果 A 项为真，就直接推翻了专家的观点。

所以，正确选项是 A。

92. 在城镇化过程中，当城镇化率超过 50% 以后，城镇化减速的现象将逐渐出现。阻止城镇化减速的一个必备的战略思想是加快农民工市民化进程，加快这一进程的一个必要举措是建设农民工信息系统和信用体系。由此可以推出：

- A. 如果没能阻止城镇化减速，也就没有加快农民工市民化
- B. 如果加快农民工市民化进程，就可以阻止城镇化减速
- C. 如果不建设农民工信息系统和信用体系，就不能阻止城镇化减速
- D. 如果建设农民工信息系统和信用体系，就可以推进农民工市民化进程

**【答案】C。解析：**

本题属于“逻辑推理型”。

题干条件“阻止城镇化减速的一个必备的战略思想是加快农民工市民化进程”可以转化为必要条件假言命题（1）：只有加快农民工市民化进程，才能阻止城镇化减速。

题干条件“加快这一进程的一个必要举措是建设农民工信息系统和信用体系”可以转化为必要条件假言命题（2）：只有建设农民工信息系统和信用体系，才能加快农民工市民化进程。

以命题（2）（1）为前提，根据必要条件假言连锁推理的“否定前件式”可以推知 C 项：如果不建设农民工信息系统和信用体系，就不能阻止城镇化减速。

所以，正确选项是 C。

93. 英国剑桥大学专家称，早期人类的大脑比现代人类更大，而且现代人类比早期人类身材矮小 10%。这项研究颠覆了此前的理论——现代人类伴随着进化变得更高、更强壮。科学家称，这种人类进化衰减性出现在过去一万年左右，很可能是由于农业的出现导致的，农业耕作出现之后，人类受限于食物种类的减少以及疾病的蔓延，所以出现了进化衰减的现象。

以下哪项如果为真，最不能质疑研究人员的假设？

- A. 据研究，人类大规模农业耕作出现在 5000 年前
- B. 一万年以前，居住在非洲的人身材和现代人类差不多

- C. 随着农业水平的提高, 人类的食物种类远多于一万年前
- D. 早期人类患病没有办法医治, 身残体弱者在进化中均遭到淘汰

**【答案】D。解析:**

本题属于“最不能削弱型”。

研究人员的假设是: 人类进化衰减性出现在过去一万年左右, 很可能是由于农业的出现导致的, 农业耕作出现之后, 人类受限于食物种类的减少以及疾病的蔓延, 所以出现了进化衰减的现象。要求找出“最不能削弱”这个观点的一项。所谓“最不能削弱”有两种可能, 一种是支持, 一种是不相干。

A 项中的“人类大规模农业耕作出现在 5000 年前”, (隐含: 与题干“人类进化衰减性出现在过去一万年左右, 很可能是由于农业的出现导致的”说法不符), 构成削弱, 排除。

B 项中的“一万年前, 居住在非洲的人身材和现代人类差不多”(隐含: 人类进化并不存在衰减性), 构成削弱, 排除。

C 项中的“随着农业水平的提高, 人类的食物种类远多于一万年前”, (隐含: 质疑人类受限于食物种类的减少, 所以出现了进化衰减的现象), 削弱了题干的结论, 排除。

D 项中的“早期人类患病没有办法医治”(隐含: 与“疾病的蔓延”说法无关), 属于无关项, 不构成对题干假设的削弱。

所以, 正确选项是 D。

94. 在人事科科长人选问题上, 某局决定由单位全体工作人员投票产生, 得票前三名作为候选人。每人只需在本局职工名单上打勾即可。计票组发现, 刚毕业的张浩没有打任何人的勾; 凡是对赵杰打勾的人王明对这些人也都打了勾; 没有得全票的人李紫露都打了勾。

由此可以推出:

- A. 王明与李紫露相互没打勾
- B. 王明与李紫露相互打了勾
- C. 王明选了李紫露, 但是李紫露没选王明
- D. 王明没选李紫露, 但是李紫露选了王明

**【答案】B。解析:**

本题属于“推断文意型”。

根据“刚毕业的张浩没有打任何人的勾”可知(1): 所有人没有得全票。

根据(1), 再结合“没有得全票的人李紫露都打了勾”可知(2): 李紫露给所有人都打了勾(隐含: 李紫露给赵杰、王明打了勾)。

根据(2), 再结合“凡是对赵杰打勾的人王明对这些人也都打了勾”可知(3): 王明给李紫露打了勾。

综合(2)(3)可知: 王明与李紫露相互打了勾。

所以, 正确选项是 B。

95. 在某次调查中, 有高达 2/3 的受访者认为目前影响安全感的最重要的因素是收入高低。分析不同收入人群的安全感, 发现月收入在 3000~6000 元的人群, 安全感要明显低于有收入 6000~8000 元的人群。因此, 收入越低, 安全感越低。

以下哪项如果为真, 不能削弱上述观点?

- A. 收入在 3000~6000 元的人群生活成本比其他群体更高
- B. 很多人认为收入稳定比收入多更易给人安全感
- C. 收入在 1500~3000 元的人群更有安全感
- D. 收入不是影响安全感的唯一因素, 食品、婚姻等都对安全感有同等重要的作用

**【答案】A。解析:**

本题属于“最不能削弱型”。

题干的观点是: 收入越低, 安全感越低。论据是: 月收入在 3000~6000 元的人群, 安全感要明显

低于有收入 6000~8000 元的人群。要求找出“最不能削弱”这个观点的一项。所谓“最不能削弱”有两种可能，一种是支持，一种是不相干。

A 项中的“收入在 3000~6000 元的人群生活成本比其他群体更高”（隐含：生活成本高，则容易导致感到不安全），不仅不削弱，而且支持了题干的观点。

所以，正确选项是 A。

96. 无论是从全球范围，还是从我国的实际情况来看，人类文明都发展到了这样一个阶段，即保护生态环境，确保人与自然的和谐，是经济能够得到可持续发展的必要前提，也是人类文明得以延续的保证。

由此可以推出：

- A. 如果经济不可持续发展，就是没有搞好环境保护
- B. 只有搞好环境保护，才能实现经济的可持续发展
- C. 即使没搞好环境保护，也能实现经济可持续发展
- D. 只有实现了经济的可持续发展，环境保护才能搞得好

**【答案】B。解析：**

本题属于“逻辑推理型”。

题干条件“保护生态环境，确保人与自然的和谐，是经济能够得到可持续发展的必要前提，也是人类文明得以延续的保证”可以转化为必要条件假言命题：只有保护生态环境，确保人与自然的和谐，才能使经济得到可持续发展。这与 B 选项的说法是一致的。

所以，正确选项是 B。

97. 某研究机构耗时 9 年，追踪调查 63 万名健康人士的饮食习惯，包括肉的消费量、肉类烹调方式以及肉类煮熟程度等，研究小组按食用烤肉的量的多少把研究对象分为 5 组。截至研究结束时，共有 208 人患上胰腺癌，他们大多集中在烤肉食用量最高的两组。因此，研究者得出结论：大量食用烤肉更容易患胰腺癌。

以下哪项如果为真，最能削弱上述结论？

- A. 研究表明，父母若有一人患胰腺癌，子女患该病的几率将提高 30%
- B. 研究显示，长期食用煮熟肉类和长期食用烤肉的人群相比，患胰腺癌的比例相当
- C. 调查数据表明，大量食用烤肉的人有 98%都喜欢一边喝啤酒一边吃烤肉，并且常常熬夜
- D. 该研究中偏好半熟烤肉的罹患胰腺癌的比例比偏好全熟烤肉的人高约 60%

**【答案】C。解析：**

本题属于“削弱型”。

专家的观点是：大量食用烤肉更容易患胰腺癌。题目要求考生做的，就是从四个备选项中找出一个“唱反调”的选项来削弱题干的结论。怎样才能削弱呢？只要指出“大量食用烤肉并非更容易患胰腺癌”就可以了。

C 项说“大量食用烤肉的人有 98%都喜欢一边喝啤酒一边吃烤肉，并且常常熬夜”（隐含：患胰腺癌并不一定是因为吃烤肉多，可能是因为边吃肉边喝酒，也可能是因为常常熬夜。）如果 C 项为真，就严重削弱了题干的结论。

所以，正确选项是 C。

98. 小女孩喜欢洋娃娃，小男孩更爱玩具汽车，这是天生本能反应还是后天环境影响下的选择？在一项实验中，研究人员观察了 3 至 8 个月大的婴儿对玩具的喜好，发现女婴盯看粉色洋娃娃看的时间明显长于玩具卡车，而男婴关注蓝色卡车的时间更多。因此，研究者认为婴儿对玩具的不同偏好或许是由性别基因决定的。

上述结论隐含的假设是什么？

- A. 婴儿对新鲜事物关注的时间较长
- B. 婴儿对玩具的喜好不受玩具颜色的影响
- C. 玩具卡车和洋娃娃摆放位置的不同会对婴儿的注意力产生影响
- D. 大多数婴儿更容易注意到和自己衣服色调相同或相近的玩具

**【答案】B。解析：**

本题属于“搭桥型”。

题干论证的结论是：婴儿对玩具的不同偏好是由性别基因决定的。论据是：女婴盯看粉色洋娃娃看的时间明显长于玩具卡车，而男婴关注蓝色卡车的时间更多。

仅仅因为“女婴盯看粉色洋娃娃看的时间明显长于玩具卡车，而男婴关注蓝色卡车的时间更多”，就能够得出“婴儿对玩具的不同偏好是由性别基因决定”的结论吗？从题干现有的理由看，前提与结论之间是缺乏必然联系的。考生的任务就是在它们之间“搭桥”。

根据“加入否定法”可知，选项B是题干推出结论不可缺少的“桥”。否则，如果“婴儿对玩具的喜好不受玩具颜色的影响”，那么，玩具颜色与性别的关联就是不必然的，题干的论证也就不成立了。

所以，正确选项是B。

99. 实验发现，将小鼠突然置身于巨大声响（恐惧）中，小鼠大脑杏仁体内特定细胞更活跃，脑内一种特殊“恐惧蛋白”会增加，这种“恐惧蛋白”含量在一定时间达到峰值之后自动消失。进一步实验发现，“恐惧蛋白”的消失归功于一种名为“GluA1”的物质。缺少GluA1的小鼠会保持与巨大声响相关的恐惧记忆，而其他小鼠则不会。因此实验得出结论，研制GluA1类药物可以帮助人们删除痛苦或恐惧等不好的记忆，只留下对快乐时光的记忆。

下列哪项如果为真，不能质疑上述结论？

- A. 小鼠跟人的神经系统差距较大，小鼠实验结果很难应用到人身上
- B. 杏仁体负责掌管焦虑、急躁、惊吓及恐惧等负面情绪的产生和调控
- C. GluA1删除了恐怖记忆，也删除了自我保护的记忆
- D. 长期服用GluA1药物可能导致健忘症

**【答案】B。解析：**

本题属于“最不能削弱型”。

题干的观点是：研制GluA1类药物可以帮助人们删除痛苦或恐惧等不好的记忆，只留下对快乐时光的记忆。要求找出“最不能削弱”这个观点的一项。所谓“最不能削弱”有两种可能，一种是支持，一种是不相干。

A项中的“小鼠实验结果很难应用到人身上”（隐含：人和小鼠不能类比），削弱了题干的结论，排除。

B项中的“杏仁体……”，与GluA1无关，不构成对题干结论的削弱。

C项中的“GluA1删除了恐怖记忆，也删除了自我保护的记忆”，D项中的“GluA1药物可能导致健忘症”（隐含：GluA1类药物不仅能删除不好的记忆，也能删除快乐的记忆），削弱了题干的结论，排除。

所以，正确选项是B。

100. 吴旭、郑洁和沈瑶三人打算到南京故地重游，三人选择了飞机、火车、汽车和轮船之一出行，但各人出行方式均不相同。如果郑洁选择汽车出行，则吴旭不选择轮船；如果吴旭选择火车出行，则沈瑶不选择飞机；沈瑶选择飞机、火车之一出行。

根据以上陈述可知，下列哪项必定是错误的？

- A. 沈瑶选择飞机，而郑洁选择汽车
- B. 沈瑶选择飞机，而郑洁选择轮船
- C. 沈瑶选择火车，而郑洁选择汽车
- D. 沈瑶选择火车，而郑洁选择飞机

**【答案】A。解析：**

本题属于“逻辑推理型”。整理题干所给条件为：

- (1) 如果郑洁选择汽车出行，则吴旭不选择轮船。
- (2) 如果吴旭选择火车出行，则沈瑶不选择飞机。
- (3) 沈瑶选择飞机、火车之一出行。

代入A项，沈瑶选择飞机，结合(2)，根据充分条件假言推理的“否定后件式”可以推出：吴旭不选择火车出行。郑洁选择汽车，结合(1)，根据充分条件假言推理的“肯定前件式”可以推出：吴旭不选择轮船。

再根据题干条件“各人出行方式均不相同”可知，沈瑶选择飞机，而郑洁选择汽车，则吴旭不选择飞机，也不选择汽车。这样，就导致了吴旭四种出行方式都不选的情况，与题干要求“三人选择了飞机、火车、汽车和轮船之一出行”相矛盾。因此，A项必定是错误的。

所以，正确选项是A。

## 第五部分 资料分析

(共20题，参考时限25分钟)

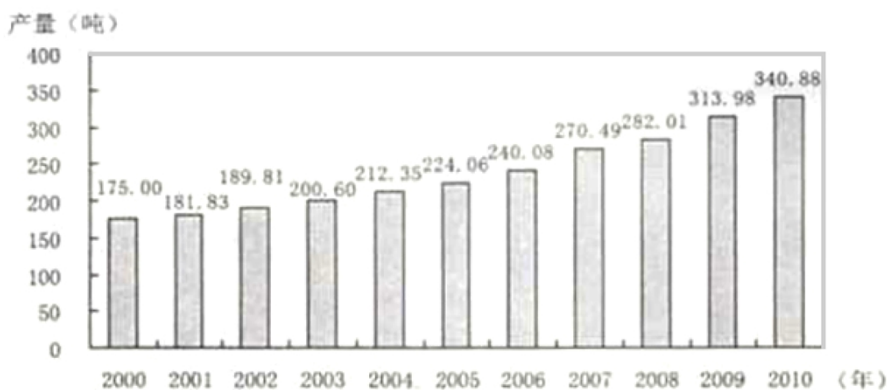
所给出的图、表、文字或综合性资料均有若干个问题要你回答。你应根据资料提供的信息进行分析、比较、计算和判断处理。

请开始答题：

### 一、根据所给资料，回答101~105题。

2010年，我国黄金产量为340.88吨，同比增长8.57%。其中矿产金280.04吨，同比增长7.27%；有色副产金60.84吨，同比增长14.95%。

2010年，我国黄金企业实现工业总产值2292.88亿元，同比增长66.72%；实现利润248.74亿元，同比增长78.19%。



2000~2010年我国黄金产量状况图

101. 2010年，我国矿产金产量的比重约为：

- A. 80%
- B. 82%
- C. 84%
- D. 86%

**【答案】B。解析：**

第一步，明确问题。求“2010年，我国矿产金产量的比重”。

第二步，定位数据。文字资料第一段：2010年，我国黄金产量为340.88吨，……其中矿产金280.04吨。

第三步，估算。

$$280.04 \div 340.88 \approx 82\%$$

所以，正确选项是B。



102. 上图中我国的黄金产量超过 200 吨的年份有几个？

- A. 7                      B. 8                      C. 9                      D. 10

**【答案】B。解析：**

第一步，明确问题。求“我国的黄金产量超过 200 吨的年份有几个”。

第二步，定位数据。柱状图资料。

第三步，估算。

直接观察柱状图数据可知，我国的黄金产量超过 200 吨的年份有 8 个。

所以，正确选项是 B。

103. 2010 年，我国黄金企业工业总产值同比增长了约为多少亿元？

- A. 918                      B. 920                      C. 922                      D. 924

**【答案】A。解析：**

第一步，明确问题。求“2010 年，我国黄金企业工业总产值同比增长了约多少亿元”。

第二步，定位数据。文字资料第二段：2010 年，我国黄金企业实现工业总产值 2292.88 亿元，同比增长 66.72%。

第三步，估算。

2009 年我国黄金企业工业总产值为： $2292.88 \div (1+66.72\%)$

则 2010 年，我国黄金企业工业总产值同比增长金额为： $2292.88 \div (1+66.72\%) \times 66.72\% \approx 918$ 。

所以，正确选项是 A。

104. 能够从上述资料中推出的是：

- A. 2009 年我国黄金企业利润约为 170 亿元      B. 2010 年我国黄金产量是 2000 年的 2 倍多  
C. 2010 年我国黄金产量首次突破 300 吨      D. 2000 年以来我国黄金产量每年均有所增长

**【答案】D。解析：**

第一步，明确问题。求“能够从上述资料中推出”的一项。

第二步，定位数据。本题涉及数据众多，请小心提取。

第三步，估算。

A 项，2010 年，我国黄金企业……实现利润 248.74 亿元，同比增长 78.19%。则 2009 年我国黄金企业利润为： $248.74 \div (1+78.19\%) \approx 140$  亿元，而不是 170 亿元，不能推出，排除。

B 项，根据柱状图数据，2010 年我国黄金产量是 2000 年的倍数为： $340.88 \div 175 < 2$  倍，而不是 2 倍多，不能推出，排除。

C 项，直接读取柱状图数据可知，2010 年我国黄金产量并不是首次突破 300 吨，2009 年已经突破，不能推出，排除。

D 项，直接读取柱状图数据可知，2000 年以来我国黄金产量的确每年均有所增长，能够从上述资料中推出。

所以，正确选项是 D。

105. 以下哪一年黄金产量同比增速最快？

- A. 2007 年                      B. 2008 年                      C. 2009 年                      D. 2010 年

**【答案】A。解析：**

第一步，明确问题。求“哪一年黄金产量同比增速最快”。

第二步，定位数据。柱状图相关数据。

第三步，估算。

不需要精确计算，直接观察柱状图可知，2007 年的黄金产量同比增速最快。

所以，正确选项是 A。

## 二、根据所给资料，回答 106~110 题。

某市 2009 年旅游部门主要财务情况

单位：万元

指标	宾馆、酒店	旅行社	景点	其他旅游企业
营业收入：	722581	659313	239717	6342
营业成本	213312	602885	82863	5294
营业费用	256849	27913	40335	505
营业税金及附加	37826	2780	14805	98
经营利润：	214594	25735	101714	445
管理费用	184995	18426	64509	8715
财务费用	22382	345	13299	3663
营业利润	7217	6964	23906	-11933
投资收益	1199	1020	1079	101861
营业外收支差	2624	188	-1171	2
利润总额	11040	8173	23814	89930
年末固定资产原值	2366343	18930	1229681	5147
年末固定资产净值	1585377	10251	860228	5109
年末职工人数（人）	53881	6212	15812	198

注：利润总额= 营业利润+ 投资收益+ 营业外收支差

106. 下列关于 2009 年该市旅游部门财务情况的描述，与资料相符的是：

- A. 营业成本占营业收入比重最高的是旅行社
- B. 景点的利润总额不到宾馆、酒店的 2 倍
- C. 宾馆、酒店的投资收益在各旅游部门中最高
- D. 景点的年末职工人数占所有旅游部门年末职工人数的一半以上

**【答案】A. 解析：**

第一步，明确问题。求“关于 2009 年该市旅游部门财务情况的描述”与资料相符的一项。

第二步，定位数据。本题涉及数据众多，请小心提取。

第三步，估算。

A 项，根据“营业成本”和“营业收入”两行的数据可知：

“宾馆、酒店”营业成本占营业收入比重为： $213312 \div 722581$

“旅行社”营业成本占营业收入比重为： $600885 \div 659313$

“景点”营业成本占营业收入比重为： $82863 \div 230717$

“其他旅游企业”营业成本占营业收入比重为： $5294 \div 6342$

不需要精确计算，直接估算比较可知：营业成本占营业收入最高的是旅行社，A 项正确。

确定了 A 项是正确的，B、C、D 三项可以直接排除。

所以，正确选项是 A。

107. 2009 年，该市旅行社营业成本占所有旅游部门营业总成本的比重约为：

- A. 65%
- B. 66%
- C. 67%
- D. 68%

**【答案】C. 解析：**

第一步，明确问题。求“2009 年，该市旅行社营业成本占所有旅游部门营业总成本的比重”。

第二步，定位数据。表格第三行中的数据。

第三步，估算。

由表格第三行可知2009年该市旅行社营业成本为602885万元所有旅游部门营业总成本为213312+602885+82863+5294=904354万元。

则该市旅行社营业成本占所有旅游部门营业总成本的比重为： $602885 \div 904354 \approx 67\%$ 。

所以，正确选项是C。

108. 2009年，该市景点年末固定资产净值约是旅行社的多少倍？

- A. 82                      B. 84                      C. 86                      D. 88

**【答案】B。解析：**

第一步，明确问题。求“2009年，该市景点年末固定资产净值约是旅行社的多少倍”。

第二步，定位数据。表格“年末固定资产净值”行中的数据。

第三步，估算。

由表格“年末固定资产净值”行可知，2009年该市景点年末固定资产净值为860225万元，旅行社年末固定资产净值为10251万元。

则2009年该市景点年末固定资产净值约是旅行社的倍数为： $860225 \div 10251 \approx 84$ 倍。

所以，正确选项是B。

109. 以下哪一类旅游部门2009年的经营利润占当年营业收入的比重最高？

- A. 宾馆、酒店              B. 景点                      C. 旅行社                      D. 其他旅游企业

**【答案】B。解析：**

第一步，明确问题。求“哪一类旅游部门2009年的经营利润占当年营业收入的比重最高”。

第二步，定位数据。表格“营业收入”、“经营利润”两行中的数据。

第三步，估算。

宾馆、酒店2009年的经营利润占当年营业收入的比重为： $214594 \div 722581$

景点2009年的经营利润占当年营业收入的比重为： $101714 \div 239717$

旅行社2009年的经营利润占当年营业收入的比重为： $25735 \div 659313$

其他旅游企业2009年的经营利润占当年营业收入的比重为： $445 \div 6342$

不需要精确计算，直接估算比较可知：2009年的经营利润占当年营业收入的比重最高的是“景点”。

所以，正确选项是B。

110. 2009年，该市旅游部门经营利润中管理费用约是财务费用的多少倍？

- A. 4                          B. 5                          C. 6                          D. 7

**【答案】D。解析：**

第一步，明确问题。求“2009年该市旅游部门经营利润中管理费用约是财务费用的多少倍”。

第二步，定位数据。“管理费用”、“财务费用”两行中的数据。

第三步，估算。

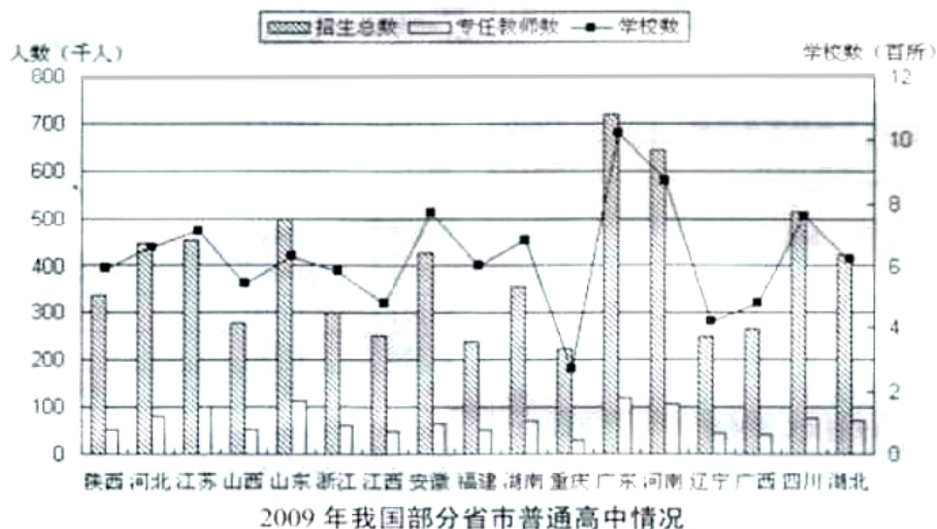
2009年该市旅游部门经营利润中管理费用为： $184995+18426+64509+8715 \approx 280000$ 。

2009年该市旅游部门经营利润中财务费用为： $22382+345+13299+3663 \approx 40000$ 。

$280000 \div 40000 \approx 7$ 。

所以，正确选项是D。

**三、根据所给资料，回答111~115题。**



111. 下列关于2009年各省市普通高中招生数与专任教师数之比的描述, 正确的是:

- A. 辽宁多于广西
- B. 湖南多于安徽
- C. 浙江多于陕西
- D. 河南多于山东

**【答案】D. 解析:**

第一步, 明确问题。求“关于2009年各省市普通高中招生数与专任教师数之比的描述”正确的一项。

第二步, 定位数据。本题涉及数据众多, 请小心提取。

第三步, 估算。

不需要精确计算, 直接估算比较可知: 2009年普通高中招生数与专任教师数之比, 辽宁少于广西, 湖南少于安徽, 浙江少于山西, 河南多于山东。

所以, 正确选项是D。

112. 2009年普通高中专任老师数最多的三个地区为:

- A. 广东、河南和安徽
- B. 广东、河南和四川
- C. 广东、四川和山东
- D. 广东、山东和河南

**【答案】D. 解析:**

第一步, 明确问题。求“2009年普通高中专任老师数最多的三个地区”。

第二步, 定位数据。本题涉及数据众多, 请小心提取。

第三步, 估算。

不需要精确计算, 直接读取数据比较可知: 2009年普通高中专任教师数最多的三个地区分别是广东、山东和河南。

所以, 正确选项是D。

113. 2009年浙江普通高中招生人数约是山东的:

- A. 40%
- B. 50%
- C. 60%
- D. 90%

**【答案】C. 解析:**

第一步, 明确问题。求“2009年浙江普通高中招生人数约是山东的”百分比。

第二步, 定位数据。2009年普通高中招生人数, 浙江300千人, 山东500千人。

第三步, 估算。

2009年浙江普通高中招生人数约是山东的  $300 \div 500 = 60\%$ 。

所以, 正确选项是C。

114. 下列关于 2009 年各省市校均招生人数的描述, 正确的是:

- A. 广东多于山西
- B. 辽宁多于重庆
- C. 江苏多于河北
- D. 江西多于四川

**【答案】A。解析:**

第一步, 明确问题。求“关于 2009 年各省市校均招生人数的描述”正确的一项。

第二步, 定位数据。本题涉及数据众多, 请小心提取。

第三步, 估算。

A 项, 广东学校数为 110 所, 招生人数为 710 人; 山西学校数为 50 所, 招生人数为 280 人。

不需要精确计算, 直接估算比较可知,  $710 \div 110$  明显大于  $280 \div 50$ 。A 项正确。

确定了 A 项是正确的, B、C、D 三项可以直接排除。

所以, 正确选项是 A。

115. 下列关于 2009 年图中各省市普通高中情况的描述, 与资料相符的是:

- A. 普通高中数量超过 800 所的省份有 4 个
- B. 辽宁的校均专任教师数少于广西
- C. 招生总数和学校数最多的省份是同一个
- D. 普通高中招生总数超过 50 万人的都是沿海省份

**【答案】C。解析:**

第一步, 明确问题。求“关于 2009 年图中各省市普通高中情况的描述”与资料相符的一项。

第二步, 定位数据。本题涉及数据众多, 请小心提取。

第三步, 估算。

A 项, 普通高中数量超过 800 所的省份只有 2 个: 广东、河南。A 项错误, 排除。

B 项, 辽宁校均专任教师数为:  $50000 \div 400 = 125$  人, 广西校均专任教师数为:  $50000 \div 500 = 100$  人。  
辽宁的校均专任教师数多于广西, B 项错误, 排除。

C 项, 招生总数和学校数最多的省份都是广东, C 项正确。

所以, 正确选项是 C。

#### 四、根据所给资料, 回答 116~120 题。

2010 年全国完成税收总收入 73202 亿元, 同比增收 13681 亿元, 比上年同期增长加快了 13.2 个百分点。

2010 年增值税收入 21091.95 亿元, 同比增长 14.1%, 比上年同期增速加快了 11.4 个百分点。2010 年成品油、原油和煤炭行业增值税同比分别增长了 73.2%、39.7%和 29.7%。

2010 年消费税收入 6017.54 亿元, 同比增长 27.5%, 比上年同期增速回落了 57.9 个百分点。分产品看, 国内消费税的增收主要集中在汽车、卷烟和贵重首饰三类产品, 同比分别增长 55.8%、32%和 29%。

2010 年营业税收入 11157.64 亿元, 同比增长 23.8%, 比上年同期增速加快了 5.6 个百分点。分行业看, 保险业、房地产和建筑业营业税收入快速增长, 同比分别增长 37.8%、32.4%和 30.7%。

2010 年企业所得税收入 12842.79 亿元, 同比增长 11.3%, 比上年同期增速加快了 8.1 个百分点。

全年工业企业缴纳所得税 5168.85 亿元, 同比增长 40.4%, 房地产企业缴纳所得税同比增长 50%。

2010 年个人所得税收入 4837.17 亿元, 同比增长 22.5%。

116. 2010 年全国各项税收收入由高到低排序正确的是:

- A. 消费税、营业税、企业所得税
- B. 营业税、个人所得税、企业所得税
- C. 增值税、营业税、消费税
- D. 企业所得税、个人所得税、消费税



**【答案】C。解析：**

第一步，明确问题。求“2010年全国各项税收收入”由高到低排序正确的一项。

第二步，定位数据。本题涉及数据众多，请小心提取。

第三步，估算。

2010年增值税收入21091.95亿元，消费税收入6017.54亿元，营业税收入11157.64亿元，企业所得税收入12842.79亿元，个人所得税收入4837.17亿元。

由高到低排序为：增值税、企业所得税、营业税、消费税、个人所得税。C项正确。

所以，正确选项是C。

117. 2010年全国增值税比2009年增长了约多少亿元？

- A. 2610                  B. 2608                  C. 2606                  D. 2604

**【答案】C。解析：**

第一步，明确问题。求“2010年全国增值税比2009年增长了约多少亿元”。

第二步，定位数据。资料第二段：2010年增值税收入21091.95亿元，同比增长14.1%。

第三步，估算。

本题四个选项数值相差很小，必须准确计算。

2010年全国增值税比2009年增长为： $21091.95 - ((21091.95 \div (1 + 14.1\%))) = 2606$ 亿元。

所以，正确选项是C。

118. 2009年全国税收总收入同比增速约为：

- A. 10%                  B. 8%                  C. 21%                  D. 12%

**【答案】A。解析：**

第一步，明确问题。求“2009年全国税收总收入同比增速”。

第二步，定位数据。资料第一段：2010年全国完成税收总收入73202亿元，同比增收13681亿元，比上年同期增长加快了13.2个百分点。

第三步，估算。

2009年全国税收总收入同比增速为： $(13681 \div (73202 - 13681) \times 100\%) - 13.2\% \approx 23\% - 13.2\% \approx 10\%$ 。

所以，正确选项是A。

119. 2010年增值税与消费税收入合计占全国税收总收入的比重约为：

- A. 37%                  B. 33%                  C. 21%                  D. 12%

**【答案】A。解析：**

第一步，明确问题。求“2010年增值税与消费税收入合计占全国税收总收入的比重”。

第二步，定位数据。资料第二段：2010年增值税收入21091.95亿元；资料第三段：2010年消费税收入6017.54亿元；资料第一段：2010年全国完成税收总收入73202亿元。

第三步，估算。

2010年增值税与消费税收入合计占全国税收总收入的比重为： $(21091.95 + 6017.54) \div 73202 \approx 37\%$ 。

所以，正确选项是A。

120. 能够从资料中推出的是：

- A. 2009年同比增速最快的税种是营业税  
B. 2010年消费税收入同比增速快于煤炭行业增值税收入同比增速  
C. 2010年企业所得税收入同比增速快于工业企业缴纳所得税同比增速

D. 2010 年个人所得税收入占税收总收入的比重约为 6.6%

**【答案】D。解析：**

第一步，明确问题。求“能够从资料中推出的”一项。

第二步，定位数据。本题涉及数据众多，请小心提取。

第三步，估算。

A 项，资料未涉及个人所得税的同比变化，A 项无法从资料中推出，排除。

B 项，2010 年消费税收入同比增速 27.5%，慢于煤炭行业增值税收入同比增速 29.7%，B 项无法从资料中推出，排除。

C 项，2010 年企业所得税收入同比增速 11.3%，慢于工业企业缴纳所得税同比增速 40.4%，C 项无法从资料中推出，排除。

D 项，2010 年个人所得税收入占税收总收入的比重为： $4837.17 \div 73202 \approx 6.6\%$ 。因此 D 项是正确的。所以，正确选项是 D。

**全部测验到此结束！**

请扫描QQ二维码，备注“公务员考生”加QQ  
好友，获取曹长远老师精解历年公务员考试申论、  
行测、面试真题完整解析资料。

精品资料，尽在掌握！



扫描二维码，加QQ好友