

2006年5月14日山东省公务员考试

## 《行政职业能力测验》真题

### 说明

一、此项测验分为五个部分，共100题，总时限120分钟，各部分不单独计时，但都给出参考时限，供答题时合理分配时间。

二、此项测验科目代码为“1”。请按照要求在答题卡上填写好自己的姓名，涂写好准考证号、科目代码。

三、必须在答题卡上答题：在题本上答题，一律无效。

严禁折叠答题卡！

### 第一部分 数量关系

(共15题，参考时限15分钟)

一、数字推理。共5题。每题给出一个数列，但其中缺少一项，要求你仔细观察数列的排列规律，从四个选项中选择最合适的一项来填补空缺项，使之符合原数列的排列规律。

1.  $1/59, 3/70, 5/92, 7/136, ( )$

- A.  $9/272$
- B.  $1/224$
- C.  $9/224$
- D.  $11/224$

2.  $4, 3/2, 20/27, 7/16, 36/125, ( )$

- A.  $39/144$
- B.  $11/54$
- C.  $68/196$
- D. 7

3.  $-\sqrt{5}, 5, ( ), 25, -25\sqrt{5}$

- A.  $-5\sqrt{5}$
- B.  $5\sqrt{5}$
- C.  $-15\sqrt{5}$
- D.  $15\sqrt{5}$

4.  $100, 20, 2, 2/15, 1/150, ( )$

- A.  $1/3750$
- B.  $1/225$
- C. 3
- D.  $1/500$

5.  $1, 4, 13, 40, 121, ( )$

- A. 1093
- B. 364

- C. 927
- D. 264

**二、数学运算。共 10 题。在这部分试题中，每题或呈现一道算术式子，或是表述数字关系的一段文字，要求你迅速、准确地计算出答案。**

6. 一辆汽车在笔直的公路上行驶，两次拐弯后，仍在原来方向上平行前进，那么，这两次拐弯的角度可能是：

- A. 第一次右拐 50 度，第二次左拐 130 度
- B. 第一次右拐 50 度，第二次左拐 50 度
- C. 第一次左拐 50 度，第二次左拐 50 度
- D. 第一次右拐 50 度，第二次右拐 50 度

7. 一个三位数，百位数比十位上的数大 4，个位上的数比十位上的数大 2，这个三位数恰好是后两个数字组成的两位数的 21 倍，那么，这个三位数是：

- A. 532
- B. 476
- C. 676
- D. 735

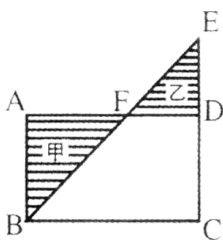
8. 有四个自然数 A、B、C、D，它们的和不超过 400，并且 A 除以 B 商是 5 余 5，A 除以 C 商是 6 余 6，A 除以 D 商是 7 余 7。那么，这四个自然数的和是：

- A. 216
- B. 108
- C. 314
- D. 348

9. 商场销售某种电脑，第一个月按 50% 的利润定价销售，第二个月按 42% 的利润定价销售，第三个月按第二个月定价的 80% 进行销售，第三个月销售的电脑比第一个月便宜 1820 元。那么，这种电脑商场的进价是：

- A. 5900 元
- B. 5000 元
- C. 6900 元
- D. 7100 元

10. 如下图，长方形的长为 12 厘米，宽为 5 厘米，阴影部分甲的面积比乙的面积大 15 平方厘米，那么，ED 的长是：



- A. 2.8 厘米

- B. 2.5 厘米
- C. 3.4 厘米
- D. 3.5 厘米

11. A、B、C、D、E 五个人在一次满分为 100 分的考试中，得分都是大于 91 的整数。如果 A、B、C 的平均分为 95 分，B、C、D 的平均分为 94 分，A 是第一名，E 是第三名得 96 分。则 D 的得分是：

- A. 96 分
- B. 98 分
- C. 97 分
- D. 99 分

12. 某市按以下规定收取燃气费：如果用气量不超过 60 立方米，按每立方米 0.8 元收费，如果用气量超过 60 立方米，则超过部分按每立方米 1.2 元收费。某用户 8 月份交的燃气费平均每立方米 0.88 元，则该用户 8 月份的燃气费是：

- A. 66 元
- B. 56 元
- C. 48 元
- D. 61.6 元

13. 随着通讯市场竞争日益激烈，某通讯公司的手机市话费按原标准每分钟降低了  $a$  元后，再次下调了 25%，现在的收费标准是每分钟  $b$  元，那么，原收费标准为每分钟：

- A.  $(\frac{5}{4})b - a$  元
- B.  $(\frac{5}{4})b + a$  元
- C.  $(\frac{3}{4})b + a$  元
- D.  $(\frac{4}{3})b + a$  元

14. 甲班与乙班同学同时从学校出发去某公园，甲班步行的速度是每小时 4 千米，乙班步行的速度是每小时 3 千米。学校有一辆汽车，它的速度是每小时 48 千米，这辆汽车恰好能坐一个班的学生。为了使这两班学生在最短的时间内到达，那么，甲班学生与乙班学生需要步行的距离之比是：

- A. 15 : 11
- B. 17 : 22
- C. 19 : 24
- D. 21 : 27

15. 把一个长 18 米，宽 6 米，高 4 米的大教室，用厚度为 25 厘米的隔墙分为 3 个活动室（隔墙砌到顶），每间活动室的门窗面积都是 15 平方米，现在用石灰粉刷 3 个活动室的内墙壁和天花板，平均每平方米用石灰 0.2 千克，那么，一共需要石灰多少千克：

- A. 68.8
- B. 74.2
- C. 83.7
- D. 59.6

## 第二部分 言语理解与表达

(共 20 题, 参考时限 20 分钟)

每题包含一段文字或一个句子, 后面是一个不完整的陈述, 要求你从四个选项中选出一个来完成陈述。注意: 你的选择应与所提要求最相符合。

16. 放风筝时, 人们凝视自己的作品摇曳于万里晴空、蓝天白云之上, 欣慰、恬静、平和之情油然而生, 这种精神状态有宜于高级神经活动的调节, 能健全和强化神经系统支配下的组织、脏器的生理机能。人们抖空竹时, 随着上肢的运动, 极大地锻炼了肌纤维, 骨骼肌有节奏地压挤动、静脉, 血流加速, 供血充分, 防止了局部血液淤滞, 增强了细胞、组织的新陈代谢, 使肩关节肌纤维、韧带、局部神经、血管的功能得以维护和加强。

对上述这段话的准确概括是:

- A. 民间游戏活动其乐无穷
- B. 民间游戏活动能够治疗疾病
- C. 传统游戏活动有娱乐和健身作用
- D. 应当大力发展民间传统游戏活动

17. 手机垃圾短信息有“骚扰型”, 多为恶作剧、“黄段子”、小道消息; 有“陷阱型”, 多是骗取用户钱财; 有广告短信。短信业务的确给运营商们带来了丰厚的利润, 但有些短信正成为一种“信息公害”, 让人不堪其扰。一些急于开发新客户的新企业群发不少短信广告, 绝大多数的垃圾短信制造者是运营商、“三无”产品经营者、诈骗者。现在应尽快完善相关监管法规, 先管住短信服务提供者, 垃圾短信这颗毒瘤迟早是会被根除的。

最适合做本段文字标题的是:

- A. 垃圾短信成为信息公害
- B. 垃圾短信为何屡禁不止
- C. 法律监管垃圾短信尚未到位
- D. 切实治理垃圾短信

18. 清代余云涣所撰联曰: “不要百姓半元钱, 原非异事; 但问一官两千石, 所造何功?” 此联告戒官吏, 不拿百姓半文钱是起码的为官之德, 并非是什么特殊的事迹, 重要的是要问一问享受着国家的俸禄做出了什么政绩。对这段话的准确概括是:

- A. 为政不在言多, 须息息从省身克己而出
- B. 为官要一心为民, 两袖清风, 三思而行, 四方太平
- C. 为官既要廉政, 还要勤政
- D. 为官不光要廉政, 还要勤政, 要有功于民

19. 某大公司准备高薪雇佣一名小车司机, 经过层层筛选, 剩下 3 名技术最优良的竞争者。主考者问他们: “悬崖边有块金子, 你们开着车去拿, 觉得能距离悬崖多近而又不至于掉落呢?” 第一位说: “二公尺”。第二位说: “半公尺”。第三位说: “我会尽量远离悬崖, 越远越好。” 结果这家公司录用了第三位。

上述这件事主要启示我们:

- A. 不要和诱惑较劲, 而应离得越远越好
- B. 最有价值的人不一定是最能表白的人
- C. 一个人只顾眼前利益得到的终将是短暂的东西
- D. 一个人目标高远, 但也要面对现实生活

20. 我国 80%的卫生资源集中在城市，城市卫生资源的 80%又集中在大医院，呈“倒三角”，而卫生服务的需求大部分在基层，呈“正三角”，导致大医院资源闲置，小医院资源不足。以患者为中心，根据其不同要求提供相应服务并追求顾客满意度，已成为当下市场动作下供方的生存之基。人类只有 10%的疾病需要在现代化的医院治疗，大量的疾病在社区医疗服务机构就可得到医治，部分慢性病的治疗也可以通过家庭护理完成。因此，“小病进社区，大病进医院”是一种可行的、新型的就医模式。

上述这段文字支持的观点是：

- A. 我国卫生资源供需配置不和谐
- B. “小病进社区，大病进医院”是一种新型的就医模式
- C. “小病进社区，大病进医院”是一种可行的就医模式
- D. “小病进社区，大病进医院”是一种新型、可行的就医模式

21. 1977 年，球王贝利对我国台湾的球员说：“你们球员的技术不错，但有一个缺点，就是太爱长传。当自己队友在有利位置时长传过去，当然不错，但自己有能力逼近球门时，更应把握机会单刀直入。假使人人都希望传给队友进攻，都不愿在必要时独担大任，又怎能进球？自己见机带球进攻，不是出风头，而是独立作战的表现。”

上述这段话的意思是：

- A. 很多时候，成功的人都是最优秀的人，而不是错过时机的人
- B. 很多时候，成功的人并不是最优秀的，而是最会抓住机会表现自己的人
- C. 一个人的成功，与他人合作很重要
- D. 坚定的自信，是成功的源泉

22. 贫困常常使人想到低矮的土房、破旧的被褥、浑浊的双眼。这的确是生活在城市最低生活标准线下的贫困人家。男人病逝，欠下很多钱，两个孩子一个有点残疾，但他们家窗明几净，有冰箱、洗衣机，有漂亮的窗帘和门帘。女主人的笑容就像她的屋子一样明朗，她说，冰箱、洗衣机都是邻居淘汰下来送的，窗帘和门帘都是自己用纸做的，孩子们很懂事，做完功课还帮我干零活……

这段话说明的道理不包括：

- A. 贫困只是一时生活物质的匮乏，导致终身匮乏的却是精神的潦倒
- B. 走出心理阴影，保存美好希望，生活正是点滴中改变
- C. 逆境犹如刀子，抓刀口自然会伤手，但抓刀把就有帮助了
- D. 逆境是人生必不可少的一部分，忽视它就是浪费生命

23. 一次，电台请了一位商界奇才做嘉宾主持讲成功之道，他说，“还是出一道题考考你们吧。某地发现了一处金矿，于是人们一窝蜂地拥去开采。然而，一条大河挡住了必经之路，如果是你，该如何是好？”有说绕道走的，也有说游过去的，他却说：“为什么非得淘金，不可以买一条船营运？那样的情况下，你就是把渡客宰得精光，他们也会心甘情愿，因为前面有金矿啊！”

这段话表明的道理不包括：

- A. 干他人不想干的，做他人不曾想的，这就是成功之道
- B. 困境在智者眼中往往意味着一个潜在的机遇，只是我们不曾想起
- C. 正是这不经意的想法，会让你在不经意间解决了问题
- D. 培养多元思维，学会从多种角度认识事物，你才能成功

24. 在现实生活中，人情与法理的冲突是司空见惯的。法律是公共生活领域的共同准则，在制定和执行过程中不应受人情关系的影响，人情关系一旦干涉法律的制定和执行，基于法理的正义和秩序就得

不到保证。

上述这段话不表明：

- A. 人情交往方式在私人生活领域是合理的，但人情交往方式泛化到公共生活领域，就失去了合理性
- B. 人情交往关系具有更多的“私人”性质，而公共生活有更多的“公有性质”，二者在本质上是相互对立的
- C. 人情关系到了公共生活领域，就显出其狭隘性，不一定对公共生活起破坏作用
- D. 人情关系到了公共生活领域，会出现以人情分配公共利益的情况

25. 《老子》的整个思想都是围绕着中心概念“道”而展开的，然而《老子》的七十三个“道”字，虽然符号形式统一，却有不同的意义。有些地方“道”是指世界存在的根源，有的地方“道”是指一种规律，有的地方“道”是指人生的一种准则，这反映出“道”一统的人生观。

老子所说的“道生一，一生二，二生三，三生万物”中的“道”是指：

- A. 形而上学的本体
- B. 事物的一种法则
- C. 人生的一种准则
- D. 事物规律和人生准则的结合

26. 很多单位现在多以送健康的名义让全体职工集体体检，而忽视个人健康的隐私性质；征兵体检要应征者集体全裸进行检查，使得个人产生了许多尴尬和不便；街头电话并肩连排，个人通话的内容无法保障；忽视病患对病房环境的不同需要，有些医院的急诊观察室甚至将男女病人混合共处一室，也导致了诸多不便。

概括这些现象它所反映的问题是：

- A. 在保障公共正常秩序的前提下，也应保障个人的基本隐私安全
- B. 强调公共场所的共享性，而忽视了个人的必要隐私
- C. 不因开发性排斥个人隐私空间
- D. 公共场所隐私保护有其原则与标准

27. 扁鹊是中华医学第一个集大成者，在扁鹊的身上集合了各种医学科学的技术；扁鹊是中医奠基理论著述基础的第一人；扁鹊是开创中华手术针灸的第一人；扁鹊是首创“望闻问切”四诊的第一人；扁鹊是制丹制丸的第一人；扁鹊是反对巫术的第一人。

上述这段话主要是说明：

- A. 扁鹊之所以受到后世敬仰的原因
- B. 扁鹊是神医、医圣、中医始祖
- C. 扁鹊是文化的个性特征
- D. 扁鹊在所有的不同领域都有开创性贡献

28. 现代语言学自开创至今，虽然只有不足 100 年的时间，但它的发展却出人意料地迅猛。以汉语为例，随着社会的发展，科技的进步，以及新生事物的层出不穷，近年来，“新词酷词”正以每年 1000 个，甚至更大的速度在增生。此后，便是一些违规短语和句子的组合、搭配，以及貌似东拼西凑的篇章构成等的出现。对此，社会上，特别是语言学界，也包括一些中小学的语文教师都有不尽相同甚至截然相反的议论。但是，无论学界如何看，人们，特别是年轻人，对这些所谓“新词酷词”和新的语法构成却情有独钟，而且还创造了不少网络的、数字的语言。

这段文字主要是说明：

- A. 语言发展和使用中出现了新情况



- B. 语言词汇的良莠杂糅是其发展进程中的正常现象
- C. 语言的发展折射着社会和人们的意识
- D. 汉语的发展已进入了一个繁荣时期

29. 随着网络语言在青少年中的流行，网络语言五花八门，从早期出现的“美眉（美女）”、“88（再见）”到正在流行的“偶（我）”、“稀饭（喜欢）”，让老师担心，家长着急。网络语言对人们日常交流影响是必然的，但是，网络语言并不是洪水猛兽，网络语言需要疏导和引导。

这段话不能支持的观点是：

- A. 网络语言要“革”现代汉语的命
- B. 语言也有“优胜劣汰”
- C. 引导+疏导：规范网络语言的两剂药
- D. 不得使用不符合现代汉语语法规范的网络语言

30. 今年是北京故宫博物院建院 81 周年。故宫博物院图书馆以明清两朝宫廷藏书为基础建成，到 1930 年藏书总数逾 50 万册。抗日战争时南迁的珍本、善本共 15.7 万册，现存台北故宫博物院。尔后，北京故宫博物院继续清点和整理清宫遗存古书，重建了善本书库。现有善本 19 万多册，还藏有 20 多万件（块）武英殿殿本的书版及铜板等。

这段话主要介绍的是：

- A. 宫廷历史文化遗存
- B. 故宫博物院的文物典籍
- C. 故宫博物院的清宫典籍
- D. 故宫博物院的历史档案

31. 人的视觉器官有感觉外界物体的光和颜色的功能。可见光的波长范围一般是 380nm（纳米）到 780nm，称为可见光谱。在可见光谱范围内，不同波长的辐射使人感觉到不同颜色，一般说来 700nm 为红色，580nm 为黄色，510nm 为绿色，470nm 为蓝色，400nm 为紫色。

上述这种现象表明：

- A. 人所形成的关于事物的感觉是人自身生理活动的结果
- B. 人们的器官所具有的生理阈限是人的认识能力的界限
- C. 人的感觉中包含着对外界事物信息的选择、加工和转换
- D. 人们只能认识外界物体作用于感官形成的感觉

32. 牛顿的贡献就是把“自然界是按照数学规律设计的”理论从空想变为现实。在牛顿之前，信奉这句话的人多是数学家；由于牛顿的巨大贡献，牛顿之后，信奉这句话的人变成了普通人，这就使许多人的思维方式得以改变。

通过这段文字我们可以知道：

- A. “自然界是按照数学规律设计的”这一理论是由数学家提出的
- B. 牛顿的这一贡献改变了许多人的思维方式
- C. 普通人并不相信数学家
- D. 在牛顿之前，只有数学家信奉“自然界是按照数学规律设计的”这一理论

33. 汉语的量词具有表量和修辞功能。如“一只鞋”和“一双鞋”、“一头羊”和“一群羊”。这里的只和双、头和群起着限定和区别鞋、羊之数量关系的功能。修辞的功能，如“一头大象”和“一只大象”，“一尊佛像”和“一座佛像”，“一幅画”和“一张画”。在这里，“头”与“只”并没有数量上

的差别，而只有形象上的差别。同样，尊和座、幅与张也没有数量上的差别而只是情感和格调上的差别。

对这段话的理解准确的是：

- A. 表量功能是量词的基本特点
- B. 修辞功能是量词的基本特点
- C. 表量功能和修辞功能是量词的基本特点
- D. 表量功能和修辞功能都不是量词的基本特点

34. 《中国青年报》2005年9月21日第8版《我们不是还有许多梦想吗》一文中的两句话是：“你闲庭信步地徜徉在影坛不温不火，却初显大家风范。前辈对你宠爱有加，赞辞不断，而你却依然平静如初，亦步亦趋。”

这句话中存在着别字、用词不当等多种错误，但不包括：

- A. “不温不火”中的温是瘟的误用，它是赞扬演员演技的成语，用来描述摄影记者欠妥
- B. “闲庭信步”与“徜徉”连用意思重复，“你徜徉在影坛”已构成一个分句，要加逗号
- C. “亦步亦趋”是个贬义成语，用它来称赞获“全国十佳青年摄影记者”不当
- D. “前辈对你宠爱有加”中的“加”应为“佳”

35. “前”的一种用法是相对于“后”而言，我国历史上有“西汉”、“东汉”，分别称为“前汉”、“后汉”。另一种说法是指某个时期以前的时期，如“前寒武纪”，是指寒武纪以前的地质时期的总称，包括太古代和元古代。还有一种用法是相对于现在而言，如前局长和现局长。

对这段话理解不准确的表述是：


- A. 十六国时期少数民族先后建立的许多国家中有不少是同名的，如“前赵”、“后赵”、“前秦”、“后秦”
- B. 清朝不能称为“前清”，就像明朝、元朝不称“前明”、“前元”一样
- C. 中国人民不会忘记苏联对我们的支持
- D. 美国曾施计破坏前苏联经济

### 第三部分 判断推理

(共30题，参考时限30分钟)

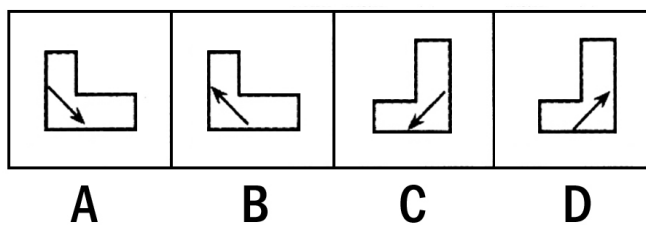
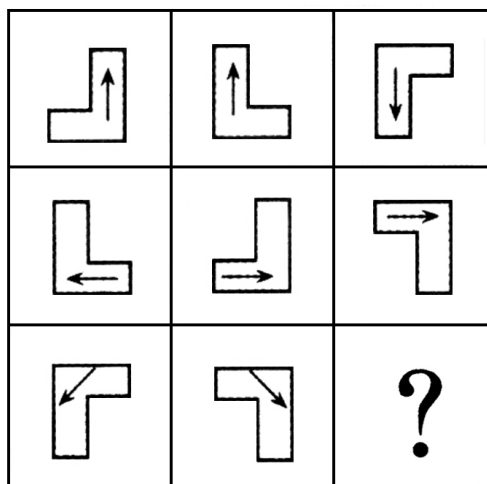
#### 一、图形推理。共10题。请按每道题的答题要求作答。

36. 从所给的四个选项中，选择最合适的一个填入问号处，使之呈现一定的规律性：

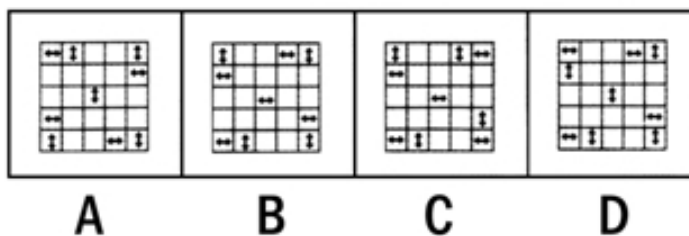



37. 从所给的四个选项中，选择最合适的一个填入问号处，使之呈现一定的规律性：

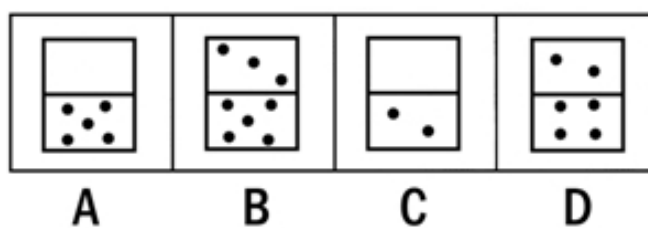





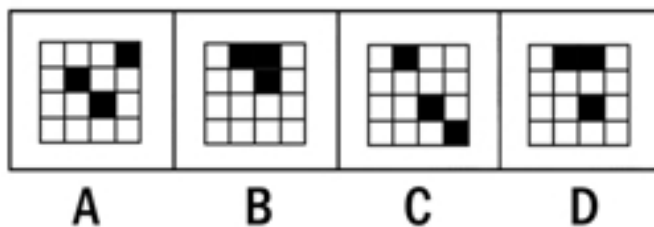

38. 从所给的四个选项中，选择最合适的一个填入问号处，使之呈现一定的规律性：



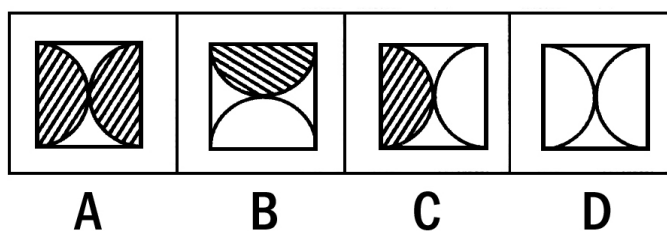

39. 从所给的四个选项中，选择最合适的一个填入问号处，使之呈现一定的规律性：



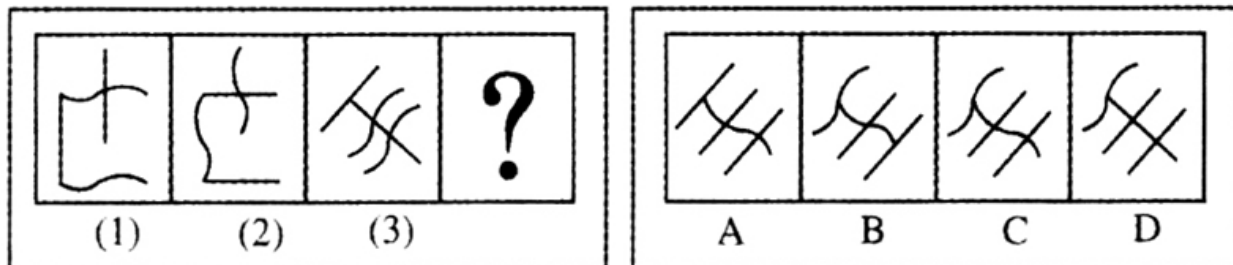
40. 从所给的四个选项中，选择最合适的一个填入问号处，使之呈现一定的规律性：



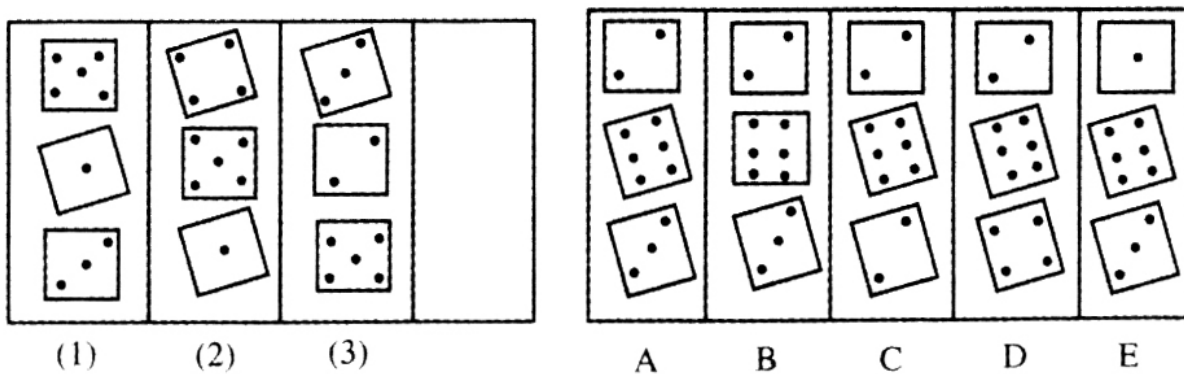
41. 从所给的四个选项中，选择最合适的一个填入问号处，使之呈现一定的规律性：



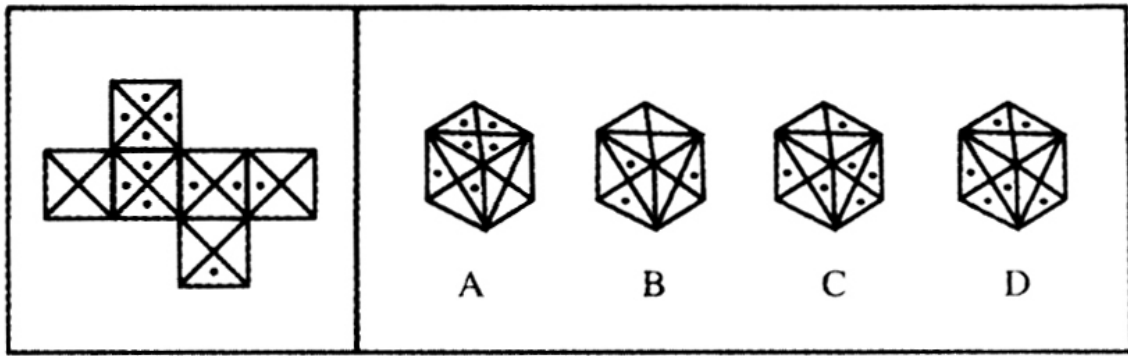
42. 根据图（1）和图（2）的逻辑关系，和图（3）相类似的图形是：



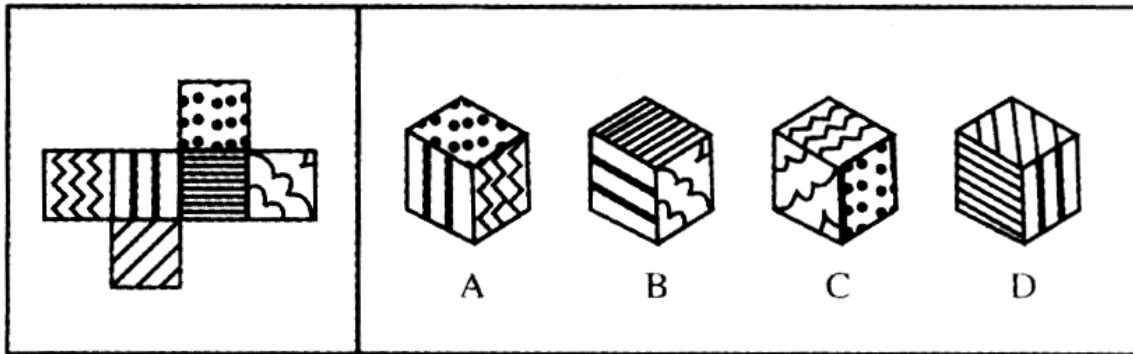
43. 根据图（1）和图（2）的逻辑关系，和图（3）相类似的图形是：



44. 左边给定的是正方体的外表面展开图，下面哪一项能由它折叠而成？



45. 左边给定的是正方体的外表面展开图，下面哪一项能由它折叠而成？



**二、定义判断。共 10 题。每题先给出一个概念的定义，然后分别列出四种情况，要求你严格依据定义，从中选出一个最符合或最不符合该定义的答案。注意：假设这个定义是正确的，不容置疑的。**

46. 职业素质是指劳动者在一定的生理和心理条件的基础上，通过教育、劳动实践和自我修养等途径而形成和发展起来的，在职业活动中发挥重要作用的内在基本品质。

根据以上定义，下列不属于职业素质的是：

- A. 声乐演唱家所具有的不同于一般人的生理遗传因素
- B. 作家对生活敏锐的感觉力和较强的语言表达能力
- C. 画家所具有的不同于一般人的颜色辨别能力和空间想象能力
- D. 教师广博的知识和高尚的人格

47. 税收激励是指政府在税制设计和税收征管过程中，运用多种手段，通过税负的调整，诱导微观经济主体的行为选择，鼓励纳税人发生或不发生、参与或不参与某种经济行为，以实现政府社会经济协调发展的战略目标。

根据以上定义，下列不属于税收激励的是：

- A. 在产品研发阶段，设备费很高，此时对其加速折旧进行税收优惠
- B. 对遭受风、火、水、震等严重自然灾害的纳税人给予税收优惠
- C. 在产品中间阶段，对资金的需求依赖性强，此时对投资抵免进行税收优惠
- D. 在产品试验阶段企业的风险仍然很大，此时对亏损结转进行税收优惠

48. 例外原则是指企业高级管理人员，把一般日常事务授权给下属管理人员负责处理，而自己保留

对例外事项一般也是重要事项的决策和控制权。

根据以上定义，下列属于例外原则的是：

- A. 某公司的董事长主要负责公司内的一切事务，而总经理则负责维护跟合作单位的关系
- B. 在每周的例会上，各中层管理人员都要将本周工作总结和下周工作计划向总经理汇报
- C. 某管理中心兼职人员的确定副总经理有决定权，而专职人员的确定总经理才有决定权
- D. 某公司的报账制度中，500 元以下的都由部门经理审批，而 500 元以上的才需要总经理审批

49. 商业贿赂是以经营者为主体，以现金、实物等为手段，以销售、购买商品为目的，以破坏正常的市场竞争秩序为根本危害的一种行为。

根据以上定义，认定商业贿赂的标准不包括：

- A. 是否对贿赂人起到收买作用
- B. 是否对受贿人起到收买作用
- C. 是否当事人主观上有相关的贿赂意思
- D. 是否使受贿人得到利益，金额超出商业惯例的范围与否

50. 非营利性组织是不以营利为主要目的的社会组织，包括教育科研、文化艺术、医疗卫生、家教、慈善福利以及公交、水电、铁路、邮电等社会公共服务机构。

根据以上定义，下列不属于非营利性组织行为的是：

- A. 国际上著名的“绿色和平组织”行为
- B. 我国的“消费者保护协会”行为
- C. 我国的“海峡两岸统一促进会”行为
- D. 营利性组织通过代表工会成员同资方谈判而向其收取酬劳，进入工会的业务领域

51. 概念的内涵是概念所反映的客体集合所有元素的共同属性。它是以高度紧缩形式出现的，揭示一个概念的内涵，如同抽出卷尺，这个抽出卷尺的过程在特殊的情况下不是不可以采用否定形式的。

根据以上定义，下面采用否定形式揭示不出概念内涵的是：

- A. 生荒地就是未被开垦的荒地
- B. 紧急避险就是不负刑事责任的行为
- C. 非集合概念就是不反映对象集合体的概念
- D. 非婚生子女就是不具有合理婚姻关系的男女所生的子女

52. 规模经济是指产出增加速度快于投入的增加速度。这里的“规模”即是指由生产能力的扩大而导致的较大生产批量。这里的“经济”，是指成本的节约、效益的提高或报酬的递增。

根据以上定义，下列不属于规模经济的是：

- A. 一家工厂生产一辆自行车要投入 10 小时劳动，在成本不变的情况下，投入 5000 小时，产 500 辆车。工厂规模扩大后，生产 5000 辆车，只要 30000 小时的劳动时间。
- B. 一家工厂原年产钢 500 万吨，投入 1 亿资本，5000 人，在技术水平不变的条件下，投入增加一倍，年产钢 1300 万吨。
- C. 甲企业的生产影响到乙企业，因其影响是正的，则甲企业的生产低于社会最优水平，但把他们合二为一，则此时的外部影响就“消失”了。
- D. 瑞士集中了大量生产手表的企业，形成较大的产业规模，既提高了效率，又降低了成本。

53. 快乐是人们主观感受到的愉悦的身心状态，也是一种由对存在世界认知与体验形成的幸福感、满意状态带来的多个层次的体验过程。

根据以上定义，下面不称其为快乐的是：

- A. 一个人从优质的食物、洁净的环境、宽敞的居所感受到的东西
- B. 一个人对生活、社会、员工、收入、职业、社会和自然环境有最大的满足度
- C. 一个人对健康、亲情、收入、职业、社会和自然环境有最大的满足度
- D. 一个人享有最多的福利，经济的任务就是致力于福利

54. 人的视觉完形功能，是指当人们在用眼睛观察世界时，总是倾向于用自己所熟悉的经验，把本无联系的散乱事物加工成有机的整体后进行感知。

根据以上定义，下列不属于人的视觉完形功能的是：

- A. 1872 年美国迈布里奇用连动摄影机拍摄到，马在奔跑时至少一蹄着地，不会有古代画家所画的马总是四蹄腾空的样子
- B. 北斗星由七颗星星组成，人们总是亲切地称之为“勺星”
- C. 鲁迅小时候喜欢在画本的不同页上画动作相差很小的一组人物，然后迅速从前往后翻，这时画面本来静止的人们都好像动了起来
- D. 在一个很黑的屋子里燃着一柱香，一个人在凝视香头几分钟后，发觉这个香头竟然自己动了起来

55. 依法行政是指行政机关应当依据法律规定，在法定权限内，按照法定程序作出证据确凿充分的行为。

根据以上定义，下列行为符合依法行政要求的是：

- A. 某市政府办公厅制定发布了一个有关该市城市环境卫生管理处罚的规范性文件
- B. 某区公安局认为张某的兔子干扰了邻居正常生活，依据治安管理处罚法，对其作出罚款 5000 元并处以 15 日行政拘留的行政处罚
- C. 某市政府为保护文物古迹，而向某户居民提出在该户居民所有的房屋院落中，建立文物保护示范点，要求该户居民限时迁出，并决定给予该户居民一定的补偿
- D. 某市工商局接群众举报称某香烟批发点销售假冒的“熊猫”牌香烟，前往执法时发现业户已经得知消息关门停止营业。为及时得到确凿证据，打击违法经营行为，执法人员破门而入，当场查获尚未来得及转移的大量库存假冒香烟及会计资料，据此对该业户作出了行政处罚决定

**三、演绎推理。共 10 题。每题给出一段陈述，这段陈述被假设是正确的，不容置疑的。要求你根据这段陈述，选择一个答案。注意，正确的答案应与所给的陈述相符合，不需要任何附加说明即可以从陈述中直接推出。**

56. 目前，我国汽车每百公里平均油耗比发达国家多 20% 以上。研究表明，柴油车与汽油车相比，燃油消耗低 20% 到 30%。在汽车排放污染物较严重的情况下，发展先进柴油汽车可以做到汽车污染物不增排甚至减排。我国柴油车在乘用车保有量中的比重为 23.7%，在轿车保有量中的比重仅为 0.2%。假设 2020 年我国柴油车在乘用车保有量中的比重为 30%，相应的在汽车总保有量中的比重为 39.7%，那么在 2020 年当年可节约原油 2837 万吨。

下面最能支持上述论断的选项是：

- A. 可考虑对汽油、柴油采取差别税率的方式，以使柴油价格低于汽油
- B. 鼓励更多的人使用柴油汽车等节能产品
- C. 应提高柴油质量标准，利用价格监管手段，鼓励生产高品质柴油
- D. 增强先进柴油技术的自主创新能力和发展先进的柴油汽车

57. A、B、C 三个大学生到某乡镇当村官，一个上了富村，一个上了穷村，一个上了不富不穷的村。但究竟谁到了哪个村，人们开始不清楚，于是作了如下猜测：



甲：A上了富村，B上了穷村

乙：A上了穷村，C上了富村

丙：A上了不富不穷的村，B上了富村

后来证实，甲、乙、丙三人的猜测都是只对了一半。由此可以推出：

- A. A上了富村，B上了穷村，C上了不富不穷的村
- B. A上了穷村，B上了富村，C上了不富不穷的村
- C. A上了不富不穷的村，B上了富村，C上了穷村
- D. A上了不富不穷的村，B上了穷村，C上了富村

58. 已知下列判断中前两个假，后两个真。

(1) 如果A没有被录用，那么B就被录用 (2) A和B两个人中只有一人被录用

(3) 只有A被录用，C才不被录用 (4) 如果C被录用，D才被录用

据此可以推出：

- A. A和B被录用，C和D未被录用
- B. A和B未被录用，C和D被录用
- C. A和C被录用，B和D未被录用
- D. A和C未被录用，B和D被录用

59. 在司法审判中，肯定性误判是指把无罪者判为有罪，就是所谓的错判；否定性误判是指把有罪判为无罪，就是所谓的错放。而司法公正的根本原则是“不放过一个坏人，不冤枉一个好人”。某法学家认为，目前衡量一个法院在办案中对司法公正的原则贯彻得是否足够好，就看它的肯定性误判率是否足够低。

以下哪项如果为真，能够最有力地支持上述法学家的观点？

- A. 各个法院的办案正确率普遍有明显的提高
- B. 错放，只是放过了坏人；错判，则是既放过了坏人，又冤枉了好人
- C. 错放造成的损失，大多是可弥补的；错判对被害人造成的伤害，是不可弥补的
- D. 各个法院的否定性误判率基本相同

60. 设立“小金库”，是在很多经营单位普遍存在的一种现象。小金库主要支出项目是职工福利和执行费这两块。小金库的形成一是在供应过程中动手脚，再是在销售过程中，收入不全部入外账，三是在外账上虚增生产成本、经营费用。尽管这是违反规定的，但一些单位的领导还是认为只要自己不贪不占，账目清楚，总不会有太大问题。以下哪项如果为真，最能反驳上述观点？

- A. 小金库开始用于一些不好直接下账的非正常开支，随后领导班子集体私分就顺理成章了
- B. 具有行政执法权的一个监督站，违规设立小金库 50 余万元，因不构成经济犯罪，此事件已由上级主管部门进行行政纪处理
- C. 公款用于职工和单位就是个人变相违法
- D. 对公款私存怎样区分、制止，不是无计可施

61. 近年来，一些地方政府纷纷将引入全球 500 强作为工作重点，为了争取跨国公司来投资，付出了高昂的资源代价：不可再生的土地资源、宝贵的自然资源被跨国公司廉价使用；还有税收损失。我们的国内企业所得税是 33%，而三资企业最高所得税是 24%。我们引进洋品牌却难以获得核心技术，核心元器件也不能实现本地配套供应，对产业的发展不能形成拉动作用。我们得到的只是组装过程中的劳动所得，增值税也极低。

由此可以推出：

- A. 洋品牌进入不可能带进最先进的技术、利润最高的订单
- B. 我们应避免过分引进洋品牌造成的负面影响
- C. 提高我国产业的国际竞争力，必须解决阻碍产业进展的突出问题
- D. 我们必须拥有具备核心技术和具有国际竞争力的产业及品牌

62. 北京林业大学有 8 个食堂，每天就餐人数达 1.5 万。这些人若都作用一次性筷子，一年要耗费 1640 多万双，等于毁掉 3200 棵生长五六十年的大树。于是，这个学校的师生呼吁拒绝使用一次性筷子，而且他们坚持了整整 7 年。以下除哪项外，从不同方面对北京林业大学师生的做法提供了支持？

- A. 荣辱观的培养，要从小事做起，从我做起，从身边做起
- B. 林木对涵养水分、调节气候、防止水土流失具有不可替代的作用
- C. 我国森林资源匮乏，把一片树木用来做一次一次性筷子，是莫大的浪费
- D. 森林资源不是只保不用，适量采伐，合理使用，会促进经济发展和林区保护

63. 2005 年至 2006 年，从“超女”热到“胡戈们”旺，从北京的郭德纲到上海的蔡嘎亮……来自民间的、鲜活泼辣的、不登大雅之堂的“草根文化”正以惊人的速度走红。面对这样一个群体或群体文化，欣赏的人会夸一句“来自群众，贴近群众”，不欣赏的人则不屑地按上评语——低俗、哗众取宠。

上述欣赏的人的议论是基于以下哪项假设？

- A. 心连心是“草根文化”成功的最大资本
- B. “草根文化”的“俗”吸引人们
- C. 原生态的东西是有生命力的东西
- D. 从宋词元曲到京剧都经历过由草根到庙堂的过程

64. 今年 4 月，我国遭遇了近年来最为强劲的一次特大沙尘暴灾害，损失达 65 亿美元。沙尘暴天气的发生一般需要三个条件：有丰富的沙尘源；有强风作用；大气层结构不稳定，即在沙地及无植被的裸露地表，空气容易受热，把刮起的沙尘吹起。这说明，气候干旱引起草地退化、沙化，也就必然会出现沙尘暴这种“天灾”。

下面哪一项如果为真，最能反驳上面的论述？

- A. 在呼伦贝尔退化牧区的对面，蒙古草原的草高度在 1 米左右，那里有上万只黄羊在活动
- B. 在中蒙 10 公里宽的边境线上，草依然保留着几年前的高度，但那是无人活动区
- C. 过渡放牧所形成的沙漠化土地占到 29.4%
- D. 采取大规模的休养生息方式来缓解人类生产对生态环境的压力

65. 市场上有甲、乙两个品牌的同一型号电池，甲牌号的电池价格比乙牌号低 10%，前者比后者畅销。但经检测，乙牌号的电池使用寿命比甲牌号长 15%，甲牌号反而畅销，原因就是消费者不知道这两种电池在寿命上的差异。这样，在竞争性的市场里，本来应当少生产的低效产品反而多生产了。这说明，不完全信息可以导致市场失效。据此可以推出：

- A. 消费者拥有的产品信息不充分时，市场在配置资源方面不可能发挥有效作用时，需要政府的介入
- B. 厂家在商品标签上应标明有关产品的成分、功能和生产日期
- C. 消费者只有充分地获得产品的有关信息，了解产品的真正价值，才可作出正确的购物决定
- D. 应当完善反不正当竞争法和消费者权益保护法

## 第四部分 常识判断

(共 20 题, 参考时限 10 分钟)

**根据题目要求, 在四个备选项中选出一个或一个以上正确答案。少选、错选均不得分。**

66. 城市是一定地域范围的政治、经济和文化中心。是人类在适应和改造自然环境的基础上建立起来的人工生态系统。根据我国城市的空间分布格局特征可知, 影响我国城市形成和发展的主要区位因素是:

- A. 以资源为指向
- B. 以人口为指向
- C. 以交通为指向
- D. 以经济水平为指向

67. 党的十六届五中全会审议通过了《中共中央关于制定国民经济和社会发展第十一个五年规划的建议》, 在这个重要文件中, 延续了 50 多年的国民经济和社会发展“计划”首次变成“规划”。这个变化的发生是因为:

- A. 我国的社会主义市场经济体制已初步建立
- B. 我国经济发展不再完全依赖国家的计划和管理
- C. 政府要转变职能、更好地履行社会公共服务职责
- D. 政府从对经济的直接干预转为对经济进行宏观调控

68. 某人长期服用同一种抗生素, 到后期治疗效果大大降低甚至无效, 这其中可能的原因是:

- A. 病原菌长期接触同种抗生素, 产生适应性突变而抗药
- B. 抗生素长期作用于病原体, 诱发它发生抗药性突变而抗药
- C. 病原菌不断产生各种变异, 抗生素起了选择作用, 淘汰了敏感菌, 留下抗药菌
- D. 上述三种原因综合作用的结果

69. “五一”黄金周期间, 某旅游团组织了一次重走长征路的“红色旅游”, 其设计路线正确的是:

- A. 瑞金、赤水河、遵义、泸定桥
- B. 瑞金、遵义、泸定桥、赤水河
- C. 赤水河、瑞金、遵义、泸定桥
- D. 瑞金、遵义、赤水河、泸定桥

70. 下列关于欧洲联盟的表述中, 正确的是:

- A. 由欧洲共同体发展而来
- B. 它是一个经济合作组织
- C. 最初由五个国家组成
- D. 它是一个政治军事组织

71. 下列有关《公务员法》的内容叙述错误的是:

- A. 调整公务员职务、级别、工资以及公务员奖励、培训、辞退的依据是年终考核的结果
- B. 公务员违纪的, 应当由监察机关决定对公务员违纪的情况进行调查, 并将调查认定的事实及拟给予处分的依据告知公务员本人
- C. 公务员在年度考核中, 连续两年被确定为不称职的应该予以辞退
- D. 机关根据公务员工作职责的要求和提高公务员素质的需要, 对公务员进行业务素质培训

72. 在中亚五国中，同中国接壤的是：

- A. 哈萨克斯坦、吉尔吉斯斯坦、塔吉克斯坦
- B. 乌兹别克斯坦、土库曼斯坦、哈萨克斯坦
- C. 吉尔吉斯斯坦、土库曼斯坦、塔吉克斯坦
- D. 乌兹别克斯坦、哈萨克斯坦、吉尔吉斯斯坦

73. 正确处理人与自然的的关系，做到与自然和谐相处，不仅需要遵守人与自然的道德规范，尊重生命，美化自然，还要法律保障依法保护大自然。其中相关的环保法律有：

- A. 宪法
- B. 中华人民共和国环境保护法
- C. 中华人民共和国渔业法
- D. 中华人民共和国土地法

74. 流感是一种由流感病毒引起的常见病，流感病毒有不同的类型。现有多种流感疫苗，有人注射了一种流感疫苗后，在流感流行期间未患流感，但流感再次流行时却患了流感，这其中不可能的原因是

- A. 流感病毒发生了变异
- B. 抵抗流感病毒的抗体在体内存在时间短
- C. 流感病毒使人的免疫系统受损
- D. 流感病毒与注射的疫苗是不同类型

75. 分贝是用来表示声音强弱的单位，根据我国城市环境噪声标准规定，以居住、文教机关为主的区域为一类，适用这一类区的环境噪声标准是：

- A. 白天 55 分贝，夜间 40 分贝
- B. 白天 55 分贝，夜间 45 分贝
- C. 白天 60 分贝，夜间 50 分贝
- D. 白天 60 分贝，夜间 55 分贝

76. 美日等发达国家在本国禁止使用含磷洗涤剂，而他们的某些公司却在中国大量推销、制造含磷洗涤剂，这给我国环境带来的危害是：

- A. 土地沙化
- B. 空气污染
- C. 河湖水质恶化
- D. 近海赤潮频发

77. 下列有关公务员的表述中正确的是：

- A. 公务员是指依法履行公职、纳入国家行政编制、由国家财政负担工资福利的工作人员
- B. 法律对公务员中的领导成员的产生、任免、监督另有规定的，从其规定
- C. 由于《法官法》、《检察官法》对法官、检察官的义务、权利和管理已另有规定，所以法官、检察官不适用于《公务员法》
- D. 公务员的管理坚持公开、平等、竞争、择优原则，依照法定的权限、条件、标准和程序进行

78. 根据我国宪法规定，下列选项中不是公民获得物质帮助权条件的是：

- A. 公民在年老时

- B. 公民在疾病时
- C. 公民在遭受自然灾害时
- D. 公民在丧失劳动能力时

79. 国务院总理温家宝指出：“管理就是服务，我们要把政府办成一个服务型政府，为市场主体服务，为社会服务，最终是为人民服务。”“服务型政府”这一提法涉及的主要关系是：

- A. 政府与市场的关系
- B. 政府部门与非政府部门的关系
- C. 政府与社会的关系
- D. 中央与地方关系

80. 下列选项中不能提起行政复议的行为是：

- A. 某市公安车管部门发布了排气量 1 升以下的汽车不予上牌照的规定，并据此对吴某汽车不予上牌照的行为
- B. 某乡政府发布通告劝导农民种植高产农作物的行为
- C. 城建部门将施工企业的资质由一级变更为二级的行为
- D. 民政部门对王某成立社团的申请不予批准的行为

81. 下列情形中，属于法律制裁的选项是：

- A. 某私企职员王某因侵占单位资金，被单位开除
- B. 杜某因骑车不慎，撞伤他人，被法庭判决赔偿 300 元
- C. 谭某因违约被仲裁机构裁定赔偿对方当事人损失 10 万元
- D. 刘某因生活作风问题严重被开除党籍

82. 有效管理幅度取决于多种因素。在影响管理幅度的因素中：

- A. 工作的复杂程度越大，管理幅度就越宽
- B. 新问题的发生率越高，管理幅度就越窄
- C. 组织的健全程度越高，管理幅度就越宽
- D. 管理活动的相同性较小，管理幅度就越窄

83. 在计算机网络的研究中，常用拓扑学的方法来研究网络单元之间：

- A. 位置与性能的关系
- B. 距离与性能的关系
- C. 大小与性能的关系
- D. 形状与性能的关系

84. 古汉语中的“三五之夜，明月半墙”中的“三五”是指：

- A. 每隔三五天
- B. 阴历每月初五
- C. 阴历每月初八
- D. 阴历每月十五

85. 刘某对市辖区土地局依据省国土资源厅的规定作出的一项行政处理决定不服，提起行政复议，同时要求审查该规定的合法性。在此情况下，下列说法正确的是：

- A. 市政府作为复议机关无权对省国土资源厅的规定进行处理
- B. 区政府作为复议机关应当将省国土资源厅的规定转送市政府处理
- C. 省政府有权对该规定进行处理
- D. 市土地局作为复议机关应当将审查省国土资源厅规定的请求转送省国土资源厅处理

## 第五部分 资料分析

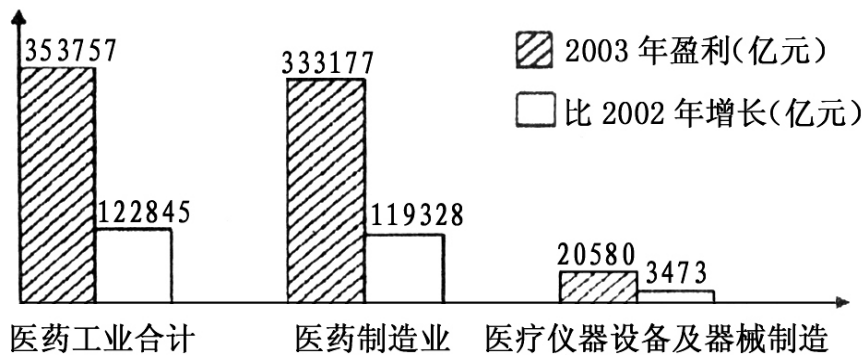
(共 15 题, 参考时限 15 分钟)

所给出的图、表或一段文字均有 5 个问题要你回答。你应根据资料提供的信息进行分析、比较、计算和判断处理, 从四个备选答案中选出一个最符合题意的答案。

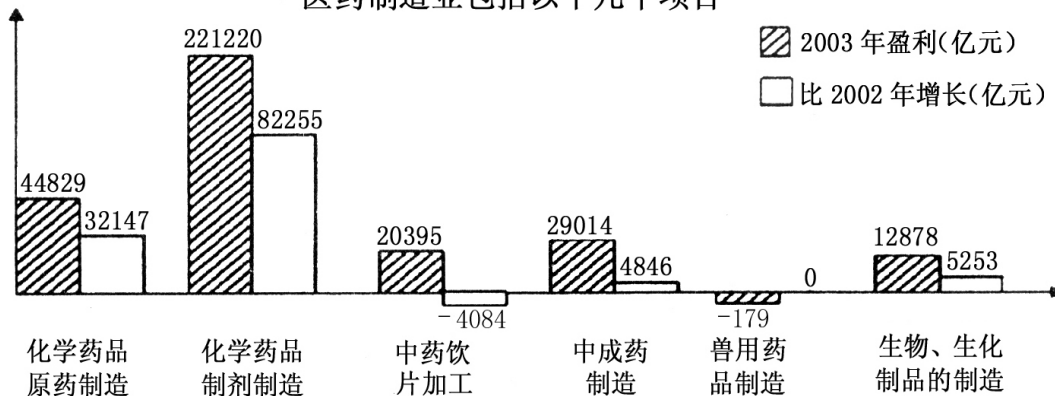
### 一、根据下图回答 86~90 题。

某省 2003 年医药工业发展情况统计。

医药工业合计包括: 医药制造业和医疗仪器设备器械制造



医药制造业包括以下几个项目



86. 2003 年, 医药工业总的盈利比 2002 年增长:

- A. 34.7%
- B. 55.8%
- C. 53.2%
- D. 20.3%

87. 与 2002 年相比, 2003 年医药制造业中哪个行业的盈利增长得最快?

- A. 化学药品制剂制造
- B. 生物、生化制品的制造



- C. 化学药品原药制造  
 D. 医疗仪器设备及器械制造

88. 2003 年，中成药的制造业盈利占医药制造业盈利的比重比 2002 年：

- A. 上升了 20.2 个百分点  
 B. 下降了 20.2 个百分点  
 C. 下降了 2.7 个百分点  
 D. 上升了 2.7 个百分点

89. 以下说法不正确的是：

- A. 医药制造业的增速明显高于药械制造业  
 B. 医药制造业中，生物、生化制药和化学药品等行业发展领先于中药行业和兽用药行业  
 C. 化学制药行业是该省医药工业的支柱产业  
 D. 中药饮片加工行业已经亏损

90. 2003 年下半年以来，石油化工产品和能源价格迅猛上涨，这可能对下列哪个行业的盈利造成较大影响？

- A. 医疗仪器设备及器械制造  
 B. 中成药制造  
 C. 中药饮片加工  
 D. 化学药品原药制造

**(二) 根据下表回答 91~95 题。**

地区	保费收入(亿)	同比增长(%)	财险(亿)	人身险(亿)	保险密度(元/人)	保险深度(%)
北京	497.7	78.4	67.1	430.7	3293	7.4
天津	90.64	11.75	21.78	68.86	905.59	2.47
河北	217.31	5.8	53.63	163.68	317	2.15
山西	121.8	17.19	88.99	32.82	363.03	2.96
黑龙江	139.6	9.4	20.8	118.8	366	2.4
上海	333.62	8.8	89.74	243.88	2452	3.66
江苏	437.3	4.4	93.6	343.7	588	2.4
浙江	262	7.3	89	173	648	2.4
山东	291.2	7.5	72	219.2	368.2	1.89
河南	213.55	5.68	175.52	38.03	218.62	2.11
湖南	127.17	9.97	97.63	29.54	189	1.96
广东	392.84	14.11	112.4	280.4	543	2.3
重庆	73.1	10	20.9	52.2	233	2.36
贵州	40.45	20.04	14.42	26.03	103	2.12
甘肃	48.24	8.64	13.53	34.71	183	2.55
青海	7.85	6.64	3.55	4.3	146	1.44
新疆	72.5	5.82	20.93	51.57	360	2.7
大连	57.3	9.38	16.3	41	1081	2.5
合计	3424.17		1071.82	2352.42		

91. 在列出的各省市中，保险密度和保险深度最低的分别是：
- A. 青海和湖南
  - B. 河南和青海
  - C. 贵州和青海
  - D. 甘肃和山东
92. 在列出的各省市的总保费收入中，上海市的人身险所占的比例约是：
- A. 7.12%
  - B. 9.74%
  - C. 2.62%
  - D. 1.35%
93. 在以上各省市中，人身险占该省市保费收入 50%以上的有：
- A. 9 个
  - B. 12 个
  - C. 17 个
  - D. 15 个
94. 保险密度即表示的是人均保费，那么河南的人口数量约为：
- A. 10456 万人
  - B. 9941 万人
  - C. 12417 万人
  - D. 9768 万人
95. 在以上各省市中，财险占该省市保费收入比例最大的是：
- A. 山西
  - B. 河南
  - C. 湖南
  - D. 青海

**(三) 根据下列文字回答 96~100 题。**

根据经济普查资料初步测算，我国 2004 年 GDP 现价总量中，第一产业增加值为 20956 亿元；第二产业增加值为 73904 亿元，其中，工业增加值 65210 亿元，建筑业增加值 8694 亿元；第三产业增加值为 65018 亿元，其中，运输邮电业增加值 12148 亿元，批发零售贸易餐饮业增加值 15250 亿元。

与 2004 年全国 GDP 年快报核算数相比，按经济普查资料计算的 GDP 总量增加了 23002 亿元，提高了 16.8%。其中，第一产业因不在这次普查范围内，数据变化不大，重新核算后增加了 188 亿元；第二产业增加值增加 1517 亿元，提高了 2.1%；第三产业增加值增加 21297 亿元，提高了 48.7%。

在 GDP 总量多出的 2.3 万亿元中，有 93%是第三产业引起的。造成第三产业增加值增加较多的原因，主要在于资料来源的增加。经济普查覆盖了第二三产业所有的法人单位、产业活动单位和个体经营户，大大补充了以往常规统计中难以准确全面反映的私营、个体服务业资料以及大量的新兴服务业资料，如计算机服务业、软件业、互联网信息服务和卫生传输服务业、娱乐业、租赁和商务服务业、家政服务业等。通过经济普查，进一步查清并补上了常规统计中第三产业漏统的部分。

2004 年 GDP 重新核算后，与年快报数相比，第一产业、第二产业的比重有所下降，第三产业比重大

幅度上升。第一产业比重由原来的 15.2% 下降到 13.1%，下降了 2.1 个百分点；第二产业比重由原来的 52.9% 下降到 46.2%，下降了 6.7 个百分点；第三产业比重由原来的 31.9% 上升到 40.7%，上升了 8.8 个百分点。重新核算后，我们可以看出，我国的服务业在经济整体中的份量不像原来估计的那么低，它对我国经济增长的拉动功不可没。然而，我们也要清醒地看到，虽然目前的三次产业结构比原来核算的要合理得多，但第三产业比重偏低的矛盾依然存在。

96. 第三产业的增加值增多，下面说法不正确的是：

- A. 主要是普查的资源来源比以前大大增加
- B. 主要是第三产业的发展速度较以前有很大程度的提高
- C. 主要是这次普查更进一步地摸清了第三产业漏统的部分
- D. 主要是这次普查大大补充了以往常规统计中难以准确全面反映的私营、个体服务业资料以及大量的新兴服务业资料

97. 运输邮电业和批发零售贸易餐饮业占 2004 年 GDP 现价总量的百分比为：

- A. 17.14%
- B. 7.60%
- C. 9.54%
- D. 40.67%

98. 在 2004 年全国 GDP 年快报核算数中，第二产业增加值比第三产业增加值多了：

- A. 47.2%
- B. 65.6%
- C. 69.5%
- D. 76.1%

99. 在 GDP 总量的增加量中，第一产业增加值和第二产业增加值的增加量之和与第三产业增加值的增加量的比为：

- A. 3 : 16
- B. 1 : 12
- C. 2 : 19
- D. 5 : 23

100. 下列说法正确的一项是：

- A. 软件业、娱乐业、租赁和商务服务业等在以前的经济普查中就统计地比较全面准确
- B. 跟 2004 年全国 GDP 年快报核算数比较，除第一产业外，第二、三产业的增加值都有不同程度增长
- C. 与 2004 年快报数相比，第一产业虽然增加值没有增长，但其比重有所上升
- D. 从这一次经济普查看，目前的三次产业结构核算要合理得多

**全部测验到此结束！**