

2019年6月15日青海省公务员考试

《行政职业能力测验》真题

说明

一、此项测验分为五个部分，共120题，总时限120分钟，满分100分。各部分不单独计时，但都给出参考时限，供答题时合理分配时间。

二、此项测验科目代码为“1”。请按照要求在答题卡上填写好自己的姓名，涂写好准考证号、科目代码。

三、必须在答题卡上答题，在题本上答题，一律无效。

严禁折叠答题卡！

第一部分 常识判断

根据题目要求，在四个选项中选出一个最恰当的答案。

1. 党的十九大报告指出，_____是中国特色社会主义最本质的特征，是中国特色社会主义制度的最大优势。

- A. 中国共产党的领导
- B. 人民当家作主
- C. 公有制经济
- D. 民主协商

2. 中央提出“十三五”期间脱贫攻坚的目标是“两不愁三保障”，“三保障”具体是指：

- A. 保障日常吃饭、保障基本医疗、保障基本就业
- B. 保障日常吃饭、保障基本穿着、保障基本就业
- C. 保障义务教育、保障基本穿着、保障安全住房
- D. 保障义务教育、保障基本医疗、保障安全住房

3. 2019年4月27日，习近平总书记在第二届“一带一路”国际合作高峰论坛圆桌峰会上指出，要高质量共建“一带一路”。“一带一路”是“_____”的简称。

- A. 21世纪丝绸之路经济带、海上丝绸之路
- B. 海上丝绸之路经济带、21世纪丝绸之路
- C. 丝绸之路经济带、21世纪海上丝绸之路
- D. 丝绸之路海上经济带、21世纪丝绸之路

4. “正能量”指的是一种健康乐观、积极向上的动力和情感。当下中国社会涌现了许多富有正能量的人和事，这些催人奋进的、充满希望的人和事也带动和影响了周围一批人，从哲学角度看：

- ①正能量具有指导作用，能够将人们的愿望变成现实
- ②正能量具有能动性，能够给人带来信心和力量
- ③正能量具有反作用，能对人体生理活动进行调节和控制
- ④正能量具有创造性，能直接转化为物质力量

- A. ①②
- B. ①④

- C. ②③
- D. ③④

5. 一块屋场，几条板凳，没有主席台，不用音箱话筒，无需讲话稿，聊的是田头村事，谈的是致富之经。这是深受村民点赞的屋场会，贫困户、村干部、驻村工作队等几十人围坐一起，倾听百姓心声，解读扶贫政策，说实话，解决实际问题。屋场会：

- ①有利于增强服务意识，融洽干群关系，为群众办实事
 - ②是对巩固基层政权的有益尝试和探索
 - ③有利于基层群众性自治组织形式的多样化
 - ④是党的群众路线的一种创新，有助于调动村民参与村务管理的热情
- A. ①②
 - B. ①④
 - C. ②③
 - D. ③④

6. 据统计，目前我国老年人已达 2.3 亿，老年消费者这轮“夕阳”本应该成为推动 GDP 发展的一轮“朝阳”，但因为社会保障体系建设滞后，即使是“重阳节”这一天，人们也很难感受到“银发经济”这四个字的分量。这给我们的启示是：

- ①深化改革，有效化解我国的“老年化”矛盾，完善中国特色养老保障制度
 - ②充分认识规律发生作用的条件和范围，使价值规律与我国经济发展相符合
 - ③正确认识和利用社会保障体系与老年消费的客观联系，拉动经济增长
 - ④矛盾具有特殊性，我国不适合发展“银发经济”，而应大力发展“朝阳经济”
- A. ①②
 - B. ②④
 - C. ①③
 - D. ③④

7. 司法公正体现在司法活动各个方面和对司法人员的要求上。下列_____做法体现的不是司法公正的内涵。

- A. 甲法院对社会关注的重大案件通过微博直播庭审过程
- B. 乙法院将本院公开审理后作出的判决书在网上公布
- C. 丙检察院为辩护人查阅、摘抄、复制案卷材料提供便利
- D. 丁检察院为暴力犯罪的被害人提供医疗和物质救助

8. 人民币升值，最有可能出现的是：

- A. 旅游收入增加
- B. 旅游收入减少
- C. 进口增加
- D. 出口增加

9. 钱铺钱庄是明清时期重要的金融机构。钱铺的主要业务是兑换银两，或将顾客手中的铜钱换成银两，或将银两换成铜钱。后来发展成吸收存款、放款和汇兑为主要业务的钱庄。到乾隆年间，钱庄已有相当规模。上述转变的主要原因是：

- A. 以物易物是明清时期商贸主要形式

- B. 工商业发展使区域间长途贸易兴盛
- C. 民营手工业在明清时期获得大发展
- D. 明清时期中国的对外贸易长期出超

10. 面对国际经济合作和竞争格局的深刻变化，顺应国内经济提质增效升级的迫切需要，我国要坚定不移地扩大对外开放，在开放中增强发展新动能、增添改革新动力、增创竞争新优势，推进新一轮高水平对外开放，着力实现合作共赢。据此，下列传导路径正确的有：

- ①实施创新驱动发展战略——形成出口竞争新优势——开放型经济水平提高
 - ②扩大跨境电子商务试点——企业增加出口产品“海外仓”建设——促进经济全球化形成
 - ③推进自贸区谈判——促进贸易投资自由化——构建均衡、共赢、包容的国际经贸体系
 - ④打造新的外向型产业集群——加快“走出去”步伐——外资更多投向中西部地区
- A. ①②
 - B. ②④
 - C. ①③
 - D. ③④

11. 龙卷风的实质是高速旋转的气流。它能把地面上的物体或人畜“吸”起卷入空中。龙卷风能“吸”起物体的原因是：

- A. 龙卷风内部的压强远小于外部的大气压强
- B. 龙卷风利用静电将物体吸到空中
- C. 龙卷风使物体受到的重力变小
- D. 龙卷风增大了空气对物体的浮力

12. 在青海，当我们外出时，看树桩上的年轮，可以识别年轮宽的一面为：

- A. 东方
- B. 南方
- C. 西方
- D. 北方

13. 飞行距离较远时，民航飞机一般适宜在_____飞行。

- A. 散逸层
- B. 对流层
- C. 平流层
- D. 中间层

14. 白纸、黑纸、镜子、红纸四种物体，吸收光的本领从强到弱依次是：

- A. 白纸、黑纸、镜子、红纸
- B. 黑纸、红纸、白纸、镜子
- C. 镜子、白纸、红纸、黑纸
- D. 镜子、黑纸、红纸、白纸

15. 如果国庆节当天是农历九月初三。关于当天月相的描述，正确的是：

- A. 杨同学说：“月球黄昏升出地平线。”
- B. 赖同学说：“上半夜可见于西天。”

- C. 张同学说：“月面东半亮（左）。”
D. 尹同学说：“月球午夜落下地平面。”

16. 在温暖的环境中，苹果、梨放久了会逐渐变成空心，重量明显减轻。其主要原因是：

- A. 苹果、梨的蒸腾作用散失了较多的水分
B. 苹果、梨的呼吸作用消耗了其中的有机物
C. 苹果、梨的中央被细菌、真菌分解掉了
D. 苹果、梨细胞的分裂和生长停止

17. 有史学家评论战国时期的学说称：“战国时代，诸子百家风行一时。各家中有顺势而动的，想要因势利导，借助权力来改造社会；也有逆势而动的，知其不可而为，想依据理想来改造社会。”其中“逆势而动”的学派最有可能的是：

- A. 墨家
B. 纵横家
C. 法家
D. 兵家

18. 下列活动由中国共产党领导的是：

- ①东北义勇军的抗日斗争
②东北抗日联军的斗争
③东北抗日游击队的斗争
④中华共和国人民革命政府的抗日斗争
⑤“一二·九”运动
⑥西安事变
A. ①②③④⑤⑥
B. ①③④⑤
C. ②③⑤⑥
D. ②③⑤

19. 穿越时空，来到 19 世纪 90 年代的英国伦敦，你可能看到的场景是：

- A. 女王召集议会开会，由她选任新首相
B. 泰晤士河水质恶化
C. 爱因斯坦访问伦敦，宣讲相对论
D. 飞机在伦敦上空飞过

20. 支持组织集权的正当理由是：

- A. 提高组织的适应能力
B. 提高组织决策质量
C. 维护政策的统一性与提高行政效率
D. 提高组织成员的工作热情

第二部分 言语理解与表达

本部分包括表达与理解两方面的内容。请根据题目要求，在四个选项中选出一个最恰当的答案。

21. 经典不产自_____的冥想，而源于_____的共鸣。作者自身树立经典意识、在艺术上精益求精，网站编辑把好品质关，及时发掘推荐有潜力的作品；网站、读者、评论家和监管部门也可齐心协力，营造有利环境。

依次填入划横线部分最恰当的一项是：

- A. 隔绝，协作
- B. 隔空，合作
- C. 虚空，现实
- D. 浅层，深度

22. 观察就要用专业的角度去关注、_____周围的事物，有意识地汲取、思索、分析，看在眼里，记在心里。丰富的想象正是来源于知识的广博和平时对生活深入细致的观察。因此，想象并不是凭空_____的。

依次填入划横线部分最恰当的一项是：

- A. 体验，杜撰
- B. 体味，虚构
- C. 体察，臆造
- D. 体察，虚构

23. 在政治、经济多元和一体化的时代，文化语境也呈现多元，出现_____的情感价值取向实属正常现象，我们充分尊重个人的情感选择。但是，过度_____情感的极端自由、极端物欲，其实会给个人的幸福带来许多内伤。

依次填入划横线部分最恰当的一项是：

- A. 林林总总，鼓吹
- B. 琳琅满目，渲染
- C. 纷繁芜杂，追逐
- D. 标新立异，强调

24. 如果冰川融化，海平面上升，世界各国都将要_____被海水淹没地区的人口或者在河道中下游地带建造大坝保护地处低洼地区的城市，这些都需要巨大的花费。因此，世界目前面临的挑战就是限制二氧化碳的排放，从而_____全球变暖所导致的最坏结果的发生，这在未来几十年里更加重要。

依次填入划横线部分最恰当的一项是：

- A. 转移，阻止
- B. 控制，避免
- C. 延缓，减少
- D. 安置，改变

25. 城市的生活资源有限，在数千个城市里，数百个城市供水或供电等已然_____，而且越是密集拥挤的地方污染治理的力度越大，而治理污染越是困难，人口越发失控。当人口承载力日趋饱和，对环境本来是正常的利用，也渐渐变成了不计后果的_____。

依次填入划横线部分最恰当的一项是：

- A. 捉襟见肘，索取
- B. 寥寥无几，掠夺
- C. 不堪重负，破坏
- D. 人满为患，占用

26. 其实，持这种_____的人并不想掩饰他们_____的种族主义观念，说什么“这是一场与一种完全不同的文明和不同的意识形态的斗争，这是美国以前从未经历过的”“当前中国的制度不是西方哲学和历史的产物”“我们首次面对一个非白色人种的大国竞争对手”。这样的鼓噪声，人们并不陌生，使人们不能不想到纳粹当年对犹太民族的恶毒诅咒。

依次填入划横线部分最恰当的一项是：

- A. 是非观念，天生优越
- B. 奇谈怪论，根深蒂固
- C. 奇思怪想，与生俱来
- D. 独立思想，推陈出新

27. 那种抽象地用对技术先进性的讨论取代对实际贸易情况的讨论的分析，意味着将具体的生产过程简化成技术体系中的上游和下游的关系，抽象地谈论哪一方具有创新优势，不提及具体的产业能力和制造体系，得出的结论因此形成了巨大的_____。那种简单地将所谓_____等同于对美方无条件、无底线、无边界的认识，则是典型的_____的表现。

依次填入划横线部分最恰当的一项是：

- A. 反差，实力深浅，妥协退让
- B. 落差，引而不发，投降主义
- C. 扭曲，韬光养晦，虚无主义
- D. 漏洞，涵养蓄积，绥靖主义

28. 所谓幼儿园“小学化”，指的是在幼儿园阶段提前教汉语拼音、识字、计算、英语等小学课程内容。这种现象近年来非常普遍，_____，甚至传导至幼前阶段，也就是还没上幼儿园就开始教这些知识了。更有甚者，小孩还在幼儿园阶段就在上奥数班，至于学拼音、英语，更是_____。上海的家长们为了给孩子报某个毫无资质的学前班，挤破了头不说，排队报名的黄牛号都涨到 5000 元，这事情也一度闹得_____。

依次填入划横线部分最恰当的一项是：

- A. 靡然成风，层现叠出，沸沸扬扬
- B. 蔚然成风，层现叠出，沸反盈天
- C. 靡然成风，司空见惯，沸沸扬扬
- D. 蔚然成风，司空见惯，沸反盈天

29. 自改革开放以来，中国一直在加强科技开发，多次冲破技术封锁，实现弯道超车，_____，靠的就是自主创新。从车辆到线路，从制动到通信信号，没有技术，就从国外引进消化吸收。一步一个台阶，中国高铁企业苦练内功、_____，实现了国人高铁产业腾飞的梦想。以高铁为镜，我们涵养精益求精的大国工匠精神。_____，中国制造面临过这样的尴尬：号称是世界工厂、制造大国，老百姓却_____，去国外抢购保温杯、电饭煲、马桶盖等普通日用品。

依次填入划横线部分最恰当的一项是：

- A. 后来居上，厚积薄发，毋庸讳言，舍近求远
- B. 后发先至，养精蓄锐，毋庸讳言，舍本逐末
- C. 后发先至，养精蓄锐，毋庸置疑，舍近求远
- D. 后来居上，厚积薄发，毋庸置疑，舍本逐末

30. 传统文化是中华民族的灵魂，几千年来，春节庙会、清明祭祖、端午赛龙舟、重阳登高等传统

民俗活动_____，展现了乡土文化旺盛顽强的生命力。乡村旅游大发展，传统村落成为人们_____的旅游胜地，民俗体验、乡村写生等成为消费热点。景德镇陶瓷、淄博琉璃、潍坊风筝等乡土工艺品以及泰山皮影、日照农民画等乡土民间艺术纷纷走出国门，中国乡村文化正_____地走向世界，挺立于世界文化之林。实践证明，中国乡土文化历经劫难而不亡，_____而新生，我们完全有理由树立对乡土文化的自信，这是文化自信的核心构成，决定着文化自信的深度和广度。

依次填入划横线部分最恰当的一项是：

- A. 方兴未艾，趋之若鹜，从容不迫，沧海桑田
- B. 如火如荼，纷至沓来，踌躇满志，饱经风雨
- C. 轰轰烈烈，接踵而至，胸有成竹，饱经沧桑
- D. 方兴未艾，心驰神往，信心百倍，饱经沧桑

31. 中国人喜欢用石头来代表仪式与权力，一个突出的例证是，人们喜欢在石头上进行书法创作，取_____的材料气质，达到永存文字的理想。石头取材方便、质地坚硬、体量巨大、保存容易、镌刻困难、端正严肃、_____等特性，让石头上的书法与其他材料上的书法有所区别。摩崖是中国人创造的、体量最大的书法，选址多在断崖峭壁之上。因此其内容与形式，必须与所处环境_____，既突出周围景观地貌的主题，起到点题作用，又隐身于大山大水之间，强调人与自然的和谐。“石文”兴起的初期，正是纸张发明的时候。其后，石头上的书法与纸张上的书法交织前行，聪明的中国人充分利用石头与纸张不同的载体特性，_____，各自发挥长处，共同建构中国文字、文化与文明的摩天大厦。

依次填入划横线部分最恰当的项是：

- A. 亘古不灭，朴素无华，息息相关，扬长避短
- B. 亘古不灭，朴素无华，休戚相关，相得益彰
- C. 亘古不变，质朴无华，息息相关，扬长避短
- D. 亘古不变，质朴无华，休戚相关，相得益彰

32. 世界经济强劲，中国经济更有力量；国际市场疲软，中国经济也存在不确定性。面对外汇资产缩水风险，出口贸易受到影响和输入性通胀压力上升等_____，中国需要_____考量应对，谋定而后动。制定具有特色的中国方案更是_____。

依次填入划横线部分最恰当的一项是：

- A. 困境，郑重，迫在眉睫
- B. 局势，认真，十万火急
- C. 局面，仔细，急如星火
- D. 考验，审慎，刻不容缓

33. 散存于民间的珍贵文物和艺术品，从19世纪起就大量流向海外，幸存于国内民间的藏品_____，而拥有这些宝贝的藏家对拍卖这件事还抱有怀疑和惧怕的心理，不敢轻易拿出藏品交易。_____的春秋两季拍卖，在不紧不慢的节奏中积累出市场，经过大约10年的蛰伏期，中国文物艺术品价值逐渐_____出来。

依次填入划横线部分最恰当的一项是：

- A. 比比皆是，大张旗鼓，显露
- B. 偶有所闻，循序渐进，展示
- C. 凤毛麟角，周而复始，迸发
- D. 五花八门，水到渠成，呈现

34. 自美国本届政府上台以来，世界主要经济体对美方的_____主义多有领教，对美方处理中美经

贸摩擦的_____心态和极端手法_____。去年以来，美方对欧盟、日本、加拿大等主要经济体纷纷挑起经贸摩擦。

依次填入划横线部分最恰当的一项是：

- A. 霸权，无理，深有感触
- B. 霸凌，骄横，感同身受
- C. 单边，一贯，心知肚明
- D. 强权，习惯，习以为常

35. 各种文明应该交流互鉴、取长补短、美美与共。把国与国之间的问题上升到文明层面，把不同文明降低到人种范畴，不仅_____，而且有百害而无一利。对那些热衷于种族主义的斯金纳们，人们必须大喝一声，_____吧！不要冒天下之大不韪，再执迷不悟、_____，前面就是万丈深渊。

依次填入划横线部分最恰当的一项是：

- A. 毫无正义，金盆洗手，固执己见
- B. 损人害己，果断放弃，不知悔改
- C. 于事无补，悬崖勒马，一意孤行
- D. 打破平衡，回头是岸，怙恶不悛

36. 下列各句在表达上没有语病的一句是：

- A. 为了防止这类交通事故不再发生，我们加强了交通安全的教育和管理
- B. 不管气候条件和地球环境都极端不利，登山队员仍然克服了困难，胜利攀登顶峰
- C. 该市有人不择手段仿造伪劣产品，对这种坑害顾客骗取钱财的不法行为，应给以严厉打击
- D. 马教授领导的科研组研制出能燃用各种劣质煤并具有节煤作用的劣质煤稳燃器，为节能做出了重大贡献

37. 美国在海外推行民主问题时，决策者专注于其他国家的法律和制度而不是其正当文化。他们认为，人们会为了投票的机会而放弃近期的安全和稳定。他们利用军事干预来推行民主价值观，而没有考虑这种做法所带来的问题，而且还忽视了他们希望去说服的那些人的价值观和利益。

上面这段话主要表达的意思是：

- A. 认为在海外推行民主问题时因专注于其他国家的法律和制度而犯了不少错误
- B. 认为在海外推行民主问题时一味地干预而没有考虑他国人民的价值观和利益
- C. 认为美国在海外推行民主问题时犯了三大错误
- D. 认为美国在海外推行民主问题时犯了四大错误

38. 20年前，关于中东地区的高级别外交会议没有美国的参与和领导是不可想象的。如今，土耳其、俄罗斯和伊朗在没有华盛顿的情况下展开磋商，而叙利亚反对派前往莫斯科去讨论国家的未来。俄罗斯也加强了与埃及、土耳其、沙特阿拉伯和以色列的联系。

上面这段话要表达的主要意思是：

- A. 在中东问题上，俄罗斯基本上取代了美国处理中东事务
- B. 美国对中东控制力和影响力明显下降
- C. 中东开始由美国单一主导走向多极化主导
- D. 中东的未来掌握在美国或俄罗斯等大国的手里，自己无法主宰

39. 随着现代化进程的加快，传统文化的发展空间被压缩了。这其中有诸多因素的影响，但传统文化本身应对不灵活、缺乏创新能力也是一个重要原因。一方面是固步自封，不求变革而落伍于时代；一

方面则身在宝山而不自知，优秀的文化财富没有得到充分开发利用。《花木兰》的故事被美国人拿去拍成动画片，影响跨越国界，就充分显示了民间传统文化创新的魅力。

上面这段话要表达的主要意思是：

- A. 分析传统文化未能与时俱进的原因
- B. 保护传统文化的关键是文化创新
- C. 传统文化需要用异国的思维才能创新
- D. 现代化进程加快是传统文化落伍的主要原因

40. 在中国文化苑内，唐诗与宋词构成一双至美无上的艺术精品，共同构成中国封建时代文化的高峰。人们对这两种文体亦颇多评论。有人认为，唐诗才是真正的艺术，精细而高雅，无论是用词还是构思，皆展示文才与思情；而宋词则或多或少有一种鄙俗的质地，类似于今天的通俗文学。有人认为，宋词才是真正的艺术，做到了雅俗共赏，非诗所能比，“梅须逊雪三分白，雪却输梅一段香”。我则以为二者各有所长，不必作无谓的比较。

下面对“梅须逊雪三分白，雪却输梅一段香”这句话在文中所要表达的意思，理解最准确的一项是

- A. 唐诗比宋词更有韵味，更有雅正之质
- B. 唐诗与宋词一样，各有所长，各有所短
- C. 宋词比唐诗更有优势，更有广泛的社会性
- D. 唐诗有梅香，宋词有雪白

41. 所有的农耕文明时代的文化都具有保守性，无论东西方，概无例外。深刻的原因是，在以手工劳动为基础的生产方式中，“原封不动地保持旧的生产方式，却是过去一切工业阶级生存的首要条件”（《马克思恩格斯选集》）。西方文化，尤其是自然科学在西方文艺复兴与18世纪工业革命后之所以发生了深刻性的质变，引发了中西方的对立与冲突，以及中国在自然科学发展上的明显落后，根本原因在于，以机器为生产基础的商品经济生产方式与交换方式取代了以手工工具为基础的自然经济生产方式。

对上面这段话，理解正确的一项是：

- A. 以手工劳动为基础的生产方式，是导致农耕文明时代的文化具有保守性的根本原因
- B. 由表及里，从历史的文化现象角度分析了中西方的对立与冲突形成的深层原因
- C. 无论东西方，在封建时代，都是以农耕文明为主的，故而东西方都具有保守性
- D. 自然科学的质变引发了中西方文化的对立与冲突，引发了生产方式与交换方式的变化

42. 以梅宏团队为研究主力，北京大学作为第一完成单位研发的“云端融合的资源反射机制及高效互操作技术”改变了传统“白盒”互操作技术思路，提出颠覆式的数据互操作技术途径——“黑盒”思路，通过揭示信息系统内部基于云端融合特性的计算反射机理，发明了通过系统客户端外部监测与控制实现业务数据和功能高效互操作的整套技术及平台，突破了信息孤岛业务数据和功能与第三方系统高效互操作这一制约大数据价值链上下游的“卡脖子”技术，使信息孤岛开放效率得到大幅提升。

对上面这段话，下列说法正确的一项是：

- A. 黑盒思路突破了信息孤岛业务数据和功能与第三方系统高效互操作这一制约大数据的整套技术和平台
- B. 梅宏团队利用高效互操作技术揭示了计算机反射机理
- C. 在白盒思路下，信息孤岛开放效率基本上没有什么提升
- D. 黑盒与白盒相比，优势在于其资源反射机理和高效互操作技术

43. 19世纪末20世纪初，是中国面临前所未有的大变革的年代。活跃在那个变革年代的有几位杰出的历史人物，他们凝聚了那个时代的记忆，成为那个时代的符号。梁启超先生就是其中一位。他既是

英勇的斗士，也是深邃的学者：既是不知疲倦的政治家，也是充满了慈爱的长者。遗憾的是，历史没有给予他长久的人生。但这却不影响他形成远超自我生命的学术思想体系。这个学术思想体系随着时间的推移，不仅没有褪色，反而更加熠熠生辉。

对上面这段话理解不正确的一项是：

- A. 文段着墨时代背景，目的是衬托主人公梁启超先生
- B. 文段重点在表明梁启超先生斗士、学者、政治家、长者的身份
- C. 文段用梁启超先生有限的生命来反衬他远超生命的思想
- D. 文段虽然多角度来写梁启超先生，但归根结蒂是想揭示梁启超先生的思想价值

44. 下列各句中，画线的成语使用正确的一项是：

- A. 故宫博物院的珍宝馆里，陈列着各种奇珍异宝、古玩文物，真是沁人心脾
- B. 建设有中国特色的社会主义事业，要靠我们持久奋战，不可能一蹴而就
- C. 经过重新装修，教学楼里里外外改头换面，给了刚返校的师生们一个惊喜
- D. 金庸的武打小说情节起伏跌宕、抑扬顿挫，吸引了广大读者

45. 填入划横线部分最恰当的一句是：

据中国农业大学调查，我国消费者每年在餐桌上浪费的食物总量价值高达 2000 亿元，被倒掉的食物约相当于两亿多人一年的口粮。德国和英国的统计显示，德国居民每年当作垃圾扔掉的可用或部分可用的食品高达 1100 万吨；英国每天有约 700 万片面包、130 万罐酸奶、66 万个鸡蛋被丢弃，其中相当一部分可以食用，这种“舌尖上的浪费”，触目惊心，令人心痛。无数的事实证明：

- A. 当前许多国家食物浪费严重
- B. 中欧食物浪费惊人
- C. 其他国家食物浪费没有中欧明显
- D. 人们对食物的浪费应引起人类的重视与警觉

46. 国家邮政局发展研究中心指数研究室主任刘江说，1~4 月快递业务量完成 170.7 亿件，同比增长 24.8%，是同期服务业生产指数增速的 3 倍多，增速在现代服务业处于领先地位。更可喜的是，快递行业不仅长“块头”，“肌肉”也跟着长，行业发展质量不断提高。1~4 月份，全国快递服务企业业务收入累计完成 2135.4 亿元，同比增长 22.8%；行业日均快件处理量达 1.6 亿件，最高达 1.8 亿件，单月快递业务量已接近 50 亿件数量级。

下列选项适合做文章标题的是：

- A. 快递行业，跑出加速度
- B. 农村快递增长迅猛
- C. 快递应补齐短板
- D. 快递高位运行

47. ①五四运动是彻底反帝反封建的伟大爱国革命运动。

②深刻认识五四运动是一场伟大爱国革命运动，始终高举爱国主义伟大旗帜。

③五四运动倡导的爱国，就是要争取民族独立、维护国家主权和领土完整、反对帝国主义奴役和封建军阀的卖国行径，为中华民族的爱国主义注入了新的内涵。

④五四精神的主要内容是爱国、进步、民主、科学，而其核心是爱国主义精神。

⑤爱国主义是一种既质朴又深沉的情感，是实现中华民族伟大复兴的精神动力，无论何时我们都要厚植爱国主义情怀、高举爱国主义伟大旗帜。

将上面的句子组成语意连贯的一段话，排列正确的一项是：

- A. ①②④③⑤
- B. ②①④③⑤
- C. ④③①⑤②
- D. ⑤②①④③

48. 下列空缺处句子排列最恰当的一项是：

无论是读者还是作者，我们在接触文字时，常常由我们的个性、人生经历、生长环境这三个因素来决定我们的审美趣味。_____，_____，_____。

_____，_____，_____。这三点功夫就是我们常说的学问修养，而纯正的趣味必定是学问修养的结果。

- ①它们的影响有好有坏
- ②我们应该根据固有的个性而加以磨砺陶冶
- ③不易也不必完全摆脱
- ④这三点都是很自然地套在一个人身上的
- ⑤接收多方的传统习尚而融会贯通
- ⑥扩充身世经历而加以细心体验

- A. ②⑤⑥④①③
- B. ②⑥⑤④③①
- C. ④①③②⑥⑤
- D. ④③①②⑤⑥

49. 下列空缺处句子排列最恰当的一项是：

在中国传统文化中，道家的老子与庄子常常两位一体；儒家的孔子与孟子也是形影相随的，_____？。

- ①既有《论语》，则有《孟子》
- ②孔子曰“成仁”，孟子曰“取义”，他们的宗旨也相配合
- ③冯友兰先生既把孔子比作苏格拉底，又把孟子比作柏拉图
- ④既有大圣，则有亚圣
- ⑤司马迁说：“孟子序诗书，述仲尼之意。”

- A. ④②①③⑤
- B. ④①②⑤③
- C. ①④②③⑤
- D. ①②④⑤③

50. ①右手下坡去十来步，就是一条小溪，水却不深

②踏着溪中的几块垫脚石过了溪，路旁有茅棚，住着一两家老百姓

③小屋前门有一条小路，曲折向外，在松林中行数百米，便豁然开朗

④还有很多美丽的骨牌草，有的还是很青翠，有的已经枯黄

⑤左手上坡是一条较为正式的路，隔路又是一片松林，坡头长满了半人高的茅草

将上面的句子组成语意连贯的一段话，排列正确的一项是：

- A. ②①④③⑤
- B. ③④①⑤②
- C. ②⑤①④③

D. ③⑤④①②

51. 依次填入下面一段文字横线处的语句，衔接最恰当的一组是：

在中国古代有四大发明，但也有人认为，中国的珠算也当是一大发明。为什么呢？中国珠算以算盘为工具进行数字计算，借助算盘和口诀，通过人手指拨动算珠，就可以完成高难度的计算。

_____，_____，_____？_____，
_____。2013年12月4日，中国珠算被正式列入联合国教科文组织的人类非物质文化遗产名录。

- ①即使是不识字的人也能熟练掌握
 - ②珠算算盘结构简单
 - ③蕴含了坐标几何原理
 - ④包含了珠算的所有秘密
 - ⑤珠算口诀则是一套完整的韵味诗歌
 - ⑥用珠算运算，无论速度还是准确率都可以跟电子计算器媲美
- A. ②④⑤③⑥①
B. ②③⑤④①⑥
C. ⑥①②⑤④③
D. ⑥②④⑤③①

52. 下列空缺处的句子衔接最恰当的一项是：

她登上山崖之巅，纵目四望，时值深秋，崖角的菊花_____。

- A. 十分秀丽，光洁鲜亮。竞相开放，争奇斗艳，花蕊嫩黄，花瓣层层叠叠
- B. 竞相开放，争奇斗艳。花蕊嫩黄，花瓣层层叠叠，光洁鲜亮，十分秀丽
- C. 光洁鲜亮，十分秀丽。花蕊嫩黄，花瓣层层叠叠，竞相开放，争奇斗艳
- D. 花瓣层层叠叠，竞相开放。花蕊嫩黄，光洁鲜亮，争奇斗艳，十分秀丽

53. 空缺处的句子衔接最恰当的一项是：

若要谈论中国的散文，有人非常认可朱自清，有人则赞赏宗白华，有人则喜欢余秋雨，但是我却更爱余光中，_____ ① _____，徐疾多致的节奏代替了平铺直叙的语序，_____ ② _____，幽默风趣的妙语代替了装腔作势的教训。

- A. ①簇新的意象代替了被嚼烂的少女和梦的俗喻②澎湃澎湃的谈吐代替了矫揉造作的伪情滥调
- B. ①被嚼烂的少女和梦的俗喻被簇新的意象代替了②矫揉造作的伪情滥调被澎湃澎湃的谈吐代替了
- C. ①簇新的意象代替了矫揉造作的伪情滥调②澎湃澎湃的谈吐代替了被嚼烂的少女和梦的俗喻
- D. ①被嚼烂的少女和梦的俗喻被澎湃澎湃的谈吐代替了②矫揉造作的伪情滥调被簇新的意象代替了

54. 依次填写在甲乙丙三处横线上的句子，最恰当的一项是：

上个世纪八十年代初，我刚刚参加工作，_____ 甲 _____后来回想起来，自己也常常惊讶于那时候的大胆：_____ 乙 _____却居然敢放言高论，_____ 丙 _____。

- 甲：①我为了赶任务开始写一篇关于文学的论文，②我开始写一篇关于文学的论文，为了赶任务，
乙：①对于本国的古典文学缺乏系统研究，对于欧洲文学所知有限，而政治思想水平也很低的那时的我，②我那时对于本国的古典文学缺乏系统研究，对于欧洲文学所知有限，而政治思想水平也很低，
丙：①真是大胆的事。②岂非大胆？

- A. 甲①，乙①，丙②
- B. 甲①，乙②，丙②

- C. 甲②, 乙①, 丙①
- D. 甲②, 乙①, 丙②

55. 下列各项中最适合填在横线上的一项是:

人们常常生活在实际生活中, 而文人和哲人则常常生活在想象世界里。我们生活中的一滴一滴, 或喜或悲, 在文人笔下成为悲欢离合的故事, 而在哲人眼里, 则是一篇篇的哲学故事。其中, 一位哲人对乐观与悲观这样解释: 譬如面对着桌子上的半杯水, 乐观主义者说这个杯子的一半是满的, 悲观主义者说这个杯子一半是空的, 显然, _____, 使我们在任何时候任何条件下都不会失去信心和追求。一旦遇到困难, 我们黯淡的心情也能够很快豁然开朗, 从种种苦恼中自我解脱。

- A. 这两种理解有其合理性也有一些片面性
- B. 乐观主义者比悲观主义者更有利于人类进步
- C. 人与人的观察角度和思维方式是不同的
- D. 观察事物时善于选择生活中积极的一面

第三部分 数量关系

根据题目要求, 在四个选项中选出一个最恰当的答案。

56. 实验室有 A、B、C 三个实验试管, 分别装有 10 克、15 克、20 克的水, 小明把含有一定浓度的 10 克药水倒进 A 试管中, 混合后取出 10 克倒入 B 试管中, 再次混合后, 从 B 试管中取出 10 克倒入 C 试管中, 最后用化学仪器检测出 C 试管中药水浓度为 2%。试计算刚开始倒入 A 试管中药水的浓度是多少?

- A. 10%
- B. 20%
- C. 30%
- D. 40%

57. 正值毕业季, 306 宿舍有 A、B、C、D 四位男同学, 他们准备找班主任宋老师合影, 若要求宋老师坐正中间, A、B 两位同学不能挨着坐, 那么总共有多少种坐法?

- A. 8 种
- B. 12 种
- C. 16 种
- D. 24 种

58. 一个时钟每小时慢 4 分钟, 照这样计算, 早上 6:00 对准标准时间后, 当日晚上该时钟指向 8:00 时, 标准时间是多少?

- A. 20:56
- B. 21:00
- C. 21:30
- D. 21:56

59. 陈老师奖励小美、小林、小红各人民币若干元, 三人去文具店买学习用品。其中, 小美买了 6 支中性笔, 小林买了 3 支钢笔, 小红买了 2 支钢笔、1 支中性笔和 2 支铅笔。已知三人用去的钱数一样, 则 3 支钢笔的价格是几支铅笔的价格?

- A. 4 支
- B. 8 支

- C. 10 支
- D. 12 支

60. 林华全家是阅读爱好者，家里有各种书籍，版本也多。已知他家有五分之三的书是中文版的，六分之一是英文版的，八分之一是中英文互译版的，还有多于 11 本但少于 17 本是其它版本的，问他家有多少本英文版书？

- A. 72 本
- B. 20 本
- C. 15 本
- D. 13 本

61. 某日停电，房间里同时点燃了两支同样长的蜡烛，两支蜡烛的质量不同，一支可以维持 4 小时，一支可以维持 7 小时。来电时，发现其中一只剩下的长度是另一支剩下长度的 4 倍，请问这次停电时间是多久？

- A. 2.5 小时
- B. 3 小时
- C. 3.5 小时
- D. 3.8 小时

62. 汽车在平直的公路上运动，它先以速度 V 行驶了 $\frac{2}{5}$ 的路程，接着以 30km/h 的速度驶完余下的 $\frac{3}{5}$ 路程，若全程平均速度是 40km/h ，则 V 是多少？

- A. 60km/h
- B. 70km/h
- C. 80km/h
- D. 90km/h

63. 一个长方体木块恰能切割成五个正方体木块，五个正方体木块表面积之和比原来的长方体木块的表面积增加了 200cm^2 。则长方体木块的体积为多少？

- A. 625cm^3
- B. 125cm^3
- C. 500cm^3
- D. 750cm^3

64. 小王负责甲、乙、丙、丁四个采购基地的采购任务，甲、乙、丙、丁四基地分别需要每隔 2 天、4 天、6 天、7 天去采购一次。7 月 1 日，小王分别去了四个基地采购，问他整个 7 月有几天不用去采购基地采购？

- A. 10 天
- B. 11 天
- C. 12 天
- D. 13 天

65. 某企业设计了一款工艺品，每件的成本是 70 元，为了合理定价，投放市场进行试销。据市场调查，销售单价是 120 元时，每天的销售量是 100 件，而销售单价每降价 1 元，每天就可多售出 5 件，但要求销售单价不得低于成本。则销售单价为多少元时，每天的销售利润最大？

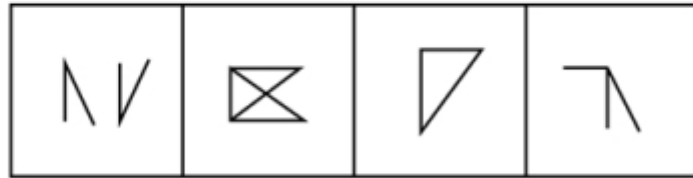
- A. 100 元
- B. 102 元
- C. 105 元
- D. 108 元

第四部分 判断推理

本部分包含图形推理、定义判断、类比推理和逻辑判断四个部分，请根据题目的要求选择最佳选项。

一、图形推理。请按每道题的答题要求作答。

66. 从所给的四个选项中，选择最合适的一个填入问号处，使之呈现一定的规律性。



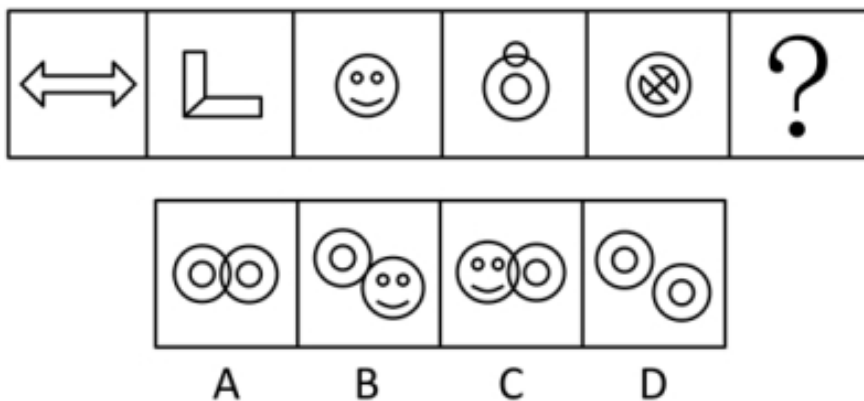
A B C D

67. 从所给的四个选项中，选择最合适的一个填入问号处，使之呈现一定的规律性。




A B C D

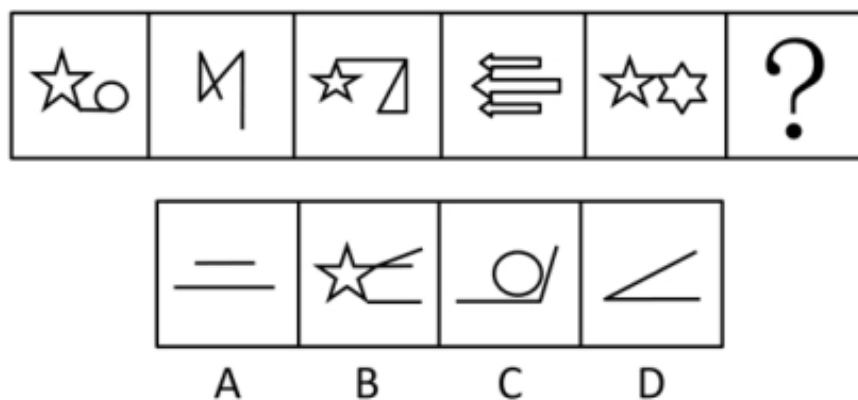
68. 从所给的四个选项中，选择最合适的一个填入问号处，使之呈现一定的规律性。




69. 从所给的四个选项中，选择最合适的一个填入问号处，使之呈现一定的规律性。



70. 从所给的四个选项中，选择最合适的一个填入问号处，使之呈现一定的规律性。



71. 题中包含六组图形，请把它们分为两类，使得每一类图形都有各自的共同特征或规律。



- A. ①④⑥，②③⑤
 B. ①④⑤，②③⑥
 C. ①②③，④⑤⑥
 D. ①③⑤，②④⑥

二、定义判断。每道题先给出定义，然后列出四种情况，要求你严格依据定义，从中选出一个最符合或最不符合该定义的答案。注意：假设这个定义是正确的，不容置疑的。

72. 游戏化管理：是指在不是游戏的场景里使用得分、等级排序、竞争等游戏中的元素的管理行为。它在工作环境中的运用往往可以让员工增加感情投入，从而提高效率。

根据上述定义，下列属于游戏化管理行为的是：

- A. 某翻译软件公司动员办公室员工参与“找茬”，寻找语言翻译错误
 B. 扮演卡通人物来吸引大家的注意力
 C. 公司聘用新的管理层
 D. 学校要求教师不得进行学生考试得分排名

73. 可恢复性评价：是指突发事件后、应急管理结束前，对事件的现状恢复到基本正常状态的能力的评价以及完成恢复所需要的时间和资源的评价。

根据上述定义，下列属于可恢复性评价的是：

- A. 某地地震后，民政部向灾区发放救灾物资
 B. 卫生部估计 H1N1 流感疫苗研发所需时间
 C. 重大交通事故发生后，交通管理部门估计交通事故造成的堵车时间
 D. 上级指示 48 小时内解决因大雪封路而滞留车站的乘客的交通问题

74. 制度企业家：是指不仅发挥着传统企业家的功能，同时也在他们的事业发展过程中帮助建立市场体制的那些人。他们对发展环境下的机会高度敏感，敢于突破制度壁垒，来获得可观的收益。

根据上述定义，下列不属于制度企业家的是：

- A. 开发网约车系统出行改变出租车行业运营模式的某企业家
 B. 建立第三方支付方式和各大金融机构合作的某企业家

- C. 成立教育集团提升民间办学能力的某企业家
- D. 创新即时通讯模式改变人们信息传递方式的某企业家

75. 社会整合：是指调整或协调社会各部分之间的矛盾和冲突，使整个社会成为一个统一的运行良好的体系的过程。通过社会整合，使社会体系中既互相独立又互相联系的各个部分之间互相顺应，形成均衡状态。

根据上述定义，下列不属于社会整合的是：

- A. 经济发展中产生的新的社会阶层人士
- B. 地区间的文化交融
- C. 打击各类违法犯罪行为
- D. 中央一号文件指导“三农”工作

76. 同辈压力：是指同辈人互相比较中产生的心理压力，一个同辈人团体对个人施加影响，会促使个人改变其态度、价值观或行为以遵守团体准则。

根据上述定义，下列属于同辈压力的是：

- A. 领导对下属的批评
- B. 同事间的关系调处
- C. 年轻人的穿戴攀比
- D. 部门间的业务比赛

77. 显性成本：是指厂商在生产要素市场上购买或租用所需要的生产要素的实际支出，即企业支付给企业以外的经济资源所有者的货币额。例如支付的生产费用、工资费用、市场营销费用等，因而它是有形的成本。

根据上述定义，下列金额不属于显性成本的是：

- A. 公司支付 1 万元租用商场大厅进行现场营销
- B. 原材料涨价使企业产品单位成本多花费 1 万元
- C. 企业每平米价值 1 万元的厂房
- D. 企业支付给部门经理的 1 万元月薪

78. 零工经济：是指由工作量不多的自由职业者构成的经济领域，利用互联网和移动技术等快速匹配供需方，主要包括群体工作和经应用程序接洽的按需工作两种形式。换句话说，之前的工作关系是“单位——人”，而现在的主流关系则是“平台——人”。

根据上述定义，下列属于零工经济的是：

- A. 出租车行业
- B. 电商网站维护行业
- C. 外卖配送行业
- D. 交通维护志愿者行为

79. 愿望投射：是指把自己的主观愿望投射于他人，认为他人也如自己所期望的那样，把希望当成了现实。结果往往对他人的情感、意向做出错误评价，歪曲了他人，造成交往障碍。

根据上述定义，下列属于愿望投射的是：

- A. 人无我有，人有我优
- B. 世上本无事，庸人自扰之
- C. 别人笑我太疯癫，我笑他人看不穿

D. 我之所虑，人之所想

80. 高原现象：是指学生在学习进程中常会有这样一个阶段，即学习成绩到一定程度时，继续提高的速度减慢，有的人甚至发生停滞不前或倒退的现象。

根据上述定义，下列属于高原现象的是：

- A. 高考临近，小郑感到睡眠不足，越来越没有学习的动力了
- B. 高考模拟考试，小齐都考得很好，他觉得自己学不学都能考上好大学
- C. 高考三轮复习，小赵感到提高不多，认为复习没用，不愿再看书了
- D. 高考过后，小韩考得不错，她认为已经超常发挥了

81. 数字鸿沟：是指在全球数字化进程中，不同国家、地区、行业、企业、社区之间，由于对信息、网络技术的拥有程度、应用程度以及创新能力的差别而造成的信息落差的趋势。

根据上述定义，下列现象属于数字鸿沟的是：

- A. 网络电视之所以受欢迎，就是其将被动接收变为主动选择
- B. 现代市场经济环境下，大企业有能力和资本建立大数据系统，小企业经常望其项背
- C. 发达国家的生产技术是在贸易中形成比较优势的主要因素
- D. 网络时代下，大城市和小城市的信息获取速度已经相差无几

82. 定义：

(1) 本源制度是指在人类社会初期就形成的、并在以后的社会生活中发挥着基本作用，人类生存所依赖的最基本的社会制度。

(2) 派生制度是后来出现的、在本源制度的基础上形成并发展起来的社会制度。

根据上述定义，下列选项同时包含了本源制度和派生制度的是：

- A. 君主制度和民主制度
- B. 等价交换制度和社会主义市场经济制度
- C. 社会契约制度和法律规范
- D. 独裁统治和社会主义制度

83. 定义：

(1) 无意注意：是指没有预定目的、不需要意志努力、不由自主地对一定事物所产生的注意。

(2) 有意注意：是指自觉的、有预定目的的，必要时还需要付出一定意志努力的注意。

根据上述定义，下列选项同时包含了无意注意和有意注意的是：

- A. 小昕在上班时看到路过的领导很不高兴，认为是自己工作出了错
- B. 小晖想买一本时尚杂志，上网搜索了很久都没有满意的
- C. 小妍下班时看到了临街橱窗里的一件裙子，她立即到店里试穿并察看面料和样式
- D. 小军在外吃饭时看到了高中同桌，正准备打招呼看到领导走了过来

三、类比推理。每道题先给出一组相关的词，要求你在备选答案中找出一组与之有逻辑关系上最为贴近、相似或匹配的词。

84. 理想：打算

- A. 计算：算计
- B. 品德：道德
- C. 人杰：人才
- D. 空闲：无聊

85. 知识分子：民主党派成员

- A. 党外人士：无党派人士
- B. 手机：电视机
- C. 演员：主演
- D. 企业家：华侨

86. 拘泥：潇洒

- A. 粗犷：精致
- B. 帅气：促狭
- C. 勤俭：消费
- D. 才华：粗鄙

87. 金子：银子

- A. 电脑：汽车
- B. 王阳明：格物论
- C. 韭菜：洋葱
- D. 唐诗：贺知章

88. 文字：表达

- A. 康熙：乾隆
- B. 志向：领导
- C. 议论文：论证
- D. 机关：公务员

89. 满族人：后金

- A. 蒙古人：元朝
- B. 匈奴人：南宋
- C. 中国：联合国
- D. 市领导：市政协

90. 科学：社会科学：自然科学

- A. 轿车：货车：工程车
- B. 第二产业：建筑业：工业
- C. 医院：医生：护士
- D. 社区：房屋：居民

91. 展览：铭记：历史

- A. 广告：推广：口碑
- B. 处分：告知：结果
- C. 晚会：庆祝：节日
- D. 研究：阅读：文献

92. 三角形 对于 ()，相当于 词语 对于 ()

- A. 多边形；中文
- B. 圆形；词汇
- C. 锐角；字
- D. 稳定；才能

93. 秀外慧中 对于 ()，相当于 () 对于 文韬武略。

- A. 声名在外；大权在握
- B. 左顾右盼；经天纬地
- C. 才貌双全；文武双全
- D. 悠然自得；文采超然

四、逻辑判断。每道题给出一段陈述，这段陈述被假设是正确的，不容置疑的，要求你根据这段陈述选择一个正确答案。注意：正确答案应与所给的陈述相符合，不需要任何附加说明即可以从陈述中直接推出。

94. 一个不尊重他人的人不会得到他人的尊重，一个不会反省的人不会真正地尊重他人。张三是一个会反省的人。

如果上述断定为真，那么以下哪项一定为真？

- A. 张三会真正地尊重他人
- B. 张三会得到他人的尊重
- C. 张三不会真正地尊重他人
- D. 无法得出张三是否会尊重他人

95. 所有西宁人都是青海人；所有西宁人都喜欢吃面食；有些青海人喜欢旅游。

如果以上断定成立，那么下列哪项能够从中推出？

- I. 有些青海人不是西宁人。
 - II. 有些青海人不喜欢旅游。
 - III. 有些青海人喜欢吃面食。
- A. 仅仅 I
 - B. 仅仅 II
 - C. 仅仅 III
 - D. 仅仅 I 和 III

96. 张楠是某研究所的工作人员，他的朋友都是博士或者教授。王晓是该研究所的工作人员，赵琳是张楠的中学同学。

如果上述信息为真，则以下哪项一定为真？

- A. 王晓是张楠的朋友
- B. 赵琳不是张楠的朋友
- C. 如果王晓是博士，那么王晓是张楠的朋友
- D. 如果赵琳是张楠的朋友，那么她是博士或者教授

97. 所有犯罪行为都会受到刑法制裁，有的违法行为是犯罪行为，黄涛的行为是违法行为。

如果上述断定为真，则以下哪项必定为真？

- A. 有的违法行为会受到刑法制裁
- B. 黄涛的行为是犯罪行为

- C. 黄涛的行为会受到刑法制裁
- D. 所有受到刑法制裁的行为都是犯罪行为

98. 根据统计,电瓶车引发的交通事故占全部交通事故的比例超过 40%,引起了国家相关部门的重点关注。电瓶车事故的发生主要由电瓶车速度快、电瓶车主不遵守交通规则等引起。国家为加强对电瓶车的管理,规定新生产、销售的电瓶车车速不得超过 25KM/h,质量不能超过 55KG。专家认为,这样能够大幅减少电瓶车引发的交通事故。

以下哪项为真,最能质疑上述专家的结论?

- A. 电瓶车引发的交通事故主要是由电瓶车本身的车速过快引起的
- B. 电瓶车引发的交通事故中,车速快虽然是其中一个原因,但最主要的是电瓶车主不遵守交通规则
- C. 很多城市电瓶车道比较窄,电瓶车经常碰撞在一起
- D. 以前发生的交通事故中,机动车引起的交通事故比例更高

99. 即将毕业时,某班要评选优秀毕业生,班级内部进行讨论中。

班长:要么李雪被评为优秀毕业生,要么王磊被评为优秀毕业生。

团支书:我不同意。

以下哪项准确表达了团支书的意见?

- A. 李雪和王磊都被评为优秀毕业生
- B. 李雪和王磊都不能评为优秀毕业生
- C. 要么李雪和王磊都被评为优秀毕业生,要么李雪和王磊都不能评为优秀毕业生
- D. 李雪被评为优秀毕业生,王磊不能评为优秀毕业生

100. 只有社会稳定,经济才能发展。只有经济发展了,人民的生活水平才能提高。如果没有财富的公平分配,社会就不会稳定。

如果以上陈述为真,则以下各项都为真,除了哪一项?

- A. 只有社会稳定,人们的生活水平才能提高
- B. 如果人民的生活水平没有提高,那么经济没有得到发展
- C. 如果人民的生活水平提高了,那么社会必定是稳定的
- D. 如果财富能公平分配,那么人民的生活水平就会提高

101. 一项最新研究发现,经常喝酸奶可降低儿童患蛀牙的风险。在此之前,也有研究人员提出酸奶可预防儿童蛀牙,还有研究显示,黄油、奶酪和牛奶对预防蛀牙并没有明显效果。虽然多喝酸奶对儿童的牙齿有保护作用,但酸奶能降低蛀牙风险的原因仍不明确。目前一种说法是酸奶中所含的蛋白质能附着在牙齿表面,从而预防有害酸侵蚀牙齿。

以下哪项如果为真,最能支持这项研究发现?

- A. 黄油、奶酪和牛奶的蛋白质成分没有酸奶丰富,对儿童牙齿的防蛀效果不明显
- B. 儿童牙龈的牙釉质处于未成熟阶段,对抗酸腐蚀的能力低,人工加糖的酸奶会增加蛀牙的风险
- C. 有研究表明,儿童每周至少食用 4 次酸奶可将蛀牙发生率降低 15%
- D. 世界上许多国家的科学家都在研究酸奶对预防儿童蛀牙的作用

102. 大多数独生子女都有以自我为中心的倾向,有些非独生子女同样有以自我为中心的倾向,自我为中心倾向的产生有各种原因,但一个共同原因是缺乏父母的正确引导。

如果上述判定为真,则以下哪项一定为真?

- A. 每个缺乏父母正确引导的家庭都有独生子女

- B. 有些缺乏父母正确引导的家庭有不止一个子女
- C. 有些家庭虽然缺乏父母正确引导，但子女并不以自我为中心
- D. 缺乏父母正确引导的多子女家庭，少于缺乏父母正确引导的独生子女家庭

103. 昨天晚上，马辉或者去体育馆打球，或者去拜访他的老师秦楠。如果昨天晚上马辉开车，那么他就没有去体育馆打球。只有马辉和他的老师秦楠事先约定好，他才会去拜访他的老师。事实上，马辉事先与他的老师秦楠没有约定。

根据以上陈述，可以得出以下哪项一定为真？

- A. 昨天晚上马辉与他老师秦楠一起去体育馆打球
- B. 昨天晚上马辉拜访了他的老师秦楠
- C. 昨天晚上马辉没有开车
- D. 昨天晚上马辉没有去体育馆打球

104. 某单位领导决定在王、陈、周、李、林、胡六人中挑几个人去执行一项重要任务，执行任务的人选应满足以下所有条件：王、李两人中只要一人参加；李、周两人中也只要一人参加；王、陈两人至少有一人参加；王、林、胡三人中应有两人参加；陈和周要么都参加，要么都不参加；如果林参加，李一定要参加。

据此，可以推出以下哪一项是正确的？

- A. 王、陈不参加
- B. 林、胡不参加
- C. 周、李不参加
- D. 李、林不参加

105. 人口增长问题是世界各国尤其是发达国家面临的问题。发达国家普遍面临着生育率低、人口增长缓慢甚至是负增长的状况，这直接影响着经济发展和民族传承。我国在实行计划生育政策的30年后，也面临着类似的问题，因此我国逐渐放开二胎政策。但实际效果来看，效果并不理想。有专家指出，二胎政策效果不理想主要源于社会压力太大。

以下哪项为真，最能支持上述专家的观点？

- A. 二胎政策放开后，许多想生的70后夫妻已经过了最佳生育年龄
- B. 90后的青年夫妻更愿意过二人世界，不愿意多生孩子
- C. 因为养孩子的成本过高，导致很多夫妻不愿意多生孩子
- D. 社会环境的污染影响着很多青年夫妻的生育能力

第五部分 资料分析

所给出的图、表、文字或综合性资料均有若干个问题要你回答。你应根据资料提供的信息进行分析、比较、计算和判断处理。

一、根据以下资料，回答106~110题。

2018年我国国内生产总值900309亿元，比上年增长6.6%，全国居民人均可支配收入28228元，比上年增长8.7%，全国居民恩格尔系数为28.4%。2018年我国总人口139538万人，比上年增加530万人，其中城镇常住人口83137万人，全年出生人口1523万人，死亡人口993万人。

2018年我国货物进出口总额305050亿元，比上年增长9.7%。其中，出口164177亿元，增长7.1%；进口140873亿元，增长12.9%。货物进出口顺差23304亿元，比上年减少5217亿元。对“一带一路”沿线国家进出口总额83657亿元，比上年增长13.3%。其中，出口46478亿元，增长7.9%；进口37179

亿元，增长 20.9%。

2018 年社会消费品零售总额 380987 亿元，比上年增长 9%。全年实物商品网上零售额 70198 亿元，比上年增长 25.4%。按经营地统计，城镇消费品零售额 325637 亿元，增长 8.8%；乡村消费品零售额 55350 亿元，增长 10.1%。按消费类型统计，商品零售额 338271 亿元，增长 8.9%；餐饮收入额 42716 亿元，增长 9.5%。

注释：出生率=（年内出生人数/年内人口数）×1000%

死亡率=（年内死亡人数/年内人口数）×1000%

常住人口城镇化率=年内城镇常住人口数/年内人口数

106. 2017 年我国人均国内生产总值约为：

- A. 6 万元
- B. 6.5 万元
- C. 7 万元
- D. 7.5 万元

107. 2018 年我国常住人口城镇化率约为当年人口出生率的：

- A. 5.5 倍
- B. 5.9 倍
- C. 55 倍
- D. 59 倍

108. 2018 年我国货物进出口顺差总额和出口总额较上一年分别：

- A. 减少 22%，增加 10684 亿元
- B. 减少 18%，增加 10884 亿元
- C. 增加 18%，增加 10874 亿元
- D. 增加 18%，增加 10654 亿元

109. 2018 年我国对“一带一路”沿线国家的贸易顺差为（）亿元。

- A. 11308
- B. 10190
- C. 46478
- D. 9299

110. 下列关于我国经济和社会发展情况描述正确的有：

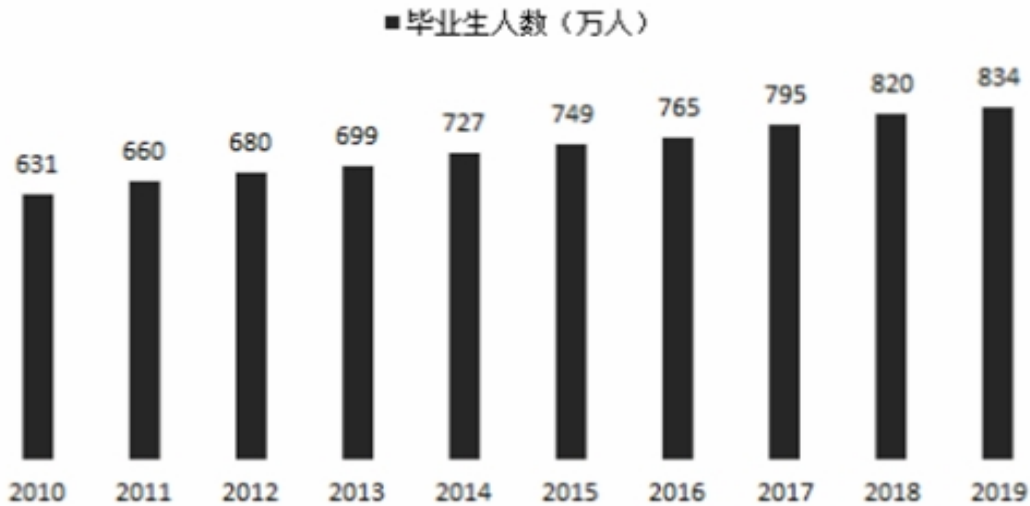
- ①2018 年城镇消费品零售额占社会消费品零售总额的比重为 85.5%
- ②相比 2017 年，2018 年数据增长最快的是全年实物商品网上零售额
- ③我国对“一带一路”沿线国家的贸易顺差值，2017 年大于 2018 年
- ④2017 年我国餐饮收入额在 40000 亿元以上

- A. 1 个
- B. 2 个
- C. 3 个
- D. 4 个

二、根据以下资料，回答 111~115 题。

1979年全国普通高校毕业生人数为8.5万人，1980年为14.7万人，2001年为114万人，2002年为145万人，2010年较上一年同比增长3.4%，2018年首次突破了800万人，2019年预计达到834万人，毕业生就业创业面临严峻形势。

2010-2019年全国普通高校毕业生人数



一线城市	就业满意度（%）	部分新一线城市	就业满意度（%）
北京	75.9	杭州	75.3
		宁波	72.0
上海	73.9	天津	71.6
		南京	69.7
广州	71.0	苏州	68.7
		成都	67.4
深圳	70.2	武汉	66.1
		西安	64.9
		重庆	64.8
		郑州	63.1

111. 2009年全国普通高校毕业生人数约为：

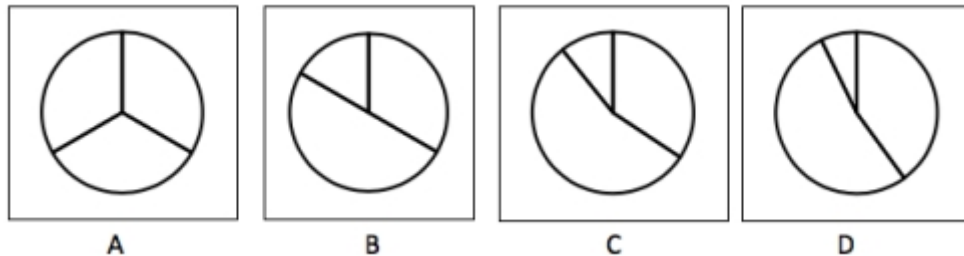
- A. 600万人
- B. 610万人
- C. 620万人
- D. 630万人

112. 在2010~2019年中，全国普通高校毕业生同比增长最快的两个年份是：

- A. 2011年和2014年

- B. 2011 年和 2017 年
- C. 2014 年和 2017 年
- D. 2018 年和 2019 年

113. 最能准确反映 2001 年，2010 年和 2019 年全国普通高校毕业生人数比重的统计图是 ()。



- A. A
- B. B
- C. C
- D. D

114. 下列关于 2017 届本科毕业生毕业半年后在各城市的就业满意度排序正确的一项是：

- A. 北京 > 上海 > 广州 > 天津
- B. 广州 > 深 > 南京 > 郑州
- C. 上海 > 深圳 > 宁波 > 重庆
- D. 深圳 > 苏州 > 武汉 > 成都

115. 根据以上资料，下列说法正确的有：

- ①2019 年全国普通高校毕业生人数约为 1979 年人数的 100 倍
- ②近 5 年全国普通高校毕业生人数基数很大，增长速率比较稳定，每年都是按照 2%-5% 的速度在增长
- ③近 8 年间累计培养全国普通高校毕业生人数已经超过 6000 万人，按现有的增长速度，估计 2020 年全国普通高校毕业生人数将达到 840 万人以上
- ④2017 届本科毕业生毕业半年后在各城市的就业满意度高于 71% 的城市有 6 个
- ⑤在一线城市中，北京是就业满意度最高的城市，其次是杭州

- A. 1 个
- B. 2 个
- C. 3 个
- D. 4 个

三、根据以下资料，回答 116~120 题。

Q 省 2018 年客货运输换算周转量 5096.9 亿吨公里，比上年增长 4.5%。货物周转量 4143.3 亿吨公里，增长 0.8%。其中，铁路周转量 729.6 亿吨公里，下降 10.0%；公路周转量 2731.8 亿吨公里，增长 5.9%。旅客周转量 1768.2 亿人公里，增长 12.8%。其中，铁路周转量 865.6 亿人公里，增长 28.0%；公路周转量 767.3 亿人公里，下降 1.2%；民航周转量 132.3 亿人公里，增长 18.0%。

2018年Q省各种运输方式完成客货运输量及其增长速度

指标	计量单位	绝对数	比上年增长(%)
货运量	万吨	215124.2	5.7
其中：铁路	万吨	4183.2	-6.9
公路	万吨	184830.9	7.1
水运	万吨	25109.2	-2.2
民航	万吨	6.1	-2.7
管道	万吨	994.8	21.9
客运量	万人	151080.5	-7.0
其中：铁路	万人	10390.2	9.4
公路	万人	138221.0	-8.2
水运	万人	1533.9	5.9
民航	万人	935.4	7.5

116. 2018年，Q省货运量增速最大的是：

- A. 铁路
- B. 管道
- C. 公路
- D. 民航

117. 2017年，Q省货物周转量为：

- A. 4877.4亿吨公里
- B. 4820.3亿吨公里
- C. 4153.3亿吨公里
- D. 4110.4亿吨公里

118. 2018年，Q省公路客运量占客运总量的比重约为：

- A. 91.5%
- B. 90.9%
- C. 89.5%
- D. 85.9%

119. 2018年，Q省客运平均运送距离约为：

- A. 107公里
- B. 1007公里
- C. 1170公里
- D. 117公里

120. 关于Q省客货运输情况，以下说法正确的是：

- A. 2017年，Q省客货运输换算周转量约为5000亿吨公里

- B. 2018 年，Q 省铁路货物周转量增速大于公路货物周转量增速
- C. 2018 年，Q 省 4 种客运方式客运量比上年平均增长 5% 以上
- D. 2018 年，Q 省水运客运量比民航客运量多 598.5 万人

全部测验到此结束！

请扫描QQ二维码，备注“公务员考生”加QQ
好友，获取曹长远老师精解历年公务员考试申论、
行测、面试真题完整解析资料。

精品资料，尽在掌握！



扫描二维码，加QQ好友