

2013年3月16日浙江省公务员考试

《行政职业能力测验》真题

注意事项

本测验共有五个部分，130道题，总时限为120分钟。各部分不分别计时，但都给出了参考时限，供你参考以分配时间。

请在题本、答题卡上严格按照要求填写好自己的姓名，填涂准考证号。

特别提醒你注意，填涂答案时一定要认准题号。

严禁折叠答题卡！

第一部分 言语理解与表达

(共35题，参考时限30分钟)

每道题包含一个句子或一段话，后面是一个不完整的陈述，要求你从四个选项中选出一个来完成陈述。你的选择应与所提要求最相符合。

1. 真正的信息公开，当然要求政府要在第一时间发布信息，但更重要的是，不能_____信息的发布渠道，而必须尊重媒体多渠道地报道、展现事实，在多元的信息和声音的“竞争”中由公众判断事实在哪里。政府调查的能力有限，可能被假象所_____，所以需要媒体调查的跟进，这对政府的调查是一个有益的信息补充。更重要的是，政府在利益的绑架下，可能会习惯性地瞒报虚报、掩盖事实，这就需要媒体的报道与政府的调查相互_____，从而在信息的竞争和交叉中逼出真相。
A. 主导 迷惑 证明
B. 垄断 蒙蔽 印证
C. 操纵 瞒骗 检验
D. 控制 遮掩 验证
2. 古人提倡“吾日三省吾身”，_____，而今天有些人则不然，总是_____，对比之下，实在不应该。
A. 修身养性 瑕不掩瑜
B. 兢兢业业 好大喜功
C. 闻过则喜 讳疾忌医
D. 博采众长 刚愎自用
3. 当前的中国，利益多元、观念多样、思想多变，这让道德领域呈现复杂_____，也让人们面临更艰难的选择。在扶起跌倒老人或许惹上官司、爱心捐赠恐被挪作他用的疑虑中，善念在负面的想象中_____，善行因利益的考量而_____。一个经历着深刻转型的社会，有这样的道德困惑可以理解，但更应主动正视、积极引导。
A. 景象 迟钝 拖延
B. 图景 迟疑 延宕
C. 景观 生疑 延缓
D. 景况 消失 延误
4. 在近代中国的历史上，各种思想呈现一种“你方唱罢我登场”的流动局面，似乎没有什么思想观念可以_____。
A. 脱颖而出
B. 一以贯之
C. 不绝如缕
D. 鹤立鸡群
5. 时下几乎所有的西方博物馆都处于虚拟化的完成或进行当中。当然，大多数虚拟博物馆仍处在2D的传统网页模式，“文字+图片”的初级阶段，更多是对实体博物馆信息的发布与补充，数字化储存做到了，但在网上浏览的_____方面远远不够。真正的虚拟博物馆应该是能模拟人们的观展体验的，强调观众是展览的核心，为他们营造出更富想像力与互动性的空间。
A. 生动性
B. 及时性
C. 丰富性
D. 便捷性
6. 品格与情怀是治学的思想_____，一些学者之所以受到世人敬仰，不惟其取得了丰硕的学术成果，更因其具有高尚的精神品格。学者高尚的精神品格有着丰富内涵，其中忧乐情怀是一个核心元素。忧乐情怀是

儒家文化的重要精神，自古为学人所_____。

A. 源泉 宣扬
C. 保证 向往

B. 前提 珍重
D. 根基 推崇

7. 知识分子与权力之间应该保持一种怎样的关系？拥抱还是抵制？胡适的选择很特别，他在大方向上不反对国民党政权，但他终生不愿当官，他看重的是知识分子独立发表见解的_____。翻遍《胡适年谱》，不难发现，作为知识分子领袖，他一生与知识分子往来最多，其次是与国民党高层颇多交流，但几乎从无和新兴的企业家阶层交往的记录。抛开中产阶级而欲求民主、自由，无异于_____，这大概是胡适的局限，也是其他自由主义者应该深思的问题。

A. 权力 刻舟求剑 B. 自由 南辕北辙
C. 权利 缘木求鱼 D. 权益 水中捞月
8. “制作粗糙，_____”，某文艺评论家这样点评当下国内的许多多媒体舞蹈作品。把几段现成的图像符号式地投射在背景屏幕上充当画外音，充其量只是布景道具的升级版。多媒体效果太过目眩神迷，与舞蹈_____，有一种独立于表达之外的野心。比如有一个多媒体舞蹈，投射在大屏幕上的图案随着演员的每个动作变幻，演员伸展双臂，身后便出现万丈光芒，演员抱住身体，灯光也随之黯淡，看上去是在配合表演，其实是在和演员争夺观众的眼球，舞蹈彻底沦为了配角。

A. 哗众取宠 失枝脱节 B. 喧宾夺主 貌合神离
C. 主次颠倒 亦步亦趋 D. 避重就轻 格格不入
9. 文学评论中，对形式的模仿与内容的抄袭，不应_____；对早期的作品和现在的创作，不可_____。

A. 相提并论 等量齐观 B. 等量齐观 混为一谈
C. 混为一谈 同日而语 D. 同日而语 相提并论
10. 真正伟大的历史人物，他所展现出来的价值和意义，绝不是他处的那个时代所能够局限的，一定可以超越他所在的那个具体的时代和具体的生存环境，超越时空，焕发出_____的永恒的价值。

A. 历久弥新 B. 日新月异
C. 亘古不变 D. 与日俱增
11. 欧债危机在 2012 年继续恶化，_____了世界其他国家的经济增长。美国虽然没有像欧洲那样陷入第二轮的经济衰退，但美国的经济增长仍然非常_____，只有 2% 左右。欧债危机、美国的“财政悬崖”及由于钓鱼岛问题导致的日趋恶化的中日经贸关系，有可能_____一场新的全球性衰退。

A. 阻碍 脆弱 诱发 B. 影响 缓慢 导致
C. 拖累 疲软 引发 D. 逆转 乏力 催生
12. 信任，是一种简化复杂性的机制，也是对冲风险的途径。在一个没有信任的社会里，个体的权利很难得到尊重，权利的边界也很难_____。由于滥用个人权利，社会难免会沦为“你死我活”的角斗场。背信弃义的行为也很难受到法律和道德的_____，个体之间的互不信赖又必然会给整个社会带来莫大的风险。

A. 确定 限制 B. 廓清 惩罚
C. 确认 声讨 D. 厘清 约束
13. 自文艺复兴以来，特别是第一次世界大战期间，因为民族主义和阶级斗争等意识形态作祟产生了一系列伤亡惨重的战争。其中，许多知识分子起到了_____的作用，他们或打扮成青年导师和精神领袖，_____种族差异、民族至上和阶级对立，或投笔从戎，直接参与战争。对这一现象，哲学家班达不以为然，认为知识分子假借种族主义、民族主义和阶级斗争_____了知识分子的价值理想。

A. 助纣为虐 膜拜 击碎 B. 中流砥柱 批判 展现
C. 推波助澜 鼓吹 背叛 D. 力挽狂澜 抨击 彰显
14. 改进文风，_____是语言问题、技术问题，_____是思想问题、感情问题，那些居高临下的呆板表述，固然与文字水平有关，但本质上反映的却是对待读者、对待群众的态度；那些了无新意的应景报道，_____是创新能力不强，_____是对世情国情缺乏深刻认识；那些穿靴戴帽的官样文章，看似热闹，但却令人生厌，让人反感。

- A. 既 又 要么 要么
B. 既 又 与其说 不如说
C. 不仅 更 要么 要么
D. 不仅 更 与其说 不如说
15. 中国自古就有浓烈的宗法传统，_____宗族血亲之内的彼此关照，互相提携，并一致对外，上自帝王下至百姓，_____。
- A. 讲究 前赴后继
B. 讲求 概莫能外
C. 寻求 无一幸免
D. 追求 百喙如一
16. 对历史学家来说，有责任把人物的原貌和事件的真相尽可能准确、完整地向读者讲清楚。说“尽可能”，是因为受史料的局限，有些人物和事件无法核实，难以恢复事实真相，只能根据掌握的史料作出_____。历史不是自然科学，不能通过公式计算获得精确的数据和结论，对人物和事件的叙述，对动机和起因的推论，对结果和影响的分析，都需要作出主观的评判。有些学者倒果为因，先设论点，再找论据，有些学者，为了推倒他人的成论，也挖掘史料以_____自己的观点，这就涉及史家的指导思想和治学态度问题。
- A. 推断 支撑
B. 假设 树立
C. 判断 证实
D. 猜测 支持
17. 下列词语中，没有错别字的一项是：
- A. 逸闻轶事
B. 箭拔弩张
C. 忧柔寡断
D. 纷至踏来
18. 下列词语中，加点字的读音全都正确的一项是：
- A. 蹊(xī)跷 卖官鬻(yù)爵
B. 对峙(zhì) 模棱(léng)两可
C. 追溯(shuò) 户枢不蠹(dù)
D. 市侩(kuài) 万马齐喑(àn)
19. 下列句子中，句意明确，没有语病的一项是：
- A. 必须严厉打击食品安全违法违规行为的高压态势，及时消除各环节领域的隐患，创新食品安全监管惩处体制机制。
- B. 通过实施应对国际金融危机冲击的一揽子计划，我国经济呈现回升向好态势，经济增长的质量和效益进一步提高。
- C. 这所大学的一些学生语文水平实在低下，传扬出去，肯定会被人贻笑大方，影响学校声誉。
- D. 对采用电脑摇号择校的做法，社会各界褒贬不一，不少有识之士建议实行结合学生综合素质和所处学区来确定。
20. ①以知识为主导所得出的美丑的概念，是不真实的，也是没有意义的。
②即如美丑而言，当天下人知道追求美的时候，就有了美丑的区分，就有了分别的见解。
③在老子看来，相反相成，是知识构成的特性，但并非世界本身所具有。
④老子并非反对人们追求美，但他认识这种追求美的方式，并不能得到真正的美。
⑤人为世界分出高下美丑，是在下判断，以人的理性确定世界的意义，这样的知识并不符合世界的特性。
将以上 5 个句子重新排列，语序正确的是：
- A. ③⑤②①④
B. ②④③①⑤
C. ①③⑤④②
D. ⑤④②③①
21. ①一个人的表情能改变容颜，特别是日积月累的表情，具有滴水穿石的效果。
②一个人的面容是先天生好的。
③你看那些老年夫妻，经过多年饮食和趣味的磨合，表情越来越趋相同，一颦一笑都相仿。
④这种美除了有姣好的面容作底子，更重要的是表情和气度在起作用。
⑤少年的美或许是惊艳的，但只称得上漂亮，只有过了成年，甚至到了色衰的中老年，才可称得上美。
将以上 5 个句子重新排列，语序正确的是：
- A. ①③⑤④②
B. ⑤③①②④
C. ⑤③②①④
D. ②⑤④①③
22. ①因此把才学比作剑，当使用的时候就拿出来，而不用的时候就藏入鞘中，不将其把玩炫耀，否则，很少

有不因此而得祸的。

②自古以来，才学外露的都遭到灾祸，没有一个幸免，怎么不令人忧心忡忡呢？

③才学是君子用来进行身心的修养，而并非用来自负骄矜的工具；君子是以才学来治理社会，而并非用以自夸炫耀的。

④之所以这样说，并非才能和学识本身有什么过错，而是错误应用造成的。

⑤没有才能和学识，士人会感到羞耻；具备才能和学识，士人会因此而担忧。

将以上 5 个句子重新排列，语序正确的是：

A. ⑤④③①②

B. ②①④③⑤

C. ②④①③⑤

D. ③⑤④②①

23. ①再比如财产公开不需要保护隐私，但香港把保护隐私作为财产申报公示制度的基本原则，保护申报人隐私也是一项国际惯例。

②但在如何公开，何时公开，怎样公开等问题上还远没达到共识的程度。

③有人分析称，各界在认识上存在不少误区，比如认为所有公务员都要公开，但香港就并非如此。

④从现实情况看，就官员财产要不要公开的问题，早有基本共识。

⑤这就需要我们静下来研究问题，而不是流于情绪的宣泄。

⑥这样的冷静分析不是没有道理。

将以上 6 个句子重新排列，语序正确的是：

A. ④③②①⑤⑥

B. ③①④②⑤⑥

C. ④②③①⑥⑤

D. ③②④①⑥⑤

24. 罗尔斯曾有一段关于如何读书的自白，颇足发人深省。他说：“我读前人的著作，如休谟或康德，有一个视为当然的假定，即这些作者比我聪明得多。如果不然，我又何必浪费自己和学生的时间去研读他们的著作呢？如果我偶尔在他们的论证中见到了一点错误，我的第一个反应是：他们自己一定早已见到了这个错误，并且处理过了。总之，他们的著作中绝没有简单的一般错误，也没有关系重大的错误。”

这段文字意在表明：

A. 读书要有怀疑精神

B. 读书须持谦逊态度

C. 读书最忌不求甚解

D. 读书不能人云亦云

25. 政府当然应该接受批评，但批评的基础应该是事实，而不是谣言。如城管，你可以批评授权过度，也可以批评一些地区没有将城管纳入体制编制带来的执法倾向的不当，但在网上整天发一些没有时间、没有地点、没有准确事实描述的图片故事，就不是一种正常的批评。

这段文字意在说明：

A. 政府应该接受人民的合理批评

B. 只有走正规的渠道，批评政府才能奏效

C. 批评政府应该有理有据，遵循事实

D. 批评政府不能靠煽动民众情绪

26. 经典会被一代代人重读，这样文化、尤其是作为精髓的文化就有了传承。当然有些也是隔代遗传，甚至经过世纪尘封。有些经典的命运非常孤独，有些好得多。经典是时间的造物，在时间中它又有了自己的历史，一些读者会把自己的生命又加入进来。经典不怎么时髦，经典是安静的，经典等待着。它必须等到一个好的读者才能复活。这个读者有多好，它就能够复活得多好。

对这段文字意思概括最准确的是：

A. 重读经典有利于文化传承

B. 经典的生命需要读者来重塑

C. 尘封的经典更值得去品味

D. 经典的命运各不相同

27. 中国中古政治制度有秦汉与隋唐两大典型，其组织与运用截然不同，然秦汉型如何一变为隋唐型，则由魏晋南北朝三百数十年间政治社会情势之积渐演变有以致之，非出某一人物之特意革创者。故魏晋南北朝时代之制度，其本身虽不成一典型，然欲观秦汉制度如何没落，隋唐制度如何新生，则必当于此一纷乱时代求之。

这段文字意在说明：

- A. 研究魏晋南北朝历史的意义重大
B. 中国中古政治制度发展脉络较为模糊
C. 魏晋南北朝是秦汉与隋唐的过渡时期
D. 政治制度的沿革不以人的意志为转移
28. 孟子曰：“民为贵，社稷次之，君为轻。是故得乎丘民而为天子，得乎天子为诸侯，得乎诸侯为大夫。”这段文字体现了：
A. 民主思想
B. 民粹思想
C. 民本思想
D. 民生思想
29. 1994年到1997年4年时间，财政收入占GDP的比重仅10%多一点，到2011年接近22%，如果考虑到土地出让和其他政府基金性收入，有专家估计政府收入占GDP的比重超过30%。而同期，企业或者是资本收入占比也大幅度提高。一个佐证是，2002年底，企业存款为64298.47亿元，低于当时的个人存款，而到2011年底，企业存款(央行新的统计科目为“单位存款”，口径相当)上升到423086.61亿元，增长了5.58倍，远超同期个人存款2.68倍的增幅。
通过这段文字，作者想表达的观点是：
A. 收入越来越向政府和资本倾斜
B. 政府应适当降低税收
C. 我国经济增长的速度较快
D. 政府收入过高会成为企业的负担
30. 虽然我国农村一对夫妇大多生育二胎以上，但几乎所有的年轻人都一拨一拨到城市打工。因此，年轻的高素质移民将不断对冲大城市老龄人口，使人口年龄相对下降或持平，大城市的活力就会保持下去。而在一些地方，老年人支撑农村，已显端倪，甚至可能成为常态。日本的偏僻农村就是前车之鉴。
这段文字说明：
A. 中国的人口老龄化问题与日本同样严重
B. 农村可能比大都市更早进入老龄化时代
C. 人口状况直接决定一个地区的发展
D. 人口流动将加剧城乡发展的不均衡性
31. 西藏的一些高僧往往以经年累月的光阴用五彩细砂砌成巧夺天工的曼荼罗图案，整个过程中，作业者口诵经文、心存敬意、屏息凝视、一丝不苟。几经辛苦，到了功行完满的一刻，却会毫不留恋地一手抹掉。这种态度，对惯于享用先进科技和讲求功效的现代人来说，骤看简直不可思议，但细心省察，却寓意深远。
最准确表达这段文字中“寓意”的意思的是：
A. 人生的一切繁华景象归根到底都是无常的
B. 应对生命保持高度的敬畏感
C. 应认真庄严地投入生活又不为生活中的得失所累
D. 生命的意义在于追寻精神上的安顿
32. 其实，我们都是成功者，因为成功只是一种感受，一种自我意识的主观感受。如果我们把自己的每一点进步，哪怕只是微小的进步，都看作是一次成功，都认认真真地品味一番，那么，幸福和快乐就会常伴在我们身边，我们的人生也就会因此而变得格外的丰富和生动。
通过这段文字，作者想表达的观点是：
A. 世界上没有绝对的失败者
B. 成功的人生少有挫折和失败
C. 成功是一种心理感受，与现实的物质无关
D. 成功可以自己定义，不用将其看得过于神圣
33. 古希腊学者亚里斯多德在《政治学》中指出，在埃及，医师依成法处方，如果到第四日而未见疗效，他可以改变药剂，只是他倘使在第四日之前急于改变成法，这要由他自己负责。从同样的理由来论证，完全按照成文法律统治的政体不会是最优良的政体，但也必须注意到一个统治者的心中仍然是存在通则的，而且凡是不凭感情因素治事的统治者总比感情用事的人们较为优良，法律恰正是全没有感情的，人类的本性却是谁都难免有感情。
通过这段文字，作者想表达的观点是：
A. 法治优于人治
B. 人性决定政治
C. 法律是过滤了情感的通则
D. 最优良的政体是不存在的
34. 民众的不理解和利益相关方的围攻，是改革者永远的深渊。_____。所以很多改革者成了悲壮的先驱，他们启迪了民智，开启了新局，却都已是“寂寞身后事”。改革者的远见与彷徨总是相伴而生，“虽千万人，吾往矣”，需要巨大的智慧和勇气。
填入划横线部分最恰当的一句是：

- A. 在理想主义日益稀薄的年代，改革者弥足珍贵
B. 改革都不可能是一帆风顺的
C. 伟大的人永远是孤独的，不被大多数人理解
D. 为了国家的长远发展，改革是值得付出代价的
35. 改革开放 30 多年来，我国城镇化进程不断加快，城镇化率以年均 1% 的速度增长，从 1978 年的 17.9% 上升至 51.27%，城镇人口从 1.72 亿增加到 6.9 亿。尽管如此，与发达国家城镇化率 78% 相比，还有很大的发展空间。按照城镇化率年增长 1% 的速度，我国的城镇化率真要达到发达国家水平，仍有 30 年左右的发展期。城镇化在统筹城乡发展，改变二元经济结构，实现城乡人口转移，优化城镇空间布局，助推产业结构、消费结构升级，加快生产要素流动和集聚等方面具有积极的意义。
- 这段文字传递的主要信息是：
- A. 我国城镇化有很大的发展空间，潜力巨大
B. 城镇化是推动未来中国经济增长的重要引擎
C. 改革开放以来是我国城镇化发展最迅速的时期
D. 城镇化是加快推进城乡统筹发展的必由之路

第二部分 数量关系

(共 25 题，参考时限 25 分钟)

一、数字推理：共 10 题。给你一个数列，但其中缺少一项，要求你仔细观察数列的排列规律，然后从四个选项中选你认为最合理的一项来填补空缺项。

36. 4, 1, 0, 2, 10, 29, 66, ()
A. 101
B. 116
C. 125
D. 130
37. 11, 12, 16, 39, 67, 122, ()
A. 228
B. 230
C. 336
D. 340
38. 145, 120, 101, 80, 65, ()
A. 48
B. 49
C. 50
D. 51
39. 3, 7, 12, 15, 9, -18, ()
A. -27
B. -45
C. -81
D. -102
40. 1, 2, 6, 30, 210, ()
A. 1890
B. 2310
C. 2520
D. 2730
41. 2, 2, 7, 9, 16, 20, ()
A. 28
B. 29
C. 30
D. 31
42. 1, -3, 3, 3, ()
A. 28
B. 36
C. 45
D. 52
43. 2, 5, 9, 19, 37, 75, ()
A. 140
B. 142
C. 146
D. 149
44. 6, 3, 5, 13, 2, 63, ()
A. -36
B. -37
C. -38
D. -39
45. $3/2, 1/2, 1/4, 3/20, 1/10, ()$
A. $1/14$
B. $1/15$
C. $1/16$
D. $1/17$

二、数学运算：共 15 题。每道试题呈现一道算术式，或表述数学关系的一段文字，要求你迅速、准确地计算出答案。

46. 用 1, 2, 3, 4, 5, 6 这 6 个数字组成不同的六位数，所有这些六位数的平均值是：
A. 350000
B. 355550
C. 355555.5
D. 388888.5
47. 已知 3 个质数的倒数和为 $671/1022$ ，则这 3 个质数的和为：
A. 80
B. 82
C. 84
D. 86
48. 从 1, 2, 3, …, 30 这 30 个数中，取出若干个数，使其中任意两个数的积都不能被 4 整除。问最多可取几个数？
A. 14 个
B. 15 个
C. 16 个
D. 17 个

49. 某商店的两件商品成本价相同，一件按成本价多 25% 出售，一件按成本价少 13% 出售，则两件商品各售出一件时盈利为多少？
A. 6% B. 8% C. 10% D. 12%
50. 某市场运来苹果、香蕉、柚子和梨四种水果。其中苹果和柚子共 30 吨，香蕉、柚子和梨共 50 吨，柚子占水果总数的 $\frac{1}{4}$ 。一共运来水果多少吨？
A. 36 吨 B. 64 吨 C. 80 吨 D. 170 吨
51. 瓶中装有浓度为 20% 的酒精溶液 1000 克，现在又分别倒入 200 克和 400 克的 A、B 两种酒精溶液，瓶里的溶液浓度变为 15%，已知 A 种酒精溶液的浓度是 B 种酒精溶液浓度的 2 倍。那么 A 种酒精溶液的浓度是多少？
A. 5% B. 6% C. 8% D. 10%
52. 3 点 19 分时，时钟上的时针与分针所构成的锐角为几度？
A. 14 度 B. 14.5 度 C. 15 度 D. 15.5 度
53. 甲、乙两地相距 210 公里，a、b 两辆汽车分别从甲、乙两地同时相向出发并连续往返于两地，从甲地出发的 a 汽车的速度为 90 公里/小时，从乙地出发的 b 汽车的速度为 120 公里/小时。问 a 汽车第二次从甲地出发后与 b 汽车相遇时，b 汽车共行驶了多少公里？
A. 560 公里 B. 600 公里 C. 620 公里 D. 630 公里
54. 某班 50 名学生进行体检，有 20 人近视，12 人超重，4 人既近视又超重。该班有多少人既不近视又不超重？
A. 22 人 B. 24 人 C. 26 人 D. 28 人
55. 某工厂原来每天生产 100 个零件，现在工厂要在 12 天内生产一批零件，只有每天多生产 10% 才能按时完成工作，第一天和第二天由于部分工人缺勤，每天只生产了 100 个，那么以后 10 天平均每天要多生产百分之几才能按时完成工作？
A. 12% B. 13% C. 14% D. 15%
56. 某班有 70% 的学生喜欢打羽毛球，75% 的学生喜欢打乒乓球，问喜欢打乒乓球的学生中至少有百分之几喜欢打羽毛球？
A. 30% B. 45% C. 60% D. 70%
57. 一个总额为 100 万的项目分给甲、乙、丙、丁四个公司共同来完成，甲、乙、丙、丁分到项目额的比例为 $\frac{1}{2} : \frac{1}{3} : \frac{1}{4} : \frac{1}{6}$ ，请问甲分到的项目额为多少万？
A. 35 万 B. 40 万 C. 45 万 D. 50 万
58. 将自然数 1—100 分别写在完全相同的 100 张卡片上，然后打乱卡片，先后随机取出 4 张，问这 4 张先后取出的卡片上的数字呈增序的几率是多少？
A. $\frac{1}{16}$ B. $\frac{1}{24}$ C. $\frac{1}{32}$ D. $\frac{1}{72}$
59. 两根同样长的蜡烛，点完粗蜡烛要 3 小时，点完细蜡烛要 1 小时。同时点燃两根蜡烛，一段时间后，同时熄灭，发现粗蜡烛的长度是细蜡烛的 3 倍。问两根蜡烛燃烧了多长时间？
A. 30 分钟 B. 35 分钟 C. 40 分钟 D. 45 分钟
60. 一口水井，在不渗水的情况下，甲抽水机用 4 小时可将水抽完，乙抽水机用 6 小时可将水抽完。现用甲、乙两台抽水机同时抽水，但由于渗水，结果用了 3 小时才将水抽完。问在渗水的情况下，用乙抽水机单独抽，需几小时抽完？
A. 12 小时 B. 13 小时 C. 14 小时 D. 15 小时

第三部分 判断推理

(共 35 题，参考时限 35 分钟)

本部分包括四种类型的试题：

一、类比推理：共 10 题。每道题先给出一组相关的词，要求你在备选答案中找出一组与之在逻辑关系上最贴近、相似或匹配的词。

61. 树枝：柴火
A. 舞蹈：节奏
B. 活性炭：除臭剂
C. 电脑：信息
D. 毒品：海洛因
62. 精湛：手艺
A. 关系：暧昧
B. 差异：视野
C. 温柔：抒情
D. 深邃：思想
63. 中国：杭州
A. 美国：匹兹堡
B. 法国：法兰克福
C. 英国：瓦伦西亚
D. 阿联酋：沙特
64. 解放：束缚
A. 犯罪：惩罚
B. 蜕变：堕落
C. 伶俐：笨拙
D. 黎明：拂晓
65. 雕塑：绘画
A. 政体：民主
B. 政治：信仰
C. 力学：光学
D. 样本：范例
66. 岳父：丈人
A. 舅舅：外甥
B. 姨妈：婶婶
C. 伯父：侄子
D. 祖母：奶奶
67. 救助站：乞丐
A. 敬老院：护工
B. 监狱：罪犯
C. 加油站：业务员
D. 研究所：研究员
68. 管乐器：笛
A. 哺乳动物：鲸鱼
B. 寒冬：大雪
C. 国庆节：纪念日
D. 中医：草药
69. 本分：职责
A. 羁绊：障碍
B. 奇葩：宝库
C. 蓝图：想象
D. 傲慢：偏见
70. 程门立雪：尊师敬道
A. 草木皆兵：泰然自若
B. 按图索骥：事半功倍
C. 扑朔迷离：错综复杂
D. 叶公好龙：情有独钟

二、定义判断：共 5 题。每道题先给出一个概念的定义，然后分别列出四种情况，要求你严格依据定义从中选出一个最符合或最不符合定义的答案。注意：假设这个定义是正确的，不容置疑的。

71. 变化视盲：指在短时间内物体表面特征明显改变但人类却无法察觉的现象。
根据上述定义，下列不属于变化视盲的是：
A. 电视剧中出现穿帮镜头，同一场戏由于不同时间拍了两次，结果主要演员穿了不同的衣服，但是大部分观众都没有发现
B. 一个学生在向小李问路，恰巧有人抬黑板从两人之间经过，之后小李告诉对方如何走，但是他没有发现那个人已经不是刚刚问路的那个学生了
C. 小王听了朋友在南非的一次冒险经历，极有感触，经常回想这件事，后来他竟然认为这件事是自己的亲身经历
D. 小张看见一个男人走进对面的房子，紧接着又走出来，但是他没有发现其实走出来的是一个女人
72. 行政强制措施：指行政机关在行政管理过程中，为制止违法行为、防止证据销毁、避免危害发生、控制危险扩大等情形，依法对公民的人身自由实施暂时性限制，或者对公民、法人或者其他组织的财物实施暂时性控制的行为。

根据上述定义，下列属于行政强制措施的是：

- A. 公安机关在刑事诉讼中限令犯罪嫌疑人在规定的期限内不得离开住处或者指定的居所
- B. 交通管理部门对某货车散落在高速公路上的西瓜进行及时清理
- C. 公安消防部门为了阻止火势蔓延而拆除与着火处相连的房屋
- D. 医疗机构为防止某精神病人病情发作伤害他人而将其强制约束

73. 就业平等权：指公民不论其民族、种族、性别、宗教信仰、家庭背景等的不同和差异，均享有平等获得就业机会的权利。

根据上述定义，下列没有侵犯求职者的就业平等权的是：

- A. 女大学生小刘，本科学历，在几次应聘中，都因为是女性而落聘
- B. 某公司招聘时，明确规定本公司员工的亲属比其他应聘者优先录用
- C. 小李的父亲是某县政府领导，在该县事业单位公开招聘中，小李未和其他应聘者一样参加考试，就直接被录用了
- D. 某食品加工厂在招聘员工过程中，以食品安全为由，拒绝录用一名乙肝患者

74. 破窗现象：一个房子如果窗户破了，没有人去修补，隔不久，其它的窗户也会莫名其妙地被人打破，所以环境中的不良现象如果被放任存在，会诱使人们仿效，甚至变本加厉。

根据上述定义，下列不属于破窗现象的是：

- A. 一面墙出现了一些涂鸦没有被清除，很快，墙上就布满了乱七八糟、不堪入目的东西
- B. 一个干净的地方，人们不好意思丢垃圾，但是一旦地上有垃圾出现，人们就会毫不犹豫地跟着丢，丝毫不会惭愧
- C. 一个村里发生了传染性疾病，由于没有及时隔离，结果很快整个村落的人都被传染上了
- D. 一个教室里，有两个学生偷偷讲话，老师没有制止，很快大半个班级的学生都在聊天了

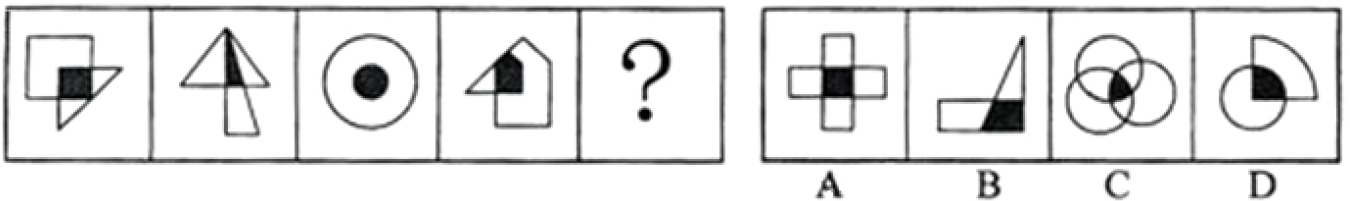
75. 诈骗罪，指以非法占有为目的，用虚构事实或者隐瞒真相的方法，骗取数额较大的公私财物的行为。

根据上述定义，下列可以构成诈骗罪的是：

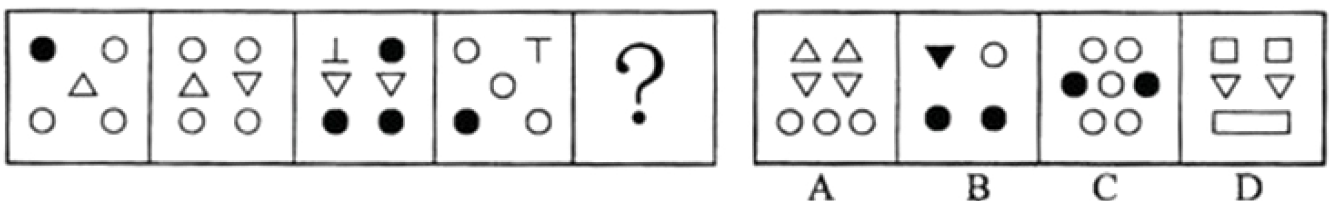
- A. 甲假装在商场购买西装，售货员乙让其试穿，甲穿上西装后声称去照镜子，趁乙接待其他顾客偷偷窜走
- B. 某加油站负责人通过在计价器上动手脚，使得实际加油量少于机器显示数量，据此获取大笔收益
- C. 某甲在低价出售其别墅时隐藏其中曾发生凶杀案的事实，致某乙因不知情而购买
- D. 某售楼小姐甲向客户乙推销地铁口的楼盘，称楼盘的升值空间很大。乙购房后两个月，房价大跌，致乙遭受惨重损失。

三、图形推理：共 10 题。请按每道题的答案要求作答。

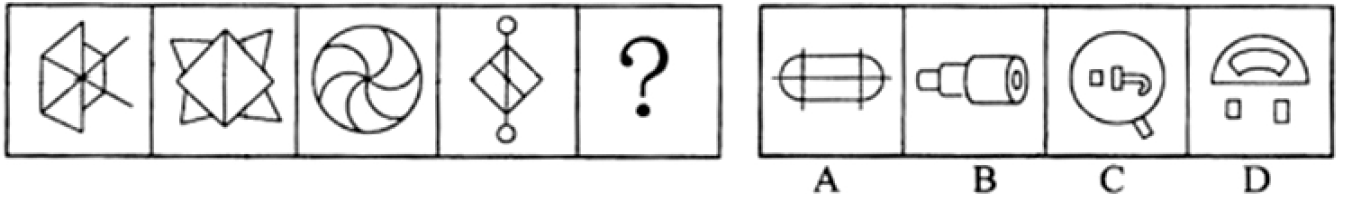
76. 从所给的四个选项中，选择最合适的一个填入问号处，使之呈现一定的规律性。



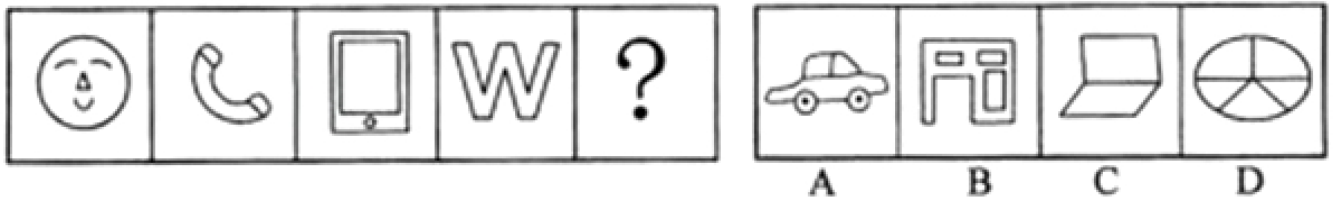
77. 从所给的四个选项中，选择最合适的一个填入问号处，使之呈现一定的规律性。



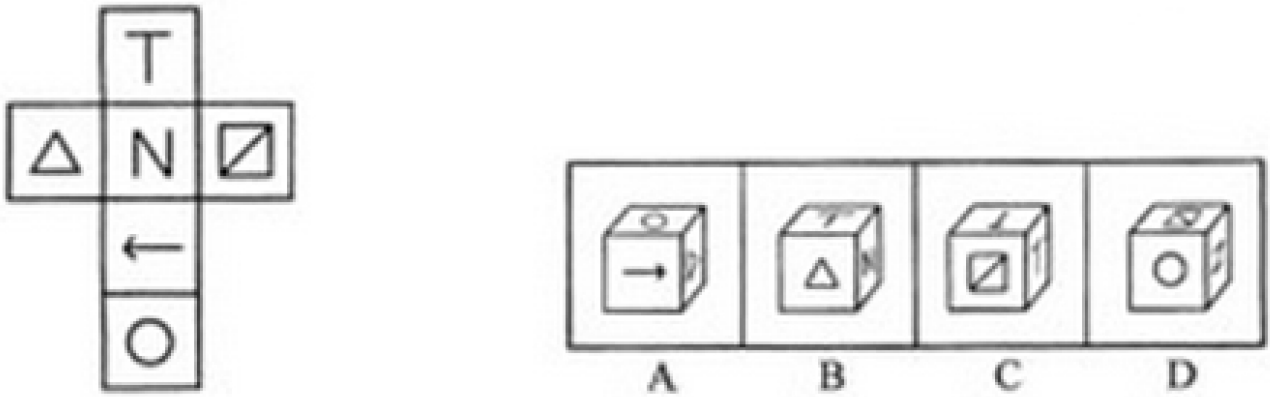
78. 从所给的四个选项中，选择最合适的一个填入问号处，使之呈现一定的规律性。



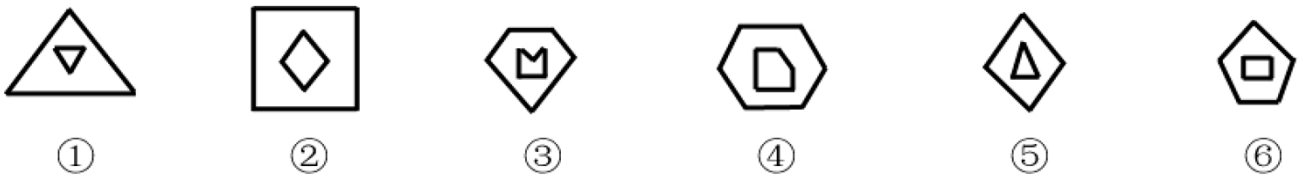
79. 从所给四个选项中，选择最合适的一个填入问号处，使之呈现一定的规律性。



80. 左边给定的是纸盒的外表面，下列哪一项能由它折叠而成？

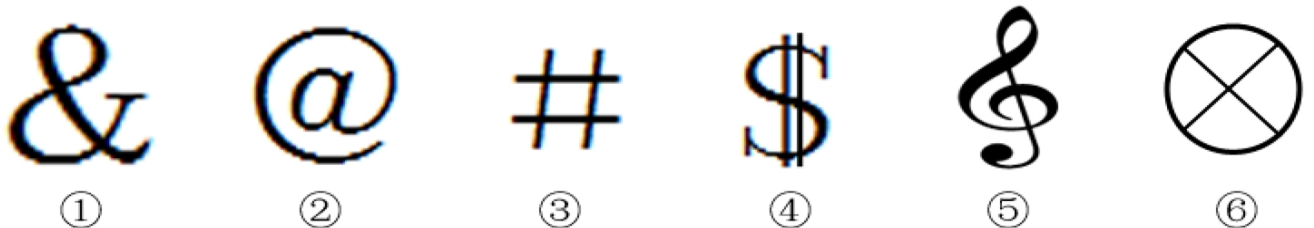


81. 把下面的六个小图形分为两类，使每一类图形都有各自的共同特征或规律，分类正确的一项是：



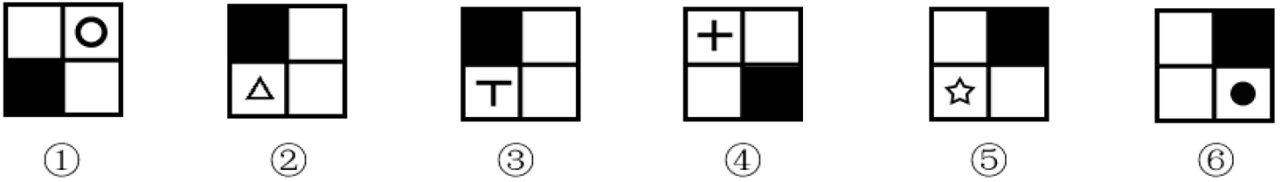
- A. ①②③, ④⑤⑥ B. ①②⑤, ③④⑥
C. ①③⑥, ②④⑤ D. ①③⑤, ②④⑥

82. 把下面的六个小图形分为两类，使每一类图形都有各自的共同特征或规律，分类正确的一项是：



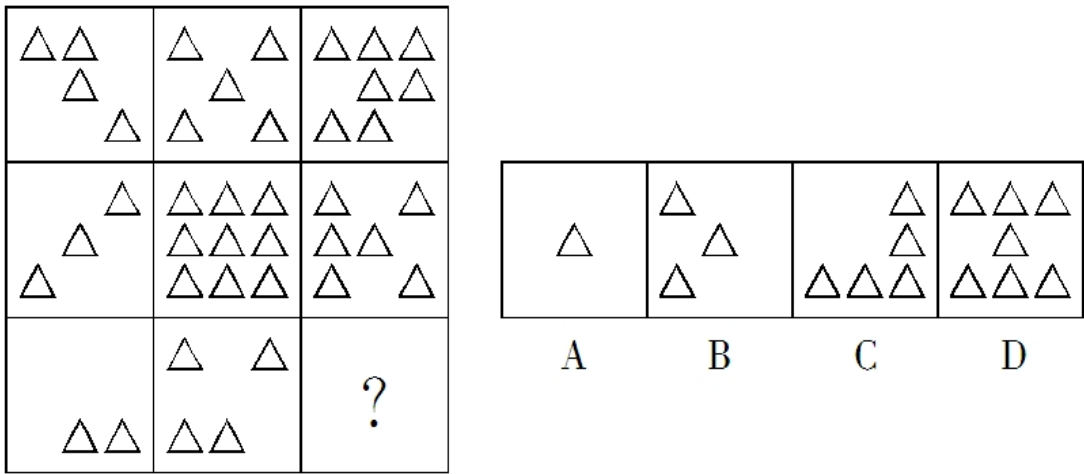
- A. ①②④, ③⑤⑥ B. ①②⑤, ③④⑥
C. ①③⑤, ②④⑥ D. ①②⑥, ③④⑤

83. 把下面的六个小图形分为两类，使每一类图形都有各自的共同特征或规律，分类正确的一项是：

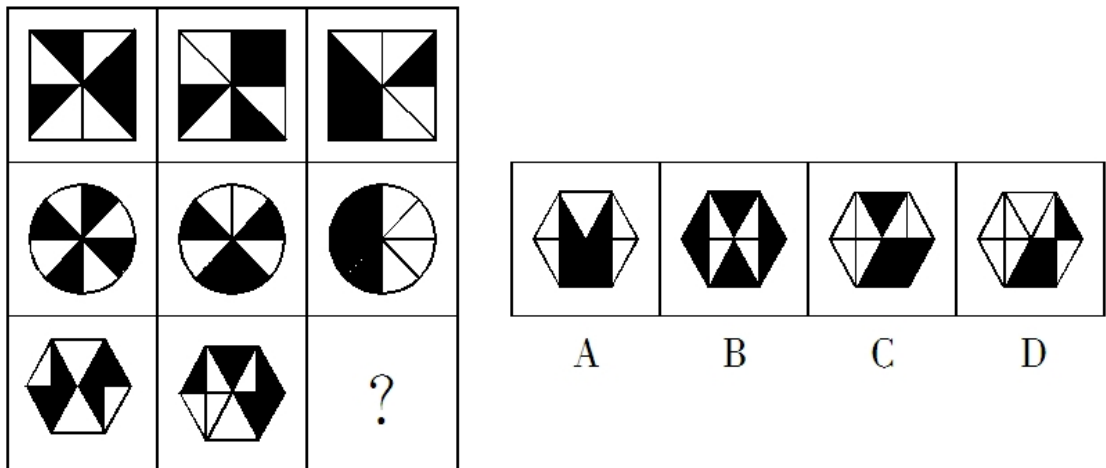


- ① ② ③ ④ ⑤ ⑥
- A. ①②③, ④⑤⑥ B. ①③⑤, ②④⑥
C. ①④⑤, ②③⑥ D. ①④⑥, ②③⑤

84. 从所给的四个选项中，选择最合适的一个填入问号处，使之呈现一定的规律



85. 从所给的四个选项中，选择最合适的一个填入问号处，使之呈现一定的规律



四、逻辑判断：共 10 题。每题给出一段陈述，这段陈述被假设是正确的，不容置疑的。要求你根据这段陈述选择一个答案。注意，正确的答案应与所给的陈述相符合，不需要任何附加说明即可从陈述中直接推出。

86. 品学兼优的学生不都读研究生。如果以上论述为真，则下列命题能判断真假的有几个？
 I. 有些品学兼优的学生读研究生 II. 有些品学兼优的学生不读研究生
 III. 所有品学兼优的学生都读研究生 IV. 所有品学兼优的学生都不读研究生
 A. 1 个 B. 2 个 C. 3 个 D. 4 个
87. 20 世纪 60 年代，加州大学伯克利分校进行了一系列关于小鼠认知能力的实验。在实验中，一组小鼠被放

在摆满各种玩具、转轮和隧道的笼子里，另一组小鼠则在空无一物的笼子里长大。实验结果显示，前一组小鼠大脑的体积更大，认知能力也显著高于后一组。研究人员因此作出推论：充分的外界刺激可以改变大脑的结构和能力。下列哪项为真，最能加强研究人员的推论？

- A. 实验中，前一组小鼠的食物营养更丰富
B. 实验后，后一组小鼠的运动能力更强
C. 后来，两组小鼠的平均寿命差不多
D. 实验前，两组小鼠的个体差异不大

88. 因为规定“黄灯亮时，已越过停止线的车辆可以继续通行”。所以，黄灯亮时，未越过停止线的车辆不能继续通行。下列哪项的论述逻辑与此最为不同？
- A. 因为规定“间歇性的精神病人在精神正常的时候犯罪，应当负刑事责任”。所以，间歇性的精神病人在精神不正常的时候犯罪，不应负刑事责任。
B. 因为规定“尚未制定法律的，行政法规可以设定行政许可”，所以，已经制定法律的，行政法规不可以设定行政许可。
C. 因为规定“申请小型汽车驾驶证的年龄条件为18周岁以上、70周岁以下”，所以，不满18周岁以及超过70周岁的公民不能申请小型汽车驾驶证。
D. 因为规定“18周岁以上的公民，可以独立进行民事活动”。所以，不满18周岁的公民，不能独立进行民事活动。
89. 亲生父母双方都有高血压的人，得高血压的几率是亲生父母都没有高血压的人的5倍。所以，高血压可能是一种遗传病。下列哪项为真，最能支持上述结论？
- A. 亲生父母都有高血压的人，无论如何注意生活方式，得高血压的几率仍然很高
B. 亲生父母没有高血压的人，在和患高血压的养父母生活一段时间后，得高血压的几率会增高
C. 亲生父母都有高血压的人，在承受巨大生活压力时，更易得高血压
D. 亲生父母患有高血压的人，在没有出现高血压病症前，做些预防性治疗，可以降低得高血压的几率
90. 西双版纳傣族的竹楼都用方形柱子将房子架空来防止潮湿及蚊血骚扰，之所以用方形柱子而不是圆形柱子，是为了防止蛇攀爬进入竹楼。下列哪项最有可能是上述陈述的假设？
- A. 傣族人喜欢把东西做成方形的
B. 蛇喜欢攀爬圆形的柱子
C. 西双版纳热带雨林中有很多蛇
D. 蛇不能缠绕着方形的柱子爬行
91. 甲、乙、丙、丁四人对四个抽屉中的物品进行预测。甲：有些抽屉中没有书本；乙：所有抽屉中都有书本；丙：第二个抽屉中没有钢笔；丁：第三个抽屉中有信件。如果四人的断定中只有一项为真，那么以下哪项一定为真？
- A. 第二个抽屉中有钢笔
B. 第三个抽屉中有信件
C. 四个抽屉中都有书本
D. 四个抽屉中都没有书本
92. 耐甲氧西林金黄色葡萄球菌(MRSA)、克雷伯氏菌等细菌能引起多种疾病和感染。同时各种抗生素往往又对它们无可奈何，这些令人色变的细菌因而被称为超级细菌。近年来，研究人员通过微生物的全基因组测序技术不仅能追踪这些细菌的源头，而且能追踪到其他耐药细菌的源头。因此，全基因组测序技术可以解决MRSA等超级细菌给人类带来的疾病困扰。下列哪项为真，最能削弱上述论证？
- A. 超级细菌会随着环境的变化而变异
B. 进行全基因组测序的费用比较高
C. 全基因组技术可为寻找抑制超级细菌的药物提供线索
D. 全基因组测序技术无法杀灭超级细菌
93. 张红、李聪、王敏，一个是江苏人，一个是浙江人，一个是广东人。浙江人比李聪年龄小，张红和浙江人不同岁，王敏的年龄比广东人大。根据上述断定，可以推出：
- A. 张红是江苏人，李聪是浙江人，王敏是广东人
B. 张红是广东人，李聪是江苏人，王敏是浙江人
C. 张红是浙江人，李聪是广东人，王敏是江苏人
D. 张红是浙江人，李聪是江苏人，王敏是广东人
94. 对某班学生喜欢的体育活动进行调查后发现：该班的学生或者喜欢打篮球，或者喜欢打羽毛球；如果喜欢打排球，则不喜欢打羽毛球；该班的班长喜欢打排球，因此他也喜欢打乒乓球。以下哪项是最可能是上述论证的假设？
- A. 该班的班长至少喜欢三项体育活动

- B. 喜欢打乒乓球的学生都喜欢打羽毛球
C. 喜欢打篮球的学生都喜欢打乒乓球
D. 该班学生喜欢的体育活动只有篮球、羽毛球、排球和乒乓球四项
95. 新加坡国立大学社会学家波林·斯特劳恩副教授对当地已婚者和离婚者展开的调查发现, 恋爱时间较长的夫妻, 婚后闹分手的几率会比那些恋爱时间较短的夫妻低。于是有人得出结论, 要想以后的婚姻更稳固, 必须延长恋爱时间。
- 下列哪项为真, 最能削弱上述结论?
- A. 恋爱谈得越长, 两人结婚的可能性会越低
B. 情侣在恋爱期是否深入了解彼此比恋爱时间长短更重要
C. “一见钟情式”的速成婚姻容易破碎
D. 恋爱时间长的人, 往往会忘记恋爱的目的是婚姻

第四部分 常识判断

(共 20 题, 共 15 分钟)

96. 党的十八大报告提出, _____是中国特色社会主义的内在要求, _____是中国特色社会主义的根本原则, _____是中国特色社会主义的本质属性。
- A. 公平正义 共同富裕 社会和谐
B. 共同富裕 公平 社会
C. 社会 共同 公平
D. 社会 公平 共同
97. 下列关于新民主主义革命时期的大事件的表述, 不正确的是:
- A. 五四运动标志着中国新民主主义革命的开始, 中国工人阶级也第一次以独立的姿态登上政治舞台
B. 中共二大第一次提出了明确的反帝反封建的民主革命纲领
C. 中共三大正确估计了国民党的革命立场, 决定共产党员以个人身份加入国民党, 标志第一次国共合作正式形成
D. 南昌起义标志着中国共产党独立领导革命战争, 创建人民军队和武装夺取政权的开始
98. 科学发展观的核心是_____, 基本要求是_____。
- A. 以人为本 全面协调可持续
B. 发展 全面协调可持续
C. 以人为本 统筹兼顾
D. 发展 统筹兼顾
99. 下列关于我国公务员制度的表述, 不正确的是:
- A. 根据《公务员法》, 我国公务员职位类别划分为综合管理类、专业技术类和行政执法类等类别
B. 已被开除的公职人员, 不得录用为公务员
C. 工作满三十年的公务员, 可以申请提前退休
D. 对公务员考核的内容包括德、能、勤、绩、廉五个方面, 重点考核思想品德与工作能力
100. 下列不属于完全竞争市场的特征的是:
- A. 买者卖者很多
B. 产品差别很大
C. 要素自由流动
D. 没有交易成本
101. 经济学上, 狭义的货币(M1)是指:
- A. 现金
B. 现金和存款
C. 现金和活期存款
D. 现金、存款和债券
102. 三沙市位于中国南海, 是目前我国最年轻的地级市, 下辖西沙群岛, 南沙群岛, 中沙群岛的岛礁及其海域。三沙市的设立由哪一机关批准?
- A. 全国人大
B. 全国人大常委会
C. 国务院
D. 海南省人大
103. 某化工厂将废水直接排入河道, 流入李某的鱼塘, 造成绝大部分鱼死亡。该厂承认其侵权, 但不能接受李某提出的赔偿数额。对此, 下列哪一表述是不正确的?
- A. 李某请求损害赔偿的诉讼时效为 3 年
B. 李某可以请求环境保护行政主管部门处理
C. 李某对环境保护行政主管部门的处理决定不服的, 可以向法院起诉

- D. 张某必须先经过环境保护行政主管部门处理，不能直接向法院起诉
104. 某甲共有三儿一女，2000年甲在公证机关公证下立a遗嘱将其财产给予其小儿子所有，后因与小儿子关系恶化，甲又自书b遗嘱决定将财产给予二儿子所有。根据我国《继承法》的相关规定，下列表述正确的是：
- A. a遗嘱因经公证而效力优先，故应以a遗嘱为准
B. b遗嘱为后立遗嘱，故应以b遗嘱为准
C. a、b遗嘱均因侵犯其他继承人的合法权利而无效
D. a、b遗嘱均因可能侵犯其他继承人的合法权利而效力待定
105. 甲开汽车到单位后，因疏忽忘记拔出车钥匙，被乙发现。乙发动甲的汽车刚要离开时，甲正好回来，将乙抓获。关于乙的行为，下列说法正确的是：
- A. 构成抢夺罪未遂 B. 构成侵占罪未遂 C. 构成抢劫罪未遂 D. 构成盗窃罪未遂
106. 科学管理学派的核心思想是指导人们用科学理性的思维来进行管理，它的奠基人“科学管理之父”泰勒提出要使管理走向科学化。以下哪项不是泰勒的观点？
- A. 科学管理的中心问题是提高效率 B. 为工作挑选一流的人员
C. 实行标准化 D. 重视人的因素，改进领导方式，强调工业民主和管理科学人性化
107. 下列关于管理学知识的表述，不正确的是：
- A. 行政监督的对象是行政相对人
B. 扇形结构的行政分权较多，下属自主权较大，但容易出现无政府主义
C. 管理学中，激励原理的核心是以人们各种需要为基本内容的动力问题
D. 质询是人大监督政府的一种方式
108. 下列关于科技常识的表述，不正确的是：
- A. 纳米是一种长度单位，1纳米=10⁻¹⁰米 B. 光纤通信具有传输损耗低、抗干扰能力强、保密性能好等优点
C. 物联网的核心和基础是互联网 D. 电子计算机的发展已进入人工智能计算机时代
109. 下列关于公文常识的表述，不正确的是：
- A. 特殊情况下，下级机关可以越级上行文 B. 通报按内容可分为表彰性通报、批评性通报和情况通报
C. 签发是制文阶段的最后决定性环节 D. 批办是指对来文如何办理预先提出建议和初步意见
110. 下列作品与作者的对应关系，不正确的是：
- A. 《梦溪笔谈》——沈括 B. 《水经注》——徐霞客
C. 《清明上河图》——张择端 D. 《步辇图》——阎立本
111. 下列春秋战国时期发生的大事按照时间先后顺序排列正确的是：
- A. 齐桓公称霸 商鞅变法 勾践灭吴 三家分晋 B. 商鞅变法 变桓公称霸 勾践灭吴 三家分晋
C. 齐桓公称霸 勾践灭吴 三家分晋 商鞅变法 D. 勾践灭吴 齐桓公称霸 三家分晋 商鞅变法
112. “乱花渐欲迷人眼，浅草才能没马蹄。最爱湖东行不足，绿杨阴里白沙堤。”这首诗的作者是谁？描写的是哪里的美景？
- A. 白居易 洞庭湖 B. 白居易 西湖 C. 苏东坡 洞庭湖 D. 苏东坡 西湖
113. 下列表述正确的是：
- A. 父母的血型分别为A型和O型，其子女的血型也只会是A型或O型
B. 吸气时，人的肺容积增大，肺内气压大于大气压
C. 含酸味的水果一般是酸性食品，而乳酪、甜点一般是碱性食品
D. 艾滋病病毒能在蛀虫体内生存、繁殖，会通过蛀虫叮咬传播给人类
114. 下列关于气候常识的表述，不正确的是：
- A. 大量砍伐森林会导致全球变暖 B. 地球大气对流层的气温呈上冷下热的状态
C. 台风、沙尘暴和泥石流均为我国主要的气象灾害 D. 梅雨发生季节正是我国梅子的黄熟季节
115. 下列关于地理常识的表述，不正确的是：

- A. 苏伊士运河沟通了地中海与红海
B. 格陵兰岛是世界上最大的岛屿，位于北美洲
C. 地球上纬线圈的纬度越小，长度越长
D. 西藏是我国陆地邻国最多的省(自治区)

第五部分 资料分析

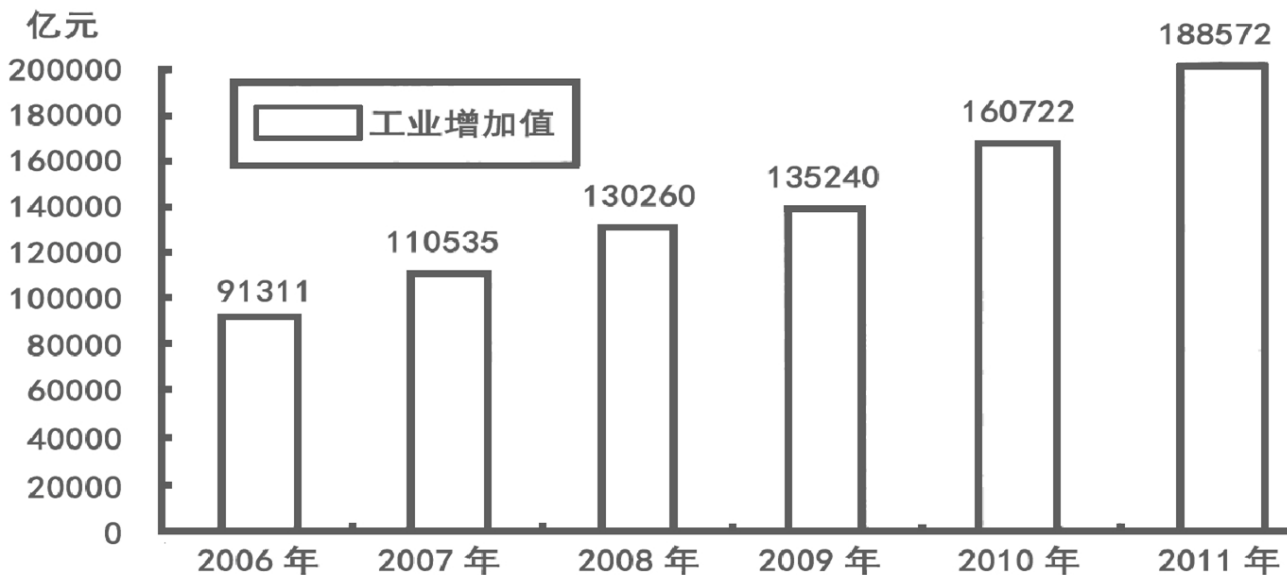
(共 15 题，参考时限 15 分钟)

所给出的图、表、文字或综合性资料均有 5 个问题要你回答。你应根据资料提供的信息进行分析、比较、计算和判断处理。

一、根据下列资料，回答 116~120 题。

2011 年我国全部工业增加值 188572 亿元。规模以上工业增加值增长 13.9%，在规模以上工业中，国有及国有控股企业增长 9.9%；集体企业增长 9.3%，股份制企业增长 15.8%，外商及港澳台商投资企业增长 10.4%；私营企业增长 19.5%，轻工业增长 13.0%，重工业增长 14.3%。

2006-2011 年我国全部工业增加值



全年规模以上工业中，农副食品加工业增加值比上年增长 14.1%，纺织业增长 8.3%，通用设备制造业增长 17.4%，专用设备制造业增长 19.8%，交通运输设备制造业增长 12.0%，通信设备、计算机及其他电子设备制造业增长 15.9%，电气机械及器材制造业增长 14.5%。六大高耗能行业增加值比上年增长 12.3%，其中，非金属矿物制品业增长 18.4%，化学原料及化学制品制造业增长 14.7%，有色金属冶炼及压延加工业增长 13.6%，黑色金属冶炼及压延加工业增长 9.7%，电子、热力的生产和供应业增长 10.1%，石油加工、炼焦及核燃料加工业增长 7.6%。高技术制造业增加值比上年增长 16.5%。

全年规模以上工业企业实现利润 54544 亿元，比上年增长 25.4%。

2011 年我国规模以上工业企业实现利润及其增长速度

单位：亿元

指标	利润总额	比上年增长 (%)
规模以上工业	54544	25.4
其中：国有及国有控股企业	14989	15.0
其中：集体企业	882	34.0
股份制企业	31651	31.2
外商及港澳台商投资企业	14038	10.6
其中：私营企业	16620	46.0

116. 2008-2011 年，全部工业增加值增加最多的是：

- A. 2008 年 B. 2009 年 C. 2010 年 D. 2011 年
117. 2011 年, 在规模以上工业中, 下列企业的增加值增长最快的是:
A. 国有及国有控股企业 B. 股份制企业 C. 外商及港澳台商投资企业 D. 私营企业
118. 2011 年, 六大高耗能行业增加值的增长速度大于 10% 的有:
A. 3 个 B. 4 个 C. 5 个 D. 6 个
119. 2010 年, 规模以上工业企业实现利润约为:
A. 43500 亿元 B. 43800 亿元 C. 44100 亿元 D. 44500 亿元
120. 根据资料, 下列表述不正确的是:
A. 2011 年, 轻工业增加值的增长速度比重工业慢
B. 2010 年, 在规模以上工业企业中, 私营企业实现利润多于外商及港澳台商投资企业
C. 2006 年, 我国全部工业增加值不足 2011 年的一半
D. 2011 年, 在规模以上工业企业中, 股份制企业实现利润是国有及国有控股企业的 2 倍多

二、根据下列资料, 回答 121~125 题。

截至 2011 年末, T 市城镇职工基本医疗保险参保人员 474.52 万人, 城乡居民基本医疗保险参保人员 498.30 万人, 城镇职工基本养老保险参保人员 458.70 万人, 城乡居民基本养老保险参保人员 97.80 万人, 失业保险参保职工 258.75 万人, 工伤保险参保职工 320.42 万人。职工五项社会保险基金总收入 510.6 亿元, 增长 18.1%; 其中, 养老保险基金收入 335.8 亿元, 增长 20.4%。

T 市全年保障性住房投资完成 306.77 亿元, 占房地产开发投资的 28.4%。全年开工建设保障性住房 1600 万平方米、23.9 万套, 发放租房补贴 8.5 万户。年末城市人均住宅建筑面积 32.77 平方米, 同比增长 4.8%。

T 市城镇低保标准由 450 元调整为 480 元, 农村低保标准由 250 元调整为 280 元, 优抚抚恤。特困救助, 农村五保供养、老年人生活补贴标准等都有新的提高。政府抚恤, 补助各类优抚对象 3.02 万人; 城乡低保对象 27.77 万人, 其中城镇 17.93 万人。完善价格补助联动机制, 受益群众由 18.4 万人增加到 33.7 万人。年末全市各类福利院有床位 3.28 万张, 同比增长 14.5%; 在院收养 2.04 万人, 增长 15.5%。当年新安排残疾人就业 3070 人。全市 11 个救助站全年救助 5046 人。接受社会捐赠 2790.6 万元, 销售社会福利彩票 16.07 亿元, 筹集彩票公益金 4.86 亿元。

121. 截至 2011 年末, T 市下列哪种保险的参保人数最多?
A. 工伤保险 B. 城镇职工基本医疗保险
C. 城乡居民基本医疗保险 D. 城镇职工基本养老保险
122. 如按 2011 年的增长速度估算, 2012 年 T 市职工五项社会保险基金总收入约为:
A. 580 亿元 B. 600 亿元 C. 620 亿元 D. 640 亿元
123. 2011 年, T 市房地产开发投资总额约为:
A. 1080 亿元 B. 1160 亿元 C. 1240 亿元 D. 1290 亿元
124. 2011 年, T 市城镇低保对象人数约为农村低保对象的:
A. 1.7 倍 B. 1.8 倍 C. 1.9 倍 D. 2.1 倍
125. 根据资料, 下列表述正确的是:
A. 2011 年, T 市养老保险基金收入比去年增加超过 60 亿元
B. 2010 年末, T 市城市人均住宅建筑面积不足 30 平方米
C. 2011 年, T 市农村低保标准上调超过 15%
D. 2010 年末, T 市各类福利院的床位不足 3 万张

三、根据下列资料, 回答 126~130 题。

	绝对数 (亿美元)	比上年增长 (%)
进出口总额	3094.0	22.0
出口额	2163.6	19.9
# 一般贸易	1765.0	21.7
加工贸易	360.4	9.2
# 机电产品	921.0	16.4
# 高新技术产品	155.2	5.4
进口额	930.4	27.3
# 一般贸易	653.5	32.2
加工贸易	172.0	9.2
# 机电产品	180.5	10.7

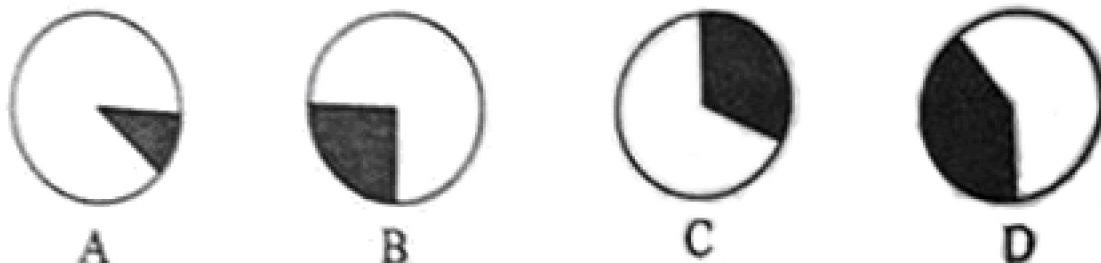
2011年Z省对8个主要市场进出口情况

国家或地区	出口额 (亿美元)	比上年增长 (%)	进口额 (亿美元)	比上年增长 (%)
欧盟	557.7	15.4	111.9	19.2
东盟	147.5	30.4	106.5	55.0
美国	349.2	14.7	77.6	26.8
日本	133.4	26.4	118.6	18.4
俄罗斯	70.1	37.1	18.3	49.5
韩国	54.5	20.1	87.2	37.3
中国香港	59.4	-7.8	3.3	30.8
中国台湾	23.7	17.9	112.4	10.3

126. 2010年, 该省的出口额比进口额约多:

- A. 1070 亿美元 B. 1140 亿美元 C. 1190 亿美元 D. 1230 亿美元

127. 下列饼图中, 阴影部分最能体现 2011 年 Z 省对欧盟出口额占当年 Z 省对 8 个主要市场出口总额比重的是



128. 2011 年, 机电产品的出口额占 Z 省出口额的比重比高新技术产品约高:

- A. 31 个百分点 B. 33 个百分点 C. 35 个百分点 D. 37 个百分点

129. 2011 年, Z 省对 8 个主要市场的进口额增速最快的三个国家或地区的进口额之和为:

- A. 168 亿美元 B. 212 亿美元 C. 287 亿美元 D. 343 亿美元

130. 下列表述与资料相符的有几个?

- I. 2010 年, Z 省一般贸易的进口额不足 500 亿美元
 - II. 2010 年, Z 省对韩国的进出口总额超过 100 亿美元
 - III. 2011 年, Z 省对中国香港的进出口总额比 2010 年下降了
 - IV. 2011 年, Z 省对 8 个主要市场的出口额与进口额最接近的是日本
- A. 1 个 B. 2 个 C. 3 个 D. 4 个

全部测验到此结束!

请扫描QQ二维码, 备注“公务员考生”加QQ
好友, 获取曹长远老师精解历年公务员考试申论、
行测、面试真题完整解析资料。

精品资料, 尽在掌握!

