

2011年3月27日广东省公务员考试

《行政职业能力测验》试题（县级）答案解析

说明

此项测验分为五个部分，共100题，总时限90分钟，满分100分。各部分不分别计时，但都给出了参考时限，供你参考以分配时间。

请将姓名与准考证号用黑色字迹的笔填写在指定位置，并用2B铅笔在准考证号对应的数字上填涂。请将题本上的条形码揭下，贴在答题卡指定位置。没有贴条形码的答题卡将按作废处理，成绩记为0分。

试题答错不倒扣分。严禁折叠答题卡！

第一部分 数量关系

（共15题，参考时限15分钟）

一、数字推理：共5题。每道题给出一个数列，但其中缺少一项，要求从四个供选择的答案中选出最合理的一个来填补空缺项，使之符合原数列的排列规律。

1. $2, 2\sqrt{7}, 3\sqrt{13}, 20, ()$

A. $7\sqrt{17}$

B. 28

C. $5\sqrt{15}$

D. 35

【答案】D。解析：

2. 3, 5, 5, 6, 6.5, ()

A. 6.25

B. 6.5

C. 7.25

D. 7.5

【答案】C。解析：

3. 30, 15, 1002, 57, ()

A. 78

B. 77

C. 68

D. 67

【答案】A。解析：

4. 1, 9, 7, 4, 8, 5, (), 11

A. 3

B. 4

C. 5

D. 6

【答案】A。解析：

5.

3	5	7	9
27	39	33	32
6	?	4	7

A. 3

B. 5

C. 8

D. 10

【答案】C。解析：

二、数学运算：共 10 题。在这部分试题中，每道题呈现一段表述数字关系的文字，要求你迅速、准确地计算出答案，你可以在草稿纸上运算。

6. 一个人从家到公司，当他走到路程的一半的时候，速度下降了 10%，问：他走完全程所用时间的前半段和后半段所走的路程比是（ ）。

- A. 10:9 B. 21:19 C. 11:9 D. 22:18

【答案】B。解析：

7. 一个图书馆里有科技书和文学书两种类型，首先拿走 25 本科技书，剩下的文学书占剩下书的 $\frac{4}{7}$ ，又拿走 42 本文学书，剩下的科技书占所剩书的 $\frac{5}{7}$ ，问：最开始文学书占总共书的几分之几？

- A. $\frac{3}{7}$ B. $\frac{6}{13}$ C. $\frac{1}{3}$ D. $\frac{2}{7}$

【答案】B。解析：

8. 三个运动员跨台阶，台阶总数在 100—150 级之间，第一位运动员每次跨 3 级台阶，最后一步还剩 2 级台阶；第二位运动员每次跨 4 级，最后一步还剩 3 级台阶；第三位运动员每次跨 5 级台阶，最后一步还剩 4 级台阶。问这些台阶总共有（ ）级？

- A. 119 B. 121 C. 129 D. 131

【答案】A。解析：

9. 两人参加竞赛，甲做错了总题数的 $\frac{1}{3}$ ，乙做错了 6 道题，两人都做错了总数的 $\frac{1}{5}$ ，问两人都做对的题有（ ）道？

- A. 5 B. 6 C. 7 D. 8

【答案】C。解析：

10. 一个产品生产线分为 a、b、c 三段，每个人每小时分别完成 10、5、6 件，现在总人数为 71 人，要使得完成的件数最大，71 人的安排应分别是（ ）。

- A. 14 : 28 : 29 B. 15 : 31 : 25 C. 16 : 32 : 23 D. 17 : 33 : 21

【答案】B。解析：

11. A 和 B 两个码头分别位于一条河的上、下游，甲船从 A 码头到 B 码头需要 4 天，从 B 码头返回 A 码头需要 6 天；乙船在静水中速度是甲船的一半。问乙船从 B 码头到 A 码头需要（ ）天？

- A. 6 B. 7 C. 12 D. 16

【答案】D。解析：

12. 某展览馆计划 4 月上旬接待 5 个单位来参观，其中 2 个单位人较多，分别连续参观 3 天和 2 天，其他单位只参观 1 天，且每天最多只接待 1 个单位。参观的时间安排共（ ）种？

- A. 30 B. 120 C. 2520 D. 30240

【答案】C。解析：

13. 甲、乙、丙三个仓库，其中甲有货物 280 箱，乙有货物 210 箱，丙有货物 180 箱。丙分别给甲和乙一些货物后，甲是乙的 1.5 倍，问：丙分给甲（ ）箱？

- A. 58 B. 36 C. 122 D. 144

【答案】C。解析：

14. 某植树队计划种植一批行道树，若每天多种 25%，可提前 9 天完工；若种植 4000 棵树之后每天多种 $\frac{1}{3}$ ，则可提前 5 天完工。问：共有（ ）棵树？
A. 3600 B. 7200 C. 9000 D. 6000

【答案】B。解析：

15. 有一批书，分给公司里的所有人。若每人分 1 本，则还差 19 本；若每个部门分 7 本，则多出 1 本；如果再招聘 2 个人进公司，则正好每个部门有 9 人。问：该公司共有（ ）个部门？
A. 11 B. 9 C. 7 D. 5

【答案】A。解析：

第二部分 言语理解与表达

（共 30 题，参考时限 25 分钟）

一、选词填空。每道题给出一句话，但其中缺少一个或几个词，要求从四个备选项中选出最合适、最合理的一个来填补空缺，使之符合句子所表达的意思。

16. 文化哲学已成为当代哲学领域的显学，_____已经超越哲学领域，_____政治、经济、文学、艺术，甚至是经济等领域产生较为深远的影响。
A. 甚至 对 B. 并且 在 C. 乃至 在 D. 而且 对

【答案】A。解析：

17. _____整个就业领域的歧视现象，不独是乙肝病毒的携带问题，其他诸如户籍、性别、身高、外贸乃至酒量、属相、血型、姓氏等，也已经成为横亘在求职者面前的一道道鸿沟。
A. 综观 B. 纵观 C. 观察 D. 观看

【答案】A。解析：

18. 法律的生命在于_____，如果不遵守，再好的法律也是_____。
A. 实行 一纸空文 B. 施行 一纸空文 C. 实行 纸上谈兵 D. 施行 纸上谈兵

【答案】B。解析：

19. 现在很多孩子并不懂电影，只是看热闹、分不清好坏，有大片就去看，其实很多片是“烂片”，败坏了他们的_____。
A. 情趣 B. 兴致 C. 审美 D. 美感

【答案】C。解析：

20. _____一夜之间，南国一个贫穷破败的小渔村_____变成梦幻般的绚丽的大都市。
A. 仿佛 忽然 B. 好像 骤然 C. 似乎 突然 D. 犹如 猛然

【答案】A。解析：

21. 不管在过去，还是在今天和将来，艺术的价值判断中枢不会_____，对品质优异的追求，必定代代相传，持续不衰。
A. 易位 B. 移位 C. 变动 D. 增加

【答案】B。解析：

22. 当前,我国高校存在着明显的区域分布_____现象。无论是高校总量,还是重点大学数量、一般高校数量、民办高校数量,各个省区之间存在着较大差异。

- A. 不均衡 B. 不平衡 C. 不公平 D. 不平均

【答案】A。解析:

23. 夜色朦胧,飘动的白云轻纱般吹过来,带着露水,带着温情,_____在你的身边。远处传来牧童_____的歌声,时断时续,轻轻袅袅

- A. 迷漫 嘹亮 B. 弥漫 悠扬 C. 弥漫 嘹亮 D. 迷漫 悠扬

【答案】B。解析:

24. 尽信书不如无书,当编创者过分沉溺于小说每一处细节的情景再现,却有可能丧失了超越其上重新俯瞰的当代审美_____,而后者才是真正尊重经典原著的严肃态度?

- A. 情趣 B. 情结 C. 情怀 D. 情致

【答案】C。解析:

25. 西藏解放后,特别是改革开放以来,藏文化得到了_____的保护,许多民间丢失的文化艺术在党和政府的关怀下,又渐渐回到了人们的生活当中。

- A. 自然而然 B. 空前绝后 C. 前所未有 D. 史无前例

【答案】C。解析:

二、阅读理解。每道题给出一段短文,短文后面有一个不完整的陈述,要求从四个备选项中选出最符合题干要求的一项。

26. 本轮房地产调控如果失败,房价将出现报复性反弹,政策将彻底失信于民。既得利益集团将进行一轮恶性反扑;大量资金再次流向房地产,通胀压力迅速上升;投资比例上升,经济结构将进一步失衡;“热钱”再度流入中国,最终,宏观政策将不得不“硬着陆”,中国经济将陷入长期低迷。

这段话主要说明()。

- A. 房地产调控只能成功,不能失败 B. 房地产的问题事关中国经济稳定
C. “热钱”对我国房地产的危害 D. 我国房地产市场的潜在危机

【答案】A。解析:

27. 放下架子,做个弱者,也是人生在世心态平和的出发点。如今很多人都爱表现出强者的风范,往往碰得头破血流;而以弱者的姿态行事,人自然会谦虚谨慎,别人也会愿意接受,反而会使一切顺畅。做人做事,如果能经常以一种弱者的姿态出发,以弱者的面貌去把握自己,大概才更能成为长久的赢家。这段文字意在说明()。

- A. 强者未必生存 B. 强者不如弱者
C. 做弱者是一种智慧 D. 弱者才能成为长久的赢家

【答案】C。解析:

28. 虽然经济模式已处在第二位,但是,中国依然是一个发展中国家,仍然需要大力发展;中国经济发展也处在关键时期,需要加倍珍惜现在的发展机遇;中国发展还面临很多挑战,需要通过进一步的发展来解决。因此,发展仍然是中国的第一要务。如果这是一段文字的开头,接下来要叙述的是()。

- A. 中国经济发展处在关键时期 B. 中国需要珍惜现在的发展机遇
C. 中国经济在世界经济中的地位 D. 发展仍然是中国的第一要务

【答案】D。解析：

29. 在像居里夫人这样一位崇高人物结束她的一生的时候，我们不要仅仅满足于回忆她的工作成果对人类已经作出的贡献。第一流人物对于时代和历史进程的意义，在其道德品质方面，也许比单纯的才智成就方面更大。即使是后者，它们取决于品格的程度，也远超过通常所认为的那样。

本段中“它们取决于品格的程度……”中的“它们”指代的内容是（ ）。

- A. 第一流人物对于时代和历史进程的意义
- B. 道德方面的意义比才智成就方面还要大
- C. 单纯的才智方面的成就
- D. 远超过常人的品质

【答案】C。解析：

30. 研究人员从用于外科伤口缝合的慢溶性材料中，提取了含有神经成长因子(简称 NGF)的极细颗粒，并将其与含有胆碱能神经元的胎儿脑细胞相混合。当研究人员将这种混合物植入健康成年老鼠的脑中时，他们发现 7 天后植入物周围的 NGF 水平达到了高峰，而到了 3 个星期之后，才降回到正常的水平。

对画线句子中的“混合物”，理解正确的一项是（ ）。

- A. NGF 的极细颗粒与胎儿脑细胞
- B. 胆碱能神经元
- C. 胆碱能乙酰转移酶
- D. 神经成长因子和胆碱能神经元

【答案】B。解析：

31. 时间最不偏私，每天给任何人都是二十四小时；时间也是最偏私的，每天给任何人都不是二十四小时。这段话支持的主要观点是（ ）。

- A. 抓紧时间才能不虚度时光
- B. 对于不爱惜时光的人来讲，二十四小时只是二十四小时
- C. 珍惜时间的人能利用好时间
- D. 在一定意义上讲，每个人的时间多少是不同的

【答案】A。解析：

32. 历史已经不止一次地告诉我们：当社会急遽变化的时候，新的事物不断涌现，旧的关系不断改变，语言受到冲击，随着发生变化，我们眼前便出现一个大矿藏。由于这种语言的规律还没有完全成形，显得幼稚、粗糙、混乱，然而其中确有宝贝，埋藏着“语言的金子”。如果不加选择地按原样搬用，势必破坏语言的纯洁，倘使加工铸炼，却可以创造艺术语言的典范。这是摆在作家面前的现实。

下面对文段的观点，概括正确的一项是（ ）。

- A. 当社会急遽发生变化时，语言也会随着发生变化
- B. 随着社会的急遽变化，语言发生变化，作家应重视铸炼语言
- C. 在社会的急遽变化时期，作家应承担起创造艺术语言典范的重任
- D. 我们面对的是一座语言大矿藏，其中确有宝贝和金子

【答案】B。解析：

33. 美国国家海洋和大气层管理局海洋学数据中心的科学家对 20 世纪 50 年代至 90 年代间在世界各地进行的 510 万次海洋测量分析后指出，全球变暖时，大多数热量被海洋吸收。在过去 40 年间，海表下 300 米内海水温度平均升高了 0.31 摄氏度，3000 米内水温平均升高 0.06 摄氏度。

下面对短文提供的信息所做的概括，正确的一项是（ ）。

- A. 美国科学家对海洋做了长期大量的测量分析工作
- B. 美国科学家通过长期测量分析发现地球正在变暖

- C. 美国科学家指出全球变暖时热量大部分被海洋吸收
- D. 美国科学家以大量数据证明海水温度在不断升高

【答案】C。解析：

34. 每个人最大的生长空间在其最强的优势领域，一个人才的奇迹都是在最合适自己的岗位上和能最能发挥自己优势的领域中创造出来的。使用人才应当唯器是用，用其所长，各得其宜。

这段话的主旨是（ ）。

- A. 要重视和培养人才
- B. 人才使用应尽其所能
- C. 人才的成长空间在其优势领域
- D. 人才使用应各得其所

【答案】D。解析：

35. 欣赏活动是对艺术家已创造出的艺术形象的一种再创造，同时也是对艺术家在作品中已经评价的生活的一种再评价。只有经过再评价，欣赏者才能对艺术作品反映的生活、所蕴含的社会意义得出自己的结论，从中受到教育。

根据该段文字，“再创造”指的是（ ）。

- A. 欣赏者在感受基础上的想像和体验活动
- B. 欣赏者把作品中的形象改造为自己心目中的形象的活动过程
- C. 欣赏者发现或发掘艺术形象的思想内容
- D. 欣赏者在头脑中补充形象乃至变动形象的一个过程

【答案】B。解析：

36. 《大秦帝国》、《汉武帝》、《雍正王朝》……一部部歌颂盛世之治的文艺作品引来无数目光，然而，那些极尽繁华的书写却难掩历史叙事的思想缺失。从政治文化视野看，“盛世情结”叙事往往过分认同人治文化与功利立场。

这段文字意在说明（ ）。

- A. 历史叙事作品缺乏思想
- B. “盛世情结”作品的价值局限
- C. 文艺作品应该抛开功利立场
- D. 歌颂盛世的作品需重新审视

【答案】B。解析：

37. 盛世爱马，末世爱驴。“欲饮琵琶马上催”，这是初唐诗人王翰的句子；“细雨骑驴入剑门”，这是南宋诗人陆游的句子。诗人的话当不了真，何况还是酒话。因为这两个句子前，是“葡萄美酒夜光杯”和“衣上征尘杂酒痕”，都喝过酒了。把这两个句子一比，骑驴的陆游即使豪放，也显出几分落拓。马也好，驴也好，只是到了诗人那里，他更爱的是酒。所以有了李白的“五花马，千金裘，呼儿将出换美酒”了。

这段话的主旨是（ ）。

- A. 盛世爱马，末世爱驴
- B. 诗人的话不可当真，何况是酒话
- C. 马也好，驴也好，诗人更爱的却是酒
- D. 南宋陆游虽然落拓，但他却正是末世爱驴的典型实例

【答案】C。解析：

38. 在南美洲安第斯高原海拔 4000 多米人迹罕至的地方，生长着一种花，名叫普雅花，花期只有两个月，花开之时极为绚丽。然而，谁会想到，为了两个月的花期，它竟然等了 100 年。100 年中，它只是静静伫立在高原上，栉风沐雨，用叶子采集太阳的光辉，用根汲取大地的养料……就这样默默等待着，等待着 100 年后生

命绽放的惊天一刻，等待着攀登者身心俱疲时的眼前一亮。

以下最适合做上文题目的一项是（ ）。

- A. 美丽的坚持 B. 沉默的力量 C. 百年的等待 D. 迟到的辉煌

【答案】C。解析：

39. 磁，是一种非常普遍的现象，我们的日常生活中随处可见。从电子设备、电力系统到通讯自动化控制，无处不用到磁效应和磁性材料。而随着磁技术的发展，其应用范围更扩展到生物科学、农林科学及至新兴的环境科学等领域中。

从这段文字我们不能推出的是（ ）。

- A. 磁的应用范围会越来越广 B. 新兴的环境科学也可能存在磁现象
C. 日常生活中都是磁的现象 D. 磁现象在生活中随处可见

【答案】D。解析：

40. 当然，能够只是送出去，也不算坏事情，一者见得丰富，二者见得大度。尼采就自诩过他是太阳，光热无穷，只是给与，不想取得。然而尼采究竟不是太阳，他发了疯。中国也不是，虽然有人说，掘起地下的煤来，就足够全世界几百年之用。但是，几百年之后呢？几百年之后，我们当然是化为魂灵，或上天堂，或落了地狱，但我们的子孙是在的，所以还应该给他们留下一点礼品。要不然，则当佳节大典之际，他们拿不出东西来，只好磕头贺喜，讨一点残羹冷炙做奖赏。

这段文字的主旨是（ ）。

- A. 批判“送去主义”者自诩“丰富”、“大度”的愚昧
B. 揭露帝国主义者侵占中国资源的罪行
C. 说明中国煤炭资源即使丰富，也会有开采完的一日，所以不能一味“送去”
D. 揭示“送去主义”所造成的祸国殃民的严重危害

【答案】A。解析：

41. 并非所有的新兴产业都具有战略性，某些新兴产业发展到一定阶段才可能成为战略产业。战略性新兴产业就是具备战略产业部分条件且将来可能成长为战略产业的新兴产业。与其他产业相比，战略性新兴产业具有超强的渗透、扩散作用，既能提升其他产业的技术水平和市场竞争力，也能支撑和拉动国民财富的长期增长，其发展主要由重大科技创新推动。

根据这段文字，下列表述正确的是（ ）。

- A. 新兴产业发展到一定阶段就可以成为战略产业
B. 与战略性新兴产业相比，其他产业不具有渗透、扩散作用
C. 战略产业是由新兴产业发展起来的
D. 战略性新兴产业对其他产业发展具有促进作用

【答案】D。解析：

42. 随着新的传播技术的出现，新的传播媒介也应运而生，网络媒体的影响力日益扩大，对传统媒体带来越来越严峻的挑战。手机媒体由于发展时间短、相关技术瓶颈尚需突破，目前尚未找到合理的商业模式，但是手机由于具有巨量的用户群，必将在不远的未来迎来黄金发展期，进一步颠覆传媒业市场格局。这段文字的主要内容是（ ）。

- A. 网络媒体颠覆传媒业市场格局 B. 手机媒体颠覆传媒业市场格局
C. 手机媒体发展面临的技术瓶颈 D. 手机媒体的现状与未来

【答案】D。解析：

43. 民生问题的发生源自人的正常需要难以被满足，而人的需要的满足必须有一定的资源、工具、手段和方式。在给定的社会历史条件下，人们用来解决民生问题的这些资源、工具、手段和方式都是特定的，是不以人的愿望为转移的。如果条件不具备，人们的民生需求就无法得到满足，由此产生的民生问题在给定的社会历史时期内就难以得到解决。

这段文字的中心论点是（ ）。

- A. 民生问题的发生源自人的正当需要难以被满足
- B. 人的需要的满足是不以人的愿望为转移的
- C. 民生问题的解决受社会历史条件的限制
- D. 民生问题需要特定的资源、工具、手段和方式来解决

【答案】C。解析：

44. 面对具有威胁性的突发事件，恐慌心理是人们进行自我保护的本能反应。但是，过度的恐慌反应，常常会导致比事件危害本身更为严重的消极后果。经验显示，在突发性公共事件中，许多损失可能不是事件本身造成的，而是由于人们的过度恐慌导致的。

这段文字意在强调（ ）。

- A. 产生恐慌心理是人们在突发事件中的正常反应
- B. 在突发性公共事件中，人们的损失往往是自己造成的
- C. 突发事件发生时，人们其实不必慌张
- D. 面对突发事件，人们应尽量保持稳定的心态

【答案】D。解析：

45. 英国的心理学家对一个占星学院中 3000 多名大学生进行性格测试，发现受访者的性格竟然与其所在星座代表的性格非常相似；而在之后的针对 2000 名从未接触过星座学说的小学生的测试中，心理学家发现受访者的性格和星座并没有太大联系。

根据这段文字，我们可以得出的结论是（ ）。

- A. 知识结构决定人的性格
- B. 小学生比大学生更诚实
- C. 星座学说没有价值
- D. 心理暗示影响人的性格

【答案】D。解析：

第三部分 判断推理

（共 40 题，参考时限 35 分钟）

一、类比推理，共 10 题。给出一组相关的词，然后要求报考者仔细观察，在备选答案中找出与题干在逻辑关系上最为贴近或相似的一项。

46. 森林：植被

- A. 沙漠：陆地
- B. 水库：河流
- C. 白云：蓝天
- D. 黑洞：臭氧

【答案】A。解析：

47. 接触：触摸

- A. 飘摇：摇动
- B. 推进：进展
- C. 科学：学习
- D. 起飞：飞翔

【答案】D。解析：

48. 精致：粗糙

- A. 黑色：白色 B. 富裕：贫穷 C. 清晨：傍晚 D. 旺盛：衰老

【答案】B。解析：

49. 子女：孝顺

- A. 家长：管教 B. 夏天：火热 C. 军队：战争 D. 法律：公正

【答案】A。解析：

50. 广告：电视

- A. 食物：餐桌 B. 工作：生活 C. 知识：书本 D. 产品：企业

【答案】C。解析：

51. 欢天喜地：兴高采烈

- A. 天造地设：鬼斧神工 B. 和颜悦色：百依百顺
C. 七零八落：七上八下 D. 生龙活虎：虎背熊腰

【答案】A。解析：

52. 坚持不懈：半途而废

- A. 异口同声：众说纷纭 B. 春风拂面：寒风凛冽
C. 提纲挈领：优柔寡断 D. 万象更新：因循守旧

【答案】A。解析：

53. 受人滴水之恩，必当涌泉相报

- A. 山无棱，天地合，才敢与君绝 B. 千里之行，始于足下
C. 不到黄河心不死 D. 人无远虑，必有近忧

【答案】D。解析：

54. 欲盖弥彰：此地无银三百两

- A. 弄巧成拙：偷鸡不成蚀把米 B. 背道而驰：牛不喝水强按头
C. 自顾不暇：拆东墙补西墙 D. 妄自尊大：王婆卖瓜自卖自夸

【答案】A。解析：

55. 仓廩实而知礼节

- A. 知耻而后勇 B. 树欲静而风不止
C. 置之死地而后生 D. 不到长城非好汉

【答案】D。解析：

二、常识判断。要求根据常识在四个备选项中选择最符合题干要求的一项。

56. 描写过年习俗的古诗“千门万户曈曈日，总把新桃换旧符”中，“新桃”指的是：

- A. 新鲜的桃子 B. 桃色的新衣
C. 桃木制作的新门神 D. 绘有寿桃的新年画

【答案】C。解析：

57. 干支纪年法始于东汉，下列采用了干支纪年法的一项是：

- A. 贞观之治 B. 黄道吉日 C. 辛丑条约 D. 安史之乱

【答案】C。解析：

58. 下列自然现象的产生与人类排放大气污染物无关的是：

- A. 阴霾天气 B. 臭氧层空洞 C. 酸雨 D. 雷电

【答案】D。解析：

59. 在中国东部沿海部分地区，“用工荒”现象已出现多年。每年春节过后，几乎所有的劳动密集型企业都在为工人的事儿犯愁，甚至出现了中西部和东部争夺普通劳务工人的新现象。而另一方面，大学生在找工作的过程中却面临“就业难”的窘境。出现上述矛盾现象的原因是：

- A. 企业的薪酬没有达到大学生期望值
B. 近几年，我国大量工人通过劳务输出到海外工作
C. 大学生的就业要求与劳动密集型企业提供的工作岗位不相符
D. 很多年轻人选择自主创业，而非外出打工

【答案】C。解析：

60. 在城市中，高层建筑越来越多，一旦发生火灾，以下做法不正确的是：

- A. 穿过充满烟气的楼道时，尽量降低头部的高度 B. 沿墙壁逃生寻找出口
C. 将鼻尖靠近墙角或在阶梯角落换气 D. 迅速乘坐电梯撤离

【答案】D。解析：

61. 《论语》中孔子教我们最好的交友原则：“益者三友。友直，友谅，友多闻，益矣。”其中“友谅”是指：

- A. 能听取他人意见的朋友 B. 能帮助自己的朋友
C. 诚实守信的朋友 D. 知识广博的朋友

【答案】C。解析：

62. 北回归线是太阳在北半球能够直射到的离赤道最远的位置。当太阳的直射点位于北回归线时，以下说法正确的：

- A. 是一年中北半球最热的时候 B. 是一年中北半球白昼最长的时候
C. 是北半球夏天开始的时间 D. 是北半球昼夜温差最大的时间

【答案】B。解析：

63. 为确保血液质量和减少献血者在献血过程中的不良反应，献血者在献血前一天和献血的当天，需注意一些事项。据此，下列不正确的一项是：

- A. 要保持献血前一晚的良好睡眠，献血前也不要空腹
B. 献血前不要吃高脂肪食物，但要吃高蛋白食物
C. 献血前两天如有感冒、发烧、咳嗽等应暂缓献血
D. 应阅读一些献血宣传资料，以减轻和解除思想负担

【答案】B。解析：

64. 一些动物能够敏锐地感知天气的变化。如果蜘蛛张网、补网，可能会出现的天气状况是：

- A. 下雨 B. 刮风 C. 晴天 D. 阴天

【答案】C。解析：

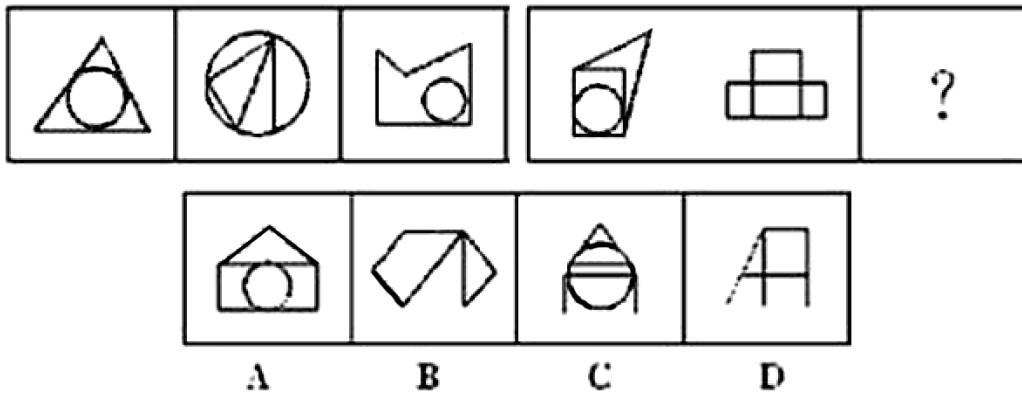
65. 西汉初年，经济凋敝，农民大量流亡，城市物价高涨，商人投机囤货。新建立的西汉政权国库空虚，财政困难。汉高祖刘邦为应对这一危机，所采取的措施是：

- (1) 士兵罢归家乡，并分配土地
- (2) 均分田地，打压贵族
- (3) 严刑罚，重法制
- (4) 对商人加倍征收赋税，禁止商人衣丝、为官
- (5) 重新建立税赋制度，加大税收力度

A. (1) (4) B. (1) (2) (3) C. (2) (4) (5) D. (3) (4)

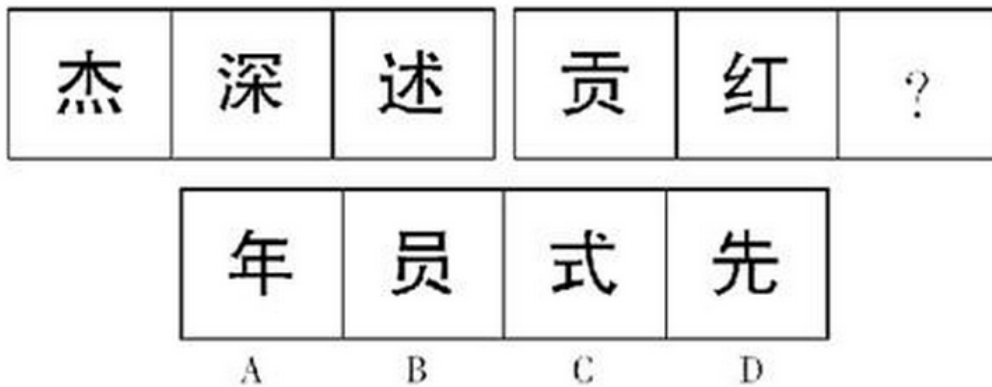
【答案】A。解析：

三、图形推理。每道题给出一套或两套图形，要求认真观察找出图形排列的规律，选出符合规律的一项。 66.



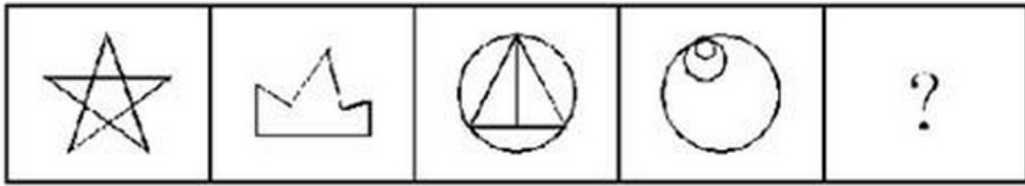
【答案】D。解析：

67.



【答案】C。解析：

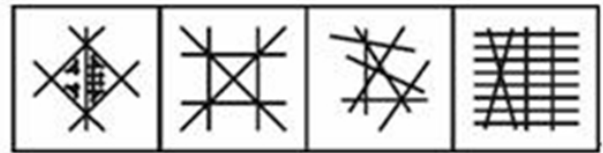
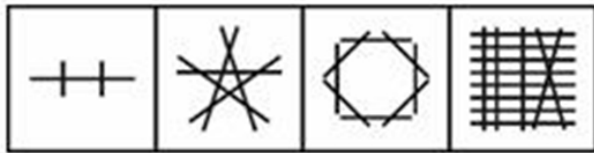
68.



A B C D

【答案】A。解析：

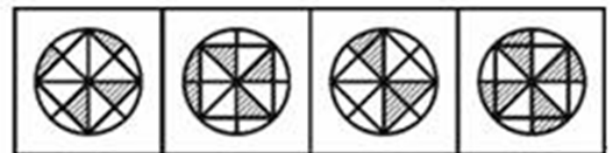
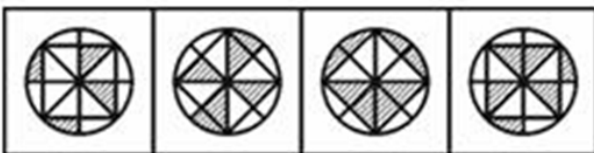
69.



A B C D

【答案】A。解析：

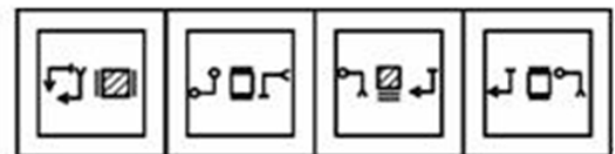
70.



A B C D

【答案】A。解析：

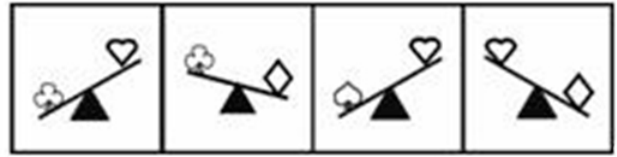
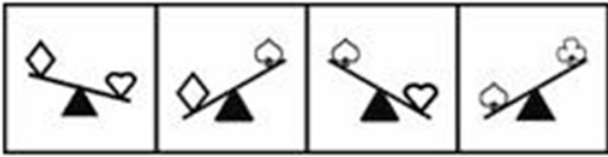
71.



A B C D

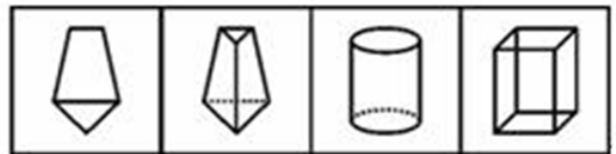
【答案】C。解析：

72.



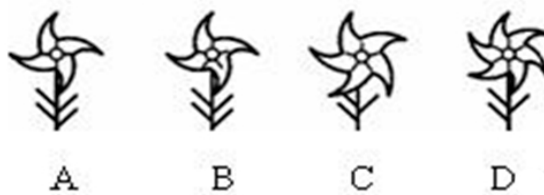

【答案】B。解析：

73.



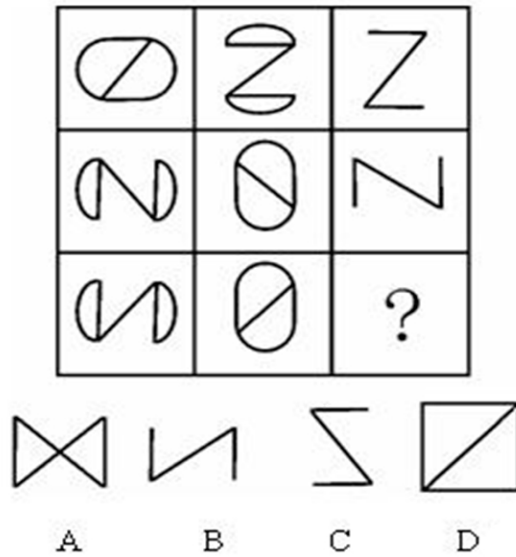
【答案】A。解析：

74.



【答案】B。解析：

75.



【答案】B。解析：

四、演绎推理，共 10 题。每道题给出一段陈述，这段陈述被假设是正确的，不容置疑的。要求根据这段陈述，选择一个最恰当答案，该答案应与所给的陈述相符合，应不需要任何附加说明即可以从陈述中直接推出。

76. 某单位有一辆车供甲乙丙丁四人使用，已知周日没有人会用车，且每人每周都会至少用一次车。同时四人的使用情况满足以下条件：

- ①乙不是在周二和周五用车，就是在周三和周六用车；
- ②丁必须在丙之后用车；
- ③没有人能连续用 2 天车。

如果丙周二用车，则以下说法正确的是（ ）。

- A. 甲不能在周一用车
- B. 乙在周五用车
- C. 丙还在周四用车
- D. 丁不可能用 2 天车

【答案】D。解析：

77. 一项最新研究发现，那些曾上过大学的人，比十几岁即离开学校的人，随着年龄增长血压更低。由此得出，受教育程度越高，血压就越低。

以下各项如果为真，最能反驳上述结论的是（ ）。

- A. 受教育程度低的人经济条件一般也比较差
- B. 受过高等教育的人患心脏病的风险较低
- C. 受过高等教育的人比那些未受过高等教育的人更瘦
- D. 受教育程度低的人一般从事着高压力的工作，导致他们的血压升高

【答案】D。解析：

78. 随着低碳环保理念的深入人心，取消酒店的一次性洗漱用品已经成为必然趋势。然而有不少人担心，“取缔令”会对洗漱产业造成不小的冲击。

以下各项如果为真，最能削弱上述观点的是

- A. 目前酒店的一次性洗漱用品需求量并未发生改变
- B. 酒店的一次性洗漱用品在所有洗漱用品中只是占很小的比例
- C. 不提供一次性洗漱用品会对酒店的服务水平造成影响

D. 即使取消酒店的一次性洗漱用品，还是会有人选择自己自费购买

【答案】A。解析：

79. 在中国的一项关于幸福感的研究表明，月收入在 2000 元以下的群体幸福感通常较低，而月收入在 5000 元左右的群体幸福感通常都较高。由此可知，钱越多就会越幸福。

以下哪项最能反驳上述说法？

- A. 日本人的月收入比中国人高很多，但他们普遍没有中国人幸福
- B. 有很多月收入过万元的人都感觉不如低收入的人幸福
- C. 很多生意人也面临很大的失败压力
- D. 很多百万富豪选择了自杀

【答案】D。解析：

80. 一项调查结果显示，即使普通人的后代与成功人士的后代同样的努力，其成功的几率也仅为后者的一半。由此可以得出结论，成功与否主要取决于遗传因素。

下列哪项最能反驳上述结论的是：

- A. 成功人士的后代往往比普通人更加努力
- B. 许多成功人士的后代事业上毫无建树
- C. 很多所谓的成功人士出身于普通家庭
- D. 成功人士的后代较普通人后代有更好的成长环境

【答案】D。解析：

81. 合理、精简的机构设置使得甲县卫生局的工作效率非常高，甲县卫生局的部门结构，乙县卫生局十分相似。因此乙县的卫生工作效率也会很高。

下列哪项最能反驳上述结论的是：

- A. 乙县卫生局的部门结构未必与甲县的相同
- B. 两院卫生局的工作人员数量有较大的差异
- C. 工作流程的设置对工作效率有重要影响
- D. 甲县卫生局的部门的工作效率有高有低

【答案】C。解析：

82. 人都容易得感冒，感冒又分为病毒性感冒和细菌性感冒，病毒性感冒是由于病毒所致，而细菌性感冒是由于细菌所致。对于病毒性感冒，因为人自身是有免疫系统的，所以不需要吃药，只要多喝水，一般一个星期就能痊愈了。由此可以得出结论，感冒也可以不用去看医生。

上述结论需要基于以下哪项才能得出？

- A. 感冒时乱用药会有副作用
- B. 感冒是一种常见的呼吸道疾病
- C. 人感冒时多数得的是病毒性感冒
- D. 感冒会引起鼻塞、咳嗽、打喷嚏、发烧等症状

【答案】B。解析：

83. 有专家建议，干部考核除了工作考核外，还需要增加道德考核。除了对干部工作和学习的考核外，干部的品德表现、居家表现、邻里关系以及生活作风也成为考核内容，将这些道德指标纳入干部考核体系。

基于以下哪项，道德考核很难真正实现？

- A. 干部的社会关系及邻里关系的好坏都会影响道德考核的结果
- B. 道德考核的各项标准很难进行量化测评
- C. 这些道德考核的内容已经干涉到了干部的隐私
- D. 道德指标在整个考核体系中所占的比重不高

【答案】B。解析：

84. 投资黄金是有风险的，做好充分的准备，盈利的概率会增大，但还是会存在风险。研究人员让一组测试者分别给一位准备投资黄金的顾客提建议，请他们在如下的盈利成功率中做选择：30%、40%、70%、90%。测试结果表明盈利率在60%时可以接受入市，风险率为40%。接着，研究人员找另一组测试者先经过小组讨论再给这位投资者提建议，小组讨论的结果是有40%的盈利率就可以入市，风险率为60%。

最能解释这一现象的是：

- A. 群体决策集思广益、博采众长，因而应该比个人决策更加合理、有效
- B. 群体决策容易出现责任分摊等现象，因而往往比个人决策更趋于冒险
- C. 个人在做出决策时比较保守、谨慎，因而个人决策往往阻碍事业的发展
- D. 个人要对自己做出的决策负责，因而个人决策比群体决策更具有可行性

【答案】B。解析：

85. 要满足百姓的医疗需要就一定要医改，要医改就一定要实现医疗分类，要实现医疗分类就一定要新建一批医疗卫生机构。由上面的话得出三个结论：

- (1) 某地满足了百姓医疗需要，所以该地实现了医疗分类
- (2) 某地新建了一批医疗卫生机构，所以该地满足了百姓医疗需要
- (3) 某地进行了医疗分类，所以该地一定进行了医改

这三项说法正确的是：

- A. 只有 (1)
- B. 只有 (2)
- C. (1) 和 (2)
- D. 均正确

【答案】A。解析：

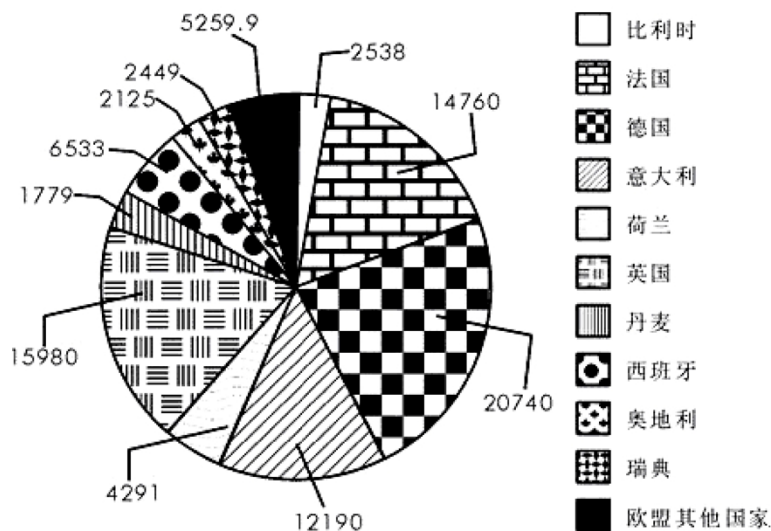
第四部分 资料分析

(共 15 题，参考时限 15 分钟)

针对每段资料有 5 个问题，请根据资料所提供的信息进行分析、比较、计算，从四个备选答案中选出符合题意的答案。

一、根据下列资料，回答 86~90 题。

2002 年欧盟各国 GDP 值比例图 (单位：亿欧元)



86. 根据 2002 年欧盟各国 GDP 值比例图，西班牙的排名为 ()。

- A. 第 5
- B. 第 6
- C. 第 7
- D. 第 8

【答案】A。解析：

87. 荷兰的 GDP 总量占欧盟 GDP 总量的 ()。

- A. 2.0% B. 4.8% C. 7.3% D. 13.8%

【答案】B。解析：

88. 德、法、英三国 GDP 总量占欧盟 GDP 总量的 ()。

- A. 48.4% B. 53.8% C. 55.2% D. 58.1%

【答案】D。解析：

89. 奥地利的 GDP 总量比比利时的 GDP 总量少 ()。

- A. 5% B. 16.3% C. 19.4% D. 22.5%

【答案】B。解析：

90. 从上图可以推出的结论是 ()。

- I. 瑞典与比利时的 GDP 总量相差最少
 - II. 前五名之外的其他国家的 GDP 总量小于德、法两国 GDP 总量之和
 - III. 英国 GDP 总量比德国 GDP 总量少的比例小于丹麦 GDP 总量比瑞典 GDP 总量少的比例
- A. 只有 I B. 只有 II
C. 只有 III D. I、II、III 均正确

【答案】D。解析：

二、根据下表，回答 91~95 题。全国服务贸易领域外商直接投资情况 (2003) 单位：万美元

行业	项目个数			合同外资金额			实际使用外资金额		
	个数	同比%	比重%	金额	同比%	比重%	金额	同比%	比重%
合计	10179	27.64	100	2847928	49.75	100	1313578	3.66	100
商业服务	6155	26.96	60.47	1567204	29.64	55.03	815041	-3.41	62.05
通信服务	12	-7.69	0.12	298065	3335.51	10.47	9835	39.76	0.75
建筑与相关的工程服务	396	20.36	3.89	167712	58.58	5.89	61175	-13.49	4.66
分销服务	1504	31.35	14.78	175644	35.93	6.17	82551	24.25	6.28
教育服务	42	55.56	0.41	19369	186.82	0.68	5412	72.74	0.41
环境服务	41	20.59	0.40	15351	85.76	0.54	5327	145.6	0.41
金融服务	41	141.18	0.40	20700	-54.83	0.73	58094	444.72	4.42
与医疗相关服务和社会服务	54	63.64	0.53	14116	-1.49	0.50	7907	-10.6	0.60
旅游和与旅游相关的服务	1070	23.13	10.51	234545	57.72	8.24	109071	4.23	8.03
娱乐、文化和体育服务	349	37.94	3.43	118759	56.37	4.17	7323	13.05	5.57
运输服务	515	26.54	5.06	216463	45.02	7.60	85935	-1.29	6.54

91. 2003 年服务贸易领域合同外资金额最高的行业为 ()。

- A. 商业服务 B. 通信服务
C. 旅游和与旅游相关的服务 D. 运输服务

【答案】A。解析：

92. 2003 年金融服务的实际使用外资率为 ()。

- A. 0.4% B. 0.7% C. 280.6% D. 1.58%

【答案】C。解析：

93. 根据上表，下列说法正确的是（ ）。

- A. 服务贸易领域吸收外资主要集中在分销服务领域
B. 2003年，全国服务贸易领域外商直接投资项目个数最少的行业为通信服务
C. 2002年环境服务合同外资金额比2003年少7.087亿美元
D. 实际使用外资金额高于合同外资金额的服务贸易行业为娱乐文化和体育服务

【答案】B。解析：

94. 相对2002年，2003年实际使用外资金额减少的行业数为（ ）。

- A. 1个 B. 2个 C. 3个 D. 4个

【答案】D。解析：

95. 下面描述不正确的是（ ）。

- A. 2003年商业服务的合同外资金额、投资项目个数、实际使用外资金额在全国服务贸易中占绝对大的比重
B. 金融服务成为2003年实际使用外资金额增幅最高的行业
C. 2003年通信服务的合同外资金额占服务贸易领域合同外资金额比重高于2002年
D. 2003年实际使用外资率最高的行业为金融服务

【答案】C。解析：

三、根据下列文字，回答96~100题。

据国家知识产权局统计：2005年我国共受理专利申请47.6264万件，三种专利申请总量在连续5年平均年增长20%的基础上继续高速增长，比2004年同期增长了34.6%，创18年来的历史最高水平。国家知识产权局共受理国内专利申请38.3157万件，比2004年同期增长37.4%，高于国外同期24.4%的增长幅度。在2005年受理的专利申请中，国内发明专利申请量为9.3485万件，比2004年同期增长42.1%，占发明专利申请总量的53.9%。

2005年，国家知识产权局共授予专利权21.4003万件，比2004年同期增长12.5%，其中国内专利授权17.1619万件，比2004年同期增长13.4%。在三种专利授权中，技术含量相对较高的发明专利授权达到5.3305万件，占授权总量比重的24.9%，比上年同期增长8%。

从科技成果类别来看，2005年全国共登记基础理论成果2129项，比2004年减少25%，占登记成果总数的6.6%；应用技术成果共登记28559项，而2004年则为27355项。软科学成果共登记1671项，比上年增长10.1%。

96. 2004年国家知识产权局共受理国外专利申请多少万件？（ ）

- A. 9.31 B. 7.50 C. 19.74 D. 2.93

【答案】B。解析：

97. 2005年，国内发明专利申请量比国外发明专利申请量高出（ ）。

- A. 5% B. 12% C. 17% D. 47%

【答案】C。解析：

98. 2004年，我国专利申请授予率约为（ ）。

- A. 53.8% B. 45.0% C. 39.9% D. 49.1%

【答案】A。解析：

99. 与 2004 年同期相比，增长幅度最大的是（ ）。

- A. 国内专利申请件数
- B. 授予发明专利权件数
- C. 应用技术成果登记项数
- D. 国内发明专利申请件数

【答案】D。解析：

100. 从上述材料中，能推出的是（ ）。

- A. 我国的知识产权申请量与经济发展还不十分协调
- B. 国外申请知识产权件数远高于国内申请知识产权件数
- C. 应用技术类成果占 2005 年登记科技成果 80%以上
- D. 软科学成果登记的增长幅度低于应用技术类成果

【答案】C。解析：

全部测验到此结束！

请扫描QQ二维码，备注“公务员考生”加QQ
好友，获取曹长远老师精解历年公务员考试申论、
行测、面试真题完整解析资料。

精品资料，尽在掌握！

