

## 2015 年山东省委组织部选调生考试

# 《行政职业能力测验》真题答案解析

(总分: 50 分 时间: 90 分钟)

### 答题须知

1. 本试卷共有 5 个大题, 80 个小题。依次为常识判断、言语理解与表达、逻辑推理、数量关系、资料分析。
2. 答题前请按照要求在答题卡上填写好自己的姓名, 涂写好准考证号。
3. 必须在答题卡上答题, 在题本上答题, 一律无效。
4. 监考人员宣布考试开始时, 方可答题, 宣布考试结束时, 应立即停止答题。题本、答题卡、草稿纸一律留在桌上, 待监考人员确认无误, 允许离开后, 方可离开考场。
5. 试题答错不倒扣分。  
严禁折叠答题卡!

### 一、常识判断(请从各小题的备选项中选出一个正确答案。每小题 0.7 分, 共 30 小题, 21 分)

1. 30 多年来, 我国农村改革的主线是 ( )。

- A. 向农民赋权  
B. 转变农业发展方式  
C. 培育新型农业经营主体  
D. 走城乡发展一体化道路

**【答案】A。解析:**

2. 下列关于我国农村宅基地政策的说法不准确的是 ( )。

- A. 宅基地不是经营性建设用地, 而是集体非经营性建设用地  
B. 不能完全套用经营性建设用地直接入市的办法经营宅基地  
C. 农民要盖房, 但村里必须有建设用地指标, 才能申请宅基地  
D. 依法赋予农户宅基地用益物权, 同时具有抵押担保权

**【答案】D。解析:**

3. 根据《村民委员会组织法》, 下列关于村委会的说法不准确的是 ( )。

- A. 村委会办理本村或邻村的公共事务和公益事业, 如调解民间纠纷等  
B. 村委会向村民会议、村民代表会议负责并报告工作  
C. 村委会实行民主选举、民主决策、民主管理、民主监督  
D. 村委会是村民自我管理、教育、服务的基层群众性自治组织

**【答案】A。解析:**

4. 农业现代化的内容是随着经济社会发展逐渐丰富的。当前, 我国的农业现代化是指 ( )。

- ①农业生产过程的机械化  
②农业生产过程的水利化和电气化  
③生产条件、生产技术、生产标准的现代化  
④生产组织和管理制度的现代化
- A. ①②  
B. ②③④  
C. ①③④  
D. ①②③④

**【答案】D。解析:**

5. 党的十八届三中全会对新时期的农村改革作出了全面部署, 2015 年中央 1 号文件又从 ( ) 等诸多方面对农村改革作出了具体安排。

- ①推进土地制度改革试点  
②改革集体经济产权制度  
③完善农业支持保护体系  
④改革农产品价格形成机制
- A. ①②                      B. ②③                      C. ①③④                      D. ①②③④

**【答案】D。解析：**

6. 我国现阶段国有企业改革的重点是（ ）。
- ①推进企业市场化改革，增强国有企业竞争力      ②发展混合所有制经济，实现股权多元化  
③建立完善现代企业制度                                  ④建立职业经理人制度
- A. ①②                      B. ①②④                      C. ①③④                      D. ①②③④

**【答案】D。解析：**

7. 下列关于“一带一路”的说法不正确的是（ ）。
- A. 2300 多年前，汉武帝遣臣子相继开辟了陆上丝绸之路和海上丝绸之路  
B. “一带一路”指的是“丝绸之路经济带”和“21 世纪海上丝绸之路”  
C. 党的十八届三中全会通过的《决定》使“一带一路”上升为国家战略  
D. 建设“一带一路”，就是建设世界跨度最大、覆盖面最广的新兴经济带

**【答案】A。解析：**

8. 下列对中国经济实力的认定正确的是（ ）。
- ①16 世纪~18 世纪初，中国属于一个经济发达国家  
②19~20 世纪，中国属于一个发展中国家  
③2010 年中国是一个具有初等发达水平的发展中国家  
④2040 年左右中国将成为一个具有中等发达水平的发展中国家
- A. ①②                      B. ③④                      C. ①③④                      D. ①②③④

**【答案】D。解析：**

9. 近年来，中国的经济增长率从 10%以上降到 7.40%，但就业情况、特别是低技术水平劳动者的就业情况却比以前要好。其原因主要是（ ）。
- A. 服务业在加快发展    B. 移动互联网发展迅速  
C. 文化创意产业蓬勃发展                                      D. 就业政策得到完善

**【答案】A。解析：**

10. 下列关于我国城市规模划分标准的说法不正确的是（ ）。
- A. 城区常住人口 50 万以下的城市为小城市  
B. 城区常住人口 50 万以上 100 万以下的城市为中等城市  
C. 城区常住人口 100 万以上 1000 万以下的城市为大城市  
D. 城区常住人口 1000 万以上的城市为超大城市

**【答案】C。解析：**

11. 2014 年 12 月 12 日，南水北调中线一期工程正式通水。这一工程从丹江口水库调水，向（ ）供水，沿线 20 多个大中城市及 100 多个县(市)受益。
- A. 湖北、河南、河北、北京                                  B. 河南、河北、北京、天津  
C. 湖北、河南、山东、天津                                  D. 河南、山东、河北、北京

**【答案】B。解析：**

12. 在 2014 年底召开的中央经济工作会议上，中央首次对中国经济发展新常态进行全面系统阐述，揭示了新常态的实质，这就是（ ）。

- A. 从高速增长转为中高速增长
- B. 从要素驱动、投资驱动转向创新驱动
- C. 形态更高级、分工更复杂、结构更合理
- D. 经济结构不断优化升级，第三产业、消费需求逐步成为主体

**【答案】A。解析：**

13. 下列关于“互联网+”的说法正确的是（ ）。

- ①它让互联网与传统行业深度融合，创造新发展生态
- ②组织形态：生产小型化、智能化、专业化特征突出
- ③它与工业制造业领域结合的突破口，就是智能制造
- ④创新载体由单个企业向跨领域多主体创新网络转变

- A. ①②
- B. ②③④
- C. ①③④
- D. ①②③④

**【答案】D。解析：**

14. 协调推进“四个全面”是新一届党中央的治国理政方略。这一重大战略布局是（ ）。

- A. 全面改革开放、全面推进现代化建设、全面惩治腐败、全面实现中国梦
- B. 全面建成小康社会、全面深化改革、全面推进依法治国、全面从严治党
- C. 全面实现法治蓝图、全面振兴民族、全面建成富强国家、全面实现人民幸福
- D. 全面经济发展、全面政治稳定、全面社会进步、全面实现“两个一百年”目标

**【答案】B。解析：**

15. 贯穿 2015 年政府工作报告的两条思想主线是（ ）。

- A. 国际形势的新变化、国内发展新阶段
- B. “四个全面”战略布局、经济发展新常态
- C. 客观总结去年政府工作、科学部署今年政府工作
- D. 突出宏观经济政策取向、报告政府今年要做的事情

**【答案】B。解析：**

16. 中国共产党的党内法规体系主要包括（ ）。

- ①《中国共产党章程》
  - ②《中国共产党纪律处分条例》
  - ③《关于党内政治生活的若干准则》
  - ④《中国共产党党内监督条例》
- A. ①②
  - B. ②③④
  - C. ①③④
  - D. ①②③④

**【答案】D。解析：**

17. 下列对纪律和规矩的界定不准确的是（ ）。

- A. 纪律是规矩，有些规矩也是纪律
- B. 对党忠诚、实事求是、群众路线，都可算作规矩
- C. 选人用人上，党坚持五湖四海，德才兼备，不拉票贿选，就是规矩
- D. 纪律的范围比规矩更广一些

**【答案】D。解析：**

18. 19 世纪 40 年代中期，马克思悄然进行了一场划时代的哲学革命，并创立了一种他自己称之为“（ ）”的哲学。

- A. 历史唯物主义
- B. 唯物史观
- C. 新唯物主义
- D. 历史唯物主义和辩证唯物主义

**【答案】C。解析：**

19. 我国传统慈善思想之源是（ ）。

- ①儒家“仁者爱人”
  - ②墨家“兼爱非攻”
  - ③道家“积德行善”
  - ④佛家“慈悲为怀”
- A. ①②                      B. ①③                      C. ①③④                      D. ①②③④

**【答案】C。解析：**

20. 志愿精神是社会主义核心价值观的具体呈现，是社会文明程度的重要标志。它的核心理念是（ ）。

- A. 我为人人，实现自我
- B. 奉献、友爱、互助、进步
- C. 自由自愿、不为报酬、利于他人
- D. 引领现代文明，凝聚物质力量，彰显个人价值

**【答案】B。解析：**

21. 下列对我国全面推进依法治国有关问题的说法不准确的是（ ）。

- A. 法治政府的建设，是推进依法治国，形成法治社会的切入点
- B. 法治的核心要义，不是指的限权，而是指的扩权
- C. “依宪执政”是依法治国更深入、更透彻的体现
- D. 修改后的行政诉讼法扩大了受案范围，体现了公正司法的原则

**【答案】B。解析：**

22. 法治思维就是在法治理念指导下，按照法治根本要求、精神实质和价值追求，分析、判断、处理现实问题的思维方法和思维过程。它的实质是（ ）。

- A. 解决处理问题的方式、手段有无法律依据问题
- B. 摒弃关系思维，克服主观意志和个人好恶问题
- C. 一种权利和义务观念，从合法性角度考虑问题
- D. 使用法律武器，最大限度维护自己的合法权益

**【答案】C。解析：**

23. 恶意拖欠农民工工资触及社会道德底线，也是触犯刑法的犯罪行为。农民工工资被恶意拖欠时，完全可以拿起法律武器依法维权。这包括（ ）。

- ①申请诉前保全
  - ②申请支付令
  - ③行使撤销权
  - ④以拒不支付劳动报酬罪追究刑事责任
- A. ①②                      B. ②③④                      C. ①③④                      D. ①②③④

**【答案】D。解析：**

24. 下列对“中文”的说法不正确的是（ ）。

- A. “中文”是“中国语言文字”的简称

- B. “中文”一般是用来特指中国的文章或中国的文学  
C. 目前我国收字最多的中文字典是《中华字海》  
D. 中国语言文学包含汉语言文学、汉语言、汉语国际教育等

**【答案】B。解析：**

25. 从公元前 221 年秦始皇统一中国到 1911 年辛亥革命的两千多年中，统一的封建王朝秦、汉、晋、隋、唐、宋、元、明、清共有 1874 年，分裂时期的三国、南北朝、五代十国共计只有（ ）年。

- A. 125                      B. 210                      C. 258                      D. 385

**【答案】C。解析：**

26. 下列科技进展属于 2014 年中国科技成果的是（ ）。

- ①超级稻亩产首破千公斤                      ②探月工程三期再入返回飞行试验获圆满成功  
③4500 米级深海遥控作业型潜水器海试成功                      ④量子通信安全传输创世界纪录  
A. ①②                      B. ②③④                      C. ①③④                      D. ①②③④

**【答案】D。解析：**

27. 习近平同志提出我国要构建以（ ）为核心的新型国际关系。

- A. 合作共赢                      B. 独立自主，和平发展  
C. 包容不同文化、信仰、制度                      D. 坚持大小国家一律平等，坚持履行正确义利观

**【答案】A。解析：**

28. 下列报道属于山东省 2014 年新闻的是（ ）。

- ①大病险不再受病种限制，城乡居民医保将实现“五统一”  
②青岛西海岸新区获国务院批复成为国家级新区  
③青荣城际铁路开通，济南至威海由 8 小时缩为 4 小时  
④善行义举四德榜山东经验推向全国  
A. ①②                      B. ②③④                      C. ①③④                      D. ①②③④

**【答案】D。解析：**

29. 山东省现有的四处世界文化遗产是（ ）。

- A. 孔府、孟庙、泰山、水泊梁山                      B. “三孔”、灵岩寺、泰山、崂山  
C. 孔子文化、泰山、蒙山、趵突泉                      D. 泰山、“三孔”、齐长城、大运河山东段

**【答案】D。解析：**

30. 当前，山东经济如何破解科学发展难题，切实将全省经济社会发展纳入科学发展轨道，是我们必须面对的重大课题。下列有关说法正确的是（ ）。

- ①发展思路着眼“走在前列”谋划  
②把转方式调结构、提高质量效益、推动科学发展作为长远发展的根本大计  
③提升工作标准，努力做到站位高、谋事深、要求严  
④提升精神境界，努力做到锐意进取、创新实干  
A. ①②                      B. ②③④                      C. ①③④                      D. ①②③④

**【答案】D。解析：**

**二、言语理解与表达（请从各小题的备选项中选出一个最合适的来完成陈述。每小题 0.5 分，共 15**

小题，7.5分)

31. 村干部是农村基层组织的人格化代表，他们直接面对村民，承担着最为真实和繁杂的农村社会管理任务，是农村基层政权的\_\_\_\_\_。村干部如果“走读”，会降低其灵敏度。

填入画横线部分最恰当的一项是：

- A. 交感神经                      B. 中枢神经                      C. 神经末梢                      D. 坐骨神经

**【答案】C。解析：**

32. 家风是一个家庭或家族长期形成的风气、风格和风尚，是一代代人精神的传承和品质的\_\_\_\_\_。家风关系到一个家族的发展，对社会风气有直接的影响，\_\_\_\_\_时代家风正成为千家万户的自觉追求。

依次填入画横线部分最恰当的一项是：

- A. 凝聚 涵养                      B. 体现 传承                      C. 积淀 弘扬                      D. 提炼 倡导

**【答案】A。解析：**

33. 基层法治建设是一项长期而艰巨的任务，经过这些年的努力，我国基层法治建设取得了很大成效。基层是社会的\_\_\_\_\_和\_\_\_\_\_，基层不牢，地动山摇，实现依法治国的目标，必须从基层抓起。

依次填入画横线部分最恰当的一项是：

- A. 基石 载体                      B. 局部 成分                      C. 地气 实际                      D. 细胞 基础

**【答案】D。解析：**

34. 山东省淄博市朱彦夫 14 岁参军，在抗美援朝战场上失去了四肢和左眼，主动放弃荣军修养所的特护待遇，回到家乡担任村党支部书记 25 年，把一个贫山村建成先进村。退休后，他用嘴衔笔、残肢抱笔，创作了长篇小说《极限人生》《男儿无悔》。他的先进事迹\_\_\_\_\_了社会主义核心价值观的\_\_\_\_\_，成为激励广大党员干部践行党的群众路线的光荣榜样。

依次填入画横线部分最恰当的一项是：

- A. 生动诠释 深刻内涵                      B. 具体体现 真正含义  
C. 充分说明 实际意义                      D. 无形树起 践行榜样

**【答案】A。解析：**

35. 诺贝尔奖得主高锟被尊为“光纤之父”。由他发明的光纤技术被广泛应用后获利颇丰，但由于专利属于雇佣他的英国公司，从而导致他只获得了很少酬劳。于是，有人认为高锟一生所做的都是无用之功。但高锟却说：“如果事事都以金钱为重，那我告诉你，今天一定不会有光纤技术的产生。”

这段文字意在说明（ ）。

- A. 人们评价事物往往以“有用”和“无用”作为裁量的标准  
B. 人们衡量有用与否的尺度，往往是以金钱、财富和利益为标准  
C. 有用和无用之间很难作出明确的界定  
D. 看似无用的认知无助于技能，却能提升一个人的认知能力

**【答案】B。解析：**

36. 1903 年 10 月，在纽约举行的一次数学会议上，大家要求数学家科尔作学术报告。科尔走到黑板前，用粉笔写下算式，接着又进行长长的计算，得到结果以后，科尔回到自己的座位，听众席上掌声雷动。因为他通过这个不说话的报告，证明了某个数是合数，而该数 200 年来一直被人们认为是质数。尔后，有人问科尔：“为论证这一问题，你花了多长时间？”科尔回答：“3 年里的全部星期天。”

最适合做这段文字标题的是（ ）。

A. 时间与成功

B. 别开生面的学术报告

C. 锲而不舍，金石可镂

D. 成就大事并不在于力量大小，而在于坚持多久

**【答案】A。解析：**

37. 能见度低于 10 公里时，可能既有干气溶胶的影响(导致霾的产生)，也可能有雾滴的影响(导致轻雾)。霾和雾在一天之中可以变换角色，甚至在同一区域内的不同地方，可能雾和霾也会有所侧重。一般情况下，当雾和霾同时存在时，我国区域性能能见度低于 10 公里的空气普遍出现浑浊现象，会被称为“雾—霾”现象。

这段文字说明的主要是（ ）。

A. 干气溶胶粒子和雾滴都能影响能见度

B. 雾和霾原本是自然界两种天气现象

C. 没有干气溶胶粒子就无法形成霾

D. 雾和霾与“气溶胶”的物质关系密切

**【答案】A。解析：**

38. 普通树叶的宽与长之比，蝴蝶身长与双翅展开后的长度之比都接近 0.618。人的肚脐是黄金分割的黄金点，肚脐上下的比值是 0.618。人的膝盖至脚后跟与膝盖至肚脐之比为 0.618，咽喉至头顶与咽喉至肚脐之比恰好是 0.618。人在精神愉快时脑电波频率下限是 8 赫兹，而上限是 12.9 赫兹，上下限的比值接近于 0.618。

这段文字告诉我们的主要是（ ）。

A. 0.618，是一个“奇妙”的数字

B. 极致的美都有意无意用上了黄金比率

C. 最和谐、也是合乎美学的比率，为 0.618

D. 人类社会和自然界的很多现象都符合黄金比率

**【答案】D。解析：**

39. 在南美洲的巴西高原上的纺锤树，中间粗，两头细，树身光秃秃的，只在树顶稀稀拉拉地长着几根枝条。这种树生长的环境很特殊，属于亚马孙河流域，一年之中，雨季湿润多雨，旱季十分干旱。纺锤树之所以长得枝叶稀疏，是因为它在旱季时，要尽量减少体内水分的蒸发和损失。这样一直坚持到雨季来临时，纺锤树便会立刻行动起来，伸展全身无数条根，美滋滋地把雨水喝个够。

这段文字寓意人们（ ）。

A. 纺锤树会很过日子，它懂得把多余的雨水贮存在体内

B. 遇到不利的环境，不抱怨，也不放弃，悄悄为自己充电

C. 等到时机成熟时，自然可以“不鸣则已，一鸣惊人”

D. 纺锤树并非不爱美，它只是懂得在困境时低调坚守

**【答案】B。解析：**

40. 自古以来，壶是一种很实在的器皿，人们用它盛酒或水。人离不开水和酒，自然也离不开壶。如果我们温习一下历史，就会发现，那些封存的坛坛罐罐中最不胜枚举的便是壶。汉代的陶壶总是那样大模大样，它的器型，像一个“容”字。我们从中见到了大度、质朴、从容。壶的本身就是一种器量。中国人十分倾情地创造着壶，仿佛是在创造着自己。

这段文字描述的主要是（ ）。

A. 壶：工巧于心

B. 壶人一相，神形兼备

C. 艺人让一把小小的壶出神入化

D. 中国人对壶的感觉，一直是很深情和入微的

**【答案】B。解析：**

41. 猫是老鼠的天敌，老鼠们因深受猫的袭击而感到十分苦恼。有一天，老鼠们聚在一起商量怎样对付猫的骚扰。会上，多种方案提出来了，但都被否决了。最后，一只小老鼠提议：“在猫的脖子上挂个铃铛，只要听到铃铛响，我们便可逃跑。”这一提议虽被全票通过，但始终没有决策的执行人。虽然有高薪奖励，但无法执行这一决策。

这段文字讲的道理是（ ）。

- A. 行动最重要
- B. 千里之行，始于足下
- C. 世界上最远的距离是嘴和手之间的距离
- D. 一个人是否有所作为，不在于学了多少，说了多少，而在于他做了多少

**【答案】C。解析：**

42. “在沙滩上，为什么跑不快呢？”弟子问。“为什么在沙滩上跑，摔倒了，却摔不伤呢？”大师反问。“因为有沙子的保护，软绵的沙子，起到了缓冲的作用。”弟子说。“现在，你该知道在沙滩上为什么跑不快的道理了吧？”大师说。可是，弟子仍未开悟。大师说：“天下哪有这样的好事，既跑得快，又没有摔伤的危险？”

最适合做这段文字标题的是（ ）。

- A. 让人跑不快的沙子
- B. 好事总是和坏事结伴而来的
- C. 骄人的成绩是伴随着风险的
- D. 让人羡慕的光环是伴随着隐患的

**【答案】A。解析：**

43. 雇主与雇员之间存在雇佣关系，但这不是人身依附关系，如果雇主要求雇员从事更长时间或更多范围的服务，而不给予报酬，就属于滥用权利。买卖关系双方一个愿买，本应是合法的，但如果买卖国家保护的珍稀动物或买卖他人财产、有争议财产，就是违反法律的行为。

对这段文字的概括准确的是（ ）。

- A. 权利主体之间的约定滥用权利，侵犯了国家利益
- B. 权利主体之间的约定滥用权利，侵犯了第三方权益
- C. 公民的权利与义务有其界限，超出就是被滥用的权利
- D. 滥用权利不仅意味着公权力的滥用，也有公民滥用权利

**【答案】C。解析：**

44. 在自媒体时代，你是负责任的传播者吗？在某报社社会调查中心对 9024 人进行的调查中，69.3%的受访者表示自己转发微博会先进行审慎判断；77.3%的受访者认为，在自媒体时代，每个人都应慎用自已的话语权，严谨理性地发布和转发信息，这样才能推动社会良性发展。受访者中，“70 后”占 25.4%，“80 后”占 50.5%，“90 后”占 13.2%。

最适合做这段文字关键词的是（ ）。

- A. 调查 转发 信息
- B. 微博 判断 责任
- C. 报社 统计 传播
- D. 受访 概率 启示

**【答案】B。解析：**

- 45. ①土地流转应该是一个水到渠成的过程，并不是越快越好
- ②要慎重稳妥推进，政府要充当好“向导”和“服务”的角色
- ③因此，农村土地问题一直是社会各界关注的热点
- ④土地是农民最基本的生产资料，也是农民最基本的生活保障
- ⑤警惕农村土地流转中“越俎代庖”



⑥土地流转不流转，要什么价格，流转多长时间，都应该由农民说了算  
上述语句顺序排列为（ ）。

- A. ①③②④⑤⑥      B. ⑥④③②①⑤      C. ④③①⑤②⑥      D. ⑤④③①②⑥

**【答案】D。解析：**

**三、判断推理(请根据每道题的要求作答。注意：假设题干是正确的、不容置疑的。每小题 0.6 分，共 15 小题，9 分)**

**(一) 逻辑推理。请按照没到提的要求作答。**

46. 下列三段论推理有效的是：

- A. 有些杂谈是散文；有些短文是杂谈；所以，有些短文是散文  
B. 三句半不是诗；三句半是分行排列的；所以，分行排列的有些不是诗  
C. 许多花草是有药用价值的；金银花是花草；所以，金银花是有药用价值的  
D. 操作风险是银行可控的内生风险；信用风险不是操作风险；所以，信用风险不是银行可控的内生风险

**【答案】B。解析：**

47. 下列假言推理的结论有效的是：

- A. 盆花养的好，除非接地气；这盆花不接地气；所以，这盆花没问题  
B. 只有从前慢，才感觉如今快；他没觉得现在快；所以，他过去并不慢  
C. 如果有兴趣，就不会半途而废；他中途停下来了；所以，他无兴趣了  
D. 不谦和，不会被人尊重；他不是不谦和；所以，他是会被人尊重的

**【答案】C。解析：**

48. 下列二难推理的结论成立的是：

- A. 如果打球，就得有场地；如果长跑，就得有毅力；他不打球或者不长跑；总之，他没有缺场地的烦恼，或者没有缺毅力的烦恼  
B. 如果适度升温，大棚菜长势喜人；如果一味降温，大棚菜减产无疑；大棚菜长得好或者长得不好；总之，或者是适度升温所致或者是一味降温所致  
C. 如果西医治疗，有弊端；如果中医治疗，也有弊端；用西医治疗或者中医治疗；总之，都有弊端  
D. 同时肯定两个矛盾判断，就违反矛盾律；同时否定两个矛盾判断，就违反排中律；这一表述没有同时肯定两个矛盾判断，或者没有同时否定两个矛盾判断；总之，他并无违反矛盾律或排中律

**【答案】C。解析：**

49. 某负责人安排处室人员休假，拟安排人员有以下条件：

- (1) 只要甲休假，乙就不休假      (2) 如果乙不休假，则丙不休假  
(3) 并非“只有甲不休假，丁才休假”      (4) 如果甲休假，丁、戊就休假

由此可以推出：

- A. 甲、乙休假，而丙、丁、戊不休假      B. 甲、乙、丙休假，而丁、戊不休假  
C. 甲、丁、戊休假，而乙、丙不休假      D. 乙、丙、丁休假，而甲、戊不休假

**【答案】C。解析：**

50. 有科研人员对饮用了一个月蔗糖水和普通饮用水的老鼠进行了对比，蔗糖水的含糖浓度与碳酸饮料的含糖浓度大体相当。结果显示，饮用了糖水的这组老鼠显得极度活跃。从它们大脑的部分区域抽取一部分组织分析后发现，近 300 种蛋白质含量发生了改变。

由此可以推出：

- A. 高糖含量的饮食会促进心血管疾病、肥胖症发病
- B. 糖尿病的发病，往往在于过多饮用蔗糖水
- C. 长期饮用含糖碳酸饮料，会对人的大脑产生深刻影响
- D. 含糖饮料只能在一定场合适度饮用，绝不能代替普通的饮用水

**【答案】C。解析：**

**(二) 类比推理。** 每道题先给出一组相关的词，要求你在备选答案中找出一组与之有逻辑关系上最为贴近、相似或匹配的词。

51. 点赞：沉默：贬损

- A. 真诚：虚伪：一般
- B. 郁闷：开心：淡定
- C. 提倡：允许：禁止
- D. 有意：无意：中立

**【答案】C。解析：**

52. 荒山：荒沟：荒滩

- A. 农业：农村：农民
- B. 强农：惠农：富农
- C. 承包：租赁：出让
- D. 农场：农机：农具

**【答案】C。解析：**

53. 阅读：生活方式：书香社会

- A. 高铁：中国创造：中国制造
- B. 汉江：南水北调：大千世界
- C. 伪证：司法解释：民事诉讼
- D. 划分：逻辑方法：思维科学

**【答案】D。解析：**

54. ( ) 对于 村支委 相当于 ( ) 对于 伞支骨

- A. 村务 伞面
- B. 纪律 伞柄
- C. 村民 伞顶
- D. 村支书 伞主骨

**【答案】D。解析：**

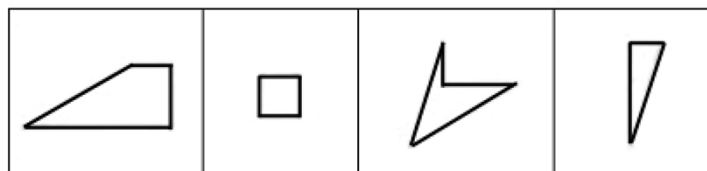
55. ( ) 对于 办事情 相当于 ( ) 对于 机器运转

- A. 常理 定数
- B. 条件 零件
- C. 规矩 程序
- D. 底线 极限

**【答案】C。解析：**

**(三) 图形推理。** 请按照每道题的要求作答。

56. 选项的四个图形中，只有一个是 由 题干 图形 拼接 而成 的，请 将其 选出：



A

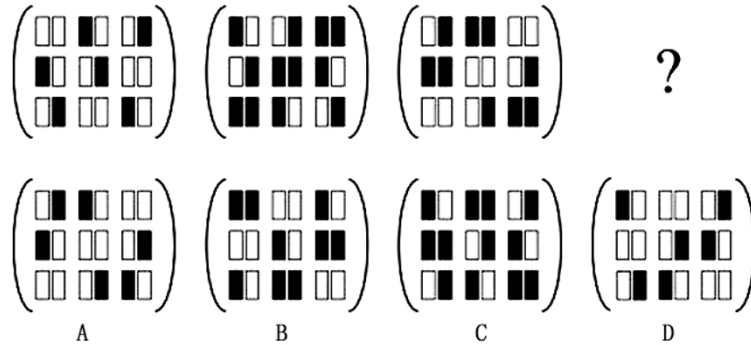
B

C

D

**【答案】D。解析：**

57. 请从所给的四个选项中，选择最合适的一个填入问号处，使之呈现一定的规律性：

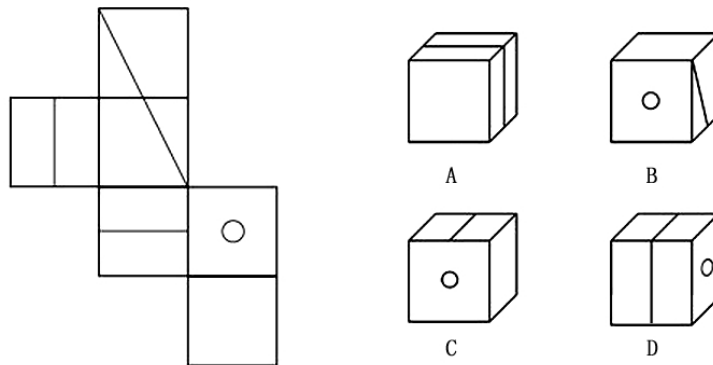


**【答案】B。解析：**

题干图一图二中黑白元素的数量相反。图三与问号处图片中的黑白元素的数量也应该相反，只有 B 项符合要求。

所以，正确选项是 B。

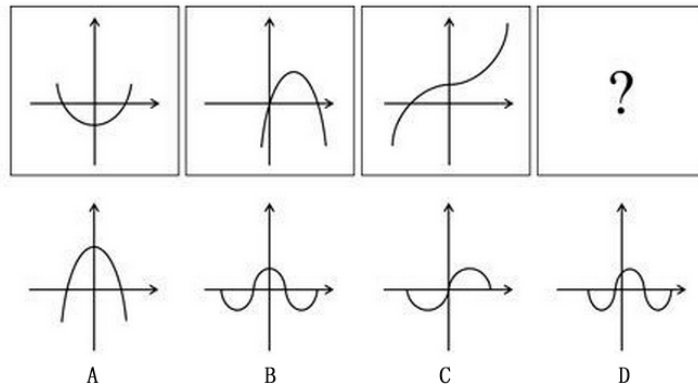
58. 左边给定的是纸盒的外表面，下面哪一个能由它折叠而成：



**【答案】A。解析：**

BCD 中都出现了相对面相邻的情况，不可能由给定纸盒外表面折叠而成，排除。所以，正确选项是 A。

59. 请从所给的四个选项中，选择最合适的一个填入问号处，使之呈现一定的规律性：



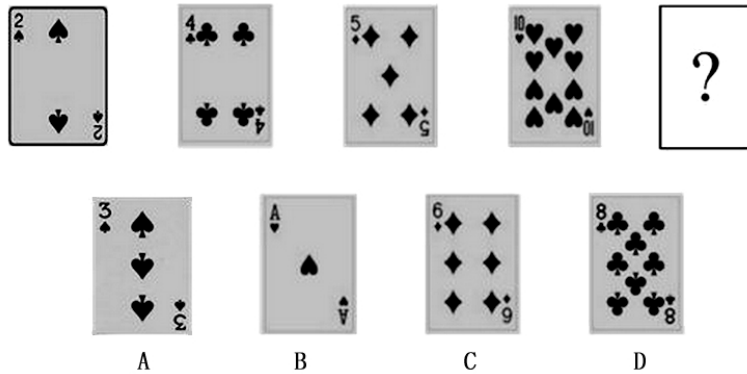
**【答案】C。解析：**

题干图一中的曲线上下反转并右移通过坐标 0 点，可以形成题干图 2。

按照这个规律，题干图三中的曲线上下反转并右移通过坐标 0 点，可以形成问号处的图形。只有 C 项符合要求。

所以，正确选项是 C。

60. 请从所给的四个选项中，选择最合适的一个填入问号处，使图形呈现一定的规律性：



**【答案】A。解析：**

问号处应填入大于 2 的黑桃。

所以，正确选项是 A。

**四、数量关系（请从各小题的备选项中找出一个准确答案，每小题 0.7 分，共 10 小题，7 分）。**

61.  $1/4 + 1/12 + 1/24 + 1/40 + 1/60 = ( )$ 。

- A.  $1/4$                       B.  $5/12$                       C.  $1/2$                       D.  $7/12$

**【答案】B。解析：**

$$\begin{aligned} \text{原式} &= 60/240 + 20/240 + 10/240 + 6/240 + 4/240 \\ &= 100/240 \\ &= 5/12 \end{aligned}$$

所以，正确选项是 B。

62. 周长为 100 米的矩形的最大面积是 ( )。

- A. 500 平方米              B. 560 平方米              C. 580 平方米              D. 625 平方米

**【答案】D。解析：**

当矩形的四条边长度相等时，其面积最大。

则矩形的最大面积 =  $25 \times 25 = 625$ 。

所以，正确选项是 D。

63. 某单位对全体职工进行了一次考核，优秀者占五分之一，良好者占四分之一 (n 为小于 3 的正整数)，其余 36 人为合格，则该单位共有 ( ) 人。

- A. 60                      B. 80                      C. 100                      D. 120

**【答案】D。解析：**

已知良好者占四分之一 (n 为小于 3 的正整数)，则良好者要么占四分之一。要么占四分之二。

设良好者占四分之一。则  $1/5 + 1/4 = 9/20$ 。即意味着合格的 36 人占  $11/20$ 。解得每份人数不是整数，排除。

则良好者占四分之二。即  $1/5 + 2/4 = 7/10$ 。即意味着合格的 36 人占  $3/10$ 。解得每份人数为 12

人。可知则该单位共有 120 人。

所以，正确选项是 D。

64. 甲、乙作答同一份试卷，共 20 题，要求每题必做，答对一题得 5 分，答错一题扣 3 分。已知甲、乙得分之和为 144 分，乙答对 15 题，则甲、乙得分之差为（ ）。

- A. 20                      B. 24                      C. 60                      D. 84

**【答案】B。解析：**

已知乙答对 15 题，则答错了 5 题。答对 15 题得 75 分，答错 5 题扣 15 分。则可知乙得了  $75-15=60$  (分)。

已知甲、乙得分之和为 144 分。乙得了 60 分，则甲得了  $144-60=84$  (分)。

则甲、乙得分之差为： $84-60=24$  (分)。

所以，正确选项是 B。

65. 一个袋中装有编号为 1 到 9 的 9 个完全相同的小球，从袋中任意摸出一个小球，然后放回，再摸出一个，则两次摸出的小球的编号乘积大于 30 的概率是（ ）。

- A.  $24/81$                       B.  $26/81$                       C.  $28/81$                       D.  $29/81$

**【答案】B。解析：**

概率=可能情况数 / 总情况数

总情况数= $9 \times 9=81$  (种)。

两次摸出的小球的编号乘积大于 30 的情况有：(1) 4 与 8、4 与 9、5 与 7、5 与 8、5 与 9，有  $5 \times 2=10$  种情况；(2) 6、7、8、9 四个数中任意抽取两个 (可重复) 的情况，有  $4 \times 4=16$  种情况。即共有  $10+16=26$  种情况。

则两次摸出的小球的编号乘积大于 30 的概率是： $26/81$ 。

所以，正确选项是 B。

66. 受原材料降价影响，某品牌汽车生产商今年每辆车的成本比去年降低 10%，虽然销售价也比去年下降 5%，但利润却上涨 10%，则去年每辆车的成本和售价之比为（ ）。

- A. 1 : 2                      B. 2 : 3                      C. 3 : 4                      D. 4 : 5

**【答案】C。解析：**

利润=销售价-成本。

设去年每辆车的成本为  $x$ ，售价为  $y$ ，利润为  $z$ ，则根据题意可列算式为：

$$(1) y-x=z$$

$$(2) 0.95y-0.9x=1.1z$$

算式 (1) 可以变化为 (3)： $1.1y-1.1x=1.1z$

算式 (3) 减去算式 (2)，可得 (4)： $0.15y-0.2x=0$ 。解得： $x/y=3/4$ 。

所以，正确选项是 C。

67. 甲、乙、丙三人的工作任务共计 46 项，已知甲、乙工作量之比为 4 : 3，乙、丙工作量之比为 2 : 3，则乙的工作任务有（ ）。

- A. 12 项                      B. 16 项                      C. 18 项                      D. 22 项

**【答案】A。解析：**

根据题意可知：

$$4 \text{ 乙} = 3 \text{ 甲}$$

$$3 \text{ 乙} = 2 \text{ 丙}$$

则可知：9甲=8丙。也就意味着甲、丙工作量之比为8:9。

即甲、乙、丙工作量之比为8:6:9。共23份，每份工作量为2项工作任务。

则乙的工作任务有12项。

所以，正确选项是A。

68. 某单位组织征文、演讲和书法评比，三项全优者为一等奖，两项优秀的为二等奖，一项优秀的为三等奖。已知共50人获奖，其中一等奖10人，征文优秀者36人，演讲优秀者30人，书法优秀者26人，征文和演讲均优秀者20人，征文和书法均优秀者16人，则获二等奖的人数是（ ）。

A. 22

B. 24

C. 26

D. 36

**【答案】A。解析：**

$$(36+30+26) - 20 - 16 - (x+10) + 10 = 50$$

解得： $56 - x = 50$ 。  $x = 6$

则获二等奖的人数为： $(20 - 10) + (16 - 10) + 6 = 22$ （人）。

所以，正确选项是A。

69. 用甲、乙表示两个容量为100毫升的容器，甲容器装满浓度为16%的氯化钠溶液，乙容器装了50毫升浓度为8%的氯化钠溶液。为使两个容器的溶液浓度接近，先将甲容器的溶液倒入乙容器中，倒满为止，充分搅拌后再将乙容器中的溶液倒入甲容器中，倒满为止，如此循环，则最少经过（ ）次混合，才能使两个容器中的氯化钠溶液的浓度之差小于1%。

A. 2

B. 3

C. 4

D. 5

**【答案】C。解析：**

分情况讨论。

第一次混合，甲溶液的一半倒入乙容器，则乙容器中有溶质 $4+8=12$ 。此时甲容器中溶液浓度为16%，乙容器中溶液浓度为12%。

第二次混合，乙溶液的一半倒入甲容器，则甲容器中有溶质 $8+6=14$ 。此时甲容器中溶液浓度为14%，乙容器中溶液浓度为12%。

第三次混合，甲溶液的一半倒入乙容器，则乙容器中有溶质 $6+7=13$ 。此时甲容器中溶液浓度为14%，乙容器中溶液浓度为13%。

第四次混合，乙溶液的一半倒入甲容器，则甲容器中有溶质 $7+6.5=13.5$ 。此时甲容器中溶液浓度为13.5%，乙容器中溶液浓度为13%。满足了“两个容器中的氯化钠溶液的浓度之差小于1%”的要求。

所以，正确选项是C。

70. 某单位组织一次登山，分男、女两组沿同一路同时上山。已知男女两组走前半段路所用时间之比为2:3，走后半段路所用时间之比为1:2；男子组走前、后半段路所用时间之比3:4，当男子组到达山顶时，女子组走到距山顶1.1千米处。若男子组和女子组走前、后半段路分别都是匀速，则山脚到山顶的路程为（ ）。

A. 2千米

B. 3.2千米

C. 3.6千米

D. 4千米

**【答案】B。解析：**

设男子组走前段路所用时间为 $6t$ ，已知：男子组走前、后半段路所用时间之比3:4，则走后半段路所用时间为 $8t$ ；已知：男女两组走前半段路所用时间之比为2:3，走后半段路所用时间之比为1:2，则女子组走前半段路所用时间为 $9t$ ，女子组走后半段路所用时间为 $16t$ 。

当男子组到达山顶时，所用时间为 $6t+8t=14t$ ，因此女子组登山还需用的时间为 $9t+16t-14t=11t$ ，后半段路已走时间为 $16t-11t=5t$ 。已知此时女子组距山顶还有1.1千米，则女子组后半段路已走路程为0.5千米。则后半段总路程为 $1.1+0.5=1.6$ 千米。

则山脚到山顶的路程为  $1.6 \times 2 = 3.2$  千米。

所以，正确选项是 B。

**五、资料分析（请根据给定资料或图表提供的信息进行比较、计算和分析，找出一个准确的答案。每小题 0.55 分，共 10 小题，5.5 分）。**

**一、根据下列资料，回答问题。**

**公立医院服务费用情况** 单位：元，%

年份	次均门诊费用			人均住院费用		
	费用额	药费占比	检查费占比	费用额	药费占比	检查费占比
2008	138.8	43.2	18.3	5363.3	43.8	6.7
2009	152.5	44.4	18.2	5856.2	43.9	7.0
2010	167.3	48.5	18.4	6415.9	43.4	7.2
2011	180.2	51.5	18.5	6909.9	42.2	7.5
2012	193.4	51.3	18.7	7325.1	41.3	7.7

**基层医疗机构服务费用情况** 单位：元，%

年份	社区卫生服务中心				乡镇卫生院			
	次均门诊费	药费占比	人均住院费	药费占比	次均门诊费	药费占比	人均住院费	药费占比
2008	87.2	72.2	2514.2	47.9	42.5	60.7	790.8	51.1
2009	84.0	71.4	2317.4	49.0	46.2	62.3	897.2	53.5
2010	82.8	70.9	2357.6	49.3	47.5	60.4	1004.6	52.3
2011	81.5	67.4	2315.1	45.8	47.5	53.3	1051.3	40.8
2012	84.6	69.1	247.9	46.5	49.2	54.8	1140.7	46.0

71. 公立医院人均住院费用中，药费最多的那一年的药费约是：

- A. 2570.9 元      B. 2784.5 元      C. 2916.0 元      D. 3025.6 元

**【答案】D。解析：**

第一步，明确问题。求“公立医院人均住院费用中，药费最多的那一年的药费是多少”。

第二步，定位数据。表一“人均住院费用”中“费用额”和“药费占比”两列的数据。

第三步，估算：

药费=人均住院费用×(药费所占比重)。

根据表 1，2012 年的“费用额”明显最高。则 2012 年的药费为： $7325.1 \times 41.3\% > 3000$ （元）。

与 D 项的数据最为接近。所以，正确选项是 D。

72. 2008~2012 年，公立医院次均门诊费用的年均增长率与下列哪个最接近？

- A. 8.6%      B. 9.2%      C. 9.7%      D. 10.2%

**【答案】A。解析：**

第一步，明确问题。求“2008~2012 年，公立医院次均门诊费用的年均增长率”。

第二步，定位数据。表一“次均门诊费用”中“费用额”列的数据。

第三步，估算：

设 4 年间公立医院次均门诊费用的年均增长率为  $x\%$ 。根据表 1，则有： $138.8 \times (1+x\%)^4 = 193.4$ 。

解得： $x\% \approx 8.6\%$ 。所以，正确选项是 A。

73. 2012年, 社区卫生服务中心的次均门诊费比乡镇卫生院多:

- A. 14.3元      B. 26.8元      C. 35.4元      D. 39.6元

**【答案】C。解析:**

第一步, 明确问题。求“2012年, 社区卫生服务中心的次均门诊费比乡镇卫生院多多少元”一项。

第二步, 定位数据。表2中的数据。

第三步, 估算:

直接从表2中读取数据可知, 2012年, 社区卫生服务中心的次均门诊费比乡镇卫生院多:

$84.6 - 49.2 = 35.4$  (元)。

所以, 正确选项是C。

74. 2009~2012年, 乡镇卫生院人均住院费同比增长超过9%的有:

- A. 1个      B. 2个      C. 3个      D. 4个

**【答案】B。解析:**

第一步, 明确问题。求“2009~2012年, 乡镇卫生院人均住院费同比增长超过9%的有”。

第二步, 定位数据。表2中的数据。

第三步, 估算: 根据表2, 乡镇卫生院人均住院费同比增长为:

2009年:  $(897.2 - 790.8) \div 790.8 > 10\%$ ;

2010年:  $(1004.6 - 897.2) \div 897.2 > 10\%$ ;

2011年:  $(1051.3 - 1004.6) \div 1004.6 < 9\%$ ;

2012年:  $(1140 - 1051) \div 1051.3 < 9\%$ 。

同比增长超过9%的有2个。

所以, 正确选项是B。

75. 下列说法不正确的一项是:

- A. 公立医院次均门诊费用中的检查费呈逐年上升趋势  
B. 公立医院人均住院费用中的检查费呈逐年上升趋势  
C. 2008年, 社区卫生服务中心的人均住院费是乡镇卫生院的3倍多  
D. 社区卫生服务中心人均住院费中药费最多的年份与最少的年份的费用相差不足100元

**【答案】D。解析:**

第一步, 明确问题。求“说法不正确”一项。

第二步, 定位数据。本题涉及数据较多, 请小心提取。

第三步, 估算:

观察表1中的数据直接可知, A、B两项说法正确, 排除;

C项, 2008年社区卫生服务中心的人均住院费是乡镇卫生院的倍数:  $2514.2 \div 790.8 > 3$  (倍)。C项说法正确。排除。

所以, 正确选项是D。

## 二、根据下列资料, 回答问题。

2013年1~10月, 全国汽车商品累计进出口总额为1307.15亿美元, 同比增长2.16%, 同比年内首次呈现增长。其中: 进口金额664.72亿美元, 同比增长0.18%, 结束了9月下降趋势; 出口金额642.43亿美元, 同比增长4.29%, 增幅较前9月有所提升。

进口整车方面, 1~10月, 汽车整车共进口95.39万辆, 同比下降1.68%; 进口金额391.61亿美元, 同比下降4.40%; 降幅较前9月分别减缓4.39个百分点和5.30个百分点。在汽车主要进口品种中, 越



野车进口 40.21 万辆，同比增长 4.80%；轿车进口 34.65 万辆，同比下降 10.51%；小型客车进口 17.70 万辆，同比增长 17.77%。上述三大类汽车品种共进口 92.56 万辆，占汽车进口总量的 97.03%。

出口整车方面，1~10 月，汽车整车共出口 78.12 万辆，同比下降 8.25%；出口金额 104.97 亿美元，同比下降 7.67%。在汽车主要出口品种中，轿车出口 34.44 万辆，同比下降 17.40%；载货车出口 24.16 万辆，同比下降 10.50%；客车出口 13.69 万辆，同比增长 33.36%。上述三大类汽车品种共出口 72.29 万辆，占汽车出口总量的 92.54%。

此外，1~10 月摩托车累计出口 829.86 万辆，同比增长 2.70%；累计出口金额 44.20 亿美元，同比增长 4.80%。

76. 2012 年 1~10 月，全国汽车商品累计进口额约为：

- A. 616 亿美元      B. 664 亿美元      C. 666 亿美元      D. 1280 亿美元

**【答案】B。解析：**

第一步，明确问题。求“2012 年 1~10 月，全国汽车商品累计进口额约为多少亿美元”。第二步，定位数据。资料第一段：2013 年 1~10 月，全国汽车商品累计……进口金额 664.72 亿美元，同比增长 0.18%。第三步，估算：

根据现期量求基期量=664.72÷(1+0.18%)≈664 (亿美元)。

所以，正确选项是 B。

77. 2013 年 1~10 月，越野车进口数量约占汽车整车进口量的：

- A. 19%      B. 36%      C. 42%      D. 48%

**【答案】C。解析：**

第一步，明确问题。求“2013 年 1~10 月，越野车进口数量约占汽车整车进口量的百分比”。第二步，定位数据。资料第二段：进口整车方面，1~10 月，汽车整车共进口 95.39 万辆，……在汽车主要进口品种中，越野车进口 40.21 万辆……。第三步，估算：

求现期量比重=40.21÷95.39≈42%。

所以，正确选项是 C。

78. 2013 年 1~10 月，全国汽车整车出口金额比整车进口金额：

- A. 多 22.29 亿美元      B. 少 22.29 亿美元      C. 多 286.64 亿美元      D. 少 286.64 亿美元

**【答案】D。解析：**

第一步，明确问题。求“2013 年 1~10 月，全国汽车整车出口金额与整车进口金额相比的情况”。

第二步，定位数据。资料第二段：进口整车方面，1~10 月，汽车整车共进口 95.39 万辆，……进口金额 391.61 亿美元。第三段：出口整车方面，1~10 月，汽车整车共出口 78.12 万辆，……出口金额 104.97 亿美元。

第三步，估算：

104.97-391.61=-286.64 (亿美元)。即少 286 亿美元。

所以，正确选项是 D。

79. 2013 年 1~10 月，汽车整车出口的平均单价约为：

- A. 1.34 万美元      B. 2.29 万美元      C. 3.61 万美元      D. 4.1 万美元

**【答案】A。解析：**

第一步，明确问题。求“2013 年 1~10 月，汽车整车出口的平均单价约为多少万美元”。

第二步，定位数据。资料第三段：出口整车方面，1~10 月，汽车整车共出口 78.12 万辆，同比下降 8.25%；出口金额 104.97 亿美元。

第三步，估算：

汽车整车出口的平均单价= $104.97 \div 78.12 = 1.34$ （万美元）。

所以，正确选项是 A。

80. 以下说法不正确的一项是：

- A. 2013 年 1~10 月，轿车进口数量比出口数量略多
- B. 2013 年 1~10 月，摩托车出口的平均单价同比有所下降
- C. 2013 年 1~10 月，汽车整车的进出口数量同比都有所下降
- D. 2013 年 1~10 月，摩托车累计出口数量比上年同期约增加了 22 万辆

**【答案】B。解析：**

第一步，明确问题。求“说法不正确的一项”。

第二步，定位数据。本题涉及数据较多，请小心提取。

第三步，估算：

A 项，根据资料中数据可知，轿车进口数量比出口数量略多，说法正确，排除；

B 项，摩托车出口的平均单价=出口金额 $\div$ 出口量，其中出口金额的增长率为 4.8%，出口量增长 2.7%，所以单价会上升，说法不正确；

C 项，根据资料中数据可知，汽车整车的进口数量同比都有所下降，说法正确，排除；

D 项，2013 年 1~10 月，摩托车累计出口数量 829.86 万辆，同比增长 2.70%，比上年同期增加了  $829.86 \times 2.70\% \approx 22$ （万辆），说法正确，排除。

所以，正确选项是 B。

**全部测验到此结束！**

请扫描QQ二维码，备注“公务员考生”加QQ  
好友，获取曹长远老师精解历年公务员考试申论、  
行测、面试真题完整解析资料。

精品资料，尽在掌握！

