

2019 年山东省委组织部选调生考试

《行政职业能力测验》真题答案解析

说 明

一、此项测验分为五个部分，共 120 题，总时限 120 分钟，各部分不单独计时，但都给出参考时限，供答题时合理分配时间。

二、此项测验科目代码为“1”。请按照要求在答题卡上填写好自己的姓名，涂写好准考证号、科目代码。

三、必须在答题卡上答题，在题本上答题，一律无效。

严禁折叠答题卡！

第一部分 言语理解与表达

(共 30 题，参考时间 30 分钟)

本部分包括表达与理解两方面的内容。请根据题目要求，在四个选项中选出一个最恰当的答案。

1. 科技与舞台艺术，一直相伴相生，最早甚至可以追溯到戏剧诞生的时代。古希腊罗马剧场中_____的声场设计和半圆形舞台的切割工艺，就代表了当时最高科技，为观众创造了最好的观看环境。自此，可以说，每一次舞台空间的塑造都_____着“科技因子”。

依次填入画横线部分最恰当的一项是：

- A. 令人惊诧 渗透
- B. 引人入胜 彰显
- C. 咂舌攒眉 透露
- D. 蔚为壮观 呈现

【答案】A。解析：

第一空，横线处搭配“古希腊罗马剧场……声场设计”“代表了当时最高科技，为观众创造了最好的观看环境”。

A 项“令人惊诧”表示令人十分吃惊，用来形容古希腊罗马剧场的高科技声场设计让人惊叹的，可以搭配，保留；

B 项“引人入胜”多指风景和艺术作品特别吸引人，与“声场设计”搭配不当，排除；

C 项“咂舌攒眉”形容人吃酸物的表情，与语境搭配不当，排除；

D 项“蔚为壮观”形容场面盛大壮丽，可以搭配，保留。

第二空，横线处搭配“科技因子”。“因子”有细胞、因素的意思，属于比较微观的状态。对比 AD 两项：

A 项“渗透”比喻一种事物逐渐进入到其他方面，体现舞台空间的塑造与科技因子的融合，符合文意，当选。

D 项“呈现”指用眼睛能看到的具具体事物形象，“因子”属于微观，与用眼睛看搭配不当，排除。

所以，正确选项是 A。

2. 在网络书店的强有力竞争下，不少实体书店_____，而书店的租金、人工等费用却在猛增。这时候通过装修店面，给读者带来全新的感受，不失为一个好办法。实际上，与网络书店相比，实体书店能给人带来独特的体验，那就是逛书店。

填入画横线部分最恰当的一项是：

- A. 入不敷出
- B. 进退维谷
- C. 门可罗雀
- D. 万人空巷

【答案】C。解析：

转折结构强调转折后面的内容：“实际上，与网络书店相比，实体书店能给人带来独特的体验，那就是逛书店。”这里的逛书店，强调的实体书店的优势，可以让读者到实体书店来走一走的意思。因此，前面的横线处所填的词语必须与此相反，要体现出来实体书店的读者很少，门店冷清的意思。

C项“门可罗雀”形容宾客稀少，十分冷清，符合语境，当选。

A项“入不敷出”指收入不够支出，指开销大，与后文“逛书店”无法构成转折关系，排除。

B项“进退维谷”形容进退两难，侧重于“两难”，然而题干没有任何两难的意思，排除。

D项“万人空巷”指人多的盛况，与文段的感情色彩完全相反，排除。

所以，正确选项是C。

3. 纪录片是众多国家进行对外文化传播的重要工具。_____时代之歌、_____时代之需、_____时代之变、_____时代之风，纪录片创作者应当充分挖掘和盘活“讲好中国故事”这个富矿，向世界展现真实、立体、全面的中国，提高国家文化软实力和中华文化影响力。

依次填入画横线部分最恰当的一项是：

- A. 把握 关注 聚焦 引领
- B. 筑牢 聚焦 关注 传承
- C. 筑牢 洞悉 凝神 传承
- D. 把握 留意 警醒 引领

【答案】A。解析：

本题可从第四空入手，搭配“时代之风”，根据后文“向世界展现真实、立体、全面的中国”可知，所填词语表示影响带动时代风气，“引领”指带动发展，与后文对应恰当，保留A、D两项，排除B、C两项。

再看第三空，搭配“时代之变”，D项“警醒”指警觉醒悟，常搭配消极不好的现象，“时代之变”并非贬义，用在此处搭配不当，排除D项。

所以，正确选项是A。

4. 贾岛“推敲”是中国古代一个名声颇显的故事，语出后蜀何光远的《鉴戒录·贾忤旨》，反映了创作诗歌过程中对字句的反复_____。在平时，无论阅读或写作，我们_____有一字不肯放松的谨严。文学借文字表现思想情感，文字上面有含糊，就显得思想还没有_____，情感还没有_____。

依次填入画横线部分最恰当的一项是：

- A. 斟酌 必须 透彻 凝练
- B. 琢磨 必需 精确 凝练
- C. 琢磨 必须 精确 丰富
- D. 斟酌 必需 透彻 丰富

【答案】A。解析：

本题可从第二空入手，所填词语搭配“有一字不肯放松的谨严”，“必须”表示“一定要”，后常搭动词，与“有……”搭配恰当。“必需”表示“一定要有”的意思，后常搭配名词，如必需的物品、原料等，不能再接“有……”，用在此处明显搭配不当。因此保留A、C两项，排除B、D两项。

再看第四空，根据“文字上面有含糊，就显得思想还没有……，情感还没……”可知，前后语义是转折的，因此所填词语必须与“含糊”词义相反。A项“凝练”表示精练，与“含糊”对应恰当，保留。

C项“丰富”表示种类多或数量大，与“含糊”无法构成对应，排除。

所以，正确选项是A。

5. 一个政党执政，最怕的是在重大问题上态度不坚定，结果社会上对有关问题沸沸扬扬、_____，别有用心的人趁机_____、蛊惑搅和，最终没有不出事的，所以，道路问题不能含糊，必须向全社会释放正确而又明确的信号。

依次填入画横线部分最恰当的一项是：

- A. 众说纷纭 雪上加霜
- B. 无所适从 落井下石
- C. 首鼠两端 推波助澜
- D. 莫衷一是 煽风点火

【答案】D。解析：

第一空，横线前的顿号提示前后为同义并列关系。“沸沸扬扬”形容人声喧扰，议论纷纷。因此横线处也要体现出议论纷纷之意。A项“众说纷纭”指各有各的说法，议论纷纷，符合文意，保留；D项“莫衷一是”形容意见有分歧，没有一致的看法，符合文意，保留。B项“无所适从”指不知听从哪一个好或不知怎么办才好，与文意不符，排除；C项“首鼠两端”指在两者之间犹豫不决又动摇不定，与文意不符，排除。

第二空，横线后的顿号提示前后为同义并列关系，必须与“蛊惑搅和”语义相近。“蛊惑搅和”指使人心意迷惑、扰乱人心。D项“煽风点火”比喻煽动别人闹事，符合文意，当选。A项“雪上加霜”比喻接连遭受灾难，损害愈加严重，与文意不符，排除。

所以，正确选项是D。

6. 故事片的叙事及视觉语言，一个重要而基本的原则，便是隐藏起摄影机的存在。换言之，故事片叙事的最重要而基本的特征，便是_____叙事行为的痕迹。于是，似乎是场景、事件自身在_____呈现。

依次填入画横线部分最恰当的一项是：

- A. 突出 自动
- B. 抹去 自行
- C. 强调 客观
- D. 忽视 主动

【答案】B。解析：

第一空，呼应前面的“换言之”可知，必须与前面的“隐藏起摄影机的存在”语义相近。因此横线处也应该体现出“隐藏”之意，表示让叙事行为不露痕迹。B项“抹去”指擦掉，消除，符合文意，保留。A项“突出”、C项“强调”意为让事物更明显，与横线处语意相反，排除；D项“忽视”表示不重视，没有隐藏痕迹的意思，与文意不符，排除。

所以，正确选项是B。

7. 融合发展是_____，传统的平台介质或许会_____，但是新闻没有_____，媒体还有责任，理想还有价值，职业还有担当。我们相信不管媒体形态怎么变，舆论格局怎么变，原创依然是这个社会最宝贵的资源，思想依然是媒体最重要的品质，理性仍然是时代最需要的力量。

依次填入画横线部分最恰当的一项是：

- A. 人心所向 式微 消失
- B. 大势所趋 式微 消亡
- C. 大势所趋 减少 消失
- D. 人心所向 减少 消亡

【答案】B。解析：

第一空，横线处所填词语呼应“融合发展”，必须搭配后面的“原创依然是这个社会最宝贵的资源，……理性仍然是时代最需要的力量”。“大势所趋”指整个事物发展的大趋势，填于此处符合文意，保留 B、C 两项；“人心所向”指多数人拥护的，但是文段并未体现出多数人都拥护融合发展的意思，与文意不符，排除 A、D 两项。

第二空，根据后文“不管媒体形态怎么变，舆论格局怎么变”可知，以前只有传统平台，但是现在传统平台的地位正在由强到弱，B 项“式微”指事物由兴盛而衰落，填于此处符合文意，保留 C 项“减少”指数量由多到少，文段并非强调数量的变化，与文意无关，排除。

所以，正确选项是 B。

8. 引经据典的风气始于西汉初期，大盛于东汉，呈现的是_____的趋势。但是，文学毕竟有别于经学，文学创作要取得成就，就必须超越经学的_____，尤其要摆脱章句之学的束缚。

依次填入画横线部分最恰当的一项是：

- A. 愈演愈烈 藩篱
- B. 变本加厉 藩篱
- C. 愈演愈烈 窠臼
- D. 变本加厉 窠臼

【答案】C。解析：

第一空，呼应前文“始于西汉初期，大盛于东汉”，横线处所填成语搭配“趋势”，意在强调趋势越来越盛，“愈演愈烈”指事情变得越来越严重，符合文意，保留 A、C 两项；“变本加厉”指越来越恶劣，带有明显的贬义，与文段的感情色彩明显不符，排除 B、D 两项。

第二空，横线处所填词语对应后文的“束缚”，“藩篱”和“窠臼”均有约束、束缚、限制之意，但对应前文“引经据典的风气始于西汉”，因此横线处重在表达文学创作不能一味引经据典，必须跳出传统的局限、打破固有的限制，C 项“窠臼”多指文学艺术创作的老套路、旧格式，填于此处呼应恰当，当选。“藩篱”比喻门户或屏障，搭配不当，排除。

所以，正确选项是 C。

9. 恐龙的灭绝是生物学家们一直感兴趣的研究课题，但无论把它_____于地壳的运动、火山的爆发、气候的变化、新生代第三季的来临乃至是星外来客，都有许多难以_____的地方，唯有“物种的老化”这一原因是所有研究者们所公认存在的。

依次填入画横线部分最恰当的一项是：

- A. 归咎 自圆其说
- B. 追溯 自圆其说
- C. 归咎 融会贯通
- D. 追溯 融会贯通

【答案】A。解析：

第一空，表达恐龙灭绝的原因是地壳、火山和气候，“归咎”指归因、找原因，符合语境，保留 A、C 两项；“追溯”指探索事物的由来，与语境不符，排除 B、D 两项。

第二空，根据后文“唯有……公认存在的”可知，文段表达“地壳的运动、火山的爆发、气候的变化、新生代第三季的来临乃至是星外来客”这些恐龙灭绝的原因，都有说不通的地方，都是研究者们不公认的，A 项“自圆其说”指说法前后一致，没有自相矛盾的地方，符合语境，当选；C 项“融会贯通”指各方面的知识或道理融合贯穿起来，与文意不符，排除。

所以，正确选项是 A。

10. 我们党领导人民干革命、搞建设、抓改革，从来都是为了解决中国的现实问题。如果对矛盾_____，甚至回避、掩饰矛盾，在矛盾面前畏缩不前，坐看矛盾恶性转化，那就会_____，最后势必造成无法弥补的损失。

依次填入画横线部分最恰当的一项是：

- A. 置若罔闻 亡羊补牢
- B. 视而不见 尾大不掉
- C. 闭目塞听 覆水难收
- D. 熟视无睹 积重难返

【答案】D。解析：

第二空，呼应前面的“回避、掩饰矛盾，在矛盾面前畏缩不前，坐看矛盾恶性转化”，势必导致矛盾积累，越来越严重。D项“积重难返”指恶习或弊端发展到难以解决的地步，符合文意，当选。

所以，正确选项是D。

11. 意识形态与科学真理的关系是一个_____的问题，强调二者的同一，认为统治意识即学术真理，无疑是简单化和幼稚病，但强调二者的对立，认为学术思想为科学，意识形态为_____，二者渺不相干，也同样是简单化。

依次填入画横线部分最恰当的一项是：

- A. 包罗万象 迷信
- B. 死而不僵 虚无
- C. 一成不变 无意义
- D. 老而常新 纯虚构

【答案】A。解析：

本题可从第二空入手，根据文段信息“但强调二者的对立”可知，“二者”指代前文提到的“意识形态”和“科学真理”，横线前指出“学术思想为科学”，横线处搭配“意识形态”，应和“科学”形成对立关系，对应A项“迷信”，当选。

B项“虚无”，与“存在”对立；C项“无意义”，与“有意义”对立；D项“纯虚构”，与“事实”对立，均不与“科学”对立，与文意不相符，排除。

所以，正确选项是A。

12. ①才算是完全成熟的国家

②另一方面，它使某种不够一个国家的东西变成了一个完全的国家

③外交承认的独特性就在于

④一个国家只有得到其他国家的承认

⑤一方面，它显然只是承认某种已经存在的东西

将以上5个句子重新排列，语序正确的是：

- A. ④①③②⑤
- B. ④③②⑤①
- C. ④①③⑤②
- D. ④③⑤②①

【答案】C。解析：

观察选项，首句均为④，区别在于④后接①还是③。④句“一个国家只有得到其他国家的承认”；①句“才算是成熟的国家”。①④通过“只有……才”构成必要条件关联词捆绑，保留A、C两项。③句说的是外交的独特性，与④衔接不当，排除B、D两项。

对比A、C两项，区别在于②、⑤两句的顺序。⑤句为“一方面……”，②句为“另一方面……”。

“一方面……另一方面……”构成并列关联词捆绑。因此⑤必须在②的前面，对应C项。

所以，正确选项是C。

13. ①在对外斗争中，我们要拿起法律武器
②全球治理体系正处于调整变革的关键时期
③占领法治制高点，敢于向破坏者、搅局者说不
④我们要积极参与国际规则制定
⑤中国走向世界，以负责任大国参与国际事务，必须善于运用法治
⑥做全球治理变革进程的参与者、推动者、引领者
将以上6个句子重新排列，语序正确的是：

- A. ①③⑤②④⑥
B. ⑤①③②④⑥
C. ②①⑤③④⑥
D. ⑤③②④①⑥

【答案】B. 解析：

首先，观察选项，对比首句，①出现指代词“我们”。而⑤提到“中国”，对比①和⑤，根据文意可知①中的“我们”指代“中国”，因此⑤应在①之前，排除A、C两项。

观察发现，②④都捆在一起，区别在于④接①还是接⑥。B项中④与⑥连接，既然要参与“规则的制定”，当然要做“参与者、推动者、引领者”，搭配恰当，当选。D项中④与①连接，④提到“我们要参与国际规则制定”，①中的“拿起法律武器”与“参与国际规则制定”无关，因此排除D项。

所以，正确选项是B。

14. ①要坚定文化自信，把握时代脉搏，聆听时代声音
②坚持与时代同步，以人民为中心
③新时代呼唤着杰出的文学家、艺术家、理论家
④以精品奉献人民，用明德引领风尚
⑤文艺创作、学术创新拥有无比广阔的空间
将以上5个句子重新排列，语序正确的是：

- A. ③⑤①②④
B. ⑤①④②③
C. ①③⑤④②
D. ①②③⑤④

【答案】A. 解析：

观察选项，对比首句，①“要坚定文化自信……聆听时代声音”提出对策，③“新时代呼唤”也就是新时代缺少一些东西，表述的是问题。问题必须在对策之前，因此，③必须在①之前，排除BCD三项。

所以，正确选项是A。

15. 人类学家在有关原始民族的研究中，已反复证明这种文化比较是何等有价值。某个部落的正式习俗也许百分之九十与邻近部落相同，但却恰恰否定了核心的基础性制度安排。不论其在整体中的比率是多么小，都可能使该民族的未来向独特的方向发展。

这段文字意在强调：

- A. 在原始民族研究中，文化比较是最重要的研究方法
B. 临近部落的正式习俗之间既有相同之处又有本质性区别
C. 基础性制度安排在部落的正式习俗中占比率很小

D. 基础性制度安排可能决定一个民族的发展方向

【答案】D。解析：

文段开篇说明文化比较有价值，紧接着通过转折词“但”引出基础性制度安排这个话题，说明其无论占比多小，都可能使得民族未来向独特方向发展。因此，整个文段重点就在转折之后，说明了“基础性制度安排可能会影响民族未来发展方向”，对应到D项。

所以，正确选项是D。

16. 现代工业文明取代传统农业文明的一个重要标志是社会化大生产取代了传统的小生产和自然经济。这不仅是生产方式的变革，而且内在包含了文化模式的转变。因为，社会化大生产的运行机制和组织方式的根本原则是由理性主义文化模式所提供的理性原则和科学原则，以及体现理性精神的现代组织原则。

对这段文字理解正确的是：

- A. 传统的小生产和自然经济使得农业文明长期停滞不前
- B. 社会化大生产的核心是理性主义文化模式和生产方式的变革
- C. 生产方式的变革和文化模式的转变促进了人类文明的进步
- D. 文化模式的转变在根本上给人类带来了现代工业文明

【答案】C。解析：

细节对比。

A项，“传统的小生产和自然经济使得农业文明长期停滞不前”是无中生有，文段没有提及农业文明长期停滞不前，排除。

B项，“社会化大生产的核心”文段没有提及，属于无中生有，排除。

C项，根据“现代工业文明取代传统农业文明的一个重要标志不仅是生产方式的变革，而且内在包含了文化模式的转变”可知，表述正确，当选。

D项，“根本上带来了现代工业文明”是无中生有，文段没有说文化模式的转变是根本，只是表达现代工业文明其实包含生产方式和文化模式的转变，排除。

所以，正确选项是C。

17. 汉代的辞赋创作是以抒情赋发轫，代表作品是贾谊的《吊屈原赋》和《鹏鸟赋》，东汉后期的辞赋，抒情赋成为主流。就此而论，汉代的辞赋是以抒情赋起始，又以抒情赋终结，它的轨迹是画了一个圆圈。不过，贾谊的抒情赋均为骚体，明显是继承楚辞而来。东汉后期的抒情赋则是既有骚体，又有散体，还有四言诗体，在作品样式上呈现的是多元化的格局。

对这段文字理解正确的是：

- A. 两汉辞赋的整体发展轨迹是一个圆，主要继承了楚辞的风格
- B. 骚体，散文体和四言诗体作品共同构成了汉代的文坛
- C. 东汉后期的辞赋以抒情赋为主流，各类文体并存，呈现多样化格局
- D. 贾谊是汉代抒情赋的代表性人物，其作品具有浪漫主义色彩

【答案】C。解析：

A项，根据“贾谊的抒情赋……明显是继承楚辞而来”可知，A项“两汉辞赋主要继承了楚辞的风格”范围扩大，并且“主要”的表述过于绝对，排除。

B项，“共同构成了汉代的文坛”是无中生有，排除。

C项，根据“东汉后期的抒情赋则……呈现的是多元化的格局”可知，C项“东汉后期的辞赋以抒情赋为主流……呈现多样化格局”表述正确，当选。

D项，“浪漫主义色彩”是无中生有，排除。

所以，正确选项是C。

18. 如果处于静态环境，环境保护虽然短期内的确会造成企业的成本增加，但在动态的竞争条件下，严格的环境保护从长期来看能够引发创新、抵消成本。这不但不会造成企业成本增加，反而可能产生净收益，使企业在国际市场上更具竞争优势。因此，实施适当的环境保护不仅不会伤害企业的竞争力，反而对其有益。

这段文字旨在说明：

- A. 静态环保与动态环保对企业的影响不同
- B. 要辩证地看待短期环保和企业发展的关系
- C. 应加大环保力度，想办法抵消环保的成本
- D. 合理的环境保护措施能够提升企业竞争力

【答案】D。解析：

文段开篇介绍静态环境中的环境保护会使企业成本增加，接着通过转折标志词“但”强调动态环境能够引发企业创新、抵消成本，说明动态环境保护会使企业的产值增加且更具竞争优势，给企业带来积极影响。接着尾句通过“因此”总结前文得出结论，意在说明：适当的环境保护对企业是有益处的，对应D项。

所以，正确选项是D。

19. 我们已经发现，原作与赝品之间的区别在审美上是重要的，这并不意味着原作一定比赝品优秀。一幅有灵感的复制品可能比一幅绘画原作更值得奖赏；一幅损坏的原作可能已经失去了绝大部分它以前的优点；一幅从破旧不堪的蚀刻板上印下来的图像，可能比一幅好的照相复制品在审美上更逊于早先印下来的图像。

根据这段文字无法推出的一项是：

- A. 原作区别于赝品的根本不同是审美上的优越性与独特性
- B. 原作与赝品之间的优劣高下其实并不一定界限分明
- C. 如果一幅原作被损坏了，它可能远不及保存更好的赝品
- D. 好的照相复制品在某些时候会比蚀刻板拓印的图像更有价值

【答案】B。解析：

A项，根据文段“原作与赝品之间的区别在审美上是重要的”可知，表述符合文意，排除。

B项，根据文段“一幅有灵感的复制品可能比一幅绘画原作更值得奖赏……可能比一幅好的照相复制品在审美上更逊于早先印下来的图像”可知，原作与赝品之间的优劣是可以从复制品是否具有灵感等方面进行判定的，优劣高下界限清晰。选项B“不一定界限分明”不符合文意，当选。

C项，根据文段“一幅损坏的原作可能已经失去了绝大部分它以前的优点”可知，表述符合文意，排除。

D项，根据文段“一幅从破旧不堪的蚀刻板上印下来的图像，可能比一幅好的照相复制品在审美上更逊于早先印下来的图像”可知，表述符合文意，排除。

所以，正确选项是B。

20. 近年来，手机APP大量开发和应用，在促进经济社会发展、服务民生等方面发挥了重要作用，给人们带来诸多便利。不过，也有不少APP存在过度收集用户信息等问题。一些APP收集使用个人信息，在内容和范围上过于宽泛，一些信息并不是开展安全、高效、便利的服务所必需的。实际上，只有那些对开展相关服务而言非收集不可、不收集就无法满足用户服务需要的信息，才应被收集。那些为了积累大数据以精准分发广告、推广产品而收集的个人信息，与用户当前需要无关，就超出了收集的必要限度。

这段文字意在强调：

- A. 手机APP大量收集用户信息并无必要

- B. 手机 APP 不应收集与用户需求无关的信息
- C. 手机 APP 运营者应限制信息收集范围
- D. 手机 APP 给人们日常生活带来诸多便利

【答案】B。解析：

文段首先介绍了背景，即手机 APP 给人们带来便利，接着通过“不过”进行转折，指出手机 APP 存在过度收集信息的问题，其收集的信息不是服务所必须的，后文通过“实际上”进行转折，强调只有满足用户服务需要的信息才应被收集，最后通过“分发广告”“推广产品”等例子进行论证。因此文段重点强调手机 APP 不应收集与用户需求无关的信息，对应 B 项。

A 项，“用户信息”概念扩大，文段强调不应收集“与用户需求无关的信息”，排除。

C 项，“应限制信息收集范围”表述不够明确，并未明确指出不应收集“与用户需求无关的信息”，排除。

D 项，“带来诸多便利”为文段背景中的表述，非重点，排除。

所以，正确选项是 B。

21. ①汹涌的水流，自北向南，在火星表面“雕刻”出 2 公里宽、200 米深的河谷

②欧洲航天局分析，火星上的流水可能来自雨水、地面水和融化的冰川，但究竟来自何方仍是个谜

③在卫星照片上惊人地发现，火星东部的南部高地附近，有大片古河流留下的无数干涸河谷和沟渠痕迹

④据估计，35 亿至 40 亿年之前，火星曾有大量河流

⑤火星河谷至今仍清晰可见，且河流呈树枝状，四通八达，留下过去明显水流活动痕迹，形成了新的火星地貌

将以上 5 个句子重新排列，语序正确的是：

- A. ③④①⑤②
- B. ④③①⑤②
- C. ③①⑤②④
- D. ④②③①⑤

【答案】A。解析：

对比选项确定首句，③句说卫星照片发现了河谷和沟渠的痕迹，④句阐述了据估计火星曾有河流，二者先后顺序不好确定。进一步观察，①句出现“汹涌的水流”，④句出现“大量河流”，因此可根据共同信息进行捆绑，对应 A 项。

验证 A 项，文段首先通过照片发现火星的河谷，接着指出据估计火星上曾有大量河流，后文介绍了在河流的作用下形成河谷，且形成了火星新的地貌，最后介绍了欧洲航天局的分析，逻辑得当，当选。

所以，正确选项是 A。

22. 基础研究是整个科学体系的源头，是科技强国建设的根基。2018 年，我国全社会研究与试验发展（R&D）经费约 1.94 万亿元，研发人员总量预计 418 万人，这些资源如果得到合理配置，可以实现更大作为。据《2017 年全国科技经费投入统计公报》，2017 年，我国基础研究经费 975.5 亿元，占 R&D 经费比重的 5.5%。虽然规模、强度近几年在增长，但由于投入强度长期过低，加剧了基础研究资源配置的功利性，技术源头缺失问题日益凸显。未来要实质性地强化基础研究多元投入体系，提高资源配置及使用效率。

这段文字接下来最有可能讲述的是：

- A. 我国基础研究存在的问题
- B. 我国基础研究取得的进展
- C. 如何解决技术源头缺失问题

D. 如何加强基础研究多元投入

【答案】D。解析：

接下来最有可能讲述，要重点关注文段尾句。尾句论述在未来要强化“基础研究多元投入体系，提高资源配置及使用效率”。尾句的核心话题为“基础研究多元投入体系”，根据话题一致的原则，可知下文应围绕这一话题展开具体论述，即“如何加强基础研究多元投入体系”，对应D项。

所以，正确选项是D。

23. 地球南极的冰盖厚度达4.8公里，冰层的压力可以降低水的冰点，冰盖底部的温度可以允许液态水体存在。利用雷达波可以探测到南极冰盖下面的液态水体。雷达主动发射电磁波，并接受反射的回波，不同频率的电磁波具有不同的穿透能力，频率越低，穿透的深度越大，当电磁波通过冰层向下传输时，它们会在不同物质之间的界面反射回波，如冰层与基岩、含水的泥沙、液态水体之间的界面，都会反射回波，雷达沿着飞行轨道前进，不断的进行测量，获得地下的图像。

下列说法与原文相符的是：

- A. 雷达是探测地下物体的最基本手段
- B. 电磁波的频率与穿透深度成反比
- C. 南极冰盖底部一定存在生命
- D. 电磁波在不同物质之间的反射回波相同

【答案】B。解析：

细节对比。

A项，原文仅仅提到“雷达可以探测到南极冰盖下面”，但并没有提及是最基本的手段，无中生有，排除。

B项，根据原文“不同频率的电磁波具有不同的穿透能力，频率越低，穿透的深度越大”可知，电磁波的频率与穿透深度成反比，B项正确。

C项，原文并没有论述南极冰盖底部是否存在生命，属于无中生有，且“一定”表述过于绝对，排除。

D项，原文仅仅论述“电磁波通过冰层向下传输时会在不同物质之间的界面反射回波”，但并未论述回波是相同的，属于无中生有，排除。

所以，正确选项是B。

24. 无论是抖音的口号“记录美好生活”，还是快手的口号“记录世界记录你”，无不在强调短视频的记录功能，从这个意义上来讲，短视频具有和纪录片类似的功能。从微观视角来看，短视频记录的只是一些碎片化的内容，但是从宏观视角来看，短视频记录的却是一个时代的整体风貌。不同于纪录片，短视频的记录是一种拼图式记录，它聚合于拼贴了普通个体对生活瞬间的碎片化记录，以其丰富多样的视角合力记录了一个时代的整体风貌。

这段文字意在强调：

- A. 短视频与纪录片的不同之处
- B. 短视频和纪录片都具有记录功能
- C. 短视频记录一个时代的整体风貌
- D. 短视频记录的是碎片化内容

【答案】C。解析：

文段开篇引出“短视频”这一话题，指出其和纪录片均具有记录功能。随后通过转折词“但是”引出重点，强调“短视频记录的却是一个时代的整体风貌”。之后通过“不同于纪录片，短视频的记录是记录了一个时代的整体风貌”解释短视频如何记录一个时代整体风貌，加强论述转折后的观点。因此文段重点强调“短视频记录的是一个时代的整体风貌”，对应C项。

所以，正确选项是 C。

25. 古汉语在我国中小学、大学有着完善的教育方案，而艺术类及其他非文学专业到了硕博阶段，对此却缺少了必要的定性要求。虽然现在个别院校继续展开古汉语教学，但仅仅作为选修课程，而外语课程的设置，从孩童阶段直到硕士、博士研究生阶段，都是以必修课的形式贯穿始终。课程设置不平衡，使得外国语和古汉语教学产生严重失衡，导致了古汉语走向教学的边缘。

这段文字体现的观点是：

- A. 应将古汉语作为必修课纳入艺术类等硕博研究生的教学中
- B. 应完善中小学古汉语教育方案
- C. 应逐步取消硕博研究生外语必修课
- D. 应将汉语教学作为选修课程纳入艺术类专业课程

【答案】A。解析：

文段首句指出了古汉语在艺术类和非文学专业的硕博阶段没有受到应有的重视。接着通过对比“外语”和“古汉语”的不同境遇，指出了“课程设置不平衡”将导致“古汉语走向教学边缘”这一问题。文段为“提出问题分析问题”的结构，意在针对问题提出对策，即避免课程设置不平衡——将“古汉语”也列为必修课。对应 A 项。

所以，正确选项是 A。

26. 人类的四大烦恼，不但“生”“老”“死”没人躲过，就是“病”也无法根除，人类自有“药”的发明，“药”与“病”就“道高一尺，魔高一丈”。虽然在“药”不太灵的时候，行气、导引、祝由（古代的精神疗法）会重新产生吸引力（如对外丹术衰落后的内丹术和出于绝望的癌症病人），但它们始终不能摆脱附庸地位。

这段话旨在强调：

- A. 人类有些根本性烦恼是无法摆脱的
- B. 当“药”失灵时，人类就会求助于其他方法
- C. “药”是人类治病的基本手段
- D. “病”与“药”之间存在着既相互对立又相互依存的关系

【答案】C。解析：

文段首句介绍人类的四大烦恼，指出“病”无法根除，属于提出问题。接下来介绍“药”与“病”之间的关系，即“药”可治“病”。尾句论述“药”不灵的时候，人们会用“行气、导引”等其他方法，紧接着通过转折词“但”，引出文段的重点，强调这些其他方法摆脱不了“附庸地位”，即人们治病主要依靠的还是“药”。因此，文段旨在强调人类治病主要依靠的办法是“药”，对应 C 项。

所以，正确选项是 C。

27. 在 5000 多年文明发展进程中，中华民族创造了博大精深的灿烂文化。在当下，如何“让收藏在禁宫里的文物、陈列在广阔大地上的遗产、书写在古籍里的文字都活起来”，已成为我们必须面对的现实问题。试想，如果传统文化失去了与时代的连接、缺少了与现代人的情感沟通和心灵默契，“仅止于几个人在书房中互相叹赏”，那和一堆零散的符号、呆板的素材又有什么区别？只有从“沉睡”中再出发，从“馆舍天地”走向“大千世界”，才能涵养出更具时代特色的、富有创新力的文化自信。

这段文字旨在强调：

- A. 中华民族拥有博大精深的传统文化
- B. 如何让文物“活起来”是我们必须面对的问题
- C. 文物应走出封闭状态，向公众开放
- D. 传统文化应加强与时代的连接

【答案】C。解析：

文段开篇交代背景，中华民族有着灿烂的文化，并提出让文物、遗产、文字火起来是目前面对的现实问题。后面进一步分析传统文化失去和时代的连接与现代人的沟通、心灵默契是不行的，最终尾句通过“只有……才”引导对策，对前文问题给出回应，让文物“从‘沉睡’中再出发，从‘馆舍天地’走向‘大千世界’”，即让文物不再沉睡，要走出“馆舍”，与广大群众见面和接触。对应C项。

所以，正确选项是C。

28. 有人说，阻碍中国城市化进程的根本问题是农村教育的不发达，文化知识水平偏低的农民即便进入城市，也只能从事最简单的体力劳动，而城市化程度越高，对劳动力素质的要求也越高，最终农民中的大部分人依然要从城市退出。可是，农村教育的落后恰恰是政府的过失，绝不能以此延缓户籍改革和城市化进程。

这段文字旨在强调：

- A. 农村教育的不发达阻碍了中国的城市化进程
- B. 城市化程度与其对劳动力素质的要求成正比
- C. 绝不能因农村教育落后而延缓城市化进程
- D. 农村教育的落后与政府的过失有直接关系

【答案】C。解析：

转折结构，强调转折之后的内容。“可是，农村教育的落后恰恰是政府的过失，绝不能以此延缓户籍改革和城市化进程。”意在强调绝不能因农村教育落后而延缓城市化进程。

所以，正确选项是C。

29. 当文化不能表达生命，反而压抑生命的时候，生命的紧张感就增大。这时候，需要改变旧文化，创造新文化，以重新表达生命。但文化的改造不必从文化开始，有时候，直接表达生命的紧张感、危机感，这种表达本身就形成了一种新的文化。

这段文字主要说明了：

- A. 文化的功能之一在于表达生命
- B. 文化既可能表达生命又可能压抑生命
- C. 生命与文化的冲突可能催生新的文化
- D. 文化有时直接表达生命的紧张感和危机感

【答案】C。解析：

文段先指出文化压抑生命时，生命的紧张感会增大，此时，需要创造新文化，目的是重新表达生命。随后又通过“但”进行转折，否定了前一句的对策，并指出：但文化的改造不必从文化开始，有时候，直接表达生命的紧张感、危机感，这种表达本身就形成了一种新的文化。

转折结构强调的是转折之后的内容。转折后重点强调生命的紧张感本身就是新文化，对应C项。

D项容易误选。但D项仅仅说文化，缺乏关键词“新的文化”，排除。

所以，正确选项是C。

30. 作家不会像哲学家那样去直接追问生命的意义或宇宙的存在，而是通过具体的人物命运，通过自然景物的描绘，触及到那些深刻的形而上学问题。从表面上来看，这似乎使我们远离形而上学。其实不然，这种感性体验方式却使我们更加接近形而上学。

这段文字主要说明了：

- A. 作家一般不会触及深刻的形而上学问题
- B. 作家和哲学家都会有形而上学的思考
- C. 作家的感性体验方式会使我们远离形而上学

D. 作家更有助于我们接近形而上学

【答案】D。解析：

文段首先介绍了作家不会直接追问生命的意义或宇宙的存在，紧接着进一步说明作家会触及到形而上学的问题。文段尾句通过“其实”转折，强调作家使我们更加接近形而上学。对应D项。

A项，与文段中“作家……触及到深刻的形而上学问题”的表述相矛盾，排除。

B项，“都会有形而上学的思考”表述过于绝对，无中生有，排除。

C项，与文段尾句“这种感性体验方式却使我们更加接近形而上学”的表述相矛盾，排除。

所以，正确选项是D。

第二部分 常识判断

（共20题，参考时限15分钟）

根据题目要求，在四个选项中选出一个最恰当的答案。

31. 党的十九大对新时代推进全面依法治国提出了新任务。明确到2035年：

A. 法治国家、法治政府、法治社会基本建成

B. 有法可依、有法必依、执法必严、违法必究基本实现

C. 中国特色社会主义法治体系基本建成

D. 科学立法、严格执法、公正司法、全民守法基本实现

【答案】A。解析：

党的十九大报告指出：“从2020年到2035年，在全面建成小康社会的基础上，再奋斗十五年，基本实现社会主义现代化……人民平等参与、平等发展权利得到充分保障，法治国家、法治政府、法治社会基本建成，各方面制度更加完善，国家治理体系和治理能力现代化基本实现”。

因此，党的十九大对新时代推进全面依法治国提出的新任务是：明确到2035年，法治国家、法治政府、法治社会要基本建成。

所以，正确选项是A。

32. 党的十八大以来，习近平总书记两次视察山东并发表重要讲话，多次作出重要指示批示，为我们确立的目标定位是：

①在全面建成小康社会进程中走在前列

②在社会主义现代化建设新征程中走在前列

③全面开创新时代现代化强省建设新局面

④全面打造乡村振兴的齐鲁样板

A. ①②③

B. ①③④

C. ①②③④

D. ①②④

【答案】A。解析：

2018年3月，习近平在参加十三届全国人大一次会议山东代表团的审议，充分肯定党的十八大以来山东工作，希望山东的同志再接再厉，在全面建成小康社会进程中、在社会主义现代化建设新征程中走在前列，全面开创新时代现代化强省建设新局面。因此，①②③正确。

2018年3月，习近平总书记参加十三届全国人大一次会议山东代表团审议，要求山东充分发挥农业大省优势，打造乡村振兴的齐鲁样板。④多了“全面”二字，表述错误。

因此，排除有④的BCD三项。

所以，正确选项是A。

33. 我国经济发展能够创造中国奇迹，民营经济功不可没。下列关于民营经济作用的表述正确的是：

- ①国民经济的主导力量
- ②创业就业的主要领域
- ③技术创新的重要主体
- ④国家税收的重要来源

- A. ①③④
- B. ②③④
- C. ①②③④
- D. ①②④

【答案】B。解析：

2018年11月1日，习近平主持召开了民营企业座谈会并发表重要讲话。他强调：40年来，我国民营经济已经成为推动我国发展不可或缺的力量，成为创业就业的主要领域、技术创新的重要主体、国家税收的重要来源，为我国社会主义市场经济发展、政府职能转变、农村富余劳动力转移、国际市场开拓等发挥了重要作用。因此，②③④正确。

①中的“主导力量”表述错误，应该是“不可或缺的力量”。

因此，排除有①的ACD三项。

所以，正确选项是B。

34. 中国的极地事业已经走过30多个年头。下列属于我国北极科学考察站的是：

- A. 长城站
- B. 泰山站
- C. 黄河站
- D. 中山站

【答案】C。解析：

A项错误，长城站是中国在南极建立的第一个科学考察站。

B项错误，泰山站是继长城站、中山站、昆仑站之后我国的第四个南极科学考察站。

C项正确，黄河站是我国建立的首个北极科考站。

D项错误，中山站是我国第二个南极考察站。

所以，正确选项是C。

35. 千百年来，月亮一直是人类心中的梦想之境。思乡的情怀，探索的欲望，都交织在一汪皎洁的白月光中，下列关于月球的说法错误的是：

- A. 月球自西向东自转
- B. 月球自东向西公转
- C. 月球自转与公转周期相等
- D. 月球表面没有大气层包围

【答案】B。解析：

A项正确，月球自转的方向同公转相同，均是自西向东。

B项错误，月球公转的方向是自西向东。

C项正确，在地球上，任何地方和时刻，我们只能看到月球的正面（月球一直朝向地球的一面），而不能看到月球的背面，这是由于月球绕地球公转的周期和月球自身自转的周期相同而导致的现象。

D项正确，月球的质量是地球的八十分之一，表面引力只有地球的六分之一，这就使月球无法将气体分子吸附在其表面，所以月球表面并没有被大气层包围。

所以，正确选项是B。

36. 《吕氏春秋》提到：“凡人三百六十节、九窍、五脏六腑。”下列不属于“五脏”的是：

- A. 心脏
- B. 肾脏
- C. 脾脏
- D. 胆脏

【答案】D。解析：

五脏指心、肝、脾、肺、肾；六腑指胆、胃、大肠、小肠、膀胱、三焦。

胆是“六腑”之一，非“五脏”之一。因此D项错误。

所以，正确选项是D。

37. 假如影视剧场景中出现下列作物，符合历史事实的是：

- A. 《水浒传》里宋江和公孙胜在玉米地里斗剑
- B. 《包青天》里包拯吃农户刚收获的白薯
- C. 《苏东坡》里苏轼用辣椒做东坡肉
- D. 《关云长》里关羽吃味道甘甜的葡萄

【答案】D。解析：

A项错误，《水浒传》描写的是北宋末年的农民起义。玉米在十六世纪传入我国，宋江和公孙胜不可能在玉米地里斗剑。

B项错误，白薯亦称甘薯，16世纪末即大明万历年间传入我国。包拯是北宋官员，不可能吃白薯。

C项错误，辣椒在明朝传入我国。苏轼是北宋人，不可能吃辣椒。

D项正确，葡萄在西汉通西域时传入我国，三国时期的关羽当然可以吃葡萄。

所以，正确选项是D。

38. 下列中国改革开放之后发生的历史重大事件，按时间先后顺序排列正确的是：

- ①设立海南省
- ②取消农业税
- ③设立深圳经济特区
- ④加入世界贸易组织

- A. ③①④②
- B. ③④①②
- C. ①②③④
- D. ①③②④

【答案】A。解析：

①1988年4月，七届全国人大一次会议正式批准设立海南省。

②从2006年起，中国全面取消农业税。

③1980年8月26日，全国人大常委会颁发《广东省经济特区条例》，对外宣布在广东省的深圳、珠海、汕头分别划出一定区域，设置经济特区。

④2001年中国加入世界贸易组织。

按照时间先后顺序排列为③①④②。

所以，正确选项是A。

39. 下列文化遗址，位于山东省境内的是：

- ①良渚遗址

- ②大汶口遗址
- ③二里头遗址
- ④龙山文化遗址
- A. ①②
- B. ②④
- C. ①③
- D. ③④

【答案】B。解析：

- ①良渚遗址位于浙江省。
 - ②大汶口遗址位于山东省泰安城南的大汶河畔。1959年首次发现并挖掘，为距今4000—5000年的
 - ③二里头遗址位于河南洛阳。
 - ④龙山文化遗址位于山东省济南市章丘区龙山街道附近。
- 只有②大汶口遗址和④龙山文化遗址位于山东省境内。
所以，正确选项是B。

40. 中国历史上出现过许多“盛世”。下列对应关系错误的是：

- A. 文景之治——汉朝
- B. 武丁盛世——商朝
- C. 康乾盛世——清朝
- D. 开皇之治——唐朝

【答案】D。解析：

A项正确，西汉文帝、景帝两代四十多年间里，继续奉行汉初“与民休息”的政策，政治稳定、经济发展，呈现出一片繁荣富庶的景象，史称“文景之治”。

B项正确，商王武丁在位期间，商朝的政治、经济、文化都得到空前的发展，达到极盛时期，史称“武丁盛世”。

C项正确，康乾盛世是清朝康熙、雍正和乾隆时期的国家治理局面。这个时期，清朝的统治处于全面的鼎盛时期，是中国古代历史上持续时间最长的一个盛世。

D项错误，“开皇”是隋文帝的年号。开皇之治在隋朝而不在唐朝。

所以，正确选项是D。

41. 关于文学作品中的借代，下列解释错误的是：

- A. “开轩面场圃，把酒话桑麻”中的“桑麻”指的是农事
- B. “桃李当时盛，葭莩后代连”中的“桃李”指的是学生
- C. “西陆蝉声唱，南冠客思深”中的“南冠”指的是囚犯
- D. “丧车黔首葬，吊客青蝇至”中的“黔首”指的是贵族

【答案】D。解析：

A项正确，“开轩面场圃，把酒话桑麻”出自唐代诗人孟浩然的《过故人庄》，意思是：推开窗户面对谷场菜园，共饮美酒，闲谈农务。其中“桑麻”指桑树和麻，泛指庄稼农事。

B项正确，“桃李当时盛，葭莩后代连”出自明朝文学家李东阳的《胡忠安公挽诗（四十韵）》。其中，“桃李”比喻老师辛勤教育的学生。

C项正确，“西陆蝉声唱，南冠客思深”出自唐代诗人骆宾王的《咏蝉·在狱咏蝉》，意思是：深秋季节西墙外寒蝉不停地鸣唱，蝉声把我这囚徒的愁绪带到远方。其中，“南冠”指囚犯。

D项错误，“丧车黔首葬，吊客青蝇至”出自唐代诗人元稹的《杂曲歌辞出门行》，意思是：老百姓死了，只有苍蝇作吊客来凭吊。其中，“黔首”指老百姓。

所以，正确选项是 D。

42. 国家纪念日具有铭记历史，缅怀先烈，维护和平，开创未来的现实意义。

下列关于我国国家纪念日的说法错误的是：

- A. 9 月 3 日设立为中国人民抗日战争胜利纪念日
- B. 9 月 30 日设立为烈士纪念日
- C. 12 月 3 日设立为国家宪法日
- D. 12 月 13 日设立为南京大屠杀死难者国家公祭日

【答案】C。解析：

A 项正确，2014 年 2 月 27 日，十二届全国人大常委会第七次会议通过《关于确定中国人民抗日战争胜利纪念日的决定》，将 9 月 3 日确定为中国人民抗日战争胜利纪念日。

B 项正确，2014 年 8 月 31 日，十二届全国人大常委会第十次会议通过《关于设立烈士纪念日的决定》，将 9 月 30 日设立为烈士纪念日。

C 项错误，2014 年 11 月 1 日，十二届全国人大常委会第十一次会议通过《关于设立国家宪法日的决定》，将 12 月 4 日设立为国家宪法日。

D 项正确，2014 年 2 月 27 日，十二届全国人大常委会第七次会议通过《关于设立南京大屠杀死难者国家公祭日的决定》，将 12 月 13 日设立为南京大屠杀死难者国家公祭日。

所以，正确选项是 C。

43. 民歌是人类文化中最宝贵的组成部分之一，它源于人民的生活，反映人民生活，也广泛而深入地影响着人民的生活。下列关系对应正确的是：

- ①《山丹丹开花红艳艳》——陕北民歌
- ②《康定情歌》——云南民歌
- ③《北京的金山上》——藏族民歌
- ④《掀起你的盖头来》——蒙古族民歌

- A. ①③
- B. ②④
- C. ①④
- D. ②③

【答案】A。解析：

①项正确，《山丹丹开花红艳艳》是陕北民歌。

②项错误，《康定情歌》是四川民歌。

③项正确，《北京的金山上》是藏族民歌。

④项错误，《掀起你的盖头来》是维吾尔族民歌。

只有①③项正确。所以，正确选项是 A。

44. 关于中华人民共和国国歌，下列说法错误的是：

- A. 政府机关举行重大庆典、纪念仪式时，应当奏唱国歌
- B. 在公共场合，以歪曲、贬损方式奏唱国歌是犯罪行为
- C. 外交活动中奏唱国歌的场合和礼仪，由外交部规定
- D. 不得将国歌作为公共场所的背景音乐

【答案】B。解析：

A 项正确，《国歌法》第四条规定：“在下列场合，应当奏唱国歌：（五）各级机关举行或者组织的重大庆典、表彰、纪念仪式等。”

B项错误,《国歌法》第十五条规定:“在公共场合,故意篡改国歌歌词、曲谱,以歪曲、贬损方式奏唱国歌,或者以其他方式侮辱国歌的,由公安机关处以警告或者十五日以下拘留;构成犯罪的,依法追究刑事责任。”因此,“在公共场合,以歪曲、贬损方式奏唱国歌”的行为,不一定属于犯罪行为,也可能是一般违法行为。

C项正确,《国歌法》第九条第一款规定:“外交活动中奏唱国歌的场合和礼仪,由外交部规定。”

D项正确,《国歌法》第八条规定:“国歌不得用于或者变相用于商标、商业广告,不得在私人丧事活动等不适宜的场合使用,不得作为公共场所的背景音乐等。”

所以,正确选项是B。

45. 关于立法,下列说法错误的是:

A. 只有最高国家权力机关才有权制定和修改刑事、民事基本法律

B. 自治区的自治条例,报全国人民代表大会常务委员会批准后生效

C. 地方人民代表大会在不同宪法、法律、行政法规相抵触的前提下,可以制定地方性法规

D. 应当制定地方性法规但条件尚不成熟的,因行政管理迫切需要,地方可以先制定地方政府规章

【答案】C。解析:

A项正确,《宪法》第五十七条规定:“中华人民共和国全国人民代表大会是最高国家权力机关。它的常设机关是全国人民代表大会常务委员会。”《立法法》第七条规定:“全国人民代表大会和全国人民代表大会常务委员会行使国家立法权。全国人民代表大会制定和修改刑事、民事、国家机构的和其他的基本法律。全国人民代表大会常务委员会制定和修改除应当由全国人民代表大会制定的法律以外的其他法律;在全国人民代表大会闭会期间,对全国人民代表大会制定的法律进行部分补充和修改,但是不得同该法律的基本原则相抵触。”

B项正确,《宪法》第一百一十六条规定:“民族自治地方的人民代表大会有权依照当地民族的政治、经济和文化的特点,制定自治条例和单行条例。自治区的自治条例和单行条例,报全国人民代表大会常务委员会批准后生效。自治州、自治县的自治条例和单行条例,报省或者自治区的人民代表大委员会批准后生效,并报全国人民代表大会常务委员会备案。”

C项错误,《立法法》第七十二规定:“省、自治区、直辖市的人民代表大会及其常务委员会根据本行政区域的具体情况和实际需要,在不同宪法、法律、行政法规相抵触的前提下,可以制定地方性法规。设区的市的人民代表大会及其常务委员会根据本市的具体情况和实际需要,在不同宪法、法律、行政法规和本省、自治区的地方性法规相抵触的前提下,可以对城乡建设与管理、环境保护、历史文化保护等方面的事项制定地方性法规。”因此,并非只要是地方人大就可以制定地方性法规

D项正确,《立法法》第八十二条第五款规定:“应当制定地方性法规但条件尚不成熟的,因行政管理迫切需要,可以先制定地方政府规章。规章实施满两年需要继续实施规章所规定的行政措施的,应当提请本级人民代表大会或者其常务委员会制定地方性法规。”

所以,正确选项是C。

第三部分 数量关系

(共10题,参考时限10分钟)

在这部分试题中,每道题呈现一段表述数字关系的文字,要求你迅速、准确地计算出答案。

46. 甲、乙、丙三人各出100万元资金购买某种每股10元的股票。当股价涨到12元时甲卖出50%,丙卖出20%;当股价涨到15元时甲卖出剩余部分的20%,乙卖出60%;此后股价回落到13元时三人全部卖出剩余股票。如不计税费,则此次投资获利最高的人比获利最低的人多赚多少万元?

A. 1

B. 14

C. 15

D. 18

【答案】C。解析：

分情况讨论。

根据题意可得：甲、乙、丙三人各出 100 万元资金购买某种每股 10 元的股票，即各购买了 10 万只股票。

情况 1：当股价涨到 12 元时，甲卖出 50%，获利 $10 \times 50\% \times (12-10) = 10$ 万元；丙卖出 20%，获利 $10 \times 20\% \times (12-10) = 4$ 万元。

情况 2：当股价涨到 15 元时，甲卖出剩余部分 20%，获利 $5 \times 20\% \times (15-10) = 5$ 万元；乙卖出 60%，获利 $10 \times 60\% \times (15-10) = 30$ 万元。

情况 3：最后股价回落到 13 元，甲、乙、丙全部卖出剩余股票，甲获利 $5 \times 80\% \times (13-10) = 12$ 万元；乙获利 $10 \times 40\% \times (13-10) = 12$ 万元；丙获利 $10 \times 80\% \times (13-10) = 24$ 万元。

甲共获利 $10+5+12=27$ 万元；乙共获利 $30+12=42$ 万元；丙共获利 $4+24=28$ 万元。

则获利最高的乙比获利最低的甲多赚 $42-27=15$ 万元。

所以，正确选项是 C。

47. 小刘买 120 元的玫瑰、康乃馨和百合共 20 朵。其中康乃馨价格为 3 元/朵，百合和玫瑰的价格也均为整数元。其中，玫瑰的价格比百合便宜但比康乃馨贵；购买玫瑰的数量少于百合但多于康乃馨，问玫瑰最高多少元/朵？

- A. 4
- B. 5
- C. 6
- D. 7

【答案】C。解析：

极端情况讨论。

本题未知数较多，等量关系很少，属于不定方程问题，可采用代入排除法。

已知条件：买 120 元的玫瑰、康乃馨和百合共 20 朵，其中康乃馨价格为 3 元/朵，百合和玫瑰的价格也均为整数元。玫瑰的价格比百合便宜但比康乃馨贵；购买玫瑰的数量少于百合但多于康乃馨。

求玫瑰单价最高可能为多少元，先从价格最高的 D 项开始代入验算。

验证 D 项：设玫瑰为 7 元，那么百合至少为 8 元，已知康乃馨价格为 3 元/朵。

设康乃馨 1 朵，价值 3 元。设玫瑰 x 朵，百合 $x+1$ 朵。则： $3+7x+8 \times (x+1) = 120$ 。

解得： $x \approx 7$ 。

估计玫瑰为 7 朵，每朵 7 元，值 49 元。则百合 8 朵，每朵 8 元，值 64 元。

$49+64+3=116$ 元，剩 4 元无法安排。不符合要求，排除。

验证 C 项：设玫瑰为 6 元，那么百合至少为 7 元，已知康乃馨价格为 3 元/朵。

设康乃馨 1 朵，价值 3 元。设玫瑰 x 朵，百合 $x+1$ 朵。则： $3+6x+7 \times (x+1) = 120$ 。

解得： $x \approx 8$ 。

估计玫瑰为 8 朵，每朵 6 元，值 48 元。则百合 9 朵，每朵 7 元，值 63 元。

$48+63+3=114$ 元，剩 6 元，可以买两朵康乃馨。符合要求，正确。

所以，正确选项是 C。

48. 某集团有 13 个分公司，每个分公司的员工数均不超过 50 人。甲和乙两个分公司各招聘若干人后，员工人数分别达到 76 人和 137 人，且集团平均每个分公司的员工数增加了 9 人。问甲分公司和乙分公司在招聘前的员工数最多相差几人？

- A. 4

- B. 3
- C. 2
- D. 1

【答案】A。解析：

极端情况讨论。

甲和乙两个分公司各招聘若干人后，集团平均每个分公司的员工数增加了9人。则可知：甲、乙两公司共招聘了 $13 \times 9 = 117$ 人。

则甲乙两个分公司招聘前的员工数之和为： $76 + 137 - 117 = 96$ 人。

求甲、乙两公司招聘前的员工数最多相差几人，且每个分公司的员工数均不超过50人，即最多为50人，则可知甲、乙两公司的人数一个为50人，一个为46人。即两者最多相差4人。

所以，正确选项是A。

49. 某单位所有员工都参加艺术、科学、人文三类书籍的阅读活动，每名员工至多阅读2种书籍，阅读1种书籍员工人数比阅读2种书籍的人数多一半，阅读艺术类书籍的人数是阅读科学类书籍人数的 $\frac{2}{3}$ ，阅读科学类书籍人数是阅读人文类书籍人数的 $\frac{4}{5}$ ，问该单位至少有多少人？

- A. 20
- B. 25
- C. 30
- D. 50

【答案】B。解析：

极端情况讨论。

根据阅读艺术类书籍人数是阅读科学类书籍人数的 $\frac{2}{3}$ ，可得：艺术类:科学类=2:3；

根据阅读科学类书籍人数是阅读人文类书籍人数的 $\frac{4}{5}$ ，可得：科学类:人文类=4:5。

则阅读科学类的人数同时满足是3和4的倍数，即科学类人数是12的倍数。

那么可知：艺术类:科学类:人文类=8:12:15

则最少读三类图书 $8 + 12 + 15 = 35$ 种。

根据阅读1种书籍员工人数比阅读2种书籍人数多一半，设阅读2种书籍人数为x，则阅读1种书籍人数为 $1.5x$ 。

则有算式： $1.5x \times 1 + x \times 2 = 35$ 。

解得： $x = 10$ 。

则该单位至少有： $2.5x \times 10 = 25$ 人。

所以，正确选项是B。

50. 打字员小张每10分钟可录入1页文档，平均每页有2个错字；打字员小李每15分钟可录入1页文档，平均每页有1个错字，现有12页、7页、11页、8页、14页和20页的6篇文档需要录入，要求每篇文档由同一人录入，且总共在9个小时内完成。问录入文档的错误率最低可以控制在平均每页多少个错字？

- A. 不高于1.4个
- B. 高于1.4个但不高于1.5个
- C. 高于1.5个但不高于1.6个
- D. 高于1.6个

【答案】C。解析：

极端情况讨论。

共有文档： $12 + 7 + 11 + 8 + 4 + 20 = 72$ 页。

小张平均每页有 2 个错字，小李平均每页有 1 个错字。要控制每页的错误率最低，必须让小李完成的页数尽可能多。

规定需要在 9 小时内完成。小李完成 1 页需要 15 分钟，则可知小李 9 小时满负荷录入能够完成 $9 \times 60 \div 15 = 36$ 页。要求每篇文档由同一人录入，则小李最多可以录入 7 页、8 页、20 页的三个文档。共 35 页。有 35 个错字。

还剩 $72 - 35 = 37$ 页，需要小张完成。有 74 个错字。

即共有 109 个错字。

则最低错误率为： $109 \div 72 \approx 1.51$ 。

即错误率最低可以控制在平均每页高于 1.5 个但不高于 1.6 个，对应 C 项。

所以，正确选项是 C。

51. A、B 两台高性能计算机共同运行 30 小时可以完成某个计算任务，如两台计算机共同运行 18 小时后，A、B 计算机分别抽调出 20% 和 50% 的计算资源去执行其他任务，最后任务完成的时间会比预计时间晚 6 小时，如两台计算机共同运行 18 小时后，由 B 计算机单独运行，还需要多少小时才能完成该任务？

A. 22

B. 24

C. 27

D. 30

【答案】C。解析：

设 A 计算机的工作效率是 A，B 计算机的工作效率是 B。

分别抽调 20% 和 50% 的计算资源后，两台计算机的效率分别变为： $(1 - 20\%)A = 0.8A$ ， $(1 - 50\%)B = 0.5B$ 。

最后任务完成的时间会比预计时间晚 6 小时，则有算式：

$$30(A+B) = 18(A+B) + (30-18+6) \times (0.8A+0.5B)$$

解得 $4A = 5B$ 。

设 $A=4$ ， $B=5$ 。则可知任务总量为 $30(A+B) = 270$ 。

则可知两台计算机共同运行 18 小时后，剩余任务量为 $(30-18) \times (A+B) = 12 \times 9 = 108$ 。

则 B 计算机单独运行，完成该任务还需要： $108 \div 4 = 27$ 小时。

所以，正确选项是 C。

52. 某商店中甲、乙、丙三种商品销量分别为 6 件、10 件和 5 件，总销售额为 x 元，其中乙商品的销售额是甲商品的 1.2 倍，丙商品的销售额是甲商品的 $\frac{4}{3}$ 倍，问如果只卖甲商品，至少要卖多少件销售额才能超过 x 元？

A. 20

B. 21

C. 22

D. 24

【答案】C。解析：

设 6 件甲商品的销售额为 30 元，每件销售单价为 5 元。

则 10 件乙商品的销售额为 $1.2 \times 30 = 36$ 元。

5 件丙商品的销售额为 $(\frac{4}{3}) \times 30 = 40$ 元。

则甲、乙、丙三种商品分别为销售 6 件、10 件和 5 件的销售总额 $= 30 + 36 + 40 = 106$ 元。

$106 \div 5 = 21.2$ 。也就是说，至少卖出 22 件甲商品，销售额才能超过 106 元。

所以，正确选项是 C。

53. 集装箱内部空间的长、宽和高分别为 20 英尺、7 英尺和 7 英尺。某种货物的包装箱尺寸为 $2 \times 3 \times 5$ 英尺，问一个集装箱内最多可以装多少箱这种货物？

- A. 29
- B. 30
- C. 31
- D. 32

【答案】B。解析：

极端情况讨论。

要想在一个集装箱内装的货物尽可能多，则集装箱浪费的体积应尽可能少。

以 7×7 这个面为底面，当底面截图如下图所示时，浪费的体积最少。

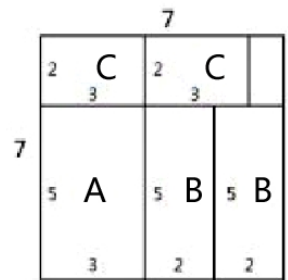
底面为 A 的包装箱个数为 $20 \div 2 = 10$ 个。

底面为 B 的包装箱个数为 $(20 \div 3) \times 2 = 12$ 个。

底面为 C 的包装箱个数为 $(20 \div 5) \times 2 = 8$ 。

则集装箱内最多可以装的包装箱个数为： $10 + 12 + 8 = 30$ 个。

所以，正确选项是 B。



54. 小王和小李参加某公司招聘考试，笔试成绩占总成绩的 40%，面试成绩占总成绩的 60%。笔试部分小王得分比小李高 6 分，面试部分小李得 80 分，两人的总成绩刚好相同，问小王面试得了多少分？

- A. 74
- B. 71
- C. 78
- D. 76

【答案】D。解析：

设小李笔试成绩为 x ，小王面试成绩为 y 。

由于笔试部分小王比小李高 6 分，则小王笔试分数为 $x+6$ 。

笔试成绩占总成绩 40%，面试成绩占总成绩的 60%。根据两人总成绩相同可知：

$$x40\% + 80 \times 60\% = (x+6) \times 40\% + y60\%$$

解得： $y=76$ ，即小王面试分数为 76 分。

所以，正确选项是 D。

55. 某老旧写字楼重新装修，需要将原有的窗户全部更换为单价 90 元每扇的新窗户。已知每 7 扇换下来的旧窗户可以跟厂商兑换一个新窗户。全部更换完毕后共花费 16560 元且剩余 4 个旧窗户没有兑换，那么该写字楼一共有多少扇窗户？

- A. 214
- B. 218
- C. 184
- D. 188

【答案】A。解析：

7 个旧窗户可以换 1 个新窗户，且最后有 4 个旧窗户没兑换，因此可以推知：旧窗户的总数减去 4，必然是 7 的倍数。只有 A 项满足要求。（旧窗户总数必然就等于总窗户数）

所以，正确选项是 A。

56. 甲、乙两人分别从 A、B 两地同时出发，6 小时后在 A、B 两地中点相遇，如果甲每小时多走 8 公里，乙提前 2 小时出发，则甲、乙两人仍在中点相遇，那么 A、B 两地相距多少公里？

- A. 168
- B. 192
- C. 256
- D. 304

【答案】B。解析：

两人同时出发 6 小时后在中点相遇，说明两人走的路程相同，且 $V_{甲}$ 、 $V_{乙}$ 速度相等。

第二次相遇点也在中点。乙提前 2 小时出发，速度保持不变，则乙走完剩余路程需要时间为 $6-2=4$ 小时。则甲提速后从出发到与乙在中点相遇也用时 4 小时。

则有算式： $(V_{甲}+8) \times 4 = V_{乙} \times 6$

解得： $V_{甲}=16$ 公里/小时。

则两地路程为： $16 \times (V_{甲}+V_{乙}) = 6 \times 32 = 192$ 公里。

所以，正确选项是 B。

57. 一个盒子里有乒乓球 100 多个，如果每次取 5 个出来最后剩下 4 个，如果每次取 4 个最后剩 3 个，如果每次取 3 个最后剩 2 个，那么如果每次取 12 个最后剩多少个？

- A. 11
- B. 10
- C. 9
- D. 8

【答案】A。解析：

每次取 5 个剩 4 个，意味着乒乓球的总数加 1 是 5 的倍数。

每次取 4 个剩 3 个，意味着乒乓球的总数加 1 是 4 的倍数。

每次取 3 个剩 2 个，意味着乒乓球的总数加 1 是 3 的倍数。

因此，乒乓球的总数加 1 应必然同时满足是 5、4、3 的倍数。也就是说，乒乓球的总数 $= 60n-1$ 。

由于乒乓球的总数有 100 多个，即 $100 < 60n-1 < 200$ 。

解得： $n=2$ 或者 3。

当 $n=2$ 时，乒乓球的数量 $= 60 \times 2 - 1 = 119$ ，每次取 12 个最后剩余 11 个。

当 $n=3$ 时，乒乓球的数量 $= 60 \times 3 - 1 = 179$ ，每次取 12 个最后也剩余 11 个。

所以，正确选项是 A。

58. 某研究团队开展小学生身体健康状况调查活动，需要从某市三所小学中抽取部分小学生组成研究样本，其中实验小学抽取的人数占其他两所小学抽取人数的五分之一，解放路小学抽取的人数占其他两所小学抽取人数的二分之一，精英小学抽取的人数为 180 人，那么三所小学合计抽取多少人？

- A. 540
- B. 480
- C. 360
- D. 280

【答案】C。解析：

设实验小学抽取人数为 x ，解放路小学抽取人数为 y 。

实验小学的人数是其他两所学校的五分之一，因此： $x = (y+180) / 5$①

解放路小学的人数是其他两所学校的二分之一，因此： $y = (x+180) / 2$②

解得： $x=60$ ， $y=120$ 。

则三所小学合计抽取的人数为 $60+120+180=360$ 人。

所以，正确选项是 C。

59 某工厂生产过程中需要用到 A、B、C 三种零件，工厂仓库中原有三种零件的数量比为 1:2:3，现在采购部门新购进一批零件，新购进三种零件的数量比是 3:2:4，工厂每天使用的三种零件数量相同，当 A 零件用完的时候，B 零件还剩下 10 个，C 零件还剩下 170 个，请问工厂仓库中原有 A、B、C 零件各多少个？

- A. 40 80 120
- B. 50 100 150
- C. 60 120 180
- D. 70 140 210

【答案】C。解析：

设原有 A、B、C 三种零件的数量分别为 x ， $2x$ ， $3x$ ，再次购买的数量分别为 $3y$ ， $2y$ ， $4y$ 。

当 A 零件用完时，一共用了 $x+3y$ 个零件。

工厂每天使用的三种零件数量相同，则 A、B、C 三种零件使用的总量相同。因此当 A 零件用完时，B、C 两种零件也用了 $x+3y$ 个。

根据 B 零件还剩余 10 个，C 零件还剩余 170 个。可得：

$$(2x+2y) - (x+3y) = 10 \cdots \cdots \textcircled{1}$$

$$(3x+4y) - (x+3y) = 170 \cdots \cdots \textcircled{2}$$

① 式整理得 $x-y=10$ ，② 式整理得 $2x+y=170$ 。

解得： $x=60$ ， $y=50$ 。

则可知原有三种零件的数量分别为 60，120，180。

所以，正确选项是 C。

60. 某啤酒厂为促销啤酒，开展 6 个空啤酒瓶换 1 瓶啤酒的活动，孙先生去年花钱先后买了 109 瓶该品牌啤酒，期间不断用空啤酒瓶去换啤酒，请问孙先生去年一共喝掉了多少瓶啤酒？

- A. 127
- B. 128
- C. 129
- D. 130

【答案】D。解析：

孙先生买了 109 瓶啤酒，可以产生 109 个空瓶。

用 6 个空酒瓶换 1 瓶啤酒，可以换 18 瓶啤酒，还剩 1 个空瓶。

18 瓶啤酒产生 18 个空瓶，可以再换 3 瓶啤酒。

3 瓶啤酒产生 3 个空瓶，加上前面剩的 1 个空瓶，不够换 1 瓶啤酒了。

因此，孙先生一共可以喝 $109+18+3=130$ 瓶啤酒。

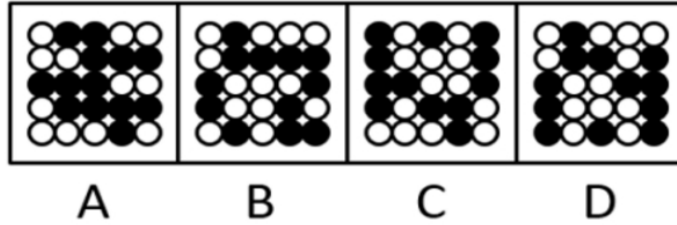

所以，正确选项是 D。

第四部分 判断推理

(共 40 题，参考时限 40 分钟)

一、图形推理。请按每道题的答题要求作答。

61. 从所给的四个选项中，选择最合适的一个填入问号处，使之呈现一定的规律性：



【答案】C。解析：

观察发现，图 1 和图 2 只有第一行黑点位置不同，其他四行中黑点的位置完全相同；

图 2 和图 3 只有第二行黑点位置不同，其他四行中黑点的位置完全相同；

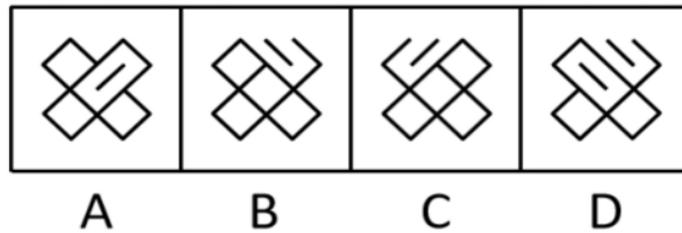
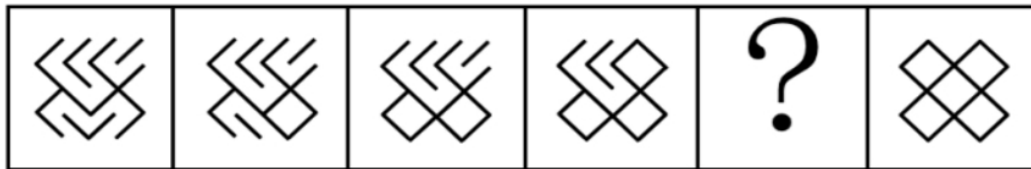
图 3 和图 4 只有第三行黑点位置不同，其他四行中黑点的位置完全相同；

图 4 和图 5 只有第四行黑点位置不同，其他四行中黑点的位置完全相同；

以此类推，? 处应该选择一个跟图 5 只有第五行黑点位置不同，其他四行黑点位置完全相同的图，只有 C 项符合。

所以，正确选项是 C。

62. 从所给的四个选项中，选择最合适的一个填入问号处，使之呈现一定的规律性：

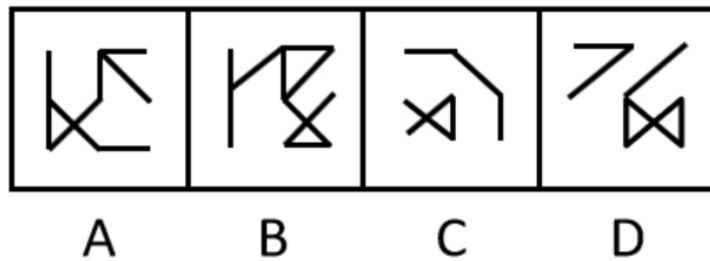



【答案】C。解析：

观察发现，题干中相邻的两个图形，后一个图均是在前一个图的基础上变化了 1 条短线得到的。只有 C 项符合此规律。

所以，正确选项是 C。


63. 从所给的四个选项中，选择最合适的一个填入问号处，使之呈现一定的规律性：



【答案】B。解析：

叠加去同存异。每行的图 1 和图 2 叠加，去掉相同线条，保留不同线条，可以得到图 3。所以，正确选项是 B。

64. 从所给的四个选项中，选择最合适的一个填入问号处，使之呈现一定的规律性：



【答案】D。解析：

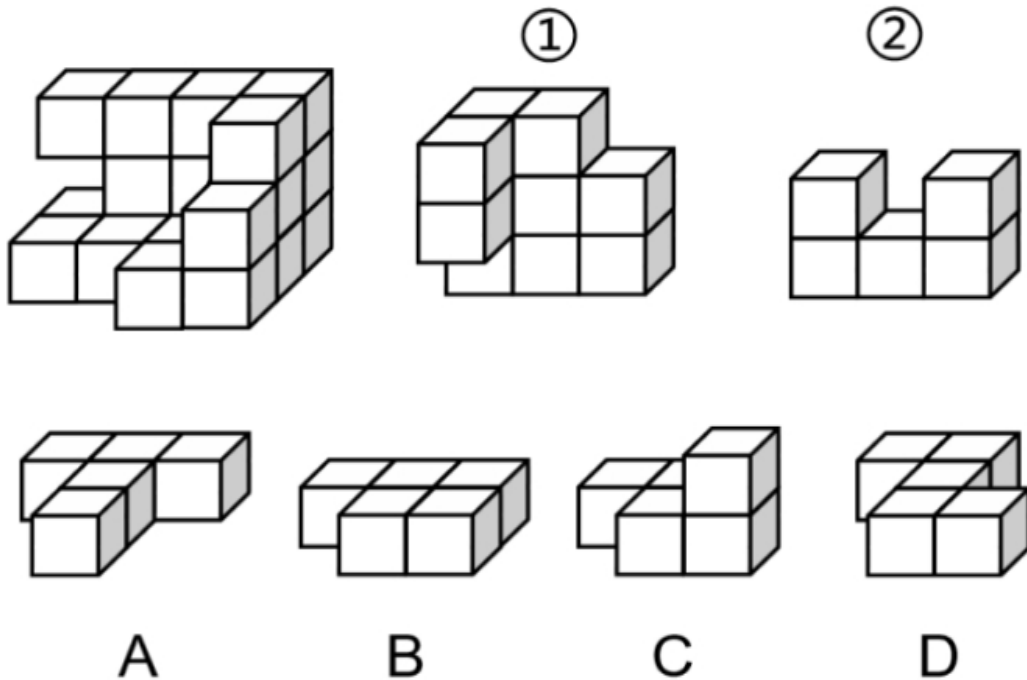
第一行图的对称轴数量依次为 1、1、2，前两幅图的对称轴的数量之和等于第三幅图的对称轴数量。

第二行图的对称轴数量依次为 1、2、3，符合此规律。

第三行图前两个图的对称轴数量依次是 2、3，则？处应选择对称轴数量为 5 的选项。只有 D 项符合此规律。

所以，正确选项是 D。

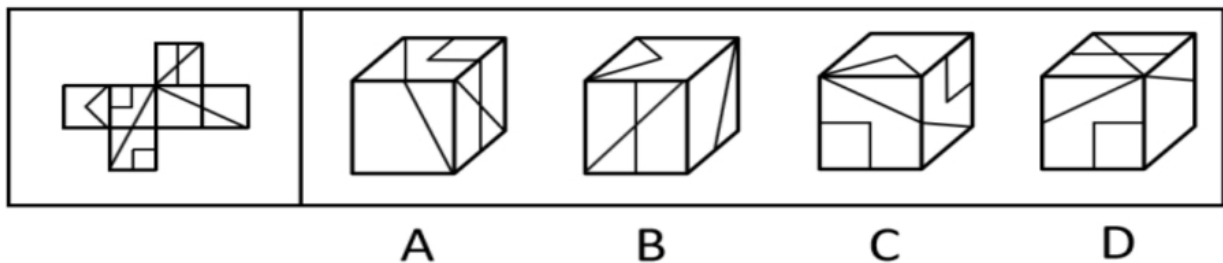
65. 下图所示的多面体为 20 个一样的小正方体组合而成，问①、②和以下哪个多面体可以组合成该多面体？



【答案】A。解析：

正确选项是 A。

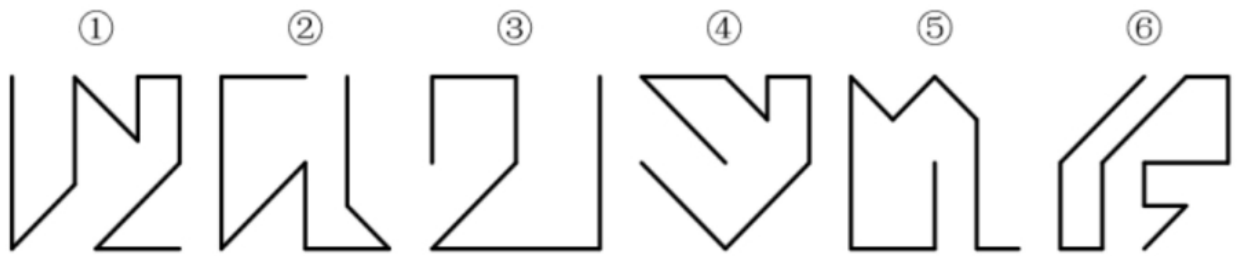
66. 左图是给定纸盒的外表面，以下哪一项能由它折叠而成？



【答案】B。解析：

正确选项是 B。

67. 把下面的六个图形分为两类，使每一类图形都有各自的共同特征或规律，分类正确的一项是：

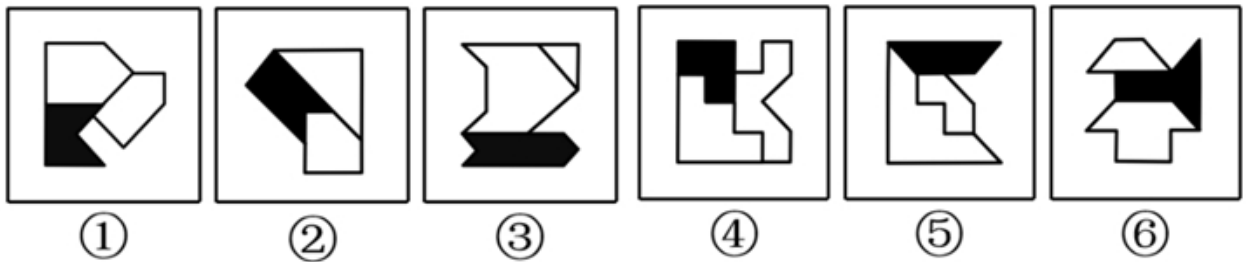


- A. ①②③, ④⑤⑥
B. ①④⑤, ②③⑥
C. ①②⑤, ③④⑥
D. ①④⑥, ②③⑤

【答案】C。解析：

①②⑤末端两条线相互垂直，③④⑥末端两条线相互平行。
所以，正确选项是C。

68. 把下面的六个图形分为两类，使每一类图形都有各自的共同特征或规律，分类正确的一项是：

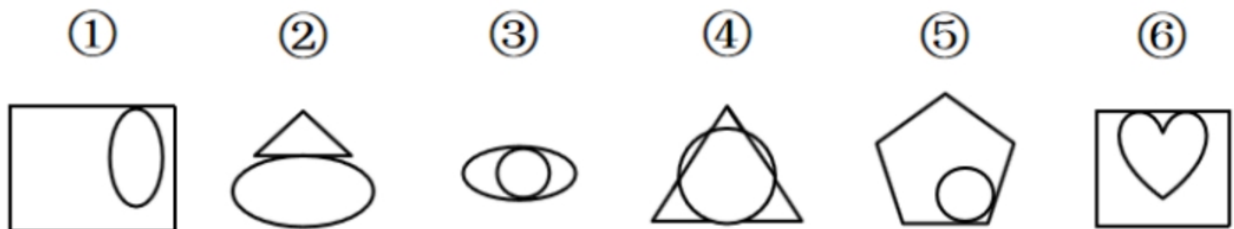


- A. ①③④, ②⑤⑥
B. ①③⑤, ②④⑥
C. ①②⑥, ③④⑤
D. ①④⑥, ②③⑤

【答案】A。解析：

图①③④中的两个空白面的对称轴夹角为45度，图②⑤⑥中的两个空白面的对称轴平行。
所以，正确选项是A。

69. 把下面的六个图形分为两类，使每一类图形都有各自的共同特征或规律，分类正确的一项是：



- A. ①③④, ②⑤⑥
B. ①②④, ③⑤⑥
C. ①④⑤, ②③⑥
D. ①③⑤, ②④⑥

【答案】B。解析：

图①②④中的两个图形之间只有一个切点，图③⑤⑥中的两个图形之间存在两个切点。
所以，正确选项是 B。

70. 把下面的六个图形分为两类，使每一类图形都有各自的共同特征或规律，分类正确的一项是：



- A. ①②③，④⑤⑥
- B. ①②④，③⑤⑥
- C. ①③⑤，②④⑥
- D. ①③⑥，②④⑤

【答案】B。解析：

图①②④中的奇点数为 4 个，是两笔画图形；图③⑤⑥中的奇点数为 2 个，是一笔画图形。
所以，正确选项是 B。

二、定义判断。每道题先给出定义，然后列出四种情况，要求你严格依据定义，从中选出一个最符合或最不符合该定义的答案。注意：假设这个定义是正确的，不容置疑的。

71. 强化是指通过改变环境的刺激因素来增强、减弱或消除某种行为的过程和方法。其中直接强化是指个人因直接表现出应当受到强化的行为而受到强化的过程。替代性强化是指个人因观察到他人的行为而受到强化的过程。自我强化是指个人的行为达到自己设定的标准时，以自己能支配的报酬来强化自己的过程。

根据上述定义，下列属于替代性强化的的是：

- A. 人云亦云
- B. 杀一儆百
- C. 论功行赏
- D. 小惩大诫

【答案】A。解析：

属于型。

定义关键词：个人因观察到他人的行为而受到强化。

A 项：“人云亦云”是指人家怎么说，自己也跟着怎么说，符合“个人因观察到他人的行为而受到强化”，当选；

B 项：“杀一儆百”是指处死一个人，借以警戒许多人，不符合“个人因观察到他人的行为而受到强化”，排除；

C 项：“论功行赏”是指按功劳的大小给予奖赏，不符合“个人因观察到他人的行为而受到强化”，排除；

D 项：“小惩大诫”是指有小过失就惩戒，使受到教训而不致犯大错误，不符合“个人因观察到他人的行为而受到强化”，排除；

所以，正确选项是 A。

72. 在项目成本控制中，成本控制的偏差分为实际偏差、计划偏差和目标偏差三种，它们的计算公

式如下：

实际偏差=实际成本-预算成本

计划偏差=预算成本-计划成本

目标偏差=实际成本-计划成本

项目成本控制的目的是尽量减少目标偏差。

根据上述定义，下列说法错误的是：

- A. 实际成本越大则目标偏差越大
- B. 目标偏差等于实际偏差与计划偏差之和
- C. 当目标偏差为负数时，对项目是有利的
- D. 目标偏差与预算成本无关

【答案】A。解析：

不属于型。

定义关键词：

实际偏差=实际成本-预算成本

计划偏差=预算成本-计划成本

目标偏差=实际成本-计划成本

项目成本控制的目的是尽量减少目标偏差

A项：目标偏差=实际成本-计划成本。已知实际成本大，但是不知道计划成本是大是小，因此目标偏差最终是大是小不确定，说法错误，当选；

B项：目标偏差=实际成本-计划成本=(实际偏差+预算成本)-(预算成本-计划偏差)=实际偏差+计划偏差。说法正确，排除；

C项：目标偏差为负数，则说明实际成本低，计划成本高，实际成本低则项目花费低，对项目而言是有利的，说法正确，排除；

D项：目标偏差=实际成本-计划成本，与预算成本无关，说法正确，排除。

所以，正确选项是A。

73. 两种事物在性质、大小、外观等方面存在相反的特点，人们在认知到一种事物时会从反面想到另一种事物，这种联想称为对比联想。

根据上述定义，下列诗句中使用了对比联想的是：

A. 刘禹锡《乌衣巷》：“旧时王谢堂前燕，飞入寻常百姓家。”

B. 苏轼《念奴娇赤壁怀古》：“大江东去，浪淘尽，千古风流人物。故垒西边，人道是，三国周郎赤壁。”

C. 李煜《虞美人春花秋月何时了》：“雕栏玉砌应犹在，只是朱颜改。问君能有几多愁？恰似一江春水向东流。”

D. 《诗经关雎》：“关关雎鸠，在河之洲，窈窕淑女，君子好逑。”

【答案】A。解析：

属于型。

定义关键词：“在性质、大小、外观等方面存在相反的特点”“从反面想到另一种事物”。

A项：旧时王谢堂前燕，飞入寻常百姓家。意思是当年栖息在豪门檐下的燕子，如今已飞进寻常百姓家里。寻常百姓家和王谢宅院的外观是相反的，符合“在性质、大小、外观等方面存在相反的特点”，看到燕子栖息地点是寻常百姓家，从而联想到乌衣巷昔日的繁荣，符合“从反面想到另一种事物”，符合定义，当选；

B项：大江东去，浪淘尽，千古风流人物，故垒西边，人道是，三国周郎赤壁。意思是大江浩浩荡荡向东流去，滔滔巨浪淘尽千古英雄人物，那旧营垒的西边，人们说那就是三国周瑜鏖战的赤壁。诗词

表达的是作者看到滚滚的长江联想到了才华出众的人物会随着时间的流逝而消失，没有体现“从反面想到另一种事物”，不符合定义，排除；

C项：雕栏玉砌应犹在，只是朱颜改，问君能有几多愁？恰似一江春水向东流。意思是精雕细刻的栏杆、玉石砌成的台阶应该还在，只是所怀念的人已衰老。要问我心中有多少哀愁，就像这不尽的滔滔春水滚滚东流。雕栏玉砌的美景和宫女的容颜，不符合“在性质、大小、外观等方面存在相反的特点”，用满江的春水来比喻满腹的愁恨，不符合“在性质、大小、外观等方面存在相反的特点”，不符合定义，排除；

D项：关关雎鸠，在河之洲，窈窕淑女，君子好逑。意思是关关鸣叫的水鸟，栖居在河中沙洲，善良美丽的姑娘是好男儿的配偶。诗词以雎鸠的鸣叫，引出作者对淑女的追求，不符合“从反面想到另一种事物”，不符合定义，排除。

所以，正确选项是A。

74. 遗产是指被继承人死亡时遗留的个人所有财产和法律规定可以继承的其他财产权益，根据我国继承法的有关规定，遗产必须符合三个特征：必须是公民死亡时遗留的遗产；必须是公民个人的所有财产；必须是合法财产。

根据上述定义，下列说法正确的是：

- A. 李某经法院宣告失踪一年后仍毫无音信，其个人财产可以视为遗产
- B. 张某去世后，其夫妻二人的共同财产并非都是张某的遗产
- C. 赵某病危时对家人说钱某欠自己的万余元赌债可以作为自己的遗产
- D. 王某因工伤死亡，其死亡补助金可以作为遗产进行分配

【答案】B。解析：

属于型。

定义关键词：“公民死亡时遗留的财产”“公民个人所有的财产”“合法财产”。

A项：李某经法院宣告失踪一年后仍毫无音信，但李某是否死亡并不明确（公民下落不明满四年的，利害关系人可以向人民法院申请宣告他死亡），不符合“公民死亡时遗留的财产”，说法不正确，排除

B项：张某去世后，符合“公民死亡”，夫妻二人的共同财产，不符合“公民个人所有的财产”，因此该财产并非都是张某的遗产，说法正确，当选；

C项：赵某病危时，不符合“公民死亡”，且赌债不符合“合法财产”，说法不正确，排除；

D项：王某因工伤亡，死亡补助金是死亡之后所得到的赔偿，不符合“公民死亡时遗留的财产”，不符合定义，排除。

所以，正确选项是B。

75. 旁观者效应又称责任分散效应，是指在紧急事件中由于有他人在场而产生的对救助行为的抑制作用。

根据上述定义，下列情形符合旁观者效应的是：

- A. 公路上发生货车侧翻，大家纷纷帮助货车司机小杨保护货物防止哄抢
- B. 路上偶遇行人跌倒，小李见周围无人见证怕承担责任不敢帮助
- C. 超市附近突发火灾，小张催促其妻报警，其妻回答别人肯定已经报警了
- D. 海边有人落水，救生员小王边跑边喊，提醒围观群众不要随意下水施救

【答案】C。解析：

属于型。

定义关键词：在紧急事件中由于有他人在场而产生的对救助行为的抑制作用。

A项：大家纷纷帮助货车司机小杨保护货物，体现出了对小杨的救助行为，不符合“对救助行为的抑制作用”，排除；

B项：小李见周围无人见证怕承担责任不敢帮助，意思是周围没有他人在场，不符合“有他人在场”，排除；

C项：发生火灾，小张催促其妻报警，其妻回答别人肯定已经报警了，符合“有他人在场而产生的对救助行为的抑制作用”，符合定义，当选；

D项：有人落水，救生员小王“提醒”群众不要随意下水施救，不符合“由于有他人在场而产生的对救助行为的抑制作用”，排除。

所以，正确选项是C。

76. 贝勃定律是指当有人经历强烈的刺激后，第一次大刺激能使第二次小刺激的影响淡化。

根据上述定义，下列哪一诗句的描述不符合贝勃定律的内涵？

- A. 曾经沧海难为水
- B. 五岳归来不看山
- C. 人间别久不成悲
- D. 铁马冰河入梦来

【答案】D。解析：

不属于型。

定义关键词：“当人经历强烈的刺激后”“第一次大刺激能使第二次小刺激的影响淡化”。

A项：“曾经沧海难为水”的意思是在看过汹涌的大海后，其他地方的水就不值一提了，符合“经历过强烈的刺激后，第二次小刺激的影响淡化”，排除；

B项：“五岳归来不看山”的意思是从五岳回来之后，不用再去看其他的山了，符合“经历过强烈的刺激后，第二次小刺激的影响淡化”，排除；

C项：“人间别久不成悲”的意思是由于分别的太久，相思和悲痛已经使自己变得有些麻木，意识不到内心深处的悲哀了，符合“经历过强烈的刺激后，第二次小刺激的影响淡化”，排除；

D项：“铁马冰河入梦来”意思是迷迷糊糊地梦见，自己骑着披着铁甲的战马跨过冰封的河，这是对一个梦里场景的描述，没有第一次大刺激与第二次小刺激的比较，不符合“经历过强烈的刺激后，第二次小刺激的影响淡化”，当选。

所以，正确选项是D。

77. 工作通讯是一种直接反映和指导实际工作的通讯，既可以通过新闻事实的报道分析当前工作中的经验和问题，提出带有规律性的东西去推动工作；也可以针对某些尚处在萌芽状态的倾向和现象进行实录或剖析，从而引起人们的关注和思考。

根据上述定义，下列哪篇新闻报道最不可能是工作通讯？

- A. 《工作组碰“软钉子”》
- B. 《警惕微信群的套路》
- C. 《微软启示录》
- D. 《风雨沧桑话神州》

【答案】D。解析：

不属于型。

定义关键词：“直接反映和指导实际工作的通讯”“可以通过新闻事实的报道分析当前工作中的经验和问题，提出带有规律性的东西去推动工作”“可以针对某些尚处在萌芽状态的倾向和现象进行实录或剖析，从而引起人们的关注和思考”。

A项：《工作组碰“软钉子”》，最可能写的是工作组遇到的问题以及采取的对策，符合“直接反映和指导实际工作的通讯”，符合定义，排除；

B项：《警惕微信群的套路》最可能写的是在微信群中存在的欺骗手段以及应对的方式，符合“可

以通过新闻事实的报道分析当前工作中的经验和问题，提出带有规律性的东西去推动工作”，符合定义，排除；

C项：《微软启示录》最可能写的是微软这一企业在经营过程中的经验和教训，符合“可以通过新闻事实的报道分析当前工作中的经验和问题，提出带有规律性的东西去推动工作”，符合定义，排除；

D项：《风雨沧桑话神州》最可能写的是中国历经坎坷后所取得的伟大成就，中国这一范围过大，不符合“直接反映和指导实际工作的通讯”，不符合定义，当选。

所以，正确选项是D。

78. 晕轮效应又称光环效应，是指当认知者对认知对象的某种特征形成好的或者坏的印象后，掩盖了其他品质或特点，或者倾向于据此推论其他方面的特征。

根据上述定义，下列不属于晕轮效应的是：

- A. 情人眼里出西施
- B. 天下乌鸦一般黑
- C. 嘴上无毛办事不牢
- D. 一俊遮百丑

【答案】B。解析：

不属于型。

定义关键词：“认知者对认知对象的某种特征形成好的或者坏的印象”“掩盖了其他品质或特点，或者倾向于据此推论其他方面的特征”。

A项：“情人眼里出西施”指的是在情人的眼里，不论对方如何，都觉得对方是非常美丽的。“情人”符合“认知者对认知对象的某种特征形成好的或者坏的印象后”，“眼里出西施”符合“掩盖了其他品质或特点，或者倾向于据此推论其他方面的特征”，符合定义，排除；

B项：“天下乌鸦一般黑”比喻不管哪个地方的坏人都是一样的坏，属于客观描述，没有掩盖其他品质或特点，也没有据此推论其他方面的特征，不符合定义，当选；

C项：“嘴上无毛办事不牢”指的是年纪小的人办事不牢靠。“嘴上无毛”符合“认知者对认知对象的某种特征形成好的或者坏的印象”，“办事不牢”符合“掩盖了其他品质或特点，或者倾向于据此推论其他方面的特征”，符合定义，排除；

D项：“一俊遮百丑”比喻一件好的事情掩盖了许多的丑陋的事。“一件好的事情”符合“认知者对认知对象的某种特征形成好的或者坏的印象”，“遮百丑”符合“掩盖了其他品质或特点，或者倾向于据此推论其他方面的特征”，符合定义，排除。

所以，正确选项是B。

79. 母语迁移是在第二语言的习得过程中，学习者的第一语言即母语的使用习惯会直接影响第二语言的习得，并对其起到积极促进或者消极干扰的作用。

根据上述定义，下列属于母语迁移的是：

- A. 日韩两国的文字中含有大量汉字，历史上的中国文化是其发展的渊源
- B. 甲五岁随父母移居国外，长大后已经完全不会使用母语表达
- C. 英国人乙学习中文时在量词的掌握上感到特别困难
- D. 丙在双语环境中成长，在生活和学习中均能用两种语言熟练表达

【答案】C。解析：

属于型。

定义关键词：“在第二语言的习得过程中”“第一语言即母语的使用习惯会直接影响第二语言的习得”“母语起到积极促进或消极干扰的作用”。

A项：客观描述“汉字是日韩两国文字的渊源”，不涉及学习者学习第二语言的问题，不符合定义，

排除；

B项：甲五岁移居国外，长大后完全不会使用母语表达，母语对他毫无影响，不符合“第一语言即母语的使用习惯会直接影响第二语言的习得”，也不符合“母语起到积极促进或消极干扰的作用”，不符合定义，排除；

C项：英国人乙学习中文时在量词的掌握上感到特别困难，中文是乙的第二语言，符合“在第二语言的习得过程中”，英国人乙对中文量词掌握很困难，符合“第一语言即母语的使用习惯会直接影响第二语言的习得”和“母语起到积极促进或消极干扰的作用”，符合定义，当选；

D项：丙在双语环境中成长，不符合“在第二语言的习得过程中”，在学习和生活中能用两种语言熟练表达，不符合“第一语言即母语的使用习惯会直接影响第二语言的习得”，也不符合“母语起到积极促进或消极干扰的作用”，不符合定义，排除。

所以，正确选项是C。

80. 角色失败是指角色承担者被证明已经不可能再继续承担或者履行该角色的权利和义务，不得不中途退出，放弃原来角色。从角色失败的结果上看，通常有两种，一种是角色承担者不得不半途退出角色，另一种是虽然还处于某种角色的位置上，但其表现已被实践证明是失败的。

根据上述定义，下列不属于角色失败的是：

- A. 夫妻离婚
- B. 朋友绝交
- C. 职员借调
- D. 官员撤职

【答案】C。解析：

不属于型。

定义关键词：“角色承担者不得不半途退出角色”“虽然还处于某种角色的位置上，但其表现已经被实践证明是失败的”。

A项：夫妻离婚，丈夫不再是丈夫，妻子不再是妻子，符合“角色承担者不得不半途退出角色”，符合定义，排除；

B项：朋友绝交，符合“角色承担者不得不半途退出角色”，符合定义，排除；

C项：职员借调，仅仅是单位正常的工作安排，不是角色承担者半途退出，也不是其表现已经被实践证明是失败的，不符合定义，当选；

D项：官员撤职，符合“角色承担者不得不半途退出角色”，符合定义，排除。

所以，正确选项是C。

三、类比推理。每道题先给出一组相关的词，要求你在备选答案中找出一组与之有逻辑关系上最为贴近、相似或匹配的词。

81. 如芒在背：不安

- A. 目无全牛：自大
- B. 前车之鉴：教训
- C. 墨守成规：守法
- D. 萍水相逢：巧合

【答案】B。解析：

题干的逻辑关系是：如芒在背与不安是近义词。

A项：目无全牛形容人的技艺高超，与自大无关，与题干逻辑关系不一致，排除；

B项：前车之鉴与教训是近义词，与题干逻辑关系一致，当选；

C项：墨守成规是指守着老规矩不肯改变，与守法无关，与题干逻辑关系不一致，排除；

D项：萍水相逢比喻素不相识之人偶然相遇，与巧合不是同义词，与题干逻辑关系不一致，排除。所以，正确选项是B。

82. 衰败：方兴未艾

- A. 讨好：曲意逢迎
- B. 抄袭：拾人牙慧
- C. 战争：马放南山
- D. 后悔：抱恨终天

【答案】C。解析：

题干的逻辑关系是：方兴未艾形容新生事物正在蓬勃发展，与衰败是反义词。

- A项：曲意逢迎是指想方设法奉承讨好别人，与讨好是近义词，与题干逻辑关系不一致，排除；
 - B项：拾人牙慧比喻窃取别人的语言和文字，与抄袭是近义词，与题干逻辑关系不一致，排除；
 - C项：马放南山比喻天下太平，不再打仗，与战争是反义词，与题干逻辑关系一致，当选；
 - D项：抱恨终天指因做错某事而后悔一辈子，与后悔是近义词，与题干逻辑关系不一致，排除。
- 所以，正确选项是C。

83. 轿车：代步

- A. 温室：蔬菜
- B. 沙漏：计时
- C. 健身：竞技
- D. 中药：食疗

【答案】B。解析：

题干的逻辑关系是：轿车具有代步功能。

- B项：沙漏具有计时功能，与题干逻辑关系一致，当选。
- 所以，正确选项是B。

84. 开机：关机

- A. 上车：下车
- B. 发烧：吃药
- C. 地震：逃生
- D. 入学：考试

【答案】A。解析：

题干的逻辑关系是：开机和关机反义词。

- A项：上车和下车是反义词，与题干逻辑关系一致，当选。
- 所以，正确选项是A。

85. 感冒药：中药：西药

- A. 果汁：冷饮：热饮
- B. 标枪：田赛：径赛
- C. 城墙：古建筑：西方建筑
- D. 学士：硕士：博士

【答案】A。解析：

题干的逻辑关系是：感冒药分别与中药、西药是交叉关系，中药和西药是并列关系。

- A项：果汁分别与冷饮、热饮是交叉关系，冷饮和热饮是并列关系，与题干逻辑关系一致，当选。

- B项：标枪属于田赛项目，二者是种属关系，与题干逻辑关系不一致，排除。
C项：古建筑与西方建筑是交叉关系，与题干逻辑关系不一致，排除。
D项：学士、硕士和博士都是学位，三者是并列关系，与题干逻辑关系不一致，排除。
所以，正确选项是 A。

86. 动脉血管：静脉血管：毛细血管

- A. 散文：诗歌：小说
B. 历史片：战争片：科幻片
C. 休眠火山：死火山：活火山
D. 晴天：雨天：雪天

【答案】C。解析：

题干的逻辑关系是：动脉血管、静脉血管和毛细血管都是血管，三者之间为并列关系，并且血管只有这三类。

A项：散文、诗歌和小说都是文学形式，三者之间为并列关系，但文学形式不仅有这三种，还有剧本，寓言等形式，与题干逻辑关系不一致，排除。

B项：历史片、战争片、科幻片都是电影形式，但三者之间不是并列关系，而是交叉关系，与题干逻辑关系不一致，排除。

C项：休眠火山、死火山、活火山都是火山，三者之间为并列关系，并且火山只有这三类，与题干逻辑关系一致，当选。

D项：晴天、雨天、雪天是三种天气，三者之间为并列关系，但天气不仅有这三种，还有台风、冰雹等，与题干逻辑关系不一致，排除。

所以，正确选项是 C。

87. 国有企业：化工企业：大型企业

- A. 草本植物：观叶植物：室内植物
B. 钝角三角形：等边三角形：等腰三角形
C. 内脏：肝脏：消化系统
D. 音乐：舞蹈：戏剧

【答案】A。解析：

国有企业、化工企业、大型企业是根据不同标准对企业进行的分类，三者之间都是交叉关系。

A项：草本植物、观叶植物、室内植物是根据不同标准对企业进行的分类，三者之间都是交叉关系。与题干逻辑关系一致，当选。

B项：钝角三角形、等边三角形、等腰三角形都是三角形，但三者是并列关系，不是交叉关系，与题干逻辑关系不一致，排除。

C项：肝脏是内脏，二者为种属关系，与题干逻辑关系不一致，排除。

D项：音乐、舞蹈、戏剧不是同一类事物，与题干逻辑关系不一致，排除。

所以，正确选项是 A。

88. 电缆损坏：供电中断：电车停运

- A. 高台起跳：身体翻转：跃入水中
B. 利好消息：股价上涨：公司上市
C. 超速驾驶：发生车祸：吊销驾照
D. 提出问题：分析问题：解决问题

【答案】C。解析：

题干的逻辑关系是：电缆损坏导致供电中断，供电中断导致电车停运，三者之间具有因果关系。

A 项：高合起跳、身体翻转与跃入水中是跳水过程的不同阶段，虽然存在时间的先后顺序，但是不具有因果关系，与题干逻辑关系不一致，排除；

B 项：公司上市与股价上涨不具有因果关系，与题干逻辑关系不一致，排除；

C 项：超速驾驶导致发生车祸，发生车祸导致吊销驾照，三者之间具有因果关系，与题干逻辑关系一致，当选；

D 项：提出问题、分析问题与解决问题是工作过程的不同阶段，虽然存在时间的先后顺序，但是不具有因果关系，与题干逻辑关系不一致，排除。

所以，正确选项是 C。

89. 高兴 对于 () 相当于 () 对于 巧夺天工

A. 得意；匠心独运

B. 谈笑风生；鬼斧神工

C. 悲哀；照猫画虎

D. 心花怒放；精巧

【答案】D。解析：

逐一代入选项验证。

A 项：得意和高兴是近义词，匠心独运和巧夺天工无关，前后逻辑关系不一致，排除；

B 项：谈笑风生与高兴无关，鬼斧神工与巧夺天工是近义词，前后逻辑关系不一致，排除；

C 项：高兴和悲哀是反义词，照猫画虎和巧夺天工无关，前后逻辑关系不一致，排除；

D 项：心花怒放和高兴是近义词，精巧和巧夺天工是近义词，前后逻辑关系一致，当选。

所以，正确选项是 D。

90. () 对于 花蕊 相当于 叶脉 对于 ()

A. 蜂蜜；二氧化碳

B. 花瓣；叶肉

C. 花朵；叶片

D. 花蜜；水分

【答案】B。解析：

逐一代入选项验证。

A 项：蜂蜜是蜜蜂从花蕊中采集而来，叶脉能够传输二氧化碳，前后逻辑关系不一致，排除；

B 项：花蕊与花瓣都是花的组成部分，叶脉与叶肉都是叶的组成部分，前后逻辑关系一致，当选；

C 项：花蕊是花朵的组成部分，叶脉是叶片的组成部分，二者逻辑关系相同，但是词的大小顺序相反，前后逻辑关系不一致，排除；（C 项有迷惑性，容易错选）

D 项：花蜜是花蕊的组成部分，叶脉能够输送水分，前后逻辑关系不一致，排除。

所以，正确选项是 B。

四、逻辑判断。每道题给出一段陈述，这段陈述被假设是正确的，不容置疑的。要求你根据这段陈述，选择一个答案。正确答案应与所给陈述相符合，不需要任何附加说明即可以从陈述中直接推出。

91. 近年来科技的迅猛发展为科幻小说创作提供了启发，也为科幻小说创作提供了丰富的素材。科幻小说的主题即是围绕着科技幻想、揭示科技发展带来的社会问题及其给人类带来的启示而展开的。因此科幻小说的蓬勃发展是科技发展的结果。

以下哪项如果为真，最能削弱上述结论？

A. 伴随着西方工业革命产生的科幻小说经历了初创、成熟和鼎盛三个历史时期

- B. 科技发展拓展了科幻小说的想象空间，科幻小说为科技发展提供了人文视角
- C. 科技只是科幻小说中的背景元素，科幻小说本质上还是要讲述一个完整的故事
- D. 科幻小说展现了人类的愿望，最终推动科技发展将那些梦想变为现实

【答案】C。解析：

削弱型。

题干结论：科幻小说的蓬勃发展是科技发展的结果。

论据：近年来科技的迅猛发展为科幻小说创作提供了启发，也为科幻小说创作提供了丰富的素材。科幻小说的主题即是围绕着科技幻想，揭示科技发展带来的社会问题及其给人类带来的启示而展开的。

A 项：随着西方工业革命的发展，科幻小说也经历了三个发展时期，体现了工业革命发展推动了科幻小说的发展，有加强作用，不能削弱，排除；

B 项：科技发展为科幻小说拓展了想象空间，促进了科幻小说发展，对论点有一定的加强作用，不能削弱，排除；

C 项：科技只是给科幻小说提供了背景元素，主要内容不是科技而是描述的故事，意在强调：科幻小说的蓬勃发展与科技发展的关系不大，可以削弱，当选；

D 项：科幻小说展现了人类的愿望，最终推动科技发展，与论点无关，不能削弱，排除。

所以，正确选项是 C。

92. 所有学术水平突出的教授都深受学生爱戴，而所有学术水平突出的教授都注重培养学生的专业基础知识，因此，有些深受学生爱戴的教授不主张只关注学术前沿问题。

上述论证的成立需补充的前提是：

- A. 只关注学术前沿问题的教授不受学生爱戴
- B. 学术水平突出的教授不主张只关注学术前沿问题
- C. 注重培养学生专业基础知识的教授都深受学生爱戴
- D. 部分注重培养学生专业基础知识的教授不主张只关注学术前沿问题

【答案】B。解析：

搭桥型。

论点：有的深受学生爱戴的教授不主张只关注学术问题。

论据：所有学术水平突出的教授深受学生爱戴，可以换位推理为：有的深受学生爱戴的教授是学术水平突出的。

要推出题干的论点，必须在“学术水平突出的教授”与“不主张只关注学术前沿问题”之间搭桥，即：所有学术水平突出的教授都不主张只关注学术前沿问题。

B 项：学术水平突出的教授不主张只关注学术前沿问题。符合要求，是论证的成立需补充的前提。

所以，正确选项是 B。

93. 有研究人员声称找到了一种全新的控制糖尿病人血糖浓度的方法，这种新疗法的关键就是咖啡因。他们对患有糖尿病的小鼠进行了试验，当小鼠摄入咖啡因的时候，对于血糖浓度的控制能力比没有摄入咖啡因的小鼠好。研究人员据此认为，以往通过注射胰岛素控制糖尿病人血糖浓度的方法在未来也可以被摄入咖啡因替代。

以下哪项如果为真，最能支持上述结论？

- A. 上述研究成果被发表在全球顶尖的医学期刊上
- B. 每天注射胰岛素对于糖尿病患者来说比较麻烦
- C. 研究证明咖啡因可以降低直肠癌和黑色素瘤的发病风险
- D. 小鼠和人类体内的肾细胞吸收咖啡因会促进胰岛素的产生

【答案】D。解析：

加强型。

论点：以往通过注射胰岛素控制糖尿病人血糖浓度的方法在未来也可以被摄入咖啡因替代。

论据：对患有糖尿病的小鼠进行了实验，当小鼠摄入咖啡因的时候，对于血糖浓度的控制能力比没有摄入咖啡因的小鼠好。

A 项：说明成果被发表在医学期刊上，与论点讨论的是注射咖啡因是否可以控制糖尿病人血糖浓度，话题不一致，无关选项，无法加强，排除；

B 项：说明注射胰岛素对于患者来说很麻烦，与论点讨论的是注射咖啡因是否可以控制糖尿病人血糖浓度，话题不一致，无关选项，无法加强，排除；

C 项：说明降低直肠癌和黑色素的发病风险，与论点讨论的是注射咖啡因是否可以控制糖尿病人血糖浓度话题不一致，无关选项，无法加强，排除；

D 项：小鼠和人类体内的肾细胞吸收咖啡因会促进胰岛素的产生，说明吸收咖啡因促进胰岛素的产生，解释了原因，从而说明的确可以用咖啡因来代替胰岛素，可以加强，当选。

所以，正确选项是 D。

94. 只有确立竞争政策的基础性地位，才能推动供给侧结构性改革。在这种新形势下，必须加强顶层设计，才能确立竞争政策的基础性地位，加强顶层设计必须围绕创造公平竞争的制度环境展开，确立竞争政策的基础性地位也是实现创新驱动的必然要求。

由此可以推出：

- A. 不加强顶层设计就不能推动供给侧结构性改革
- B. 推动供给侧结构性改革才能实现创新驱动
- C. 围绕创造公平竞争的制度环境展开是加强顶层设计的充分条件
- D. 只有推动供给侧结构性改革才能加强顶层设计

【答案】A。解析：

整理题干条件为：

- (1) 只有确立竞争政策的基础性地位，才能推动供给侧结构性改革。
- (2) 只有加强顶层设计，才能确立竞争政策的基础性地位。

A 项：不加强顶层设计就不能推动供给侧结构性改革。“不加强顶层设计”是对（2）的否前，否前必否后，可以推出“不能确立竞争政策的基础性地位”。

“不能确立竞争政策的基础性地位”是对（1）的否前，否前必否后，可以推出不能推动供给侧结构性改革”。

因此可以推出 A 项：不加强顶层设计就不能推动供给侧结构性改革。

所以，正确选项是 A。

95. 甲、乙、丙、丁、戊、己、庚七人表演配乐诗朗诵，为确保表演效果，需要安排朗诵顺序。已知：（1）甲要么第一个朗诵，要么最后一个朗诵；（2）乙和丙之间有三人；（3）丁和戊之间有三人，且丁先朗诵；（4）丁在乙之前朗诵。

根据上述条件，以下哪项可能为真？

- A. 丙第二个朗诵
- B. 乙第四个朗诵
- C. 庚第二个朗诵
- D. 丁第四个朗诵

【答案】A。解析：

整理题干条件为：

- (1) 甲要么第一个朗诵，要么最后一个朗诵；

- (2) 乙和丙之间有三人;
- (3) 丁和戊之间有三人, 且丁先朗诵;
- (4) 丁在乙之前朗诵。

根据条件可知, 甲要么在第 1 个, 要么在第 7 个。除了甲以还有有 6 个连着的位置可供其余人选择。丁和戊的前后顺序确定, 且丁先于乙, 因此这 6 个连着的位置可能出现的情况有两种:

第一种: 丁 XX 乙戊丙

第二种: 丁丙 XX 戊乙

甲可能在这 6 个位置之前也可能在之后。

A 项: 当第二种情况出现, 并且甲在最后一个时, 位置排列为: 丁丙 XX 戊乙甲。此时丙在第二个位置朗诵。因此这种可能为真, 当选。

所以, 正确选项是 A。

96. 研究证明, 用传统方法熬制的骨头汤中, 游离钙含量很低, 每 100 毫升骨头汤中钙含量只有 2 毫克左右, 因此传统的“喝骨头汤补钙”的观念是错误的。

以下哪项如果为真, 最能支持上述结论?

- A. 只有游离的钙离子才能被人体消化吸收
- B. 骨头汤中含有较多脂肪, 常喝骨头汤可能引发高脂血症
- C. 骨头汤中含有胶原蛋白, 能增强人体造血机能
- D. 中国居民的钙摄入量普遍不足, 而食补最为方便

【答案】A。解析:

搭桥型。

论点: 传统的“喝骨头汤补钙”的观念是错误的。

论据 研究证明, 用传统方法熬制的骨头汤中, 游离钙含量很低, 每 100 毫升骨头汤中钙含量只有 2 毫克左右。

论点说的是喝骨头汤不能补钙, 论据说的是骨头汤中游离钙含量低, 话题不一致, 必须进行搭桥, 即选择能在游离钙含量低和补钙之间建立联系的选项。

A 项: 只有游离的钙离子才能被人体吸收。在游离的钙离子和吸收补钙之间建立联系, 说明传统方法熬制的骨头汤中游离的钙离子含量低, 几乎起不到补钙的作用, 搭桥项, 可以加强, 当选。

所以, 正确选项是 A。

97. 在考古学研究中判断人类遗骸的性别对于了解古代社会结构具有重要意义。科学家发现牙釉质中含有釉原蛋白, 编码这种蛋白的基因恰好位于性染色体——X 染色体和 Y 染色体上, 研究者认为, 用牙齿判定遗骸性别的方法可用于考古研究。

以下哪项如果为真, 最能支持上述论证?

- A. 牙齿是古人类遗骸中最容易找到并且保存最完好的部分
- B. 儿童遗骸的骨骼没有明显的性别差异
- C. 人类遗骸的性别比例与当时人类社会的性别比例大致相同
- D. 测量某些骨骼特征如骨盆的结构通常可以直接判定性别

【答案】A。解析:

搭桥型。

论点: 用牙齿判定遗骸性别的方法可用于考古研究。

论据 科学家发现牙釉质中含有釉原蛋白, 编码这种蛋白的基因恰好位于性染色体——X 染色体和 Y 染色体上。

A 项: 牙齿是古人类遗骸中最容易找到并且最完整的部分。考古容易找到牙齿, 而科学家对可以通

过牙齿判定遗骸性别，因此，用牙齿判定遗骸性别的方法可用于考古研究。搭桥项，可以加强，当选所以，正确选项是 A。

98. 化学名称为聚四氟乙烯，商用名称为特氟龙的物质被广泛用于电饭煲内胆。有研究证明，超过 260 度高温作用下该物质会变为毒性物质，因此有人认为电饭煲会做出“毒米饭”。

以下哪项如果为真，最能质疑上述观点？

- A. 特氟龙作为涂层特别容易剥落混到食物中
- B. 特氟龙内胆的电饭煲工作温度最高为 119 度
- C. 特氟龙在高温条件下产生的毒性足以致癌
- D. 特氟龙材料还被应用到医疗、冶金等领域中

【答案】B。解析：

削弱型。

论点：电饭煲会做出“毒米饭”。

论据：化学名称为聚四氟乙烯，商用名称为特氟龙的物质被广泛用于电饭煲内胆。有研究证明，超过 260 度高温作用下该物质会变为毒性物质。

A 项：特氟龙容易混到食物中，但电饭锅到底会不会做出“毒米饭”没有说明，无法削弱，排除；

B 项：电饭煲工作温度最高是 119 度，没有到达 260 度，因此不会生成有毒物质，即电饭煲不会做出毒米饭，直接削弱论点，当选；

C 项：特氟龙在高温状态下会生成有毒物质致癌，可以加强，不能削弱，排除；

D 项：特氟龙材料能够应用的领域，与电饭煲会不会做出“毒米饭”无关，不能削弱，排除。

所以，正确选项是 B。

99. 工业废气排放是温室气体增加的重要原因，但还有大量温室气体来自水下。湖泊、池塘和河流等水体的底部沉积物会产生甲烷，甲烷主要以气泡的形式冒出水面，进入大气。研究发现，富含营养的水体沉积物会释放更多甲烷。因此有专家建议，为降低水体温室气体排放，应限制化肥的滥用。

要使上述论证成立，必须补充以下哪一前提？

- A. 水体沉积物排出的甲烷量比工业废气还多
- B. 甲烷是温室气体的最主要成分
- C. 化肥极易通过水体给环境造成污染
- D. 滥用化肥很容易给水体沉积物带来过多营养

【答案】D。解析：

搭桥型。

论点：为降低水体温室气体排放，应限制化肥的滥用。

论据：富含营养的水体沉积物会释放更多甲烷。

A 项：论点说的是为降低水体温室气体排放，应限制化肥的滥用，该项说的是水体沉积物排放出的甲烷量，二者话题不一致，无法加强，排除；

B 项：论点说的是为降低水体温室气体排放，应限制化肥的滥用，该项说的是甲烷是温室气体的最主要成分，二者话题不一致，无法加强，排除；

C 项：强调化肥极易通过水体给环境造成污染，但是没有涉及限制化肥滥用是否能够降低温室气体排放，属于无关选项，排除；

D 项：滥用化肥很容易给水体沉积物带来过多营养，营养多了会释放更多的甲烷，那么说明想要降低温室气体的排放，就应该限制化肥的滥用，在论点和论据之间建立了联系，属于搭桥项，当选。

所以，正确选项是 D。

100. 有教师、公务员、银行职员三人，其中甲不是银行职员，乙不是教师，丙不是公务员。教师比乙年龄大，丙在三人中年龄最小。

根据上述条件，下列说法错误的是：

- A. 甲是教师
- B. 乙是公务员
- C. 甲不是公务员
- D. 丙不是银行职员

【答案】D。解析：

整理题干条件为：

- (1) 甲不是银行职员。
- (2) 乙不是教师。
- (3) 丙不是公务员。
- (4) 教师的年龄大于乙的年龄。
- (5) 丙年龄最小。

根据条件（4）和（5）可知年龄的排序：教师>乙>丙。可知，乙不是教师，丙也不是教师，甲是教师。

根据条件（3）可知，丙也不是公务员，则可知：丙是银行职员。即D项说法是错误的。

所以，正确选项是D。

第五部分 资料分析

（共20题，参考时限20分钟）

所给出的图、表、文字或综合性资料均有若干个问题要你回答。你应根据资料提供的信息进行分析、比较、计算和判断处理。

一、根据以下资料，回答101~105题。

党的十八大以来，党中央，国务院实施精准扶贫、精准脱贫基本方略，深入实施东西部扶贫协作，区域性整体贫困明显缓解，为实现到2020年现行标准下农村贫困人口脱贫，贫困县全部摘帽，解决区域性整体贫困打下了坚实基础。

从地区看，东部地区已率先基本脱贫，中西部地区贫困人口数量全面下降，2017年末，东部地区农村贫困人口300万人，比2012年末减少1067万人，五年累计下降78.1%；农村贫困发生率由2012年末的3.9%下降到0.8%，下降3.1个百分点，已率先基本实现脱贫。中部地区农村贫困人口由2012年末的3446万人减少到2017年末的1112万人，累计减少2334万人，下降幅度为67.7%。农村贫困发生率由10.5%下降到3.4%，下降7.1个百分点。西部地区农村贫困人口由2012年末的5086万人减少到2017年末的1634万人，累计减少3452万人，下降幅度为67.9%；农村贫困发生率由2012年末的17.6%下降到2017年末的5.6%，下降12.0个百分点。

从贫困区域看，贫困地区、集中连片特困地区，民族八省区减贫成效更加突出，区域性整体贫困明显缓解。贫困地区2017年末农村贫困人口1900万人，比2012年末减少4139万人，减贫规模占全国农村减贫总规模的六成；农村贫困发生率从2012年末的23.2%下降至2017年末的7.2%，五年累计下降16.0个百分点，年均下降3.2个百分点。集中连片特困地区2017年末农村贫困人口1540万人，比2012年末减少3527万人，下降幅度为69.6%；农村贫困发生率从2012年末的24.4%下降至2017年末的7.4%，累计下降17.0个百分点，年均下降3.4个百分点。内蒙古、广西、贵州、云南、西藏、青海、宁夏、新疆等民族八省区2017年末农村贫困人口1032万人，比2012年末减少2089万人，下降幅度为66.9%，减贫规模占全国农村减贫规模的三成；农村贫困发生率从2012年末的21.1%下降至2017年来的6.9%，累计下降14.2个百分点，年均下降2.8个百分点。

101. 2012年末和2017年末我国农村贫困人口总数分别为多少万人？

- A. 6853 4513
- B. 8532 2746
- C. 9599 3813
- D. 9899 3046

【答案】D。解析：

定位文字材料第二段：……2017 年末，东部地区农村贫困人口 300 万人，比 2012 年末减少 1067 万人……中部地区农村贫困人口由 2012 年末的 3446 万人减少到 2017 年末的 1112 万人……西部地区农村贫困人口由 2012 年末的 5086 万人减少到 2017 年末的 1634 万人……

根据：总人数=东部人数+中部人数+西部人数，可知：

2017 年末我国农村贫困人口总数为 $300+1112+1634=3046$ 万人。

2012 年末我国农村贫困人口总数为 $1067+300+3446+5086=9899$ 万人。

所以，正确选项是 D。

102. 贫困发生率指的是低于贫困线的人口占总人口的比例，由材料数据可知，与 2012 年末相比，我国中部地区 2017 年末农村总人口：

- A. 减少了约 113 万人
- B. 减少了约 280 万人
- C. 增加了约 113 万人
- D. 增加了约 280 万人

【答案】A。解析：

定位文字材料第二段：中部地区农村贫困人口由 2012 年末的 3446 万人减少到 2017 年末的 1112 万人，……农村贫困发生率由 10.5% 下降到 3.4%。

根据题干条件“贫困发生率指的是低于贫困线的人口占总人口的比例”，可得：

总人口=贫困人口÷贫困发生率。

则可知：

中部地区 2017 年末农村总人口-中部地区 2017 年末农村总人口

$= (1112 \div 3.4\%) - (3446 \div 10.5\%)$

$= 32706 - 32819$

$= -113$ 万人

即与 2012 年末相比，我国中部地区 2017 年末农村总人口减少了约 113 万人。

所以，正确选项是 A。

103. 按贫困发生率年均下降幅度计算，2015 年末我国集中连片特困地区农村贫困发生率为：

- A. 21.0%
- B. 17.6%
- C. 14.2%
- D. 10.8%

【答案】C。解析：

定位文字材料第三段：集中连片特困地区 2017 年末……农村贫困发生率从 2012 年末的 24.4% 下降至 2017 年末的 7.4%……年均下降 3.4 个百分点。

按贫困发生率的年均下降幅度计算，则 2015 年末我国集中连片特困地区农村贫困发生率 $= 24.4\% - 3.4\% \times (2015 - 2012) = 14.2\%$ 。

所以，正确选项是 C。

104. 下列关于 2012 年末和 2017 年末我国西部地区农村贫困人口占全国农村贫困人口比重的说法, 描述正确的是:

- A. 2017 年末高于 2012 年末, 且 2012 年低于 50%
- B. 2017 年末高于 2012 年末, 且均高于 50%
- C. 2017 年末低于 2012 年末, 且 2017 年低于 50%
- D. 2017 年末低于 2012 年末, 但均高于 50%

【答案】B。解析:

定位文字材料第二段: 西部地区农村贫困人口由 2012 年末的 5086 万人减少到 2017 年末的 1634 万人。

结合本大题的第 101 题, 2012 年末和 2017 年末我国农村贫困人口总数分别为 9899 万人、3046 万人, 则可知:

2012 年末我国西部地区农村贫困人口占全国农村贫困人口比重为: $5086/9899 \approx 51.4\%$

2017 年末我国西部地区农村贫困人口占全国农村贫困人口比重为: $1634/3046 \approx 53.6\%$

则 2017 年末比重高于 2012 年末, 且均高于 50%。

所以, 正确选项是 B。

105. 关于农村贫困人口数据, 无法由以上材料推出的是:

- A. 按 2012 年末至 2017 年末西部年均农村贫困人口减少量计算, 2019 年末我国西部地区农村贫困人口将少于 300 万人
- B. 2012 年末至 2017 年末, 集中连片特困地区减贫规模占全国农村减贫总规模的 34%
- C. 2012 年末至 2017 年末, 农村减贫幅度东部地区要大于民族八省区
- D. 按照中部地区农村贫困发生率下降速率计算, 中部地区要达到 2017 年末东部地区农村贫困发生率水平还需要约 2 年时间

【答案】B。解析:

A 项, 定位文字材料第二段: 西部地区农村贫困人口由 2012 年末的 5086 万人减少到 2017 年末的 1634 万人, 累计减少 3452 万人。可知: 2012 年末至 2017 年末西部年均农村贫困人口减少量为: $3452 \div (2017-2012) \approx 690$ 万人。按此计算, 2019 年西部地区农村贫困人口约为 $1634-690 \times 2 = 254 < 300$ 万人。正确, 排除;

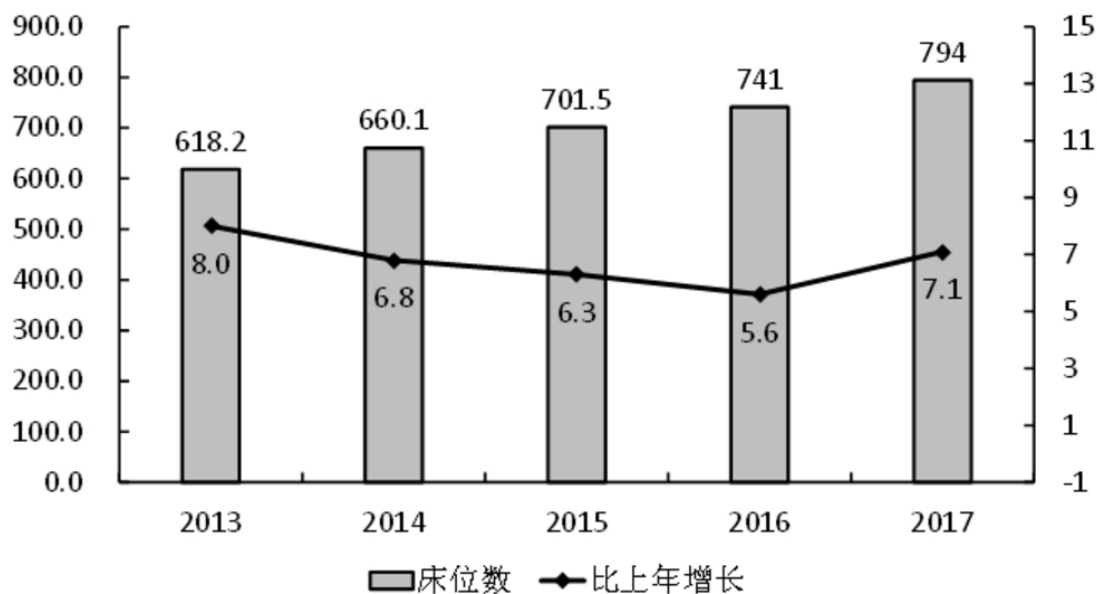
B 项, 定位文字材料第三段: 贫困地区 2017 年末农村贫困人口比 2012 年末减少 4139 万人, 减贫规模占全国农村减贫总规模的六成, 集中连片特困地区 2017 年末农村贫困人口比 2012 年末减少 3527 万人。则 2012 年末至 2017 年末, 集中连片特困地区减贫规模占全国农村减贫总规模的比重为: $3527 \div (4139 \div 60\%) \approx 48\%$, 远远高于 34%。错误, 当选。

所以, 正确选项是 B。

二、根据以下资料, 回答下 106~110 题。

2017 年末, 全国医疗卫生机构床位 794.0 万张, 其中: 医院 612.0 万张 (占 77.1%), 基层医疗卫生机构 152.9 万张 (占 19.3%)。医院中, 公立医院床位占 75.7%, 民营医院占床位 24.3%。与上年比较, 床位增加 53.0 万张, 其中: 医院床位增加 43.1 万张, 基层医疗卫生机构床位增加 8.7 万张。每千人口医疗卫生机构床位数由 2016 年 5.37 张增加到 2017 年 5.72 张。

全国医疗卫生机构床位数（万张）及增长情况（%）



106. 2016 年末，全国基层医疗卫生机构拥有床位数量为多少万张？

- A. 714
- B. 568.9
- C. 152.9
- D. 144.2

【答案】D。解析：

定位文字材料：2017 年末，基层医疗卫生机构 152.9 万张……，与上年比较，基层医疗卫生机构床位增加 8.7 万张。

根据基期=现期-增长量，可知：

2016 年末全国基层医疗卫生机构拥有床位数=152.9-8.7=144.2 万张。

所以，正确选项是 D。

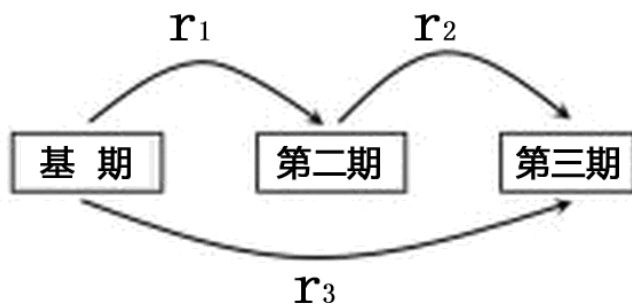
107. 虽然 2014-2016 年间全国医疗卫生机构床位数增长速度持续下滑，但 2016 年床位数仍然比 2014 年增加了：

- A. 12.26%
- B. 10.87%
- C. 13.21%
- D. 9.69%

【答案】A。解析：

定位统计图：2016 年全国医疗卫生机构增速为 5.6%，2015 年全国医疗卫生机构增速为 6.3%。

根据间隔增长率的公式，相对于基期，第二期的增长率为 r_1 ，第三期的增长率为 r_2 ，则第三期相对于基期的增长率： $r_3=r_1+r_2+(r_1 \times r_2)$



可知：全国医疗卫生机构 2016 年相较于 2014 年增长率为：

$r_3 = r_1 + r_2 + (r_1 \times r_2) = 5.6\% + 6.3\% + (5.6\% \times 6.3\%) = 12.5\%$ 。与 A 项数据为接近。

所以，正确选项是 A。

108. 2017 年末公立医院床位数占全国医疗卫生机构床位数的比重为：

- A. 75.7%
- B. 77.1%
- C. 58.4%
- D. 56.2%

【答案】C。解析：

定位文字材料：全国医疗卫生机构床位 794.0 万张，其中医院 612.0 万张（占 77.1%），以及下文“医院中，公立医院床位占 75.7%”，可得：

医院床位数 ÷ 全国医疗卫生机构床位数 = 77.1%

公立医院床位数 ÷ 医院床位数 = 75.7%

因此，2017 年末公立医院床位数占全国医疗卫生机构床位数的比重为：

公立医院床位数 ÷ 全国医疗卫生机构床位数

= (医院床位数 × 75.7%) ÷ 全国医疗卫生机构床位数

= (全国医疗卫生机构床位数 × 77.1% × 75.7%) ÷ 全国医疗卫生机构床位数

= 77.1% × 75.7%

= 58.4%

所以，正确选项是 C。

109. 从所给数据资料中可以推算，2017 年末全国人口总数比 2016 年末增加量最接近：

- A. 741 万
- B. 822 万
- C. 895 万
- D. 938 万

【答案】B。解析：

定位文字材料：2017 年末，全国医疗卫生机构床位 794.0 万张，与上年比较，床位增加 53.0 万张；每千人口医疗卫生机构床位数由 2016 年 5.37 张增加到 2017 年 5.72 张。

根据公式：每千人口医疗卫生机构床位数 = (医疗卫生机构床位数 ÷ 全国人口总数) × 1000

可得：全国人口总数 = (医疗卫生机构床位数 × 1000) ÷ 每千人口医疗卫生机构床位数。

根据公式：增长量 = 现期量 - 基期量，则：

2017 年末全国人口总数比 2016 年末增加量

$$= ((794 \times 1000) \div 5.74) - ((794 - 53) \times 1000) \div 5.37$$

$$= (138.8 - 138) \times 1000$$

$$= 800 \text{ 万}$$
 与 B 项数据最接近。
 所以，正确选项是 B。

110. 下列说法正确的是：

- A. 2013~2017 年间，全国医疗卫生机构床位数增加幅度持续下降
- B. 从全国医疗卫生机构床位统计数据中可以知道医疗卫生机构由公立医院、民营医院和基层医疗卫生机构三部分组成
- C. 2014~2017 年，全国医疗卫生机构床位增加量最大的年份是 2017 年
- D. 2017 年，床位增加率基层医疗卫生机构大于医院

【答案】C。解析：

A 项：定位图形材料，2013~2017 年全国医疗卫生机构床位数增加幅度分别为 8%、6.8%、6.3%、5.6%、7.1%，并非持续下降，错误，排除。

B 项：定位文字材料，2017 年末，全国医疗卫生机构床位 794.0 万张，其中：医院 612.0 万张，基层医疗卫生机构 152.9 万张。医院中，公立医院床位占 75.7%，民营医院床位占 24.3%。由 75.7%+24.3%=100%，可知医院包括公立医院和民营医院两部分。因此，公立医院、民营医院和基层医疗卫生机构三部分的床位数=医院床位数+层医疗卫生机构=612+152.9=764.9 万张，而不是 794 万张。错误，排除。

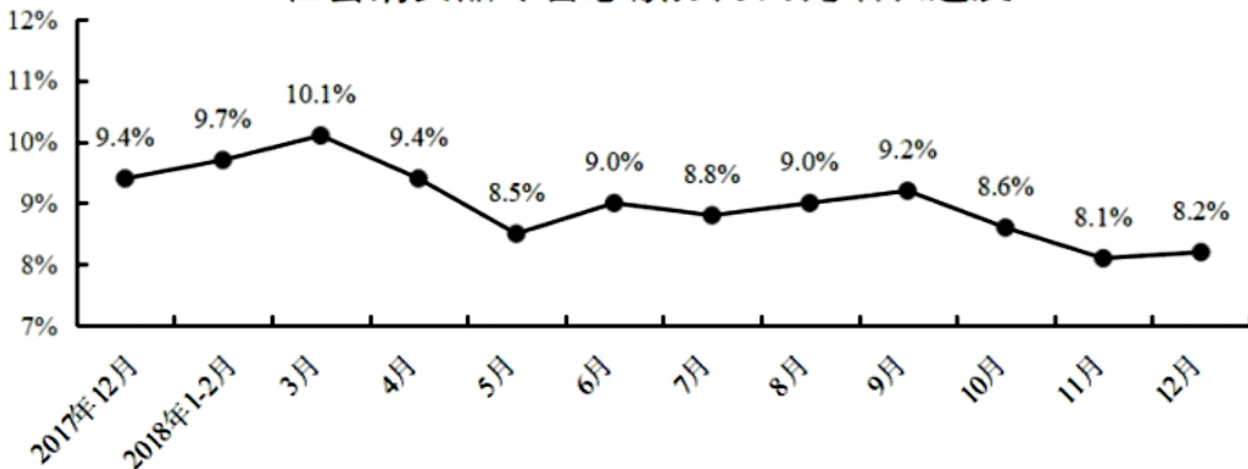
C 项：定位图形材料，2013~2017 年全国医疗卫生机构床位数分别为 618.2 万张、660.1 万张、701.5 万张、741 万张、794 万张。根据公式：增长量=现期量-基期量，可知：2014 年增长量=660.1-618.2=41.9 万张，2015 年增长量=701.5-660.1=41.4 万张，2016 年增长量=714-701.5=39.5 万张，2017 年增长量=794-741=53 万张。可知增加量最大的年份为 2017 年。正确，当选。

所以，正确选项是 C。

三、根据以下资料，回答下 111~115 题。

2018 年 1-12 月，社会消费品零售总额 380987 亿元，比上年增长 9.0%（扣除价格因素实际增长 6.9%，以下除特殊说明外均为名义增长）。

社会消费品零售总额分月同比增长速度



2018 年，限额以上零售业单位中的超市、百货店、专业店和专卖店零售额比上年分别增长 6.8%、3.2%、6.2%和 1.8%。

指标	12月		1-12月	
	绝对量 (亿元)	同比增 长(%)	绝对量(亿 元)	同比增 长(%)
社会消费品零售总额	35893	8.2	380987	9.0
其中：限额以上单位消费品零售额	15084	2.4	145311	5.7
其中：实物商品网上零售额			70198	25.4
按经营地分				
城镇	30329	8.0	325637	8.8
乡村	5565	9.3	55350	10.1
按消费类型分				
餐饮收入	4422	9.0	42716	9.5
其中：限额以上单位餐饮收入	909	5.5	9236	6.4
商品零售	31472	8.0	3338271	8.9
其中：限额以上单位商品零售	14175	2.2	136075	5.7
粮油、食品类	1403	11.3	13776	10.2
饮料类	187	9.2	2040	9.0
烟酒类	394	8.4	3873	7.4
服装鞋帽、针纺织品类	1541	7.4	13707	8.0
化妆品类	247	1.9	2619	9.6
金银珠宝类	276	2.3	2758	7.4
日用品类	545	16.8	5392	13.7
家用电器和音像器材类	936	13.9	8863	8.9
中西药品类	574	10.6	5593	9.4
文化办公用品类	386	-4.0	3264	3.0
家具类	251	12.7	2250	10.1
通讯器材类	406	-0.9	4371	7.1
石油及制品类	1736	5.8	19541	13.3
汽车类	4268	-8.5	38948	-2.4
建筑及装潢材料类	280	8.6	2498	8.1

注：1. 此表格均为未扣除价格因素的名义增速；

2. 此表中部分数据因四舍五入的原因，存在总计与分项合计不等的情况。

111. 下列月份中，社会消费品零售总额分月同比名义增长速度最快的是：

- A. 2017年12月
- B. 2018年5月
- C. 2018年7月
- D. 2018年9月

【答案】A. 解析：

定位折线图：2017年12月、2018年5月、7月、9月的分月同比名义增长速度分别为9.4%、8.5%、8.8%、9.2%，则增长速度最快的是9.4%，即2017年12月。

所以，正确选项是A。

112. 按 2017 年价格计算 2018 年社会消费品零售总额约为:

- A. 349529 亿元
- B. 356396 亿元
- C. 373647 亿元
- D. 409223 亿元

【答案】C。解析:

定位文字材料第一段: 2018 年 1~12 月, 社会消费品零售总额 380987 亿元, 名义增长率为 9.0%, 扣除价格因素实际增长 6.9%。

“按 2017 年价格计算”, 即扣除 2018 年价格上涨因素造成的增长, 也就是按 2017 年的实际增长率来计算。

2017 年社会消费品零售总额为 $380987 \div (1+9.0\%)$ 。

按 2017 年的实际增长率来计算, 2018 年社会消费品零售总额为:

$(380987 \div (1+9.0\%)) \times (1+6.9\%) \approx 350000 \times 1.07 \approx 374500$ 亿元。与 C 项最接近。

所以, 正确选项是 C。

113. 2017 年 12 月, 乡村消费品零售额占社会消费品零售总额的比重约是:

- A. 13.4%
- B. 15.3%
- C. 15.5%
- D. 17.8%

【答案】B。解析:

定位表格可得: 2018 年 12 月乡村消费品零售额为 5565 亿元, 增长率为 9.3%, 社会消费品零售总额为 35893 亿元, 增长率为 8.2%。

根据公式, 基期比重 = $(A \div B) \times ((1+a) \div (1+b))$

则 2017 年 12 月乡村消费品零售额占社会消费品零售总额的比重

= $(5565 \div 35893) \times ((1+8.2\%) \div (1+9.3\%))$

= 15.3%

所以, 正确选项是 B。

114. 2017 年 12 月, 商品零售额中限额以上单位商品零售所占比重约是:

- A. 44.4%
- B. 47.6%
- C. 50.1%
- D. 53.2%

【答案】B。解析:

定位表格材料: 2018 年 12 月, 商品零售额为 31472 亿元, 同比增长 8.0%; 限额以上单位商品零售额为 14175, 同比增长 2.2%。

根据公式, 基期比重 = $(A \div B) \times ((1+a) \div (1+b))$

商品零售额中限额以上单位商品零售所占比重

= $(14175 \div 31472) \times ((1+8\%) \div (1+2.2\%))$

$\approx 48\%$

与 B 项最接近。

所以, 正确选项是 B。

115. 根据所给资料, 下列说法错误的是:

- A. 2018 年餐饮收入中, 限额以上单位餐饮收入所占比例不足一半
- B. 2018 年限额以上零售业单位中专业店的零售额增长幅度高于百货店
- C. 2018 年 12 月份, 限额以上单位商品零售中的文化办公用品类零售额同比减少
- D. 2018 年全国实物商品网上零售额同比增长速度高出社会消费品零售总额同比增长速度的两倍多

【答案】D。解析:

A 项, 定位表格材料: 2018 年 1~12 月餐饮收入为 42716 亿元, 限额以上单位餐饮收入为 9236 亿元。则 2018 年餐饮收入中, 限额以上单位餐饮收入所占比例=9236÷42716≈18%。的确所占比例不到一半。正确, 排除。

B 项, 定位文字材料第二段: 2018 年限额以上零售业单位中的百货店和专业店的零售额的增长幅度分别为 3.2%和 6.2%。则专业店的零售额增长幅度高于百货店。正确, 排除。

C 项, 定位表格材料: 2018 年 12 月份限额以上单位商品零售中的文化办公用品类零售额同比增长-4.0%。因此文化办公用品类零售额同比减少, 正确, 排除。

D 项, 定位表格材料: 2018 年全国社会消费品零售总额和实物商品网上零售额的同比增长速度分别为 9%和 25.4%。则全国实物商品网上零售额同比增长速度是社会消费品零售总额同比增长速度的 25.4%÷9%≈2.8 倍, 高出 2.8-1=1.8 倍。不到两倍, 错误, 当选。

所以, 正确选项是 D。

四、根据以下资料, 回答下 116~120 题。

2011-2015年我国人口统计数据

指标		2011年	2012年	2013年	2014年	2015年
年末总人口(万人)		134735	135404	136072	136782	137462
人口出生率(‰)		11.93	12.10	12.08	12.37	12.07
人口死亡率(‰)		7.14	7.15	7.16	7.16	7.11
0-14岁人口	绝对量(万人)	22231	22342	22316	22569	22715
	增长率(%)	-0.13	0.50	-0.12	1.13	0.65
15-64岁人口	绝对量(万人)	100243	100334	100557	100398	100361
	增长率(%)	0.35	0.09	0.22	-0.16	-0.04
65岁及以上人口	绝对量(万人)	12261	12728	13199	13815	14386
	增长率(%)	2.74	3.81	3.70	4.67	4.13

116. 2012~2015 年我国人口增长率最高的年份是哪一年?

- A. 2012
- B. 2013
- C. 2014
- D. 2015

【答案】C。解析:

根据人口增长率=人口出生率-人口死亡率, 定位表格第三行和第四行 2011~2015 年我国每年的人口出生率和死亡率, 可得:

2012 年人口增长率=12.10%-7.15%=4.95%

2013 年人口增长率=12.08%-7.16%=4.92%

2014 年人口增长率=12.37%-7.16%=5.21%

2015 年人口增长率=12.07%-7.11%=4.96%

很明显, 2014 年人口增长率最高。

所以，正确选项是 C。

117. 2012~2015 年，我国 65 岁及以上人口年均增长量大约是多少万人？

- A. 414
- B. 425
- C. 531
- D. 553

【答案】D。解析：

定位表格：2012、2015 年我国 65 岁及以上人口分别为 12728 万人、14386 万人。

根据年均增长量的公式：年均增长量=（现期-基期）÷N=（14386-12728）÷3=552.7 万人。

与 D 项数据最接近。

所以，正确选项是 D。

118. 社会总抚养比可以衡量社会人均劳动年龄人口的抚养负担情况，是测度一个国家人口红利的重要指标之一。若社会总抚养比=（0-14 岁人口数+65 岁及以上人口数）/15-64 岁劳动年龄人口数，那么按照 2015 年各年龄段人口绝对量和增长率计算，2017 年年底我国社会总抚养比是多少？

- A. 36.1%
- B. 37.0%
- C. 37.7%
- D. 38.5%

【答案】D。解析：

定位表格最后一列：2015 年 0~14 岁人口数为 22715 万人，增长率为 0.65%；2015 年 15~64 岁人口数为 100361 万人，增长率为-0.04%；2015 年 65 岁及以上人口数为 14386 万人，增长率为 4.13%。

2017 年 0~14 岁人口数=22715×（1+0.65%）²≈23000 万人。

2017 年 15~64 岁人口数=100361×（1-0.04%）²≈100280 万人。

2017 年 65 岁及以上人口数=14386×（1+4.13%）²≈156000 万人。

根据社会总抚养比=（0-14 岁人口数+65 岁及以上人口数）/15-64 岁劳动年龄人口数

则 2017 年年底我国社会总抚养比=（23000+15600）÷100280≈38.5%。

所以，正确选项是 D。

119. 下列哪一幅图能反映出 2012~2015 年 65 岁及以上人口中净增人口变化情况？



【答案】A。解析：

定位表格，2012~2015 年的增长量分别为 12728-12261=467 万人、13199-12728=471 万人、13815-13199=616 万人、14386-13815=571 万人。

根据计算结果可判定选项 A 趋势图能反映出 2012~2015 年 65 岁及以上人口中净增人口变化情况。

所以，正确选项是 A。

120. 根据所给资料信息可以推断出：

- A. 由于我国每年都有大量新生儿出生，所以 0~14 岁人口一直保持持续增长状态
- B. 2011~2015 年我国 65 岁及以上人口占总人口比重持续增加
- C. 2011~2015 年我国总人口增长量均不超过 700 万人
- D. 按 2015 年人口净增长量计算，2018 年年底我国人口将超过 14 亿人

【答案】B。解析：

A 项，定位表格数据：2011~2015 年，0~14 岁人口分别：22231 万人、22342 万人、22316 万人、22569 万人、22715 万人。可见 2013 年人口数小于 2012 年，并非一直保持持续增长状态，错误，排除。

B 项，根据公式：比重=部分÷整体，定位表格数据：2011~2015 年 65 岁及以上人口占总人口比重分别为 $12261 \div 134735 \approx 9.1\%$ 、 $12728 \div 135404 \approx 9.4\%$ 、 $13199 \div 136072 \approx 9.7\%$ 、 $13815 \div 136782 \approx 10.01\%$ 、 $14836 \div 137462 \approx 10.5\%$ 。可见我国 65 岁及以上人口占总人口比重持续增加。正确，当选。

C 项，定位表格数据：2014 年我国总人口增长量=136782-136072=710>700 万人。错误，排除。

D 项，定位表格数据：2015 年人口净增长量=137462-136782=680 万人。按照 2015 年人口净增量计算，2018 年年底我国人口=137462+680×3=139602，不到 14 亿人。错误，排除。

所以，正确选项是 B。

全部测验到此结束！

请扫描QQ二维码，备注“公务员考生”加QQ
好友，获取曹长远老师精解历年公务员考试申论、
行测、面试真题完整解析资料。

精品资料，尽在掌握！

