

2019年3月23日江苏省公务员考试

《行政职业能力测验》真题（C）答案解析

说明

一、此项测验分为五个部分，共135题，总时限120分钟，满分100分。各部分不分别计时，但都给出了参考时限，供你参考以分配时间。

二、请按照要求在答题卡上填写好自己的姓名，涂写好准考证号。

三、必须在答题卡上答题；在题本上答题，一律无效。

严禁折叠答题卡。

第一部分 常识判断

请根据题目要求，从四个选项中选出一项最恰当的答案。

1. 党的十八大以来，党中央团结带领全党全国各族人民，深刻回答了重大时代课题，形成了习近平新时代中国特色社会主义思想。关于新时代习近平新时代中国特色社会主义思想，下列表述正确的是：

- ①根本立场是以人民为中心，坚持人民主体地位
- ②核心要义是坚持和发展中国特色社会主义
- ③精髓是为人民谋幸福、为民族谋复兴、为世界做贡献
- ④理论特色是体现了理论与实际相结合、战略和战术相一致

- A. ①②③
- B. ①③④
- C. ②③④
- D. ①②③④

【答案】D。解析：

①正确，习近平新时代中国特色社会主义思想始终强调“以人民为中心”的根本立场。坚持以人民为中心的发展思想，是习近平新时代中国特色社会主义思想的核心价值取向，是对马克思主义人民观的继承和发展，与中国共产党的初心一脉相承。

②正确，坚持和发展中国特色社会主义，是改革开放以来我们党全部理论和实践的鲜明主题，是习近平新时代中国特色社会主义思想的核心要义。

③正确，习近平新时代中国特色社会主义思想的精髓是为人民谋幸福、为民族谋复兴、为世界作贡献，集中反映了当代中国共产党人的人民立场、民族报负、世界责任。

④正确，《习近平新时代中国特色社会主义思想三十讲》指出：“八个明确”、“十四个坚持”有机融合、有机统一，凝结着我们党坚持和发展中国特色社会主义的经验总结，凝结着以习近平同志为核心的党中央对中国特色社会主义规律认识的深化、拓展、升华，体现了理论与实际相结合、战略与战术相一致、认识论和方法论相统一的理论特色。

所以，正确选项是D。

2. 改革开放40多年来，中国人民在富起来、强起来的征程上迈出了决定性的步伐，一些经济指标已处于世界前列。下列指标中我国处于世界首位的是：

- A. 货物贸易额
- B. 商品消费额
- C. 外资流入额
- D. 黄金储备量

【答案】A。解析：

2018年12月18日，庆祝改革开放40周年大会在人民大会堂举行。习近平出席大会并讲话指出：“现在，我国是世界第二大经济体、制造业第一大国、货物贸易第一大国、商品消费第二大国、外资流入第二大国，我国外汇储备连续多年位居世界第一，中国人民在富起来、强起来的征程上迈出了决定性的步伐！”

所以，正确选项是A。

3. 今年是中华人民共和国成立70周年。下列对中华人民共和国成立意义的表述，正确的是：

- ①标志着新民主主义社会的结束
- ②基本上完成了民族独立和人民解放的任务
- ③为实现中华民族伟大复兴开辟了新纪元
- ④为中国的进步和发展创造了最重要的前提

- A. ①②③
- B. ①③④
- C. ②③④
- D. ①②③④

【答案】C。解析：

①错误，1949年10月新中国成立，标志着我国进入到新民主主义社会。到1956年社会主义改造基本完成，标志着新民主主义社会结束。

②③④表述正确。

所以，正确选项是C。

4. 1919年爆发的五四运动，是中国近代史上一个划时代的事件。下列关于五四运动的表述，正确的是

- A. 直接导火线是第一次世界大战的爆发
- B. 具备了旧民主主义革命的一些基本特点
- C. 青年学生在五四运动中发挥了决定性的作用
- D. 为中国共产党成立作了思想和干部上的准备

【答案】D。解析：

A项错误。五四运动的直接导火线是“巴黎和会”上的外交失败。1919年召开的巴黎和会将战前德国在山东的特权转交给日本，严重损害了中国的利益，消息传到国内，引发了五四运动。

B项错误。五四运动是中国新民主主义革命的开端，在此之前的近代以来的资产阶级民主革命为中国的旧民主主义革命。新民主主义革命是无产阶级领导的、人民大众的、反对帝国主义、封建主义、官僚资本主义的革命。而旧民主主义革命是资产阶级领导的，以建立资产阶级共和国为目的的资产阶级民主革命。因此，五四运动不具有旧民主主义革命的特点。

C项错误。工人阶级在五四运动中发挥了决定性的作用，青年学生发挥了先锋作用。

D项正确。五四运动传播了马克思主义，为中国共产党的成立作了思想和干部上的准备。

所以，正确选项是D。

5. 今年是我国全面建成小康社会，实现第一个百年奋斗目标的关键之年，下列对于2020年全面建成小康社会目标的理解，不正确的是：

- A. 主要污染物的排放总量大幅度减少
- B. 现行标准下农村贫困人口实现脱贫
- C. 人们的生活水平和生活质量普遍提高
- D. 科技实力跃升，跻身创新型国家前列

【答案】D。解析：

《国家创新驱动发展战略纲要》中提出，我国建设创新国家的三步战略目标是：到 2020 年进入创新型国家行列，到 2030 年跻身创新型国家前列，到 2050 年建成世界科技创新强国。

D 项不正确，将 2030 年的目标理解为为 2020 年的目标。

所以，正确选项是 D。

6. 王某向县规划部门申请旧房改建，获得批准。张某认为王某的改建严重影响了其通行和采光，遂以阻挡消防通道为由向县消防部门举报。消防部门调查后，责令王某停止施工，并限期拆除已建部分，下列关于本案的说法，不正确的是：

- A. 规划部门有权要求消防部门撤销处罚决定
- B. 张某有权向规划部门申请撤销改建许可
- C. 消防部门可以请求县政府撤销改建许可
- D. 改建许可被撤销前应中止处罚决定的执行

【答案】A。解析：

A 项说法不正确。规划部门无权要求消防部门撤销处罚决定。

所以，正确选项是 A。

7. 某物业服务公司登记了业主苏某的电话号码。下列属于物业公司非法使用苏某电话号码的情形是：

- A. 苏某的房屋漏水，物业公司将苏某的电话号码告知楼下邻居杨某
- B. 苏某的房屋需要装修，物业公司将苏某的电话告知某装修公司
- C. 苏某的煤气管道未经检测，物业公司将苏某的电话号码告知市燃气公司
- D. 苏某的汽车阻挡了冯某开车出行，物业公司将苏某的电话告知冯某

【答案】B。解析：

根据《民法总则》第 111 条规定，自然人的个人信息受法律保护。任何组织和个人需要获取他人个人信息的，应当依法取得并确保信息安全，不得非法收集、使用、加工、传输他人个人信息，不得非法买卖、提供或者公开他人个人信息。

B 项，物业公司将苏某的电话告知某装修公司，属于物业公司非法使用苏某电话号码的情形。

所以，正确选项是 B。

8. 村民刘某欲将 6 亩承包地以每亩每年 900 元的价格流转，外地种田大户马某，本村村民孙某都有意流转刘某的承包地。

下列关于该承包地流转的说法，正确的是：

- A. 该承包地的流转收益全部归刘某所有
- B. 该承包地的流转期限可超过承包期限的剩余期限
- C. 马某是种田大户有技术优势，对承包地的流转有优先权
- D. 刘某流转承包地后，与村农民集体的承包关系自动解除

【答案】A。解析：

A 项说法正确。《农村土地承包经营权流转管理办法》第 7 条规定，农村土地承包经营权流转收益归承包方所有，任何组织和个人不得侵占、截留、扣缴。

所以，正确选项是 A。

9. 楚汉相争在我国历史文化中留下了深深的印记，下列表述不正确的是：

- A. 象棋中的“楚河汉界”源自于这段历史

- B. 成语“破釜沉舟”源于楚汉相争中的一场战役
- C. 琵琶曲《十面埋伏》反映了楚汉垓下决战的情形
- D. 诗句“生当作人杰，死亦为鬼雄”以此为题材

【答案】B。解析：

B 项错误。“破釜沉舟”来源于项羽一战成名的巨鹿之战，公元前 207 年，项羽的起义军与秦将章邯率领的秦军主力部队在巨鹿（今河北邢台市）展开大战，项羽不畏强敌，引兵渡漳水，渡河后，项羽命令全军：“皆沉船，破釜甑，烧庐舍，持三日粮，以示士卒必死，无一还心。”最终，项羽大获全胜。巨鹿一战，是项羽和秦军的一场战役，不是楚汉相争中的战役。

所以，正确选项是 B。

10. 对下列诗句描写活动解释，正确的是：

- A. “清风如可托，终共白云飞”描写的是射箭
- B. “平明寻白羽，没在石棱中”描写的是捉迷藏
- C. “嘈嘈切切错杂弹，大珠小珠落玉盘”描写的是弹琵琶
- D. “三五步行遍天下，六七人百万雄兵”描写的是下象棋

【答案】C。解析：

C 项正确，“嘈嘈切切错杂弹，大珠小珠落玉盘”，出自唐朝诗人白居易的《琵琶行》，描写的是一名歌女弹琵琶的情景。

所以，正确选项是 C。

11. 对下列成语解释不正确的是：

- A. 风树之悲——因父母去世而悲伤
- B. 金兰之交——亲如兄弟的友情
- C. 期颐之年——八九十岁的年龄
- D. 弄璋之喜——生了男孩的喜庆

【答案】C。解析：

A 项错误。“清风如可托，终共白云飞”出自北宋诗人寇准的《纸鸢》。诗句描写的是风筝，而不是射箭。

B 项错误。“平明寻白羽，没在石棱中”出自唐代诗人卢纶的《塞下曲》。诗句描写的是射箭技艺高超，而不是捉迷藏。

C 项正确。“嘈嘈切切错杂弹，大珠小珠落玉盘”出自唐代诗人白居易的《琵琶行》。诗句描写了琵琶声错落有致，像珍珠掉落玉盘一样清脆动听。

D 项错误。“三五步行遍天下，六七人百万雄兵”描写了京剧表演中成队的随从或兵卒在台上表现大场景的演出特点，描写的是戏台，而不是下象棋。

所以，正确选项是 C。

12. 下列成语与经济学用语对应不恰当的是：

- A. 凿壁偷光——外部性
- B. 郑人买履——机会成本
- C. 扬长避短——比较优势
- D. 狡兔三窟——投资组合

【答案】B。解析：

A 项正确。外部性，指一个人或一群人的行动和决策使另一个人或一群人受损或受益的情况。其中，

正外部性是某个经济行为使他人或社会受益，而受益者无须花费代价，负外部性是某个经济行为使他人或社会受损，而造成负外部性的人却没有为此承担成本。“凿壁偷光”讲的是西汉匡衡的故事。匡衡勤奋好学，但家中没有蜡烛，邻家有蜡烛，可光亮照不到他家，于是匡衡就在墙壁上凿了洞引来邻家的光亮，照在书上读书。“凿壁偷光”体现的是邻居家的光亮使匡衡受益，符合正外部性的原理。

B项错误。机会成本是指当把一定的经济资源用于生产某种产品时，放弃的另一些产品生产上最大的收益。“郑人买履”说的是郑人因过于相信“尺度”，造成买不到鞋子的故事，揭示了郑人拘泥教条，依赖数据的错误习惯，讽刺了那些墨守成规的教条主义者，说明因循守旧，不思变通，终将一事无成。因此“郑人买履”与机会成本的对应不恰当。

C项正确。比较优势是指一个生产者以低于另一个生产者的成本生产一种物品的行为。比较优势广泛应用在各种竞争合作的比较当中，指把有限的时间和精力都用来做自己最擅长的事。扬长避短的意思是发扬长处，回避短处，体现了比较优势的原理。

D项正确。投资组合是由投资人或金融机构所持有的股票、债券、金融衍生产品等组成的集合，目的是分散风险。“狡兔三窟”指狡猾的兔子准备好几个藏身的窝，兔子准备好几个窝也是为了分散风险，与投资组合的理念是一样的。

所以，正确选项是B。

13. 下列词语隐含化学变化的是：

- A. 春风化雨
- B. 腐草为萤
- C. 积沙成塔
- D. 滴水成冰

【答案】B。解析：

化学变化，是指有新物质产生的变化。

B项的“腐草为萤”隐含化学变化。夏季，萤火虫在水边的草根上产卵，次年枯草腐烂，虫蛹化为萤火虫。因此，腐草在腐烂过程中有新物质萤火虫的产生，属于化学变化。

所以，正确选项是B。

14. 下列关于水资源的说法，不正确的是：

- A. 地球上水资源的主体是咸水
- B. 海洋水与陆地水在不断循环
- C. 地球上水体大多以液态存在
- D. 地球上淡水主体是江河湖水

【答案】D。解析：

D项错误。冰川水是最丰富的淡水资源，蕴藏了地球上所有淡水资源的97.8%。

所以，正确选项是D。

15. 下列关于土壤污染及其治理的说法，不正确的是：

- A. 土壤污染会影响江河湖海的水质
- B. 有些污染物可能永久残留在土壤中
- C. 一些植物可有效降低土壤重金属污染
- D. 治理土壤污染的主要方式是灌溉清洗

【答案】D。解析：

土壤治理的方式主要有：物理迁移、生物迁移转化以及化学转化。常见的方式主要有：对土壤污染

采用排土、客土改良或使用化学改良剂；对有机污染物如三氯乙醛可采用翻耕晒垡、灌溉清洗等措施加以治理；也可以通过增施有机肥料改变土壤的有机质和养分含量。

因此，D项说法错误。灌溉清洗只是治理土壤污染的手段之一，而不是主要方式。所以，正确选项是D。

第二部分 言语理解与表达

一、片段阅读。每道题包含一段文字，要求你从四个选项选出最恰当的一项，你的选择必须与题干要求相符合。

16. 城镇化是一个长期的历史过程。在这个过程中，既有人口从农村向城镇迁移的正向城镇化，也不可避免地会出现农民工返乡等逆城镇化现象。通过加快户籍制度改革，促进农业转移人口市民化，可以保证城镇化持续推进；同时，实施乡村振兴战略，不仅可以为农村人才和劳动力创造更广阔的用武之地，也使城镇化的推进更加行稳致远。

下列说法与文意不符的是：

- A. 推进城镇化不等于只允许人口向城镇迁移
- B. 城镇化过程中户籍制度改革是关键的一步
- C. 实施乡村振兴战略与城镇化进程并不矛盾
- D. 推进城镇化进程中应倡导农民工返乡创业

【答案】B。解析：

细节对比。

A项，文段“既有人口从农村向城镇迁移的正向城镇化，也不可避免地会出现农民工返乡等逆城镇化现象”中的“既……也……”表示并列，因此“人口向城镇迁移”只是城镇化的一种情况。A项“推进城镇化不等于只允许人口向城镇迁移”表述正确，排除。

B项，“倡导农民工返乡创业”文段未提及，无中生有，当选。

C项，由文段“实施乡村振兴战略……也使城镇化的推进更加行稳致远”可知，二者不矛盾，表述正确，排除。

D项，由文段“通过加快户籍制度改革……促进……可以保证……”可知，“户籍制度改革是关键的一步”表述正确，排除。

所以，正确选项是B。

17. 按照溶解性能来分，农药可以分为水溶性和脂溶性两种。传统用水浸泡的方法，只能去除果蔬表面的水溶性农药，却不能除去其主要残留物质——脂溶性农药。而且，在浸泡过程中，水溶性农药会溶解在水中并形成具有一定浓度的水溶液，若浸泡时间过久，则很有可能导致水中的农药被果蔬重新吸附，还会造成蔬菜中的许多水溶性营养素如维生素C以及钙、镁、铁、锌等溶解在水中，从而造成其营养成分损失。

下列对文意的概括最恰当的是：

- A. 水浸泡法清洗果蔬的弊大于利
- B. 水浸泡法清洗果蔬如何控制时长
- C. 脂溶性农药清洗难度大于水溶性农药
- D. 水浸泡法清洗果蔬具有局限性

【答案】D。解析：

概括主旨。

转折结构，强调转折后面的内容。

文段开篇提到农药按溶解性分为水溶性和脂溶性两类，接着引出传统用水浸泡的清洗方法，随后通过转折词“却”强调这种方法不能去除主要残留物质脂溶性农药，可知水浸泡的方法效果不好。之后又用“而且”进一步强调，在浸泡过程中可能导致农药重新被果蔬吸附，还会造成营养成分损失。因此文段重点强调水浸泡法清洗果蔬效果不好，有局限性，对应D项，当选。

A项“弊大于利”，文段并没有进行利弊的对比，排除；

B项“如何控制时长”文段没有体现，表述无中生有，排除；

C项“清洗难度”并非文段强调的重点，文段围绕水浸泡方法的效果展开论述，排除。

所以，正确选项是D。

18. 在知情同意方面，由于绝大部分没有专业知识的受试者对基因治疗的原理无法准确理解，因而很难真正完全知晓其所承担的风险。另一个风险是由于很多基因治疗所针的是严重的遗传疾病，因而通常需要在病人婴儿或儿童时期治疗，但此时是否做基因治疗的知情同意和选择将取决于其父母或监护人。父母或监护人是否有权为病人选择可能改变其体内部分细胞的基因目前也没有明确的共识。这段文字意在强调：

A. 知情同意在基因治疗中的实现难度

B. 基因治疗中医患关系的特殊性

C. 基因治疗中医疗风险的特殊性

D. 知情同意在基因治疗中的观念分歧

【答案】A。解析：

推断文意。

并列结构。理解并列结构不能忽略并列的每一个内容。

文段首句提出在知情同意方面，绝大部分没有专业知识的受试者对基因治疗的原理无法准确理解，因而很难真正完全知晓其所承担的风险。第二句和第三句介绍知情同意在基因治疗中的另一个风险，即是否做基因治疗的知情同意和选择将取决于其父母或监护人，而父母或监护人是否有权为病人选择可能改变其体内部分细胞的基因目前也没有明确的共识。

整个文段为并列结构，两层内容主要介绍了知情同意在基因治疗中的风险。意在强调A项：知情同意在基因治疗中的实现难度。

所以，正确选项是A。

19. ①农业生产中农用机械、灌溉设施和相关技术上的投入，有很大一部分是所谓的固定成本，它们不随经营规模增加而变化。

②农业生产与工业一样，存在“规模经济效应”，理解这一现象需要用到经济学的固定成本和可变成本的概念。

③因此，每单位土地上的平均成本会随规模增加而减少。

④而事实上，农场规模成为限制这些新技术、新知识广泛采用的一大影响因素。

⑤当前，关于控制农业面源污染的主流做法是研发技术、培训农民、知识“下乡”等知识传递路线。

⑥当农业经营规模较小时，农民在计算相关的成本和收益后，会发现投入固定成本较大的项目是不划算的。

将以上6个句子重新排序，语序正确的是：

A. ⑤—④—②—③—①—⑥

B. ①—⑥—③—②—④—⑤

C. ⑥—②—①—③—⑤—④

D. ②—①—③—⑥—⑤—④

【答案】C。解析：

观察选项，对比首句。⑤“当前”论述背景，适合做首句，保留。①介绍“固定成本”的具体内容，⑥“投入固定成本”，②提出“固定成本和可变成本”的概念，故①⑥应在②之后，不适合做首句，排除B、D两项。

观察题干，③出现结论词“因此”，从该句入手。结合A、C项，需要判断③之前接②还是①。

③总结了每单位土地上的平均成本和规模的关系，②提及了规模经济和两个成本概念，①论述了固定成本和规模的关系，①③话题一致，衔接恰当，必须捆绑。

所以，正确选项是C。

20. 沉浸在自然环境的多样性生物中，有助于维持肌肤不可或缺的健康微生物群系和肠道菌群。研究显示，如果儿童在很小的时候没有用足够的时间去亲近大自然，那么随着年龄的增长他们就不会形成适当的免疫功能来保护自我。沐浴在大自然中，可以摄取那些能产生大量健康微生物群系的东西。由于一些城市缺少公园，树木稀少，这种大自然赋予的免疫力不足，_____。

填入画横线处最恰当的是：

- A. 微生物群系和肠道菌群减少了
- B. 成年人的健康水平下降了
- C. 大自然中的生物多样性降低了
- D. 孩子们的免疫功能退化了

【答案】B。解析：

横线出现在文段结尾，必须注意与前文的关系。

前文通过“研究显示”引出结论：儿童在很小的时候没有用足够的时间去亲近大自然，随着年龄的增长他们就不会形成适当的免疫功能来保护自我。之后的内容是对这一研究结论进行解释说明。横线前指出，大自然赋予的免疫力不足，因此孩子们的免疫功能将受到影响，对应B项当选。

A项“微生物群系和肠道菌群”、C项“大自然中的生物多样性”均对应首句的内容，并非研究显示的结论。研究结论重点强调的是亲近大自然与儿童免疫力的关系，均排除；

D项“成年人的健康水平”无中生有，前文强调的是“儿童”这一话题，排除。

所以，正确选项是B。

21. 在传统文化的早期阶段，文化呈现出一种综合的形态，这种形态成为孕育中国传统医学和古典文学的共同摇篮。在这两个学科尚未独立分离出来的时候，中国传统医学与古典文学之间存在着明显的杂糅现象。无论是诗歌、民歌、民谣，还是市井小调，都是古代医学重要的传播载体。另一方面，很多医学古籍本身就是有着丰富文学价值的作品。在阅读这些古典医学著作时，往往能够体验到文学中的那份必然与深邃。

下列说法与文意不符的是：

- A. 医学和文学在传统文化早期阶段并非泾渭分明
- B. 阅读经典医学古籍可能获得审美体验
- C. 研读古典文学作品是研究传统医学的基础
- D. 中国传统医学与古典文学植根于共同的文化土壤

【答案】D。解析：

细节对比。

A项，根据文段“在这两个学科尚未独立分离出来的时候，中国传统医学与古典文学之间存在着明显的杂糅现象”可知，文学与医学的界限在传统文化早期并不明显，表述正确，排除；

B项，根据文段“很多医学古籍本身就是有着丰富文学价值的作品。在阅读这些古典医学著作时，

往往能够体验到文学中的那份毕然而深邃”可知，阅读医学古籍可体会到文学所展现的美，表述正确，排除；

C项，根据文段“在传统文化的早期阶段，文化呈现出一种综合的形态，这种形态成为孕育中国传统医学和古典文学的共同摇篮”可知，医学与文学均是基于早期的传统文化，表述正确，排除；

D项，文段并未陈述古典文学作品是研究传统医学的基础，无中生有，与题干文意不符，当选。所以，正确选项是D。

22. 当前，人们往往简单地将“积极老龄化”理解为“老有所为”，但其真正含义远超过后者。通常，我国“老有所为”的主体主要是老干部、老专业科技人才、老知识分子等，但他们只是老年人中的一部分。“积极老龄化”是面向全体老年人群体的，不仅老干部、老知识分子要“积极老龄化”，普通老人也要“积极老龄化”。“老有所为”着重强调老年人“参与”的一面，“积极老龄化”还强调“健康”和“保障”以及三者之间有机统一和结合，参与社会仅是“积极老龄化”的一个方面。

这段文字意在阐明：

- A. “积极老龄化”比“老有所为”内涵更丰富
- B. “老有所为”和“积极老龄化”的主体不同
- C. “老有所为”比“积极老龄化”更重视参与
- D. “积极老龄化”概念长期被误读的根本原因

【答案】A。解析：

推断文意。

转折结构，强调转折后面的内容。

文段首先引出“积极老龄化”这一话题，接下来通过转折词“但”强调“积极老龄化”的含义远超“老有所为”，其含义更丰富。后文从两个概念的主体和内容两个方面进行解释说明。因此文段强调的是“积极老龄化”比“老有所为”内涵更丰富，对应A项当选。

B项“主体不同”、C项“重视参与”仅为解释说明中的一个方面，表述片面，且非重点，均排除。

D项对应首句转折之前的内容，非重点，且“根本原因”无中生有，排除。

所以，正确选项是A。

23. 读了大量的唐代诗人传记之后，发现中唐以前的诗人大多狂傲之士，自炫、自夸、自矜、自傲是一件稀松平常的事。杜甫应该是一个温厚谨重的人，但自夸起来一点也不含糊：“甫昔少年日，早充观国宾。读书破万卷，下笔如有神。赋料扬雄敌，诗看子建亲。”李白的“我本楚狂人，凤歌笑孔丘”“仰天大笑出门去，我辈岂是蓬蒿人”“安能摧眉折腰事权贵，使我不得开心颜”，大家耳熟能详。“天子呼来不上船，自称臣是酒中仙”，虽然出自杜甫笔下，却于李白的个性可谓合榫合卯，堪称知音。

根据文意，作者对李杜诗中表现出的狂傲之气：

- A. 并不意外
- B. 十分欣赏
- C. 略有微词
- D. 有褒有贬

【答案】A。解析：

推断文意。

文段开篇指出中唐以前诗人大多是狂傲之士，指出他们的自炫、自夸、自矜、自傲是稀松平常的这一观点，后面接着列举杜甫和李白的作品作为例子进行解释说明，论证前文的观点，故文段为观点+论据的证明结构，

首句“稀松平常”即代表作者的态度，说明作者并不意外，对应 A 项当选。

B 项“十分欣赏”无中生有，文中没有强调作者对他们夸奖称赞，排除；

C 项“略有微词”指有一点不满，与文意不符，排除；

D 项“有褒有贬”指有肯定也有否定，文中没有不满否定之意，排除。

所以，正确选项是 A。

24. 根据新的刑事证据规则，鉴定检材的真实性和同一性已经成为鉴定意见转化为定案根据的前提条件。这显然是我国刑事证据制度发生的重大变化。透过这一变化，我们可以发现司法改革的决策者们已经具有了一种新的理论认识：实物证据鉴真是司法鉴定程序启动的前提和基础；未经鉴真过程，任何专业人士对实物证据所作的“司法鉴定意见”都将是没有法律意义的；实物证据作为一种“送检材料”，在其真实性和同一性存在合理疑问的情况下，鉴定意见将不具有作为定案根据的资格。

这段文字中提取的关键词最恰当的是：

A. 刑事证据 实物证据鉴真定 案根据

B. 司法改革 司法鉴定意见 定案根据

C. 鉴定检材 刑事证据制度 司法改革

D. 证据制度 司法鉴定程序 送检材料

【答案】A。解析：

概括主旨

文段开篇引出新的刑事证据的话题，接着说明我国刑事证据制度的重大变化体现实物证据鉴真的重要性，即实物证据鉴真直接影响实物证据能否成为定案根据。因此文段就是强调“刑事证据制度的重大变化即实物证据鉴真直接影响实物证据能否成为定案根据”，关键词为：刑事证据、实物证据鉴真、定案根据，对应 A 项当选。

B 项、C 项“司法改革”对应“司法改革的决策者……”，仅为决策者身份的限定词，非文段核心话题，排除。

D 项“证据制度”表述不准确，文段围绕“刑事证据”相关制度规则展开论述，“司法鉴定程序”对应“是司法鉴定程序的启动的前提和基础”，而该句强调的核心话题是“实物证据鉴真”，排除。

所以，正确选项是 A。

25. 动物体型缩小和气候升温之间的联系不止出现在远古时期。随着全球变暖，现生的许多物种体型也在减小。大蟾蜍、蛇、乌龟、蝾螈、林鼠、粪蝇、北极地区的蝴蝶、多种北海鱼和一种绵羊——这些动物的体型都变得越来越小了。这种现象一度让科学家们感到困惑，但是，通过多组实验、野外观测和对化石的研究，答案似乎越来越明显。

下列说法与文意不符的是：

A. 小体型动物个体在环境变暖中具有生存优势

B. 科学家对动物体型变化与气候变暖的相关性早有关注

C. 气候升温导致动物体型缩小在现阶段仅限于理论构想

D. 远古时期已经出现气候升温引发动物体型变化

【答案】C。解析：

细节对比。

A 项，根据文段论述的全球变暖，很多物种体型在缩小，可知在气候变暖中，小体型物种个体具有生存优势，符合文意，排除。

B 项，由文段“这种现象一度让科学家们感到困惑”可知，科学家们早已开始关注这一现象，故选项表述正确，排除。

C项，文段论述“通过多组实验、野外观测和对化石的研究，答案似乎越来越明显”，故不仅仅是停留在理论构想阶段，已开始实践研究，选项表述有误，当选。

D项，由文段首句“动物体型缩小和气候升温之间的联系不止出现在远古时期”可知，远古时期已经出现这种现象，选项表述正确，排除。

所以，正确选项是C。

26. 生态文明首先是一种世界观，也就是如何看待人与自然和人与人之间的关系。实际上，人与自然的关系和人与人之间的关系是同一事物的相互映衬，同时，人与自然的关系也在一定程度上决定了人与人之间的关系。当人与自然关系紧张，如一定的自然资源和生态环境承载不了已有的人口数量时，就会产生人与人之间关系的对抗。

下列说法与文意不符的是：

- A. 人与自然的和谐相处事实上有利于协调人与人之间的关系
- B. 处理好人与人的关系比处理好人与自然之间的关系更为重要
- C. 正确的世界观可以引导我们处理好人与人及人与自然的关系
- D. 人与人的关系发生对抗可能和人与自然关系的紧张相关

【答案】B。解析：

细节对比。

B项不符。B项所谓“比……更为重要”涉及比较，而文段并未将人与人的关系、人与自然的关系进行对比。因此B项属于无中生有，错误。

所以，正确选项是B。

27. 语言的发展、维持或衰落从来不是一个纯粹的语言学问题，而是复杂的社会、政治和经济力量相互博弈的结果。当前，学界主要从社会学、政治学以及经济学等视角探讨方言保护问题，而有关方言的法律保护尤其是行政法保护的研究尚不多见。因此，建立和完善我国方言保护的行政法机制，协调普通话与方言的冲突，从而在语言的通用性、规范性与多样性之间寻求均衡保护，具有重要的理论与应用价值。

这段文字之后最有可能讨论的是：

- A. 方言保护具有的理论与实践价值
- B. 语言规范化和多样化平衡的方法
- C. 普通话与方言的冲突并非不可调和
- D. 如何通过行政立法对方言进行保护

【答案】D。解析：

本题为接语选择题，需在分析文段内容的基础上重点关注尾句。

文段开篇指出语言的发展是复杂力量博弈的结果，“当前”指出语言方面存在的问题，即“有关方言的行政法保护研究尚不多见”。尾句“因此”得出结论，说明建立和完善方言保护的行政法机制意义重大。

本着承上启下的原则，下文应该围绕“行政法”的建立和完善继续论述。D项与尾句话题一致，当选。

A、B、C三项均没有提及尾句的核心话题“行政法”，与文段无法衔接，排除。

所以，正确选项是D。

28. 以人均收入衡量的发展差距，本身隐含着—个资源禀赋结构上的差异，即发达地区具有相对丰富的资本要素，从而在资本密集型产业上具有比较优势；而相对不发达地区则具有劳动力丰富和生产成

本低的比较优势。东中西部地区之间存在的资源禀赋差异，无疑可以成为中西部地区经济发展赶超的机遇。

下列说法与文意不符的是：

- A. 不同地区资源禀赋的差异有利有弊
- B. 发达地区相对来说劳动力比较缺乏
- C. 中西部可以利用劳动力丰富的优势
- D. 资本密集型产业多集中在东部地区

【答案】A。解析：

细节对比。

A项与文意不符。文段中只提及了资源禀赋的“优势”，没有提及“弊端”，故选项与文段不符，当选。

B项，根据“相对不发达地区则具有劳动力丰富和生产成本低的比较优势”可知，“发达地区相对来说劳动力比较缺乏”符合文意，排除。

C项，根据“相对不发达地区则具有劳动力丰富和生产成本低的比较优势”以及“无疑可以成为中西部地区经济发展赶超的机遇”可知，中西部为经济相对不发达的地区，具有劳动力丰富和生产成本低的比较优势，符合文意，排除。

D项，根据“发达地区具有相对丰富的资本要素，从而在资本密集型产业上具有比较优势”以及“无疑可以成为中西部地区经济发展赶超的机遇”可知，东部为经济相对发达的地区，具有丰富的资本要素，符合文意，排除。

所以，正确选项是A。

29. 当前，乡村间或是城乡间的交流日益增加，因拆迁、移居等因素在新区域形成新的社区群体，乡村正面临“去熟人化”阶段。用一种共通的地域文化将其联系起来，是乡村治理的有效形式。从历史上看，以血缘或是某种被认可的文化组织起来的群体，具有很强的生命力和稳定性。在一定层面上，乡村社会关系、多村冲突的调适与乡村社会秩序的维系不仅仅靠法制体系，而且还依靠乡村礼俗、村社伦理、村规乡约等非正式制度。

这段文字主要强调：

- A. 乡村社会秩序的历史渊源与当下处境
- B. 当下乡村社会秩序发生变化的主要原因
- C. 新的乡村社会秩序维护需要探寻更有效的治理方法
- D. 多村治理实践中非正式制度往往比法律手段更有效

【答案】C。解析：

概括主旨。

问题对策结构，强调的是对策而不是问题。

文段开篇指出乡村因拆迁、移居等因素在新区域形成新的社区群体，正面临“去熟人化”的问题，最后提出对策：乡村社会关系等不仅要靠法制体系，还要靠村规乡约等非正式制度。因此文段重点强调乡村社会秩序维护需要探寻法律之外新的更有效的治理方法，对应C项当选。

A项对应首句背景引入的内容，并非文段重点，排除；

B项“主要原因”文中没有提到，属于无中生有，排除；

D项表述错误，文中没有将非正式制度与法律手段的有效性进行比较，排除。

所以，正确选项是C。

30. 国家审计独立性得到保障决定了审计法治的实现程度，决定了审计质量水平和审计结果的公正程度，

也决定了审计能否在国家治理活动中发挥其“免疫系统”的功能，进而决定审计反腐的使命能否顺利完成。

下列说法与画线部份表述的意义最为相似的是：

- A. 国家审计独立性得到充分保障与否决定了审计法治的实现可能性
- B. 国家充分保障审计独立性与否决定了审计法治的实现程度
- C. 国家审计独立性能否得到充分保障决定了审计法治的实现程度
- D. 国家能否充分保障审计独立性决定了审计法治的实现可能性

【答案】A。解析：

定位画横线句子“国家审计独立性得到充分保障决定了审计法治的实现程度”，根据句子可知，画线部分强调“审计独立性得到充分保障”是“审计法治的实现程度”的基础，“审计独立性”没有得到充分保障，就不可能实现“审计法治”，对应A项当选。

B项，表述错误，“与否”不能决定“实现程度”，“否”的情况下无法实现“审计法治”，排除；

C项，表述错误，“与否”不能决定“实现程度”，“否”的情况下无法实现“审计法治”，排除；

D项，主语错误，文段并没有表述“审计独立性”是国家保障的，排除。

所以，正确选项是A。

二、逻辑填空。从题后所给的四个选项中选出最符合文意的一项。

31. 古典诗歌热潮兴起不是_____的，其中体现于先贤诗人几千年的智慧与情感。结合新的时代条件传承和_____中华优秀传统文化，也必将有效提升我们的文化自信，为中华民族伟大复兴创造条件。依次填入画横线处最恰当的一项是：

- A. 理所当然 发持
- B. 必然 宣扬
- C. 自然而然 倡导
- D. 偶然 弘扬

【答案】D。解析：

第一空，根据“古典诗歌中体现了先贤诗人几千年的智慧与情感”可知，它的兴起是长期发展的结果，是一种必然的趋势。

D项“偶然”与“不是”搭配，表必然的意思，符合文意，当选。

A项“理所当然”指按道理应当这样，B项“必然”指客观事物联系和发展的合乎规律的、确定不移的趋势，与“不是”搭配明显与文意相悖，排除；

C项“自然而然”指非人力干预而自然如此，“非人力干预”文段未涉及，排除。

第二空，代入验证，“弘扬中华优秀传统文化”搭配恰当，符合文意，当选。

所以，正确选项是D。

32. 善良是洞穿黑暗的阳光，是心与心的亲和与信赖，是爱与爱的共振与_____。善良让世界充满仁爱，让岁月溢满温馨。更多的时候，善良是危难时毫不犹豫地向你伸出的一双帮扶的手，是在你_____时，向你坦然敞开的一扇门。

依次填入画横线处最恰当的一项是：

- A. 交融 走投无路
- B. 汇合 山穷水尽
- C. 集聚 日暮途穷
- D. 结晶 束手无策

【答案】A。解析：

第一空。根据“善良……是爱与爱的共振与_____”可知，文中要体现的意思是善良是两份“爱”之间的“共振”，也就是情感的互动与紧密联系。

A项“交融”指事物的交汇融合，符合文意。

B项“汇合”指水流会合，引申为聚集，会合；C项“集聚”指会合、聚会。这两个词仅体现聚在一起，不能体现情感互动，排除B项和C项。

D项“结晶”比喻珍贵的成果，强调的是最终结果，不体现互动与联系，排除D项。

所以，正确选项是A。

33. 青藏高原的特殊生物环境和生物资源，为我国科学家开展原创性的工作提供了_____的条件。我们需要建设一支年富力强、野外经验丰富、多民族_____的科研团队，寻找高端人才培养的学术援藏新模式，让西藏的生态学研究真正实现可持续发展。

依次填入画横线处最恰当的一项是：

A. 无可比拟 结合

B. 独一无二 组合

C. 绝无仅有 整合

D. 得天独厚 融合

【答案】D。解析：

第一空，根据“青藏高原的特殊生物环境和生物资源”可知，横线处表达青藏高原提供的条件是特殊的。

D项“得天独厚”指有特殊优越的条件，符合文段意思。

A项“无可比拟”指没有可以相比的；B项“独一无二”指没有相同的，没有可以相比的；C项“绝无仅有”指只有一个，再没有别的，都体现的是没有其他的可以比较，程度明显过重，与文段强调的比较特殊的条件不符，排除。

第二空，代入验证，多个民族合在一起的科研团队，D项“融合”指的是不同的事物合在一起，符合文意，当选。

所以，正确选项是D。

34. 在生物钟的作用下，蓝藻在日出之前即可提前动员光合作用系统，在阳光一出现的时候就可以_____能量，比那些纯粹依靠光线启动光合系统的生物领先一步。与之类似，日落之后，蓝藻的光合系统会遵循生物钟的指令而关闭，避免那些夜间无须调动的能量被_____浪费。

依次填入画横线处最恰当的一项是：

A. 提取 无故

B. 摄取 无谓

C. 吸取 过度

D. 汲取 超额

【答案】B。解析：

第一空，填入的词语与“能量”搭配。

A项“提取”指经过提炼而取得，蓝藻获得阳光的能量是直接获得，而非经过提炼，不符合语境，排除A项。

B项“摄取”指吸收，吸取；C项“吸取”指吸收，采取；D项“汲取”指吸取教训或吸收养分。均可与“能量”搭配。

第二空，根据“蓝藻的光合系统会遵循生物钟的指令而关闭”“避免那些夜间无须调动的能量……”可知，文中表达的意思是不能让无须调动的能量“白白浪费”，强调“一点儿都不要浪费”。

B项“无谓”指不具备意义或结果，毫无价值。填入此处可以体现出不能让能量白白被浪费之意。B项符合语境。当选。

C项“过度”指超过限度；D项“超额”指超出规定数额，均不符合语境，排除。
所以。正确选项是B。

35. 中国传统文化中的“和而不同”与共享观念，_____地成为“人类命运共同体”以及“民心相通”的价值观的注脚。中国向世界提出了“人类共同命运”的全球倡议，包含了对全球“普遍联结”与“价值关联”等发展特征的_____概括，是中国特色全球传播的生动表述。

依次填入画横线处最恰当的一项是：

- A. 恰逢其时 高度
- B. 无可替代 简洁
- C. 恰如其分 凝练
- D. 正当其时 有力

【答案】A。解析：

第一空，分析文意，该空表示中国“和而不同”与共享观念，是对“人类命运共同体”以及“民心相通”价值观的解释。

A项“恰逢其时”指恰恰遇到这个时候，D项“正当其时”指正是时候的意思，均符合文意，保留。

B项“无可替代”指没有什么能够取代、替换，程度过重，排除；

C项“恰如其分”指办事或说话十分恰当合适，与“观念”搭配不当，排除。

第二空，根据“‘人类命运共同体’包含了‘普遍联结’与‘价值关联’等发展特征”可知，它是对多种发展特征的非常简洁的概括。

A项“高度”搭配“概括”，可指言简意赅的意思，符合文意，当选。

D项“有力”指有力气、有力量，与文意无关，排除。

所以，正确选项是A。

36. 支付工具的多样化组合，提升了我国支付体系运行的质量和效率，满足了公众_____支付需求。从未来支付趋势看，现金支付与非现金支付工具相互_____、相互补充、共存共生的局面将长期存在。但是对我国这样一个地域广、人口多、发展很不平衡的大国来说，由于核心技术水平的限制，过度依赖非现金支付会大大增加支付体系的脆弱性。因此，必须长期_____现金作为国家法定支付方式的地位，切实保障广大人民群众使用现金的合法权益。

依次填入画横线处最恰当的一项是：

- A. 区别化 支持 确保
- B. 差异化 支撑 确立
- C. 个性化 支援 确认
- D. 多元化 支应 确证

【答案】B。解析：

第一空，根据“支付工具的多样化组合”可知，横线处表达满足公众不同的支付需求，选项均符合文意。

第二空，通过顿号与“相互补充”构成并列结构，横线处对应“补充”，表示现金支付与非现金支付长期共存，“相互支持”、“相互支撑”符合文意。

C项“支援”指用人力、物力、财力或其他实际行动去支持和援助，D项“支应”指敷衍、应付，均与文意不符，排除。

第三空，与“地位”搭配，B项“确立地位”搭配恰当，当选。

A项“确保”指切实保持或保证，与“地位”搭配不当，用在此处应表述为“必须长期确保先进作为国家法定支付方式中的地位不动摇”，排除。

所以，正确选项是B。

37. 家庭农场的出现、成长、壮大，一方面顺应了新型城镇化发展和农民进城转变身份的要求，让农民进城居住、生活无_____；另一方面也改变了农业生产关系，重新_____农业生产秩序，将留守在农村的老人、妇女从_____的农户劳动中解放出来，可以像城镇居民一样，依靠工资和政府提供的公共服务过上“体面”生活。

依次填入画横线处最恰当的一项是：

- A. 衣食之忧 调整 困顿
- B. 生存之虞 治理 芜杂
- C. 燃眉之急 整理 沉重
- D. 后顾之忧 整合 繁重

【答案】D。解析：

第一空。根据“让农民进城居住、生活无_____”可知，此处意为让农民生活无忧。

C项“燃眉之急”意思是火烧眉毛那样紧急，形容事情非常急迫，不符合语境，排除C项。

第二空。该空搭配“秩序”。

B项“治理”意思是统治、管理或整修，一般搭配“污染”与“秩序”搭配不当，排除B项。

A项“调整”、D项“整合”均与“秩序”搭配恰当。

第三空。此处填入的词语形容“农户劳动”。

A项“困顿”形容劳累到不能支持或（生计、境遇）艰难窘迫，形容“农户劳动”不恰当，排除A项。

D项“繁重”指（工作、任务）多而重，填入此处形容“农户劳动”恰当。

所以。正确选项是D。

38. 地方戏曲是中华文化的重要组成部分，在新时代受到诸多新兴事物的冲击而略显暗淡，甚至濒临消亡。作为新时期的文化工作者，我们_____着传承和保护中华传统文化的使命，如何在整个社会大环境中，营造出戏曲文化氛围，不断传承和发展地方戏曲，使其兼具传统韵味和时代气息，赢得更多人的喜爱，是我们需要始终_____探索的课题。

依次填入画横线处最恰当的一项是：

- A. 背负 矢志不渝
- B. 承担 孜孜以求
- C. 担负 持之以恒
- D. 肩负 坚持不懈

【答案】D。解析：

第一空，横线处与“使命”搭配。

A项“背负”指担负；B项“承担”指担负、担当；C项“担负”指承当；D项“肩负”指担负，均符合搭配，不易区分。

第二空，与“探索”搭配且通过“始终”进行修饰，用来形容对课题的探索自始至终一直进行下去。

A项“矢志不渝”表示永远不变心，多指志向、目标不会改变，与文意不符，排除。

B项“孜孜以求”比喻不知疲倦地探求，与后文“探索”语义重复，排除；

C项“持之以恒”指长久坚持下去，侧重点在时间长久，与“始终”语义重复，排除；

D项，“坚持不懈”指坚持到底，毫不松懈，形容探索的过程符合文意，当选。

所以，正确选项是D。

39. 中国是最早筑城的国家之一。数千年来，中国先后修建了至少数千座不同等级的各类城池，_____了辉煌的古代城市文化，_____、自成系统、独树一帜，是人类文明史_____的组成部分。依次填入画横线处最恰当的一项是：
- A. 制造 生生不息 不可替代
B. 创造 绵延不绝 不可或缺
C. 积累 经久不息 必不可少
D. 积淀 络绎不绝 举足轻重

【答案】B。解析：

第一空，填入的词语与“文化”搭配。

A项“制造”指把原材料加工成适用的产品或器物，一般搭配具事物，与抽象的“文化”搭配不当，排除A项。

B项“创造”、C项“积累”和D项“积淀”均可与“文化”搭配。

第二空，填入的词语同样搭配“古代城市文化”，且与“自成系统”“独树一帜”并列。

B项“绵延不绝”形容连续不断，一直延续，符合语境。

C项“经久不息”指一种动作所受到欢迎程度，多与“掌声”“欢呼声”搭配；

D项“络绎不绝”形容人、马、车、船等连续不断。C项和D项均与“文化”搭配不当，排除C项和D项。

所以，正确选项是B。

40. 应当看到，农业调结构是一个动态的过程，不可能一调到位、_____。农业也是慢热型产业，培育一个成熟品牌，要三五年、十多年，甚至更长时间，靠政府部门_____不行，必须尊重农业发展规律和市场规律，扎扎实实、_____、一步一步走。

依次填入画横线处最恰当的一项是：

- A. 一挥而就 大刀阔斧 锲而不舍
B. 一劳永逸 揠苗助长 持之以恒
C. 一蹴而就 快马加鞭 孜孜矻矻
D. 一步登天 越俎代庖 水滴石穿

【答案】B。解析：

第一空，“、”引导并列，横线处与“一调到位”构成并列，表达一下子就完成之意。

B项“一劳永逸”指辛苦一次，把事情办好，以后就可以不再费力；C项“一蹴而就”指事情轻而易举，一下子就成功，均符合文意。

A项“一挥而就”指才思敏捷，一动笔就写成，文段说的是农业而不是写作，排除；

D项“一步登天”指一下子达到很高的境界或爬上高位，与文段“农业调结构”的语境不符，排除。

第二空，根据文意可知，横线所填词语体现出没有尊重事物发展规律的意思。

B项“揠苗助长”比喻违反事物的发展规律，急于求成，反而坏事，符合文意。

C项“快马加鞭”强调快上加快，没有体现不尊重事物规律的意思，排除。

第三空，代入验证，与“扎扎实实”、“一步一步”构成并列，表达农业是一个长期的过程，尊重发展规律，B项“持之以恒”长久地坚持下去，语意符合，当选。

所以，正确选项是B。

三、材料题。根据材料，回答下列问题。

①一面是城镇化大潮冲击下的村庄，一面是_____在工业文明入口处的农民，面对着社会结构转型几乎_____整个乡村的现实，人们日益感到“激发农村的活力”同“解决农业人口的出路”一样重要。也正因如此，“乡村振兴”的呼声日益高涨。

②乡村的振兴，首先要解决的是经济问题。道理很简单，放下手中的“犁和耙”的年轻人，之所以选择从熟悉的村庄走向陌生的城市，也不过是为了过上一种更好的生活。如果留在乡村便能过上这样的日子，也就会有更多的人选择留下。这些年来，乡村旅游便是在这样的大背景下兴盛起来的。浙江安吉的“美丽乡村”、四川成都的“田园城市”等等，都是依托旅游产业带富一方乡土的极好的例子。

③然而，乡村的问题从来都不是个单纯的经济问题。即就当下风生水起的乡村旅游来说，也在发展过程中遇到了新的难题。过度的商业开发就是其中之一。一些地方的乡村虽然被以乡村旅游等形式包装起来，也在一定程度上提升了村民的收入，却因村庄完全被装成了商品，充斥着商业的气息，而无传统乡村原先的文化和味道。

④尤其是对于那些本就有些资源和名气的乡村，由政府或企业出面圈建起来，村子里的人们悉数迁走，不出几年，沉淀了多少代乡村文化的地方就会变成一个人造的景区，再难见到“乡村”的影子了。如此过度的商业开发，消失的不仅是乡村的底色，更是村庄本身。而这与乡村振兴的初衷显然是南辕北辙的。

⑤乡村生活，本就是一种文化。就像沈从文《湘行散记》中写到的，“河面静静的，木筏上火光小了……。另外一处吊脚楼上，又有了妇人唱小曲的声音，灯光摇摇不定，且有猜拳声音……”最吸引人的，也就是吊脚楼上人们的那种生活。

⑥如今即使走进湘西那有名的“边城”，看到的也大多是人造的景观：作为商业项目之一的对歌，已经完全进入程式化的模式；沱江两岸的吊脚楼上，除了游客便是做生意的主家；再往里走，满街都是为游客专设的店铺，虽然也是古老的房子，出售的也是当地的腊肉、熏肉，却已看不出有多少“镇竿”生活的味道了。转来转去，给人的感觉更像是个换了壳的农贸市场。远不如沿着迂回的山路走进去，偶尔碰到一位背着背篓的老婆婆来得亲切、自然。

⑦乡村，并不纯然是被改造的。乡村振兴，也应该遵循着这样的认知，重在经营，前提却是尊重。首当其冲就是尊重乡村的文化。那些来源于乡村生活，即老百姓柴米油盐、喜怒哀乐里的生活文化，尤其需要关注。

41. 依次填入第①自然段中画横线处最恰当的一项：

- A. 徘徊 席卷
- B. 停滞 改变
- C. 逗留 影响
- D. 盘桓 覆盖

【答案】A。解析：

第一空。根据“城镇化大潮下日渐凋敝的村庄”可知，农民对是否进入工业文明的态度是犹豫的。

A项，“徘徊”指在一个地方来回地走或比喻犹疑不决。D项“盘桓”指徘徊；逗留住宿。二者均符合语境。

B项“停滞”指受到阻碍，不能顺利地进行或发展；C项“逗留”指打断旅程，中途停留。没有“犹豫”的意思。排除B项和C项。

第二空。A项“席卷”指像卷起席子一样把东西全部卷进去。D项“覆盖”指遮盖、掩盖。“席卷”和“大潮”搭配更加恰当，突出城镇化势头的迅猛。

所以，正确选项是A。

42. 人们发出“乡村振兴”呼声，主要是因为他们意识到：

- A. “解决农村人口出路”很重要
- B. “激发农村的活力”十分重要
- C. 很多乡村传统文化在日益消失
- D. 乡村对年轻人吸引力越来越小

【答案】B。解析：

定位原文，“一些有识之士发出了‘再造乡村’的呼声”出现在第①段的结尾。根据“也正因此”可知，前文“人们日益感到‘激发农村的活力’同‘解决农业人口的出路’一样重要”是人们发出呼声的主要原因。

对比选项。A项是强干扰项，但文段强调的是“激发农村的活力”的重要性，因此排除A项。

B项是人们发出“乡村振兴”的呼声的主要原因，当选。

C项和D项属于无中生有。排除。

所以，正确选项是B。

43. 以下概括与作者引用《湘行散记》用意不符的是：

- A. 对原汁原味乡村文化的追怀
- B. 对乡村生活程式化表演的反感
- C. 对泛滥的人造景观的不满
- D. 对乡村开展商业活动的鄙夷

【答案】D。解析：

定位原文，《湘行散记》出现在第⑤段的开头。第⑤段过去的和第⑥段如今的边城生活形成对比，突出作者的用意。

对比选项。A项对应第⑤段的内容，根据“最吸引人的，也就是吊脚楼上人们的那种生活”可知，作者对《湘行散记》中描写的原汁原味的乡村文化的向往。符合，排除。

B项对应“作为商业项目之一的对歌，已经完全进入程式化的模块”，由此可知作者对程式化表演反感。符合，排除。

C项对应“如今即使走进湘西那有名的‘边城’，看到的也大多是人造的景观”，由此可知作者对人造景观是不满的。符合，排除。

D项对应“除了游客便是做生意的主家；再往里走，满街都是为游客专设的店铺”，“商业活动”属于偷换概念，文段并非鄙夷商业活动，而是反对过度商业化。不符合，当选。

所以，正确选项是D。

44. 下列对文章层次划分最恰当的一项是：

- A. ①/②/③④/⑤⑥⑦
- B. ①②/③④/⑤⑥/⑦
- C. ①/②/③④⑤⑥/⑦
- D. ①②/③④⑤/⑥⑦

【答案】C。解析：

分析篇章，①段通过“也正因此”提出，一些有识之士发出了“再造乡村”呼声，引出“再造乡村”这一总话题，②段提出一个对策，即“首先要解决的是经济问题”，并进行了解释说明。因此①、②段分别是问题和对策，需要分开。

③段在转折关联词“然而”后提出了更深层次的问题“乡村的问题从来都不是个单纯的经济问题……过度的商业开发就是其中之一”，④⑤⑥段对这个问题分别进行了举例论证，因此讨论同一问题的这四段划分到一起。

⑦段对上述乡村振兴中存在的过度商业化问题提出对策“重在经营，前提却是尊重。首当其冲就是尊重乡村的文化。”因此放在最后一层。

综合以上分析，C项符合文章的分层结构。

所以，正确选项是C。

45. 这篇文章的中心论点是：

- A. 改善农村生态迫切需要乡村振兴
- B. 发展乡村经济应注重保留多村本色
- C. 乡村最富吸引力的是其蕴含的传统文化
- D. 乡村振兴需同时关注经济和文化问题

【答案】B。解析：

分析篇章，文章首先引入“再造乡村”这一话题，接着指出经济问题是首要解决的，随后进一步指出目前在乡村经济建设的过程中存在过度商业化的问题，并进行了大篇幅的举例论证，在最后一段提出对策，“重在经营，前提却是尊重。首当其冲就是尊重乡村的文化”。

本着对策最大的原则，可知文段的中心论点就在最后一段，即要重在经营的同时更要尊重乡村文化。也就是B项：发展乡村经济应注重保留多村本色。

所以，正确选项是B。

第三部分 数量关系

一、数字推理。给出一个数列，缺少其中一项，要求你仔细观察数列的排列规律，从四个选项中，选择最合适的一项，使之符合原数列的排列规律。

46. 8, 2, 1, 1, 2, ()

- A. 4
- B. 8
- C. 10
- D. 16

【答案】B。解析：

相邻两项作商得 $1/4$ 、 $1/2$ 、 1 、 2 、 (4) 为等比数列。

则 $2 \times 4 = 8$ 。

所以，正确选项是B。

47. 51.03, 52.06, 54.12, 57.24, 61.48, ()

- A. 65.96
- B. 65.72
- C. 66.96
- D. 66.72

【答案】C。解析：

整数部分作差得 1 、 2 、 3 、 4 、 (5) ，为等差数列。

小数部分是公比为 2 的等比数列。

则： $61+5=66$ 、 $48 \times 2=96$ 。即 66.96 。

所以，正确选项是C。

48. $\sqrt{6}$, $\sqrt{22}$, $\sqrt{14}$, $3\sqrt{2}$, 4 , ()

A. $\sqrt{15}$

B. $\sqrt{17}$

C. $\sqrt{29}$

D. $\sqrt{21}$

【答案】B。解析：

分别转化为 $\sqrt{6}$ ， $\sqrt{22}$ ， $\sqrt{14}$ ， $\sqrt{18}$ ， $\sqrt{16}$ ，（ ）。

根号下的数，（第一项+第二项） $\div 2$ =第三项。依次类推， $(18+16) \div 2=17$ 。
所以，正确选项是 B。

49. 2, 4, 8, 33, 266, ()

A. 8781

B. 9364

C. 7528

D. 6742

【答案】A。解析：

$$2 \times 4 + 0 = 8;$$

$$4 \times 8 + 1 = 33;$$

$$8 \times 33 + 2 = 266;$$

$$(33 \times 266 + 3 = 8781)。$$

所以，正确选项是 A。

50. 256, 16, $4\sqrt[3]{4}$, 4, $2\sqrt[3]{8}$, ()

A. 2

B. $2\sqrt[3]{2}$

C. $2\sqrt[4]{2}$

D. $2\sqrt[5]{2}$

【答案】D。解析：

各数项分别转化为： 256 、 $2\sqrt[2]{256}$ 、 $3\sqrt[3]{256}$ 、 $4\sqrt[4]{256}$ 、 $5\sqrt[5]{256}$ 、 $(6\sqrt[6]{256}=2^3\sqrt[6]{2})$ 。

所以，正确选项是 D。

二、数学运算。通过运算，选择最合适的一项。

51. 一只密码箱的密码是一个三位数，满足 3 个数字之和为 19，十位上的数比个位上的数大 2。若将百位上的数与个位上的数对调，得到一个新密码，且新密码数比原密码的数大 99，则原密码数是：
A. 397

- B. 586
- C. 675
- D. 964

【答案】B。解析：

新密码数比原密码大 99，结合选项，B 项当选。
所以，正确选项是 B。

52. 某银行为一家小微企业提供了年利率分别为 6%、7% 的甲、乙两种贷款，期限均为一年。若两种贷款的合计数额为 400 万元，企业需付利息总额为 25 万元，则乙种贷款的数额是：

- A. 100 万元
- B. 120 万元
- C. 130 万元
- D. 150 万元

【答案】A。解析：

解法一：

代入 A 项，乙数额 100 万元、甲数额 $400-100=300$ 万元，利息总额 $=300 \times 6% + 100 \times 7% = 25$ 万元，满足条件。

所以，正确选项是 A。

解法二：

设乙种贷款的数额为 x 万元，则甲种贷款数额为 $400-x$ 万元。根据题意可列方程：

$$(400-x) \times 6% + 7%x = 25,$$

解得： $x=100$ 万元。

则乙种贷款的数额是 100 万元。

所以，正确选项是 A。

53. 一群学生分小组在户外活动，如 3 人一组还多 2 人，5 人一组还多 3 人，7 人一组还多 4 人，则该群学生的最少人数是：

- A. 23
- B. 53
- C. 88
- D. 158

【答案】B。解析：

解法一：

从 A 项开始代入检验。

A 项不满足除以 7 余 4，排除；

B 项满足所有条件。

所以，正确选项是 B。

54. 现有浓度为 12% 和 24% 的盐水各若干克，将其混合后加入 50 克水，配制成了浓度为 18% 的盐水 600 克，则原 12% 和 24% 的盐水质量之比是：

- A. 6 : 5
- B. 1 : 1
- C. 5 : 6

D. 4 : 7

【答案】D。解析：

解法一：

加水前的盐水浓度= $(600 \times 18\%) / (600 - 50) = 108/550$,

根据十字交叉可得：12%和 24%的盐水质量之比= $(24\% - 108/550) : (108/550 - 12\%) = 4 : 7$ 。

所以，正确选项是 D。

解法二：

加水前总溶液为 $600 - 50 = 550$ 克，总溶质为 $600 \times 18\% = 108$ 克；

鸡兔同笼，假设 550 克溶液都是 12%的盐水，可得 24%的盐水质量= $(108 - 550 \times 12\%) / (24\% - 12\%) = 350$ 克，

$(550 - 350) : 350 = 4 : 7$ 。

所以，正确选项是 D。

55. 市电视台向 150 位观众调查前一天晚上甲、乙两个频道的收视情况，其中 108 人看过甲频道，36 人看过乙频道，23 人既看过甲频道又看过乙频道，则受调查观众中在前一天晚上两个频道均未看过的人数是：

A. 17

B. 22

C. 29

D. 38

【答案】C。解析：

假设两个频道均未看过的有 x 人，两容斥， $150 = 108 + 36 - 23 + x$ 。

解得：C=29。

所以，正确选项是 C。

56. 新疆是我国重要的产棉区。2018 年新疆棉花种植面积比上年增长 411 万亩，增长 12.4%；2018 年全国棉花种植面积为 5028 万亩，比上年增长 236 万亩。则 2017 年新疆棉花种植面积与全国的比值所处的区间是：

A. $[0.45, 0.55)$

B. $[0.55, 0.65)$

C. $[0.65, 0.75)$

D. $[0.75, 0.85]$

【答案】C。解析：

前期量 \times 增长率 = 增长量。

2017 年新疆棉花种植面积 = $411 / 12.4\% \approx 414 / 12.5\% = 414 \times 8 = 3312$ 万亩。

2017 年全国棉花种植面积 = $5028 - 236 = 4792$ 万亩。

$3312 / 4792$ 、首位接近 7。处于 C 项区间。

所以，正确选项是 C。

57. 某镇政府有工作人员 104 人，他们在清明节前去烈士陵园缅怀革命先烈，需全部坐船渡过一条河。已知大船可载客 12 人，小船可载客 5 人，大船和小船不论坐满与否，都按满载算。若大船渡一次 70 元，小船渡一次 30 元，则他们渡河最节省的方案是：

A. 7 只大船和 4 只小船

- B. 2 只大船和 16 只小船
- C. 6 只大船和 2 只小船
- D. 1 只大船和 20 只小船

【答案】A。解析：

小船平均每人单价=30/5=6 元，大船平均每人单价=70/12<6 元。
为了节省，因此应尽可能多地使用大船。
结合选项，A 项刚好满载。当选。
所以，正确选项是 A。

58. 已知一个箱子中装有 12 件产品，其中有 2 件次品。若从箱子中随机抽取 2 件产品进行检验，则恰好抽到 1 件次品的概率是：

- A. 13/22
- B. 10/33
- C. 7/11
- D. 8/11

【答案】B。解析：

总情况数有 $C(12, 2) = 66$ 种。
满足题意的情况数有 $C(2, 1) \times C(10, 1) = 20$ 种。
概率=20/66=10/33。
所以，正确选项是 B。

59. 某工程队承担一项工程，由于天气原因，工期将延后 10 天。为了按期完工，需增加施工人员。若增加 4 人，工期会延后 4 天；若增加 10 人，工期将提前 2 天。假设每人工作效率相同，为确保按期完工，则工程队最少应增加的施工人员数是：

- A. 6
- B. 7
- C. 8
- D. 9

【答案】C。解析：

以延后 10 天为基准，若增加 4 人、工期提前 6 天；若增加 10 人、工期提前 12 天。
两次人数之比= $(4 \times 12) : (10 \times 6) = 4 : 5 = 24 \text{ 人} : 30 \text{ 人}$ （相差 6 人）。现在有 $24 - 4 = 20$ 人，
两次天数之比= $5 : 4 = 30 \text{ 天} : 24 \text{ 天}$ （相差 6 天）。现在需要 $30 + 6 = 36$ 天。
若要按时完工至少需要 $20 \times 36 / (36 - 10) \approx 27.7$ 人。即最少应增加 $28 - 20 = 8$ 人
所以，正确选项是 C。

（这个题目难度很大，求解过程非常麻烦，在考场上比较浪费时间。面对这种难题，考生应根据自身的整体时间情况适当作出取舍，有时候，学会适当放弃也是成功的必要条件。）

60. 某镇政府办公室集中采购一批打印纸，分发给各个职能部门。如果按每个部门 4 包分发，则多 6 包；如果按每个部门 5 包分发，则有 1 个部门只能分到 3 包。这批打印纸的数量是：

- A. 38 包
- B. 36 包
- C. 40 包
- D. 42 包

【答案】A。解析：

每个部门发 4 包，多出 6 包；

每个部门发 5 包，缺少 2 包。

盈亏问题，盈亏公式为：（盈数+亏数）除以两次分配只能够每份的差=所分对象数。

则可得部门数=（6+2）/（5-4）=8 个。

则打印纸总数=8×4+6=38 包。

所以，正确选项是 A。

61. 某班举行数学测验，试题全部是选择题，共 10 题，每题 1 分，得分的部分统计结果如下：

得分	10	9	8	...	2	1	0
人数	2	2	4	...	5	3	8

已知，得分至少为 3 分的，人均 $2x$ 分；得分最多为 7 分的，人均 x 分。这个班级总人数是：

A. $(x/57) + 24$

B. $57x + 24$

C. $x^2 + 24$

D. $x + 4$

【答案】A。解析：

要达到全班人均 $2x$ 分，则还差： $5 \times (2x - 2) + 3 \times (2x - 1) + 8 \times (2x) = 32x - 13$ 分。

要达到全班人均 x 分，则多出： $2 \times (10 - x) + 2 \times (9 - x) + 4 \times (8 - x) = 70 - 8x$ 分。

盈亏问题，对比可得全班总人数= $(70 - 8x + 32x - 13) / (2x - x) = (57 + 24x) / x$ 。

所以，正确选项是 A。

62. 某公司年终联欢，准备了 52 张编号分别为 1 至 52 的奖券用于抽奖。如果编号是 2、3 的倍数的奖券可分别兑换 2 份、3 份奖品，编号同时是 2 和 3 的倍数的奖券只可兑换 3 份奖品，其他编号的奖券只可兑换 1 份奖品，则所有奖券可兑换的奖品总数是：

A. 99 份

B. 100 份

C. 102 份

D. 104 份

【答案】D。解析：

可兑换 3 份奖品的奖券有 $[52/3] \approx 17$ 张。

可兑换 2 份奖品的奖券有 $(52/2) - [52/6] = 18$ 张。

可兑换 1 份奖品的奖券有 $(52 - 17 - 18) = 17$ 张。

则可兑换的奖品总数= $17 \times 3 + 18 \times 2 + 17 = 104$ 份。

所以。正确选项是 D。

63. 某地区有甲、乙、丙、丁 4 个派出所。已知上月甲、乙 2 个派出所的合计出警次数是 95 次，乙、丙、丁 3 个派出所的合计出警次数是 140 次，乙派出所的出警次数占 4 个派出所合计出警次数的 $7/40$ ，则上月甲派出所的出警次数是：

A. 55

- B. 60
- C. 68
- D. 75

【答案】B。解析：

95+140=235 次。对应总数的 $1 + (7/40) = 47/40$ 。

可得 4 个派出所合计出警总数=235 / (47/40) =200 次。

则乙的出警次数=200 × (7/40) =35 次。

甲的出警次数=95-35=60 次。

所以，正确选项是 B。

64. 一场大雪过后，某单位需安排员工清扫包干区的道路积雪。清扫时必须 3 人一组，其中 2 人铲雪，1 人扫雪。如果安排 10 人铲雪，3.5 小时才能完成。假设每组工作效率相同，若要在 100 分钟内完成，则需安排的员工人数最少是：
- A. 21
 - B. 24
 - C. 30
 - D. 33

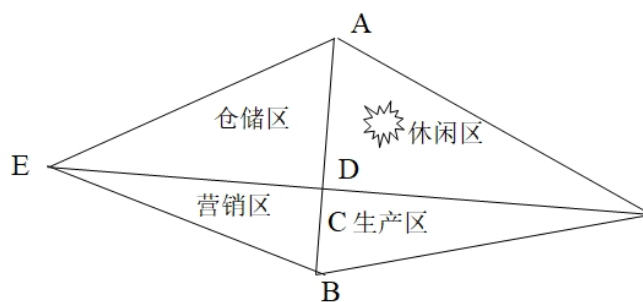
【答案】D。解析：

若刚好 100 分钟完成，可得铲雪的人数=10 × 210 / 100 =21 人。

每组有 2 人铲雪，因此铲雪人数至少有 22 人，扫雪人数至少有 11 人，共 22+11=33 人。

所以，正确选项是 D。

65. 某民营企业新建一个四边形的厂区，按对角线将整个厂区分成四个功能区，如图所示。已知生产、仓储和营销三个功能区的面积分别为 26 亩、18 亩和 13 亩，若保留休闲区的 12 亩天然小湖泊，则休闲区可利用的陆地面积是：



- A. 36 亩
- B. 26 亩
- C. 24 亩
- D. 23 亩

【答案】C。解析：

生产区面积是营销区面积的 $26/13=2$ 倍，高相等，因此可知其底边必定为 2 倍关系。可得休闲区面积也是仓储区面积的 2 倍。

则休闲区面积=18 × 2=36 亩。

若保留休闲区的 12 亩天然小湖泊，则休闲区可利用的陆地面积=36-12=24 亩。

所以，正确选项是 C。

第四部分 判断推理

一、类比推理。本部分共 10 题，包括三种类型的题目。

(一) 先给出一组有某种关系的词或词组，请你从四个选项中选出正确的一项，使其关系与题干给出的词或词组的关系最为相似。

66. 牛奶：奶牛：牛圈

- A. 鸡肉：肉鸡：鸡场
- B. 虫害：害虫：农田
- C. 蛇毒：毒蛇：蛇穴
- D. 蜜蜂：蜂蜜：蜂巢

【答案】C。解析：

题干逻辑关系是：牛奶是奶牛的分泌物，二者为对应关系；牛圈是奶牛的生活场所，二者为对应关系。

A 项：鸡肉不是肉鸡的分泌物；鸡场是肉鸡的生活场所，二者为对应关系，前两词与题干逻辑关系不一致，排除；

B 项：害虫导致虫害，二者为因果关系；农田是害虫的生活场所，二者为对应关系，前两词与题干逻辑关系不一致，排除；

C 项：蛇毒是毒蛇的分泌物，二者为对应关系；蛇穴是毒蛇的生活场所，二者为对应关系，与题干逻辑关系一致，当选；

D 项：蜂蜜不是蜜蜂的分泌物，同时两词的顺序与题干相反，与题干逻辑关系不一致，排除。

所以，正确选项是 C。

67. 眼睛：眼镜：隐形眼镜

- A. 手掌：手套：纯棉手套
- B. 耳机：耳朵：蓝牙耳机
- C. 脚踝：护膝：运动护膝
- D. 牙套：牙齿：烤瓷牙齿

【答案】C。解析：

题干逻辑关系是：眼镜是矫正视力和保护眼睛的工具，两者是对应关系；隐形眼镜是眼镜的一种，两者是种属关系。

A 项：护膝是保护膝盖的，不是保护脚踝的；运动护膝是护膝的一种，前两者与题干逻辑关系不一致，排除；

B 项：耳朵不是用来保护耳机的，蓝牙耳机也不是耳朵的一种，与题干逻辑关系不一致，排除；

C 项：手套是保护手掌的，纯棉手套是手套的一种，与题干逻辑关系一致，当选；

D 项：牙套是矫正牙齿的，不是矫正假牙的，烤瓷牙套是牙套的一种，前两词与题干逻辑关系不一致，排除。

所以，正确选项是 C。

68. 路霸：打击：黑恶势力

- A. 功课：复习：基础课程
- B. 友谊：维护：世界和平
- C. 诚信：讲究：社会和谐
- D. 铅笔：购买：学习用品

【答案】D。解析：

题干逻辑关系是：打击路霸，路霸是黑恶势力。

D项：购买铅笔，铅笔是学习用品。与题干逻辑关系一致，当选。

所以，正确选项是D。

69. 记录：记录本

A. 咨询：咨询室

B. 复印：复印件

C. 驾驶：驾驶证

D. 存储：存储盘

【答案】D。解析：

题干逻辑关系是：记录本的功能是记录，二者为功能对应关系。

A项：咨询室是咨询的场所，二者为场所对应关系，与题干逻辑关系不一致，排除；

B项：复印完成后得到复印件，复印件的功能不是复印，与题干逻辑关系不一致，排除；

C项：驾驶证的功能不是驾驶，是用来证明有驾驶资格的证件，与题干逻辑关系不一致，排除；

D项：存储盘的功能是存储，二者为功能对应关系，与题干逻辑关系一致，当选。

所以，正确选项是D。

70. 猪肉：猪肉松

A. 红木：红木床

B. 东坡：东坡肉

C. 太师：太师椅

D. 女儿：女儿红

【答案】A。解析：

题干逻辑关系是：猪肉是制作猪肉松的原料。

A项：红木是制作红木床的原料。与题干逻辑关系一致，当选。

所以，正确选项是A。

71. 高原：藏羚羊

A. 中国：金丝猴

B. 海洋：大白鲨

C. 战场：指战员

D. 大学：研究员

【答案】B。解析：

题干逻辑关系是：藏羚羊生活在高原。

B项：大白鲨生活在海洋。与题干逻辑关系一致，当选。

所以，正确选项是B。

（二）请从四个选项中选出正确的一项，使得该项的两个词或词组依次代入题干的括号中，能够最大限度地满足题干所表达的类比关系。

72. 茶壶 之于 () 相当于 () 之于 桃花

A. 茶艺——桃红

B. 茶叶——桃仁

- C. 壶嘴——桃树
- D. 茶馆——桃园

【答案】C。解析：

逐一代入选项检验：

A项：茶壶是展示茶艺的工具，二者是工具对应关系；桃花是桃红色的，二者是属性对应关系，前后逻辑关系不一致，排除；

B项：茶壶是冲泡茶叶的工具，二者是工具对应关系；桃仁和桃花是并列关系，前后逻辑关系不一致，排除；

C项：壶嘴是茶壶的组成部分；桃花是桃树的组成部分，都是组成关系，前后逻辑关系一致，当选；

D项：茶馆是使用茶壶的地方，桃园是桃花盛开的地方，但两词的顺序相反，前后逻辑关系不一致，排除。

所以，正确选项是C。

73. 诊断 之于 () 相当于 知错 之于 ()

- A. 仪器——表扬
- B. 手术——改错
- C. 病人——浪子
- D. 医生——学生

【答案】B。解析：

逐一代入选项检验：

A项，仪器是诊断是使用的工具，两者为对应关系；知错和表扬没有直接逻辑关系。前后逻辑关系不一致。排除。

B项，先诊断，后手术，两者有时间上的先后顺序；先知错，后改错，两者有时间上的先后顺序。前后逻辑关系一致。当选。

C项，诊断病人为动宾关系；浪子知错为主谓关系。前后逻辑关系不一致。排除。

D项，医生诊断为主谓关系；学生知错为主谓宾关系。前后逻辑关系不一致。排除。

所以，正确选项是B。

(三) 请从四个选项中选出正确的一项，使其特征或规律与题干给出的一串符号的特征或规律最为相似。

74. 日 日 日 日 戊 戊 戊 戊 白

- A. 己 巳 巳 己 愕 愕 愕 愕 鄂
- B. 甲 由 由 甲 申 喂 喂 伸 神
- C. 嘍 噢 噢 嘍 啞 啞 啞 啞 娅
- D. 嗒 咀 咀 嗒 嚓 嚓 嚓 嚓 擦

【答案】C。解析：

从相同汉字的位置入手：位置1、4的汉字相同；位置2、3的汉字相同，位置5、8的汉字相同，位置6、7的汉字相同。

所以，正确选项是C。

75. Φ $\$$ Δ $\%$ λ \mathbb{K} \mathbb{K} $\%$ Φ

- A. \odot H 3 # 3 % % # \odot
- B. \square 6 @ # + 6 6 # \square


- C. ♀ ⊙ W & 7 ☐ ☐ & ♀
D. Φ F 5 ☆ △ 案 桉 ☆ Φ

【答案】C。解析：

从相同符号的位置入手：位置 1、9 的符号相同；位置 4、8 的符号相同，位置 6、7 的符号相同。B 项基本符合，但是位置 2、6、7 的符号都相同，与题干不符，排除。C 项完全符合，当选。所以，正确选项是 C。

二、图形推理（15 题）。请按每道题的答题要求作答。

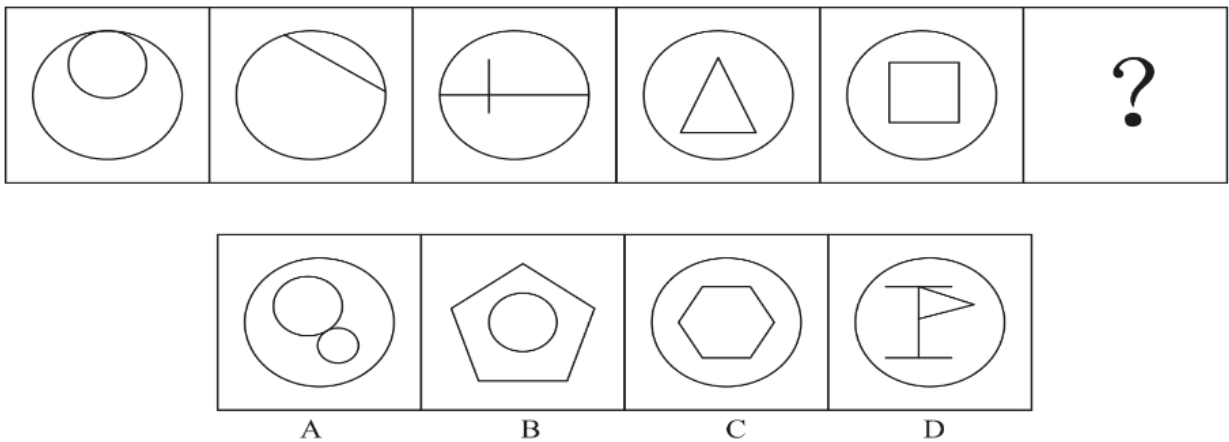
76. 从所给的四个选项中，选择最合适的一个填入问号处，使之呈现一定的规律性。



【答案】D。解析：

题干图片均为盆景，盆栽整体直立在盆中，且装盆栽的盆的形状都是长方形。四个选项中，A 项盆栽的盆的形状是椭圆形，B 项盆栽不是直立在盆中，C 项盆栽的盆的形状是缸形，不符合题干图形规律，排除。只有 D 项符合题干规律。所以，正确选项是 D。

77. 从所给的四个选项中，选择最合适的一个填入问号处，使之呈现一定的规律性。

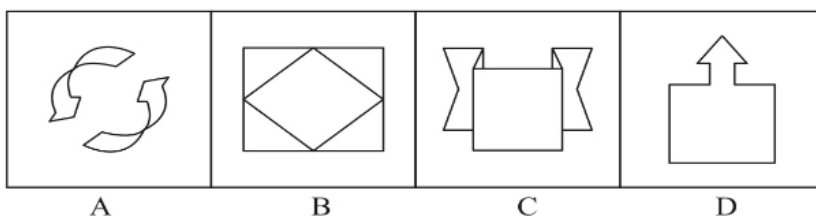
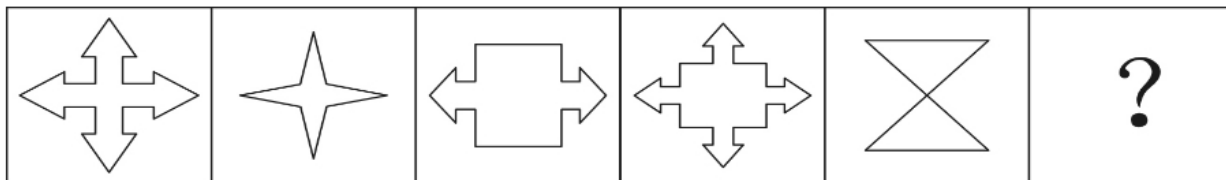


【答案】。解析：

观察发现，题干图形中直线的数量依次为 0、1、2、3、4，（5），且直线均位于图形内部。只有 D 项图形中的直线数量为 5，且直线位于图形内部。

所以，正确选项是 D。

78. 从所给的四个选项中，选择最合适的一个填入问号处，使之呈现一定的规律性。



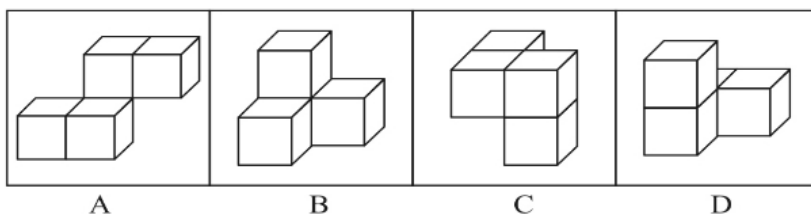
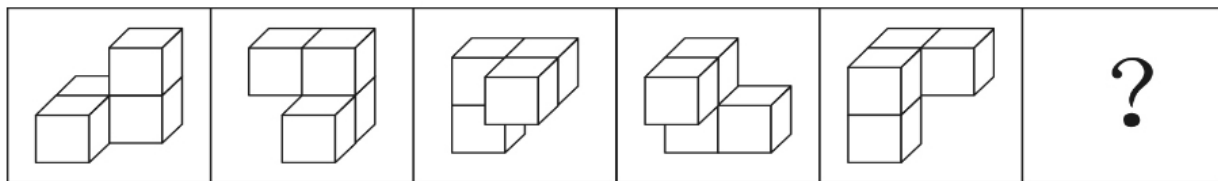
【答案】B。解析：

观察发现，题干图形都既是轴对称图形，又是中心对称图形。

四个选项中，A 项仅为中心对称图形；C、D 项仅为轴对称图形；只有 B 项既是轴对称图形又是中心对称图形，符合要求当选。

所以，正确选项是 B。

79. 从所给的四个选项中，选择最合适的一个填入问号处，使之呈现一定的规律性。

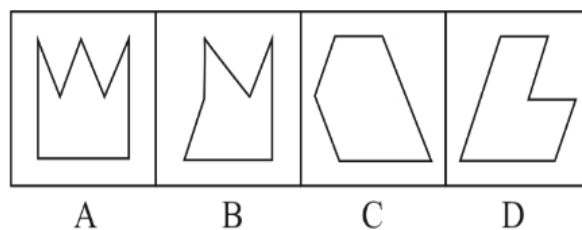
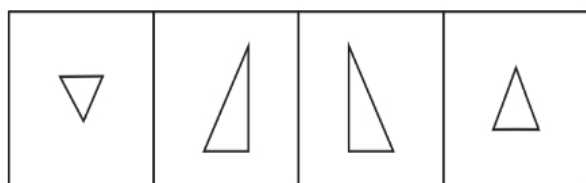


【答案】C。解析：

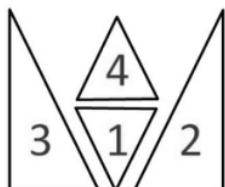
题干图形均为四个正方体构成的立体图形，且每幅图的四个正方体均为同样的排列形式，只是每幅图的位置发生了旋转或者翻转。据此规律，只有 C 项符合要求。

所以，正确选项是 C。

80. 下边四个图形中，只有一个是左边的四个图形拼合（只能通过上、下、左、右平移）而成的，请把它找出来。

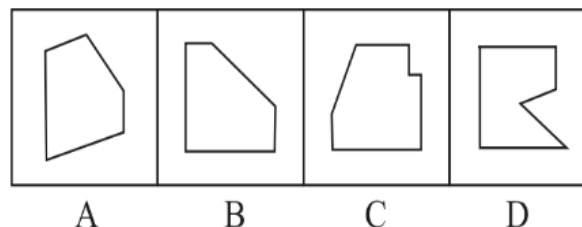
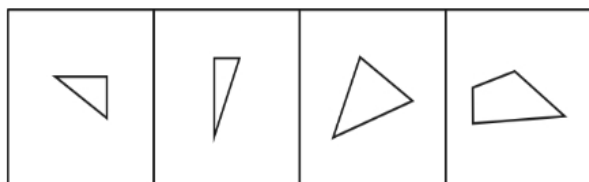


【答案】A。解析：

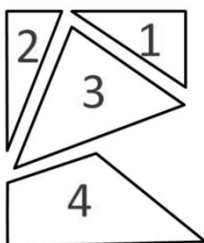


所以，正确选项是 A。

81. 下边四个图形中，只有一个是由左边的四个图形拼合（只能通过上、下、左、右平移）而成的，请把它找出来。

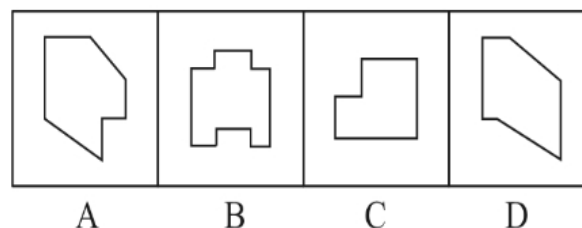
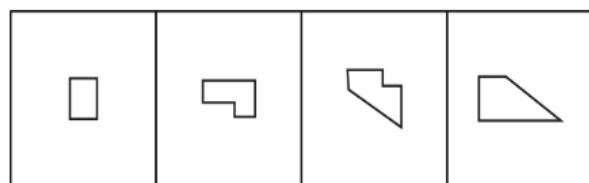


【答案】D。解析：

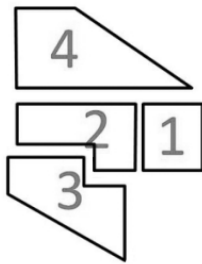


所以，正确选项是 D。

82. 下边四个图形中，只有一个是由左边的四个图形拼合（只能通过上、下、左、右平移）而成的，请把它找出来。

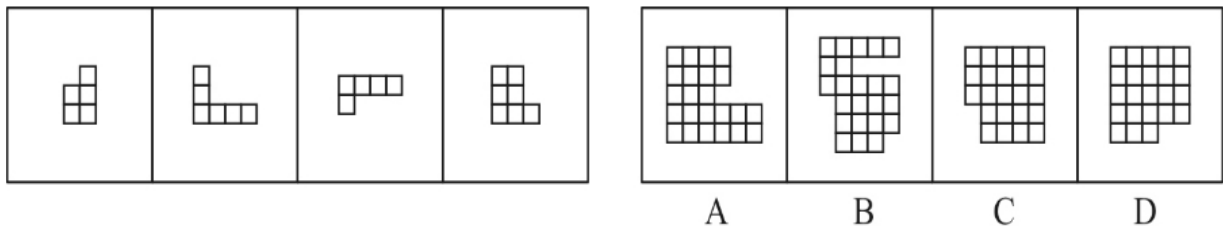


【答案】A。解析：

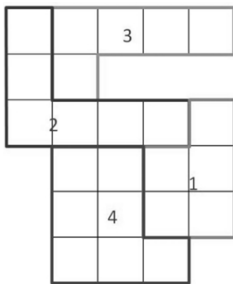


所以，正确选项是 A。

83. 下边四个图形中，只有一个是 由左边的四个图形拼合（只能通过上、下、左、右平移）而成的，请把它找出来。

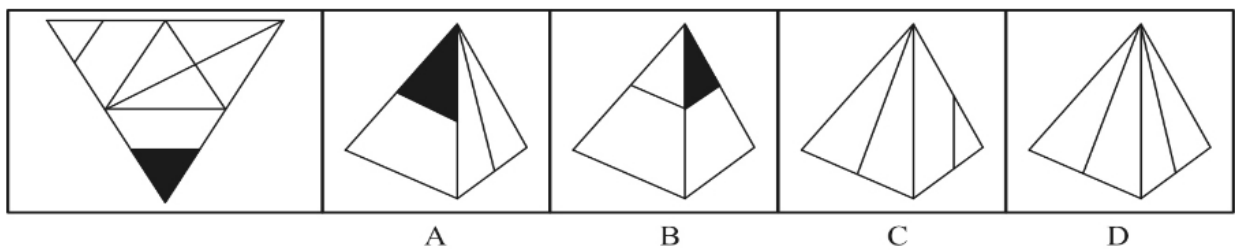


【答案】B。解析：



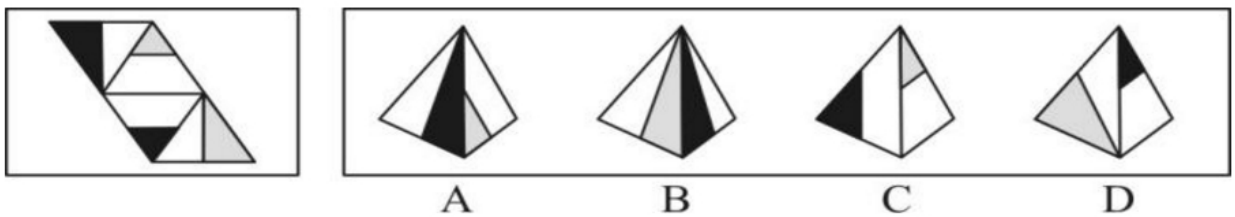
所以，正确选项是 B。

84. 左边给定的是纸盒外表面的展开图，右边哪一项能由它折叠而成？请把它找出来。



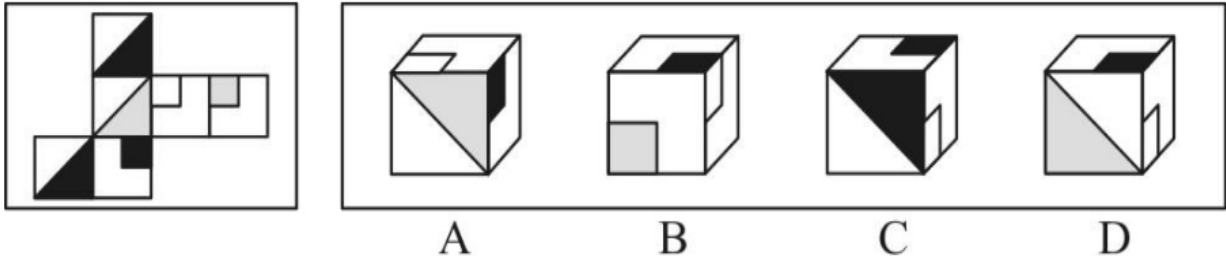
【答案】C。解析：

85. 左边给定的是纸盒外表面的展开图，右边哪一项能由它折叠而成？请把它找出来。



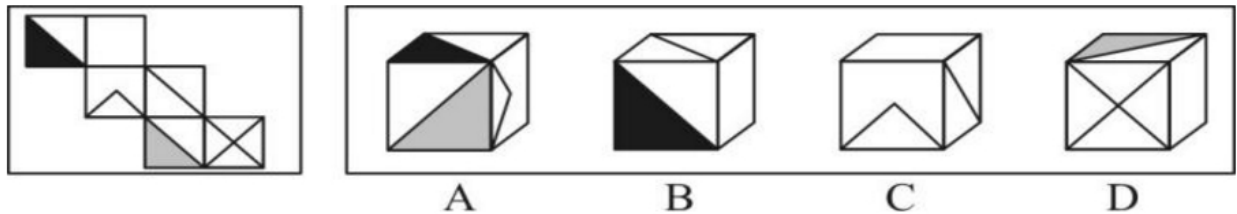
【答案】D。解析：

86. 左边给定的是纸盒外表面的展开图，右边哪一项能由它折叠而成？请把它找出来。



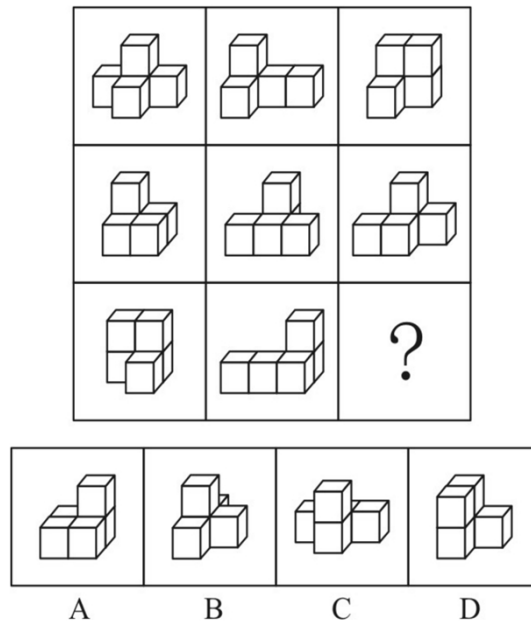
【答案】A。解析：

87. 左边给定的是纸盒外表面的展开图，右边哪一项能由它折叠而成？请把它找出来。




【答案】C。解析：

88. 从所给的四个选项中，选择最合适的一个填入问号处，使之呈现一定的规律性。



【答案】A。解析：

89. 左边给定的是纸盒外表面的展开图，右边哪一项能由它折叠而成？请把它找出来。



【答案】B。解析：

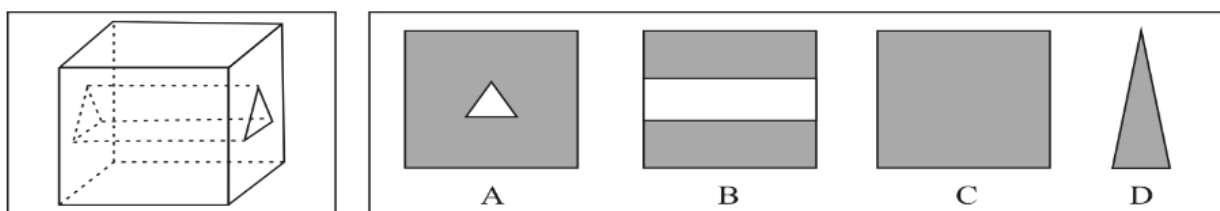
观察发现，题干所有图形都是一根枝干上长满了相同的叶子或花。

九宫格优先按横行来看，第一行，花枝朝向依次为左、右、左；第二行，花枝朝向依次是右、左、右，规律均为左右交替出现，第三行前两个图花枝朝向为左、右，因此“？”处花枝朝向应为左。C、D项花枝朝向不是左，排除。

A项花枝最上面是3朵花，下面是3片叶子，一根枝干上元素不相同，排除。只有B项满足题干图形特征。

所以，正确选项是B。

90. 左图为给定的立体，从任意角度剖开，右边哪一项不可能是它的截面图？



【答案】B。解析：

B项不可能是它的截面图。平行于前面的面，经过镂空部分，得到的截面不可能有中间白色矩形左右的两条线，当选。

所以，正确选项是B。

三、逻辑判断（10题）。每道题给出一段陈述，这段陈述假设是正确的、不容置疑的。请你根据这段陈述，选择一个答案。注意：正确的答案不需要任何附加说明即可以根据陈述必然推出。

91. 马克思是顶天立地的伟人，也是有血有肉的常人。他热爱生活，真诚朴实，重情重义。马克思、恩格斯的革命友谊长达40年，正如列宁所说：“古老传说中有各种非常动人的友谊故事”，但马克思、恩格斯的友谊“超过了古人关于人类友谊的一切最动人的传说”。

根据以上陈述，可以得出以下哪项？

A. 有的顶天立地的伟人热爱生活、重情重义

- B. 古人非常动人的友谊一般都不超过 40 年
- C. 恩格斯同样热爱生活，真诚朴实，重情重义
- D. 列宁也是顶天立地的伟人和有血有肉的常人

【答案】A。解析：

A 项，题干提到“马克思是顶天立地的伟人，他热爱生活，真诚朴实，重情重义”，据此可以推出“有的顶天立地的伟人热爱生活，真诚朴实，重情重义”，A 项可以推出，当选。

B 项，题干仅提及马克思和恩格斯的友谊长达 40 年，无法推出“古人”非常动人的友谊一般不超过 40 年的结论，该项表述过于绝对，无法推出，排除。

C 项，题干仅提及了马克思和恩格斯之间的友谊，并未提及恩格斯是否同样热爱生活，无法推出，排除。

D 项，题干仅引用了列宁的一句话，并未提及列宁也是顶天立地的伟人和有血有肉的常人，无法推出，排除。

所以，正确选项是 A。

92. 人饿了会吃东西，一旦摄入碳水化合物、脂肪、蛋白质等能量营养素，就能消除饥饿感，这种缺乏能量营养素的饥饿是显性饥饿；然而，人体健康还需要铁、锌等 16 种矿物元素及维生素 A、维生素 E 等 13 种维生素，如果缺乏这些微量营养素，则会造成隐性饥饿。显然，显性饥饿只要“吃饱”就能解决，而隐性饥饿只有吃“好”才能应对。

根据以上陈述，可以得出以下哪项？

- A. 既要“吃饱”又要“吃好”，如此就能保证人体的健康
- B. 消除显性饥饿对人更重要，只有“吃饱”才能“吃好”
- C. 隐性饥饿并不同于显性饥饿，“吃不好”不等于“吃不饱”
- D. 隐性饥饿对人体健康的危害比显性饥饿更大、更隐蔽

【答案】C。解析：

推断文意。

A 项：根据题干可知，“吃饱”可以解决显性饥饿，“吃好”可以解决隐性饥饿，但题干未提及二者同时成立是否就能保证人体健康，无法推出，排除；

B 项：题干中并未比较消除显性饥饿与消除隐性饥饿哪个更重要，无法推出，排除；

C 项：根据题干最后一句话可知，显性饥饿只要“吃饱”就能解决，而隐性饥饿只有“吃好”才能应对，说明这两种饥饿是不同的，其解决方式也并不相同，可以推出，当选；

D 项：题干中并未比较显性饥饿与隐性饥饿哪个对人体的健康危害更大，无法推出，排除。

所以，正确选项是 C。

93. 某区对所辖钟山、长江、梅园、星海 4 个街道进行抽样调查，并按照人均收入为其排序。有人根据以往经验对 4 个街道的人均收入排序作出如下预测：

- (1) 如果钟山街道排第三，那么梅园街道排第一；
- (2) 如果长江街道既不排第一也不排第二，那么钟山街道排第三；
- (3) 钟山街道排序与梅园街道相邻，但与长江街道不相邻。

事后得知，上述预测符合调查结果。

根据以上信息，可以得出以下哪项？

- A. 钟山街道不排第一就排第四
- B. 长江街道不排第二就排第三
- C. 梅园街道不排第二就排第四

D. 星海街道不排第一就排第三

【答案】A。解析：

钟山出现次数最多，为最大信息，可作为突破口。

根据（3）可知：钟山与梅园相邻。则可推知（1）是假的，即：钟山不可能排第三，梅园必定排第一。

钟山不排第三是对②的否后，否后必否前，则长江排名是第一或者第二。

结合“梅园排第一”，可知长江排第二。

则可知：梅园排第一，长江排第二，钟山只能排第四，星海排第三。只有 A 项成立。

所以，正确选项是 A。

94. 当今社会，不少老人为了照顾子女照顾下一代而漂泊异乡成为“老漂族”。在最近一项城市调查中，52.2%的受访青年坦言，自己的父母就是老漂族，自己与爱人事业刚刚起步，工作压力较大，根本没有时间照顾孩子和做家务，专家据此断言，我国城市中的老漂族群体还会进一步扩大。

以下哪项如果为真，最能支持上述专家的观点？

- A. 老人在城市养老拥有比乡村更好的医疗条件
- B. 有些老人故土难离事物缠身更愿意生活在家乡
- C. 国家二孩政策的实施将会促使更多的孩子出生
- D. 二孩政策实施后城市的二孩出生率要低于农村

【答案】C。解析：

支持型。

需要支持的论点：我国城市中的老漂族群体还会进一步扩大。

论据：52.2%的受访青年坦言，自己的父母就是老漂族，自己与爱人事业刚刚起步，工作压力较大，根本没有时间照顾孩子和做家务。

A 项：说的是城市养老医疗条件比乡村更好，与论点说的老漂族群体会进一步扩大无关，话题不一致，无法加强，排除；

B 项：说的是老人更愿意生活在家乡，老人的意愿与论点说的老漂族群体会进一步扩大无关，无法加强，排除；

C 项：国家二孩政策会促使更多的孩子出生，补充论据说明需要老人照顾孩子的情况会更多，对老漂族群体扩大进行了加强，可以支持，当选；

D 项：二孩出生率农村更高，农村需要老人照顾孩子的需求会更多些，老漂族应该会减少而不是扩大，无法加强，排除。

所以，正确选项是 C。

95. 某机关举行职工秋季田径运动会。已知：所有报名参加短跑比赛的职工都报名参加铅球比赛，所有报名参加跳远比赛的职工都没有报名参加铅球比赛，报名参加跳高比赛的职工也都报名参加了跳远比赛，而没有报名参加跳高比赛的职工也没有报名参加长跑比赛。

根据以上陈述，可以得出以下哪项？

- A. 有的报名参加铅球比赛的职工没有报名参加短跑比赛
- B. 有的报名参加跳高比赛的职工没有参加长跑比赛
- C. 所有报名参加跳远比赛的职工都报名参加长跑比赛
- D. 所有报名参加短跑比赛的职工都没有报名参加长跑比赛

【答案】D。解析：

整理题干条件为：

- ①所有报名短跑的都报名了铅球（短跑→铅球）；
- ②所有报名跳远的都没有报名铅球（跳远→¬铅球）；
- ③所有报名跳高的都报名了跳远（跳高→跳远）；
- ④所有没有报名跳高的都没有报名长跑（¬跳高→¬长跑）。

A 项，将①进行换位推理可得“有的报名铅球的报名了短跑”。根据“有的报名铅球的报名了短跑”无法必然推出“有的报名参加铅球比赛的职工没有报名参加短跑比赛”，该项无法推出，排除。

B 项，将④进行逆否可得：所有报名长跑的都报名了跳高，再将其进行换位推理可得“有的报名跳高的报名了长跑”，根据“有的是”无法必然推出“有的不是”，该项无法推出，排除。

C 项，将④进行逆否可得：长跑→跳远，“所有报名跳远”是对其“肯后”，根据肯后推不出必然结论，该项无法推出，排除。

D 项：将①②③④进行递推可得：短跑→¬长跑，即“所有报名短跑都没有报名长跑”，该项可以推出。

所以，正确选项是 D。

96. 我国家长们对儿童阅读越来越重视，大多数家长希望孩子多读书读好书。2018 年，某市 70.3% 的家庭有父母陪孩子读书的习惯，亲子阅读的图书量比 2017 年提高了 1.8 个百分点，时长也比去年有所增加。但是，2018 年该市的儿童人均图书阅读量仅为 4.72 本，比 2017 年还下降了 0.6 个百分点。以下哪项如果为真，最能解释上述现象？

- A. 近年来孩子课业负担较重，对课外阅读很多人是“心有余而时不足”
- B. 大多数 80 后、90 后家长都受过高等教育，比较看重亲子阅读的意义
- C. 在亲子阅读中很多孩子习惯“听书”，这种情况 2018 年未计算在内
- D. 父母在手机、电脑上的电子阅读一直未纳入儿童图书阅读的考虑范围

【答案】C。解析：

解释型。

题目中需要解释的矛盾现象是：2018 年亲子阅读的图书量比 2017 年提高了 1.8 个百分点，但 2018 年该市的儿童人均图书阅读量仅为 4.72 本，比 2017 年还下降了 0.6 个百分点。

亲子阅读的图书量提高了，但儿童人均图书阅读量却下降了，为什么会这样？这个令人奇怪的矛盾现象需要给与解释。

A 项，孩子课外阅读“心有余而力不足”可以解释儿童人均图书阅读量下降的情况，但是不能解释“亲子阅读的图书量提高”。不能解释，排除。

B 项：“大多数 80 后、90 后家长都受过高等教育，比较看重亲子阅读的意义”，可以解释 2018 年亲子阅读的图书量比 2017 年提高了 1.8 个百分点，但不能解释为什么儿童图书阅读量却下降了。不能解释，排除。

C 项，“听书”属于亲子阅读，但不属于儿童亲身的阅读，这种情况 2018 年未计算在内，因此会出现题干中“亲子阅读的图书量提高，但儿童人均图书阅读量却下降”的矛盾，可以解释，当选。

D 项，“父母在手机、电脑上的电子阅读”与题干中的亲子阅读、儿童阅读无关，不能解释，排除。所以，正确选项是 C。

97. 某地开展企业结对扶贫创新活动，倡导企业家与贫困家庭互选，要求每户贫困家庭只能选 1 位企业家，而每位企业家只能在选他的贫困家庭中选择 1-2 户开展帮扶活动。现有企业家甲、乙、丙 3 人面对张、王、李、赵 4 户贫困家庭，已知：

- (1) 张、王 2 户至少有 1 户选择甲；
- (2) 王、李、赵 3 户中至少有 2 户选择乙；

(3) 张、李 2 户中至少有 1 户选择丙

事后得知，互选顺利完成，每户贫困家庭均按自己心愿都选到了企业家，而每位企业家也按要求选到了贫困家庭。

根据以上信息，可以得出以下哪项：

- A. 企业家甲选到了张户
- B. 企业家乙选到了赵户
- C. 企业家丙选到了李户
- D. 企业家甲选到了王户

【答案】B。解析：

分析题干条件为：

- (1) 张或王选甲
- (2) 王、李、赵中至少 2 户选乙
- (3) 张或李选丙

由题干可知，因为 3 名企业家，4 户贫困户，最后都顺利互选，所以一定是有两名企业家都只帮扶一户，而有一名企业家帮扶两户。

由 (2) 可知帮扶两户的是乙，故甲、丙都只与 1 户互选。

由 (1) 可知：甲不可能选赵。

由 (3) 可知：丙也不可能选赵。

则必定是乙帮扶赵。

所以，正确选项是 B。

98. 在智能手机流行的时代，我们每天发送信息，也收到信息。人际之间的电子信息交往已成为当今时代一种独特的交往方式。在面对重要的人或关系时，很多人往往发出信息后就期待被秒回，如果没有被秒回，他们就产生一种怀疑感或被弃感，从而陷入深深的烦恼和焦虑之中。

以下哪项最可能是他们陷入深深烦恼和焦虑所需的假设？

- A. 当前技术已能实现智能手机的即时通信，方便快捷，且基本免费
- B. 有些聊天软件能在发送者手机中反馈信息接收者是否阅读了信息
- C. 有些人工作很忙，总习惯在忙完一天工作后才统一处理相关信息
- D. 有些人一天收到的信息太多，容易遗漏某人期待秒回的重要信息

【答案】A。解析：

搭桥型。

论点：在面对重要的人或关系时，很多人往往发出信息后就期待被秒回，如果没有被秒回，他们就产生一种怀疑感或被遗弃感，从而陷入深深的烦恼和焦虑之中。

论据：无。

本题无论据，只能通过补充论据进行加强。提问方式是假设类，优先考虑补充必要条件，即没有这个选项，论点则无法成立。

A 项：如果智能手机不能即时通信，那么发出的信息就无法被即时接收，发出者就不会期待秒回，也不会陷入深深的烦恼和焦虑，因此智能手机已能实现即时通信是论证成立所需的假设，当选；

B 项：信息接收者是否阅读了信息与发出者是否期待秒回没有直接关系，属于无关选项，不是论证成立所需的假设，排除；

C 项：接收者什么时候阅读信息与发出者是否期待秒回没有直接关系，属于无关选项，不是论证成立所需的假设，排除；

D 项：接收者是否遗漏了重要信息与发出者是否期待秒回没有直接关系，属于无关选项，不是论证

成立所需的假设，排除。

所以，正确选项是 A。

根据资料回答 99~100 题。

某市江海区决定对东风路、西河路、南塘路、北海路等 4 条辖区内道路进行市容出新，为了解群众意见，制定符合民意的出新方案，区政府相关部门的甲、乙、丙、丁 4 位同志两人一组结伴展开调研。已知，每人各选两条道路，每条道路恰有两人选择；在每条道路的调研中，乙与丙始终没有在一组。另外，还知道：

- (1) 如果甲选东风路，则丁也选东风路；
- (2) 如果丙选南塘路，则丁也选南塘路；
- (3) 甲没有选南塘路。

99. 根据上述信息，可以得出以下哪项？

- A. 甲选西河路和北海路
- B. 乙选西河路和南塘路
- C. 丙选东风路和西河路
- D. 丁选东风路和北海路

【答案】。解析：

根据“乙与丙始终没有在一组”可知，乙、丙中必定有一人跟甲一组。有两种情况：

情况 1：假如，乙和甲一组，根据条件“如果甲选东风路，则丁也选东风路”可知，甲东风、乙和丁也东风，与题干每条道路恰有两人选择矛盾。

因此，甲不选东风，根据条件“甲没有选南塘路”可知，甲只能选西河和北海。

情况 2：假如，丙和甲一组，根据条件“如果甲选东风路，则丁也选东风路”可知，甲东风、丙和丁也东风，与题干每条道路恰有两人选择矛盾。

因此，甲不选东风，根据条件“甲没有选南塘路”可知，甲只能选西河和北海。

无论那种情况，最后甲都只能选西河和北海。

所以，正确选项是 A。

100. 如果乙不选东风路，则可以得出以下哪项？

- A. 甲或者选东风路或者选南塘路
- B. 乙或者选西河路或者选南塘路
- C. 丙或者选南塘路或者选北海路
- D. 丁或者选西河路或者选北海路

【答案】B。解析：

整理题干条件为：

- (1) 如果甲选东风路，则丁也选东风路；
- (2) 如果丙选南塘路，则丁也选南塘路；
- (3) 甲没有选南塘路。

根据“每人各选两条道路，每条道路有两人选择。”且“乙和丙始终没有在一组。”可以得到：乙和丙各选不重叠的两条路，甲丁各选不重叠的两条路。

根据条件 (1)，若甲选东风路则丁也选东风，这样甲丁选择的的路的重叠了，矛盾。可以得到“甲不选东风路”，进而可以得到“甲选西河路和北海路”。因此排除 A 项。

甲选择西河路和北海路，那么丁选择另外两条南塘路和东风路。因此排除 D 项。

又根据题干“乙不选东风路”，可知丙选择东风路。

西河路、南塘路、北海路可以任意出现 1 个丙 2 个乙。

丙不一定要选“南塘路或者选北海路”，还可以选西河路。因此排除 C 项。

乙在三者中选择两个，必然会选择“西河路或者选南塘路”之一。B 项符合题意当选。

所以，正确选项是 B。

四、定义判断（10 题）。定义判断。每道题先给出定义，然后列出四种情况，要求你严格依据定义，从中选出一个最符合或最不符合该定义的答案。注意：假设这个定义是正确的，不容置疑的。

101. 公众充权：指在公共政策的制定、执行、评估、监督过程中，公众积极参与，充分表达自己的利益主张，以推动公共政策过程的民主化与科学化。

下列属于公众充权的是：

- A. 清明节到来前夕，一些社会人士在市文明办支持下创建了文明祭扫网站，号召民众祭扫时不放鞭炮，不烧纸钱，改用虚拟鲜花、电子蜡烛等绿色环保的方式
- B. 快递小哥小李当选市人大代表后，在广泛走访充分调研的基础上，提交了一份关于如何保障快递员权益、促进快递行业健康发展的议案
- C. 某市将要召开天然气价格调整听证会，有关部门要求区各街道、居委会搞好宣传动员工作，按照下达名额推举市民代表，确保公开公平公正
- D. 在某县未来五年发展规划制定过程中，县委、县政府通过召开居民座谈会、专家听证会等形式，征求到了许多宝贵的意见

【答案】D。解析：

属于型。

公众充权的定义关键词：“在公共政策的制定、执行、评估、监督过程中”、“公众积极参与，充分表达自己的利益主张”、“推动公共政策过程的民主化与科学化”。

A 项：创建文明祭扫网站，号召改用绿色环保的方式，不符合“在公共政策的制定、执行、评估、监督过程中”，不符合定义，排除；

B 项：提交议案，不符合“在公共政策的制定、执行、评估、监督过程中”，不符合定义，排除；

C 项：召开天然气价格调整听证会可以理解为“在公共政策的制定、执行、评估、监督过程中”，但按照下达名额推举市民代表，不符合“公众积极参与，充分表达自己的利益主张”，不符合定义，排除；

D 项：在某县未来五年发展规划制定过程中，符合“在公共政策的制定、执行、评估、监督过程中”，通过召开居民座谈会、专家听证会等形式，征求到了许多宝贵的意见，符合“公众积极参与，充分表达自己的利益主张”，符合定义，当选。

所以，正确选项是 D。

102. 社会性处罚：指存在失信行为的人员所受到的与自身失信行为没有直接关联的来自其他部门的限制和处罚。

下列属于社会性处罚的是：

- A. 以“站不起来”为理由强占他人座位的高铁“霸座男”，当场受到了乘警的严肃批评，下车后被移送公安机关接受治安处罚。这一事件曝光后，当事人的恶劣行为又遭到了全国网民的一致谴责
- B. 由于数据造假，某教授在国际期刊上发表的论文被撤稿。在网民的谴责声中，该教授又被撤销了基于该论文所获得的绩效奖励、省部级科研项目、荣誉称号、社会兼职
- C. 春节前夕，恶意拖欠农民工工资的部分包工头，被有关部门和各种媒体曝光，引起社会各界密切关注。根据银行、保险、铁路等部门的规定，这些违规者申请信用卡、购买保险以及动车和高铁票时都将受到限制
- D. 长江沿岸的一家化工企业，多次不顾禁令向长江偷偷排污，最近被省有关部门通报批评，吊销了

企业生产执照，它的上级主管部门及主要负责人也都受到了严厉的处罚

【答案】C。解析：

属于型。

社会性处罚的定义关键词：“存在失信行为的人员”、“所受到的与自身失信行为没有直接关联的来自其他部门的限制和处罚”。

A项：以“站不起来”为理由强占他人座位的高铁“霸座男”，符合“存在失信行为的人员”，当场受到了乘警的严肃批评，被移送公安机关接受治安处罚，这是与自身失信行为有直接关联的限制和处罚，不符合“所受到的与自身失信行为没有直接关联的来自其他部门的限制和处罚”，不符合定义，排除；

B项：某教授数据造假，符合“存在失信行为的人员”，论文被撤稿，撤销了基于该论文所获得的绩效奖励、省部级科研项目、荣誉称号、社会兼职，均是自身失信行为有直接关联的处罚，不符合“所受到的与自身失信行为没有直接关联的来自其他部门的限制和处罚”，不符合定义，排除；

C项：恶意拖欠农民工工资的包工头，符合“存在失信行为的人员”，申请信用卡、购买保险以及动车和高铁票时都将受到限制，符合“所受到的与自身失信行为没有直接关联的来自其他部门的限制和处罚”，符合定义，当选；

D项：长江沿岸的一家化工企业，多次不顾禁令向长江偷偷排污，不符合“存在失信行为的人员”，不符合定义，排除。

所以，正确选项是C。

103. 信息焦虑：指人们在过量信息包围下因为难以获取、处理、利用所需信息而产生的厌倦、烦躁、紧张等负面情绪。

下列属于信息焦虑的是：

A. 小敏热衷于娱乐八卦，她时刻关注微博更新，看到手机上的未读信息就忍不住想去点击，每天用于浏览信息的时间远远超过她自己的工作时间

B. 在开发商那里登记过购房意向后，闵先生每天都会接到几十个乃至上百个电话和信息，卖房的、装修的、投资的、理财的、贷款的，让他不胜其烦

C. 小谢沉迷于网络游戏，一玩就是一通宵，白天上课总想着游戏，久而久之产生了严重的厌学情绪，精神状态萎靡不振，身体素质越来越差

D. 小李在外文数据库查资料，每输入一个关键词就跳出几十篇相关论文，因英语欠佳，没法筛选，完全不知道哪些才是自己真正要用的，感觉精神马上就要崩溃了

【答案】D。解析：

属于型。

信息焦虑的定义关键词：“人们在过量信息包围下因为难以获取、处理、利用所需信息”、“产生的厌倦、烦躁、紧张等负面情绪”。

A项：每天用于浏览信息的时间远远超过她自己的工作时间，该选项没有体现出厌倦、烦躁、紧张等负面情绪，不符合定义，排除；

B项：在开发商登记过购房意向后，接到几十个乃至上百个电话和信息，体现不出闵先生“难以获取、处理、利用所需信息”，不符合定义，排除；

C项：小谢沉迷于游戏，白天上课也总想着游戏，该选项没有体现出“在过量信息包围下”，不符合定义，排除；

D项：小李查询资料，每输入一个关键词就跳出几十篇相关论文，因英语欠佳，没法筛选，不知道哪个是自己要用的，符合“人们在过量信息包围下因为难以获取、处理、利用所需信息”，感觉精神马上就要崩溃了，符合“产生的厌倦、烦躁、紧张等负面情绪”，符合定义，当选。

所以，正确选项是D。

104. 互联网公益：指民间团体或企业通过网络平台，发动社会公众参与的具有门槛低、透明度高、互动性强等特点的公益活动。

下列属于互联网公益的是：

- A. 某公司每年拨出专款开展公益活动，在官网上征集白内障患者并向符合特定条件的患者提供全部医疗费用
- B. 得知老张遭遇车祸，他的老同学通过班级群、朋友圈很快募集了三万多元捐款转交到他家
- C. 某爱心服务站每年开学前在自己的主页上公布来自各界的网络捐款账目，并邀请部分捐款人一起把善款送到山区
- D. 某村委会要通过网络平台发起“一帮一”捐资助学活动，帮助本村特困家庭的大学生解决了学费问题

【答案】D。解析：

属于型。

互联网公益的定义关键词：“民间团体或企业”、“通过网络平台”、“公众参与”、“门槛低、透明度高、互动性强公益活动”。

A项：某公司符合“民间团体或企业”，在官网符合“通过网络平台”，并向符合特定条件的患者提供全部医疗费用，不符合“门槛低、透明度高、互动性强公益活动”，不符合定义，排除；

B项：通过班级群、朋友圈募集捐款符合“通过网络平台”，但其同学是发起人不符合“民间团体或企业”，不符合定义，排除；

C项：爱心服务站符合“民间团体或企业”，但是爱心服务站只是在主页上公布网络捐款账目的一方，未体现出此捐款活动的发动者是谁，主体不明确，不符合定义，排除；

D项：村委会是民间自治组织，属于“民间团体”，通过网络平台发起“一帮一”捐资助学活动符合“通过网络平台发动社会公众参与的公益活动”，且捐款捐资活动是具有“门槛低、透明度高、互动性强等特点的公益活动”，符合定义，当选。

所以，正确选项是D。

105. 情感性劳动：指服务业员工在与顾客面对面交往时，将个人情感融入工作过程，对顾客、企业以及服务人员自己产生积极影响的行为。

下列属于情感性劳动的是：

- A. 某航空公司空姐站在登机口两旁欢迎乘客，时不时还会微笑着摸摸小孩的头
- B. 小刘总是面带微笑，语气亲切热情地接打电话，连续多年被评为最美接线员
- C. 某酒店智能客服“小青”善解人意，语音甜美，入住的客人都很喜欢和她互动
- D. 小秦在信访局工作多年，每次接待来访者，都非常耐心，细致了解具体情况

【答案】A。解析：

属于型。

情感性劳动的定义关键词：“服务业员工”、“顾客”、“面对面”、“个人感情”、“对顾客、企业及自己产生积极影响”。

A项：空姐属于“服务业员工”，站在登机口欢迎属于“面对面”，微笑摸摸小孩的头符合“个人感情”，符合定义，当选；

B项：接打电话不符合“面对面”，不符合定义，排除；

C项：小青是智能客服，不符合“个人感情”，不符合定义，排除；

D项：小秦在信访局工作，符合“服务业员工”，接待来访者符合“面对面”，耐心、细致了解只体现工作负责，未体现“个人感情”，不符合定义，排除。

所以，正确选项是 A。

106. 气候移民：指因为气候和自然环境的恶化，人们在原居住地无法继续生存而大规模迁移的现象。

下列属于气候移民的是：

- A. 为了恢复草原生态系统，保护天然牧场，原来散居的牧民搬迁到了统一规划建成的定居点
- B. 每到冬天，为了躲避严寒，一批又一批东北老人成群结队地跑到气候温暖的海南过冬
- C. 非洲一些地方长期干旱，农作物常年歉收，当地居民陆陆续续离开家园，四处寻找新的居住地
- D. 随着全球气候变暖，海平面逐渐上升，不少岛屿被海水淹没，岛上居民被迫搬迁异地

【答案】D。解析：

属于型。

气候移民的定义关键信息：因为气候和自然环境的恶化，人们在原居住地无法继续生存，大规模迁移。

A 项：牧民搬迁到了统一规划建成的定居点，是为了保护天然牧场，不是因为“在原居住地无法继续生存”，不符合定义，排除；

B 项：东北老人成群结队地跑到气候温暖的海南过冬，没有体现“在原居住地无法继续生存”，不符合定义，排除；

C 项：当地居民陆陆续续离开家园，四处寻找新的居住地，不符合“大规模迁移”，不符合定义，排除；

D 项：全球气候变暖，属于“气候和自然环境的恶化”，岛屿被海水淹没，属于“在原居住地无法继续生存”，岛上居民被迫搬迁异地，属于“大规模迁移”，符合定义，当选。

所以，正确选项是 D。

107. 隐形植入：指通过周边信息、符号体系等不易察觉的形式，使受众在不知不觉中受到影响的宣传策略。

下列属于隐形植入的是：

- A. 在某电视剧中，所有角色均使用同一品牌的手机，并使用这个品牌的经典铃声
- B. 城运会到来之前，商家把印有城运会会徽的各类文化创意产品陆续摆上了柜台
- C. 在某市博物馆馆标设计征集中，8 号方案以浓郁的地域文化元素受到了评委的关注
- D. 结婚纪念日快到了，为了提醒粗心又忙碌的丈夫，小李偷偷把他的手机屏保换成了婚纱照

【答案】A。解析：

属于型。

隐形植入的定义关键词：“不易察觉的形式”、“不知不觉受到影响”、“宣传策略”。

A 项：在电视剧中使用同一品牌手机，用该品牌经典铃声符合“不易察觉的形式”，“不知不觉受到影响”，也是“宣传策略”，符合定义，当选；

B 项：印有城运会会徽，不符合“不易察觉的形式”，不符合定义，排除；

C 项：馆标设计受到评委关注，不属于“宣传策略”，不符合定义，排除；

D 项：小李提醒丈夫结婚纪念日，把丈夫手机屏保换成婚纱照，符合“不易察觉的形式”，但不属于“宣传策略”，不符合定义，排除。

所以，正确选项是 A。

108. 语码转换：指说话人在同一对话过程中使用多种语言或方言进行交流的现象。

下列不属于语码转换的是：

- A. 约翰先生在中国生活多年，与单位同事交谈时总是坚持用汉语，有时实在不知道怎样准确表达自

- 己的意思，也会夹杂三两个英语单词
- B. 马经理接待来访客户，用普通话向他们介绍了自己公司的情况。得知客户中有两位陕西老乡后，当即操起陕西话与他们攀谈了几句
- C. 在一次国际学术会议上，陈教授用英语作报告时了一股浓浓的四川口音，参加会议的大多数外国学者几乎都没有听懂他的发言
- D. 来到留学生宿舍后，班主任方老师询问了他们的日常生活情况，当他发现一个学生流露出一解的神情时，立刻又用英语解释了一番

【答案】C。解析：

不属于型。

语码转换的定义关键词：“同一对话过程”、“多种语言或方言”。

A 项：约翰和同事交谈坚持用汉语，夹杂两三个英语单词，符合“同一对话过程”，英语和汉语两种语言符合“多种语言或方言”，符合定义，排除；

B 项：马经理接待客户符合“同一对话过程”，普通话、陕西话符合“多种语言或方言”，符合定义，排除；

C 项：陈教授作报告符合“同一对话过程”，四川口音的英语只有英语一种语言，不符合“多种语言或方言”，不符合定义，当选；

D 项：方老师询问学生日常生活符合“同一对话过程”、用英语解释表明之前说的不是英语，符合“多种语言或方言”，符合定义，排除。

所以，正确选项是 C。

109. 口碑营销：指运用有效手段，让消费者在亲朋好友之间对企业的产品、服务或整体形象进行介绍、推荐的营销方式。

下列属于口碑营销的是：

- A. 小张是个美妆达人，家里堆满了各式各样的化妆品，还经常在自己的微信朋友圈晒照片，为亲戚朋友推荐自己喜爱的化妆品
- B. 为了把某小镇打造成旅游名镇，市旅游局请文化传播公司精心策划了一则创意广告，引发了公众的广泛关注，默默无闻的小镇变得名闻遐迩
- C. 李阿姨购买了一款理疗仪后，每天在朋友圈图文并茂地发布自己的使用过程，赢得了几千条点赞后，在理疗仪公司换回了一个保健枕
- D. 某商场半月以前在电视台发布节日促销信息，还雇了许多退休的大爷大妈到各个小区发放促销小广告，节日当天又让员工及家属在商场门口排起了百米长队

【答案】C。解析：

属于型。

口碑营销的定义关键信息：运用有效手段，让消费者在亲朋好友之间对企业的产品、服务或整体形象进行介绍、推荐的营销方式。

A 项：小张的行为只体现了推荐产品，而没有体现对企业的产品、服务或整体形象进行介绍，不符合定义。排除；

B 项：市旅游局请文化传播公司进行广告推广，不属于让“消费者”进行介绍、推荐的营销方式，不符合定义，排除；

C 项：李阿姨“在朋友圈图文并茂地发布自己的使用过程”的行为，属于“在亲朋好友之间对企业的产品、服务或整体形象进行介绍、推荐的营销方式”，符合定义，当选；

D 项：商场与大爷、大妈属于雇佣关系，不属于让“消费者”进行介绍、推荐的营销方式，不符合定义，排除。

所以，正确选项是 C。

110. “一门式”政务服务：指为了方便群众，将原本需要跑多个政府部门才能办成的事项集中到一个服务中心或简化到一个窗口办结的服务行为。

下列属于“一门式”政务服务的是：

- A. 某市建立了一个社会综合治理云平台，将多种渠道发现的社会问题按照标准化流程推送到相应的职能部门，明确责任人并限时解决，避免了部门之间推诿扯皮的情况
- B. 某市新近成立了一个残疾人服务站，以前残疾人申请生活补贴需要携带申请表到各级残联审批盖章，现在只需到服务站提出申请，各级审批部门就会即时看到并办妥
- C. 市医院为了解决患者就医难的问题，在一楼大厅开设了便民门诊，挑选了一批医术精湛的医生坐诊，患者可以一站式完成挂号、就诊、缴费、取药的全部流程
- D. 某市非本地户籍的适龄儿童入学过去需要监护人现场提交户口、住房、工作证明等材料，现在只要通过教育部门专设的网上报名登记系统，就可一键提交全部材料

【答案】B。解析：

属于型。

“一门式”政务服务的定义关键词：“为了方便群众”、“将原本需要跑多个政府部门才能办成的事项集中到一个服务中心或简化到一个窗口办结”。

A 项：将多种渠道发现的社会问题按照标准化流程推送到相应的职能部门，未体现“集中到一个服务中心或简化到一个窗口办结”，且未体现“群众原本需要跑多个政府部门才能办成事项”，不符合定义，排除；

B 项：以前残疾人申请生活补贴需要携带申请表到各级残联审批盖章，体现了“原本需要跑多个政府部门”，现在只需到服务站提出申请，各级审批部门就会即时看到并办妥，体现了“集中到一个服务中心或简化到一个窗口办结”，且体现了“方便群众”，符合定义，当选；

C 项：市医院不属于政府部门，并且市医院为了解决患者就医难的问题，未体现“原本需要跑多个政府部门”，也不属于“政务服务”，不符合定义，排除；

D 项：过去需要监护人现场材料，未体现“原本需要跑多个政府部门”，“通过教育部门专设的网报名登记系统一键提交全部材料”是线上报名，未体现“集中到一个服务中心或简化到一个窗口办结”，不符合定义，排除。

所以，正确选项是 B。

五、资料分析

下列给出的文字、表格、图形资料均有五个问题要你回答，请根据资料提供的信息进行分析、计算、处理，然后从四个选项中选出一项正确的答案。

一、请根据给定资料回答 111~116 题。

2018 年我国硫酸、烧碱、纯碱、和乙烯产量分别为 5496 万吨、3159 万吨、2651 万吨和 129 万吨。2016 年一季度至 2018 年四季度我国硫酸、烧碱、纯碱、和乙烯产量见下图。

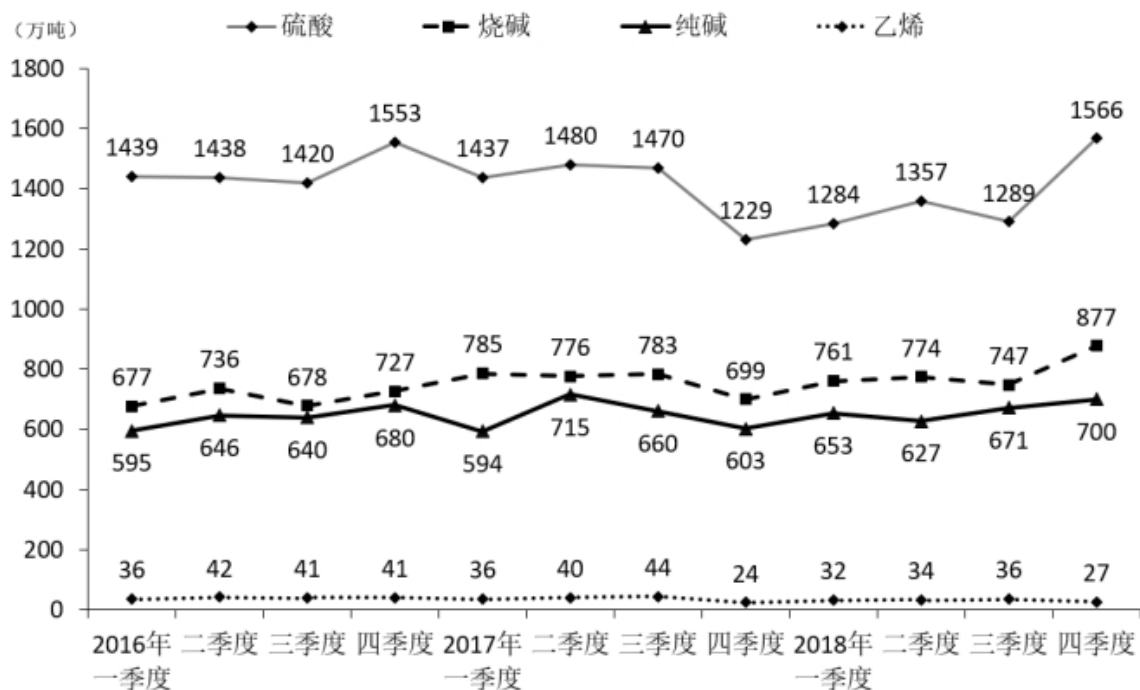


图 2016年一季度至2018年四季度我国硫酸、烧碱、纯碱和乙烯产量情况

111. 2018年我国硫酸、烧碱、纯碱和乙烯产量比上年增加最多的是：

- A. 硫酸
- B. 烧碱
- C. 纯碱
- D. 乙烯

【答案】B。解析：

考查同比增量的计算比较。

由第一段（2018年我国硫酸、烧碱、纯碱和乙烯产量分别为5496万吨、3159万吨、2651万吨和129万吨），结合图表，可得四个选项的同比增量分别为：

硫酸： $5496 - (1437 + 1480 + 1470 + 1229) < 0$

烧碱： $3159 - (785 + 776 + 783 + 699) = 116$

纯碱： $2651 - (594 + 715 + 660 + 603) = 79$

乙烯： $129 - (36 + 40 + 44 + 24) < 0$

B项烧碱产量比上年增加量最多。

所以，正确选项是B。

112. 2016年一季度至2018年四季度，我国硫酸、烧碱产量最接近的是：

- A. 2017年一季度
- B. 2017年四季度
- C. 2018年一季度
- D. 2018年三季度

【答案】C。解析：

由图表得，四个选项的硫酸、烧碱产量之差分别为：

2017 年一季度：1437-785=652；

2017 年四季度：1229-699=530；

2018 年一季度：1284-761=523；

2018 年四季度：1289-747=542。

C 项的差最小，即产量最接近。

所以，正确选项是 C。

113. 2016 年二季度至 2018 年四季度，我国烧碱产量的季平均增量是：

A. 12.8 万吨

B. 14.1 万吨

C. 16.7 万吨

D. 18.2 万吨

【答案】D。解析：

考查平均增量。

由图表（2016 年一季度我国烧碱产量 677 万吨，2018 年四季度我国烧碱产量 877 万吨），可得平均增量 = $(877-677) / (12-1) = 200/11 = 18.2$ 万吨。

所以，正确选项是 D。

114. 设 2018 年四季度我国硫酸、烧碱、纯碱产量的同比增速分别为 V 硫、V 烧、V 纯，则下列关系正确的是：

A. V 硫 > V 烧 > V 纯

B. V 烧 > V 纯 > V 硫

C. V 纯 > V 硫 > V 烧

D. V 纯 > V 烧 > V 硫

【答案】A。解析：

考查同比增长率。

由图表得，硫酸、烧碱、纯碱产量的同比增速分别为：

硫酸： $(1566-1229) / 1229 = 337/1229 > 25\%$

烧碱： $(877-699) / 699 = 178/699 \approx 25\%$

纯碱： $(700-603) / 603 = 97/603 < 20\%$

所以，正确选项是 A。

115. 下列判断正确的是：

A. 2018 年我国乙烯产量增速比上年有所下降

B. 2016 年二季度至 2018 年四季度，我国硫酸和乙烯产量变动方向始终相反

C. 2016 年二季度至 2018 年四季度，我国烧碱和纯碱产量环比正增长的季度个数相同

D. 2016 年二季度至 2018 年四季度，我国纯碱产量环比增速在 2017 年四季度最小

【答案】A。解析：

A 项，由第一段（2018 年我国乙烯产量 129 万吨），结合图表（2016 年我国乙烯产量 = $36+42+41+41=160$ 、2017 年我国乙烯产量 = $36+40+44+24=144$ ），2018 年我国乙烯产量增速 = $(129-144) / 144 = (-15) / 144 < -10\%$ 、2017 年我国乙烯产量增速 = $(144-160) / 160 = (-16) / 160 = -10\%$ ，说法正确，当选。

B 项，由图表得，2016 年三季度，我国硫酸和乙烯产量都是环比下降、变动方向相同，说法错误，

排除。

C项，由图表得，2016年二季度至2018年四季度，我国烧碱环比正增长的季度有7个、纯碱环比正增长的季度有6个，说法错误，排除。

D项，由图表得，2017年一季度我国纯碱产量环比增速= $(594-680)/680 = (-86)/680$ 、2017年四季度我国纯碱产量环比增速= $(603-660)/660 = (-57)/660$ ，可得我国纯碱产量环比增速在2017年四季度并非最小，说法错误，排除。

所以，正确选项是A。

二、请根据给定资料回答116~120题。

2018年11月中旬，某市统计局对全市2000名18~65周岁的常住居民进行了有关“双11”网购情况的电话调查。调查结果显示，47.5%的受访者参与了2018年“双11”的网购，其中64.4%的男性和67.2%的女性表示“有实际购物需求”是其参与“双11”网购的原因之一。

表 某市参与2018年“双11”网购的受访者网购支出情况

网购支出(万元)	0.4以下	0.4-0.8	0.8-1.2	1.2-1.6	1.6-2.0	2.0以上	不确定
占比(%)	80.1	10.8	3.9	0.6	1.3	0.8	2.5

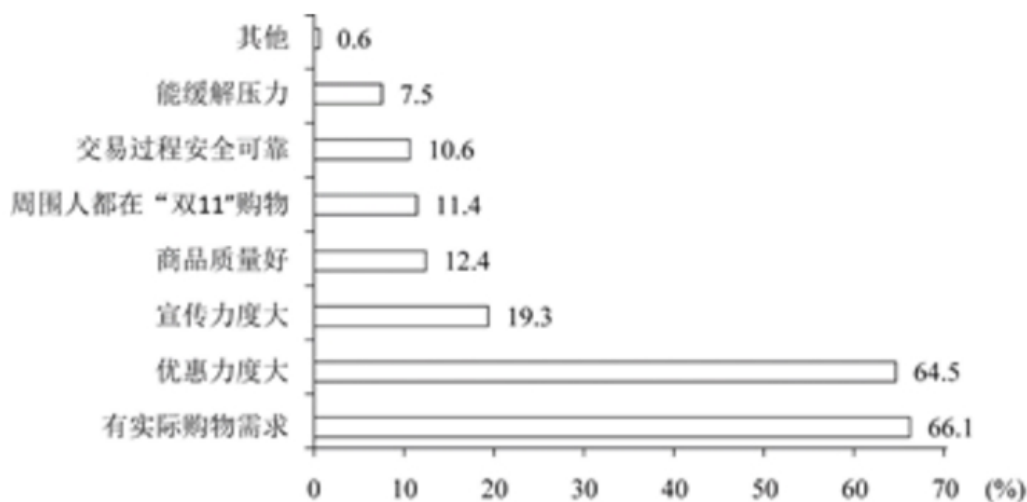


图1 某市参与2018年“双11”网购的受访者网购原因(限选3项)

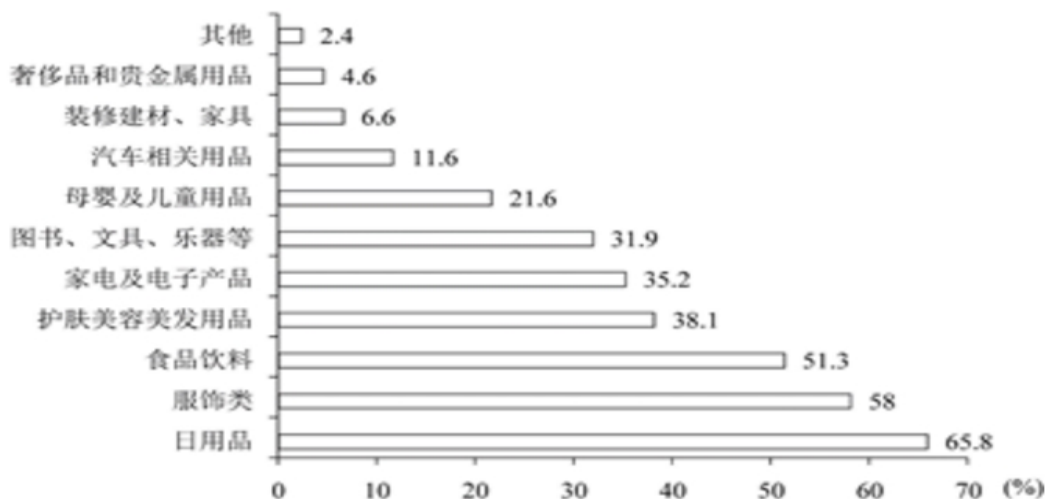


图2 某市参与2018年“双11”网购的受访者网购商品情况(可多选)

116. 该市受访者中，参与 2018 年“双 11”网购的与未参与的相差：

- A. 100 人
- B. 114 人
- C. 120 人
- D. 131 人

【答案】A。解析：

考查比重问题。

由第一段（某市统计局对全市 2000 名 18-65 周岁的常住居民进行了有关“双 11”网购情况的电话调查。调查结果显示，47.5%的受访者参与了 2018 年“双 11”的网购），

可得未参与的占 $1-47.5\%=52.5\%$ ，

两部分人数相差 $2000 \times (52.5\% - 47.5\%) = 100$ 人。

所以，正确选项是 A。

117. 该市恰有 551 名受访者 2018 年“双 11”网购的商品类别是：

- A. 服饰类
- B. 家电及电子产品
- C. 食品饮料
- D. 母婴及儿童用品

【答案】A。解析：

考查比重问题。

网购该商品的人数占参与网购人数的比重 $= 551 / (2000 \times 47.5\%) = 551 / 950 = (475 + 76) / 950 = 58\%$ ，

结合图 2，A 项当选。

所以，正确选项是 A。

118. 该市参与 2018 年“双 11”网购的受访者中，男、女人数的比值最接近：

- A. 0.47
- B. 0.51
- C. 0.59
- D. 0.65

【答案】D。解析：

由第一段（其中 64.4%的男性和 67.2%的女性表示“有实际购物需求”是其参与“双 11”网购的原因之一）和图表（有实际购物需求的受访者占比为 66.1%），

十字交叉法：

男性： 64.4% (67.2%-66.1%) (对角线上大数减小数)

实际购物需求的受访者： 66.1%

女性： 67.2% (66.1%-64.4%) (对角线上大数减小数)

则可得男女人数之比 $= (67.2\% - 66.1\%) : (66.1\% - 64.4\%) = 11 : 17 \approx 0.65$ 。

所以，正确选项是 D。

119. 该市参与 2018 年“双 11”网购的受访者中，选择 3 种网购原因的占比至多为：

- A. 30.8%
- B. 46.2%
- C. 64.1%

D. 66.1%

【答案】B。解析：

考查容斥极值思想；

假设参与 2018 年“双 11”网购的受访者总人数为 100 人，

可得总项数=0.6+7.5+10.6+11.4+12.4+19.3+64.5+66.1=192.4 项。

先给每人分一项，还剩 $192.4-100=92.4$ 项，

再拿出 $92.4/2=46.2$ 人，每人可再分两项。这 46.2 人就是分到三项的。

所以，正确选项是 B。

120. 从上述资料中能够推出的是：

A. 参与“双 11”网购的受访者中有人网购食品饮料的支出超过 0.4 万元

B. “双 11”网购日用品的受访者都选择了“有实际购物需求”的网购原因

C. 因优惠力度大而参与“双 11”网购的受访者中一定有人网购了护肤美容美发用品

D. “双 11”网购支出 0.8~1.2 万元的受访者人数比网购支出 1.6~2.0 万元的多 2 倍

【答案】C。解析：

A 项，由图表得支出超过 0.4 万元的占比最多=1-80.1%=19.9%；由图 2 得网购食品饮料的占比为 51.3%。因为 $19.9\%+51.3\%=71.2\%<100\%$ ，所以不一定存在交叉。因此 A 项错误，排除；

B 项，由图 1 得因有实际购物需求而参与“双 11”网购的受访者占比为 66.1%。由图 2 得网购了日用品的受访者占比为 65.8%。但是无法推出网购日用品的受访者都选择了“有实际购物需求”的网购原因。因此 B 项错误，排除；

C 项，由图 1 得因优惠力度大而参与“双 11”网购的受访者占比为 64.5%。由图 2 得网购了护肤美容美发用品的占比为 38.1%。因为 $64.5\%+38.1\%=102.6\%>100\%$ ，所以一定存在交叉部分。因此 C 项说法正确，当选。

D 项，由图表得（网购支出 0.8~1.2 万元的受访者占比 3.9%、网购支出 1.6~2.0 万元的受访者占比 1.3%），但不能确定这个数据是人数还是钱数，因此无法推出，排除。

所以，正确选项是 C。

三、请根据给定资料回答 121~125 题。

2017 年某市调查总队对全市服务业小微企业的抽样调查显示，2017 年全市服务业小微样本企业总资产 938.6 亿元，销售总收入 105.4 亿元，销售总费用 6.8 亿元；人员薪酬 19.3 亿元，比上年增长 9.3%；从业人员 29028 人，与上年持平；营业税金及附加 1.1 亿元，比上年下降 29.5%；缴纳增值税 2.3 亿元，比上年增长 11.6%。

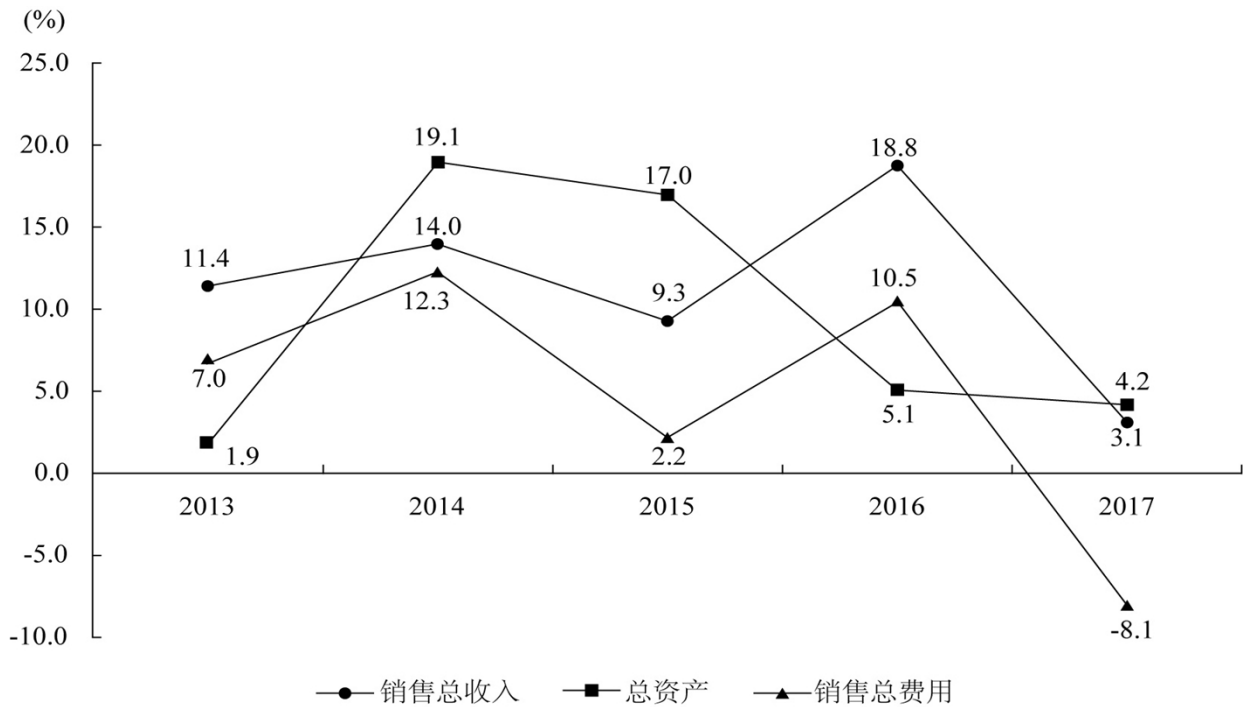


图 2013年—2017年某市服务业小微样本企业总资产、销售总收入和销售总费用增速

121. 2017 年该市服务业小微样本企业缴纳增值税比上年增加:

- A. 0.11 亿元
- B. 0.15 亿元
- C. 0.24 亿元
- D. 0.34 亿元

【答案】C。解析:

考查同比增量。

由第一段 (2017 年缴纳增值税 2.3 亿元, 比上年增长 11.6% $\approx 1/9$), 份数法可得同比增量=2.3/10=0.23。

所以, 正确选项是 C。

122. 2017 年该市服务业小微样本企业从业人员人均薪酬比上年增长:

- A. 8.6%
- B. 9.3%
- C. 10.5%
- D. 11.3%

【答案】B。解析:

平均增长率 $R = (R_1 - R_2) / (1 + R_2)$ 。

由第一段 (人员薪酬 19.3 亿元, 比上年增长 9.3%; 从业人员 29028 人, 与上年持平)。

则平均增长率 $R = (R_1 - R_2) / (1 + R_2) = (9.3\% - 0\%) / (1 + 0\%) = 9.3\%$ 。

所以, 正确选项是 B。

123. 2013~2017 年该市服务业小微样本企业销售总费用增速最快、最慢的年份分别是:

- A. 2016 年、2015 年

- B. 2014 年、2015 年
- C. 2016 年、2017 年
- D. 2014 年、2017 年

【答案】D。解析：

该市服务业小微样本企业销售总费用增速最快的是 2014 年（12.3%），最慢的是 2017 年（-8.1%）。所以，正确选项是 D。

124. 2017 年该市服务业小微样本企业销售总收入比 2013 年增长：

- A. $100\% - 3.1\% \times 18.8\% \times 9.3\% \times 14.0\%$
- B. $103.1\% \times 118.8\% \times 109.3\% \times 114.0\% - 100\%$
- C. $100\% - 3.1\% \times 18.8\% \times 9.3\% \times 14.0\% \times 11.4\%$
- D. $103.1\% \times 118.8\% \times 109.3\% \times 114.0\% \times 111.4\% - 100\%$

【答案】B。解析：

考查增长率的计算。

假设 2013 年该市服务业小微样本企业销售总收入为 100%，

由图表可得 2017 年该市服务业小微样本企业销售总收入 = $100\% \times 114\% \times 109.3\% \times 118.8\% \times 103.1\%$ ，
增长率 = $(100\% \times 114\% \times 109.3\% \times 118.8\% \times 103.1\% - 100\%) / 100\%$ 。

所以，正确选项是 B。

125. 从上述资料中不能推出的是：

- A. 2017 年该市小微样本企业的销售费用率比上年有所下降
- B. 2016 年该市小微样本企业营业税金及附加超过 1.55 亿元
- C. 2013~2017 年该市小微样本企业销售总收入和销售总费用的变动方向一致
- D. 2013~2017 年该市小微样本企业销售总收入和总费用增速相差最大的年份是 2017 年

【答案】C。解析：

A 项，考查比重趋势，销售费用率 = 销售总费用 / 销售总收入；由图表得（2017 年该市小微样本企业的销售总费用同比增长 -8.1%、销售总收入同比增长 3.1%），分子增长率小于分母、比重下降，说法正确，排除。

B 项，由第一段（2017 年营业税金及附加 1.1 亿元，比上年下降 29.5%），可得 2016 年该市小微样本企业营业税金及附加金额 = $1.1 / (1 - 29.5\%) = 1.1 / 0.705 = (705 + 352.5 + 42.5) / 705 > 1.55$ ，说法正确，排除。

C 项，由图表得 2017 年该市小微样本企业销售总收入同比增长 3.1%、销售总费用同比增长 -8.1%，两者变动方向相反，说法错误。因此 C 项当选。

D 项，由图表得 2013~2017 年该市小微样本企业销售总收入和总费用增速分别相差：

2013 年： $11.4\% - 7\% = 4.4$ 个百分点。

2014 年： $14\% - 12.3\% = 1.7$ 个百分点。

2015 年： $9.3\% - 2.2\% = 7.1$ 个百分点。

2016 年： $18.8\% - 10.5\% = 8.3$ 个百分点。

2017 年： $3.1\% + 8.1\% = 11.2$ 个百分点。

增速相差最大的年份是 2017 年，说法正确，排除。

所以，正确选项是 C。

四、请根据给定资料回答 126~130 题。

2018年江苏第一、二、三产业增加值分别为4142亿元、41248亿元和47205亿元；城镇常住居民人均可支配收入47200元，增长8.2%，农村常住居民人均可支配收入20845元，增长8.8%；一般公共预算收入8630亿元，一般公共预算支出11658亿元。

表 2017年江苏三大区域部分社会经济发展指标数据

指标	单位	苏南	苏中	苏北
一般公共预算收入	亿元	4913	1246	1508
一般公共预算支出	亿元	5051	1793	2843
乡村从业人员	万人	626	689	1274
农林牧渔业总产值	亿元	1686	1680	4071
高速公路	公里	1870	948	1870
私人汽车拥有量	万辆	806.5	261.2	340.5
社会消费品零售总额	亿元	18316	5622	7800
出口	亿美元	3010.2	410.2	212.6
进口	亿美元	1993.0	175.5	109.9
旅游外汇收入	亿美元	37.62	2.42	1.91
城镇常住居民人均可支配收入	元	54169	40920	31007
城镇常住居民人均生活消费支出	元	32034	24549	18035
农村常住居民人均可支配收入	元	26759	20000	16501
农村常住居民人均生活消费支出	元	18872	14644	11763

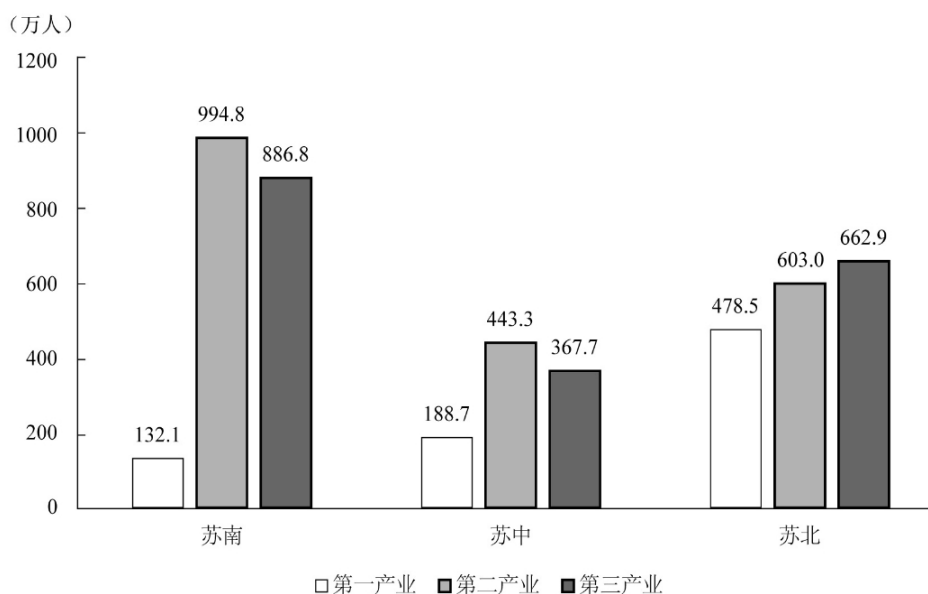


图1 2017年江苏三大区域三次产业就业人数情况

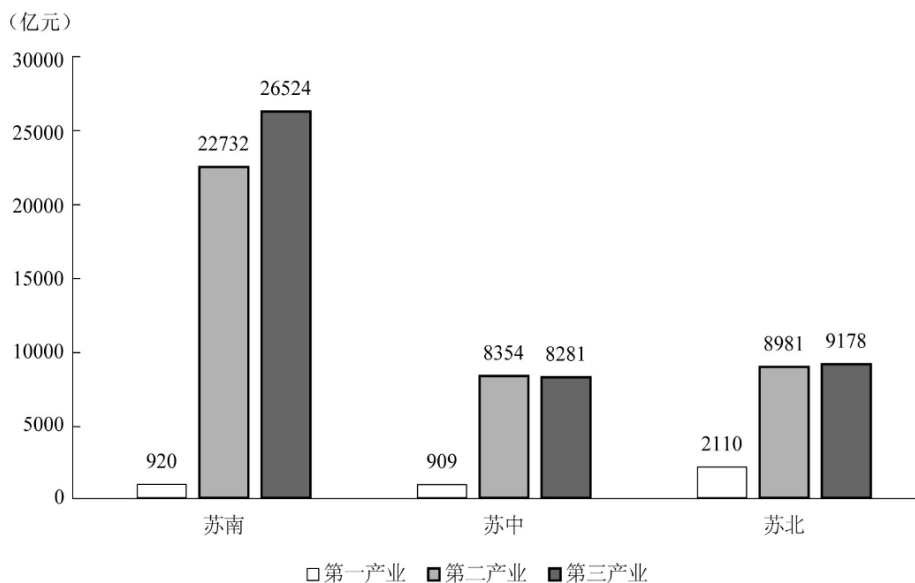


图2 2017年江苏三大区域三大产业增加值情况

126. 2018年江苏第三产业增加值比第二产业多:

- A. 12.6%
- B. 14.4%
- C. 15.1%
- D. 16.2%

【答案】B。解析:

由第一段(2018年江苏第一、二、三产业增加值分别为4142亿元、41248亿元和47205亿元),可知: $(47205-41248)/41248 \approx 5957/41248$, 略小于15%。B项当选。所以,正确选项是B。

127. 上表所有指标中, 2017年苏南与苏北地区指标数值相差不到一倍的有:

- A. 5项
- B. 6项
- C. 7项
- D. 8项

【答案】B。解析:

苏南与苏北的倍数关系小于2倍的有一般公共预算支出、高速公路、城镇常住居民人均可支配收入、城镇常住居民人均生活消费支出、农村常住居民人均可支配收入、农村常住居民人均生活消费支出。共有6项。

所以,正确选项是B。

128. 2018年江苏一般公共预算收入比上年增加:

- A. 963亿元
- B. 988亿元
- C. 1963亿元
- D. 1971亿元

【答案】A。解析:

由第一段（一般公共预算收入 8630 亿元）和图表 1（苏南 4913 亿元、苏中 1246 亿元、苏北 1508 亿元），

可知： $8630 - (4913 + 1246 + 1508) = 963$ 亿元。

所以，正确选项是 A。

129. 2017 年苏南、苏中、苏北地区就业人员人均产业增加值最大的是：

- A. 苏中第三产业
- B. 苏南第二产业
- C. 苏南第三产业
- D. 苏北第二产业

【答案】C。解析：

由图表 2 和图表 3，可得四个选项的人均产业增加值分别为：

苏中第三产业： $8281/367 < 30$ ；

苏南第二产业： $22732/994 < 30$ ；

苏南第三产业： $26524/886 \approx 30$ ；

苏北第二产业： $8981/603 < 20$ 。

就业人员人均产业增加值最大的是苏南第三产业。

所以，正确选项是 C。

130. 从上述资料中能够推出的是：

- A. 2017 年苏中地区高速公路的里程不足全省的五分之一
- B. 2017 年苏北和苏中地区进口额之和不及苏南的八分之一
- C. 2018 年江苏城镇和农村常住居民人均可支配收入的绝对差距比上年有所缩小
- D. 2017 年苏中农村常住居民人均生活消费支出与人均可支配收入的比值大于苏南

【答案】D。解析：

A 项，由图表 1（苏南高速公路里程 1870 公里、苏中高速公路里程 948 公里、苏北高速公路里程 1870 公里），全省高速公路里程= $1870 + 948 + 1870 = 4688$ ， $948 > (4688/5) > 20\%$ ，说法错误，排除。

B 项，由图表 1（苏南进口额 1993 亿美元、苏中进口额 175.5 亿美元、苏北进口额 109.9 亿美元），可得 $(175.5 + 109.9) > (1993/8)$ ，说法错误，排除。

C 项，由第一段（城镇常住居民人均可支配收入 47200 元，增长 8.2%，农村常住居民人均可支配收入 20845 元，增长 8.8%），城镇常住居民的增长量大于农村常住居民的增长量，所以两者的差距拉大，说法错误，排除。

D 项，由图表 1 最后两行，可得苏中 $(14644/2000) >$ 苏南 $(18872/26759)$ ，说法正确，当选。
所以，正确选项是 D。

全部测验到此结束！

请扫描QQ二维码，备注“公务员考生”加QQ好友
获取曹长远老师精解历年公务员考试申论、行测、面试
真题完整解析资料。

精品资料，尽在掌握！



扫描二维码，加QQ好友