

2015年3月22日江苏省公务员考试

《行政职业能力测验》真题（A）答案解析

说明

本测验共有五个部分，135道题，总时限为120分钟。各部分不分别计时，但都给出了参考时限，供你参考以分配时间。

请在题本、答题卡上严格按照要求填写好自己的姓名，填涂准考证号。

题目应在答题卡上作答，在题本上作答的一律无效。涂写答案时一定要认准题号。严禁折叠答题卡。

第一部分 言语理解与表达

（共25题，参考时间25分钟）

一、片段阅读。每道题包含一段文字，要求你从四个选项选出最恰当的一项，你的选择必须与题干要求相符合。

1. 财税体制改革，可谓牵一发而动全身。最关注财税体制改革、最明白其重要含义的无疑是各级地方政府，因为财税改革将撬动地方财政“钱袋子”，使之在收入、支出、监督等各方面均发生显著变化。对于目前地方财政面临的诸多深层次问题，如财权与事权不统一、土地财权过度膨胀、预算不够公开透明，等等，本轮财税体制改革都将拿起“手术刀”，直剖病灶予以解决。

对这段文字概括最准确的是（ ）

- A. 财税体制改革主要针对各级地方政府
B. 财税改革将促使地方政府直面各种财税问题
C. 财税改革是解决地方财政问题的良方妙药
D. 财税改革目的在于收紧地方财政的“钱袋子”

【答案】C。解析：

问题对策结构。

“地方财政面临的诸多深层次问题……予以解决”。

所以，正确选项是C。

2. 朱光潜生平最景仰两个人，一个是陶潜，一个是和他只有一面之缘的弘一法师。他一生奉行的座右铭是“以出世的精神，做入世的事业”。因做“入世”的事业，他有儒家兼济天下、学以致用的热肠，有“天行健，君子以自强不息”的意志；因有“出世”的精神，他深得道家超然物表、虚静无为的精髓，足具淡泊明志，宁静致远的神采。不管是风平浪静之时，还是黑云压城之日，他始终锲而不舍，孜孜以求。

下列词语与文段中对朱光潜描述无关的词语是（ ）

- A. 无为而治
B. 不求名利
C. 意志坚强
D. 胸怀天下

【答案】A。解析：

根据文意可知，B项“不求名利”对应“足具淡泊明志，宁静致远的神采”，C项“意志坚强”对应“……始终锲而不舍”，D项“胸怀天下”对应“他有儒家兼济天下、学以致用的热肠”。

所以，正确选项是A。

3. 中国人均实际可利用水资源量为900立方米，且分布极不均衡。全国每年缺水量为500多亿立方米。2010年，北京人均水资源降至107立方米，同期巴黎为490立方米，东京为398立方米。北方资源性缺水程度加剧，而南方水质型缺水现象突出，地下水污染状况严重。在200个城市的地下水监测中，水质较差的有40.3%，极差的有14.7%，珠三角等区域内主要城市及近郊地下水中普遍监测出有毒微量有机污染指标。

这段文字意在强调（ ）

- A. 中国水资源的问题主要在于分布不均匀
B. 中国当前全国范围水资源面临严重问题
C. 中国北方缺水情况与南方缺水情况不同
D. 中国一些经济发达城市地下水污染严重

【答案】B。解析：

证明结构。

论点是“中国人均实际可利用水资源量为 900 立方米，且分布极不均衡。”

所以，正确选项是 B。

4. 由于现今大学对自身职能以及职能履行的认识存在一定的偏差，大学内部制度中缺乏教学的价值体现，教师在教学方面的努力、贡献难以得到应有的承认，这样就桎梏了教师的教育热情，直接影响教学质量与大学的社会公信力。另外，大学及教师群体对“学术”内涵的窄化理解使得教学与科研相对立，未将教学上升到学术的层面加以理解。在大学中广泛存在着对专业科研的学术认同，而作为知识传播的教学则难以进入学术之列。

这段文字主要强调的是（ ）

- A. 大学应提高自身职能的认识
B. 大学教学质量有待进一步提高
C. 大学必须提高对教学价值的认识
D. 大学内部应对教学与科研一视同仁

【答案】C。解析：

并列结构。

“大学内部制度中缺乏教学的价值体现”，“另外，大学及教师群体……未将教学上升到学术的层面加以理解”（隐含：对教学的价值缺乏正确认识）。意在强调：大学必须提高对教学价值的认识。

所以，正确选项是 C。

5. 睡眠有个神奇的特点，就是我们大多数人总是在每天晚上相同的时间感受到睡魔的召唤。之所以如此，是因为睡眠的启动部分依赖于大脑内的一个“时钟”，这个“时钟”能够追踪记录地球的昼夜更替以及季节性节律，而这个星球上的其他生物，从细菌和植物，到鱼类、昆虫和哺乳动物，都具有这样的能力，“生物钟”在自然界无处不在。

根据文意，下列现象与“生物钟”无关的是（ ）

- A. 腊梅花香寒冬来到
B. 公鸡每天清晨打鸣
C. 旅美归来要“倒时差”
D. 夏季来临昼长夜短

【答案】D。解析：

阅读题干所列举的“这个星球上的其他生物，从细菌和植物，到鱼类、昆虫和哺乳动物，都具有这种能力”可知，拥有“生物钟”的主体是具有生命的生物，A、B、C 三项的腊梅、公鸡、人都符合这一要求，而 D 项“夏季来临昼长夜短”是一种自然规律，与生物无关，因而与“生物钟”无关。

所以，正确选项是 D。

6. 20 世纪 90 年代起，我国实施允许国内民间资本和外资参与国有企业改革改组的政策。截至 2012 年底，银行业中股份制商业银行总股本中民间资本占比达到 45%，城市商业银行总股本中民间资本占比则超过半数，农村中小金融机构股本中民间资本超过 90%。到 2012 年，中国已有 2494 家境内上市公司，股票市值达 23 万亿元，占当年 GDP 的 43%，股票有效账户数 14046 万户。

以下概括与文意不符的一项是（ ）

- A. 至 2012 年底城商银行民间资本参股占比超过 50%
B. 2012 年我国 GDP 已超过 60 万亿元
C. 2012 年我国股票有效账户数已经过亿
D. 2012 年我国境内上市公司已接近 2500 家

【答案】B。解析：

细节对比题。

根据“到 2012 年，中国……股票市值达 23 万亿元，占当年 GDP 的 43%”可知，2012 年我国 GDP 约为 53

万亿，B项的说法与文意不符。

所以，正确选项是B。

7. 民以食为天，人多地少是不少国家面临的共同问题。在全球化时代，国际粮价的波动往往对国内粮食生产影响巨大。据介绍，日本已在海外开发农田 1200 万公顷，相当于其国内耕地面积的 3 倍；韩国在海外购买和租赁农田 243 万公顷，相当于其国内耕地面积的 1.3 倍，日韩农业“走出去”，借助多元化的规模经营，获得了强大的国际竞争力，对保证其粮食供应起到了积极作用。

这段文字讨论的重点是（ ）

- A. 日韩本世纪的耕地面积规模
B. 日韩“走出去”的海外屯田战略
C. 人多地少、粮价波动是世界性问题
D. 国际粮价与国内粮食生产的联动

【答案】B。解析：

问题对策结构。

文段前两句指出人多地少、粮价波动的全球性问题，后两句介绍了日韩两国的解决措施及其起的积极作用。因此文章论述的重点应该是“走出去”的海外屯田战略。

所以，正确选项是B。

8. 夏商及周早期，中国并无商税。这一时期，由于生产力低下，手工业和商业较为落后，且必须在官府作坊内从事生产和贸易，史称“工商食官”。这种体制决定了自己对自己征税并无必要。目前也尚无史料记载这一时期曾开征商税。

夏商及周早期中国没有商税的主要原因在于（ ）

- A. 当时整个社会的生产力水平太低
B. 这个时期手工业和商业比较落后
C. 当时的统治者还没有征收商税的意识
D. 从事生产和贸易的作坊全都属于官府

【答案】D。解析：

根据“必须在官府作坊内从事生产和贸易……这种体制决定了自己对自己征税并无必要”可知，夏商及周早期中国没有商税的主要原因在于D项：从事生产和贸易的作坊全都属于官府。

所以，正确选项是D。

9. 新型城镇化最大的障碍是旧的体制和旧的利益格局，突破旧体制的束缚，打破旧利益格局的掣肘，就需要政府淡化经济运营角色，从全能政府转变为有限政府，改变公共权力运行方式。诚然，在重视市场机制的同时，对于城镇化的进程、城市人口、城市布局、城市规模，政府要实行必要的宏观调控，但与此同时，政府也应该从以行政手段为主管理城镇发展，转变为采用经济和法律手段为主管理城镇发展。

下列说法不符合文意的一项是（ ）

- A. 推动新型城镇化工作的关键是转变政府职能
B. 新型城镇化发展的总体规划应该交由市场进行调控
C. 推动新型城镇化稳步发展必须坚持并强化依法行政
D. 新型城镇化过程中政府对人口等问题仍需实施管控

【答案】B。解析：

细节对比题。

B项，根据“在重视市场机制的同时……政府要实行必要的宏观调控”可知，新型城镇化发展的总体规划应该由政府调控，因此B项的说法不符合文意。

所以，正确选项是B。

10. 律师以维护当事人的合法权益，维护法律的正确实施，维护社会公平和正义为己任。正确认识和评价律师在诉讼活动中的地位，为律师发挥积极作用营造良好的环境，有利于更好地查清案件事实，准确适用

法律，提高案件审理的质量和效率，能够更好地引导人们服判息诉，自觉履行生效判决，提升司法公信力。相反，忽视甚至否认律师在诉讼活动中的作用，必然影响诉讼活动的运行质量，削弱司法过程和裁判结果的社会认同，降低司法公信力。

这段文字主要强调的是（ ）

- A. 律师在维护当事人合法权益方面无疑具有积极作用
- B. 律师参与诉讼活动将更加有利于维护社会公平正义
- C. 忽视律师在司法活动中所起作用将影响司法公信力
- D. 必须正确认识和评价律师在诉讼活动中的积极作用

【答案】D。解析：

并列结构。文段从正反两方面论述了“认识和评价律师在诉讼活动中的地位”的重要性和必要性，意在强调：必须正确认识和评价律师在诉讼活动中的积极作用。A、B、C 三项均只描述了律师作用的一个方面，过于片面，排除。

所以，正确选项是 D。

二、文章阅读。阅读下面文章，回答问题。本题共有五道题，每道题提供四个选项，要求你从中选出最恰当的一项，你的选择必须与题干要求相符合。

我国最早的地理学著作《禹贡》，实际上产生于战国后期，但对历史地理现象的注意和记录在更早的著作中已可找到例证。成书于公元 1 世纪的《汉书·地理志》既是一篇内容丰富的当代地理著作，也堪称中国第一篇历史地理著作，因为它所记述的对象不限于西汉一朝，而是“采获旧闻，考迹《诗》、《书》，推表山川，以缀《禹贡》、《周官》、《春秋》，下及战国、秦、汉”，对见于历史典籍记载的重要山川地名作了考订注释。此后，从酈道元的《水经注》至唐宋以来传世的地理著作，几乎都是由当世上溯到往古，注重历史地理现象的记载和研究的。

在中国漫长的历史时期内，皇朝的更迭、政权的兴衰、疆域的盈缩、政区的分合和地名的更改不断发生，黄河下游的频繁决溢改道又经常引起有关地区地貌及水系的变迁，给社会生活带来相当大的影响。中国古代发达的文化使这些变化大多得到了及时而详尽的记载，但由于在如此巨大的空间和时间中所发生的变化是如此复杂，已不是一般学者所能随意涉足，因而产生了一门专门的学问——舆地之学（沿革地理）。到清代，沿革地理学的成就达到了高峰，是乾嘉学派学术成就的重要组成部分。

毫无疑问，沿革地理是历史地理学的一个分支，因此我们可以说中国的历史地理研究____于 1900 余年前的《汉书·地理志》，并可以____更长的历史；但是沿革地理不等于历史地理学，两者不仅有量的不同，而且有质的区别。就研究内容而言，前者主要是政区和疆域、地名、水道的变迁，后者却包括地理学的各个分支。就研究的性质而言，前者一般只是现象的描述和复原，很少涉及变化的原因，后者则不仅要复原各种以往的地理现象，而且要寻求它们变化发展的原因，探索它们的规律。中国沿革地理虽然是一门专门的学问，却一直没有形成一门学科，所以数百年来除了有少数几位专治沿革地理的学者之外，大多只是历史学家、经学家、训诂学家、文学家、金石家的副业，它的成果主要也是作为历史学和其他学科的注释检索之用；历史地理学则有自己独立的学科体系和理论，是现代地理学的一部分，一般来说需要有专门的研究人员，它的研究成果既可用于解释自然发展规律，也可用于解释人类活动与自然的关系，以及在特定自然条件下的人类社会的发展规律。

显然，历史地理学形成和发展的一个决定因素是现代地理学的建立。在中国，这是在 20 世纪初叶才具备的条件，所以中国沿革地理向历史地理学的发展是 30 年代以后才开始的。

11. 根据文意，下列对《汉书·地理志》描述不正确的一项是（ ）

- A. 可以看作中国最早的历史地理著作
- B. 首次详细记录了汉代当时的地理情况
- C. 收录了汉代以前战国及秦的地理情况
- D. 战国前的地理情况因资料缺乏尚未记载

【答案】D。解析：

根据文章第一段：《汉书·地理志》“采获旧闻，考迹《诗》、《书》，推表山川，以缀《禹贡》、《周

官》、《春秋》，下及战国、秦、汉，对见于历史典籍记载的重要山川地名作了考订注释”，可知D项对《汉书·地理志》的描述不正确。

所以，正确选项是D。

12. 沿革地理产生的根本原因在于（ ）

- A. 漫长历史中地理情况的复杂变化需作专门研究 B. 中国古代政区的分合和地名的更改不断发生
C. 古代发达的文化记载了大量历史地理相关资料 D. 清代乾嘉学派学术研究领域已经有了很大扩展

【答案】A。解析：

由文章第二段“由于在如此巨大的空间和时间中所发生的变化是如此复杂，已不是一般学者所能随意涉足，因而产生了一门专门学问——舆地之学（沿革地理）”可知，沿革地理产生的根本原因是地理情况变化具有复杂性，A项表述正确。

B、C两项只是沿革地理产生的背景而非根本原因，D项为无关项，排除。

所以，正确选项是A。

13. 依次填入文中划横线处最恰当的一项是（ ）

- A. 肇始 溯源 B. 起源 回溯 C. 创立 上溯 D. 发轫 追溯

【答案】D。解析：

根据文意可知，第一空有发源、起源之意，“创立”指初次建立，一般与具体的组织、国家等搭配，此处修饰“中国历史地理的研究”不妥，排除C项。

第二空，“溯源”比喻向上寻求历史根源，根据语法可知，不适宜作“更长的历史”的谓语，排除A项。“回溯”指回顾、回忆，与文意不符，排除B项。D项的“追溯”比喻探索事物的由来，填入第二个空符合文意。

所以，正确选项是D。

14. 下列说法与文中论述“沿革地理不等于历史地理学”的理由不符的一项是（ ）

- A. 称为学科必须有自己独立的学科体系和理论 B. 沿革地理的成果主要为其他学科注释检索之用
C. 历史地理学注重寻求地理现象变化发展的原因 D. 历代从事沿革地理研究的人并非专职研究人员

【答案】D。解析：

根据第三段“中国沿革地理虽然是一门专门的学问，却一直没有形成一门学科，所以数百年来除了有少数几位专治沿革地理的学者之外，大多只是历史学家、经学家、训诂学家、文学家、金石家的副业，……”可知，D项表述并非“沿革地理不等于历史地理学”的理由，而是它的结果。

所以，正确选项是D。

15. 下列对文章的内容概括最恰当的是（ ）

- A. 历史地理学在我国的发展源远流长 B. 历史地理学形成、发展的主要原因
C. 历史地理学在我国形成、发展的过程 D. 历史地理学形成、发展必须具备的条件

【答案】C。解析：

“中国沿革地理向历史地理学的发展是30年代以后才开始的”，可见历史地理学的发展并非源远流长，排除A项。

文段并没有重点讲述历史地理学形成发展的主要原因，而是从地理学开始，说到《汉书·地理志》对历史地理的研究，引出中国古代的沿革地理，并辨析了沿革地理与历史地理学的区别，最后总结“显然，历史地理学形成和发展的一个决定因素是现代地理学的建立……中国沿革地理向历史地理学的发展是30年代以后才开始的”，由此可知，文章主要讨论的是历史地理学的形成和发展过程。

所以，正确选项是C。

三、选词填空。从题后所给的四个选项中选出最符合文意的一项。

16. 辞书是工具书，帮助人们对字词加以正确_____与运用，人们将它作为_____的工具使用。依次填入划横线处最恰当的一项是（ ）

- A. 理解 无师自通
B. 解释 有教无类
C. 解析 润物无声
D. 识别 不可或缺

【答案】A。解析：

先看第二空，“有教无类”指一种的教育态度，“润物无声”指做了贡献而不张扬，默默奉献，均与文意不符，排除B、C两项。

第一空，“不可或缺”指不能有一点点缺失，语义过重，用在此处修饰辞书的作用不恰当，排除D项。所以，正确选项是A。

17. _____的数字技术正在引发一系列革命，作者的革命、读者的革命、书籍的革命、出版的革命，这些数字技术点燃的一堆堆篝火，已让传统出版人感受到了_____。

- A. 如火如荼 切肤之痛
B. 轰轰烈烈 危在旦夕
C. 铺天盖地 痛彻心扉
D. 席卷全球 灭顶之灾

【答案】A。解析：

先看第二空，根据语法关系可知，横线处需要填入作宾语的成分。

“危在旦夕”和“痛彻心扉”均为形容词，不合作宾语，排除B、C两项。

第一空，“灭顶之灾”比喻毁灭性、致命性的灾难，语义过重，排除D项。

将A项代入验证符合文意。

所以，正确选项是A。

18. 不论是反腐败还是监督执法，公众的万万千千双眼睛都是最有力的后援。依靠公众监督，既表明了执法部门不护短的决心，也有利于调动公众的热情。只有_____的打击与_____的公众监督密切配合，才能最大程度_____不规矩的“执法之手”乱伸，最终还法治以_____。

- A. 大张旗鼓 不偏不倚 防止 清正
B. 声势浩大 不徇私情 阻止 光明
C. 排山倒海 一丝不苟 压制 公正
D. 雷厉风行 无处不在 遏制 清明

【答案】D。解析：

第一空，D项“雷厉风行”比喻执行政策法令严厉迅速，符合文意。“大张旗鼓”“声势浩大”和“排山倒海”都侧重于表现活动规模之大，而没有表现出贯彻政策之严厉迅速，排除A、B、C三项。

将D项代入第二空验证，符合文意。

所以，正确选项是D。

19. 夜色渐浓，江风徐徐，在灯火通明的街道上，叫卖声_____，人们抛开白日里水泥森林的高压与冷漠，_____在人流摩肩接踵的繁华小巷，百年老城的夜生活，就在_____的夜晚中拉开了序幕。

- A. 不绝于耳 徘徊 欢声笑语
B. 此起彼伏 穿梭 杂乱无序
C. 此起彼伏 流连 熙熙攘攘
D. 声声入耳 漫步 喧嚣不已

【答案】C。解析：

先看第三空，根据文意可知，文段带有积极的感情色彩。

“杂乱无序”“喧嚣不已”都带有鲜明的负面意义，与文段感情色彩不符，排除B、D两项。

“欢声笑语”与横线后的“夜晚”搭配不当，排除A项。

将C项代入前两各空格验证，符合文意，因此C项当选。

所以，正确选项是 C。

20. 改革总是会_____先易后难的做法，养老保险的统一同样也应该_____这种规律，一步一步逐渐推行。第一步实现城乡居民养老制度统一，而后是企业单位职工与城乡居民养老制度的统一，公务员的聘用制也在逐步实施，各项工作坚持不懈地往前推进，全国养老制度的改革与完善终会_____。

A. 采用 遵守 迎刃而解
B. 沿袭 遵循 水到渠成
C. 承袭 服从 瓜熟蒂落
D. 采取 纳入 如期而至

【答案】B。解析：

先看第二空，根据文意可知，养老保险的统一应与改革采用相同的做法。

“服从”与“纳入”均与文意不符，排除 C、D 两项。

再看第三空，文段想要表达的意思是随着各项工作的推进，养老制度会不断改革和完善。

“水到渠成”比喻条件成熟，事情自然就会成功，与文意相符，因此 B 项当选。

所以，正确选项是 B。

21. 文风源于内心，你表面上可以做到不动声色，但作为情感的_____，文字通常会将你内心的感受直接表现出来，一个人的文风并不是_____的，它会随着人的年龄、心态、思想内涵及_____的变化而改变。

A. 宣泄 一成不变 阅历
B. 抒发 一以贯之 经历
C. 爆发 一蹴而就 资历
D. 表露 持之以恒 历练

【答案】A。解析：

先看第二空，根据文意可知，此处意在说明一个人的表达文风是可以变化的。

“一蹴而就”和“持之以恒”明显不合文意，排除 C、D 两项。

再看第三空，“经历”指亲身体验的时间过程，是客观的、已经发生的，是不能变化的，而“阅历”是指一个人对社会所发生的事的经历和理解方式，是可以变化的。后者更符合文意。因此 A 项当选。

所以，正确选项是 A。

22. 农业转型过程中，市场发挥决定性作用，切忌_____、揠苗助长，以行政力量_____甚至强推农业规模化。

A. 李代桃僵 指导
B. 大包大揽 引导
C. 越俎代庖 主导
D. 鞭打快牛 倡导

【答案】C。解析：

第一空，根据语境可知，应填入与“揠苗助长”语义相近，并且与前文的“市场发挥决定性作用”语义相反的词。

“李代桃僵”指以此代彼或代人受过，“大包大揽”指把工作或事情全部兜揽、承担起来，“鞭打快牛”比喻对先进的单位或个人提出过高的要求，均与文意不符，排除 A、B、D 三项。

将 C 项代入二、三空验证，符合文意，C 项当选。

所以，正确选项是 C。

23. 客家是汉民族的一支，在一千多年历史_____中，在融合各地域民族文化的同时，不断地传播和_____，使得客家文化_____，源远流长。

A. 演变 扩变 波澜壮阔
B. 演化 扩张 不绝如缕
C. 演绎 扩大 流光溢彩
D. 演进 扩散 生生不息

【答案】D。解析：

先看第三空，根据“一千多年历史”“源远流长”可推知，文段应侧重表达客家文化的强大生命力。

“不绝如缕”多形容局面危急或声音、气息等低沉微弱、时断时续，与原文不符，排除B项。

“波澜壮阔”形容声势雄壮或规模巨大，“流光溢彩”形容光芒耀眼、色彩明亮，这两个成语均与文段文意不合，排除A、C两项。

验证D项其他两空，符合文意当选。

所以，正确选项是D。

24. 随着人们环保意识的加强，在选购家具时人们更_____于选择带有环保标识的产品，本来有这样的意识是件好事，但我国并没有强制家具认证规定，国内也尚未_____环保家具认证标准，现在国内市面上的认证机构_____，环保标识_____。
- A. 趋向 公布 鱼目混珠 不一而足
B. 倾向 颁布 鱼龙混杂 五花八门
C. 热衷 确定 各自为政 良莠不齐
D. 垂青 制定 形形色色 千奇百怪

【答案】B。解析：

“鱼目混珠”指把鱼眼珠杂混在珍珠中，比喻以假乱真，以次充好。第三空意在形容认证机构之多、之杂，并未侧重于区分真伪、好坏，排除A项。

“良莠不齐”指好人坏人都有，混杂在一起，不适用于形容环保标识，排除C项。

“垂青”的宾语只能是名词的，不能接动词，排除D项。

所以，正确选项是B。

25. 我们置身于一个媒体异常发达的时代，现实的生活又充满着各种各样的焦虑与诱惑，想沉下心来，静心坐在书桌之前，饱餐一本_____已久的好书，似乎是一种_____，有些勉为其难，即使有读书的“形态”，_____缺乏读书的“心态”。
- A. 期盼 幻想 总是
B. 倾心 超脱 毕竟
C. 心仪 奢望 依然
D. 仰慕 妄想 终究

【答案】C。解析：

第一空，“仰慕”指敬仰思慕，多与人搭配，此处用于形容“书”明显不恰当，排除D项。

第二空，“超脱”指不拘泥成规、传统、形式，与文意不符，排除B项。

“幻想”指不切实际的、不能实现的一种想象；“奢望”指过高的希望，根据第二空后一句“有些勉为其难”可推知，此处应填入“奢望”更符合文意。因此C项当选。

所以，正确选项是C。

第二部分 数量关系

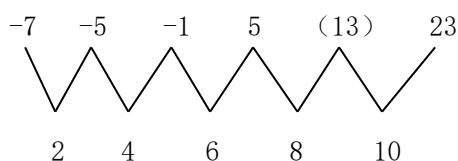
(共15题，参考时间15分钟)

一、数字推理。给出一个数列，缺少其中一项，要求你仔细观察数列的排列规律，从四个选项中，选择最合适的一项，使之符合原数列的排列规律。

26. -7, -5, -1, 5, (), 23

A. 10 B. 11 C. 13 D. 20

【答案】C。解析：



作差（后项减前项）

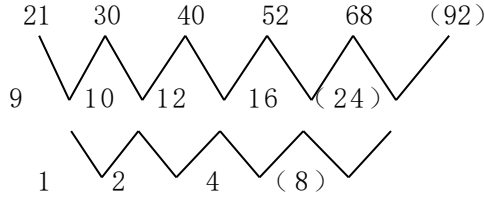
可以得到一个公差为2的等差数列

所以，正确选项是C。

27. 21, 30, 40, 52, 68, ()

- A. 112 B. 113 C. 95 D. 92

【答案】D. 解析:



作差 (后项减前项)

再次作差, 可以得到一个公比为 2 的等比数列

所以, 正确选项是 D.

28. 2.3, 4.8, 8.24, 16.51, 32.89, ()

- A. 64.138 B. 64.136 C. 128.138 D. 128.136

【答案】A. 解析:

分组数列。小数点之前的部分 2、4、8、16、32, 是公比为 2 的等比数列, 下一项为 64; 小数点之后的部分 3、8、24、51、89, 两两作差得到 5、16、27、38, 是公差为 11 的等差数列, 则下一项小数点之后的数字为 $11+38+89=138$ 。因此未知项为 64.138。

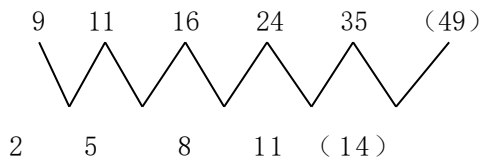
所以, 正确选项是 A.

29. $3, \sqrt{11}, 4, 2\sqrt{6}, \sqrt{35}, ()$

- A. $\sqrt{51}$ B. 7 C. 6 D. $3\sqrt{2}$

【答案】B. 解析:

由于 $3=\sqrt{9}$, $4=\sqrt{16}$, 则根号内数字构成的数列具有如下规律:



作差 (后项减前项)

可以得到一个公差为 3 的等差数列

则可得未知项根号内的数字为 49, 未知项为 $\sqrt{49}=7$ 。

所以, 正确选项是 B.

30. $4, 2, \frac{11}{5}, \frac{19}{7}, \frac{10}{3}, ()$

- A. $\frac{37}{11}$ B. 4 C. $\frac{21}{13}$ D. 5

【答案】B. 解析:

分数数列。题干的数列可以整理变化为: $\frac{4}{1}, \frac{6}{3}, \frac{11}{5}, \frac{19}{7}, \frac{30}{9}, ()$ 。

观察可知, 其分母构成公差为 2 的等差数列, 则未知项的分母应为 11。分子构成的数列是 4、6、11、19、30, 两两作差可得到一个新的等差数列: 2、5、8、11, 则括号内所填数字的分子应为 $30+14=44$ 。综合上

可得，未知项为 $\frac{44}{11}=4$ 。

所以，正确选项是 B。

二、数学运算。通过运算，选择最合适的一项。

31. 已知一等差数列 $a_1, 21, a_3, 31, \dots, a_n, \dots$ ，若 $a_n=516$ ，则该数列前 n 项的平均数是（ ）
A. 266 B. 258 C. 255 D. 212

【答案】A。解析：

由等差数列的第 2 项和第 4 项可求出其公差： $\frac{31-21}{2}=5$ ，则首项 $a_1=21-5=16$ 。又已知 $a_n=516$ ，根据等

差数列求和公式 $S_n=\frac{(a_1+a_n)\times n}{2}=\text{平均数}\times n$ ，可得前 n 项的平均数为 $\frac{16+516}{2}=266$ 。

所以，正确选项是 A。

32. 设 a, b 均为正整数，若 $11a+7b=132$ 成立，则 a 的值为（ ）

A. 6 B. 4 C. 3 D. 5

【答案】D。解析：

不定方程。可分析未知数应满足的倍数特征。132 为 11 的倍数， $11a$ 是 11 的倍数，则 $7b$ 也必须是 11 的倍数，可知 b 是 11 的倍数。

令 $b=11$ ，可得： $a=5$ 。

所以，正确选项是 D。

33. 甲、乙工程队需要在规定的工期内完成某项工程。若甲队单独做，则要超工期 9 天完成；若乙队单独做，则要超工期 16 天才能完成；若两队合做，则恰好按期完成。那么，该项工程规定的工期是（ ）

A. 8 天 B. 6 天 C. 12 天 D. 5 天

【答案】C。解析：

解法一：假设规定的工期为 x 天，根据“若甲队单独做，则要超工期 9 天完成”和“若两队合做，则恰好按期完成”可知：甲队（超工期）9 天完成的工程量恰好就是乙队在规定工期 x 天内完成的工程量。

又由题意可知：甲队工作效率大于乙队，则必然 $x>9$ 。

观察选项，只有 C 项符合。所以，正确选项是 C。

解法二：假设规定的工期为 x 天，根据“若甲队单独做，则要超工期 9 天完成”和“若两队合做，则恰好按期完成”可知：甲队（超工期）9 天完成的工程量恰好就是乙队在规定工期 x 天内完成的工程量。

可得算式为： $9\times\text{甲队工作效率}=\text{乙队工作效率}\times x$ 。

同理可知：乙队（超工期）16 天完成的工程量恰好就是甲队在规定工期 x 天完成的工程量。

可得算式为： $16\times\text{乙队工作效率}=\text{甲队工作效率}\times x$ 。

9 甲 = x 乙

16 乙 = x 甲

上述两等式左右两边分别相乘，可得： $144\text{甲乙}=\text{甲乙}x^2$

化简可得： $x^2=144$ 。解得： $x=12$ 。

所以，正确选项是 C。

34. 一群大学生进行分组活动，要求每组人数相同，若每组 22 人，则多出一人未分进组；若少分一组，则恰好每组人数一样多，已知每组人数最多只能 32 人，则该群学生总人数是（ ）

A. 441 B. 529 C. 536 D. 528

【答案】B。解析：

解法一：由题干“每组 22 人，则多出一人未分进组”可知，学生总人数减去 1 后可以被 22 整除。

C、D 两项的数字减去 1 后均为奇数，无法被 22 整除，排除。

代入 A 项验算： $441-1=22\times 20$ ，但是 441 无法被 19（少分一组即为 19 个组）整除，排除。

验证 B 项，符合题意要求。所以，正确选项是 B。

解法二：第二次少分一组，说明把多出的 $22+1=23$ （人）平均分给了第二次各组。因为 23 是质数，可知第二次的分组数只能为 23 组，则可知第一次分了 24 个组。

总人数为： $24\times 22+1=529$ 。

所以，正确选项是 B。

35. 有 A、B、C 三种浓度不同的盐溶液。若取等量的 A、B 两种盐溶液混合，则得浓度为 17% 的盐溶液；若取等量的 B、C 两种盐溶液混合，则得浓度为 23% 的盐溶液；若取等量的 A、B、C 三种盐溶液混合，得到浓度为 18% 的盐溶液，则 B 种盐溶液的浓度是（ ）

- A. 21% B. 22% C. 26% D. 37%

【答案】C。解析：

溶液问题。设取出的三种溶液的质量都是 1，且 A、B、C 三种盐溶液的浓度分别为 $a\%$ 、 $b\%$ 、 $c\%$ 。则根据题意可得方程组为：

$$\begin{cases} a\% + b\% = 17\% \times 2(1) \\ b\% + c\% = 23\% \times 2(2) \\ a\% + b\% + c\% = 18\% \times 3(3) \end{cases}$$

(1) + (2) - (3) 可得： $b\%=34\%+46\%-54\%=26\%$ 。

所以，正确选项是 C。

36. 假设空气质量可按良好、轻度污染和重度污染三类划分。一环境监测单位在某段时间对 63 个城市的空气质量进行了监测，结果表明：空气质量良好城市数是重度污染城市数的 3 倍还多 3 个，轻度污染城市数是重度污染城市数的 2 倍。那么空气质量良好的城市个数是（ ）

- A. 33 B. 31 C. 23 D. 27

【答案】A。解析：

设重度污染的城市数为 x 个，则空气质量良好的城市数为 $(3x+3)$ 个，轻度污染的城市数为 $2x$ 个。根据题意可列方程： $x+3x+3+2x=63$ 。

解得 $x=10$ 。即空气质量良好的城市有 $10\times 3+3=33$ （个）。

所以，正确选项是 A。

37. 同样价格的某商品在 4 个商场销售时都进行了两次价格调整。甲商场第一次提价的百分率为 a ，第二次提价的百分率为 b ($a>0$, $b>0$, 且 $a\neq b$)；乙商场两次提价的百分率均为 $\frac{1}{2}(a+b)$ ；丙商场第一次提价的百分率为 $\frac{1}{3}(a+b)$ ，第二次提价的百分率为 $\frac{2}{3}(a+b)$ ；丁商场第一次提价的百分率为 b ，第二次提价的百分率为 a 。问两次提价后该商品售价最高的商场是（ ）。

- A. 甲商场 B. 乙商场 C. 丙商场 D. 丁商场

【答案】B。解析：

设该商品原来的价格为 1，则 4 个商场经过两次价格调整后的售价分别为：

甲商场： $(1+a)\times(1+b)=1+a+b+ab$ 。

乙商场： $(1 + \frac{a+b}{2})^2 = 1 + a + b + \frac{1}{4}(a+b)^2$ 。

丙商场： $(1 + \frac{1}{3}(a+b)) \times (1 + \frac{2}{3}(a+b)) = 1 + a + b + \frac{2}{9}(a+b)^2$ 。

丁商场： $(1+b) \times (1+a) = 1 + a + b + ab$ 。

对比可知：甲、丁两商场两次提价后的售价相同，不可能是最高的，可以直接排除 A、D 两项。

比较乙、丙两商场两次提价后的售价，明显有 $\frac{1}{4} > \frac{2}{9}$ 。因此乙商场该商品两次提价后的售价最高。

所以，正确选项是 B。

38. 黑白两个盒子中共有棋子 193 颗。若从白盒子中取出 15 颗棋子放入黑盒子中，则黑盒子中的棋子数是白盒子中棋子数的 m (m 为正整数) 倍还多 6 颗。那么，黑盒子中原来的棋子至少有 ()

A. 121 颗 B. 140 颗 C. 161 颗 D. 167 颗

【答案】C。解析：

要使得黑盒子中原来的棋子数最少，则必须令白盒子中原来的棋子数最多。

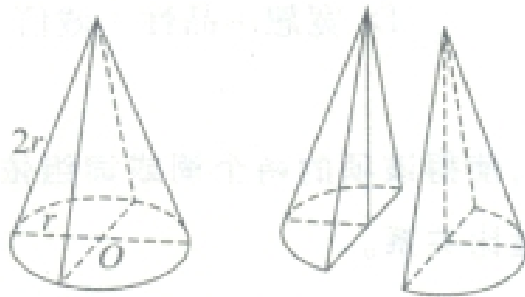
由题意可知： $193 - 6 = 187 = 11 \times 17$ ，根据 11、17 均为质数这一特性，要使得黑盒子中的棋子数最少，则必须令白盒子中的棋子数最大=17。

则可知放入从白盒子中取出的 15 颗棋子后，黑盒子中的棋子数=193-17=176。

则可知放入从白盒子中取出的 15 颗棋子前，黑盒子中的棋子数=176-15=161。

所以，正确选项是 C。

39. 一实心圆锥体的底面半径为 r ，母线长为 $2r$ 。若截圆锥体得到两个同样的锥体（如下图所示），则所得两个锥体的表面积之和与原圆锥体表面积的值是 ()



A. $\frac{1}{2}$ B. $\frac{\pi + 4\sqrt{3}}{6}$ C. $\frac{3\pi + 2\sqrt{3}}{3\pi}$ D. $\frac{3\pi + 4}{6\pi}$

【答案】C。解析：

圆锥的表面积=圆锥的侧面积+底面圆的面积

圆锥的侧面积= $\frac{1}{2} \times$ 母线长 \times 底面周长

底面圆的面积= πr^2

根据圆锥体的底面半径为 r ，母线长为 $2r$ ，可得圆锥体的表面积为 $\frac{1}{2} \times 2r \times 2\pi r + \pi r^2 = 3\pi r^2$ 。

所截得的两个锥体的表面积之和要比原圆锥体的表面积多两个等边三角形截面的面积。等边三角形的边长为 $2r$ ，则其面积为 $\frac{\sqrt{3}}{4} \times (2r)^2 = \sqrt{3}r^2$ 。则两个锥体的表面积之和为 $3\pi r^2 + 2\sqrt{3}r^2$ 。

则两个锥体的表面积之和与原锥体表面积比值是 $\frac{3\pi r^2 + 2\sqrt{3}r^2}{3\pi r^2} = \frac{3\pi + 2\sqrt{3}}{3\pi}$ 。

所以，正确选项是 C。

40. 甲、乙、丙三辆汽车分别从 A 地开往千里之外的 B 地。若乙比甲晚出发 30 分钟，则乙出发后 2 小时追上甲；若丙比乙晚出发 20 分钟，则丙出发后 5 小时追上乙。若甲出发 10 分钟后乙出发，当乙追上甲时，丙才出发，则丙追上甲所需时间是（ ）
- A. 110 分钟 B. 150 分钟 C. 127 分钟 D. 128 分钟

【答案】B。解析：

设甲、乙、丙的速度分别为 $v_{甲}$ 、 $v_{乙}$ 、 $v_{丙}$ 。根据追及公式可知：

$$(v_{乙} - v_{甲}) \times 120 = 30 v_{甲}；$$

$$(v_{丙} - v_{乙}) \times 300 = 20 v_{乙}。$$

整理得 $(v_{乙} - v_{甲}) : v_{甲} = 1 : 4$ ； $(v_{丙} - v_{乙}) : v_{乙} = 1 : 15$ 。

令 $v_{乙} = 15$ ，则 $v_{甲} = 12$ ， $v_{丙} = 16$ 。

设甲出发 10 分钟后，乙出发直至追上甲用了 x 分钟。根据追及公式可得： $(15 - 12) \times x = 12 \times 10$ 。解得： $x = 40$ 。可知丙出发时甲已经出发了 $10 + 40 = 50$ （分钟）。

则丙追上甲需要时间为： $\frac{50 \times 12}{16 - 12} = 150$ （分钟）。

所以，正确选项是 B。

第三部分 判断推理

（共 40 题，参考时间 40 分钟）

一、类比推理

（一）先给出一组有某种关系的词或词组，请你从四个选项中选出正确的一项，其关系与题干给出的词或词组的关系最为相似。

41. 白羊：黑羊

- A. 高价：价格 B. 蓝天：春天
C. 周刊：月刊 D. 苏州：徐州

【答案】C。解析：

反对关系。白羊和黑羊都属于羊，二者具有反对关系。C 项逻辑关系与此相同：周刊和月刊都属于杂志，二者具有反对关系。

所以，正确选项是 C。

42. 自拍：拍照

- A. 铁矿：金属 B. 茶馆：场所
C. 微信：博客 D. 船舱：飞船

【答案】B。解析：

种属关系。自拍是一种拍照。B项逻辑关系与此相同：茶馆是一种场所。所以，正确选项是B。

43. 教师：教师法：尊重教师

- A. 企业：劳动法：招聘童工
B. 会计：会计法：虚报账目
C. 司机：交通法：肇事逃逸
D. 夫妻：婚姻法：婚姻自主

【答案】D。解析：

《教师法》规定了教师的权利和义务，且对尊重教师有正向促进作用。D项逻辑关系与此相同：《婚姻法》规定了夫妻的权利和义务，且对婚姻自主有正向促进作用。A、B、C三项的第三个词，都属于其法律禁止的行为，与题干逻辑关系不符，排除。

所以，正确选项是D。

44. 人民币：美元：欧元

- A. 海鲜：海鸥：海滩
B. 贵州：杭州：常州
C. 兰花：牡丹：菊花
D. 宽恕：品性：诚信

【答案】C。解析：

反对关系。人民币、美元、欧元都是货币；C项逻辑关系与此相同：兰花、牡丹、菊花都是花。

所以，正确选项是C。

(二) 请从四个选项中选出正确的一项，使得该项的两个词或词组依次代入题干的括号中，能够最大限度地满足题干所表达的类比关系。

45. 七天 之于 一星期 相当于 () 之于 ()

- A. 一米——十分米
B. 十元——一百元
C. 直线——几何学
D. 一吨——十公斤

【答案】A。解析：

全同关系。一星期等于七天，一米等于十分米，二者均为全同关系。

B项，一百元等于十个十元，排除。C项，直线是几何研究的内容，二者不能等同，排除。D项，十公斤等于十千克，一吨等于一千千克，排除。

所以，正确选项是A。

46. 扎小羊灯 之于 () 相当于 剪福字窗花 之于 ()

- A. 灯笼——桃花
B. 喜乐——过年
C. 小羊——窗户
D. 细绳——剪刀

【答案】D。解析：

扎小羊灯需要细绳；D项逻辑关系与此相同：剪福字窗花需要剪刀。

所以，正确选项是D。

47. 海盐 之于 () 相当于 供暖器 之于 ()

- A. 咸味——供暖
B. 盐场——取暖
C. 味觉——电流
D. 调味——电器

【答案】A。解析：

海盐可以用来增加食物的咸味；A项逻辑关系与此相同：供暖器可以用来供暖。

所以，正确选项是A。

(三) 请从四个选项中选出正确的一项，其特征或规律与题干给出的一串符号的特征或规律最为相似。

48. 1223[△]※xxHG

A. 6779☆&ssHg

B. 3559&@ddMW

C. 8829@☆kkJY

D. 3112[◎]&JjNH

【答案】B。解析：

题干中，第二位和第三位的数字相同，第七位和第八位的字母相同，排除 C、D 两项。

题干中，最后两位均为大写字母，排除 A 项。

所以，正确选项是 B。

49. Дищющюёд

A. Ддищющюё

B. Щёддиюющ

C. Юёдщдщию

D. Ёщдщюдюё

【答案】C。解析：

题干中，第三位和第五位符号相同，第四位和第六位符号相同，第一位和第八位样式相同、大小不同，第二位与第七位符号与其他符号各不相同。符合此规律的只有 C 项。

所以，正确选项是 C。

50. ††† ††† ††† †††

A. ††† ††† ††† †††

B. ††† ††† ††† †††

C. ††† ††† ††† †††

D. ††† ††† ††† †††

【答案】A。解析：


题干中，第一位和第七位符号相同，第二位和第三位符号相同，第四位和第五位符号相同，第六位和第八位符号相同，符合此规律的只有 A 项。

所以，正确选项是 A。

二、图形推理。

(一) 每道题在左边的题干中给出一套图形，其中有五个图，这五个图呈现一定的规律性。在右边给出一套图形，其中有四个图，从中选出唯一的一项作为保持左边五个图规律性的第六个图。

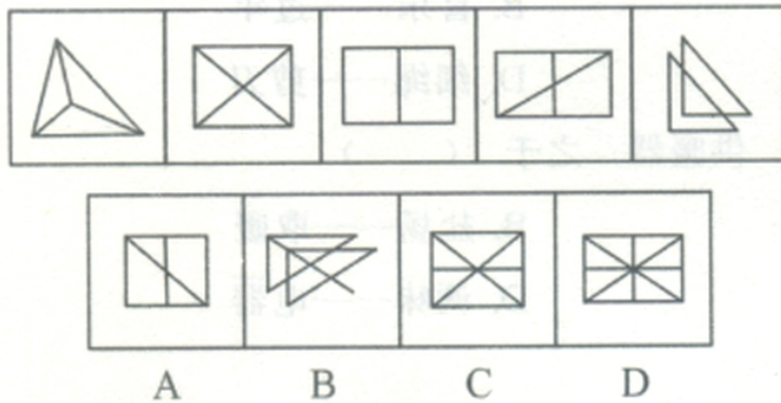
51.



【答案】B。解析：

题干中的图形均为禽类，并且都头朝左侧，符合这一规律的只有B项。所以，正确选项是B。

52.

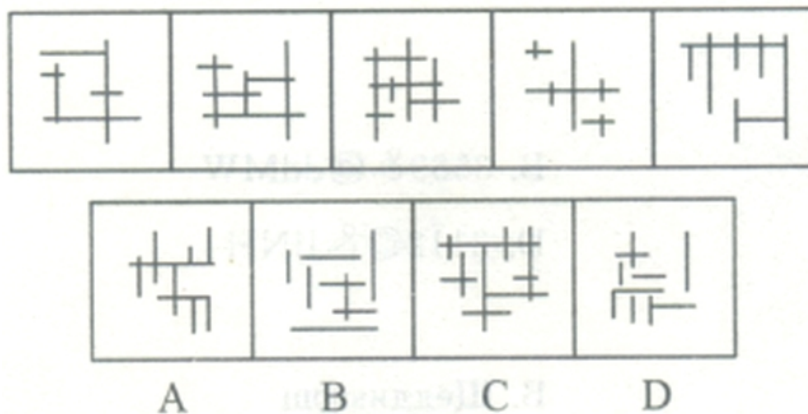


【答案】D。解析：

题干图形中的交点的数量依次为4，5，6，7，8，构成一个等差数列。根据这个规律，下一个图形中应该有9个交点。只有D项符合。

所以，正确选项是D。

53.

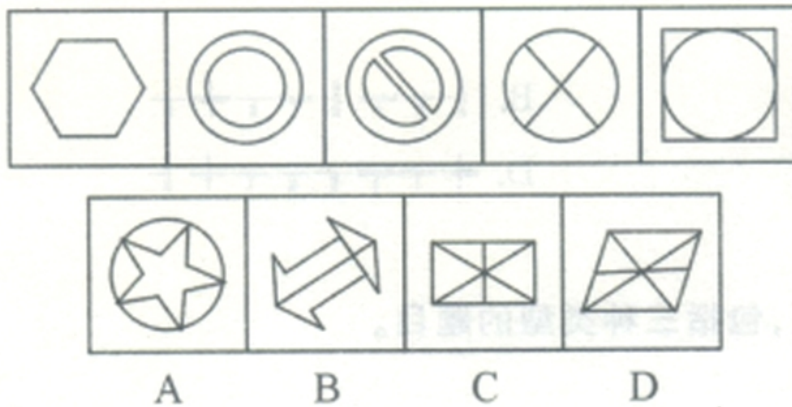


【答案】A。解析：

题干图形中的垂直方向的直线数量依次为2，3，4，5，6，构成一个等差数列。根据这个规律，下一个图形中应该有7条垂直方向的直线。只有A项符合。

所以，正确选项是 A。

54.



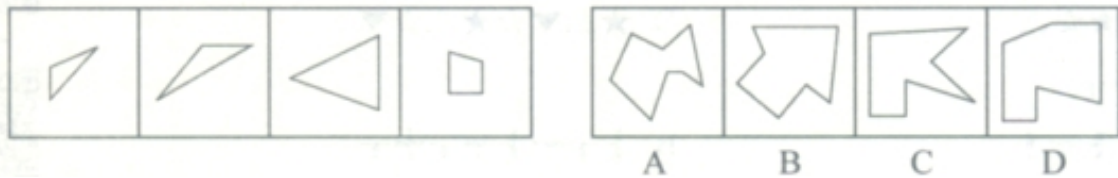
【答案】C。解析：

题干图形都是轴对称图形，并且图形中的封闭空间数量依次为 1，2，3，4，5，构成一个等差数列。根据这个规律，下一个图形中应该有 6 个封闭空间，并且 5 个题干图形都既是轴对称图形，又是中心对称图形，满足这一规律的只有 C 项。

所以，正确选项是 C。

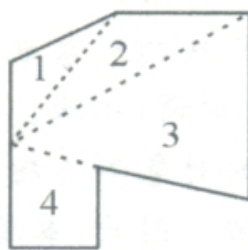
(二) 右边四个图形中，只有一个是左边四个图形拼合（只能通过上、下、左、右平移）而成的，请把它找出来。

55.




【答案】D。解析：

正确选项是 D。题干中的图形可以拼合成如下图形：

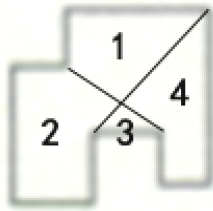


56.



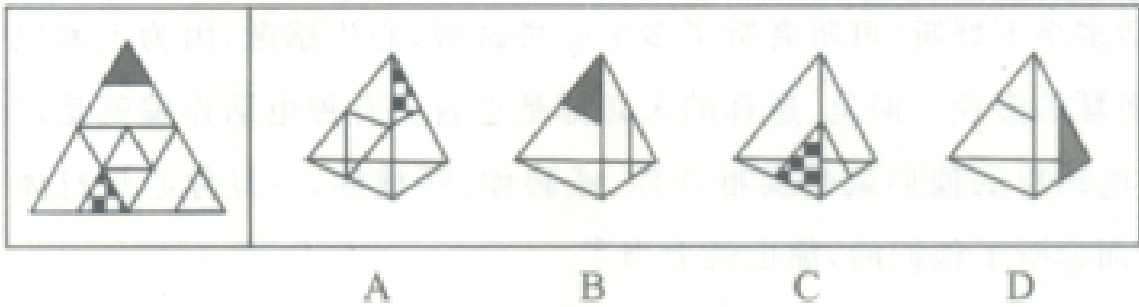
【答案】A。解析：

正确选项是 A。题干中的图形可以拼合成如下图形：



(三) 左边给定的是纸盒外表面的展开图，右边哪一项能由它折叠而成？请把它找出来。

57.

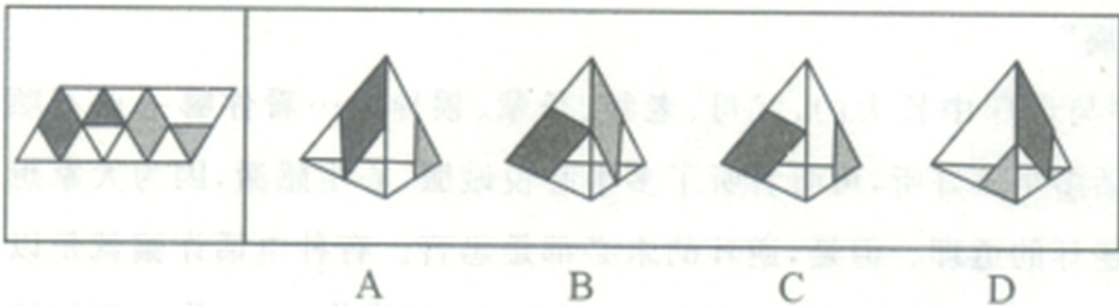


【答案】A。解析：

B 项右侧面上的线段应与公共边相交，排除。C 项右侧面内应该是小三角形，排除。D 项左侧面内应该是小三角形，排除。只有 A 项正确。

所以，正确选项是 A。

58.



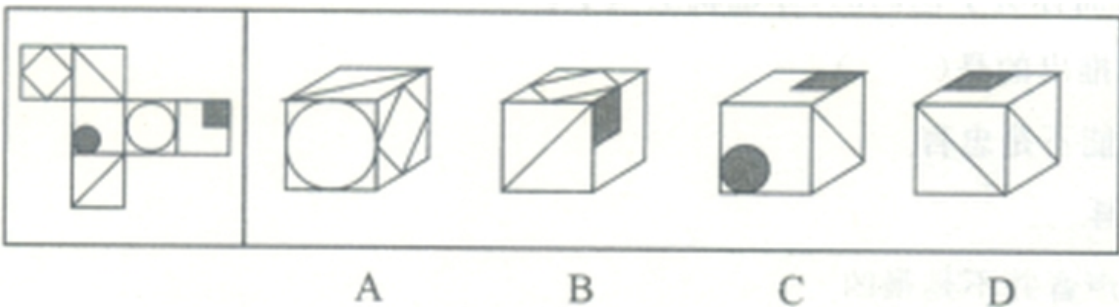
【答案】D。解析：

A 项，由展开图可知，若左侧面为 A 项所示，右侧面应为有深色阴影三角形所在的面，排除。

若左侧面为 B 项所示，右侧面应为浅色阴影的平行四边形所在面，且在相邻边上应只有一个公共点，没有公共边，排除。同理，可排除 C 项。

所以，正确选项是 D。

59.

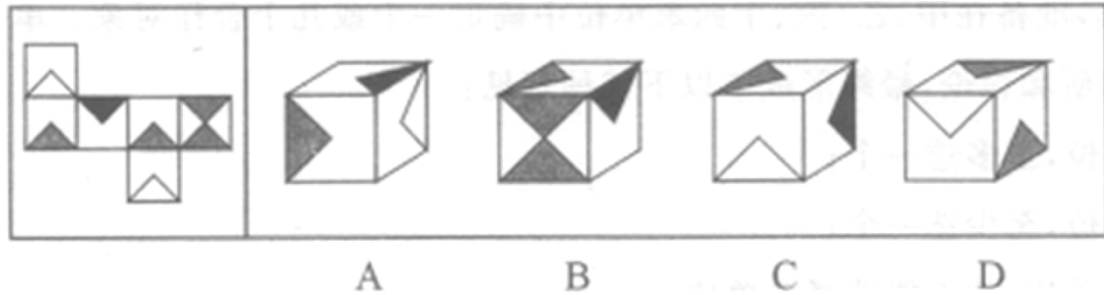


【答案】B。解析：

A 项的正面与右侧面、C 项的正面与顶面、D 项的正面与右侧面均为相对面，根据相对面不相邻的原理，可排除 A、C、D 三项。

所以，正确选项是 B。

60.



【答案】A。解析：

B 项，具有两个三角形的面与深色阴影三角形所在面为相对面，B 项错误，排除。

C 项，深色阴影三角形所在面为右侧面时，顶面与正面中的三角形应有一条相邻边，C 项错误，排除。

D 项，浅色阴影三角形所在的两个面为相对面，D 项错误，排除。

所以，正确选项是 A。

三、逻辑判断。每题给出一段陈述，这段陈述假设是正确的、不容置疑的。请根据这段陈述，选择一个答案。注意：正确的答案不需要任何附加说明即可以根据陈述必然推出。

61. 只有加大查处、惩罚力度，对贪污官员绝不姑息手软，才能让官员“不敢腐”；只有在权力运作的每个环节建立和完善相关制度，才能让官员“不能腐”。但是，如果官员缺乏必要的廉耻之心，单纯依靠制度，那么，他们一定会找到制度的漏洞；相反，如果官员有一定的廉耻之心，那么，即便存在一些制度漏洞，他们也不会有意利用，而是会克制自己，甚至会修补这些漏洞，真正做到“不想腐”。

根据以上陈述，可以推出的是（ ）

- A 如果官员有一定的廉耻之心，一般不会发现制度的漏洞；即使发现了，也不会利用，只会去修补它们
- B 如果官员有一定的廉耻之心，就会加强自我约束，不会有意利用制度的漏洞，从心里消除腐败的念头
- C 如果官员缺乏必要的廉耻之心，只要加大查处、惩罚力度，绝不姑息手软，他们就“不敢腐”
- D 如果官员缺乏必要的廉耻之心，只要建立和完善权力运作各个环节的相关制度，他们就“不能腐”

【答案】B。解析：

题干条件可以整理为：

- (1) 只有加大查处、惩罚力度，才能让官员“不敢腐”。
- (2) 只有在权力运作的每个环节建立和完善相关制度，才能让官员“不能腐”。
- (3) 如果官员缺乏必要的廉耻之心，单纯依靠制度，那么，他们一定会找到制度的漏洞。
- (4) 如果官员有一定的廉耻之心，那么，即便存在一些制度漏洞，他们也不会有意利用，而是会克制自己，甚至会修补这些漏洞，真正做到“不想腐”。

A 项中“一般不会发现制度的漏洞”表述错误，题干表述为“即便存在一些制度漏洞，他们也不会有意利用，而是会克制自己”。排除。

B 项等值于 (4) 的表述，正确。

C 项，根据 (1)，必要条件假言推理“肯前不能肯后”，排除。

D 项，根据 (2)，必要条件假言推理“肯前不能肯后”，排除。

所以，正确选项是 B。

62. 中国人大多是在批评与训斥中长大的，父母、老师、长辈、领导……看你哪一点不顺眼，都能给出指教。话多半不好听，可听者听了多半心悦诚服，心生感激，因为大家想的是良药苦口、忠言逆耳的道理。但是，逆耳的未必都是忠言。有种电话诈骗就是以很凶的方式出现的。电话里的他们就是要批评你、威胁你、吓唬你，一旦你心里打怵了，你就听他们的了；而你听了他们的，你也就上当了。

根据以上陈述，可以推出的是（ ）

- A. 有的逆耳之言可能不是忠言
B. 有的忠言并不逆耳
C. 有的电话诈骗的声音并不是很凶
D. 如果你听到逆耳的电话心里不打怵，你就不会上当

【答案】A。解析：

题干中的“逆耳的未必都是忠言”等价于“有的逆耳的可能不是忠言”。

所以，正确选项是 A。

63. 某单位寻求对外合作，准备在甲、乙、丙、丁四家单位中确定一个或几个合作对象。单位管理层经过认真调研和讨论，最终形成了以下三种意见：

- (1) 对于甲和乙两单位，至多选一个。
(2) 对于甲和丁两单位，至少选一个。
(3) 如果选择丙或丁单位，就不能选择乙单位

在最终决定时，单位领导只采纳了上述一种意见。

根据以上陈述，以下哪项最符合单位领导的最终决定（ ）

- A. 选择乙、丙、丁
B. 选择乙，但不选择丙和丁
C. 选择甲、乙、丁
D. 选择丙，但不选择乙和丁

【答案】C。解析：

单位领导只采纳了上述一种意见，即意味着三种意见只有一种是正确的。采用代入法：

假设 A 项正确，意见 (1)、(2) 都真，排除。

假设 B 项正确，意见 (1)、(3) 都真，排除。

假设 C 项正确，只有意见 (2) 真，符合题意。

假设 D 项正确，意见 (1)、(3) 都真，排除。

所以，正确选项是 C。

64. 甲：为富皆不仁，为官皆不义。

乙：你说的两句都不对。

以下哪项与乙的说法最为相近或相似（ ）

- A. 为富皆仁，为官皆义
B. 有的为富仁，有的为官义
C. 有的为富不仁，有的为官不义
D. 仁者不为富，义者不为官

【答案】B。解析：

否定“为富皆不仁”等于“有的为富仁”，否定“为官皆不义”等于“有的为官义”。

所以，正确选项是 B。

65. 五对结伴自驾游。从出发点到目的地，正好有三个服务区，将他们的行程分为四段路，他们在每个服务区都休息了一会儿，有的夫妻也刚好可以换人驾车走下一段路。车队行进过程中，每对夫妻均在自家车中，一人驾车，一人休息。小孙因头晚喝了不少酒，所以今天一直未敢碰方向盘，只是与驾车的妻子说着闲话。已知：

第一段路驾车的是：张、王、李、赵、周； 第二段路驾车的是：吴、王、张、赵、郑；

第三段路驾车的是：李、钱、张、刘、吴； 第四段路驾车的是：郑、张、王、钱、周。

根据以上信息，可以推出这五对夫妻分别是（ ）

- A. 李吴、周郑、赵钱、孙张、刘王 B. 刘赵、钱王、孙李、郑张、周吴
C. 孙张、李郑、吴周、刘王、赵钱 D. 孙张、周郑、李吴、刘赵、王钱

【答案】C。解析：

根据题干可知，小孙一直未碰方向盘，四段路程皆由其妻子驾车，那么在四段路程中都出现的人就是小孙的妻子，即“张”，由此判断“孙张”为夫妻，排除B项。

夫妻二人不能同时作为同一段路程的驾车人，A、D两项中，“李”“吴”都是第三段路的驾车人，不可能是夫妻，排除。

只有C项符合要求。

所以，正确选项是C。

66. 顾客：老板，你这盘鱼香肉丝里怎么没有鱼啊？

老板：这有什么奇怪的！难道老婆饼里有老婆吗？

以下哪项的对话方式与上述最为相似或相同（ ）

A. 老师：小明，你为什么没有做我昨天布置的家庭作业啊？

小明：对不起，老师！难道我没有回家也要做家庭作业吗？

B. 妻：亲，你的钱包里怎么没有钱啊？

夫：这没什么不正常！难道茶叶罐里总是有茶叶吗？

C. 孩子：妈妈，棉花糖里怎么没有棉花啊？

妈妈：这很正常！难道你用的英雄墨水里藏了一个英雄吗？

D. 顾客：小妹，你卖的珍珠奶茶里怎么没有珍珠？

售货员：这有什么稀奇！夫妻肺片里也没有夫妻啊！

【答案】D。解析：

题干的对话所犯逻辑错误为“混淆概念”，即顾客将“鱼香肉丝”中“鱼”混淆为为动物“鱼”，老板以同样的逻辑方式进行反驳。

D项中的顾客将“珍珠奶茶”中“珍珠”的混淆为为珠宝“珍珠”，售货员以同样的逻辑方式进行反驳。与题干的对话方式相同。

所以，正确选项是D。

67. 近年来，在全国除港澳台以外的31个省区市书法家协会中，许多名誉主席、主席、副主席由官员或退休官员担任。几乎在每个省市书法家协会领导名单中，都能看到同等级政府官员的名字。有专家指出，党政官员热衷于担任各级艺术类人民团体领导，官员与艺术家在身份和职务上相互交叠，会让艺术成为腐败的掮客，使各种肮脏的行贿受贿行为在艺术的光环笼罩下大行其事。

以下哪项不能支持上述专家的论断（ ）

A. 某下属向其领导请求墨宝，再付之以一笔可观的“润笔费”

B. 某些官员高价出售自己的作品，并坦然视之为“公平交易”

C. 某些官员书法功底颇为深厚，对别人请求题字一般并不推托

D. 在多项艺术活动中，具有行政职务的官员总能获得特别的优待

【答案】C。解析：

题干中专家的论断是：官员与艺术家的身份重叠会使行贿受贿行为更加便利。

C项中的某些官员书法功底深厚，对别人请求题字一般并不推托（并未提及利用题字谋取利益），与专家的论断无关。

所以，正确选项是C。

68. 在以下5×5矩形阵中，每个小方格可填入一个汉字，要求每行、每列及每个由粗线条围成的小区域内均

含有松、菊、梅、兰、竹 5 个汉字，不能重复也不能遗漏。

根据已经给定的条件，可以推出矩阵中①②③④⑤方格中依次填入的汉字是（ ）

	兰		①	
菊		竹	②	
			③	
	梅		④	
			⑤	松

- A. 松兰梅竹菊 B. 菊梅松竹兰 C. 松兰菊竹梅 D. 梅菊竹兰松

【答案】A。解析：

先看④所在的粗线条围成的“十”字型小区域，“竹”下面的三个方格不能填“竹”，因此④只能填“竹”，排除 D 项。

再看②③所在的粗线条围成的小区域，该区域第一行最左边的方格，由于其上、下、左、右依次有“兰”“梅”“菊”“竹”，因此，该方格只能填“松”，而③不能再填“松”，排除 B 项。该区域“松”下面的方格不能再填“竹”，又由于该方格所在的列已有“兰”“松”“梅”，因此，该方格只能填“菊”，而③不能再填“菊”，排除 C 项。

所以，正确选项是 A。

69—70 题基于以下题干：

王刚、赵虎与李亮是某机关新进员工。他们三人中，有两人单身，两人爱好打乒乓球，两人是北方人，两人是公共管理专业硕士。如果王刚与李亮是公共管理专业硕士，则他们都是北方人；如果赵虎与李亮爱好打乒乓球，则他们都单身。已知他们每人最多只拥有 3 个上述特征。

69. 加上“如果王刚是北方人，则他单身”这一条件，可以得出以下哪项结论（ ）

- A. 王刚单身 B. 赵虎是公共管理专业硕士
C. 李亮爱好打乒乓球 D. 王刚是北方人

【答案】B。解析：

题干条件可以整理为：

如果王刚与李亮是公共管理专业硕士，则他们都是北方人。

如果赵虎与李亮爱好打乒乓球，则他们都单身。

两人单身。

两人爱好打乒乓球。

两人是北方人。

两人是公共管理专业硕士。

如果王刚是北方人，则他单身。

A 项，以“如果王刚是北方人，则他单身”为前提，根据充分条件假言推理的“肯定前件式”，要想得到“王刚单身”，则必须肯定其前件“王刚是北方人”。这就出现了有两个选项正确的情况，与题意矛盾，排除。

B 项，以“如果王刚与李亮是公共管理专业硕士，则他们都是北方人”为前提，根据充分条件假言推理的“否定后件式”，可以得到“王刚或李亮不是公共管理专业硕士”的结论，进而得到“赵虎是公共管理专业硕士”的结论。符合题意。

C项，以“如果赵虎与李亮爱好打乒乓球，则他们都单身”为前提，根据充分条件假言推理的“否定后件式”，不可能得到“李亮爱好打乒乓球”的结论，排除。

D项，以“如果王刚是北方人，则他单身”为前提，根据充分条件假言推理的“否定后件式”，不可能得到“王刚是北方人”的结论，排除。

所以，正确选项是B。

70. 加上“如果赵虎单身，则王刚也单身”这一条件，得不出以下哪项结论（ ）

- A. 王刚单身
B. 王刚爱好打乒乓球
C. 赵虎是公共管理专业硕士
D. 李亮是北方人

【答案】D。解析：

题干条件可以整理为：

如果王刚与李亮是公共管理专业硕士，则他们都是北方人。

如果赵虎与李亮爱好打乒乓球，则他们都单身。

两人单身。

两人爱好打乒乓球。

两人是北方人。

两人是公共管理专业硕士。

如果赵虎单身，则王刚也单身。

A项，以“如果赵虎单身，则王刚也单身”为前提，构成充分条件假言推理的“肯定前件式”，可得出**王刚单身**。

B项，以“如果赵虎与李亮爱好打乒乓球，则他们都单身”为前提，构成充分条件假言推理的“否定后件式”，可得出：赵虎或李亮不爱好打乒乓球。进而得出结论：**王刚爱好打乒乓球**。

C项，以“如果王刚与李亮是公共管理专业硕士，则他们都是北方人”为前提，根据充分条件假言推理的“否定后件式”，可以得到“王刚或李亮不是公共管理专业硕士”的结论，进而得到结论：**赵虎是公共管理专业硕士**。

D项，以“如果王刚与李亮是公共管理专业硕士，则他们都是北方人”为前提，构成充分条件假言推理的“肯定前件式”，可得出：王刚与李亮都是北方人。进而只能得出“李亮不是北方人”的结论，但不能得出“李亮是北方人”的结论。

所以，正确选项是D。

四、定义判断。先给你一个概念的定义，然后给出一组典型例证，要求你从中选出最符合题意的一项。注意假设这个定义是正确的、不容置疑的。

71. 认知地图效应：指通过对特定事物多次探索之后，头脑中形成一张包含各种相关信息的地图，根据这张地图采取行动，往往能够取得事半功倍的效果。

下列不属于认知地图效应的是（ ）

- A. 庖丁解牛
B. 胸有成竹
C. 老马识途
D. 管中窥豹

【答案】D。解析：

不属于型。

“认知地图效应”的定义要点是：（1）对特定事物多次探索；（2）头脑中形成一张包含各种相关信息的地图；（3）根据这张地图采取行动，往往能够取得事半功倍的效果。

D项中的“管中窥豹”是指从竹管的小孔里看豹，只看到豹身上的一块斑纹，比喻只见到事物的一小部分，不能在“头脑中形成一张包含各种相关信息的地图”，不符合定义要点。

所以，正确选项是D。

72. 精神赡养：是指在家庭生活中，子女理解、尊重、关心、体贴父母，尽力满足其精神生活方面的需要。下列不属于精神赡养的是（ ）
- A. 老孙最近专门买了1台液晶电视安装在父母房间，让二老看自己喜欢的节目，还为他们买了许多京剧光盘
 - B. 尽管老吴没和父母住在一起，但他多年来已经养成了每天都去看望的习惯，无微不至地照顾好他们的生活，老人们感到很欣慰
 - C. 春节临近，“夕阳红”敬老院的李院长请来朝阳小学的“小红花”乐团，孩子们的欢声笑语和精彩节目，为老人们带来了无尽的快乐
 - D. 老姜的母亲已70多岁，但仍不服老，报名参加了交谊舞培训班，为避免老人生气并确保其安全，每次母亲去上课时，老姜都悄悄跟在后面

【答案】C。解析：

不属于型。

“精神赡养”的定义要点是：（1）在家庭生活中；（2）子女理解、尊重、关心、体贴父母；（3）满足其精神生活方面的需要。

C项中的“小红花”乐园的孩子们并不是老人们的子女，不符合定义要点（1）和（2）。

所以，正确选项是C。

73. 密码焦虑症：指现代人在日常生活中被银行卡、手机、登录网站、进入小区等密码包围、困扰而引起的心理焦虑症状。

下列属于密码焦虑症的是（ ）

- A. 张先生酷爱上网，平日购物、看电影、看书及与朋友通信聊天都通过网络来实现，好多密码都设成了自己的生日，因而也就没有感到特别的不方便
- B. 王厂长为保障工厂安全，给厂门加装了密码锁，要求员工输密码进厂，但又担心员工将密码泄露给外人，为此他经常提醒保安，要认识本厂所有员工，不要让外人进来
- C. 金女士从来不用网银，总担心网银虽然有密码保障，但还是不安全，说不定哪天被黑客盗取了密码，自己的银行存款就可能不翼而飞了，惹来一身的麻烦
- D. 从乡下来到儿子家养老的李大爷，几年来最烦心的事就是不敢外出，因为小区大门、所住的大楼单元门及自家大门都有不同的密码，生怕自己记不清，一出门就回不了家

【答案】D。解析：

属于型。

“密码焦虑症”的定义要点是：被密码包围、困扰而引起的焦虑心理”。

D项中的李大爷在日常生活中因为小区大门、所住的大楼单元门及自家大门都有不同的密码，生怕自己记不清，为密码所困扰而不敢出门，符合“密码焦虑症”的定义。

所以，正确选项是D。

74. 幻想性错觉：指人们即使对于一个客观中立、并无任何暗示性意义的事物，也往往试图从中寻找出某种特殊意义的心理现象。

下列不属于幻想性错觉的是（ ）

- A. 夜晚，有时候有人会把高空的灯看成星星
- B. 人们常常会在云朵中发现一个个动物形象
- C. 古人认为月亮上有桂树、兔子、嫦娥、吴刚
- D. 天柱山周围的三座山峰绵延相连很像卧佛

【答案】A。解析：

不属于型。

“幻想性错觉”的定义要点是：（1）对于一个客观中立、并无任何暗示性意义的事物，（2）往往试图

从中寻找出某种特殊意义的心理现象。

B项，在云朵中发现动物形象；C项，认为月亮上有桂树、兔子、嫦娥、吴刚；D项，将天柱山周围的三座山峰想象成卧佛，都是赋予一个客观中立的事物以某种特殊意义。都符合定义要点，排除。

A项，把高空的灯看成星星，的确是视觉错觉，并不是从客观事物中寻找特殊意义，不是一种心理现象，因而不属于幻想性错觉。

所以，正确选项是A。

75. 标杆效应：指在某一区域内，由于消费者对某种品牌认知度较高，导致其价格往往比同一区域其他同类商品高出一大截，并影响到整个区域同类商品的价格走势。

下列属于标杆效应的是（ ）

- A. 某市某大品牌电器企业每到节假日就大搞特价促销活动，其他商家纷纷效仿，也出奇招来招揽顾客
- B. 某知名品牌推出的新款智能手表受到热捧，虽然价格偏高，却一再脱销，其他品牌的智能手表纷纷调低价格，争抢市场份额
- C. 市一中即将搬往高新区的消息一经传开，高新区的房价就一路飙升，连紧邻的湾树区房价也跟着涨了三四成
- D. 老徐的网店短短半年内就盈利数万，朋友们纷纷前来取经，采用同样的经营方式创办了自己的网店，一个个赚得盆满钵满

【答案】B。解析：

属于型。

“标杆效应”的定义要点是：（1）在某一区域内，由于消费者对某种品牌认知度较高，导致其价格往往比同一区域其他同类商品高出一大截，（2）并影响到整个区域同类商品的价格走势。

A项，没有体现出“价格往往比同一区域其他同类商品高出一大截”，排除。

C项，房价飙升并不是消费者对品牌认知度较高导致的，而是消费者获得其他消息后造成的，不符合定义条件，排除。

D项，没有体现“消费者对某品牌认知度较高”，不符合定义条件，排除。

所以，正确选项是B。

76. 帐篷理论：指在一定范围内，帐篷的容量不仅仅取决于篷布的面积，也取决于支撑篷布的竹竿的高度。竹竿越高，帐篷容量就越大，比喻利用核心竞争力带动其他各方面要素，最终取得竞争优势。

下列不符合帐篷理论的是（ ）

- A. 在某市直机关举办的足球赛上，实力均衡的机关二队出人意料地击败了拥有两名前省队球员的机关一队，夺得冠军
- B. 某公司凭借其在发动机和传动系统上的技术优势，由原先的摩托车陆续进入汽车、割草机、水下引擎和发电机等市场，均取得巨大成功
- C. 小李的高考成绩虽然一般，社会实践经历也不出众，却凭借全国高中物理奥林匹克竞赛一等奖的优异成绩进入了重点大学
- D. 某款手机整体设计并不前卫，配置相当大众化，定价也相对偏高，本来不被业内专家看好，上市以后，却凭借超大屏幕受到广大用户青睐，销量连续数周排行第一

【答案】A。解析：

不属于型。

“帐篷理论”的定义要点是：（1）利用核心竞争力带动其他各方面要素，（2）最终取得竞争优势。

B项，某公司凭借其在发动机和传动系统上的技术优势不断扩大市场；C项，小李凭借全国高中物理奥林匹克竞赛一等奖的优异成绩进入重点大学；D项，某款手机凭借超大屏幕受到广大用户青睐，均符合定义要点，排除。

A 项，实力均衡的二队击败一队，夺得冠军，并不是凭借其在某方面的核心竞争力，而是出人意料，不符合定义要点。

所以，正确选项是 A。

77. 协同治理：指政府部门为了达成公共利益的目标，通过与非政府的、非盈利的社会组织和普通公众合作开展社会管理活动的工作模式。

下列属于协同管理的是（ ）

- A. 某市辖区内有多个街道办，每个街道办管辖一片区域，有的街道服务中心专门设立了为老年人和残疾人提供公益服务的绿色通道
- B. 某高校学生会多次组织大学生深入社区，开展心理咨询，消防安全讲座，帮助孤寡老人等公益活动
- C. 为创建卫生城市，某市卫生局、环保局、城管局通力合作，卫生防疫人员、环境监测人员、环卫工人和城管人员各司其职，积极工作
- D. 某市为确保城市公交畅通安全，每个公交站台都配有治安巡查员，这些人员中既有各职能部门人员，也有志愿者协会成员，还有退休者

【答案】D。解析：

属于型。

“协同治理”的定义要点：（1）政府部门为了达成公共利益的目标，（2）通过与非政府的、非盈利的社会组织和普通公众合作，（3）开展社会管理活动的工作模式。

A 项中的街道办不是政府部门，排除。

B 项中的某高校学生会不是政府部门，排除。

C 项中的合作方：卫生局、环保局、城管局，都属于政府部门，不属于非政府的、非盈利的社会组织和普通公众，排除。

所以，正确选项是 D。

78. O2O 的营销方式：即 Online To Offline，指以互联网为前台，用线上营销带动线下消费的商业营销模式。通常包括商家网上提供商品信息、折扣信息、服务预订、消费者在线预付、线下消费等环节完成商品交易。

下列不属于 O2O 营销方式的是（ ）

- A. 某公司推出线上、线下同价促销活动，旗下的网上商城和实体店所有商品价格相同，一时间网上商城订单量剧增，到实体店提货的人也摩肩接踵
- B. 小兰在时装杂志上看到了一款心仪的长裙，通过某比价网站发现单位附近一家商场的同款长裙正在打折促销，于是趁中午休息时间买了回来
- C. 女朋友生日临近，小袁从网上团购了某酒店的自助餐消费券，邀请多名好友为女朋友开了一个难忘的生日派对
- D. 某家电厂商利用微信平台向订阅用户定期推送新品上市、促销信息，用户用手机扫描推送消息中商品下方的二维码即可完成支付，等待附近门店的配送

【答案】B。解析：

不属于型。

“O2O 营销方式”定义的要点：（1）以互联网为前台，（2）用线上营销带动线下消费的商业营销模式。

（3）通常包括商家网上提供商品信息、折扣信息、服务预订、消费者在线预付、线下消费等环节完成商品交易。

B 项中的小兰不是商家，只是通过某比价网站发现一家商场同款长裙正在打折促销，并到该商场买回，属于个人消费行为，不是商家营销行为，不属于“O2O 营销方式”。

所以，正确选项是 B。

79. 趋同进化：指不同生物物种在进化过程中由于适应相似的环境而呈现出外形上的相似性。
- 下列属于趋同进化的是（ ）
- A. 海豚和鲨鱼，一个是哺乳动物一个是鱼类，只是为了更好地在海洋中生存，它们就变得越来越相像了
 - B. 随着共同生活时间的增加，夫妻二人的价值观念、生活习惯，甚至连五官都变得越来越相近了
 - C. 无脊椎动物中，肠腔动物门的珊瑚、甲壳类的藤壶、棘皮动物门的海百合，都有相似的辐射对称躯体构型
 - D. 蚂蚁从金合欢的刺中取食蛋白质、脂肪和蜜，也在金合欢枝叶间巡逻缠绕金合欢的其他植物，进攻来此觅食的食草动物

【答案】A。解析：

属于型。

“趋同进化”定义的要点是：“不同生物物种”、“由于适应相似的环境”、“呈现出外形上的相似性”。

A 项中哺乳类的海豚和鱼类的鲨鱼，为了适应相似的环境——海洋，从而变得越来越相似了，符合定义要点。

B 项中的夫妻不属于“不同生物物种”，排除。

C 项中的珊瑚、藤壶、海百合都属于无脊椎动物，不属于“不同生物物种”，且选项中没有体现它们生活环境的相似性，排除。

D 项中蚂蚁和金合欢不存在“外形上的相似性”，排除。

所以，正确选项是 A。

80. 星期一综合症 是指由于在双休日过分消耗精力处理工作之外的事情，导致周一上班时出现头晕、胸闷、腹胀、食欲不振、周身酸痛、注意力不集中等症状。

下列属于星期一综合症的是（ ）

- A. 五一小长假，小李和同事们计划已久的黄山之旅终于成行了。3 天下来，爬山、聚餐、照相、乘车，一点也不比上班轻松。这不，长假结束刚一上班，个个都像霜打的茄子——蔫了吧唧的
- B. 终于又到周末了，小王将下载好的一部 40 集连续剧不分白天黑夜地看完了，两天里除了上厕所就没下过床，饭都是舍友帮忙从食堂带的。周一起床整个人都昏昏沉沉的，干脆向辅导员请假不去上课了
- C. 周六上午陪小孩参加绘画兴趣班，下午学钢琴，晚上带着去品尝风味小吃；周日上午带着小孩去游乐场，下午去奶奶家。整个周末，王女士的时间表都被小孩填满了，周一上班脑袋里还是这些，根本没法工作
- D. 已经连续工作了 5 天，也计划好周末陪女友上街购物，但公司临时通知周末加班，小许只好向女友“请假”，回到办公室和同事们通宵达旦地又干了两天。星期一上班，个个都成了“熊猫眼”

【答案】C。解析：

属于型。

“星期一综合症”的定义要点是：（1）由于在双休日过分消耗精力处理工作之外的事情，（2）导致周一上班时出现头晕、胸闷、腹胀、食欲不振、周身酸痛、注意力不集中等症状

A 项，小李和同事们是小长假出去爬山的，并不是双休日，不属于星期一综合症。排除

B 项，小王是学生，不满足“星期一上班”，不属于星期一综合症。排除。

D 项，小许双休日处理的是工作，不满足“在双休日过分耗费精力处理工作之外的事情”，不属于星期一综合症。排除。

所以，正确选项是 C。

第四部分 资料分析

（共 20 题，参考时限 20 分钟）

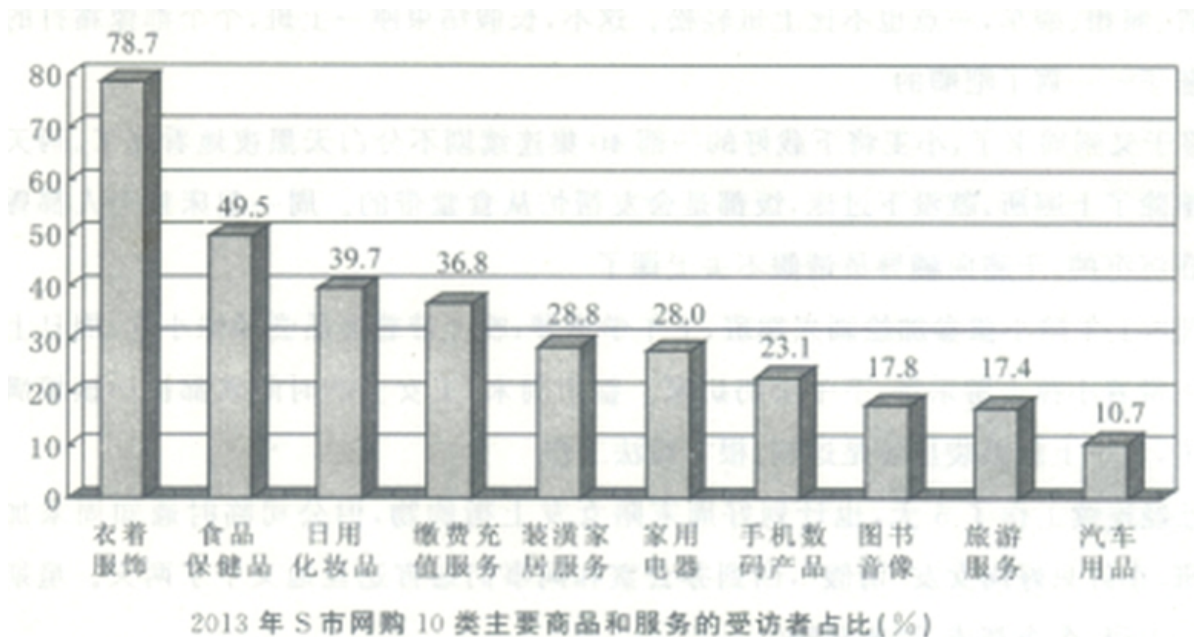
第 27 页 共 44 页

下列给出的文字、表格、图形资料均有 5 个问题要你回答，你应根据资料提供的信息进行分析、计算、处理，然后从备选答案中选择一个最恰当的答案。

一、根据以下资料，回答 81~85 题。

S 市统计局在该市范围内，抽取 3000 名 18~70 周岁且在 2013 年有过网购经历的居民，以入户方式进行问卷调查。

调查数据显示，受访者 2013 年人均网购次数为 19.4 次。从分组情况看，有三类人群使用网购相对频繁一是年轻群体。35 岁以下的受访者人均网购次数为 25.5 次；二是较高学历的群体，文化程度为大学本科及以上学历和大专学历的受访者人均网购次数分别是 27.3 次和 21.8 次；三是中高收入群体，个人月收入为 10000 元以上和 5000~10000 元的受访者人均网购次数分别是 31.0 次和 26.0 次。此外，女性受访者人均网购次数为 21.1 次，比男性受访者高出 3.8 次。2013 年该市网购 10 类主要商品和服务的受访者占比情况如下图。



81. 2013 年，在该市有超过 40% 的受访者网购的商品和服务项目是 ()
- A. 衣着服饰、食品保健品
 B. 食品保健品、汽车用品
 C. 衣着服饰、缴费充值服务
 D. 日用化妆品、装潢家居服务

【答案】A。解析：

由图可知，2013 年在该市有超过 40% 的受访者网购的商品和服务项目是衣着服饰 (78.7%) 和食品保健品 (49.5%)。

所以，正确选项是 A。

82. 受访者中女性所占的比例约为 ()
- A. 71.2%
 B. 55.3%
 C. 65.7%
 D. 44.7%

【答案】B。解析：

设受访者中女性所占的比例为 x 。根据文字资料：“抽取 3000 名在 2013 年有过网购经历的居民……进行问卷调查”“受访者 2013 年人均网购次数为 19.4 次”“女性受访者人均网购次数为 21.1 次，比男性受访者高出 3.8 次”，可列方程为：

$$3000x \times 21.1 + 3000 \times (1-x) \times (21.1 - 3.8) = 3000 \times 19.4.$$

解得： $x \approx 55.3\%$ 。

所以，正确选项是 B。

83. 下列群体中，2013 年人均网购次数最多的是（ ）
- A. 35 岁以下的受访者 B. 个人月收入为 10000 元以上的受访者
C. 大专学历的受访者 D. 大学本科及以上学历的受访者

【答案】B。解析：

由资料第二段可知，2013 年人均网购次数分别为：35 岁以下的受访者 25.5 次，个人月收入为 10000 元以上的受访者 31.0 次，大专学历的受访者 21.8 次，大学本科及以上学历的受访者 27.3 次。

人均网购次数最多的是个人月收入为 10000 元以上的受访者。

所以，正确选项是 B。

84. 受访者中，在 2013 年网购了缴费充值服务的人数为网购图书音像人数的（ ）
- A. 1.6 倍 B. 2.1 倍 C. 2.5 倍 D. 3.0 倍

【答案】B。解析：

由图可知，2013 年网购缴费充值服务的受访者占比为 36.8%，网购图书音像的受访者占比为 17.8%，则

在 2013 年网购了缴费充值服务的人数为网购图书音像人数的倍数为： $\frac{36.8\%}{17.8\%} \approx \frac{37}{18} \approx 2.1$ （倍）。

所以，正确选项是 B。

85. 不能从上述资料推出的一项是（ ）
- A. 受访者中在 2013 年网购了日用化妆品的人数是 1191 人
B. 2013 年该市个人月收入为 5000~10000 元的受访者人均网购次数是 26.0 次
C. 2013 年该市网购家用电器、图书音像的受访者占比之差是 10.2%
D. 2013 年该市大专及以上学历受访者的人均网购次数是 24.6 次

【答案】D。解析：

A 项，由图可知，2013 年网购日用化妆品的受访者占比为 39.7%，而受访者共 3000 人，故网购日用化妆品的受访者人数为 $3000 \times 39.7\% = 1191$ （人），A 项正确，排除。

B 项，由文字资料“个人月收入为 10000 元以上和 5000~10000 元的受访者人均网购次数分别是 31.0 次和 26.0 次”可知，B 项正确，排除。

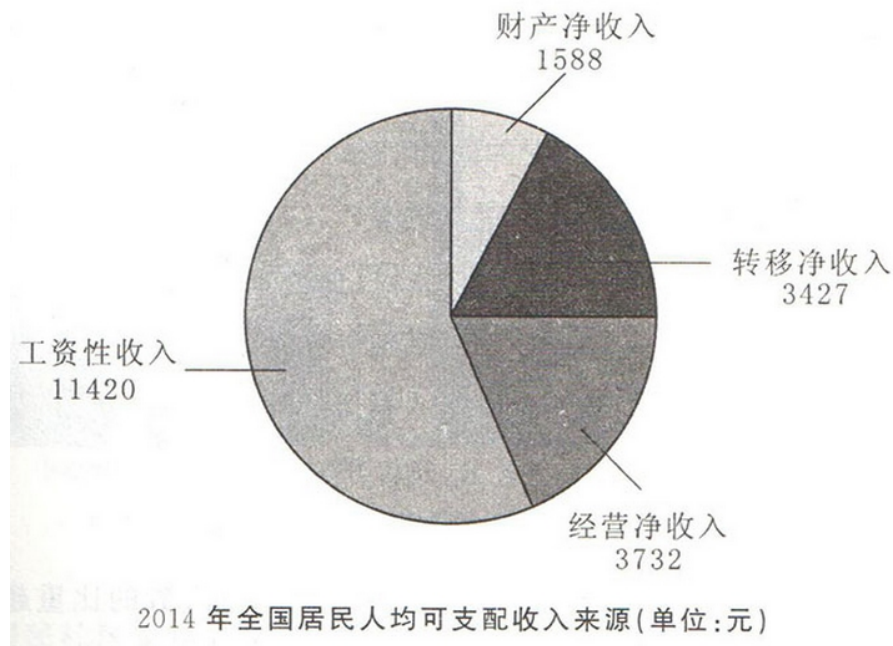
C 项，由图可知，2013 年网购家用电器、图书音像的受访者占比分别为 28.0% 和 17.8%，二者相差 $28.0\% - 17.8\% = 10.2\%$ ，C 项正确，排除。

D 项，资料中分别给出了大学本科及以上学历和大专学历受访者的人均网购次数，但是由于不知道二者的具体人数（基数不明），因此并不能简单由二者的平均数得出大专及以上学历受访者的人均网购次数。D 项错误，不能从上述资料推出。

所以，正确选项是 D。

二、根据以下资料，回答 86~90 题。

2014 年全国居民人均可支配收入 20167 元，比上年增长 10.1%，收入来源如下图所示。按常住地分，城镇居民人均可支配收入 28844 元，比上年增长 9.0%；城镇居民按户人均可支配收入的中位数为 26635 元，增长 10.3%。农村居民按户人均可支配收入 10489 元，比上年增长 11.2%；农村居民人均可支配收入的中位数为 9497 元，增长 12.7%。全国居民人均消费支出 14491 元，比上年增长 9.6%。按常住地分，城镇居民人均消费支出 19968 元，增长 8.0%；农村居民人均消费支出 8383 元，增长 12.0%。



86. 2014年城镇居民人均消费支出增长比农村居民人均消费支出增长 ()

- A. 低 2.2 个百分点
 B. 高 4.0 个百分点
 C. 高 2.2 个百分点
 D. 低 4.0 个百分点

【答案】D。解析：

由文字资料最后一句可知：2014年城镇居民人均消费支出增长比农村居民人均消费支出增长低： $12.0\% - 8.0\% = 4.0\%$ 。所以，正确选项是 D。

87. 2014年全国居民人均可支配收入中，经营净收入占比为 ()

- A. 27.0%
 B. 18.5%
 C. 56.6%
 D. 7.9%

【答案】B。解析：

由文字资料第一句可知，2014年全国居民人均可支配收入 20167 元。由图可知，其中经营净收入为 3732 元。

则在全国居民人均可支配收入中，经营净收入占比为： $\frac{3732}{20167} \times 100\% < \frac{4000}{20000} \times 100\% \approx 20\%$ 。

B 项的数据最为接近。

所以，正确选项是 B。

88. 2013年城镇居民人均可支配收入比农村居民人均可支配收入多 ()

- A. 17030
 B. 18355
 C. 16138
 D. 22090

【答案】A。解析：

解法一：由文字资料可知，2014年城镇居民人均可支配收入 28844 元，比上年增长 9.0%；农村居民人均可支配收入 10489 元，比上年增长 11.2%。则 2013年城镇居民人均可支配收入比农村居民人均可支配收入多：

$\frac{28844}{1+9.0\%} - \frac{10489}{1+11.2\%} \approx 17000$ (元)。所以，正确选项是 A。

解法 2：根据文字资料可知，2014年城镇居民人均可支配收入 28844 元，比上年增长 9.0%；农村居民人均可支配收入 10489 元，比上年增长 11.2%。可以推知：2014年城镇居民人均可支配收入的增长量大于农村

居民人均可支配收入的增长量。

则 2013 年城镇居民人均可支配收入与农村居民人均可支配收入的差值，必然小于并接近 2014 年二者之间的差值，即小于并接近： $28844-10489=18355$ 。满足条件的只有 A 项。

所以，正确选项是 A。



知识加油站

“居民人均可支配收入”与“居民按户人均可支配收入”

居民可支配收入不是按人统计的，而是以户为单位进行统计，然后折算成人均可支配收入的。

也就是说，人均可支配收入不是单纯的个人平均收入，而是家庭人均收入，比如一个三口之家，孩子是没有收入的，要把父母二人的收入三口人平均，才是人均可支配收入。

在统计数据中，还有一个数据叫“中位数”。这个数据是为了更客观地展现城乡居民的收入水平而统计的，指的是将所有调查户按人均可支配收入水平从低到高顺序排列，处于最中间位置的调查户的人均可支配收入。目前，我国居民人均可支配收入中位数依然比平均数低很多，说明高低收入的差距依然很大。

89. 2013 年全国居民人均可支配收入与人均消费支出分别为（ ）

- A. 22177 元、17222 元 B. 18317 元、13222 元
C. 16367 元、11491 元 D. 20167 元、14491 元

【答案】B。解析：

根据文字资料，2014 年全国居民人均可支配收入 20167 元，比上年增长 10.1%……全国居民人均消费支出 14491 元，比上年增长 9.6%。

则 2013 年全国居民人均可支配收入为：

$$\frac{20167}{1+10.1\%} \approx \frac{20167}{1.1} \approx 18317 \text{ (元)}, \text{ 直接选择 B 项。}$$

2013 年全国居民人均消费支出为：

$$\frac{14491}{1+9.6\%} \approx \frac{14491}{1.1} \approx 13222 \text{ (元)}, \text{ B 项符合。}$$

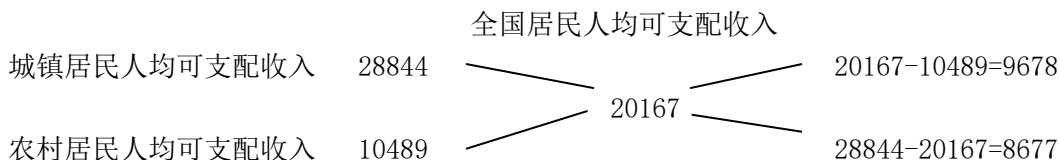
所以，正确选项是 B。

90. 2014 年全国城镇居民人数占全国居民人数的比重是（ ）

- A. 36.4% B. 42.1% C. 52.7% D. 69.9%

【答案】C。解析：

由文字资料所给出的数据，运用十字交叉法可得：



则 $\frac{\text{城镇居民人数}}{\text{农村居民人数}} = \frac{9678}{8677}$ ，则城镇居民人数占全国居民人数的比重为 $\frac{9678}{9678+8677} = \frac{9678}{18355} \approx 0.5$ 。

所以，正确选项是 C。



知识加油站

十字交叉法

十字交叉法是一种适用于解答“两个整体混合成一个整体”的相关试题的解题方法。基本原理如下：

混合前：整体一，数量 x ，指标量 a 。整体二：数量 y ，指标量 b 。（ $a > b$ ）

混合后：整体，数量 $(x+y)$ ，指标量 c 。

可得到如下关系公式： $(a-c) : (c-b) = y : x$ 。



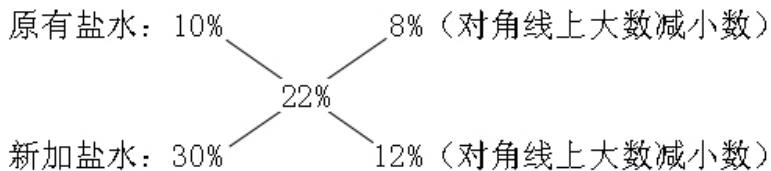
例题 1

有浓度为 10% 的盐水 20 千克，再加入多少千克浓度为 30% 的盐水，可以得到浓度为 22% 的盐水？

- A. 20 B. 30 C. 40 D. 50

【解析】

本题用“十字交叉法”可以求解为：



原有盐水/新加盐水 = $8/12 = 2/3$ ，则新加盐水为 $20 \times 1.5 = 30$ 。
所以，正确选项是 B。



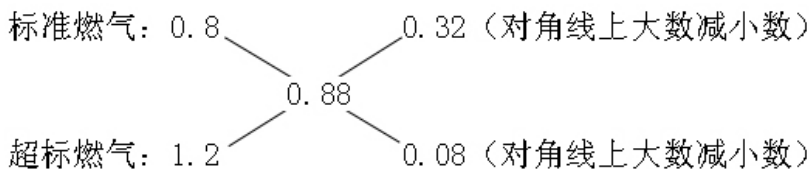
例题 2

某市按以下规定收取燃气费：如果用气量不超过 60 立方米，按每立方米 0.8 元收费；如果用气量超过 60 立方米，则超过部分按每立方米 1.2 元收费。某用户 8 月份交的燃气费平均每立方米 0.88 元，则该用户 8 月份的燃气费是：

- A. 66 元 B. 56 元 C. 48 元 D. 61.6 元

【解析】

本题用“十字交叉法”可以求解为：



标准燃气/超标燃气 = $0.32/0.08 = 4/1$ 。

就是说，如果该用户 8 月份的燃气费分为 5 份，则标准燃气占其中的 4 份，超标燃气占其中的 1 份。

超标燃气量为： $60 \div 4 = 15$ 。

8 月份燃气总量为： $60 + 15 = 75$ 。

则该用户 8 月份的燃气费为： $75 \times 0.88 = 66$ 。
 所以，正确选项是 A。

三、根据以下资料，回答 91~95 题。

2014 年 1—9 月我国入境外国人共有 1922 万人，其中来自亚洲、美洲、欧洲、大洋洲、非洲的外国人分别为 1184 万人、229 万人、408 万人、58 万人和 43 万人。分不同目的的入境外国人数见下表。

2014 年 1—9 月不同目的入境外国人数

来源	会议（商务）	观光休闲	探亲访友	服务员工	其他
亚洲	219	388	12	176	389
美洲	41	84	19	14	71
欧洲	109	147	7	46	99
大洋洲	10	20	6	3	19
非洲	15	12	0	4	12

91. 2014 年 1—9 月来自欧洲的入境外国人数占外国人总数的比重是（ ）。
- A. 11.9% B. 21.2% C. 28.1% D. 30.2%

【答案】B。解析：

根据文字资料，2014 年 1~9 月来自欧洲的入境外国人数占外国人总数的比重为：
 $408 \div 1922 \approx 400 \div 2000 = 0.2$ 。与 B 项的数据最为接近。
 所以，正确选项是 B。

92. 2014 年 1—9 月不同目的入境外国人中人数最多的是（ ）。
- A. 观光休闲 B. 会议（商务） C. 探亲访友 D. 其他

【答案】A。解析：

浏览表中各列，可以锁定各列求和较大的为观光休闲和其他，仔细比较可知最多的是观光休闲。
 所以，正确选项是 A。

93. 2014 年 1—9 月以会议（商务）为目的的入境外国人数为（ ）。
- A. 243 万 B. 590 万 C. 394 万 D. 651 万

【答案】C。解析：

以会议（商务）为目的的入境外国人数为 $219 + 41 + 109 + 10 + 15 = 394$ （万人）。
 所以，正确选项是 C。

94. 2014 年 1—9 月来自大洋洲以不同目的入境的人数占其入境总人数的比重超过 15% 的有（ ）。
- A. 会议（商务）、探亲访友、服务员工 B. 观光休闲、探亲访友、其他
 C. 会议（商务）、观光休闲、其他 D. 观光休闲、探亲访友、服务员工

【答案】C。解析：

根据大洋洲以不同目的入境的人数，从大到小取前三。
 所以，正确选项是 C。

95. 下列判断正确的是（ ）。
- A. 2014 年 1—9 月来自亚洲以会议（商务）为目的的入境人数不到表中其他各洲以会议（商务）为目的的入境总人数的一半
- B. 2014 年 1—9 月来自表中各洲探亲访友的人数占各洲入境总人数的比重均为最小

- C. 2014年1—9月来自美洲服务员工的人数不到其会议（商务）人数的三分之一
D. 2014年1—9月来自表中各洲会议（商务）人数占各洲入境总人数的比重最大的是非洲

【答案】D。解析：

A项，来自亚洲以会议（商务）为目的入境人数为219万人，大于其他各洲以会议（商务）为目的入境总人数。A项错误，排除。

B项，来自表中各洲探亲访友的人数并非所有行比重均为最小，美洲和大洋洲不符合。B项错误，排除。

C项，来自美洲服务员工的人数为14万人，大于会议（商务）人数的三分之一。C项错误，排除。

D项，表中非洲入境总人数最小，目的为会议（商务）的比重最大，接近35%。D项判断正确。

所以，正确选项是D。

四、根据以下资料，回答96~100题。

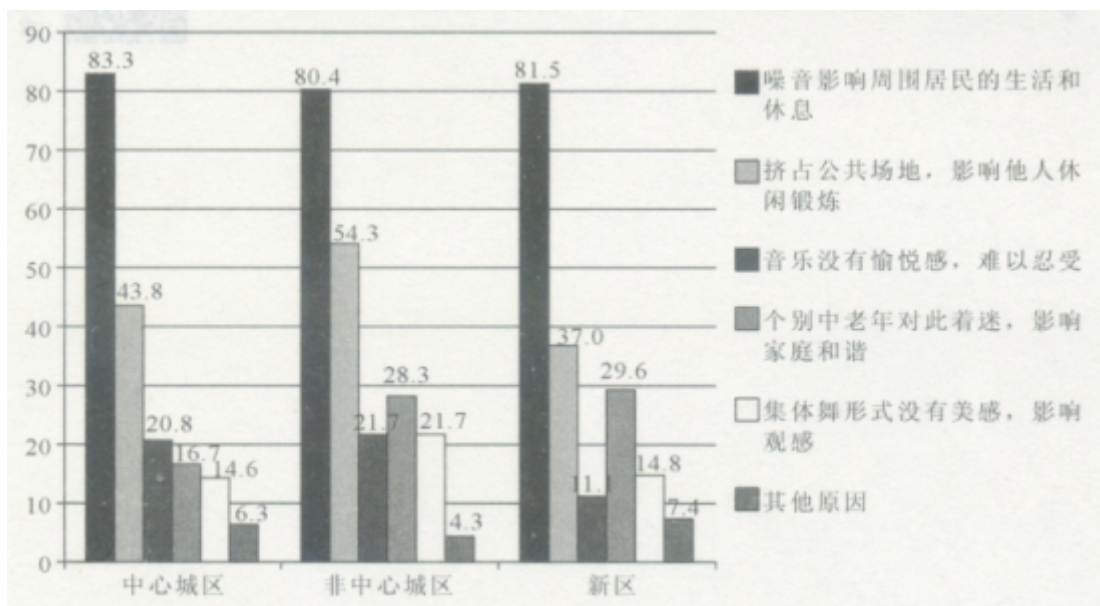
某市统计局在针对噪音扰民的一次调查中，当问及受访市民对哪一类噪音反感时，选择社区广场舞活动噪音的占8.6%，比选择居民社区宠物狗叫声的低2.9个百分点。当被问及是否支持广场舞活动时，12.8%的受访市民表示无所谓或者不知道，12.0%的受访者表示反对，其他为支持者。在支持的市民中，当被问及支持的主要原因（多选）时，不同年龄段受访者的回答如下图所示。

支持广场舞等活动的受访市民选择各主要原因的比例（单位：%）

原因	青年	中年	老年
中老年人的正常锻炼娱乐活动	66	54.6	60.8
有利于中老年人扩大社交、排解孤独	64.7	61.7	54.3
有利于中老年人活动筋骨、减缓衰老	62.8	59.7	58.1
噪音等问题可通过规范管理克服	22.5	16.3	18.8
社会和谐需要相互包容理解	32.1	32.7	31.7
其他原因	0.3	2.1	1.6

在反对的市民中，被问及反对的主要原因（多选）时，不同区域受访者回答如下。

反对广场舞等活动的受访市民选择各主要原因的比例



96. 此次调查中，对居民社区宠物狗的叫声反感的市民占受访市民的比重为（ ）
A. 12.5% B. 11.5% C. 10.5% D. 9.5%

【答案】B。解析：

根据文字资料第一段第一句“选择社区广场舞活动噪音的占 8.6%，比选择居民社区宠物狗叫声的低 2.9 个百分点。”可知，对居民社区宠物狗的叫声反感的市民占受访市民的比重为 $8.6\% + 2.9\% = 11.5\%$ 。所以，正确选项是 B。

97. 如果此次调查的受访者数量为 1000 名，则支持广场舞等活动的人数为（ ）

- A. 634 B. 752 C. 798 D. 914

【答案】B。解析：

根据文字资料：当被问及是否支持广场舞活动时，12.8%的受访市民表示无所谓或者不知道，12.0%的受访者表示反对，其他为支持者。可知：如果此次调查的受访者数量为 1000 名，则支持广场舞等活动的人数为： $1000 \times (1 - 12.8\% - 12.0\%) = 752$ （人）。

所以，正确选项是 B。

98. 此次调查中，在支持广场舞等活动的受访青年市民中，同时选择“中老年人的正常锻炼娱乐活动”和“有利于中老年人扩大社交、排解孤独”的至少有（ ）

- A. 64.7% B. 35.3% C. 30.7% D. 28.6%

【答案】C。解析：

题干中，由于受访市民可以进行多项选择，即选择“中老年人的正常锻炼娱乐活动”和“有利于中老年人扩大社交、排解孤独”的青年市民人数存在重合，则同时选择二者的比重至少为：

$$66\% + 64.7\% - 100\% = 30.7\%$$

所以，正确选项是 C。

99. 根据此次调查，市民反对广场舞等活动的主要原因是（ ）

- A. 噪音影响周围市民的生活和休息 B. 挤占公共场地，影响他人休闲锻炼
C. 音乐没有愉悦感，难以忍受 D. 集体舞形式没有美感，影响观感

【答案】A。解析：

根据柱状图中柱子的高低可以判断出市民反对广场舞等活动的主要原因是“噪音影响周围市民的生活和休息”。

所以，正确选项是 A。

100. 下列判断正确的是（ ）

- A. 此次调查中的 16.3% 的中年受访者认为广场舞等活动可以通过规范管理克服
B. 此次调查的受访者中，青年所占比例高于中年和老年
C. 和中心城区的老年人相比，非中心城区的中年人对广场舞更着迷
D. 在反对广场舞的非中心城区受访者中，选择“音乐没有愉悦感，难以忍受”的比例高于其他区域

【答案】D。解析：

A 项，根据资料，在支持的市民中，有 16.3% 的中年受访者认为广场舞等活动可以通过规范管理克服。但并不是此次调查中的中年受访者的 16.3%。A 项错误，排除。

B、C 两项在资料中均没有提及，可以直接排除。

D 项，在反对广场舞等活动的非中心城区受访者中，选择“音乐没有愉悦感，难以忍受”的比例为 21.7%，高于中心城区（20.8%）和新区（11.1%）。D 项正确。

所以，正确选项是 D。

第五部分 常识判断

(共 35 题, 参考时限 20 分钟)

根据题目要求, 在四个选项中选出一个最恰当的答案。

101. 习近平总书记在十八届四中全会上指出, 全面推进依法治国的总抓手是 ()
- A. 构建权力运行制约和监督体系
B. 建设中国特色社会主义法治体系
C. 加快建设社会主义法治国家
D. 推进国家治理体系和治理能力现代化

【答案】B。解析:

习近平总书记在《关于〈中共中央关于全面推进依法治国若干重大问题的决定〉的说明》中强调: “全面推进依法治国涉及很多方面, 在实际工作中必须有一个总揽全局、牵引各方的总抓手, 这个总抓手就是建设中国特色社会主义法治体系。”

所以, 正确选项是 B。

102. 2014 年 6 月国务院印发的《社会信用体系建设规划纲要 (2014~2020 年)》指出, 政务诚信是社会信用体系建设的关键。下列对这句话的理解正确的是 ()
- A. 政务诚信建设对其他社会主体诚信建设有表率 and 导向作用
B. 政务诚信建设水平决定着其他社会主体诚信建设水平
C. 政务诚信建设是其他社会主体诚信建设的前提条件
D. 政务诚信建设效果是其他社会主体诚信建设效果的评价标准

【答案】A。解析:

《社会信用体系建设规划纲要 (2014~2020 年)》指出, 政务诚信是社会信用体系建设的关键, 各类政务行为主体的诚信水平, 对其他社会主体诚信建设发挥着重要的表率 and 导向作用。因此 A 项正确。

所以, 正确选项是 A。

103. 2014 年国务院《关于进一步推进户籍制度改革的意见》提出建立城乡统一的户口登记制度。这一举措表明 ()
- A. 农村与城市居民福利待遇差别已消除
B. 人口落户城市的政策门槛已全面取消
C. 取消农业户口与非农业户口性质区分
D. 不再保留居住证制度

【答案】C。解析:

2014 年国务院《关于进一步推进户籍制度改革的意见》中明确提出, 建立城乡统一的户口登记制度。取消农业户口和非农业户口性质区分, 统一登记为居民户口, 体现户籍制度的人口登记管理功能。C 项正确。

A、B、D 三项表述过于绝对, 均可排除。

所以, 正确选项是 C。

104. 2015 年 2 月 9 日, 国家发改委对美国高通公司滥用市场支配地位的垄断行为作出行政处罚, 开出巨额罚单。国家发改委此举的主要作用是 ()
- A. 加强市场监管, 维护市场秩序
B. 维护市场秩序, 调控宏观经济
C. 调控宏观经济, 优化公共服务
D. 优化公共服务, 加强市场监管

【答案】A。解析:

国家发改委对美国高通公司滥用市场支配地位的垄断行为作出行政处罚, 其作用是加强市场监管, 维护市场秩序。与宏观经济和公共服务无关。

所以, 正确选项是 A。

105. 关于建设中国特色社会主义的总布局, 我们党的认识经历了一个逐步发展的过程。即从最初的“两手抓”到“三位一体”、“四位一体”, 再到“五位一体”。这体现的哲理是 ()
- A. 理性认识依赖于感性认识
B. 感性认识有待发展为理性认识

C. 在实践中坚持和发展真理

D. 实践是检验真理的唯一标准

【答案】C。解析：

我们党的认识经历了一个逐步发展的过程，从“两手抓”到“三位一体”、“四位一体”、“五位一体”，这主要体现了我们党的认识在实践中不断发展，在实践中坚持和发展真理。

所以，正确选项是 C。

106. “手机可以让分处地球两端的人轻松对话，也可以让面对面的两个人忽视了彼此的存在。”这体现的哲理是（ ）

A. 科学技术是先进生产力的集中体现

B. 科学技术的社会作用具有两重性

C. 科技革命是推动社会发展的重要动力

D. 科技革命引发生产方式的深刻变化

【答案】B。解析：

“手机可以让分处地球两端的人轻松对话，也可以让面对面的两个人忽视了彼此的存在”，这说明手机是一把双刃剑，其社会作用具有两重性，既有方便人们联系的一面，又有不利于人们面对面交流沟通的一面。

所以，正确选项是 B。

107. 关于古田会议决议，下列说法正确的是（ ）

A. 第一次提出了“工农武装割据”的思想

B. 系统论述了中国革命战争的特点和规律

C. 确立了思想建党、政治建军的一系列重大原则

D. 阐明了农村包围城市、武装夺取政权的思想

【答案】C。解析：

A 项，“工农武装割据”的思想不是古田会议提出的，而是 1928 年 10 月 5 日毛泽东在《中国的红色政权为什么能够存在？》一文中首次提出的。排除。

B 项，中国革命战争的特点和规律是 1936 年 12 月毛泽东在中国抗日红军大学演讲时论述的。排除。

C 项，古田会议是红四军在 1929 年 12 月 28 日至 29 日召开的第九次党的代表大会，会议解决了如何把一支以农民为主要成分的军队建设成为中国共产党领导下的新型人民军队的问题，确定了着重从思想上建党和从政治上建军的原则。因此 C 项说法正确。

D 项，农村包围城市，武装夺取政权的思想是 1930 年 1 月 5 日毛泽东在《星星之火，可以燎原》一文中阐明的。排除。

所以，正确选项是 C。

108. 下列属于政府运用经济手段进行宏观调控的是（ ）

A. 全国人大常委会审议通过消费者权益保护法修正案

B. 中国人民银行调整银行的贷款基准利率

C. 工商总局召集 10 家电商企业进行约谈

D. 国家质检总局公布网络销售商品质量抽查公告

【答案】B。解析：

宏观调控的经济手段是指政府运用经济政策和计划，通过对经济利益的调整来影响和调节社会经济活动的措施。宏观调控的经济政策主要包括：财政政策、货币政策、收入分配政策、价格政策、产业政策和对外经济政策等。其中，货币政策也叫金融政策，是政府制定的关于货币供应和货币流通组织管理的基本方针和基本准则，具体讲就是中央银行利用自己手中掌握的利率、汇率、信贷、货币发行、外汇管理等工具，调节有关变量，最终影响整个国民经济活动的一种政策手段。因此 B 项正确。

所以，正确选项是 B。

109. 关于农村土地承包经营权流转，下列表述正确的是（ ）

A. 土地是否流转及流转形式的选择由承包农户自主决定

- B. 承包农户只能采取转包或互换方式流转承包地
- C. 村委会经农户口头委托可决定流转农户的承包地
- D. 按少数服从多数将整组农户承包地集中对外招商经营

【答案】A。解析：

A 项，根据《农村土地承包法》第 34 条规定，土地承包经营权流转的主体是承包方，承包方有权依法决定土地承包经营权是否流转和流转的方式，因此 A 项正确。

B 项，根据《农村土地承包法》第 32 条规定，通过家庭承包法取得的土地承包经营权可以依法采取转包、出租、互换、转让或者其他方式流转，因此 B 项错误。排除。

C 项，根据《农村土地承包法》第 37 条规定，土地承包经营权采取转包、出租、互换、转让或者其他方式流转，当事人双方应该签订书面合同，因此 C 项错误，排除。

D 项，根据《农村土地承包法》第 35 条规定，承包期内，发包方不得单方面解除承包合同，不得假借少数服从多数强迫承包方放弃或者变更土地承包经营权，因此 D 项错误，排除。

所以，正确选项是 A。

110. 进一步深化文化体制改革的中心环节是（ ）

- A. 激发全民族文化创造活力
- B. 建立健全现代文化市场体系
- C. 构建现代公共文化服务体系
- D. 推动公共文化服务社会化发展

【答案】A。解析：

《中共中央关于全面深化改革若干重大问题的决定》提出，坚持以人民为中心的工作导向，坚持把社会效益放在首位，社会效益与经济效益相统一，以激发全民族文化创造活力为中心环节，进一步深化文化体制改革。

所以，正确选项是 A。

111. 提交提案是政协委员参政议政的重要方式，下列关于政协委员提案的说法正确的是（ ）

- A. 属于学术研讨的提案不予立案
- B. 提案只能在政协全会期间提出
- C. 提案是一种书面或口头意见和建议
- D. 提案可直接递交给有关单位办理

【答案】A。解析：

有 12 种情形，政协委员提交的提案将不予立案，包括：属于学术研讨的；为本人或亲属解决个人问题的；宣传、推介具体作品、产品的；进入民事、刑事、行政诉讼程序或者行政复议、仲裁程序，尚未结案的；执纪执法机关正在审查的违纪违法问题；内容空泛、没有具体建议的；超出本省管辖和职权范围的等。提案可在政协全会期间提出，也可在休会期间提出；提案是书面建议；提案不能直接递交给有关单位办理。

因此 A 项说法正确。

所以，正确选项是 A。

112. 基层肩负着打通各项方针政策落地“最后一公里”的责任。打通“最后一公里”的关键是（ ）

- A. 提高基层干部责任意识 and 执行能力
- B. 上级给予基层一线更多的财政支持
- C. 提高基层群众的科学文化知识水平
- D. 不断健全优化基层组织机构的设置

【答案】A。解析：

打通“最后一公里”就是要求基层政府要加强落实各项方针政策，而落实各项方针政策必须提高基层干部的责任意识和执行能力。

所以，正确选项是 A。

113. 关于施行《不动产登记暂行条例》的目的，下列说法不正确的是（ ）

- A. 整合不动产登记职责，规范登记行为
- B. 方便群众申请登记，保护权利人合法权益

- C. 减少权属纠纷，有效保障不动产交易安全 D. 遏制房价上涨，增加公共财政收入

【答案】D。解析：

D项，遏制房价上涨，增加公共财政收入，不是施行《不动产登记暂行条例》的目的。所以，正确选项是D。

114. 公务员王某抱着“只要不出事，宁愿不做事”的态度，对于群众反映的需要费心解决的问题应付了事。这种行为违背的公务员职业道德规范是（ ）

- A. 清正廉洁 B. 勤政为民 C. 诚实守信 D. 品行端正

【答案】B。解析：

勤政：要求公务员恪尽职守，勤于政事，不管大事小事都要积极去完成，认真负责地为国为民做事。为民：要求实现好、维护好、发展好群众的切身利益。时时刻刻牢记群众利益无小事的道理，始终把保障民生、实现群众利益放在第一位。

王某抱着“只要不出事，宁愿不做事”的态度违背了对公务员“勤政为民”的要求。所以，正确选项是B。

115. 依法行政是公务员必须遵守的基本行为规范。下列符合这一规范的是（ ）

- A. 甲乡长将部分农业专项补贴用于维修办公楼 B. 乙镇长为抓住机遇省去议事程序作出重大决策
C. 丙乡长在报上级审批的过程中启动工程项目 D. 丁镇长组织工作人员按规定公开财务收支情况

【答案】D。解析：

依法行政，指行政机关必须根据法律法规的规定设立，并依法取得和行使其行政权力，对其行政行为的后果承担相应的责任的原则。

A项，乡长挪用农业专项补贴；B项，镇长省去议事程序作出重大决策；C项，乡长在上级审批未完成时就启动工程项目，都是违反法律规定的行为，不符合依法行政。排除。

D项，镇长按照规定公开财务收支情况，属于依法行政。

所以，正确选项是D。

116. 根据我国宪法规定，连续任职可以超过两届的是（ ）

- A. 国务院副总理 B. 最高人民法院副院长
C. 国家副主席 D. 全国人大常委会副委员长

【答案】B。解析：

《中华人民共和国宪法》第87条规定，国务院每届任期同全国人民代表大会每届任期相同。总理、副总理、国务委员连续任职不得超过两届。因此A项错误，排除。

第124条第2款规定，最高人民法院院长每届任期同全国人民代表大会每届任期相同，连续任职不得超过两届。因此B项正确。

第79条第3款规定，中华人民共和国主席、副主席每届任期同全国人民代表大会每届任期相同，连续任职不得超过两届。因此C项错误，排除。

第66条规定，全国人民代表大会常务委员会每届任期同全国人民代表大会每届任期相同，它行使职权到下届全国人民代表大会选出新的常务委员会为止。委员长、副委员长连续任职不得超过两届。因此D项错误，排除。

所以，正确选项是B。

117. 甲县人大代表周某在乙县交通肇事后逃逸。乙县公安局侦查后欲对周某刑事拘留，乙县公安局正确的做法是（ ）

- A. 先拘留再向甲县人大常委会报告 B. 先拘留再向乙县人大常委会报告

C. 先提请甲县人大常委会许可

D. 先提请乙县人大常委会许可

【答案】C。解析：

《全国人民代表大会和地方各级人民代表大会代表法》第 32 条第 1 款规定，县级以上的各级人民代表大会代表，非经本级人民代表大会主席团许可，在本级人民代表大会闭会期间，非经本级人民代表大会常务委员会许可，不受逮捕或者刑事审判。如果因为现行犯被拘留，执行拘留的机关应当立即向该级人民代表大会主席团或者人民代表大会常务委员会报告。

本题中，周某不是现行犯，因此乙县公安局应先提请甲县人大常委会许可。

所以，正确选项是 C。

118. 下列不属于行政许可的是（ ）

A. 工商局颁发企业营业执照

B. 公安部门颁发机动车驾驶证

C. 专利局颁发专利证书

D. 司法厅颁发律师执业证书

【答案】C。解析：

行政许可，是指行政机关根据公民、法人或者其他组织的申请，经依法审查，准予其从事特定活动的行为。从行政许可的性质、功能和适用条件的角度来说，大体可以划分为五类：普通许可、特许、认可、核准、登记。

A 项属于许可中的登记；

B 项属于普通许可；

D 项属于许可中的认可。

C 项是资格确认，不属于行政许可。

所以，正确选项是 C。

119. 海事执法人员发现方某在驾驶过程中向江面扔生活垃圾，当场作出罚款 20 元的处罚，并当场收缴。对于收缴的这一罚款，执法人员的正确做法是（ ）

A. 自抵岸之日起 2 日内，交至行政机关

B. 自抵岸之日起 2 日内，交至指定银行

C. 自收缴罚款之日起 2 日内，交至行政机关

D. 自收缴罚款之日起 2 日内，交至指定银行

【答案】A。解析：

《行政处罚法》第 50 条规定，执法人员当场收缴的罚款，应当自收缴罚款之日起二日内，交至行政机关；在水上当场收缴的罚款，应当自抵岸之日起二日内交至行政机关；行政机关应当在二日内将罚款缴付指定的银行。

本案件属于在水上当场收缴的情形，因此应当在抵岸后 2 日内将罚款交至行政机关。

所以，正确选项是 A。

120. 李某为去外地做生意，向王某借款 30 万元。双方约定李某将自己的房屋交给王某居住，房租与借款利息相抵。王某对李某房屋享有的权利是（ ）

A. 质权

B. 抵押权

C. 承租权

D. 留置权

【答案】C。解析：

A 项，质押是指债务人或第三人将其动产或者权利移交债权人占有，将该动产作为债权的担保。房屋是不动产，所以不能质押。因此 A 项错误，排除。

B 项，抵押是指债务人或者第三人不转移某些财产的占有（所有权和使用权），将该财产作为债权的担保。题目中李某将自己房屋交给王某居住，王某取得了使用权。因此 B 项错误，排除。

C 项，承租权是指房屋出租人以口头或订立书面合同的形式将房屋交付承租人占有、使用与收益，承租人向出租人支付租金的权利。题目中房租正好与借款利息相抵，因此 C 项正确。

D 项，留置权是指债权人按照合同的约定占有债务人的动产，债务人不按照合同约定的期限履行债务的，

债权人有权依照法律规定留置财产，以该财产折价或者以拍卖、变卖该财产的价款优先受偿。留置权只有在“债务人不按照合同约定的期限履行债务的”情况下才成立，并且房屋是不动产，因此D项错误，排除。

所以，正确选项是C。

121. 甲公司与乙公司在债务纠纷诉讼中达成调解协议，人民法院据此制作调解书，但在法院送达调解书时，乙公司拒绝签收。下列关于该调解书效力的说法，正确的是（ ）

- A. 已生效 B. 经留置送达后生效 C. 不生效 D. 经公告送达后生效

【答案】C。解析：

《民事诉讼法》第97条第3款规定，调解书经双方当事人签收后，即具有法律效力。如果一方或双方当事人拒绝签收的，应当视为调解不成立，调解书不发生法律效力。

所以，正确选项是C。

122. 甲公司因不能清偿到期债务，其债权人乙公司向人民法院提出对甲公司进行破产清算的申请。人民法院裁定受理破产申请的同时指定了管理人。下列不能担任管理人的机构是（ ）

- A. 公证处 B. 会计师事务所 C. 律师事务所 D. 破产清算事务所

【答案】A。解析：

破产管理人，是指破产案件中，在法院的指挥和监督之下全面接管破产财产并负责对其进行保管、清理、估价、处理和分配的专门机构。

《企业破产法》第24条第1款规定，管理人可以由有关部门、机构的人员组成的清算组或者依法设立的律师事务所、会计师事务所、破产清算事务所等社会中介机构担任。因此A项正确。

所以，正确选项是A。

123. 稻米加工商金某为增加销量，私自将“绿色环保”标志印在稻米包装上，并将产地改为某著名的稻米之乡。下列对金某的行为判断正确的是（ ）

- A. 违反商业道德，但不构成违法行为 B. 违反《反垄断法》，构成经济性垄断行为
C. 违反《产品质量法》，构成冒用质量标志行为 D. 违反《反不正当竞争法》，构成虚假表示行为

【答案】D。解析：

根据《反不正当竞争法》第5条规定，经营者不得采用下列不正当手段从事市场交易，损害竞争对手：……（4）在商品上伪造或者冒用认证标志、名优标志等质量标志，伪造产地，对商品质量作引人误解的虚假表示。

金某的行为违反了《反不正当竞争法》，构成虚假表示行为。

所以，正确选项是D。

124. 下列句子，没有歧义的是（ ）

- A. 我市即将召开隆重表彰见义勇为为市民大会 B. 我有过少年田径队员心理辅导的亲身经历
C. 他认为王先生有陈旧的门第观念是错误的 D. 他怎么也回想不起来自己是否来过这里了

【答案】D。解析：

A项产生的歧义是：“我市即将隆重召开表彰见义勇为的市民大会”还是“我市即将隆重召开表彰见义勇为为市民的大会”。

B项产生的歧义是：“我辅导少年田径队员”还是“我当少年田径队员期间有过被辅导的经历”。

C项产生的歧义是：“他这个想法是错误的”，还是“王先生有陈旧的门第观念是错误的”。

所以，正确选项是D。

125. 某县中医院是该县卫生局的下属单位，新任医院办公室秘书小王认为每一次上报请示，都应该在主送县

卫生局的同时，按顺序抄送给县委、县人大、县政府、县政协。针对小王的想法，下列判断正确的是（ ）

- A. 对的，因为上行公文必须是让所有领导机关知晓
- B. 对的，但抄送的顺序应是“县委、县政府、县人大、县政协”
- C. 不对，只要抄送县委、县政府即可
- D. 不对，无须抄送给县委、县人大、县政府、县政协

【答案】D。解析：

在上行文中，需要抄送的有三种情况：一是受双重或多重领导的机关向上级机关请示，在主送一个机关的情况下，将其他上级机关列为抄送机关；二是因特殊情况越级请示时，应当抄送被越过的上级机关；三是向有关上级机关或领导人报告情况时，可以抄送其他需要了解情况的领导或不相隶属的机关。

本题中，县医院不存在这三种情况，因此无须抄送给县委、县人大、县政府、县政协。所以，正确选项是D。

126. 某上级机关发出批复，同意下属某市在“X政〔2014〕75号”文件中提出的发布非全日制工作最低工资标准的请示，下列关于该批复开头的写法，最恰当的是（ ）

- A. “经研究，同意你市发布非全日制工作最低工资标准的请示”
- B. “现决定，批准你市发布非全日制工作最低工资标准的请示”
- C. “你市（X政〔2014〕75号）《关于发布非全日制工作最低工资标准的请示》收悉”
- D. “你市《关于发布非全日制工作最低工资标准的请示》（X政〔2014〕75号）收悉”

【答案】D。解析：

批复开头的写法应为批复的缘由，D项最为恰当。所以，正确选项是D。

127. 当一批水泥用于修建水库后，就不能再用于修建高速公路。这反映的经济学概念是（ ）

- A. 比较优势
- B. 机会成本
- C. 规模经济
- D. 经营利润

【答案】B。解析：

机会成本是指做一个选择后所丧失的不做该选择而可能获得的最大利益。简单地讲，可以理解为把一定资源投入某一用途后所放弃的在其他用途中所能获得的利益。

当一批水泥用于修建水库后，就不能再用于修建高速公路，体现的是机会成本。所以，正确选项是B。

128. 下列不能列入国民收入核算的是（ ）

- A. 政府支出的违建拆除费用
- B. 亲友之间应酬收到的礼金
- C. 个人购买理财产品的收益
- D. 咨询公司收取的服务费用

【答案】B。解析：

国民收入，指物质生产部门劳动者在一定时期所创造的价值。从社会总产值中扣除物质消耗后的剩余部分就是国民收入。B项亲友间的礼金不属于国民收入核算的内容。

所以，正确选项是B。

129. 两个国家互签零关税协议生效后最有可能产生的影响是（ ）

- A. 两国商品的贸易数量有所增加
- B. 两国之间的贸易壁垒完全消除
- C. 两国企业的贸易成本维持不变
- D. 两国商品的市场价格有所上升

【答案】A。解析：

A项，零关税协议的签订，最有可能产生的影响是扩大双方的贸易范围，使贸易数量有所增加。因此A

项正确。

B 项，零关税协议的签订，有利于逐步减少双方之间货物贸易的关税和非关税壁垒，但并不能“完全消除”。B 项错误，排除。

C 项，零关税协议生效后，有利于扩大优势产品出口，降低进口原材料成本，因此是降低贸易成本，而不是“维持不变”，C 项错误，排除。

D 项，零关税的实现有利于降低商品价格，而不是“有所上升”，D 项错误。排除。

所以，正确选项是 A。

130. 某市几家瓷砖生产企业的产品占据该市市场份额 80%，他们磋商后达成协议，统一市场价格并按均价提价 15%，这一行为的实质是（ ）

A. 提高瓷砖生产企业的经济效益

B. 寡头垄断市场的价格领导协定

C. 扩大瓷砖生产企业的市场销售

D. 完全竞争市场的厂商自我约束

【答案】B。解析：

市场结构有四种，依厂商数量可以进行判断：只有一个厂商的是完全垄断；有几个厂商的是寡头垄断；厂商比较多的是垄断竞争；厂商非常多的是完全竞争。

寡头垄断市场是介于垄断竞争与完全垄断之间的一种比较现实的混合市场，是指少数几个企业控制整个市场的生产和销售的市场结构。根据题干中的“几家”和“80%”可以判断出是寡头垄断市场，根据“磋商”、“达成协议”可以判断是价格领导协定。因此 B 项正确。《反垄断法》禁止这种行为。

所以，正确选项是 B。

131. 袋装食品中附有的干燥剂，除防潮外，还具有的作用是（ ）

A. 过滤食品包装袋外的细菌

B. 保持食品的新鲜程度

C. 吸收食品包装袋里的氧气

D. 消除食品袋中的异味

【答案】B。解析：

干燥剂也叫吸附剂，用于防潮、防霉，起干燥作用。它能保持物品干燥，防止各种杂霉菌的生长，有利于保持食品的新鲜程度。

所以，正确选项是 B。

132. 核电站往往修建在沿海地区，其最主要的原因是（ ）

A. 运输电站建设原材料方便

B. 沿海地区的电力消耗大

C. 核能发电需要大量水冷却

D. 发生安全事故的概率小

【答案】C。解析：

核电站建在沿海的原因是多方面的，主要是由于核电站在发电过程中需要大量的水来冷却，沿海方便取水，如果核电站建在内陆就需要建冷却塔。

所以，正确选项是 C。

133. 下列关于微波炉加热原理的说法，正确的是（ ）

A. 利用电热元件发出的辐射热进行烘烤

B. 利用明火加热空气形成的风进行吹投

C. 利用交流磁场形成的涡流向锅体导热

D. 利用超短波穿透引起食品内部分子振动

【答案】D。解析：

微波是一种高频率的电磁波。微波炉利用其内部的磁控管将电能转化成微波，以 2450MHz 的振荡频率穿透食物，食物内的极性分子（比如水、蛋白质、脂肪、糖类）即被吸引以 2450MHz 做振荡，分子之间互相碰撞产生大量的摩擦热量。因此 D 项正确。

所以，正确选项是 D。

134. 下列毛泽东诗词名句，描写的情境属于第三次国内革命战争时期的是（ ）

- A. 敌军围困万千重，我自岿然不动
B. 钟山风雨起苍黄，百万雄师过大江
C. 雄关漫道真如铁，而今迈步从头越
D. 更喜岷山千里雪，三军过后尽开颜

【答案】B。解析：

第三次国内革命战争时期（解放战争时期），即 1945 年 8 月至 1950 年 6 月。

A 项，“敌军围困万千重，我自岿然不动”，是毛泽东 1928 年所写的《西江月》中的诗句。排除。

B 项，“钟山风雨起苍黄，百万雄师过大江”是毛泽东于 1949 年 4 月所写的《七律·人民解放军占领南京》中的一句，描写的是渡江战役的情形。因此 B 项正确。

C 项，“雄关漫道真如铁，而今迈步从头越”，是毛泽东在 1935 年所写的《忆秦娥·娄山关》中的诗句。排除。

D 项，“更喜岷山千里雪，三军过后尽开颜”，是毛泽东 1935 年长征胜利后所写的《七律·长征》中的诗句。排除。

所以，正确选项是 B。

135. 下列发明按时间先后排序正确的是（ ）

- A. 电报、电话、电视、电脑
B. 电话、电报、电视、电脑
C. 电话、电视、电报、电脑
B. 电报、电视、电话、电脑

【答案】A。解析：

电报，19 世纪初发明，19 世纪 30 年代在英国和美国发展起来。

电话，穆齐于 1860 年首次向公众展示了他的电话发明，并在纽约的意大利语报纸上发表了关于这项发明的介绍。

电视，1925 年，苏格兰人约翰·洛吉·贝尔德在伦敦的一次实验中“扫描”出木偶的图像被看作是电视诞生的标志，他被称做“电视之父”。

电脑，第一台电子计算机在 1946 年 2 月 14 日问世。

按时间先后排序正确的是 A 项。所以，正确选项是 A。

全部测验到此结束！

请扫描QQ二维码，备注“公务员考生”加QQ
好友，获取曹长远老师精解历年公务员考试申论、
行测、面试真题完整解析资料。

精品资料，尽在掌握！

