

2016年3月12日江苏省公务员考试

《行政职业能力测验》真题（A）答案解析

说明

一、此项测验分为五个部分，共130小题，总时限120分钟，满分100分。各部分不分别计时，但都给出了参考时限，供你参考以分配时间。

二、请按照要求在答题卡上填写好自己的姓名，涂写好准考证号。

三、必须在答题卡上答题；在题本上答题，一律无效。

严禁折叠答题卡。

第一部分 常识判断

（共20题，参考时限10分钟）

根据题目要求，在四个选项中选出一个最恰当的答案。

1. 党的十八届五中全会通过《中共中央关于制定国民经济和社会发展第十三个五年规划的建议》，下列关于该建议说法正确的是（ ）。
- A. 《“十三五”规划建议》是针对“两个一百年目标”收官阶段提出的战略蓝图
 - B. 《“十三五”规划建议》充分论述了继续坚持我国改革开放以来发展方式的必要性
 - C. 《“十三五”规划建议》针对社会主要矛盾的新变化提出了经济社会发展的新方针
 - D. 《“十三五”规划建议》提出并阐释了我国经济社会发展的“五大发展理念”

【答案】D。解析：

A项，十三个五年规划的建议是2016~2020年中国经济社会发展的宏伟蓝图，两个一百年的目标是在中国共产党成立一百年时全面建成小康社会，在新中国成立一百年时建成富强民主文明和谐的社会主义现代化国家。因此，A选项说法错误，排除。

B项，十三五规划强调：经济保持中高速增长。因此，B选项说法错误，排除。

C项，主要矛盾仍是人民日益增长的物质文化需要同落后的社会生产之间的矛盾，贯穿于我国社会主义初级阶段的整个过程和社会生活的各个方面。因此，C选项说法错误，排除。

D项，“十三五”规划建议指出，“十三五”时期经济社会发展的基本理念，必须牢固树立创新、协调、绿色、开放、共享的发展理念。因此，D项说法正确。

所以，正确选项是D。

2. 2015年11月30日，国际货币基金组织宣布将人民币纳入特别提款权(SDR)货币篮子。以下说法正确的是（ ）。
- A. 中国以后的外汇储备都将以SDR计价
 - B. 中国居民可直接用SDR进行海外购物
 - C. 人民币已经获得世界货币的地位
 - D. 人民币可在世界任何地方自由兑换

【答案】C。解析：

特别提款权，亦称“纸黄金”，最早发行于1969年，是国际货币基金组织根据会员国认缴的份额分配的，可用于偿还国际货币基金组织债务、弥补会员国政府之间国际收支逆差的一种账面资产。其价值目前由美元、欧元、人民币、日元和英镑组成的一篮子储备货币决定。会员国在发生国际收支逆差时，可用它向基金组织指定的其他会员国换取外汇，以偿付国际收支逆差或偿还基金组织的贷款，还可与黄金、自由兑换货币一样充当国际储备。因为它是国际货币基金组织原有的普通提款权以外的一种补充，所以称为特别提款权。

国际货币基金组织宣布将人民币纳入特别提款权(SDR)货币篮子，意味着人民币已经获得世界货币

的地位。

所以，正确选项是 C。

3. 下列关于“三严三实”专题教育的说法，正确的是（ ）。
- A. “三严三实”专题教育是加强党的组织建设的根本途径
 - B. “三严三实”专题教育的对象确定为全体党员干部
 - C. “三严三实”的重要论述由习近平总书记 2014 年在江苏调研时首次提出
 - D. “三严三实”专题教育是党的群众路线教育实践活动的延展和深化

【答案】D。解析：

A 项，加强党的组织建设的根是增强党组织的创造力、凝聚力、战斗力，A 项说法错误。

B 项，2015 年 4 月，中共中央办公厅印发《关于在县处级以上领导干部中开展“三严三实”专题教育方案》，对 2015 年在县处级以上领导干部中开展“三严三实”专题教育作出安排，B 说法错误。

C 项，2014 年 3 月 9 日，习近平总书记在第十二届全国人民代表大会第二次会议安徽代表团参加审议时，关于推进作风建设的讲话中，提到“既严以修身、严以用权、严以律己，又谋事要实、创业要实、做人要实”的重要论述，称为“三严三实”讲话，C 说法错误。

习总书记提出的“三严三实”，是对作风建设的进一步升华，是对党的群众路线教育实践活动进一步深入。D 项说法正确

所以，正确选项是 D。

4. 法国作家雨果说：“最大的决心会产生最高的智慧。”下列与这句话蕴含相似哲理的是（ ）。
- A. 入山问樵，入水问渔
 - B. 巧妇难为无米之炊
 - C. 只要有信心，黄土变成金
 - D. 劈柴不照纹，累死劈柴人

【答案】C。解析：

C 项和题干的哲理都是：意识对物质有能动的反作用。

A 的哲理是抓住事物的主要矛盾，从实际出发。B 的哲理是物质是第一性的，意识是第二性的。D 的哲理是做任何事情，要尊重客观规律，发挥主观能动性。

所以，正确选项是 C。

5. 景色按春夏秋冬顺序排列正确的是（ ）。
- ① 稻花香里说丰年，听取蛙声一片
 - ② 棠梨叶落胭脂色，荞麦花开白雪香
 - ③ 碧玉妆成一树高，万条垂下绿丝绦
 - ④ 山舞银蛇，原驰腊象，欲与天公试比高
- A. ①③②④
 - B. ②①④③
 - C. ③①②④
 - D. ④③②①

【答案】C。解析：

③出自贺知章的《咏柳》，描写的是春季。

①出自辛弃疾的《西江月·夜行黄沙道中》，描写的是夏季。

②出自王禹偁的《村行》，描写的是秋季。

④出自毛泽东的《沁园春·雪》，描写的是冬季。

所以，正确选项是 C。

6. 《茉莉花》被称为“流传到海外的第一首中国民歌”。下列关于这首民歌的说法，正确的是（ ）。
- A. 《茉莉花》的发源地在浙江湖州一带
 - B. 《茉莉花》由波斯商人通过丝绸之路传到欧洲
 - C. 最早记录《茉莉花》的西方著作是《马可波罗游记》

D. 《茉莉花》因歌剧《图兰朵》将其作为主题音乐而风靡欧洲

【答案】D。解析：

茉莉花这种植物在汉代就已传入中国，最早种植于广东一带（南越、南海），民歌以江苏的《茉莉花》流传最广、影响最大。A项说法错误；

最早关于《茉莉花》的曲谱收录在清朝道光年间的《小慧集》中，B项说法错误；

这首中国民歌在1768年（清乾隆三十三年）法国哲学家卢梭的《音乐辞典》中就有收录，而曲谱则是在英国地理学家约翰·巴罗于1804年出版的《中国旅行记》一书中被记录下来，C项说法错误；

1926年4月25日晚，歌剧《图兰朵》在灯火辉煌的米兰斯卡拉剧院举行盛大首演，中国民歌《茉莉花》成为贯穿全剧的主旋律之一，借着《图兰朵》的盛名，这首在中国早已家喻户晓的民歌《茉莉花》远播海外，为越来越多的近代观众所熟知。

所以，正确选项是D。

7. “一带一路”是我国当前大力推进的国家经济发展重要战略，下列关于“一带一路”战略说法正确的是：

A. 2013年是“一带一路”战略全面实施的开局之年

B. “一带一路”战略承载了丝绸之路沿途各国共同繁荣的梦想

C. 助推“一带一路”建设的加速器是边境地区的互联互通

D. 推进“一带一路”建设的重要依托是边境地区的和平稳定

【答案】B。解析：

A项，2015年是一带一路的开局之年。A项说法错误，排除。

C项，边境地区经济合作不断发展是助推“一带一路”建设的加速器。C项说法错误，排除。

D项，边境地区的和平稳定是“一带一路”建设向前推进的必要前提和保障，边境地区互联互通，是“一带一路”建设的重要依托。D项说法错误，排除。

所以，正确选项是B。

8. 预计表明，2020年到2050年，我国60岁以上人口占比将从19.3%上升到38.6%，下列说法错误的是

A. 我国家庭人口的抚养比系数逐渐减小

B. 我国的老龄化社会问题将日益严峻

C. 推动我国经济发展的人口红利逐步消退

D. 养老保险的支付压力将会越来越大

【答案】A。解析：

抚养比又称抚养系数，是指在人口当中非劳动年龄人口对劳动年龄人口数之比。题干中提到到2020年到2050年，我国60岁以上人口占比将从19.3%上升到38.6%，因此，非劳动年龄人口比例上升，抚养比系数上升。A说法错误。

所以，正确选项是A。

9. 资本国际化是指资本越出一国的范围在国际间运动和增值。下列未能体现资本国际化的是（ ）。

A. 某集团以数十亿美元收购国外企业

B. 某公司撤出伦敦股市的资金转投芝加哥商品期货市场

C. 两个国家的农产品贸易集团签署相互持股的协议

D. 各国消费者通过电商购买境外的商品和劳务

【答案】D。解析：

资本国际化，指跨国公司的股权在国际间分散，国际上形成巨额游资，各国相互开放资本市场，经济间形成资本通道。D项属于消费，不是投资行为。

所以，正确选项是D。

10. 如果你规划“重走长征路”的活动路线，下列不应列入活动路线的地方是（ ）。
- A. 江西瑞金 B. 湖南岳阳 C. 贵州遵义 D. 四川阿坝

【答案】B。解析：

长征没有经过湖南岳阳。

所以，正确选项是B。

11. 下列对“收拾金瓯一片，分田分地真忙”诗句的理解，错误的是（ ）。

- A. 该诗句的创作背景是第二次国内革命战争时期
B. “分田分地”的实质是确立农民个体所有的土地制度
C. 该诗句描述的景象发生在闽西地区
D. 当时苏维埃政权的基本任务是“打土豪，分田地”

【答案】B。解析：

这首诗出自毛泽东同志的《清平乐·蒋桂战争》。蒋桂战争系国民政府内部由新桂系与蒋介石势力之间爆发的一场内战，发生在1929年3月27日。

A项说法正确，第二次国内革命亦称“十年内战”或“土地革命战争”，系指1927至1937年中国人民在中国共产党领导下进行的国内革命战争。

C项正确，这首诗的前两句是“红旗跃过汀江，直下龙岩上杭”上杭指的就是福建，闽是福建简称，因此C正确。

D项说法正确，第二次国内革命就是土地革命，所谓土地革命就是“打土豪分田地”，D选项说法正确。

所以，正确选项是B。

12. 高铁列车的车窗和车门在运行过程中必须完全密闭。对此，下列解释最准确的是（ ）。

- A. 减少高铁列车运行的能源消耗 B. 保持高铁列车车厢内部的安静
C. 避免车速过快形成空气压强差 D. 确保高铁列车车厢内部的整洁

【答案】C。解析：

高铁列车行驶时会产生巨大的空气压力波，它一旦进入车内，会让桌上的物品一片狼藉。车外的尘土会使车内空气变得混浊，车外的噪声，特别是列车进出隧道和两车交会时的巨大噪声也会乘虚而入。更严重的是，乘坐者根本无法忍受这种空气压强差，轻则使乘客耳膜产生压迫感，重则会使乘客感到头晕恶心，严重时甚至造成耳膜破裂。事实上，高铁列车上不仅窗户要固定、密闭，其车门、车厢连接处等都要尽可能地做到密闭，如此才能保证旅客有一个舒适的乘坐环境。

所以，正确选项是C。

13. 发生火灾是不匍匐前进难以逃生，其原因的下列说法，错误的是（ ）。

- A. 低处有残留的新鲜空气 B. 有毒有害气体集中于高处
C. 浓烟自下而上扩散 D. 低处视野比较清晰

【答案】C。解析：

在发生火灾时，燃烧的热空气向上走，并含有多种对人有害成分，所以A、B选项说法正确。

浓烟从上往下扩散，越近地面，浓烟越稀薄，呼吸较容易，视野也较清晰。所以C选项说法错误，D选项说法正确。

所以，正确选项是C。

14. 下列诗句与描写的景点对应正确的是（ ）。

- A. 会当凌绝顶，一览众山小——安徽黄山

- B. 水光潋滟晴方好，山色空蒙雨亦奇——杭州西湖
- C. 二十四桥明月夜，玉人何处教吹箫——北京昆明湖
- D. 飞流直下三千尺，疑是银河落九天——贵州黄果树瀑布

【答案】B。解析：

- A 是杜甫的《望岳》指泰山；
 - B 是苏轼的《饮湖上初晴后雨》，湖指杭州西湖；
 - C 是杜牧的《寄扬州韩绰判官》，描写的是扬州二十四桥；
 - D 是李白《望庐山瀑布》，描写的是江西省九江市的庐山。
- 所以，正确选项是 B。

15. 我国山脉众多，给自然与人文地理环境带来深刻影响。对此，下列说法错误的是（ ）。

- A. 秦岭山脉是我国南北方的重要地理分界线
- B. 祁连山脉融雪是河西走廊绿洲农业的主要水源
- C. 喜马拉雅山脉是世界上最年轻最高大的山脉
- D. 阴山山脉是传统上重要的农业与林业的分界

【答案】D。解析：

- A 项正确，秦岭——淮河一线是我国南北地理分界线。
- B 项正确，祁连山的融雪丰富，灌溉了河西走廊平原。
- C 项正确，喜马拉雅山脉平均海拔超过 6000 米且形成时间在 6500 万年前。
- D 项错误，阴山山脉是传统上重要的农业和牧业的分界线。

所以，正确选项是 D。

16. 下列对司法俗语说明错误的是（ ）。

- A. 案结事了——司法解决的根本性
- B. 有告必理——司法解决的普遍性
- C. 不告不理——司法活动的被动性
- D. 一事不再理——司法程序的终结性

【答案】B。解析：

- A 项，法院结案真正地解决纠纷，化解矛盾，体现司法解决的根本性。
- B 项说明了司法的公正性。
- C 项，对未经起诉的事情法院不予受理的诉讼原则，体现司法活动的被动性。
- D 项，一事不再理原则就是对判决、裁定已经发生法律效力的案件的被告人，不得再次起诉和审理，体现了司法程序的终结性。

所以，正确选项是 B。

17. 返乡大学生陈某利用互联网销售家乡的土特农产品，取得了较好的收益，为了更好地发展当地的互联网经济，他准备发起成立本县电商协会。

该协会的合法登记机关应是（ ）。

- A. 县公安局
- B. 县工商局
- C. 县民政局
- D. 县经信局

【答案】C。解析：

《国务院关于修改部分行政法规的决定》已经 2016 年 1 月 13 日国务院第 119 次常务会议通过，现予公布，自公布之日起施行。为了依法推进简政放权、放管结合、优化服务改革，国务院对取消和调整行政审批项目、价格改革 和实施普遍性降费措施涉及的行政法规进行了清理。经过清理，国务院决定：对 66 部行政法规的部分条款予以修改。其中包含《社会团体登记管理条例》（1998 版）。其中第六条规定，国务院民政部门 and 县级以上地方各级人民政府民政部门是本级人民政府的社会团体登记管理机关（以下简称登记管理机关）。

所以，正确选项是 C。

18. 村民王某提出宅基地使用申请，乡政府审核后报县土地主管部门审批，获得批准。县水利主管部门巡查时发现王某的房屋建在泄洪区，便责令王某停止建设，并自行拆除已建部分。王某不服水利部门的处罚。下列关于本案的说法，正确的是（ ）。
- A. 法院应将乡政府列为共同被告
B. 法院应将县土地主管部门列为第三人
C. 法院应判决县土地部门赔偿王某的损失
D. 法院应告知王某先复议，不服后方可起诉

【答案】B。解析：

在征用土地或房屋拆迁行政案件中，因征地或拆迁这一具体行政行为引起纠纷，当事人不服这一行政行为提起行政诉讼，相关的建设单位可以作为第三人参加诉讼，这是因为具体行政行为是在实现建设单位已经取得的合法权益，这一具体行政行为一旦涉诉，则与建设单位的权益有法律上的权利义务关系。所以，正确选项是 B。

19. 17 岁的刘某在工厂打工，3000 元。某日，刘某外出忘关水龙头导致租住屋浸水，房东要求赔偿遭拒，遂将其诉至法院。下列关于本案的说法正确的是（ ）。
- A. 法院应判决刘某独立承担赔偿责任，因其是完全行为能力人
B. 法院应判决刘某承担主要赔偿责任。因其是限制行为能力人
C. 法院应判决刘某家长承担赔偿责任 因刘某是无民事行为能力人
D. 法院应判决刘某家长承担连带赔偿责任，因为刘某是部分行为能力人

【答案】A。解析：

16 周岁以上不满 18 周岁的公民，以自己的劳动收入为主要生活来源的，视为完全民事行为能力人。所以，正确选项是 A。

20. 积极培育_____等新型农业经营主体。支持多种类型的新型农业服务主体开展代耕代种、联耕联种、土地托管等专业化规模化服务。
- (1) 家庭农场 (2) 专业大户 (3) 农民专业合作社 (4) 农业产业化龙头企业
- A. (1) (2) (3) B. (1) (2) (4) C. (2) (3) (4) D. (1) (2) (3) (4)

【答案】D。

第二部分 言语理解与表达

(共 35 题，参考时间 30 分钟)

一、片段阅读。每道题包含一段文字，要求你从四个选项选出最恰当的一项，你的选择必须与题干要求相符合。

21. 从特定意义上说，决策的过程就是抢抓机遇，将可能性变为现实的过程。机遇从来都是公正的，机遇一旦到来，就看谁能审时度势，及早地发现它，抓住它；能否抓住它，又关键看谁具有立断立行的智慧和勇气，凡是决策，没有不存在风险的，若想等到有百分之百的把握再拍板，恐怕时机早已逝去。

这段文字主要说明（ ）。

- A. 应该掌握时机果断决策以免错失机遇
B. 决策者的智慧和勇气是决策成败的关键
C. 有了充分的把握再决策已丧失最好的时机
D. 决策者主要考虑如何将可能性变为现实

【答案】B。解析：

文段开端指出决策的过程就是抢抓机遇，然后就“如何抓住机遇”展开论述。由“能否抓住它，又关键看谁具有立断立行的智慧和勇气”可知，B 项正确，当选。

22. 实际上，实地调研、田野考察，应该成为一切社会科学普遍运用的最基本研究方法之一。遗憾的是，有些学科在迅速发展它的逻辑分析工具和数学描述语言的同时，在很大程度上抛弃了这个优秀

的传统，研究者仅仅依赖那些来自统计年鉴的数据，进行逻辑推理和计量建模，而忽视了直接从真实世界获得鲜活的理论灵感和真实数据。

这段文字主要讨论“社会科学”的（ ）。

- A. 分析工具 B. 数据处理 C. 优秀传统文化 D. 研究方法

【答案】D。解析：

由文段首句“实地调研、田野考察，应该成为一切社会科学普遍运用的最基本的研究方法之一”可知，文段主要讨论的是“社会科学”的研究方法，D项当选。

23. 风是地球上空的传送带，它将大陆的沙尘吹向海洋，又将海洋的水汽吹向大陆，沙尘和水汽相遇，便能结合为云，最终化为降水。可见沙尘不仅在土壤的分布和补充上扮演着重要的角色，而且在全球的水循环上也扮演这重要的角色。可以说， 。

填入划横线部分最恰当的一句是（ ）。

- A. 决定全球生态的平衡因子是沙尘 B. 风使得全球生态达到了平衡状态
C. 全球生态的平衡因子取决于风向 D. 沙尘也是决定全球生态的平衡因子

【答案】D。解析：

由“可以说”可知，划横线部分是对前一句的高度概括。根据“可见沙尘……而且在全球的水循环上也扮演这重要的角色”可知，A项说法有误，排除，B、C两项主体错误，主体失“沙尘”而不是“风”，均排除。D项符合，当选。

24. 内容产业包括三个层次：信息、知识和智慧。报业更多是生产信息，而出版业主要集中在知识和智慧层面，生产信息的必然先于生产知识和智慧的受到互联网冲击。其实原先不少报纸有在知识层面生产的传统，但近年来，报纸的这一特色日益褪色。如果报纸不能从知识层面生产信息，只是在海量信息层面做文章，竞争不过新媒体是自然而然的。

这段文字重在说明（ ）。

- A. 报业竞争不过新媒体是毋庸置疑的事情 B. 报业相比出版业更早收到互联网的冲击
C. 互联网的海量信息是其取胜的关键武器 D. 今天报业欲生存应多在知识层面生产信息

【答案】D。解析：

文段尾句指出“如果报纸不能从知识层面生产信息……竞争不过新媒体是自然而然的”，A项说法错误，排除。B项，只是文段论述的部分片段，排除。C项，文段未提及，排除。因此D项当选。

25. 在这位演员死后的几周内，很多关于精神疾病和抑郁症的讨论纷纷见诸报端，包括演员自杀的各种猜测也走进了人们的视野。继而，舆论开始转向了对精神疾病和治疗进展的讨论，是的，社会确实需要鼓励开展这种话题的讨论，然而，有多少讨论是聚焦抑郁症患者每天必须面对的精神困扰？似乎更多的讨论集中在精神疾病的悲剧结局上，而不是及时进行干预，似乎抑郁症患者的死亡比他们的生命更容易引起讨论，这种状况亟需改变。

下列说法不符合文意的是（ ）。

- A. 抑郁症患者的精神状况更值得关注 B. 对抑郁症患者的精神困扰讨论不够
C. 舆论应减少对精神疾病话题的讨论 D. 舆论过度关注精神疾病患者的自杀原因

【答案】D。解析：

由“是的，社会确实需要鼓励开展这种话题的讨论”可知，C项与文意不符，当选。根据“有多少讨论是聚焦抑郁症患者每天必须面对的精神困扰？”可知，A、C两项，符合文意，排除。由“似乎更多的讨论集中在精神疾病的悲剧结局上，而不是及时进行干预”可知，D项符合文意，排除。

26. 一张照片中的场景是这样的：夜幕降临，各种灯光开始勾勒出城市的轮廓，高低错落的楼宇林立，

道路上车流的灯光划出流光溢彩的轨迹。如果时空真的能够穿越，让古人穿越到这里，他们一定不会对眼前的景色陌生，因为古人喜欢将楼阁依水依河而建，喜欢登楼观水，这道路不就是高楼峡谷中蜿蜒流淌的河流吗？

根据文意，这张照片拍摄的角度是（ ）。

- A. 仰视 B. 俯视 C. 平视 D. 侧视

【答案】B。解析：

文段中把“道路”比喻成“河流”，把“高楼”比喻成“峡谷”，道路在高楼峡谷中蜿蜒流淌，只有高处俯瞰才能呈现此景。另外，古人登上依水而建的楼阁，所观之景与此相似，其视线是由高处往下的，因此 B 项当选。

27. 每天，体内的钙会通过汗液、尿液等途径排出，维持钙的平衡就需要补充一些钙。对于儿童，骨骼生长需要钙的沉积，需要的钙就比排出的要多。再考虑到人体对钙的吸收效率，欧美国家推荐的标准是青少年每天 1300 毫克，成人每天 1000 毫克，老年人则是 1200 毫克，而婴幼儿，学龄前儿童根据年龄会低一些。

下列不符合文意的（ ）。

- A. 青少年需要更多的钙帮助骨骼生长 B. 不同的人吸收钙的效率是差别的
C. 随年龄的增加，钙的需求量也不断增加 D. 人每天会有一定的钙从身体里流失

【答案】D。解析：

由“对于儿童，骨骼生长需要钙的沉积，需要的钙就比排出的要多”可知，A 项符合文意，排除。根据“青少年每天 1300 毫克……学龄前儿童根据年龄会低一些”可知，B 项符合文意，排除，C 项不符合文意，当选。由首句可知，D 项符合文意，排除。

28. 立法者希望通过法律文本语言向社会传递其价值立场，而要准确理解和严格的遵守法律语言背后的价值立场，就需要对法律文本语言进行解释。以一般的，抽象的形式表达出来的法条最终需要适用于特殊的个案，法官需要解决的一个前提性问题就在于，该具体情形是否属于一般性规定所涵摄的范围，而回答这一问题的过程本身就是一个解释的过程。

这段文字着重强调的是（ ）。

- A. 法律解释的必要性 B. 法律文本应通俗易懂
C. 法官应准确理解法条 D. 法条适用个案需具体化

【答案】A。解析：

由文段中“而要准确理解……就需要对法律文本语言进行解释”，以及尾句“而回答这一问题的过程本身就是一个解释的过程”可知，文段意在强调的是法律解释的必要性，因此 A 项当选。B、C 两项，文段未提及，排除。D 项是文段的部分内容，排除。

29. 网络用语从一开始就不是交际语言。文字和语言的性质是不一样的，语言本质上是用声音符号做物质外壳的，文字则是用来记录有声语言的。世界上大多数语言并没有文字，这些语言也就不会有网络用语。文字有记录，保存语言的功能，并能远距离传送，网络主要利用文字来实现即时的远距离交流，文字有这样的优点，但是它不能取代语言。

根据文意，网络用语之所以不是交际用语，是因为（ ）。

- A. 网络用语本质上是用文字符号记载的语言 B. 网络语言主要用来实现即时的远距离交流
C. 文字虽能远距离传送但不能取代交际语言 D. 网络即使再发达人也不可能不用交际语言

【答案】A。解析：

由“语言本质上是用声音符号做物质外壳的，文字则是用来记录有声语言的”，“网络主要利用文字来实现即时的远距离交流”可知，网络用语的本质是用文字记载的语言，即 A 项正确。

30. 中国传统节日基本上是按天人和谐的精神设立，按时令顺序相继排列的，与大自然的节律相适应。“节”是天地时气的交合之处，是“天”“地”日月的节奏，那么也应当是“人”的节奏，它区隔出一年生活周期中的各个阶段，展现出一年生活中各个阶段的涵义，有如生命成长过程中的各个阶段，是连通自然节律与人生节律的“节点”。

下列说法与文意不符的是（ ）。

- A. 中国传统节日的主导观念是天人合一
B. 中国传统节日的“节”有多重涵义
C. 中国传统节日可以对应人生不同阶段
D. 中国传统节日犹如自然与人生的标记

【答案】D。解析：

由文段首句中“中国传统节日基本上是按天人和谐的精神设立”可知 A 项正确。由“‘节’是……是‘人’的节奏”可知，B 项正确。根据文段尾句中“有如生命成长过程中的各个阶段”可知，C 项正确。文段最后指出“是连通自然节律与人生节律的‘节点’”，不是“标记”，D 项说法错误，当选。

31. 现代神经学普遍认为决定情商的机制在人的大脑里，神经学家做了大量的实验来探索情商的神经机制。智商方面的研究发现，智商高的人解决问题的时候大脑的活动量反而低，这表明他们大脑的应用效率很高。而类似的情商研究也发现，当试图解决情感相关的问题时，情商高的人的脑电波活动力量也略低一些，显示出和智商类似的机制。

下列说法与文意最相符的是（ ）。

- A. 情商高的人脑电波活动量比一般人低
B. 脑电波活动量较高的人智商相对较低
C. 情商高的人大脑应用效率相对较高
D. 智商高的人大脑机制与情商高的人相同

【答案】D。解析：

由“当试图解决情感相关的问题时，情商高的人的脑电波活动力量也略低一些”可知，A 项说法错误，排除。文段中仅指出“智商高的人解决问题的时候大脑的活动量反而低”，不能推出 B 项。C 项说法错误，由文段可知，智商高的人大脑应用效率高，排除 C 项。根据文段尾句中“情商高的人的脑电波活动力量也略低一些，显示出和智商类似的机制”可知，D 项与文意相符，当选。

32. ①同一，是因为所有的现代人都是大约二十万年前从同一个人群繁衍下来的

②分布各地的各个所谓种族也彼此杂居，通婚

③遗传学家们早就意识到，人类的生物学特征是既同一又多样的

④因此，将人类划分为几个种族，只有社会，文化意义，没有生物学意义

⑤处于这个连续谱带两端的群体，比如东亚人，北欧人，南非人，他们的特征差异是明显的，但是中间还存在这大量的难以划分的族群

⑥因此人类身体特征的变异，并不具有明显的界限，而是一条连续的谱带

将以上 6 个句子重新排列语序正确的是（ ）。

- A. ③①②⑥⑤④
B. ③①⑥②④⑤
C. ⑥⑤②①③④
D. ⑥①②④⑤③

【答案】A。解析：

⑥是结论性的语句，不适合作为首句，因此排除 C、D 两项。A、B 两项末句分别为④和⑤，④由“因此”引导，为结果，⑤为原因，因此⑤应在④之前，A 项当选。

33. 相较于传统外贸，跨境电子商务的优势非常明显，跨境电商不仅具有压缩中间环节，降低中小企业发展成本，增加就业等传统优势，还有重塑国际产业链，促进外贸方式转型，增强国际竞争力等作用，对于中国制造发展将带来极大利好。围绕跨境电商，我国正在形成一条从营销到支付，物流和金融服务的非常清晰完整的链条和支撑体系，为中小企业走出去提供了可能。

这段文字重在说明（ ）。

- A. 跨境电商较传统对外贸易有明显优势
B. 跨境电商将为中国制造发展带来机遇
C. 跨境电商为我国企业走出去提供支持
D. 跨境电商能有效促进外贸方式的转型

【答案】C。解析：

文段开端介绍“跨境电子商务的优势”作为铺垫，随后指出“跨境电商……为中小企业走出去提供了可能”，同义替换 C 项。A 项，只是文段开端介绍的内容，不是文段重在说明的内容，排除。由“对于中国制造发展将带来极大利好”可知，B 项仅是跨境电商优势中的一部分，排除。D 项，文段未提及，排除。因此 C 项当选。

34. 蓝藻本身没有多少危害，就怕蓝藻上浮形成水华。蓝藻形成水华时，一方面将严重抑制浮游植物利用光合作用产生氧气，另一方面也阻隔空气中的氧进入水体，导致水体中溶解氧严重不足，造成生态失衡。长期以来人们对水资源的不合理开发与利用，导致大量含有氮、磷营养元素的污染物质不断排入海洋、江河、湖泊和水库等水体，造成严重的水体富营氧化状态，为蓝藻的爆发提供了得天独厚的条件。

这段话意在强调（ ）。

- A. 谨防蓝藻上浮形成水华阻隔氧气进入水体
B. 蓝藻爆发会影响生态平衡以及水资源开发
C. 治理水体污染是控制蓝藻暴发的根本措施
D. 适当引种蓝藻吸收氧磷元素以优化水环境

【答案】C。解析：

文段主要谈论的是蓝藻形成水华带来的危害以及蓝藻爆发的原因——水体污染，因此文段意在强调的是如何控制蓝藻爆发，C 项“治理水体污染是控制蓝藻暴发的根本措施”与之相符，当选。A 项主要谈论的是蓝藻上浮带来的危害，不是文段意在强调的内容，排除。文段指出“人们对水资源的不合理开发与利用……为蓝藻的爆发提供了得天独厚的条件”，B 项因果关系倒置，说法与文段不符，排除。D 项文段未提及相关内容，排除。

35. 一些科学家认为，户外活动活动和近视关联证据并不充分，大部分流行病学研究都是根据问卷调查估算孩子们呆在室外的时间。来自加州大学伯克利分校的验光师克里斯汀·怀尔索耶表示，这种数据的可靠性有待商榷。在一项关于可穿戴光传感器的小规模实验中，她发现人们往往会错误估计自己呆在户外的时间。

下列说法符合文意的是（ ）。

- A. 流行病学研究中问卷调查方法往往是不科学的
B. 人们对自己户外活动时间的估算可能存在偏差
C. 户外活动时间长短和是否近视之间不存在关联
D. 可穿戴光传感器试验主要用于记录户外活动时间

【答案】B。解析：

A 项表述过于绝对，且文段中指出的是“这种数据的可靠性有待商榷”，排除 A 项。B 项与文段尾句“人们往往会错误估计自己呆在户外的时间”相符，因此 B 项当选。由文段首句中“户外活动活动和近视关联证据并不充分”可知 C 项错误，排除。D 项，文段未提及相关内容，排除。因此 B 项当选。

36. 循环经济与生态经济在考虑自然资源时，不仅视其为可利用的资源，而且是需要维持良性循环的生态系统；在考虑科学技术时，不仅考虑其对自然的开发能力，而且充分考虑稳定到它对生态系统的维系和修复能力，使之成为有益于环境的技术；在考虑人自身发展时，不仅考虑人对自然的改造能力，而且更重视人与自然和谐相处的能力，促进人的全面发展。

这段文字表达了循环经济和生态经济理念中的：

- A. 系统性
B. 价值观
C. 生产观
D. 环保观

【答案】B。解析：

本题属于推断文意型。阅读可知，题干分别两个不同方面讨论了自然资源、科学技术、人自身发展的不同价值（隐含：表达了循环经济和生态经济理念中的价值观）。

所以，正确选项是 B。

37. 研究表明，把在电动跑步机上 45 分钟的锻炼改为到附近公园慢跑，可以减少将近 1 公斤的二氧化碳排放量；不用洗衣机甩干衣服，而是让其自然晾干，这可以减少 2.3 公斤的二氧化碳排放量；在午餐休息时间和下班后关闭电脑及其显示器，可以将这些电脑的二氧化碳排放量减少三分之一；改为节水型沐浴喷头，不仅可以节水，还可以使热水淋浴所导致的二氧化碳排放量减少一半。

作者通过这段文字最可能想表达的意思是：

- A. 自然的生活方式能够节能
B. 节能意识十分重要
C. 普通民众可以为节能做出贡献
D. 节能必须从一点一滴做起

【答案】C。解析：

本题属于推断文意型。阅读可知，不用电动跑步机锻炼，不用洗衣机甩干衣服，及时关闭电脑及其显示器，改为节水型沐浴喷头，都可以有效减少二氧化碳的排放量（隐含：这些日常生活、工作的主体都是普通民众）。由此可知，题干意在说明：普通民众可以对节能做出贡献。

所以，正确选项是 C。

38. 多种怪之中，最突出的是“自知”与“他知”的迥然不同。这样的情况也是古已有之，比如明朝的徐文长，提起青藤道人的画，几乎无人不知，无人不爱，可是他自己评论，却是字（书法）第一，诗第二，画第三。

根据这段文字，下列说法中正确的是：

- A. “自知”中“知”的意思
B. 文章主旨在于评论徐文长的“怪”
C. 在“他知”中，徐文长的字排第一
D. “自知”与“他知”不同，并不奇怪

【答案】D。解析：

本题属于推断文意型。阅读可知：“自知”与“他知”的迥然不同。这样的情况也是古已有之，（隐含：“古已有之”的现象，一点也不奇怪）。由此可知，题干意在说明：“自知”与“他知”不同，并不奇怪。所以，正确选项是 D。

39. 人们是否接受，或在多大程度上接受市场竞争体制，与其说是个文化差异问题，毋宁说是个历史案例问题，即竞争是否公正的问题。文化传统差异极大的拉美、俄国、伊朗都有强大的公众反竞争运动，而文化类型相同的美、英则此无彼有。可见，回避竞争是否公正而专在“文化传统”、“深层心理”上做文章，是多么缺乏说服力。

这段文字意在说明：

- A. 市场竞争体制可以被不同文化传统的国家接受
B. 公正问题是市场竞争体制的核心问题
C. 市场竞争体制的文化决定论缺乏解释力
D. 市场竞争体制根植于文化传统

【答案】C。解析：

本题属于推断文意型。阅读可知，题干属于证明型结构，证明型结构强调的结论，即：可见，回避竞争是否公正而专在“文化传统”、“深层心理”上做文章，是多么缺乏说服力（隐含：回避竞争，用“文化传统”来解释市场竞争体制是错误的）。也就是说：市场竞争体制的文化决定论缺乏解释力。

所以，正确选项是 C。

40. 一个故事是有关美国的一个自封的皇帝的，了解点美国历史的人都知道，美国的历史和现实中有许多稀奇古怪的事情，但有一样东西是没有的，就是皇帝。因为美国从来就没有实行过帝制，因而也

就不可能有所谓的皇帝。然而，1880年1月9日的旧金山主要报纸之一的《旧金山纪事报》却在头版头条刊登了这样一条消息：“君王驾崩”，宣布“美国皇帝和墨西哥保护者诺顿一世逝世”。

根据上文推断，作者接下来最可能讲述的内容是：

- A. 美国没有实行帝制的原因分析
- B. 对该报纸的性质、宗旨进行简要介绍
- C. 告诉读者美国政治制度的演变过程
- D. 介绍诺顿一世的传奇故事

【答案】D。解析：

本题属于推断文意型。要求确定“作者接下来最可能讲述的内容”。

阅读可知，美国从来就没有皇帝，然而《旧金山纪事报》却在头版头条刊登了这样一条消息：“君王驾崩”，宣布“美国皇帝和墨西哥保护者诺顿一世逝世”。诺顿一世是谁？关于他有哪些有趣的故？这些都是读者迫切想知道的事情。因此，为了满足读者的兴趣，作者接下来最可能讲述的内容是：介绍诺顿一世的传奇故事。

所以，正确选项是D。

三、选词填空。从题后所给的四个选项中选出最符合文意的一项。

41. 盯着名利干事，难免_____，欲速则不达；盯着责任干事，“不闻掌声”而_____，才能最终赢得掌声。

依次填入画横线处最恰当的一项是（ ）。

- A. 斤斤计较 心无二用
- B. 急公好义 心怀大局
- C. 患得患失 心胸开阔
- D. 急功近利 心无旁骛

【答案】D。解析：

第一空，由“盯着名利干事”可知，“急功近利”最恰当，且两者也都包含关键字“利”。第二空，由“不闻掌声”可知，“心无旁骛”最恰当。因此D项当选。

42. 当你打开书想在书中找到平静的时候，最初的几页是很难读进去的，最初的几页读完后，你就会觉得好书真像是一堵墙，把街面上的_____还有喧嚣的声音阻拦在了外边。你似乎可以在_____闻到花香，听到鸟鸣，大自然仿佛又回到了你的身边。

依次填入画横线处最恰当的一项是（ ）。

- A. 车水马龙 白纸黑字
- B. 纸醉金迷 字里行间
- C. 灯红酒绿 语言文字
- D. 红男绿女 字字句句

【答案】A。解析：

第一空，由“平静”“把……喧嚣的声音阻拦在了外边”可知，“车水马龙”最恰当。验证第二空，“白纸黑字”与语义相契合。因此A项当选。

43. 今天，专业的_____让我们谁都无法补齐所有的_____，互联网使得合作的成本越来越低。与其花精力治愈自己的“_____”，不如花时间和精力把自己的优势发挥出来。

依次填入画横线处最恰当的一项是（ ）。

- A. 划分 短处 痼疾
- B. 细分 短板 顽疾
- C. 细化 缺陷 弊病
- D. 分工 缺项 陈疾

【答案】B。解析：

第一空，划分，把整体分成若干部分；区分。细化，指的是深入到每一个细微环节。分工，一般是任务、职能等。细分，与专业搭配最恰当。第二空，“补齐”与“短板”搭配恰当。验证第三空，“治愈顽疾”语句通顺。因此B项当选。

44. 苏轼也擅长书法，他_____颜真卿，但能_____，与蔡襄、黄庭坚、米芾并称宋代四大家。

依次填入画横线处最恰当的一项是（ ）。

- A. 效法 别开生面
B. 模仿 独树一帜
C. 取法 不落窠臼
D. 仿照 匠心独运

【答案】C。解析：

先看第二空，“别开生面”比喻另外创出一种新的形式或局面。“独树一帜”比喻独特新奇，自成一家；“不落窠臼”比喻独创风格，不落旧套；“匠心独运”形容艺术构思有独创性；从成语适用范围上来看，这句话强调的是苏轼的书法艺术能够自成一家，因此最为恰当的是B项。验证第一空，“取法”最为恰当，“效法”“模仿”“仿照”用于苏轼的书法，不够恰当。因此C项当选。

45. 法律的道德化和道德的法律化是永不停歇的过程，法律规范与道德规范之间也并非_____，而是互动互补，_____。

依次填入画横线处最恰当的一项是（ ）。

- A. 壁垒森严 浑然天成
B. 格格不入 相辅相成
C. 非此即彼 水乳交融
D. 泾渭分明 浑然一体

【答案】B。解析：

先看第二空，“浑然天成”形容诗文结构严密自然，用词运典毫无斧凿痕迹；亦形容人的才德完美自然。“水乳交融”指像水和乳汁融合在一起，比喻感情很融洽或结合十分紧密。“浑然一体”融合成一个整体，不可分割；也形容文章绘画，布置匀整，结构谨严。以上形容法律与道德的关系均不妥。验证第一空，语句通顺，符合语义。因此B项当选。

46. 在全面深化改革的进程中，谋事不实，蓝图再好也不过是_____；创业不实，梦晓再美也只是黄粱一梦；做人不实，立身之本必定是_____。

依次填入画横线处最恰当的一项是（ ）。

- A. 缘木求鱼 空中阁楼
B. 画饼充饥 荡然无存
C. 纸上谈兵 一无是处
D. 闭门造车 子虚乌有

【答案】B。解析：

第一空，“缘木求鱼”比喻方向或办法不对头，不可能达到目的。“画饼充饥”比喻用空想来安慰自己。“纸上谈兵”比喻空谈理论，不能解决实际问题；也比喻空谈不能成为现实。“闭门造车”比喻脱离实际，只凭主观办事。很显然，A、D项不符合语义。第二空，“立身之本”与“荡然无存”搭配恰当，“立身之本”是“一无是处”语句不通。因此B项当选。

47. 传统出版社的竞争优势在于，历史和传统使其在内容创新和版权拥有方面有着深厚的_____，这是一个不断累积叠加的过程，不可能_____。

依次填入画横线处最恰当的一项是（ ）。

- A. 资本 一步登天
B. 实力 一挥而成
C. 资源 一日千里
D. 积淀 一蹴而成

【答案】D。解析：

“一步登天”比喻一下子就达到很高的境界或程度，有时也用来比喻人突然得志，爬上高位；“一挥而成”一动笔就写成了，形容写字、写文章、画画快，均不符合题意，排除A、C两项。再看第一空，“积淀”多指文化、知识、经验等积累沉淀下来的事物，用在此处最恰当。因此D项当选。

48. 洁净是茶室的必要条件，比方说茶室里最幽暗的角落，纵使客人根本_____，主人也必须拭抹得_____。可是仲夏之际，从一株百合花上无意滴落在地板上的水珠，却应任其留存，它暗示着水一般的纯净与清爽。

依次填入画横线处最恰当的一项是（ ）。

- A. 无暇顾及 一尘不染
B. 不以为然 一干二净
C. 视而不见 洁白无瑕
D. 熟视无睹 纤尘不染

【答案】A。解析：

第一空，“不以为然”“视而不见”“熟视无睹”其成语本身的感情色彩不符合题意，排除 B、C、D 三项。验证第二空，抹得“一尘不染”语句通顺，符合语义。因此 A 项当选。

49. 生命在进化过程中要经历自然选择，也就是达尔文提出的“适者生存”。病毒感染对于生命来说就是一种选择压力，在病毒面前_____的个体会被淘汰掉，病毒因而成了生物进化的强大驱动力，它们_____和保留下免疫力强大的个体，由此推动生命的_____。

依次填入画横线处最恰当的一项是（ ）。

- A. 娇生惯养 挑选 进化
B. 弱不禁风 筛选 演化
C. 节节败退 精选 进展
D. 不堪一击 甄选 延续

【答案】B。解析：

第一空，“娇生惯养”指从小就被溺爱、娇养惯了，显然不符合语义，排除 A 项。第二空，“甄选”在审查的基础上进行选择，“精选”指认真地把一类事物中具有代表性和非常经典的挑选出来，不符合语义，排除 C、D 两项。验证第三空，“推动生命的演化”搭配恰当，语句通顺。因此 B 项当选。

50. 在战争年代，军人的职责在于保家卫国，不惧_____，永远冲在第一线。在和平年代，军人的血性和担当就体现在这些见义勇为的_____之中，平凡之中彰显伟大，这种为了人民生死不顾的正义感更能显出军人的_____和温柔情怀。

依次填入画横线处最恰当的一项是（ ）。

- A. 舍生忘死 英雄气概 大义凛然
B. 马革裹尸 点点滴滴 大智大勇
C. 粉身碎骨 一言一行 男儿本色
D. 艰难险阻 一举一动 英勇无敌

【答案】B。解析：

第一空，“舍生忘死”与“不惧”搭配不当，排除 A 项。第二空，有“平凡之中彰显伟大”可知，“点点滴滴”一词用在此处最恰当。验证第三空，代入“大智大勇”，语句通顺，符合语义。因此 B 项当选。

51. 每个时代都有自己的流行语，网络热词则是互联网时代最普遍的副产品。与以往不同，网络热词的更替速度令人_____，“来得快，去得更快”成为网络热词的集体_____。

依次填入画横线处最恰当的一项是（ ）。

- A. 目不暇接 宿愿
B. 不堪重负 命运
C. 顾此失彼 结局
D. 眼花缭乱 宿命

【答案】D。解析：

第一空，“不堪重负”“顾此失彼”与“网络热词的更替速度”搭配不当，排除 B、C 两项。第二空，“宿愿”指平素的愿望，一向怀着的愿望，与题意不符；所谓“宿命”是指命运的归宿，是人们无法摆脱的必然趋势，符合题意。因此 D 项当选。

52. 在创业大潮席卷下，创业领域呈现出一派_____的景象，创投机构扎堆，创业项目井喷，创业者更是受到社会热烈关注，其中不少人成了_____的创业明星。在资金和各路人马_____的同时，也出现了一些浮夸和造假的现象。

依次填入画横线处最恰当的一项是（ ）。

- A. 生机勃勃 炙手可热 抢滩
B. 热火朝天 万众瞩目 搏杀

C. 欣欣向荣 你争我抢 杀入

D. 万马奔腾 家喻户晓 争抢

【答案】A。解析：

第一空，“热火朝天”形容群众性的活动情绪热烈，气氛高涨，就象炽热的火焰照天燃烧一样。“万马奔腾”形容群众性的活动声势浩大或场面热烈，均多形容“场面”，排除B、D两项。再看第三空，“抢滩”商业上指抢占市场，填在此处最恰当。验证第二空，代入“炙手可热”符合语义。因此A项当选。

53. 社会的和谐，是以人与人之间的爱即仁爱为_____基础的，也是以执政者怀抱民本思想，执政为民、惠及民生为基础的。可以说，正是传统仁爱思想和民本思想的有力_____，才确保了中华民族5000年历史的_____。

依次填入画横线处最恰当的一项是（ ）。

A. 思想 维护 革故鼎新

B. 情感 维系 绵延不绝

C. 精神 维持 历久弥新

D. 理论 维稳 山高水长

【答案】B。解析：

第一空，“理论”与“仁爱”搭配不当，排除D项。第二空，“维系”指维持和联系，不让涣散；“维持”一般搭配秩序；“维护”有维持保护的意思；“维稳”即维护稳定，很显然“维系”符合语义。验证第三空，“历史绵延不绝”搭配恰当，符合语义。因此B项当选。

54. 大数据以量取胜，孤立的单个数据几乎没有商品价值，故而多数被记录主体容易_____自己的数据产权。但是一个个数据_____，便是宝藏。而大型数据集的处理使用，须借助复杂的分析算式与大功率计算机，普通人和小公司_____。

依次填入画横线处最恰当的一项是（ ）。

A. 忽视 集腋成裘 难以问津

B. 忽略 积少成多 难以为继

C. 遗忘 日积月累 望而却步

D. 遗弃 接踵而至 望洋兴叹

【答案】A。解析：

第一空，“遗忘”“遗弃”均不符合语义，排除C、D两项。再看第三空，“难以问津”比喻很少有人来探问、尝试或购买，符合语义。“难以为继”指难于继续下去。验证第二空，“集腋成裘”比喻积少成多，符合语义。因此A项当选。

55. 要解决我国食品安全有效供给不足的问题，单纯依赖孤立的政府监管机制是不可行的。必须充分发挥而不是_____市场治理的作用，挖掘政府监管与市场治理的内在关联_____，激发政府监管与市场的协同优势，食品安全的政府监管才能_____。

依次填入画横线处最恰当的一项是（ ）。

A. 压制 互动性 准确到位

B. 抑制 互助性 有理有据

C. 替代 互补性 事半功倍

D. 取代 互通性 水到渠成

【答案】C。解析：

先看第二空，“市场治理”与“政府监管”之间是“互补性”关系，可以选出C项。验证第一空和第三空，语句通顺，符合语义。因此C项当选。

第二部分 数量关系

（共15题，参考时间15分钟）

每道题呈现一段表述数字关系的文字，要求你迅速、准确地计算出答案。

56. 已知A、B两地相距600千米。甲、乙两车同时从A、B两地相向而行，3小时相遇。若甲的速度是乙的1.5倍，则甲的速度是（ ）。

A. 80千米/小时

B. 90千米/小时

C. 100千米/小时

D. 120千米/小时

【答案】D。解析：

设乙的速度为 $2x$ ，甲的速度为 $3x$ ，相遇路程和公式 $600 = (2x+3x) \times 3$ ，解得 $x=40$ ，甲的速度 $3x=120$ 千米/小时

所以，正确选项是 D。

57. 某班有 38 名学生，一次数学测验共有两道题，答对第一题的有 26 人，答对第二题的有 24 人，两题都答对的有 17 人，则两题都答错的人数是（ ）。

- A. 3 B. 5 C. 6 D. 7

【答案】B。解析：

根据容斥原理的公式：在两个集合的情况下：满足 A 的个数 + 满足 B 的个数 - 两者都满足的个数 = 总个数 - 两者都不满足的个数。因此 $26+24-17=38-x$ ，解得 $x=5$ 。两题都答错的人是 5 个。

所以，正确选项是 B。

58. 甲、乙、丙三人共同完成一项工程，他们的工作效率之比是 5:4:6。先由甲、乙两人合做 6 天，再由乙单独做 9 天，完成全部工程的 60%。若剩下的工程由丙单独完成，则丙所需要的天数是（ ）。

- A. 9 B. 11 C. 10 D. 15

【答案】C。解析：

直接赋效率，甲乙丙的效率分别为 5，4，6。因此已完成的工程 $6 \times (5+4) + 4 \times 9 = 90$ ，占 60%，说明还剩 60 的工作量，由丙单独做，则需要的天数为 $60 \div 6 = 10$ （天），C 项当选。

所以，正确选项是 C。

59. 有 A、B、C 三支试管，分别装有 10 克、20 克、30 克的水。现将某种盐溶液 10 克倒入 A 管均匀混合，并取出 10 克溶液倒入 B 管均匀混合，再从 B 管中取出 10 克溶液倒入 C 管。若这时 C 管中溶液浓度为 2.5%，则原盐溶液的浓度是（ ）。

- A. 60% B. 55% C. 50% D. 45%

【答案】A。解析：

设盐溶液的溶质为 x ，倒入 B 的溶质为 $x \times (1/2)$ ，倒入 C 的为 $x \times (1/2) \times (1/3) = x/6 = 40 \times 2.5\%$ ，解得 $x=6$ ，因此原盐溶液的浓度为 $6/10=60\%$ 。

所以，正确选项是 A。

60. 某志愿服务小组购买一批牛奶到一敬老院慰问老人。如果送给每位老人 4 盒牛奶，那么还剩 28 盒；如果送给每位老人 5 盒，那么最后一位老人又不足 4 盒，则该敬老院的老人人数至少是（ ）。

- A. 27 B. 29 C. 30 D. 33

【答案】C。解析：

设敬老院老人数为 x ，共有牛奶 $4x+28$ 盒。每人分 5 盒时，最后一位老人不足 4 盒，最多 3 盒，总牛奶最多为 $5x-2=4x+28$ ，解得 $x=30$ 。

所以，正确选项是 C。

61. 小王以每股 10 元的相同价格买入 A 和 B 两只股票共 1000 股。此后 A 股先跌 5% 再涨 5%，B 股票先涨 5% 再跌 5%。若在此期间小王没有再买卖过这两只股票，则现在这 1000 股股票的市值是（ ）。

- A. 10250 元 B. 9975 元 C. 10000 元 D. 9750 元

【答案】B。解析：

1000 股股票的市值是： $10 \times 1000 \times (1-5\%) \times (1+5\%) = 10000 \times (1-5\%+5\%-5\% \times 5\%) = 9975$

(元)。

所以，正确选项是 B。

62. 小明、小红、小桃三人定期到某棋馆学围棋，小明每隔 3 天去一次，小红每隔 4 天去一次，小桃每隔 5 天去一次。若 2016 年 2 月 10 日三人恰好在棋馆相遇，则下次三人在棋馆相遇的日期是 ()。

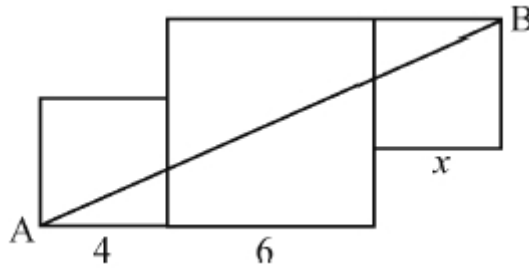
A. 2016 年 4 月 8 日
B. 2016 年 4 月 11 日
C. 2016 年 4 月 9 日
D. 2016 年 4 月 10 日

【答案】D。解析：

“每隔 3 天去一次”意思是“每四天去一次”。因此 4, 5, 6 最小公倍数 60, 60 天之后三人再次相遇。2016 年 2 月是闰月，有 29 天，三月 31 天，加起来正好 60 天，下一次相遇即为 4 月 10 号。

所以，正确选项是 D。

63. 下图是由三个边长分别为 4、6、 x 的正方形所组成的图形，直线 AB 将它分成面积相等的两部分，则 x 的值是 ()。



A. 3 或 5
B. 2 或 4
C. 1 或 3
D. 1 或 6

【答案】B。解析：

以 AB 为对角线将图形补成长方形，也就是要缺失的两部分面积相同， $2 \times 4 = x \times (6 - x)$ ，解得 $x = 2$ 或 4。

所以，正确选项是 B。

64. 一辆公交车从甲地开往乙地需经过三个红绿灯路口，在这三个路口遇到红灯的概率分别是 0.4、0.5、0.6，则该车从甲地开往乙地遇到红灯的概率是 ()。

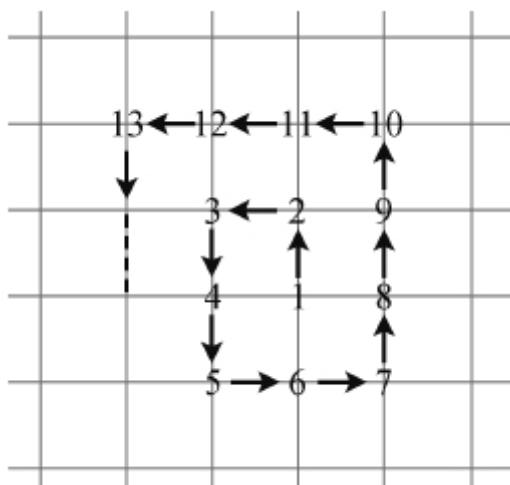
A. 0.12
B. 0.50
C. 0.88
D. 0.89

【答案】C。解析：

逆向思维，都没有遇到红灯的概率为 $0.4 \times 0.5 \times 0.6 = 0.12$ ，遇到红灯概率为 $1 - 0.12 = 0.88$ 。

所以，正确选项是 C。

65. 从 1 开始的自然数在正方形网格内按如图所示规律排列，第 1 个转弯数是 2，第 2 个转弯数是 3，第 3 个转弯数是 5，第 4 个转弯数是 7，第 5 个转弯数是 10，……则第 22 个转弯数是 ()。



- A. 123 B. 131 C. 132 D. 133

【答案】D。解析：

枚举发现转弯处的数字依次加 1, 1, 2, 2, 3, 3, 4, 4, …, 两两分组看为一个首项为 2, 公差为 2, 项数为 11 的等差数列。

根据等差数列项数公式：项数 = (末项 - 首项) ÷ 公差 + 1, 末项 = 22, 因此：

第 22 个转弯数 = (首项 + 末项) × 项数 ÷ 2 + 1 = 12 × 11 + 1 = 133。D 项当选。

所以，正确选项是 D。

66. 一列客车长 250 米，一列货车长 350 米，在平行的轨道上相向行驶，从两车头相遇到两车尾相离经过 15 秒，已知客车与货车的速度比是 5 : 3。问两车的速度相差多少？

- A. 10 米/秒 B. 15 米/秒 C. 25 米/秒 D. 30 米/秒

【答案】A。解析：

根据题意可知，两车的速度和为 $(250+350) \div 15=40$ 米/秒，且两车的速度比是 5 : 3，则两车的速度差为 $40 \times \left(\frac{5}{8} - \frac{3}{8} \right) = 10$ 米/秒。

所以，正确选项是 A。

67. a 大学的小李和 b 大学的小孙分别从自己学校同时出发，不断往返于 a、b 两校之间。现已知小李的速度为 85 米/分钟，小孙的速度为 105 米/分钟，且经过 12 分钟后两人第二次相遇。问 a、b 两校相距多少米？

- A. 1140 米 B. 980 米 C. 840 米 D. 760 米

【答案】D。解析：

设两校相距 s 米，则第二次相遇时两人所走的路程和为 3s 米，可得算式为：3s = (85+105) × 12。

解得 s = 760 (米)。

所以，正确选项是 D。

68. 甲、乙两辆清洁车执行东、西城间的公路清扫任务。甲车单独清扫需要 6 小时，乙车单独清扫需要 9 小时，两车同时从东、西城相向开出，相遇时甲车比乙车多清扫 15 千米。问东、西两城相距多少千米？

- A. 60 千米 B. 75 千米 C. 90 千米 D. 135 千米

【答案】B。解析：

设东、西两城相距为 1，则两车的相遇时间为： $1 \div \left(\frac{1}{6} + \frac{1}{9} \right) = \frac{18}{5}$ 小时。

设两城相距为 x。则： $x \div \left[\left(\frac{1}{6} - \frac{1}{9} \right) \times \frac{18}{5} \right] = 15$ 千米。解得：x=75（千米）。

所以，正确选项是 B。

69. 已知一个长方体的长、宽、高分别为 10 分米、8 分米和 6 分米，先从它上面切下一个最大的正方体，然后再从剩下的部分上切下一个最大的正方体。问切除这两个正方体后，最后剩下部分的体积是多少？

A. 212 立方分米 B. 200 立方分米 C. 194 立方分米 D. 186 立方分米

【答案】B。解析：

根据题意可知，第一次切下的正方体的边长为 6 分米，第二次切下的正方体的边长为 4 分米，则最后剩下部分的体积是： $(10 \times 8 \times 6) - (6 \times 6 \times 6) - (4 \times 4 \times 4) = 200$ （立方分米）。

所以，正确选项是 B。

70. 甲、乙各有钱若干元，甲拿出 $\frac{1}{3}$ 给乙后，乙再拿出总数的 $\frac{1}{5}$ 给甲，这时他们各有 160 元。问甲、乙原来各有多少钱？

A. 120 元 200 元 B. 150 元 170 元 C. 180 元 140 元 D. 210 元 110 元

元

【答案】C。解析：

根据题意，可列表如下：

	甲（元）	乙（元）
最后	160	160
乙拿出总数的 $\frac{1}{5}$ 给甲之前	120	200
甲拿出 $\frac{1}{3}$ 给乙之前	180	140

根据表格，甲、乙原来各有 180 元、140 元钱。

所以，正确选项是 C。

第四部分 判断推理

（共 40 题，参考时间 40 分钟）

一、类比推理。请你四个选项中选出正确的一项，其关系与题干给出的词或词组的关系最为相似。

71. 上山：山上

A. 上海：海上

B. A. 回收：收回

C. 工人：人工

D. 下台：台下

【答案】D。解析：

目的关系。上山来到山上，下台来到台下。

72. 舞蹈：天鹅

A. 歌唱：黄莺

B. 春燕：呢喃

C. 读书：学生

D. 采莲：江南

【答案】A。解析：

比喻关系。像天鹅一般舞蹈，像黄莺一样歌唱。

73. 静如处子：动如脱兔
A. 顺手牵羊：守株待兔
C. 杀鸡做猴：惩前毖后

- B. 胆小如鼠：胆大包天
D. 呆若木鸡：愚不可及

【答案】B。解析：

反义词关系。静如处子和动如脱兔是反义关系，胆小如鼠和胆大包天是反义关系。

74. 冠军：亚军
A. 热带：亚热带
C. 奥运会：亚运会

- B. 芝麻：亚麻
D. 亚健康：健康

【答案】A。解析：

级别关系。前者为最高级别，后者的“亚”表示次级。

A 项的气候带是按照地理纬度或实际温度来划分的，有级别顺序之分。

B 项两词不是同一科属，且用途也不一样。

C 项二者涵盖的地理范围不同，且都是其所属范围内最高级别的赛事。

D 项顺序颠倒，排除。

75. 茶杯：杯盖：杯底
A. 树林：树梢：树根
C. 苹果：果核：果皮

- B. 文章：文件：标题
D. 茶叶：春茶：秋茶

【答案】C。解析：

题干中后两个词均为第一个词的组成部分，只有 C 项符合。

A 项中树林为集合概念，应为树木。

B 项的中间词不是第一个词的组成部分。

D 项第一个词是后两个词的统称，与题干逻辑关系不符。

76. 火车：轨道：行驶
A. 电脑：键盘：上网
C. 飞机：机场：飞行

- B. 相机：镜头：拍照
D. 油轮：江海：航行

【答案】D。解析：

事物与其所处空间。火车在轨道上行驶，油轮在江海上航行。

77. 驾驶 之于 () 相当于 讲课 之于 ()
A. 司机——教师
C. 汽车——学生

- B. 网络——教室
D. 麦克风——导航仪

【答案】A。解析：

职称与对应的具体工作。司机的本职工作是驾驶，教师的本职工作是讲课。

78. 时间 之于 () 相当于 () 之于 密度
A. 数量——质量
C. 速度——体积

- B. 流水——磐石
D. 日晷——天平

【答案】C。解析：

数学运算式中的变量关系。时间乘以速度等于路程，体积乘以密度等于重量。

79. () 对于 纠纷 相当于 垄断 对于 ()
- A. 调解 市场
B. 经济 价格
C. 磋商 议会
D. 劳动 权力

【答案】A。解析：

代入选项造句可知，A 项的逻辑关系是相同的：动宾结构“调解纠纷”；动宾结构“垄断市场”。所以，正确选项是 A。

80. 电子邮件 对于 () 相当于 () 对于 道路
- A. 隐私 城市
B. 网络 汽车
C. 信息 交通
D. 交流 运输

【答案】B。解析：

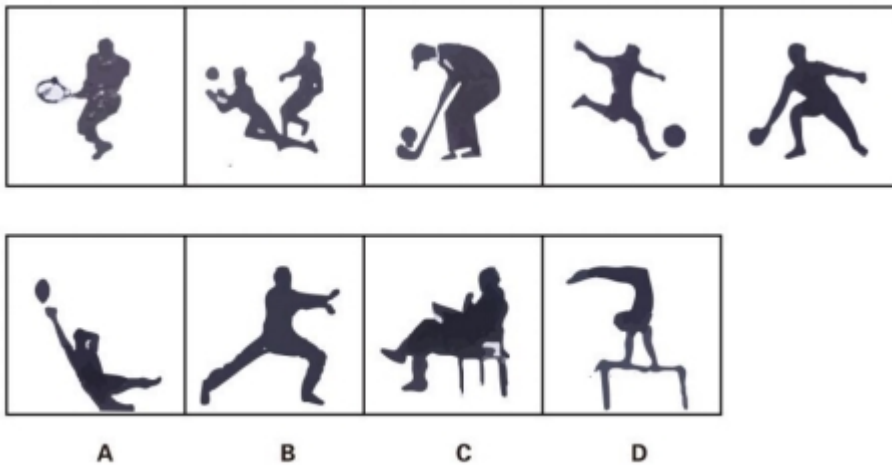
代入选项造句可知，B 项的逻辑关系是相同的：“电子邮件”在“网络”传播；“汽车”在“道路”上行驶。

所以，正确选项是 B。

二、图形推理。本部分共 10 题，包括三种类型的题目。

(一) 每道题在左边的题干中给出一套图形，其中包括五个图，这五个图呈现一定的规律性。在右边给出一套图形，其中有四个图，从中选出唯一的一项作为保持左边五个图规律性的第六个图。

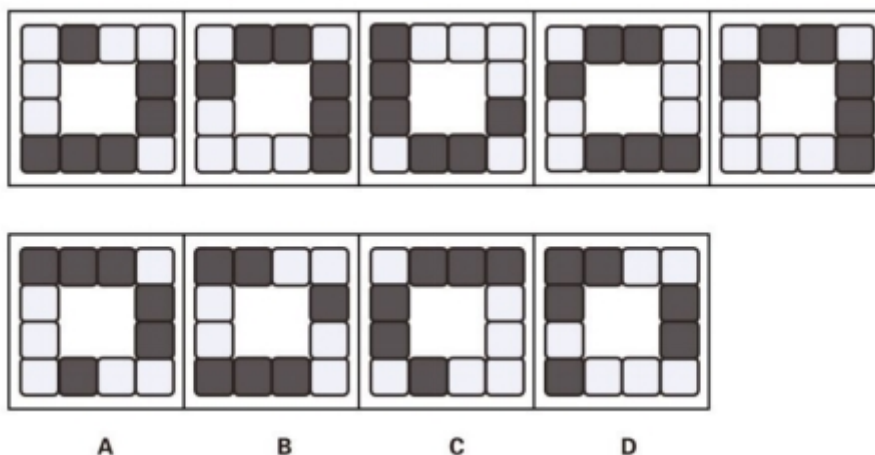
81.



【答案】A。解析：

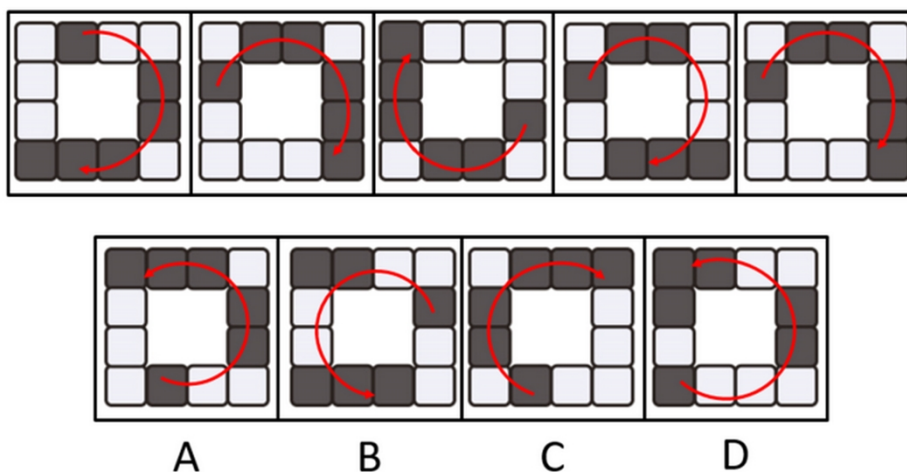
观察可见，题干图形中的人都是在进行不同的球类运动，只有 A 项中的人是做球类运动。所以，正确选项是 A。

82.



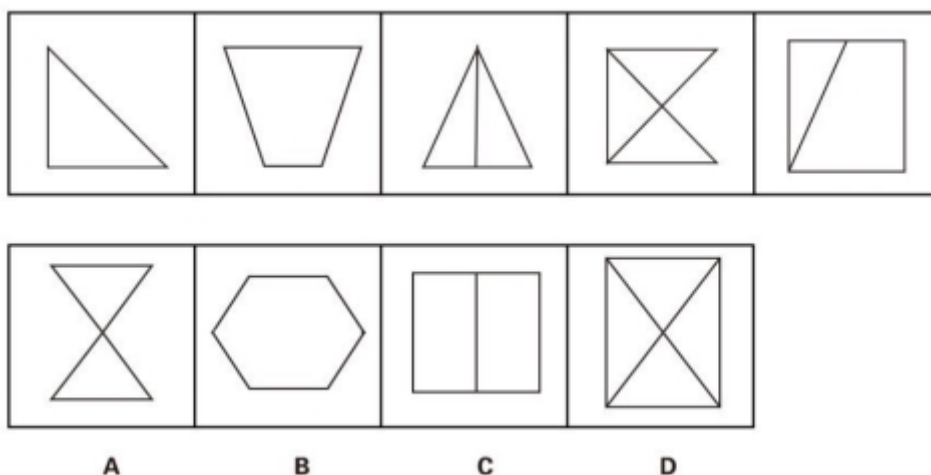
【答案】C。解析：

观察可见，图形组成相同，考虑位置。以单独的黑块看，分别顺时针移动 2、6、6、6、1，没有明显的移动规律。考虑相对位置关系，题干 5 幅图中，1 个黑块→2 个黑块→3 个黑块都是沿着顺时针的方向转动。A、B、D 三项均是沿着逆时针方向转动，排除。只有 C 项符合顺时针转动的规律，当选。



所以，正确选项是 C。

83.

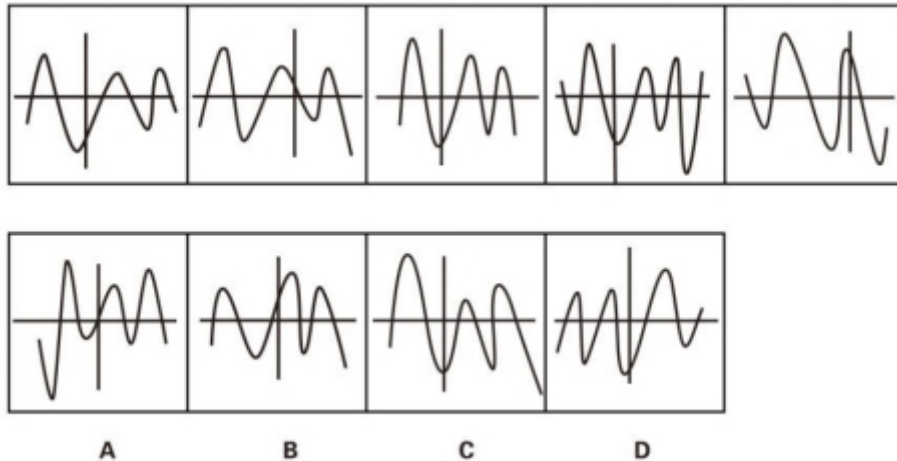


【答案】B。解析：

观察可见，题干图形中的多边形和线出现的比较多，优先考虑线条数，分别是3、4、4、5、5条，没有规律。再考虑交点数，交点数分别为3、4、4、5、5，发现点和线的数量完全一致。只有B项符合，当选。

所以，正确选项是B。

84.



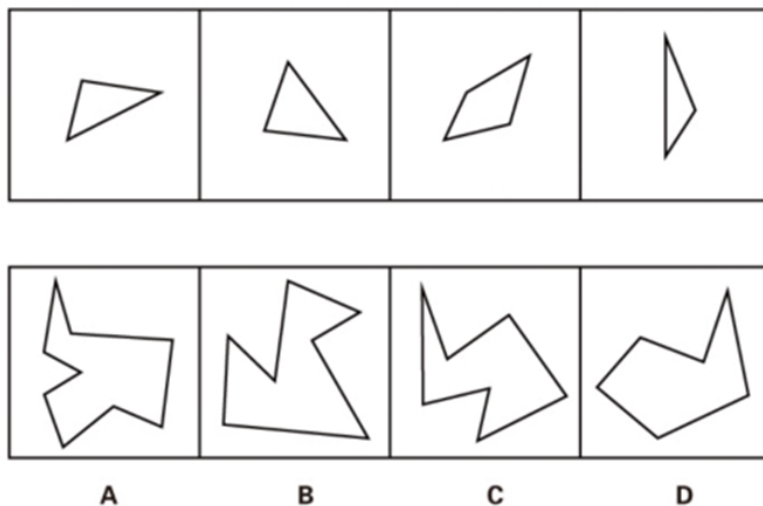
【答案】C。解析：

观察可见，题干图形均由1条曲线和2条直线构成。直线组成了坐标轴，曲线形成了波峰和波谷。先看波峰和波谷的数量。波峰数量依次为3、3、3、3、2，波谷数量依次为2、2、2、4、3，可见波峰波谷相减结果都得到1，排除A、D两项。再观察波峰波谷与坐标轴的位置关系，每个图中最高的波峰均出现在竖轴的左侧，排除B项。C项当选。

所以，正确选项是C。

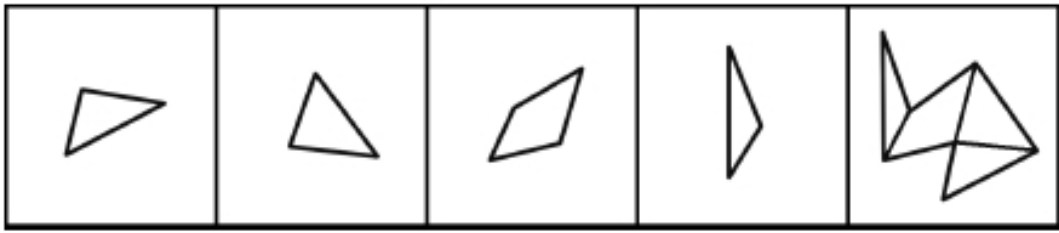
(二)右边四个图形中，只有一个是左边四个图形拼合(只能通过上、下、左、右平移)而成的，请把它找出来。

85.



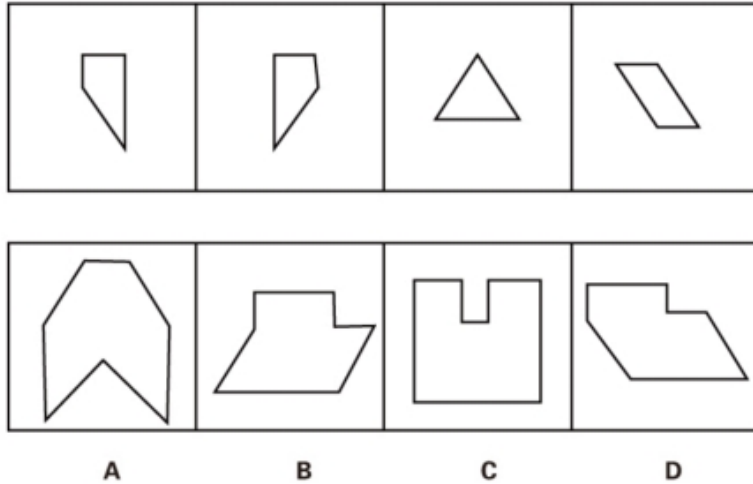
【答案】C。解析：

本题考查的是平面拼合，可以采用平行等长消去的方式。消去平行等长的线段后进行组合得到轮廓图，即为C项。如下图所示：



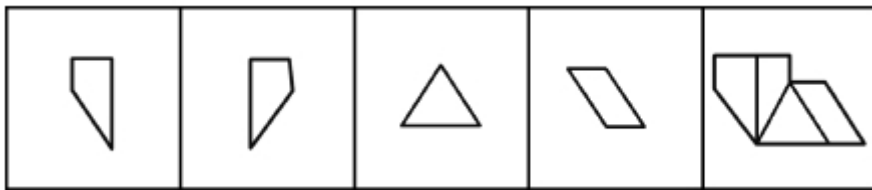
所以，正确选项是 C。

86.



【答案】D。解析：

本题考查的是平面拼合，可以采用平行等长消去的方式。消去平行等长的线段后进行组合得到轮廓图，即为 D 项。如下图所示：



所以，正确选项是 D。

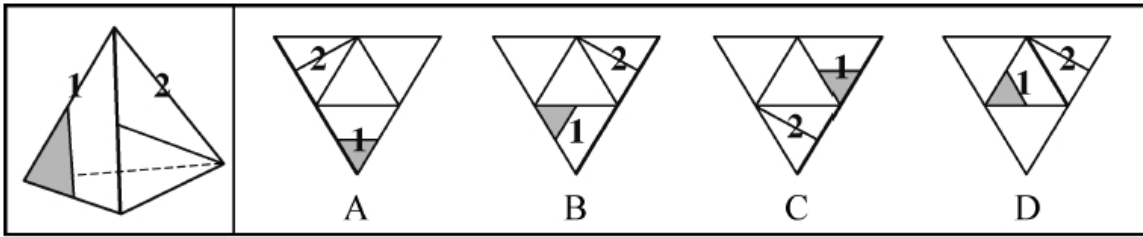
(三) 所给图形可以由下列哪项外表面展开图折叠而成？请把它找出来。

87.



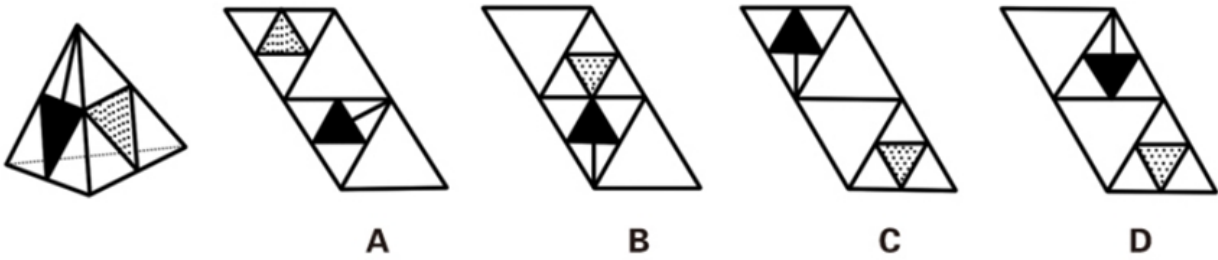
【答案】B。解析：

观察左侧图形可以发现，面 1 和面 2 有一条邻边，面 1 的黑三角与邻边不相连，面 2 中的线段与邻边在中点处相交，据此可排除选项。A 项，面 1 的黑三角与邻边相接，错误。C 项，面 1 的黑三角与邻边相接，错误。D 项，面 2 的线段没有在邻边中点处相交，错误。因此 B 项当选。



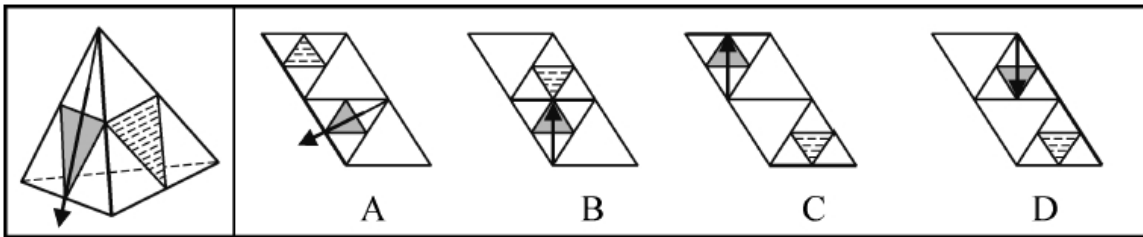
所以，正确选项是 B。

88.



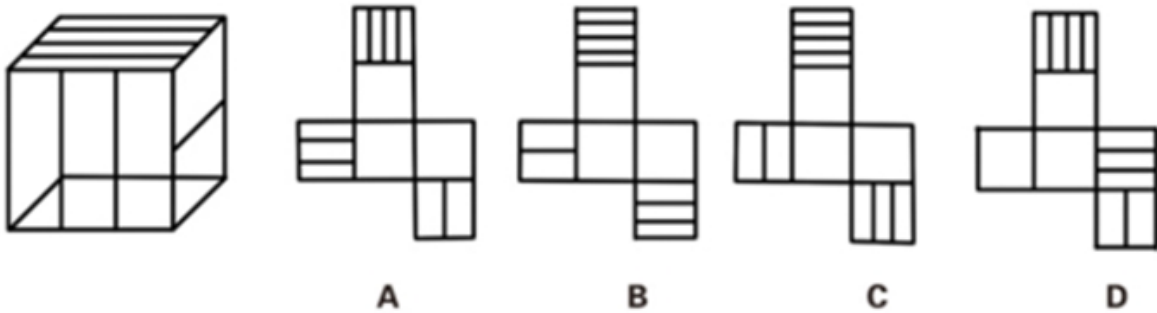
【答案】D。解析：

观察左侧图形，黑色三角形和虚线三角形有公共边，而箭头与该公共边不垂直。A、B、C 三项中黑色三角的箭头方向都与公共边垂直，均排除。因此 D 项当选。



所以，正确选项是 D。

89.

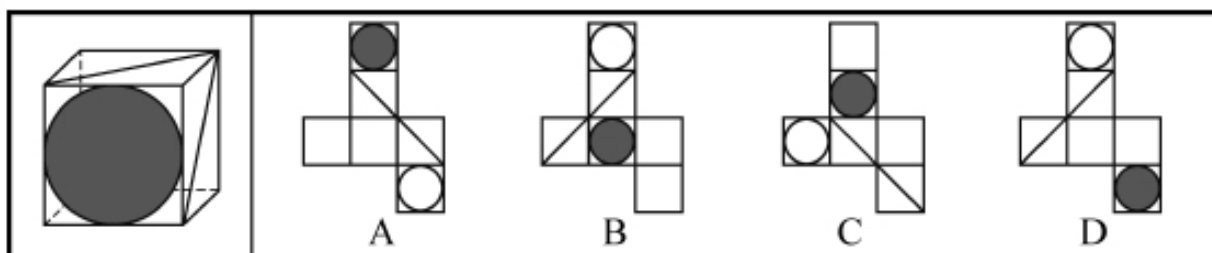


【答案】D。解析：

左侧图中 1 条横线的面与 2 条横线的面直线相互垂直，而 B、C 两项中的直线相互平行，均排除。A 项组成立方体后，若顶面为 3 条横线面，正面为 2 条横线面，1 条横线的面则在左侧，因此排除 A 项。D 项当选。

所以，正确选项是 D。

90.



【答案】A。解析：

A、C、D 两项对角线面与黑球面关系不符，排除。B 选项面上的对角线均指向三个面的公共定点，与立体图形不符。因此 A 项当选。

所以，正确选项是 A。

三、逻辑判断。每题给出一段陈述，这段陈述假设是正确的、不容置疑的。请根据这段陈述，选择一个答案。注意：正确的答案不需要任何附加说明即可以根据陈述必然推出。

91. 与传统的“汗水型”经济不同，创新是一种主要依靠人类智慧的创造性劳动。由于投入多、风险大、周期长、见效慢，创新并非是每个人自觉的行动，它需要强大的动力支持。如果有人可以通过资源炒作暴富，或者可以借权钱交易腐败发财，那么人们创新就不会有真正的动力。

根据以上概述，可以得出以下哪项（ ）。

- A. 如果有人可以通过土地资源炒作暴富，就有人可以凭借权钱交易腐败发财
- B. 如果没有人可以通过权钱交易腐败发财，人们创新就会有真正的动力
- C. 如果人们创新没有真正的动力，那么就有人可以通过土地资源炒作暴富
- D. 如果人们创新具有真正的动力，那么没有人可以凭借权钱交易腐败发财

【答案】D。解析：

从选项可知，只需要厘清题干最后一句逻辑关系即可：土地资源炒作暴富或借权钱交易腐败发财→创新没有真正的动力（充分条件假言推理，肯前推肯后，否后推否前）。A 项推理明显错误，两个并列的前件无法互推。B 项否前不能否后。C 项肯后不能肯前。D 项否后则否前，推理正确，当选。

92. 某学院共有 42 名员工，他们或者教学科研工作，或者做行政工作。在该学院中，教授都不担任行政工作，而 30 岁以下的年轻博士都在做行政工作，学院中有不少人是从海外招聘来的，他们都具有博士学位，李明是该学院最年轻的教授，他只有 29 岁。

根据以上陈述，可以得出以下哪项（ ）。

- A. 该学院从海外招聘来的博士大多是教授
- B. 该学院从海外招聘来的博士都不做行政工作
- C. 该学院教授大多是 30 岁以上的海外博士
- D. 该学院有的教授不是从海外招聘来的

【答案】D。解析：

题中已知李明是教授，根据“教授都不担任行政工作”，可知李明不做行政工作。由“30 以下的年轻博士都在做行政工作”，否后否前，可得李明不是博士。而海外招聘的都是博士，所以李明不是海外招聘来的，因此可推出 D 项。

93. 经理：小张，这星期你怎么上班总是迟到？

小张：经理，不要只盯着我哟！小李有时比我到的还要晚！

以下哪项的对话方式与上述最为不同（ ）。

A. 丈夫：老婆，你有没有觉得最近你特别爱发火？妻子：你什么意思！你有没有觉得最近你特别爱唠叨？

B. 乘客：师傅，开车时你怎么还打手机啊？司机：你乱嚷什么！把我惹火了，一车人的安全你负责？

- C. 老师：小明，你最近上课怎么老不注意听课？学生：老师，我注意听讲但是听不懂！听不懂我怎么听？
- D. 顾客：老板，你们卖的馄饨里怎么有股怪味呢？老板：你是何居心！你是哪家馄饨店派来的捣蛋鬼？

【答案】B。解析：

题中对话方式里都有比较，小张的意思是还有比他更差的，A项中有妻子和丈夫的比较，C项中有听得懂和听不懂的比较，D项中有馄饨摊之间的比较，只有B项是单纯的反驳，当选。

94. 据报道，与国外相比，中国河流的抗生素浓度较高，测量浓度最高达 7560 纳克/升，平均也有 303 纳克/升，而意大利 9 纳克/升，美国为 120 纳克/升，德国为 20 纳克/升。对此，有专家认为不足为虑。因为绝大多数抗生素对于致病细菌的最小抑制浓度都在 10000 纳克/升以上，目前中国江河和土壤中检测的抗生素浓度都小于各种抗生素对病菌的最小抑制浓度。

以下哪项是上述专家所作论断的假设（ ）。

- A. 抗生素浓度如果低于其对病菌的最小抑制浓度，病菌就不会产生抗药性
- B. 很多病人就诊后，必须要使用更多的新一代抗生素才能控制感染和病情
- C. 细菌如果具有性药性，因细菌感染而导致的疾病就很难用抗生素治愈
- D. 通过环境摄入的的残留抗生素浓度高一些可能反而有利于维护人体健康

【答案】A。解析：

题中论点为：因为抗生素浓度都小于最小抑制浓度，所以不足为虑。A项解释原因，使前提有效，能够支持专家论断，B、C、D与论点无关。

95. 甲、乙、丙、丁、戊 5 支球队进行小组单循环赛。比赛规定，每队胜一场得 3 分，平一场得 1 分，负一场得 0 分；积分前两名出线。比赛结束后发现，没有积分相同的球队，乙队胜了 3 场，另一场负于甲队。根据以上信息，可得出以下哪项（ ）。

- A. 甲队一定出线
- B. 乙队一定出线
- C. 丙队一定出线
- D. 戊队一定出线

【答案】B。解析：

因为是足球单循环赛，每队踢四场球，已知乙踢赢了三场，输给了甲，所以乙赢了丙，丁，戊，也就是这三支队至少输一场，又由于积分都不一样，所以这三支球队不可能比乙高，所以前两支出线的必定有乙。

96. 俄国作家肖洛霍夫讲过一个故事：一个兔子没命地狂奔，路上遇到了狼。狼说：“你跑那么急干嘛？”兔子说：“他们要逮住我，给我钉掌。”狼说：“他们要逮住钉掌的是骆驼，而不是你。”兔子说：“他们要是逮住我钉了掌，你看我还怎么证明自己不是骆驼。”

在这个故事中，兔子最担心的是（ ）。

- A. 只要是骆驼，都要被钉掌
- B. 即使不是骆驼，也可能被钉掌
- C. 如果被钉了掌，就一定是骆驼
- D. 如果没有被钉掌，就不是骆驼

【答案】C。解析：

根据兔子的话可推出的是，钉了掌，就无论如何无法证明自己不是骆驼了。所以钉了掌是充分条件，能推出一定是骆驼，C项当选。

97. 荷兰画家梵高在一家精神病院里创作了著名的绘画作品《星空》。这幅画作中的“漩涡”引起了人们长期的争论，许多心理学家认为，“漩涡”是梵高当时脆弱心理状态的延伸和表现。欧洲航天局近日发布了一幅根据“普朗克”卫星探测绘制的星空图，神奇的是，这幅图与《星空》有惊人的相似

之处。有艺术家认为，自然的星空正是梵高创作的灵感来源。

以下各项如果为真，则除了哪项均能支持上述艺术家的观点（ ）。

- A. 梵高的创作灵感一般均有明显的现实来源
- B. 《星空》的创作年代要远早于卫星绘制星空图的年代
- C. 梵高具有超越常人的视觉观察能力与想象能力
- D. 卫星绘制的星空图和《星空》的画面大体是一致的

【答案】B。解析：

艺术家的观点是自然的星空是梵高的灵感来源。A、C、D 三项均能够支持艺术家的观点，B 项中的年代与论点无关，属于无关项，因此 B 项当选。

98. 某小区里的居民具有乐于助人的良好风尚。在该小区里，凡帮助过老刘的人，老张都帮助过；一个人，只要有一人没帮助过他，老周就帮助过他。老王新搬来不久，还没有帮助过其他人。

根据以上陈述，可以得出以下哪项（ ）。

- A. 老周没有帮助过老张
- B. 老周没有帮助过老王
- C. 老刘与老张互相帮助过
- D. 老张和老周互相帮助过

【答案】D。解析：

由提干可知，新来的老王谁都没帮过，所以所有人都属于有人没帮助过的，那么老周就帮助过所有人，也帮过老刘和老张。又因为帮过老刘的都被老张帮助过，所以可得老周和老张互相帮助过。

99~100 题属于以下题干：

某单位工会成立职工工业余兴趣活动小组，分台球、乒乓球、羽毛球、登山四个小组。已知该单位的甲、乙、丙、丁、戊、己、庚等 7 人每人各参加其中的两个小组，每个小组最少有其中的两人参加，最多有其中的 5 人参加。另外，还知道：

- (1) 丁与戊的参加情况完全相同
- (2) 己与庚的参加情况完全相同
- (3) 如果甲参加台球组，则丁也会参加台球组
- (4) 只有乙和丙参加乒乓球组

99. 如果登山组只有己和庚参加，则可以得出以下哪项（ ）。

- A. 甲参加台球组、羽毛球组
- B. 乙参加台球组、羽毛球组
- C. 己参加台球组、登山组
- D. 庚参加羽毛球组、登山组

【答案】A。解析：

因为乒乓球组里面只有乙、丙，登山组只有己、庚，所以其他人只能去剩下的台球组和羽毛球组，因为一个人最多在两个组，所以可以排除 B、C、D 三项，A 项当选。

100. 如果乙与丁都没有参加台球组，则可以得出以下哪项（ ）。

- A. 如果己参加台球组，则丙参加登山组
- B. 如果庚参加台球组，则戊参加台球组
- C. 如果甲参加羽毛球组，则庚参加登山组
- D. 如果乙参加羽毛球组，则己参加登山组

【答案】D。解析：

已知，乒乓球组只有乙、丙，因为台球不能有乙、丁，所以丁肯定在羽毛球和登山组，又丁与戊在一组，丁不在台球，所以甲也不在台球，所以甲、丁、戊都在羽毛球和登山组。一组最多五人，己和庚情况相同，所以必定会在台球组，A 项中丙可以去羽毛球或登山组，B 项中戊必须要去羽毛球或登山组，C 项中庚有可能参加羽毛球和登山组，只有 D 正确。

四、定义判断。每道题先给出定义，然后列出四种情况，要求你严格依据定义，从中选出一个最符合或最不符合该定义的答案。注意：假设这个定义是正确的，不容置疑的。

101. 逆势扩张：指企业在面临巨大压力和困难的情况下，进一步巩固和拓展市场，在竞争中抢占先机的

经营行为。下列不属于逆势扩张的是（ ）。

- A. 当大多数的国产品牌彩电市场份额纷纷下滑的时候，某电视厂家却连续推出了几款超级电视，市场占比高歌猛进，遥遥领先几大洋品牌
- B. 某汽车油箱销售公司是我国规模较大的自主品牌出口企业，近期已正式进入预先披露更新企业名单之列，向上市的目标又进了一步
- C. 在人们普遍认为房地产调控政策将严重影响家居行业之际，某品牌家具高调宣布，最近在省城及周边地区又成功开设了多家专营店
- D. 国内零售行业近期表现欠佳，各销售企业纷纷收缩实体阵地，某民营企业今日却在省城新增了一家购物中心，另外两家不久也将开业

【答案】B。解析：

“逆势扩张”的定义强调“面临巨大压力和困难的情况下”，而B项没有体现压力和困难，因此B项不符合定义，当选。

102. 公共信息资源：指社会特定管理机构依法管理，面向全体社会公众提供信息服务的各种数据系统，具有公共性、广泛性、基础性和公益性等特点。

下列属于公共信息资源的是（ ）。

- A. 公安部门为了核查居民身份或侦破案件所建立的公安部信息共享系统
- B. 银行为了审核贷款申请、开展各种金融业务的客户个人信息系统
- C. 国家气象部门建立的气象信息发布系统，如天气预报、地质灾害预警
- D. 高校教务部门为提高教学管理效率而开发的学生选课、评课、成绩管理系统

【答案】C。解析：

公共信息资源的定义要点为：①面向全体社会公众；②具有公共性、广泛性、基础性和公益性等特点。只有C项符合。

103. 功利化阅读：指在有限的读书时间里，出于特殊目的，只选择阅读那些对提高自己的学习成绩、工作能力或求职更有帮助的书刊资料。

下列不属于功利化阅读的是（ ）。

- A. 小李平时忙着上课和做家教，资格考试前三天，才一门心思复习考试课程
- B. 老李是业务骨干，一有时间就去资料室翻阅与自己的工种相关的刊物
- C. 为了取得面试好成绩，小江特地去书店买了几本关于面试技巧方面的书
- D. 小林虽然工作繁忙，却一直迷恋科幻小说，只要有点空闲就会找一本来看

【答案】D。解析：

“功利化阅读”的定义要点为：只阅读对提高自己的学习成绩、工作能力或求职更有帮助的书刊资料。D项阅读科幻小说不属于功利化阅读。

104. 定制旅游：指由游客和旅游服务商共同商定旅游方案，以充分满足旅游个性化要求的旅游方式。

下列不属于定制旅游的是（ ）。

- A. 某旅行社最近搜出了欧洲十日游，沿海五市一周游等产品，提前订好酒店、机票、景点门票等，游客觉得价格合适就可以购买成行
- B. 某在线旅游网站根据游客的个性预算、旅游目标等制订行程计划，与客户反复沟通，最终形成了客户满意的方案，并安排专人随行监管
- C. 某旅行社组织了一个美食旅游项目，应游客要求精心挑选几家有特色的美食店，预定好当地的个性民居，全程陪游，游客归来后都感到十分满意
- D. 小李同几个酷爱摄影的朋友策划了一个拍摄沙漠风光的活动计划，经过与旅行社多次讨价还价，

终于成行，参与者度过了一个很有意思的假期

【答案】A。解析：

“定制旅游”的定义要点为：游客和旅游服务商共同商定。而 A 项没有商定的过程，当选。

105. 优势反应：指熟练程度极高、遇到某种刺激时不加思考就做出来的习惯性动作。

下列不属于优势反应的是（ ）。

- A. 中国人遇到多年未见的朋友时，一般都伸出右手去和对方握手
- B. 在街上听到有人喊自己名字，人们总会循着声音方向去寻找
- C. 人们无意之中伸进滚烫的开水，瞬间就会把手缩回
- D. 小丽在家看小说时，一碰到不认识的字就会下意识地去查字典

【答案】C。解析：

“优势反应”的定义强调要点为：①熟练程度极高；②遇到某种刺激；③习惯性动作。而 C 项只是条件反射，没有体现熟练程度高。

106. 以房养老：指老人将自己的产权房抵押给金融机构，按约定条件定期领取养老金并获得相应服务的养老方式。老人去世后，金融机构可以按约定处置房产，偿付已经支出的各项费用。

下列属于以房养老的是（ ）。

- A. 最近，老李夫妇把卖房子的钱存进银行，一起住进了附近的老年公寓，每月的存款利息足够支付那里的各种费用
- B. 年逾古稀的张先生夫妇与银行签订了协议，生前，他们每月从银行领取 13000 元养老金；身后，他们的产权房由银行处置
- C. 赵某在一次车祸中落下重度残疾，他与典当行的远房侄子签了一份协议，由侄子照顾他的日常起居，自己名下的房子将来过户给侄子
- D. 老孙退休后卖掉市中心的大房子，买了一套二手小房住，每月的退休金加上卖房款利息，夫妻俩的日子过得很是自在惬意

【答案】B。解析：

“以房养老”的定义要点为：将自己的产权房抵押给金融机构，定期领取养老金，去世后，金融机构按照约定处置房产。只有 B 项符合定义要点。A、C、D 三项均没有把产权房抵押给金融机构。

107. 自然淘汰育种法：指在良种筛选过程中，减少人为干预，尽量通过被筛选的自然生长确定所需良种的育种方法。

下列属于自然淘汰育种法的是（ ）。

- A. 甲鱼养殖场为了选育出抗病性强的种鱼，在甲鱼接连死亡的情况下，没有使用任何药物，存活到最后则最为种鱼
- B. 锦鲤养殖户从幼鱼开始分拣最有经济价值的鱼苗，经过三次人工选鱼后，最终只有大约 10% 的幼鱼成了鱼苗
- C. 石斛养殖户爬上人迹罕至的悬崖峭壁采集野生石斛，挑选其中的一部分作为种苗，精心培育出了多个新品种
- D. 生长在山坡上的某种植物，有的长势非常茂盛，有的则弱小枯黄，泾渭分明，这正是“物竞天择”的形象说明

【答案】A。解析：

“自然淘汰育种法”的定义强调“在良种筛选过程中，减少人为干预”，只有 A 项符合定义要点。B、C 两项有人工干预选种，D 项并没有提到筛选良种。

108. 隐形就业：指没有通过传统就业渠道获取固定职业，处于相关部门就业统计范围之外的工作状态。下列不属于隐形就业的是（ ）。

- A. 颜某辞去工作后，一边带孩子一边经营一家奶粉网店
- B. 某教授受多家培训学校之邀，在工作之余常去授课
- C. 小陈离开公司后专门为电商店铺提供平台搭建和维护服务
- D. 酷爱写作的小王，大学毕业后成了一家报社的自由撰稿人

【答案】B。解析：

“隐形就业”的定义要点为：没有通过传统就业渠道获取固定职业，而 B 项的教授是有固定职业的，只是在固定职业之外还兼职其他工作。

109. 众筹行为：指通过互联网发布筹款项目、实施方案、投资回报的资金募集方式，其构成要素包括有创造能力但缺乏资金的发起人，对筹资者的故事或回报感兴趣的支持者，在两者之间发挥连接作用的互联网平台等。下列属于众筹行为的是（ ）。

- A. 地震发生后，市红十字会利用官网、微博、微信等多种网络平台及时发布灾情信息，呼吁市民捐款捐物，帮助灾民重建家园，很快筹集了大量善款和赈灾物资
- B. 小涛大学毕业后回乡创业资金不足，他在网上发布了自己的创意，争取各界人士的资金援助，在网友们帮助下迅速度过了难关
- C. 某中学的一名学生患了白血病，学校在网上发布了募捐活动，两天之内就募捐了几万元，帖子转载后各地捐来的善款越来越多
- D. 某青年艺术家为了举办个人画展，利用网络筹集了一大笔启动资金，画展圆满结束后，一一兑现了让出资人享受展品收藏待遇的承诺

【答案】D。解析：

“众筹行为”的定义强调“投资回报”，只有 D 项出现了回报。

110. 路怒症：指机动车驾驶者在行车过程中因焦躁、愤怒情绪而产生的攻击性行为。

下列不属于路怒症的是（ ）。

- A. 在路口等红灯时，小张感觉汽车被碰了一下，下车一看，果然是后车刹车不及时追尾了。小张猛踢后车车轮，大声责怪其司机并且索要赔偿
- B. 妻子开车送老陈去上班，一辆小汽车突然窜到了面前，险些撞到他的车，老陈下车拦住那辆车，把司机痛斥一顿
- C. 小李开了 8 年车，技术高超，每次被人超车，都忍不住狂踩油门飚上一把，直到反超并羞辱对方一番才罢休
- D. 小王正在赶路，旁边车子中飞出一个纸团突然落在他的挡风玻璃上，小王十分生气，他猛按喇叭，嘴里骂个不停

【答案】B。解析：

路怒症定义要点为：①机动车驾驶者；②行车过程中；③因焦躁、愤怒产生攻击性的行为。B 项老陈并不是机动车驾驶者，不符合定义要点①。因此 B 项当选。

第五部分 资料分析

（共 20 题，参考时限 25 分钟）

下列给出的文字、表格、图形资料均有 5 个问题要你回答，你应根据资料提供的信息进行分析、计算、处理，然后从备选答案中选择一个最恰当的答案。

一、根据以下资料，回答 111~115 题。

2015 年 1~7 月，我国机电产品出口额 44359.4 亿元，同比增长 1.2%，占出口总额的 57.2%。其中，

电器及电子产品出口 19373.1 亿元，同比增长 4.1%；机械设备出口 12865.6 亿元，同比下降 6.6%。同期，服装出口 5709.9 亿元，同比下降 6.4%；纺织品出口 3825.5 亿元，同比下降 1.7%；鞋类出口 1901.7 亿元，同比下降 1.9%；家具出口 1883.7 亿元，同比增长 7.6%；塑料制品出口 553.7 万吨，出口额 1293.3 亿元，出口量同比增长 2.9%，出口额同比增长 2.3%；箱包及类似容器出口 166.9 万吨，出口额 998.9 亿元，出口量同比下降 3.8%，出口额同比增长 8.0%；玩具出口 465.0 亿元，同比增长 11.0%。上述 7 大类劳动密集型出口额合计同比下降 1.3%。此外，肥料出口 1957.3 万吨，出口额 366.1 亿元，出口量同比增长 54.7%，出口额同比增长 62.7%；钢材出口 6213.2 万吨，出口额 2319.5 亿元，出口量同比增长 26.6%，出口额同比下降 2.6%；汽车出口 44.5 万辆，出口额 411.0 亿元，出口量同比下降 13.6%，出口额同比下降 4.5%。

111. 2015 年 1~7 月，我国出口总额为（ ）。

- A. 63534.0 亿元 B. 77551.4 亿元 C. 82907.1 亿元 D. 95772.7 亿元

【答案】B。解析：

2015 年 1~7 月我国机电产品出口额 44359.4 亿元，占总额的 57.2%，因此 1~7 月出口总额为 44395.4/57.2%，估算得 7 亿元左右，选择 B 项。

112. 2015 年 1~7 月，我国下列商品出口额同比下降最多的是（ ）。

- A. 机械设备 B. 服装 C. 钢材 D. 汽车

【答案】A。解析：

机械设备同比下降 6.6%，服装同比下降 6.4%，钢材同比下降 2.6%，汽车同比下降 4.5%。

113. 2015 年 1~7 月，我国下列出口商品平均价格同比上涨最多的是（ ）。

- A. 塑料制品 B. 箱包及类似容器 C. 肥料 D. 汽车

【答案】B。解析：

塑料制品出口量同比增长 2.9%，出口额同比增长 2.3%；箱包及类似容器出口量同比下降 3.8%，出口额同比增长 8.0%；肥料出口量同比增长 54.7%，出口额同比增长 62.7%；汽车出口量同比下降 13.6%，出口额同比下降 4.5%。平均价格为出口额除以出口量，比较平均价格同比变化，可简化为比较出口额和出口量之间的差值变化，即出口额增长幅度 - 出口量增长幅度。因此塑料制品为 -0.9%，箱包及类似容器为 11.8%，肥料为 8.0%，汽车为 9.1%，因此选择 B 项。

114. 2015 年 1~7 月，我国服装、纺织品、鞋类、家具、塑料制品、箱包及类似容器、玩具出口额合计为（ ）。

- A. 13576.1 亿元 B. 14087.2 亿元 C. 16078.0 亿元 D. 18079.3 亿元

【答案】C。解析：

将每项出口额末尾数字相加，最后得到 0，可得 C 项符合。

115. 下列判断不正确的是（ ）。

- A. 2014 年 1~7 月，我国玩具出口额少于 422 亿元
B. 2015 年 1~7 月，我国肥料出口量和出口额同比增长均超过 50%
C. 2015 年 1~7 月，我国 7 大类劳动密集型产品中，多数出口额同比有所增长
D. 2015 年 1~7 月，我国电器及电子产品和机械设备出口额同比平均增长 1.3%

【答案】D。解析：

A 项，2014 年 1~7 月，我国玩具出口额为 $465 \div (1+11\%) \approx 41 < 422$ （亿元），该项正确，排除。
B 项，我国肥料出口量同比增长 54.7%，出口额同比增长 62.7%，均超过 50%，该项正确，排除。
C 项，7 大类中，家具、塑料制品、箱包及类似容器、玩具 4 类出口额同比均有所增长，该项正确，

排除。

D项,根据“电器及电子产品出口19373.1亿元,同比增长4.1%;机械设备出口12865.6亿元,同比下降6.6%”, $[4.1\% + (-6.6\%)] \div 2 = -1.25\%$,因此两者的平均增速接近-1.25%。又 $19373.1 > 12865.6$,因此两者的平均速度应该介于-1.25%与4.1%之间,略大于-1.25%。可知该项说法错误,当选。

二、根据以下资料,回答116~120题。

为了解城镇棚户区改造情况,国家统计局社情民意调查中心2015年选取了20个省(市、区)城镇棚户区的10100位居民进行调查,调查显示,对于棚户区配套公共服务设施改造状况,受访棚户区居民中23.4%表示“满意”,40.2%表示“基本满意”,具体调查结果见下表:

受访棚户区居民对配套公共服务设施改造状况的评价 单位: %

棚户区类型	国有工矿	国有垦区 (农场)	国有林区 (林场)	城中村	城市危房	其他
满意	21.8	36.5	27.5	22.6	23.0	24.8
基本满意	39.8	38.3	49.6	41.3	38.9	36.5
不满意	15.9	13.7	15.3	16.7	12.2	9.3
不清楚	22.5	11.5	7.6	19.4	25.9	29.4

116. 各类棚户区中,表示“满意”,“基本满意”的受访居民之和占本类棚户区受访居民总数的比重最高的是()。

- A. 国有林区(林场) B. 国有垦区(农场) C. 国有工矿 D. 城中村

【答案】A. 解析:

直接观察图,国有工矿为61.6%,国有垦区为74.8%,国有林场为77.1%,城中村为63.9%。因此选择A项。

117. 表示“满意”“基本满意”的受访棚户区居民数之和比表示“不满意”“不清楚”的居民数之和多()。

- A. 2508 B. 2617 C. 2747 D. 3676

【答案】C. 解析:

文字中提到23.4%和40.2%共63.6%居民表示“满意”和“基本满意”,因此有36.4%居民表示“不满意”和“不清楚”。因此 $(63.6\% - 36.4\%) \times 10100 = 2747$ 人。因此答案选C。

118. 各棚户区类型中,表示“满意”的受访居民数比表示“不满意”的多1倍及以上的棚户区类型有()。

- A. 1个 B. 2个 C. 3个 D. 4个

【答案】B. 解析:

观察图表可知,表示“满意”比“不满意”多一倍以上的国有垦区,和其他共2个。

119. 各类棚户区中,表示“不清楚”的受访居民数占本类棚户区受访居民总数的比重最多相差()。

- A. 12.7个百分点 B. 16.9个百分点 C. 21.8个百分点 D. 29.4个百分点

【答案】C. 解析:

表示“不清楚”的居民最少为国有林场——7.6%,最多为其他——29.4%,相差21.8%。因此答案为C。

120. 下列判断正确的是 ()。

- A. 各类棚户区受访居民给出的评价中, 占比最少的均是“不满意”
- B. 各类棚户区都有 65% 以上的受访居民表示“满意”“基本满意”
- C. 国有垦区(农场)与国有林区(林场)的受访棚户区居民之和少于 5050 人
- D. 各类棚户区受访居民中, 表示“基本满意”的人数均多于“不满意”“不清楚”的居民之和。

【答案】C。解析:

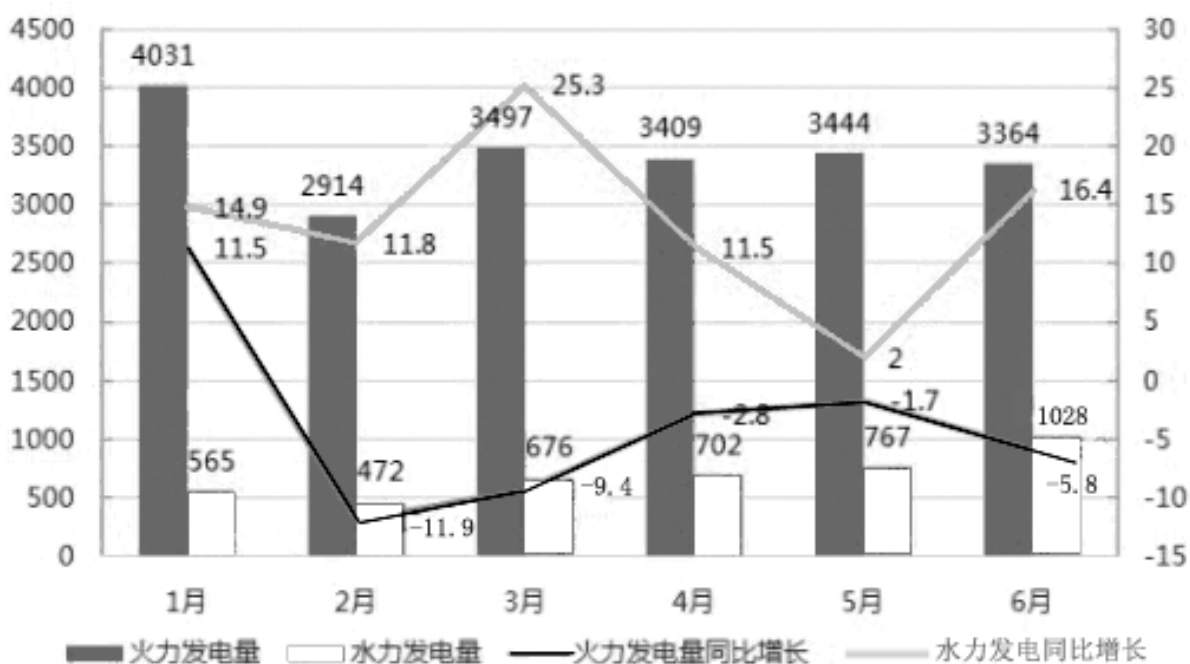
A 项错误, 国有垦区占比最少是“不清楚”; B 项错误, 国有工矿只有 61.6% 居民表示“满意”“基本满意”; D 项错误, 其他中, “基本满意”小于“不满意”和“不清楚”之和。

三、根据以下资料, 回答 121~125 题。

2013 年第一季度至 2014 年第四季度我国发电量情况 (单位: 亿千瓦 / 小时)

	时间	发电总量	水力发电量	火力发电量
2013	第一季度	11823	1306	10006
	第二季度	12519	1985	9949
	第三季度	14347	2552	11161
	第四季度	13763	2047	11037
2014	第一季度	12719	1453	10782
	第二季度	13444	2265	10582
	第三季度	14592	3442	10377
	第四季度	13883	2284	10677

2015 年 1-6 月 我国火力、水力发电量及其增长情况



121. 2015 年 1~6 月我国火力发电量少于上年同期的月度个数是 ()。

- A. 3 B. 4 C. 5 D. 6

【答案】C。解析：

观察可知 2015 年 1-6 月火力发电量少于上年同期的月度增长率必然是负的，则有 2 月、3 月、4 月、5 月和 6 月，共 5 个月。

122. 2014 年我国季度发电量同比增长最慢的是（ ）。

- A. 第一季度 B. 第二季度 C. 第三季度 D. 第四季度

【答案】D。解析：

第一季度降低 1000 亿千瓦小时左右，增速为 $-1000/13763$ 。第二季度增长 700 亿千瓦小时左右，增速为 $700\div 12719$ 。第三季度增长 1100 左右，增速为 $1100/13444$ 。第四季度降低 700 亿千瓦小时左右，增速为 $-700/14592$ 。显然 D 项增长最慢，当选。

123. 2015 年第二季度我国火力发电量比上年同期少（ ）。

- A. 232 亿千瓦/小时 B. 260 亿千瓦/小时
C. 340 亿千瓦/小时 D. 365 亿千瓦/小时

【答案】D。解析：

2015 年第二季度我国火力发电量为 $3409+3444+3364=10217$ ，比同期减少 365。选择 D 项。

124. 如果 2015 年 7~11 月我国水力发电量的月平均增速与 2015 年 2~6 月保持相同，则 2015 年 11 月我国水力发电量可达（ ）。

- A. 1390 亿千瓦/小时 B. 1870 亿千瓦/小时
C. 2063 亿千瓦/小时 D. 2239 亿千瓦/小时

【答案】B。解析：

2015 年 2~6 月的发展速度为 $1028/565$ ，那么 2015 年 7~11 月的发展速度也为 $1028/565$ ，则 2011 年水力发电量可达 $1028\times 1028/565 < 1028\times 2=2056$ （亿千瓦/小时），可得 B 项最符合。

125. 下列判断不正确的是（ ）。

- A. 2014 年有三个季度的水力发电量占发电总量的比重不超过 20%
B. 2013~2014 年我国各个季度火力发电量占发电总量的比重均超过 70%
C. 2015 年上半年我国水力与火力发电量各月同比增长的方向均相反
D. 2013 年第二季度到 2015 年第二季度我国水力发电量有四个季度环比减少

【答案】C。解析：

A 项，2014 年第一、二、四季度水力发电量占总发电量的比重均不到 20%，而第三季度的比重超过 20%，可知该项说法正确，排除。

B 项，2013~2014 年各个季度中占比最小的是 2014 年第三季度，其为 $10377\div 14592\approx 10377\div 14600 > 70%$ ，可得各个季度的占比均大于 70%，该项说法正确，排除。

C 项，2015 年 1 月水力和火力发电量均有所增长，增长方向相同，可得该项说法错误，当选。

D 项，2013 年第四季度、2014 年第一季度、2014 年第四季度、2015 年第一季度这四个季度环比有所减少，可得该项说法正确。

四、根据以下资料，回答 126~130 题。

2015 年 7 月，D 市共监测电视、广播、平面和重点网络媒体首页面广告 297207 条次，涉嫌违法广告 594 条次，广告涉嫌违法率 0.20%，比 6 月下降 0.07 个百分点。

表 1 2015 年 7 月 D 市监测各类媒体广告概况

单位：条次

媒体类型	监测量	涉嫌违法量	涉嫌违法率
电视	157860	88	0.06%
广播	63299	10	?
平面	62134	496	0.080%
网络	13914	0	0.00%
合计	297204	594	0.20%

表 2 2015 年 7 月广告涉嫌违法量居前十位的商品、服务类别

单位：条次

商品服务类别	监测量	涉嫌违法量	涉嫌违法率
医疗诊疗服务	1692	185	10.93%
人用药品	6941	107	1.54%
医疗美容	428	63	14.72%
医疗器械	1969	59	3.01%
其它食品类	2002	40	2.00%
保健食品	7959	35	0.44%
房地产	2257	35	1.55%
保健用品	52	19	36.54%
报刊书籍	2077	16	0.77%
卫生消毒用品	39	8	20.51%

126. 2015 年 7 月，平均每日监测到平面媒体涉嫌违法广告约多少条次（ ）

- A. 16 B. 17 C. 19 D. 20

【答案】A。解析：

根据表格当中数据，有 2015 年 7 月，平均每日监测到平面媒体涉嫌违法广告的条数约为 $496 \div 31 \approx 16$ ，故本题答案为 A 选项。

127. 表 1 中“？”处应当填写的数字是（ ）

- A. 0.005% B. 0.02% C. 0.04% D. 0.08%

【答案】B。解析：

根据比重=部分÷整体，根据表格当中数据，表格中“？”处的数据为 $10 \div 63299 \approx 0.02\%$ 。故本题答案为 B 选项。

128. 在 2015 年 7 月广告涉嫌违法量居前十位的商品、服务类别中，有几类涉嫌违法率高于 10%（ ）

- A. 1 B. 2 C. 3 D. 4

【答案】D。解析：

根据表中数据，在 2015 年 7 月广告涉嫌违法量居前十位的商品、服务类别中，涉嫌违法率超过 10% 的有：医疗诊疗服务、医疗美容、保健用品、卫生消毒用品等这四类。故本题答案为 D 选项。

129. 2015 年 7 月广告涉嫌违法量居前十位的商品、服务类别中，监测量最多的 3 个类别涉嫌违法量之

和约占所有广告总涉嫌违法量的（ ）

- A. 一成左右 B. 二成左右 C. 三成左右 D. 四成左右

【答案】C。解析：

比重 = 部分量 ÷ 整体量

根据表格中数据，在 2015 年 7 月广告涉嫌违法量居前十位的商品、服务类别中，监测量最多的前 3 个类别为：保健食品、人用药品、房地产，其涉嫌违法量分别为：35、107、35 而所有广告总涉嫌违法量为 594，故所求答案为： $(35 + 107 + 35) \div 594 \approx 0.3$ 。结合选项，故本题答案为 C 选项。

130. 能够从上述资料中推出的是（ ）

- A. 2015 年 6 月，广告涉嫌违法率为 0.13%
B. 2015 年 7 月，电视广告监测量占广告总监测量的四成式
C. 2015 年 7 月，大部分涉嫌违法的医疗诊疗服务广告出现在非电视媒体中
D. 2015 年 7 月，表 2 中监测量最低的商品、服务类别广告涉嫌违法率约为监测量最高的 14 倍

【答案】C。解析：

A 选项，根据第一段，2015 年 7 月，广告涉嫌违法率为 0.20%，比 6 月下降了 0.07 个百分点，则 2015 年 6 月，广告涉嫌违法率为 $0.20\% + 0.07\% = 0.27\%$ ，A 选项错误；

B 选项，根据表格中数据，则 2015 年 7 月，电视广告监测量占广告总监测量的比重为 $157860 \div 297207 \approx 0.53$ ，即五成多，B 选项错误；

C 选项，根据表中数据，涉嫌违法的医疗诊疗服务广告为 185，而电视媒体总的涉嫌违法量为 88，故大部分涉嫌违法的医疗诊疗服务广告出现在非电视媒体中，C 选项正确；

D 选项，根据表中数据，在 2015 年 7 月广告涉嫌违法量居前十位的商品、服务类别中监测量最低的为：卫生消毒用品，其涉嫌违法率为 20.51%，监测量最高的为：保健食品，其涉嫌违法率为 0.44%，则 $20.5\% \div 0.44\% \approx 47$ ，D 选项错误。

结合选项，故本题答案为 C 选项。

全部测验到此结束！

请扫描QQ二维码，备注“公务员考生”加QQ
好友，获取曹长远老师精解历年公务员考试申论、
行测、面试真题完整解析资料。

精品资料，尽在掌握！

