

2019年3月23日江苏省公务员考试

《行政职业能力测验》真题（A）答案解析

说明

一、此项测验分为五个部分，共135题，总时限120分钟，满分100分。各部分不分别计时，但都给出了参考时限，供你参考以分配时间。

二、请按照要求在答题卡上填写好自己的姓名，涂写好准考证号。

三、必须在答题卡上答题；在题本上答题，一律无效。

严禁折叠答题卡。

第一部分 常识判断

根据题目要求，从四个选项中选出一项最恰当的答案。

1. 党的十八大以来，党中央团结带领全党全国各族人民，深刻回答了重大时代课题，形成了习近平新时代中国特色社会主义思想。关于习近平新时代中国特色社会主义思想，下列表述正确的是：

①根本立场是以人民为中心，坚持人民主体地位

②核心要义是坚持和发展中国特色社会主义

③精髓是为人民谋幸福、为民族谋复兴、为世界作贡献

④理论特色是体现了理论与实际相结合、战略和战术相一致

A. ①②③

B. ①③④

C. ②③④

D. ①②③④

【答案】D。解析：

①正确，习近平新时代中国特色社会主义思想始终强调“以人民为中心”的根本立场。坚持以人民为中心的发展思想，是习近平新时代中国特色社会主义思想的核心价值取向，是对马克思主义人民观的继承和发展，与中国共产党的初心一脉相承。

②正确，坚持和发展中国特色社会主义，是改革开放以来我们党全部理论和实践的鲜明主题，是习近平新时代中国特色社会主义思想的核心要义。

③正确，习近平新时代中国特色社会主义思想的精髓是为人民谋幸福、为民族谋复兴、为世界作贡献，集中反映了当代中国共产党人的人民立场、民族报负、世界责任。

④正确，《习近平新时代中国特色社会主义思想三十讲》指出：“八个明确”、“十四个坚持”有机融合、有机统一，凝结着我们党坚持和发展中国特色社会主义的经验总结，凝结着以习近平同志为核心的党中央对中国特色社会主义规律认识的深化、拓展、升华，体现了理论与实际相结合、战略与战术相一致、认识论和方法论相统一的理论特色。

所以，正确选项是D。

2. 改革开放40多年来，中国人民在富起来、强起来的征程上迈出了决定性的步伐，一些经济指标已处于世界前列。下列指标中我国处于世界首位的是：

A. 货物贸易额

B. 商品消费额

C. 外资流入额

D. 黄金储备量

【答案】A。解析：

2018年12月18日，庆祝改革开放40周年大会在人民大会堂举行。习近平出席大会并讲话指出：“现在，我国是世界第二大经济体、制造业第一大国、货物贸易第一大国、商品消费第二大国、外资流入第二大国，我国外汇储备连续多年位居世界第一，中国人民在富起来、强起来的征程上迈出了决定性的步伐！”

所以，正确选项是A。

3. 2019年1月3日，嫦娥四号探测器在月球背面成功着陆，并与玉兔二号巡视器顺利分离，实现了多个国际首次。对此，下列说法不正确的是：
- A. 首次进行了月基低频射电天文观测
 - B. 首次在月球背面软着陆和巡视探测
 - C. 首次实测了月球表面浅层月壤温度
 - D. 首次实现地球和月球背面的中继通信

【答案】C。解析：

C项错误。2019年1月14日，在第一个月夜降临后，嫦娥四号着陆器和玉兔二号探测器陆续进入了休眠状态。在休眠期间，着陆器上配置的同位素温差电池为月夜温度采集器供电，该采集器于测点位置成功监测第一月夜温度变化情况，月表温度在月夜期间最低达到 -190°C 。这是我国探月工程首次获取月夜温度探测数据，也是国内首次实测月夜期间浅层月壤温度，但并不是国际上首次。因此C项错误。

所以，正确选项是C。

4. 今年是中华人民共和国成立70周年。下列对中华人民共和国成立意义的表述，正确的是：
- ①标志着新民主主义社会的结束
 - ②基本完成了民族独立和人民解放的任务
 - ③为实现中华民族的伟大复兴开辟了新纪元
 - ④为中国的进步和发展创造了最重要的前提
- A. ①②③
 - B. ①③④
 - C. ②③④
 - D. ①②③④

【答案】C。解析：

①错误，1949年10月新中国成立，标志着我国进入到新民主主义社会。到1956年社会主义改造基本完成，标志着新民主主义社会结束。

②③④表述正确。

所以，正确选项是C。

5. 1919年爆发的五四运动，是中国近代史上一个划时代的事件。下列关于五四运动的表述，正确的是
- A. 直接导火线是第一次世界大战的爆发
 - B. 具备了旧民主主义革命的一些基本特点
 - C. 青年学生在五四运动中发挥了决定性的作用
 - D. 为中国共产党成立作了思想和干部上的准备

【答案】D。解析：

A项错误。五四运动的直接导火线是中国在“巴黎和会”上的外交失败。1919年召开的巴黎和会将战前德国在山东的特权转交给日本，严重损害了中国的利益，消息传到国内，引发了五四运动。

B项错误。五四运动是中国新民主主义革命的开端，在此之前的近代以来的资产阶级民主革命为中

国的旧民主主义革命。新民主主义革命是无产阶级领导的、人民大众的、反对帝国主义、封建主义、官僚资本主义的革命。而旧民主主义革命是资产阶级领导的，以建立资产阶级共和国为目的的资产阶级民主革命。因此，五四运动不具有旧民主主义革命的特点。

C 项错误。工人阶级在五四运动中发挥了决定性的作用，青年学生发挥了先锋作用。

D 项正确。五四运动传播了马克思主义，为中国共产党的成立作了思想和干部上的准备。

所以，正确选项是 D。

6. 2018 年 12 月召开的中央经济工作会议指出，当前我国经济运行稳中有变、变中有忧，宏观政策要强化逆周期调节。下列属于逆周期调节措施的是：

A. 财政部决定 2019 年适度降低地方政府专项债券规模

B. 生态环境部拟在 2019 年完成 2.5 万个建制村的环境综合整治任务

C. 发改委 2019 年要推动 1 亿非户籍人口在城市落户工作取得明显进展

D. 中国人民银行宣布 2019 年 1 月下调金融机构存款准备金率 1 个百分点

【答案】D。解析：

央行宣布下调金融机构存款准备金率 1 个百分点，意味着商业银行需要存放在央行的货币减少了，即留在商业银行的货币增加了，那么，市场上流通的货币将会增加，就会起到带动内需，刺激经济增长的作用。当前我国经济正处于下滑阶段，需要通过宏观调控来刺激经济增长，强化逆周期调节。因此，D 项属于逆周期调节措施。

所以，正确选项是 D。

7. 下列不属于《中华人民共和国监察法》所规定的监督对象的是：

A. 某居民委员会的主任

B. 某国有企业工会的主席

C. 某农民专业合作社的理事长

D. 某省属高校学报的主编

【答案】C。解析：

《中华人民共和国监察法》第十五条规定：“监察机关对下列公职人员和有关人员进行监察：（一）中国共产党机关、人民代表大会及其常务委员会机关、人民政府、监察委员会、人民法院、人民检察院、中国人民政治协商会议各级委员会机关、民主党派机关和工商业联合会机关的公务员，以及参照《中华人民共和国公务员法》管理的人员；（二）法律、法规授权或者受国家机关依法委托管理公共事务的组织中从事公务的人员；（三）国有企业管理人员；（四）公办的教育、科研、文化、医疗卫生、体育等单位中从事管理的人员；（五）基层群众性自治组织中从事管理的人员；（六）其他依法履行公职的人员。”

A 项正确，符合上述第（五）项的规定。

B 项正确，符合上述第（三）项的规定。

C 项错误，农民专业合作社的理事长不属于公职人员，不属于《监察法》的监督对象。

D 项正确，符合上述第（二）项的规定。

所以，正确选项是 C。

8. 下列情形中，公民基本权利未受侵犯的是：

A. 小学生王某学习成绩很差，其父直接让他辍学去工厂上班

B. 某保安公司招聘夜班保安，在招聘启事中注明“男性优先”

C. 某公司的封闭车间夏季未装空调，小芳在车间工作时汗如雨下发生晕厥

D. 张先生和李女士结婚时约定，李女士有义务为张先生生育两个孩子

【答案】B。解析：

A 项侵犯了公民权利。《宪法》第四十六条第一款规定：“中华人民共和国公民有受教育的权利和义务。”王某的父亲让王某辍学的行为侵犯了王某的受教育权。

B 项未侵犯公民权利。《宪法》第四十八条规定：“中华人民共和国妇女在政治的、经济的、文化的、社会的和家庭的生活等各方面享有同男子平等的权利。国家保护妇女的权利和利益，实行男女同工同酬，培养和选拔妇女干部。”该保安公司在招工时虽然限定了“男性优先”，但并不是“只招男性，不招女性”，因此没有侵犯妇女平等工作的权利。

C 项侵犯了公民权利。《劳动法》第三条第一款规定：“劳动者享有平等就业和选择职业的权利、取得劳动报酬的权利、休息休假的权利、获得劳动安全卫生保护的权利、接受职业技能培训的权利、享受社会保险和福利的权利、请劳动争议处理的权利以及法律规定的其他劳动权利。”劳动者向公司要求工作环境符合劳动环境，是劳动者的基本权利。本项中公司在封闭车间不安装空调导致劳动者晕厥侵犯了劳动者的基本权利。

D 项侵犯了公民权利。《宪法》第四十九条第二款规定：“夫妻双方有实行计划生育的义务”，夫妻双方有计划生育的义务，但是应该尊重和保障女性的生育自由权，夫妻双方约定妻子生育两个孩子的义务侵犯了妻子的生育自由权。

所以，正确选项是 B。

9. 张某在某电子商务平台定做了一张沙发，购买了一盏台灯、一台热水器和一台燃气灶。下列情形中，不符合法律规定的是：

- A. 张某自收到沙发之日起七日内有权退货，且无需说明理由
- B. 张某购买的台灯被快递公司丢失，有权要求卖方重新发货
- C. 张某因热水器缺陷而受伤，有权向生产者或销售者请求赔偿
- D. 张某购买的燃气灶为冒牌货，有权要求平台提供卖方的信息

【答案】A。解析：

A 项不符合法律规定。根据《消费者权益保护法》第二十五条第一款规定：“经营者采用网络、电视、电话、邮购等方式销售商品，消费者有权自收到商品之日起七日内退货，且无需说明理由，但下列商品除外：

- (一) 消费者定作的；
- (二) 鲜活易腐的；
- (三) 在线下载或者消费者拆封的音像制品、计算机软件等数字化商品；
- (四) 交付的报纸、期刊。”

因此，本项中张某定做的沙发不适用“七日无理由退货”。

所以，正确选项是 A。

10. 楚汉相争在我国历史文化中留下了深深的印迹。下列表述不正确的是：

- A. 象棋中的“楚河汉界”源自于这段历史
- B. 成语“破釜沉舟”源于楚汉相争中的一场战役
- C. 琵琶曲《十面埋伏》反映了楚汉垓下决战情形
- D. 诗句“生当作人杰，死亦为鬼雄”以此为题材

【答案】B。解析：

B 项错误。“破釜沉舟”来源于项羽一战成名的巨鹿之战，公元前 207 年，项羽的起义军与秦将章邯率领的秦军主力部队在巨鹿（今河北邢台市）展开大战，项羽不畏强敌，引兵渡漳水，渡河后，项羽命令全

军：“皆沉船，破釜甑，烧庐舍，持三日粮，以示士卒必死，无一还心。”最终，项羽大获全胜。巨鹿一战，是项羽和秦军的一场战役，不是楚汉相争中的战役。

所以，正确选项是 B。

11. 对下列诗句所描写活动的解释，正确的是：

- A. “清风如可托，终共白云飞”描写的是射箭
- B. “平明寻白羽，没在石棱中”描写的是捉迷藏
- C. “嘈嘈切切错杂弹，大珠小珠落玉盘”描写的是弹琵琶
- D. “三五步行遍天下，六七人百万雄兵”描写的是下象棋

【答案】C。解析：

A 项错误。“清风如可托，终共白云飞”出自北宋诗人寇准的《纸鸢》。诗句描写的是风筝，而不是射箭。

B 项错误。“平明寻白羽，没在石棱中”出自唐代诗人卢纶的《塞下曲》。诗句描写的是射箭技艺高超，而不是捉迷藏。

C 项正确。“嘈嘈切切错杂弹，大珠小珠落玉盘”出自唐代诗人白居易的《琵琶行》。诗句描写了琵琶声错落有致，像珍珠掉落玉盘一样清脆动听。

D 项错误。“三五步行遍天下，六七人百万雄兵”描写了京剧表演中成队的随从或兵卒在台上表现大场景的演出特点，描写的是戏台，而不是下象棋。

所以，正确选项是 C。

12. 对下列词语的解释，不正确的是：

- A. 风树之悲——因父母去世而悲伤
- B. 金兰之交——亲如兄弟的友情
- C. 期颐之年——八、九十岁的年龄
- D. 弄璋之喜——生了男孩的喜庆

【答案】C。解析：

C 项错误。“期颐之年”出自《礼记·曲礼上》中“百年曰期颐”一句，意为百岁老人饮食起居不能自理，一切需期待别人供养或照顾。因此，“期颐之年”指的是一百岁，而不是八、九十岁。

所以，正确选项是 C。

13. 下列成语与经济学用语对应不恰当的是：

- A. 凿壁偷光——外部性
- B. 郑人买履——机会成本
- C. 扬长避短——比较优势
- D. 狡兔三窟——投资组合

【答案】B。解析：

A 项正确。外部性，指一个人或一群人的行动和决策使另一个人或一群人受损或受益的情况。其中，正外部性是某个经济行为使他人或社会受益，而受益者无须花费代价，负外部性是某个经济行为使他人或社会受损，而造成负外部性的人却没有为此承担成本。“凿壁偷光”讲的是西汉匡衡的故事。匡衡勤奋好学，但家中没有蜡烛，邻家有蜡烛，可光亮照不到他家，于是匡衡就在墙壁上凿了洞引来邻家的光亮，照在书上读书。“凿壁偷光”体现的是邻居家的光亮使匡衡受益，符合正外部性的原理。

B 项错误。机会成本是指当把一定的经济资源用于生产某种产品时，放弃的另一些产品生产上最大的收益。“郑人买履”说的是郑人因过于相信“尺度”，造成买不到鞋子的故事，揭示了郑人拘泥教条，

依赖数据的错误习惯，讽刺了那些墨守成规的教条主义者，说明因循守旧，不思变通，终将一事无成。因此“郑人买履”与机会成本的对应不恰当。

C项正确。比较优势是指一个生产者以低于另一个生产者的成本生产一种物品的行为。比较优势广泛应用于各种竞争合作的比较当中，指把有限的时间和精力都用来做自己最擅长的事。扬长避短的意思是发扬长处，回避短处，体现了比较优势的原理。

D项正确。投资组合是由投资人或金融机构所持有的股票、债券、金融衍生产品等组成的集合，目的是分散风险。“狡兔三窟”指狡猾的兔子准备好几个藏身的窝，兔子准备好几个窝也是为了分散风险，与投资组合的理念是一样的。

所以，正确选项是B。

14. 下列关于水资源的说法，不正确的是：

- A. 地球上水资源的主体是咸水
- B. 海洋水与陆地水在不断循环
- C. 地球上水体大多以液态存在
- D. 地球上淡水主体是江河湖水

【答案】D。解析：

D项错误。冰川水是最丰富的淡水资源，蕴藏了地球上所有淡水资源的97.8%。所以，正确选项是D。

15. 下列对有关气候效应的解释，正确的是：

- A. 阳伞效应是指由于天空中大块乌云的阻挡而削弱太阳短波辐射，使气温降低
- B. 热岛效应是指由于城市下垫面特性和人类活动影响，使市区的气温比郊区高
- C. 温室效应是指温室气体透过太阳长波辐射，大量吸收地面短波辐射，使气温升高
- D. 海洋沙漠化效应是指海洋因受周围陆地沙漠化的影响，失去了对气温的调节功能

【答案】B。解析：

A项错误。阳伞效应是指由于大气中固、液体粒子对太阳辐射的强烈阻挡作用，而使地表气温降低的现象。而不是指由于天空中大块乌云的阻挡而削弱太阳短波辐射，使气温降低。

B项正确。热岛效应是指城市气温较四周郊区为高，好像一个炎热的岛屿分布于郊区农村较凉的“海洋”之中。其形成原因主要是：人类活动导致有大量人为热释放；产生污染物质增多，加强了大气保温作用；下垫面吸收的辐射热量多等。

C项错误。温室效应是指由于地球表面空气中的二氧化碳等温室气体浓度增加，而导致地表附近气温的升高的现象。而不是指温室气体透过太阳长波辐射，大量吸收地面短波辐射，使气温升高。

D项错误。海洋沙漠化效应是指倾注到海洋中的废油在海面形成油膜，抑制海水蒸发，同时又减少海面潜热的转移，使海洋上的空气变得愈来愈干燥，被形象地称为“海洋沙漠化”。而不是指海洋因受周围陆地沙漠化的影响。

所以，正确选项是B。

第二部分 言语理解与表达

一、片段阅读。每道题包含一段文字，要求你从四个选项选出最恰当的一项，你的选择必须与题干要求相符合。

16. 财政作为国家治理的基础和重要支柱，对促进科技创新具有重要的支撑、引领、提升与保障作用。具体来看，财政政策可以通过有的放矢的精准化财政投入，为科技创新输入供给端推力；通过有扶有控的差异化税收优惠通道，为科技创新构筑引导性激励；通过导向明确的选择性政府采购渠道，

为科技创新设定需求端拉力。

这段文字重点说明的是：

- A. 财政政策促进科技创新的主要途径
- B. 财政政策在科技创新中的提升作用
- C. 财政政策对科技创新所产生的影响
- D. 财政政策制定要考虑科技创新需要

【答案】A。解析：

概括主旨。

证明结构，强调的是论点而不是论据。

文段首先提出论点，指出财政对于科技创新有重要的支撑、引领、提升、保障作用，然后用“具体来看”引出具体论据，通过三个并列的分句详细说明财政如何促进科技创新。因此文段重在说明财政政策促进科技创新的途径，对应 A 项当选。

B 项“提升作用”表述片面，文段中说明还有引领、保障、支撑作用，排除。

C 项“所产生的影响”表述不明确，“影响”可以是积极的作用也可以是消极的作用，文段中为积极的作用，排除。

D 项“要考虑科技创新的需要”，文段没有提及，属于无中生有，排除。

所以，正确选项是 A。

17. 在整个地图学史上，有效使用地图意味着看懂绘制在平面上的一系列抽象符号，然后将这些符号与当地环境的各种三维特征联系起来，从而成功地确定自己的位置。但这并不是所有普通人都能够做到的，而且不久之前，地图本身也还是一种稀缺的人工制品，有些地图还属于军事上敏感的机密。但是，能够在手机屏幕上看到的地图改变了这一切。

这段文字重在说明：

- A. 地图学发展经历了漫长的历史过程
- B. 地图绘制使用中存在诸多技术难题
- C. 智能手机的出现促进了地图学发展
- D. 智能手机大大提升了人类生活质量

【答案】C。解析：

概括主旨。

转折结构，强调的是转折后面的内容。

文段开篇介绍在地图学的历史上，有效使用地图对人们的要求极高。然后“但”表转折，强调地图还是一种稀缺品，不是所有人都能看到地图。尾句“但是”表转折，强调手机上的地图改变了这一情况。因此文段重在强调手机上的地图改变了原来的情况，使所有人都能看到、看懂地图，对应 C 项当选。

A 项和 B 项没有提及文段的重点“手机”，排除；

D 项没有提及“地图”这一核心话题，且“提升了人类生活质量”属于无中生有，排除。

所以，正确选项是 C。

18. 在日益现代化的时代，数字化全智能工业和目前的大工业是社会发最仰赖的生产力，手工艺作为人类古老的生产、生活方式也能发挥它的经济辅助作用，但它的文化功能意义将日益凸显。类似于精神乌托邦的不可或缺，手工艺的存在将给现代人提供复归淳朴人性、回望人类童年的机会，传统工艺的振兴也将开启现代生活与文化创造的新境。

这段文字意在强调：

- A. 手工艺能够对经济发展起到辅助作用

- B. 现代社会手工艺生产方式是不可或缺的
- C. 文化创造与传统手工艺有着密切的关系
- D. 手工艺的存在更在于其文化功能意义

【答案】D。解析：

推断文意。

转折结构，强调的是转折后面的内容。

文段开篇引出话题，说明在数字化的工业时代，手工艺虽然也能发挥自身的经济作用，“但”表转折，转折之后强调手工艺的文化功能日益凸显。后文介绍了手工艺存在的文化功能有哪些。总结全文，文段的重点在于转折之后，即手工艺的存在更在于它的文化功能，D项符合文意当选。

A项“对经济发展起到辅助作用”对应转折之前的内容，非重点，排除；

B项“手工艺生产方式是不可或缺的”表述不明确，没有强调其“文化功能”，与文段不符，排除；

C项“文化创造”表述片面，仅仅对应文段“文化功能”的一方面，与文意不符，排除。

所以，正确选项是D。

19. ①可以说，手术同意书的签署过程，是一次医疗实践过程中极其重要的医患沟通环节。
- ②主要的意义在于，要使医生养成对患者高度负责、保护患者健康和生命的工作作风，在临床实践中尽力避免医疗伤害。
- ③在医学伦理中，知情同意权的本质，体现在尊重原则与不伤害原则。
- ④患者在充分知悉相关信息之后，有权就自己的疾病如何处置作出理性的决定。
- ⑤在尊重原则中，除了对患者生命价值的尊重外，更主要的其实是尊重患者的医疗自主权。
- ⑥而不伤害原则的意思，并不是要求医生在所有的医疗行为中避免一切医源性的伤害，这样的要求在当下不太现实。

将以上6个句子重新排列，语序正确的是：

- A. ①-③-⑥-②-⑤-④
- B. ③-④-⑥-②-①-⑤
- C. ①-②-③-⑤-④-⑥
- D. ③-⑤-④-⑥-②-①

【答案】。解析：

对比选项发现，③“尊重原则与不伤害原则”属于并列结构，应先论述“尊重原则”，再论述“不伤害原则”，⑤提及“尊重原则”，⑥提及“不伤害原则”、②“避免医疗伤害”也为“不伤害原则”，故⑤应在⑥、②之前。只有D项符合要求。

所以，正确选项是D。

20. 生态文明首先是一种世界观，也就是如何看待人与自然和人与人之间的关系。实际上，人与自然的关系和人与人之间的关系是同一事物的相互映衬，同时，人与自然的关系也在一定程度上决定了人与人之间的关系。当人与自然关系紧张，如一定的自然资源和生态环境承载不了已有的人口数量时，就会产生人与人之间关系的对抗。

下列说法与文意不符的是：

- A. 人与自然的和谐相处事实上有利于协调人与人之间的关系
- B. 处理好人与人的关系比处理好人与自然之间的关系更为重要
- C. 正确的世界观可以引导我们处理好人与人及人与自然的关系
- D. 人与人的关系发生对抗可能和人与自然关系的紧张相关

【答案】B。解析：

细节对比。

B 项不符。B 项所谓“比……更为重要”涉及比较，而文段并未将人与人的关系、人与自然的关系进行对比。因此 B 项属于无中生有，错误。

所以，正确选项是 B。

21. 实施节能目标责任制和考核评价制度，实际上建立了一种科层制的节约能源监管模式，意味着节能工作地方政府负总责制度的确立。其特色是将节能工作与地方政府的人事考核评价制度挂钩，目的是以政府为主导，为推进地方开展节能工作，提供强大的政治动力。而节能减排市场化则是充分赋予节能企业（或者其他单位）自主性，以发挥市场在资源配置中的决定性作用。

这段文字接下来最有可能讨论的是：

- A. 如何有效实施节能减排市场化
- B. 为什么要实施节能减排市场化
- C. 如何有效推进节能目标责任制
- D. 人事考评如何与节能减排挂钩

【答案】A。解析：

这类“接下来最有可能讨论”的题目必须重点关注文段尾句，承上启下。

文段尾句“而节能减排市场化则是……”将话题转到“节能减排市场化”上，论述了节能减排市场化的意义、作用。根据承上启下的要求，后文应与尾句核心话题一致，故排除 C、D 两项。

A、B 项均围绕“节能减排市场化”展开论述，但 B 项“为什么要实施……”对应文段尾句，节能减排市场化的原因属于前文已经论述过的，后文不必再述，排除 B 项。

所以，正确选项是 A。

22. 当前，乡村间或是城乡间的交流日益增加，因拆迁、移居等因素在新区域形成新的社区群体，乡村正面临“去熟人化”阶段。用一种共通的地域文化将其联系起来，是乡村治理的有效形式。从历史上看，以血缘或是某种被认可的文化组织起来的群体，具有很强的生命力和稳定性。在一定层面上，乡村社会关系，乡村冲突的调适与乡村社会秩序的维系不仅仅靠法制体系，而且还依靠乡村礼俗、村社伦理、村规乡约等非正式制度。

这段文字主要强调：

- A. 乡村社会秩序的历史渊源与当下处境
- B. 当下乡村社会秩序发生变化的主要原因
- C. 新的乡村社会秩序维护需要探寻更有效的治理方法
- D. 乡村治理实践中非正式制度往往比法律手段更有效

【答案】C。解析：

概括主旨。

问题对策结构，强调的是对策而不是问题。

文段开篇指出乡村因拆迁、移居等因素在新区域形成新的社区群体，正面临“去熟人化”的问题，最后提出对策：乡村社会关系等不仅要靠法制体系，还要靠村规乡约等非正式制度。因此文段重点强调乡村社会秩序维护需要探寻法律之外新的更有效的治理方法，对应 C 项当选。

A 项对应首句背景引入的内容，并非文段重点，排除；

B 项“主要原因”文中没有提到，属于无中生有，排除；

D 项表述错误，文中没有将非正式制度与法律手段的有效性进行比较，排除。

所以，正确选项是 C。

23. 读了大量的唐代诗人传记之后，发现中唐以前的诗人大多狂傲之士，自炫、自夸、自矜、自傲是一种稀松平常的事。杜甫应该是一个温厚谨重的人，但自夸起来一点也不含糊：“甫昔少年日，早充观国宾。读书破万卷，下笔如有神。赋料扬雄敌，诗看子建亲。”李白的“我本楚狂人，凤歌笑孔丘”“仰天大笑出门去，我辈岂是蓬蒿人”“安能摧眉折腰事权贵，使我不得开心颜”，大家耳熟能详。“天子呼来不上船，自称臣是酒中仙”，虽然出自杜甫笔下，却与李白的个性可谓合榫合卯，堪称知音。

根据文意，作者对李杜诗中表现出的狂傲之气

- A. 并不意外
- B. 十分欣赏
- C. 略有微词
- D. 有褒有贬

【答案】A。解析：

推断文意。

文段开篇指出中唐以前诗人大多是狂傲之士，指出他们的自炫、自夸、自矜、自傲是稀松平常的这一观点，后面接着列举杜甫和李白的相關作品作为例子进行解释说明，论证前文的观点，故文段为观点+论据的证明结构，

首句“稀松平常”即代表作者的态度，说明作者并不意外，对应A项当选。

B项“十分欣赏”无中生有，文中没有强调作者对他们夸奖称赞，排除；

C项“略有微词”指有一点不满，与文意不符，排除；

D项“有褒有贬”指有肯定也有否定，文中没有不满否定之意，排除。

所以，正确选项是A。

24. 根据新的刑事证据规则，鉴定检材的真实性和同一性已经成为鉴定意见转化为定案根据的前提条件。这显然是我国刑事证据制度发生的重大变化。透过这一变化，我们可以发现司法改革的决策者们已经具有了一种新的理论认识：实物证据鉴真是司法鉴定程序启动的前提和基础；未经鉴真过程，任何专业人士对实物证据所作的“司法鉴定意见”都将是没有法律意义的；实物证据作为一种“送检材料”，在其真实性和同一性存在合理疑问的情况下，鉴定意见将不具有作为定案根据的资格。

这段文字中提取的关键词最恰当的是：

- A. 刑事证据 实物证据鉴真 定案根据
- B. 司法改革 司法鉴定意见 定案根据
- C. 鉴定检材 刑事证据制度 司法改革
- D. 证据制度 司法鉴定程序 送检材料

【答案】A。解析：

概括主旨

文段开篇引出新的刑事证据的话题，接着说明我国刑事证据制度的重大变化体现实物证据鉴真的重要性，即实物证据鉴真直接影响实物证据能否成为定案根据。因此文段就是强调“刑事证据制度的重大变化即实物证据鉴真直接影响实物证据能否成为定案根据”，关键词为：刑事证据、实物证据鉴真、定案根据，对应A项当选。

B项、C项“司法改革”对应“司法改革的决策者……”，仅为决策者身份的限定词，非文段核心话题，排除。

D项“证据制度”表述不准确，文段围绕“刑事证据”相关制度规则展开论述，“司法鉴定程序”对应“是司法鉴定程序的启动的前提和基础”，而该句强调的核心话题是“实物证据鉴真”，排除。

所以，正确选项是A。

25. 在照相技术诞生以前，那些已经损坏消失或因种种原因无法收藏的文物，就是依靠墨拓进入研究者的视域的。而且许多文物需要妥善收藏与精心保护，不能反复触碰，通过墨拓，研究者既可以取得研究所需的材料，又能避免多次接触文物，使文物遭受污染或损坏。现代照相技术十分发达，但是细节上的呈现仍然不如墨拓直观清晰。墨拓可以将石刻、古器物上的文字和图案清晰地显现在纸上，供研究者利用。

这段文字主要说明的是：

- A. 墨拓在文物保存文献研究方面比照相技术更为优越
- B. 研究者利用墨拓研究石刻与古器物已具有悠久历史
- C. 墨拓对于研究历史文献与保存文物具有重要的价值
- D. 墨拓对于照相技术在文献研究保护方面具有不同价值

【答案】C。解析：

概括主旨。

并列结构。概括并列结构必须兼顾并列的所有内容。

文段从“照相技术诞生”前后两个阶段，分别阐述了“墨拓”对于文物收藏和保护的重要作用，对应C项当选。

A项，仅为文段后半部分“照相技术诞生”后的对比，属于片面概括，排除；

B项，文段并未论述研究者利用墨拓研究文物的历史，无中生有，排除；

D项，文段重点强调的是“墨拓”对于研究历史文献与保存文物的重要价值，并不是为了与照相技术比较，排除。

所以，正确选项是C。

26. 从顶层设计上，我国工匠精神培育建设需立足于搭建协同保障平台、开展不同主体间的多元对话、建构产教研协同发展机制以及强化职业院校精神培育功能。从协同发展的视角看，我国工匠精神的培养主体亟需根据自身的角色定位与职能属性，强化市场管理制度，培育高品质消费市场，不断完善技术技能人员薪酬体系，构建职业院校、实训中心、企业三站式互动机制。

这段文字意在说明

- A. 我国工匠精神培育的主要策略
- B. 我国工匠精神培育的顶层设计
- C. 必须强化工匠精神培育工作的管理
- D. 搭建协同平台是工匠精神培育重心

【答案】A。解析：

推断文意。

文段开篇“从顶层设计角度”论述了我国工匠精神培育建设的做法，之后“从协同发展角度”论述了我国工匠精神培育主体亟需做什么。因此文段为并列结构，从两个角度论述了我国工匠精神培育当前应该如何做，对应A项当选。

B项“顶层设计”和D项“搭建协同平台”，均仅为文段“顶层设计角度”的内容，表述片面，排除C项，“强化管理”为“协同发展角度”的做法，仅为对策的一方面，片面，排除。

所以，正确选项是A。

27. 在传统文化的早期阶段，文化呈现出一种综合的形态，这种形态成为孕育中国传统医学和古典文学的共同摇篮。在这两个学科尚未独立分离出来的时候，中国传统医学与古典文学之间存在着明显的杂糅现象。无论是诗歌、民歌、民谣，还是市井小调，都是古代医学重要的传播载体。另一方面，

很多医学古籍本身就有着丰富文学价值的作品。在阅读这些古典医学著作时，往往能够体验到文学中的那份必然和深邃。

下列说法与文意不符的是：

- A. 医学和文学在传统文化早期阶段并非泾渭分明
- B. 阅读经典医学古籍可能获得审美体验
- C. 中国传统医学与古典文学植根于共同的文化土壤
- D. 研读古典文学作品是研究传统医学的基础

【答案】D。解析：

细节对比。

A 项，根据文段“在这两个学科尚未独立分离出来的时候，中国传统医学与古典文学之间存在着明显的杂糅现象”可知，文学与医学的界限在传统文化早期并不明显，表述正确，排除；

B 项，根据文段“很多医学古籍本身就是有着丰富文学价值的作品。在阅读这些古典医学著作时，往往能够体验到文学中的那份必然和深邃”可知，阅读医学古籍可体会到文学所展现的美，表述正确，排除；

C 项，根据文段“在传统文化的早期阶段，文化呈现出一种综合的形态，这种形态成为孕育中国传统医学和古典文学的共同摇篮”可知，医学与文学均是基于早期的传统文化，表述正确，排除；

D 项，文段并未陈述古典文学作品是研究传统医学的基础，无中生有，与题干文意不符，当选。所以，正确选项是 D。

28. 国家审计独立性得到充分保障决定了审计法治的实现程度，决定了审计质量水平和审计结果的公正程度，也决定了审计能否在国家治理活动中发挥其“免疫系统”的功能，进而决定审计反腐的使命能否顺利完成。

下列说法与画线部分表述的意义最为相似的是：

- A. 国家审计独立性得到充分保障与否决定了审计法治的实现可能性
- B. 国家充分保障审计独立性与否决定了审计法治的实现程度
- C. 国家审计独立性能否得到充分保障决定了审计法治的实现程度
- D. 国家能否充分保障审计独立性决定了审计法治的实现可能性

【答案】A。解析：

定位画横线句子“国家审计独立性得到充分保障决定了审计法治的实现程度”，根据句子可知，画线部分强调“审计独立性得到充分保障”是“审计法治的实现程度”的基础，“审计独立性”没有得到充分保障，就不可能实现“审计法治”，对应 A 项当选。

B 项，表述错误，“与否”不能决定“实现程度”，“否”的情况下无法实现“审计法治”，排除；

C 项，表述错误，“与否”不能决定“实现程度”，“否”的情况下无法实现“审计法治”，排除；

D 项，主语错误，文段并没有表述“审计独立性”是国家保障的，排除。

所以，正确选项是 A。

29. 在一项研究中，研究者发现由于关于慢阻肺（慢性阻塞性肺炎）的刻板印象根深蒂固，有可能导致罹患这种疾病的女性患者不能被及时确诊。研究者请 192 位医生诊断一批中年患者，他们是长期咳嗽以及有吸烟史的男性或女性。在初次检查中，只有 49% 的女性患者被诊断为慢阻肺，而男性患者则达到了 64.6% 的诊断率。随后，研究者提供了指向慢阻肺的医学检验报告，这时诊断率的性别差距缩小了，但仍然没有完全消失。

文段中“刻板印象”指的是：

- A. 女性患慢阻肺疾病的可能性较小

- B. 女性患慢阻肺不容易被诊断
- C. 男性由于吸烟史导致患慢阻肺
- D. 男性慢阻肺很容易被诊断

【答案】A。解析：

“刻板印象”出现在文段首句。首句说刻板印象会导致罹患慢阻肺的女性患者不能被及时确诊，后文又通过列举研究数据论述了刻板印象导致的结果即女性被诊断为慢阻肺的比率明显低于男性，能够导致这种结果的原因是“人们具有女性患慢阻肺疾病的可能性较小”这样的观念。因此“刻板印象”就是指“女性患慢阻肺疾病的可能性较小”这种认识，对应A项当选。

B项“不容易被诊断”是刻板印象导致的结果，而非刻板印象本身，排除。

C、D两项，根据文段首句“刻板印象有可能导致……女性患者……”可知，刻板印象的作用主体为女性，男性患病是否容易被诊断与女性无关，排除。

所以，正确选项是A。

30. 沉浸在自然环境的多样性生物中，有助于维持肌肤不可或缺的健康微生物群系和肠道菌群。研究显示，如果儿童在很小的时候没有用足够的时间去亲近大自然，那么随着年龄的增长他们就不会形成适当的免疫功能来保护自我。沐浴在大自然中，可以摄取那些能产生大量健康微生物群系的东西。由于一些城市缺少公园，树木稀少，这种大自然赋予的免疫力不足，_____。

填入画横线处最恰当的是：

- A. 微生物群系和肠道菌群减少了
- B. 孩子们的免疫功能退化了
- C. 大自然中的生物多样性降低了
- D. 成年人的健康水平下降了

【答案】B。解析：

横线出现在文段结尾，必须注意与前文的关系。

前文通过“研究显示”引出结论：儿童在很小的时候没有用足够的时间去亲近大自然，随着年龄的增长他们就不会形成适当的免疫功能来保护自我。之后的内容是对这一研究结论进行解释说明。横线前指出，大自然赋予的免疫力不足，因此孩子们的免疫功能将受到影响，对应B项当选。

A项“微生物群系和肠道菌群”、C项“大自然中的生物多样性”均对应首句的内容，并非研究显示的结论。研究结论重点强调的是亲近大自然与儿童免疫力的关系，均排除；

D项“成年人的健康水平”无中生有，前文强调的是“儿童”这一话题，排除。

所以，正确选项是B。

二、逻辑填空。从题后所给的四个选项中选出最符合文意的一项。

31. 古典诗歌热潮兴起不是_____的，其中体现了先贤诗人几千年的智慧与情感。结合新的时代条件传承和_____中华优秀传统文化，也必将有效提升我们的文化自信，为中华民族伟大复兴创造条件。

依次填入画横线处最恰当的一项是

- A. 理所当然 发扬
- B. 必然 宣传
- C. 自然而然 倡导
- D. 偶然 弘扬

【答案】D。解析：

第一空，根据“古典诗歌中体现了先贤诗人几千年的智慧与情感”可知，它的兴起是长期发展的结

果，是一种必然的趋势。

D项“偶然”与“不是”搭配，表必然的意思，符合文意，当选。

A项“理所当然”指按道理应当这样，B项“必然”指客观事物联系和发展的合乎规律的、确定不移的趋势，与“不是”搭配明显与文意相悖，排除；

C项“自然而然”指非人力干预而自然如此，“非人力干预”文段未涉及，排除。

第二空，代入验证，“弘扬中华优秀传统文化”搭配恰当，符合文意，当选。

所以，正确选项是D。

32. 青藏高原的特殊生物环境和生物资源，为我国科学家开展原创性的工作提供了_____的条件。我们需要建设一支年富力强、野外经验丰富、多民族_____的科研团队，寻找高端人才培养的学术援藏新模式，让西藏的生态学研究真正实现可持续发展。

依次填入画横线处最恰当的一项是

A. 无可比拟 结合

B. 独一无二 组合

C. 绝无仅有 整合

D. 得天独厚 融合

【答案】D。解析：

第一空，根据“青藏高原的特殊生物环境和生物资源”可知，横线处表达青藏高原提供的条件是特殊的。

D项“得天独厚”指有特殊优越的条件，符合文段意思。

A项“无可比拟”指没有可以相比的；B项“独一无二”指没有相同的，没有可以相比的；C项“绝无仅有”指只有一个，再没有别的，都体现的是没有其他的可以比较，程度明显过重，与文段强调的比较特殊的条件不符，排除。

第二空，代入验证，多个民族合在一起的科研团队，D项“融合”指的是不同的事物合在一起，符合文意，当选。

所以，正确选项是D。

33. 中国传统文化中的“和而不同”与共享观念，_____地成为“人类命运共同体”以及“民心相通”的价值观的注脚。中国向世界提出了“人类共同命运”的全球倡议，包含了对全球“普遍联结”与“价值关联”等发展特征的_____概括，是中国特色全球传播的生动表述。

依次填入画横线处最恰当的一项是

A. 恰逢其时 高度

B. 无可替代 简洁

C. 恰如其分 凝练

D. 正当其时 有力

【答案】A。解析：

第一空，分析文意，该空表示中国“和而不同”与共享观念，是对“人类命运共同体”以及“民心相通”价值观的解释。

A项“恰逢其时”指恰恰遇到这个时候，D项“正当其时”指正是时候的意思，均符合文意，保留。

B项“无可替代”指没有什么能够取代、替换，程度过重，排除；

C项“恰如其分”指办事或说话十分恰当合适，与“观念”搭配不当，排除。

第二空，根据“‘人类命运共同体’包含了‘普遍联结’与‘价值关联’等发展特征”可知，它是对多种发展特征的非常简洁的概括。

A项“高度”搭配“概括”，可指言简意赅的意思，符合文意，当选。
D项“有力”指有力气、有力量，与文意无关，排除。
所以，正确选项是A。

34. 地方戏曲是中华文化的重要组成部分，在新时代受到诸多新兴事物的冲击而略显暗淡，甚至濒临消亡。作为新时期的文化工作者，我们_____着传承和保护中华传统文化的使命，如何在整个社会大环境中，营造出戏曲文化氛围，不断传承和发展地方戏曲，使其兼具传统韵味和时代气息，赢得更多人的喜爱，是我们需要始终_____探索的课题。
依次填入画横线处最恰当的一项是

- A. 背负 矢志不渝
- B. 承担 孜孜以求
- C. 担负 持之以恒
- D. 肩负 坚持不懈

【答案】D。解析：

第一空，横线处与“使命”搭配。

A项“背负”指担负；B项“承担”指担负、担当；C项“担负”指承当；D项“肩负”指担负，均符合搭配，不易区分。

第二空，与“探索”搭配且通过“始终”进行修饰，用来形容对课题的探索自始至终一直进行下去。

A项“矢志不渝”表示永远不变心，多指志向、目标不会改变，与文意不符，排除。

B项“孜孜以求”比喻不知疲倦地探求，与后文“探索”语义重复，排除；

C项“持之以恒”指长久坚持下去，侧重点在时间长久，与“始终”语义重复，排除；

D项，“坚持不懈”指坚持到底，毫不松懈，形容探索的过程符合文意，当选。

所以，正确选项是D。

35. 近年来，自动驾驶成为汽车产业的制高点，各国纷纷加快立法，推动路面测试，加速产业_____。国内有关部门和地方应_____，加强对自动驾驶车辆上路测试的全方位监管，让自动驾驶产业_____起步的过程更加平稳、安全。

依次填入画横线处最恰当的一项是

- A. 孵化 未雨绸缪 摸索
- B. 催化 有的放矢 创新
- C. 发展 出谋划策 创业
- D. 成长 奋起直追 探索

【答案】A。解析：

第一空，搭配“产业”。根据“自动驾驶成为汽车产业的制高点”、“各国纷纷加快立法”可知，横线所填词语要体现出加速产业的前进发展。

A项“孵化”、C项“发展”、D项“成长”符合文意，保留。

B项“催化”指的是促使化学反应的速率发生改变，与“产业”搭配不当，排除。

第二空，根据“让自动驾驶起步的过程更加平稳、安全”可知，横线处表达要提前做好准备的意思。

A项“未雨绸缪”指事先做好准备，符合文意。

C项“出谋划策”指出主意，定计策，D项“奋起直追”形容奋勇赶上，紧紧的追赶上去，均无法体现出提前做好准备保障产业发展更平稳之意，排除。

第三空，代入验证，自动驾驶产业是才开始的一个产业，A项“摸索”符合，当选。

所以，正确选项是A。

36. 支付工具的多样化组合,提升了我国支付体系运行的质量和效率,满足了公众_____支付需求。从未来支付趋势看,现金支付和非现金支付工具相互_____,相互补充、共存共生的局面将长期存在。但是对我国这样一个地域广、人口多、发展很不均衡的大国来说,由于核心技术水平的限制,过度依赖非现金支付会大大增加支付体系的脆弱性。因此,必须长期_____现金作为国家法定支付方式的地位,切实保障广大人民使用现金的合法权益。

依次填入画横线处最恰当的一项是

- A. 区别化 支持 确保
- B. 差异化 支撑 确立
- C. 个性化 支援 确认
- D. 多元化 支应 确证

【答案】B。解析:

第一空,根据“支付工具的多样化组合”可知,横线处表达满足公众不同的支付需求,选项均符合文意。

第二空,通过顿号与“相互补充”构成并列结构,横线处对应“补充”,表示现金支付与非现金支付长期共存,“相互支持”、“相互支撑”符合文意。

C项“支援”指用人力、物力、财力或其他实际行动去支持和援助,D项“支应”指数衍、应付,均与文意不符,排除。

第三空,与“地位”搭配,B项“确立地位”搭配恰当,当选。

A项“确保”指切实保持或保证,与“地位”搭配不当,用在此处应表述为“必须长期确保先进作为国家法定支付方式的地位不动摇”,排除。

所以,正确选项是B。

37. 去年冬天,我终于再次回到家乡。踏上这片_____的土地,不觉中满眼尽是熟悉的情景。猛地回到现实中,我早已泪眼_____。街市的路面依然那样光亮,如同镜面一样,反衬着天空和街道两侧时常变换的店舍,时间似乎并没有在此停留,而是平静地_____着正在发生的一切。

依次填入画横线处最恰当的一项是

- A. 魂牵梦绕 婆娑 诉说
- B. 知根知底 朦胧 讲述
- C. 牵肠挂肚 模糊 呈现
- D. 日思夜想 迷离 反映

【答案】A。解析:

第一空,搭配“土地”,根据“再次回到家乡”、“满眼熟悉的场景”、“早已泪眼”可知,横线所填词语表达对这片土地非常熟悉和思念的意思。

A项“魂牵梦绕”、D项“日思夜想”都体现出思念的意思,符合文意。

B项“知根知底”指非常了解某个人,横线搭配的是“土地”,搭配不当,排除;

C项“牵肠挂肚”指非常挂念,很不放心,文段没有体现不放心的意思,排除;

第二空,要体现出眼泪掉下来的样子。

A项“婆娑”眼泪下滴的样子,并且泪眼婆娑固定搭配,填入文段合适。

D项“迷离”指模糊而难以分辨清楚,不符合文意,排除。

第三空,代入验证,“诉说着发生的一切”,A项“诉说”符合语意,当选。

所以,正确选项是A。

38. 尽管自学术角度观之，在整体设计和具体材料运用等方面，此书并未有太多超越之处，但仍有不少值得中国研究者_____的地方。它为我们提供了更多_____微观描述与宏观叙述的可能性。就笔者_____，目前做茶的相关研究的人类学学者并不多。

依次填入画横线处最恰当的一项是

- A. 审视 连接 学养所囿
B. 重视 穿透 视野之内
C. 借鉴 贯穿 目力所及
D. 追寻 结合 耳闻目睹

【答案】C。解析：

第一空，前文提到“此书并未有太多超越之处”强调此书没什么可取之处，依据转折词“但”可知，横线词语应体现“有可取之处”之意，且根据后文“它为我们提供……微观描述与宏观叙述的可能性”可知，此处强调“此书”对中国研究者的意义。

A项“审视”指仔细地看，B项“重视”指看重，C项“借鉴”指学习，A、B、C三项用于此处均可；D项“追寻”指跟踪查寻，未体现“有可取之处”之意，排除；

第二空，修饰“微观描述与宏观叙述”二者关系。

A项“连接”C项“贯穿”用于此处均可表示为连接的意思，均可；

B项“穿透”指穿通贯透，“穿透微观描述与宏观叙述”搭配不当，排除；

第三空，根据“目前做茶的相关研究的人类学学者并不多”可知，此处强调笔者可以看到的学者不多。

C项“目力所及”指眼睛所能够看到的最远的地方，语意恰当，当选；

A项“学养所囿”指受学问的局限，文中未强调笔者学问不足，排除。

所以，正确选项是C。

39. 应当看到，农业调结构是一个动态的过程，不可能调到位、_____。农业也是慢热型产业，培育一个成熟品牌，要三五年、十多年，甚至更长时间，靠政府部门_____不行，必须尊重农业发展规律和市场规律，扎扎实实、_____、一步一步走。

依次填入画横线处最恰当的一项是

- A. 一挥而就 大刀阔斧 锲而不舍
B. 一劳永逸 揠苗助长 持之以恒
C. 一蹴而就 快马加鞭 孜孜矻矻
D. 一步登天 越俎代庖 水滴石穿

【答案】B。解析：

第一空，“、”引导并列，横线处与“一调到位”构成并列，表达一下子完成之意。

B项“一劳永逸”指辛苦一次，把事情办好，以后就可以不再费力；C项“一蹴而就”指事情轻而易举，一下子就成功，均符合文意。

A项“一挥而就”指才思敏捷，一动笔就写成，文段说的是农业而不是写作，排除；

D项“一步登天”指一下子达到很高的境界或爬上高位，与文段“农业调结构”的语境不符，排除。

第二空，根据文意可知，横线所填词语体现出没有尊重事物发展规律的意思。

B项“揠苗助长”比喻违反事物的发展规律，急于求成，反而坏事，符合文意。

C项“快马加鞭”强调快上加快，没有体现不尊重事物规律的意思，排除。

第三空，代入验证，与“扎扎实实”、“一步一步”构成并列，表达农业是一个长期的过程，尊重发展规律，B项“持之以恒”长久地坚持下去，语意符合，当选。

所以，正确选项是 B。

40. 在纸本时代，学术传播主要是通过书、报、刊出版发行完成的，三者各有分工，各有渠道，各有_____。图书以编辑出版学术著作为主，期刊以编辑发表学术论文为主，报纸以撰写发布学术信息为主，_____，按照相应体制的规章制度或业界的_____规则独立地运行，从而形成了编辑校对、装帧设计、出版发行、质量检查等一系列学术传播的基本联序。

依次填入画横线处最恰当的一项是

- A. 读者 各行其是 潜移默化
- B. 受众 各司其职 约定俗成
- C. 对象 各自为阵 不言而喻
- D. 用户 各有千秋 不约而同

【答案】B。解析：

从第二空入手。根据“图书以编辑出版学术著作为主，期刊以编辑发表学术论文为主，报纸以撰写发布学术信息为主”和“按照相应体制的规章制度……独立地运行”可知，图书、期刊、报纸的发布方式有所不同，且是独立运行的。

A 项“各行其是”指按照各自认为对的去，比喻各搞一套；B 项“各司其职”指各自负责掌握自己的职责，均符合文意。

C 项“各自为阵”指按自己的主张办事，不互相配合。比喻不考虑全局，各搞一套，文段未体现三者不考虑全局，不互相配合的语意，故不符文意，排除；

D 项“各有千秋”指各有所长、各有优点，文段未体现各有优点，且无法体现三者是独立地运行，不符文意，排除。

第三空，搭配“规则”，A 项“潜移默化”指人的思想、性格在不知不觉中受到感染、影响而发生变化的，文中无“发生变化”之意，且一般不与“规则”搭配，排除。

B 项“约定俗成”指某种事物的名称或社会习惯，经过长期的社会实践而被公认，并为大家遵守和沿用，与“规则”搭配恰当，符合文意。

第一空，代入验证，B 项“受众”指接受三者传播的群体不一样，符合文意，当选。

所以，正确选项是 B。

三、根据材料，回答下列问题。

知识产权广义上是关于无形智力成果的专有权利，是通过排除他人的主张和干预而独占智力成果的开发和使用，进而获得独占权益的制度。基于知识产权的_____属性，财产理论成为知识产权制度的核心理论。具体到知识产权与公共领域的二元关系中，则是一方面强调权利人作为财产权主体控制其权属范围内的一切资源而排除资源自由流动的可能性；另一方面将公共领域作为知识产权潜在的“对手”，主张公共领域的边界和层次的发展压缩了知识产权的权属范围，限制了知识产权作为一项财产权利的功能实现。

为了避免公共资源的过度使用而造成资源损耗，通过财产制度赋予主体对特定资源的所有权，可以确保资源的使用受到合理规范和控制。同时，财产所有权的确立在减少资源损耗的基础上增加财产使用带来的收益，引导财产主体进一步投入、开发和利用资源本身，形成资源不断增值和收益的良性循环。

智力成果作为知识产权的客体具有无形属性，在创造、传播和使用过程中不会产生“公有物的悲剧”中资源过度使用的困境。然而智力成果缺少法律制度的规范而允许不受限制的自由使用，造成的不利后果则是权利主体无法就智力成果的价值进行有效的收益，最终导致智力创造活动激励不足而无以为继。巧合的是，财产化智力资源能提供充裕的行为激励而解决这个问题。在经济学理论的背景下，知识产权依托财产理论实现重要的制度功能——鼓励智力创造活动，这又与知识产权制度的根本目的相契合。

问题在于，财产理论并不能完全解释资源的开发和使用。资源的财产化发展到一定程度反而会阻碍后续开发和使用行为。知识产权领域也有类似的矛盾。在传统的生物制药领域，基于专利申请而不断增加的专利数量不仅没有进一步促进研发创新，反而由于权属复杂分散难以整合而导致后续研发的成本过高，最终阻碍生物制药行业的发展。类似的，版权领域内的演绎行为的权利传统上归属于作品原作者。然而，滑稽戏仿等创作行为本身是对原作品进行丰富和发展的合理手段，通过转化性的创作来体现不同于原作者的目的和意图，能有效丰富社会整体文化技术作品的数量和质量。实践中各国在版权立法方面将滑稽戏仿规定为版权的例外并允许类似行为的实施。显然，坚持绝对的演绎权利必然压缩演绎作者创作的空间，抑制基于原作品的演绎行为。因此，知识产权制度在理论构建过程中不能依赖财产化思路将智力资源完全专有化，而应该在财产化的过程中兼顾其他策略来实现知识产权的制度目的。

41. 填入文中画横线处最恰当的一项是

- A. 专有和排他
- B. 专属和高端
- C. 独有和专业
- D. 独创和稀缺

【答案】A。解析：

横线所在句子在文段中间，起着承上启下的作用，必须结合上下文。

首句指出“知识产权广义上是……的专有权利，是通过排除他人……独占权益的制度。”强调知识产权的专有和排他。后文对“知识产权与公共领域的关系”从两方面进行介绍。因此，横线处应体现“知识产权的属性”，结合文段可知对应 A 项。

B、C 两项仅提到“专有”、“独有”，仅属于知识产权的一方面属性，表述片面，排除。

D 项“独创和稀缺”为无中生有，排除。

所以，正确选项是 A。

42. 对文章第一段中“公共领域作为知识产权潜在的‘对手’”理解不正确的是：

- A. 知识产权理论上就是一种私人财产权
- B. 公共领域的活动可能会影响知识产权实现
- C. 知识产权作为私人财产不可用于公共领域
- D. 权利人不希望被公共领域侵犯其权益

【答案】C。解析：

A 项，根据“财产理论成为知识产权制度的核心理论”及“权利人作为财产权主体控制其权属范围内的一切资源而排除资源自由流动的可能性”可知，表述正确，排除；

B 项、D 项，根据“主张公共领域的边界和层次的发展压缩了知识产权的权属范围，限制了知识产权作为一项财产权利的功能实现”可知，此处强调权利人主张要明晰“公共领域的边界和层次”来保护其权利，故“公共领域活动”可能会侵犯权利人的权利，B、D 选项表述均正确，排除；

C 项，文段并未明确指出“不可用于公共领域”，表述过于绝对，表述错误，当选。

所以，正确选项是 C。

43. 作者认为，知识产权不受限制自由使用最终将会导致

- A. 智力成果的权利人无法得到相应的收益
- B. 智力创造活动由于激励不足而无以为继
- C. 无法形成知识产权资源收益的不断增值
- D. 知识产权的使用缺乏合理的规范和控制

【答案】B。解析：

根据篇章第3段“然而智力成果缺少法律制度的规范而允许不受限制的自由使用，造成的不利后果则是权利主体无法就智力成果的价值进行有效的收益，最终导致智力创造活动激励不足而无以为继”可知，最终会导致的结果是智力创造活动激励不足而无以为继，对应B项当选。

A项“无法得到相应的收益”、C项“无法形成资源收益的增值”均为知识产权不受限制自由使用的不利后果，而并非最终会导致的结果，排除；

D项，“缺乏合理的规范和控制”为知识产权不受限制自由使用的原因，而非结果，排除。

所以，正确选项是B。

44. 对文章最后一段中“知识产权领域也有类似的矛盾”解释不恰当的是：

- A. 专利数量不断增加有时并未促进研发创新
- B. 知识产权的财产化导致后续研发成本过高
- C. 版权领域内的演绎权利只能归属于原作者
- D. 后人从事转化性创作有时也缺乏必要空间

【答案】C。解析：

“类似的矛盾”指代上文，即资源的财产化发展到一定程度反而会阻碍后续开发和使用行为。且后文详细介绍了这种矛盾的两种情况，一种是由于专利数量不断增加导致研发成本过高，最终阻碍发展，对应A、B两项，排除。一种是由于坚持绝对的演绎权利，压缩了演绎作者创作的空间，抑制基于原作品的演绎行为，对应D项，排除。

C项，根据“实践中各国在版权立法方面将滑稽戏仿规定为版权的例外并允许类似行为的实施”可知，各国允许其他作者对原作品通过丰富和发展的合理手段，进行转化性的创作，故C项的解释不恰当，当选。

所以，正确选项是C。

45. 这篇文章着重说明的是：

- A. 知识产权过度保护也将造成危害
- B. 知识产权实质上是财产权问题
- C. 知识产权与公共领域的相互关系
- D. 知识产权保护需注意其两面性

【答案】D。解析：

文章首先介绍了知识产权及其核心财产理论，并说明了两者间的关系，引出话题。接着文段提出观点，说明为了避免公共资源的过度使用而造成资源损耗，通过财产制度赋予主体对特定资源的所有权，可以确保资源的使用受到合理规范和控制，以此详细说明知识产权的客体智力成果依托财产理论的重要性。最后文段指出问题，财产理论并不能完全适用于知识产权，并通过“因此”给出结论，即知识产权应该在财产化的过程中兼顾其他策略来实现知识产权的制度目的。

因此文章主要论述了知识产权需要财产理论的保护，并说明其不能只依赖财产理论的保护，否则会产生问题。即论述了用财产理论保护知识产权是把双刃剑，对应D项当选。

A项，未提及通过财产理论保护知识产权的好处及必要性，表述片面，排除；

B项，财产理论仅是知识产权的核心理论，且文段表明还需兼顾其他策略，故表述过于绝对，排除

C项，“相互关系”表述不具体明确，且文段主要论述的是知识产权与财产理论间的关系，排除。

所以，正确选项是D。

第三部分 数量关系

一、数字推理。给出一个数列，缺少其中一项，要求你仔细观察数列的排列规律，从四个选项中，

选择最合适的一项，使之符合原数列的排列规律。

46. 8, 2, 1, 1, 2, ()

- A. 4
- B. 8
- C. 10
- D. 16

【答案】B。解析：

相邻两项作商得 $1/4$ 、 $1/2$ 、 1 、 2 、 (4) 为等比数列。

则 $2 \times 4 = 8$ 。

所以，正确选项是 B。

47. 2.03, 113.06, 224.12, 335.24, 446.48, ()

- A. 556.96
- B. 557.72
- C. 557.96
- D. 558.72

【答案】C。解析：

整数部分是公差为 111 的等差数列，小数部分是公比为 2 的等比数列。

所以，正确选项是 C。

48. $\sqrt{6}$, $\sqrt{22}$, $\sqrt{14}$, $3\sqrt{2}$, 4, ()

- A. $\sqrt{15}$
- B. $\sqrt{17}$
- C. $\sqrt{29}$
- D. $\sqrt{21}$

【答案】B。解析：

分别转化为 $\sqrt{6}$, $\sqrt{22}$, $\sqrt{14}$, $\sqrt{18}$, $\sqrt{16}$, ()。

根号下的数，(第一项+第二项) $\div 2$ = 第三项。依次类推， $(18+16) \div 2 = 17$ 。

所以，正确选项是 B。

49. $1, 2-1g2, 1+21g5, 1+31g5, 5-41g2, ()$

- A. $1+51g5$
- B. $2-31g5$
- C. $2+41g2$
- D. $1g35250$

【答案】A。解析：

因为 $\lg 2 + \lg 5 = \lg (2 \times 5) = \lg 10 = 1$, 可得 $\lg 2 = 1 - \lg 5$ 。
分别转化为 $1 + 0\lg 5$ 、 $1 + \lg 5$ 、 $1 + 2\lg 5$ 、 $1 + 3\lg 5$ 、 $1 + 4\lg 5$ 、 $(1 + 5\lg 5)$ 。
所以, 正确选项是 A。

50. $5/7, 1/4, 2/3, 6/25, 20/31, (\quad)$
A. $1/18$
B. $3/17$
C. $4/17$
D. $8/23$

【答案】C。解析:

前一项的分母+前一项的分子=后一项的分母; 前一项的分母-前一项的分子+1=后一项的分子。
分别转化为 $5/7$ 、 $3/12$ 、 $10/15$ 、 $6/25$ 、 $20/31$ 、 $(12/51=4/17)$ 。
所以, 正确选项是 C。

二、数学运算。通过运算, 选择最合适的一项。

51. 某银行为一家小微企业提供了年利率分别为 6%、7% 的甲、乙两种贷款, 期限均为一年。若两种贷款的合计数额为 400 万元, 企业需付利息总额为 25 万元, 则乙种贷款的数额是
A. 100 万元
B. 120 万元
C. 130 万元
D. 150 万元

【答案】A。解析:

解法一:

代入 A 项, 乙数额 100 万元、甲数额 $400 - 100 = 300$ 万元, 利息总额 $= 300 \times 6\% + 100 \times 7\% = 25$ 万元, 满足条件。

所以, 正确选项是 A。

解法二:

设乙种贷款的数额为 x 万元, 则甲种贷款数额为 $400 - x$ 万元。根据题意可列方程:

$$(400 - x) \times 6\% + 7\%x = 25,$$

解得: $x = 100$ 万元。

则乙种贷款的数额是 100 万元。

所以, 正确选项是 A。

52. 现有浓度为 12% 和 24% 的盐水各若干克, 将其混合后加入 50 克水, 配制成了浓度为 18% 的盐水 600 克, 则原 12% 和 24% 的盐水质量之比是
A. 6 : 5
B. 1 : 1
C. 5 : 6
D. 4 : 7

【答案】D。解析:

解法一:

加水前的盐水浓度 $= (600 \times 18\%) / (600 - 50) = 108/550$,

根据十字交叉可得: 12% 和 24% 的盐水质量之比 $= (24\% - 108/550) : (108/550 - 12\%) = 4 : 7$ 。

所以，正确选项是 D。

解法二：

加水前总溶液为 $600-50=550$ 克，总溶质为 $600 \times 18\%=108$ 克；

鸡兔同笼，假设 550 克溶液都是 12% 的盐水，可得 24% 的盐水质量 = $(108-550 \times 12\%) / (24\%-12\%)$
=350 克，

$(550-350) : 350=4 : 7$ 。

所以，正确选项是 D。

53. 一群学生分小组在户外活动，如 3 人一组还多 2 人，5 人一组还多 3 人，7 人一组还多 4 人，则该群学生的最少人数是

- A. 23
- B. 53
- C. 88
- D. 158

【答案】B。解析：

解法一：

从 A 项开始代入检验。

A 项不满足除以 7 余 4，排除；

B 项满足所有条件。

所以，正确选项是 B。

54. 已知一个箱子中装有 12 件产品，其中有 2 件次品。若从箱子中随机抽取 2 件产品进行检验，则恰好抽到 1 件次品的概率是

- A. $13/22$
- B. $10/33$
- C. $7/11$
- D. $8/11$

【答案】B。解析：

总情况数有 $C(12, 2) = 66$ 种。

满足题意的情况数有 $C(2, 1) \times C(10, 1) = 20$ 种。

概率 = $20/66 = 10/33$ 。

所以，正确选项是 B。

55. 某工厂生产甲和乙两种产品，已知生产 1 件甲产品可获利 1000 元，消耗 A 和 B 材料分别为 2 千克、3 千克；生产 1 件乙产品可获利 1700 元，消耗 A 和 B 材料分别为 5 千克、4 千克。若有 A 和 B 材料分别为 200 千克、240 千克，则生产甲、乙两种产品能取得的最大利润是

- A. 85200 元
- B. 86278 元
- C. 85900 元
- D. 86600 元

【答案】C。解析：

如下图所示，乙产品单件利润高，若都生产乙产品，最多可生产 $200/5=40$ 件，总利润 $40 \times 1700=68000$ 元，剩余 b 材料 $240-40 \times 4=80$ 千克。

每拿出 2 件乙产品换成 5 件甲产品, a 材料不变, b 材料增加 $5 \times 3 - 2 \times 4 = 7$ 千克、总利润增加 $5 \times 1000 - 2 \times 1700 = 1600$ 元。

最多可换 11 组, 剩余 b 材料 $80 - 11 \times 7 = 3$ 千克; 再拿出 1 件乙产品换成 2 件甲产品、总利润再增加 $2 \times 1000 - 1700 = 300$ 元。

则最大利润 $= 68000 + 1600 \times 11 + 300 = 85900$ 元。

	甲产品	乙产品	
消耗 a	2 千克	5 千克	(总量 200 千克)
消耗 b	3 千克	4 千克	(总量 240 千克)
获利	1000 元	1700 元	

所以, 正确选项是 C。

56. 某机关事务处集中采购了一批打印纸, 分发给各职能部门。如果按每个部门 9 包分发, 则多 6 包; 如果按每个部门 11 包分发, 则有 1 个部门只能分到 1 包。这批打印纸的数量是

- A. 87 包
- B. 78 包
- C. 69 包
- D. 67 包

【答案】B。解析:

每个部门发 9 包, 多出 6 包; 每个部门发 11 包、缺少 10 包。

盈亏问题, 对比可得部门数 $= (6 + 10) / (11 - 9) = 8$ 个。

则打印纸总数 $= 8 \times 9 + 6 = 78$ 包。

所以, 正确选项是 B。

57. 市电视台向 150 位观众调查前一天晚上甲、乙两个频道的收视情况, 其中 108 人看过甲频道, 36 人看过乙频道, 23 人既看过甲频道又看过乙频道, 则受调查观众中在前一天晚上两个频道均未看过的人数是

- A. 17
- B. 22
- C. 29
- D. 38

【答案】C。解析:

假设两个频道均未看过的有 x 人, 两容斥, $150 = 108 + 36 - 23 + x$ 。

解得: $C = 29$ 。

所以, 正确选项是 C。

58. 一只密码箱的密码是一个三位数, 满足: 3 个数字之和为 19, 十位上的数比个位上的数大 2。若将百位上的数与个位上的数对调, 得到一个新密码, 且新密码数比原密码数大 99, 则原密码数是

- A. 397
- B. 586
- C. 675
- D. 964

【答案】B。解析:

新密码数比原密码大 99，结合选项，B 项当选。
所以，正确选项是 B。

59. 一油罐车为三家加油站送油，在第一家加油站卸下车中 20%的油料后整个车重为 21 吨，在第二家加油站卸下余下油料的 30%后车重 18 吨，在第三家加油站卸下了剩下的油料。该油罐车本身的重量与所送全部油料重量相比：
- A. 一样重
B. 重 1 吨
C. 轻 1.5 吨
D. 重 1.5 吨

【答案】C。解析：

在第一家卸完后剩余的油料重量= $(21-18) / 30\% = 10$ 吨，油罐车本身重量= $21-10=11$ 吨，则最初的油料重量= $10 / (1-20\%) = 12.5$ 吨。

所以，正确选项是 C。

60. 某班举行数学测验，试题全部是选择题，共 10 题，每题 1 分，得分的部分统计结果如下：

得分	10	9	8	...	2	1	0
人数	2	2	4	...	5	3	8

已知，得分至少为 3 分的，人均 $2x$ 分；得分最多为 7 分的，人均 x 分。这个班级总人数是：

- A. $(x/57) + 24$
B. $57x + 24$
C. $x^2 + 24$
D. $x + 4$

【答案】A。解析：

要达到全班人均 $2x$ 分，则还差： $5 \times (2x-2) + 3 \times (2x-1) + 8 \times (2x) = 32x - 13$ 分。

要达到全班人均 x 分，则多出： $2 \times (10-x) + 2 \times (9-x) + 4 \times (8-x) = 70 - 8x$ 分。

盈亏问题，对比可得全班总人数= $(70 - 8x + 32x - 13) / (2x - x) = (57 + 24x) / x$ 。

所以，正确选项是 A。

61. 一场大雪过后，某单位需安排员工清理包干区的道路积雪。清理时必须 3 人一组，其中 2 人铲雪，1 人扫雪。如果安排 10 人铲雪，3.5 小时才能完成。假设每组工作效率相同，若要在 100 分钟内完成，则需安排的员工人数最少是：
- A. 21
B. 24
C. 30
D. 33

【答案】D。解析：

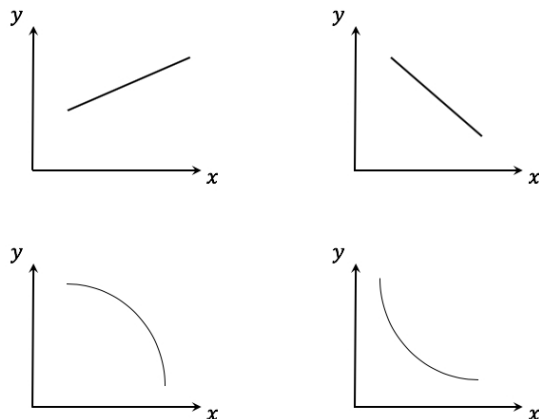
若刚好 100 分钟完成，可得铲雪的人数= $10 \times 210 / 100 = 21$ 人。

每组有 2 人铲雪，因此铲雪人数至少有 22 人，扫雪人数至少有 11 人，共 $22 + 11 = 33$ 人。

所以，正确选项是 D。

62. 小李和老张同时在同一点沿同一环形跑道健身锻炼，小李跑步，老张慢走。若同向而行，小李追上老张所需时间是两人相向而行相遇所需时间的 x 倍。假设两人运动均为匀速，且小李跑步是老张慢

走速度的 y 倍，则下列能反映 y 与 x 关系的是：



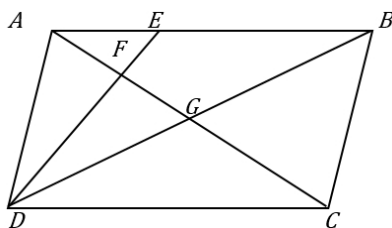
【答案】D。解析：

假设老张速度 1，小李速度 y 。

迎面相遇和追击相遇路程相同，可得 $(1+y) = (y-1) \times x$ 。整理得 $(x-1)(y-1) = 2$ ，反比例函数，D 项当选。

所以，正确选项是 D。

63. 平行四边形 ABCD 如右图所示，E 为 AB 上的一点，FG 分别为 AC 与 DE、DB 的交点。若 $AB=3AE$ ，则四边形 BEFG 与 ABCD 的面积之比是：



- A. 2 : 7
- B. 3 : 13
- C. 4 : 19
- D. 5 : 24

【答案】D。解析：

假设 $S_{\triangle AFE} = 1$ ，由 $\triangle AFE$ 和 $\triangle CFD$ 相似，可得 $S_{\triangle AFD} = 3$ ， $S_{\triangle ABC} = (1+3) \times 3 = 12$ ， $S_{\text{平行四边形 ABCD}} = 12 \times 2 = 24$ ， $S_{\text{四边形 BEFG}} = (12/2) - 1 = 5$ 。D 项当选。

所以，正确选项是 D。

64. 将一根绳子任意分成三段，则此三段能构成一个三角形的概率是：

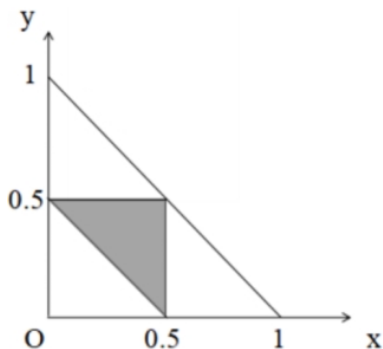
- A. 1/4
- B. 1/3
- C. 1/2
- D. 3/4

【答案】A。解析：

作图如下，假设绳子总长为 1，前两条线段的长度分别为 a 和 b ，整个区域为大三角形。

若可以构成三角形，可得 $a < 0.5$ 、 $b < 0.5$ 、 $a+b > 0.5$ 。

能构成三角形的区域为阴影三角形，因此能构成三角形的概率为 $1/4$ 。



所以，正确选项是 A。

65. 某工程队承担一项工程，由于天气原因，工期将延后 10 天。为了按期完工，需增加施工人员。若增加 4 人，工期会延后 4 天；若增加 10 人，工期将提前 2 天。假设每人工作效率相同，为确保按期完工，则工程队最少应增加的施工人员数是：

- A. 6
- B. 7
- C. 8
- D. 9

【答案】C。解析：

以延后 10 天为基准，若增加 4 人、工期提前 6 天；若增加 10 人、工期提前 12 天。

两次人数之比 = $(4 \times 12) : (10 \times 6) = 4 : 5 = 24 \text{ 人} : 30 \text{ 人}$ （相差 6 人）。现在有 $24 - 4 = 20$ 人，

两次天数之比 = $5 : 4 = 30 \text{ 天} : 24 \text{ 天}$ （相差 6 天）。现在需要 $30 + 6 = 36$ 天。

若要按时完工至少需要 $20 \times 36 / (36 - 10) \approx 27.7$ 人。即最少应增加 $28 - 20 = 8$ 人

所以，正确选项是 C。

（这个题目难度很大，求解过程非常麻烦，在考场上比较浪费时间。面对这种难题，考生应根据自身的整体时间情况适当作出取舍，有时候，学会适当放弃也是成功的必要条件。）

第四部分 判断推理

一、类比推理。本部分共 10 题，包括三种类型的题目。

（一）先给出一组有某种关系的词或词组，请你从四个选项中选出正确的一项，使其关系与题干给出的词或词组的关系最为相似。

66. 贫困：脱贫：共同富裕
- A. 协商：参与：社会治理
 - B. 输液：治疗：身体康复
 - C. 干旱：施肥：粮食丰收
 - D. 污染：治污：绿水青山

【答案】D。解析：

题干逻辑关系是：贫困是脱贫的必要条件，共同富裕是脱贫的目的。

A 项：协商不是参与的必要条件，社会治理不是参与的目的，与题干逻辑关系不一致，排除；

B 项：输液不是治疗的必要条件，身体健康是治疗的目的，前两个词与题干逻辑关系不一致，排除；

C 项：干旱不是施肥的必要条件，粮食丰收是施肥的目的，前两个词与题干逻辑关系不一致，排除；

D 项：污染是治污的必要条件，绿水青山是治污的目的，与题干逻辑关系一致，当选。

所以，正确选项是 D。

67. 男博士：女教授：教授
A. 政治家：文学家：作家
B. 无理数：正整数：正数
C. 电动车：电冰箱：电器
D. 公路桥：铁路桥：桥梁

【答案】B。解析：

题干逻辑关系是：有的男博士是教授，有的男博士不是教授，并且有的教授是男博士，有的教授不是男博士，二者为交叉关系；女教授都是教授，二者为种属关系。

A 项：政治家和文学家是交叉关系；作家是文学家的一种，但二者的先后顺序与题干相反，与题干逻辑关系不一致，排除；

B 项：无理数是指无限不循环小数，包括正无理数和负无理数，正数是大于零的数，有的无理数是正数，有的无理数不是正数，并且有的正数是无理数，有的正数不是无理数，二者为交叉关系；正整数都是正数，二者为种属关系，与题干逻辑关系一致，当选；

C 项：电动车与电器不是交叉关系；电冰箱是电器，二者为种属关系，第一个词和第三个词与题干逻辑关系不一致，排除；

D 项：公路桥是桥梁，二者为种属关系；铁路桥是桥梁，二者为种属关系，第一个词与第三个词与题干逻辑关系不一致，排除。

所以，正确选项是 B。

68. 眼睛：眼镜：隐形眼镜
A. 脚踝：护膝：运动护膝
B. 耳机：耳朵：蓝牙耳机
C. 手掌：手套：纯棉手套
D. 假牙：牙套：烤瓷牙套

【答案】C。解析：

题干逻辑关系是：眼镜是矫正视力和保护眼睛的工具，两者是对应关系；隐形眼镜是眼镜的一种，两者是种属关系。

A 项：护膝是保护膝盖的，不是保护脚踝的；运动护膝是护膝的一种，前两者与题干逻辑关系不一致，排除；

B 项：耳朵不是用来保护耳机的，蓝牙耳机也不是耳朵的一种，与题干逻辑关系不一致，排除；

C 项：手套是保护手掌的，纯棉手套是手套的一种，与题干逻辑关系一致，当选；

D 项：牙套是矫正牙齿的，不是矫正假牙的，烤瓷牙套是牙套的一种，前两词与题干逻辑关系不一致，排除。

所以，正确选项是 C。

69. 牛奶：奶牛：牛圈
A. 鸡肉：肉鸡：鸡场
B. 虫害：害虫：农田
C. 蛇毒：毒蛇：蛇穴
D. 蜜蜂：蜂蜜：蜂巢

【答案】C。解析：

题干逻辑关系是：牛奶是奶牛的分泌物，二者为对应关系；牛圈是奶牛的生活场所，二者为对应关系。

A 项：鸡肉不是肉鸡的分泌物；鸡场是肉鸡的生活场所，二者为对应关系，前两词与题干逻辑关系不一致，排除；

B 项：害虫导致虫害，二者为因果关系；农田是害虫的生活场所，二者为对应关系，前两词与题干逻辑关系不一致，排除；

C 项：蛇毒是毒蛇的分泌物，二者为对应关系；蛇穴是毒蛇的生活场所，二者为对应关系，与题干逻辑关系一致，当选；

D 项：蜂蜜不是蜜蜂的分泌物，同时两词的顺序与题干相反，与题干逻辑关系不一致，排除。
所以，正确选项是 C。

70. 记录：记录本

A. 咨询：咨询室

B. 复印：复印件

C. 驾驶：驾驶证

D. 存储：存储盘

【答案】D。解析：

题干逻辑关系是：记录本的功能是记录，二者为功能对应关系。

A 项：咨询室是咨询的场所，二者为场所对应关系，与题干逻辑关系不一致，排除；

B 项：复印完成后得到复印件，复印件的功能不是复印，与题干逻辑关系不一致，排除；

C 项：驾驶证的功能不是驾驶，是用来证明有驾驶资格的证件，与题干逻辑关系不一致，排除；

D 项：存储盘的功能是存储，二者为功能对应关系，与题干逻辑关系一致，当选。

所以，正确选项是 D。

71. 头：包工头

A. 眉：柳叶眉

B. 肚：将军肚

C. 腰：小蛮腰

D. 手：操盘手

【答案】D。解析：

题干逻辑关系是：包工头的“头”意思是领导，是“头”的延伸含义。

A 项：柳叶眉的“眉”指的眉毛，是“眉”的本意，与题干逻辑关系不一致，排除；

B 项：将军肚的“肚”指的是肚，是“肚”的本意，与题干逻辑关系不一致，排除；

C 项：小蛮腰的“腰”指的是腰，是“腰”的本意，与题干逻辑关系不一致，排除；

D 项：操盘手的“手”指的是擅长某种技能的人，是“手”的延伸含义，与题干逻辑关系一致，当选。

所以，正确选项是 D。

（二）请从四个选项中选出正确的一项，使得该项的两个词或词组依次代入题干的括号中，能够最大限度地满足题干所表达的类比关系。

72. 茶壶之于（ ）相当于（ ）之于桃花

A. 茶艺——桃红

B. 茶叶——桃仁

- C. 壶嘴——桃树
- D. 茶馆——桃园

【答案】C。解析：

逐一代入选项检验：

A 项：茶壶是展示茶艺的工具，二者是工具对应关系；桃花是桃红色的，二者是属性对应关系，前后逻辑关系不一致，排除；

B 项：茶壶是冲泡茶叶的工具，二者是工具对应关系；桃仁和桃花是并列关系，前后逻辑关系不一致，排除；

C 项：壶嘴是茶壶的组成部分；桃花是桃树的组成部分，都是组成关系，前后逻辑关系一致，当选；

D 项：茶馆是使用茶壶的地方，桃园是桃花盛开的地方，但两词的顺序相反，前后逻辑关系不一致，排除。

所以，正确选项是 C。

73. 燃气 之于 () 相当于 () 之于 语言

- A. 管道——信息
- B. 火源——表演
- C. 灶具——文字
- D. 沼气——交际

【答案】A。解析：

逐一代入选项检验：

A 项：管道输送燃气，二者为对应关系；语言传递信息，二者为对应关系，前后逻辑关系一致，当选；

B 项：火源能够点燃燃气，二者为工具对应关系；表演可以用语言方式，二者为方式对应关系，前后逻辑关系不一致，排除；

C 项：灶具使用燃气作为燃料，二者为对应关系；语言和文字为并列关系，前后逻辑关系不一致，排除；

D 项：沼气是燃气的一种，二者为种属关系；交际可以用语言方式，二者为方式对应关系，前后逻辑关系不一致，排除。

所以，正确选项是 A。

(三) 请从四个选项中选出正确的一项，使其特征或规律与题干给出的一串符号的特征或规律最为相似。

74. 日 日 日 日 戊 戊 戊 戊 白

- A. 己 己 己 己 愕 愕 愕 愕 鄂
- B. 甲 由 由 甲 申 喂 喂 伸 神
- C. 嘍 噢 噢 嘍 啞 哇 哇 啞 娅
- D. 嗒 坦 坦 嗒 嚓 察 察 嚓 擦

【答案】C。解析：

从相同汉字的位置入手：位置 1、4 的汉字相同；位置 2、3 的汉字相同，位置 5、8 的汉字相同，位置 6、7 的汉字相同。

所以，正确选项是 C。

75.

75. ○ ∞ ¥ ○ & ∞ Σ ∞ Σ

A. 2 8 @ 2 @ 8 U 8 U

B. ○ ♀ ♯ ○ △ ♀ Φ ♀ Φ

C. & # ○ & ¥ # ¥ # ¥

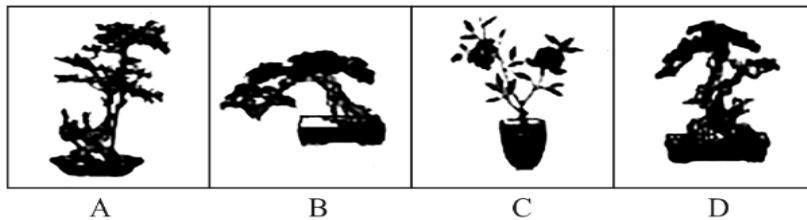
D. ↓ A → ↓ Σ A ∩ A N

【答案】B。解析：

从相同符号的位置入手：位置 1、4 的符号相同；位置 2、6、8 符号相同；位置 7、9 符号相同。所以，正确选项是 B。

二、图形推理（15 题）。请按每道题的答题要求作答。

76. 从所给的四个选项中，选择最合适的一个填入问号处，使之呈现一定的规律性。



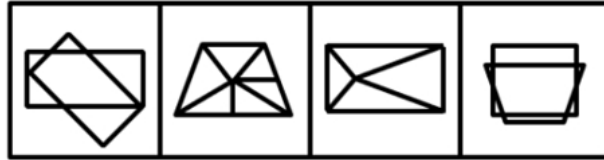
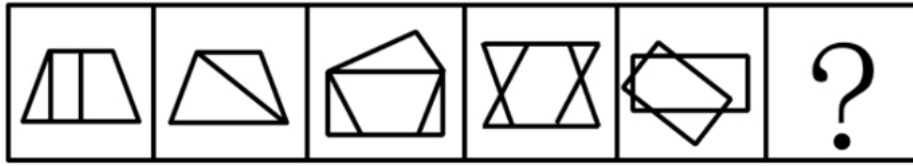
【答案】D。解析：

题干图片均为盆景，盆栽整体直立在盆中，且装盆栽的盆的形状都是长方形。

四个选项中，A 项盆栽的盆的形状是圆形，B 项盆栽不是直立在盆中，C 项盆栽的盆的形状是缸形，只有 D 项符合题干规律。

所以，正确选项是 D。

77. 从所给的四个选项中，选择最合适的一个填入问号处，使之呈现一定的规律性。



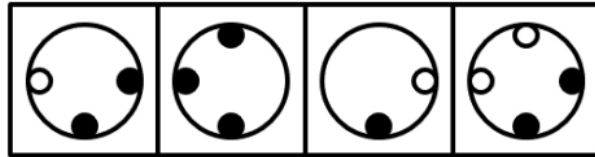
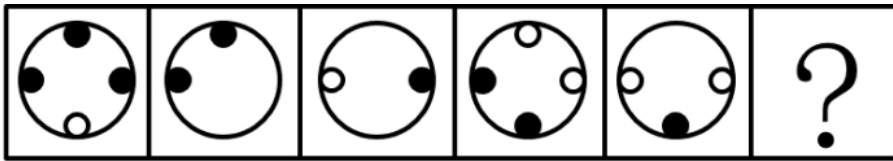
A B C D

【答案】B。解析：

题干图形中的三角形数量依次是：1、2、3、4、5、？，问号处应填写一个三角形数量为6的图形，只有B项符合要求。

所以，正确选项是B。

78. 从所给的四个选项中，选择最合适的一个填入问号处，使之呈现一定的规律性。

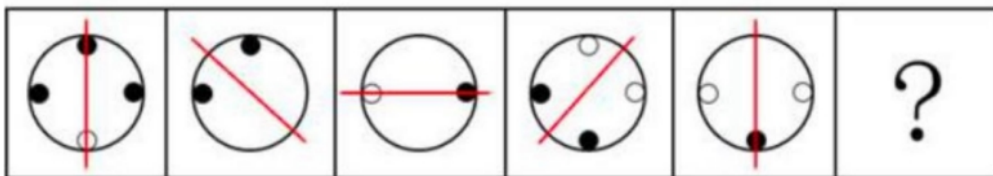


A B C D

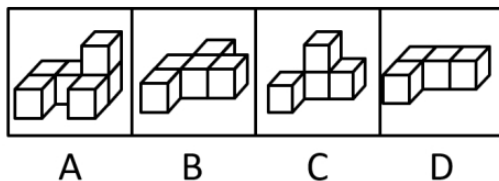
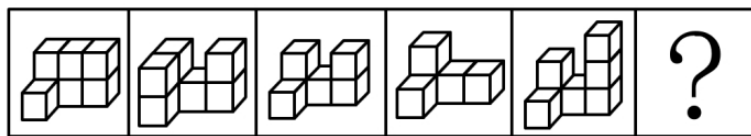
【答案】D。解析：

题干中的图形均由小黑圆、小白圆和大圆组成，但小黑圆和小白圆的数量均无规律。再观察发现，题干中所有图形均为轴对称图形，且对称轴依次逆时针旋转。

所以，正确选项是D。



79. 从所给的四个选项中，选择最合适的一个填入问号处，使之呈现一定的规律性。

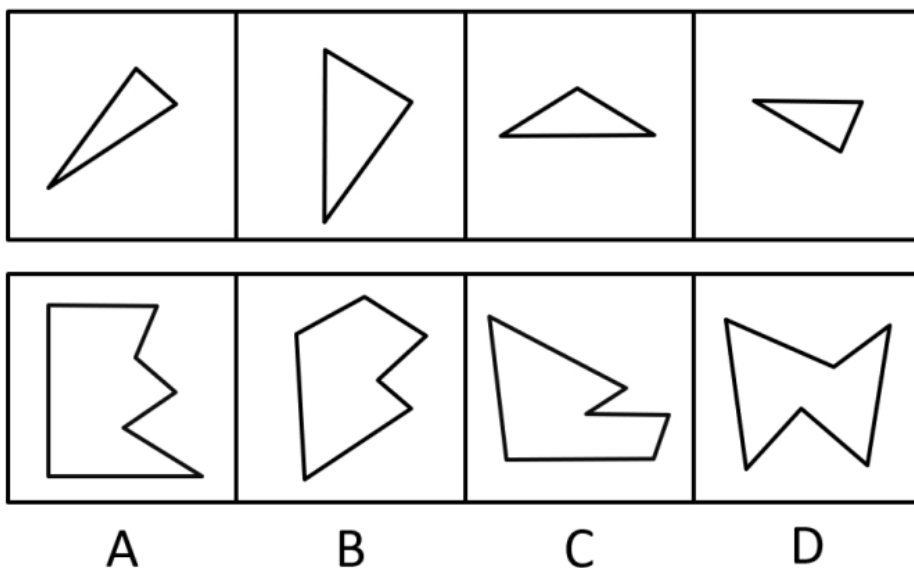


【答案】D。解析：

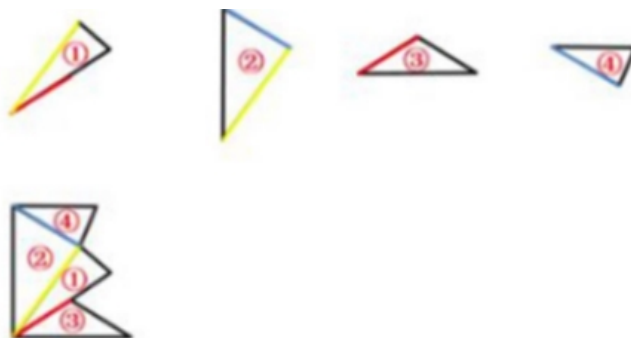
本题考查三视图。观察图形发现，题干的每一个立体图形的俯视图均为“L”形，符合此规律的只有D项。

所以，正确选项是D。

80. 下边四个图形中，只有一个是左边四个图形拼合（只能通过上、下、左、右平移）而成的，请把它找出来。

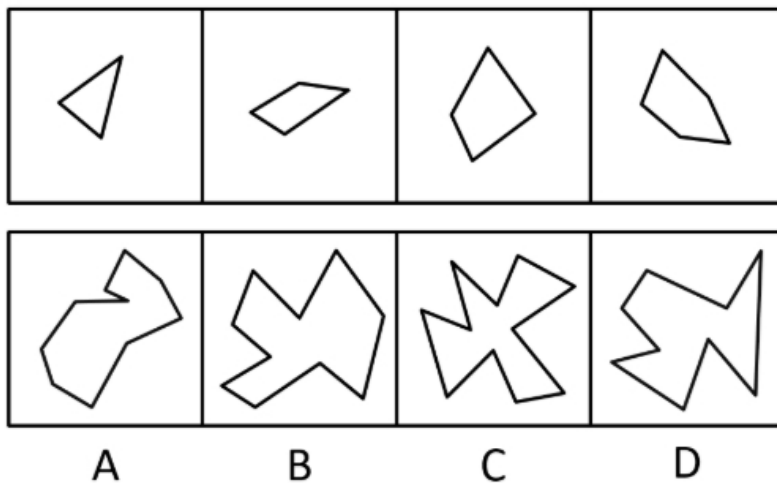


【答案】A。解析：



所以，正确选项是A。

81. 下边四个图形中，只有一个是左边四个图形拼合（只能通过上、下、左、右平移）而成的，请把它找出来。

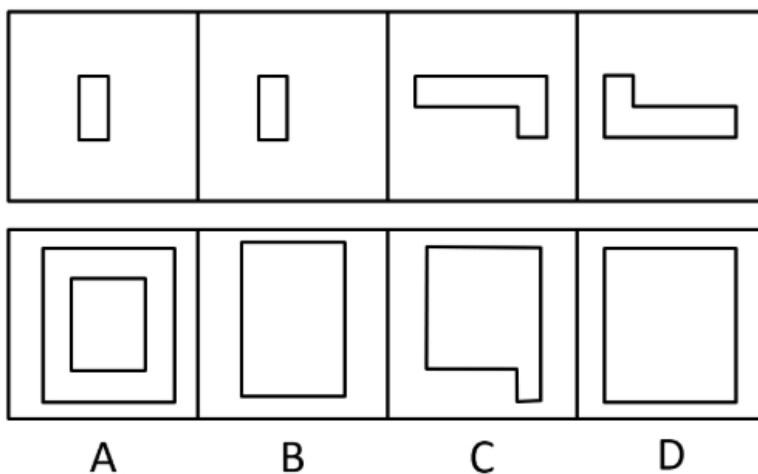


【答案】B。解析：

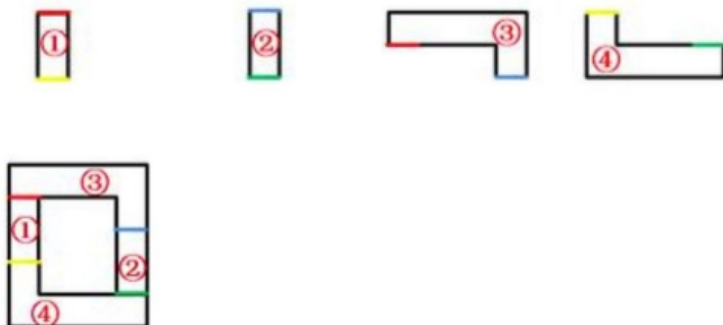


所以，正确选项是 B。

82. 下边四个图形中，只有一个是左边四个图形拼合（只能通过上、下、左、右平移）而成的，请把它找出来。

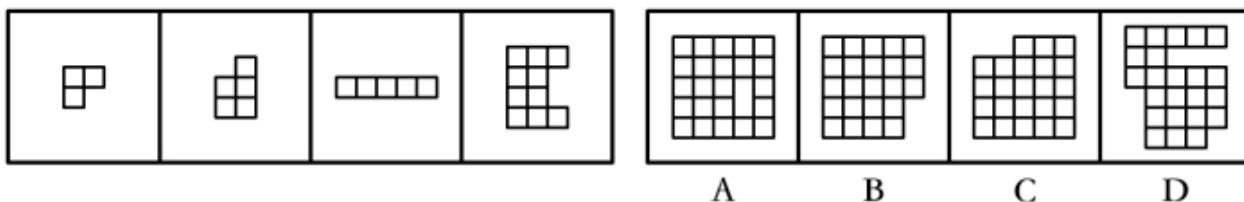


【答案】A。解析：

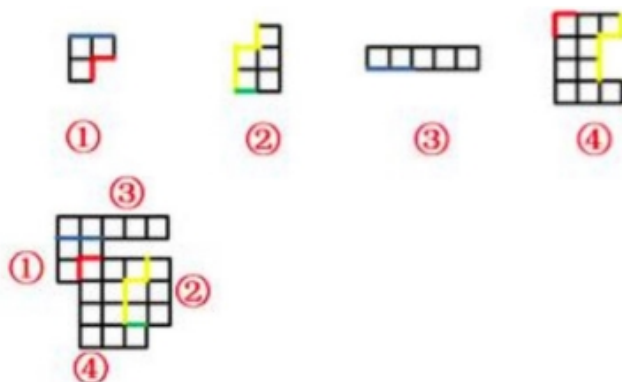


所以，正确选项是 A。

83. 下边四个图形中，只有一个是左边四个图形拼合（只能通过上、下、左、右平移）而成的，请把它找出来。

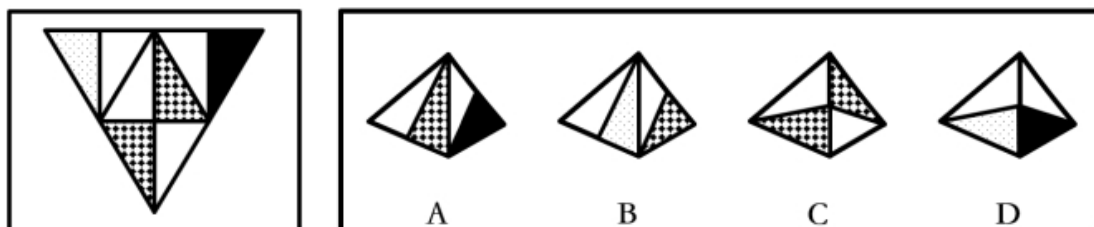


【答案】D。解析：



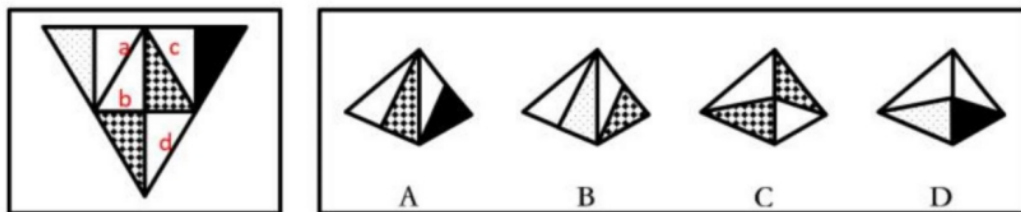
所以，正确选项是 D。

84. 左边给定的是纸盒外表面的展开图，右边哪一项能由它折叠而成？请把它找出来。



【答案】A。解析：

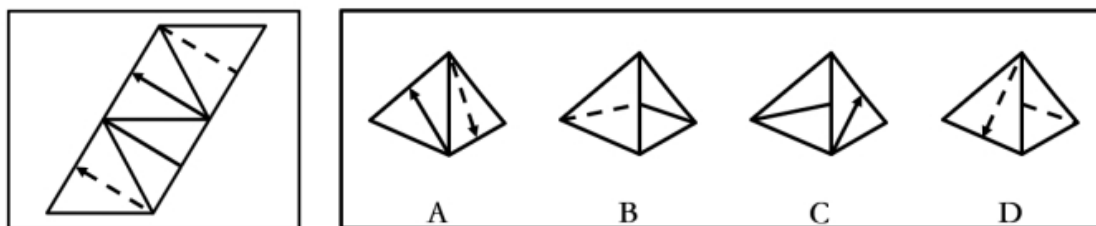
将题干展开图中的面依次标注为面 a、b、c、d，如下图：



A 项与题干图形一致，当选。

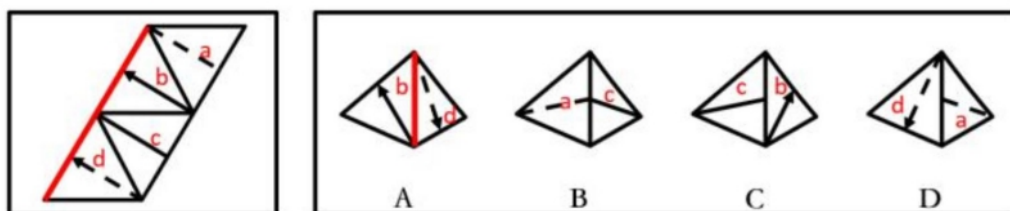
所以，正确选项是 A。

85. 左边给定的是纸盒外表面的展开图，右边哪一项能由它折叠而成？请把它找出来。



【答案】B。解析：

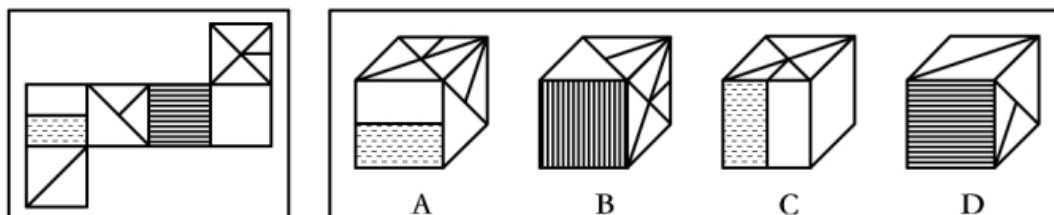
将题干展开图中的面依次标注为面 a、b、c、d，如下图：



B 项由面 a 和面 c 构成，与题干展开图一致，当选

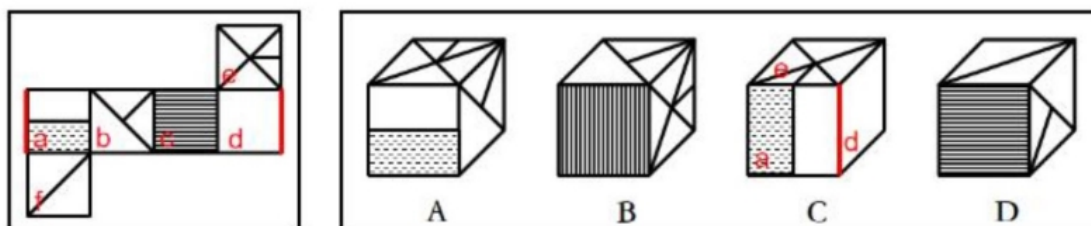
所以，正确选项是 B。

86. 左边给定的是纸盒外表面的展开图，右边哪一项能由它折叠而成？请把它找出来。



【答案】D。解析：

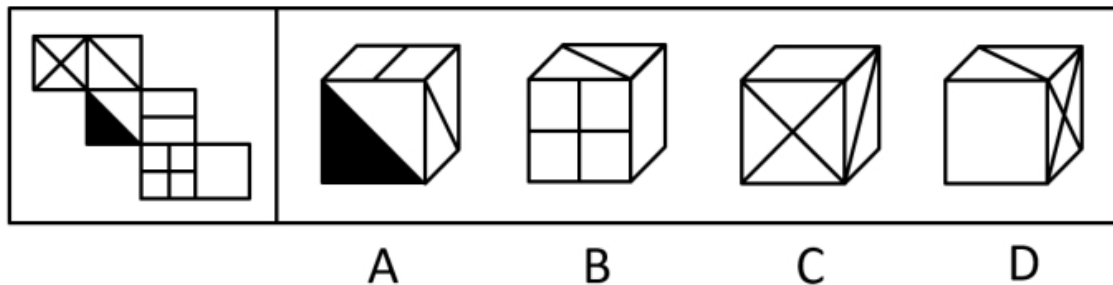
将题干展开图中的面依次标号，如下图：



D 项与题干一致，当选。

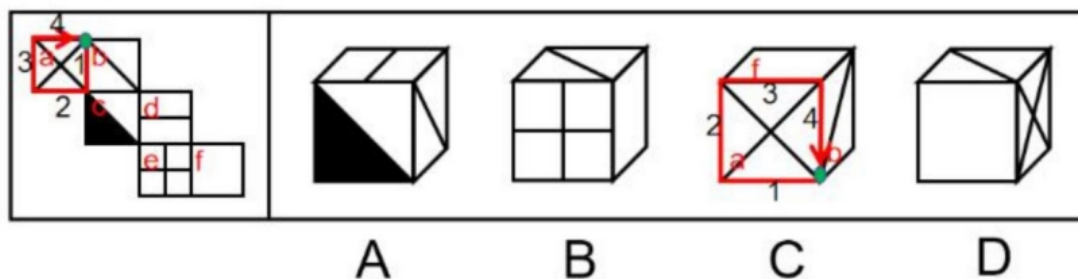
所以，正确选项是D。

87. 左边给定的是纸盒外表面的展开图，右边哪一项能由它折叠而成？请把它找出来。



【答案】D。解析：


将题干展开图中的面依次标号，如下图：



D项与题干一致，当选。

所以，正确选项是D。


88. 从所给的四个选项中，选择最合适的一个填入问号处，使之呈现一定的规律性。



【答案】A。解析：

第一行图形均由直线构成，第二行图形均由曲线构成，第三行图形均由直线和曲线构成，因此“？”处图形应由直线和曲线构成，只有A项符合。所以，正确选项是A。

89. 左边给定的是纸盒外表面的展开图，右边哪一项能由它折叠而成？请把它找出来。



【答案】B。解析：

观察发现，题干所有图形都是一根枝干上长满了相同的叶子或花。

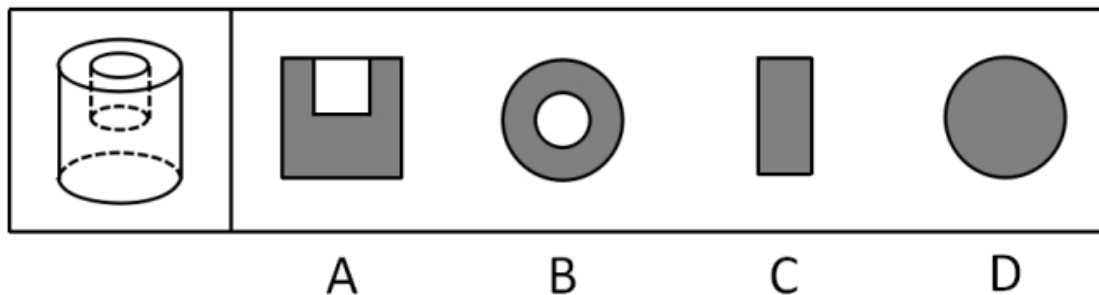
九宫格优先按横行来看，第一行，花枝朝向依次为左、右、左；第二行，花枝朝向依次是右、左、右，规律均为左右交替出现，第三行前两个图花枝朝向为左、右，因此“？”处花枝朝向应为左。C、D项花枝朝向不是左，排除。

A项花枝最上面是3朵花，下面是3片叶子，一根枝干上元素不相同，排除。

只有B项满足题干图形特征。

所以，正确选项是B。

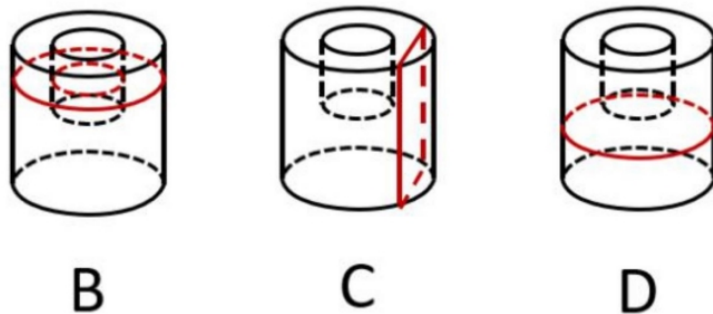
90. 左图为给定的立体，从任意角度剖开，右边哪一项不可能是它的截面图？



【答案】A。解析：

如下图所示，B、C、D项均可截出。

只有A项无法截出，因为长方形空心部分上面不应有实线，实际截面图应为凹字型。



所以，正确选项是 A。

三、逻辑判断（10 题）。每道题给出一段陈述，这段陈述假设是正确的、不容置疑的。请你根据这段陈述，选择一个答案。注意：正确的答案不需要任何附加说明即可以根据陈述必然推出。

91. 信仰、信念、信心，任何时候都至关重要。小到一个人、一个集体，大到一个政党、一个民族、一个国家。只要有信仰、信念、信心，就会愈挫愈奋、愈战愈勇，否则就会不战自败、不打自垮。根据以上陈述，可以得出以下哪项？

- A. 没有信仰、信念、信心，我们会不战自败、不打自垮
B. 没有信仰、信念、信心，我们就不会愈挫愈奋，愈战愈勇
C. 如果不战自败、不打自垮，就说明我们没有信仰、信念、信心
D. 如果愈挫愈奋、愈战愈勇，我们就不会不战自败、不打自垮

【答案】A。解析：

整理题干条件为：

- ①（信仰、信念、信心） \rightarrow 愈挫愈奋、愈战愈勇。
② \neg （不战自败、不打自垮） \rightarrow （信仰、信念、信心）。

A 项，整理为： \neg （信仰、信念、信心） \rightarrow 不战自败、不打自垮。这是②的逆否等值命题，可以推出，当选。

所以，正确选项是 A。

92. 在智能手机流行的时代，我们每天发送信息，也收到信息。人际之间的电子信息交往已成为当今时代一种独特的交往方式。在面对重要的人或关系时，很多人往往发出信息后就期待被秒回，如果没有被秒回，他们就产生一种怀疑感或被弃感，从而陷入深深的烦恼和焦虑之中。

以下哪项最可能是他们陷入深深烦恼和焦虑所需的假设？

- A. 当前技术已能实现智能手机的即时通信，方便快捷，且基本免费
B. 有些聊天软件能在发送者手机中反馈信息接收者是否阅读了信息
C. 有些人工作很忙，总习惯在忙完一天工作后才统一处理相关信息
D. 有些人一天收到的信息太多，容易遗漏某人期待秒回的重要信息

【答案】A。解析：

搭桥型。

论点：在面对重要的人或关系时，很多人往往发出信息后就期待被秒回，如果没有被秒回，他们就产生一种怀疑感或被遗弃感，从而陷入深深的烦恼和焦虑之中。

论据：无。

本题无论据，只能通过补充论据进行加强。提问方式是假设类，优先考虑补充必要条件，即没有这个选项，论点则无法成立。

A 项：如果智能手机不能即时通信，那么发出的信息就无法被即时接收，发出者就不会期待秒回，也不会陷入深深的烦恼和焦虑，因此智能手机已能实现即时通信是论证成立所需的假设，当选；

B 项：信息接收者是否阅读了信息与发出者是否期待秒回没有直接关系，属于无关选项，不是论证成立所需的假设，排除；

C 项：接收者什么时候阅读信息与发出者是否期待秒回没有直接关系，属于无关选项，不是论证成立所需的假设，排除；

D 项：接收者是否遗漏了重要信息与发出者是否期待秒回没有直接关系，属于无关选项，不是论证成立所需的假设，排除。

所以，正确选项是 A。

93. 某地开展企业结对扶贫创新活动，倡导企业家与贫困家庭互选，要求每户贫困家庭只能选 1 位企业家，而每位企业家只能在选他的贫困家庭中选择 1—2 户开展帮扶活动。现有企业家甲、乙、丙 3 人面对张、王、李、赵 4 户贫困家庭，已知：

(1) 张、王 2 户至少有 1 户选择甲；

(2) 王、李、赵 3 户中至少有 2 户选择乙；

(3) 张、李 2 户中至少有 1 户选择丙。

事后得知，互选顺利完成，每户贫困家庭均按自己心愿选到了企业家，而每位企业家也按要求选到了贫困家庭。

根据以上信息，可以得出以下哪项？

A. 企业家甲选到了张户

B. 企业家乙选到了赵户

C. 企业家丙选到了李户

D. 企业家甲选到了王户

【答案】B。解析：

分析题干条件为：

(1) 张或王选甲

(2) 王、李、赵中至少 2 户选乙

(3) 张或李选丙

由题干可知，因为 3 名企业家，4 户贫困户，最后都顺利互选，所以一定是有两名企业家都只帮扶一户，而有一名企业家帮扶两户。

由 (2) 可知帮扶两户的是乙，故甲、丙都只与 1 户互选。

由 (1) 可知：甲不可能选赵。

由 (3) 可知：丙也不可能选赵。

则必定是乙帮扶赵。

所以，正确选项是 B。

94. 当今社会，不少老人为了帮助子女照顾下一代而漂泊异乡成为“老漂族”。在最近一项城市调查中，52.2% 的受访青年坦言，自己的父母就是老漂族，自己与爱人事业刚刚起步，工作压力较大，根本没有时间照顾孩子和做家务。有专家据此断言，我国城市中的老漂族群体还会进一步扩大。

以下哪项如果为真，最能支持上述专家的观点？

A. 老人在城市养老可拥有比乡村更好的医疗条件

B. 有些老人故土难离事务缠身更愿意生活在家乡

C. 国家二孩政策的实施将会促使更多的孩子出生

D. 二孩政策实施后城市的二孩出生率要低于农村

【答案】C。解析：

支持型。

需要支持的论点：我国城市中的老漂族群体还会进一步扩大。

论据：52,2%的受访青年坦言，自己的父母就是老漂族，自己与爱人事业刚刚起步，工作压力较大，根本没有时间照顾孩子和做家务。

A项：说的是城市养老医疗条件比乡村更好，与论点说的老漂族群体会进一步扩大无关，话题不一致，无法加强，排除；

B项：说的是老人更愿意生活在家乡，老人的意愿与论点说的老漂族群体会进一步扩大无关，无法加强，排除；

C项：国家二孩政策会促使更多的孩子出生，补充论据说明需要老人照顾孩子的情况会更多，对老漂族群体扩大进行了加强，可以支持，当选；

D项：二孩出生率农村更高，农村需要老人照顾孩子的需求会更多些，老漂族应该会减少而不是扩大，无法加强，排除。

所以，正确选项是C。

95. 某区对所辖钟山、长江、梅园、星海4个街道进行抽样调查，并按照人均收入为其排序。有人根据以往经验对4个街道的人均收入排序作出如下预测：

(1) 如果钟山街道排第三，那么梅园街道排第一；

(2) 如果长江街道既不排第一也不排第二，那么钟山街道排第三；

(3) 钟山街道排序与梅园街道相邻，但与长江街道不相邻。

事后得知，上述预测符合调查结果。

根据以上信息，可以得出以下哪项？

A. 钟山街道不排第一就排第四

B. 长江街道不排第二就排第三

C. 梅园街道不排第二就排第四

D. 星海街道不排第一就排第三

【答案】A。解析：

钟山出现次数最多，为最大信息，可作为突破口。

根据(3)可知：钟山与梅园相邻。则可推知(1)是假的，即：钟山不可能排第三，梅园必定排第一。

钟山不排第三是对②的否后，否后必否前，则长江排名是第一或者第二。

结合“梅园排第一”，可知长江排第二。

则可知：梅园排第一，长江排第二，钟山只能排第四，星海排第三。只有A项成立。

所以，正确选项是A。

96. 人饿了会吃东西，一旦摄入碳水化合物、脂肪、蛋白质等能量营养素，就能消除饥饿感，这种缺乏能量营养素的饥饿是显性饥饿。然而，人体健康还需铁、锌等16种矿物元素及维生素A、维生素E等13种维生素，如果缺乏这些微量营养素，则会造成隐性饥饿。显然，显性饥饿只要“吃饱”就能解决，而隐性饥饿只有“吃好”才能应对。

根据以上陈述，可以得出以下哪项？

A. 既要“吃饱”又要“吃好”，如此就能保证人体的健康

B. 消除显性饥饿对人更重要，只有“吃饱”才能“吃好”

- C. 隐性饥饿并不同于显性饥饿，“吃不好”不等于“吃不饱”
- D. 隐性饥饿对人体健康的危害比显性饥饿更大、更隐蔽

【答案】C。解析：

推断文意。

A 项：根据题干可知，“吃饱”可以解决显性饥饿，“吃好”可以解决隐性饥饿，但题干未提及二者同时成立是否就能保证人体健康，无法推出，排除；

B 项：题干中并未比较消除显性饥饿与消除隐性饥饿哪个更重要，无法推出，排除；

C 项：根据题干最后一句话可知，显性饥饿只要“吃饱”就能解决，而隐性饥饿只有“吃好”才能应对，说明这两种饥饿是不同的，其解决方式也并不相同，可以推出，当选；

D 项：题干中并未比较显性饥饿与隐性饥饿哪个对人体的健康危害更大，无法推出，排除。

所以，正确选项是 C。

97. 某县新一届党政领导班子刚组建完成，一心想为群众做一些实事。面对有限的财力，新一届领导班子明确表示，今年只能完成两件大事。对于众多排进公共政策议程的大事，他们认为：如果建一条乡村公路，则不能建污水处理厂；如果建污水处理厂，则要建排污管道；如果建排污管道，则不能建垃圾处理厂。

按照这届领导班子的想法，以下哪项不可能是他们今年同时要建设的？

- A. 乡村公路、排污管道
- B. 乡村公路、垃圾处理厂
- C. 污水处理厂、排污管道
- D. 污水处理厂、垃圾处理厂

【答案】D。解析：

整理题干条件为：

(1) 如果建一条乡村公路，则不能建污水处理厂。

(2) 如果建污水处理厂，则要建排污管道。

(3) 如果建排污管道，则不能建垃圾处理厂。

(4) 只能完成两件大事。

验证 A 项：若建公路和排污管道，根据 (1) 得到不建污水处理厂，根据 (2) 得到不建垃圾处理厂，此时完成两件大事，与题干已知条件不矛盾，可以推出，排除。

验证 B 项：若建公路和垃圾处理厂，根据 (1) 得到不建污水处理厂，根据 (4) 得到不建排污管道以及不建污水处理厂，此时完成两件大事，与题干已知条件不矛盾，可以推出，排除。

验证 C 项：若建污水处理厂和排污管道，根据 (1) 的否后必否前，得到不建公路，根据 (4) 得到不建垃圾处理厂，此时完成两件大事，与题干已知条件不矛盾，可以推出，排除。

验证 D 项：根据 (2)(3) 可知，建污水处理厂，则建排污管道，则不建垃圾处理厂，因而导致不可能同时建污水处理厂和垃圾处理厂，不能推出，当选。

所以，正确选项是 D。

98. 科幻小说《三体》中提出的“黑暗森林理论”告诉我们，人类千万不能向宇宙透露我们地球的位置，否则就会被外星文明毁灭。但是，早在《三体》出版之前的 1974 年，人类就向距离地球超过 2.2 万光年的武仙座星团发送了一段无线电信号，以光速主动向宇宙宣告了自身的存在。这个编号为 M13 的武仙座星团拥有数十万颗恒星。科学家认为，恒星周围一般会伴有行星，恒星上不可能存在生命体，但行星上却可能有。深信黑暗森林理论的人不禁为人类这一鲁莽举动感到担心，认为人类的美好期望有可能会迎来残酷的现实。

- 以下哪项如果为真，最能说明这种担心是不必要的？
- A. 迄今为止人类并没有发现任何外星生命存在的迹象
 - B. 类地行星也并不罕见，平均每 5 颗恒星就拥有 1 颗
 - C. 恒星密集分布的武仙座星团内不存在任何行星系统
 - D. 即使武仙座星团文明收到信号也要在 2.2 万年以后

【答案】C。解析：

削弱型。

文段较长而且问法比较特殊，问“说明这种担心是不必要的”，可以理解成是削弱题。

需要削弱的论点：人类的美好期望有可能会迎来残酷的现实。

论据：人类千万不能向宇宙透露我们地球的位置，否则就会被外星文明毁灭。但是，早在《三体》出版之前的 1974 年，人类就向距离地球超过 2.2 万光年的武仙座星团发送了一段无线电信号，以光速主动向宇宙宣告了自身的存在。

可以直接削论点，即说不用担心人类未来；也可以削弱论据，即说这段信号不会被外星文明接收到。

A 项：指出迄今为止还没有发现任何外星生命存在的迹象，但是没有发现不代表以后不存在，属于不明确选项，无法削弱，排除；

B 项：论点说的是人类有可能会迎来残酷现实，属于支持项，无法削弱，排除；

C 项：指出武仙座星团不存在任何行星系统，也就是说不会存在生命体，就不会给人类带来危害，削弱论据，可以削弱，当选；

D 项：指出武仙星团接收到信号的时间会在 2.2 万年以后，之后是否会给地球上的人类带来危害，不得而知，属于不明确选项，无法削弱，排除

所以，正确选项是 C。

根据资料回答 99—100 题。

某市江海区决定对东风路、西河路、南塘路、北海路等 4 条辖区内道路进行市容出新。为了解群众意见，制定符合民意的出新方案，区政府相关部门的甲、乙、丙、丁 4 位同志两人一组结伴展开调研。已知，每人各选两条道路，每条道路恰有两人选择，在每条道路的调研中，乙与丙始终没有在一组。另外，还知道：

- (1) 如果甲选东风路，则丁也选东风路；
- (2) 如果丙选南塘路，则丁也选南塘路；
- (3) 甲没有选南塘路。

99. 根据上述信息，可以得出以下哪项？

- A. 甲选西河路和北海路
- B. 乙选西河路和南塘路
- C. 丙选东风路和西河路
- D. 丁选东风路和北海路

【答案】。解析：

根据“乙与丙始终没有在一组”可知，乙、丙中必定有一人跟甲一组。有两种情况：

情况 1：假如，乙和甲一组，根据条件“如果甲选东风路，则丁也选东风路”可知，甲东风、乙和丁也东风，与题干每条道路恰有两人选择矛盾。

因此，甲不选东风，根据条件“甲没有选南塘路”可知，甲只能选西河和北海。

情况 2：假如，丙和甲一组，根据条件“如果甲选东风路，则丁也选东风路”可知，甲东风、丙和丁也东风，与题干每条道路恰有两人选择矛盾。

因此，甲不选东风，根据条件“甲没有选南塘路”可知，甲只能选西河和北海。
无论那种情况，最后甲都只能选西河和北海。
所以，正确选项是 A。

100. 如果乙不选东风路，则可以得出以下哪项？

- A. 甲或者选东风路或者选南塘路
- B. 乙或者选西河路或者选南塘路
- C. 丙或者选南塘路或者选北海路
- D. 丁或者选西河路或者选北海路

【答案】B。解析：

整理题干条件为：

- (1) 如果甲选东风路，则丁也选东风路；
- (2) 如果丙选南塘路，则丁也选南塘路；
- (3) 甲没有选南塘路。

根据“每人各选两条道路，每条道路有两人选择。”且“乙和丙始终没有在一组。”可以得到：乙和丙各选不重叠的两条路，甲丁各选不重叠的两条路。

根据条件(1)，若甲选东风路则丁也选东风，这样甲丁选择的的路的重叠了，矛盾。可以得到“甲不选东风路”，进而可以得到“甲选西河路和北海路”。因此排除 A 项。

甲选择西河路和北海路，那么丁选择另外两条南塘路和东风路。因此排除 D 项。

又根据题干“乙不选东风路”，可知丙选择东风路。

西河路、南塘路、北海路可以任意出现 1 个丙 2 个乙。

丙不一定要选“南塘路或者选北海路”，还可以选西河路。因此排除 C 项。

乙在三者中选择两个，必然会选择“西河路或者选南塘路”之一。B 项符合题意当选。

所以，正确选项是 B。

四、定义判断（15 题）。定义判断。每道题先给出定义，然后列出四种情况，要求你严格依据定义，从中选出一个最符合或最不符合该定义的答案。注意：假设这个定义是正确的，不容置疑的。

101. 公众充权：指在公共政策的制定、执行、评估、监督过程中，公众积极参与，充分表达自己的利益主张，以推动公共政策过程的民主化与科学化。

下列属于公众充权的是：

- A. 清明节到来前夕，一些社会人士在市文明办支持下创建了文明祭扫网站，号召民众祭扫时不放鞭炮，不烧纸钱，改用虚拟鲜花、电子蜡烛等绿色环保的方式
- B. 快递小哥小李当选市人大代表后，在广泛走访充分调研的基础上，提交了一份关于如何保障快递员权益、促进快递行业健康发展的议案
- C. 某市将要召开天然气价格调整听证会，有关部门要求辖区各街道、居委会搞好宣传动员工作，按照下达名额推举市民代表，确保公开公平公正
- D. 在某县未来五年发展规划制定过程中，县委、县政府通过召开居民座谈会、专家听证会等形式，征求到了许多宝贵的意见

【答案】D。解析：

属于型。

公众充权的定义关键词：“在公共政策的制定、执行、评估、监督过程中”、“公众积极参与，充分表达自己的利益主张”、“推动公共政策过程的民主化与科学化”。

A 项：创建文明祭扫网站，号召改用绿色环保的方式，不符合“在公共政策的制定、执行、评估、

监督过程中”，不符合定义，排除；

B 项：提交议案，不符合“在公共政策的制定、执行、评估、监督过程中”，不符合定义，排除；

C 项：召开天然气价格调整听证会可以理解为“在公共政策的制定、执行、评估、监督过程中”，但按照下达名额推举市民代表，不符合“公众积极参与，充分表达自己的利益主张”，不符合定义，排除；

D 项：在某县未来五年发展规划制定过程中，符合“在公共政策的制定、执行、评估、监督过程中”，通过召开居民座谈会、专家听证会等形式，征求到了许多宝贵的意见，符合“公众积极参与，充分表达自己的利益主张”，符合定义，当选。

所以，正确选项是 D。

102. 信息扶贫：指政府或社会群体借助信息技术手段来解决因信息闭塞而导致的经济、文化上的贫困问题。

下列属于信息扶贫的是：

A. 某物流公司联手互联网巨头在边远山区定向从贫困户中招聘一批快递员，经过专业培训之后上岗，帮他们走上了脱贫致富的道路

B. 某手机生产厂家面向农村市场，推出了一款低成本、易操作、大屏幕、待机时间长的时尚智能手机，村民们纷纷换掉了原来的旧手机

C. 省城某重点中学建立网络课堂，向某贫困县的中学进行远程同步直播，使两地师生共享优质教学资源。几年来，该县考上重点大学的人数明显增多

D. 毕业返乡的小周带着几个同学开了家网店，在网上销售自家种植的红枣，销量逐步上升，日子越来越红火

【答案】C。解析：

属于型。

信息扶贫的定义关键词：“政府或社会群体借助信息技术手段”、“解决因信息闭塞而导致的经济、文化上的贫困问题”。

A 项：招聘快递员，经过专业培训之后上岗，未体现“借助信息技术手段”，不符合定义，排除；

B 项：某手机生产厂家面向农村市场推出时尚智能手机，未体现“解决贫困问题”，也未体现“借助信息技术手段”，不符合定义，排除；

C 项：建立网络课堂，进行远程同步直播，符合“借助信息技术手段”，共享优质教学资源，该县考上重点大学的人数明显增多，符合“解决因信息闭塞而导致的文化上的贫困问题”，符合定义，当选；

D 项：开网店可以理解为“信息技术手段”，但未体现“解决因信息闭塞而导致的经济、文化上的贫困问题”，不符合定义，排除。

所以，正确选项是 C。

103. “一门式”政务服务：指为了方便群众，将原本需要跑多个政府部门才能办成的事项集中到一个服务中心或简化到一个窗口办结的服务行为。

下列属于“一门式”政务服务的是：

A. 某市建立了一个社会综合治理云平台，将多种渠道发现的社会问题按照标准化流程推送到相应的职能部门，明确责任人并限时解决，避免了部门之间推诿扯皮的情况

B. 某市新近成立了一个残疾人服务站，以前残疾人申请生活补贴需要携带申请表到各级残联审批盖章，现在只需到服务站提出申请，各级审批部门就会即时看到并办妥

C. 市医院为了解决患者就医难的问题，在一楼大厅开设了便民门诊，挑选了一批医术精湛的医生坐诊，患者可以一站式完成挂号、收诊、缴费、取药的全部流程

D. 某市非本地户籍的适龄儿童入学过去需要的监护人现场提交户口、住房、工作证明等材料，现在

只要通过教育部门专设的网报名登记系统，就可一键提交全部材料

【答案】B。解析：

属于型。

“一门式”政务服务的定义关键词：“为了方便群众”、“将原本需要跑多个政府部门才能办成的事项集中到一个服务中心或简化到一个窗口办结”。

A项：将多种渠道发现的社会问题按照标准化流程推送到相应的职能部门，未体现“集中到一个服务中心或简化到一个窗口办结”，且未体现“群众原本需要跑多个政府部门才能办成事项”，不符合定义，排除；

B项：以前残疾人申请生活补贴需要携带申请表到各级残联审批盖章，体现了“原本需要跑多个政府部门”，现在只需到服务站提出申请，各级审批部门就会即时看到并办妥，体现了“集中到一个服务中心或简化到一个窗口办结”，且体现了“方便群众”，符合定义，当选；

C项：市医院不属于政府部门，并且市医院为了解决患者就医难的问题，未体现“原本需要跑多个政府部门”，也不属于“政务服务”，不符合定义，排除；

D项：过去需要监护人现场材料，未体现“原本需要跑多个政府部门”，“通过教育部门专设的网报名登记系统一键提交全部材料”是线上报名，未体现“集中到一个服务中心或简化到一个窗口办结”，不符合定义，排除。

所以，正确选项是B。

104. 社会性处罚：指存在失信行为的人员所受到的与自身失信行为没有直接关联的来自其他部门的限制和处罚。

下列属于社会性处罚的是：

- A. 以“站不起来”为理由强占他人座位的高铁“霸座男”，当场受到了乘警的严肃批评，下车后被移送公安机关接受治安处罚。这一事件曝光后，当事人的恶劣行为又遭到了全国网民的一致谴责
- B. 由于数据造假，某教授在国际期刊上发表的论文被撤稿。在网民的谴责声中，该教授又被撤销了基于该论文所获得的绩效奖励、省部级科研项目、荣誉称号、社会兼职
- C. 春节前夕，恶意拖欠农民工工资的部分包工头，被有关部门和各种媒体曝光，引起社会各界密切关注。根据银行、保险、铁路等部门的规定，这些违规者申请信用卡、购买保险以及动车和高铁票时都将受到限制
- D. 长江沿岸的一家化工企业，多次不顾禁令向长江偷偷排污，最近被省有关部门通报批评，吊销了企业生产执照，它的上级主管部门及主要负责人也都受到了严厉的处罚

【答案】C。解析：

属于型。

社会性处罚的定义关键词：“存在失信行为的人员”、“所受到的与自身失信行为没有直接关联的来自其他部门的限制和处罚”。

A项：以“站不起来”为理由强占他人座位的高铁“霸座男”，符合“存在失信行为的人员”，当场受到了乘警的严肃批评，被移送公安机关接受治安处罚，这是与自身失信行为有直接关联的限制和处罚，不符合“所受到的与自身失信行为没有直接关联的来自其他部门的限制和处罚”，不符合定义，排除；

B项：某教授数据造假，符合“存在失信行为的人员”，论文被撤稿，撤销了基于该论文所获得的绩效奖励、省部级科研项目、荣誉称号、社会兼职，均是自身失信行为有直接关联的处罚，不符合“所受到的与自身失信行为没有直接关联的来自其他部门的限制和处罚”，不符合定义，排除；

C项：恶意拖欠农民工工资的包工头，符合“存在失信行为的人员”，申请信用卡、购买保险以及动车和高铁票时都将受到限制，符合“所受到的与自身失信行为没有直接关联的来自其他部门的限制和处罚”，符合定义，当选；

D项：长江沿岸的一家化工企业，多次不顾禁令向长江偷偷排污，不符合“存在失信行为的人员”，不符合定义，排除。

所以，正确选项是C。

105. 友善采购：指因自然灾害或其他无法抗拒的因素而造成产品大量积压时，购买方按照不低于甚至略高于批发价或市场价的方式购买这些产品，以帮助生产者渡过难关的行为。

下列属于友善采购的是：

A. 近期原材料价格上涨，各种电子器件供应紧张，某企业主动加价，从长期供货商那里购入了大批急需的电子器件，保证了企业生产的正常进行

B. 因连日暴雨引发山洪，造成当地瓜农数十亩即将上市的西瓜被淹，对口帮扶城市得知消息后，以市场价收购了该地瓜农的全部西瓜

C. 南方某地水果大获丰收，造成大量积压滞销，采购商得知东北销路很好，从忧心忡忡的果农那里大量购进，转销东北，获利颇丰

D. 某少数民族的传统手工艺虽然已成功申遗，其产品却始终打不开销路，经过民俗专家在媒体上的大力推介，终于走出了大山，市场反响很好

【答案】B。解析：

属于型。

友善采购的定义关键词：“因自然灾害或其他无法抗拒的因素而造成产品大量积压”、“购买方按照不低于甚至略高于批发价或市场价的方式购买这些产品”、“以帮助生产者渡过难关”。

A项：该选项中的企业是为了保障生产的正常运行而主动提出加价，没有体现出生产者因自然灾害或其他无法抗拒的因素而造成产品大量积压，也不符合“以帮助生产者渡过难关”，不符合定义，排除；

B项：连日暴雨引发山洪，符合“因自然灾害或其他无法抗拒的因素”，数十亩，符合“造成产品大量积压”，对口帮扶城市以市场价收购了瓜农的全部西瓜，符合“购买方按照不低于甚至略高于批发价或市场价的方式购买这些产品”和“以帮助生产者渡过难关”，符合定义，当选；

C项：南方某地水果大丰收，造成大量积压，“大丰收”不符合“因自然灾害或其他无法抗拒的因素”，且该选项也没有体现出“购买方按照不低于甚至略高于批发价或市场价的方式购买这些产品”，不符合定义，排除；

D项：某少数民族的传统手工艺产品打不开销路，没有体现出“因自然灾害或其他无法抗拒的因素而造成产品大量积压”，不符合定义，排除。

所以，正确选项是B。

106. 情感性劳动：指服务业员工在与顾客面对面交往时，将个人情感融入工作过程，对顾客、企业以及服务人员自己产生积极影响的行为。

下列属于情感性劳动的是：

A. 某航空公司空姐站在登机口两旁欢迎乘客，时不时还会微笑着摸摸小孩的头

B. 小刘总是面带微笑、语气亲切热情地接打电话，连续多年被评为最美接线员

C. 某酒店智能客服“小青”善解人意，语音甜美，入住的客人都喜欢和她互动

D. 小秦在信访局工作多年，每次接待来访者，都非常耐心，细致了解具体情况

【答案】A。解析：

属于型。

情感性劳动的定义关键词：“服务业员工”、“顾客”、“面对面”、“个人感情”、“对顾客、企业及自己产生积极影响”。

A项：空姐属于“服务业员工”，站在登机口欢迎属于“面对面”，微笑摸摸小孩的头符合“个人感

情”，符合定义，当选；

B项：接打电话不符合“面对面”，不符合定义，排除；

C项：小青是智能客服，不符合“个人情感”，不符合定义，排除；

D项：小秦在信访局工作，符合“服务业员工”，接待来访者符合“面对面”，耐心、细致了解只体现工作负责，未体现“个人感情”，不符合定义，排除。

所以，正确选项是A。

107. 隐形植入：指通过周边信息、符号体系等不易察觉的形式，使受众在不知不觉中受到影响的宣传策略。

下列属于隐形植入的是：

A. 在某电视剧中，所有角色均使用同一品牌的手机，并使用这个品牌的经典铃声

B. 城运会到来之前，商家把印有城运会会徽的各类文化创意产品陆续摆上了柜台

C. 在某市博物馆馆标设计征集中，8号方案以浓郁的地域文化元素受到了评委的关注

D. 结婚纪念日快到了，为了提醒粗心又忙碌的丈夫，小李偷偷把他的手机屏保换成了婚纱照

【答案】A。解析：

属于型。

隐形植入的定义关键词：“不易察觉的形式”、“不知不觉受到影响”、“宣传策略”。

A项：在电视剧中使用同一品牌手机，用该品牌经典铃声符合“不易察觉的形式”，“不知不觉受到影响”，也是“宣传策略”，符合定义，当选；

B项：印有城运会会徽，不符合“不易察觉的形式”，不符合定义，排除；

C项：馆标设计受到评委关注，不属于“宣传策略”，不符合定义，排除；

D项：小李提醒丈夫结婚纪念日，把丈夫手机屏保换成婚纱照，符合“不易察觉的形式”，但不属于“宣传策略”，不符合定义，排除。

所以，正确选项是A。

108. 逆城镇化：指由于工作、生活、环境等原因，城市居民主动从城区流向郊区或农村生活的现象。

下列属于逆城镇化的是：

A. 市民李先生在市中心工作生活多年，去年跳槽到郊区一家企业，并在单位附近买了一套房，感觉工作生活十分方便

B. 随着业务量扩大，某物流企业的库房不能满足业务需要，在城里另租场地成本太高，公司在租金较低的农村租用了一处大型库房

C. 近年来，因为城里交通拥堵，压力太大，不少城市白领纷纷到周边乡村度假，享受田园生活的乐趣

D. 由于编制体制调整，林女士的丈夫从大城市换防到千里之外的戈壁滩，为了支持丈夫工作，林女士打算带着儿子到新的驻地附近安家

【答案】A。解析：

属于型。

逆城镇化的定义关键词：“由于工作、生活、环境等原因”、“城市居民”、“主动”、“从城区流向郊区或农村生活”。

A项：市民李先生符合“城市居民”，跳槽到郊区一家企业并在单位附近买房符合“由于工作、生活、环境等原因”、“从城区流向郊区或农村生活”，跳槽是一种个人选择，符合“主动”，符合定义，当选；

B项：某物流企业因业务需要在租金较低的农村租用了一处大型库房是商业行为，不属于生活，不符合“城市居民”，“主动从城区流向郊区或农村生活”，不符合定义，排除；

C项：到周边乡村度假，享受生活乐趣不是去乡村生活，不符合“主动从城区流向郊区或农村生活”，不符合定义，排除；

D项：从大城市换防到千里之外的戈壁滩，林女士打算带着儿子到新的驻地附近安家，符合“由于工作、生活、环境等原因”、“从城区流向郊区或农村生活”，但丈夫是由于编制调整去到戈壁滩，不符合“主动”，不符合定义，排除。

所以，正确选项是A。

109. 剧场效应：指由于个体成员追求自身利益最大化，引发其他成员效仿而导致集体秩序失衡，整体利益受损的现象。

下列属于剧场效应的是：

A. 小明参加了一个高价辅导班，小芳的家长知道后，给她报了一个更贵的，他们觉得如果不上，小芳的成绩就可能比不上小明了

B. 电商平台在小长假推出了五花八门的促销方式，其中的个别商家玩起了先提价、后打折的把戏，严重影响了平台的整体信誉

C. 近年来汽车销售大战愈演愈烈，几大厂商最初是在电视台、报纸打广告，后来演变成高价请明星代言，成本投入越来越高，利润却越来越低

D. 考虑到仙霞路上有大型活动，小王选择了平时不大走的春光路上班，没想到由于大家不约而同地走这条路，导致春光路严重堵塞，仙霞路反而畅通无阻

【答案】C。解析：

属于型。

剧场效应的定义关键词：“由于个体成员追求自身利益最大化，引发其他成员效仿”、“导致集体秩序失衡，整体利益受损的现象”。

A项：小明参加高价辅导班，小芳的家长给小芳报了一个更贵的，没有体现“导致集体秩序失衡，整体利益受损的现象”，不符合定义，排除；

B项：电商平台推出促销方式，个别商家先提价、后打折，未体现出引起其他成员的效仿；结果是严重影响了平台的整体信誉，虽然最终结果是负面的，但是“信誉受损”不等同于“集体秩序失衡，整体利益受损”，不符合定义，排除；

C项：汽车销售大战越演越烈，几大厂家从最初的打广告，演变成高价请明星代言，虽未体现出引起其他成

员效仿，但是恶化演变的最终结果是“利润却越来越低”，体现出“导致集体秩序失衡，整体利益受损”，符合定义，当选；

D项：仙霞路上有大型活动，每个人都选择了一条自认为畅通的道路，结果仙霞路反而畅通无阻，每个人不约而同的走这条路，不符合“引发其他成员效仿”，不符合定义，排除。

所以，正确选项是C。

110. 差异化竞争：指在同一行业多家企业短期的激烈竞争中，采用灵活多变的个性化手段，树立良好企业形象，赢得市场的经营方式。

下列属于差异化竞争的是：

A. 春节期间，几大网络短视频平台纷纷推出抢红包活动，你发五亿，他发八亿，竞争到了白热化的程度

B. 在其他房地产开发商纷纷降价促销的状况下，某楼盘提升楼盘品质，引进名校资源，销量遥遥领先于同期其他楼盘

C. 每到逢年过节的时候，市区的几家大型电器商场都会推出赠送小家电、延长保修期等优惠活动，

市民们往往等到这时集中采购

- D. 在实体书店普遍不景气的大环境下，位于繁华街区的某书店一直保持自身的市场定位，致力于销售高品位的专业图书，成了当地的文化地标

【答案】B。解析：

属于型。

差异化竞争的定义关键词：“同一行业企业”、“短期竞争”、“个性化手段”、“赢得市场”。

A 项：春节期间短视频平台符合“同一行业企业”、“短期竞争”，但是纷纷推出抢红包活动没有体现“个性化手段”，不符合定义，排除；

B 项：房地产开发商符合“同一行业企业”，其他房地产开发商降价促销，某楼盘提升楼盘品质，引进名校资源销量高于其他楼盘，符合“个性化手段”、“赢得市场”，符合定义，当选；

C 项：几家大型电器商场符合“同一行业企业”，过年期间符合“短期竞争”，赠送小家电、延长保修期等优惠活动没有体现出“个性化手段”，不符合定义，排除；

D 项：某书店定位销售高品位的专业图书符合“个性化手段”，实体书店普遍不景气的大环境说明是长期状态且没有体现竞争，不符合“短期竞争”，不符合定义，排除。

所以，正确选项是 B。

111. 大数据“杀熟”：指商家在提供相同的商品或服务时，根据大数据的甄别结果，对有多次消费记录或消费能力较高的客户，以偏高标准收费的销售策略。

下列属于大数据“杀熟”的是：

A. 小李负责单位的接待工作，经常要预约商务车接送。后来只要他打车，网约平台就直接推送高价的商务车，无奈之下小李只好注册一个新号供自己日常出行

B. 经常在网上预订酒店的老张在预订某酒店的单人间时，价格一直为 380 元。他的侄子暑假来看望他，也在网上预定了该酒店同样的房间，价格却便宜四分之一

C. 位于市中心金融服务区的某超市由于环境优越，客户购买力强，某品牌饮料在这里售价高达 15 元，而这种饮料在居民小区便利店只需要 10 元

D. 某购物网站推出新用户推广活动，每位新注册用户都可免费获赠抵用券，算下来买同样的商品新会员比老会员还要便宜好多，这让老会员们郁闷不已

【答案】B。解析：

属于型。

大数据“杀熟”的定义关键词：“相同的产品或服务”、“大数据甄别结果”、“多次消费记录或消费能力较高的顾客”、“偏高标准收费”。

A 项：经常预约商务车符合“多次消费记录或消费能力较高的顾客”，但单位的接送服务和日常的出行服务不属于“相同的产品或服务”，不符合定义，排除；

B 项：老张经常在网上预订酒店符合“多次消费记录或消费能力较高的顾客”，在网上预订符合“大数据”，侄子预订该酒店同样的房间符合“相同的产品或服务”，老张 380 元，侄子价格便宜了四分之一符合“偏高标准收费”，符合定义，当选；

C 项：金融服务区同品牌饮料比居民小区便利店高，符合“相同的产品或服务”、“偏高标准收费”，但不符合“大数据甄别结果”，不符合定义，排除；

D 项：新用户买同样商品比老用户便宜符合“相同的产品或服务”，但不属于针对“多次消费记录或消费能力较高的顾客”，是因为为了推广而赠送抵用券所以便宜，不符合定义，排除。

所以，正确选项是 B。

112. 语码转换：指说话人在同一对话过程中使用多种语言或方言进行交流的现象。

下列不属于语码转换的是：

- A. 约翰先生在中国生活多年，与单位同事交谈时总是坚持用汉语，有时实在不知道怎样准确表达自己的意思，也会夹杂三两个英语单词
- B. 马经理接待来访客户，用普通话向他们介绍了自己公司的情况。得知客户中有两位陕西老乡后，当即操起陕西话与他们攀谈了几句
- C. 在一次国际学术会议上，陈教授用英语作报告时带了一股浓浓的四川口音，参加会议的大多数外国学者几乎都没有听懂他的发言
- D. 来到留学生宿舍后，班主任方老师询问了他们的日常生活情况，当他发现一个学生流露出一解的神情时，立刻又用英语解释了一番

【答案】C。解析：

不属于型。

语码转换的定义关键词：“同一对话过程”、“多种语言或方言”。

A 项：约翰和同事交谈坚持用汉语，夹杂两三个英语单词，符合“同一对话过程”，英语和汉语两种语言符合“多种语言或方言”，符合定义，排除；

B 项：马经理接待客户符合“同一对话过程”，普通话、陕西话符合“多种语言或方言”，符合定义，排除；

C 项：陈教授作报告符合“同一对话过程”，四川口音的英语只有英语一种语言，不符合“多种语言或方言”，不符合定义，当选；

D 项：方老师询问学生日常生活符合“同一对话过程”、用英语解释表明之前说的不是英语，符合“多种语言或方言”，符合定义，排除。

所以，正确选项是 C。

113. 危机公关：指政府部门、社会团体或企业面对可能造成严重后果的突发事件时，有组织、有计划地采取各种应对措施，避免损害或者降低损害程度，以期获得公众谅解的管理活动。

下列不属于危机公关的是：

- A. 某公司生产的多批次药品标注虚假生产日期的消息曝光后，公司领导立即在报纸、电视台向全国公众道歉，宣布召回这些批次的产品，承诺通过合适渠道赔偿受害者，迅速查清并如实公布事件真相，请社会各界人士监督
- B. 某地曝出高考答题卡被掉包的传闻后，当地政府部门迅速成立联合调查组，网上公布高考命题、监考、阅卷等环节的操作规范，并及时发布调查进展情况，公众情绪逐渐平复，最终查明这一传闻完全是谣言
- C. “某品牌火腿肠使用过期猪肉”的消息在网络上蔓延，公司迅速查实后道歉、召回、赔偿，并制定了详细整改措施，承诺绝不会再出现此类事件，媒体和消费者慢慢平静下来
- D. 某商场管理层吸取毗邻商场因电路老化引起火灾、损失惨重的教训，定期组织专业人员加强对线路安全的检查，及时更换老旧电线，并且张贴《规范用电须知》提醒商家，商家都非常配合，防火意识显著增强

【答案】D。解析：

不属于型。

危机公关的定义关键词：“政府部门、社会团体或企业面对可能造成严重后果的突发事件时”、“有组织、有计划地采取各种应对措施，避免损害或者降低损害程度”、“以期获得公众谅解”。

A 项：某公司生产的多批次药品标注虚假生产日期的消息曝光后，符合“企业面对可能造成严重后果的突发事件时”，立即在报纸、电视台道歉，宣布召回产品，承诺赔偿受害者等，符合“有组织、有计划地采取各种应对措施，避免损害或者降低损害程度，以期获得公众谅解”，符合定义，排除；

B项：某地曝出高考答题卡被掉包的传闻后，符合“面对可能造成严重后果的突发事件时”，迅速成立联合调查组，网上公布操作规范，及时发布调查进展情况，查明这一传闻是谣言，符合“有组织、有计划地采取各种应对措施，避免损害或者降低损害程度，以期获得公众谅解”，符合定义，排除；

C项：“某品牌火腿肠使用过期猪肉”的消息在网络上蔓延，符合“面对可能造成严重后果的突发事件时”，迅速查实后道歉、召回、赔偿，并制定整改措施，符合“有组织、有计划地采取各种应对措施，避免损害或者降低损害程度，以期获得公众谅解”，符合定义，排除；

D项：某商场管理层吸取毗邻商场因电路老化引起火灾、损失惨重的教训，未体现“面对可能造成严重后果的突发事件时”，不符合定义，当选。

所以，正确选项是D。

114. 互联网公益：指民间团体或企业通过网络平台，发动社会公众参与的具有门槛低、透明度高、互动性强等特点的公益活动。

下列属于互联网公益的是：

- A. 某公司每年拨出专款开展公益活动，在官网上征集白内障患者并向符合特定条件的患者提供全部医疗费用
- B. 得知老张遭遇车祸，他的老同学通过班级群、朋友圈很快募集了三万多元捐款全部转交到他家
- C. 某爱心服务站每年开学前在自己的主页上公布来自各界的网络捐款账目，并邀请部分捐款人一起把善款送到山区小学
- D. 某村委会通过网络平台发起“一帮一”捐资助学活动，帮助本村特困家庭的大学生解决了学费问题

【答案】D。解析：

属于型。

互联网公益的定义关键词：“民间团体或企业”、“通过网络平台”、“公众参与”、“门槛低、透明度高、互动性强公益活动”。

A项：某公司符合“民间团体或企业”，在官网符合“通过网络平台”，并向符合特定条件的患者提供全部医疗费用，不符合“门槛低、透明度高、互动性强公益活动”，不符合定义，排除；

B项：通过班级群、朋友圈募集捐款符合“通过网络平台”，但其同学是发起人不符合“民间团体或企业”，不符合定义，排除；

C项：爱心服务站符合“民间团体或企业”，但是爱心服务站只是在主页上公布网络捐款账目的一方，未体现出此捐款活动的发动者是谁，主体不明确，不符合定义，排除；

D项：村委会是民间自治组织，属于“民间团体”，通过网络平台发起“一帮一”捐资助学活动符合“通过网络平台发动社会公众参与的公益活动”，且捐款捐资活动是具有“门槛低、透明度高、互动性强等特点的公益活动”，符合定义，当选。

所以，正确选项是D。

115. N 后置编码：指按照下列规则对一个符号串进行处理得到一个新符号串，N 表示一个数字。

- (1) 确认初始符号串中每个符号的顺序位置；
- (2) 将初始符号串的第一个符号跳过其后面的一个符号放置，得到一个新符号串；
- (3) 在新符号串中，将初始符号串的第二个符号跳过其后面的两个符号放置，……，依此类推，直到将初始符号串的第 N 个符号跳过其后面 N 个符号放置（数到最后一个符号再接着从头数起）。

车 马 象 士 炮 兵

初始符号串

的“4后置编码”是：

A.

车 士 马 炮 象 兵

B.

象 马 士 车 炮 兵

C.

马 士 车 炮 象 兵

D.

炮 马 车 象 士 兵

【答案】A。解析：

属于型。

根据4后置编码可知：

(1) 初始符号为1号位车、2号位马、3号位象、4号位士、5号位炮、6号位兵。

(2) 将初始符号中第一号位“车”跳过其后面的的一个符号放置，放在“马”后，得到新符号串1号位马、2号位车、3号位象、4号位士、5号位炮、6号位兵。

(3) 将初始符号中第二号位“马”，在得到的新符号串(2)中跳过其后面的两个符号放置，得到1号位车、2号位象、3号位马、4号位士、5号位炮、6号位兵。

(4) 将初始符号中第三号位“象”，在得到的新符号串(3)中跳过其后面的三个符号放置，得到1号位车、2号位马、3号位士、4号位炮、5号位象、6号位兵。

(5) 将初始符号中第四号位“士”，在得到的新符号串(4)中跳过其后面的四个符号放置，题干提示数到最后一个符号再接着从头数起，得到1号位车、2号位士、3号位马、4号位炮、5号位象、6号位兵。

所以，正确选项是A。

五、资料分析

下列给出的文字、表格、图形资料均有五个问题要你回答，请根据资料提供的信息进行分析、计算、处理，然后从四个选项中选出一项正确的答案。

一、请根据给定资料回答116~120题。

2018年国家统计局组织开展了第二次全国时间利用的随机抽样调查，共调查48580人。结果显示，受访居民在一天的活动中，有酬劳动平均用时4小时24分钟。其中，男性5小时15分钟，女生3小时35分钟；城镇居民3小时59分钟，农村居民5小时1分钟；工作日4小时50分钟，休息日3小时19分钟。受访居民有酬劳动的参与率为59.0%，其中城镇居民53.1%。受访居民无酬劳动平均用时2小时42分钟。其中，女性3小时48分钟；农村居民2小时39分钟；工作日2小时34分钟。受访居民无酬劳动的参与率为70.2%，其中男性55.3%。

无酬劳动包括家务劳动、陪伴照料孩子生活、护送辅导孩子学习、陪伴照料成年家人、购买商品或

服务、看病就医和公益活动。受访居民家务劳动平均用时 1 小时 26 分钟，参与率为 58.5%。其中，女性 2 小时 6 分钟，参与率 75.6%。受访居民陪伴照料孩子生活平均用时 36 分钟，参与率为 18.9%；护送辅导孩子学习平均用时 9 分钟，参与率为 10.2%；陪伴照料成年人平均用时 8 分钟，参与率为 5.0%；看病就医平均用时 4 分钟，参与率为 2.2%；公益活动平均用时 3 分钟，参与率为 4.1%。

116. 受访农村居民每日无酬劳动平均用时占其劳动平均用时的比重为：

- A. 29.8%
- B. 34.6%
- C. 38.0%
- D. 45.3%

【答案】B。解析：

由第一段（有酬劳动平均用时 4 小时 24 分钟。其中，农村居民 5 小时 1 分钟=301 分钟；受访居民无酬劳动平均用时 2 小时 42 分钟。其中，农村居民 2 小时 39 分钟=159 分钟），可知：

无酬劳动平均用时占其劳动平均用时的比重= $159 / (159 + 301) = 159 / 460 = (138 + 21) / 460 \approx 35\%$ 。

所以，正确选项是 B。

117. 下列活动的排列中，受访居民每日平均用时依次减少的是：

- A. 护送辅导孩子学习、购买商品或服务、看病就医
- B. 护送辅导孩子学习、看病就医、购买商品或服务
- C. 购买商品或服务、护送辅导孩子学习、看病就医
- D. 购买商品或服务、看病就医、护送辅导孩子学习

【答案】C。解析：

由第一段（受访居民无酬劳动平均用时 2 小时 42 分钟=162 分钟）和第二段（无酬劳动包括家务劳动、陪伴照料孩子生活、护送辅导孩子学习、陪伴照料成年人、购买商品或服务、看病就医和公益活动。受访居民家务劳动平均用时 1 小时 26 分钟=86 分钟。受访居民陪伴照料孩子生活平均用时 36 分钟，护送辅导孩子学习平均用时 9 分钟；陪伴照料成年人平均用时 8 分钟；看病就医平均用时 4 分钟；公益活动平均用时 3 分钟），可得购买商品或服务每日平均用时= $162 - 86 - 36 - 9 - 8 - 4 - 3 = 16$ 分钟。

C 项当选：购买商品或服务（16 分钟）、护送辅导孩子学习（9 分钟）、看病就医（4 分钟）。

所以，正确选项是 C。

118. 参与有酬劳动的受访城镇居民，每日有酬劳动的平均用时为：

- A. 5 小时 50 分钟
- B. 6 小时 40 分钟
- C. 7 小时 30 分钟
- D. 8 小时 20 分钟

【答案】C。解析：

由第一段（有酬劳动平均用时 4 小时 24 分钟。其中，城镇居民 3 小时 59 分钟 \approx 4 小时。受访居民有酬劳动的参与率为 59.0%，其中城镇居民 53.1%），

假设受访城镇居民 100 人，其中参与有酬劳动的有 53.1 人。

$4 \times 100 / 53.1$ 。首位商 7，C 项当选。

所以，正确选项是 C。

119. 受访的男性居民约有：

- A. 2.38 万人

- B. 2.43 万人
- C. 2.65 万人
- D. 2.91 万人

【答案】A。解析：

由第一段（2018 年国家统计局组织开展了第二次全国时间利用的随机抽样调查，共调查 48580 人。有酬劳动平均用时 4 小时 24 分钟。其中，男性 5 小时 15 分钟，女生 3 小时 35 分钟），

交叉交叉可得男女人数之比=（4 小时 24 分钟-3 小时 35 分钟）：（5 小时 15 分钟-4 小时 24 分钟）=49：51，

受访的男性居民有 $48580 \times 49 / (49+51) < 48580 / 2 = 24290$ 人。

所以，正确选项是 A。

120. 从上述资料中能够推出的是：

- A. 受访居民休息日无酬劳动平均用时多于 3 小时
- B. 受访女性居民无酬劳动的参与率介于 55.3%和 70.2%之间
- C. 受访居民中，有酬劳动和无酬劳动都参与的占比至少为 59.0%
- D. 受访居民不同类型无酬劳动的平均用时和参与率呈正相关

【答案】A。解析：

A 项，考查浓度混合思想；由第一段（有酬劳动平均用时 4 小时 24 分钟。工作日 4 小时 50 分钟，休息日 3 小时 19 分钟。受访居民无酬劳动平均用时 2 小时 42 分钟。工作日 2 小时 34 分钟），假设休息日无酬劳动平均用时为 x 小时，交叉交叉可得工作日和休息日的天数之比=（4 小时 24 分钟-3 小时 19 分钟）：（4 小时 50 分钟-4 小时 24 分钟）=（ $x-2$ 小时 42 分钟）：（2 小时 42 分钟-2 小时 34 分钟），解得 $x=3$ 小时 2 分钟。说法正确，当选。

B 项，考查浓度混合思想；由第一段（受访居民无酬劳动的参与率为 70.2%，其中男性 55.3%），可得女性居民无酬劳动的参与率大于 70.2%，说法错误，排除。

C 项，由第一段（受访居民有酬劳动的参与率为 59.0%。受访居民无酬劳动的参与率为 70.2%），容斥原理，可得有酬劳动和无酬劳动都参与的占比至少=59%+70.2%-100%=29.2%，说法错误，排除。

D 项，由第二段（看病就医平均用时 4 分钟，参与率为 2.2%；公益活动平均用时 3 分钟，参与率为 4.1%），可得平均用时和参与率并不呈正相关，说法错误，排除。

所以，正确选项是 A。

二、请根据给定资料回答 121~125 题。

2018 年江苏第一、二、三产业增加值分别为 4142 亿元、41248 亿元和 47205 亿元；城镇常住居民人均可支配收入 47200 元，增长 8.2%，农村常住居民人均可支配收入 20845 元，增长 8.8%；一般公共预算收入 8630 亿元，一般公共预算支出 11658 亿元。

表 2017年江苏三大区域部分社会经济发展指标数据

指标	单位	苏南	苏中	苏北
一般公共预算收入	亿元	4913	1246	1508
一般公共预算支出	亿元	5051	1793	2843
乡村从业人员	万人	626	689	1274
农林牧渔业总产值	亿元	1686	1680	4071
高速公路	公里	1870	948	1870
私人汽车拥有量	万辆	806.5	261.2	340.5
社会消费品零售总额	亿元	18316	5622	7800
出口	亿美元	3010.2	410.2	212.6
进口	亿美元	1993.0	175.5	109.9
旅游外汇收入	亿美元	37.62	2.42	1.91
城镇常住居民人均可支配收入	元	54169	40920	31007
城镇常住居民人均生活消费支出	元	32034	24549	18035
农村常住居民人均可支配收入	元	26759	20000	16501
农村常住居民人均生活消费支出	元	18872	14644	11763

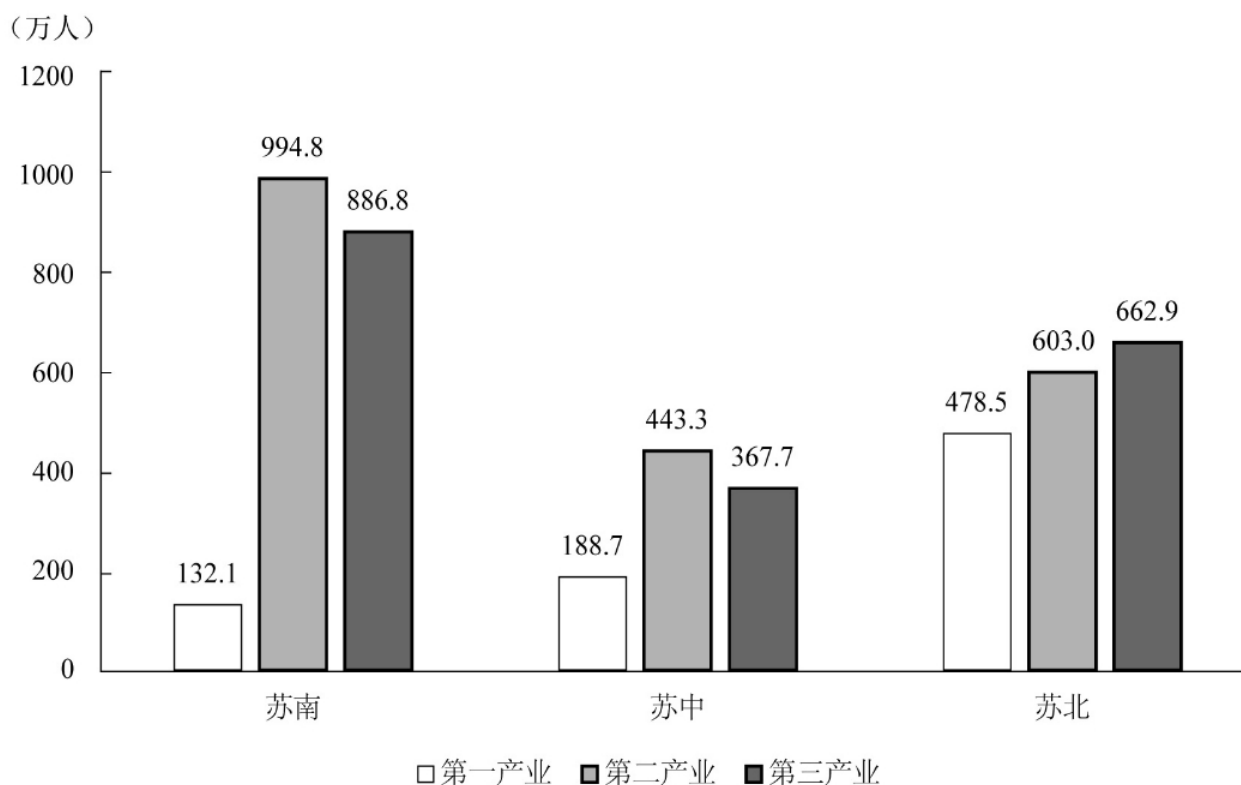


图1 2017年江苏三大区域三次产业就业人数情况

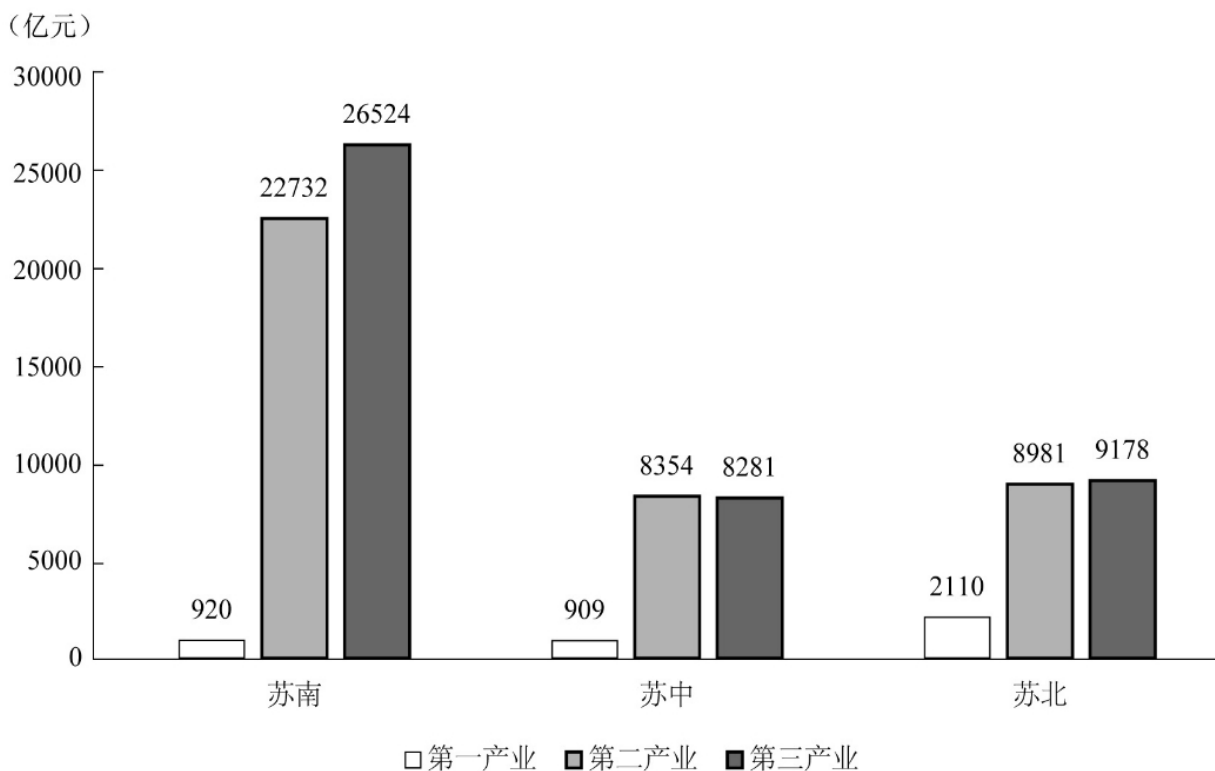


图2 2017年江苏三大区域三大产业增加值情况

121. 2018年江苏第三产业增加值比第二产业多:

- A. 12.6%
- B. 14.4%
- C. 15.1%
- D. 16.2%

【答案】B。解析:

由第一段(2018年江苏第一、二、三产业增加值分别为4142亿元、41248亿元和47205亿元),可知: $(47205-41248)/41248 \approx 5957/41248$,略小于15%。B项当选。所以,正确选项是B。

122. 上表所有指标中,2017年苏南与苏北地区指标数值相差不到一倍的有:

- A. 5项
- B. 6项
- C. 7项
- D. 8项

【答案】B。解析:

苏南与苏北的倍数关系小于2倍的有一般公共预算支出、高速公路、城镇常住居民人均可支配收入、城镇常住居民人均生活消费支出、农村常住居民人均可支配收入、农村常住居民人均生活消费支出。共有6项。

所以,正确选项是B。

123. 2018 年江苏一般公共预算收入比上年增加:

- A. 963 亿元
- B. 988 亿元
- C. 1963 亿元
- D. 1971 亿元

【答案】A。解析:

由第一段（一般公共预算收入 8630 亿元）和图表 1（苏南 4913 亿元、苏中 1246 亿元、苏北 1508 亿元），

可知： $8630 - (4913 + 1246 + 1508) = 963$ 亿元。

所以，正确选项是 A。

124. 2017 年苏南、苏中、苏北地区就业人员人均产业增加值最大的是:

- A. 苏中第三产业
- B. 苏南第二产业
- C. 苏南第三产业
- D. 苏北第二产业

【答案】C。解析:

由图表 2 和图表 3，可得四个选项的人均产业增加值分别为:

苏中第三产业： $8281/367 < 30$;

苏南第二产业： $22732/994 < 30$;

苏南第三产业： $26524/886 \approx 30$;

苏北第二产业： $8981/603 < 20$ 。

就业人员人均产业增加值最大的是苏南第三产业。

所以，正确选项是 C。

125. 从上述资料中能够推出的是:

- A. 2017 年苏中地区高速公路的里程不足全省的五分之一
- B. 2017 年苏北和苏中地区进口额之和不及苏南的八分之一
- C. 2018 年江苏城镇和农村常住居民人均可支配收入的绝对差距比上年有所缩小
- D. 2017 年苏中农村常住居民人均生活消费支出与人均可支配收入的比值大于苏南

【答案】D。解析:

A 项，由图表 1（苏南高速公路里程 1870 公里、苏中高速公路里程 948 公里、苏北高速公路里程 1870 公里），全省高速公路里程= $1870 + 948 + 1870 = 4688$ ， $948 > (4688/5) > 20\%$ ，说法错误，排除。

B 项，由图表 1（苏南进口额 1993 亿美元、苏中进口额 175.5 亿美元、苏北进口额 109.9 亿美元），可得 $(175.5 + 109.9) > (1993/8)$ ，说法错误，排除。

C 项，由第一段（城镇常住居民人均可支配收入 47200 元，增长 8.2%，农村常住居民人均可支配收入 20845 元，增长 8.8%），城镇常住居民的增长量大于农村常住居民的增长量，所以两者的差距拉大，说法错误，排除。

D 项，由图表 1 最后两行，可得苏中 $(14644/2000) >$ 苏南 $(18872/26759)$ ，说法正确，当选。

所以，正确选项是 D。

三、请根据给定资料回答 126~130 题。

2018 年全国互联网业务收入 9562 亿元，比上年增长 21.0%。其中，广东、上海、北京互联网业务

收入分别增长 26.5%、20.0%和 25.2%。2018 年互联网企业信息服务收入 8594 亿元，比上年增长 20.7%。其中，电子商务平台收入 3667 亿元，增长 13.1%；网络游戏业务收入 1948 亿元，增长 17.8%。2018 年互联网行业研发投入 490 亿元，比上年增长 19.0%。



图 2013-2018年全国互联网业务收入即增长情况

126. 2017 年全国互联网企业电子商务平台收入为：

- A. 2938 亿元
- B. 3012 亿元
- C. 3113 亿元
- D. 3242 亿元

【答案】D。解析：

由第一段（2018 年电子商务平台收入 3667 亿元，增长 13.1%），可得 2017 年全国互联网企业电子商务平台收入=3667/（1+13.1%）=3667/1.131=（3393+274）/1.131=3242 亿元。

所以，正确选项是 D。

127. 2018 年全国互联网企业信息服务收入占互联网业务收入的比重为：

- A. 79.9%
- B. 81.5%
- C. 89.9%
- D. 91.7%

【答案】C。解析：

由第一段（2018 年全国互联网业务收入 9562 亿元。2018 年互联网企业信息服务收入 8594 亿元），可得：2018 年全国互联网企业信息服务收入占互联网业务收入的比重=8594/9562=（9562-968）/9562=89.9%。

所以，正确选项是 C。

128. 2013~2018 年全国互联网业务收入增加最少的年份是：

- A. 2013 年
- B. 2014 年
- C. 2015 年
- D. 2016 年

【答案】A。解析：

由图表可得四个选项的同比增量分别为：

2013 年： $3317/4=829$ ；

2014 年： $4229-3317=912$ ；

2015 年： $5444-4229=1215$ ；

2016 年： $6651-5444=1207$ 。

所以，正确选项是 A。

129. 若从 2019 年起每年均按 2014~2018 年的平均增速增长，则 2023 年全国互联网业务收入将达到：

- A. 21620 亿元
- B. 27565 亿元
- C. 30147 亿元
- D. 31829 亿元

【答案】B。解析：

考查年均增长率。

由图表（2013 年全国互联网业务收入 3317 亿元、2018 年全国互联网业务收入 9562 亿元），

2013~2018 年的年均增长率=2018~2023 年的年均增长率，

可得 2023 年全国互联网业务收入= $9562 \times 9562/3317$ ，略小于 $9562 \times 3=28686$ ，B 项当选。

所以，正确选项是 B。

130. 从上述资料中能够推出的是：

- A. 2014~2018 年全国互联网业务收入年平均增量为 1067 亿元
- B. 2018 年广东、上海、北京的互联网业务收入总和比上年增长 23.9%
- C. 2018 年全国互联网行业研发投入与互联网业务收入的比值小于上年
- D. 2018 年全国互联网企业各类信息服务收入年增长最慢的是电子商务平台收入

【答案】C。解析：

A 项，由图表（2013 年全国互联网业务收入 3317 亿元、2018 年全国互联网业务收入 9562 亿元），可得 2014—2018 年全国互联网业务收入年平均增量= $(9562-3317)/5=1249$ 亿元，说法错误，排除。

B 项，由第一段（广东、上海、北京互联网业务收入分别增长 26.5%、20.0%和 25.2%），文段中并未给出广东、上海、北京互联网业务收入的本期量，无法推出混合增长率，排除。

C 项，考查比重趋势，由第一段（2018 年全国互联网业务收入 9562 亿元，比上年增长 21.0%。2018 年互联网行业研发投入 490 亿元，比上年增长 19.0%），分子增长率 19%小于分母增长率 21%、比重下降，说法正确，当选。

D 项，由第一段（2018 年互联网企业信息服务收入 8594 亿元，比上年增长 20.7%。其中，电子商务平台收入 3667 亿元，增长 13.1%；网络游戏业务收入 1948 亿元，增长 17.8%），因为 $3667+1948=5615$ 亿元 < 8594 ，说明还存在其他类型，无法判断电子商务平台收入是否年增长最慢，排除。

所以，正确选项是 C。

四、请根据给定资料回答 131~135 题。

2018 年我国硫酸、烧碱、纯碱、和乙烯产量分别为 5496 万吨、3159 万吨、2651 万吨和 129 万吨。2016 年一季度至 2018 年四季度我国硫酸、烧碱、纯碱、和乙烯产量见下图。

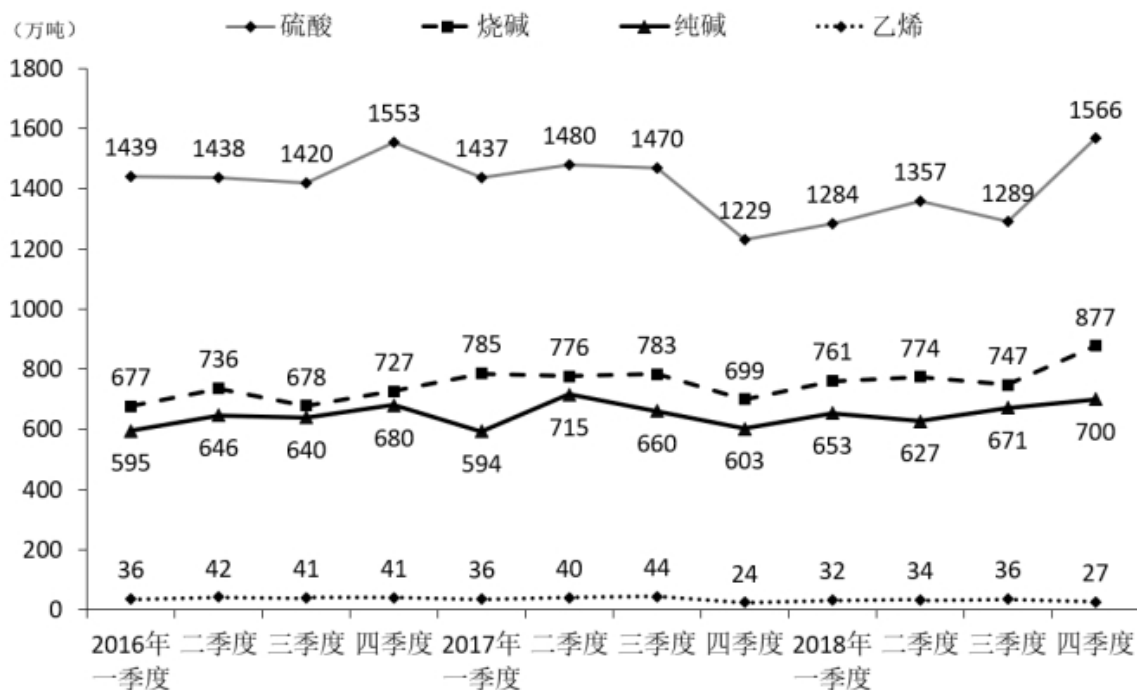


图 2016 年一季度至 2018 年四季度我国硫酸、烧碱、纯碱和乙烯产量情况

131. 2018 年我国硫酸、烧碱、纯碱和乙烯产量比上年增加最多的是：

- A. 硫酸
- B. 烧碱
- C. 纯碱
- D. 乙烯

【答案】B。解析：

考查同比增量的计算比较。

由第一段（2018 年我国硫酸、烧碱、纯碱和乙烯产量分别为 5496 万吨、3159 万吨、2651 万吨和 129 万吨），结合图表，可得四个选项的同比增量分别为：

硫酸： $5496 - (1437 + 1480 + 1470 + 1229) < 0$

烧碱： $3159 - (785 + 776 + 783 + 699) = 116$

纯碱： $2651 - (594 + 715 + 660 + 603) = 79$

乙烯： $129 - (36 + 40 + 44 + 24) < 0$

B 项烧碱产量比上年增加量最多。

所以，正确选项是 B。

132. 2016 年一季度至 2018 年四季度，我国硫酸、烧碱产量最接近的是：

- A. 2017 年一季度
- B. 2017 年四季度
- C. 2018 年一季度
- D. 2018 年三季度

【答案】C。解析：

由图表得，四个选项的硫酸、烧碱产量之差分别为：

2017 年一季度：1437-785=652；

2017 年四季度：1229-699=530；

2018 年一季度：1284-761=523；

2018 年四季度：1289-747=542。

C 项的差最小，即产量最接近。

所以，正确选项是 C。

133. 2016 年二季度至 2018 年四季度，我国烧碱产量的季平均增量是：

A. 12.8 万吨

B. 14.1 万吨

C. 16.7 万吨

D. 18.2 万吨

【答案】D。解析：

考查平均增量。

由图表（2016 年一季度我国烧碱产量 677 万吨，2018 年四季度我国烧碱产量 877 万吨），可得平均增量=（877-677）/（12-1）=200/11=18.2 万吨。

所以，正确选项是 D。

134. 设 2018 年四季度我国硫酸、烧碱、纯碱产量的同比增速分别为 V 硫、V 烧、V 纯，则下列关系正确的是：

A. V 硫>V 烧>V 纯

B. V 烧>V 纯>V 硫

C. V 纯>V 硫>V 烧

D. V 纯>V 烧>V 硫

【答案】A。解析：

考查同比增长率。

由图表得，硫酸、烧碱、纯碱产量的同比增速分别为：

硫酸：（1566-1229）/1229=337/1229>25%

烧碱：（877-699）/699=178/699≈25%

纯碱：（700-603）/603=97/603<20%

所以，正确选项是 A。

135. 下列判断正确的是：

A. 2018 年我国乙烯产量增速比上年有所下降

B. 2016 年二季度至 2018 年四季度，我国硫酸和乙烯产量变动方向始终相反

C. 2016 年二季度至 2018 年四季度，我国烧碱和纯碱产量环比正增长的季度个数相同

D. 2016 年二季度至 2018 年四季度，我国纯碱产量环比增速在 2017 年四季度最小

【答案】A。解析：

A 项，由第一段（2018 年我国乙烯产量 129 万吨），结合图表（2016 年我国乙烯产量=36+42+41+41=160、2017 年我国乙烯产量=36+40+44+24=144），2018 年我国乙烯产量增速=（129-144）/144=（-15）/144<-10%、2017 年我国乙烯产量增速=（144-160）/160=（-16）/160=-10%，说法正确，

当选。

B 项，由图表得，2016 年三季度，我国硫酸和乙烯产量都是环比下降、变动方向相同，说法错误，排除。

C 项，由图表得，2016 年二季度至 2018 年四季度，我国烧碱环比正增长的季度有 7 个、纯碱环比正增长的季度有 6 个，说法错误，排除。

D 项，由图表得，2017 年一季度我国纯碱产量环比增速 = $(594 - 680) / 680 = (-86) / 680$ 、2017 年四季度我国纯碱产量环比增速 = $(603 - 660) / 660 = (-57) / 660$ ，可得我国纯碱产量环比增速在 2017 年四季度并非最小，说法错误，排除。

所以，正确选项是 A。

全部测验到此结束!

请扫描QQ二维码，备注“公务员考生”加QQ
好友，获取曹长远老师精解历年公务员考试申论、
行测、面试真题完整解析资料。

精品资料，尽在掌握!



扫描二维码，加QQ好友