

2021年1月17日浙江省公务员考试

《行政职业能力测验》真题答案解析

说明

这项测验共有五个部分，130道题，总时限为120分钟。各部分不分别计时，但都给出了参考时限，供你参考以分配时间。

请在机读答题卡上严格按照要求填写好自己的姓名、报考部门，涂写准考证号。

特别提醒你注意，涂写答案时一定要认准题号。

严禁折叠答题卡！

第一部分 常识判断

根据题目要求，在四个选项中选出一个最恰当的答案。

1. 党的十八大以来，以习近平同志为核心的党中央提出了许多党的建设新思想、新观点、新论断，极大地丰富了党的建设理论。下列关于党的建设的表述，不正确的是：

- A. 党的政治建设是党的根本性建设
- B. 制度建设是全面从严治党的重要保障
- C. 坚定理想信念是党的思想建设的首要任务
- D. 党内民主建设是党的纪律建设的核心任务

【答案】D。解析：

D项表述不正确。党的纪律建设的核心内容不是党内民主建设，而是“四个服从”，即：党员个人服从党的组织；少数服从多数；下级组织服从上级组织；全党各级组织和全体党员服从党的全国代表大会和中央委员会。当选。

所以，正确选项是D。

2. 2020年12月16日至18日中央经济工作会议在北京举行。习近平总书记在会上发表重要讲话，总结2020年经济工作，分析当前经济形势，部署2021年经济工作。下列不属于会议确定的2021年经济工作重点任务的是：

- A. 坚决打赢脱贫攻坚战
- B. 解决好种子和耕地问题
- C. 增强产业链供应链自主可控能力
- D. 强化反垄断和防止资本无序扩张

【答案】A。解析：

A项不属于。“打赢脱贫攻坚战”不是2021年经济工作的重点任务，而是2020年经济工作的重点任务。当选。

所以，正确选项是A。

3. 党的十九届五中全会审议通过了《中共中央关于制定国民经济和社会发展第十四个五年规划和2035年远景目标的建议》。下列关于2035年远景目标的表述，不正确的是：

- A. 人均国内生产总值达到中等发达国家水平
- B. 基本实现国家治理体系和治理能力现代化
- C. 建成富强民主文明和谐美丽的社会主义现代化强国
- D. 基本实现新型工业化、信息化、城镇化、农业现代化，建成现代化经济体系

【答案】C。解析：

C项说法不正确。“建成富强民主文明和谐美丽的社会主义现代化强国”不是2035年远景目标，而是本世纪中叶的目标。当选。

所以，正确选项是C。

4. 2020年是中国人民志愿军抗美援朝出国作战70周年。关于抗美援朝战争，下列说法不正确的是：

- A. 《我的祖国》是反映抗美援朝历史经典影片《英雄儿女》的插曲
- B. 抗美援朝战争第一阶段以运动战为主，连续进行了五次战略性战役
- C. 战斗英雄杨根思、黄继光、邱少云都是赴朝作战的中国人民志愿军战士
- D. “三八线”是朝鲜半岛上北纬38度附近的军事分界线，将朝鲜半岛大致分为南北两部分

【答案】A。解析：

A项说法不正确。《我的祖国》是电影《上甘岭》的插曲，而不是电影《英雄儿女》的插曲。当选。所以，正确选项是A。

5. 2020年7月23日，“天问一号”由长征五号遥四运载火箭发射升空，成功进入预定轨道。关于“天问一号”，下列说法不正确的是：

- A. 是我国首次火星探测任务
- B. 在酒泉卫星发射中心发射
- C. 其名字来源于屈原的长诗《天问》
- D. 着陆器计划在火星表面降落并完成巡视任务

【答案】B。解析：

B项说法不正确。“天问一号”不是在酒泉卫星发射中心发射，而是在海南文昌卫星发射中心发射。所以，正确选项是B。

6. 下列属于民事法律行为的是：

- A. 甲在回家的路上捡到一只手机
- B. 甲在小区倒车时撞上路边的小孩
- C. 甲每天搭乘同事乙的车上下班
- D. 甲承诺为乙的贷款承担保证责任

【答案】D。解析：

根据民法原理，以意思表示要件为标准，民事行为可以分为民事法律行为和民事事实行为。

所谓民事法律行为，是指公民或者法人设立、变更、终止民事权利和民事义务的合法行为。它以行为人的意思表示为必备要素。

所谓民事事实行为，是指行为人不具有设立、变更或消灭民事法律关系的意图，但依照法律的规定客观上能引起事实法律后果的行为。按照2021.1.1生效的《民法典》规定，民事事实行为包括：无因管理行为、正当防卫行为、紧急避险行为以及侵权行为、违约行为、施惠行为、遗失物的拾得行为、埋藏物的发现行为等。A项属于遗失物的拾得行为；B项属于侵权行为；C项属于施惠行为，都属于法律事实行为，排除。

只有D项属于民事法律行为，当选。

所以，正确选项是D。

7. 下列行为不属于电信网络诈骗的是：

- A. 钱某编写欠缴房租短信向不特定人群发送，非法获利5万元
- B. 赵某通过电话向老年人推销质次价高的工艺品，非法获利5万元

- C. 李某趁舍友熟睡，重置其微信转账密码并将关联银行卡内 5 万元转给自己
- D. 孙某冒充公检法人员，利用网络电话，要求对方将 5 万元汇至指定的安全账户

【答案】C。解析：

电信诈骗是指通过电话、网络和短信方式，编造虚假信息，设置骗局，对受害人实施远程、非接触式诈骗，诱使受害人打款或转账的犯罪行为，通常以冒充他人及仿冒、伪造各种合法外衣和形式的方式达到欺骗的目的，如冒充公检法、商家公司厂家、国家机关工作人员、银行工作人员等各类机构工作人员，伪造和冒充招工、刷单、贷款、手机定位和招嫖等形式进行诈骗。

C 项中的李某趁舍友熟睡，重置其微信转账密码并将关联银行卡内 5 万元转给自己，不是设置骗局诱使受害人打款或转账的犯罪行为，而是盗窃行为。当选。

所以，正确选项是 C。

8. 毒品严重损害吸毒者本人身体健康，并给经济发展和社会进步带来巨大威胁。下列关于毒品及禁毒的说法不正确的是：

- A. 海洛因俗称 K 粉，由古柯的叶子提炼而成，是一种新型毒品
- B. 鸦片俗称大烟，源于罂粟植物的蒴果，其所含的主要生物碱是吗啡
- C. “金三角”位于泰国、缅甸、老挝三国交界地带，是世界上主要的毒品产地
- D. 教育行政部门、学校应当将禁毒知识纳入教育、教学内容，对学生进行禁毒宣传教育

【答案】A。解析：

海洛因俗称“白粉”，来源于鸦片，鸦片来自于罂粟，其所含生物碱是吗啡。因此，海洛因是吗啡类毒品的总称，一般为白色或灰色块状、粉末状物质。

K 粉属于合成类毒品，主要成分是“氯胺酮”，其外观是纯白色细晶体粉末。

因此 A 项说法不正确，当选。

所以，正确选项是 A。

9. 下列文献最可能反映夏代历史文化的是：

- A. 《长沙马王堆墓葬报告》
- B. 《偃师二里头遗址研究》
- C. 《安阳殷墟小屯建筑遗存》
- D. 《南昌海昏侯国考古成果》

【答案】B。解析：

B 项正确。偃师二里头遗址的文化遗存属二里头文化，其年代约为距今 3800~3500 年，相当于古代文献中的夏、商王朝时期，最可能反映夏代历史文化。

所以，正确选项是 B。

10. 下列关于战争题材的诗文与战役对应不正确的是：

- A. 万骑临江貔虎噪，千艘列炬鱼龙怒——长平之战
- B. 力拔山兮气盖世，时不利兮骓不逝——垓下之战
- C. 东渡黄河第一战，威扫敌倭青史留——平型关战役
- D. 昆战之战，屠百万于斯须，旷千古而一快——昆阳之战

【答案】A。解析：

A 项对应不正确。“万骑临江貔虎噪，千艘列炬鱼龙怒”出自宋代戴复古的《满江红·赤壁怀古》描写的是赤壁之战，而不是长平之战。

所以，正确选项是 A。

11. 关于经济常识，下列说法不正确的是：

- A. 用先进的机器设备代替工人，一般会导致商品价格下降
- B. 某超市对临期商品进行打折销售处理，这属于差别定价
- C. 高档的化妆品可以打折促销，是因为它需求弹性比较大
- D. 身体健康的人偏好买养老保险，这种行为属于逆向选择

【答案】B。解析：

B项说法不正确。所谓差别定价，是指企业用两种或多种价格销售一个产品或一项服务。B项属于临期商品打折，不是差别定价。

所以，正确选项是B。

12. 下列诗句中提到的鸟类与其他三项不同的是：

- A. 杨花落尽子规啼，闻道龙标过五溪
- B. 宫女如花满春殿，只今惟有鹧鸪飞
- C. 一声杜宇春归尽，寂寞帘栊空月痕
- D. 催归催得谁归去，唯有东郊农事忙

【答案】B。解析：

ACD三项提到的都是杜鹃鸟。B项与之不同，提到的是鹧鸪鸟。



杜鹃；



鹧鸪；

所以，正确选项是B。

13. 下列成语与出处对应都正确的是：

- A. 无人问津——《桃花源记》，青出于蓝——《离骚》
- B. 揭竿而起——《过秦论》，老骥伏枥——《短歌行》
- C. 司马青衫——《琵琶行》，不拘一格——《己亥杂诗》
- D. 察纳雅言——《出师表》，觥筹交错——《岳阳楼记》

【答案】C。解析：

C项成语与出处对应都正确。

“司马青衫”对应白居易《琵琶行》：“座中泣下谁最多，江州司马青衫湿”。

“不拘一格”对应龚自珍《己亥杂诗》：“我劝天公重抖擞，不拘一格降人才”。

所以，正确选项是C。

14. 关于童话故事，下列说法正确的是：

- A. 《夜莺》是安徒生创作的以中国为背景的童话故事
- B. 《一千零一夜》是北欧民间故事集，又名《天方夜谭》
- C. 《格林童话》由格林兄弟创作，包括《丑小鸭》等故事
- D. 冰心的《稻草人》是新中国第一本为儿童而写的童话集

【答案】A。解析：

A项说法正确。《夜莺》是安徒生创作的唯一一篇以中国为背景的童话故事。

所以，正确选项是 A。

15. 下列关于人体器官的说法正确的是：

- A. 肝脏是人体最大的免疫器官
- B. 毛发和指甲都不是人体器官
- C. 大肠和肾脏都属于消化系统
- D. 心脏中的心房将离心血打入动脉

【答案】B。解析：

B 项说法正确。人体器官是指由各种细胞组成的能够独立完成某项功能的集合体！毛发和指甲是组织，不是器官。

所以，正确选项是 B。

16. 生活于另一种生物体内或体表并从其体内获得营养的生物为寄生生物。关于寄生生物。下列说法不正确的是：

- A. 虱子和跳蚤都属于寄生动物
- B. 菟丝子和桑寄生都属于寄生植物
- C. 绦虫、疥虫和蛔虫常寄生于人体消化道
- D. 无脊椎动物和脊椎动物中都有寄生动物

【答案】C。解析：

C 项说法错误。疥虫寄生于人的体表，而不是寄生于人体消化道。

所以，正确选项是 C。

17. 关于化学元素，下列说法不正确的是：

- A. 银质首饰在含硫的温泉中容易变色
- B. 常温条件下，汞是唯一保持液态的金属
- C. 通常情况下，火柴盒的侧面涂抹的是白磷
- D. 沿海地区人群碘的摄入量普遍高于其他地区

【答案】C。解析：

C 项说法不正确。通常情况下，火柴盒的侧面涂抹的是红磷，而不是白磷。因为白磷的燃点太低（40 度左右），太不安全。

所以，正确选项是 C。

18. 下列描述相关的四个拉丁美洲国家中，官方语言和其他三个不同的是：

- A. 阿根廷的首都是布宜诺斯艾利斯
- B. 智利是世界上地形最狭长的国家
- C. 产生了《百年孤独》这部名著
- D. 举办了 2016 年夏季奥运会

【答案】D。解析：

A 项，阿根廷的首都是布宜诺斯艾利斯，其官方语言是西班牙语。

B 项，智利是世界上地形最狭长的国家，其官方语言是西班牙语。

C 项，《百年孤独》是哥伦比亚作家加西亚·马尔克斯的代表作。哥伦比亚的官方语言是西班牙语。

D 项，巴西举办了 2016 年夏季奥运会，其官方语言是葡萄牙语。

D 项与 ABC 不同，当选。

所以，正确选项是 D。

19. 下列关于棋牌的说法正确的是：

- A. 中国的围棋专业段位最高为十段
- B. 麻将的历史最早可追溯到民国年间
- C. 国际象棋又名西洋棋，一般认为起源于欧洲
- D. 中国象棋共有 32 个棋子，红黑两色各 16 个

【答案】D。解析：

- A 项错误，中国的围棋专业段位最高为九段。排除。
B 项错误，麻将的历史最早可追溯到 3000 年前，而不是民国。排除。
C 项错误，国际象棋一般认为起源于亚洲（中国或印度）。排除。
D 项说法正确。中国象棋共有 32 个棋子，红黑两色各 16 个。
所以，正确选项是 D。

20. 下列关于联合国的说法正确的是：

- A. 梵蒂冈、卢旺达和朝鲜都是联合国会员国
- B. 汉语、俄语和阿拉伯语都是联合国工作语言
- C. 世界卫生组织是联合国的 6 个主要机构之一
- D. 5 个安理会常任理事国一致同意的决定都可直接通过

【答案】B。解析：

- 目前，联合国工作语言有 6 种，分别是汉语，英语、法语、俄语、阿拉伯语与西班牙语。
因此，汉语、俄语和阿拉伯语都是联合国工作语言。B 项说法正确，当选。
所以，正确选项是 B。

第二部分 言语理解与表达

本部分包括表达与理解两方面的内容。请根据题目要求，在四个选项中选出一个最恰当的答案。

21. 随着米芾等一批杰出的文人艺术家参与印章设计制作，印章艺术进入全新境界。此后的篆刻，不再局限于镌刻官职、姓名来昭示身份与权力，而是通过姓名、字号、斋馆名称、成语警句乃至诗词篇章等内容来表达情趣志向。篆刻艺术使印章_____实用的功能，成为表达审美追求的重要而_____的方式。

依次填入画横线部分最恰当的一项是：

- A. 淡化，典型
- B. 超越，独特
- C. 摆脱，新颖
- D. 偏离，卓越

【答案】B。解析：

第一空，呼应前面“此后的篆刻，不再局限于镌刻官职、姓名来昭示身份与权力，而是通过姓名、字号、斋馆名称、成语警句乃至诗词篇章等内容来表达情趣志向。”可知文段要表达的意思是突破、超出了原来的功能局限。

- A 项的“淡化”，意思是指减轻或者削弱，不符合文意，排除。
B 项的“超越”，意思是突破、超出，符合文意，当选。
C 项的“摆脱”、D 项“偏离”，均属于消极色彩的词，但是“实用功能”并不消极，明显不符合文意，排除。
所以，正确选项是 B。

22. 竹被文人高士用来表现脱俗的情趣、正直的气节、虚心的品质，墨竹成了书、画、道的_____，成了人格、人品的写照，寓意兴寄愈益丰厚，成为中国画史_____的题材。

依次填入画横线部分最恰当的一项是：

- A. 粘合剂，历久弥新
- B. 代表作，独树一帜
- C. 综合体，经久不衰
- D. 标志物，引人注目

【答案】C。解析：

第一空，呼应“墨竹成了……写照”，可知文人高士是用墨竹来表现自己的气节和品质。

A项的“粘合剂”，是指把物体表面粘合在一起的作用，文段中并没有把书、画、道变成一个东西的意思，不符合文意，排除。

B项的“代表作”，意思是指最能体现作者思想水平和艺术风格的作品，“墨竹”并不是一个作品，明显不符合文意，排除。

C项的“综合体”，有“汇总、集合”之意，“墨竹”可以作为多种艺术和精神表达方式的共同载体，符合文意，当选。

D项的“标志物”，是指用来标记位置的物体，不符合文意，排除。

所以，正确选项是C。

23. 这本书没有_____的生涩文字，也没有_____的说教辞令。全书朴实无华却字字珠玑，将家训家教中的为人处世道理细细道来，如春风化雨般启迪心智。

依次填入画横线部分最恰当的一项是：

- A. 佶屈聱牙，夸夸其谈
- B. 言之无物，空洞无物
- C. 言过其实，一板一眼
- D. 咬文嚼字，盛气凌人

【答案】A。解析：

第一空，呼应后面的“生涩文字”。所谓“生涩”，指文字艰涩难懂。

A项的“佶屈聱牙”，意指文字艰涩难懂，符合文意，保留。

B项的“言之无物”，指文字空洞，没有实际内容，不合文意，排除。

C项的“言过其实”，指说大话超过实际，不合文意，排除。

D项的“咬文嚼字”，指死扣字眼，也指卖弄学识，明显不和文意，排除。

第二空，呼应后面的“说教”。所谓“说教”，指机械地向人空谈理论。“空谈理论”对应“空洞无物”。B项当选。

所以，正确选项是A。

24. 从“蓝天保卫战”到“史上最严”的新环境保护法，再到对“洋垃圾”说“不”，“绿水青山就是金山银山”的理念已_____。对于中国而言，这是转变发展方式、破解资源环境瓶颈制约、提升国际竞争力的内在要求，与国家乃至全球的可持续发展目标_____。

依次填入画横线部分最恰当的一项是：

- A. 众所周知，不谋而合
- B. 根深蒂固，一脉相承
- C. 深入人心，同向而行
- D. 牢不可破，相辅相成

【答案】C。解析：

第一空，呼应前面的从“蓝天保卫战”到“史上最严”的新环境保护法，再到对“洋垃圾”说“不”，“绿水青山就是金山银山”可知，文段意在强调保护环境的理念不断深入、不断完善。

A 项的“众所周知”，强调大家都知道的。没有体现出“不断深入、不断完善”，排除。

B 项的“根深蒂固”，强调基础稳固，不容易动摇。符合文意，保留。

C 项的“深入人心”，强调指理论、理念、政策等为人们深切了解和信服。符合文意，保留。

D 项的“牢不可破”，强调物体坚固，不能摧毁或拆开。没有体现出“不断深入、不断完善”，排除。

第二空，对比 B、C 两项，呼应前面的“国家乃至全球的可持续发展目标”。

B 项的“一脉相承”强调同一血统的传承流传下来，主要比喻某种思想学说的内在传承关系。而文段是强调与国家乃至世界的可持续发展目标一致，没有“传承”之意。不合文意，排除。

C 项的“同向而行”，强调相对的两方往同一个方向前进，可以体现中国与世界的发展目标一致，朝着相同的方向发展，符合文意，当选。

所以，正确选项是 C。

25. 不同性质的书放在一起读，能起到对比和转换视角的作用。工作中读自己专业领域的书，休闲时看其他领域的书，_____。许多老一辈科学家，闲暇时喜欢吟诗作赋，这并非_____，而是有益的精神调节。

依次填入画横线部分最恰当的一项是：

A. 张弛有度，自命不凡

B. 相得益彰，附庸风雅

C. 一举两得，三心二意

D. 劳逸结合，不务正业

【答案】B。解析：

第一空，呼应前面的“……能起到对比和转换视角的作用。工作中读自己专业领域的书，休闲时看其他领域的书”，可知文段要表达的意思是：休闲时和工作中看不同的书能够转换视角，开阔视野，因此空格处要体现出“相互补充”的意思。

A 项的“张弛有度”，强调一个人该工作的时候工作，该休息的时候休息。没有体现出“相互补充”的意思，不符合文意，排除。

B 项的“相得益彰”，强调两者互相配合，更好地显示出双方的长处和作用，“相互补充”的意思，保留。

C 项的“一举两得”，强调做一件事能同时得到两方面的好处，侧重说好处，没有体现出“相互补充”的意思，不符合文意，排除。

D 项的“劳逸结合”，强调劳动和休息两方面要兼顾，合理安排，没有体现出“相互补充”的意思，不符合文意，排除。

所以，正确选项是 B。

26. 网络空间作为家庭、学校、社会等现实世界的_____，已经成为未成年人成长中密不可分的一部分。将未成年人与互联网强制_____开来，既不可取也很难实现。

依次填入画横线部分最恰当的一项是：

A. 延展，隔离

B. 虚化，独立

C. 放大，划分

D. 深入，分割

【答案】A。解析：

第一空，呼应“网络空间……现实世界……已经成为未成年人成长中密不可分的一部分”，可知文

段要表达的意思是：网络空间已经成为未成年人成长的密不可分的一部分，而“网络空间”是晚于家庭、学校、社会等现实世界出现的新空间，因此要表达出“延伸、扩展”之意。

A 项的“延展”，指延伸、扩展，有延续之意，符合文意，保留。

B 项的“虚化”，指实际存在的虚拟化，符合文意，保留。

C 项的“放大”，指使事物的形状或功能从小变大，明显不符合文意，排除。

D 项的“深入”，指由浅入深，但网络空间和现实世界并没有谁浅谁深的比较，不符合文意，排除。

第二空，比较 A、B 两项。呼应前面的“强制”，A 项的“隔离”完美搭配，当选。

所以，正确选项是 A。

27. 水雷虽老，却依然是军舰的“_____”。一方面，水雷威力巨大，即便是一些老式水雷也会对现代海军舰船构成相当威胁；另一方面，水雷研发难度低，制造成本也不高，因此平时可以大批量地制造、储备，战时可以大面积布设。所以，直到现在水雷依然是各国海军武器库的_____。

依次填入画横线部分最恰当的一项是：

A. 噩梦，必备

B. 天敌，王牌

C. 仇家，底牌

D. 克星，主力

【答案】A。解析：

第一空，呼应横线前的转折关系“水雷虽老，却依然是军舰的……”，和横线后的“水雷威力巨大，即便是一些老式水雷也会对现代海军舰船构成相当威胁”，可知文段要表达的意思是：水雷虽然诞生年代已久，但仍具备很多优点，可以对现代海军舰船构成相当威胁。

A 项的“噩梦”，引起能够极度不安或惊恐不已的梦，比喻可怕的事物或威胁，符合文意，保留。

B 项的“天敌”，指自然界中某种动物专门捕食或危害另一种动物，明显不符合文意，排除。

C 项的“仇家”，指敌人、仇人，不符合文意，排除。

D 项的“克星”，比喻能对某种对象起制伏作用的人或事物，符合文意，保留。

第二空。呼应因果关系“所以，直到现在水雷依然是各国海军武器库的_____。”可知水雷现在对各国海军武器库依然很重要。

A 项的“必备”指必须具备，符合文意，当选。

D 项的“主力”指主要的力量，但文段中并没有主要与次要的对比，不符合文意，排除。

所以，正确选项是 A。

28. 从全世界范围看，论文依然是学术成果主流呈现方式，仍是学术界的“_____”。问题的关键在于一个“唯”字，即论文成为了学术评价的唯一依据，学术评价_____成了计算论文篇数、比拼刊物级别。

依次填入画横线部分最恰当的一项是：

A. 必修课，蜕变

B. 硬通货，异化

C. 敲门砖，演绎

D. 磨刀石，沦落

【答案】B。解析：

第一空，呼应前面的“依然是……仍是……”，可知文段要表达的意思是：论文还是学术界的的主流。

A 项的“必修课”，比喻必须具备的东西，符合文意，保留。

B 项的“硬通货”，指国际信用好、币值稳定、汇价坚挺的主流货币，放在此处比喻论文是学术界的主流。符合文意，保留。

C项的“敲门砖”，比喻求得名利的初步手段，明显不符合文意，排除。

D项的“磨刀石”，指用来磨利刀子的石头，明显不符合文意，排除。

第二空，对比A、B两项。根据文意，横线处的意思是现在学术评价唯一（仅仅）计算论文篇数、比拼刊物级别，含有贬义。

A项的“蜕变”，指人或事物发生质变，不符合文意，排除。

B项的“异化”，指主体发展到了一定阶段，分裂出自己的对立面，变为了外在的异己的力量。放在此处比喻学术评价因为唯唯一（仅仅）计算论文篇数、比拼刊物级别，变成了反面的违反学术评价的东西，符合文意，当选。

所以，正确选项是B。

29. 自上世纪70年代开始，悲观的_____在西方学界兴起，迅速形成影响，反映到科幻电影中，就出现了《人猿星球》《后天》《终结者》之类的末世电影。当时，这些电影还有警世效果，能够催人反省，但现在这种题材的电影早已沦为套路，大部分属于_____之作。

依次填入画横线部分最恰当的一项是：

- A. 历史观，照本宣科
- B. 审美观，拾人牙慧
- C. 世界观，狗尾续貂
- D. 未来观，东施效颦

【答案】D。解析：

第一空，呼应后面的“……末世电影。”所谓“末世”，意指人类的末尾时期，是一种幻想，在现实世界必然还没有发生。

A项的“历史观”，指人们对历史的观点，而不能是对还未发生的未来的观点，明显不符合文意，排除。其他三项不能排除，保留。

第二空。呼应转折关系“但现在这种题材的电影早已沦为套路，大部分属于_____之作。”可知横线处与“套路”对应。

B项的“拾人牙慧”，比喻抄袭，不符合文意，排除。

C项的“狗尾续貂”，比喻拿不好的东西接在好东西的后面，显得好坏不相称（多指写文章），明显不符合文意，排除。

D项的“东施效颦”，比喻盲目跟风模仿，符合文意，当选。

所以，正确选项是D。

30. 面对高端芯片“卡脖子”问题，有紧迫感是好事，但不能_____，捡到篮里都是菜。_____产业规律才能保证产业健康有序发展。

依次填入画横线部分最恰当的一项是：

- A. 囫囵吞枣，遵循
- B. 化繁为简，敬畏
- C. 泥沙俱下，尊重
- D. 鱼龙混杂，遵守

【答案】C。解析：

第一空，填空词语必须呼应后面的“捡到篮里都是菜”。“捡到篮里都是菜”的意思是“不加选择，不分好坏都要”。

A项的“囫囵吞枣”，比喻读书不认真，不理解。明显不合文意，排除。

B项的“化繁为简”，意思是越复杂的问题越可以用简单的方法去化解，明显不符合语境，排除。

第二空，必须搭配后面的“规律”。

C项的“尊重”与“规律”属于固定搭配，当选。

D项的“遵守”，一般搭配纪律、规则、法律制度等，与“规律”搭配不当，排除。

所以，正确选项是C。

31. 网络并非法外之地，让肆意妄为的网络“喷子”们_____，需要全社会共同努力。政府应重点关注网络生态问题，建立健全网络综合治理体系，完善相关法律法规，细化网络监管条例。监管部门要将规范落实到位，对违法行为重拳出击，还社会一片_____的网络空间。

依次填入画横线部分最恰当的一项是：

- A. 原形毕露，整洁
- B. 谈虎色变，和谐
- C. 惴惴不安，宁静
- D. 无处遁形，清朗

【答案】D。解析：

第二空，“清朗网络空间”属于官方用语的固定搭配。D项当选。

所以，正确选项是D。

32. 近几年的经典解读出版中，除了文史类的专业学者，一些作家、诗人等跨界的知识精英也加入了进来。这些跨界解读给经典出版增添了更多的_____和丰富性，个人化的写作风格也将读者群从文史爱好者_____到文艺爱好者。

依次填入划横线部分最恰当的一项是：

- A. 维度，扩展
- B. 力度，延伸
- C. 深度，转移
- D. 角度，推广

【答案】A。解析：

第一空，呼应前面的“作家”“诗人”等跨界的精英加入，这说明会给经典出版增添更多种不同视角、不同维度、不同角度的解读。

A、D两项符合文意，保留。

B项的“力度”，指的是力量的大小，C项的“深度”，指的是深浅，明显不符合文意，排除。

第二空，对比A、D两项。文段的内容说的是个人化写作风格将读者群扩大了。

A项的“扩展”，意思是向外伸展、扩大，符合文意，当选。

D项的“推广”，意思是使事情开展，不符合文意，排除。

所以，正确选项是A。

33. 记者不是唯一在讲故事的人。小说家、编剧、段子手、营销号，以及每一个发帖的网友，都在以自己的方式讲述着关于时代的故事。_____中，好记者不会迷失航向，而会对职业尊严有更深的_____。

依次填入划横线部分最恰当的一项是：

- A. 百舸争流，体悟
- B. 风雨同舟，诠释
- C. 千帆竞发，剖析
- D. 逆水行舟，理解

【答案】A。解析：

第一空，呼应前面的“小说家、编剧、段子手、营销号，以及每一个发帖的网友”，意思是讲故事

的人数很多。

A 项的“百舸争流”，C 项的“千帆竞发”，都有“多”的意思，符合文意，保留。

B 项的“风雨同舟”比喻共同经历患难，D 项的“逆水行舟”比喻不努力就要后退，都没有“多”的意思，不符合文意，排除。

第二空，搭配前面的“职业尊严”，意思是好记者会对职业尊严有更深的体验和理解。

A 项的“体悟”侧重体验和领会，符合文意，当选。

C 项的“剖析”侧重辨析、分析，与“职业尊严”搭配不当，排除。

所以，正确选项是 A。

34. 如何定义垄断，尤其是如何界定互联网平台企业的垄断，存在不小的争议。垄断的危害人所皆知，可是也有人担心，如果反垄断的限制过大，可能会影响平台企业发展，不利于产生规模效应，从而影响市场繁荣。_____。如今，市场监管总局公布的标志性案例，证明“反垄断”已经切实成为悬在企业头上的达摩克利斯之剑，将会倒逼企业在做相关政策时，不得不三思而行。

填入画横线部分最恰当的一项是：

- A. 传统的反垄断法律规则已与平台经济领域竞争呈现出的新特点不相适应
- B. 因此，推进互联网产业在全国层面、区域层面高度集中化发展是大势所趋
- C. 所以要正确处理政府与市场的关系，简政放权、优化服务，激发市场活力
- D. 因为这种模糊性和争议性，许多互联网企业一直抱着侥幸心理，不断试探边界

【答案】D。解析：

选填句子。

横线位于文段中间，必须承上启下。前文首先说“互联网平台企业的垄断”具有一定危害，然后通过“可是”转折提出，有人担忧反垄断的限制过大“会影响平台企业发展”。横线的后面通过案例说明反垄断已经对“企业”产生作用，将会倒逼企业在做相关政策时，不得不三思而行。

可见，文段的话题是“互联网平台企业的垄断”。

横线填入的句子必须与上下文话题一致。对比选项，只有 D 项的话题与“互联网企业”相关，符合话题一致原则，当选。

所以，正确选项是 D。

35. 药品购销实施“两票制”，药品出厂一个价，进医院一个价，差价一目了然，可避免倒手和中间加价。药品集中招采以纳入医保目录并确保销量为交换条件，换取药品大幅降价。既然销量有保障，药企就没必要通过给回扣等方式来促销……一系列医改政策，已让吃回扣变得困难。_____，纳入医保目录、确保基本销量固然能满足大部分药企的胃口，但由于销量和利润相关，药企仍难免会争取更大销量。尤其当多家药企的几种同类药品都进入医保目录、且都招采中标后，销量竞争仍然会很激烈，给回扣等促销手段可能会死灰复燃。

填入画横线部分最恰当的一项是：

- A. 吃药品回扣的大漏洞虽已堵住，小漏洞仍会存在
- B. 可见，曾经猖獗的药品商业贿赂已得到明显遏制
- C. 不仅如此，医改政策还给许多药企带来了新利好
- D. 然而，一些无良医院和药企还是能钻制度的空子

【答案】A。解析：

选填句子。

横线位于文段中间，必须承上启下。

横线之前的文字介绍了药品购销实施“两票制”等一系列医改政策，已让吃回扣变得困难。横线后主要讲述了由于销量和利润相关，销量竞争仍然会很激烈，给回扣等促销手段可能会死灰复燃。根据话

题一致原则，横线所填内容应承接上文的“吃回扣变得困难”，且与下文“给回扣等促销手段可能会死灰复燃”话题一致。

对比选项，只有 A 项符合要求。

所以，正确选项是 A。

36. 上世纪 70 年代以来，两栖动物正经历着全球性的种群下降和物种灭绝，下降速度之快、受胁物种之广，居各陆栖脊椎动物类群之首。但奇怪的是，很长时间以来，_____。因为很多两栖动物在远离人类干扰的偏远山区或自然保护区内突然消失，一些解释野生动物濒危的主流假说，如栖息地丧失、人类捕杀、气候变化等，都无法解释大量的两栖动物下降事件。因此，两栖动物的下降也曾一度被称作一场“神秘的下降”。

填入划横线部分最恰当的一项是：

- A. 非野生的两栖动物种群并未出现明显下降
- B. 气候、环境等自然因素并没有发生剧烈变化
- C. 科学家找不到导致两栖动物种群快速下降的原因
- D. 全球两栖动物种群下降现象并未引起科学家的重视

【答案】C。解析：

选填句子。

横线位于文段中间，必须承上启下。

横线前面指出两栖动物种群下降严重，转折之后是要填入的内容。横线后面由“因为”引导原因，是对横线的解释说明，主要阐述了“无法解释大量的两栖动物下降事件”的原因。因此横线的内容必须是提出“找不到导致两栖动物种群快速下降的原因”这一问题。

对比选项，只有 C 项符合上下文语境。

所以，正确选项是 C。

37. 21 世纪初，人口、经济和环境压力形成了独特的综合条件，使新出现和重现的传染病能以前所未有的规模传播。最近几十年的经验显示，_____。而想要从根本上减少病毒国际传播可能性的最有效方法，就是世卫组织与其他组织、机构一起开展工作，加强全球疫情警报和反应网络，汇集世界各地的专家来一起应对疾病暴发。

填入画横线部分最恰当的一项是：

- A. 烈性传染病发展为全球大流行的风险正在显著增强
- B. 应对疾病防控挑战的最有效手段就是采取预防措施
- C. 没有一个国家能够独自防范疾病及其它公共卫生威胁
- D. 建立一个实现各国数据共享的传染病数据库迫在眉睫

【答案】C。解析：

选填句子。

横线位于文段中间，必须承上启下。

横线之前介绍了 21 世纪初传染病的传播规模前所未有。横线之后用“而”递进说：要从根本上减少病毒国际传播可能性的最有效方法，就是世卫组织与其他组织、机构一起开展工作。根据话题一致原则，横线处话题应与“各种国际组织共同配合，汇集世界各地的专家一起应对传染疾病”话题相关。

对比选项，只有 C 项符合要求，当选。

D 项“立一个实现各国数据共享的传染病数据库”，仅仅是数据库合作，而不是各种国际组织共同配合，汇集世界各地的专家一起应对，偏离了文段的话题，排除。

所以，正确选项是 C。

38. ①但是现实中数据是各机构或个人的核心资产，数据孤岛现象普遍存在

②数据作为生产要素覆盖面广且渗透性强，与各行业融合发展，如金融、保险、互联网、交通、物流、政务等

③数据直接共享面临更严峻的合法合规的考验

④目前的人工智能本质上是数据智能，也就是用大数据来训练计算模型支撑业务应用

⑤如何充分利用各方的数据，让数据对外开放，进行智能化服务，成为数据“可用”关心的重点

⑥近两年，我国陆续出台了数据安全管理的相关法律法规

将以上 6 个句子重新排列，语序正确的是：

A. ②⑤④①③⑥

B. ④②①⑥③⑤

C. ⑤⑥①③②④

D. ⑥⑤②④①③

【答案】B。解析：

句子排序。

对比选项，无法确定首句。

根据逻辑特征，确定句子捆绑关系。①句“但是现实中数据是各机构或个人的核心资产，数据孤岛现象普遍存在”，根据转折前后语义相反，①句之前的话题应与“现实中数据的好处”相关。

对比选项，结合内容，与②可以前后转折搭配，B 项当选。

④的内容为人工智能本质，⑥的内容为法律法规，均与①话题无关。据此可以排除 A、C、D 三项。所以，正确选项是 B。

39. ①最富有创造性的著作往往是少而精的

②无论是学术著作还是小说，动辄数十万言，有的甚至百万字以上

③例如，王国维的《人间词话》，只不过四万字

④读书贵于精，包括精选、精读和静思

⑤可是，现在图书的体量越来越大，字数也越来越多

⑥这是每一个名家读书的共同心得

将以上 6 个句子重新排列，语序正确的是：

A. ①⑤②④⑥③

B. ④⑥⑤②①③

C. ①③⑤④②⑥

D. ④③⑤②①⑥

【答案】B。解析：

选填句子。

对比选项，确定首句。①④均可为首句，首句无法确定。

根据逻辑特征，确定句子捆绑关系。③举例王国维的著作字数少，指向①句论述最富有创造性著作往往是少而精的，因此，应将①③前后捆绑，排除 A、D 两项。

④的句首有指代词“这”，“这是每一个名家读书的共同心得”。②说“无论是学术著作还是小说，动辄数十万言，有的甚至百万字以上”，不可能是每一个名家读书的共同心得，因此④②不可能捆绑，排除 C 项。

所以，正确选项是 B。

40. 在社会发展和日常生活中，企业和家庭的决策不仅受到可见成本的影响，也受到各种不见于会计账本，但却实实在在占用相关人力物力的隐性成本的制约。隐性成本就像暗物质一样，虽然本身很难

观测，但可以通过它对相关经济活动的影响推测其大小和变动趋势。从社会发展角度看，如果政策制定者希望全面降低经济活动成本，减轻企业和家庭负担，除了在税费等可见成本方面给予优惠，降低隐形成本也是很重要的一环。

最适合做这段文字标题的是：

- A. 成本决定决策
- B. 掣肘发展的“暗成本”
- C. 决策的关键“降低成本”
- D. 不可忽视的“隐形成本”

【答案】D。解析：

选择标题的核心，就是最大化保留“关键词”。

题干说：……但却……隐形成本的制约。隐形成本就像……。……降低隐形成本也是很重要的一环。因此，本题文段的关键词是：隐形成本。

只有D项包含“隐形成本”这个关键词，当选。

所以，正确选项是D。

41. 目前，在全世界范围内，够被称为“全球系统”的，只有中国的北斗、美国的GPS、俄罗斯的GLONASS以及欧盟的伽利略定位系统。可以说，完善的卫星导航系统是一个国家综合实力的展示。北斗系统在全球范围内首次实现了混合的异构星座部署。美国的GPS和欧洲的伽利略定位系统都是由地球中高轨道卫星组成的，而北斗是由静止轨道卫星、倾斜地球同步轨道卫星和中高轨道卫星混合的星座组成的。北斗系统既能实现全球覆盖，同时由于部分卫星定点在中国国土上空，因此能够为本土提供更高精度、更好性能的服务。

最适合做这段文字标题的是：

- A. 北斗系统“牛”在哪里
- B. 全球卫星系统大盘点
- C. 北斗与GPS，谁能更胜一筹
- D. 北斗系统——引领未来变革

【答案】A。解析：

选择标题的核心，就是最大化保留“关键词”。

题干说：北斗系统在全球范围内首次实现了混合的异构星座部署。（厉害）美国的GPS和欧洲的伽利略定位系统都是由地球中高轨道卫星组成的，而北斗是由静止轨道卫星、倾斜地球同步轨道卫星和中高轨道卫星混合的星座组成的。（厉害）北斗系统既能实现全球覆盖，（厉害）同时由于部分卫星定点在中国国土上空，因此能够为本土提供更高精度、更好性能的服务。（太厉害、太牛了！）

因此，本题文段的关键词是：北斗系统，牛。

只有A项符合要求，当选。

所以，正确选项是A。

42. 部分电视从业者认为综艺节目就应该娱乐大众，如果强调价值理念的传播，就容易出现内容枯燥、形式单一、刻板说教、传播力和影响力不高等问题，很难被受众认可。其实，形式创新并不等于文化内涵的缺乏，更不是审美趣味的低俗，综艺节目不仅要追求在艺术表达上令人眼前一亮，也必须蕴含一定的价值导向，承担一定的社会责任，才能更大程度地融入现实社会和百姓生活，获得更多人的认可。

这段文字意在强调：

- A. 综艺节目从业者不宜过分迎合受众的需求
- B. 艺术创新是综艺节目获得大众认可的法宝
- C. 电视受众反感缺乏创意的价值理念传播方式

D. 综艺节目应该兼顾娱乐效果与社会价值导向

【答案】D。解析：

推断文意。

转折结构，强调的是转折后面的内容。

题干首先说：综艺节目应该娱乐大众，……。然后转折说：其实，……综艺节目不仅要追求在艺术表达上令人眼前一亮，也必须蕴含一定的价值导向，承担一定的社会责任，……。意在强调：综艺节目应该兼顾娱乐效果与社会价值导向。对应D项当选。

所以，正确选项是D。

43. 一般认为，肿瘤的发生是多个肿瘤相关基因的突变共同作用的结果，即多个肿瘤相关基因的突变累积导致了细胞分裂增殖不受控制，最后变成了肿瘤细胞；而单一的基因突变并不足以引起肿瘤，因为细胞中具有DNA损伤修复及复制纠错等机制，通常能够有效地修复基因突变，阻止基因突变的细胞继续分裂。但如果包含相关基因突变的细胞逃脱了DNA损伤修复及复制纠错而继续分裂增殖，它们就有更多的机会累积更多的突变，从而“叛变”为肿瘤细胞。

这段文字意在强调：

- A. 肿瘤细胞的发展进程受多种因素的制约
- B. 正常细胞在某种条件下会转化为肿瘤细胞
- C. 肿瘤细胞的形成跟基因突变的数量直接相关
- D. 细胞的DNA损伤修复及复制纠错机制存在局限

【答案】C。解析：

推断文意。

转折结构，强调的是转折后面的内容。

题干首先说：肿瘤的发生……。然后转折说：但如果包含相关基因突变的细胞逃脱了DNA损伤修复及复制纠错而继续分裂增殖，它们就有更多的机会累积更多的突变，从而“叛变”为肿瘤细胞。意在强调肿瘤细胞的形成跟基因突变的数量直接相关。对应C项当选。

所以，正确选项是C。

44. 改革开放以来，中国的家庭结构从几代同堂的大家庭，逐渐变成以三口之家为主的核心家庭，很多情况下，养孩子、做家务等劳动，很难再通过家庭内部分工来解决，需要到市场上寻求帮助。同时，随着人们生活水平的提高，以往“添双筷子添个碗”的粗放式养娃行不通了，人们对高水平家政服务的需求逐渐常态化。尤其是随着“互联网+”和连锁经营为代表的新经营模式不断涌现，购买家政服务只要在手机上动动手指就能完成，更为家政服务业发展带来重大契机。

这段文字意在说明：

- A. 互联网助力家政服务业快速发展
- B. 社会变迁促使家政服务业发展壮大
- C. 传统家政服务难以满足日益增长的社会需求
- D. 中国家庭结构的变化影响家政服务业经营模式

【答案】B。解析：

推断文意。

并列结构，需要概括并列的所有内容。

文段首先介绍了改革开放以来，中国的家庭结构变化为三口之家，使得养孩子、做家务等劳动需要到市场上寻求帮助。“同时”后的内容与之并列，论述生活水平的提高，人们对高水平家政服务的需求逐渐常态化，尤其是“互联网+”等新经营模式不断涌现，更是为家政服务提供了发展契机。概括说就是：社会的发展变化促进了家政服务业发展。对应B项当选。

所以，正确选项是 B。

45. 我国已进入快速老龄化的发展阶段，如何养老是无可回避的大问题。“养儿防老”是我国传统养老方式的基本特征。在儒家思想影响下，家庭养老观念根深蒂固。相当长的时期内，人们都是通过生养子女来解决养老问题的。不过，未富先老、子女数量减少等各种因素正在冲击这一传统模式，致使家庭养老功能不断弱化。必须提高社会养老能力，才能适应加速到来的老龄化社会的要求。

这段文字意在强调：

- A. 老龄化加速到来将引发养老革命
- B. 家庭养老功能逐渐退居次要地位
- C. 满足养老需求将是巨大的社会难题
- D. 老龄化趋势要求提升社会养老能力

【答案】D。解析：

推断文意。

问题对策结构，强调的是对策而不是问题。

题干首先说：我国已进入快速老龄化的发展阶段，……家庭养老观念根深蒂固。然后转折提出问题：不过，未富先老、子女数量减少……致使家庭养老功能不断弱化。最后给出对策：必须提高社会养老能力，才能适应加速到来的老龄化社会的要求。意在强调：老龄化趋势要求提升社会养老能力。对应 D 项当选。

所以，正确选项是 D。

46. 以玩家年龄为依据分别匹配适合的网游，丰富了未成年人网络游戏保护的方式和手段。对于孩子来说，自己适合玩什么网游“被安排得明明白白”，玩得更安全。对家长来说，可以更明晰地评估一款网游适不适合孩子，管得更放心。“心情复杂”的，当属游戏企业。适龄提示规定的使用要求和场景，都与游戏企业直接相关。标识必须足够醒目，让玩家看得着、看得懂，对游戏企业是硬性要求，对那些靠打擦边球等手段吸引玩家的网游企业、网游产品，更是一种敲打。但这种“束缚”是必须的，因为保护未成年人是包括游戏企业在内的所有市场主体都必须遵守的规范，也是必须承担的社会责任。

文中的“束缚”最可能指的是：

- A. 下架不适宜未成年人的网络游戏
- B. 控制游戏在线时段和时长，防止未成年人沉迷
- C. 对网络游戏按照适合年龄进行分级并加以标识
- D. 下架不适宜未成年人的网络游戏

【答案】C。解析：

推断文意。

指代就近朝前找。

定位题干中“束缚”一词出现的位置。文段最后一句提到“但这种“束缚”是必须的”。根据代词的就近指代原则，可知，“束缚”指的是前一句中的：游戏企业必须建立“适龄提示规定的使用要求和场景”，并且标识还需要醒目。对应 C 项当选。

所以，正确选项是 C。

47. 沿着什么样的法治道路前进，直接关系到社会主义法治建设的成败。世界上没有放之四海而皆准的法治模式。如果脱离本国实际照抄照搬别国的法治模式，就会对经济社会发展产生消极作用。实践中，有的国家就是因为简单照抄照搬别国的法治模式，结果不但没有实现善治，反而增加了社会不稳定因素。法治是现代国家治理的基本特征和根本保障，任何一个国家进行法治建设，都必须探索适合自己的法治道路。

这段文字意在说明：

- A. 法治道路直接决定法治建设成败
- B. 法治建设离不开本国的法治实践
- C. 应坚定探索适合自身的法治道路
- D. 没有放之四海而皆准的法治模式

【答案】C。解析：

推断文意。

问题对策结构，强调的是对策而不是问题。

题干首先提出问题：沿着什么样的法治道路前进。最后给出对策：任何一个国家进行法治建设，都必须探索适合自己的法治道路。意在强调：应探索适合自身的法治道路。对应 C 项当选。

所以，正确选项是 C。

48. 在“一切皆可量化”的大数据浪潮中，网络逐渐成为现实世界的“镜像”。网络社会与现实社会日益融为一体，政府管理不能再局限于线下管理，而必须全面掌握互联网对政府与公众行为的影响机制、调节规律及其与现实社会的联系，实现网上网下充分联动、协调共治。

这段文字意在说明大数据：

- A. 强化了政府的治理手段
- B. 提升了政府管理的效率
- C. 调整了政府管理的重心
- D. 拓展了政府的治理领域

【答案】D。解析：

推断文意。

对策结构，强调的是对策而不是问题。

题干引入话题：在“一切皆可量化”的大数据浪潮中，网络逐渐成为现实世界的“镜像”。然后给出对策：政府管理不能再局限于线下管理，而必须全面掌握……实现网上网下充分联动、协调共治。意在强调：必须从线下到线上，拓展政府的治理领域。

所以，正确选项是 D。

49. 某大学团队研究了“干细胞间竞争”在小鼠尾部皮肤老化中的作用。结果表明，“干细胞间竞争”由胶原蛋白 COL17A1 驱动。他们发现，COL17A1 的表达在不同干细胞间存在差异，COL17A1 表达水平较高的干细胞会牢固地锚定于基底膜，且对称分裂，并将附近 COL17A1 表达水平较低的细胞排挤出去。这样的细胞间竞争有助于维持皮肤的整体结构和完整性。研究同时显示，COL17A1 的表达会随年龄增长而下降，也会因为应激（如氧化或紫外线辐射）而下降。最终，所有干细胞中的 COL17A1 表达水平都下降，皮肤随之老化。

根据这段文字，下列说法正确的是：

- A. 年龄与性别因素都会影响 COL17A1 的表达水平
- B. COL17A1 表达水平较低的细胞在竞争中更具优势
- C. 完备的防晒措施能有效提高 COL17A1 的表达水平
- D. COL17A1 的表达水平与皮肤组织的老化程度负相关

【答案】D。解析：

细节对比。

A 项，“年龄因素影响 COL17A1 的表达水平”在文段中没有提及，属于无中生有，说法不正确，排除。

B 项，对应“COL17A1 表达水平较高的干细胞会……将附近 COL17A1 表达水平较低的细胞排挤出去”。因此不是 COL17A1 表达水平较低的细胞在竞争中更具优势，而是相反。说法不正确，排除。

C 项，对应“COL17A1 的表达……也会因为应激（如氧化或紫外线辐射）而下降”，没有提及防晒措施能提高 COL17A1 的表达水平。说法不正确，排除。

D 项，对应“最终，所有干细胞中的 COL17A1 表达水平都下降，皮肤随之老化”。说法正确，当选。所以，正确选项是 D。

50. 哥本哈根大学对来自整个欧洲和格陵兰的 442 例古人类的基因组进行了测序，时间跨度从青铜时代（约公元前 2400 年）一直到近代早期（约公元 1600 年）。研究发现，在“维京时代”，来自南部和东部的的外源基因流入了斯堪的纳维亚。研究还发现有证据证实维京人曾在斯堪的纳维亚以外的国家移动：丹麦的维京人向英格兰移动；瑞典的维京人朝着波罗的海国家向东航行；挪威的维京人迁移至爱尔兰、冰岛和格陵兰。此外，他们的基因分析中还包含了与现代瑞典人群及现代丹麦人群具有亲缘关系的血统样本。

根据这段文字，可以推出的是：

- A. 波罗的海位于瑞典的东北侧
- B. 冰岛不属于斯堪的纳维亚国家
- C. 维京时代开始于十五世纪之前
- D. 现代瑞典人与现代丹麦人基因同源

【答案】B。解析：

推断文意。

A 项，根据“瑞典的维京人朝着波罗的海国家向东航行”仅可得出波罗的海位于瑞典的东侧，而不能推出“东北侧”，排除。

B 项，根据“研究还发现有证据证实维京人曾在斯堪的纳维亚以外的国家移动：……挪威的维京人迁移至爱尔兰、冰岛和格陵兰”，可知冰岛属于斯堪的纳维亚以外的国家，可以推出，当选。

C 项，关于“维京时代”开始的时间，文段未提及，属于无中生有，排除。

D 项，根据“他们的基因分析中还包含了与现代瑞典人群及现代丹麦人群具有亲缘关系的血统样本”，但“具有亲缘关系的血统样本”并不能推出现代瑞典人与现代丹麦人的基因来源相同。不能推出，排除。

所以，正确选项是 B。

第三部分 数量关系

一、数字推理。每道题给你一个数列，但其中缺少一项，要求你仔细观察其排列规律，然后从四个选项中选择你认为最合理的一项，来填补空缺项，使之符合原有的排列规律。

51. 1, 1, 2, 3, 4, (), 6

- A. 7
- B. 8
- C. 9
- D. 10

【答案】A。解析：

相邻两项做和，可得 2, 3, 5, 7, (), ()。

猜测为质数数列，则下两项为 11、13。

所求项为 $11 - 4 = 7$ 。代入验证： $7 + 6 = 13$ ，符合规律。

所以，正确选项是 A。

52. 1, 2, 4, 4, 7, 6, (), 8

- A. 7

- B. 8
- C. 9
- D. 10

【答案】D。解析：

观察数列多达 8 项，优先考虑为多重数列。

偶数项 2、4、6、8，是公差为 2 的等差数列；

奇数项 1、4、7、()，是公差为 3 的等差数列。

则所求项为： $7+3=10$ 。

所以，正确选项是 D。

53. 80, 70, 62, 58, (), 70

- A. 59
- B. 60
- C. 61
- D. 63

【答案】B。解析：

相邻两项做和，可得新数列 3, 6, 8, 11, 13, (), ()。

新数列相邻两项“后项减前项”，可得 3, 2, 3, 2。猜测是一个以“3, 2”为周期的周期数列，下两项为 3, 2。

则新数列的下两项分别为 $13+3=16$, $16+2=18$ 。

则所求项为： $16-6=10$ 。

代入验证： $10+8=18$ ，符合规律。

所以，正确选项是 B。

54. 36, 24, 24, 12, 18, (), 16.5

- A. 3
- B. 9
- C. 17
- D. 24

【答案】A。解析：

数列规律为：相邻三项，第三项=第一项-（第二项÷2）。即： $24=36-(24\div 2)$ ； $12=24-(24\div 2)$ ； $18=24-(12\div 2)$ 。

则所求项= $12-(18\div 2)=3$ 。

所以，正确选项是 A。

55. 1, 5, 17, 43, (), 161

- A. 69
- B. 79
- C. 89
- D. 99

【答案】C。解析：

相邻两项“后项减前项”，可得新数列：4, 12, 26, (), ()。

新数列再次做差可得：8, 14。猜测是公差为 6 的等差数列。则下两项为： $14+6=20$, $20+6=26$ 。

则新数列的下两项分别为： $26+20=46$, $46+26=72$ 。

则所求项为 $43+46=89$ 。

所以，正确选项是 C。

二、数学运算。每道试题呈现一道算术式或表述数字关系的一段文字或几何图形，要求你迅速、准确地计算或论证出答案。

56. 某机构计划派 45 名志愿者分别前往 A、B、C、D 四个地区参与扶贫活动，其中 A 地区的志愿者人数要比 B 地区多 4 人，C 地区人数为全部志愿者人数的 $\frac{1}{5}$ ，D 地区人数不超过任何其他地区，则 A 地区至少有多少名志愿者？

- A. 12
- B. 13
- C. 15
- D. 16

【答案】D。解析：

已知志愿者共有 45 名，其中，C 地区人数为全部志愿者人数的 $\frac{1}{5}$ 。则 C 地区志愿者人数为 $45 \times (\frac{1}{5}) = 9$ 人。其他三个地区的志愿者人数为 36 人。

设 A 地区志愿者为 x 名，那么 B 为 $x-4$ 名。要使得 A 地区志愿者人数最少，则必须 D 地区志愿者人数尽量多。

已知 D 地区人数不超过任何其他地区。如果 D 为 $x-4$ ，则： $x + (x-4) + (x-4) = 36$ 。解得： $x \approx 15$ 。则 $D = x-4 = 15-4 = 11 > 9$ 。不符合题设要求。

因此，D 地区人数只能与 C 地区志愿者人数相同，为 9 人。

则有方程： $x + x - 4 + 9 + 9 = 45$ 。

解得： $x = 15.5$ 。即 x 最少为 16。

此时四个地区的志愿者人数分别是：16、12、9、8。即 A 地区至少有 16 名志愿者。

所以，正确选项是 D。

57. 商场有大、小两种果篮销售，每个小号果篮由 500 克火龙果、300 克葡萄和 700 克橙子组成，每个大号果篮由 700 克火龙果、1300 克葡萄和 1000 克橙子组成。某日通过果篮方式销售水果超过 300 千克，其中 $\frac{1}{3}$ 是葡萄。问当日至少销售了多少千克火龙果？

- A. 不到 85 千克
- B. 85~87 千克
- C. 87~89 千克
- D. 超过 89 千克

【答案】A。解析：

58. 小李有一张银行卡，他忘记了密码的后 3 位，只记得这 3 个数全是奇数且有 2 个相同。问他尝试不超过两次就输入正确密码的概率为多少：

- A. $\frac{1}{30}$
- B. $\frac{1}{50}$
- C. $\frac{2}{59}$
- D. $\frac{2}{57}$

【答案】A。解析：

59. A、B 两地医院分别有库存呼吸设备 10 台和 6 台，现需要支援 C 地医院 9 台、D 地医院 7 台。已知从 A 地调运一台设备到 C 地和 D 地的运费分别为 400 元和 600 元，从 B 地调运一台设备到 C 地和 D 地的运费分别为 300 元和 700 元。如果总运费不能超过 7800 元，共有多少种调运方案：

- A. 3
- B. 4
- C. 5
- D. 6

【答案】B。解析：

60. 某俱乐部选拔优秀选手参加游泳比赛，选手在规定时间内游完全程，就能获得参赛资格。已知有四分之一的选手获得了参赛资格，获得参赛资格选手的平均完成时间比规定时间快 6 秒，未获得参赛资格选手的平均完成时间比规定时间慢 10 秒，所有选手的平均完成时间为 140 秒，则本次选拔的规定时间为多少秒：

- A. 116 B. 125 C. 134 D. 139

【答案】C。解析：

61. 甲队参加四场篮球比赛，前两场均得分分别为第三场得分的 $\frac{3}{4}$ ，第四场得 72 分，是第三场得分的 0.9 倍。问甲队所有比赛平均每场得多少分：

- A. 64 B. 66 C. 68 D. 72

【答案】C。解析：

62. AB 两地间有县道连接，BC 两地间有高速公路连接，且 AB 间路程是 BC 间路程的 $\frac{3}{4}$ 。郭某从 A 地开车匀速前往 B 地，到 B 地后以 AB 间 2 倍的速度开往 C 地，共用时 2 小时 30 分。由 C 地返回 A 地时高速公路行驶速度不变，县道行驶速度比去程降低 $\frac{1}{3}$ ，则返程用时为：

- A. 2 小时 45 分 B. 2 小时 50 分
C. 3 小时 10 分 D. 3 小时 15 分

【答案】D。解析：

63. 某工厂有甲、乙两个生产车间，每个工人的生产效率都相同。甲车间的总生产效率是乙车间的 1.5 倍，从甲车间调派 30 名工人到乙车间之后，甲车间的生产效率是乙车间的 1.2 倍。问需要从甲车间再调多少名工人到乙车间，两个车间的生产效率才能相同：

- A. 20 B. 22 C. 24 D. 25

【答案】D。解析：

64. 超市采购一批食用油，其中玉米油每桶进价比花生油低 20%，若花生油利润定为进价的 24%，玉米油利润定为进价的 30%，则花生油比玉米油每桶售价高 10 元。问玉米油每桶比花生油进价低多少元：

- A. 10 B. 15 C. 24 D. 25

【答案】A。解析：

65. 某农场有 180 台收割机，每天可收割 x 吨水稻。现将 y 台收割机更换为新款收割机，生产效率比之前高 40%；剩余的收割机进行升级，生产效率可以提高 20%。如要求升级的收割机每天水稻收割总量不低于 $\frac{2x}{3}$ 吨，新款收割机每天水稻收割总量不低于 $\frac{3x}{5}$ 吨。则 y 的取值有多少种不同的可能性：

- A. 2 B. 3 C. 4 D. 5

【答案】B。解析：

66. 某通信信道可以传输的信号由 1、2、3、4 四个数字组成，每组信号包含 4 个数字（可重复），且前两个数字必须为奇数。某次传输过程中共传输了 250 组信号，其中传输次数最多的信号传输了 x 次。问 x 的最小值为：

- A. 2 B. 3 C. 4 D. 5

【答案】C。解析：

67. 某课题小组由 8 个人组成，他们各自负责撰写书稿的一部分，完成后通过电子邮件传递书稿。

问要让每个人都得到完整书稿，课题小组总共至少需要发送多少封邮件？（将同一封邮件同时抄送给 n 个人，视作发送 n 封邮件）

- A. 14 B. 16 C. 36 D. 72

【答案】A。解析：

68. 某企业在“十二五”期间第一年的营业额比上一年增长了 1.5 亿元，且往后每年的营业额增量都保持 1.5 亿元不变。已知该企业在“十四五”期间的营业额将是“十二五”和“十三五”期间营业额之和的 80%。问该企业在“十二五”到“十四五”期间的总营业额在以下哪个范围内：

- A. 不到 300 亿元 B. 300~330 亿元
C. 330~360 亿元 D. 超过 360 亿元

【答案】C。解析：

69. 研究人员在 A、B、C、D、E 五块试验田中种植甲、乙、丙、丁、戊五种作物，每块试验田只种一种作物，每年都在所有的安排中随机挑选一种进行种植。问在连续的 3 年中，A 试验田至少 2 年种植同一种作物的概率为：

- A. 36% B. 48% C. 52% D. 64%

【答案】C。解析：

70. 由于采用了新的种植技术，某种农产品的产量和品质都得到了提升。在平均每亩增产 25% 的同时，每千克售价也增加了 20%。尽管每亩生产成本增加了 35%，但每亩利润也增加了 100%。问采用新种植技术后，每亩利润占每亩销售收入的比例在以下哪个范围内：

- A. 不到 25% B. 25%~35%
C. 35%~45% D. 超过 45%

【答案】B。解析：

71. 甲、乙、丙从长 360 米的圆形跑道上的不同点同时出发，沿顺时针方向匀速跑步。3 分钟后甲追上乙，又过 1 分 30 秒后丙也追上乙，又过 3 分 30 秒后丙追上甲，又过 5 分 30 秒后丙第二次追上乙。问出发时甲在乙身后多少米

- A. 48 B. 84 C. 108 D. 144

【答案】B。解析：

72. 小王开车以 80 千米/小时的速度向北行驶，发现一辆在直线轨道上匀速行驶的火车车头始终位于自己的正西方，且逐渐变远。已知该火车的速度为 160 千米/小时，问小王行驶 1 分钟后，火车车头与自己的距离将增加多少千米

- A. $\sqrt{2}$ B. $\sqrt{3}$
C. $(4\sqrt{3})/3$ D. $2((\sqrt{3})-1)$

【答案】C。解析：

73. 一块长方形土地的周长为 260 米，面积为 3600 平方米。将该土地划分成边长 10 米的小正方形土地。现从中选取 3 块，使得任意两块既不同行也不同列。问有多少种不同的选取方式

- A. 不到 200 种 B. 200~400 种
C. 400~800 种 D. 超过 800 种

【答案】D。解析：

74. 某次考试有 n 名考生参加，所有考生的成绩都不同。成绩比小张好的考生和成绩比小李差的考生人数之和为 x ，成绩比小张差的考生和成绩比小李好的考生人数之和为 $1.5x$ 。问 n 的值为：

- A. $1.25x-1$ B. $1.25x+1$
C. $1.25x-2$ D. $1.25x+2$

【答案】B。解析：

75. 商店销售某款橡皮，有每盒 3 块、每盒 5 块和每盒 10 块三种不同的包装，且只能整盒出售而不能拆散。某日卖出这款橡皮不到 50 盒，且当日任意 2 名顾客购买的橡皮块数都不相同。问当天最多有多少名顾客购买了这款橡皮

- A. 17 B. 18 C. 19 D. 20

【答案】B。解析：

第三部分 判断推理

本部分包括图形推理、定义判断、类比推理与逻辑判断四种类型的试题，请在四个选项中选出一个最恰当的答案。

一、图形推理。请按每道题的答题要求作答。

76. 从所给的四个选项中，去掉哪一个后，剩下的图形序列可以呈现一定的规律性：



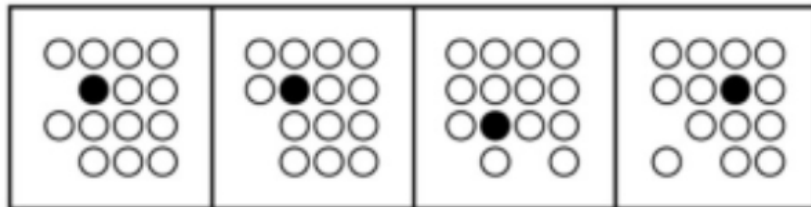
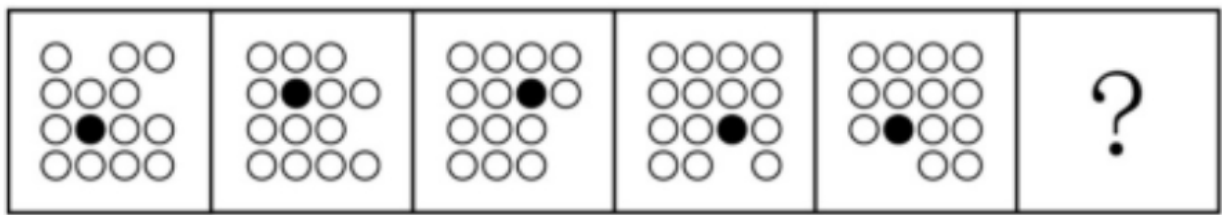
【答案】B。解析：

每个图形中的三角形个数分别为 2、2、2、3、2、2。

去掉 B 项后，则每个图形中的三角形个数都是 2，具有规律性。

所以，正确选项是 B。

77. 从所给的四个选项中，选择最合适的一个填入问号处，使之呈现一定的规律性：



A

B

C

D

【答案】A。解析：

对图中的两个空白位置 1、2 进行标记，空白位置 1 沿着外围依次顺时针移动 2 个格，空白位置 2 沿着外围依次顺时针移动 1 个格，黑球在内部依次顺时针移动 1 个格。依此规律，只有 A 项符合。

所以，正确选项是 A。

78. 从所给的四个选项中，选择最合适的一个填入问号处，使之呈现一定的规律性：



A

B

C

D

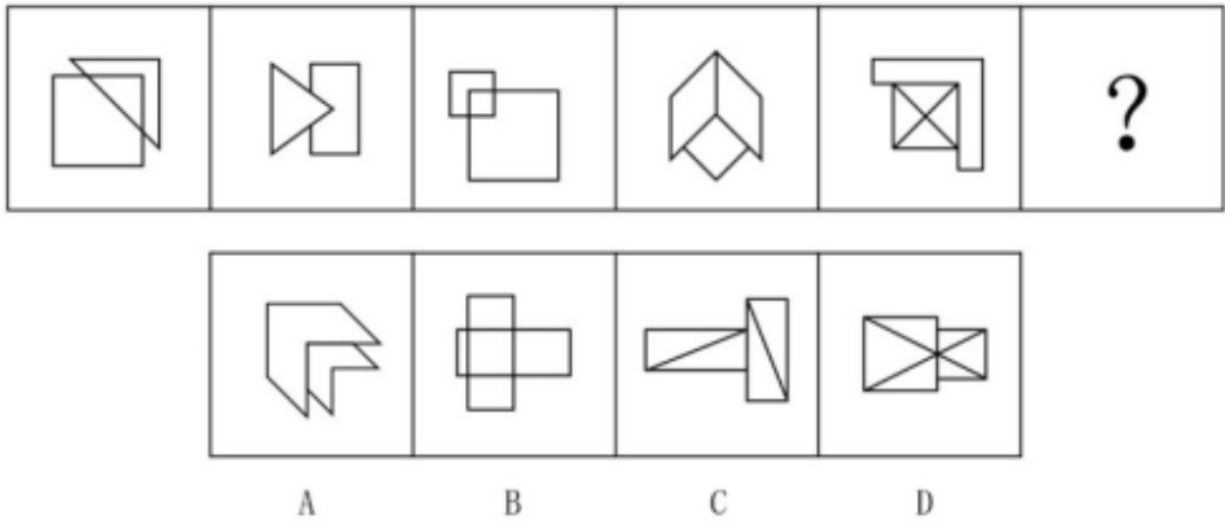
【答案】D。解析：

每个题干图形中的黑色区域的面积均为白色区域面积的 $1/3$ 。

依此规律，只有 D 项符合。

所以，正确选项是 D。

79. 从所给的四个选项中，选择最合适的一个填入问号处，使之呈现一定的规律性：



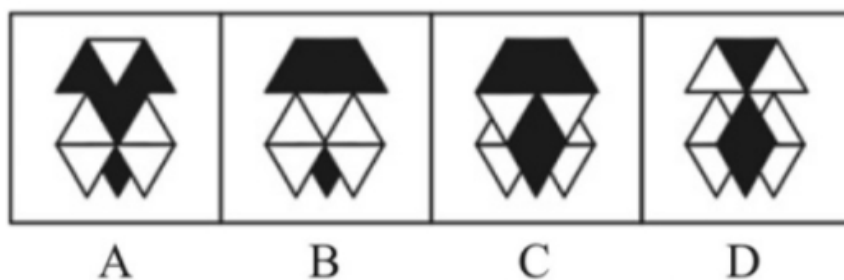

【答案】D。解析：

所有题干图形均为轴对称图形，且对称轴的方向依次顺时针旋转 45 度。因此问号处的图形应为轴对称图形，且对称轴方向应为横向。据此可以排除 A、C 两项。

进一步观察发现，奇数项图形中的对称轴均与原图有 4 个公共点，偶数项图形中的对称轴均与原图有 3 个公共点。问号处是偶数项，因策必须选择一个对称轴均与原图有 3 个公共点的图形。据此排除 B 项。

所以，正确选项是 D。

80. 从所给的四个选项中，选择最合适的一个填入问号处，使之呈现一定的规律性：



【答案】C。解析：

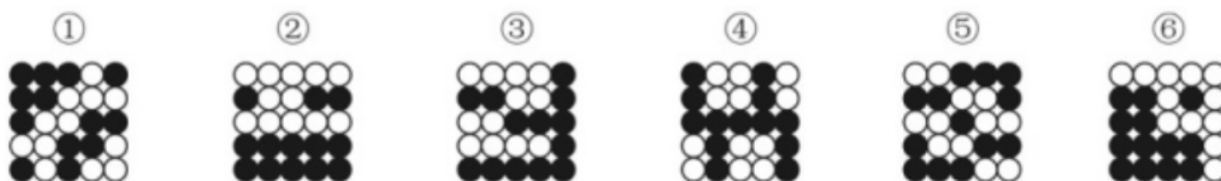
第一行中，前两个图形叠加，可以得到第三个图形。

第二行，符合此规律。

第三行，前两个图形叠加，可以得到C项。

所以，正确选项是C。

81. 把下面的六个图形分为两类，使每一类图形都有各自的共同特征或规律，分类正确的一项是：



- A. ①③④，②⑤⑥
- B. ①③⑤，②④⑥
- C. ①②⑥，③④⑤
- D. ①④⑥，②③⑤

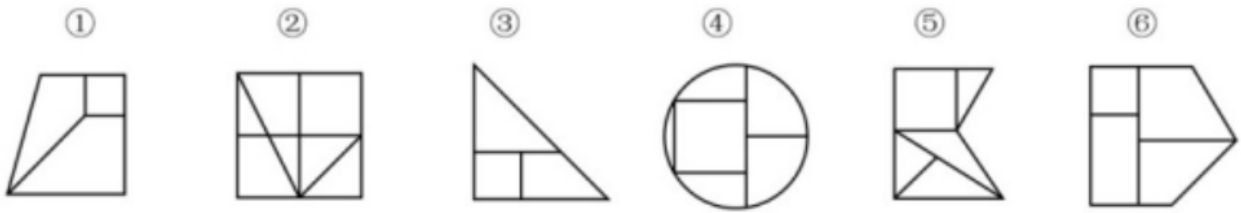
【答案】C。解析：

图形①②⑥中的白球组成的区域为轴对称图形。

图形③④⑤中的白球组成的区域为中心对称图形。

所以，正确选项是C。

82. 把下面的六个图形分为两类，使每一类图形都有各自的共同特征或规律，分类正确的一项是：



- A. ①③④, ②⑤⑥
- B. ①③⑥, ②④⑤
- C. ①②⑤, ③④⑥
- D. ①④⑥, ②③⑤

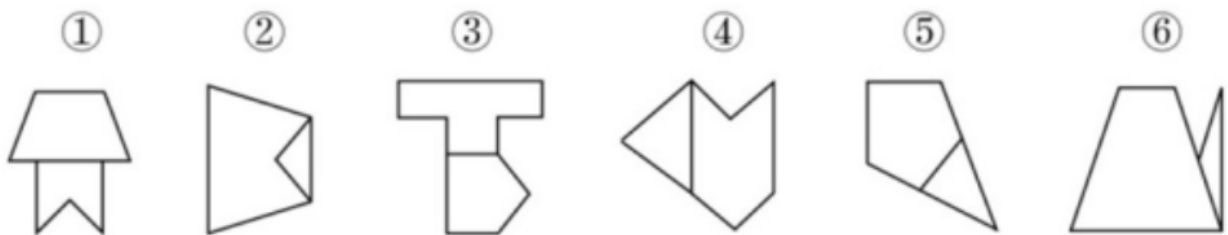
【答案】B. 解析：

图形①③⑥中的最小面是正方形。

图形②④⑤中的最大面是正方形。

所以，正确选项是 B。

83. 把下面的六个图形分为两类，使每一类图形都有各自的共同特征或规律，分类正确的一项是：



- A. ①②③, ④⑤⑥
- B. ①②⑤, ③④⑥
- C. ①②④, ③⑤⑥
- D. ①④⑥, ②③⑤

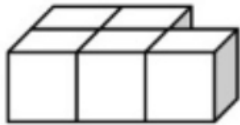
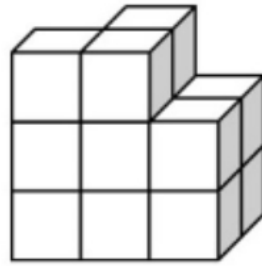
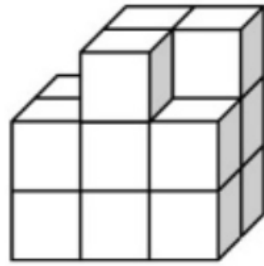
【答案】B. 解析：

图形①②⑤中的两个面的对称轴方向相同。

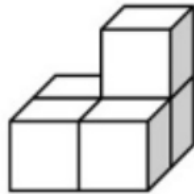
图形③④⑥中的两个面的对称轴方向垂直。

所以，正确选项是 B。

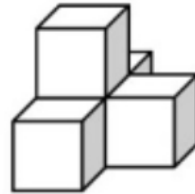
84. 下面①和②分别是给定立体图形的正视图和后视图，此立体图形由三块完全相同的图形构成，则该图形是：



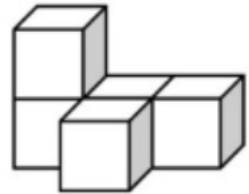
A



B



C



D

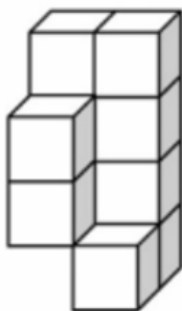
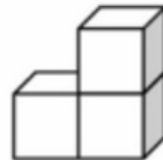
【答案】B。解析：

85. 下列哪个选项可与①和②组成一个长方体：

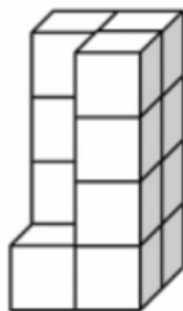
①



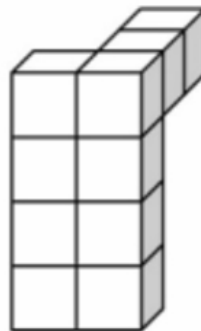
②



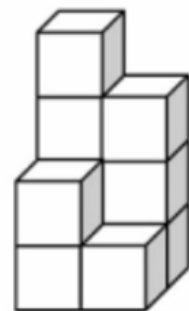
A



B



C



D

【答案】D。解析：

二、定义判断。每道题先给出定义，然后列出四种情况，要求你严格依据定义，从中选出一个最符合或最不符合该定义的答案。注意：假设这个定义是正确的，不容置疑的。

86. 经验假说是根据观察或实验的种种结果及已有的科学原理对事物现象及其规律所作出的推测性

解释；而理论假说则是通过直觉、想象、抽象等思维过程对事物现象及其规律所作出的推测性解释。

根据上述定义，下列属于理论假说的是：

- A. 伽利略通过多次斜面实验，提出了惯性概念
- B. 哥德巴赫通过对数字规律的考察，提出了哥德巴赫猜想
- C. 贝塞尔发现天狼星的运动具有周期性偏差，提出了天狼星有伴星的猜测
- D. 哥白尼在不同的时间和地点观察行星，发现每颗行星运行情况都不相同，提出了日心说

【答案】B。解析：

属于型。

定义关键词：

经验假说：根据观察或实验的种种结果及已有的科学原理。

理论假说：通过直觉、想象、抽象等思维过程。

A项：伽利略根据多次“斜面**实验**”提出了惯性概念，属于经验假说，不属于理论假说，排除。

B项：哥德巴赫通过对数字规律的考察，提出了哥德巴赫猜想，“考察数字规律”属于抽象的思维过程，符合“通过直觉、想象、抽象等思维过程”，属于理论假说，当选。

C项：贝塞尔发现（**观察**）天狼星的运动具有周期性偏差，提出了天狼星有伴星的猜测，符合“根据观察或实验的种种结果及已有的科学原理”，属于经验假说，不属于理论假说，排除。

D项：哥白尼根据**观察**到的行星运行情况，提出日心说，属于经验假说，不属于理论假说，排除。

所以，正确选项是B。

87. 并提是古代汉语中常见的一种修辞方法，为了使句子紧凑，文辞简练，把本来应该用两个短语或者句子表达的内容，合并为一个短语或句子。合并时把相同的成份放在一起，使短语或句子的前后两部分有一种分别相承的关系。

根据上述定义，下列没有使用并提修辞手法的是：

- A. 《论衡·明雩》：“尧、汤水旱。”
- B. 《长恨歌》：“行宫见月伤心色，夜雨闻铃肠断声。”
- C. 《孟子·离娄上》：“继之以规矩准绳，以为方圆平直。”
- D. 《颜氏家训·风操篇》：“父之遗书，母之杯圈，感其手口之泽，不忍读用。”

【答案】B。解析：

不属于型。

“并提修辞手法”的定义关键信息：（1）把本来应该用两个短语或者句子表达的内容，合并为一个短语或句子，（2）合并时把相同的成份放在一起，使短语或句子的前后两部分有一种分别相承的关系。

A项：“尧、汤水旱”是指尧遭洪水，汤遭大旱，在一个句子中表达了这两件事，符合“合并为一个短语或句子”，使用了并提修辞手法，排除。

B项：“行宫见月伤心色，夜雨闻铃肠断声”，意思是在行宫看见月色就伤心，夜里听到铃声就断肠痛苦，没有合并相同成份，不符合定义，没有使用并提修辞手法，当选。

C项：“继之以规矩准绳，以为方圆平直”，意思是需要用规矩和准绳为标准，才能知道是方圆和平直。这句话中规矩准绳的意思一致，方圆平直的意思一致，符合“把相同成份合并在一起”，句子前后起到了相承关系，使用了并提修辞手法，排除。

D项：“父之遗书，母之杯圈，感其手口之泽，不忍读用。”是指父亲留下的书籍，母亲用过的杯圈，觉得上面有汗水和唾水，就不忍再阅读使用。“读”与“手”都是承“父之遗书”而言的，“用”与“口”都是承“母之杯圈”而言的，符合“前后两部分有一种分别相承的关系”，使用了并提修辞手法，排除。

所以，正确选项是B。

88. 防御性倾听是指在沟通过程中，当讯息接收方察觉对方话语中的指责时，所做出的自我保护性的回应，例如否认、辩解、攻击等。

根据上述定义，当甲被乙指责做事不认真时，下列甲的回应中不属于防御性倾听的是：

- A. “你比我做事还不认真”
- B. “你知道我做事一向很认真”
- C. “最近身体不好，没办法全力以赴”
- D. “很抱歉，由于我不认真，给你带来了麻烦”

【答案】D。解析：

不属于型。

“防御性倾听”的定义关键信息：（1）在沟通过程中，（2）当讯息接收方察觉对方话语中的指责时，（3）所做出的自我保护性的回应，例如否认、辩解、攻击等。

A 项：说“你比我做事还不认真”，是自我保护性的“攻击”，属于防御性倾听，排除。

B 项，说“你知道我做事一向很认真”，是自我保护性的“否认”，属于防御性倾听，排除。

C 项，说“最近身体不好，没办法全力以赴”，是自我保护性的“辩解”，属于防御性倾听，排除。

D 项，说“很抱歉，由于我不认真，给你带来了麻烦”，是承认自己的不认真并道歉，不是自我保护性的回应，不属于防御性倾听。当选。

所以，正确选项是 D。

89. 当事人适格是指就特定的诉讼，有资格以自己的名义成为原告或被告的成年人或法人，因而成为受本案判决拘束的当事人，当事人非适格是指有缺陷的诉讼当事人，这种缺陷是指当事人因与特定诉讼标的没有事实上或法律上的关系，既不是该诉讼标的的权利或法律关系主体，也没有诉讼担当人的资格（比如失去财产管理与处分权等），对该诉讼根本没有诉讼实施权。

根据上述定义，下列选项中，“甲”为当事人适格的是：

A. 甲 13 岁，在放学路上被该校高年级学生乙殴打致伤，甲起诉乙

B. 甲与乙婚后育有一女丙，离婚后丙由乙抚养，甲一直未支付抚养费，于是乙起诉甲

C. 甲公司进行一项公共工程，路人乙因甲公司施工不当而摔倒，造成右臂骨折，后乙起诉甲公司要求国家赔偿

D. 甲公司向乙公司借款 100 万，后向丙公司购买 300 万汽车一辆，甲将 100 万借款作为支付丙的分期付款的头期款，后甲公司破产，乙将甲列为被告

【答案】B。解析：

属于型。

“当事人适格”的定义关键信息：（1）就特定的诉讼，（2）有资格以自己的名义成为原告或被告的成年人或法人，（3）因而成为受本案判决拘束的当事人。

A 项：甲 13 岁，是未成年人，不是有资格以自己的名义成为原告或被告的成年人，不为当事人适格。排除。

B 项：甲一直未支付抚养费，就特定的诉讼，甲是有资格以自己的名义成为被告的成年人，为当事人适格。当选。

C 项：乙起诉甲公司要求**国家赔偿**，甲不是“受本案判决拘束的当事人”，不为当事人适格。排除。

D 项：甲公司已经破产，已经没有诉讼担当人的资格，不为当事人适格。排除。

所以，正确选项是 B。

90. 感觉营销是指企业以产品或服务为载体，利用人们的感受器（眼、耳、鼻、口、指等）对光线、色彩、声音、气味等基本刺激的直接反应为消费者创造出一种心理舒适与精神满足，从而达到营销目的的营销方式。

根据上述定义，下列不属于感觉营销的是：

- A. 某面包店将新出炉的面包拿给过路群众免费试吃，不少人觉得好吃进店购买
- B. 某影院开了一家爆米花店，爆米花飘香四溢，即使是刚用过餐的顾客也觉得十分诱人，会购买一大桶带进放映厅
- C. 咖啡店通常光线较暗，并播放曲调舒缓的音乐，这样会给顾客带来一种独立的空间感和自在感，让更多顾客喜欢这里
- D. 人们往往倾向于填补图形中缺少的部分，如被遮住的一部分文字或图形等，许多公司正是利用这一点来鼓励人们参与活动，宣传自己的产品

【答案】D。解析：

不属于型。

“感觉营销”的定义关键信息：（1）企业以产品或服务为载体，（2）利用人们的感受器（眼、耳、鼻、口、指等）对光线、色彩、声音、气味等基本刺激的直接反应为消费者创造出一种心理舒适与精神满足，（3）从而达到营销目的的营销方式。

A项：试吃面包，是利用色彩、气味刺激消费者，从而达到营销目的。属于感觉营销，排除。

B项：爆米花飘香四溢，是利用气味刺激消费者，从而达到营销目的。属于感觉营销，排除。

C项：咖啡店通常光线较暗，并播放曲调舒缓的音乐，是利用光线、声音刺激消费者，从而达到营销目的。属于感觉营销，排除。

D项：利用人们倾向于填补图形中缺少的部分，不是利用人们的感受器（眼、耳、鼻、口、指等）对光线、色彩、声音、气味等基本刺激。不属于感觉营销，当选。

所以，正确选项是D。

91. 皈依者狂热是指后来皈依的教众比生于信教家庭的教众（老信徒）更加虔诚或诸如此类的社会现象。

根据上述定义，下列不属于皈依者狂热的是：

- A. 英国的餐桌礼仪来自于法国，但后来英国人对餐桌礼仪的讲究程度却远胜于法国人
- B. 通过多年申请，韩国人小金终于获得美国绿卡，他认为自己比任何人更像美国人了
- C. 老张以前只在超市买东西，今天第一次接触网购，一口气在网上买了几万元的商品
- D. 罗恩原籍德国，加入中国国籍后，致力于研究史书典籍，比很多中国人更热爱中国历史

【答案】C。解析：

不属于型。

“皈依者狂热”的定义关键信息：（1）后来皈依的教众比生于信教家庭的教众（老信徒）更加虔诚，（2）或诸如此类的社会现象。

A项：英国的餐桌礼仪来自于法国，后来英国人（后来皈依的）对餐桌礼仪的讲究程度却远胜于法国人（比生于信教家庭的教众（老信徒）更加虔诚）。属于皈依者狂热，排除。

B项：通过多年申请，韩国人小金终于获得美国绿卡（后来皈依的），他认为自己比任何人更像美国人了（比生于信教家庭的教众（老信徒）更加虔诚）。属于皈依者狂热，排除。

C项：老张以前只在超市买东西，今天第一次接触网购，一口气在网上买了几万元的商品（没有体现出“比生于信教家庭的教众（老信徒）更加虔诚”）。不属于皈依者狂热，当选。

D项：罗恩原籍德国，加入中国国籍后（后来皈依的），致力于研究史书典籍，比很多中国人更热爱中国历史（比生于信教家庭的教众（老信徒）更加虔诚）。属于皈依者狂热，排除。

所以，正确选项是C。

92. 虚假同感偏差又叫作虚假一致性偏差，是指人们常常高估或夸大自己的信念、判断及行为的普遍性，它是人们坚信自己信念、判断正确性的一种方式。

根据上述定义，下列不属于虚假同感偏差的是：

- A. 他以为别人都是善良的
- B. 这个青椒很好吃，我特意给你点的
- C. 我是他的粉丝，我同学肯定也很喜欢他
- D. 我支持这个做法，反对的人脑子不正常

【答案】A。解析：

不属于型。

“虚假同感偏差”的定义关键信息：（1）人们常常高估或夸大自己的信念、判断及行为的普遍性，（2）它是人们坚信自己信念、判断正确性的一种方式。

- A项：他以为别人都是善良的（没有体现出他坚信自己判断正确）。不属于虚假同感偏差，当选。
 - B项：这个青椒很好吃，我特意给你点的（坚信自己判断正确）。属于虚假同感偏差，排除。
 - C项：我是他的粉丝，我同学肯定也很喜欢他（坚信自己判断正确）。属于虚假同感偏差，当选。
 - D项：我支持这个做法，反对的人脑子不正常（坚信自己判断正确）。属于虚假同感偏差，排除。
- 所以，正确选项是A。

93. 同时履行抗辩权，是指当事人互负债务，没有先后履行顺序的，应当同时履行。一方在对方履行之前有权拒绝其履行的请求。一方在对方履行债务不符合约定时，有权拒绝其相应的履行请求。

根据上述定义，下列属于行使同时履行抗辩权的是：

- A. 甲从乙处购买汽车一辆，在甲没有支付价款前，乙不交付汽车
- B. 甲、乙约定各自出资100万成立丙公司，甲没有出资前，乙也不予出资
- C. 甲向乙借用了相机，随后乙向甲借用了手机，甲未归还相机，乙不归还手机
- D. 甲、乙约定甲免费赠送乙一幅名画，在乙没有支付运费之前，甲不予交付给乙

【答案】C。解析：

属于型。

“行使同时履行抗辩权”的定义关键信息：（1）当事人互负债务，没有先后履行顺序的，应当同时履行。（2）一方在对方履行之前有权拒绝其履行的请求。（3）一方在对方履行债务不符合约定时，有权拒绝其相应的履行请求。

A项：甲从乙处购买汽车一辆，在甲没有支付价款前，乙不交付汽车。其中只有甲负债，乙没有负债，不符合“当事人互负债务”。不属于行使同时履行抗辩权，排除。

B项：甲、乙约定各自出资100万成立丙公司，其中未体现甲、乙负债或相互负债。不属于行使同时履行抗辩权，排除。

C项：甲向乙借用了相机，随后乙向甲借用了手机，甲未归还相机，乙不归还手机。其中甲、乙二人互负债务，且都未归还。属于行使同时履行抗辩权，当选。

D项：甲、乙约定甲免费赠送乙一幅名画，在乙没有支付运费之前，甲不予交付给乙。其中“甲约定免费赠送乙一幅名画”属于无偿赠与，不是负债。不属于行使同时履行抗辩权，排除。

所以，正确选项是C。

94. 形成权是指依权利人一方的意思而使法律关系发生、内容变更或消灭的权利。

根据上述定义，下列不属于行使形成权的是：

- A. 甲追回六岁儿子给网络主播的打赏
- B. 甲按照合同约定从乙处采购一批手机
- C. 甲因乙违约，按照合同约定要求解除合同
- D. 甲因乙婚前未告知其有重大疾病而请求撤销婚姻

【答案】B。解析：

不属于型。

“行使形成权”的定义关键信息：（1）依权利人一方的意思，（2）而使法律关系发生、内容变更或消灭的权利。

A项：甲追回六岁儿子给网络主播的打赏。六岁儿子不具有完全民事行为能力，其父作为监护人，有撤销打赏的权利，符合“依权利人一方的意思而使法律关系发生、内容变更或消灭的权利”。属于行使形成权，排除。

B项：甲按照合同约定从乙处采购一批手机。“合同约定”需要甲乙双方共同订立，不符合“依权利人一方的意思而使法律关系发生、内容变更或消灭的权利”。不属于行使形成权，当选。

C项：甲因乙违约，按照合同约定要求解除合同。乙违约，甲单方即可解除合同，符合“依权利人一方的意思而使法律关系发生、内容变更或消灭的权利”。属于行使形成权，排除。

D项：甲因乙婚前未告知其有重大疾病而请求撤销婚姻。根据《中华人民共和国民法典》第一千零五十三条规定：“一方患有重大疾病的，应当在结婚登记前如实告知另一方；不如实告知的，另一方可以向人民法院请求撤销婚姻。请求撤销婚姻的，应当自知道或者应当知道撤销事由之日起一年内提出。”因此，可依甲一方的意思而撤销婚姻。属于行使形成权，排除。

所以，正确选项是B。

95. 行政机关为了实现行政管理或者公共服务目标，与公民、法人或者其他组织协商订立的具有行政法上权利义务内容的协议，属于行政协议。

根据上述定义，下列不属于行政协议的是：

- A. 某县自然资源局与某矿业公司签订矿业权出让协议
- B. 某区人民政府与王某签订政府保障性住房租赁协议
- C. 县房屋征收部门与被征人某教育局签订国有土地上房屋征收补偿协议
- D. 某市公安机关和某市交通管理部门签订关于联合整治超限超载专项行动合作协议

【答案】D。解析：

不属于型。

“行政协议”的定义关键信息：（1）行政机关，（2）为了实现行政管理或者公共服务目标，（3）与公民、法人或者其他组织协商订立的具有行政法上权利义务内容的协议。

A项：某县自然资源局（属于行政机关）与某矿业公司（属于法人）签订矿业权出让协议。属于行政协议，排除。

B项：某区人民政府（属于行政机关）与王某（属于公民）签订政府保障性住房租赁协议。属于行政协议，排除。

C项：县房屋征收部门（属于行政机关）与被征人某教育局签订国有土地上房屋征收补偿协议（属于具有行政法上权利义务内容的协议）。属于行政协议，排除。

D项：某市公安机关（属于行政机关）和某市交通管理部门签订关于联合整治超限超载专项行动合作协议（属于行政工作之间的合作，不是具有行政法上权利义务内容的协议）。不属于行政协议，当选。

所以，正确选项是D。

三、类比推理。每道题先给出一组相关的词，要求你在备选答案中找出一组与之有逻辑关系上最为贴近、相似或匹配的词。

96. 先礼：后兵

- A. 居安：思危
- B. 头重：脚轻
- C. 鞍前：马后
- D. 生离：死别

【答案】B。解析：

题干逻辑关系是：“先礼”和“后兵”是反义词，其中，“先”和“后”是反义词，“礼”和“兵”是反义词。

B项：“头重”和“脚轻”是反义词，其中，“头”和“脚”是反义词，“重”和“轻”是反义词。与题干逻辑关系一致，当选。

所以，正确选项是B。

97. 胃口：兴趣

- A. 心腹：器官
- B. 黑马：比赛
- C. 桃李：学生
- D. 亲人：骨肉

【答案】C。解析：

题干逻辑关系是：“胃口”可以比喻“兴趣”。

C项：“桃李”可以比喻“学生”。与题干逻辑关系一致，当选。

所以，正确选项是C。

98. 失眠：睡意

- A. 饥饿：食欲
- B. 营养：干枯
- C. 窒息：氧气
- D. 麻木：悲伤

【答案】C。解析：

题干逻辑关系是：没有“睡意”会导致“失眠”。

C项：没有“氧气”会导致“窒息”。与题干逻辑关系一致，当选。

所以，正确选项是C。

99. 大米：大米粥

- A. 蜘蛛：蜘蛛网
- B. 玻璃：玻璃水
- C. 马尾：马尾辫
- D. 图书：图书馆

【答案】D。解析：

题干逻辑关系是：大米粥里有大米。

D项：图书馆里有图书。与题干逻辑关系一致，当选。

所以，正确选项是D。

100. 亏损率：收益率

- A. 就业率：失业率
- B. 死亡率：出生率
- C. 升学率：辍学率
- D. 月利率：年利率

【答案】A。解析：

题干逻辑关系是：“亏损率”与“收益率”成反比关系，即“亏损率”越高，“收益率”越低，反

之，“亏损率”越低，“收益率”就越高。

A项：“就业率”与“失业率”成反比关系，即“就业率”越高，“失业率”越低，反之，“就业率”越低，“失业率”就越高。与题干逻辑关系一致，当选。

所以，正确选项是A。

101. 电影：话剧：演员

- A. 公路：人行道：机动车
- B. 电器：空调：修理工
- C. 教学课：体育课：教师
- D. 运算：存储：硬盘

【答案】C。解析：

题干逻辑关系是：“电影”和“话剧”是并列的艺术种类，二者属于反对关系，“演员”是“电影”和“话剧”中的主体。

C项：“教学课”和“体育课”是并列的课程种类，二者属于反对关系，“教师”是“教学课”和“体育课”中的主体。与题干逻辑关系一致，当选。

所以，正确选项是C。

102. 道教：基督教：基督新教

- A. 软件：程序：游戏
- B. 怀表：手表：电子表
- C. 淡水湖：咸水湖：死海
- D. 含羞草：茉莉花：玫瑰花

【答案】C。解析：

题干逻辑关系是：道教和基督教是两种不同的宗教，二者是并列关系，基督新教与基督教是种属关系。

C项：淡水湖和咸水湖是两种不同的湖，二者是并列关系，死海与咸水湖是种属关系。与题干逻辑关系一致，当选。

所以，正确选项是C。

103. 被告人：法庭：罪犯

- A. 江水：水电站：交流电
- B. 投资者：市场：消费者
- C. 高中生：学习：大学生
- D. 种子：试验田：农作物

【答案】C。解析：

题干逻辑关系是：被告人通过法庭审判可能成为罪犯。

C项：高中生通过学习检验可能成为大学生。与题干逻辑关系一致，当选。

所以，正确选项是C。

104. 月亮 对于 ()，相当于 理发师 对于 ()

- A. 潮汐；剪刀
- B. 太阳；学徒
- C. 月光；造型师
- D. 天体；职业

【答案】D。解析：

代入选项检验。

D项：月亮是一种天体，理发师是一种职业，前后都是种属关系，逻辑关系一致，当选。
所以，正确选项是D。

105. () 对于 行李箱，相当于 烹饪对于 ()

- A. 滚轮；勺子
- B. 旅行；砂锅
- C. 品牌；厨师
- D. 保险箱；红烧

【答案】B。解析：

代入选项检验。

B项：旅行可能用到行李箱，烹饪可能用到砂锅。前后逻辑关系一致，当选。
所以，正确选项是B。

四、逻辑判断。每道题给出一段陈述，这段陈述被假设是正确的，不容置疑的，要求你根据这段陈述选择一个正确答案。注意：正确答案应与所给的陈述相符合，不需要任何附加说明即可以从陈述中直接推出。

106. 小张、小王、小李、小赵4人参加学习小组，每人从《习近平谈治国理政》第一卷、《习近平谈治国理政》第二卷、《习近平谈治国理政》第三卷这三本书中挑选一本，再从这本书中选出1~3个专题进行学习，并谈心得体会。已知：

- (1) 小张和小赵挑选的书不同，选择学习的专题数也不同
- (2) 有1人选择了1个专题进行学习，有2人选择2个专题进行学习
- (3) 小李选择了《习近平谈治国理政》第三卷中的3个专题进行学习
- (4) 每本书都有人挑选，小王和小赵挑选了《习近平谈治国理政》第一卷

由此可以推出：

- A. 小张和小李挑选了同一本书
- B. 小王选择了2个专题进行学习
- C. 有人与小李选择了相同的书或专题数
- D. 小赵选择了第一卷的2个专题进行学习

【答案】B。解析：

根据(3) 小李选择了……3个专题。可推知：选择1个专题的1人，选择2个专题的2人是小张、小王和小赵。

根据(1) 小张和小赵选择学习的专题数也不同。可推知小张和小赵二人中必然有1人选择1个专题，1人选择3个专题。

因此可推知：小王必然选择2个专题。B项当选。

所以，正确选项是B。

107. 2020年的冬天似乎比往年更早到来。还没进入11月份，我国部分地区就出现了第一场降雪和气温降至零度以下的情况。有专家据此表示，2020年的冬天将成为我国60年来最冷的一个冬天。

以下哪项如果为真，最能削弱上述论述：

- A. 我国其他一些地区的气温并未出现较往年明显下降的迹象
- B. 11月前出现大雪天气的地区往年几乎没有出现过类似现象
- C. 在全球变暖的情况下，近年来我国冬季平均气温呈上升趋势

D. 据统计, 第一场降雪的时间与整个冬天的平均气温无明显相关

【答案】D。解析:

削弱型。

需要削弱的论点是: 2020 年的冬天将成为我国 60 年来最冷的一个冬天。

论据: 还没进入 11 月份, 我国部分地区就出现了第一场降雪和气温降至零度以下的情况。

ABC 三项都与题干论证的论题不一致, 属于无关选项, 直接排除。

D 项说“第一场降雪的时间与整个冬天的平均气温无明显相关”, 这就切断了题干论证的论点与论据之间的逻辑联系, 具有削弱作用。当选。

所以, 正确选项是 D。

108. 1990 年, W 市 70 岁以上老人骨折发生率很高, 同时, 70 岁以上老人的死亡率也很高, 因此可以得知, 骨折高发导致了 70 岁以上老人死亡率的上升。

以下哪项如果为真, 最能削弱上述结论:

A. 1990 年 W 市正在经历战乱

B. W 市很多 70 多岁以上的老人都是独居老人

C. 此后十年, W 市 70 岁以上老人的骨折率和死亡率一直很高

D. W 市 60 岁到 65 岁老人骨折发生率是 70 岁以上老人的 2 倍

【答案】A。解析:

削弱型。

需要削弱的结论是: 骨折高发导致了 70 岁以上老人死亡率的上升。

论据: 1990 年, W 市 70 岁以上老人骨折发生率很高, 同时, 70 岁以上老人的死亡率也很高。

A 项说“1990 年 W 市正在经历战乱”, 意在强调 1990 年 70 岁以上老人的死亡率高, 是因为战乱, 与 W 市 70 岁以上老人骨折发生率高没有关系。这就切断了题干论证的论点与论据之间的逻辑联系, 具有削弱作用。当选。

所以, 正确选项是 A。

109. 近年来, 公众对于糖有害健康的讨论越来越多。数据表明白糖的销售量明显下降。这说明公众对糖的危害性的警觉导致了白糖销售量的下降。

以下哪项如果为真, 最能削弱上述结论?

A. 盐和醋的销售量近年来不断攀升

B. 现在人均白糖消费量是 10 年前的 80%

C. 减少白糖摄入后, 一些嗜甜者出现了睡眠障碍

D. 近年来, 白糖价格因为甘蔗种植面积大幅缩减而飙升

【答案】D。解析:

削弱型。

需要削弱的结论是: 公众对糖的危害性的警觉导致了白糖销售量的下降。

论据: 公众对于糖有害健康的讨论越来越多。

ABC 三项都与题干论证的论题不一致, 属于无关选项, 直接排除。

D 项说“近年来白糖价格因为甘蔗种植面积大幅缩减而飙升”, 意在强调: 白糖销售量的下降不是因为公众对于糖有害健康的讨论越来越多, 公众对糖的危害性的警觉, 而是因为白糖价格飙升太贵买不起。属于增加他因, 具有削弱作用, 当选。

所以, 正确选项是 D。

110. 与其他能够有效替代化石燃料的能源作物相比, 藻类的产油能力十分突出。为提高藻类燃料的

出产率，有研究人员致力于开发转基因藻类。但是，反对者认为转基因藻类的大量繁殖会产生毒素，而且会将水体中的氧气消耗殆尽，造成水中其他生物大量死亡，这会导致生态平衡被严重破坏。

以下哪项如果为真，最能削弱反对者的担心：

- A. 很多科学家表示，转基因藻类非常安全
- B. 转基因藻类经过简单加工后就可以源源不断地提供理想的燃料
- C. 全球每年消耗大量石油和煤炭，如果再不找到一种替代燃料，全球能源很快会消耗殆尽
- D. 过去 20 年，已发生过数起实验室培植的转基因藻类外流事件，从未给自然环境造成严重后果

【答案】D。解析：

削弱型。

需要削弱的反对者的论点是：转基因藻类的大量繁殖会导致生态平衡被严重破坏。

论据：转基因藻类的大量繁殖会产生毒素，而且会将水体中的氧气消耗殆尽，造成水中其他生物大量死亡。

ABC 三项都与题干论证的论题不一致，属于无关选项，直接排除。

D 项说“过去 20 年，已发生过数起实验室培植的转基因藻类外流事件，从未给自然环境造成严重后果”。这属于增加反向论据，具有削弱作用。当选。

所以，正确选项是 D。

111. 以前很多科学家相信，人类来自于非洲。但是最近科学家们在非洲的撒哈拉沙漠发现了早期灵长类动物 4 个物种的化石，这些物种可能生活在 3900 万年前，但它们与同期或者更早在非洲生活的物种都不相同，这表明它们是在其他地方进化后才到达非洲的。科学家们认为，最有可能的解释是这些物种源于亚洲，然后从亚洲迁移到了非洲。

以下哪项如果为真，最能支持上述结论：

- A. 这 4 个物种来自于灵长类家族中不同的分支，它们拥有同一个祖先
- B. 科学家们在亚洲发现了生活在 4500 万年前的这些早期灵长类动物化石
- C. 进化成这 4 个早期灵长类动物的物种需花费很长时间，但在非洲却找不到其进化痕迹
- D. 3900 万年前，在非洲没有物种能与这些早期灵长类动物相抗衡，因此它们有了一段繁盛的发展时期

【答案】B。解析：

支持型。

需要支持的结论是：这些物种源于亚洲，然后从亚洲迁移到了非洲。

论据：最近科学家们在非洲的撒哈拉沙漠发现了早期灵长类动物 4 个物种的化石，这些物种可能生活在 3900 万年前，但它们与同期或者更早在非洲生活的物种都不相同，这表明它们是在其他地方进化后才到达非洲的。

A 项与题干论证论题不一致，属于无关选项，不能支持，排除。

B 项说“科学家们在亚洲发现了生活在 4500 万年前的这些早期灵长类动物化石”，属于增加正向论据，具有支持作用。当选。

C、D 两项与题干论证论题不一致，属于无关选项，不能支持，排除。

所以，正确选项是 B。

112. 小李对小张说：“你少吃一点咸菜，平时吃得太咸，将来会得高血压。”小张反驳道：“吃得咸不咸跟高血压没有关系，你看五十年代的人，天天都吃咸菜疙瘩，也没有现在这么多人得高血压。”

以下哪项如果为真，不能帮助小李质疑小张的观点：

- A. 过去医疗条件落后，民众健康意识淡薄，即使得了高血压也不知道
- B. 吃太多盐会影响钙和锌的吸收，易患骨质疏松，还会加重肝肾代谢负担

- C. 五十年代的人作息更规律，运动量更大，有助于排出体内的钠，降低血压
- D. 吸烟、饮酒、高盐饮食、精神紧张都会导致高血压和心脑血管疾病风险增加

【答案】B。解析：

最不能削弱型。相当于：支持或无关。

“不能帮助小李质疑小张”，意思是：支持小张的观点，或者与小张的观点无关。

小张的观点是：吃得咸不咸跟高血压没有关系。

小张的论据是：五十年代的人，天天都吃咸菜疙瘩，也没有现在这么多人得高血压。

A 项，说“过去医疗条件落后……使得了高血压也不知道”，意在强调：吃得太咸会得高血压。能够削弱，排除。

B 项：说“吃太多盐会影响钙和锌的吸收，易患骨质疏松，还会加重肝肾代谢负担”，与小张的观点无关。不能帮助小李质疑小张的观点。保留。

C 项：说“五十年代的人运动量更大，有助于排出体内的钠，降低血压”，意在强调：吃得太咸会得高血压。能够削弱，排除。

D 项：说“高盐饮食……会导致高血压和心脑血管疾病风险增加”，意在强调：吃得太咸会得高血压。能够削弱，排除。

所以，正确选项是 B。

113. 老王是胰腺癌晚期患者，医生曾告知他可能只能存活几个月。他在医生建议下，尝试了一种免疫新疗法，现在已生存了 5 年。根据老王的情况，医生认为这种免疫新疗法对治疗胰腺癌有效果，应该进行推广。

以下哪项如果为真，不能削弱医生的观点：

- A. 这种免疫新疗法在临床中尚来得到大面积推广
- B. 这种免疫新疗法所起到的效果与老王的个人体质有关
- C. 即使只做手术和化疗，也会有 2%左右的胰腺癌患者存活超过 5 年
- D. 一种新的治疗方法是否可以推广应慎重决定，不能仅根据个案作出判断

【答案】A。解析：

最不能削弱型。相当于：支持或无关。

“不能削弱医生的观点”，意思是：支持医生的观点，或者与医生的观点无关。

医生的观点是：认为这种免疫新疗法对治疗胰腺癌有效果，应该进行推广。

医生的论据是：老王是胰腺癌晚期患者，只能存活几个月，他尝试了一种免疫新疗法，现在已生存了 5 年。

A 项：说“这种免疫新疗法在临床中尚来得到大面积推广”，意在强调：这种免疫新疗法应该进行推广，不过还没来得及。支持医生的观点，当选。

B、C、D 三项均属于增加反向论据，能够削弱医生的观点，排除。

所以，正确选项是 A。

114. 不少车辆在交通高峰期只有一人使用，极大浪费了有限的道路资源。因此，有人提出设置“多乘员车辆专用车道”（HOV），该车道只允许乘坐 2 人以上车辆进入，只有驾驶员一人的“单身车”不得在工作日的某些时间段内进入该车道，以此提高道路使用效率、缓解交通拥堵。

以下哪项如果为真，最能质疑上述设想：

- A. 因出发地或目的地不同等原因，单身车主找人合乘不易
- B. 设置 HOV 后，增加了车辆的变道难度，容易加剧交通拥堵
- C. 有些单身车驾驶员可能以遮蔽车窗等手段逃避监管，侵占 HOV
- D. 通过鼓励乘坐公共交通工具出行的方法，更能提高道路使用效率

【答案】B。解析：

削弱型。

需要削弱的设想是：设置“多乘员车辆专用车道”（HOV）。

论据：该车道只允许乘坐2人以上车辆进入，只有驾驶员一人的“单身车”不得在工作日的某些时间段内进入该车道，以此提高道路使用效率、缓解交通拥堵。

A项，与题干论证论题不一致，属于无关选项，不能削弱，排除。

B项说“设置HOV后，增加了车辆的变道难度，容易加剧交通拥堵”，属于增加反向论据，意在强调：设置“多乘员车辆专用车道”（HOV），不仅不能缓解交通拥堵，反而会更堵。能够削弱，当选。

C、D两项，与题干论证论题不一致，都属于无关选项，不能削弱，排除。

所以，正确选项是B。

115. 近年来，全世界的水稻田中陆续出现了杂草稻，它们直接导致稻田减产、品质下降，灾害严重的稻田甚至大面积绝收。这种杂草稻是通过基因组变异去驯化并适应环境的，有着正常水稻所不具备的强大生长优势。因此，不少人认为它们的存在将严重影响正常水稻的产量。

以下哪项为真，不能支持上述结论：

A. 杂草稻与正常水稻外观上极难区分，无法轻易清除

B. 杂草稻米粒口感坚硬粗糙，收割时混入这种“假米”，稻米的品质将降低

C. 杂草稻生长速度极快，能迅速入侵到稻田中争夺资源，严重影响水稻的产量与品质

D. 杂草稻随水稻的生长而生长，当该土地改种其他作物后，它会立刻休眠，直到这块地再次种植水稻后复活

【答案】B。解析：

最不能支持型。相当于：削弱或无关。

“不能支持上述结论”，意思是：削弱上述结论，或者与上述结论无关。

上述结论是：它们（杂草稻）的存在将严重影响正常水稻的产量。

论据是：杂草稻直接导致稻田减产甚至大面积绝收。这种杂草稻是通过基因组变异去驯化并适应环境的，有着正常水稻所不具备的强大生长优势。

A项说“杂草稻无法清除”，因此会严重影响正常水稻的产量。属于增加论据，具有支持作用，排除。

B项说“杂草稻会降低稻米的品质”，但是并未提及对产量的影响。属于无关选项，不能支持，保留。

C项说“杂草稻生长速度快，严重影响水稻的产量”。属于增加论据，具有支持作用，排除。

D项说“杂草稻会随着水稻长而长”，因此会影响水稻的产量。。属于增加论据，具有支持作用，排除。

所以，正确选项是B。

第五部分 资料分析

所给出的图、表、文字或综合性资料均有若干个问题要你回答。你应根据资料提供的信息进行分析、比较、计算和判断处理。

一、阅读材料，回答116~120题。

2017年，国内旅游市场高速增长，入出境市场平稳发展，供给侧结构性改革成效明显。国内旅游人数50.01亿人次，比上年同期增长12.8%；入出境旅游总人数2.7亿人次，增长3.7%；全年实现旅游总收入5.40万亿元，增长15.1%；全年全国旅游业对GDP的综合贡献为9.13万亿元，占GDP总量的11.04%；旅游直接就业2825万人，旅游直接和间接就业7990万人，占全国就业总人口的10.28%。

（一）全年国内旅游收入增长15.9%

2017年，国内旅游人数50.01亿人次，比上年同期增长12.8%。其中，城镇居民36.77亿人次，增长15.1%；农村居民13.24亿人次，增长6.8%。国内旅游收入4.57万亿元，增长15.9%。其中，城镇居民花费3.77万亿元，增长16.8%；农村居民花费0.80万亿元，增长11.8%。

(二) 全年入境过夜旅游人数增长2.5%

2017年，入境旅游人数13948万人次，比上年同期增长0.8%。其中，外国人2917万人次，增长3.6%；香港同胞7980万人次，下降1.6%；澳门同胞2465万人次，增长4.9%；台湾同胞587万人次，增长2.5%。入境旅游人数按照入境方式分，船舶占3.2%，飞机占16.5%，火车占0.8%，汽车占22.2%，其他占57.2%。

2017年，入境过夜旅游人数6074万人次，比上年同期增长2.5%。其中，外国人2248万人次，增长3.8%；香港同胞2775万人次，增长0.1%；澳门同胞522万人次，增长8.6%；台湾同胞529万人次，增长4.0%。

(三) 全年国际旅游收入达1234亿美元

2017年，国际旅游收入1234亿美元，比上年同期增长2.9%。其中，外国人在华花费695亿美元，增长4.1%；香港同胞在内地花费301亿美元，下降1.5%；澳门同胞在内地花费83亿美元，增长8.0%；台湾同胞在大陆花费155亿美元，增长4.0%。

(四) 全年入境外国游客亚洲占74.6%，以观光休闲为目的游客占37.1%

2017年，入境外国游客人数4294万人次，亚洲占74.6%，美洲占8.2%，欧洲占13.7%，大洋洲占2.1%，非洲占1.4%。其中，按照年龄分，14岁以下人数占3.1%，15—24岁占13.2%，25—44岁占49.9%，45—64岁占29.2%，65岁以上占4.6%；按性别分，男占60.7%，女占39.3%；按目的分，会议/商务占13.3%，观光休闲占37.1%，探亲访友占2.6%，服务员工占14.8%，其他占32.2%。

2017年，按入境旅游人数排序，我国主要客源市场前17位国家如下：缅甸、越南、韩国、日本、俄罗斯、美国、蒙古、马来西亚、菲律宾、新加坡、印度、加拿大、泰国、澳大利亚、印度尼西亚、德国、英国。

(五) 全年中国公民出境旅游人数达13051万人次

2017年，中国公民出境旅游人数13051万人次，比上年同期增长7.0%。

116. 2017年，全国入境旅游人数较出境旅游人数多多少万人次？

- A. 892
- B. 895
- C. 897
- D. 903

【答案】C。解析：

定位(二)第一段可知：“2017年，入境旅游人数13948万人次”，定位(五)第一段可知：“2017年，中国公民出境旅游人数13051万人次”。

则2017年，全国入境旅游人数较出境旅游人数多： $13948-13051=897$ （万人次）。

所以，正确选项是C。

117. 2016年，全国国内旅游人数约为入出境旅游总人数的多少倍？

- A. 17
- B. 19
- C. 21
- D. 23

【答案】A。解析：

定位资料第一段可知：“2017年……国内旅游人数50.01亿人次，比上年同期增长12.8%；入出境

旅游总人数 2.7 亿人次，增长 3.7%”。

根据基期倍数计算公式： $(A/B) \times [(1+b)/(1+a)]$

代入数据可得： $(50/2.7) \times [(1+3.7\%)/(1+12.8\%)] \approx 18$ （倍）。只有 A 项符合要求。

所以，正确选项是 A。

118. 2017 年，城镇居民平均每人次旅游消费比农村居民约多多少元？

- A. 382
- B. 395
- C. 406
- D. 421

【答案】D。解析：

定位（一）第一段可知：“2017 年……城镇居民 36.77 亿人次，增长 15.1%；农村居民 13.24 亿人次，增长 6.8%……城镇居民花费 3.77 万亿元，增长 16.8%；农村居民花费 0.80 万亿元”。

平均每人次旅游消费=花费÷人次数。3.77 万亿元=37700 亿元。0.8 万亿元=8000 亿元。

则 2017 年，城镇居民平均每人次旅游消费比农村居民多： $(37700/36.77)-(8000/13.24) \approx 420$ （元）。

所以，正确选项是 D。

119. 根据上述材料，以下分析不正确的是：

- A. 2017 年，入境外国游客人数：亚洲>欧洲>美洲>大洋洲>非洲
- B. 2017 年，入境旅游人数按入境方式分：其他方式>汽车>飞机>船舶>火车
- C. 2017 年，入境过夜旅游人数同比增速：澳门同胞>台湾同胞>外国人>香港同胞
- D. 2017 年，主要客源市场国家按入境旅游人数：日本>俄罗斯>马来西亚>印度尼西亚>印度

【答案】D。解析：

要求选出分析不正确的一项。

A 项，读数比较。定位（四）第一段，根据部分量=整体量×比重，整体量相同时，比较部分量的大小，只需比较占比的大小即可。可得 2017 年，入境外国游客人数：亚洲（74.6%）>欧洲（13.7%）>美洲（8.2%）>大洋洲（2.1%）>非洲（1.4%）。说法正确，排除。

B 项，读数比较。定位（二）第一段，根据部分量=整体量×比重，整体量相同时，比较部分量的大小，只需比较占比的大小即可。可得 2017 年，入境旅游人数按入境方式分：其他方式（57.2%）>汽车（22.2%）>飞机（16.5%）>船舶（3.2%）>火车（0.8%）。说法正确，排除。

C 项，读数比较。定位（二）第二段，可得 2017 年，入境过夜旅游人数同比增速：澳门同胞（8.6%）>台湾同胞（4.0%）>外国人（3.8%）>香港同胞（0.1%）。说法正确，排除。

D 项，读数比较。定位（四）第二段，可得 2017 年，主要客源市场国家按入境旅游人数：印度>印度尼西亚。说法错误，当选。

所以，正确选项是 D。

120. 根据上述材料，以下说法正确的是：

- A. 2017 年，全国总就业人口超过 8 亿人
- B. 2017 年，国际旅游收入五成以上由外国人在华花费实现
- C. 2017 年，香港同胞在内地花费比台湾同胞在大陆花费多一倍以上
- D. 2017 年，入境外国游客中，44 岁以下年龄段游客人数占 70%以上

【答案】B。解析：

A 项：定位第一段：2017 年，……旅游直接和间接就业 7990 万人，占全国就业总人口的 10.28%。

根据公式：整体=部分/比重，可得：全国就业总人口 ≈ 77700 万人 ≈ 7.8 亿人 < 8 亿人。说法错误，排除。

B项：定位（三）第一段：2017年，国际旅游收入1234亿美元……其中，外国人在华花费695亿美元。根据公式：比重=部分/整体，可知：外国人在华花费占比为 $=695 / 1234 \approx 56\%$ ，即超过五成。说法正确，当选。

C项：定位（三）第一段：2017年，国际旅游收入1234亿美元……其中，香港同胞在内地花费301亿美元……台湾同胞在大陆花费155亿美元。则：（则香港同胞在内地花费 / 台湾同胞在大陆花费） $-1 \approx 1.94 - 1 = 0.94$ ，即多不到一倍。说法错误，排除。

D项：定位（四）第一段：2017年，……按照年龄分，14岁以下人数占3.1%，15~24岁占13.2%，25~44岁占49.9%。可得：44岁以下年龄段游客人数占比 $=3.1\% + 13.2\% + 49.9\% = 66.2\% < 70\%$ 。说法错误，排除。

所以，正确选项是B。

二、阅读材料，回答121~125题。

8月份，规模以上工业原煤生产增速回升，煤炭进口保持较高水平：原油生产增速由负转正，进口继续增加；天然气生产保持较快增长，进口持续高速增长；电力生产加快。

（一）原煤生产增速回升，煤炭进口保持较高水平，市场价格小幅波动

8月份，原煤产量3.0亿吨，同比增长4.2%，上月为下降2.0%；日均产量957万吨，环比增加49万吨。1~8月份，原煤产量22.8亿吨，同比增长3.6%。

8月份，煤炭主产区生产均开始回升。其中，内蒙古同比增长10.0%，上月为下降1.4%；山西同比下降0.9%，降幅较上月收窄2.2个百分点；陕西同比增长14.0%，增速较上月加快7.6个百分点；新疆同比增长7.1%，上月为下降5.5%。

8月份，煤炭进口2868万吨，比上月略降33万吨，但仍保持较高水平，同比增长13.5%。1~8月份，煤炭进口2.0亿吨，同比增长14.7%。

8月底，秦皇岛5500大卡煤炭综合交易价格为573元/吨，比7月底下降3元；5000大卡煤炭价格为510元/吨，比7月底下降17元；4500大卡煤炭价格为456元/吨，比7月底下降12元。

（二）原油生产增速由负转正，进口持续增加

8月份，原油生产1600万吨，同比增长0.2%，上月为下降2.6%，为2015年11月以来首次正增长；日均产量51.6万吨，环比增加0.5万吨。1~8月份，原油产量12595万吨，同比下降1.8%。

原油进口持续增加，8月份进口原油3838万吨，比上月增加236万吨，同比增长12.9%。1~8月份，进口原油29919万吨，同比增长6.5%。

国际原油价格震荡上行，截至8月底，布伦特原油现货离岸价格为76.94美元/桶，比7月底上涨2.78美元/桶。

（三）原油加工量增速有所放缓

8月份，原油加工量5031万吨，同比增长5.6%，增速比上月回落6.0个百分点；日均加工162.3万吨，环比减少1.4万吨。1~8月，原油加工量40041万吨，同比增长8.7%。

（四）天然气生产保持较快增长，进口持续高速增长

8月份，天然气产量129亿立方米，同比增长9.7%，增速比上月回落0.8个百分点；日均生产4.2亿立方米，与上月基本持平。1~8月份，天然气产量1040亿立方米，同比增长5.9%。

天然气进口持续高速增长。8月份，进口天然气777万吨（1吨约为1380立方米），比上月增加39万吨，同比增长37.3%。1~8月份，进口天然气5718万吨，同比增长34.8%。

（五）电力生产加快

8月份，发电量6404.9亿千瓦时，同比增长7.3%，增速比上月加快1.6个百分点；日均发电206.6亿千瓦时，再创新高。1~8月份，发电量同比增长7.7%，比去年同期加快1.2个百分点。

8月份，除风电外，其他品种电力生产同比增速较7月份均有所加快。其中火电同比增长6.0%，比

上月加快 1.7 个百分点；水电增长 11.5%，加快 5.5 个百分点；核电增长 16.9%，加快 2.7 个百分点；太阳能发电增长 12.2%，加快 1.3 个百分点。

因台风、降雨等气候因素影响，8 月份风电大幅减少，增速比上月回落 24.1 个百分点，同比增长 0.6%。

121. 本年度 8 月份，进口天然气环比增长约：

- A. 5.28%
- B. 5.42%
- C. 5.73%
- D. 6.02%

【答案】A。解析：

定位（四）：“8 月份，进口天然气 777 万吨，比上月增加 39 万吨”。

根据增长率公式：增长率=增长量 / （现期量-增长量）。代入数据可得： $39 / (777-39) \approx 5.3\%$ 。所以，正确选项是 A。

122. 本年度上半年，煤炭进口量约为多少万吨？

- A. 14198
- B. 14231
- C. 14264
- D. 14297

【答案】B。解析：

定位（一）“8 月份，煤炭进口 2868 万吨，比上月略降 33 万吨。1~8 月份，煤炭进口 2.0 亿吨”。

根据公式：基期量=现期量+减少量。

7 月份煤炭进口量为：2868+33 万吨；8 月份煤炭进口量为：2868 万吨；1~8 月份煤炭进口量为：2 亿吨=20000 万吨。

上半年=（1~8 月）-8 月-7 月。

则上半年煤炭进口量为：20000-2868-（2868+33）=14231（万吨）

所以，正确选项是 B。

123. 本年度八月底，秦皇岛煤炭综合交易价格较 7 月底降幅最大的和最小的分别是：

- A. 5500 大卡煤炭和 5000 大卡煤炭
- B. 5000 大卡煤炭和 4500 大卡煤炭
- C. 4500 大卡煤炭和 5500 大卡煤炭
- D. 5000 大卡煤炭和 5500 大卡煤炭

【答案】D。解析：

定位（一）：“8 月底，秦皇岛 5500 大卡煤炭综合交易价格为 573 元/吨，比 7 月底下降 3 元；5000 大卡煤炭价格为 510 元/吨，比 7 月底下降 17 元；4500 大卡煤炭价格为 456 元/吨，比 7 月底下降 12 元”。

所谓“降幅”是指增长率为负时的绝对值，比较降幅大小即为比较减少率的大小。

根据公式：减少率=减少量 / （现期量+减少量）。

代入数据可得降幅分别为：

5500 大卡： $3 / (573+3)$ ；

5000 大卡： $17 / (510+17)$ ；

4500 大卡， $12 / (456+12)$ 。

根据分数性质，分子越小分母越大则分数值小，可知：

5500 大卡煤炭价格降幅低于其他两类，为最小，排除 A、B 两项。

5000 大卡煤炭价格降幅高于 4500 大卡，排除 C 项。

所以，正确选项是 D。

124. 以下关于煤炭主产区生产情况的说法正确的是：

A. 本年度 8 月份，各主产区产量同比均实现了增长

B. 本年度 7 月份，山西产区生产煤炭量同比增长 1.3%

C. 本年度 7、8 月份，同时实现同比增长的只有陕西产区

D. 本年度 7 月份，各主产区生产煤炭量同比降幅：内蒙古 > 山西 > 新疆

【答案】C。解析：

要求选出说法正确的一项。

A 项，定位（一）原煤生产相关内容，“8 月份，煤炭主产区生产均开始回升。其中内蒙古同比增长 10.0%，上月为下降 1.4%；山西同比下降 0.9%，降幅较上月收窄 2.2 个百分点；陕西同比增长 14%，增速较上月加快 7.6 个百分点；新疆同比增长 7.1%，上月为下降 5.5%。”其中山西 8 月份同比下降 0.9%，未实现增长，因此题干中表述各产区同比均增长。说法错误，排除。

B 项，定位（一）原煤生产相关内容，“8 月份，山西同比下降 0.9%，降幅较上月收窄 2.2 个百分点。”则 7 月份降幅为 $0.9\% + 2.2\% = 3.1\%$ ，即下降 3.1%。说法错误，排除。

C 项，定位（一）原煤生产相关内容，“8 月份，煤炭主产区生产均开始回升。其中内蒙古同比增长 10.0%，上月为下降 1.4%；山西同比下降 0.9%，降幅较上月收窄 2.2 个百分点；陕西同比增长 14%，增速较上月加快 7.6 个百分点；新疆同比增长 7.1%，上月为下降 5.5%”。

可知本年度 7、8 月份，内蒙古 7 月为下降 1.4%，同比下降；山西 8 月同比下降 0.9%；陕西 8 月同比增长 14%，7 月为 $14\% - 7.6\% > 0$ ，均为正增长；新疆 7 月为下降 5.5%，同比下降。只有陕西产区 7、8 月同时实现同比增长，说法正确，当选。

D 项，结合本题 B、C 选项，7 月份同比降幅分别为：内蒙古（1.4%），山西（3.1%），新疆（5.5%），则按同比降幅排序为内蒙古 < 山西 < 新疆，说法错误，排除。

所以，正确选项是 C。

125. 根据上述材料，下列描述不正确的是：

A. 本年度 1~8 月份，我国原油进口量高于原油生产量

B. 本年度 8 月份，原煤、天然气、电力的生产同比均增长

C. 本年度 8 月份，除风电外其他品种电力生产同比增长幅度：核电 > 太阳能 > 水电 > 火电

D. 本年度 8 月份，天然气产量与天然气进口量相差悬殊，表明我国对进口天然气依赖度较低

【答案】D。解析：

要求选出说法不正确的一项。

A 选项，直接读数，定位材料第二部分原油生产相关内容，“1—8 月份，原油产量 12695 万吨，进口原油 29919 万吨”，读数比较可知，进口量高于生产量，正确。

B 选项，直接读数，分别定位材料第一部分原煤生产相关内容，“8 月份，原煤产量同比增长 4.2%”；第四部分天然气生产相关内容，“8 月份，天然气产量同比增长 9.7%”，第五部分电力生产相关内容，“8 月份，发电量同比增长 7.3%”，读数可知，三者增长率都为正，即同比均增长，正确。

C 选项，简单读数比较。定位文字材料第五部分电力生产相关内容，“8 月份，火电同比增长 6.0%；水电增长 11.5%；核电增长 16.9%；太阳能发电增长 12.2%”。则同比增幅排序为核电（16.9%）> 太阳能发电（12.2%）> 水电（11.5%）> 火电（6%），正确。

D 选项，简单读数比较。定位文字材料第四部分天然气生产与进口相关内容，“8 月份，天然气产量 129 亿立方米，进口天然气 777 万吨（一吨约为 1380 立方米）”。由于 8 月份，天然气产量和进口量单位

不一致，将进口量单位转化为立方米，777万吨=0.0777亿吨， $0.0777 \times 1380 \approx 138 \times 0.8 \approx 110$ （亿立方米），110亿立方米与129亿立方米相差并不悬殊，且110亿立方米天然气进口量并不能证明我国对进口天然气依赖度低，错误。

所以，正确选项是D。

三、阅读材料，回答126~130题。

2015年S省“四上”企业资产及负债状况

单位：亿元

“四上”企业	资产总计	负债总计
规模以上工业企业	107061.7	56888.8
资质等级建筑业企业	16566.2	9846.8
房地产开发企业	46749.1	35200.6
限额以上批发和零售业企业	17536.8	12584.6
限额以上住宿和餐饮业企业	1211.0	888.9
规模以上服务业企业	46939.4	26358.9
其中：交通运输、仓储和邮政业	9600.7	5651.2
信息传输、软件和信息技术服务业	3218.5	1762.5
租赁和商务服务业	27332.3	15029.8
科学研究和技术服务业	2607.5	1432.9
水利、环境和公共设施管理业	2120.4	1221.4
居民服务、修理和其他服务业	132.6	87.2
教育	138.8	68.4
卫生和社会工作	270.7	179.1
文化、体育和娱乐业	994.4	568.0
房地产业	523.5	358.3

注：“四上”企业包含表中所列6个一级分类。资产负债率=负债/资产，所有者权益=资产-负债。

126. 2015年S省“四上”企业总计负债约多少万亿元：

- A. 9
- B. 12
- C. 14
- D. 16

【答案】C。解析：

定位表格材料和注释。根据“四上”企业包含表中所列6个一级分类，可得：

$56888+9846+35200+12584+888+26358=141764$ ，即约14万亿元。

所以，正确选项是C。

127. 2015年S省规模以上工业企业所有者权益约是限额以上批发和零售业企业的几倍：

- A. 2
- B. 4
- C. 7
- D. 10

【答案】D。解析：

定位表格材料和注释。根据：所有者权益=资产-负债，可得：

$(107061-56888) / (17536-12584) \approx 10$ 。

所以，正确选项是D。

128. 2015 年 S 省规模以上服务业企业中，资产负债率高于 60% 的行业有几个：

- A. 3
- B. 4
- C. 5
- D. 6

【答案】A。解析：

定位表格材料和注释。根据资产负债率=（负债 / 资产）>60%，可知：负债 >（资产×60%）。

满足的有：

居民服务、修理和其他服务业：87.2 > 132.6 × 60%；

卫生和社会工作：179.1 > 270.7 × 60%；

房地产服务业：358.3 > 523.5 × 60%。

即 2015 年 S 省规模以上服务业企业中，资产负债率高于 60% 的行业共有 3 个。

所以，正确选项是 A。

129. 2015 年 S 省交通运输、仓储和邮政业所有者权益占规模以上服务业企业所有者权益的比重在以下哪个范围内：

- A. 10% 以下
- B. 10%~20%
- C. 20%~30%
- D. 30% 以上

【答案】B。解析：

定位表格材料和注释。根据：比重=部分量 / 整体量；所有者权益=资产-负债。可得：

$(9600-5651) / (46939-26358)$

$=3949 / 20581 < 20\%$

即在 10%~20% 范围内。

所以，正确选项是 B。

130. 关于 2015 年 S 省“四上”企业的资产及负债状况，能够从上述材料中推出的是：

- A. 限额以上住宿和餐饮业企业资产负债率超过 80%
- B. 房地产开发企业负债是资质等级建筑业企业的 3 倍多
- C. 规模以上服务业企业中，资产最少的行业其负债也最少
- D. 租赁和商务服务业资产占规模以上服务业企业的七成以上

【答案】B。解析：

本题要求选出能够推出的一项。

A 项，定位表格材料和注释。根据：资产负债率=负债 / 资产。可得限额以上住宿和餐饮业企业资产负债率为： $888 / 1211 \approx 70\%$ ，不可能超过 80%。不能推出，排除。

B 项，定位表格材料。可得房地产开发企业负债是资质等级建筑业企业的倍数为： $35200 / 9846 \approx 3.5$ ，即 3 倍多。能够推出，当选。

C 项，定位表格材料。规模以上服务业企业中，资产最少的行业是居民服务、修理和其他服务业（132.6 亿元），其负债总计 87.2 亿元，但是负债总计最少的是教育，仅有 68.4 亿元。即资产最少的行业其负债并不是最少。不能推出，排除。

D 项，定位表格材料。根据：比重=（部分量 / 整体量）>70%，即：部分量 >（整体量×70%）。

租赁和商务服务业资产为：27332 亿元。

规模以上服务业企业资产的七成为： $46939.4 \times 70\% \approx 32800$ 。

32800 亿元明显大于 27332.3 亿元，即租赁和商务服务业资产占规模以上服务业企业的比重明显不到七成。不能推出，排除。

所以，正确选项是 B。

全部测验到此结束！

请扫描QQ二维码，备注“公务员考生”加QQ
好友，获取曹长远老师精解历年公务员考试申论、
行测、面试真题完整解析资料。

精品资料，尽在掌握！

